


This Booklet contains 44 pages. ఈ బుక్‌లెట్‌లో 44 పేజీలు ఉన్నాయి.

Do not open this Test Booklet until you are asked to do so.

ఈ బుక్‌లెట్‌ను తెరవమని చెప్పేవరకు తెరవవద్దు.



Read carefully the Instructions on the Back Cover of this Test Booklet.

ఈ పరీక్ష బుక్ లెట్ యొక్క వెనుక కవరుపై ఉన్న సూచనలను జాగ్రత్తగా చదవండి.

Important Instructions :	ముఖ్యమైన సూచనలు :
<ol style="list-style-type: none"> The Answer Sheet is inside this Test Booklet. When you are directed to open the Test Booklet, take out the Answer Sheet and fill in the particulars on Side-1 and Side-2 carefully with blue/black ball point pen only. The test is of 3 hours duration and Test Booklet contains 180 questions. Each question carries 4 marks. For each correct response, the candidate will get 4 marks. For each incorrect response, one mark will be deducted from the total scores. The maximum marks are 720. Use Blue/Black Ball Point Pen only for writing particulars on this page/markings responses. Rough work is to be done on the space provided for this purpose in the Test Booklet only. On completion of the test, the candidate must hand over the Answer Sheet to the Invigilator before leaving the Room/Hall. The candidates are allowed to take away this Test Booklet with them. The CODE for this Booklet is BB. Make sure that the CODE printed on Side-2 of the Answer Sheet is the same as that on this Test Booklet. In case of discrepancy, the candidate should immediately report the matter to the Invigilator for replacement of both the Test Booklet and the Answer Sheet. The candidates should ensure that the Answer Sheet is not folded. Do not make any stray marks on the Answer Sheet. Do not write your Roll No. anywhere else except in the specified space in the Test Booklet/Answer Sheet. Use of white fluid for correction is not permissible on the Answer Sheet. 	<ol style="list-style-type: none"> జవాబు పత్రము పరీక్ష పుస్తకములో ఉన్నది. పరీక్ష పుస్తకము తెరిచి, జవాబు పత్రము తీసి సైడు-1 మరియు సైడు-2 లో మాత్రమే బ్లూ/బ్లాక్ బాల్ పెన్‌తో వివరాలను నింపండి. పరీక్ష సమయము 3 గంటలు మరియు పరీక్ష పుస్తకములో 180 ప్రశ్నలున్నాయి. ప్రతి ప్రశ్నకు 4 మార్కులు. సరియైన సమాధానానికి విద్యార్థి/విద్యార్థిని కి 4 మార్కులు ఇవ్వబడతాయి. ప్రతి తప్పు సమాధానానికి ఒక మార్కుని మొత్తం మార్కుల నుండి తీసివేస్తారు. గరిష్ట మార్కుల సంఖ్య 720. ఈ పేజీ/జవాబులు రాసే ప్రత్యేకంగా రాసేటప్పుడు బ్లూ/బ్లాక్ బాల్ పాయింట్ పెన్‌ను మాత్రమే ఉపయోగించాలి. రఫ్ (rough) వనిని ఈ ప్రశ్న పత్రములో ఇవ్వబడిన స్థలములో చెయ్యాలి. పరీక్ష పూర్తయిన తరువాత విద్యార్థి/విద్యార్థిని జవాబు పత్రాన్ని పరీక్ష గదిలోని ఇన్‌విజిటర్ (Invigilator) కు తప్పనిసరిగా వాపసు చెయ్యాలి. పరీక్ష పుస్తకాన్ని విద్యార్థి/విద్యార్థిని తనతో తీసుకొని పోవచ్చు. ఈ పుస్తకము యొక్క కోడ్ BB. జవాబు పత్రం యొక్క సైడ్-2 పై ముద్రించిన కోడ్ దీనితో సరిపోయిందని నిర్ధారణ చేసుకోండి. ఏదేని వైరుధ్యము ఉన్నట్లైతే, విద్యార్థి/విద్యార్థిని ఈ విషయాన్ని ఇన్‌విజిటర్ దృష్టికి తీసుకొచ్చి వేరే పరీక్ష పుస్తకము మరియు జవాబు పత్రములను పొందవచ్చు. జవాబు పత్రమును మడత పెట్టరాదు. జవాబు పత్రముపై అవాంఛిత గీతలను గీయరాదు నీయొక్క రోల్ నంబరు (Roll number) ను దానికి పరీక్ష పుస్తకం/జవాబు పత్రంలో అనుమతించిన స్థలంలో కాకుండా వేరే చోట రాయకూడదు. జవాబు పత్రములో సవరణలు చేయుటకు ఉపయోగించు తెల్లటి ద్రవము నిషేధించబడినది.

In case of any ambiguity in translation of any question, English version shall be treated as final.
 అనువాదంలో ఏదేని వ్యత్యాసం ఉన్నట్లైతే English లోనున్నది సరియైనదని భావించాలి.

Name of the Candidate (in Capitals) : _____

Roll Number : in figures _____
 : in words _____

Centre of Examination (in Capitals) : _____

Candidate's Signature : _____ Invigilator's Signature : _____

Facsimile signature stamp of
 Centre Superintendent : _____

1. The type of isomerism shown by the complex $[\text{CoCl}_2(\text{en})_2]$ is

- (1) Geometrical isomerism
- (2) Linkage isomerism
- (3) Ionization isomerism
- (4) Coordination isomerism

2. Which one of the following ions exhibits d-d transition and paramagnetism as well ?

- (1) CrO_4^{2-}
- (2) MnO_4^{2-}
- (3) MnO_4^-
- (4) $\text{Cr}_2\text{O}_7^{2-}$

3. Match the metal ions given in Column I with the spin magnetic moments of the ions given in Column II and assign the **correct** code :

Column I		Column II	
a. Co^{3+}	i.	$\sqrt{8}$ B.M.	
b. Cr^{3+}	ii.	$\sqrt{35}$ B.M.	
c. Fe^{3+}	iii.	$\sqrt{3}$ B.M.	
d. Ni^{2+}	iv.	$\sqrt{24}$ B.M.	
	v.	$\sqrt{15}$ B.M.	

a	b	c	d
(1) iv	v	ii	i
(2) iii	v	i	ii
(3) iv	i	ii	iii
(4) i	ii	iii	iv

4. Iron carbonyl, $\text{Fe}(\text{CO})_5$ is

- (1) tetranuclear
- (2) dinuclear
- (3) trinuclear
- (4) mononuclear

5. The geometry and magnetic behaviour of the complex $[\text{Ni}(\text{CO})_4]$ are

- (1) square planar geometry and diamagnetic
- (2) tetrahedral geometry and paramagnetic
- (3) square planar geometry and paramagnetic
- (4) tetrahedral geometry and diamagnetic

1. $[\text{CoCl}_2(\text{en})_2]$ సంశ్లిష్టం ప్రదర్శించే సాదృశ్యరకం

- (1) క్షేత్ర సాదృశ్యం
- (2) బంధ సాదృశ్యం
- (3) అయనీకరణ సాదృశ్యం
- (4) సమస్వయ సాదృశ్యం

2. క్రింది అయాన్లలో ఏది d-d పరివర్తనాన్ని పదర్శిస్తుంది మరియు మరియు పరాయస్కాంతత్వం కలిగి ఉంటుంది ?

- (1) CrO_4^{2-}
- (2) MnO_4^{2-}
- (3) MnO_4^-
- (4) $\text{Cr}_2\text{O}_7^{2-}$

3. పట్టిక I లో ఇచ్చిన లోహ అయాన్లను పరుస II లో ఇచ్చిన అయాన్ల స్పిన్ అయస్కాంత బ్రామకంతో జతపరచి, సరియైన కోడ్ (code) ని ఇవ్వండి :

పట్టిక I		పట్టిక II	
a. Co^{3+}	i.	$\sqrt{8}$ B.M.	
b. Cr^{3+}	ii.	$\sqrt{35}$ B.M.	
c. Fe^{3+}	iii.	$\sqrt{3}$ B.M.	
d. Ni^{2+}	iv.	$\sqrt{24}$ B.M.	
	v.	$\sqrt{15}$ B.M.	

a	b	c	d
(1) iv	v	ii	i
(2) iii	v	i	ii
(3) iv	i	ii	iii
(4) i	ii	iii	iv

4. ఐరన్ కార్బొనైల్ $\text{Fe}(\text{CO})_5$

- (1) టెట్రా కేంద్రక
- (2) ద్వి కేంద్రక
- (3) త్రి కేంద్రక
- (4) ఏక కేంద్రక

5. $[\text{Ni}(\text{CO})_4]$ సంశ్లిష్టం యొక్క ఆకృతి మరియు అయస్కాంత ప్రవర్తనలు

- (1) చతుర సమతల ఆకృతి మరియు డయా అయస్కాంతము
- (2) టెట్రా హెడ్రల్ ఆకృతి మరియు పరా అయస్కాంతము
- (3) చతుర సమతల ఆకృతి మరియు పరా అయస్కాంతము
- (4) టెట్రా హెడ్రల్ ఆకృతి మరియు డయా అయస్కాంతము

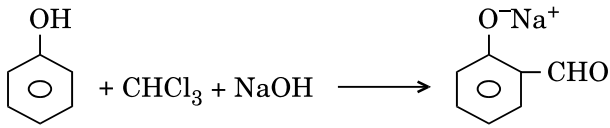


6. The correct order of N-compounds in its decreasing order of oxidation states is
- (1) $\text{HNO}_3, \text{NO}, \text{N}_2, \text{NH}_4\text{Cl}$
 - (2) $\text{NH}_4\text{Cl}, \text{N}_2, \text{NO}, \text{HNO}_3$
 - (3) $\text{HNO}_3, \text{NH}_4\text{Cl}, \text{NO}, \text{N}_2$
 - (4) $\text{HNO}_3, \text{NO}, \text{NH}_4\text{Cl}, \text{N}_2$
7. Which one of the following elements is unable to form MF_6^{3-} ion ?
- (1) Ga
 - (2) In
 - (3) B
 - (4) Al
8. Considering Ellingham diagram, which of the following metals can be used to reduce alumina ?
- (1) Fe
 - (2) Cu
 - (3) Mg
 - (4) Zn
9. The correct order of atomic radii in group 13 elements is
- (1) $\text{B} < \text{Al} < \text{In} < \text{Ga} < \text{Tl}$
 - (2) $\text{B} < \text{Ga} < \text{Al} < \text{In} < \text{Tl}$
 - (3) $\text{B} < \text{Ga} < \text{Al} < \text{Tl} < \text{In}$
 - (4) $\text{B} < \text{Al} < \text{Ga} < \text{In} < \text{Tl}$
10. Which of the following statements is **not** true for halogens ?
- (1) All form monobasic oxyacids.
 - (2) Chlorine has the highest electron-gain enthalpy.
 - (3) All but fluorine show positive oxidation states.
 - (4) All are oxidizing agents.
11. In the structure of ClF_3 , the number of lone pairs of electrons on central atom 'Cl' is
- (1) one
 - (2) three
 - (3) four
 - (4) two

6. ఆక్సీకరణ స్థితులుతగ్గే క్రమములో N-సమ్మేళనాల సరియైన క్రమము
- (1) $\text{HNO}_3, \text{NO}, \text{N}_2, \text{NH}_4\text{Cl}$
 - (2) $\text{NH}_4\text{Cl}, \text{N}_2, \text{NO}, \text{HNO}_3$
 - (3) $\text{HNO}_3, \text{NH}_4\text{Cl}, \text{NO}, \text{N}_2$
 - (4) $\text{HNO}_3, \text{NO}, \text{NH}_4\text{Cl}, \text{N}_2$
7. క్రింది మూలకాలలో ఏది MF_6^{3-} అయాన్‌ను ఏర్పరచ జాలదు ?
- (1) Ga
 - (2) In
 - (3) B
 - (4) Al
8. ఎల్లింగ్ హామ్ పటాల ద్వారా, అల్యూమినాక్షయ కరణానికి క్రిందిలోహాలలో దేనిని ఉపయోగిస్తారు ?
- (1) Fe
 - (2) Cu
 - (3) Mg
 - (4) Zn
9. గ్రూపు 13 మూలకాలలో పరమాణు వ్యాసార్థాల సరియైన క్రమము ?
- (1) $\text{B} < \text{Al} < \text{In} < \text{Ga} < \text{Tl}$
 - (2) $\text{B} < \text{Ga} < \text{Al} < \text{In} < \text{Tl}$
 - (3) $\text{B} < \text{Ga} < \text{Al} < \text{Tl} < \text{In}$
 - (4) $\text{B} < \text{Al} < \text{Ga} < \text{In} < \text{Tl}$
10. హాలోజన్ల గురించి క్రింది వివరణలలో సరియైనది కానిది ?
- (1) అన్ని ఏకక్షార ఆక్సీ ఆమ్లాలను ఏర్పరుస్తాయి.
 - (2) క్లోరిన్ కిగరిష్టు ఎలక్ట్రాన్ గ్రాహ్య ఎంథాల్పీ ఉంటుంది.
 - (3) ఫ్లోరిన్ తప్ప మగతాపన్ని ధన ఆక్సీకరణ స్థితులను చూపిస్తాయి.
 - (4) అన్ని ఆక్సీకరణ కారకాలు.
11. ClF_3 నిర్మాణంలో కేంద్ర పరమాణువు 'Cl' పై ఉన్న ఒంటరి జతల ఎలక్ట్రాన్ల సంఖ్య
- (1) ఒకటి
 - (2) మూడు
 - (3) నాలుగు
 - (4) రెండు



12. In the reaction



the electrophile involved is

- (1) dichloromethyl cation (CHCl_2^+)
- (2) dichlorocarbene ($:\text{CCl}_2$)
- (3) dichloromethyl anion (CHCl_2^-)
- (4) formyl cation (CHO^+)

13. Carboxylic acids have higher boiling points than aldehydes, ketones and even alcohols of comparable molecular mass. It is due to their

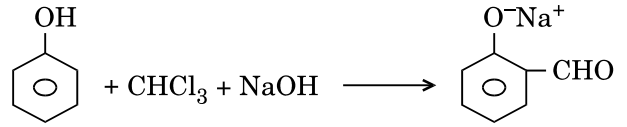
- (1) formation of intramolecular H-bonding
- (2) formation of intermolecular H-bonding
- (3) more extensive association of carboxylic acid via van der Waals force of attraction
- (4) formation of carboxylate ion

14. Compound A, $\text{C}_8\text{H}_{10}\text{O}$, is found to react with NaOI (produced by reacting Y with NaOH) and yields a yellow precipitate with characteristic smell.

A and Y are respectively

- (1) $\text{H}_3\text{C}-\text{C}_6\text{H}_4-\text{CH}_2-\text{OH}$ and I_2
- (2) $\text{CH}_3-\text{C}_6\text{H}_3(\text{CH}_3)-\text{OH}$ and I_2
- (3) $\text{C}_6\text{H}_5-\text{CH}(\text{OH})-\text{CH}_3$ and I_2
- (4) $\text{C}_6\text{H}_5-\text{CH}_2-\text{CH}_2-\text{OH}$ and I_2

12. క్రింది చర్యలో ఎలక్ట్రోఫైల్



- (1) డైక్లోరోమిథైల్ కాటయాన్ (CHCl_2^+)
- (2) డైక్లోరో కార్బన్ ($:\text{CCl}_2$)
- (3) డైక్లోరోమిథైల్ ఆనయాన్ (CHCl_2^-)
- (4) ఫార్మైల్ కాటయాన్ (CHO^+)

13. తులనాత్మక అణుద్రవ్యరాశిగల ఆల్డిహైడ్లు, కీటోన్లు మరియు ఇంకా ఆల్కహాల్ల కంటే కార్బాక్సిలిక్ ఆమ్లాల బాష్పీభవన స్థానాలు ఎక్కువగా ఉంటాయి. దీనికి కారణం వాటి యొక్క

- (1) అణు అంతర H-బంధల ఏర్పడటం
- (2) అంతర అణుక H-బంధం ఏర్పడటం
- (3) వాండర్ వాల్స్ ఆకర్షణ బలాలతో ఎక్కువ విస్తృతంగా కార్బాక్సిలిక్ ఆమ్లం సహచరం చెందటం
- (4) కార్బాక్సిలేట్ అయాన్ ఏర్పడటం

14. $\text{C}_8\text{H}_{10}\text{O}$ అనే సమ్మేళనం A, NaOI (Y, NaOH తో చర్య జరిపి ఏర్పడుతుంది) తో చర్య జరిపి పసుపువచ్చని అవక్షేపము అభిలక్షణవాసనతో ఏర్పడటం కనుగొనబడింది.

A మరియు Y లు వరుసగా

- (1) $\text{H}_3\text{C}-\text{C}_6\text{H}_4-\text{CH}_2-\text{OH}$ మరియు I_2
- (2) $\text{CH}_3-\text{C}_6\text{H}_3(\text{CH}_3)-\text{OH}$ మరియు I_2
- (3) $\text{C}_6\text{H}_5-\text{CH}(\text{OH})-\text{CH}_3$ మరియు I_2
- (4) $\text{C}_6\text{H}_5-\text{CH}_2-\text{CH}_2-\text{OH}$ మరియు I_2

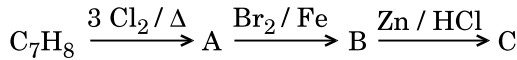
15. Which oxide of nitrogen is **not** a common pollutant introduced into the atmosphere both due to natural and human activity ?

- (1) N_2O_5
- (2) NO
- (3) N_2O
- (4) NO_2

16. The compound A on treatment with Na gives B, and with PCl_5 gives C. B and C react together to give diethyl ether. A, B and C are in the order

- (1) $C_2H_5OH, C_2H_6, C_2H_5Cl$
- (2) $C_2H_5OH, C_2H_5ONa, C_2H_5Cl$
- (3) $C_2H_5Cl, C_2H_6, C_2H_5OH$
- (4) $C_2H_5OH, C_2H_5Cl, C_2H_5ONa$

17. The compound C_7H_8 undergoes the following reactions :



The product 'C' is

- (1) *m*-bromotoluene
- (2) *p*-bromotoluene
- (3) 3-bromo-2,4,6-trichlorotoluene
- (4) *o*-bromotoluene

18. Hydrocarbon (A) reacts with bromine by substitution to form an alkyl bromide which by Wurtz reaction is converted to gaseous hydrocarbon containing less than four carbon atoms. (A) is

- (1) $CH \equiv CH$
- (2) CH_4
- (3) $CH_3 - CH_3$
- (4) $CH_2 = CH_2$

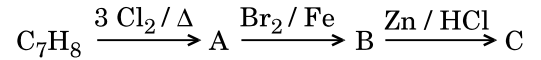
15. ప్రకృతి సిద్ధంగా, మానవ కృత్యాలు ఈ రెండింటి ద్వారా పర్యావరణంలోకి వెలువడే సాధారణకాలుష్యం కాని నైట్రోజన్ ఆక్సైడ్ ఏది ?

- (1) N_2O_5
- (2) NO
- (3) N_2O
- (4) NO_2

16. సమ్మేళనం A, Na తో అభిచర్యతో B యిస్తుంది మరియు PCl_5 తో C యిస్తుంది, B మరియు C కలసి చర్య జరిపి డైఇథైల్ ఈథర్ ఏర్పడుతుంది A, B, C ల క్రమము

- (1) $C_2H_5OH, C_2H_6, C_2H_5Cl$
- (2) $C_2H_5OH, C_2H_5ONa, C_2H_5Cl$
- (3) $C_2H_5Cl, C_2H_6, C_2H_5OH$
- (4) $C_2H_5OH, C_2H_5Cl, C_2H_5ONa$

17. సమ్మేళనం C_7H_8 క్రింది చర్యలలో పాల్గొంటుంది :



సమ్మేళనం 'C' ఏది ?

- (1) *m*-బ్రోమో టోలీన్
- (2) *p*-బ్రోమో టోలీన్
- (3) 3-బ్రోమో -2,4,6-ట్రైక్లోరో టోలీన్
- (4) *o*-బ్రోమో టోలీన్

18. ప్రతిక్షేపణ ద్వారా హైడ్రోకార్బన్ (A) బ్రోమీన్ తో చర్య జరిపి ఆలైల్ బ్రోమైడ్ ఏర్పడి, ఆది ఉర్ట్జ్ చర్య ద్వారా నాలుగు కార్బన్ పరమాణువులు కన్న తక్కువ ఉన్న వాయు హైడ్రోకార్బన్ గా మార్పుచెందింది. (A) ఏమిటి ?

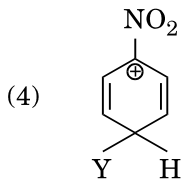
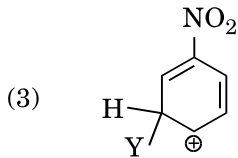
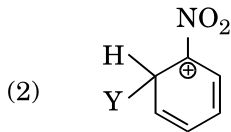
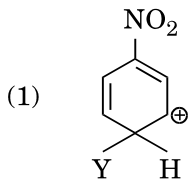
- (1) $CH \equiv CH$
- (2) CH_4
- (3) $CH_3 - CH_3$
- (4) $CH_2 = CH_2$



19. Which of the following molecules represents the order of hybridisation sp^2 , sp^2 , sp , sp from left to right atoms ?

- (1) $HC \equiv C - C \equiv CH$
- (2) $CH_3 - CH = CH - CH_3$
- (3) $CH_2 = CH - CH = CH_2$
- (4) $CH_2 = CH - C \equiv CH$

20. Which of the following carbocations is expected to be most stable ?



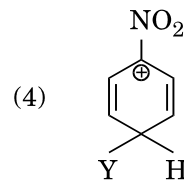
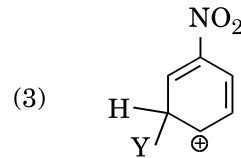
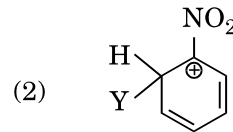
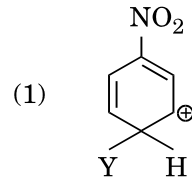
21. Which of the following is correct with respect to -I effect of the substituents ? (R = alkyl)

- (1) $-NH_2 < -OR < -F$
- (2) $-NR_2 > -OR > -F$
- (3) $-NH_2 > -OR > -F$
- (4) $-NR_2 < -OR < -F$

19. క్రింది అణువులలో ఎడమనుంచి తుడికి పరమాణువులలో sp^2 , sp^2 , sp , sp సంకరీకరణం సూచించేది ఏది ?

- (1) $HC \equiv C - C \equiv CH$
- (2) $CH_3 - CH = CH - CH_3$
- (3) $CH_2 = CH - CH = CH_2$
- (4) $CH_2 = CH - C \equiv CH$

20. క్రింది కార్బోకాటయాన్లలో అత్యధిక స్థిరమైనదిగా ఊహించినది ఏది ?



21. -I ప్రభావాన్ని చూపే ప్రతిక్షేపకాలలో క్రింది వాటిలో పరిమైనది (R = అల్కిల్) ఏది ?

- (1) $-NH_2 < -OR < -F$
- (2) $-NR_2 > -OR > -F$
- (3) $-NH_2 > -OR > -F$
- (4) $-NR_2 < -OR < -F$

22. A mixture of 2.3 g formic acid and 4.5 g oxalic acid is treated with conc. H_2SO_4 . The evolved gaseous mixture is passed through KOH pellets. Weight (in g) of the remaining product at STP will be

- (1) 1.4
- (2) 4.4
- (3) 2.8
- (4) 3.0

23. The difference between amylose and amylopectin is

- (1) Amylopectin have $1 \rightarrow 4 \alpha$ -linkage and $1 \rightarrow 6 \alpha$ -linkage
- (2) Amylose is made up of glucose and galactose
- (3) Amylopectin have $1 \rightarrow 4 \alpha$ -linkage and $1 \rightarrow 6 \beta$ -linkage
- (4) Amylose have $1 \rightarrow 4 \alpha$ -linkage and $1 \rightarrow 6 \beta$ -linkage

24. Which of the following compounds can form a zwitterion ?

- (1) Aniline
- (2) Glycine
- (3) Benzoic acid
- (4) Acetanilide

25. Regarding cross-linked or network polymers, which of the following statements is **incorrect** ?

- (1) They contain covalent bonds between various linear polymer chains.
- (2) They contain strong covalent bonds in their polymer chains.
- (3) Examples are bakelite and melamine.
- (4) They are formed from bi- and tri-functional monomers.

26. Nitration of aniline in strong acidic medium also gives m-nitroaniline because

- (1) In spite of substituents nitro group always goes to only m-position.
- (2) In acidic (strong) medium aniline is present as anilinium ion.
- (3) In absence of substituents nitro group always goes to m-position.
- (4) In electrophilic substitution reactions amino group is meta directive.

22. 2.3 g ఫార్మిక్ ఆమ్లం మరియు 4.5 g ఆక్సాలిక్ ఆమ్లముల మిశ్రమాన్ని గాఢ. H_2SO_4 తో అభిచర్య జరపబడింది. విడుదలయిన వాయువుల మిశ్రమాన్ని KOH పే లెట్ల ద్వారా పంపబడింది. మిగిలిన క్రియాజన్యం భారం (g) STP వద్ద

- (1) 1.4
- (2) 4.4
- (3) 2.8
- (4) 3.0

23. ఎమైలోస్ మరియు ఎమైలోపెక్టిన్ మధ్య వ్యత్యాసం

- (1) ఎమైలో పెక్టిన్లో $1 \rightarrow 4 \alpha$ -బంధం మరియు $1 \rightarrow 6 \alpha$ -బంధం ఉంటాయి
- (2) గ్లూకోజ్ మరియు గాలక్టోజ్ తో ఎమైలోజ్ తయారు అవుతుంది
- (3) ఎమైలోపేక్టిన్ $1 \rightarrow 4 \alpha$ -బంధం $1 \rightarrow 6 \beta$ -బంధం
- (4) ఎమైలోస్లో $1 \rightarrow 4 \alpha$ -బంధం మరియు $1 \rightarrow 6 \beta$ -బంధం ఉంటాయి

24. క్రింది సమ్మేళనాలలో జిప్సట్టర్ అయాన్ ఏర్పడింది ఏది ?

- (1) ఎనిలీన్
- (2) గ్లైసీన్
- (3) బెంజోయిక్ ఆమ్లం
- (4) ఎసిటానిలైడ్

25. వ్యత్యస్త బద్ధ లేక జాలక పాలిమర్ల గురించి క్రింది వివరణలలో ఏది సరియైనది కాదు ?

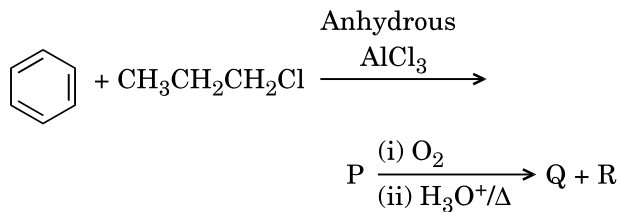
- (1) వేరు వేరు రేఖీయ పాలిమర్ శృంఖలాల మధ్య సమయోజనీయబంధాలు ఉంటాయి.
- (2) వాటీ పాలిమర్ శృంఖలాలలో బలమైన సమయోజనీయ బంధాలు ఉంటాయి.
- (3) బేకలైట్, మెలమైన్ ఉదాహరణలు.
- (4) అవి ద్వి- మరియు త్రి- ప్రమేయ సమూహాలున్న మోనోమర్లతో ఏర్పడతాయి.

26. బలమైన ఆమ్లయానికంలో ఎనిలీన్ నైట్రోషన్లో m-నైట్రో ఎనిలీన్ కూడ ఇవ్వటానికి కారణం

- (1) ప్రతిక్షేపకాలు ఉన్నప్పటికీ నైట్రో సమూహం ఎప్పుడు m-స్థానానికి పోతుంది.
- (2) ఆమ్ల (బలమైన) యానకంలో ఎనిలీన్ ఎనిలీనియం అయాన్ గా ఉంటుంది.
- (3) ప్రతిక్షేపకాలు లేనప్పుడు నైట్రో సమూహం ఎప్పుడు m-స్థానానికి పోతుంది.
- (4) ఎలక్ట్రోఫిలిక్ ప్రతిక్షేపణ చర్యలలో ఎమినో సమూహం మెటా నిర్దేశకం.



27. Identify the major products P, Q and R in the following sequence of reactions :

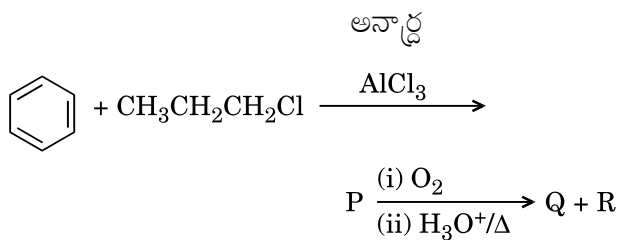


- | | P | Q | R |
|-----|---|---|--|
| (1) | | | $\text{CH}_3\text{CH}_2 - \text{OH}$ |
| (2) | | | $\text{CH}_3 - \text{CO} - \text{CH}_3$ |
| (3) | | | $\text{CH}_3\text{CH}(\text{OH})\text{CH}_3$ |
| (4) | | | |

28. Which of the following oxides is most acidic in nature ?

- (1) MgO
- (2) CaO
- (3) BaO
- (4) BeO

27. క్రింది చర్యల పరంపరలలో అధికంగా ఏర్పడే P, Q, R క్రియా జన్యాలను గుర్తించండి :



- | | P | Q | R |
|-----|---|---|--|
| (1) | | | $\text{CH}_3\text{CH}_2 - \text{OH}$ |
| (2) | | | $\text{CH}_3 - \text{CO} - \text{CH}_3$ |
| (3) | | | $\text{CH}_3\text{CH}(\text{OH})\text{CH}_3$ |
| (4) | | | |

28. క్రింది ఆక్సైడ్లలో గరిష్ట ఆమ్లత్వ స్వభావము కలది ఏది ?

- (1) MgO
- (2) CaO
- (3) BaO
- (4) BeO



29. Following solutions were prepared by mixing different volumes of NaOH and HCl of different concentrations :

- 60 mL $\frac{M}{10}$ HCl + 40 mL $\frac{M}{10}$ NaOH
- 55 mL $\frac{M}{10}$ HCl + 45 mL $\frac{M}{10}$ NaOH
- 75 mL $\frac{M}{5}$ HCl + 25 mL $\frac{M}{5}$ NaOH
- 100 mL $\frac{M}{10}$ HCl + 100 mL $\frac{M}{10}$ NaOH

pH of which one of them will be equal to 1 ?

- b
- c
- d
- a

30. On which of the following properties does the coagulating power of an ion depend ?

- The magnitude of the charge on the ion alone
- The sign of charge on the ion alone
- Both magnitude and sign of the charge on the ion
- Size of the ion alone

31. Given van der Waals constant for NH_3 , H_2 , O_2 and CO_2 are respectively 4.17, 0.244, 1.36 and 3.59, which one of the following gases is most easily liquefied ?

- NH_3
- CO_2
- O_2
- H_2

32. The solubility of BaSO_4 in water is $2.42 \times 10^{-3} \text{ gL}^{-1}$ at 298 K. The value of its solubility product (K_{sp}) will be

(Given molar mass of $\text{BaSO}_4 = 233 \text{ g mol}^{-1}$)

- $1.08 \times 10^{-10} \text{ mol}^2 \text{ L}^{-2}$
- $1.08 \times 10^{-8} \text{ mol}^2 \text{ L}^{-2}$
- $1.08 \times 10^{-14} \text{ mol}^2 \text{ L}^{-2}$
- $1.08 \times 10^{-12} \text{ mol}^2 \text{ L}^{-2}$

29. NaOH మరియు HCl వేరువేరు గాఢతల వేరు వేరు ఘనపరిమాణాలు కలిపి క్రింది ద్రావణాలు తయారు చేయబడినవి :

- 60 mL $\frac{M}{10}$ HCl + 40 mL $\frac{M}{10}$ NaOH
- 55 mL $\frac{M}{10}$ HCl + 45 mL $\frac{M}{10}$ NaOH
- 75 mL $\frac{M}{5}$ HCl + 25 mL $\frac{M}{5}$ NaOH
- 100 mL $\frac{M}{10}$ HCl + 100 mL $\frac{M}{10}$ NaOH

పై ద్రావణాలలో దేని pH విలువ 1 సమాన మనతుంది

- b
- c
- d
- a

30. ఒక అయాన్ స్వందన సామర్థ్యం క్రింది ధర్మాలలో దేనిపై ఆధార పడుతుంది

- అయాన్ పైన ఉన్న ఆవేశం పరిమాణం మీద మాత్రమే
- అయాన్ పై ఉన్న ఆవేశం గుర్తుపై మాత్రమే
- అయాన్ పై ఉన్న ఆవేశం గుర్తు మరియు పరిమాణం రెండింటిపైన
- అయాన్ పరిమాణము మాత్రమే

31. NH_3 , H_2 , O_2 మరియు CO_2 ల వాండర్ వాల్స్

స్థిరాంకం వరుసగా 4.17, 0.244, 1.36 మరియు 3.59. ఈ క్రింది వాయువులలో సులభంగా ద్రవీకరించటాడేది ఏది ?

- NH_3
- CO_2
- O_2
- H_2

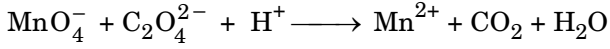
32. 298 K వద్ద నీటిలో BaSO_4 ద్రావణీయత $2.42 \times 10^{-3} \text{ gL}^{-1}$. దాని ద్రావణీయతా లబ్ధము (K_{sp}).

(BaSO_4 మోలార్ ద్రవ్యరాశి = 233 g mol^{-1})

- $1.08 \times 10^{-10} \text{ mol}^2 \text{ L}^{-2}$
- $1.08 \times 10^{-8} \text{ mol}^2 \text{ L}^{-2}$
- $1.08 \times 10^{-14} \text{ mol}^2 \text{ L}^{-2}$
- $1.08 \times 10^{-12} \text{ mol}^2 \text{ L}^{-2}$



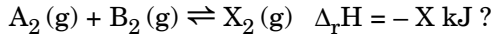
33. For the redox reaction



the correct coefficients of the reactants for the balanced equation are

	MnO_4^-	$\text{C}_2\text{O}_4^{2-}$	H^+
(1)	16	5	2
(2)	5	16	2
(3)	2	16	5
(4)	2	5	16

34. Which one of the following conditions will favour maximum formation of the product in the reaction,



- (1) Low temperature and high pressure
- (2) High temperature and low pressure
- (3) High temperature and high pressure
- (4) Low temperature and low pressure

35. When initial concentration of the reactant is doubled, the half-life period of a zero order reaction

- (1) is halved
- (2) remains unchanged
- (3) is tripled
- (4) is doubled


36. The bond dissociation energies of X_2 , Y_2 and XY are in the ratio of 1 : 0.5 : 1. ΔH for the formation of XY is -200 kJ mol^{-1} . The bond dissociation energy of X_2 will be

- (1) 200 kJ mol^{-1}
- (2) 400 kJ mol^{-1}
- (3) 800 kJ mol^{-1}
- (4) 100 kJ mol^{-1}

37. The correction factor 'a' to the ideal gas equation corresponds to

- (1) density of the gas molecules
- (2) forces of attraction between the gas molecules
- (3) electric field present between the gas molecules
- (4) volume of the gas molecules

33. రిడాక్స్ చర్య



తుల్యం చేసిన సమీకరణంలో క్రియాజనకాల సరియైన గుణకాలు

	MnO_4^-	$\text{C}_2\text{O}_4^{2-}$	H^+
(1)	16	5	2
(2)	5	16	2
(3)	2	16	5
(4)	2	5	16

34. $\text{A}_2(\text{g}) + \text{B}_2(\text{g}) \rightleftharpoons \text{X}_2(\text{g}) \quad \Delta_r H = -X \text{ kJ}$

పై చర్యలో అత్యధిక ఉత్పన్నం ఏర్పడటానికి క్రింది పరిస్థితులలో ఏవి అనుకూలమైతాయి ?

- (1) అల్ప ఉష్ణోగ్రత మరియు అధిక పీడనం
- (2) అధిక ఉష్ణోగ్రత మరియు అల్పపీడనం
- (3) అధిక ఉష్ణోగ్రత మరియు అధిక పీడనం
- (4) అల్ప ఉష్ణోగ్రత మరియు అల్ప పీడనం

35. క్రియాజనకం ప్రారంభ గాఢ తనురేట్టింపు చేసినట్లయితే సూన్య క్రమాంక చర్య ఆర్ధాయపు

- (1) సగము అవుతుంది
- (2) సూరకుండా అంతే ఉంటుంది
- (3) మూడు రెట్లువుతుంది
- (4) రెట్టింపు అవుతుంది

36. X_2 , Y_2 మరియు XY ల బంధ వియోజన శక్తుల నిష్పత్తి 1 : 0.5 : 1. XY సంఘటన ΔH విలువ -200 kJ mol^{-1} . X_2 బంధ వియోజన శక్తి

- (1) 200 kJ mol^{-1}
- (2) 400 kJ mol^{-1}
- (3) 800 kJ mol^{-1}
- (4) 100 kJ mol^{-1}

37. ఆదర్శ వాయువుల సమీకరణంలో సవరణ అంశము 'a' కి అను రూపమయినది

- (1) వాయు అణువుల సాంద్రత
- (2) వాయు అణువుల మధ్య ఆకర్షణ బలాలు
- (3) వాయు అణువుల మధ్య ఉన్న విద్యుత్ క్షేత్రము
- (4) వాయు అణువుల ఘనపరిమాణం



38. In which case is the number of molecules of water maximum ?

- (1) 18 mL of water
- (2) 10^{-3} mol of water
- (3) 0.00224 L of water vapours at 1 atm and 273 K
- (4) 0.18 g of water

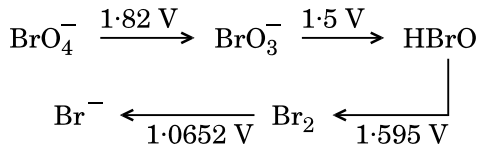
39. The correct difference between first- and second-order reactions is that

- (1) the rate of a first-order reaction does not depend on reactant concentrations; the rate of a second-order reaction does depend on reactant concentrations
- (2) the rate of a first-order reaction does depend on reactant concentrations; the rate of a second-order reaction does not depend on reactant concentrations
- (3) a first-order reaction can be catalyzed; a second-order reaction cannot be catalyzed
- (4) the half-life of a first-order reaction does not depend on $[A]_0$; the half-life of a second-order reaction does depend on $[A]_0$

40. Among CaH_2 , BeH_2 , BaH_2 , the order of ionic character is

- (1) $\text{BeH}_2 < \text{CaH}_2 < \text{BaH}_2$
- (2) $\text{BaH}_2 < \text{BeH}_2 < \text{CaH}_2$
- (3) $\text{BeH}_2 < \text{BaH}_2 < \text{CaH}_2$
- (4) $\text{CaH}_2 < \text{BeH}_2 < \text{BaH}_2$

41. Consider the change in oxidation state of Bromine corresponding to different emf values as shown in the diagram below :



Then the species undergoing disproportionation is

- (1) BrO_3^-
- (2) HBrO
- (3) Br_2
- (4) BrO_4^-

38. ఏ స్థితిలో నీటి అణువుల సంఖ్య గరిష్ఠము ?

- (1) 18 mL ల నీరు
- (2) 10^{-3} మోల్ ల నీరు
- (3) 1 atm మరియు 273 K వద్ద 0.00224 L ల నీటి ఆవిరి
- (4) 0.18 g ల నీరు

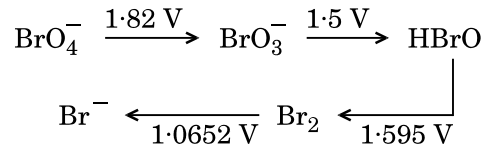
39. ప్రథమ మరియు రెండవ క్రమాంక చర్యల మధ్య సరియైన భేదము

- (1) ప్రథమ క్రమాంక చర్య రేటు క్రియా జనకాల గాఢతపై ఆధార పడదు; రెండవ క్రమాంక చర్య రేటు క్రియా జనకాల గాఢత పై ఆధారపడుతుంది
- (2) ప్రథమ క్రమాంక చర్య రేటు క్రియా జనకాల గాఢతపై ఆధార పడుతుంది; రెండవ క్రమాంక చర్య రేటు క్రియాజనకాల గాఢతపై ఆధార పడదు
- (3) ప్రథమ క్రమాంక చర్య ఉత్ప్రేరణ చేయవచ్చు; రెండవ క్రమాంక చర్య ఉత్ప్రేరణ చేయబడదు
- (4) ప్రథమ క్రమాంక చర్య అర్ధాయువు $[A]_0$ పై ఆధారపడదు రెండవ క్రమాంక చర్య అర్ధాయువు $[A]_0$ పై ఆధార పడుతుంది

40. CaH_2 , BeH_2 , BaH_2 వీటిలో అయానిక్ లక్షణ క్రమము

- (1) $\text{BeH}_2 < \text{CaH}_2 < \text{BaH}_2$
- (2) $\text{BaH}_2 < \text{BeH}_2 < \text{CaH}_2$
- (3) $\text{BeH}_2 < \text{BaH}_2 < \text{CaH}_2$
- (4) $\text{CaH}_2 < \text{BeH}_2 < \text{BaH}_2$

41. క్రింది పటములో చూపిన వేరు వేరు emf విలువలకు అనురూపంగా బ్రోమీన్ ఆక్సీకరణ స్థితుల మార్పులను గమనించండి :

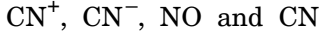


అయినట్లయితే అననుపాత చర్య జరిగే జాతి

- (1) BrO_3^-
- (2) HBrO
- (3) Br_2
- (4) BrO_4^-



42. Consider the following species :

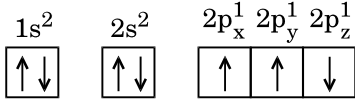


Which one of these will have the highest bond order ?

- (1) NO
- (2) CN
- (3) CN^+
- (4) CN^-

43. Which one is a **wrong** statement ?

- (1) Total orbital angular momentum of electron in 's' orbital is equal to zero.
- (2) The value of m for d_{z^2} is zero.
- (3) The electronic configuration of N atom is



- (4) An orbital is designated by three quantum numbers while an electron in an atom is designated by four quantum numbers.

44. Iron exhibits bcc structure at room temperature. Above $900^\circ C$, it transforms to fcc structure. The ratio of density of iron at room temperature to that at $900^\circ C$ (assuming molar mass and atomic radii of iron remains constant with temperature) is

- (1) $\frac{\sqrt{3}}{\sqrt{2}}$
- (2) $\frac{1}{2}$
- (3) $\frac{3\sqrt{3}}{4\sqrt{2}}$
- (4) $\frac{4\sqrt{3}}{3\sqrt{2}}$

45. Magnesium reacts with an element (X) to form an ionic compound. If the ground state electronic configuration of (X) is $1s^2 2s^2 2p^3$, the simplest formula for this compound is

- (1) Mg_2X_3
- (2) Mg_3X_2
- (3) Mg_2X
- (4) MgX_2

42. క్రింది జాతులను పరిశీలించండి :

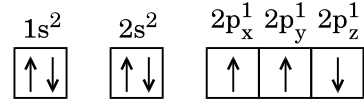


వీటిలో అత్యధిక బంధక్రమం ఉన్నది ఏది ?

- (1) NO
- (2) CN
- (3) CN^+
- (4) CN^-

43. ఏది సరియైన వివరణ కాదు ?

- (1) 's' ఆర్బిటాల్లోని ఎలక్ట్రాన్ మొత్తం కోణీయ ద్రవ్యవేగం సున్నకు సమానము.
- (2) d_{z^2} కు m విలువ సున్న.
- (3) N పరమాణువు ఎలక్ట్రాన్ విన్యాసం



- (4) ఆర్బిటాల్ను మూడు క్వాంటం సంఖ్యలతో సూచిస్తే పరమాణువులోని ఎలక్ట్రాన్ని నాలు క్వాంటం సంఖ్యలతో సూచిస్తారు.

44. గది ఉష్ణోగ్రతవద్ద ఐరన్ bcc నిర్మాణాన్ని ప్రదర్శిస్తుంది. $900^\circ C$ పైన అది fcc నిర్మాణాలోకి మార్పుచెందుతుంది ఐరన్ గది ఉష్ణోగ్రత వద్ద మరియు $900^\circ C$ వద్ద సాంద్రతల నిష్పత్తి (ఐరన్ మోలార్ ద్రవ్యరాశి మరియు పరమాణు వ్యాసార్థాలు ఉష్ణోగ్రతతో మార్పు చెందక స్థిరంగా ఉంటాయి)

- (1) $\frac{\sqrt{3}}{\sqrt{2}}$
- (2) $\frac{1}{2}$
- (3) $\frac{3\sqrt{3}}{4\sqrt{2}}$
- (4) $\frac{4\sqrt{3}}{3\sqrt{2}}$

45. మెగ్నీషియం, మూలకం (X) తో చర్యనొంది అయానిక సమ్మేళనం ఏర్పరుస్తుంది. (X) భూస్థితిలో ఎలక్ట్రాన్ విన్యాసం $1s^2 2s^2 2p^3$ అయిన ఆ సమ్మేళనం అతిసాధారణ ఫార్ములా

- (1) Mg_2X_3
- (2) Mg_3X_2
- (3) Mg_2X
- (4) MgX_2



46. Which of the following gastric cells indirectly help in erythropoiesis ?

- (1) Chief cells
- (2) Parietal cells
- (3) Goblet cells
- (4) Mucous cells

47. Match the items given in Column I with those in Column II and select the **correct** option given below :

Column I

Column II

- | | |
|---------------|------------------------|
| a. Fibrinogen | i. Osmotic balance |
| b. Globulin | ii. Blood clotting |
| c. Albumin | iii. Defence mechanism |

a b c

- (1) iii ii i
- (2) ii iii i
- (3) i iii ii
- (4) i ii iii

48. Calcium is important in skeletal muscle contraction because it

- (1) binds to troponin to remove the masking of active sites on actin for myosin.
- (2) prevents the formation of bonds between the myosin cross bridges and the actin filament.
- (3) detaches the myosin head from the actin filament.
- (4) activates the myosin ATPase by binding to it.

49. Which of the following is an occupational respiratory disorder ?

- (1) Anthracis
- (2) Emphysema
- (3) Botulism
- (4) Silicosis

46. ఎరిథ్రోపోయిసిస్ (అరుణకణోత్పాదకం) లో పరోక్షంగా సహాయపడు జతర కణాలు

- (1) ఛీఫ్ కణాలు
- (2) పైరిక లేక పెరిటెల్ కణాలు
- (3) గోబ్లెట్ కణాలు
- (4) మ్యూకస్ కణాలు

47. వరుస I మరియు II వరుసలకు పరిశీలించి సరియైన జతను గుర్తింపుము :

వరుస I

వరుస II

- | | |
|-----------------|------------------------|
| a. ఫైబ్రినోజన్ | i. ద్రవాభిసృత సమతుల్యత |
| b. గ్లోబ్యూలిన్ | ii. రక్తస్కందన |
| c. ఆల్బుమిన్ | iii. రక్షణవ్యవస్థ |

a b c

- (1) iii ii i
- (2) ii iii i
- (3) i iii ii
- (4) i ii iii

48. అస్థి కండర సంకోచానికి కాల్షియం ముఖ్యమైనది ఎందుకనగా అది

- (1) ట్రోపోన్‌తో కలిసి మయోసిన్ యొక్క క్రియాశీల స్థానాల పై గల పోరను తొలగిస్తాయి.
- (2) మయోసిన్ అడ్డు బంధాలు మరియు ఆక్టిన్ పోగు మధ్యలో గల బంధాలు ఏర్పడ కుండా నిరోధిస్తుంది.
- (3) మయోసిన్ శీర్షాన్ని ఆక్టిన్ పోగు నుండి వేరుచేస్తుంది.
- (4) మయోసిన్ ATP యేజ్‌తో కలిసి క్రియాశీలం అవుతుంది.

49. ఈ క్రింది వానిలో ఏది వృత్తిపర శ్వాసకోశ రుగ్మత

- (1) ఆంథ్రాసిస్
- (2) ఎంఫీసీమా
- (3) బాటుయిలిజం
- (4) సిలికోసిస్



50. Which of the following is an amino acid derived hormone ?

- (1) Epinephrine
- (2) Estriol
- (3) Estradiol
- (4) Ecdysone

51. Which of the following structures or regions is **incorrectly** paired with its function ?

- (1) Medulla oblongata : controls respiration and cardiovascular reflexes.
- (2) Corpus callosum : band of fibers connecting left and right cerebral hemispheres.
- (3) Hypothalamus : production of releasing hormones and regulation of temperature, hunger and thirst.
- (4) Limbic system : consists of fibre tracts that interconnect different regions of brain; controls movement.

52. The transparent lens in the human eye is held in its place by

- (1) ligaments attached to the ciliary body
- (2) smooth muscles attached to the ciliary body
- (3) smooth muscles attached to the iris
- (4) ligaments attached to the iris

53. Which of the following hormones can play a significant role in osteoporosis ?

- (1) Aldosterone and Prolactin
- (2) Parathyroid hormone and Prolactin
- (3) Estrogen and Parathyroid hormone
- (4) Progesterone and Aldosterone

50. అమైనో ఆమ్లు ఉత్పన్న హార్మోన్

- (1) ఎపీనెఫ్రిన్
- (2) ఎస్ట్రియోల్
- (3) ఈస్ట్రాడయోల్
- (4) ఇక్డిసన్

51. ఈ క్రింద పేర్కొన్నవానిలో ఒకదాని నిర్మాణంలేదా స్థానం దాని విధితో సరిగా జతపరిచలేదు. దానిని గుర్తింపుము

- (1) మజ్జాముఖవల : శ్వాసక్రియ, హృదయ రక్త ప్రసరణ స్పందనల నిర్వహణ.
- (2) కార్పస్ కల్లోజమ్ : కుడి మరియు ఎడమ మస్తిష్కార్ధగోళాలను కలుపుతున్న నాడీతంతువుల వట్టి.
- (3) హైపోథలామస్ : హార్మోన్ల తయారీ మరియు (అథోవర్యాంకం) విడుదల చేస్తుంది ఉష్ణోగ్రత, ఆకలి మరియు దప్పికల నియంత్రణ.
- (4) లింబిక్ వ్యవస్థ : మెదడులో వివిధ ప్రాంతాలను అనుసంధానం చేస్తున్నాడీ తంతువుల వట్టిలు ఉంటాయి.

52. మానవ నేత్రంలో పారదర్శక కటకం దాని నిర్దిష్టత స్థానంలో ఉంచడానికి కారణమైనవి

- (1) శైలికామయ దేహానికి సంధించబడ్డ (సంలగ్నమయిన) స్నాయువులు
- (2) శైలికామయ దేహానికి సంలగ్నమయిన సునువు కండరాలు
- (3) తారకకు సంలగ్నమయిన సునువు కండరాలు
- (4) తారకకు సంధించబడ్డ (సంలగ్నమయిన) స్నాయువులు

53. ఆస్టియోపోరోసిస్లో ఈ హార్మోన్ల ప్రముఖ పాత్ర పోషిస్తాయి

- (1) ఆల్డోస్టెరాన్ మరియు ప్రోలాక్టిన్
- (2) పారాథైరాయిడ్ హార్మోన్ మరియు ప్రోలాక్టిన్
- (3) ఇస్ట్రోజన్ మరియు పారాథైరాయిడ్ హార్మోన్
- (4) ప్రోజెస్టెరాన్ మరియు ఆల్డోస్టెరాన్



54. Hormones secreted by the placenta to maintain pregnancy are

- (1) hCG, hPL, progestogens, prolactin
- (2) hCG, progestogens, estrogens, glucocorticoids
- (3) hCG, hPL, progestogens, estrogens
- (4) hCG, hPL, estrogens, relaxin, oxytocin

55. The contraceptive 'SAHEL' is

- (1) blocks estrogen receptors in the uterus, preventing eggs from getting implanted.
- (2) is a post-coital contraceptive.
- (3) is an IUD.
- (4) increases the concentration of estrogen and prevents ovulation in females.

56. The amnion of mammalian embryo is derived from

- (1) ectoderm and mesoderm
- (2) ectoderm and endoderm
- (3) mesoderm and trophoblast
- (4) endoderm and mesoderm

57. The difference between spermiogenesis and spermiation is

- (1) In spermiogenesis spermatids are formed, while in spermiation spermatozoa are formed.
- (2) In spermiogenesis spermatozoa are formed, while in spermiation spermatozoa are released from sertoli cells into the cavity of seminiferous tubules.
- (3) In spermiogenesis spermatozoa from sertoli cells are released into the cavity of seminiferous tubules, while in spermiation spermatozoa are formed.
- (4) In spermiogenesis spermatozoa are formed, while in spermiation spermatids are formed.

54. గర్భధారణ సమయంలో దాని నిర్వహణకు జరాయువు నుండి విడుదల అయ్యే హార్మోన్లు

- (1) hCG, hPL, ప్రోజెస్టోజన్లు, ప్రోలాక్టిన్
- (2) hCG, ప్రోజెస్టోజన్లు, ఇస్ట్రోజన్లు, గ్లూకోర్టికాయిడ్లు
- (3) hCG, hPL, ప్రోజెస్టోజన్లు, ఇస్ట్రోజన్లు
- (4) hCG, hPL, ఇస్ట్రోజన్లు, రిలాక్సిన్, ఆక్సిటోసిన్

55. గర్భనిరోధక సాధనం 'సహెల్' అనునది

- (1) గర్భాశయంలో ఇస్ట్రోజెన్ గ్రాహకాలను నిరోధించి / దిగ్బంధంచేసి అండ ప్రతిస్థాపనను కాకుండా చేస్తుంది.
- (2) సంభోగానంతర గర్భ నిరోధక సాధనం.
- (3) ఇది ఓక IUD.
- (4) ఇస్ట్రోజెన్ గాఢతను తనుపెంచుతుంది లేదా స్త్రీలలో అండోత్సర్గాన్ని నిరోధిస్తుంది.

56. క్షీరదాలలోని పిండము యొక్క ఉల్బము దీని నుండి ఏర్పడుతుంది

- (1) బహిష్టచము మరియు మధ్యస్థచము
- (2) బహిష్టచము మరియు అంతస్థచము
- (3) మధ్యస్థచము మరియు ట్రోఫోబ్లాస్ట్
- (4) అంతస్థచము మరియు మధ్య త్వచము

57. శుక్రకణ జననం మరియు శుక్రకణాల విడుదలలకు మధ్యగల తేడా

- (1) శుక్రకణజననంలో శుక్రోత్పాదకాలు తయారవుతాయి శుక్రకణాల విడుదలలో శుక్రకణాలు తయారవుతాయి.
- (2) శుక్రకణజననంలో శుక్రకణాలు తయారవుతాయి శుక్రకణాల విడుదలలో శుక్రకణాలు సెర్టోలీ కణాల నుండి శుక్రోత్పాదకనాళికల కుహరంలోకి విడుదలవుతాయి.
- (3) శుక్రకణ జననంలో సెర్టోలీ కణాల నుండి శుక్రకణాలు శుక్రోత్పాదక నాళికల కుహరంలోకి విడుదల అవుతాయి. శుక్రకణాల విడుదలలో శుక్రకణాలు తయారవుతాయి.
- (4) శుక్రకణజననంలో శుక్రకణాలు తయారవు తాయి శుక్రకణాల విడుదలలో శుక్రోత్పాదకాలు తయారవుతాయి.



58. All of the following are part of an operon *except*

- (1) an operator
- (2) a promoter
- (3) an enhancer
- (4) structural genes

59. A woman has an X-linked condition on one of her X chromosomes. This chromosome can be inherited by

- (1) Only daughters
- (2) Both sons and daughters
- (3) Only grandchildren
- (4) Only sons

60. According to Hugo de Vries, the mechanism of evolution is

- (1) Multiple step mutations
- (2) Minor mutations
- (3) Phenotypic variations
- (4) Saltation

61. AGGTATCGCAT is a sequence from the coding strand of a gene. What will be the corresponding sequence of the transcribed mRNA ?

- (1) AGGUAUCGCAU
- (2) UCCAUAGCGUA
- (3) ACCUAUGCGAU
- (4) UGGTUTCGCAT

62. Match the items given in Column I with those in Column II and select the **correct** option given below :

Column I

Column II

- | | |
|------------------------|------------------------------------|
| a. Proliferative Phase | i. Breakdown of endometrial lining |
| b. Secretory Phase | ii. Follicular Phase |
| c. Menstruation | iii. Luteal Phase |

a b c

- (1) iii ii i
- (2) iii i ii
- (3) ii iii i
- (4) i iii ii

58. ఈ క్రింది పేర్కొన్న వానిలో ఒకటి ఒపరాన్‌లోనిది కాదు

- (1) ఆపరేటర్
- (2) ప్రొమోటర్
- (3) ఎన్‌హాన్సర్
- (4) నిర్మాణాత్మక జన్యువులు

59. ఒక స్త్రీకి తన X క్రోమోసోముపై X-సహలగ్న స్థితి ఉన్నది. ఈ క్రోమోసోముని అనువంశికంగా పొందేది

- (1) కుమార్తెలు మాత్రమే
- (2) కుమారులు మరియు కుమార్తెలు
- (3) మనుషులు మాత్రమే
- (4) కుమారులు మాత్రమే

60. హ్యూగో డీవ్రిస్ ప్రకారం పరిణామం జరిగే విధానం

- (1) అనేకదశల ఉత్పరివర్తనాలు
- (2) తక్కువ ఉత్పరివర్తనాలు
- (3) దృశ్యరూప వైవిధ్యాలు
- (4) లంఘనాలు

61. AGGTATCGCAT అనునది ఒక జన్యువు యొక్క సంకేతపాగు సందుగల వరుస క్రమం. అనులేఖిత mRNA పై దాని వరుసక్రమం ఈ విధంగా ఉంటుంది

- (1) AGGUAUCGCAU
- (2) UCCAUAGCGUA
- (3) ACCUAUGCGAU
- (4) UGGTUTCGCAT

62. వరుస I మరియు II వరుసలకు పరిశీలించి సరియైన జతను గుర్తింపుము :

వరుస I

వరుస II

- | | |
|------------------|---|
| a. వృద్ధిచెందుదశ | i. గర్భాశయ ఉపకళా అంతర్వేష్టనం విచ్ఛిత్తి అవుతుంది |
| b. స్రావక దశ | ii. పుటికాదశ |
| c. ఋతుస్రావము | iii. ల్యూటీయాదశ |

a b c

- (1) iii ii i
- (2) iii i ii
- (3) ii iii i
- (4) i iii ii



63. In which disease does mosquito transmitted pathogen cause chronic inflammation of lymphatic vessels ?
- (1) Elephantiasis
 - (2) Amoebiasis
 - (3) Ringworm disease
 - (4) Ascariasis
64. Conversion of milk to curd improves its nutritional value by increasing the amount of
- (1) Vitamin D
 - (2) Vitamin E
 - (3) Vitamin B₁₂
 - (4) Vitamin A
65. Which of the following is **not** an autoimmune disease ?
- (1) Psoriasis
 - (2) Vitiligo
 - (3) Alzheimer's disease
 - (4) Rheumatoid arthritis
66. Among the following sets of examples for divergent evolution, select the **incorrect** option :
- (1) Forelimbs of man, bat and cheetah
 - (2) Eye of octopus, bat and man
 - (3) Brain of bat, man and cheetah
 - (4) Heart of bat, man and cheetah
67. The similarity of bone structure in the forelimbs of many vertebrates is an example of
- (1) Homology
 - (2) Adaptive radiation
 - (3) Convergent evolution
 - (4) Analogy
68. Which of the following characteristics represent 'Inheritance of blood groups' in humans ?
- a. Dominance
 - b. Co-dominance
 - c. Multiple allele
 - d. Incomplete dominance
 - e. Polygenic inheritance
- (1) b, c and e
 - (2) a, c and e
 - (3) b, d and e
 - (4) a, b and c

63. ఏ వ్యాధిలో దోమద్వారా సంక్రమించిన రోగకారకజీవి లింఫాటిక్ నాళాలలో దీర్ఘకాలిక శోధ కలిగిస్తుంది
- (1) బోదకాలు
 - (2) అమీబియాసిస్
 - (3) రింగ్‌వార్మ్ వ్యాధి
 - (4) ఆస్కారియాసిస్
64. పాలు పెరుగుగా మార్పు చెందినప్పుడు దాని పోషకవిలువలు మెరుగువుతాయి. దానికి కారణం అందులో ఎక్కువగా ఉన్నది
- (1) విటమిన్ D
 - (2) విటమిన్ E
 - (3) విటమిన్ B₁₂
 - (4) విటమిన్ A
65. ఈ క్రింది వానిలో ఒకటి స్వయంరోగ నిరోధకతావ్యాధి కాదు
- (1) సోరియాసిస్
 - (2) విటిలిగో
 - (3) ఆల్జీమర్స్ వ్యాధి
 - (4) రుమటాయిడ్ ఆర్థరైటిస్
66. అవసార పరిణామానికి సంబంధించిన క్రింది ఉదాహరణలలో ఒక్కటి మాత్రము దీనికి సంబంధించినది కాదు. దానిని గుర్తింపుము
- (1) మానవుడు, గబ్బిలం మరియు చిరుతపులి యొక్క పూర్వాంగాలు
 - (2) ఆక్టోపస్, గబ్బిలం మరియు మానవుని కన్ను
 - (3) గబ్బిలం, మానవుడు మరియు చిరుతపులి యొక్క మెదడు
 - (4) గబ్బిలం, మానవుడు మరియు చిరుతపులి యొక్క గుండె
67. అనేక సకశేరుకాల పూర్వాంగాలలోని అస్థి నిర్మాణ సామ్యం దీనికి ఒక ఉదాహరణ
- (1) నిర్మాణసామ్యం
 - (2) ఉపయుక్త వికీరణం
 - (3) అభివృద్ధి పరిణామం
 - (4) క్రియాసామ్యం
68. మానవులలో 'రక్తవర్గ అనువంశికత' కు ఈ లక్షణాలు ప్రాతినిధ్యం వహిస్తాయి
- a. సంపూర్ణ బహిర్గతత్వము
 - b. సహ-బహిర్గతత్వము
 - c. బహుళయుగ్మ వికల్పాలు
 - d. అసంపూర్ణ బహిర్గతత్వము
 - e. బహుజన్య అనువంశికత
- (1) b, c మరియు e
 - (2) a, c మరియు e
 - (3) b, d మరియు e
 - (4) a, b మరియు c



69. Which of the following options correctly represents the lung conditions in asthma and emphysema, respectively ?

- (1) Inflammation of bronchioles; Decreased respiratory surface
- (2) Decreased respiratory surface; Inflammation of bronchioles
- (3) Increased respiratory surface; Inflammation of bronchioles
- (4) Increased number of bronchioles; Increased respiratory surface

70. Match the items given in Column I with those in Column II and select the **correct** option given below :

Column I		Column II	
a. Tricuspid valve	i.	Between left atrium and left ventricle	
b. Bicuspid valve	ii.	Between right ventricle and pulmonary artery	
c. Semilunar valve	iii.	Between right atrium and right ventricle	

- | | a | b | c |
|-----|-----|-----|-----|
| (1) | iii | i | ii |
| (2) | ii | i | iii |
| (3) | i | ii | iii |
| (4) | i | iii | ii |

71. Match the items given in Column I with those in Column II and select the **correct** option given below :

Column I		Column II	
a. Tidal volume	i.	2500 – 3000 mL	
b. Inspiratory Reserve volume	ii.	1100 – 1200 mL	
c. Expiratory Reserve volume	iii.	500 – 550 mL	
d. Residual volume	iv.	1000 – 1100 mL	

- | | a | b | c | d |
|-----|-----|-----|----|-----|
| (1) | iii | ii | i | iv |
| (2) | iv | iii | ii | i |
| (3) | i | iv | ii | iii |
| (4) | iii | i | iv | ii |

69. ఆస్థ్మా (ఉబ్బసం) మరియు ఎంఫీసీమా వ్యాధుల సందర్భాలలో ఊపిరితిత్తుల స్థితులగురించి క్రింద ఇవ్వబడిన వానిలో సరియైన దానిని గుర్తింపుము

- (1) వాయు నాళాల వాపు (శోధ); శ్వాస క్రియాతలం తగ్గు దల
- (2) శ్వాస క్రియాతలం తగ్గు దల; వాయు నాళాల నాళాళ వాపు (శోధ)
- (3) శ్వాస క్రియా తలం పెరుగు దల; వాయు నాళాల వాపు (శోధ)
- (4) వాయు నాళాల సంఖ్య పెరుగు దల; శ్వాస క్రియా తలం పెరుగు దల

70. వరుస I మరియు II వరుసలకు పరిశీలించి సరియైన జతను గుర్తింపుము :

వరుస I		వరుస II	
a. త్రిపత్రకవాటం	i.	ఎడమ కర్ణిక మరియు ఎడమ జఠరికల మధ్య	
b. ద్విపత్రకవాటం	ii.	కుడి జఠరిక మరియు పుపుసధమల మధ్య	
c. అర్ధచంద్రాకార కవాటం	iii.	కుడి కర్ణిక మరియు కుడి జఠరికల మధ్య	

- | | a | b | c |
|-----|-----|-----|-----|
| (1) | iii | i | ii |
| (2) | ii | i | iii |
| (3) | i | ii | iii |
| (4) | i | iii | ii |

71. వరుస I మరియు II వరుసలకు పరిశీలించి సరియైన జతను గుర్తింపుము :

వరుస I		వరుస II	
a. టైడల్ వాల్యూమ్	i.	2500 – 3000 మి.లీ.	
b. ఉచ్ఛ్వాస నిలవ ఘన పరిమాణం	ii.	1100 – 1200 మి.లీ.	
c. నిశ్వాస నిలవ ఘన పరిమాణం	iii.	500 – 550 మి.లీ.	
d. అవశేష ఘన పరిమాణం	iv.	1000 – 1100 మి.లీ.	

- | | a | b | c | d |
|-----|-----|-----|----|-----|
| (1) | iii | ii | i | iv |
| (2) | iv | iii | ii | i |
| (3) | i | iv | ii | iii |
| (4) | iii | i | iv | ii |



72. Which one of the following population interactions is widely used in medical science for the production of antibiotics ?

- (1) Commensalism
- (2) Amensalism
- (3) Parasitism
- (4) Mutualism

73. All of the following are included in 'Ex-situ conservation' *except*

- (1) Wildlife safari parks
- (2) Seed banks
- (3) Botanical gardens
- (4) Sacred groves

74. Match the items given in Column I with those in Column II and select the **correct** option given below :

Column I		Column II	
a. Eutrophication		i. UV-B radiation	
b. Sanitary landfill		ii. Deforestation	
c. Snow blindness		iii. Nutrient enrichment	
d. Jhum cultivation		iv. Waste disposal	
a	b	c	d
(1) ii	i	iii	iv
(2) i	ii	iv	iii
(3) iii	iv	i	ii
(4) i	iii	iv	ii

75. In a growing population of a country,

- (1) pre-reproductive individuals are more than the reproductive individuals.
- (2) pre-reproductive individuals are less than the reproductive individuals.
- (3) reproductive and pre-reproductive individuals are equal in number.
- (4) reproductive individuals are less than the post-reproductive individuals.

76. Which part of poppy plant is used to obtain the drug "Smack" ?

- (1) Flowers
- (2) Leaves
- (3) Roots
- (4) Latex

72. ఈ క్రింద పేర్కొన్నవానిలో ఏది జనాభా అంతరచర్యలలోనిది వైద్యశాస్త్రంలో సూక్ష్మజీవ వినాశకాల ఉత్పత్తిలో ఎక్కువగా వినియోగించబడుతుంది

- (1) సహభోజకత్వం
- (2) ఎమెన్సాలిజం
- (3) పరాస్పజీవత్వం
- (4) ముచుమాలిజం (అన్యోన్యాశ్రయ సహజీవనం)

73. ఈ క్రింద పేర్కొన్నవానిలో ఒక్కటి తప్ప మిగిలినవన్నీ 'ఎక్స్ సైట్సు-సంరక్షణ'లో ఉన్నవి దానిని గుర్తింపుము

- (1) వన్యప్రాణి సఫారీ ఉద్యానవనం
- (2) సీడ్ బ్యాంక్ (విత్తన భండాగారం)
- (3) బొటానికల్ గార్డెన్
- (4) సాక్రెడ్ గ్రూవ్స్ (వవిత్ర వనాలు)

74. వరుస I మరియు II వరుసలకు పరిశీలించి సరియైన జతను గుర్తింపుము :

వరుస I		వరుస II	
a. యూట్రాఫికేషన్		i. UV-B వికిరణ	
b. సానిటరీలాండ్ ఫిల్		ii. అడవుల సరికివేత	
c. మంచు అంధత్వం		iii. పోషకాల సమృద్ధి	
d. రబ్బం సాగు		iv. వ్యర్థల పరిష్కారం (తీసివేయడం)	

a	b	c	d
(1) ii	i	iii	iv
(2) i	ii	iv	iii
(3) iii	iv	i	ii
(4) i	iii	iv	ii

75. ఒక దేశంలో పెరుగుతున్న జనాభా ఉన్నయెడల

- (1) ప్రత్యుత్పత్తి జరుపబోవువారు ప్రత్యుత్పత్తి జరిపేవారి సంఖ్య కంటే ఎక్కువగా ఉన్నారు.
- (2) ప్రత్యుత్పత్తి జరుపబోవువారు ప్రత్యుత్పత్తి జరిపేవారి సంఖ్య కంటే తక్కువగా ఉన్నారు.
- (3) ప్రత్యుత్పత్తి జరిపేవారు జరుపబోవువార్ల సంఖ్య సమాసంగా ఉన్నది.
- (4) ప్రత్యుత్పత్తి జరుపువారు వయోవృద్ధుల (ప్రత్యుత్పత్తి జరిపినవారి) సంఖ్యకన్నా తక్కువగా ఉన్నారు.

76. "నల్ల మందు" చెట్టు నుండి నల్ల మందుని తయారు చేయడానికి. ఈ భాగాన్ని వాడతారు

- (1) పూలు
- (2) ఆకులు
- (3) వేర్లు
- (4) లేటెక్స్



77. Match the items given in Column I with those in Column II and select the **correct** option given below :

<i>Column I</i>	<i>Column II</i>
a. Glycosuria	i. Accumulation of uric acid in joints
b. Gout	ii. Mass of crystallised salts within the kidney
c. Renal calculi	iii. Inflammation in glomeruli
d. Glomerular nephritis	iv. Presence of glucose in urine

	a	b	c	d
(1)	iii	ii	iv	i
(2)	iv	i	ii	iii
(3)	ii	iii	i	iv
(4)	i	ii	iii	iv

78. Match the items given in Column I with those in Column II and select the **correct** option given below :

<i>Column I (Function)</i>	<i>Column II (Part of Excretory System)</i>
a. Ultrafiltration	i. Henle's loop
b. Concentration of urine	ii. Ureter
c. Transport of urine	iii. Urinary bladder
d. Storage of urine	iv. Malpighian corpuscle
	v. Proximal convoluted tubule

	a	b	c	d
(1)	iv	v	ii	iii
(2)	v	iv	i	iii
(3)	v	iv	i	ii
(4)	iv	i	ii	iii

77. వరుస I మరియు II వరుసలకు పరిశీలించి సరియైన జతను గుర్తింపుము :

<i>వరుస I</i>	<i>వరుస II</i>
a. గైకోసూరియా	i. కీళ్ళలో యూరికామ్లం చేరిక
b. గౌట్ లేకవాతరోగం	ii. మూత్రపిండంలో స్ఫటికీకరణం చెందన లవణాల రాశి
c. వృక్క కాలక్యులీ	iii. రక్తనాళికాగుచ్ఛాల శోధ
d. రక్త నాళికాగుచ్ఛాల నెఫ్రిటిస్	iv. మూత్రంలో గ్లూకోజ్ ఉండటం

	a	b	c	d
(1)	iii	ii	iv	i
(2)	iv	i	ii	iii
(3)	ii	iii	i	iv
(4)	i	ii	iii	iv

78. వరుస I మరియు II వరుసలకు పరిశీలించి సరియైన జతను గుర్తింపుము :

<i>వరుస I (విధి)</i>	<i>వరుస II (వినర్లక వ్యవస్థలోని భాగం)</i>
a. సూక్ష్మగాలనం	i. హెన్లీ శిక్నం
b. మూత్ర గాఢత	ii. మూత్రనాళం
c. మూత్ర రవాణా	iii. మూత్రాశయం
d. మూత్రం నిలవ	iv. మార్పీయన్ కణం
	v. సమీప సంవళిత నాళిక

	a	b	c	d
(1)	iv	v	ii	iii
(2)	v	iv	i	iii
(3)	v	iv	i	ii
(4)	iv	i	ii	iii



79. Nissl bodies are mainly composed of
- (1) Proteins and lipids
 - (2) Free ribosomes and RER
 - (3) Nucleic acids and SER
 - (4) DNA and RNA
80. Which of these statements is **incorrect** ?
- (1) Enzymes of TCA cycle are present in mitochondrial matrix.
 - (2) Oxidative phosphorylation takes place in outer mitochondrial membrane.
 - (3) Glycolysis operates as long as it is supplied with NAD that can pick up hydrogen atoms.
 - (4) Glycolysis occurs in cytosol.
81. Which of the following terms describe human dentition ?
- (1) Thecodont, Diphyodont, Homodont
 - (2) Pleurodont, Diphyodont, Heterodont
 - (3) Pleurodont, Monophyodont, Homodont
 - (4) Thecodont, Diphyodont, Heterodont
82. Select the **incorrect** match :
- (1) Lampbrush – Diplotene bivalents chromosomes
 - (2) Polytene – Oocytes of amphibians chromosomes
 - (3) Submetacentric – L-shaped chromosomes chromosomes
 - (4) Allosomes – Sex chromosomes
83. Which of the following events does **not** occur in rough endoplasmic reticulum ?
- (1) Protein folding
 - (2) Phospholipid synthesis
 - (3) Cleavage of signal peptide
 - (4) Protein glycosylation
84. Many ribosomes may associate with a single mRNA to form multiple copies of a polypeptide simultaneously. Such strings of ribosomes are termed as
- (1) Polysome
 - (2) Nucleosome
 - (3) Plastidome
 - (4) Polyhedral bodies

79. నిస్సిల్స్ అంగాలు వీనిని కలిగి ఉంటాయి
- (1) ప్రోటీన్లు మరియు లిపిడ్లు
 - (2) స్వేచ్ఛా రైబోసోములు మరియు గరుకు అంతర్జీవ ద్రవ్య జాలకం (RER)
 - (3) కేంద్ర కామ్లాలు మరియు సునుపు అంతర్జీవ ద్రవ్యజాలకం (SER)
 - (4) DNA మరియు RNA
80. క్రింది వానిలో సరిగాలేని వ్యాఖ్యను గుర్తింపుము
- (1) మైటోకాండ్రియాలోని మాత్రికలో TCA చక్రం యొక్క ఎంజైములు ఉంటాయి.
 - (2) బాహ్య మైటోకాండ్రియల్ త్వచములో ఆక్సిడిటివ్ ఫాస్ఫోరీలేషన్ జరుగుతుంది.
 - (3) హైడ్రోజన్ అణువులను స్వీకరించే NAD సరఫరా అయినంత కాలము గ్లైకాలిసిస్ జరుగుతుంది.
 - (4) గ్లైకాలిసిస్ సైటోసాల్లో జరుగుతుంది.
81. మానవ దంత విన్యాసం గురించి ఈ వర్ణన సరియైనది
- (1) గర్తదంతి, ద్వివారదంతి, సమదంతి
 - (2) ప్లూరోడాంట్, ద్వివారదంతి, విషమదంతి
 - (3) ప్లూరోడాంట్, ఏకవారదంతి, సమదంతి
 - (4) గర్తదంతి, ద్వివారదంతి, విషమదంతి
82. సరిగా జతపరచని దానిని గుర్తింపుము :
- (1) లాంప్ బ్రష్ క్రోమోసోములు – డిప్లోటీన్ బైవలెంట్లు
 - (2) పాలీటేన్ క్రోమోసోములు – ఉభయచరాలలోని స్ట్రీబీజమాతృ కణాలు
 - (3) సబ్ మెటా సెంట్రీక్ క్రోమోసోములు – L-ఆకారపు క్రోమోసోములు
 - (4) అల్లోసోములు – లైంగిక క్రోమోజోములు
83. ఈ క్రింద పేర్కొన్నది గరుకు అంతర్జీవ ద్రవ్య జాలకంలో (RER) జరుగదు
- (1) ప్రోటీన్ మడతపడుట
 - (2) ఫాస్ఫోలిపిడ్ సంశ్లేషణ
 - (3) సంకేత పెప్టైడ్ విదళనం
 - (4) ప్రోటీన్ గ్లైకోసైలేషన్
84. అనేక రైబోసోములు ఒక mRNA తో కలిసి ఒక పాలీసైజ్డ్ యొక్క అనేక సకళ్ళు సమాంతరంగా (ఒకే సారి) తయారు చేస్తాయి. ఇటువంటి రైబోసోము పొగులకు గల పేరు
- (1) పాలీసోము
 - (2) న్యూక్లియోసోము
 - (3) ప్లాస్టిడోమ్
 - (4) పాలీహెడ్రల్ అంగాలు



85. Which of the following animals does **not** undergo metamorphosis ?
- (1) Earthworm
 - (2) Starfish
 - (3) Moth
 - (4) Tunicate
86. Which one of these animals is **not** a homeotherm ?
- (1) *Macropus*
 - (2) *Psittacula*
 - (3) *Camelus*
 - (4) *Chelone*
87. Which of the following features is used to identify a male cockroach from a female cockroach ?
- (1) Presence of a boat shaped sternum on the 9th abdominal segment
 - (2) Presence of anal cerci
 - (3) Forewings with darker tegmina
 - (4) Presence of caudal styles
88. Identify the vertebrate group of animals characterized by crop and gizzard in its digestive system.
- (1) Amphibia
 - (2) Osteichthyes
 - (3) Aves
 - (4) Reptilia
89. Ciliates differ from all other protozoans in
- (1) using flagella for locomotion
 - (2) having two types of nuclei
 - (3) using pseudopodia for capturing prey
 - (4) having a contractile vacuole for removing excess water
90. Which of the following organisms are known as chief producers in the oceans ?
- (1) Dinoflagellates
 - (2) Euglenoids
 - (3) Cyanobacteria
 - (4) Diatoms

85. రూపవిక్రమణ చెందని జీవి
- (1) వాసపాము
 - (2) సముద్ర నక్షత్రం
 - (3) మాత్
 - (4) ట్యూనికేటు
86. ఈ క్రింది వానిలో ఉష్ణ రక్షణ కలిగి ఉన్నది
- (1) మాక్రోపస్
 - (2) సిట్టాక్యూలా
 - (3) కామెలస్
 - (4) కీలోన్
87. మగ బొద్దింకను ఆడ బొద్దింక నుండి ఈ లక్షణంతో గుర్తించడానికి ఉపయోగిస్తారు
- (1) బోటు ఆకారంలో ఉన్న ఉదరభాగం 9వ ఉదరభాగంలో ఉంటుంది
 - (2) పాయుపారిగాలు ఉంటాయి
 - (3) పూర్వరెక్కలు నల్లని టెగ్మినాను కలిగి ఉంటాయి
 - (4) పాయు కీలాలు ఉంటాయి
88. సకశేరుకాలలో ఈ జీవులు ఆహారవాహిక మరియు ఆంతరజఠరమువాని జీర్ణ వ్యవస్థలో కలిగి ఉంటాయి
- (1) ఉభయచరాలు
 - (2) ఆస్టిక్టీస్
 - (3) పక్షులు (ఎవీస్)
 - (4) సరీసృపాలు
89. మిగిలిన అన్ని ప్రోటోజోవా జీవులతో సీలియేటా జీవులు విభేదించునది దీనిలో
- (1) చలనానికి కశాభాన్ని వినియోగిస్తాయి
 - (2) రెండురకాల కేంద్రకాలు కలిగి ఉంటాయి
 - (3) భక్షకాలను పట్టు కోవడానికి మిథ్యాపాదాలను వినియోగిస్తాయి
 - (4) సంకోచరిక్షక కలిగి అదనపు నీరును తొలగిస్తాయి
90. సముద్రాలలో ఈ క్రింది జీవులను ముఖ్యమైన ఉత్పత్తిదారులుగా పరిగణిస్తారు
- (1) డైనోఫ్లాజెల్లేట్లు
 - (2) యూగ్లినాయిడ్లు
 - (3) సయానోబాక్టీరియా
 - (4) డయాటమ్లు



91. The Golgi complex participates in
- (1) Fatty acid breakdown
 - (2) Activation of amino acid
 - (3) Respiration in bacteria
 - (4) Formation of secretory vesicles
92. Stomata in grass leaf are
- (1) Dumb-bell shaped
 - (2) Barrel shaped
 - (3) Rectangular
 - (4) Kidney shaped
93. The stage during which separation of the paired homologous chromosomes begins is
- (1) Pachytene
 - (2) Zygotene
 - (3) Diakinesis
 - (4) Diplotene
94. The two functional groups characteristic of sugars are
- (1) hydroxyl and methyl
 - (2) carbonyl and hydroxyl
 - (3) carbonyl and phosphate
 - (4) carbonyl and methyl
95. Which among the following is **not** a prokaryote ?
- (1) *Saccharomyces*
 - (2) *Oscillatoria*
 - (3) *Nostoc*
 - (4) *Mycobacterium*
96. Stomatal movement is **not** affected by
- (1) Temperature
 - (2) CO₂ concentration
 - (3) O₂ concentration
 - (4) Light
97. Which of the following is true for nucleolus ?
- (1) Larger nucleoli are present in dividing cells.
 - (2) It is a site for active ribosomal RNA synthesis.
 - (3) It takes part in spindle formation.
 - (4) It is a membrane-bound structure.
98. Which of the following is **not** a product of light reaction of photosynthesis ?
- (1) ATP
 - (2) Oxygen
 - (3) NADPH
 - (4) NADH

91. గాల్జీ సంక్లిష్టము నిర్వహించు ప్రక్రియ
- (1) కొవ్వు ఆమ్లాల విచ్ఛేదన
 - (2) అమైనో ఆమ్లాలను క్రియాత్మకము చేయడము
 - (3) బాక్టీరియాలలో శ్వాసక్రియ
 - (4) ప్రవించే కోణాలను ఏర్పరచడము
92. గడ్డి మొక్కల పత్ర రంధ్రాల రకము
- (1) ముద్దరాకారము
 - (2) పీపాకారము (Barrel)
 - (3) దీర్ఘ చతురస్రము
 - (4) మూత్రపిండాకారము
93. జతగా ఉండే క్రోమోజోములు దిగువ ఇవ్వబడిన ఏదశలో విడదీయబడుట ప్రారంభమవును
- (1) పాక్టిటీన్
 - (2) జైగోటీన్
 - (3) డయాకైనేసిస్
 - (4) డిప్లోటీన్
94. చక్కెరల (sugars) సంబంధిత రేండు క్రియాత్మక స్థానాలు ఏవి
- (1) హైడ్రాక్సెల్ మరియు మిథైల్
 - (2) కార్బోనీల్ మరియు హైడ్రాక్సెల్
 - (3) కార్బోనీల్ మరియు ఫాస్ఫేటు
 - (4) కార్బోనీల్ మరియు మిథైల్
95. క్రింది వాటిలో కేంద్రక పూర్వచేపి కాదు
- (1) సబ్జూరోమైసిస్
 - (2) ఆపిల్లటోరియా
 - (3) నాస్టాక్
 - (4) మైకోబాక్టీరియము
96. పత్రరంధ్రాల చలనాన్ని ప్రభావితము (Affected) చేయని కారకం
- (1) ఉష్ణోగ్రత
 - (2) CO₂ గాఢత
 - (3) O₂ గాఢత
 - (4) కాంతి
97. దిగువనీయబడిన వాటిలో ఒకటి కేంద్రాకాంశానికి సంబంధించినది సరియైనది ఏది
- (1) విభజన చెందుతున్న కణాలలో పెద్ద పెద్ద కేంద్రాకాలం ఉంటుంది.
 - (2) క్రియాత్మక రైబోసోమల్ ఆర్.ఎన్.ఎ. (RNA) సంశ్లేషణ జరుపు స్థానము.
 - (3) కండోపోగుల నిర్మాణములో తోడ్పడుట.
 - (4) త్వచముతో సంధింపబడిన నిర్మాణము.
98. కిరణజన్య సంయోగక్రియలోని కాంతి చర్యలో ఏర్పడని ఉత్పాదకము
- (1) ATP
 - (2) Oxygen
 - (3) NADPH
 - (4) NADH



99. Which of the following elements is responsible for maintaining turgor in cells ?
- (1) Magnesium
 - (2) Calcium
 - (3) Potassium
 - (4) Sodium
100. Which one of the following plants shows a very close relationship with a species of moth, where none of the two can complete its life cycle without the other ?
- (1) *Hydrilla*
 - (2) *Viola*
 - (3) Banana
 - (4) *Yucca*
101. Pollen grains can be stored for several years in liquid nitrogen having a temperature of
- (1) -120°C
 - (2) -160°C
 - (3) -196°C
 - (4) -80°C
102. Oxygen is **not** produced during photosynthesis by
- (1) Green sulphur bacteria
 - (2) *Chara*
 - (3) *Cycas*
 - (4) *Nostoc*
103. Double fertilization is
- (1) Fusion of two male gametes of a pollen tube with two different eggs
 - (2) Syngamy and triple fusion
 - (3) Fusion of two male gametes with one egg
 - (4) Fusion of one male gamete with two polar nuclei
104. What is the role of NAD^+ in cellular respiration ?
- (1) It functions as an enzyme.
 - (2) It is the final electron acceptor for anaerobic respiration.
 - (3) It is a nucleotide source for ATP synthesis.
 - (4) It functions as an electron carrier.
105. In which of the following forms is iron absorbed by plants ?
- (1) Ferric
 - (2) Both ferric and ferrous
 - (3) Free element
 - (4) Ferrous

99. కణ స్వేత నిర్వహణలో తోడ్పడు మూలకం
- (1) మెగ్నీషియం
 - (2) కాల్షియం
 - (3) పోటాషియం
 - (4) సోడియం
100. దిగుబీయబడినలోన ఒక మొక్క మాథ్ (moth) కీటకముతో సన్నిహిత సంబధాన్ని కల్గి, రేండింటిలో ఏ ఒక్కట కూడ లేకుంటే జీవిత చక్రాన్ని పూర్తి చేయలేవు. అది ఏది
- (1) హైడ్రెల్లా
 - (2) వయోలా
 - (3) అరటి
 - (4) యుక్కా
101. దిగువ నీయబడిన ఒక ఉష్ణోగ్రత వద్ద సత్రజని ద్రవంలో (Liquid Nitrogen) కాన్ని సంవత్సరాల పాటు పరాగరేణువులను నిల్వ చేయవచ్చు అది ఏది
- (1) -120°C
 - (2) -160°C
 - (3) -196°C
 - (4) -80°C
102. కిరణజన్య సంయోగ క్రియలో ఆక్సిజనును ఉపయోగించు క్రాసని జీవి
- (1) హరిత సల్ఫర్ బాక్టీరియా
 - (2) ఖారా
 - (3) సైకస్
 - (4) నాస్టాక్
103. ద్విఫల ధీకరణ (Double fertilization) అనగా
- (1) పరాగ నాళాలోని రెండు పురుష సంయోగ బీజాలు రెండు భిన్న అండాలతో సంయోగము చేందడము
 - (2) సంయుక్త సంయోగము మరియు త్రిసంయోగము
 - (3) రెండు పురుష సంయోగ జాబీలు ఒక అండముతో సంయోగము చేందడం
 - (4) ఒక పురుష సంయోగ బీజము రెండు ధృవ కేంద్రాలతో సంయోగం
104. కణాత్మక శ్వాసక్రియ (cellular respiration) లో NAD^+ ఎలాంటి పాత్ర వహిస్తుంది
- (1) ఎంజైమ్ గా పనిచేయడము.
 - (2) అవాయు శ్వాసక్రియలో ఎలక్ట్రాన్ స్వీకర్త (Acceptor).
 - (3) ATP సంశ్లేషణకు న్యూక్లియోటైడ్ మూలము.
 - (4) ఎలక్ట్రాన్ వాహకంగా క్రియలో పాల్గొనడము.
105. మొక్కలు ఇనుమును ఏ రూపములో శోషిస్తాయి
- (1) ఫేర్రక్
 - (2) ఫేర్రిక్ మరియు ఫేర్రక్, రెండు
 - (3) సాధారణ మూలకము (Free element)
 - (4) ఫేర్రస్



- 106.** Select the **correct** statement :
- (1) Franklin Stahl coined the term “linkage”.
 - (2) Transduction was discovered by S. Altman.
 - (3) Spliceosomes take part in translation.
 - (4) Punnett square was developed by a British scientist.
- 107.** Select the **correct** match :
- (1) Alec Jeffreys – *Streptococcus pneumoniae*
 - (2) Francois Jacob and Jacques Monod – *Lac operon*
 - (3) Matthew Meselson and F. Stahl – *Pisum sativum*
 - (4) Alfred Hershey and Martha Chase – TMV
- 108.** The experimental proof for semiconservative replication of DNA was first shown in a
- (1) Fungus
 - (2) Virus
 - (3) Plant
 - (4) Bacterium
- 109.** Offsets are produced by
- (1) Meiotic divisions
 - (2) Parthenogenesis
 - (3) Parthenocarypy
 - (4) Mitotic divisions
- 110.** Which of the following pairs is **wrongly** matched ?
- (1) Starch synthesis in pea : Multiple alleles
 - (2) T.H. Morgan : Linkage
 - (3) XO type sex determination : Grasshopper
 - (4) ABO blood grouping : Co-dominance
- 111.** Which of the following has proved helpful in preserving pollen as fossils ?
- (1) Pollenkitt
 - (2) Sporopollenin
 - (3) Oil content
 - (4) Cellulosic intine
- 112.** Which of the following flowers only once in its life-time ?
- (1) Bamboo species
 - (2) Papaya
 - (3) Mango
 - (4) Jackfruit

- 106.** వీటిలో సరియైన వాఖ్య ఏది :
- (1) ఫ్రాంకిలిన్ స్ట్రాహిల్ సహలగ్నత వదాన్ని ప్రతిపాదించాడు.
 - (2) ఎస్. అర్థమన్ జన్యునయానాన్ని (Transduction) కనుగొన్నాడు.
 - (3) సైలిసియోసోము (Spliceosomes) అనువాద ప్రక్రియలో పాల్గొంటాయి.
 - (4) పున్నట్ స్క్వేయిర్ (Punnett square) న బ్రిటిష్ శాస్త్రజ్ఞుడు ప్రతిపాదించాడు.
- 107.** సరియైన జతను గుర్తింపుము :
- (1) అలైక్ జెఫ్రిస్ – స్ట్రెప్టోకోకస్ స్ట్రెప్టోకోకస్
 - (2) ఫ్రాంకియన్ జేకబ మరియు – *Lac* ఆపరాన్ జాక్వీ మోనాడ్
 - (3) మాథ్యూ మెసెల్సన్ మరియు – ఫైసము నట్రోవము ఎఫ్. స్ట్రాహిల్
 - (4) అల్ఫ్రెడ్ హర్షే మరియు మార్తా చేజ్ – TMV
- 108.** సెమి కంజర్వేటివ్ DNA ప్రతికృతిని (Replication) ప్రయోగాత్మకంగా కింది జీవిలో ప్రథమంగా నిర్ధారించారు
- (1) శిలీంధ్రం
 - (2) పైరసు
 - (3) మొక్క
 - (4) బాక్టీరియం
- 109.** ‘ఆఫ్సెట్స్’ (Offsets) ను ఉత్పత్తి చేయునది
- (1) క్షయకరణ విభజనలో విభజనలు
 - (2) అనిషేక జననము
 - (3) అనిషేక ఫలనము
 - (4) సమవిభజనలో విభజనలు
- 110.** దిగువ వాటిలో సరియైన జత కానిది ఏది
- (1) బరాని యొక్కలో : బహుళ యుగ్మ వికల్పకాలు పిండి వదార్థ సంశ్లేషణ
 - (2) టి.హెచ్. మార్గాన్ : సహలగ్నత
 - (3) XO రకపు లింగ నిర్ధారణ : మిడత
 - (4) ABO రక్త గ్రూపుంగ్ : సహ బహిర్గతము
- 111.** పరాగాన్ని (Pollen) శిలాజంగా నిల్వ చేయడానికి తోడ్పడునది
- (1) పాలెన్ కిట్
 - (2) స్పోరో పాలినిన్
 - (3) నూనేలు (Oil content) ఉండటం
 - (4) సెల్యులోజ్ ఇంటైన్
- 112.** దిగువ నీయబడిన మొక్కల్లో ఒక మొక్క తన జీవితములో ఒక సారి మాత్రమే పుష్పిస్తుంది అది ఏది
- (1) వెదురు జీతులు
 - (2) బోప్పాలు
 - (3) మామిడి
 - (4) పనస



113. The correct order of steps in Polymerase Chain Reaction (PCR) is
- (1) Extension, Denaturation, Annealing
 - (2) Denaturation, Annealing, Extension
 - (3) Denaturation, Extension, Annealing
 - (4) Annealing, Extension, Denaturation
114. In India, the organisation responsible for assessing the safety of introducing genetically modified organisms for public use is
- (1) Indian Council of Medical Research (ICMR)
 - (2) Genetic Engineering Appraisal Committee (GEAC)
 - (3) Research Committee on Genetic Manipulation (RCGM)
 - (4) Council for Scientific and Industrial Research (CSIR)
115. Use of bioresources by multinational companies and organisations without authorisation from the concerned country and its people is called
- (1) Bio-infringement
 - (2) Bioexploitation
 - (3) Biodegradation
 - (4) Biopiracy
116. Which of the following is commonly used as a vector for introducing a DNA fragment in human lymphocytes ?
- (1) Retrovirus
 - (2) pBR 322
 - (3) λ phage
 - (4) Ti plasmid
117. A 'new' variety of rice was patented by a foreign company, though such varieties have been present in India for a long time. This is related to
- (1) Co-667
 - (2) Basmati
 - (3) Lerma Rojo
 - (4) Sharbati Sonora
118. Select the **correct** match :
- | | | |
|-----------------------------------|---|----------------|
| (1) Ribozyme | – | Nucleic acid |
| (2) G. Mendel | – | Transformation |
| (3) T.H. Morgan | – | Transduction |
| (4) $F_2 \times$ Recessive parent | – | Dihybrid cross |

113. పాలిమరైజ్ బైస్ (PCR) రియాక్షన్లోని సరియైన క్రమం
- (1) సాగింపు, విస్వాభావకరణ, అన్నీలింగ్
 - (2) విస్వాభావకరణం, అన్నీలింగ్, సాగింపు
 - (3) విస్వాభావకరణం, సాగింపు, అన్నీలింగ్
 - (4) అన్నీలింగ్, సాగింపు, విస్వాభావకరణం
114. భారత దేశంలో మానవ వినియోగానికి ఎడుదల చేయబడు జన్యు మార్పిడికి లోనైన జీవుల (GMOS) సంబంధిత భద్రతను నిర్ధారించే సంస్థ ఏది
- (1) ఇండియన్ కౌన్సిల్ ఆఫ్ మెడికల్ రీసర్చ్ (ICMR)
 - (2) జీనెటిక్ ఇంజనీరింగ్ అప్రైయిజల్ కమిటీ (GEAC)
 - (3) రీసర్చ్ కమిటీ ఆన్ జీనెటిక్ మానిపులేషన్ (RCGM)
 - (4) కౌన్సిల్ ఫర్ సైంటిఫిక్ మరియు ఇండస్ట్రియల్ రీసర్చ్ (CSIR)
115. ఒక దేశము యొక్క జీవసంపదను ఎలాంటి ధృవీకరణ వ్రాన్ని ఆదేశము నుండి పొంద కుండే, జీవసంపదను వినియోగించే బహుళ సంస్థలు, కంపనీలు అవలంబిస్తున్న విధానాన్ని ఏమంటారు
- (1) బయోఇన్ఫ్రింజ్ మెంటు
 - (2) బయోఎక్స్ ప్లోయిటేషన్
 - (3) బయోడిగ్రేడేషన్
 - (4) బయోపారస్
116. ఏ వాహకము ద్వారా DNA మొక్క మానవ లింఫోసైటు (Lymphocytes) లోకి సర్వ సాధారణంగా చేర్చరచ్చు
- (1) రెక్టోవైరస్
 - (2) pBR 322
 - (3) λ ఫేజ్
 - (4) Ti ప్లాస్మిడ్
117. విదేశీ కంపనీ ఒక పరిరకాన్ని ప్రవేశపెట్టింది, అవుతే అలాంటి రకాలెన్నోచాలాకాలం నుండే ఉన్నాయి విదేశీ పరిరకం దేనికి చేందినది
- (1) Co-667
 - (2) బసమతి
 - (3) లేర్మా రోజో
 - (4) సర్బతి సానోరా
118. సరియైన జతను గుర్తింపుము :
- | | | |
|---------------------------------|---|----------------|
| (1) రైబోజైమ్ | – | కేంద్రకాష్టుము |
| (2) జి. మెండల్ | – | పరివర్తన |
| (3) టి.హెచ్. మార్గాన్ | – | జన్యువహనము |
| (4) $F_2 \times$ అంతర్గత జనకుడు | – | దిశంకర సంకరణ |



- 119.** Natality refers to
- (1) Death rate
 - (2) Number of individuals entering a habitat
 - (3) Number of individuals leaving the habitat
 - (4) Birth rate
- 120.** World Ozone Day is celebrated on
- (1) 5th June
 - (2) 22nd April
 - (3) 16th September
 - (4) 21st April
- 121.** Which of the following is a secondary pollutant ?
- (1) CO
 - (2) O₃
 - (3) SO₂
 - (4) CO₂
- 122.** Niche is
- (1) all the biological factors in the organism's environment
 - (2) the functional role played by the organism where it lives
 - (3) the range of temperature that the organism needs to live
 - (4) the physical space where an organism lives
- 123.** What type of ecological pyramid would be obtained with the following data ?
- Secondary consumer : 120 g
Primary consumer : 60 g
Primary producer : 10 g
- (1) Inverted pyramid of biomass
 - (2) Upright pyramid of biomass
 - (3) Upright pyramid of numbers
 - (4) Pyramid of energy
- 124.** In stratosphere, which of the following elements acts as a catalyst in degradation of ozone and release of molecular oxygen ?
- (1) Carbon
 - (2) Oxygen
 - (3) Fe
 - (4) Cl

- 119.** జనన రేటు అనునది
- (1) మరణ రేటు
 - (2) ఆవాసములోకి ప్రవేశించిన వ్యక్తుల సంఖ్య
 - (3) ఆవాసము నుండి వెళ్ళిపోయిన వ్యక్తుల సంఖ్య
 - (4) జన్మ రేటు
- 120.** ప్రపంచ ఓజోను దినాన్ని ఏ రోజు నిర్వహిస్తారు
- (1) 5 జూను
 - (2) 22 ఏప్రిల్
 - (3) 16 సెప్టెంబరు
 - (4) 21 ఏప్రిల్
- 121.** దిగువ ఇవ్వబడిన వాటిలో ఏది ద్వితీయ కాలుష్యకారణి
- (1) CO
 - (2) O₃
 - (3) SO₂
 - (4) CO₂
- 122.** నిచ్ లేదా నిర్ణీత ప్రహాశము అనునది
- (1) ఒక జీవి యొక్క జీవావరణం లోని జీవులు మరియు భౌతిక పరిస్థితులు
 - (2) జీవి నివసించే ప్రదేశంలో జీవి నిర్వహించే క్రియాత్మక చర్యలు
 - (3) జీవి జీవించడానికి కావలసిన ఉష్ణోగ్రతల పరిధి
 - (4) ఒక వద్దతిలో జీవులు ఉపయోగించు కొనే భౌతిక మరియు జీవ సంబంధ పరిస్థితులను వినియోగించు కొని జీవిస్తాయి
- 123.** దిగువ ఇవ్వబడిన సమాచారము ప్రకారం ఎలాంటి ఆవరణ సూచిస్తంభము (pyramid) ఏర్పడును
- ద్వితీయ వినియోగదారు : 120 g
ప్రాథమిక వినియోగదారు : 60 g
ప్రాథమిక ఉత్పన్నదారు : 10 g
- (1) జీవ ద్రవ్యరాశి యొక్క తల క్రిందుల సూచిస్తంభము
 - (2) జీవ ద్రవ్యరాశి యొక్క నిటారు సూచిస్తంభము
 - (3) సంఖ్యల యొక్క నిటారు సూచిస్తంభము
 - (4) సూచి స్తంభ శక్తి
- 124.** వాతావరణ స్ట్రాటోస్పియర్ (stratosphere) లోని ఓజోను పార విచ్ఛేదన, అణు ఆక్సిజనును ఎడుదల చేయడంలో ఉత్ప్రేరకంగా ఉపయోగ పడే మూలకం ఏది
- (1) కార్బన్
 - (2) ఆక్సిజను
 - (3) Fe
 - (4) Cl



125. Casparian strips occur in

- (1) Epidermis
- (2) Endodermis
- (3) Cortex
- (4) Pericycle

126. Plants having little or no secondary growth are

- (1) Grasses
- (2) Cycads
- (3) Conifers
- (4) Deciduous angiosperms

127. Which of the following statements is **correct** ?

- (1) Ovules are not enclosed by ovary wall in gymnosperms.
- (2) Stems are usually unbranched in both *Cycas* and *Cedrus*.
- (3) Horsetails are gymnosperms.
- (4) *Selaginella* is heterosporous, while *Salvinia* is homosporous.

128. Select the **wrong** statement :

- (1) Cell wall is present in members of Fungi and Plantae.
- (2) Mitochondria are the powerhouse of the cell in all kingdoms except Monera.
- (3) Pseudopodia are locomotory and feeding structures in Sporozoans.
- (4) Mushrooms belong to Basidiomycetes.

129. Secondary xylem and phloem in dicot stem are produced by

- (1) Apical meristems
- (2) Axillary meristems
- (3) Phellogen
- (4) Vascular cambium

130. Pneumatophores occur in

- (1) Halophytes
- (2) Submerged hydrophytes
- (3) Carnivorous plants
- (4) Free-floating hydrophytes

131. Sweet potato is a modified

- (1) Stem
- (2) Rhizome
- (3) Tap root
- (4) Adventitious root

125. కాస్పిరియన్ బద్దలు వీటిలో ఉంటాయి

- (1) బాహ్యచక్రము
- (2) అంతశ్చర్మము
- (3) పల్కలము
- (4) పరిచక్రము

126. ద్వితీయ పుద్ది (secondary growth) కొద్దిగా లేదా అసలే లేని మొక్కలు

- (1) గడ్డిమొక్కలు
- (2) సైకడు
- (3) కొనిఫర్స్
- (4) ఆకురాలే ఆవృత బీజాలు

127. దిగువ ఇవ్వబడిన వాటిలో ఏది **సరియైన** సమాధానము ?

- (1) వివృతబీజపు మొక్కలలో అండాశయము కు కుడ్యము లేకుండుట.
- (2) సైకస్ మరియు సిడ్రసులలో సాధారణంగా కాండాలు శాఖరహితము.
- (3) హార్స్ టేల్స్ (Horsetails) అను మొక్కలు వివృత బీజాలుకు చెందినవి.
- (4) సేలాజినెల్ల భిన్న సిద్ధబీజత కల్గి ఉండుట, సాల్వనియాలోని సేమబీజద.

128. **సరికాని** సమాధానాన్ని / వాఖ్యము గుర్తింపుము :

- (1) శిలీంధ్రాలు మరియు మొక్కల జాతులలో కణకవచము ఉంటుంది.
- (2) మైటోఖాండ్రీయా అనునవి కణాల శక్తి కార్యగారము లేదా శక్తి బాంధాగారము (Powerhouse of the cell) గా పేర్కొంటారు. ఇది అన్ని జంతువులలో ఉంటాయి ఒక మొనిరాలో తప్ప.
- (3) మిథ్యాప్రాదాలు స్పోరోజువన్సులలో గమన మరియు ఆహారము స్వీకరించే నిర్మాణాలు.
- (4) మజ్రూమ్సు బీసిడియోమైసిటీస్కు చెందినవి.

129. ద్వితీయ కణజాల కాండములో ద్వితీయ దారువు, ద్వితీయ పోషణ కణజాల ములకు ఉత్పత్తి చేయు కణజాలము

- (1) అగ్ర విభాజ్య కణకాలము
- (2) గ్రీవా విభాజ్య కణజాలము
- (3) ద్వితీయ పల్కలము (పెలోజిన్)
- (4) నాళికా కణజాలము

130. వీటిలో శ్వాసమూలాలు కల్గిన మొక్కలు

- (1) ఉప్పు నీటి మొక్కలు
- (2) మునిగిన నీటి మొక్కలు
- (3) మాంస భక్షక మొక్కలు (Carnivorous plants)
- (4) స్వేచ్ఛగా తేలె మొక్కలు

131. చిలకడదుంప (Sweet potato) ఏ రకపు రూపాంతరము

- (1) కాండము
- (2) కొమ్ము
- (3) ప్రాథమిక వేరు
- (4) అబ్దురపు వేరు



132. Which one is **wrongly** matched ?

- (1) Uniflagellate gametes – *Polysiphonia*
- (2) Unicellular organism – *Chlorella*
- (3) Gemma cups – *Marchantia*
- (4) Biflagellate zoospores – Brown algae

133. After karyogamy followed by meiosis, spores are produced exogenously in

- (1) *Neurospora*
- (2) *Saccharomyces*
- (3) *Agaricus*
- (4) *Alternaria*

134. Match the items given in Column I with those in Column II and select the **correct** option given below :

Column I Column II

- | | | |
|--------------|------|---|
| a. Herbarium | i. | It is a place having a collection of preserved plants and animals. |
| b. Key | ii. | A list that enumerates methodically all the species found in an area with brief description aiding identification. |
| c. Museum | iii. | Is a place where dried and pressed plant specimens mounted on sheets are kept. |
| d. Catalogue | iv. | A booklet containing a list of characters and their alternates which are helpful in identification of various taxa. |

- | | a | b | c | d |
|-----|-----|----|-----|----|
| (1) | i | iv | iii | ii |
| (2) | iii | iv | i | ii |
| (3) | ii | iv | iii | i |
| (4) | iii | ii | i | iv |

135. Winged pollen grains are present in

- (1) Mustard
- (2) *Pinus*
- (3) Mango
- (4) *Cycas*

132. దీనిలో ఏది సరియైన జత కాదు ?

- (1) ఏక కణభయత సంయోగ బీజాలు – పాలిసైఫోనియా
- (2) ఏకకణ జీవి – క్లోరెల్లా
- (3) జెమ్మా కప్పులు – మార్చాంషియా
- (4) ద్వికాంశభయత చలసిద్ధతజాలు – బ్రౌన్ తల్లె

133. క్రింది జీవిలో కేంద్రక సంయోగం తర్వాత క్యారోగమి బాహ్యజనితంగా సిద్ధ బీజాలు ఉత్పత్తి చేయబడతాయి

- (1) న్యూరోస్పోరో
- (2) సఖ్కలో మైసెస్
- (3) అగారికన్
- (4) ఆల్టర్నేరియా

134. వరుస I మరియు II వరుసలకు పరిశీలించి సరియైన జతను గుర్తింపుము :

- | వరుస I | వరుస II |
|------------------------|---|
| a. హార్బేరియము | i. భద్రపరిచిన మొక్కల మరియు జంతువుల ప్రదేశము. |
| b. కీ (key) | ii. ఇది ఒక ప్రదేశ పట్టిక ఇందులో ఒక పద్ధతి ప్రకారంగా పేకరించబడిన అన్ని జాతుల పర్లలను, గుర్తింపు లక్షణాలు, ఆ ప్రదాన వివరాలు ఇవ్వబడతాయి. |
| c. మ్యూజియం | iii. మొక్కలను సేకరించి, వాటిని ఎండపెట్టి, ప్రెస్ వేసి, పేపరు పైన అతికించడం, వాటిని నిల్వచేసే ప్రదేశము. |
| d. కెటలాగ్ (catalogue) | iv. ఇది చిన్న పుస్తకము, దీనిలో లక్షణాల పట్టిక, వాటి పర్యాణమాలు కూడా ఉంటాయి ఇలి వివిధ అకాల టాక్సా(Taxa) గురించి సమాచారం ఊటుంది. |

- | | a | b | c | d |
|-----|-----|----|-----|----|
| (1) | i | iv | iii | ii |
| (2) | iii | iv | i | ii |
| (3) | ii | iv | iii | i |
| (4) | iii | ii | i | iv |

135. బాహుయుత పరాగ రేణువులు దీనిలో ఉంటాయి

- (1) ఆవాలు (Mustard)
- (2) పైసస్
- (3) మామిడి
- (4) సైకస్



136. An inductor 20 mH, a capacitor 100 μF and a resistor 50 Ω are connected in series across a source of emf, $V = 10 \sin 314 t$. The power loss in the circuit is

- (1) 0.79 W
- (2) 1.13 W
- (3) 2.74 W
- (4) 0.43 W

137. A metallic rod of mass per unit length 0.5 kg m^{-1} is lying horizontally on a smooth inclined plane which makes an angle of 30° with the horizontal. The rod is not allowed to slide down by flowing a current through it when a magnetic field of induction 0.25 T is acting on it in the vertical direction. The current flowing in the rod to keep it stationary is

- (1) 7.14 A
- (2) 11.32 A
- (3) 14.76 A
- (4) 5.98 A

138. Current sensitivity of a moving coil galvanometer is 5 div/mA and its voltage sensitivity (angular deflection per unit voltage applied) is 20 div/V. The resistance of the galvanometer is

- (1) 40 Ω
- (2) 500 Ω
- (3) 250 Ω
- (4) 25 Ω

139. A thin diamagnetic rod is placed vertically between the poles of an electromagnet. When the current in the electromagnet is switched on, then the diamagnetic rod is pushed up, out of the horizontal magnetic field. Hence the rod gains gravitational potential energy. The work required to do this comes from

- (1) the current source
- (2) the induced electric field due to the changing magnetic field
- (3) the lattice structure of the material of the rod
- (4) the magnetic field

136. 20 mH ఒక ప్రేరకము, 100 μF కెపాసిటర్ మరియు 50 Ω నిరోధకములను శ్రేణిలో $V = 10 \sin 314 t$ విద్యుత్ ఛాలక బలమున (emf) కలిగిన జనకమున కడ్డముగా కలిపినారు. ఈ వలయములోని సామర్థ్య నష్టము

- (1) 0.79 W
- (2) 1.13 W
- (3) 2.74 W
- (4) 0.43 W

137. 30° కోణములో పెట్టిన ఒక మృదువాల బల్లపై క్షితిజ సమాంతరముగా ఒక లోహపు 0.5 kg m^{-1} కడ్డి ఉన్నది. ఈ కడ్డి క్రిందికి జారకుండుటకు దాని ద్వారా 0.25 T అయస్కాంత ప్రేరణను నిలుపు దిశలో ఉంచి విద్యుత్ ప్రవాహాన్ని కలుగ చేసినారు. ఈ కడ్డి నిలకడ స్థితిలో ఉండుటకు దాని ద్వారా ప్రవహిస్తున్న విద్యుత్ ప్రవాహపు విలువ

- (1) 7.14 A
- (2) 11.32 A
- (3) 14.76 A
- (4) 5.98 A

138. ఒక కదులుచున తీగచుట్ట గాల్వనామీటర్ యొక్క విద్యుత్ ప్రవాహ సూక్ష్మ గ్రాహ్యత 5 div/mA, మరియు దాని వోల్టేజి సూక్ష్మ గ్రాహ్యత (ప్రమాణ అనువర్తిత వోల్టేజిలో జరిగిన కోణీయ అపవర్తనము) 20 div/V. అయినచో ఆ గాల్వనామీటర్ యొక్క నిరోధము

- (1) 40 Ω
- (2) 500 Ω
- (3) 250 Ω
- (4) 25 Ω

139. రెండు విద్యుదయస్కాంత ధృవముల మధ్య ఒక సన్నటి డయా అయస్కాంతపు కడ్డిని నిలుపుగా ప్రెట్ట బడినది. విద్యుదయస్కాంతములో విద్యుత్ ప్రవాహమును పంపించిన వెంటనే క్షితిజ సమాంతర అయస్కాంత క్షేత్రమనకు లంబంగా కడ్డిపైకి తోయబడినది. అందువల్ల కడ్డి గురుత్వ స్థితిశక్తిని పొందును దీనికవసరమైన పని దేనినుండి వచ్చును

- (1) విద్యుత్ ప్రవాహ జనకము
- (2) మారుతున అయస్కాంత క్షేత్రములో ప్రేరేపించ బడిన విద్యుత్ క్షేత్రము
- (3) కడ్డికి సంబంధించిన పదార్థము యొక్క లాటిన్ నిర్మాణము
- (4) అయస్కాంత క్షేత్రము



140. Unpolarised light is incident from air on a plane surface of a material of refractive index ' μ '. At a particular angle of incidence ' i ', it is found that the reflected and refracted rays are perpendicular to each other. Which of the following options is correct for this situation ?

- (1) Reflected light is polarised with its electric vector parallel to the plane of incidence
- (2) $i = \tan^{-1}\left(\frac{1}{\mu}\right)$
- (3) $i = \sin^{-1}\left(\frac{1}{\mu}\right)$
- (4) Reflected light is polarised with its electric vector perpendicular to the plane of incidence

141. In Young's double slit experiment the separation d between the slits is 2 mm, the wavelength λ of the light used is 5896 Å and distance D between the screen and slits is 100 cm. It is found that the angular width of the fringes is 0.20° . To increase the fringe angular width to 0.21° (with same λ and D) the separation between the slits needs to be changed to

- (1) 1.8 mm
- (2) 1.7 mm
- (3) 2.1 mm
- (4) 1.9 mm

142. An astronomical refracting telescope will have large angular magnification and high angular resolution, when it has an objective lens of

- (1) small focal length and large diameter
- (2) small focal length and small diameter
- (3) large focal length and large diameter
- (4) large focal length and small diameter

140. పశ్చిమ గుణకము ' μ ' గా ఉన్న వదార్థపు సమతల ఉపరితలంపై అధ్యవిత కాంతి గాలిలో పతనముగానించబడినది. ఒక నిర్దిష్ట పతనకోణము ' i ' వద్ద పరావర్తన మరియు పశ్చిమ కిరణాలు ఒకదానికొకటి లంబంగా ఉన్నాయి. ఈ సందర్భానికి ఈ క్రింది వాటిలో ఏ జవాబు సరియైనది

- (1) పతనము చెందిన దృవిత కాంతి యొక్క విద్యుత్ సదిశ పతన తలమునకు సమాంతరముగా ఉండును
- (2) $i = \tan^{-1}\left(\frac{1}{\mu}\right)$
- (3) $i = \sin^{-1}\left(\frac{1}{\mu}\right)$
- (4) పతనము చెందిన దృవితకాంతి యొక్క విద్యుత్ సదిశ పతన తలమునకు లంబంగా ఉండును

141. ఒక రెండు చీలికల యంగ్ ప్రయోగములో రెండు చీలికల d మధ్య దూరము 2 mm, వాడిన కాంతి తరంగదైర్ఘ్యము $\lambda = 5896 \text{ \AA}$ మరియు చీలికలతెర మధ్య దూరము D , 100 cm. పట్టీల కోణీయ వెడల్పును 0.20° గా కనుగొన్నారు. అదే λ మరియు D తో కోణీయ పట్టీలవెడల్పును 0.21° చేయుటకు చీలికల మధ్య దూరమును మార్చవలసిన విలువ

- (1) 1.8 mm
- (2) 1.7 mm
- (3) 2.1 mm
- (4) 1.9 mm

142. ఒక భూగోళ పశ్చిమ దూరదర్శినికి అధిక కోణీయ ఆవర్ధనము మరియు ఎక్కువ కోణీయ వృధక్రణము ఉండాలంటే దాని వస్తు కటకమునకు ఉండవలసినది

- (1) చిన్న నాభ్యంతరము మరియు అధిక వ్యాసము
- (2) చిన్న నాభ్యంతరము మరియు చిన్న వ్యాసము
- (3) అధిక నాభ్యంతరము మరియు అధిక వ్యాసము
- (4) అధిక నాభ్యంతరము మరియు చిన్న వ్యాసము



143. An object is placed at a distance of 40 cm from a concave mirror of focal length 15 cm. If the object is displaced through a distance of 20 cm towards the mirror, the displacement of the image will be

- (1) 30 cm away from the mirror
- (2) 36 cm towards the mirror
- (3) 30 cm towards the mirror
- (4) 36 cm away from the mirror

144. An em wave is propagating in a medium with a velocity $\vec{V} = V\hat{i}$. The instantaneous oscillating electric field of this em wave is along +y axis. Then the direction of oscillating magnetic field of the em wave will be along

- (1) -z direction
- (2) -x direction
- (3) -y direction
- (4) +z direction

145. The magnetic potential energy stored in a certain inductor is 25 mJ, when the current in the inductor is 60 mA. This inductor is of inductance

- (1) 0.138 H
- (2) 13.89 H
- (3) 1.389 H
- (4) 138.88 H

146. The refractive index of the material of a prism is $\sqrt{2}$ and the angle of the prism is 30° . One of the two refracting surfaces of the prism is made a mirror inwards, by silver coating. A beam of monochromatic light entering the prism from the other face will retrace its path (after reflection from the silvered surface) if its angle of incidence on the prism is

- (1) 60°
- (2) zero
- (3) 30°
- (4) 45°

143. 15 cm నాభ్యంతరము కలిగిన ఒక వుటాకార దర్పణమునకు 40 cm దూరములో ఒక వస్తువును ఉంచారు. ఒకవేళ వస్తువును దర్పణము వైపు 20 cm కదిలించినచో ప్రతిబింబములో జరుగు స్థానభ్రంశము

- (1) దర్పణమునకు 30 cm దూరంగా
- (2) దర్పణమువైపు 36 cm
- (3) దర్పణమువైపు 30 cm
- (4) దర్పణమునకు 36 cm దూరంగా

144. ఒక విద్యుదయస్కాంత తరంగము $\vec{V} = V\hat{i}$ వేగముతో ఒక యానకములో వ్యాపనము చెందు చున్నది. ఈ తరంగము యొక్క తాక్షణిక డోలాయమాన విద్యుత్క్షేత్రము +y అక్షము వెంబడి ఉన్నది. అయితే ఈ విద్యుదయస్కాంత తరంగపు అయస్కాంత డోలాయమాన క్షేత్రము యొక్క దిశ ఏ అక్షము వెంబడి ఉండును

- (1) -z దిశ
- (2) -x దిశ
- (3) -y దిశ
- (4) +z దిశ

145. ప్రేరకములోని విద్యుత్ ప్రవాహము 60 mA ఉన్న వుడు దానిలోని అయస్కాంత స్థితిజశక్తి 25 mJ. ఈ ప్రేరకము యొక్క ప్రేరకత

- (1) 0.138 H
- (2) 13.89 H
- (3) 1.389 H
- (4) 138.88 H

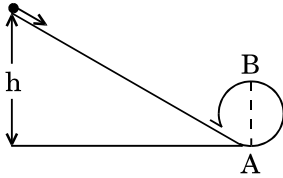
146. ప్రీజము యొక్క కోణము 30° మరియు దానిని తయారు చేయటకు వాడిన పదార్థపు పరీభవన గుణకము $\sqrt{2}$. రెండు పరీభవన ఉపరితలములలో ఒకదానిని, లోపలివైపు వెండిపూత వ్రాసిన దర్పణముగా చేసిరి. పట్టకము యొక్క మరొక తలము పై ఒక ఏక పర్లకాంతి పుంజము ఏ పతనకోణములో పడితే వెండి పూతవ్రాసిన తలపై పరావర్తనము చెంది అదే దారిలో వెను దిరుగుతుంది

- (1) 60°
- (2) సున్న
- (3) 30°
- (4) 45°

147. A moving block having mass m , collides with another stationary block having mass $4m$. The lighter block comes to rest after collision. When the initial velocity of the lighter block is v , then the value of coefficient of restitution (e) will be

- (1) 0.5
- (2) 0.4
- (3) 0.8
- (4) 0.25

148. A body initially at rest and sliding along a frictionless track from a height h (as shown in the figure) just completes a vertical circle of diameter $AB = D$. The height h is equal to



- (1) $\frac{3}{2}D$
- (2) $\frac{5}{4}D$
- (3) $\frac{7}{5}D$
- (4) D

149. Three objects, A : (a solid sphere), B : (a thin circular disk) and C : (a circular ring), each have the same mass M and radius R . They all spin with the same angular speed ω about their own symmetry axes. The amounts of work (W) required to bring them to rest, would satisfy the relation

- (1) $W_C > W_B > W_A$
- (2) $W_A > W_C > W_B$
- (3) $W_B > W_A > W_C$
- (4) $W_A > W_B > W_C$

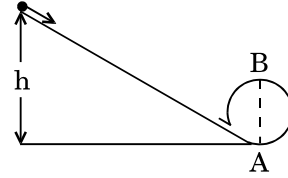
150. Which one of the following statements is **incorrect** ?

- (1) Rolling friction is smaller than sliding friction.
- (2) Coefficient of sliding friction has dimensions of length.
- (3) Frictional force opposes the relative motion.
- (4) Limiting value of static friction is directly proportional to normal reaction.

147. m ద్రవ్యరాశిగల ఒక దిమ్మ స్థిరంగా ఉన్న $4m$ ద్రవ్యరాశిగల మరొక దిమ్మతో అహఘాతముచేందినది. తేలిక దిమ్మ అభిఘాతము తర్వాత విశ్రాంతి స్థితికి వచ్చినది. తేలిక దిమ్మ యొక్క తొలి వేగము v తయినచో పర్యావస్థాన గుణకపు (e) విలువ

- (1) 0.5
- (2) 0.4
- (3) 0.8
- (4) 0.25

148. తొలుతగా విశ్రాంతిస్థితిలో ఉన్న ఒక వస్తువు (పటములో చూపిన విధంగా) ఘర్షణలేని వాలుబల్లపై h ఎత్తునుండి జారుచున్నది. $AB = D$ వ్యాసముగా గల ఒక నిలువు వృత్తమును పూర్తిచేసినచో h ఎత్తు



- (1) $\frac{3}{2}D$
- (2) $\frac{5}{4}D$
- (3) $\frac{7}{5}D$
- (4) D

149. ఒకే ద్రవ్యరాశి M మరియు వ్యాసార్థము R కలిగిన మూడు వస్తువులు, A : (ఒక ఘనగోళము), B : (ఒక పలుచటి వృత్తాకార బిల్ల) మరియు C : (ఒక వృత్తాకార రింగు) ఒకే కోణీయ వడితో ω ఆత్యభ్రమణము చేయుచున్నవి (వాటి స్పృష్టవాక్యము చుట్టూ) వాటిని విశ్రాంతి స్థితికి చేర్చుటకు చేయవలసిన పనులు (W) ఈ విధముగా సంబంధము కలిగి ఉన్నాయి

- (1) $W_C > W_B > W_A$
- (2) $W_A > W_C > W_B$
- (3) $W_B > W_A > W_C$
- (4) $W_A > W_B > W_C$

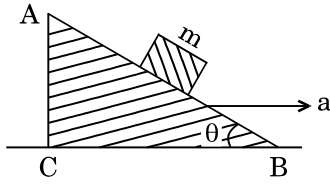
150. ఈ క్రింది వివరణములలో ఏది తప్పు ?

- (1) భ్రమణ ఘర్షణ జారుడు ఘర్షణ కంటే తక్కువ.
- (2) జారుడు ఘర్షణ గుణకము మరియు పొడవుల మితులు సమానము.
- (3) ఘర్షణ బలము సాపేక్ష గమనమును వ్యతిరేకించును.
- (4) స్థితిక ఘర్షణ యొక్క సీమాంత విలువ అభిలంబ ప్రతి చర్యకు అనులోమానుపాతములో ఉండును.

151. A toy car with charge q moves on a frictionless horizontal plane surface under the influence of a uniform electric field \vec{E} . Due to the force $q\vec{E}$, its velocity increases from 0 to 6 m/s in one second duration. At that instant the direction of the field is reversed. The car continues to move for two more seconds under the influence of this field. The average velocity and the average speed of the toy car between 0 to 3 seconds are respectively

- (1) 2 m/s, 4 m/s
- (2) 1.5 m/s, 3 m/s
- (3) 1 m/s, 3.5 m/s
- (4) 1 m/s, 3 m/s

152. A block of mass m is placed on a smooth inclined wedge ABC of inclination θ as shown in the figure. The wedge is given an acceleration 'a' towards the right. The relation between a and θ for the block to remain stationary on the wedge is



- (1) $a = \frac{g}{\operatorname{cosec} \theta}$
- (2) $a = g \tan \theta$
- (3) $a = g \cos \theta$
- (4) $a = \frac{g}{\sin \theta}$

153. The moment of the force, $\vec{F} = 4\hat{i} + 5\hat{j} - 6\hat{k}$ at $(2, 0, -3)$, about the point $(2, -2, -2)$, is given by

- (1) $-8\hat{i} - 4\hat{j} - 7\hat{k}$
- (2) $-7\hat{i} - 4\hat{j} - 8\hat{k}$
- (3) $-7\hat{i} - 8\hat{j} - 4\hat{k}$
- (4) $-4\hat{i} - \hat{j} - 8\hat{k}$

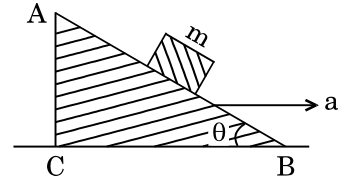
154. A student measured the diameter of a small steel ball using a screw gauge of least count 0.001 cm. The main scale reading is 5 mm and zero of circular scale division coincides with 25 divisions above the reference level. If screw gauge has a zero error of -0.004 cm, the correct diameter of the ball is

- (1) 0.521 cm
- (2) 0.529 cm
- (3) 0.053 cm
- (4) 0.525 cm

151. q విద్యుదావేశమును కలిగిన ఒక బొమ్మ కారు ఏక రీతి విద్యుత్ క్షేత్ర \vec{E} ప్రభావములోని ఒక ఘర్షణలేని క్షితిజ సమాంతర ఉపరితలముపై కదులుచున్నది. 1 సెకను కాలములో $q\vec{E}$ బలము వలన దాని వేగము సున్న నుండి 6 m/s కు పెరిగింది. ఆ సందర్భములో విద్యుత్ క్షేత్ర దిశను ఉత్క్రమించిరి. అదే క్షేత్రములో కారు మరో 2 సెకనులు కదిలింది. సున్న మరియు 3 సెకనుల వ్యవధిలో ఆ బొమ్మ కారు యొక్క సరాసరి వేగము మరియు సరాసరి వడి వరుసగా

- (1) 2 m/s, 4 m/s
- (2) 1.5 m/s, 3 m/s
- (4) 1 m/s, 3 m/s
- (3) 1 m/s, 3.5 m/s

152. θ కోణము చేస్తూ ఉన్న ఒక కీలాకారము ABC పై పటములో చూపిన విధముగా ఒక m ద్రవ్యరాశి గల దిమ్మను ఉంచిరి. కీలాకారమునకు 'a' త్వరణమున కుడివైపు ఇచ్చినారు. కీలాకారముపై విశ్రాంతి స్థితిలో ఉండగలగటానికి a మరియు θ ల మధ్య ఉండ వలసిన సంబంధము



- (1) $a = \frac{g}{\operatorname{cosec} \theta}$
- (2) $a = g \tan \theta$
- (3) $a = g \cos \theta$
- (4) $a = \frac{g}{\sin \theta}$

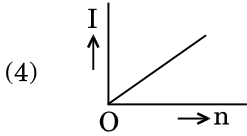
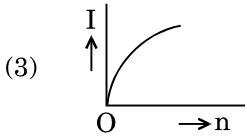
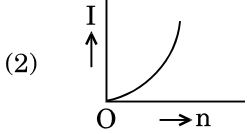
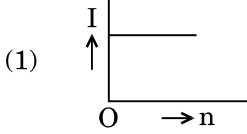
153. $(2, 0, -3)$ బిందువు వద్ద $\vec{F} = 4\hat{i} + 5\hat{j} - 6\hat{k}$ యొక్క $(2, -2, -2)$ బిందువు చుట్టూ బలభ్రామకము

- (1) $-8\hat{i} - 4\hat{j} - 7\hat{k}$
- (2) $-7\hat{i} - 4\hat{j} - 8\hat{k}$
- (3) $-7\hat{i} - 8\hat{j} - 4\hat{k}$
- (4) $-4\hat{i} - \hat{j} - 8\hat{k}$

154. ఒక విద్యార్థి 0.001 cm కనీసపు కాలత గలిగిన స్క్రూగేజిని ఉపయోగించి ఒక చిన్న ఉక్కు బంతి యొక్క వ్యాసమును కాలించాడు. మెయిన్ స్కేలు రీడింగు 5 mm మరియు వృత్తాకారపు స్కేలు సున్నా విభాగము 25 వ విభాగముతో కలుస్తున్నది (నిర్దేశ సాయిపైన). ఒకవేళ స్క్రూగేజి యొక్క శూన్యాంశ దోషము -0.004 cm అయినచో సరియైన బంతి వ్యాసము

- (1) 0.521 cm
- (2) 0.529 cm
- (3) 0.053 cm
- (4) 0.525 cm

155. A battery consists of a variable number 'n' of identical cells (having internal resistance 'r' each) which are connected in series. The terminals of the battery are short-circuited and the current I is measured. Which of the graphs shows the correct relationship between I and n ?



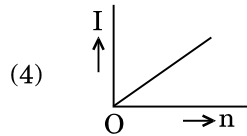
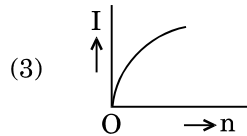
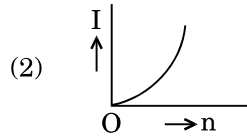
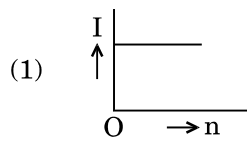
156. A carbon resistor of $(47 \pm 4.7) \text{ k}\Omega$ is to be marked with rings of different colours for its identification. The colour code sequence will be

- (1) Violet – Yellow – Orange – Silver
- (2) Green – Orange – Violet – Gold
- (3) Yellow – Green – Violet – Gold
- (4) Yellow – Violet – Orange – Silver

157. A set of 'n' equal resistors, of value 'R' each, are connected in series to a battery of emf 'E' and internal resistance 'R'. The current drawn is I. Now, the 'n' resistors are connected in parallel to the same battery. Then the current drawn from battery becomes 10 I. The value of 'n' is

- (1) 10
- (2) 9
- (3) 20
- (4) 11

155. ఒక్కొక్క ఘటము యొక్క అంతర్నిరోధము 'r' ఉన్న, 'n' సర్వసమాన ఘటములు శ్రేణిలో కలుపబడిన బ్యాటరీ యొక్క కొనలు లఘువలయమునకు గురిచేసి విద్యుత్ ప్రవాహమును I కొలిచిరి. అయితే, I మరియు n ల మధ్య గీసిన ఈ క్రింది గ్రాఫ్లలో ఏది సరియైనది



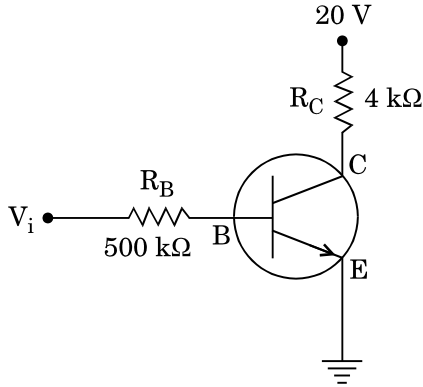
156. ఒక $(47 \pm 4.7) \text{ k}\Omega$ లు గల కార్బన్ నిరోధమునకు వివిధ రంగుల గీతలను పెట్టిదానిని గుర్తించుటకు ఈ క్రింది రంగుల కోడ్ అనుక్రమమును వాడవలెను

- (1) నీలలోహితము – పసుపు – నారింజ – వెండి
- (2) ఆకుపచ్చ – నారింజ – నీలలోహితము – బంగారు
- (3) పసుపు – ఆకుపచ్చ – నీలలోహితము – బంగారు
- (4) పసుపు – నీలలోహితము – నారింజ – వెండి

157. సమాన నిరోధము 'R' గల 'n' నిరోధాల సెట్ను శ్రేణిలో ఒక, అంతర్నిరోధము 'R' మరియు విద్యుచ్ఛాలక బలము (emf) 'E' కలిగిన, ఘటమునకు కలిపిరి. ప్రవహిస్తున్న విద్యుత్తు I. ఇప్పుడు ఈ 'n' నిరోధాలను సమానంతరంగా అదే ఘటమునకు కలిపినచో ప్రవహించు బ్యాటరీ విద్యుత్తు 10 I. అయితే 'n' విలువ

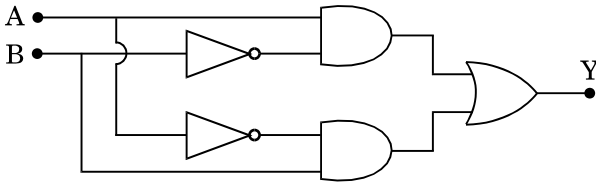
- (1) 10
- (2) 9
- (3) 20
- (4) 11

158. In the circuit shown in the figure, the input voltage V_i is 20 V, $V_{BE} = 0$ and $V_{CE} = 0$. The values of I_B , I_C and β are given by



- (1) $I_B = 40 \mu\text{A}$, $I_C = 10 \text{ mA}$, $\beta = 250$
- (2) $I_B = 40 \mu\text{A}$, $I_C = 5 \text{ mA}$, $\beta = 125$
- (3) $I_B = 20 \mu\text{A}$, $I_C = 5 \text{ mA}$, $\beta = 250$
- (4) $I_B = 25 \mu\text{A}$, $I_C = 5 \text{ mA}$, $\beta = 200$

159. In the combination of the following gates the output Y can be written in terms of inputs A and B as

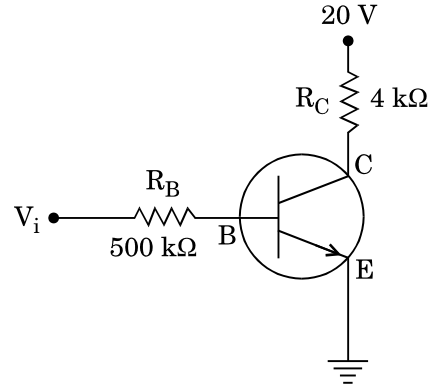


- (1) $\overline{A \cdot B}$
- (2) $\overline{A + B}$
- (3) $\overline{A \cdot B} + A \cdot B$
- (4) $A \cdot \overline{B} + \overline{A} \cdot B$

160. In a p-n junction diode, change in temperature due to heating

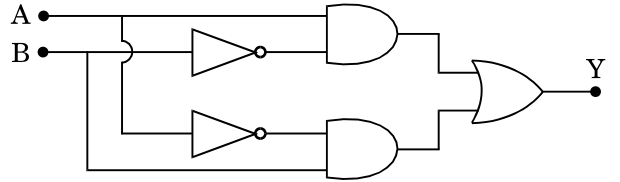
- (1) affects only reverse resistance
- (2) affects the overall V - I characteristics of p-n junction
- (3) does not affect resistance of p-n junction
- (4) affects only forward resistance

158. పటములో చూపిన వలయమునందు ఇన్ పుట్ వోల్టేజి (V_i) 20 V, $V_{BE} = 0$ మరియు $V_{CE} = 0$. I_B , I_C మరియు β విలువలు పలు పరుసగా



- (1) $I_B = 40 \mu\text{A}$, $I_C = 10 \text{ mA}$, $\beta = 250$
- (2) $I_B = 40 \mu\text{A}$, $I_C = 5 \text{ mA}$, $\beta = 125$
- (3) $I_B = 20 \mu\text{A}$, $I_C = 5 \text{ mA}$, $\beta = 250$
- (4) $I_B = 25 \mu\text{A}$, $I_C = 5 \text{ mA}$, $\beta = 200$

159. క్రింద చూపిన గేట్ల సంయోగములో A, B ఇన్పుట్లకు ఔట్పుట్ Y



- (1) $\overline{A \cdot B}$
- (2) $\overline{A + B}$
- (3) $\overline{A \cdot B} + A \cdot B$
- (4) $A \cdot \overline{B} + \overline{A} \cdot B$

160. వేడి చేయటంవల్ల p-n సంధి డయోడ్లో కలిగే ఉష్ణోగ్రతామార్పు

- (1) ఉత్క్రమనిరోధమును మాత్రమే ప్రభావితము చేస్తుంది
- (2) p-n సంధి యొక్క పూర్తి V - I అభిలక్షణ ములను ప్రభావితము చేస్తుంది
- (3) p-n సంధి నిరోధమును ప్రభావితము చేయదు
- (4) పురోగమన నిరోధమును మాత్రమే ప్రభావితము చేస్తుంది

161. An electron of mass m with an initial velocity $\vec{V} = V_0 \hat{i}$ ($V_0 > 0$) enters an electric field $\vec{E} = -E_0 \hat{i}$ ($E_0 = \text{constant} > 0$) at $t = 0$. If λ_0 is its de-Broglie wavelength initially, then its de-Broglie wavelength at time t is

- (1) $\frac{\lambda_0}{\left(1 + \frac{eE_0}{mV_0} t\right)}$
- (2) λ_0
- (3) $\lambda_0 t$
- (4) $\lambda_0 \left(1 + \frac{eE_0}{mV_0} t\right)$

162. The ratio of kinetic energy to the total energy of an electron in a Bohr orbit of the hydrogen atom, is

- (1) 1 : 1
- (2) 1 : -2
- (3) 2 : -1
- (4) 1 : -1

163. For a radioactive material, half-life is 10 minutes. If initially there are 600 number of nuclei, the time taken (in minutes) for the disintegration of 450 nuclei is

- (1) 20
- (2) 15
- (3) 30
- (4) 10

164. When the light of frequency $2\nu_0$ (where ν_0 is threshold frequency), is incident on a metal plate, the maximum velocity of electrons emitted is v_1 . When the frequency of the incident radiation is increased to $5\nu_0$, the maximum velocity of electrons emitted from the same plate is v_2 . The ratio of v_1 to v_2 is

- (1) 1 : 2
- (2) 2 : 1
- (3) 4 : 1
- (4) 1 : 4

161. m ద్రవ్యరాశి గల ఒక ఎలక్ట్రాను $\vec{V} = V_0 \hat{i}$ ($V_0 > 0$) తొలి వేగముతో $t = 0$ సమయము వద్ద $\vec{E} = -E_0 \hat{i}$ ($E_0 =$ స్థిరాంకము > 0) విద్యుత్ క్షేత్రములో ప్రవేశించినది. ఒక వేళ దాని తొలి డీ బ్రాగ్లీ తరంగదైర్ఘ్యము λ_0 అయినచో సమయము t వద్ద దాని డీ బ్రాగ్లీ తరంగదైర్ఘ్యము

- (1) $\frac{\lambda_0}{\left(1 + \frac{eE_0}{mV_0} t\right)}$
- (2) λ_0
- (3) $\lambda_0 t$
- (4) $\lambda_0 \left(1 + \frac{eE_0}{mV_0} t\right)$

162. హైడ్రోజన్ వరమాణువులోని బోర్ కక్ష్యలో గల ఎలక్ట్రాను గతిశక్తి మరియు మొత్తం శక్తుల నిష్పత్తి

- (1) 1 : 1
- (2) 1 : -2
- (3) 2 : -1
- (4) 1 : -1

163. ఒక రేడియోధార్మిక వదార్థపు అర్థజీవితకాలము 10 ని.ల తొలుతగా 600 కేంద్రకాలు ఉన్నాయనుకుంటే 450 కేంద్రకాలు క్షయము చెందుటకు వట్టుకాలము (నిమిషములలో)

- (1) 20
- (2) 15
- (3) 30
- (4) 10

164. $2\nu_0$ (ν_0 అనునది ఆరంభ పౌనపున్యము) పౌనపున్యము గల ఒక కాంతి లోహపు తలముపై పతనము చెందినపుడు ఉద్గారము చెందిన ఎలక్ట్రానుల అత్యధికవేగము v_1 . కాంతి పౌనపున్యమును $5\nu_0$ కు పెంచినపుడు, అదే లోహపు ప్లేటు నుండి వెలువడిన ఎలక్ట్రానుల అత్యధికవేగము v_2 అయినచో v_1 మరియు v_2 ల మధ్య నిష్పత్తి

- (1) 1 : 2
- (2) 2 : 1
- (3) 4 : 1
- (4) 1 : 4



165. A tuning fork is used to produce resonance in a glass tube. The length of the air column in this tube can be adjusted by a variable piston. At room temperature of 27°C two successive resonances are produced at 20 cm and 73 cm of column length. If the frequency of the tuning fork is 320 Hz, the velocity of sound in air at 27°C is

- (1) 330 m/s
- (2) 300 m/s
- (3) 350 m/s
- (4) 339 m/s

166. The electrostatic force between the metal plates of an isolated parallel plate capacitor C having a charge Q and area A, is

- (1) independent of the distance between the plates.
- (2) inversely proportional to the distance between the plates.
- (3) proportional to the square root of the distance between the plates.
- (4) linearly proportional to the distance between the plates.

167. An electron falls from rest through a vertical distance h in a uniform and vertically upward directed electric field E. The direction of electric field is now reversed, keeping its magnitude the same. A proton is allowed to fall from rest in it through the same vertical distance h. The time of fall of the electron, in comparison to the time of fall of the proton is

- (1) smaller
- (2) equal
- (3) 10 times greater
- (4) 5 times greater

168. A pendulum is hung from the roof of a sufficiently high building and is moving freely to and fro like a simple harmonic oscillator. The acceleration of the bob of the pendulum is 20 m/s^2 at a distance of 5 m from the mean position. The time period of oscillation is

- (1) $2\pi \text{ s}$
- (2) 1 s
- (3) 2 s
- (4) $\pi \text{ s}$

165. ఒక గాజు గొట్టములో శృతిదండమును వయోగించి అనునాదమును ఉత్పత్తి గానింపబడినది. గొట్టములోని గాలిపొడవును పిస్టనుతో మార్పుటక వీలు కలిగి ఉన్నది. గది ఉష్ణోగ్రత 27°C వద్ద 20 cm మరియు 73 cm పొడవులయందు రెండు అనుక్రమ అనునాదములు ఉత్పత్తి చేయబడినవి. ఒక వేళ శృతి దండపు పౌనపున్యము 320 Hz అయినచో గది ఉష్ణోగ్రత 27°C వాయువు వద్ద ధ్వనివేగము

- (1) 330 m/s
- (2) 300 m/s
- (3) 350 m/s
- (4) 339 m/s

166. వైశాల్యము A మరియు విద్యుదావేశము Q ఉన్న ఒక ఏకాంత సమాంతర పలకల కెపాసిటర్ C లోని లోహపలకల మధ్య స్థిర విద్యుత్ బలము

- (1) వాటి మధ్య దూరమునకు సంబంధముండదు.
- (2) వాటి మధ్య దూరమునకు విలోమానుపాతములో ఉండును.
- (3) వాటి మధ్య దూర వర్గములమునకు అనులోమానుపాతములో ఉండును.
- (4) వాటి మధ్య దూరమునకు రేఖీయానులోమానుపాతములో ఉండును.

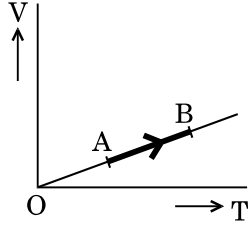
167. ఏకరీతి నిలుపుగా ఉన్న విద్యుత్క్షేత్రము (దిశపైకి) E లో, ఒక ఎలక్ట్రాను విశ్రాంతి స్థితి నుండి h నిలుపు దూరములో వడినది. ఇప్పుడు విద్యుత్క్షేత్ర దిశను తల క్రిందులు చేసి (వరిమాణములో మార్పులేకుండా) ఒక ప్రోటానును, అంతే నిలుపు దూరము h, లో విశ్రాంతి స్థితి నుండి విడిచినారు. అంత దూరంలో వడుటకు ఎలక్ట్రానుకు వట్టిన కాలము ప్రోటాను కాలముతో

- (1) తక్కువ
- (2) సమానము
- (3) 10 రెట్లు ఎక్కువ
- (4) 5 రెట్లు ఎక్కువ

168. ఒక అతి ఎత్తైన భవనము యొక్క ఛత్తు నుండి వేలాడదీసిన లోలకము, సరళ హరాత్మక డోలకమువలె స్వేచ్ఛగా కదులుచున్నది. లోలకము యొక్క గుండు మధ్య బిందువు నుండి 5 m దూరంలో 20 m/s^2 త్వరణమును కలిగియున్నది. దాని యొక్క డోలనావర్తన కాలము

- (1) $2\pi \text{ s}$
- (2) 1 s
- (3) 2 s
- (4) $\pi \text{ s}$

169. The volume (V) of a monatomic gas varies with its temperature (T), as shown in the graph. The ratio of work done by the gas, to the heat absorbed by it, when it undergoes a change from state A to state B, is



- (1) $\frac{2}{5}$
 (2) $\frac{2}{7}$
 (3) $\frac{1}{3}$
 (4) $\frac{2}{3}$

170. The fundamental frequency in an open organ pipe is equal to the third harmonic of a closed organ pipe. If the length of the closed organ pipe is 20 cm, the length of the open organ pipe is

- (1) 13.2 cm
 (2) 16 cm
 (3) 12.5 cm
 (4) 8 cm

171. At what temperature will the rms speed of oxygen molecules become just sufficient for escaping from the Earth's atmosphere?

(Given :

$$\text{Mass of oxygen molecule (m)} = 2.76 \times 10^{-26} \text{ kg}$$

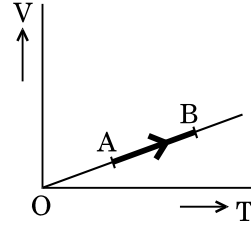
$$\text{Boltzmann's constant } k_B = 1.38 \times 10^{-23} \text{ J K}^{-1}$$

- (1) $2.508 \times 10^4 \text{ K}$
 (2) $1.254 \times 10^4 \text{ K}$
 (3) $5.016 \times 10^4 \text{ K}$
 (4) $8.360 \times 10^4 \text{ K}$

172. The efficiency of an ideal heat engine working between the freezing point and boiling point of water, is

- (1) 26.8%
 (2) 12.5%
 (3) 6.25%
 (4) 20%

169. ఏక పరమాణుక వాయువు యొక్క, ఉష్ణోగ్రత (T) తో మారుతున్న ఘనపరిమాణము (V) పటములో చూపిన విధముగా ఉన్నది. A స్థితి నుండి B స్థితికి మారుతున్నప్పుడ వాయువు చేసిన పనికి మరియు అది శోషణం చేసిన ఉష్ణమునకు గల నిష్పత్తి



- (1) $\frac{2}{5}$
 (2) $\frac{2}{7}$
 (3) $\frac{1}{3}$
 (4) $\frac{2}{3}$

170. తెరిచి యున్న ఆర్గాన్ గొట్టము యొక్క ప్రాథమిక పౌనపుణ్యము మరియు మూయబడిన ఆర్గాన్ గొట్టము యొక్క మూడవ అనుస్వరము సమానములు. ఒక వేళ మూసి ఉన్న ఆర్గాన్ గొట్టము పొడవు 20 cm అయితే, తెరిచి ఉన్న ఆర్గాన్ గొట్టపు పొడవెంత ?

- (1) 13.2 cm
 (2) 16 cm
 (3) 12.5 cm
 (4) 8 cm

171. ఆక్సిజను అణువుల వర్గమధ్యమాల వడి ఏ ఉష్ణోగ్రత వద్ద భూమినించి వాయుమండలము ఫలాయనము చెందుటకు సరిపోవును ?

(ఇవ్వబడినవి :

$$\text{ఆక్సిజన్ అణు ద్రవ్యరాశి (m)} = 2.76 \times 10^{-26} \text{ kg}$$

$$\text{బోల్ట్జ్మన్ స్థిరాంకము } k_B = 1.38 \times 10^{-23} \text{ J K}^{-1}$$

- (1) $2.508 \times 10^4 \text{ K}$
 (2) $1.254 \times 10^4 \text{ K}$
 (3) $5.016 \times 10^4 \text{ K}$
 (4) $8.360 \times 10^4 \text{ K}$

172. నీటి యొక్క ఘనీభవన స్థానము మరియు భాష్పీభవన స్థానముల మధ్య పని చేస్తున్న ఆదర్శ ఉష్ణయంత్రము యొక్క దక్షత

- (1) 26.8%
 (2) 12.5%
 (3) 6.25%
 (4) 20%



173. The power radiated by a black body is P and it radiates maximum energy at wavelength, λ_0 . If the temperature of the black body is now changed so that it radiates maximum energy at wavelength $\frac{3}{4}\lambda_0$, the power radiated by it becomes nP. The value of n is

- (1) $\frac{3}{4}$
- (2) $\frac{81}{256}$
- (3) $\frac{256}{81}$
- (4) $\frac{4}{3}$

174. Two wires are made of the same material and have the same volume. The first wire has cross-sectional area A and the second wire has cross-sectional area 3A. If the length of the first wire is increased by Δl on applying a force F, how much force is needed to stretch the second wire by the same amount ?

- (1) 9 F
- (2) F
- (3) 4 F
- (4) 6 F

175. A small sphere of radius 'r' falls from rest in a viscous liquid. As a result, heat is produced due to viscous force. The rate of production of heat when the sphere attains its terminal velocity, is proportional to

- (1) r^3
- (2) r^4
- (3) r^5
- (4) r^2

176. A sample of 0.1 g of water at 100°C and normal pressure ($1.013 \times 10^5 \text{ Nm}^{-2}$) requires 54 cal of heat energy to convert to steam at 100°C . If the volume of the steam produced is 167.1 cc, the change in internal energy of the sample, is

- (1) 104.3 J
- (2) 84.5 J
- (3) 42.2 J
- (4) 208.7 J

173. ఒక కృష్ణవస్తువు ఉద్గారించిన సామర్థ్యము P మరియు అది λ_0 తరంగదైర్ఘ్యము వద్ద గరిష్ట శక్తిని ఉద్గారిస్తుంది. దాని ఉష్ణోగ్రతను మార్చి గరిష్ట శక్తిని $\frac{3}{4}\lambda_0$ తరంగదైర్ఘ్యము వద్ద పొందాలంటే అది ఉద్గారిస్తున్న సామర్థ్యము nP అవుతుంది. అయితే n విలువ

- (1) $\frac{3}{4}$
- (2) $\frac{81}{256}$
- (3) $\frac{256}{81}$
- (4) $\frac{4}{3}$

174. ఒకే విధమైన పదార్థముతో చేయబడిన రెండుతీగల ఘనపరిమాణము సమానము. మొదటి తీగ మధ్య చేద వైశాల్యము A మరియు రెండవదాని మధ్యచేద వైశాల్యము 3A. F బలమును ప్రయోగించి మొదటి తీగ యొక్క పొడవున Δl కు పెంచగలిగితే, అంటే పొడవును పెంచుటలో రెండవ తీగ కువాడ వలసిన బలము

- (1) 9 F
- (2) F
- (3) 4 F
- (4) 6 F

175. 'r' వ్యాసార్థము గల ఒక గోళము (చిన్న) విశ్రాంతి స్థితి నుండి ఒక స్నిగ్ధతా ద్రవములో పడినది. స్నిగ్ధతా బలము వలన, దీని ఫలితంగా అందులో ఉష్ణము పుట్టును. గోళము చరమవేగమును పొందినపుడు ఉత్పత్తి అయిన ఉష్ణోత్పత్తి రేటు దేనికి అనులోమానుపాతములో ఉండును

- (1) r^3
- (2) r^4
- (3) r^5
- (4) r^2

176. 100°C దగ్గర ఉన్న 0.1 g నీటిని సాధారణ ఘీడనము ($1.013 \times 10^5 \text{ Nm}^{-2}$) దగ్గర 100°C దగ్గరనే ఆవిరి గామార్చుటకు 54 కెలోరీలు కావలయును. పొందిన ఆవిరియొక్క ఘన పరిమాణము 167.1 cc అయితే దానిలోని అంతర్గత శక్తిలోని మార్పు

- (1) 104.3 J
- (2) 84.5 J
- (3) 42.2 J
- (4) 208.7 J

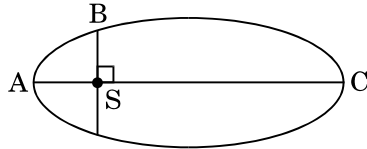
177. A solid sphere is rotating freely about its symmetry axis in free space. The radius of the sphere is increased keeping its mass same. Which of the following physical quantities would remain constant for the sphere ?

- (1) Angular velocity
- (2) Angular momentum
- (3) Rotational kinetic energy
- (4) Moment of inertia

178. A solid sphere is in rolling motion. In rolling motion a body possesses translational kinetic energy (K_t) as well as rotational kinetic energy (K_r) simultaneously. The ratio $K_t : (K_t + K_r)$ for the sphere is

- (1) 7 : 10
- (2) 2 : 5
- (3) 10 : 7
- (4) 5 : 7

179. The kinetic energies of a planet in an elliptical orbit about the Sun, at positions A, B and C are K_A , K_B and K_C , respectively. AC is the major axis and SB is perpendicular to AC at the position of the Sun S as shown in the figure. Then



- (1) $K_A < K_B < K_C$
- (2) $K_B > K_A > K_C$
- (3) $K_B < K_A < K_C$
- (4) $K_A > K_B > K_C$

180. If the mass of the Sun were ten times smaller and the universal gravitational constant were ten times larger in magnitude, which of the following is **not** correct ?

- (1) Raindrops will fall faster.
- (2) 'g' on the Earth will not change.
- (3) Time period of a simple pendulum on the Earth would decrease.
- (4) Walking on the ground would become more difficult.

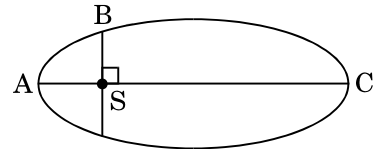
177. ఒక గట్టి గోళము తన సౌష్ఠవాక్షముచుట్టు స్వేచ్ఛగా తిరుగుచున్నది (రిక్తాకాశములో). ద్రవ్యరాశి అంతే ఉంచుతూ గోళము యొక్క వ్యాసార్థమును పెంచినారు. ఈ క్రింది ఏ భౌతికరాశి గోళమునకు సంబంధించిన స్థిరముగా ఉండును

- (1) కోణీయ వేగము
- (2) కోణీయ ద్రవ్య వేగము
- (3) భ్రమణ గతిశక్తి
- (4) జడత్వ భ్రామకము

178. ఒక గట్టి గోళము భ్రమణ చలనము చేయుచున్నది. భ్రమణ చలనములో పన్నుపునకు ఏక కాలములో స్థానాంతరణ గమనము (K_t) మరియు భ్రమణ గమనము (K_r) కలిగియుండును. గోళము యొక్క $K_t : (K_t + K_r)$ నిష్పత్తి

- (1) 7 : 10
- (2) 2 : 5
- (3) 10 : 7
- (4) 5 : 7

179. ఒక గ్రహము యొక్క శక్తి దీర్ఘవృత్తీయ కక్షలో (సూర్యుడి చుట్టూ) A, B మరియు C స్థానముల వద్ద K_A , K_B మరియు K_C . AC అనునది దీర్ఘాక్షము మరియు SB అనునది AC కి లంబము సూర్యుని స్థానము S వద్ద పటములో జూపిన విధంగా. అయితే



- (1) $K_A < K_B < K_C$
- (2) $K_B > K_A > K_C$
- (3) $K_B < K_A < K_C$
- (4) $K_A > K_B > K_C$

180. ఒక వేళ సూర్యుని ద్రవ్యరాశి 10 రెట్లు తక్కువవుండి, సార్వత్రిక గురుత్వాకర్షణ స్థిరాంకము 10 రెట్లు ఎక్కువ (పరిమాణాల్లో) అయి ఉంటే, ఈ క్రిందివాటిలో ఏది సరియైనది కాదు ?

- (1) వర్షపు బిందువులు ఎక్కువ వేగంతో పడేవి.
- (2) భూమిమీద 'g' విలువ మారేది కాదు.
- (3) లఘులోలకము యొక్క డోలనావర్తన కాలము భూమిమీద తగ్గేది.
- (4) నేలమీద నడవటం ఎక్కువ కష్టమయ్యేది.

SPACE FOR ROUGH WORK

SPACE FOR ROUGH WORK

Read carefully the following instructions :

1. Each candidate must show on demand his/her Admit Card to the Invigilator.
2. No candidate, without special permission of the Superintendent or Invigilator, would leave his/her seat.
3. The candidates should not leave the Examination Hall without handing over their Answer Sheet to the Invigilator on duty and sign the Attendance Sheet twice. **Cases where a candidate has not signed the Attendance Sheet second time will be deemed not to have handed over the Answer Sheet and dealt with as an unfair means case.**
4. Use of Electronic/Manual Calculator is prohibited.
5. The candidates are governed by all Rules and Regulations of the examination with regard to their conduct in the Examination Hall. All cases of unfair means will be dealt with as per Rules and Regulations of this examination.
6. No part of the Test Booklet and Answer Sheet shall be detached under any circumstances.
7. The candidates will write the Correct Test Booklet Code as given in the Test Booklet/Answer Sheet in the Attendance Sheet.

క్రింది సూచనలను జాగ్రత్తగా చదవండి :

1. ఇన్విజిలేటర్ కు ప్రతి విద్యార్థి/విద్యార్థిని అడిగినపుడు అనుమతి కార్డ్ (*Admit Card*) ను చూపించాలి.
2. సూపరింటెండెంట్/ఇన్విజిలేటర్ల ప్రత్యేక అనుమతితో తప్ప, ఏ విద్యార్థి/విద్యార్థిని తన సీటును విడిచి వెళ్ళకూడదు.
3. విద్యార్థి/విద్యార్థిని జవాబు పత్రాన్ని డ్యూటీలోనున్న ఇన్విజిలేటరుకు ఇవ్వకుండా బయటకు వెళ్ళకూడదు. అటెండెన్స్ పత్రం పై రెండు సార్లు సంతకం చెయ్యాలి. రెండవసారి సంతకం చెయ్యనట్లైతే, జవాబు పత్రం ఇవ్వలేదని నిర్ధారణకు వచ్చి తగిన చర్య తీసుకొనబడును.
4. ఎలక్ట్రానిక్/మ్యానివల్ క్యాలిక్యులేటర్ నిశేదించడమైనది.
5. విద్యార్థి/విద్యార్థిని లు పరీక్షగదిలో బోర్డ్ యొక్క నిబంధనలకు అణగుణంగా ఉండాలి. ధిక్కరణ కేసులన్నింటిని బోర్డ్ నిబంధనలనుసరించి చర్య తీసుకొనబడును.
6. పరీక్ష పుస్తకము మరియు జవాబు పత్రం యొక్క ఏ భాగమును కూడ విడగొట్టకూడదు.
7. విద్యార్థి/విద్యార్థిని సరియైన పరీక్ష పుస్తక కోడ్ను, పరీక్ష పుస్తకం/జవాబు పత్రంలో ఉన్నట్లుగా, అటెండెన్స్ పత్రంలో రాయాలి.