



















Practice, Learn and Achieve
Your Goal with Prepp

DSSSB PRT

Shift 5

Simplifying Government Exams

 SSC CHSL	 IAS EXAM	 RRB NTPC	 NTSE	 CDS
 SSC CGL	 CBSE UGC NET	 IBPS PO	 NDA	
 SBI PO	 IBPS CLERK	 AFCAT	 SSC JE	 CTET
 CSIR UGC NET	 CAPF	 IBPS RRB		



Test Center Name:	ION Digital Zone iDZ 2 Mathura Road
Test Date:	06/10/2018
Test Time:	4:30 PM - 6:30 PM
Subject:	ASSISTANT TEACHER PRIMARY

Section : Mental Ability

Q.1 उस विकल्प का चयन करें जो तीसरी संख्या से उसी प्रकार संबंधित है, जैसे दूसरी संख्या पहली संख्या से संबंधित है।
13 : 170 :: 20 : _____

Question ID : 16794318387

- Ans
- 1. 404
 - 2. 400
 - 3. 399
 - 4. 401

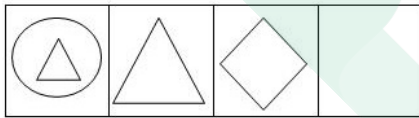
Q.2 यदि 'जानवरों' को 'लाल' कहा जाता है, 'लाल' को 'पानी' कहा जाता है, 'पानी' को 'आकाश' कहा जाता है, 'आकाश' को 'बादल' कहा जाता है, 'बादल' को 'हवा' कहा जाता है और 'हवा' को 'मछली' कहा जाता है, तो मछली कहाँ रहती है?

Question ID : 16794318376

- Ans
- 1. लाल
 - 2. मछली
 - 3. आकाश
 - 4. पानी

Q.3 वह विकल्प चुनें जो आकृतियों की निम्नलिखित श्रृंखला को पूरा करेगा।

Question ID : 16794318371



- Ans
- 1.
 - 2.
 - 3.
 - 4.

Q.4

18385

वह विकल्प चुनें जो घनिष्ठ रूप से निम्नलिखित शब्द की दर्पण-छवि जैसा दिखता है।

HUNT

- Ans
- 1. TИNH
 - 2. TNUH
 - 3. TИUH
 - 4. TNNH

Q.5 विनय का मुंह दक्षिण दिशा में था। वह दाहिनी तरफ घूमा और 20 m (मीटर) की दूरी तक चला। फिर वह दाहिनी तरफ घूम और 10 m (मीटर) की दूरी तक चला। फिर वह बाएँ तरफ घूमा और 10 m (मीटर) की दूरी चला और फिर वह दाहिनी तरफ घूमा और 20 m (मीटर) की दूरी चला। फिर वह दुबारा दाहिनी तरफ घूमा और 60 m (मीटर) की दूरी चला। शुरुआती बिंदु के संबंध में इस समय उसका मुंह किस दिशा में था?

Question ID : 16794318380

- Ans
- 1. उत्तर-पूर्व
 - 2. दक्षिण-पूर्व
 - 3. दक्षिण-पश्चिम
 - 4. उत्तर-पश्चिम

Q.6 आपको एक प्रश्न तथा दो कथन I और II दिए गए हैं। आपको यह सुनिश्चित करना है कि कथनों में दिया गया डेटा प्रश्न का उत्तर देने के लिए पर्याप्त है कि नहीं।
प्रश्न: A, B, C, D और E के बीच सबसे हल्का कौन सा है?
कथन:
I. C B और E से भारी है लेकिन D से हल्का है।
II. D सबसे भारी नहीं है।

Question ID : 16794318384

- Ans
- 1.
- प्रश्न का उत्तर देने के लिए अकेले कथन II में डेटा पर्याप्त है
- 2.
- प्रश्न का उत्तर देने के लिए कथन I और II दोनों का मिलाकर डेटा आवश्यक है
- 3.
- प्रश्न का उत्तर देने के लिए कथन I और II दोनों का मिलाकर डेटा पर्याप्त नहीं है
- 4.
- प्रश्न का उत्तर देने के लिए अकेले कथन I में डेटा पर्याप्त है

Q.7 40 लड़कों की एक पंक्ति में, जब अकबर को उसके बाएँ तरफ 4 स्थान स्थानांतरित कर दिया गया, तो पंक्ति के बाएँ सिरे से उनकी स्थिति 10 वीं हो गई। अगर मुकेश की स्थिति अकबर की पहले की स्थिति से दाहिनी तरफ 3 स्थान पर थी, तो अब पंक्ति के दाहिने छोर से मुकेश की स्थिति क्या होगी?

Question ID : 16794318377

- Ans
- 1. 33वीं
 - 2. 24वीं
 - 3. 35वीं
 - 4. 23वीं

Q.8 निवेधा और उसकी माँ की उम्र का योग 56 वर्ष है। चार साल बाद, माँ की उम्र उसकी बेटी की उम्र से तीन गुनी हो जाएगी। निवेधा और उसकी माँ की वर्तमान उम्र क्रमशः कितनी है?

Question ID : 16794318381

- Ans
- 1. 10 वर्ष, 46 वर्ष
 - 2. 14 वर्ष, 42 वर्ष
 - 3. 12 वर्ष, 44 वर्ष
 - 4. 15 वर्ष, 41 वर्ष

Q.9 यदि '+' का अर्थ है 'x', '-' का अर्थ है '+', 'x' का अर्थ है '-' और '+' का अर्थ है '+', तो $26 + 74 - 4 \times 5 + 4 =$ का मान क्या है?

Question ID : 16794318382

- Ans
- 1. 480
 - 2. 398
 - 3. 418
 - 4. 389

Q.10 आपको दो कथन और दो निष्कर्ष दिए गए हैं। नीचे दिए गए विकल्पों से निष्कर्षों के बारे में सही टिप्पणी चुनें।

Question ID : 16794318370

कथन:

सुमन प्रतिभाशाली है।

सुमन पुरुष है।

निष्कर्ष:

I. पुरुष प्रतिभाशाली होते हैं।

II. सुमन प्रतिभाशाली है क्योंकि वह पुरुष है।

- Ans
- 1. केवल निष्कर्ष II अनुसरण करता है
 - 2. न तो निष्कर्ष I और न II अनुसरण करता है
 - 3. या तो निष्कर्ष I या II अनुसरण करता है
 - 4. केवल निष्कर्ष I अनुसरण करता है

Q.11 पांच दोस्त एक पंक्ति में बैठे हैं। सुनीता प्रीति के बगल में बैठी है लेकिन धान्या के बगल में नहीं। किरूबा रोहिणी के बगल में बैठी है जो सबसे बाईं तरफ बैठी है। धान्या कुरुबा के बगल में नहीं बैठी है। सुनीता के पास कौन बैठी है?

Question ID : 16794318389

- Ans
- 1. किरूबा और प्रीति
 - 2. धान्या और रोहिणी
 - 3. प्रीति और धान्या
 - 4. रोहिणी और किरूबा

Q.12 निम्नलिखित प्रश्न में, वह वेन आरेख चुनें जो दिए गए तीन वर्गों: जीप, कार, वाहन के बीच संबंधों को सबसे अच्छी तरह से दिखाता है।

Question ID : 16794318388



- Ans
- 1. a
 - 2. b
 - 3. d
 - 4. c

Q.13 अगर एक घड़ी को 7 बजाने में सात सेकंड लगते हैं, तो उसे 9 बजाने में कितना समय लगेगा?

Question ID : 16794318383

- Ans
- 1. $10 \frac{1}{3}$ सेकंड
 - 2. $9 \frac{1}{3}$ सेकंड
 - 3. 10 सेकंड
 - 4. $9 \frac{1}{5}$ सेकंड

Q.14 नीचे दिए गए शब्दों में से विषम का पता लगाएं।

Question ID : 16794318372

- Ans
- 1. मंगल
 - 2. बृहस्पति
 - 3. चंद्रमा
 - 4. शुक्र

Q.15 एक आदमी की तरफ इंगित करते हुए, माला ने कहा, "उसकी मां मेरी मां की इकलौती बेटी है।" माला से आदमी का सम्बन्ध क्या है?

Question ID : 16794318374

- Ans
- 1. पिता
 - 2. भाई
 - 3. पुत्र
 - 4. दामाद

Q.16 निम्नलिखित जानकारी ध्यानपूर्वक पढ़ें और नीचे दिए गए प्रश्न का उत्तर दें:
एक स्कूल में, पांच शिक्षक हैं। P और Q कंप्यूटर विज्ञान और अंग्रेजी पढ़ाते हैं। R और Q अंग्रेजी और विज्ञान पढ़ाते हैं। S और P गणित और कंप्यूटर विज्ञान पढ़ाते हैं। T और Q हिंदी और फ्रेंच पढ़ाते हैं।
किस विषय को दो से अधिक शिक्षक पढ़ते हैं?

Question ID : 16794318378

- Ans
- 1. हिंदी
 - 2. अंग्रेजी
 - 3. गणित
 - 4. विज्ञान

Q.17 नीचे खाली जगह को भरने के लिए सबसे उचित विकल्प का चयन करें।

Question ID : 16794318386

एक नदी में हमेशा ___ होता है।

- Ans
- 1. डेल्टा
 - 2. वृक्ष
 - 3. किनारे
 - 4. नाव

Q.18

Question ID : 16794318379

नीचे दी गयी तालिका में गायब संख्या का पता लगाएं।

4	8	9	12
6	11	1	10
13	10	15	7
221	285	?	293

- Ans
- 1. 625
 - 2. 307
 - 3. 306
 - 4. 225

Q.19 यदि अंग्रेजी वर्णमाला विपरीत क्रम में लिखी जाए, तो कौन सा अक्षर बाएं से 14 वें अक्षर के बाईं ओर 5 वां होगा?

Question ID : 16794318373

- Ans
- 1. M
 - 2. P
 - 3. R
 - 4. S

Q.20 नीचे दी गई संख्या की श्रृंखला में गुम संख्या पता करें।

Question ID : 16794318375

2, 6, 12, 20, 30, 42, 56, _____, 90

- Ans
- 1. 72
 - 2. 70
 - 3. 68
 - 4. 64

Section : General Awareness

Q.1 सकल राष्ट्रीय उत्पाद (GNP) के संबंध में निम्नलिखित में से कौन सा कथन गलत है?

Question ID : 16794318402

1. GNP विदेशी आय से संबंधित देश का सकल घरेलू उत्पाद है।
2. जीएनपी में विदेशों में नागरिकों और कंपनियों द्वारा अर्जित आय शामिल है, लेकिन देश के भीतर विदेशियों द्वारा अर्जित आय शामिल नहीं है।

- Ans
- 1. केवल 1
 - 2. 1 और 2 दोनों
 - 3. केवल 2

✓ 4. न तो 1 और न ही 2

Q.2 निम्नलिखित में से किन देशों ने जुलाई, 2018 में आयोजित ब्रिक्स शिखर सम्मेलन की मेजबानी की है?

Question ID : 16794318405

- Ans
- ✗ 1. रूस
 - ✗ 2. चीन
 - ✓ 3. दक्षिण अफ्रीका
 - ✗ 4. ब्राज़िल

Q.3 इनमें से कौन सा असम का क्षेत्रीय नृत्य है?

Question ID : 16794318407

- Ans
- ✗ 1. हिकट
 - ✗ 2. कुम्मी
 - ✗ 3. पुरबी
 - ✓ 4. बिहु

Q.4 इनमें में से किन धातुओं में एंटी-बैक्टीरियल प्रोपर्टी होती है?

Question ID : 16794318399

- Ans
- ✗ 1. सोना
 - ✗ 2. दुर्ग
 - ✗ 3. प्लैटिनम
 - ✓ 4. चांदी

Q.5 सौरभ चौधरी एक भारतीय _____ है।

Question ID : 16794318409

- Ans
- ✗ 1. कबड्डी खिलाड़ी
 - ✓ 2. निशानेबाज़
 - ✗ 3. पहलवान
 - ✗ 4. एथलीट

Q.6 बनिहाल (जवाहर सुरंग) हिमालय के निम्नलिखित विभागों में से किसके अंतर्गत आता है?

Question ID : 16794318398

- Ans
- ✗ 1. केंद्रीय हिमालय
 - ✓ 2. छोटा हिमालय
 - ✗ 3. बड़ा हिमालय
 - ✗ 4. शिवालिक

Q.7 12 नामांकित सदस्यों को राष्ट्रपति द्वारा निम्नलिखित क्षेत्रों में विशेष ज्ञान या व्यावहारिक अनुभव रखने वाले व्यक्तियों में से चुना जाएगा:

Question ID : 16794318392

- Ans
- ✗ 1. विज्ञान, खेल, फिल्म और सामाजिक सेवा
 - ✗ 2. खेल, साहित्य, संगीत और सामाजिक सेवा

✗ 3. साहित्य, खेल, सिनेमा, और सामाजिक सेवा

✓ 4. साहित्य, विज्ञान, कला और सामाजिक सेवा

Q.8 निम्नलिखित में से कौन सा उपकरण भूकंप की तीव्रता को रिकॉर्ड करता है?

Question ID : 16794318400

Ans ✗ 1. लैक्टोमीटर

✗ 2. हाइग्रोमीटर

✗ 3. थर्मामीटर

✓ 4. सेइसममीटर

Q.9 CCTV का क्या अर्थ है?

Question ID : 16794318401

Ans ✗ 1. केबल क्लोज्ड टेलीविजन

✗ 2. चैनल कनेक्टेड टेलीविजन

✓ 3. क्लोज सर्किट टेलीविज़न

✗ 4. सर्किट केबल टेलीविजन

Q.10 भारत की संसद में निम्न शामिल हैं:

Question ID : 16794318391

Ans ✓ 1. लोकसभा, राज्यसभा और राष्ट्रपति

✗ 2. लोकसभा और राज्य सभा

✗ 3. लोकसभा

✗ 4. लोकसभा और राष्ट्रपति

Q.11 हाल ही में लोकसभा ने _____ में राष्ट्रीय खेल विश्वविद्यालय स्थापित करने के लिए एक विधेयक पारित किया।

Question ID : 16794318406

Ans ✗ 1. नई दिल्ली

✓ 2. मणिपुर

✗ 3. बेंगलोर

✗ 4. असम

Q.12 2018-2019 सीज़न में बाजरा की न्यूनतम समर्थन मूल्य क्या है?

Question ID : 16794318404

Ans ✗ 1. 1925

✗ 2. 1900

✗ 3. 1980

✓ 4. 1950

Q.13 सही कथन चुनें।

Question ID : 16794318390

1. परम आदेश (Mandamus) का शाब्दिक अर्थ निर्देश है।
2. भारत में, परम आदेश केवल अधिकारियों और अन्य व्यक्तियों के खिलाफ नहीं होगा जो सार्वजनिक कर्तव्य से बंधे हैं बल्कि सरकार के खिलाफ भी हैं।

Ans ✗ 1. 1 और 2 दोनों

- 2. केवल 1
- 3. केवल 2
- 4. न तो 1 और न ही 2

Q.14 भूटानी प्रधान मंत्री जिन्होंने हाल ही में भारत का दौरा किया था?

Question ID : 16794318408

- Ans
- 1. जिग्मे थिनले
 - 2. सेरिंग तोबगे
 - 3. जिग्मे सिंगे वांगचुक
 - 4. जिग्मे खेसर नामगयेल

Q.15 1867 में महाराष्ट्र, बॉम्बे में प्रार्थना समाज के संस्थापक कौन थे?

Question ID : 16794318395

- Ans
- 1. आर.जी. भंडारकर
 - 2. एम.जी. रानाडे
 - 3. आत्माराम पांडूरंग
 - 4. एन.जी. चंदावरकर

Q.16 एनईईआर (NEER) का क्या अर्थ है:

Question ID : 16794318403

- Ans
- 1. नई प्रभावी विनिमय दर
 - 2. शुद्ध प्रभावी विनिमय दर
 - 3. गैर प्रभावी विनिमय दर
 - 4. नाममात्र प्रभावी विनिमय दर

Q.17 समुद्रगुप्त के दरबारी कवि कौन थे?

Question ID : 16794318393

- Ans
- 1. हरिशेन
 - 2. बाणभट्ट
 - 3. वात्स्यायन
 - 4. भीमशेन

Q.18 तापी नदी _____ से निकलती है।

Question ID : 16794318397

- Ans
- 1. पश्चिमी घाट
 - 2. विंद्यान हिल्स
 - 3. कुमाऊं हिमालय
 - 4. सातपुरा पर्वत

Q.19

उनकी अवधि के अनुसार, दिल्ली सल्तनत के राजवंशों को उनके समयानुसार क्रमित करें?

Question ID : 16794318394

1. खिलजी वंश
2. दास वंश
3. सय्यद राजवंश
4. लोदी वंश

- Ans
- 1. 2, 3, 1, 4
 - 2. 2, 1, 3, 4
 - 3. 2, 1, 4, 3
 - 4. 2, 3, 4, 1

Q.20 नागालैंड का साक्षरता दर क्या है?

Question ID : 16794318396

- Ans
- 1. 78.8%
 - 2. 78.0%
 - 3. 76.2%
 - 4. 79.6%

Section : Arithmetic Ability

Q.1 अगर $x = (23)^{81} + (27)^{60} - (36)^8$, तो x का इकाई अंक इसके बराबर है:

Question ID : 16794318411

- Ans
- 1. 2
 - 2. 6
 - 3. 8
 - 4. 4

Q.2 30 वस्तुएं बेचने पर एक व्यक्ति को 2 वस्तुओं के विक्री मूल्य की हानि होती है। उसका हानि प्रतिशत क्या है? (एक दशमलव स्थान तक)

Question ID : 16794318419

- Ans
- 1. 10%
 - 2. 11.4%
 - 3. 8.5%
 - 4. 11.1%

Q.3 ₹ 6,480 की राशि A, B और C में इस तरह से बांटी जाती है कि A का 6 गुना हिस्सा B के 4 गुने हिस्से के बराबर है और C के भी 3 गुने हिस्से के बराबर है। C को कितना मिला?

Question ID : 16794318416

- Ans
- 1. ₹ 1,440
 - 2. ₹ 2,160
 - 3. ₹ 2,520
 - 4. ₹ 2,880

Q.4 एक नाव 4 घंटे में 15 किमी धारा-प्रतिकूल (अपस्ट्रीम) और 18 किमी धारा-अनुकूल (डाउनस्ट्रीम) जा सकती है। यदि धारा की गति 3 km/h है तो डाउनस्ट्रीम दिशा में नाव की गति km/h में क्या है?

Question ID : 16794318426

- Ans
- 1. 8
 - 2. 10
 - 3. 14

✓ 4. 12

Q.5 $0.8\overline{9} - 0.5\overline{46} - 0.\overline{12}$ का मान इसके बराबर है:

Question ID : 16794318413

Ans ✓ 1. $0.\overline{23}$

✗ 2. $0.2\overline{31}$

✗ 3. $0.1\overline{23}$

✗ 4. $0.3\overline{23}$

Q.6 12 और 3 के माध्य समानुपात और तृतीय समानुपात के बीच अंतर है:

Question ID : 16794318417

Ans ✗ 1. 4.75

✗ 2. 42

✗ 3. 30

✓ 4. 5.25

Q.7 $\frac{52.9 \times 47.1}{(529 + 471)^2 - (529 - 471)^2}$ का मान इसके बराबर है:

Question ID : 16794318410

Ans ✓ 1. 0.0025

✗ 2. 0.05

✗ 3. 0.025

✗ 4. 0.005

Q.8 एक त्रिभुज की भुजाएँ 9 cm, 12 cm, और 15 cm हैं। त्रिभुज के हरेक शीर्ष पर केन्द्र के साथ 2 cm त्रिज्या के वृत्त खींचे जाते हैं। त्रिभुज के क्षेत्रों द्वारा आच्छादित हिस्से को छोड़कर त्रिभुज का क्षेत्रफल क्या है? ($\pi = 3.14$)

Question ID : 16794318422

Ans ✓ 1. 47.72 cm^2

✗ 2. 41.44 cm^2

✗ 3. 46.15 cm^2

✗ 4. 44.58 cm^2

Q.9 दो संख्याओं का महत्तम समापवर्तक 23 है और उनका योग 276 है। यदि दोनों संख्याएँ तीन अंकीय संख्याएँ हैं तो उनके व्युत्क्रमों का योग क्या है?

Question ID : 16794318414

Ans ✗ 1. $\frac{7}{529}$

✓ 2. $\frac{12}{805}$

✗ 3. $\frac{1}{529}$

✗ 4. $\frac{12}{529}$

Q.10 यदि व्यक्ति 60 km/h की गति से कुछ दूरी और x km/h की गति से उतनी ही दूरी तय करता है। यदि पूरी यात्रा के लिए उसकी औसत गति 48 km/h है तो x का मान क्या है?

Question ID : 16794318427

Ans ✓ 1. 40

✗ 2. 42

3. 44

4. 36

Q.11 60 छात्रों की एक कक्षा में 40% लड़के हैं। लड़कों का औसत अंक 65 है और पूरी कक्षा का औसत अंक 69.2 है। लड़कियों का औसत अंक कितना है?

Question ID : 16794318415

Ans 1. 70

2. 71

3. 72

4. 73

Q.12 एक गोले की त्रिज्या 40% कम कर दी जाती है। उसका परिमाण कितने प्रतिशत कम हो जाएगा?

Question ID : 16794318423

Ans 1. 40%

2. 64%

3. 78.4%

4. 65%

Q.13 2 वर्ष के लिए ₹ 7,200 पर चक्रवृद्धि ब्याज और साधारण ब्याज के बीच अंतर ₹ 25.92 है। प्रति वर्ष ब्याज दर क्या है?

Question ID : 16794318421

Ans 1. 6%

2. 8%

3. 5%

4. 4%

Q.14 दो संख्याएं एक तीसरी संख्या से क्रमशः 28% और 36% कम हैं। दूसरी संख्या पहली संख्या से कितने प्रतिशत छोटी है?

Question ID : 16794318418

Ans 1. $\frac{100}{11}\%$

2. $\frac{100}{7}\%$

3. $\frac{25}{2}\%$

4. $\frac{100}{9}\%$

Q.15 A, B और C की कार्यक्षमता 4 : 3 : 7 के अनुपात में है। वे एक साथ मिलकर एक काम को 12 दिन में पूरा कर सकते हैं। अकेले B उस काम को कितने दिन में पूरा करेगा?

Question ID : 16794318424

Ans 1. 42

2. 24

3. 56

4. 64

Q.16 उस न्यूनतम संख्या के अंकों का योग क्या है जिसे पूर्ण घन बनाने के लिए 22,000 में से घटाया जाना चाहिए?

Question ID : 16794318412

Ans 1. 8

2. 10

3. 14

✓ 4. 12

Q.17 दिन में 8 घंटे काम करने वाले 12 आदमी काम की 4 इकाइयों को 20 दिन में पूरा कर सकते हैं। दिन में 6 घंटे काम करने वाले 15 आदमी काम की 9 इकाइयों को कितने दिन में पूरा कर सकते हैं?

Question ID : 16794318425

Ans ✗ 1. 45

✗ 2. 38

✓ 3. 48

✗ 4. 40

Q.18 एक वस्तु का अंकित मूल्य ₹ 6,750 है। उसे 15% और x% के क्रमिक छूट पर बेचा जाता है। यदि वस्तु का बिक्री मूल्य ₹ 4,590 है तो x का मान क्या है?

Question ID : 16794318420

Ans ✗ 1. 18%

✗ 2. 22%

✗ 3. 25%

✓ 4. 20%

Comprehension:

निम्नलिखित तालिका एक कालोनी में विभिन्न आयु-समूह के निवासियों की संख्या दर्शाती है। तालिका पढ़कर निम्नलिखित दो प्रश्नों के उत्तर दें।

आयु समूह	0-15	15-30	30-45	45-60	60-75	75-90
निवासियों की संख्या	50	60	80	60	30	20

SubQuestion No : 19

Q.1 निवासियों की माध्य आयु क्या है? (वर्ष के निकटतम एक दशमलव स्थान तक)

Question ID : 16794318429

Ans ✗ 1. 40.6

✓ 2. 38.5

✗ 3. 45.5

✗ 4. 42.5

Comprehension:

निम्नलिखित तालिका एक कालोनी में विभिन्न आयु-समूह के निवासियों की संख्या दर्शाती है। तालिका पढ़कर निम्नलिखित दो प्रश्नों के उत्तर दें।

आयु समूह	0-15	15-30	30-45	45-60	60-75	75-90
निवासियों की संख्या	50	60	80	60	30	20

SubQuestion No : 20

Q.2 यदि विभिन्न आयु समूह में निवासियों की संख्या दर्शाते हुए पाई चार्ट तैयार किया जाता है, तो 45-60 आयु समूह का प्रतिनिधित्व करने वाले क्षेत्र का केंद्रीय कोण निकटतम पूर्ण डिग्री में क्या है?

Question ID : 16794318430

- Ans
- 1. 60
 - 2. 50
 - 3. 72
 - 4. 75

Section : General English

Q.1 She is a smart worker, _____
(Provide the appropriate question tag)

Question ID : 16794318437

- Ans
- 1. can't she?
 - 2. doesn't she?
 - 3. aren't she?
 - 4. isn't she?

Q.2 Arrange the following sentences in meaningful and grammatically correct order.

Question ID : 16794318440

- A. The question is how to entice them to take up physical activity.
- B. Phones have kept them away from outdoor sports.
- C. This has resulted in poor fitness among them.
- D. Youngsters are hooked on to their smart phones.
- E. The only way seems to be to coax them out of this habit.

- Ans
- 1. DBCAE
 - 2. CDABC
 - 3. EDCAB
 - 4. DCBAE

Q.3 One of the options is a complete sentence? Identify it

18431

- Ans
- 1. Milk and Honey
 - 2. Folk music
 - 3. Humans have feelings
 - 4. The fish in water

Q.4 He feels panicky under pressure. (Provide the appropriate antonym for the underlined word)

Question ID : 16794318441

- Ans
- 1. Calm
 - 2. Hostile
 - 3. Angry
 - 4. Scared

Q.5 Which sentence makes most sense?

Question ID : 16794318433

- Ans
- 1. He is a compulsive liar. In spite, no one trusts him.
 - 2. He is a compulsive liar. Despite, no one trusts him.
 - 3. He is a compulsive liar. Therefore, no one trusts him.
 - 4. He is a compulsive liar. In spite of, no one trusts him.

Q.6 _____ she sees with her eyes, she won't believe it. (Provide the appropriate conjunction)

Question ID : 16794318445

- Ans
- 1. Nor
 - 2. Until
 - 3. Despite
 - 4. Either

Q.7 _____ for 9 hours now. He arrived at 7 AM and its 4 PM now.

Question ID : 16794318434

- Ans
- 1. Rajiv waited
 - 2. Rajiv has been waiting
 - 3. Rajiv has waiting
 - 4. Rajiv waits

Q.8 The bystander guided me to the specific location. (Provide the appropriate synonym for the underlined word)

Question ID : 16794318439

- Ans
- 1. Long
 - 2. Renovated
 - 3. Exact
 - 4. Nearby

Q.9 Shefali _____ to become an air hostess.

Question ID : 16794318435

- Ans
- 1. train
 - 2. has tra

3. am training

4. is training

Q.10 Danny asked the secretary, 'How long do you want me to wait?'
The Reported Speech of this sentence would be _____

Question ID : 16794318436

Ans 1.

Danny asked the secretary how long does he want him to wait.

2.

Danny asked the secretary how long did he want to wait.

3.

Danny asked the secretary how long did he want him to wait.

4.

Danny asked the secretary how long he want him to wait.

Q.11 Choose a suitable clause.

Question ID : 16794318432

Young people prefer junk food, _____.

Ans 1. Despite of knowing its ill effects

2. Despite know its ill effects

3. Inspite knowing its ill effects

4. Despite knowing its ill effects

Q.12 The ambassador was overlooked by the leader. (Provide the appropriate antonym for the underlined word)

Question ID : 16794318442

Ans 1. Released

2. Noticed

3. Captured

4. Unnoticed

Q.13 It was a spontaneous action. It saved the child's life. (Provide the appropriate synonym for the underlined word)

Question ID : 16794318438

Ans 1. Paused

2. Unplanned

3. Concealed

4. Planned

Q.14 He looked _____ the window pane but couldn't see the burglar clearly. (Choose the correct preposition)

Question ID : 16794318443

Ans 1. about

2. on

3. inside

4. through

Q.15 _____ no time the Police had arrive at the scene of the crime. (Choose the correct preposition)

Question ID : 16794318444

Ans 1. Besides

2. Within

3. Beside

4. Below

Comprehension:

Read the following passage and answer the questions that follow.

To start, we suggest heading straight for Tokyo's colorful Harajuku neighborhood. With trendy street art, fun cafes, vintage boutiques, and all the Tokyo paraphernalia of your dreams, you won't find a shopping experience quite like this anywhere else in the world. Aside from Harajuku, Tokyo is also known for its concept stores and department stores — all of which have contemporary design elements that'll have you heading home with just as much decor inspiration as new purchases. Some of our favorites to visit are Sister Tokyo, La Kagu, Takashimaya, and Beams. The Tsukiji Fish Market should be your inevitable lunch spot during your culture day. Then, for a taste of Tokyo's ancient history, add either the Imperial Palace or Tokyo's oldest temple, Senso-ji — which dates back to the 7th century — to your itinerary. For the best selection of pre-modern art, head to Nezu Museum. If you prefer contemporary art, the Yayoi Kusama Museum is a must-see. Kusama, one of the most famous living artists in Japan, opened this museum in 2017 to showcase her famous hallucinatory infinity rooms.

SubQuestion No : 16

Q.1
6 The word inevitable means:

Question ID : 16794318451

- Ans
- 1. Unavoidable
 - 2. Passe
 - 3. Avoidable
 - 4. Trespass

Comprehension:

Read the following passage and answer the questions that follow.

To start, we suggest heading straight for Tokyo's colorful Harajuku neighborhood. With trendy street art, fun cafes, vintage boutiques, and all the Tokyo paraphernalia of your dreams, you won't find a shopping experience quite like this anywhere else in the world. Aside from Harajuku, Tokyo is also known for its concept stores and department stores — all of which have contemporary design elements that'll have you heading home with just as much decor inspiration as new purchases. Some of our favorites to visit are Sister Tokyo, La Kagu, Takashimaya, and Beams. The Tsukiji Fish Market should be your inevitable lunch spot during your culture day. Then, for a taste of Tokyo's ancient history, add either the Imperial Palace or Tokyo's oldest temple, Senso-ji — which dates back to the 7th century — to your itinerary. For the best selection of pre-modern art, head to Nezu Museum. If you prefer contemporary art, the Yayoi Kusama Museum is a must-see. Kusama, one of the most famous living artists in Japan, opened this museum in 2017 to showcase her famous hallucinatory infinity rooms.

SubQuestion No : 17

Q.1
7 The passage is a:

Question ID : 16794318447

- Ans
- 1. A debate
 - 2. A travelogue
 - 3. A report
 - 4. A news item

Comprehension:

Read the following passage and answer the questions that follow.

To start, we suggest heading straight for Tokyo's colorful Harajuku neighborhood. With trendy street art, fun cafes, vintage boutiques, and all the Tokyo paraphernalia of your dreams, you won't find a shopping experience quite like this anywhere else in the world. Aside from Harajuku, Tokyo is also known for its concept stores and department stores — all of which have contemporary design elements that'll have you heading home with just as much decor inspiration as new purchases. Some of our favorites to visit are Sister Tokyo, La Kagu, Takashimaya, and Beams. The Tsukiji Fish Market should be your inevitable lunch spot during your culture day. Then, for a taste of Tokyo's ancient history, add either the Imperial Palace or Tokyo's oldest temple, Senso-ji — which dates back to the 7th century — to your itinerary. For the best selection of pre-modern art, head to Nezu Museum. If you prefer contemporary art, the Yayoi Kusama Museum is a must-see. Kusama, one of the most famous living artists in Japan, opened this museum in 2017 to showcase her famous hallucinatory infinity rooms.

SubQuestion No : 18

Q.1
8 'Paraphernalia' means

Question ID : 16794318448

- Ans
- 1. Food
 - 2. stuff
 - 3. Competition
 - 4. Cosmetics

Comprehension:

Read the following passage and answer the questions that follow.

To start, we suggest heading straight for Tokyo's colorful Harajuku neighborhood. With trendy street art, fun cafes, vintage boutiques, and all the Tokyo paraphernalia of your dreams, you won't find a shopping experience quite like this anywhere else in the world. Aside from Harajuku, Tokyo is also known for its concept stores and department stores — all of which have contemporary design elements that'll have you heading home with just as much decor inspiration as new purchases. Some of our favorites to visit are Sister Tokyo, La Kagu, Takashimaya, and Beams. The Tsukiji Fish Market should be your inevitable lunch spot during your culture day. Then, for a taste of Tokyo's ancient history, add either the Imperial Palace or Tokyo's oldest temple, Senso-ji — which dates back to the 7th century — to your itinerary. For the best selection of pre-modern art, head to Nezu Museum. If you prefer contemporary art, the Yayoi Kusama Museum is a must-see. Kusama, one of the most famous living artists in Japan, opened this museum in 2017 to showcase her famous hallucinatory infinity rooms.

SubQuestion No : 19

Q.1 Only one of these statements about 'Harajuku' is true

Question ID : 16794318449

Ans  1.

You won't find a shopping experience in Harajuku which is better than any other place in the world.

 2.

You will find a shopping experience quite like this anywhere else in the world.

 3.

You won't find a shopping experience quite like this anywhere else in the world.

 4.

Harajuku's shopping is like shopping anywhere else in the world.

Comprehension:

Read the following passage and answer the questions that follow.

To start, we suggest heading straight for Tokyo's colorful Harajuku neighborhood. With trendy street art, fun cafes, vintage boutiques, and all the Tokyo paraphernalia of your dreams, you won't find a shopping experience quite like this anywhere else in the world. Aside from Harajuku, Tokyo is also known for its concept stores and department stores — all of which have contemporary design elements that'll have you heading home with just as much decor inspiration as new purchases. Some of our favorites to visit are Sister Tokyo, La Kagu, Takashimaya, and Beams. The Tsukiji Fish Market should be your inevitable lunch spot during your culture day. Then, for a taste of Tokyo's ancient history, add either the Imperial Palace or Tokyo's oldest temple, Senso-ji — which dates back to the 7th century — to your itinerary. For the best selection of pre-modern art, head to Nezu Museum. If you prefer contemporary art, the Yayoi Kusama Museum is a must-see. Kusama, one of the most famous living artists in Japan, opened this museum in 2017 to showcase her famous hallucinatory infinity rooms.

SubQuestion No : 20

Q.2 For Tokyo's oldest temple head to _____, and
0 for the best selection of pre-modern art, head to _____

Question ID : 16794318450

- Ans
- 1. Kusama Museum - Senso-ji
 - 2. Nezu Museum - Senso-ji
 - 3. Nezu Museum - Kusama Museum
 - 4. Senso-ji - Nezu Museum

Section : General Hindi

Comprehension:

नीचे दिये गए गद्यांश को पढ़कर पूछे गये प्रश्नों के उत्तर दीजिए।

शुक्ल जी मनोविकारों का विश्लेषण परीक्षण जीवन के अनुभव के आधार पर करते हैं। पुस्तकीय ज्ञान के आधार पर वे निर्णय नहीं देते।

वस्तुतः उनके मनोवैज्ञानिक निबंध उनके काव्यशास्त्रीय एवं समालोचकीय चिंतन की ही भूमिका हैं। निबंधों से उनके देश-प्रेम के स्वरूप का भी पता चलता है। वे देश-प्रेम को देश की प्रकृति, देश की भाषा, संस्कृति, देश के लोगों के संदर्भ में पहचानते हैं। उन्होंने अपने प्रसिद्ध निबंध लोभ और प्रीति में देश-प्रेम की व्याख्या मनोविकार के रूप में की है। उन्होंने प्रेम से करुणा को जोड़ा है।

SubQuestion No : 1

Q.1 शुक्ल जी मनोविकारों का विश्लेषण जीवन के किस आधार पर करते हैं?

Question ID : 16794318454

- Ans
- 1. अनुमान
 - 2. अनुभव
 - 3. ज्ञान
 - 4. कल्पना

Comprehension:

नीचे दिये गए गद्यांश को पढ़कर पूछे गये प्रश्नों के उत्तर दीजिए।

शुक्ल जी मनोविकारों का विश्लेषण परीक्षण जीवन के अनुभव के आधार पर करते हैं। पुस्तकीय ज्ञान के आधार पर वे निर्णय नहीं देते।
वस्तुतः उनके मनोवैज्ञानिक निबंध उनके काव्यशास्त्रीय एवं समालोचकीय चिंतन की ही भूमिका हैं। निबंधों से उनके देश-प्रेम के स्वरूप का भी पता चलता है। वे देश-प्रेम को देश की प्रकृति, देश की भाषा, संस्कृति, देश के लोगों के संदर्भ में पहचानते हैं। उन्होंने अपने प्रसिद्ध निबंध लोभ और प्रीति में देश-प्रेम की व्याख्या मनोविकार के रूप में की है। उन्होंने प्रेम से करुणा को जोड़ा है।

SubQuestion No : 2

Q.2 शुक्ल जी ने प्रेम से किसको जोड़ा है?

Question ID : 16794318457

- Ans
- 1. घृणा को
 - 2. यथार्थ को
 - 3. करुणा को
 - 4. आदर्श को

Comprehension:

नीचे दिये गए गद्यांश को पढ़कर पूछे गये प्रश्नों के उत्तर दीजिए।

शुक्ल जी मनोविकारों का विश्लेषण परीक्षण जीवन के अनुभव के आधार पर करते हैं। पुस्तकीय ज्ञान के आधार पर वे निर्णय नहीं देते।
वस्तुतः उनके मनोवैज्ञानिक निबंध उनके काव्यशास्त्रीय एवं समालोचकीय चिंतन की ही भूमिका हैं। निबंधों से उनके देश-प्रेम के स्वरूप का भी पता चलता है। वे देश-प्रेम को देश की प्रकृति, देश की भाषा, संस्कृति, देश के लोगों के संदर्भ में पहचानते हैं। उन्होंने अपने प्रसिद्ध निबंध लोभ और प्रीति में देश-प्रेम की व्याख्या मनोविकार के रूप में की है। उन्होंने प्रेम से करुणा को जोड़ा है।

SubQuestion No : 3

Q.3 शुक्ल जी के 'काव्यशास्त्रीय चिंतन की भूमिका' वाले निबंध कौन से हैं?

Question ID : 16794318455

- Ans
- 1. आलोचनात्मक निबंध
 - 2. मनोवैज्ञानिक निबंध
 - 3. विचार परक निबंध
 - 4. व्यक्तिपरक निबंध

Comprehension:

नीचे दिये गए गद्यांश को पढ़कर पूछे गये प्रश्नों के उत्तर दीजिए।

शुक्ल जी मनोविकारों का विश्लेषण परीक्षण जीवन के अनुभव के आधार पर करते हैं। पुस्तकीय ज्ञान के आधार पर वे निर्णय नहीं देते।

वस्तुतः उनके मनोवैज्ञानिक निबंध उनके काव्यशास्त्रीय एवं समालोचकीय चिंतन की ही भूमिका हैं। निबंधों से उनके देश-प्रेम के स्वरूप का भी पता चलता है। वे देश-प्रेम को देश की प्रकृति, देश की भाषा, संस्कृति, देश के लोगों के संदर्भ में पहचानते हैं। उन्होंने अपने प्रसिद्ध निबंध लोभ और प्रीति में देश-प्रेम की व्याख्या मनोविकार के रूप में की है। उन्होंने प्रेम से करुणा को जोड़ा है।

SubQuestion No : 4

Q.4 गद्यांश में शुक्लजी के किस निबंध का जिक्र है?

Question ID : 16794318456

- Ans
- 1. लोभ और भक्ति
 - 2. लोभ और प्रीति
 - 3. श्रद्धा और भक्ति
 - 4. श्रद्धा और प्रीति

Comprehension:

नीचे दिये गए गद्यांश को पढ़कर पूछे गये प्रश्नों के उत्तर दीजिए।

शुक्ल जी मनोविकारों का विश्लेषण परीक्षण जीवन के अनुभव के आधार पर करते हैं। पुस्तकीय ज्ञान के आधार पर वे निर्णय नहीं देते।

वस्तुतः उनके मनोवैज्ञानिक निबंध उनके काव्यशास्त्रीय एवं समालोचकीय चिंतन की ही भूमिका हैं। निबंधों से उनके देश-प्रेम के स्वरूप का भी पता चलता है। वे देश-प्रेम को देश की प्रकृति, देश की भाषा, संस्कृति, देश के लोगों के संदर्भ में पहचानते हैं। उन्होंने अपने प्रसिद्ध निबंध लोभ और प्रीति में देश-प्रेम की व्याख्या मनोविकार के रूप में की है। उन्होंने प्रेम से करुणा को जोड़ा है।

SubQuestion No : 5

Q.5 मनोविकारों का सम्बन्ध किससे है?

Question ID : 16794318453

- Ans
- 1. बुद्धि से
 - 2. बल से
 - 3. विचारों से
 - 4. भावों से

Q.6 'जिसके पास कुछ भी न हो' के लिए एक शब्द होगा:

Question ID : 16794318470

- Ans
- 1. किंचन
 - 2. गरीब
 - 3. अक्षम
 - 4. अकिंचन

Q.7 निम्न में तत्सम शब्द कौन सा है?

Question ID : 16794318458

- Ans
- 1. नृत्य
 - 2. निडर
 - 3. निठुर
 - 4. नाथ

Q.8 'मिठास' किस प्रकार की संज्ञा है?

Question ID : 16794318461

- Ans
- 1. पदार्थवाचक

- 2. जातिवाचक
- 3. व्यक्तिवाचक
- 4. भाववाचक

Q.9 निम्न में कौन सा शब्द देशज है?

Question ID : 16794318460

- Ans
- 1. इंच
 - 2. कटरा
 - 3. आतिशबाजी
 - 4. अमीर

Q.10 निम्न में से कौन सा शब्द स्त्रीलिंग है?

Question ID : 16794318465

- Ans
- 1. हल
 - 2. हवन
 - 3. हत्या
 - 4. हाशिया

Q.11 'आग्रह' का विलोम होगा:

Question ID : 16794318469

- Ans
- 1. विग्रह
 - 2. साग्रह
 - 3. ग्रह
 - 4. दुराग्रह

Q.12 निम्न में कौन सा शब्द तद्भव है?

Question ID : 16794318459

- Ans
- 1. डंक
 - 2. दण्ड
 - 3. स्तब्ध
 - 4. स्थान

Q.13 'उद्घाटन' का संधि विच्छेद होगा:

Question ID : 16794318463

- Ans
- 1. उद् + घटन
 - 2. उद् + घाटन
 - 3. उत् + घाटन
 - 4. उत् + घटन

Q.14 'सन्तोष' में उपसर्ग है:

Question ID : 16794318466

- Ans
- 1. सम्
 - 2. सन्

3. तोष

4. स

Q.15 'ताजा' किस प्रकार का विशेषण है?

Question ID : 16794318462

Ans 1. गुणवाचक

2. संख्यावाचक

3. परिमाण बोधक

4. सार्वनामिक

Q.16 'उपदेशक' में प्रत्यय है:

Question ID : 16794318467

Ans 1. क

2. उप

3. शक

4. अक

Q.17 'मकान की दोनों तरफ दीवार है।' वाक्य में अशुद्ध अंश है:

Question ID : 16794318471

Ans 1. दोनों तरफ

2. मकान की

3. है।

4. दीवार

Q.18 'आम' का पर्यायवाची नहीं है:

Question ID : 16794318468

Ans 1. रसाल

2. सहकार

3. अमृतफल

4. अमिय

Q.19 निम्न में वर्तनी की दृष्टि से कौन सा शब्द शुद्ध है?

Question ID : 16794318472

Ans 1. आवश्यकता

2. अवस्यकता

3. आवस्यकता

4. अवश्यकता

Q.20 'बेलाग' में कौन सा समास है?

Question ID : 16794318464

Ans 1. द्विगु

2. तत्पुरुष

3. अव्ययी

4. दवंदव

Section : Subject Related

Q.1 कक्षा में, मास्लो का सिद्धांत शिक्षक को आकन लगाने में क्या मदद करता है?

Question ID : 16794318477

Ans

- 1. भाषा विकास
- 2. संज्ञानात्मक विकास
- 3. आत्म सम्मान
- 4. शारीरिक विकास

Q.2 प्राथमिक समाजीकरण का क्या तात्पर्य है?

Question ID : 16794318492

Ans

- 1.

उस प्रक्रिया को संदर्भित करता है जिसके द्वारा पुरुष समूह में शामिल होने की उम्मीद के साथ समूह की संस्कृति सीखते हैं

- 2.

अपने जीवन के प्राथमिक या शुरुआती वर्षों में शिशु के सामाजिकरण को संदर्भित करता है

- 3.

उस प्रक्रिया को संदर्भित करता है जिसके माध्यम से एक बढ़ता हुआ बच्चा अपने साथियों से सामाजिक आचरण में बहुत महत्वपूर्ण सबक सीखता है

- 4.

पूर्व व्यवहार पैटर्न को हटाने और किसी के जीवन में संक्रमण के हिस्से के रूप में नए लोगों को स्वीकार करने की प्रक्रिया को संदर्भित करता है

Q.3 वे दो बुनियादी स्वरूप संस्कृति क्या है जिसे निम्नलिखित दो हिस्से में बांटा गया है?

Question ID : 16794318490

Ans

- 1.

सकारात्मक संस्कृति और नकारात्मक संस्कृति

- 2. सच्ची संस्कृति और गलत संस्कृति

- 3. संकीर्ण संस्कृति और व्यापक संस्कृति

- 4. अच्छी संस्कृति और बुरी संस्कृति

Q.4 प्रारंभिक बचपन की विशेषताओं क्या हैं?

Question ID : 16794318480

Ans

- 1. हम उम्र के साथ मिलना सीखना

- 2. अत्यधिक रोना और असुरक्षा

- 3.

अलगाव, ऊब और सामाजिक विरोध की इच्छा

- 4.

बाधित, जिद्दी, अवज्ञाकारी, नकारात्मक और विरोधी

Q.5 आर्थिक समाजीकरण क्या है?

Question ID : 16794318489

Ans

- 1.

यह एक विशेष समूह

✗ 2.

यह मनुष्यों को न केवल वर्तमान में, बल्कि अतीत से भविष्य की पीढ़ियों तक संस्कृति संचारित करने की परिघटना है

✓ 3.

यह वह प्रक्रिया है जिसके माध्यम से विभिन्न पृष्ठभूमि लोगों के साथ समाज का नया प्रवेशकर्ता अलग-अलग प्रतिक्रिया देता है और अलग विकसित होता है और आधिक सोच और परिप्रेक्ष्य में अलग व्यवहार करता है

✗ 4.

यह वर्णन करता है कि कैसे हमारी अवधारणाएं हमारी अनुभूति से प्रभावित होती हैं कि दूसरों ने हमें कैसे प्रतिक्रिया दी

Q.6 सीखना उद्देश्यपूर्ण है का क्या अर्थ है?

Question ID : 16794318482

Ans ✗ 1.

पर्यावरण में वस्तुओं और व्यक्तियों द्वारा संशोधन और पुनर्निर्माण के माध्यम से सीखना

✓ 2.

कोई व्यक्ति अपने उद्देश्यों से अवगत है, जिसे गतिविधियों के माध्यम से महसूस करना है

✗ 3.

जहां शारीरिक और मानसिक दोनों का विकास हो

✗ 4.

समूह गतिविधियों से जानबूझकर या अनजाने में किसी व्यक्ति का दिमाग प्रभावित होता है

Q.7 'मनोचिकित्सक डोमेन' से क्या तात्पर्य है?

Question ID : 16794318484

Ans ✗ 1.

मानसिक कौशल

✗ 2. शारीरिक विकास

✗ 3. भावनात्मक विकास

✓ 4. मानसिक या शारीरिक कौशल

Q.8 'विकास' का अपेक्षित परिणाम क्या है?

Question ID : 16794318473

Ans ✗ 1.

किसी की बुद्धि में वृद्धि

✓ 2. परिपक्वता और अनुभव

✗ 3. किसी की क्षमता में सुधार

✗ 4. किसी की ऊंचाई में इंच जोड़ना

Q.9 संवेदी रजिस्टर का क्या अर्थ है?

Question ID : 16794318481

Ans ✗ 1.

वह स्मृति जो जानकारी बिल्कुल नहीं रखती है

✓ 2.

स्मृति जो सबके बारे में जानकारी रखती है, केवल एक या दो मिनट के लिए सामने आती है

✗ 3.

स्मृति जो अनिश्चित काल तक जानकारी रखती है

✗ 4.

स्मृति जो बीस सेकंड से एक मिनट के बीच कहीं भी जानकारी रखती है

Q.10

सीखने के तीन डोमेन क्या हैं?

- Ans
- 1. संज्ञानात्मक, प्रभावशाली, मनोप्रेरणा
 - 2. सीखना, कौशल, ज्ञान
 - 3. वृद्धि, विकास, सीखना
 - 4. चेतना, अवचेतन, अचेतावस्था

Q.11 दैहिक जरूरतों से क्या तात्पर्य है?

- Ans
- 1. प्यार, संपत्ति, दोस्ती और सुरक्षा
 - 2. प्रभावी शिक्षा और सीखने में महत्वपूर्ण कुछ सीखने की इच्छा
 - 3. अच्छे दोस्त और वयस्कों से उत्साहवर्धक शब्द
 - 4. अच्छा खाना, जल, साफ हवा और सोने के लिए सुरक्षित, गर्म जगह

Q.12 सिगमंड फ्रायड ने सामाजिककरण की किस रूप में व्याख्या की है?

- Ans
- 1. किसी व्यक्ति का सामाजिक अनुभव व्यक्तिगत पहचान का प्राथमिक निर्धारक होता है उन्होंने 'स्वयं' कहा
 - 2. विकासशील आत्म अवधारणा के लिए दूसरों की महत्वपूर्ण प्रतिक्रिया, जिसे उन्होंने 'आत्म-दर्पण' कहा
 - 3. वे लोग उन सांस्कृतिक मूल्यों और आदर्शों को सीखते हैं जो व्यक्तित्व का एक हिस्सा बनाते हैं, जिसे उन्होंने 'सुपर इगो' कहा
 - 4. वह मानव विकास दोनों जैविक परिपक्वता और सामाजिक अनुभव में वृद्धि का परिणाम है

Q.13 निम्नलिखित में से कौन सा दीर्घकालिक सामाजिक बंधन (टाई) स्थापित है?

- Ans
- 1. सामाजिक सदस्य-बाल संबंध
 - 2. समान समूह संबंध
 - 3. मित्र-बाल संबंध
 - 4. अभिभावक-बाल संबंध

Q.14 प्रश्न का निम्नलिखित उदाहरण किस श्रेणी से संबंधित है?

'किसी कर्मचारी के अवकाश समय की गणना करने के लिए मैनुअल का उपयोग करें। लिखित परीक्षा की विश्वसनीयता का मूल्यांकन करने के लिए आंकड़े का नियम लागू करें।'

- Ans
- 1. लागू करना
 - 2. निर्माण
 - 3. याद करना
 - 4. मूल्यांकन

Q.15 तंत्र क्या है जिसके माध्यम से सभी बच्चे आकलन और आवास के बीच संतुलन बनाने की कोशिश करते हैं?

Question ID : 16794318479

- Ans
- 1. मोल भाव
 - 2. भेदभाव
 - 3. बुद्धिसंगत व्याख्या
 - 4. संतुलन

Q.16 संज्ञानात्मक डोमेन में कितनी श्रेणियां होती हैं?

Question ID : 16794318485

- Ans
- 1. 4
 - 2. 3
 - 3. 6
 - 4. 5

Q.17 प्रमुख विशेषता और विकासालमक परिवर्तन क्या हैं जिन्हें 12 वर्ष से आगे की उम्र में अवोकित किया जा सकता है?

Question ID : 16794318478

- Ans
- 1. बच्चे अनमने भाव से सोचने लगते हैं और काल्पनिक समस्याओं के बारे में
 - 2. बच्चे अपने आसपास खुद और वस्तुओं से अलग होने के रूप में समझना शुरू कर देते हैं
 - 3. बच्चे प्रतीकात्मक रूप से सोचने लगते हैं और वस्तुओं को दर्शाने के लिए शब्दों और चित्रों का उपयोग करना सीखते हैं
 - 4. बच्चे मूर्त घटनाओं के बारे में तर्कसंगत सोचने लगते हैं

Q.18 'समाजीकरण' शब्द का क्या अर्थ है?

Question ID : 16794318487

- Ans
- 1. यह बातचीत की प्रक्रिया को संदर्भित करता है जिसके माध्यम से व्यक्ति जिसमें वह पैदा हुआ है की सामाजिक समूह की आदतों, दृष्टिकोण, मूल्यों और मान्यताओं को सीखता है
 - 2. यह उस प्रक्रिया को संदर्भित करता है जिसमें कोई या कुछ बढ़ता या बदलता है और अधिक उन्नत हो जाता है
 - 3. यह लोगों के एक विशेष समूह की विशेषताओं और ज्ञान को संदर्भित करता है, जिसमें भाषा, धर्म, व्यंजन, सामाजिक आदतें, संगीत और कला शामिल है
 - 4. यह निर्देश या अध्ययन द्वारा प्राप्त ज्ञान या कौशल को संदर्भित करता है

Q.19 मूर्त संक्रियात्मक अवस्था किस उम्र तक रहता है?

Question ID : 16794318474

- Ans
- 1. 11 वर्ष और अधिक आयु के
 - 2. जन्म से 2 वर्ष
 - 3. 2 वर्ष से 7 वर्ष
 - 4. 7 से 11 वर्ष

Q.20 6 साल से 8 साल क्या सीखते हैं?

Question ID : 16794318475

- Ans
- 1.

अपने इंद्रियों के माध्यम से पर्यावरण का अनुभव करके

✓ 2.

समस्या हल करने और अवधारणाओं के विकास के माध्यम से

✗ 3.

नाटकीय नाटकों के माध्यम से, खिलौने और पर्वतारोही चलती है

✗ 4.

अनुशासन की भावना और पढ़ने, लेखन और अंकगणित में रुचि के विकास के माध्यम से

Section : Subject Related

Q.1 ए.एस.डी. का पूरा रूप क्या है?

Question ID : 16794318503

Ans ✗ 1. ऑटो स्पेक्ट्रम डिसीज

✗ 2. ऑटिज़्म स्पेशल डिसऑर्डर

✗ 3. ऑटोमैटिक स्पेक्ट्रम डिसऑर्डर

✓ 4. ऑटिज़्म स्पेक्ट्रम डिसऑर्डर

Q.2 बारीक मोटर कौशल की कठिनाई को किस रूप में जाना जाता है?

Question ID : 16794318506

Ans ✗ 1. डिस्लेक्सिया

✗ 2. डिसग्राफिया

✗ 3. डिसकैलकुलिया

✓ 4. डिस्प्रेक्सिया

Q.3 पाठ्यचर्या डिजाइन का उत्पाद मॉडल प्रक्रिया मॉडल से अलग क्यों है?

Question ID : 16794318507

Ans ✗ 1. शिक्षक द्वारा नियोजित

✗ 2. कम गतिविधियां

✗ 3. सटीक मूल्यांकन

✓ 4. कम छात्र पसंद

Q.4 'अमूर्त सांस्कृतिक विरासत' का क्या तात्पर्य है?

Question ID : 16794318499

Ans ✓ 1. संस्कृति की बौद्धिक वस्तुएं

✗ 2. 'संस्कृति के बाहरी वस्तुएं

✗ 3. संस्कृति के भौतिक वस्तुएं

✗ 4. संस्कृति के घरेलू वस्तुएं

Q.5 मध्यम स्तर स्कूल (गिडन लेवल स्कूल) में सामाजिकशास्त्र में भाग क्या शामिल है?

18494

Ans

✗ 1.

सीखने के लिए कोई सख्त नियम नहीं हैं, और सीखने के तरीके से सीखना होता है

✗ 2.

शिक्षक बच्चों को अच्छी आदतें, नागरिक जिम्मेदारियों और समाज के साथ मिलकर कैसे सीखाता है

✗ 3.

बच्चे कौशल सीखते हैं जो भविष्य में सह-पाठ्यचर्या गतिविधियों में सक्रिय रूप से भाग लेने में उनकी सहायता करते हैं

✓ 4.

शिक्षक सहकर्मी समूह के साथ आपसी समझ को प्रोत्साहित करते हुए चर्चाओं और गतिविधियों का संचालन करके सामाजिकरण में सुधार के अवसर प्रदान करता है

Q.6 राष्ट्रीय माध्यमिक शिक्षा अभियान (आर.एम.एस.ए.) का मुख्य उद्देश्य क्या है?

Question ID : 16794318502

Ans

✗ 1. प्रगति

✗ 2. माध्यमिक शिक्षा का सार्वभौमिकरण

✓ 3. माध्यमिक शिक्षा का विस्तार

✗ 4. माध्यमिक शिक्षा का विकास

Q.7 सकारात्मक संस्कृति क्या अनुकूल है?

Question ID : 16794318493

Ans

✗ 1.

नए कर्तव्यों और जिम्मेदारियों को लेते लोग

✓ 2.

व्यावसायिक संतुष्टि, मनोबल और प्रभावशीलता, साथ ही साथ छात्र शिक्षा, पूर्ति और कल्याण

✗ 3.

सीखने की भाषा और संज्ञानात्मक कौशल, मानदंडों और मूल्यों को आंतरिक बनाना

✗ 4.

किसी के जीवन में संक्रमण के हिस्से के रूप में नए व्यवहार पैटर्न को स्वीकार करना

Q.8 शैक्षिक दर्शन के अनुभवजन्य मॉडल का कौन सा सीखने का सिद्धांत पालन करता है?

Question ID : 16794318509

Ans

✗ 1. रचनात्मक

✓ 2. व्यवहारवादिकता

✗ 3. संज्ञानात्मक

✗ 4. सामाजिक रचनात्मकता

Q.9 पाठ्यचर्या के एक रचनात्मक मॉडल में इसके तत्वों का एक उचित संरेखण होता है। इनमें से कौन सा तत्व उन तत्वों का सही संयोजन है?

Question ID : 16794318508

Ans

✗ 1.

शिक्षण विधियां, कौशल विकास, आकलन रणनीतियां

✗ 2.

शिक्षण गतिविधियां, भेदभाव तकनीक, मूल्यांकन विधियां

✗ 3.

शिक्षण-शिक्षण गतिविधियां, लक्षित परिणाम, आकलन विधियां

✓ 4.

शिक्षण-शिक्षण सामग्री, शिक्षण रणनीतियां, शिक्षण पर्यावरण

Q.10

मुख्यधारा की शिक्षा का क्या अर्थ है?

Question ID : 16794318505

Ans 1.

एक ही कक्षा में कई अलग-अलग प्रकार के बच्चे

2.

एक ही कक्षा में सीखने की अक्षमता वाले कई अलग-अलग तरह के बच्चे

3. एक कक्षा में समान प्रकार के शिक्षार्थी

4. कक्षा में विशेष प्रकार के शिक्षार्थी

Q.11 "ज्ञान निर्माण नए ज्ञान और एक शिक्षार्थी के व्यक्तिगत पूर्व ज्ञान का अद्वितीय संयोजन है।" उपरोक्त सिद्धांत को निम्नलिखित में से किन विचारधारा द्वारा पेरवी की जाती है?

Question ID : 16794318510

Ans

1. सामाजिक रचनात्मकता

2. व्यक्तिगत रचनात्मकता

3. कट्टरपंथी रचनात्मकता

4. रचनावाद

Q.12 'जीवनपर्यंत शिक्षा' की अवधारणा से आप क्या समझते हैं?

Question ID : 16794318496

Ans

1. विश्वविद्यालयों में सीखना

2. जीवनपर्यंत सीखना

3. कॉलेजों में सीखना

4. शिक्षण स्कूल

Q.13 सीता अनंत रमन ने निम्नलिखित में से किसकी रूपरेखा को निर्धारित की है?

Question ID : 16794318498

Ans

1. महिला शिक्षा

2. प्रौढ़ शिक्षा

3. स्कूल शिक्षा

4. कॉलेज शिक्षा

Q.14 भारत में गृह-शिक्षा निम्नलिखित में से कौन है?

Question ID : 16794318497

Ans

1.

अलग-अलग लोगों के लिए औपचारिक शिक्षा

2. अलग-अलग लोगों के लिए वैकल्पिक शिक्षा

3. अलग-अलग लोगों के लिए दूरस्थ शिक्षा

4.

अलग-अलग लोगों के लिए अनौपचारिक शिक्षा

Q.15 What is the expansion of OCR?

Question ID : 16794318511

Ans

1. Optical Central Reader

- 2. Optical Character reader
- 3. Optical Character Recognition
- 4. Optical Chrome Recognition

Q.16 Microcomputers are those which have:

Question ID : 16794318512

- Ans
- 1. dual features
 - 2. less memory
 - 3. special purpose devices
 - 4. many functions

Q.17 'शिक्षा वह चीज है जो मनुष्य को आत्मनिर्भर और निःस्वार्थ बनाती है।' यह विचार को किसने दिया है?

Question ID : 16794318495

- Ans
- 1. साम वेद
 - 2. अथर्ववेद
 - 3. ऋग्वेद
 - 4. यजुर्वेद

Q.18 Social stratification is the term used to refer to:

Question ID : 16794318500

- Ans
- 1. the division of society into varna system
 - 2. the division society into different caste systems
 - 3. the division of land in society
 - 4. the division of society into layers

Q.19 निम्नलिखित में से कौन सी लोको मोटर विकलांगता नहीं है?

Question ID : 16794318504

- Ans
- 1. आचरण सुनवाई हानि
 - 2. कम दृष्टि
 - 3. मस्तिष्क पक्षाघात
 - 4. अंगच्छेद

Q.20 एक लिंग पर दूसरे लिंग को प्राथमिकता या पूर्वाग्रह को क्या कहा जाता है?

Question ID : 16794318501

- Ans
- 1. लैंगिक समानता
 - 2. लैंगिक पक्षपात
 - 3. लैंगिक समानता
 - 4. लैंगिक आव्यूह(मैट्रिक्स)

Q.1 किस प्रकार की परीक्षण सामग्री में, छात्रों को लिखने से पहले जानकारी का चयन, व्यवस्थित और एकीकृत करने की आवश्यकता होती है?

Question ID : 16794318532

- Ans
- 1. स्मरण परीक्षण
 - 2. निबंध परीक्षण
 - 3. उद्देश्य परीक्षण
 - 4. अध्याय परीक्षा

Q.2 जब हम कहते हैं कि 'कंप्यूटर बहुमुखी है' तो इसका क्या अर्थ है?

Question ID : 16794318513

- Ans
- 1. इसमें बड़ी मेमोरी (स्मृति) है
 - 2. यह बहुत तेज़ है
 - 3. यह एक साथ कई कार्य कर सकते हैं
 - 4. यह सभी कार्यों को पूर्णता से करता है

Q.3 Computer software means:

Question ID : 16794318517

- Ans
- 1. A set of tools
 - 2. A set of tasks
 - 3. A set of items
 - 4. A set of instructions

Q.4 निम्नलिखित में से कौन सा उपलब्धि परीक्षण का व्यावहारिक उपयोग है?

Question ID : 16794318520

- Ans
- 1. यह छात्रों के बारे में व्यावसायिक निर्णयों में मदद करता है
 - 2. यह उस सीमा का मूल्यांकन करने में मदद करता है जिस पर शिक्षा के उद्देश्यों को हासिल किया जा रहा है
 - 3. यह सभी संकाय के सामंजस्यपूर्ण विकास का वर्णन करता है
 - 4. व्यक्ति के सभी प्रकार की निर्देशपरक प्रगति में इसका महत्व है

Q.5 शिशुओं के बीच मौखिक भाषा के विकास की विशेषताओं में से एक क्या है?

Question ID : 16794318527

- Ans
- 1. वाक्यों में बात करना
 - 2. एक या दो अक्षर के शब्दों को कहना है
 - 3. शब्दों को आवाज़ में बोलना
 - 4. शिशु अपनी उम्र में भाषा विकसित नहीं करते

Q.6 कक्षा 3 भाषा शिक्षक वर्ग में बहुत सी सुनवाई और मौखिक अभ्यास की पैरवी कर रही है। वह क्या लक्ष्य रख रही है?

Question ID : 16794318523

- Ans
- 1. शिक्षक वास्तव में कक्षा में कुछ भी नहीं पढ़ा रहा है

✓ 2.

वह छात्र को खुद को सोचने और व्यक्त करने में सक्षम बना रही है

✗ 3.

वह कक्षा में व्याकरण पढ़ा रही है, और कक्षा में एक जीवंत अंग्रेजी वातावरण बना रही है

✗ 4.

वह शिक्षार्थियों को अंग्रेजी सुनने और बोलने के अवसर प्रदान कर रही है

Q.7 Which of the following parts is responsible for execution of computer programme?

Question ID : 16794318515

Ans ✗ 1. VCD

✓ 2. CPU

✗ 3. RAM

✗ 4. EHD

Q.8 'बयस्कों को इरादतन अनुभवों को लेने और साझा करने के लिए समय लेना चाहिए।' इसका क्या अर्थ है?

Question ID : 16794318529

Ans ✗ 1. भाषा की आवाज पैदा करना

✓ 2.

बच्चों को उन चीजों और घटनाओं के बारे में बात करने के अवसर प्रदान करना जो यहां और अब-अतीत, वर्तमान और काल्पनिक नहीं हैं

✗ 3. युवाओं के कुतर्क को सुनना

✗ 4.

अनुभव साझा करते समय बयस्कों के बाद बच्चों को दोहराना

Q.9 आवेदन उद्देश्य से क्या तात्पर्य होता है?

Question ID : 16794318519

Ans ✓ 1.

यह तर्क, परिकल्पना, व्याख्या, और भविष्यवाणी की क्षमताओं को विकसित करके हासिल किया जाता है

✗ 2.

संबंध, भेदभाव, उद्बरण उदाहरण और सामान्यीकरण को देखने की क्षमताओं को विकसित करके यह महसूस किया जाता है

✗ 3.

यह किसी व्यक्ति की उच्चतम आवश्यकताओं को पूरा करके और आंतरिक प्रेरणा को नियोजित करके हासिल किया जाता है

✗ 4.

यह याद और मान्यता क्षमताओं को विकसित करने के लिए हासिल किया जाता है

Q.10 Which of the following is an example of utility software?

Question ID : 16794318518

Ans ✓ 1. Virus scanner

✗ 2. Browser

✗ 3. Calculator

✗ 4. MS Office

Q.11 Monitor or TV screen is also known as:

Question ID : 16794318514

Ans ✗ 1. VDC

✗ 2. VLC

✓ 3. VDU

✗ 4. VCD

Q.12 Which of the following is an example of long term planning?

Question ID : 16794318524

- Ans
- 1. Period plan
 - 2. Year plan
 - 3. Lesson plan
 - 4. Unit plan

Q.13 A teacher wants to assess how a student uses or handles the instruments in a Maths lab during practical work. Which evaluation tool does the teacher need to use?

Question ID : 16794318530

- Ans
- 1. Formative test
 - 2. Oral test
 - 3. Performance test
 - 4. Written test

Q.14 कक्षा 2 अंग्रेजी शिक्षक कक्षा में सुनने और मौखिक अभ्यास की पैरवी कर रही है। वह शिक्षार्थियों को अंग्रेजी सुनने और बोलने के अवसर प्रदान कर रही है। इससे उसकी कक्षा में शिक्षार्थी _____।

Question ID : 16794318522

- Ans
- 1. अंग्रेजी में खुद को सोचने और व्यक्त करने में सक्षम होंगे
 - 2. अंग्रेजी पर शायद ही कोई अच्छा आदेश होगा
 - 3. शिक्षक के साथ बेहतर संबंध होगा
 - 4. योगदान नहीं दे पाएगा क्योंकि वह अंग्रेजी नहीं बोल सकता है

Q.15 निम्नलिखित में से कौन सा अच्छे परीक्षण की गुणवत्ता नहीं है?

Question ID : 16794318531

- Ans
- 1. व्यापकता
 - 2. विश्वसनीयता
 - 3. साध्यता
 - 4. अवलोकन

Q.16 संवादात्मक अध्यापन के सिद्धांत 'संचार और संस्कृति परस्पर संबंध' सिद्धांत से आप क्या समझते हैं?

Question ID : 16794318525

- Ans
- 1. भाषा अधिग्रहण के लिए, कक्षा का अनुभव सांस्कृतिक इनपुट में समृद्ध होना चाहिए
 - 2. सामग्री और गतिविधियां खुली हैं और पूर्ण रूप से अनुमानित नहीं हैं
 - 3. यह केवल वही बात नहीं है जो वक्ता कहता है लेकिन वह संदर्भ भी है जिसमें वह कहता या कहती है।
 - 4. शिक्षक की भूमिका एक संवादात्मक सहयोगी की है

Q.17 Which of the following is NOT an example of computer peripherals?

Question ID : 16794318516

- Ans
- 1. Printer
 - 2. Mouse
 - 3. Monitor

✓ 4. Processor

Q.18 शुरुआती सालों में भाषा विकास क्यों महत्वपूर्ण है?

Question ID : 16794318528

Ans ✓ 1.

यह बच्चे को सामाजिक दुनिया में पेश करता है

✗ 2.

यह बच्चे को समस्याओं को हल करने में मदद करता है

✗ 3.

यह बच्चे को अकादमिक दुनिया में पेश करता है

✗ 4.

यह बच्चे को मूल्य विकसित करने में सहायता करता है

Q.19 आप तथ्यात्मक से क्या समझते हैं?

Question ID : 16794318526

Ans ✓ 1. संदर्भ-निर्भर नियम, शैली

✗ 2. ध्वनि प्रणाली

✗ 3. व्याकरण

✗ 4. शब्दावली

Q.20 एक शिक्षक शिक्षण में व्यवस्थित प्रक्रिया शामिल करता है, जिसमें विषय वस्तु की व्यवस्था होती है और प्रयास का वितरण होता है। शिक्षक जो उपयोग कर रहा है, वह क्या है?

Question ID : 16794318521

Ans ✗ 1. अंतर्ज्ञान पर आधारित एक रणनीति

✗ 2.

शिक्षण और सीखने की प्रकृति से निपटने वाले सहसंबंधित मान्यताओं के एक सेट के साथ एक दृष्टिकोण

✗ 3.

तत्काल उद्देश्य को पूरा करने के लिए एक विशेष चाल

✓ 4.

प्रक्रियाओं के एक सेट के साथ एक विधि और एक गंतव्य पर पहुंचने के लिए एक उचित योजना

Section : Subject Related

Q.1 निम्नलिखित में से कौन सा कला प्रदर्शन करने का एक उदाहरण है?

Question ID : 16794318544

Ans ✗ 1. योग

✗ 2. संगीत

✓ 3. नृत्य

✗ 4. चित्रकारी

Q.2 NGC stands for:

Question ID : 16794318535

Ans ✗ 1. National Grand Corps

✓ 2. National Green Corps

3. National Guardian Corps

4. National Gas Corps

Q.3 लैटिन शब्द 'Currere' का क्या अर्थ है?

Question ID : 16794318540

Ans 1. दौड़ना

2. पथ

3. योजना

4. पाठ्यक्रम

Q.4 एक शिक्षक अपनी पसंद के एक विशेष क्षेत्र में छात्रों की योग्यता और रुचि जानना चाहता है। शिक्षक का किस प्रकार के मूल्यांकन का उपयोग करना चाहिए?

Question ID : 16794318533

Ans 1. नैदानिक मूल्यांकन

2. निर्माणात्मक मूल्यांकन

3. पूर्वाभासी मूल्यांकन

4. सारांश मूल्यांकन

Q.5 ग्रीन हाउस प्रभाव क्या है?

Question ID : 16794318538

Ans 1. सामाजिक समस्या

2. शारीरिक समस्या

3. पर्यावरण संबंधी समस्या

4. भौगोलिक समस्या

Q.6 'किशोरों को एक सुरक्षित और सहायक माहौल पाने का अधिकार है।' आप इस कथन से क्या समझते हैं?

Question ID : 16794318549

Ans 1.

किशोरों को वैतनिक और अवैतनिक श्रम के माध्यम से अपने परिवारों और समुदायों में महत्वपूर्ण योगदान देना होगा

2.

किशोरावस्था को उत्पादक नागरिकों और कल के नेताओं में पोषित, प्रशिक्षित और विकसित किया जाना चाहिए

3.

किशोरों को सटीक और आयु-उपयुक्त जानकारी, कौशल निर्माण और सशक्तिकरण, सकारात्मक भूमिका मॉडल, और अनुकूल स्वास्थ्य सेवाओं और परामर्श में मार्गदर्शन प्रदान किया जाना चाहिए

4.

किशोर और तकनीकी शिक्षा सहित अकादमिक शिक्षा और व्यावहारिक कौशल विकास के बीच किशोरों को सामंजस्यपूर्ण संतुलन प्रदान करना चाहिए

Q.7 International Environmental Education Programme (IEEP) has been launched by:

Question ID : 16794318537

Ans 1. UNESCO

2. ULO

3. UNICEF

4. UNO

Q.8 किशोरावस्था शैक्षणिक कार्यक्रम की सुविधा के लिए क्या आवश्यक है?

Question ID : 16794318551

Ans 1. गैर-सम्प्रदायी

- 2. गैर-भागीदारी
- 3. गैर-सहायक
- 4. गैर-आलोचनात्मक

Q.9 बच्चे में मानसिक जुड़ाव, सामाजिकरण और बढ़िया और संपरुण मोटर कौशल विकसित करने के लिए निम्नलिखित में से कौन सा सही स्थान है?

Question ID : 16794318548

- Ans
- 1. घर
 - 2. कक्षा
 - 3. प्रयोगशाला
 - 4. खेल मैदान

Q.10 निम्नलिखित में से कौन सा आम डर है जिसके कारण कि माता-पिता अपने बच्चों के यौन शिक्षा कार्यक्रमों में भाग लेने के बारे में सोचते हैं?

Question ID : 16794318552

- Ans
- 1.
 - 2.
 - 3.
 - 4.
- माता-पिता डरते हैं कि इस तरह के शैक्षणिक कार्यक्रम से बच्चों के साथ यौन संबंध पैदा होगा, और इसलिए वे इसका विरोध करते हैं
- उन्हें डर रहता है कि उनके बच्चों को गलत जानकारी मिल जाएगी
- वे सोचते हैं कि बच्चे कार्यक्रम में प्रयोगात्मक गतिविधि के रूप में सेक्स में भाग लेंगे
- माता-पिता महसूस करते हैं कि इस तरह के कार्यक्रम में भाग लेना आवश्यक नहीं है

Q.11 एक अभिनेता को तीन महत्वपूर्ण पहलुओं के बारे में सावधान रहना चाहिए। निम्नलिखित में से कौन सा महत्वपूर्ण नहीं है?

Question ID : 16794318545

- Ans
- 1. संवाद अदायगी
 - 2. अभिनय
 - 3. पोशाक
 - 4. मेकअप

Q.12 प्याजे ने संज्ञानात्मक विकास के चार चरणों को बताया था। संज्ञानात्मक विकास में चार चरणों में से पहला कौन सा है जो "जन्म से लेकर भाषा के सीखने तक फैलता है"?

Question ID : 16794318547

- Ans
- 1. औपचारिक परिचालन
 - 2. पूर्वपरिचालन
 - 3. ज्ञानेन्द्रिय
 - 4. मूर्त में चालू

Q.13 निम्नलिखित में से कौन सा मूल गणितीय अवधारणाओं के शुरुआती चरणों का उदाहरण नहीं है?

Question ID : 16794318534

- Ans
- 1. बड़ा -छोटा
 - 2. लंबा - छोटा
 - 3. ऊपर - नीचे
 - 4. कई - कुछ

Q.14 In Environmental Education, Awareness and Training (EEAT), Waste Management is a:

Question ID : 16794318536

- Ans
- 1. work-based activity
 - 2. capacity building activity
 - 3. knowledge-based activity
 - 4. skill-based activity

Q.15 यदि कक्षा में एक दृश्य बनाया गया है तो इस प्रक्रिया को क्या कहा जाता है?

Question ID : 16794318542

- Ans
- 1. भूमिका अदाकारी
 - 2. पाखंड
 - 3. नाटक
 - 4. परियोजना

Q.16 विशेषकर प्राथमिक स्तर पर कला शिक्षा की नींव कैसे रखी जाती है?

Question ID : 16794318543

- Ans
- 1. मोटर कौशल विकास
 - 2. रचनात्मक अभिव्यक्ति
 - 3. सामाजिक विकास
 - 4. कल्पनाशील विचार

Q.17 जंगल का खंडन का अर्थ क्या है?

Question ID : 16794318539

- Ans
- 1. जंगल की उपेक्षा
 - 2. वनीकरण
 - 3. बढ़ते जंगलों
 - 4. वन नाशन

Q.18 किशोरावस्था में निम्नलिखित में से कौन सा सामान्य, उच्च जोखिम वाला व्यवहार है?

Question ID : 16794318550

- Ans
- 1.
तंबाकू, शराब, भांग और नशीला पदार्थ, जो बड़ी बीमारियों या यहां तक कि मौत का कारण बन सकते हैं। यह व्यवहार दुर्घटनाओं, हिंसा, मानसिक बीमारियों और उत्पादकता के नुकसान से भी संबंधित है।
 - 2.
उनके संज्ञानात्मक क्षमताओं और सीखने के प्रदर्शन पर प्रतिकूल असर पड़ता है
 - 3. विचलित व्यवहार और अशिष्ट प्रकृति
 - 4.
ऐसे उच्च जोखिम वाले व्यवहार नहीं हैं, वे स्वस्थ हो जाते हैं

Q.19 इनमें से कौन सा रचनात्मक नाटक है?

Question ID : 16794318546

- Ans
- 1.
ब्लॉक और व्हील वाले खिलौनों के साथ खेलना
 - 2. सीसों पर एक साथ खेलना
 - 3.

एक और बच्चे को ले जाने वाले बोगी (वैगन) को खींचना

✗ 4. एक दूसरे को झूले (स्विंग) पर धक्का देना

Q.20 नक्शा क्या है?

Question ID : 16794318541

- Ans
- ✗ 1. तीन आयामी सहायता
 - ✗ 2. एक आयामी सहायता
 - ✓ 3. द्विआयामी सहायता
 - ✗ 4. बहु आयामी सहायता

Section : Subject Related

Q.1 छात्रों द्वारा एक निश्चित अवधि में किए गए कार्यों का संग्रह क्या कहलाता है?

Question ID : 16794318561

- Ans
- ✗ 1. परियोजना
 - ✓ 2. विभाग
 - ✗ 3. डायरी
 - ✗ 4. अभिलेख

Q.2 निम्नलिखित में से कौन सा एस.एम.सी. / पी.टी.ए. के प्रमुख कार्यों में से एक है?

Question ID : 16794318569

- Ans
- ✗ 1. समाज में माता-पिता का पर्यवेक्षण और समर्थन
 - ✓ 2. स्कूल विकास के कार्यान्वयन का पर्यवेक्षण और समर्थन
 - ✗ 3. समुदाय में बच्चों का पर्यवेक्षण और समर्थन
 - ✗ 4. स्कूलों में शिक्षकों का पर्यवेक्षण और समर्थन

Q.3 एन.यू.ई.पी.ए. (NUEPA) का पूर्ण रूप क्या है?

Question ID : 16794318572

- Ans
- ✗ 1. नेशनल इंस्ट्रूमेंट ऑफ एजुकेशनल प्लानिंग एंड एडमिनिस्ट्रेशन
 - ✗ 2. नेशनल इंडियन प्लान ऑफ एजुकेशनल प्लानिंग एंड एडमिनिस्ट्रेशन
 - ✓ 3. नेशनल इंस्टिट्यूट ऑफ एजुकेशनल प्लानिंग एंड एडमिनिस्ट्रेशन
 - ✗ 4. नेशनल इन-सर्विस प्रोग्राम ऑफ एजुकेशनल प्लानिंग एंड एडमिनिस्ट्रेशन

Q.4 शिक्षक शिक्षा पर पहला एशियाई सम्मेलन कब आयोजित किया गया था?

Question ID : 16794318564

- Ans
- 1. 14 से 19 अगस्त 1971
 - 2. 14 से 19 जून 1971
 - 3. 14 से 19 दिसंबर 1971
 - 4. 14 से 19 सितंबर 1971

Q.5 जीवन कौशल विकास क्या है?

Question ID : 16794318553

- Ans
- 1. यह जीवन में समायोजन और आवास की प्रक्रिया है
 - 2. आत्मविश्वास और आत्म सम्मान विकसित करना
 - 3. ज्ञान और पेशेवर आत्मविश्वास विकसित करना
 - 4. यह एक जीवनपर्यंत प्रक्रिया है जो व्यक्तियों को बढ़ने और परिपक्व करने में मदद करती है

Q.6 ग्रीनहाउस गैसों के उत्सर्जन के कारण क्या खतरा हो सकता है?

Question ID : 16794318560

- Ans
- 1. भूमंडलीय ऊष्मीकरण
 - 2. वैश्विक शीतलन
 - 3. वैश्विक प्रतिक्रियाएं
 - 4. भूमंडलीकरण

Q.7 सहकर्मी समूह किशोरों में सामाजिक कौशल को कैसे बढ़ावा दे सकते हैं?

Question ID : 16794318554

- Ans
- 1. दोस्ती के माध्यम से किशोर गैर जिम्मेदार और वाचाल हो जाते हैं
 - 2. दोस्ती के माध्यम से किशोर जिम्मेदारी विकसित नहीं करते हैं
 - 3. दोस्ती के माध्यम से किशोर एक निस्संदेह और आराम से जीवन जीते हैं
 - 4. दोस्ती के माध्यम से किशोर रचनात्मक पारस्परिक कौशल विकसित कर सकते हैं

Q.8 सामुदायिक निम्नलिखित में से किस पर एक वॉचडॉग है?

Question ID : 16794318570

- Ans
- 1. सरकार पर
 - 2. लोगों पर
 - 3. समाज पर
 - 4. स्कूल पर

Q.9 निम्नलिखित में किसमें राष्ट्र सर्वोच्च है?

Question ID : 16794318566

- Ans
- 1.

भारत में सामुदायिक विकास के लिए योजना ढांचे का पहला स्तर

✗ 2.

भारत में सामुदायिक विकास के लिए ग्रास रूट-स्तरीय योजना ढांचा

✓ 3.

भारत में सामुदायिक विकास के लिए बहु स्तरीय योजना ढांचा

✗ 4.

भारत में सामुदायिक विकास के लिए ग्राम स्तरीय योजना ढांचा

Q.10 ऑस्टियोपोरोसिस कौन सी अवस्था है?

Question ID : 16794318558

Ans

✗ 1. कम फेफड़ों का कामकाज

✗ 2. कम ऊर्जा स्तर

✓ 3. हड्डी का कम द्रव्यमान

✗ 4. शरीर का कम द्रव्यमान

Q.11 जब बच्चे को दौड़ते समय गिरने से चोट लगती है और तो चोट बाहरी होती है तो उसे क्या कहते हैं?

Question ID : 16794318556

Ans

✓ 1. खरोच

✗ 2. ऐंठन

✗ 3. भंग

✗ 4. मोच

Q.12 आंतरिक प्रतियोगिताओं में से किस का उल्लेख है?

Question ID : 16794318555

Ans

✗ 1. इंटरक्लास प्रतियोगिताएं

✗ 2. इंटरस्कूल प्रतियोगिताएं

✗ 3. इंटरस्टेट प्रतियोगिताएं

✓ 4. इंद्रास्कूल प्रतियोगिताएं

Q.13 हाल के वर्षों में थीस फेस्टिवल को निम्नलिखित में से किस राज्य सरकार द्वारा एक महत्वपूर्ण आदिवासी त्योहार के रूप में मान्यता दी गई?

Question ID : 16794318567

Ans

✗ 1. तमिलनाडु

✓ 2. तेलंगाना

✗ 3. कर्नाटक

✗ 4. त्रिपुरा

Q.14 'दादी और नानी की कहानिया' को किस तरह का ज्ञान माना जाता है?

Question ID : 16794318571

Ans

✗ 1. अध्यापन शिक्षण संसाधन

✗ 2. पारिवारिक स्रोत

✓ 3. स्थानीय स्रोत

✗ 4. स्कूल स्रोत

Q.15 निम्नलिखित में से कौन सा रेडियोधर्मी प्रदूषण का कारण बन सकता है?

Question ID : 16794318559

Ans ✗ 1. तेल रिसाव

✓ 2. परमाणु संयंत्र खराबी

✗ 3. कचरे का अनुचित निपटान

✗ 4. गैस सिलेंडर रिसाव

Q.16 शिक्षाविद बीके पासी का योगदान क्या है?

Question ID : 16794318563

Ans ✗ 1. विभिन्न तरीकों की सूची

✗ 2. अकादमिक मानकों की सूची

✗ 3. टीम शिक्षण कौशल की सूची

✓ 4. सूक्ष्म कौशल की सूची

Q.17 सबसे पहले 'समुदाय' को किसने परिभाषित किया?

Question ID : 16794318568

Ans ✓ 1. एरिस्टोटल

✗ 2. इंदिरा गांधी

✗ 3. एम.के. गांधी

✗ 4. प्लेटो

Q.18 शिक्षक शिक्षा = ?

Question ID : 16794318565

Ans ✗ 1. शैक्षिक सिद्धांत + व्यावसायिक कौशल

✓ 2.

शिक्षण कौशल + शैक्षिक सिद्धांत + व्यावसायिक कौशल

✗ 3. शिक्षण कौशल + व्यावसायिक कौशल

✗ 4. शिक्षण कौशल + शैक्षिक सिद्धांत

Q.19 खेलते समय गहरे घाव के मामले में आवश्यक प्राथमिक चिकित्सा क्या होगी?

Question ID : 16794318557

Ans ✗ 1. डॉक्टर को बुलाना

✗ 2. संज्ञाहरण देना

✓ 3. खून रोकना

✗ 4. टांका लगाना

Q.20 परियोजना विधि फ

Ans

- ✗ 1. जॉन डूई
- ✓ 2. विलियम किलपैट्रिक
- ✗ 3. आर्थर सी बिनिंग और डेविड एच बिनिंग
- ✗ 4. आर.एल. स्टीवंसन

Prepp



Latest Sarkari jobs, Govt Exam alerts, Results and Vacancies

- ▶ Latest News and Notification
- ▶ Exam Paper Analysis
- ▶ Topic-wise weightage
- ▶ Previous Year Papers with Answer Key
- ▶ Preparation Strategy & Subject-wise Books

To know more [Click Here](#)



www.prepp.in