



Delhi Police Constable Online Exam Paper 08.12.2017 Shift-01

REGISTRATION NUMBER :

EXAM DATE : 8-December-2017

EXAM NAME : SSC Examination

TOTAL MARKS : 100

CANDIDATE NAME :

EXAM START TIME : 10:00:00

EXAM DURATION : 01:30 Hrs

TOTAL NO OF QUESTIONS : 100

**QID : 1** - In the following question, select the related word from the given alternatives.

**Hockey : Stick :: Cricket : ?**

निम्नलिखित प्रश्न में दिए गए विकल्पों में से संबंधित शब्द को चुनिए।

हॉकी : स्टिक :: क्रिकेट : ?

**Options:**

1) Bat

बल्ला

2) Stadium

स्टेडियम

3) Pitch

पिच

4) Batsman

बल्लेबाज़

**Correct Answer:** Bat

बल्ला

**Candidate Answer:** Bat

बल्ला

**QID : 2** - In the following question, select the related letters from the given alternatives.

**CRAP : IMGK :: DINA : ?**

निम्नलिखित प्रश्न में दिए गए विकल्पों में से संबंधित अक्षरों को चुनिए।

**CRAP : IMGK :: DINA : ?**

**Options:**

1) KCUU

2) JDTV

3) XDTU

4) JCUV

**Correct Answer:** JDTV

**Candidate Answer:** JDTV

**QID : 3** - In the following question, select the related number from the given alternatives.

**13 : 91 :: 7 : ?**

निम्नलिखित प्रश्न में दिए गए विकल्पों में से संबंधित संख्या को चुनिए।

**13 : 91 :: 7 : ?**

**Options:**

1) 27

2) 32

3) 49

4) 52

**Correct Answer:** 49

**QID : 4** - In the following question, select the odd word from the given alternatives.

निम्नलिखित प्रश्न में दिए गए विकल्पों में से विषम शब्द को चुनिए।

**Options:**

- 1) Cube  
घन
- 2) Square  
वर्ग
- 3) Circle  
वृत्त
- 4) Rectangle  
आयत

**Correct Answer:** Cube

घन

**Candidate Answer:** Cube

घन

**QID : 5** - In the following question, select the odd letters from the given alternatives.

निम्नलिखित प्रश्न में दिए गए विकल्पों में से विषम अक्षरों को चुनिए।

**Options:**

- 1) CJQX
- 2) DKRY
- 3) ELSW
- 4) BIPW

**Correct Answer:** ELSW

**Candidate Answer:** CJQX

**QID : 6** - In the following question, select the odd number pair from the given alternatives.

निम्नलिखित प्रश्न में दिए गए विकल्पों में से विषम संख्या युग्म को चुनिए।

**Options:**

- 1) 42 - 84
- 2) 13 - 25
- 3) 17 - 34
- 4) 24 - 48

**Correct Answer:** 13 - 25

**Candidate Answer:** 13 - 25

**QID : 7** - In the following question, select the odd number pair from the given alternatives.

निम्नलिखित प्रश्न में दिए गए विकल्पों में से विषम संख्या युग्म को चुनिए।

**Options:**

- 1) 123 - 231
- 2) 352 - 523
- 3) 461 - 614
- 4) 478 - 874

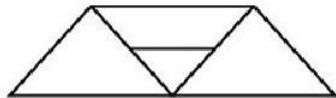
**Correct Answer:** 478 - 874

**Candidate Answer:** 123 - 231

**QID : 8** -

How many triangles are there in the given figure?

दी गई आकृति में कितने त्रिभुज हैं?



**Options:**

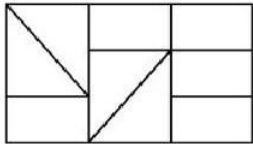
- 1) 4
- 2) 6
- 3) 5
- 4) 7

**Correct Answer:** 4  
**Candidate Answer:** 4

**QID : 9 -**

How many rectangles are there in the given figure?

दी गई आकृति में कितने आयत हैं?



**Options:**

- 1) 13
- 2) 15
- 3) 17
- 4) 19

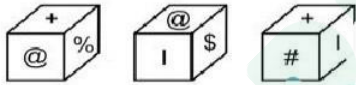
**Correct Answer:** 17

**Candidate Answer:** 13

**QID : 10 -**

Three positions of a cube are shown below. What will come opposite to face containing '@'?

नीचे एक घन की तीन अवस्थाएँ दर्शायी गयी हैं। '@' युक्त फलक के विपरीत क्या आयेगा?



**Options:**

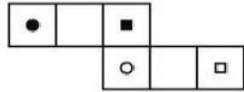
- 1) #
- 2) +
- 3) \$
- 4) %

**Correct Answer:** #

**Candidate Answer:** #

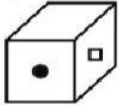
**QID : 11 -**

Which of the following cube in the answer figure **CANNOT** be made from unfolded cube in the question figure?  
निम्नलिखित उत्तर आकृति में से कौन सा घन दिए गए प्रश्न आकृति में से खुले घन से नहीं बनाया जा सकता?

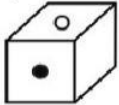


**Options:**

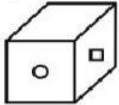
1)



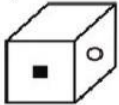
2)



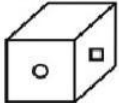
3)



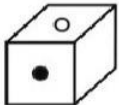
4)



**Correct Answer:**



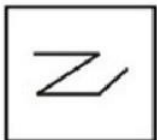
**Candidate Answer:**



**QID : 12 -**

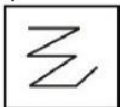
From the given answer figures, select the one in which the question figure is hidden/embedded.

दी गई उत्तर आकृतियों में से उस उत्तर आकृति को चुनिए जिस में प्रश्न आकृति निहित है।

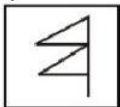


**Options:**

1)



2)



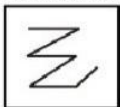
3)



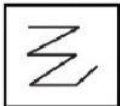
4)



**Correct Answer:**



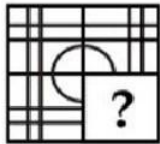
**Candidate Answer:**



**QID : 13 -**

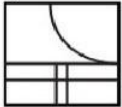
Which answer figure will complete the pattern in the question figure?

कौन सी उत्तर आकृति प्रश्न आकृति के प्रतिरूप को पूरा करेगी?

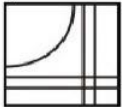


**Options:**

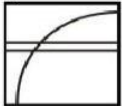
1)



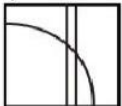
2)



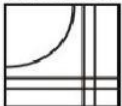
3)



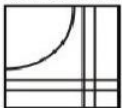
4)



**Correct Answer:**



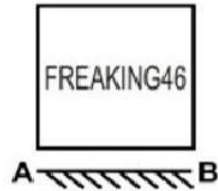
**Candidate Answer:**



**QID : 14 -**

If a mirror is placed on the line AB, then which of the answer figures is the right mirror image of the given figure?

यदि एक दर्पण को AB रेखा पर रखा जाए, तो दी गई उत्तर आकृतियों में से कौन सी आकृति प्रश्न आकृति का सही दर्पण प्रतिबिम्ब होगी?



**Options:**

1)




2)



3)



4)



**Correct Answer:**



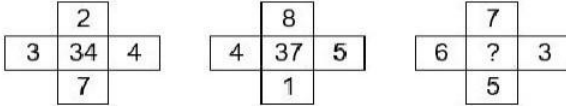
**Candidate Answer:**



**QID : 15 -**

In the following question, select the number which can be placed at the sign of question mark (?) from the given alternatives.

निम्नलिखित प्रश्न में दिए गए विकल्पों में से प्रश्न चिह्न (?) के स्थान पर आने वाली संख्या को चुनिए।



**Options:**

- 1) 51
- 2) 57
- 3) 53
- 4) 59

**Correct Answer:** 57

**Candidate Answer:** 57

**QID : 16 -** From the given alternatives, select the word which **CANNOT** be formed using the letters of the given word.

**PRINTINGS**

निम्नलिखित विकल्पों में से वह शब्द चुनिए जो दिए गए शब्द के अक्षरों का प्रयोग करके नहीं बनाया जा सकता \_\_\_\_\_

**PRINTINGS**

**Options:**

- 1) SAINT
- 2) PRINT
- 3) STING
- 4) RINGS

**Correct Answer:** SAINT

**Candidate Answer:** SAINT

**QID : 17 -** Identify the diagram that best represents the relationship among the given classes.

**Brain, Lungs, Body**

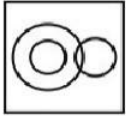
वह आरेख चुनिए जो नीचे दिए गए वर्गों के बीच के संबंध को सही निरूपण करता है।

मस्तिष्क, फेफड़े, शरीर

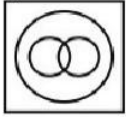


Options:

1)




2)



3)



4)



Correct Answer:



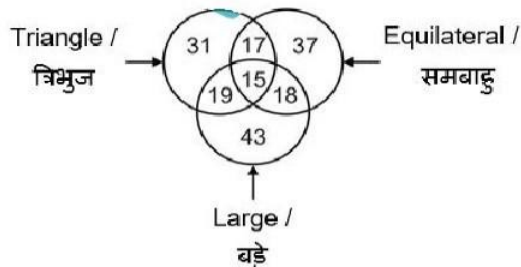
Candidate Answer:



QID : 18 -

In the given figure, how many triangles are large but not equilateral?

दी गई आकृति में, कितने त्रिभुज बड़े हैं परंतु समबाहु नहीं हैं?



**Options:**

1) 17

2) 19

3) 18

4) 15

**Correct Answer:** 19**Candidate Answer:** 19

**QID : 19** - In the following question below are given some statements followed by some conclusions. Taking the given statements to be true even if they seem to be at variance from commonly known facts. Read all the conclusions and then decide which of the given conclusion logically follows the given statements.

**Statements:**

- I. All pages are red.
- II. Some pages are solid.

**Conclusions:**

- I. Some solid are red.
- II. All red are pages.

नीचे दिए गए प्रश्न में कुछ कथन और उनके बाद उन कथनों पर आधारित कुछ निष्कर्ष दिए गए हैं। दिए गए कथनों को सही माने, चाहे उनमें सामान्य ज्ञान तथ्यों से भिन्नता हो। सभी निष्कर्ष पढ़ें और फिर निर्धारित करें कि दिए गए कौन से निष्कर्ष, दिए गए कथनों के आधार पर युक्तिसंगत हैं।

**कथन:**

- I. सभी पृष्ठ लाल हैं।
- II. कुछ पृष्ठ ठोस हैं।

**निष्कर्ष:**

- I. कुछ ठोस लाल हैं।
- II. सभी लाल पृष्ठ हैं।

**Options:**

1) Only conclusion (I) follows.

केवल निष्कर्ष (I) सही है।

2) Only conclusion (II) follows.

केवल निष्कर्ष (II) सही है।

3) Both conclusion follow.

दोनों ही निष्कर्ष सही हैं।

4) Neither conclusion (I) nor conclusion (II) follows.

न तो निष्कर्ष (I) न ही निष्कर्ष (II) सही है।

**Correct Answer:** Only conclusion (I) follows.

केवल निष्कर्ष (I) सही है।

**Candidate Answer:** Both conclusion follow.

दोनों ही निष्कर्ष सही हैं।

**QID : 20** - In the following question below are given some statements followed by some conclusions. Taking the given statements to be true even if they seem to be at variance from commonly known facts. Read all the conclusions and then decide which of the given conclusion logically follows the given statements.

**Statements:**

- I. All black are walls.
- II. All colours are walls.

**Conclusions:**

- I. Some colours are black.
- II. All walls are black.
- III. All black are colours.

नीचे दिए गए प्रश्न में कुछ कथन और उनके बाद उन कथनों पर आधारित कुछ निष्कर्ष दिए गए हैं। दिए गए कथनों को सही माने, चाहे उनमें सामान्य ज्ञान तथ्यों से भिन्नता हो। सभी निष्कर्ष पढ़ें और फिर निर्धारित करें कि दिए गए कौन से निष्कर्ष, दिए गए कथनों के आधार पर युक्तिसंगत हैं।

**कथन:**

- I. सभी काले दीवारें हैं।
- II. सभी रंग दीवारें हैं।

**निष्कर्ष:**

- I. कुछ रंग काले हैं।
- II. सभी दीवारें काली हैं।
- III. सभी काले रंग हैं।

**Options:**

- 1) Only conclusion (I) follows.  
केवल निष्कर्ष (I) सही है।  
2) Only conclusion (II) follows.  
केवल निष्कर्ष (II) सही है।  
3) Only conclusion (III) follows.  
केवल निष्कर्ष (III) सही है।  
4) Neither conclusion follows.  
कोई निष्कर्ष सही नहीं है।

**Correct Answer:** Neither conclusion follows.  
कोई निष्कर्ष सही नहीं है।

**Candidate Answer:** Only conclusion (III) follows.  
केवल निष्कर्ष (III) सही है।

**QID : 21** - Neha is the sister of Rohit and mother of Rahul. Rahul is the brother of Sohiti. How is Neha related to Sohiti?

नेहा, रोहित की बहन है तथा राहुल की माता है। राहुल, सोहित का भाई है। नेहा, सोहित से किस प्रकार संबंधित है?

**Options:**

- 1) Sister  
बहन  
2) Mother  
माता  
3) Daughter  
पुत्री  
4) Wife  
पत्नी

**Correct Answer:** Mother  
माता

**Candidate Answer:** Mother  
माता

**QID : 22** - Pointing towards a man, a woman said, "He is the father of my son's sister's daughter." How is that man related to the woman?

एक पुरुष की ओर संकेत करते हुए, एक महिला ने कहा, "वह मेरे पुत्र की बहन की पुत्री का पिता है।" वह पुरुष उस महिला से किस प्रकार संबंधित है?

**Options:**

- 1) Son-in-law  
दामाद  
2) Son  
पुत्र  
3) Husband  
पति  
4) Brother  
भाई

**Correct Answer:** Son-in-law  
दामाद

**Candidate Answer:** Son-in-law  
दामाद

**QID : 23** - The ratio of the present ages of two girls is 4 : 5. After 2 years, their ages will be in ratio 5 : 6. What will be the ratio of their ages after 14 years?

दो लड़कियों की वर्तमान आयु का अनुपात 4 : 5 है। 2 वर्ष पश्चात् उनकी आयु 5 : 6 के अनुपात में होगी। 14 वर्ष पश्चात् उनकी आयु का अनुपात क्या होगा?

**Options:**

- 1) 11 : 12  
2) 17 : 18  
3) 31 : 33  
4) 11 : 19

**Correct Answer:** 11 : 12

**Candidate Answer:** 11 : 12

**QID : 24** - Selling price of an article is Rs 910. If the profit earned is 40%, then what is the cost price (in Rs) of the article?

एक वस्तु का विक्रय मूल्य 910 रु है। यदि कमाया गया लाभ 40% है, तो वस्तु का क्रय मूल्य (रु में) क्या है?

**Options:**

- 1) 720  
2) 680  
3) 780  
4) 650

**Correct Answer:** 650

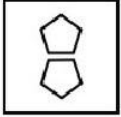
Candidate Answer: 650

**QID : 25** - In the given question, there are four figures given out of which three are similar in some manner and one is not like the others. Select the figure which is odd one out.

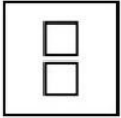
दिए गए प्रश्न में, चार आकृतियाँ दी गई हैं जिसमें से तीन किसी एक गुण के आधार पर समान हैं तथा एक सर्वप्रकार भिन्न है। भिन्न आकृति को चुनिए।

**Options:**

1)



2)




3)




4)



**Correct Answer:**



**Candidate Answer:**

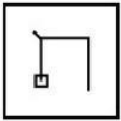


**QID : 26** - In the given question, there are four figures given out of which three are similar in some manner and one is not like the others. Select the figure which is odd one out.

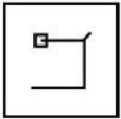
दिए गए प्रश्न में, चार आकृतियाँ दी गई हैं जिसमें से तीन किसी एक गुण के आधार पर समान हैं तथा एक सर्वप्रकार भिन्न है। भिन्न आकृति को चुनिए।

Options:

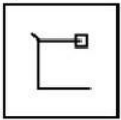
1)



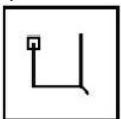
2)



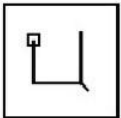
3)



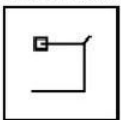
4)



Correct Answer:



Candidate Answer:

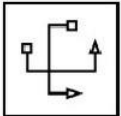


**QID : 27** - In the given question, there are four figures given out of which three are similar in some manner and one is not like the others. Select the figure which is odd one out.

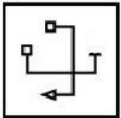
दिए गए प्रश्न में, चार आकृतियाँ दी गई हैं जिसमें से तीन किसी एक गुण के आधार पर समान हैं तथा एक सर्वप्रकार भिन्न है। भिन्न आकृति को चुनिए।

Options:

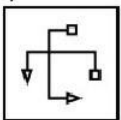
1)



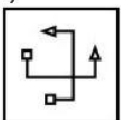
2)



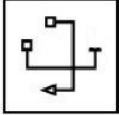
3)



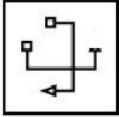
4)



**Correct Answer:**



**Candidate Answer:**



**QID : 28** - In the following question, select the missing number from the given series.

**16, 18, 21, 23, 26, ?**

निम्नलिखित प्रश्न में दिए गए विकल्पों में से सही अंक चुनिए।

**16, 18, 21, 23, 26, ?**

**Options:**

1) 29

2) 30

3) 28

4) 33

**Correct Answer:** 28

**Candidate Answer:** 28

**QID : 29** - In the following question, select the missing number from the given series.

**51, 55, 71, 107, 171, ?**

निम्नलिखित प्रश्न में दिए गए विकल्पों में से सही अंक चुनिए।

**51, 55, 71, 107, 171, ?**

**Options:**

1) 231

2) 271

3) 259

4) 313


**Correct Answer:** 271

**Candidate Answer:** 271

**QID : 30** -

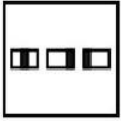
In the following question, select the figure which can be placed at the position of question mark (?) from the given alternatives.

निम्नलिखित प्रश्न में दिए गए विकल्पों में से प्रश्न चिह्न (?) के स्थान पर आने वाली आकृति को चुनिए।




Options:

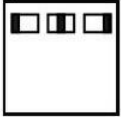
1)



2)



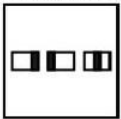
3)



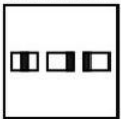
4)



Correct Answer:



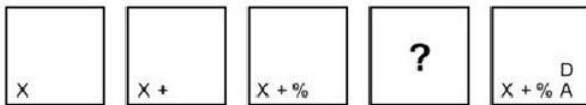
Candidate Answer:



QID : 31 -

In the following question, select the figure which can be placed at the sign of question mark (?) from the given alternatives.

निम्नलिखित प्रश्न में दिए गए विकल्पों में से प्रश्न चिह्न (?) के स्थान पर आने वाली आकृति को चुनिए।

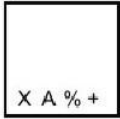


Options:

1)



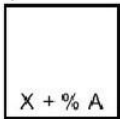
2)



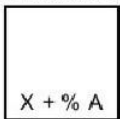
3)



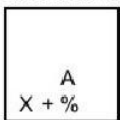
4)



Correct Answer:



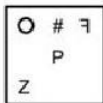
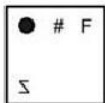
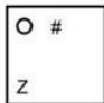
Candidate Answer:



QID : 32 -

In the following question, select the figure which can be placed at the sign of question mark (?) from the given alternatives.


निम्नलिखित प्रश्न में दिए गए विकल्पों में से प्रश्न चिह्न (?) के स्थान पर आने वाली आकृति को चुनिए।



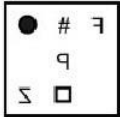


Options:

1)



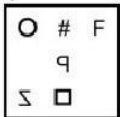
2)



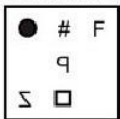
3)



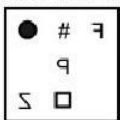
4)



Correct Answer:



Candidate Answer:



**QID : 33** - In a certain code language, "FLAME" is written as "69431" and "MOCT" is written as "3872". How is "FACT" written in that code language?

एक विशिष्ट कोड भाषा में, "FLAME" को "69431" तथा "MOCT" को "3872" लिखा जाता है। इस कोड भाषा में "FACT" को किस प्रकार लिखा जाएगा?

Options:

1) 6472

2) 6147

3) 2476

4) 8743

Correct Answer: 6472

Candidate Answer: 6472

**QID : 34** - In a certain code language, "FUME" is written as "43" and "TRAP" is written as "53". How is "RIMP" written in that code language?

एक विशिष्ट कोड भाषा में, "FUME" को "43" तथा "TRAP" को "53" लिखा जाता है। इस कोड भाषा में "RIMP" को किस प्रकार लिखा जाएगा?

Options:

1) 49

2) 54

3) 58

4) 56

Correct Answer: 54

Candidate Answer: 54

**QID : 35** - In a certain code language, "WINDSHIELD" is written as "CKDHGRCMHV". How is "FRONTBACK" written in that code language?

एक विशिष्ट कोड भाषा में, "WINDSHIELD" को "CKDHGRCMHV" लिखा जाता है। इस कोड भाषा में "FRONTBACK" को किस प्रकार लिखा जाएगा?

**Options:**

- 1) IAYZRLMPD
- 2) JDZVSOPQG
- 3) JBZASMNQE
- 4) LDBCUIOPSG

**Correct Answer:** JBZASMNQE

**Candidate Answer:** LDBCUIOPSG

**QID : 36** - Which of the following is known as plastic money?

इनमें से कौन सा प्लास्टिक मनी के रूप में जाना जाता है?

**Options:**

- 1) Fixed Deposit  
सावधिनिक्षेप (फिक्सड डिपॉजिट)
- 2) Credit Cards  
क्रेडिट कार्ड
- 3) Bearer cheques  
बेयरर चेक
- 4) Demand Drafts  
डिमांड ड्राफ्ट

**Correct Answer:** Credit Cards

क्रेडिट कार्ड

**Candidate Answer:** Credit Cards

क्रेडिट कार्ड

**QID : 37** - What do we deduct from the Gross National Product to get the Net National Product?

शुद्ध राष्ट्रीय उत्पाद प्राप्त करने के लिए हम सकल राष्ट्रीय उत्पाद से क्या घटाते हैं?

**Options:**

- 1) Loss or Depreciation  
हानि या ह्रास
- 2) Imports  
आयात
- 3) Interim Payments  
अंतरिम भुगतान
- 4) Direct Taxes  
प्रत्यक्ष कर

**Correct Answer:** Loss or Depreciation

हानि या ह्रास

**Candidate Answer:** Direct Taxes

प्रत्यक्ष कर

**QID : 38** - Who was the first chairman of the Planning Commission?

योजना आयोग के पहले अध्यक्ष कौन थे?

**Options:**

- 1) Dr. Rajendra Prasad  
डॉ. राजेंद्र प्रसाद
- 2) Dr. S Radhakrishnan  
डॉ. एस राधाकृष्णन
- 3) Jawaharlal Nehru  
जवाहर लाल नेहरू
- 4) M. Vishveshwaraya  
एम. विश्वेश्वरेया

**Correct Answer:** Jawaharlal Nehru

जवाहर लाल नेहरू

**Candidate Answer:** Dr. Rajendra Prasad

डॉ. राजेंद्र प्रसाद

**QID : 39** - Which of the following deals with economic offences?

निम्नलिखित में से कौन सा आर्थिक अपराधों से व्यवहार करते है?

**Options:**

- 1) POTA  
पोटा
- 2) TADA  
टाडा
- 3) MISA  
मीसा
- 4) COFEPOSA  
कोफेपोसा

**Correct Answer:** COFEPOSA

कोफेपोसा

**Candidate Answer:** POTA

पोटा

**QID : 40** - Which country is following one party system?

कौन सा देश एक पार्टी प्रणाली का अनुसरण कर रहा है?

**Options:**

1) Chile

चिली

2) China

चीन

3) Russia

रूस

4) Spain

स्पेन

**Correct Answer:** China

चीन

**Candidate Answer:** Spain

स्पेन

**QID : 41** - The essential feature of democracy is giving prominence to the \_\_\_\_

लोकतंत्र की जरूरी विशेषता \_\_\_\_\_ को प्रमुखता देना है।

**Options:**

1) Citizen

नागरिक

2) Civil Organisation

नागरिक संगठन

3) Judiciary

न्यायपालिका

4) Executives

कार्यकारी अधिकारी

**Correct Answer:** Citizen

नागरिक

**Candidate Answer:** Executives

कार्यकारी अधिकारी

**QID : 42** - How many types of emergencies are envisaged by

संविधान द्वारा कितने प्रकार के आपातकाल की परिकल्पना की गई है?

**Options:**

1) 1

2) 2

3) 3

4) 4

**Correct Answer:** 3

**Candidate Answer:** 2

**QID : 43** - Under which article of the Indian Constitution can the Central Government direct the State Governments?

भारतीय संविधान के किस अनुच्छेद के अंतर्गत केंद्र सरकार राज्य सरकारों को निर्देश दे सकती है ?

**Options:**

1) Article 256

अनुच्छेद 256

2) Article 263

अनुच्छेद 263

3) Article 356

अनुच्छेद 356

4) Article 370

अनुच्छेद 370

**Correct Answer:** Article 256

अनुच्छेद 256

**Candidate Answer:** Article 263

अनुच्छेद 263

**QID : 44** - Who was the Indian ruler who had territory outside India?

किस भारतीय शासक का राज्य विस्तार भारत से बाहर था?

**Options:**

1) Chandragupta Maurya

चंद्रगुप्त मौर्य

2) Kanishka

कनिष्क

3) Chandragupta Maurya and Kanishka both

चंद्रगुप्त मौर्य और कनिष्क दोनों

4) No option is correct

कोई विकल्प सही नहीं है

**Correct Answer:** Chandragupta Maurya and Kanishka both

चंद्रगुप्त मौर्य और कनिष्क दोनों

**Candidate Answer:** Chandragupta Maurya

चंद्रगुप्त मौर्य

**QID : 45** - Which one of the following dynasties was founded by Bimbisara?

बिम्बिसार निम्नलिखित राजवंशों में से किसके संस्थापक थे?

**Options:**

1) Nanda

नंद

2) Maurya

मौर्य

3) Haryanka

हर्षक

4) Gupta

गुप्त

**Correct Answer:** Haryanka

हर्षक

**Candidate Answer:** Nanda

नंद

**QID : 46** - What was the another name of Quit India Movement?

भारत छोड़ो आंदोलन का दूसरा नाम क्या था?

**Options:**

1) August Kranti

अगस्त क्रांति

2) Non-cooperation

असहयोग

3) Civil Disobedience

सविनय अवज्ञा

4) No option is correct

कोई विकल्प सही नहीं है

**Correct Answer:** August Kranti

अगस्त क्रांति

**Candidate Answer:** Non-cooperation

असहयोग

**QID : 47** - In which session Congress Party was split?

किस सत्र में कांग्रेस पार्टी का विभाजन हुआ था?

**Options:**

1) Surat, 1906

सूरत, 1906

2) Lahore, 1909

लाहौर, 1909

3) Madras, 1908

मद्रास, 1908

4) No option is correct

कोई विकल्प सही नहीं है

**Correct Answer:** Surat, 1906

सूरत, 1906

**Candidate Answer:** Surat, 1906

सूरत, 1906

**QID : 48** - Where is the Salar Jung Museum situated?

सालार जंग संग्रहालय कहाँ स्थित है?

**Options:**

- 1) Patna  
पटना
- 2) Hyderabad  
हैदराबाद
- 3) Lucknow  
लखनऊ
- 4) Mumbai  
मुंबई

**Correct Answer:** Hyderabad

हैदराबाद

**Candidate Answer:** Lucknow

लखनऊ

**QID : 49** - Where did the development of miniature paintings of Indian heritage **NOT** happen at the followings?

भारतीय विरासत के लघु चित्रों का विकास इनमें से कहां नहीं हुआ था?

**Options:**

- 1) Mewar  
मेवाड़
- 2) Junagarh  
जूनागढ़
- 3) Kishangarh  
किशनगढ़
- 4) Bundi  
बूंदी

**Correct Answer:** Kishangarh

किशनगढ़

**Candidate Answer:** Kishangarh

किशनगढ़

**QID : 50** - In which state is located the Lipulekh Pass?

लिपुलेख दर्रा किस राज्य में स्थित है?

**Options:**

- 1) Sikkim  
सिक्किम
- 2) Uttarakhand  
उत्तराखंड
- 3) Himachal Pradesh  
हिमाचल प्रदेश
- 4) Jammu and Kashmir  
जम्मू और कश्मीर

**Correct Answer:** Uttarakhand

उत्तराखंड

**Candidate Answer:** Sikkim

सिक्किम

**QID : 51** - Which one of the following lakes is a salt water lake?

निम्नलिखित झील में से कौन सा नमकीन पानी का झील है?

**Options:**

- 1) Wular  
वूलर
- 2) Sambhar  
सांभर
- 3) Dal  
डल
- 4) Govind Sagar  
गोविंद सागर

**Correct Answer:** Sambhar

सांभर

**Candidate Answer:** Wular

वूलर

**QID : 52** - Which of the following place in Jammu and Kashmir is known for 'saffron cultivation'?

जम्मू और कश्मीर में 'केसर खेती' के लिए निम्नलिखित में से कौन सा स्थान प्रसिद्ध है?

**Options:**

- 1) Pampore  
पंपोर
- 2) Kashmir  
कश्मीर
- 3) Jammu  
जम्मू
- 4) Ladakh  
लद्दाख

**Correct Answer:** Pampore

पंपोर

**Candidate Answer:** Jammu

जम्मू

**QID : 53** - Which of the following region receives rain fall by Western Disturbances?

निम्न में से कौन सा क्षेत्र पश्चिमी विक्षोभ से वर्षा प्राप्त करता है?

**Options:**

- 1) Kerala  
केरल
- 2) Tamil Nadu  
तमिलनाडु
- 3) Punjab  
पंजाब
- 4) Karnataka  
कर्नाटक

**Correct Answer:** Punjab

पंजाब

**Candidate Answer:** Tamil Nadu

तमिलनाडु

**QID : 54** - Which one of the following minerals has another name called 'brown diamond'?

निम्न खनिजों में से किसका दूसरा नाम 'भूरा हीरा' है?

**Options:**

- 1) Mica  
अभ्रक
- 2) Iron  
लोहा
- 3) Manganese  
मैंगनीज
- 4) Lignite  
लिग्नाइट

**Correct Answer:** Lignite

लिग्नाइट

**Candidate Answer:** Mica

अभ्रक

**QID : 55** - Which of the following part of India receives the first monsoon in summer?

भारत के निम्नलिखित में से कौन सा भाग सर्दियों में पहला मानसून प्राप्त करता है?

**Options:**

- 1) Himalayas  
हिमालय
- 2) Meghalaya Plateau  
मेघालय पठार
- 3) Western Ghats  
पश्चिमी घाट
- 4) Eastern Ghats  
पूर्वी घाट

**Correct Answer:** Western Ghats

पश्चिमी घाट

**Candidate Answer:** Himalayas

हिमालय

**QID : 56** - The spherical shape of rain drops is due to \_\_\_\_\_.

बारिश की बूंदें गोलाकार \_\_\_\_\_ होने की वजह से हैं।

**Options:**

- 1) Viscosity  
विपक्षिपापन
- 2) Elasticity  
लोच
- 3) Friction  
टकराव
- 4) Surface tension  
पृष्ठ तनाव

**Correct Answer:** Surface tension

पृष्ठ तनाव

**Candidate Answer:** Surface tension

पृष्ठ तनाव

**QID : 57** - Which of the following is **NOT** one of the fundamental quantities in physics?

इनमें से कौन सा भौतिकी में एक मौलिक मात्रक नहीं है?

**Options:**

- 1) Time  
समय
- 2) Length  
लंबाई
- 3) Weight  
वजन
- 4) Mass  
भार

**Correct Answer:** Weight

वजन

**Candidate Answer:** Weight

वजन

**QID : 58** - Which of the following produces more severe burns?

निम्न में से कौन सा अधिक जलन पैदा करता है?

**Options:**

- 1) Boiling Water  
उबलता पानी
- 2) Steam  
भाप
- 3) Hot air  
गर्म हवा
- 4) Sun rays  
सूर्य की किरणें

**Correct Answer:** Steam

भाप

**Candidate Answer:** Hot air

गर्म हवा

**QID : 59** - Which of the following compounds is responsible for the formation of kidney stones?

किडनी स्टोन (गुर्दा की पथरी) मुख्य रूप से निम्नलिखित में से किसका बना होता है?

**Options:**

- 1) Sodium Chloride  
सोडियम क्लोराइड
- 2) Silicates  
सिलिकेट
- 3) Calcium oxalate  
कैल्शियम ऑक्सलेट
- 4) Calcium bicarbonate  
कैल्शियम बाइकार्बोनेट

**Correct Answer:** Calcium oxalate

कैल्शियम ऑक्सलेट

**Candidate Answer:** Calcium bicarbonate

कैल्शियम बाइकार्बोनेट

**QID : 60** - Which among the following kinds of lenses are used to treat Astigmatism?

आस्टिगमैटिज्म को ठीक करने के लिए निम्नलिखित में से किस प्रकार के लेंस का इस्तेमाल किया जाता है?

**Options:**

1) Concave Lens

अवतल लेंस

2) Convex Lens

उत्तल लेंस

3) Bifocal Lens

बायफोकल लेंस

4) Cylindrical

सिलिंडरिकल

**Correct Answer:** Cylindrical

सिलिंडरिकल

**Candidate Answer:** Concave Lens

अवतल लेंस

**QID : 61** - Which is the most abundant inert gas in the atmosphere of earth?

पृथ्वी के वायुमंडल में सबसे प्रचुर मात्रा में निष्क्रिय गैस कौन सा है?

**Options:**

1) Helium

हीलियम

2) Neon

निऑन

3) Argon

आर्गन

4) Xenon

जेनॉन

**Correct Answer:** Argon

आर्गन

**Candidate Answer:** Helium

हीलियम

**QID : 62** - The most malleable metal is \_\_\_\_\_.

सबसे नरम धातु \_\_\_\_\_ है।

**Options:**

1) platinum

प्लैटिनम

2) silver

चांदी

3) Iron

लोहा

4) gold

सोना

**Correct Answer:** gold

सोना

**Candidate Answer:** platinum

प्लैटिनम

**QID : 63** - Which of the following gases is used in manufacturing of vanaspati ghee from vegetable oil?

निम्नलिखित में किस गैस का उपयोग वनस्पति तेल से वनस्पति घी के निर्माण में किया जाता है?

**Options:**

1) Hydrogen

हाइड्रोजन

2) Helium

हीलियम

3) Oxygen

ऑक्सीजन

4) Nitrogen

नाइट्रोजन

**Correct Answer:** Hydrogen

हाइड्रोजन

**Candidate Answer:** Helium

हीलियम

**QID : 64** - Which Layer of the atmosphere also called the Ozonosphere?

वातावरण की कौन-सी परत ओजोनोस्फीयर भी कहलाती है?



**Options:**

- 1) Exosphere  
एक्सोस्फीयर
- 2) Stratosphere  
स्ट्रेटोस्फीयर
- 3) Troposphere  
ट्रोपोस्फीयर
- 4) Mesosphere  
मेसोस्फीयर

**Correct Answer:** Stratosphere

स्ट्रेटोस्फीयर

**Candidate Answer:** Stratosphere

स्ट्रेटोस्फीयर

**QID : 65** - Which of the following is responsible for turning yellow Taj Mahal?

ताजमहल के पीला होने के लिए निम्न में से कौन जिम्मेदार है?

**Options:**

- 1) Potassium  
पोटैशियम
- 2) Carbon Dioxide  
कार्बन डाइऑक्साइड
- 3) Sulphur Dioxide  
सल्फर डाइऑक्साइड
- 4) No option is correct  
कोई विकल्प सही नहीं है

**Correct Answer:** Sulphur Dioxide

सल्फर डाइऑक्साइड

**Candidate Answer:** No option is correct

कोई विकल्प सही नहीं है

**QID : 66** - Mission Indradhanush is related with \_\_\_\_\_.

मिशन इंद्रधनुष से \_\_\_\_\_ संबंधित है।

**Options:**

- 1) Children Safety  
बच्चों की सुरक्षा
- 2) Children Vaccination  
बच्चों के टीकाकरण
- 3) E-commerce  
ई-कॉमर्स
- 4) Rice Export  
चावल निर्यात

**Correct Answer:** Children Vaccination

बच्चों के टीकाकरण

**Candidate Answer:** Children Vaccination

बच्चों के टीकाकरण

**QID : 67** - Which state government has launched Rani Laxmi Bai Pension scheme?

राणी लक्ष्मी बाई पेंशन योजना किस राज्य सरकार द्वारा शुरू की गई है?

**Options:**

- 1) Madhya Pradesh  
मध्य प्रदेश
- 2) Delhi  
दिल्ली
- 3) Punjab  
पंजाब
- 4) Uttar Pradesh  
उत्तर प्रदेश

**Correct Answer:** Uttar Pradesh

उत्तर प्रदेश

**Candidate Answer:** Uttar Pradesh

उत्तर प्रदेश

**QID : 68** - What is the name of indigenous subsonic cruise missile test fired recently by India?

भारत द्वारा हाल ही में परीक्षण किए गए स्वदेशी सबसोनिक क्रूज मिसाइल का क्या नाम है?

**Options:**

- 1) Trishul  
त्रिशूल
- 2) Naag  
नाग
- 3) Nirbhay  
निर्भय
- 4) Kaal  
काल

**Correct Answer:** Nirbhay

निर्भय

**Candidate Answer:** Nirbhay

निर्भय

**QID : 69** - Which of the following African countries has launched a earth observation satellite in October 2017?

निम्नलिखित अफ्रीकी देशों में से किसने अक्टूबर 2017 में अर्थ ऑब्जरवेशन सैटेलाइट लॉन्च किया है?

**Options:**

- 1) Morocco  
मोरक्को
- 2) Egypt  
मिस्र
- 3) Ethiopia  
इथोपिया
- 4) Sudan  
सूडान

**Correct Answer:** Morocco

मोरक्को

**Candidate Answer:** Ethiopia

इथोपिया

**QID : 70** - India beat Malaysia recently, in which of the following cup to clinch its third title?

हाल ही में भारत ने अपना तीसरा खिताब जीतने के लिए मलेशिया को निम्नलिखित में से किस कप में हराया?

**Options:**

- 1) Under-17 FIFA Cup  
अंडर -17 फीफा कप
- 2) Asia Cup  
एशिया कप
- 3) World Cup  
विश्व कप
- 4) Sudirman Cup  
सुदीरमन कप

**Correct Answer:** Asia Cup

एशिया कप

**Candidate Answer:** Under-17 FIFA Cup

अंडर -17 फीफा कप

**QID : 71** - Which of the following became first Indian woman to tie up with the World Wrestling Entertainment (WWE)?

निम्नलिखित में से कौन वर्ल्ड रेसलिंग एंटरटेनमेंट (डब्ल्यूडब्ल्यूई) से जुड़ने वाली भारतीय महिला बन गई है?

**Options:**

- 1) M C Mary Kom  
एम सी मेरी कोम
- 2) Babita Phogat  
बबीता फोगाट
- 3) Kavita Devi  
कविता देवी
- 4) No option is correct  
कोई विकल्प सही नहीं है

**Correct Answer:** Kavita Devi

कविता देवी

**Candidate Answer:** M C Mary Kom

एम सी मेरी कोम

**QID : 72** - Guangzhou is the Chinese name of which city?

गुआंगझू किस शहर का चीनी नाम है?

**Options:**

- 1) Beijing  
बीजिंग
- 2) Canton  
कंटन
- 3) Sichuan  
सिचुआन
- 4) Manchuria  
मंचूरिया

**Correct Answer:** Canton

कंटन

**Candidate Answer:** Beijing

बीजिंग

**QID : 73** - The only one of these neighbors of India that does not use the rupee as currency is \_\_\_\_\_.

भारत के इन पड़ोसियों में से केवल एक ही मुद्रा के रूप में रुपया का उपयोग नहीं करता \_\_\_\_\_ है।

**Options:**

- 1) Pakistan  
पाकिस्तान
- 2) Sri Lanka  
श्रीलंका
- 3) Nepal  
नेपाल
- 4) Bangladesh  
बांग्लादेश

**Correct Answer:** Bangladesh

बांग्लादेश

**Candidate Answer:** Pakistan

पाकिस्तान

**QID : 74** - Who has won the 2017 Nobel Prize for Economics?

अर्थशास्त्र के लिए 2017 नोबेल पुरस्कार कियने जीता है?

**Options:**

- 1) Raghuram Rajan  
रघुराम राजन
- 2) Richard Thaler  
रिचर्ड थालर
- 3) Jagdish Bhagwati  
जगदीश भगवती
- 4) Amartya Sen  
अमर्त्य सेन

**Correct Answer:** Richard Thaler

रिचर्ड थालर

**Candidate Answer:** Amartya Sen

अमर्त्य सेन

**QID : 75** - Who has become the first Indian to be honoured with Anna Politkovskaya Award 2017?

अन्ना पॉलिट्कोवस्काया पुरस्कार 2017 से सम्मानित होने वाला पहला भारतीय कौन बन गए हैं?

**Options:**

- 1) Sanjay Pathak  
संजय पाठक
- 2) MM Kalburgi  
एमएम कलबुर्गी
- 3) Sudarshan Patnayak  
सुदर्शन पटनायक
- 4) Gauri Lankesh  
गौरी लंकेश

**Correct Answer:** Gauri Lankesh

गौरी लंकेश

**Candidate Answer:** Sanjay Pathak

संजय पाठक

**QID : 76** - Which state govt has reduced interest on loan under Saksham Yojana in October 2017?

किस राज्य सरकार ने अक्टूबर 2017 में सक्षम योजना के तहत ऋण पर ब्याज कम कर दिया है?

**Options:**

1) Uttar Pradesh

उत्तर प्रदेश

2) Chhattisgarh

छत्तीसगढ़

3) Madhya Pradesh

मध्य प्रदेश

4) Maharashtra

महाराष्ट्र

**Correct Answer:** Chhattisgarh

छत्तीसगढ़

**Candidate Answer:** Uttar Pradesh

उत्तर प्रदेश

**QID : 77** - The Union Govt has approved the continuation of which centrally sponsored scheme for states in November 2017?

केंद्र सरकार ने नवंबर 2017 में राज्यों के लिए केन्द्र प्रायोजित किस योजना को जारी रखने को मंजूरी दे दी है?

**Options:**

1) Gramin Bhandam Yojna

ग्रामीण भंडारण योजना

2) Janani Suraksha Yojna

जननी सुरक्षा योजना

3) Antyodaya Ann Yojna

अंत्योदय अन्न योजना

4) Rashtriya Krishi Vikas Yojana

राष्ट्रीय कृषि विकास योजना

**Correct Answer:** Rashtriya Krishi Vikas Yojana

राष्ट्रीय कृषि विकास योजना

**Candidate Answer:** Janani Suraksha Yojna

जननी सुरक्षा योजना

**QID : 78** - India has sent its first shipment of wheat to which of the following countries through China's Chabahar Port in October 2017?

अक्टूबर 2017 में भारत ने ईरान के चाबहार बंदरगाह के माध्यम से निम्नलिखित में से किस देश को गेहूँ की पहली शिपमेंट भेजी है?

**Options:**

1) Afghanistan

अफ़गानिस्तान

2) Turkmenistan

तुर्कमेनिस्तान

3) Iraq

इराक

4) Uzbekistan

उज़्बेकिस्तान

**Correct Answer:** Afghanistan

अफ़गानिस्तान

**Candidate Answer:** Uzbekistan

उज़्बेकिस्तान

**QID : 79** - India is going to jointly work on a multi-radio telescope project with which country?

भारत संयुक्त रूप से एक मल्टी रेडियो टेलीस्कोप परियोजना पर किस देश के साथ काम कर रहा है?

**Options:**

1) Japan

जापान

2) China

चीन

3) Iran

ईरान

4) South Africa

दक्षिण अफ्रीका

**Correct Answer:** South Africa

दक्षिण अफ्रीका

**Candidate Answer:** Japan

जापान

**QID : 80** - Recently, the world's smallest squirrel was found in which of the following countries?

हाल ही में, दुनिया के सबसे छोटी गिलहरी निम्नलिखित में से किस देश में पाई गई थी?

**Options:**

- 1) India  
इंडिया
- 2) Singapore  
सिंगापुर
- 3) Indonesia  
इंडोनेशिया
- 4) Japan  
जापान

**Correct Answer:** Indonesia

इंडोनेशिया

**Candidate Answer:** India

इंडिया

**QID : 81** - Which of the following states became first state to launch electric bus service?

निम्न में से कौन सा विद्युतीय बस सेवा शुरू करने वाला पहला राज्य बन गया?

**Options:**

- 1) Himachal Pradesh  
हिमाचल प्रदेश
- 2) Kerala  
केरल
- 3) Assam  
असम
- 4) Jammu & Kashmir  
जम्मू और कश्मीर

**Correct Answer:** Himachal Pradesh

हिमाचल प्रदेश

**Candidate Answer:** Kerala

केरल

**QID : 82** - Who has been appointed as the new governor of Bihar?

बिहार के नए गवर्नर के तौर पर किसे नियुक्त किया गया है?

**Options:**

- 1) Keshari Nath Tripathi  
केशरी नाथ त्रिपाठी
- 2) Satyapal Malik  
सत्यपाल मलिक
- 3) Jagdish Mukhi  
जगदीश मुखी
- 4) Ram Naik  
राम नाइक

**Correct Answer:** Satyapal Malik

सत्यपाल मलिक

**Candidate Answer:** Ram Naik

राम नाइक

**QID : 83** - Jagmeet Singh has been elected as the first non-white president of the New Democratic Party (NDP). NDP is a major political party of which country?

जगमीत सिंह न्यू डेमोक्रेटिक पार्टी (एनडीपी) के पहले गैर-श्वेत अध्यक्ष चुने गए। एनडीपी कहां का एक प्रमुख राजनीतिक दल है?

**Options:**

- 1) Canada  
कनाडा
- 2) United States of America  
संयुक्त राज्य अमेरिका
- 3) Brazil  
ब्राज़िल
- 4) Scotland  
स्कॉटलैंड

**Correct Answer:** Canada

कनाडा

**Candidate Answer:** Scotland

स्कॉटलैंड

**QID : 84** - India's first Pradhan Mantri Kaushal Kendra for Skilling in Smart Cities was inaugurated in which city?

स्मार्ट शहरों में कौशल प्रशिक्षण के लिए भारत के पहले प्रधानमंत्री कौशल केंद्र का उद्घाटन किस शहर में किया गया था?

**Options:**

- 1) Mumbai  
मुंबई
- 2) Kolkata  
कोलकाता
- 3) Hyderabad  
हैदराबाद
- 4) New Delhi  
नई दिल्ली

**Correct Answer:** New Delhi

नई दिल्ली

**Candidate Answer:** Hyderabad

हैदराबाद

**QID : 85** - In September 2017, United states of America President has issued a new travel ban on eight countries. Which of the following countries is not in that list?

सितम्बर 2017 में, संयुक्त राज्य अमेरिका के राष्ट्रपति ने आठ देशों पर एक नई यात्रा प्रतिबंध जारी किया है। निम्न में से कौन सा देश उस सूची में नहीं है?

**Options:**

- 1) North Korea  
उत्तर कोरिया
- 2) Iran  
ईरान
- 3) Syria  
सीरिया
- 4) Sudan  
सूडान

**Correct Answer:** Sudan

सूडान

**Candidate Answer:** Sudan

सूडान

**QID : 86** -

What is the value of  $\left(\frac{7}{5}\right)^{-\frac{1}{2}} \times \left(\frac{5}{7}\right)^{\frac{1}{2}}$ ?

$\left(\frac{7}{5}\right)^{-\frac{1}{2}} \times \left(\frac{5}{7}\right)^{\frac{1}{2}}$  का मान क्या है?

**Options:**

- 1) 5/7
- 2) 7/5
- 3) 49/25
- 4) 25/49

**Correct Answer:** 5/7

**Candidate Answer:** 25/49

**QID : 87** - How many prime numbers are there from 1 to 30?

1 से 30 तक कितनी अभाज्य संख्याएँ हैं?

**Options:**

- 1) 8
- 2) 9
- 3) 10
- 4) 11

**Correct Answer:** 10

**Candidate Answer:** 10

**QID : 88** - If  $\frac{2}{3}$  of  $\frac{4}{5}$  of  $\frac{6}{5}$  of a number is equal to 240, then what is the value of the number?

यदि एक संख्या के  $\frac{6}{5}$  का  $\frac{4}{5}$  का  $\frac{2}{3}$ , 240 के बराबर है, तो संख्या का मान क्या है?

**Options:**

- 1) 125
- 2) 250
- 3) 375
- 4) 450

**Correct Answer:** 375

**Candidate Answer:** 375

**QID : 89** - What is the largest three digit number which is exactly divisible by 3, 4 and 5?

3, 4 तथा 5 से पूर्णतः विभाजित होने वाली तीन अंकों की सबसे बड़ी संख्या क्या है?

**Options:**

- 1) 910
- 2) 900
- 3) 960
- 4) 990

**Correct Answer:** 960

**Candidate Answer:** 960

**QID : 90** - What is the value of  $1.44 \times 0.02 + 2.2 \times 0.01$ ?

$1.44 \times 0.02 + 2.2 \times 0.01$  का मान क्या है?

**Options:**

- 1) 0.0508
- 2) 0.0502
- 3) 0.508
- 4) 0.502

**Correct Answer:** 0.0508

**Candidate Answer:** 0.0508

**QID : 91** - What is the value of 25% of 40% of  $\frac{3}{7}$  of 3500?

3500 के  $\frac{3}{7}$  के 40% के 25% का मान क्या है?

**Options:**

- 1) 750
- 2) 1050
- 3) 150
- 4) 450

**Correct Answer:** 150

**Candidate Answer:** 150

**QID : 92** - If  $x : y = 2 : 3$  and  $z : w = 5x : 7y$ , then what is the value of  $xz : yw$ ?

यदि  $x : y = 2 : 3$  तथा  $z : w = 5x : 7y$  हो, तो  $xz : yw$  का मान क्या है?

**Options:**

- 1) 10 : 21
- 2) 15 : 32
- 3) 4 : 9
- 4) 20 : 63

**Correct Answer:** 20 : 63

**Candidate Answer:** 10 : 21

**QID : 93** - Average of 19, 63, 51, 78, 47 and A is 49. What is the value of A?

19, 63, 51, 78, 47 तथा A का औसत 49 है। A का मान क्या है?

**Options:**

- 1) 29
- 2) 32
- 3) 36
- 4) 39

**Correct Answer:** 36

**Candidate Answer:** 32

**QID : 94** - Simple and compound interest on a principal at a certain rate of interest for 2 years is Rs 1400 and Rs 1470 respectively. What is the principal (in Rs)?

एक मूलधन पर एक निश्चित व्याज दर से 2 वर्षों का साधारण तथा चक्रवृद्धि व्याज क्रमशः 1400 रु तथा 1470 रु है। मूलधन (रु में) क्या है?

**Options:**

- 1) 8500
- 2) 7000
- 3) 6000
- 4) 6500

**Correct Answer:** 7000

**Candidate Answer:** 7000