

Banaras Hindu University

Question Paper Name: 203 16th May 2019 Shift 1
Subject Name: 203
Creation Date: 2019-05-16 12:21:54
Duration: 120
Total Marks: 360
Display Marks: Yes
Share Answer Key With Delivery Engine: Yes
Actual Answer Key: Yes

Common Entrance Test I

Group Number : 1
Group Id : 54310775
Group Maximum Duration : 0
Group Minimum Duration : 120
Revisit allowed for view? : No
Revisit allowed for edit? : No
Break time: 0
Group Marks: 360

Sec I GK and CA

Section Id : 543107142
Section Number : 1
Section type : Online
Mandatory or Optional: Mandatory
Number of Questions: 30
Number of Questions to be attempted: 30
Section Marks: 90
Display Number Panel: Yes
Group All Questions: No

Sub-Section Number: 1
Sub-Section Id: 543107185
Question Shuffling Allowed : Yes

Question Number : 1 Question Id : 5431079604 Question Type : MCQ Option Shuffling : Yes Display Question Number : Yes
Single Line Question Option : No Option Orientation : Vertical Allowed Progression : Yes Number of Replay : 999 Play On Load : No Control Enable : Yes

Correct Marks : 3 Wrong Marks : 1

Question Label : Multiple Choice Question

India's first National Centre for Marine Bio- diversity (NCMB) is located in :

भारत का पहला राष्ट्रीय समुद्री जैव विविधता केन्द्र (एन० सी० एम० बी०) कहाँ स्थित है ?

Options :

Bhavnagar

1. भावनगर

Jamnagar

2. जामनगर

Mumbai

3. मुम्बई

Pondicherry

4. पांडिचेरी

Question Number : 2 Question Id : 5431079605 Question Type : MCQ Option Shuffling : Yes Display Question Number : Yes
Single Line Question Option : No Option Orientation : Vertical Allowed Progression : Yes Number of Replay : 999 Play On Load :
No Control Enable : Yes

Correct Marks : 3 Wrong Marks : 1

Question Label : Multiple Choice Question

Which among the following is the unit of measurement of the "Ecological Footprint" ?

'पारिस्थितिक पदचिह्न' की माप के लिए प्रयुक्त इकाई निम्नलिखित में से कौन है ?

Options :

Global Hectare

1. ग्लोबल (वैश्विक) हेक्टेयर

Gallon per capita

2. प्रति व्यक्ति गैलेन

Cubic meter

3. क्यूबिक मीटर (घन मीटर)

Man Hour

4. मानव दिवस

Question Number : 3 Question Id : 5431079606 Question Type : MCQ Option Shuffling : Yes Display Question Number : Yes
Single Line Question Option : No Option Orientation : Vertical Allowed Progression : Yes Number of Replay : 999 Play On Load :
No Control Enable : Yes

Correct Marks : 3 Wrong Marks : 1

Question Label : Multiple Choice Question

"Nauradehi Wildlife Sanctuary," is located in which State ?

'नौरादेही वन्यजीव अभ्यारण्य' किस राज्य में अवस्थित है ?

Options :

Madhya Pradesh

1. मध्य प्रदेश

Gujarat

2. गुजरात

Maharashtra

3. महाराष्ट्र

Andhra Pradesh

4. आन्ध्र प्रदेश

Question Number : 4 Question Id : 5431079607 Question Type : MCQ Option Shuffling : Yes Display Question Number : Yes
Single Line Question Option : No Option Orientation : Vertical Allowed Progression : Yes Number of Replay : 999 Play On Load :
No Control Enable : Yes

Correct Marks : 3 Wrong Marks : 1

Question Label : Multiple Choice Question

John is admitted to the hospital fearing heart attack due to severe chest pain. The investigations revealed that he is suffering from Gastroesophageal reflux disease (GERD). Identify the correct reason from the following options.

गंभीर छाती के दर्द के कारण जॉन को दिल के दौरों के डर से अस्पताल में भर्ती कराया गया है। जाँच से पता चला है कि वह एसिड भाटा रोग (गर्ड) से पीड़ित है। निम्न विकल्पों से सही कारण पहचानें :

Options :

Pyloric valve does not close properly

1. पाइलोरिक वाल्व ठीक से बन्द नहीं हुआ

Lower oesophageal sphincter (LES) remains open

2. लोअर ऑसोफैजल स्फीन्सटर (एल ई एस) का खुला रहना

Eating hurriedly without chewing of food

3. भोजन चबाये बिना जल्दी से भोजन करना

Unable to digest protein and fats

4. प्रोटीन और वसा को पचाने में असमर्थ

Question Number : 5 Question Id : 5431079608 Question Type : MCQ Option Shuffling : Yes Display Question Number : Yes
Single Line Question Option : No Option Orientation : Vertical Allowed Progression : Yes Number of Replay : 999 Play On Load :
No Control Enable : Yes

Correct Marks : 3 Wrong Marks : 1

Question Label : Multiple Choice Question

Much before the beginning of trade union movement, the labour leader in India was :

ट्रेड यूनियन आंदोलन से काफी पहले भारत में मजदूर नेता थे :

Options :

Sorabjee Shahpoorjee Bengalee

1. सोराबजी शाहपुरजी बंगाली

B. P. Wadia
2. बी० पी० वाडिया

Lala Lajpat Rai
3. लाला लाजपत राय

Narayan Meghjee Lokhandey
4. नारायण मेघजी लोखान्डे

Question Number : 6 Question Id : 5431079609 Question Type : MCQ Option Shuffling : Yes Display Question Number : Yes
Single Line Question Option : No Option Orientation : Vertical Allowed Progression : Yes Number of Replay : 999 Play On Load :
No Control Enable : Yes

Correct Marks : 3 Wrong Marks : 1

Question Label : Multiple Choice Question

Approximately what fraction of India's Gross Geographical area comes under the protected Areas ?

भारत के सकल भौगोलिक क्षेत्र का लगभग कितना हिस्सा (प्रतिशत) संरक्षित क्षेत्र है ?

Options :

1. 2%
2. 3%
3. 4%
4. 5%

Question Number : 7 Question Id : 5431079610 Question Type : MCQ Option Shuffling : Yes Display Question Number : Yes
Single Line Question Option : No Option Orientation : Vertical Allowed Progression : Yes Number of Replay : 999 Play On Load :
No Control Enable : Yes

Correct Marks : 3 Wrong Marks : 1

Question Label : Multiple Choice Question

Which of the following is the tallest perennial grass ?

निम्नलिखित में से कौन सबसे लम्बा सदाबहार घास है ?

Options :

1. Nile grass
नील घास
2. Paddy plant
धान का पौधा
3. Sugarcane
ईख

Bamboo

4. बाँस

Question Number : 8 Question Id : 5431079611 Question Type : MCQ Option Shuffling : Yes Display Question Number : Yes
Single Line Question Option : No Option Orientation : Vertical Allowed Progression : Yes Number of Replay : 999 Play On Load :
No Control Enable : Yes

Correct Marks : 3 Wrong Marks : 1

Question Label : Multiple Choice Question

Which of the following is *not* a root ?

निम्नलिखित में से कौन 'जड़' *नहीं* है ?

Options :

Potato

1. आलू

Carrot

2. गाजर

Radish

3. मूली

Turnip

4. शलगम

Question Number : 9 Question Id : 5431079612 Question Type : MCQ Option Shuffling : Yes Display Question Number : Yes
Single Line Question Option : No Option Orientation : Vertical Allowed Progression : Yes Number of Replay : 999 Play On Load :
No Control Enable : Yes

Correct Marks : 3 Wrong Marks : 1

Question Label : Multiple Choice Question

Planets :

ग्रह :

(A) Are luminous bodies

प्रकाशमान पिण्ड होते हैं

(B) Twinkle

जगमग होते हैं

(C) Are non- luminous bodies

गैर-प्रकाशमान पिण्ड होते हैं

(D) Do not twinkle

जगमग नहीं होते हैं।

Which of the above are correct ?

उपरोक्त में कौन सही है ?

Options :

(A) and (B)

1. (A) व (B)

(A) and (D)

2. (A) व (D)

(B) and (C)

3. (B) व (C)

(C) and (D)

4. (C) व (D)

Question Number : 10 Question Id : 5431079613 Question Type : MCQ Option Shuffling : Yes Display Question Number : Yes
Single Line Question Option : No Option Orientation : Vertical Allowed Progression : Yes Number of Replay : 999 Play On Load :
No Control Enable : Yes

Correct Marks : 3 Wrong Marks : 1

Question Label : Multiple Choice Question

In which stage of the demographic transition model , the population is at high stationary level ?

जनांकिकी संक्रमण मॉडल की किस अवस्था में जनसंख्या उच्च स्थिर अवस्था में होती है ?

Options :

First

1. प्रथम

Second

2. द्वितीय

Third

3. तृतीय

Fourth

4. चतुर्थ

Question Number : 11 Question Id : 5431079614 Question Type : MCQ Option Shuffling : Yes Display Question Number : Yes
Single Line Question Option : No Option Orientation : Vertical Allowed Progression : Yes Number of Replay : 999 Play On Load :
No Control Enable : Yes

Correct Marks : 3 Wrong Marks : 1

Question Label : Multiple Choice Question

Due to rusting the weight of iron :

जंग लगने के कारण लोहे का वजन :

Options :

Decreases

1. घटता है

Increases

2. बढ़ता है

Remains the same

3. अपरिवर्तित रहता है

Uncertain

4. अनिश्चित

Question Number : 12 Question Id : 5431079615 Question Type : MCQ Option Shuffling : Yes Display Question Number : Yes
Single Line Question Option : No Option Orientation : Vertical Allowed Progression : Yes Number of Replay : 999 Play On Load :
No Control Enable : Yes

Correct Marks : 3 Wrong Marks : 1

Question Label : Multiple Choice Question

Phosphorus is mainly extracted from :

फास्फोरस मुख्य रूप से निकाला जाता है :

Options :

Sand

1. बालू से

Ash

2. राख (भस्म) से

Bone ash

3. अस्थि भस्म से

Fertiliser

4. खाद से

Question Number : 13 Question Id : 5431079616 Question Type : MCQ Option Shuffling : Yes Display Question Number : Yes
Single Line Question Option : No Option Orientation : Vertical Allowed Progression : Yes Number of Replay : 999 Play On Load :
No Control Enable : Yes

Correct Marks : 3 Wrong Marks : 1

Question Label : Multiple Choice Question

If electrical conductivity increases with the increase of temperature of a substance, then it is a :

यदि किसी पदार्थ के ताप में वृद्धि होने के साथ विद्युत चालकता में वृद्धि होती है, तो वह होगा :

Options :

Conductor

1. संचालक (कंडक्टर)

Semiconductor

2. अर्धचालक (सेमी कंडक्टर)

Insulator

3. कुचालक (इन्सुलेटर)

Carburetor

4. कार्बुरेटर

Question Number : 14 Question Id : 5431079617 Question Type : MCQ Option Shuffling : Yes Display Question Number : Yes
Single Line Question Option : No Option Orientation : Vertical Allowed Progression : Yes Number of Replay : 999 Play On Load :
No Control Enable : Yes

Correct Marks : 3 Wrong Marks : 1

Question Label : Multiple Choice Question

Energy possessed by a body in motion is called :

एक गतिमान पिण्ड में व्याप्त ऊर्जा क्या कहलाती है ?

Options :

Kinetic Energy

1. गतिज ऊर्जा

Potential Energy

2. स्थितिज ऊर्जा

Kinetic Energy and Potential Energy both

3. गतिज ऊर्जा एवं स्थितिज ऊर्जा दोनों

None of the three

4. तीनों में से कोई नहीं

Question Number : 15 Question Id : 5431079618 Question Type : MCQ Option Shuffling : Yes Display Question Number : Yes
Single Line Question Option : No Option Orientation : Vertical Allowed Progression : Yes Number of Replay : 999 Play On Load :
No Control Enable : Yes

Correct Marks : 3 Wrong Marks : 1

Question Label : Multiple Choice Question

Rukmini Devi Arundale was associated with which of the following forms of classical dances ?

रुकमणी देवी अरुंदेल निम्नलिखित में से किस शास्त्रीय नृत्य विधा से जुड़ी हैं ?

Options :

Bharat Natyam

1. भारत नाट्यम

Kuchipudi

2. कुचीपुड़ी

Odissi

3. ओडिसी

Kathak

4. कथक

Question Number : 16 Question Id : 5431079619 Question Type : MCQ Option Shuffling : Yes Display Question Number : Yes
Single Line Question Option : No Option Orientation : Vertical Allowed Progression : Yes Number of Replay : 999 Play On Load :
No Control Enable : Yes

Correct Marks : 3 Wrong Marks : 1

Question Label : Multiple Choice Question

In which of the following states is the Hornbil Festival held annually ?

निम्नलिखित में से किस राज्य में प्रतिवर्ष 'हार्नबिल त्यौहार' मनाया जाता है ?

Options :

Mizoram

1. मिजोरम

Assam

2. असम

Sikkim

3. सिक्किम

Nagaland

4. नागालैंड

Question Number : 17 Question Id : 5431079620 Question Type : MCQ Option Shuffling : Yes Display Question Number : Yes
Single Line Question Option : No Option Orientation : Vertical Allowed Progression : Yes Number of Replay : 999 Play On Load :
No Control Enable : Yes

Correct Marks : 3 Wrong Marks : 1

Question Label : Multiple Choice Question

Which of the following disciplines have helped in study of pre-history ?

प्रागैतिहास के अध्ययन में निम्नलिखित में से किस अध्ययन क्षेत्र ने सहायता प्रदान की ?

Options :

Geomorphology

1. भू-आकृति विज्ञान

Paleobotany

2. पुरावनस्पति शास्त्र

Paleoanthropology

3. पुरानृविज्ञान

All of the three

4. तीनों में सभी

Question Number : 18 Question Id : 5431079621 Question Type : MCQ Option Shuffling : Yes Display Question Number : Yes
Single Line Question Option : No Option Orientation : Vertical Allowed Progression : Yes Number of Replay : 999 Play On Load :
No Control Enable : Yes

Correct Marks : 3 Wrong Marks : 1

Question Label : Multiple Choice Question

The man who stood for 'Total Revolution' in India :
वह व्यक्ति जो भारत में 'सम्पूर्ण क्रांति' के लिये खड़ा हुआ :

Options :

Jai Prakash Narayan

1. जय प्रकाश नारायण

Jyotiba Phule

2. ज्योतिबा फुले

Mahatma Gandhi

3. महात्मा गाँधी

Subhas Chandra Bose

4. सुभाष चन्द्र बोस

Question Number : 19 Question Id : 5431079622 Question Type : MCQ Option Shuffling : Yes Display Question Number : Yes
Single Line Question Option : No Option Orientation : Vertical Allowed Progression : Yes Number of Replay : 999 Play On Load :
No Control Enable : Yes

Correct Marks : 3 Wrong Marks : 1

Question Label : Multiple Choice Question

Rovers Cup is related to which of the following sports ?

रोवर्स कप निम्नलिखित में से किस खेल से जुड़ा है ?

Options :

Football

1. फुटबाल

Cricket

2. क्रिकेट

Hockey

3. हॉकी

Tennis

4. टेनिस

Question Number : 20 Question Id : 5431079623 Question Type : MCQ Option Shuffling : Yes Display Question Number : Yes
Single Line Question Option : No Option Orientation : Vertical Allowed Progression : Yes Number of Replay : 999 Play On Load :
No Control Enable : Yes

Correct Marks : 3 Wrong Marks : 1

Question Label : Multiple Choice Question

The first Chief Election Commissioner of India was :

भारत के प्रथम मुख्य चुनाव आयुक्त थे :

Options :

Shyam Lal Shukdhar

1. श्यामलाल शकधर

T. N. Seshan

2. टी० एन० शेषन

Sukumar Sen

3. सुकुमार सेन

V. S. Ramadevi

4. वी० एस० रामादेवी

Question Number : 21 Question Id : 5431079624 Question Type : MCQ Option Shuffling : Yes Display Question Number : Yes
Single Line Question Option : No Option Orientation : Vertical Allowed Progression : Yes Number of Replay : 999 Play On Load :
No Control Enable : Yes

Correct Marks : 3 Wrong Marks : 1

Question Label : Multiple Choice Question

Which among the following is *not* a subsidiary of RBI ?

निम्नलिखित में से कौन आर० बी० आई० की मातहत (सबसिडियरी) कम्पनी *नहीं* है ?

Options :

National Housing Bank

1. राष्ट्रीय (नेशनल) हाउसिंग बैंक

NABARD

2. नाबार्ड

Bharatiya Reserve Bank Note Mudran private limited

3. भारतीय रिजर्व बैंक नोट मुद्रण प्राइवेट लिमिटेड

SIDBI

4. सिडबी

Question Number : 22 Question Id : 5431079625 Question Type : MCQ Option Shuffling : Yes Display Question Number : Yes
Single Line Question Option : No Option Orientation : Vertical Allowed Progression : Yes Number of Replay : 999 Play On Load :
No Control Enable : Yes

Correct Marks : 3 Wrong Marks : 1

Question Label : Multiple Choice Question

Which of the following schemes have been subsumed in the recently approved

Ayushman Bharat- National Health protection Mission (AB- NHPM) ?

निम्नलिखित में से कौन सी योजना हाल ही में स्वीकृत आयुष्मान भारत-राष्ट्रीय स्वास्थ्य संरक्षण मिशन (ए० बी०-एन० एच० पी० एम०) में सम्मिलित की गई है ?

Options :

Rashtriya Swasthya Bima Yojana (RSBY)

1. राष्ट्रीय स्वास्थ्य बीमा योजना (आर० एस० बी० वाई०)

Senior Citizen Health Insurance Scheme (SCHIS)

2. सीनियर सिटीजन हेल्थ इंश्योरेंस स्कीम (एस० सी० एच० आई० एस०)

National Life Insurance Scheme

3. नेशनल लाइफ इंश्योरेंस स्कीम

Rashtriya Swasthya Bima Yojana (RSBY) & Senior Citizen Health Insurance Scheme (SCHIS)

4. राष्ट्रीय स्वास्थ्य बीमा योजना (आर० एस० बी० वाई०) तथा सीनियर सिटीजन हेल्थ इंश्योरेंस स्कीम (एस० सी० एच० आई० एस०)

Question Number : 23 Question Id : 5431079626 Question Type : MCQ Option Shuffling : Yes Display Question Number : Yes
Single Line Question Option : No Option Orientation : Vertical Allowed Progression : Yes Number of Replay : 999 Play On Load :
No Control Enable : Yes

Correct Marks : 3 Wrong Marks : 1

Question Label : Multiple Choice Question

Bronze figurines that were produced in Harappan Civilization were made through, a process known as :

हड़प्पा की सभ्यता में कांस्य मूर्तियों का उत्पादन कैसे होता था :

Options :

Lost Wax Process

1. भ्रष्ट मोम प्रक्रम द्वारा

Hot Wax Process

2. गर्म मोम प्रक्रम द्वारा

Bronze Wax Process

3. कांस्य मोम प्रक्रम द्वारा

Black and Red Wax Process

4. काला एवं लाल मोम प्रक्रम द्वारा

Question Number : 24 Question Id : 5431079627 Question Type : MCQ Option Shuffling : Yes Display Question Number : Yes
Single Line Question Option : No Option Orientation : Vertical Allowed Progression : Yes Number of Replay : 999 Play On Load :
No Control Enable : Yes

Correct Marks : 3 Wrong Marks : 1

Question Label : Multiple Choice Question

The Mahatma Gandhi National Rural Employment Guarantee Act mandates at least what fraction of the beneficiaries to be women ?

महात्मा गाँधी राष्ट्रीय ग्रामीण रोजगार गारंटी ऐक्ट के अनुसार कुल लाभार्थियों में से कम से कम कितने प्रतिशत महिलाओं का होना आवश्यक है ?

Options :

1. 25%

2. 30%
3. 40%
4. 50%

Question Number : 25 Question Id : 5431079628 Question Type : MCQ Option Shuffling : Yes Display Question Number : Yes
Single Line Question Option : No Option Orientation : Vertical Allowed Progression : Yes Number of Replay : 999 Play On Load :
No Control Enable : Yes

Correct Marks : 3 Wrong Marks : 1

Question Label : Multiple Choice Question

Who among the following has written the book "Cricket My Style" ?
निम्नलिखित में से कौन 'क्रिकेट माई स्टाइल' पुस्तक का लेखक है ?

Options :

- Sunil Gavaskar
1. सुनील गावस्कर
- Anil Kumble
2. अनिल कुम्बले
- Kapil Dev
3. कपिल देव
- None of the three
4. तीनों में से कोई नहीं

Question Number : 26 Question Id : 5431079629 Question Type : MCQ Option Shuffling : Yes Display Question Number : Yes
Single Line Question Option : No Option Orientation : Vertical Allowed Progression : Yes Number of Replay : 999 Play On Load :
No Control Enable : Yes

Correct Marks : 3 Wrong Marks : 1

Question Label : Multiple Choice Question

India and World Bank on March 5, 2019 signed USD 96 million loan agreement
for financing Disaster Recovery Project of which State ?

भारत और विश्व बैंक ने 5 मार्च 2019 को किस राज्य के लिए आपदा प्रबंधन प्रोजेक्ट के लिए
96 मिलियन अमेरिकी डालर का ऋण समझौता किया है ?

Options :

- Uttarakhand
1. उत्तराखण्ड
- Himachal Pradesh
2. हिमाचल प्रदेश
- Kerala
3. केरल

Tamil Nadu

4. तमिलनाडु

Question Number : 27 Question Id : 5431079630 Question Type : MCQ Option Shuffling : Yes Display Question Number : Yes
Single Line Question Option : No Option Orientation : Vertical Allowed Progression : Yes Number of Replay : 999 Play On Load :
No Control Enable : Yes

Correct Marks : 3 Wrong Marks : 1

Question Label : Multiple Choice Question

Which technology company has launched an application called 'bolo' to tutor children to read in Hindi, English ?

किस तकनीकी कम्पनी ने बच्चों को अंग्रेजी, हिन्दी पढ़ने में मदद के लिए 'बोलो' नामक एप्लिकेशन का प्रारम्भ किया है ?

Options :

Microsoft

1. माइक्रोसॉफ्ट

Facebook

2. फेसबुक

Twitter

3. ट्वीटर

Google

4. गूगल

Question Number : 28 Question Id : 5431079631 Question Type : MCQ Option Shuffling : Yes Display Question Number : Yes
Single Line Question Option : No Option Orientation : Vertical Allowed Progression : Yes Number of Replay : 999 Play On Load :
No Control Enable : Yes

Correct Marks : 3 Wrong Marks : 1

Question Label : Multiple Choice Question

Which Ministry came up with the 'One Nation, One Card' Model to enable seamless travel by different metros and other transport system across the country besides retail shopping and purchases ?

किस मंत्रालय ने 'एक राष्ट्र-एक कार्ड' की शुरुआत की है जो विभिन्न मेट्रो एवं अन्य ट्रांसपोर्ट व्यवस्थाओं के साथ खुदरा खरीद पर निर्बाध प्रयोग किया जा सकता है :

Options :

Ministry of Housing and Urban Affair

1. शहरी विकास मंत्रालय

Ministry of Home Affairs

2. गृह मंत्रालय

Ministry of Commerce & Industry

3. वाणिज्य एवं उद्योग मंत्रालय

Ministry of Human Resource Development

4. मानव संसाधन विकास मंत्रालय

Question Number : 29 Question Id : 5431079632 Question Type : MCQ Option Shuffling : Yes Display Question Number : Yes
Single Line Question Option : No Option Orientation : Vertical Allowed Progression : Yes Number of Replay : 999 Play On Load :
No Control Enable : Yes

Correct Marks : 3 Wrong Marks : 1

Question Label : Multiple Choice Question

Telangana Movement happened in year :

तेलंगाना आन्दोलन हुआ था वर्ष :

Options :

1919

1. 1919 में

1922

2. 1922 में

1942

3. 1942 में

1946

4. 1946 में

Question Number : 30 Question Id : 5431079633 Question Type : MCQ Option Shuffling : Yes Display Question Number : Yes
Single Line Question Option : No Option Orientation : Vertical Allowed Progression : Yes Number of Replay : 999 Play On Load :
No Control Enable : Yes

Correct Marks : 3 Wrong Marks : 1

Question Label : Multiple Choice Question

Whom did Gandhiji regard as his guru in politics ?

गाँधी जी ने राजनीति में किसे अपना गुरु माना ?

Options :

Bal Gangadhar Tilak

1. बाल गंगाधर तिलक को

Gopal Krishna Gokhale

2. गोपाल कृष्ण गोखले को

Dadabhai Naoroji

3. दादा भाई नौरोजी को

Pt. Madan Mohan Malviya

4. पं० मदन मोहन मालवीय को

Section Id :	543107143
Section Number :	2
Section type :	Online
Mandatory or Optional:	Mandatory
Number of Questions:	24
Number of Questions to be attempted:	24
Section Marks:	90
Display Number Panel:	Yes
Group All Questions:	No

Sub-Section Number:	1
Sub-Section Id:	543107186
Question Shuffling Allowed :	Yes

Question Number : 31 Question Id : 5431079634 Question Type : MCQ Option Shuffling : Yes Display Question Number : Yes
Single Line Question Option : No Option Orientation : Vertical Allowed Progression : Yes Number of Replay : 999 Play On Load :
No Control Enable : Yes

Correct Marks : 3 Wrong Marks : 1

Question Label : Multiple Choice Question

If 'air' is called 'green', 'green' is called 'red', 'red' is called 'sea', 'sea' is called 'blue,' blue' is called 'water', and 'water' is called 'pink', then what is the color of grass ?

यदि 'हवा' को 'हरा' कहा जाता है, 'हरा' को 'लाल' कहा जाता है, 'लाल' को 'समुद्र' कहा जाता है, समुद्र को नीला कहा जाता है, 'नीला' को 'पानी' कहा जाता है तथा 'पानी' को गुलाबी कहा जाता है, तब 'घास' का रंग क्या है ?

Options :

Green

1. हरा

Air

2. हवा

Red

3. लाल

Pink

4. गुलाबी

Question Number : 32 Question Id : 5431079635 Question Type : MCQ Option Shuffling : Yes Display Question Number : Yes
Single Line Question Option : No Option Orientation : Vertical Allowed Progression : Yes Number of Replay : 999 Play On Load :
No Control Enable : Yes

Correct Marks : 3 Wrong Marks : 1

Question Label : Multiple Choice Question

Choose the word which is not similar to the other words in the group :

शब्द चुनिए जो समूह में अन्य शब्दों के समान नहीं है :

Options :

Peas

1. मटर

Cabbage

2. बंदगोभी

Spinach

3. पालक

Tomato

4. टमाटर

Question Number : 33 Question Id : 5431079636 Question Type : MCQ Option Shuffling : Yes Display Question Number : Yes
Single Line Question Option : No Option Orientation : Vertical Allowed Progression : Yes Number of Replay : 999 Play On Load :
No Control Enable : Yes

Correct Marks : 3 Wrong Marks : 1

Question Label : Multiple Choice Question

Solve the following question and choose the correct option :

1, 2, 3, 4 and 5 are sitting in row but not necessarily in that order.

All of them are sitting in a row with their backs towards North.

3 is immediate right to 5 and 4 is immediate left to 1. Only 2 is between 1 and 5.

Which of the following are at the extreme ends ?

निम्न प्रश्न को हल कीजिए तथा सही विकल्प चुनिए :

1, 2, 3, 4 एवं 5 पंक्ति में बैठे हैं लेकिन आवश्यक नहीं है कि क्रम में हों।

ये सभी उत्तर की तरफ अपनी पीठ करके पंक्ति में बैठे हैं।

3, 5 के बिल्कुल दायें हैं तथा 4, 1 के बिल्कुल बायें हैं। केवल 2, 1 एवं 5 के बीच में है।

निम्न में से कौन किनारों पर हैं ?

Options :

1. 3, 4

2. 2, 5

3. 2, 1

4. 4, 5

Question Number : 34 Question Id : 5431079637 Question Type : MCQ Option Shuffling : Yes Display Question Number : Yes
Single Line Question Option : No Option Orientation : Vertical Allowed Progression : Yes Number of Replay : 999 Play On Load :
No Control Enable : Yes

Correct Marks : 3 Wrong Marks : 1

Question Label : Multiple Choice Question

In the question below is given a statement followed by two conclusions numbered I and II.

Statement : All Men are mortal.

Conclusion : (I) All must die one day.

(II) Death can come at any place, any time.

नीचे दिये गये प्रश्न में कथन दिया गया है जिसके बाद दो निष्कर्ष संख्या I एवं II आता है।

कथन : सभी मनुष्य मरणशील हैं।

निष्कर्ष : (I) एक दिन सभी को अवश्य मरना है।

(II) मृत्यु किसी स्थान पर किसी समय आ सकती है।

Choose *correct* conclusion of the statement :

कथन का **सही** निष्कर्ष चुनें।

Options :

only I

1. केवल I

only II

2. केवल II

either I or II

3. या तो I या II

both I and II

4. I एवं II दोनों

Question Number : 35 Question Id : 5431079638 Question Type : MCQ Option Shuffling : Yes Display Question Number : Yes
Single Line Question Option : No Option Orientation : Vertical Allowed Progression : Yes Number of Replay : 999 Play On Load :
No Control Enable : Yes

Correct Marks : 3 Wrong Marks : 1

Question Label : Multiple Choice Question

Aman runs towards North for 10 m, turns left and runs another 20 m. He turns right and walks slowly for 10 m. Then he again turns right, walks another 50 m and stops. In which direction is he with respect to his initial position ?

अमन 10 मी० उत्तर की ओर दौड़ता है, बायें मुड़ता है तथा 20 मी० और दौड़ता है। वह दायें मुड़ता है तथा 10 मी० धीरे-धीरे चलता है। तत्पश्चात वह पुनः दायें मुड़ता है, 50 मी० और चलता है तथा रुकता है। वह आरंभिक स्थिति से किस दिशा में है ?

Options :

South- East

1. दक्षिण-पूर्व

- North -East
2. उत्तर-पूर्व
- North- West
3. उत्तर-पश्चिम
- South - West
4. दक्षिण-पश्चिम

Question Number : 36 Question Id : 5431079639 Question Type : MCQ Option Shuffling : Yes Display Question Number : Yes
Single Line Question Option : No Option Orientation : Vertical Allowed Progression : Yes Number of Replay : 999 Play On Load :
No Control Enable : Yes

Correct Marks : 3 Wrong Marks : 1

Question Label : Multiple Choice Question

Pointing to an old woman, Aryan said " Her son is my son's uncle". How is Aryan related to old woman ?

एक वृद्धमहिला की ओर इशारा करते हुए आर्यन ने कहा, "इसका पुत्र मेरे पुत्र का चाचा है।" आर्यन का वृद्धमहिला से कैसा संबंध है ?

Options :

- Mother
1. माँ
- Sister
2. बहन
- Son
3. पुत्र
- Daughter
4. पुत्री

Question Number : 37 Question Id : 5431079640 Question Type : MCQ Option Shuffling : Yes Display Question Number : Yes
Single Line Question Option : No Option Orientation : Vertical Allowed Progression : Yes Number of Replay : 999 Play On Load :
No Control Enable : Yes

Correct Marks : 3 Wrong Marks : 1

Question Label : Multiple Choice Question

Fear : Threat :: Anger : ?

भय : धमकी :: क्रोध : ?

Options :

- Compulsion
1. मजबूरी
- Panic
2. भय

Provocation

3. प्रकोपन

Force

4. बल

Question Number : 38 Question Id : 5431079641 Question Type : MCQ Option Shuffling : Yes Display Question Number : Yes
Single Line Question Option : No Option Orientation : Vertical Allowed Progression : Yes Number of Replay : 999 Play On Load :
No Control Enable : Yes

Correct Marks : 3 Wrong Marks : 1

Question Label : Multiple Choice Question

Pointing to a Photograph, a man said , " I have no brother or sister but that man's father is my father 's son." Whose photograph was it ?

फोटोग्राफ की ओर इशारा करते हुए एक व्यक्ति ने कहा, "मेरे न तो भाई न ही बहन हैं लेकिन इस व्यक्ति का पिता मेरे पिता का पुत्र है।" यह किसका फोटोग्राफ है ?

Options :

His Son

1. उसका पुत्र

His own

2. इसका अपना

His Father

3. उसका पिता

His Grandfather

4. उसका दादा

Question Number : 39 Question Id : 5431079642 Question Type : MCQ Option Shuffling : Yes Display Question Number : Yes
Single Line Question Option : No Option Orientation : Vertical Allowed Progression : Yes Number of Replay : 999 Play On Load :
No Control Enable : Yes

Correct Marks : 3 Wrong Marks : 1

Question Label : Multiple Choice Question

Choose the word which is least like the other words :

शब्द चुनिए जो अन्य शब्दों से कम से कम मिलता है :

Options :

Hostel

1. छात्रावास

Inn

2. सराय

Hotel

3. होटल

Club

4. क्लब

Question Number : 40 Question Id : 5431079643 Question Type : MCQ Option Shuffling : Yes Display Question Number : Yes
Single Line Question Option : No Option Orientation : Vertical Allowed Progression : Yes Number of Replay : 999 Play On Load :
No Control Enable : Yes

Correct Marks : 3 Wrong Marks : 1

Question Label : Multiple Choice Question

In a certain language, MADRAS is coded as NBESBT, how is BOMBAY coded in that code ?

कतिपय भाषा में MADRAS, NBESBT के रूप में कोड किया गया है इस कोड के अनुसार BOMBAY कैसे कोड किया जायेगा ?

Options :

1. CPNCBZ
2. CPNCBX
3. DPNCBZ
4. DPNCBX

Question Number : 41 Question Id : 5431079644 Question Type : MCQ Option Shuffling : Yes Display Question Number : Yes
Single Line Question Option : No Option Orientation : Vertical Allowed Progression : Yes Number of Replay : 999 Play On Load :
No Control Enable : Yes

Correct Marks : 3 Wrong Marks : 1

Question Label : Multiple Choice Question

A man is facing west. He turns 45 degrees in the clockwise direction and then another 180 degrees in the same direction and then 270 degrees in the anticlockwise direction. Find which direction he is facing now ?

एक व्यक्ति पश्चिम की ओर मुँह करके खड़ा है। वह दक्षिणावर्त दिशा में 45 डिग्री मुड़ता है तथा तत्पश्चात इसी दिशा में 180 डिग्री और मुड़ता है एवं इसके बाद बामावर्त दिशा में 270 डिग्री मुड़ता है। ज्ञात कीजिए कि किस दिशा में वह अब सामने खड़ा है ?

Options :

- South-West
1. दक्षिण-पश्चिम
- West
2. पश्चिम
- South
3. दक्षिण
- East-South
4. पूर्व-दक्षिण

Question Number : 42 Question Id : 5431079645 Question Type : MCQ Option Shuffling : Yes Display Question Number : Yes
Single Line Question Option : No Option Orientation : Vertical Allowed Progression : Yes Number of Replay : 999 Play On Load :
No Control Enable : Yes

Correct Marks : 3 Wrong Marks : 1

Question Label : Multiple Choice Question

Which is in ascending order ?

कौन आरोही क्रम है ?

Options :

1. $2/3, 9/11, 7/9, 8/9$

2. $2/3, 7/9, 9/11, 8/9$

3. $9/11, 8/9, 2/3, 7/9$

4. $7/9, 2/3, 9/11, 8/9$

Question Number : 43 Question Id : 5431079646 Question Type : MCQ Option Shuffling : Yes Display Question Number : Yes
Single Line Question Option : No Option Orientation : Vertical Allowed Progression : Yes Number of Replay : 999 Play On Load :
No Control Enable : Yes

Correct Marks : 3 Wrong Marks : 1

Question Label : Multiple Choice Question

Find out the pair in which the words bear the same relationship to each other as similar to the words of the given pair bears.

उस जोड़ी (Pair) का पता लगाइए, जिसमें शब्द एक-दूसरे से वही समान संबंध रखते हैं, जो दिए गए जोड़े के शब्दों के समान हैं।

Horse : Hoof

घोड़ा : खुर

Options :

Man : Foot

1. आदमी : पैर

Dog : Black

2. कुत्ता : काला

Paise : Rupee

3. पैसे : रुपया

Pen : Pencil

4. पेन : पेन्सिल

Question Number : 44 Question Id : 5431079647 Question Type : MCQ Option Shuffling : Yes Display Question Number : Yes
Single Line Question Option : No Option Orientation : Vertical Allowed Progression : Yes Number of Replay : 999 Play On Load :
No Control Enable : Yes

Correct Marks : 3 Wrong Marks : 1

Question Label : Multiple Choice Question

Find the odd group of letters :

अक्षरों का विषम समूह ज्ञात कीजिए :

Options :

1. AOE
2. EUI
3. OUT
4. IEM

Question Number : 45 Question Id : 5431079648 Question Type : MCQ Option Shuffling : Yes Display Question Number : Yes
Single Line Question Option : No Option Orientation : Vertical Allowed Progression : Yes Number of Replay : 999 Play On Load :
No Control Enable : Yes

Correct Marks : 3 Wrong Marks : 1

Question Label : Multiple Choice Question

How many 4's are there in the series which comes between two 5's ?

श्रृंखला में कितने 4 हैं जो दो 5 के बीच आता है ?

3, 4, 4, 5, 4, 5, 4, 2, 1, 4, 5, 4, 5, 7, 4, 5, 4, 5

Options :

1. 4
2. 5
3. 6
4. 3

Question Number : 46 Question Id : 5431079649 Question Type : MCQ Option Shuffling : Yes Display Question Number : Yes
Single Line Question Option : No Option Orientation : Vertical Allowed Progression : Yes Number of Replay : 999 Play On Load :
No Control Enable : Yes

Correct Marks : 3 Wrong Marks : 1

Question Label : Multiple Choice Question

Arrange the given words in meaningful sequence and choose the correct sequence from the given alternatives.

(a) Elephant (b) Cat (c) Mosquito (d) Tiger
(e) Whale

दिए गए शब्दों को सार्थक क्रम में व्यवस्थित करें और दिए गए विकल्पों में से सही क्रम चुनें :

(a) हाथी (b) बिल्ली (c) मच्छर (d) बाघ
(e) व्हेल

Options :

1. (a), (c), (e), (d), (b)
2. (b), (e), (a), (d), (c)

3. (c), (b), (d), (a), (e)

4. (e), (c), (a), (b), (d)

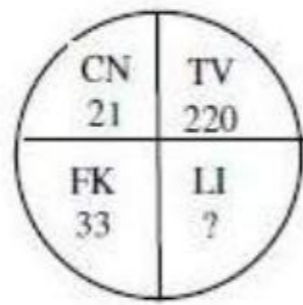
Question Number : 47 Question Id : 5431079650 Question Type : MCQ Option Shuffling : Yes Display Question Number : Yes
Single Line Question Option : No Option Orientation : Vertical Allowed Progression : Yes Number of Replay : 999 Play On Load :
No Control Enable : Yes

Correct Marks : 3 Wrong Marks : 1

Question Label : Multiple Choice Question

In the following question, which character when placed at the sign (?) shall complete the given pattern :

इस प्रश्न में, कौन-सा विकल्प वर्ण (?) दिए गए पैटर्न को पूरा करेगा ?



Options :

1. 54

2. 58

3. 65

4. 85

Question Number : 48 Question Id : 5431079651 Question Type : MCQ Option Shuffling : Yes Display Question Number : Yes
Single Line Question Option : No Option Orientation : Vertical Allowed Progression : Yes Number of Replay : 999 Play On Load :
No Control Enable : Yes

Correct Marks : 3 Wrong Marks : 1

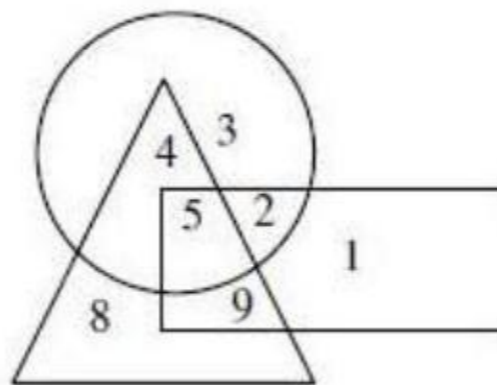
Question Label : Multiple Choice Question

In the following diagram :

What are the number that lie inside any two figures ?

निम्नलिखित चित्र में :

वे कौन सी संख्याएँ हैं जो किसी भी दो आकृतियों के अन्दर स्थित हैं ?



Options :

1. 5, 1
2. 4, 3, 1
3. 8, 3
4. 4, 9, 2

Question Number : 49 Question Id : 5431079652 Question Type : MCQ Option Shuffling : Yes Display Question Number : Yes
Single Line Question Option : No Option Orientation : Vertical Allowed Progression : Yes Number of Replay : 999 Play On Load :
No Control Enable : Yes

Correct Marks : 3 Wrong Marks : 1

Question Label : Multiple Choice Question

From 1 'O' clock afternoon upto 10 'O' clock in the night how many times the hands of a clock will be at right angle :

दोपहर 1 बजे से रात 10 बजे तक, घड़ी की सुईयाँ (hands) कितने बार सम कोण (right angle) पर होगी :

Options :

- 9 time
1. 9 बार
- 10 times
2. 10 बार
- 18 times
3. 18 बार
- 20 times
4. 20 बार

Question Number : 50 Question Id : 5431079653 Question Type : MCQ Option Shuffling : Yes Display Question Number : Yes
Single Line Question Option : No Option Orientation : Vertical Allowed Progression : Yes Number of Replay : 999 Play On Load :
No Control Enable : Yes

Correct Marks : 3 Wrong Marks : 1

Question Label : Multiple Choice Question

If 5th January, 1991 was saturday, then what day of the week was it on 4th March 1992 ?

यदि 5 जनवरी 1991 को शनिवार था, तो 4 मार्च 1992 को सप्ताह का कौन-सा दिन था ?

Options :

- Monday
1. सोमवार
- Wednesday
2. बुधवार

Friday

3. शुक्रवार

Sunday

4. रविवार

Question Number : 51 Question Id : 5431079654 Question Type : MCQ Option Shuffling : Yes Display Question Number : Yes
Single Line Question Option : No Option Orientation : Vertical Allowed Progression : Yes Number of Replay : 999 Play On Load :
No Control Enable : Yes

Correct Marks : 3 Wrong Marks : 1

Question Label : Multiple Choice Question

Read the following information :

- (I) A, B, C, D, E, F, G and H are sitting in a row facing North.
- (II) A is fourth to the right of E
- (III) H is fourth to the left of D
- (IV) C and F, who are not at the ends, are neighbours of B and E, respectively
- (V) H is next to the left of A and A is the neighbour of B

Then what is position of F ?

निम्नलिखित जानकारी पढ़ें :

- (I) A, B, C, D, E, F, G और H उत्तर की ओर एक पंक्ति में बैठे हैं।
- (II) A, E के दाईं ओर चौथा है।
- (III) H, D के बायीं ओर चौथा है।
- (IV) C और F, जो छोर पर नहीं हैं, क्रमशः B और E के पड़ोसी हैं।
- (V) H, A के बायीं ओर है और A, B का पड़ोसी है।

तो F की स्थिति क्या है ?

Options :

Next to the right of E

1. E के दायीं ओर

Next to the right of G

2. G के ठीक दायीं ओर

Sixth to the right of D

3. D के दायीं ओर छठाँ

Between G and H.

4. G और H के बीच

Sub-Section Number: 2
Sub-Section Id: 543107187
Question Shuffling Allowed : Yes

Question Id : 5431079655 Question Type : COMPREHENSION Sub Question Shuffling Allowed : Yes Group Comprehension Questions : No Allowed Progression : Yes Number of Replay : 999 Play On Load : No Control Enable : Yes

Question Numbers : (52 to 54)

Question Label : Comprehension

Read following statements carefully and answer the questions :

Out of four friends A, B, C and D :

- (I) A and B play football and cricket
- (II) B and C play cricket and hockey
- (III) A and D play basketball and football
- (IV) C and D play hockey and basketball

निम्नलिखित कथनों का ध्यानपूर्वक अध्ययन करें और प्रश्न का उत्तर दीजिए :
चार दोस्तों A, B, C और D में से :

- (I) A और B फुटबाल और क्रिकेट खेलते हैं।
- (II) B और C क्रिकेट और हॉकी खेलते हैं।
- (III) A और D बास्केटबाल और फुटबाल खेलते हैं।
- (IV) C और D हॉकी और बास्केटबाल खेलते हैं।

Sub questions

Question Number : 52 Question Id : 5431079656 Question Type : MCQ Option Shuffling : Yes Display Question Number : Yes
Single Line Question Option : No Option Orientation : Vertical Allowed Progression : Yes Number of Replay : 999 Play On Load : No Control Enable : Yes

Correct Marks : 3 Wrong Marks : 1

Question Label : Multiple Choice Question

Who does not play hockey ?

इनमें से कौन हॉकी नहीं खेलता है ?

Options :

1. D
2. C
3. B

4. A

Question Number : 53 Question Id : 5431079657 Question Type : MCQ Option Shuffling : Yes Display Question Number : Yes
Single Line Question Option : No Option Orientation : Vertical Allowed Progression : Yes Number of Replay : 999 Play On Load :
No Control Enable : Yes

Correct Marks : 3 Wrong Marks : 1

Question Label : Multiple Choice Question

Who plays football, Basket ball and hockey ?

इनमें से कौन फुटबाल, बास्केटबाल और हॉकी खेलता है ?

Options :

1. D

2. C

3. B

4. A

Question Number : 54 Question Id : 5431079658 Question Type : MCQ Option Shuffling : Yes Display Question Number : Yes
Single Line Question Option : No Option Orientation : Vertical Allowed Progression : Yes Number of Replay : 999 Play On Load :
No Control Enable : Yes

Correct Marks : 3 Wrong Marks : 1

Question Label : Multiple Choice Question

Which game do B, C and D play ?

कौन-सा खेल B, C और D खेलते हैं ?

Options :

Basketball

1. बास्केटबाल

Hockey

2. हॉकी

Cricket

3. क्रिकेट

Football

4. फुटबाल

Sub-Section Number: 3
Sub-Section Id: 543107188
Question Shuffling Allowed : Yes

Question Id : 5431079659 Question Type : COMPREHENSION Sub Question Shuffling Allowed : Yes Group Comprehension
Questions : No Allowed Progression : Yes Number of Replay : 999 Play On Load : No Control Enable : Yes

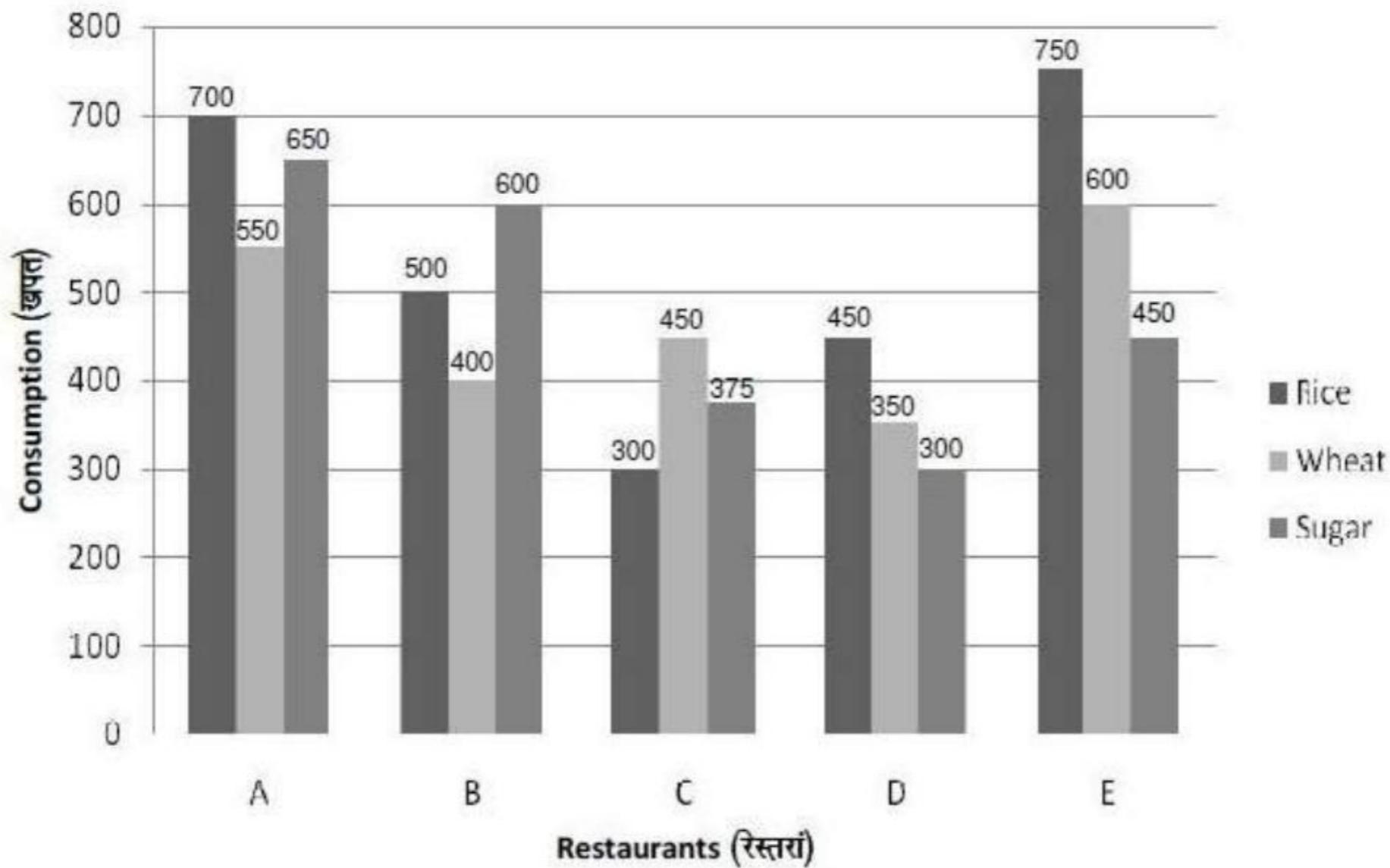
Question Numbers : (55 to 57)

Question Label : Comprehension

Study the following graph carefully and answer the questions that follow :
Amount of Rice, Wheat and Sugar Consumed by various restaurants over a year :

निम्नलिखित ग्राफ का सावधानीपूर्वक अध्ययन कीजिए तथा प्रश्नों के उत्तर दीजिए।

एक वर्ष के दौरान विभिन्न रेस्तरां के द्वारा खपत किये गये चावल, गेहूँ एवं चीनी की मात्रा :



Sub questions

Question Number : 55 Question Id : 5431079660 Question Type : MCQ Option Shuffling : Yes Display Question Number : Yes
Single Line Question Option : No Option Orientation : Vertical Allowed Progression : Yes Number of Replay : 999 Play On Load :
No Control Enable : Yes

Correct Marks : 3 Wrong Marks : 1

Question Label : Multiple Choice Question

What is the respective ratio of the amount of Rice, Wheat and Sugar consumed by restaurant D to the same consumed by restaurant B ?

रेस्तरां B एवं D द्वारा खपत किया जाने वाले चावल, गेहूँ और चीनी की मात्रा का संबंधित अनुपात क्या है ?

Options :

1. 13 : 17
2. 11 : 15
3. 9 : 14
4. 7 : 11

Question Number : 56 Question Id : 5431079661 Question Type : MCQ Option Shuffling : Yes Display Question Number : Yes
Single Line Question Option : No Option Orientation : Vertical Allowed Progression : Yes Number of Replay : 999 Play On Load :
No Control Enable : Yes

Correct Marks : 3 Wrong Marks : 1

Question Label : Multiple Choice Question

What is the average amount of Rice, Wheat and Sugar consumed by per restaurant ?

प्रति रेस्तरां द्वारा ग्रहण किये जाने वाले (उपभोग) चावल, गेहूँ और चीनी की औसत मात्रा क्या है ?

Options :

1. 1345
2. 1315
3. 1425
4. 1485

Question Number : 57 Question Id : 5431079662 Question Type : MCQ Option Shuffling : Yes Display Question Number : Yes
Single Line Question Option : No Option Orientation : Vertical Allowed Progression : Yes Number of Replay : 999 Play On Load :
No Control Enable : Yes

Correct Marks : 3 Wrong Marks : 1

Question Label : Multiple Choice Question

Sugar consumed by restaurant C is approximately what percent of rice and wheat consumed by restaurant A ?

रेस्तरां C द्वारा उपभोग की जाने वाली चीनी, रेस्तरां A द्वारा लगभग कितने प्रतिशत चावल और गेहूँ की खपत है ?

Options :

1. 30%
2. 25%
3. 35%
4. 40%

Sub-Section Number: 4
Sub-Section Id: 543107189
Question Shuffling Allowed : Yes

Question Id : 5431079663 Question Type : COMPREHENSION Sub Question Shuffling Allowed : Yes Group Comprehension
Questions : No Allowed Progression : Yes Number of Replay : 999 Play On Load : No Control Enable : Yes

Question Numbers : (58 to 60)

Question Label : Comprehension

Study the following table carefully to answer the questions that follows :

Number of Article (in thousands) Manufactured (M) and Defective (D) by 5 units of a company over the years :

निम्नलिखित सारणी का सावधानीपूर्वक अध्ययन कीजिए तथा प्रश्नों के उत्तर दीजिए :

एक कम्पनी की 5 इकाईयों के द्वारा एक वर्ष के दौरान निर्मित (M) एवं डिफेक्टिव (D) इकाईयों की संख्या (हजार में) :

Unit

Year	I		II		III		IV		V	
	M	D	M	D	M	D	M	D	M	D
2013	63	11	55	07	86	28	66	11	56	8
2014	59	08	42	10	55	14	73	14	46	11
2015	60	08	58	8	65	6	78	20	44	5
2016	75	10	78	5	67	10	64	9	58	3
2017	80	21	82	3	92	12	58	17	68	10
2018	54	05	66	12	48	22	50	5	70	11

Sub questions

Question Number : 58 Question Id : 5431079664 Question Type : MCQ Option Shuffling : Yes Display Question Number : Yes
Single Line Question Option : No Option Orientation : Vertical Allowed Progression : Yes Number of Replay : 999 Play On Load :
No Control Enable : Yes

Correct Marks : 3 Wrong Marks : 1

Question Label : Multiple Choice Question

During which year the largest percentage of articles were defective out of the article manufactured by unit III ?

इकाई III द्वारा निर्मित आर्टिकल में से डिफेक्टिव आर्टिकल का सबसे बड़ा प्रतिशत किस वर्ष के दौरान था ?

Options :

1. 2014
2. 2016
3. 2018
4. 2013

Question Number : 59 Question Id : 5431079665 Question Type : MCQ Option Shuffling : Yes Display Question Number : Yes
Single Line Question Option : No Option Orientation : Vertical Allowed Progression : Yes Number of Replay : 999 Play On Load :
No Control Enable : Yes

Correct Marks : 3 Wrong Marks : 1

Question Label : Multiple Choice Question

What was the percentage of defective articles over the number of articles manufactured by all units together in the year 2017 ?

वर्ष 2017 में सभी इकाइयों द्वारा कुल निर्मित आर्टिकल की संख्या पर डिफेक्टिव आर्टिकल का प्रतिशत क्या था ?

Options :

1. $16\frac{9}{19}\%$

2. $16\frac{11}{19}\%$

3. $15\frac{11}{17}\%$

4. $12\frac{9}{17}\%$

Question Number : 60 Question Id : 5431079666 Question Type : MCQ Option Shuffling : Yes Display Question Number : Yes
Single Line Question Option : No Option Orientation : Vertical Allowed Progression : Yes Number of Replay : 999 Play On Load :
No Control Enable : Yes

Correct Marks : 3 Wrong Marks : 1

Question Label : Multiple Choice Question

During which year was the percentage increase/ decrease in manufactured from the previous year the highest for unit II ?

किस वर्ष के दौरान, यूनिट II के लिए पिछले वर्षों में निर्मित प्रतिशत वृद्धि/कमी अधिकतम थी ?

Options :

1. 2013

2. 2014

3. 2015

4. 2016

Sec III Quantitative Ability

Section Id :	543107144
Section Number :	3
Section type :	Online
Mandatory or Optional:	Mandatory
Number of Questions:	30
Number of Questions to be attempted:	30
Section Marks:	90
Display Number Panel:	Yes
Group All Questions:	No

Sub-Section Number: 1
Sub-Section Id: 543107190
Question Shuffling Allowed : Yes

Question Number : 61 Question Id : 5431079667 Question Type : MCQ Option Shuffling : Yes Display Question Number : Yes
Single Line Question Option : No Option Orientation : Vertical Allowed Progression : Yes Number of Replay : 999 Play On Load :
No Control Enable : Yes

Correct Marks : 3 Wrong Marks : 1

Question Label : Multiple Choice Question

$$2 + 2 - 2 \times 2 \div 2 = ?$$

Options :

1. 0
2. 1
3. 2
4. 4

Question Number : 62 Question Id : 5431079668 Question Type : MCQ Option Shuffling : Yes Display Question Number : Yes
Single Line Question Option : No Option Orientation : Vertical Allowed Progression : Yes Number of Replay : 999 Play On Load :
No Control Enable : Yes

Correct Marks : 3 Wrong Marks : 1

Question Label : Multiple Choice Question

$$\text{If } \frac{x}{2} + 4 = \frac{7}{2} \text{ then } x = ?$$

$$\text{यदि } \frac{x}{2} + 4 = \frac{7}{2} \text{ तब } x = ?$$

Options :

1. -2
2. -1
3. 1
4. 2

Question Number : 63 Question Id : 5431079669 Question Type : MCQ Option Shuffling : Yes Display Question Number : Yes
Single Line Question Option : No Option Orientation : Vertical Allowed Progression : Yes Number of Replay : 999 Play On Load :
No Control Enable : Yes

Correct Marks : 3 Wrong Marks : 1

Question Label : Multiple Choice Question

$$0.003 \times 0.0004 = ?$$

Options :

1. 0.0012
2. 0.00012

3. 0.0000012

4. 0.000012

Question Number : 64 Question Id : 5431079670 Question Type : MCQ Option Shuffling : Yes Display Question Number : Yes
Single Line Question Option : No Option Orientation : Vertical Allowed Progression : Yes Number of Replay : 999 Play On Load :
No Control Enable : Yes

Correct Marks : 3 Wrong Marks : 1

Question Label : Multiple Choice Question

If $a = b$ and $b = c$, then $a = c$. This property is called :

यदि $a = b$ तथा $b = c$ तब $a = c$ । इस गुण को कहा जाता है :

Options :

Reflexive

1. निजवाचक

Transitive

2. संक्रामक

Trichotomy

3. विभाजन

Symmetric

4. सममित

Question Number : 65 Question Id : 5431079671 Question Type : MCQ Option Shuffling : Yes Display Question Number : Yes
Single Line Question Option : No Option Orientation : Vertical Allowed Progression : Yes Number of Replay : 999 Play On Load :
No Control Enable : Yes

Correct Marks : 3 Wrong Marks : 1

Question Label : Multiple Choice Question

$7! = ?$

Options :

1. 70

2. 120

3. 720

4. 5040

Question Number : 66 Question Id : 5431079672 Question Type : MCQ Option Shuffling : Yes Display Question Number : Yes
Single Line Question Option : No Option Orientation : Vertical Allowed Progression : Yes Number of Replay : 999 Play On Load :
No Control Enable : Yes

Correct Marks : 3 Wrong Marks : 1

Question Label : Multiple Choice Question

What is the least common multiple (LCM) of the numbers 90, 60, 75, and 35 ?

संख्याओं 90, 60, 75 एवं 35 का लघुत्तम समापवर्तक क्या है ?

Options :

1. 2700
2. 6300
3. 4250
4. 2750

Question Number : 67 Question Id : 5431079673 Question Type : MCQ Option Shuffling : Yes Display Question Number : Yes
Single Line Question Option : No Option Orientation : Vertical Allowed Progression : Yes Number of Replay : 999 Play On Load :
No Control Enable : Yes

Correct Marks : 3 Wrong Marks : 1

Question Label : Multiple Choice Question

How many seconds does Puja take to cover a distance of 500 m, if she runs at a speed of 30 km/hr ?

500 मी० की दूरी को पूरा करने के लिए पूजा कितना सेकेण्ड लेगी यदि वह 30 किमी/घंटा की गति से दौड़ती है ?

Options :

1. 60 sec.
1. 60 सेकेण्ड
2. 82 sec.
2. 82 सेकेण्ड
3. 95 sec.
3. 95 सेकेण्ड
4. 100 sec.
4. 100 सेकेण्ड

Question Number : 68 Question Id : 5431079674 Question Type : MCQ Option Shuffling : Yes Display Question Number : Yes
Single Line Question Option : No Option Orientation : Vertical Allowed Progression : Yes Number of Replay : 999 Play On Load :
No Control Enable : Yes

Correct Marks : 3 Wrong Marks : 1

Question Label : Multiple Choice Question

Find the HCF of 54 , 288, 360

54 , 288, 360 का महत्तम समापवर्तक ज्ञात कीजिए :

Options :

1. 18
2. 36
3. 54

4. 108

Question Number : 69 Question Id : 5431079675 Question Type : MCQ Option Shuffling : Yes Display Question Number : Yes
Single Line Question Option : No Option Orientation : Vertical Allowed Progression : Yes Number of Replay : 999 Play On Load :
No Control Enable : Yes

Correct Marks : 3 Wrong Marks : 1

Question Label : Multiple Choice Question

$$100 + 50 \times 2 = ?$$

Options :

1. 200

2. 150

3. 100

4. 300

Question Number : 70 Question Id : 5431079676 Question Type : MCQ Option Shuffling : Yes Display Question Number : Yes
Single Line Question Option : No Option Orientation : Vertical Allowed Progression : Yes Number of Replay : 999 Play On Load :
No Control Enable : Yes

Correct Marks : 3 Wrong Marks : 1

Question Label : Multiple Choice Question

Find the number, when 15 is subtracted from 7 times the number, the result is 10 more than twice of the number :

संख्या ज्ञात कीजिए जब 15 को संख्या के 7 गुने से घटाया जाता है, परिणाम संख्या के दोगुने से 10 अधिक होता है :

Options :

1. 5

2. 15

3. 7.5

4. 4

Question Number : 71 Question Id : 5431079677 Question Type : MCQ Option Shuffling : Yes Display Question Number : Yes
Single Line Question Option : No Option Orientation : Vertical Allowed Progression : Yes Number of Replay : 999 Play On Load :
No Control Enable : Yes

Correct Marks : 3 Wrong Marks : 1

Question Label : Multiple Choice Question

A man buys an article for Rs. 27.50 and sells it for Rs. 28.60. Find his gain percentage.

एक व्यक्ति एक सामान रु० 27.50 में खरीदता है तथा इसे रु० 28.60 में बेचता है। लाभ प्रतिशत ज्ञात कीजिए :

Options :

1. 1%

2. 2%

3. 3%

4. 4%

Question Number : 72 Question Id : 5431079678 Question Type : MCQ Option Shuffling : Yes Display Question Number : Yes
Single Line Question Option : No Option Orientation : Vertical Allowed Progression : Yes Number of Replay : 999 Play On Load :
No Control Enable : Yes

Correct Marks : 3 Wrong Marks : 1

Question Label : Multiple Choice Question

The difference of the place value and the face value of the digit 2 in 3124698 is :

3124698 में अंक 2 के प्लेस मूल्य एवम् फेस मूल्य का अन्तर है :

Options :

1. 19998

2. 16668

3. 18888

4. 17778

Question Number : 73 Question Id : 5431079679 Question Type : MCQ Option Shuffling : Yes Display Question Number : Yes
Single Line Question Option : No Option Orientation : Vertical Allowed Progression : Yes Number of Replay : 999 Play On Load :
No Control Enable : Yes

Correct Marks : 3 Wrong Marks : 1

Question Label : Multiple Choice Question

Mahendra bought 20 dining tables for Rs. 12,000 and sold them at a profit equal to the selling price of 4 dining tables, the selling price of 1 table is :

महेन्द्र 20 भोजन मेजों को रु० 12,000 में खरीदकर उसे 4 भोजन मेजों के विक्रय मूल्य के बराबर लाभ लेकर बेच दिया, अतः 1 भोजन मेज का मूल्य है :

Options :

Rs. 550

1. रु० 550

Rs. 650

2. रु० 650

Rs. 750

3. रु० 750

Rs. 850

4. रु० 850

Question Number : 74 Question Id : 5431079680 Question Type : MCQ Option Shuffling : Yes Display Question Number : Yes
Single Line Question Option : No Option Orientation : Vertical Allowed Progression : Yes Number of Replay : 999 Play On Load :
No Control Enable : Yes

Correct Marks : 3 Wrong Marks : 1

Question Label : Multiple Choice Question

If H.C.F. of (65, 117) is expressed in the form $65m + 117n$, then the value of m is :

यदि (65, 117) के H.C.F. को $65m + 117n$ के रूप में व्यक्त किया गया है, तो m का मान है :

Options :

1. 1
2. 2
3. 3
4. 4

Question Number : 75 Question Id : 5431079681 Question Type : MCQ Option Shuffling : Yes Display Question Number : Yes
Single Line Question Option : No Option Orientation : Vertical Allowed Progression : Yes Number of Replay : 999 Play On Load :
No Control Enable : Yes

Correct Marks : 3 Wrong Marks : 1

Question Label : Multiple Choice Question

A tank can be filled by two taps A and B in 12 hours separately. The full tank can be emptied by a third tap in 8 hours. If all the taps be turned on at the same time, then the time taken to fill completely the empty tank will be :

यदि एक टंकी को दो नलों A और B के द्वारा अलग-अलग 12 घंटे में भरा जा सकता है, तथा एक तीसरे नल द्वारा उसे 8 घंटों में खाली किया जा सकता है, तो सभी नलों को एक साथ खोलने पर टंकी पूरी तरह भर जायेगा :

Options :

1. 24 hours
24 घंटा
2. 48 hours
48 घंटा
3. 38 hours
38 घंटा
4. 35 hours
35 घंटा

Question Number : 76 Question Id : 5431079682 Question Type : MCQ Option Shuffling : Yes Display Question Number : Yes
Single Line Question Option : No Option Orientation : Vertical Allowed Progression : Yes Number of Replay : 999 Play On Load :
No Control Enable : Yes

Correct Marks : 3 Wrong Marks : 1

Question Label : Multiple Choice Question

x is 5% of y , y is 24 % of z . If $x = 480$, then the value of y and z are :

y का 5% x तथा z का 24% y है। यदि $x = 480$, तो y तथा z का मान है :

Options :

1. $y = 9000, z = 30000$
2. $y = 9600, z = 40000$
3. $y = 8000, z = 25000$
4. $y = 7600, z = 20000$

Question Number : 77 Question Id : 5431079683 Question Type : MCQ Option Shuffling : Yes Display Question Number : Yes
Single Line Question Option : No Option Orientation : Vertical Allowed Progression : Yes Number of Replay : 999 Play On Load :
No Control Enable : Yes

Correct Marks : 3 Wrong Marks : 1

Question Label : Multiple Choice Question

The number of selections of four letters from the letters of the word ASSASSINATION is :

ASSASSINATION शब्द के अक्षरों से 4 अक्षरों के चुनावों की संख्या है :

Options :

1. 72
2. 71
3. 66
4. 52

Question Number : 78 Question Id : 5431079684 Question Type : MCQ Option Shuffling : Yes Display Question Number : Yes
Single Line Question Option : No Option Orientation : Vertical Allowed Progression : Yes Number of Replay : 999 Play On Load :
No Control Enable : Yes

Correct Marks : 3 Wrong Marks : 1

Question Label : Multiple Choice Question

The inequality $x + \frac{1}{x} \leq -2$ is true, if :

सर्वसमिका $x + \frac{1}{x} \leq -2$ सत्य है, यदि :

Options :

1. $x \geq -1$
2. $x > 0$
3. $x < 0$
4. $x = -1$ only

Question Number : 79 Question Id : 5431079685 Question Type : MCQ Option Shuffling : Yes Display Question Number : Yes
Single Line Question Option : No Option Orientation : Vertical Allowed Progression : Yes Number of Replay : 999 Play On Load :
No Control Enable : Yes

Correct Marks : 3 Wrong Marks : 1

Question Label : Multiple Choice Question

If $x = \left(\frac{3}{2}\right)^2 \times \left(\frac{2}{3}\right)^{-4}$, then the value of x^{-2} is :

यदि $x = \left(\frac{3}{2}\right)^2 \times \left(\frac{2}{3}\right)^{-4}$, तो x^{-2} का मान है :

Options :

1. $\left(\frac{2}{3}\right)^8$

2. $\left(\frac{3}{2}\right)^6$

3. $\left(\frac{3}{2}\right)^{12}$

4. $\left(\frac{2}{3}\right)^{12}$

Question Number : 80 Question Id : 5431079686 Question Type : MCQ Option Shuffling : Yes Display Question Number : Yes
Single Line Question Option : No Option Orientation : Vertical Allowed Progression : Yes Number of Replay : 999 Play On Load :
No Control Enable : Yes

Correct Marks : 3 Wrong Marks : 1

Question Label : Multiple Choice Question

The set of real numbers which satisfy the equation $x^2 - 5x + 6 = 0$ is :

समीकरण $x^2 - 5x + 6 = 0$ को संतुष्ट करने वाले वास्तविक संख्याओं का समुच्चय है :

Options :

1. (2, 3)

2. (-2, -3)

3. (5, 1)

4. (-2, 3)

Question Number : 81 Question Id : 5431079687 Question Type : MCQ Option Shuffling : Yes Display Question Number : Yes
Single Line Question Option : No Option Orientation : Vertical Allowed Progression : Yes Number of Replay : 999 Play On Load :
No Control Enable : Yes

Correct Marks : 3 Wrong Marks : 1

Question Label : Multiple Choice Question

If a number 'x' be subtracted from each of the number 21, 38, 55, 106, then they become proportional. The value of 'x' is :

यदि 'x' को प्रत्येक अंक 21, 38, 55, 106 में से घटाने पर वे अंक समानुपात में हो जाते हैं, तो x का मान है :

Options :

1. 1
2. 2
3. 3
4. 4

Question Number : 82 Question Id : 5431079688 Question Type : MCQ Option Shuffling : Yes Display Question Number : Yes
Single Line Question Option : No Option Orientation : Vertical Allowed Progression : Yes Number of Replay : 999 Play On Load :
No Control Enable : Yes

Correct Marks : 3 Wrong Marks : 1

Question Label : Multiple Choice Question

The HCF of the polynomials $2x^3 + 5x^2 - 2x - 5$ and $3x^3 - x^2 - 3x + 1$ is :

$2x^3 + 5x^2 - 2x - 5$ तथा $3x^3 - x^2 - 3x + 1$ बहुपदीय का HCF है :

Options :

1. $x^2 - 1$
2. $x + 1$
3. $x - 1$
4. $(x + 3)(2x + 5)$

Question Number : 83 Question Id : 5431079689 Question Type : MCQ Option Shuffling : Yes Display Question Number : Yes
Single Line Question Option : No Option Orientation : Vertical Allowed Progression : Yes Number of Replay : 999 Play On Load :
No Control Enable : Yes

Correct Marks : 3 Wrong Marks : 1

Question Label : Multiple Choice Question

Sohan saves 14% of his salary while George saves 22% of his salary. If both get the same salary and George saves Rs. 1540, then saving of Sohan is :

सोहन अपने वेतन का 14% बचत करता है तथा जार्ज अपने वेतन का 22% बचत करता है। यदि दोनों का वेतन समान है तथा जार्ज रुपये 1,540 बचाता है, तो सोहन की बचत है :

Options :

- Rs. 950
1. 950 रुपये
- Rs. 980
2. 980 रुपये
- Rs. 940
3. 940 रुपये

Rs. 900

4. 900 रुपये

Question Number : 84 Question Id : 5431079690 Question Type : MCQ Option Shuffling : Yes Display Question Number : Yes
Single Line Question Option : No Option Orientation : Vertical Allowed Progression : Yes Number of Replay : 999 Play On Load :
No Control Enable : Yes

Correct Marks : 3 Wrong Marks : 1

Question Label : Multiple Choice Question

A table was sold at a gain of 10%. Had it been sold for Rs. 30 more, the gain would have been 15%. The cost price of table is :

एक टेबल को 10% के लाभ पर बेचा गया। यदि उसे 30 रुपये अधिक में बेचा गया होता, तो 15% का लाभ होता। टेबल का क्रय मूल्य क्या है ?

Options :

1. Rs. 300

2. Rs. 500

3. Rs. 400

4. Rs. 600

Question Number : 85 Question Id : 5431079691 Question Type : MCQ Option Shuffling : Yes Display Question Number : Yes
Single Line Question Option : No Option Orientation : Vertical Allowed Progression : Yes Number of Replay : 999 Play On Load :
No Control Enable : Yes

Correct Marks : 3 Wrong Marks : 1

Question Label : Multiple Choice Question

If 'A' and 'B' can do a piece of work in 8 days, while 'A' alone can do it in 12 days. In how many days can 'B' alone do the same work ?

'A' और 'B' किसी काम को 8 दिन में पूरा करते हैं, जबकि 'A' उसी कार्य को 12 दिन में पूरा करता है। 'B' अकेला उसी कार्य को कितने दिनों में पूरा करेगा ?

Options :

1. 24 days

2. 12 days

3. 16 days

4. 20 days

Question Number : 86 Question Id : 5431079692 Question Type : MCQ Option Shuffling : Yes Display Question Number : Yes
Single Line Question Option : No Option Orientation : Vertical Allowed Progression : Yes Number of Replay : 999 Play On Load :
No Control Enable : Yes

Correct Marks : 3 Wrong Marks : 1

Question Label : Multiple Choice Question

The mean of 31 results is 60. If the mean of the first 16 results is 58 and that of the last 16 results is 62, then 16th result is :

31 परिणामों का औसत मान 60 है। यदि प्रथम 16 परिणामों का औसत मान 58 है तथा अन्त के 16 परिणामों का औसत मान 62 है, तो 16वें परिणाम का मान है :

Options :

1. 59
2. 60
3. 61
4. 60.5

Question Number : 87 Question Id : 5431079693 Question Type : MCQ Option Shuffling : Yes Display Question Number : Yes
Single Line Question Option : No Option Orientation : Vertical Allowed Progression : Yes Number of Replay : 999 Play On Load :
No Control Enable : Yes

Correct Marks : 3 Wrong Marks : 1

Question Label : Multiple Choice Question

The mean weight of 80 students is 58 kg. After rechecking it was discovered that the two weights 52 and 68 misread as 25 and 86. The correct mean is :

80 छात्रों का औसत भार 58 कि० ग्रा० है। पुनः मूल्यांकन के बाद, यह पाया गया कि 52 तथा 68 को गलती से 25 और 86 पढ़ लिया गया है, तो सही औसत मान है :

Options :

1. 58.11
2. 58.237
3. 57.89
4. 58.72

Question Number : 88 Question Id : 5431079694 Question Type : MCQ Option Shuffling : Yes Display Question Number : Yes
Single Line Question Option : No Option Orientation : Vertical Allowed Progression : Yes Number of Replay : 999 Play On Load :
No Control Enable : Yes

Correct Marks : 3 Wrong Marks : 1

Question Label : Multiple Choice Question

2 men and 5 boys can finish a piece of work in 4 days, while 3 men and 6 boys can finish it in 3 days. The time taken by one man alone to finish the work is :

दो आदमी और 5 लड़के किसी काम को 4 दिन में पूरा करते हैं, जबकि 3 आदमी और 6 लड़के उसी काम को 3 दिन में पूरा करते हैं। एक आदमी अकेला उसी कार्य को कितने दिनों में पूरा करेगा ?

Options :

1. 20 days
2. 18 days

3. 14 days

4. 16 days

Question Number : 89 Question Id : 5431079695 Question Type : MCQ Option Shuffling : Yes Display Question Number : Yes
Single Line Question Option : No Option Orientation : Vertical Allowed Progression : Yes Number of Replay : 999 Play On Load :
No Control Enable : Yes

Correct Marks : 3 Wrong Marks : 1

Question Label : Multiple Choice Question

Sum of all odd integers from 1 to 1001 is :

1 से 1001 के मध्य समस्त विषम पूर्णाकों का योग है :

Options :

1. 251001

2. 242105

3. 251003

4. 261001

Question Number : 90 Question Id : 5431079696 Question Type : MCQ Option Shuffling : Yes Display Question Number : Yes
Single Line Question Option : No Option Orientation : Vertical Allowed Progression : Yes Number of Replay : 999 Play On Load :
No Control Enable : Yes

Correct Marks : 3 Wrong Marks : 1

Question Label : Multiple Choice Question

In a survey of 700 students in a college, 180 were listed as drinking Limca. 275 as drinking Miranda and 95 were listed as drinking both Limca as well as Miranda. How many students were drinking neither Limca nor Miranda ?

एक कालेज में 700 छात्रों का सर्वेक्षण किया गया जिसमें 180 छात्र लिम्का पीते थे, 275 छात्र मिरन्डा पीते हैं तथा 95 छात्र लिम्का तथा मिरन्डा दोनों पीते हैं। कितने छात्र ऐसे हैं जो न लिम्का पीते हैं न तो मिरन्डा पीते हैं ?

Options :

1. 360

2. 350

3. 340

4. 320

Sec IV VA and Language English

Section Id :

543107145

Section Number :

4

Section type :

Online

Mandatory or Optional:

Optional

Number of Questions: 30
Number of Questions to be attempted: 30
Section Marks: 90
Display Number Panel: Yes
Group All Questions: No

Sub-Section Number: 1
Sub-Section Id: 543107191
Question Shuffling Allowed : Yes

Question Number : 91 Question Id : 5431079697 Question Type : MCQ Option Shuffling : Yes Display Question Number : Yes
Single Line Question Option : No Option Orientation : Vertical Allowed Progression : Yes Number of Replay : 999 Play On Load :
No Control Enable : Yes

Correct Marks : 3 Wrong Marks : 1

Question Label : Multiple Choice Question

Select the word nearest in meaning to the given word:

Penitence :

Options :

1. Retribution
2. Submission
3. Confinement
4. Repentance

Question Number : 92 Question Id : 5431079698 Question Type : MCQ Option Shuffling : Yes Display Question Number : Yes
Single Line Question Option : No Option Orientation : Vertical Allowed Progression : Yes Number of Replay : 999 Play On Load :
No Control Enable : Yes

Correct Marks : 3 Wrong Marks : 1

Question Label : Multiple Choice Question

Select the word nearest in meaning to the given word:

Vocation :

Options :

1. Employment
2. Hobby
3. Occupation
4. Past

Question Number : 93 Question Id : 5431079699 Question Type : MCQ Option Shuffling : Yes Display Question Number : Yes
Single Line Question Option : No Option Orientation : Vertical Allowed Progression : Yes Number of Replay : 999 Play On Load :
No Control Enable : Yes

Correct Marks : 3 Wrong Marks : 1

Question Label : Multiple Choice Question

Select the word nearest in meaning to the given word:

Corroborate :

Options :

1. Verify
2. Refute
3. Disprove
4. Disapprove

Question Number : 94 Question Id : 5431079700 Question Type : MCQ Option Shuffling : Yes Display Question Number : Yes
Single Line Question Option : No Option Orientation : Vertical Allowed Progression : Yes Number of Replay : 999 Play On Load :
No Control Enable : Yes

Correct Marks : 3 Wrong Marks : 1

Question Label : Multiple Choice Question

Select the word nearest in meaning to the given word :

Nexus :

Options :

1. Fight
2. Rivalry
3. Connection
4. Internal fighting

Question Number : 95 Question Id : 5431079701 Question Type : MCQ Option Shuffling : Yes Display Question Number : Yes
Single Line Question Option : No Option Orientation : Vertical Allowed Progression : Yes Number of Replay : 999 Play On Load :
No Control Enable : Yes

Correct Marks : 3 Wrong Marks : 1

Question Label : Multiple Choice Question

Select the word nearest in meaning to the given word :

Candid :

Options :

1. Frank
2. Well planned
3. Humble
4. Simple

Question Number : 96 Question Id : 5431079702 Question Type : MCQ Option Shuffling : Yes Display Question Number : Yes
Single Line Question Option : No Option Orientation : Vertical Allowed Progression : Yes Number of Replay : 999 Play On Load :
No Control Enable : Yes

Correct Marks : 3 Wrong Marks : 1

Question Label : Multiple Choice Question

Select the word opposite in meaning to the given word :

Plethora :

Options :

1. Profusion
2. Current
3. Balance
4. Shortage

Question Number : 97 Question Id : 5431079703 Question Type : MCQ Option Shuffling : Yes Display Question Number : Yes
Single Line Question Option : No Option Orientation : Vertical Allowed Progression : Yes Number of Replay : 999 Play On Load :
No Control Enable : Yes

Correct Marks : 3 Wrong Marks : 1

Question Label : Multiple Choice Question

Select the word opposite in meaning to the given word :

Dormant :

Options :

1. Latent
2. Active
3. Indolent
4. Helpless

Question Number : 98 Question Id : 5431079704 Question Type : MCQ Option Shuffling : Yes Display Question Number : Yes
Single Line Question Option : No Option Orientation : Vertical Allowed Progression : Yes Number of Replay : 999 Play On Load :
No Control Enable : Yes

Correct Marks : 3 Wrong Marks : 1

Question Label : Multiple Choice Question

Select the word opposite in meaning to the given word :

Amalgamate :

Options :

1. Recriminate
2. Procrastinate

3. Scintillate

4. Segregate

Question Number : 99 Question Id : 5431079705 Question Type : MCQ Option Shuffling : Yes Display Question Number : Yes
Single Line Question Option : No Option Orientation : Vertical Allowed Progression : Yes Number of Replay : 999 Play On Load :
No Control Enable : Yes

Correct Marks : 3 Wrong Marks : 1

Question Label : Multiple Choice Question

Select the word opposite in meaning to the given word :

Viable :

Options :

1. Feasible

2. Impossible

3. Credible

4. Rationale

Question Number : 100 Question Id : 5431079706 Question Type : MCQ Option Shuffling : Yes Display Question Number : Yes
Single Line Question Option : No Option Orientation : Vertical Allowed Progression : Yes Number of Replay : 999 Play On Load :
No Control Enable : Yes

Correct Marks : 3 Wrong Marks : 1

Question Label : Multiple Choice Question

Select the word opposite in meaning to the given word :

Turbid :

Options :

1. Clear

2. Muddy

3. Dense

4. Heavy

Question Number : 101 Question Id : 5431079707 Question Type : MCQ Option Shuffling : Yes Display Question Number : Yes
Single Line Question Option : No Option Orientation : Vertical Allowed Progression : Yes Number of Replay : 999 Play On Load :
No Control Enable : Yes

Correct Marks : 3 Wrong Marks : 1

Question Label : Multiple Choice Question

Select the correct meaning of the given idiomatic expression :

To hit the right nail on the head :

Options :

1. To do things right
2. To announce one's fixed views
3. To destroy one's reputation
4. To teach someone a lesson

Question Number : 102 Question Id : 5431079708 Question Type : MCQ Option Shuffling : Yes Display Question Number : Yes
Single Line Question Option : No Option Orientation : Vertical Allowed Progression : Yes Number of Replay : 999 Play On Load :
No Control Enable : Yes

Correct Marks : 3 Wrong Marks : 1

Question Label : Multiple Choice Question

Select the correct meaning of the given idiomatic expression :

A pyrrhic victory :

Options :

1. A victory which is not possible
2. Devastating victory
3. A victory that brings more loss than gains
4. A quid pro quo

Question Number : 103 Question Id : 5431079709 Question Type : MCQ Option Shuffling : Yes Display Question Number : Yes
Single Line Question Option : No Option Orientation : Vertical Allowed Progression : Yes Number of Replay : 999 Play On Load :
No Control Enable : Yes

Correct Marks : 3 Wrong Marks : 1

Question Label : Multiple Choice Question

Select the correct meaning of the given idiomatic expression :

Back out :

Options :

1. Step aside
2. Pack up
3. Support
4. Withdraw from

Question Number : 104 Question Id : 5431079710 Question Type : MCQ Option Shuffling : Yes Display Question Number : Yes
Single Line Question Option : No Option Orientation : Vertical Allowed Progression : Yes Number of Replay : 999 Play On Load :
No Control Enable : Yes

Correct Marks : 3 Wrong Marks : 1

Question Label : Multiple Choice Question

Select the correct meaning of the given idiomatic expression:

To die in harness :

Options :

1. Pain and suffering
2. Die while still working
3. Die on the battle field
4. Die with honour

Question Number : 105 Question Id : 5431079711 Question Type : MCQ Option Shuffling : Yes Display Question Number : Yes
Single Line Question Option : No Option Orientation : Vertical Allowed Progression : Yes Number of Replay : 999 Play On Load :
No Control Enable : Yes

Correct Marks : 3 Wrong Marks : 1

Question Label : Multiple Choice Question

Select the correct meaning of the given idiomatic expression:

To bury the hatchet :

Options :

1. To quarrel over small things
2. To destroy
3. To rapair a costly furniture
4. To make peace

Question Number : 106 Question Id : 5431079712 Question Type : MCQ Option Shuffling : Yes Display Question Number : Yes
Single Line Question Option : No Option Orientation : Vertical Allowed Progression : Yes Number of Replay : 999 Play On Load :
No Control Enable : Yes

Correct Marks : 3 Wrong Marks : 1

Question Label : Multiple Choice Question

From the given options, identify the word with correct spelling :

Options :

1. Etiquette
2. Etiqette
3. Etiquete
4. Etiquett

Question Number : 107 Question Id : 5431079713 Question Type : MCQ Option Shuffling : Yes Display Question Number : Yes
Single Line Question Option : No Option Orientation : Vertical Allowed Progression : Yes Number of Replay : 999 Play On Load :
No Control Enable : Yes

Correct Marks : 3 Wrong Marks : 1

Question Label : Multiple Choice Question

From the given options, identify the word with correct spelling :

Options :

1. Reminscent
2. Reminiscent
3. Reminisent
4. Reminicient

Question Number : 108 Question Id : 5431079714 Question Type : MCQ Option Shuffling : Yes Display Question Number : Yes
Single Line Question Option : No Option Orientation : Vertical Allowed Progression : Yes Number of Replay : 999 Play On Load :
No Control Enable : Yes

Correct Marks : 3 Wrong Marks : 1

Question Label : Multiple Choice Question

From the given options, identify the word with correct spelling :

Options :

1. Eroneously
2. Erroniously
3. Erroneously
4. Erronously

Question Number : 109 Question Id : 5431079715 Question Type : MCQ Option Shuffling : Yes Display Question Number : Yes
Single Line Question Option : No Option Orientation : Vertical Allowed Progression : Yes Number of Replay : 999 Play On Load :
No Control Enable : Yes

Correct Marks : 3 Wrong Marks : 1

Question Label : Multiple Choice Question

One of the words from the given options is misspelt. Identify the misspelt word :

Options :

1. Measurement
2. Disaggreement
3. Controversial
4. Commercial

Question Number : 110 Question Id : 5431079716 Question Type : MCQ Option Shuffling : Yes Display Question Number : Yes
Single Line Question Option : No Option Orientation : Vertical Allowed Progression : Yes Number of Replay : 999 Play On Load :
No Control Enable : Yes

Correct Marks : 3 Wrong Marks : 1

Question Label : Multiple Choice Question

One of the words from the given options is misspelt. Identify the misspelt word :

Options :

1. Amateur
2. Vacuum
3. Languid
4. Mallcontent

Question Number : 111 Question Id : 5431079717 Question Type : MCQ Option Shuffling : Yes Display Question Number : Yes
Single Line Question Option : No Option Orientation : Vertical Allowed Progression : Yes Number of Replay : 999 Play On Load :
No Control Enable : Yes

Correct Marks : 3 Wrong Marks : 1

Question Label : Multiple Choice Question

The sentence given are divided into four parts, which are numbered (1), (2), (3) and (4). One of these parts has an error in it. Identify that part :

Climate change may alter (1) /the distribution and quality (2) / of India's natural resources (3) / or adversely affect the livelihood of its people (4)

Options :

1. (1)
2. (2)
3. (3)
4. (4)

Question Number : 112 Question Id : 5431079718 Question Type : MCQ Option Shuffling : Yes Display Question Number : Yes
Single Line Question Option : No Option Orientation : Vertical Allowed Progression : Yes Number of Replay : 999 Play On Load :
No Control Enable : Yes

Correct Marks : 3 Wrong Marks : 1

Question Label : Multiple Choice Question

The sentence given are divided into four parts, which are numbered (1), (2), (3) and (4). One of these parts has an error in it. Identify that part :

The organization is planning (1) /a training programme (2)/ for their senior officers (3) /sometime in March. (4)

Options :

1. (1)
2. (2)
3. (3)
4. (4)

Question Number : 113 Question Id : 5431079719 Question Type : MCQ Option Shuffling : Yes Display Question Number : Yes
Single Line Question Option : No Option Orientation : Vertical Allowed Progression : Yes Number of Replay : 999 Play On Load :
No Control Enable : Yes

Correct Marks : 3 Wrong Marks : 1

Question Label : Multiple Choice Question

The sentence given are divided into four parts, which are numbered (1), (2), (3) and (4). One of these parts has an error in it. Identify that part :

The reason (1)/ why she is absent today (2)/ is because (3) / her husband is ill (4)

Options :

1. (1)
2. (2)
3. (3)
4. (4)

Question Number : 114 Question Id : 5431079720 Question Type : MCQ Option Shuffling : Yes Display Question Number : Yes
Single Line Question Option : No Option Orientation : Vertical Allowed Progression : Yes Number of Replay : 999 Play On Load :
No Control Enable : Yes

Correct Marks : 3 Wrong Marks : 1

Question Label : Multiple Choice Question

The sentence given are divided into four parts, which are numbered (1), (2), (3) and (4). One of these parts has an error in it. Identify that part :

We have purchased (1) many items of furnitures (2)/ for our (3) new flat (4)

Options :

1. (1)
2. (2)
3. (3)

4. (4)

Question Number : 115 Question Id : 5431079721 Question Type : MCQ Option Shuffling : Yes Display Question Number : Yes
Single Line Question Option : No Option Orientation : Vertical Allowed Progression : Yes Number of Replay : 999 Play On Load :
No Control Enable : Yes

Correct Marks : 3 Wrong Marks : 1

Question Label : Multiple Choice Question

The sentence given are divided into four parts, which are numbered (1), (2), (3) and (4). One of these parts has an error in it. Identify that part :

Dozen of (1) /mangoes were (2) / distributed among the boys (3)/ by the class teacher. (4)

Options :

1. (1)

2. (2)

3. (3)

4. (4)

Question Number : 116 Question Id : 5431079722 Question Type : MCQ Option Shuffling : Yes Display Question Number : Yes
Single Line Question Option : No Option Orientation : Vertical Allowed Progression : Yes Number of Replay : 999 Play On Load :
No Control Enable : Yes

Correct Marks : 3 Wrong Marks : 1

Question Label : Multiple Choice Question

Select the pair that expresses a relationship similar to that expressed in the original pair.

Ornithologist : Birds ::

Options :

1. Anthropologist : Insects

2. Botanist : Animals

3. Archeologist : Artifacts

4. Aquarium : Fish

Question Number : 117 Question Id : 5431079723 Question Type : MCQ Option Shuffling : Yes Display Question Number : Yes
Single Line Question Option : No Option Orientation : Vertical Allowed Progression : Yes Number of Replay : 999 Play On Load :
No Control Enable : Yes

Correct Marks : 3 Wrong Marks : 1

Question Label : Multiple Choice Question

Select the pair that expresses a relationship similar to that expressed in the original pair.

Multiplication : Division ::

Options :

1. Increase : Decrease
2. Calculate : Estimate
3. Integers : Score
4. Zero : Infinity

Question Number : 118 Question Id : 5431079724 Question Type : MCQ Option Shuffling : Yes Display Question Number : Yes
Single Line Question Option : No Option Orientation : Vertical Allowed Progression : Yes Number of Replay : 999 Play On Load :
No Control Enable : Yes

Correct Marks : 3 Wrong Marks : 1

Question Label : Multiple Choice Question

Select the pair that expresses a relationship similar to that expressed in the original pair.

Actor : Soliloquy ::

Options :

1. Director : Movie
2. Drummer : March
3. Singer : Duet
4. Musician : Solo

Question Number : 119 Question Id : 5431079725 Question Type : MCQ Option Shuffling : Yes Display Question Number : Yes
Single Line Question Option : No Option Orientation : Vertical Allowed Progression : Yes Number of Replay : 999 Play On Load :
No Control Enable : Yes

Correct Marks : 3 Wrong Marks : 1

Question Label : Multiple Choice Question

Select the pair that expresses a relationship similar to that expressed in the original pair.

Cynosure : Brilliant ::

Options :

1. Map : Legible

2. Magnet : Attractive
3. Word : Common
4. Student : Attentive

Question Number : 120 Question Id : 5431079726 Question Type : MCQ Option Shuffling : Yes Display Question Number : Yes
Single Line Question Option : No Option Orientation : Vertical Allowed Progression : Yes Number of Replay : 999 Play On Load :
No Control Enable : Yes

Correct Marks : 3 Wrong Marks : 1

Question Label : Multiple Choice Question

Select the pair that expresses a relationship similar to that expressed in the original pair.

Permanent : Evanescent ::

Options :

1. Eternal : Everlasting
2. Lasting : Glittering
3. Durable : Fleeting
4. Review : Critic

Sec IV VA and Language Hindi

Section Id :	543107146
Section Number :	5
Section type :	Online
Mandatory or Optional:	Optional
Number of Questions:	30
Number of Questions to be attempted:	30
Section Marks:	90
Display Number Panel:	Yes
Group All Questions:	No

Sub-Section Number:	1
Sub-Section Id:	543107192
Question Shuffling Allowed :	Yes

Question Number : 121 Question Id : 5431079727 Question Type : MCQ Option Shuffling : Yes Display Question Number : Yes
Single Line Question Option : No Option Orientation : Vertical Allowed Progression : Yes Number of Replay : 999 Play On Load :
No Control Enable : Yes

Correct Marks : 3 Wrong Marks : 1

Question Label : Multiple Choice Question

संचार-माध्यमों के लिए हिन्दी का कौन-सा रूप ग्राह्य है ?

Options :

1. साहित्यिक हिन्दी
2. बाजार की हिन्दी
3. सामान्य बोलचाल की हिन्दी
4. मानक हिन्दी

Question Number : 122 Question Id : 5431079728 Question Type : MCQ Option Shuffling : Yes Display Question Number : Yes
Single Line Question Option : No Option Orientation : Vertical Allowed Progression : Yes Number of Replay : 999 Play On Load :
No Control Enable : Yes

Correct Marks : 3 Wrong Marks : 1

Question Label : Multiple Choice Question

फोर्ट विलियम कालेज की स्थापना कहाँ हुई ?

Options :

1. मुम्बई
2. कलकत्ता
3. मद्रास
4. लखनऊ

Question Number : 123 Question Id : 5431079729 Question Type : MCQ Option Shuffling : Yes Display Question Number : Yes
Single Line Question Option : No Option Orientation : Vertical Allowed Progression : Yes Number of Replay : 999 Play On Load :
No Control Enable : Yes

Correct Marks : 3 Wrong Marks : 1

Question Label : Multiple Choice Question

संविधान की किस धारा के अनुसार हिन्दी राजभाषा बनी ?

Options :

1. 343
2. 345
3. 348
4. 350

Question Number : 124 Question Id : 5431079730 Question Type : MCQ Option Shuffling : Yes Display Question Number : Yes
Single Line Question Option : No Option Orientation : Vertical Allowed Progression : Yes Number of Replay : 999 Play On Load :
No Control Enable : Yes

Correct Marks : 3 Wrong Marks : 1

Question Label : Multiple Choice Question

'मैं' का बहुवचन क्या है ?

Options :

1. आप
2. वे
3. हम
4. तुम लोग

Question Number : 125 Question Id : 5431079731 Question Type : MCQ Option Shuffling : Yes Display Question Number : Yes
Single Line Question Option : No Option Orientation : Vertical Allowed Progression : Yes Number of Replay : 999 Play On Load :
No Control Enable : Yes

Correct Marks : 3 Wrong Marks : 1

Question Label : Multiple Choice Question

'मानव' शब्द से बना विशेषण शब्द कौन-सा है ?

Options :

1. मानवीकरण
2. मानवता
3. मानवी
4. मानवीय

Question Number : 126 Question Id : 5431079732 Question Type : MCQ Option Shuffling : Yes Display Question Number : Yes
Single Line Question Option : No Option Orientation : Vertical Allowed Progression : Yes Number of Replay : 999 Play On Load :
No Control Enable : Yes

Correct Marks : 3 Wrong Marks : 1

Question Label : Multiple Choice Question

'सदैव' किन दो शब्दों की सन्धि से बना है ?

Options :

1. सद् + एव
2. सद + ऐव
3. सदा + इव
4. सदा + एव

Question Number : 127 Question Id : 5431079733 Question Type : MCQ Option Shuffling : Yes Display Question Number : Yes
Single Line Question Option : No Option Orientation : Vertical Allowed Progression : Yes Number of Replay : 999 Play On Load :
No Control Enable : Yes

Correct Marks : 3 Wrong Marks : 1

Question Label : Multiple Choice Question

'अन्तर्गत' का सही सन्धि विच्छेद क्या है ?

Options :

1. अन्तर + गत
2. अन्तः + गत
3. अन् + तर्गत
4. अन्त + गत

Question Number : 128 Question Id : 5431079734 Question Type : MCQ Option Shuffling : Yes Display Question Number : Yes
Single Line Question Option : No Option Orientation : Vertical Allowed Progression : Yes Number of Replay : 999 Play On Load :
No Control Enable : Yes

Correct Marks : 3 Wrong Marks : 1

Question Label : Multiple Choice Question

"आवश्यकता से अधिक धन का त्याग" के लिए सही शब्द क्या है ?

Options :

1. परिग्रह
2. अपरिग्रह
3. इन्द्रिय निग्रह
4. सन्तोष

Question Number : 129 Question Id : 5431079735 Question Type : MCQ Option Shuffling : Yes Display Question Number : Yes
Single Line Question Option : No Option Orientation : Vertical Allowed Progression : Yes Number of Replay : 999 Play On Load :
No Control Enable : Yes

Correct Marks : 3 Wrong Marks : 1

Question Label : Multiple Choice Question

'स्तुति' का विलोमार्थक शब्द क्या है ?

Options :

1. निन्दा
2. आलोचना
3. बुराई

4. ईर्ष्या

Question Number : 130 Question Id : 5431079736 Question Type : MCQ Option Shuffling : Yes Display Question Number : Yes
Single Line Question Option : No Option Orientation : Vertical Allowed Progression : Yes Number of Replay : 999 Play On Load :
No Control Enable : Yes

Correct Marks : 3 Wrong Marks : 1

Question Label : Multiple Choice Question

सही वर्तनी क्या है ?

Options :

1. व्यवहारिक
2. व्यवहारीक
3. व्यावहारिक
4. व्यावहारीक

Question Number : 131 Question Id : 5431079737 Question Type : MCQ Option Shuffling : Yes Display Question Number : Yes
Single Line Question Option : No Option Orientation : Vertical Allowed Progression : Yes Number of Replay : 999 Play On Load :
No Control Enable : Yes

Correct Marks : 3 Wrong Marks : 1

Question Label : Multiple Choice Question

'कवर स्टोरी' के लिए उपयुक्त हिन्दी शब्द चुनें :

Options :

1. पृष्ठ कथा
2. मुख्य कथा
3. अंतर्कथा
4. आवरण कथा

Question Number : 132 Question Id : 5431079738 Question Type : MCQ Option Shuffling : Yes Display Question Number : Yes
Single Line Question Option : No Option Orientation : Vertical Allowed Progression : Yes Number of Replay : 999 Play On Load :
No Control Enable : Yes

Correct Marks : 3 Wrong Marks : 1

Question Label : Multiple Choice Question

'निजी जीवन के वृत्तान्त' को क्या कहते हैं ?

Options :

1. जीवनी
2. संस्मरण

3. आत्मकथा
4. जीवनचरित्र

Question Number : 133 Question Id : 5431079739 Question Type : MCQ Option Shuffling : Yes Display Question Number : Yes
Single Line Question Option : No Option Orientation : Vertical Allowed Progression : Yes Number of Replay : 999 Play On Load :
No Control Enable : Yes

Correct Marks : 3 Wrong Marks : 1

Question Label : Multiple Choice Question

'मिठबोला' में कौन-सा समास है ?

Options :

1. कर्मधारय
2. तत्पुरुष
3. बहुव्रीहि
4. द्वन्द्व

Question Number : 134 Question Id : 5431079740 Question Type : MCQ Option Shuffling : Yes Display Question Number : Yes
Single Line Question Option : No Option Orientation : Vertical Allowed Progression : Yes Number of Replay : 999 Play On Load :
No Control Enable : Yes

Correct Marks : 3 Wrong Marks : 1

Question Label : Multiple Choice Question

'लाले पड़ना' का अर्थ है :

Options :

1. काम की अति
2. विश्वास की जीत
3. मुँह लाल होना
4. बहुत अधिक अभाव होना

Question Number : 135 Question Id : 5431079741 Question Type : MCQ Option Shuffling : Yes Display Question Number : Yes
Single Line Question Option : No Option Orientation : Vertical Allowed Progression : Yes Number of Replay : 999 Play On Load :
No Control Enable : Yes

Correct Marks : 3 Wrong Marks : 1

Question Label : Multiple Choice Question

'बावन तोले पाँच रत्ती' का सही अर्थ क्या है ?

Options :

1. गलत बात

2. सही निर्णय
3. बिल्कुल सही हिसाब-किताब
4. बेकार काम

Question Number : 136 Question Id : 5431079742 Question Type : MCQ Option Shuffling : Yes Display Question Number : Yes
Single Line Question Option : No Option Orientation : Vertical Allowed Progression : Yes Number of Replay : 999 Play On Load :
No Control Enable : Yes

Correct Marks : 3 Wrong Marks : 1

Question Label : Multiple Choice Question

'हंस' के संपादक थे :

Options :

1. प्रसाद
2. प्रेमचंद
3. भारतेन्दु
4. निराला

Question Number : 137 Question Id : 5431079743 Question Type : MCQ Option Shuffling : Yes Display Question Number : Yes
Single Line Question Option : No Option Orientation : Vertical Allowed Progression : Yes Number of Replay : 999 Play On Load :
No Control Enable : Yes

Correct Marks : 3 Wrong Marks : 1

Question Label : Multiple Choice Question

इनमें से लोकोक्ति किसे कहेंगे ?

Options :

1. नौ दिन चलै अढ़ाई कोस
2. अंधे की लाठी होना
3. ईद का चाँद होना
4. एक आँख देखना

Question Number : 138 Question Id : 5431079744 Question Type : MCQ Option Shuffling : Yes Display Question Number : Yes
Single Line Question Option : No Option Orientation : Vertical Allowed Progression : Yes Number of Replay : 999 Play On Load :
No Control Enable : Yes

Correct Marks : 3 Wrong Marks : 1

Question Label : Multiple Choice Question

'आल इंडिया रेडियो' के लिए हिन्दी में प्रचलित प्रामाणिक शब्द चुनें :

Options :

1. ज्ञानवाणी
2. जनवाणी
3. आकाशवाणी
4. सत्यवाणी

Question Number : 139 Question Id : 5431079745 Question Type : MCQ Option Shuffling : Yes Display Question Number : Yes
Single Line Question Option : No Option Orientation : Vertical Allowed Progression : Yes Number of Replay : 999 Play On Load :
No Control Enable : Yes

Correct Marks : 3 Wrong Marks : 1

Question Label : Multiple Choice Question

इनमें से प्रेमचंद की कृति कौन नहीं है ?

Options :

1. भारत दुर्दशा
2. निर्मला
3. सेवासदन
4. कर्मभूमि

Question Number : 140 Question Id : 5431079746 Question Type : MCQ Option Shuffling : Yes Display Question Number : Yes
Single Line Question Option : No Option Orientation : Vertical Allowed Progression : Yes Number of Replay : 999 Play On Load :
No Control Enable : Yes

Correct Marks : 3 Wrong Marks : 1

Question Label : Multiple Choice Question

'उदन्तमार्तंड' के संपादक कौन थे ?

Options :

1. शिव प्रसाद सितारे हिन्द
2. राजा राम मोहन राय
3. बालकृष्ण भट्ट
4. पं० जुगलकिशोर शुक्ल

Question Number : 141 Question Id : 5431079747 Question Type : MCQ Option Shuffling : Yes Display Question Number : Yes
Single Line Question Option : No Option Orientation : Vertical Allowed Progression : Yes Number of Replay : 999 Play On Load :
No Control Enable : Yes

Correct Marks : 3 Wrong Marks : 1

Question Label : Multiple Choice Question

गाँधी जी का 'हिन्दी नवजीवन' कहाँ से प्रकाशित होता था ?

Options :

1. दिल्ली
2. चंपारन
3. बड़ौदा
4. अहमदाबाद

Question Number : 142 Question Id : 5431079748 Question Type : MCQ Option Shuffling : Yes Display Question Number : Yes
Single Line Question Option : No Option Orientation : Vertical Allowed Progression : Yes Number of Replay : 999 Play On Load :
No Control Enable : Yes

Correct Marks : 3 Wrong Marks : 1

Question Label : Multiple Choice Question

हिन्दी की सबसे अधिक संख्या में बोली जाने वाली बोली कौन सी है ?

Options :

1. अवधी
2. ब्रज भाषा
3. भोजपुरी
4. बुन्देली

Question Number : 143 Question Id : 5431079749 Question Type : MCQ Option Shuffling : Yes Display Question Number : Yes
Single Line Question Option : No Option Orientation : Vertical Allowed Progression : Yes Number of Replay : 999 Play On Load :
No Control Enable : Yes

Correct Marks : 3 Wrong Marks : 1

Question Label : Multiple Choice Question

बाबू शिव प्रसाद गुप्त किस पत्र से सम्बद्ध थे ?

Options :

1. जागरण
2. आज
3. हिन्दुस्तान
4. प्रताप

Question Number : 144 Question Id : 5431079750 Question Type : MCQ Option Shuffling : Yes Display Question Number : Yes
Single Line Question Option : No Option Orientation : Vertical Allowed Progression : Yes Number of Replay : 999 Play On Load :
No Control Enable : Yes

Correct Marks : 3 Wrong Marks : 1

Question Label : Multiple Choice Question

अज्ञेय जी इनमें से किसके संपादक थे ?

Options :

1. साप्ताहिक हिन्दुस्तान
2. धर्मयुग
3. दिनमान
4. कादम्बिनी

Question Number : 145 Question Id : 5431079751 Question Type : MCQ Option Shuffling : Yes Display Question Number : Yes
Single Line Question Option : No Option Orientation : Vertical Allowed Progression : Yes Number of Replay : 999 Play On Load :
No Control Enable : Yes

Correct Marks : 3 Wrong Marks : 1

Question Label : Multiple Choice Question

बालगंगाधर तिलक द्वारा संपादित पत्र था :

Options :

1. केसरी
2. वीर अर्जुन
3. मराठी समाचार
4. महाराष्ट्र दर्पण

Question Number : 146 Question Id : 5431079752 Question Type : MCQ Option Shuffling : Yes Display Question Number : Yes
Single Line Question Option : No Option Orientation : Vertical Allowed Progression : Yes Number of Replay : 999 Play On Load :
No Control Enable : Yes

Correct Marks : 3 Wrong Marks : 1

Question Label : Multiple Choice Question

सम्मुख का विलोमार्थ शब्द चुनें :

Options :

1. उन्मुख
2. विमुख
3. प्रमुख
4. अधिमुख

Question Number : 147 Question Id : 5431079753 Question Type : MCQ Option Shuffling : Yes Display Question Number : Yes
Single Line Question Option : No Option Orientation : Vertical Allowed Progression : Yes Number of Replay : 999 Play On Load :
No Control Enable : Yes

Correct Marks : 3 Wrong Marks : 1

Question Label : Multiple Choice Question

'अन्योन्याश्रित' का अर्थ है :

Options :

1. किसी पर आश्रित
2. किसी को आश्रित बनाना
3. एक दूसरे पर आश्रित
4. किसी पर आश्रित न होना

Question Number : 148 Question Id : 5431079754 Question Type : MCQ Option Shuffling : Yes Display Question Number : Yes Single Line Question Option : No Option Orientation : Vertical Allowed Progression : Yes Number of Replay : 999 Play On Load : No Control Enable : Yes

Correct Marks : 3 Wrong Marks : 1

Question Label : Multiple Choice Question

'बिना घर का' – इस अर्थ का वाचक शब्द है :

Options :

1. अनाथ
2. अनाहत
3. अनिग्रह
4. अनिकेत

Question Number : 149 Question Id : 5431079755 Question Type : MCQ Option Shuffling : Yes Display Question Number : Yes Single Line Question Option : No Option Orientation : Vertical Allowed Progression : Yes Number of Replay : 999 Play On Load : No Control Enable : Yes

Correct Marks : 3 Wrong Marks : 1

Question Label : Multiple Choice Question

'पानी पीकर घर पूछना' का अर्थ है :

Options :

1. अनोखा काम करना
2. विपरीत काम करना
3. काम कर लेने के बाद सोचना
4. आराम से विचार करना

Question Number : 150 Question Id : 5431079756 Question Type : MCQ Option Shuffling : Yes Display Question Number : Yes Single Line Question Option : No Option Orientation : Vertical Allowed Progression : Yes Number of Replay : 999 Play On Load : No Control Enable : Yes

Correct Marks : 3 Wrong Marks : 1

Question Label : Multiple Choice Question

'गंगा गए गंगादास जमुना गए जमुना दास' का अर्थ है :

Options :

1. अपने-अपने घर जाना
2. अपना-अपना काम करना
3. किसी की नहीं सुनना
4. अपना कोई दृढ़ सिद्धान्त न होना