

















Practice, Learn and Achieve
Your Goal with Prepp

SSC GD Exam

Previous Paper

Simplifying
Government Exams

 SSC CHSL	 IAS EXAM	 RRB NTPC	 NTSE	 CDS
 SSC CGL	 CBSE UGC NET	 IBPS PO	 NDA	
 SBI PO	 IBPS CLERK	 AFCAT	 SSC JE	 CTET
 CSIR UGC NET	 CAPF	 IBPS RRB		

www.prepp.in

Constable (GD) in CAPFs, NIA, SSF and Rifleman (GD) in Assam Rifles Examination, 2018

Roll No. :	
Registration No.	
Name :	
Exam Venue :	ION digital Zone iDZ1 Khajasarai
Exam Time :	12:30 PM - 2:00 PM
Exam Date :	03/03/2019

Section : General Section

Q.1 X, Y, Z, P, Q और R एक पंक्ति में उत्तर की ओर मुख करके बैठे हैं। X, Y और P का पड़ोसी है। Q, Z और R का पड़ोसी है। P, X के दाएँ ओर है और P और Z एक दूसरे के निकटतम पड़ोसी हैं।

X और Q के मध्य कितने सदस्य हैं?

Ans

1. चार

2. तीन

3. दो

4. एक

Question ID : 9895808323
Chosen Option : 3

Q.2 चार विकल्प दिए गए हैं, जिनमें से तीन किसी तरह से समान हैं, जबकि एक अलग है। असंगत का चयन करें।

Ans

1. 88-186

2. 24-122

3. 72-170

4. 36-128

Question ID : 9895808330
Chosen Option : 4

Q.3 निम्नलिखित में से कौन सी उत्तर आकृति दी गई आकृति को पूरा करेगी?

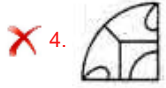
प्रश्न आकृति:



Ans

1.

2.



Question ID : 9895808334
Chosen Option : 1

Q.4 यदि + का अर्थ '-' है, '-' का अर्थ '+' है, × का अर्थ '+' है, और ÷ का अर्थ '×' है, तो:

$$256 - 4 \div 2 \times 128 =$$

- Ans
- 1. 264
 - 2. 256
 - 3. 242
 - 4. 262

Question ID : 9895808332
Chosen Option : 2

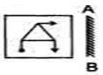
Q.5 यदि L को 14 लिखते हैं, तो GOA को कैसे लिखा जाएगा?

- Ans
- 1. 21
 - 2. 29
 - 3. 26
 - 4. 22

Question ID : 9895808321
Chosen Option : 2

Q.6 उस विकल्प का चयन करें जो दर्पण के दाएँ ओर रखे जाने पर दी गई आकृति की दर्पण छवि से सर्वाधिक मेल खाता है।

प्रश्न आकृति:



- Ans
- 1.
 - 2.
 - 3.
 - 4.

Question ID : 9895808336

Q.7 उस विकल्प का चयन करें जो सही रूप में रिक्त स्थान की पूर्ति करते हुए श्रृंखला को पूरा करें।

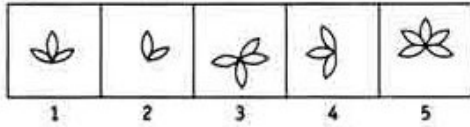
BDF, CFI, DHL, ?

- Ans
- 1. FNO
 - 2. EJO
 - 3. FJO
 - 4. EOJ

Question ID : 9895808314
Chosen Option : 2

Q.8 वह विकल्प चुनें जो दी गई आकृति श्रृंखला को पूरा करता है।

प्रश्न आकृति:



- Ans
- 1.
 - 2.
 - 3.
 - 4.

Question ID : 9895808333
Chosen Option : 2

Q.9 उस विकल्प का चयन करें जो सही रूप में रिक्त स्थान की पूर्ति करते हुए श्रृंखला को पूरा करें।

225, 269, 324, 390, _____

- Ans
- 1. 466
 - 2. 567
 - 3. 480
 - 4. 467

Question ID : 9895808327
Chosen Option : 4

Q.1 चार शब्द दिए गए हैं, जिनमें से तीन किसी तरह से समान हैं, जबकि एक अलग है। असंगत शब्द का चयन करें।

- Ans
- 1. क्रेडिट कार्ड

✓ 2. मेमोरी कार्ड

✗ 3. डेबिट कार्ड

✗ 4. बैंक कार्ड

Question ID : 9895808316
Chosen Option : 2

Q.1
1 A, B तथा C शिक्षित हैं। A, C तथा D परिश्रमी हैं। C, D और E नौकरी शुदा हैं। A, B, D तथा E विनम हैं।
उसका पता लगाइए जो शिक्षित, परिश्रमी तथा विनम है, परन्तु बेरोजगार है।

Ans ✓ 1. A

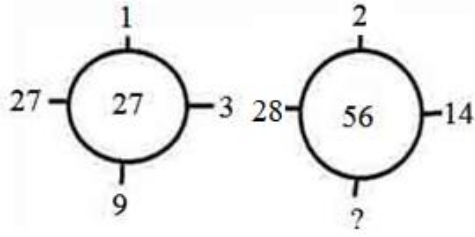
✗ 2. B

✗ 3. E

✗ 4. C

Question ID : 9895808324
Chosen Option : 1

Q.1
2 दिए गए विकल्पों में से लुप्त संख्या ज्ञात करें।



Ans ✗ 1. 6

✗ 2. 5

✗ 3. 3

✓ 4. 4

Question ID : 9895808331
Chosen Option : 4

Q.1
3 एक निश्चित कूट भाषा में, SYSTEM को METSYS के रूप में कूटबद्ध किया जाता है। उस कूट में NORMS को कैसे कूटबद्ध किया जाता है?

Ans ✗ 1. SMNOR

✗ 2. SSRMO

✓ 3. SMRON

✗ 4. SRMON

Question ID : 9895808320
Chosen Option : 3

Q.1
4 उस विकल्प का चयन करें जो तीसरे पद से उसी तरह संबंधित है जिस प्रकार पहला पद दूसरे पद से संबंधित है।

भोजन : रसोइया :: किताब : ?

Ans ✗ 1. रचयिता

✗ 2. वैज्ञानिक

- ✓ 3. लेखक
✗ 4. निर्देशक

Question ID : 9895808318
Chosen Option : 3

Q.1
5 उस विकल्प आकृति का चयन करें, जिसमें प्रश्न आकृति छिपी हुई/ अंतर्निहित है।

प्रश्न आकृति:



Ans

- ✗ 1.
- ✗ 2.
- ✓ 3.
- ✗ 4.

Question ID : 9895808335
Chosen Option : 3

Q.1
6 दिए गए विकल्पों में से संबंधित शब्द युगल का चयन करें।

शीतकाल :: कोहरा :: _____ : _____

Ans

- ✓ 1. ग्रीष्मकाल : आर्द्रता
- ✗ 2. बाढ़ : रेगिस्तान
- ✗ 3. वर्षा : वृक्ष
- ✗ 4. मौसम : ठंडा

Question ID : 9895808317
Chosen Option : 1

Q.1
7 उस विकल्प का चयन करें जो तीसरे पद से उसी तरह संबंधित है जिस प्रकार पहला पद दूसरे पद से संबंधित है।

FGHM : GHIN :: FKDS : ?

Ans

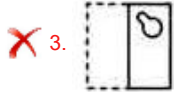
- ✓ 1. GLET
- ✗ 2. KGSV
- ✗ 3. EFGL
- ✗ 4. GHET

Q.1 एक पैटर्न के साथ एक वर्ग पारदर्शी शीट दी गई है। चार विकल्पों में से यह पता करें कि जब डॉटेड लाइन पर पारदर्शी शीट मुड़ी होती है तो पैटर्न कैसे दिखाई देगा।

प्रश्न आकृति:



Ans



Q.1 उस विकल्प का चयन करें जो तीसरे पद से उसी तरह संबंधित है जिस प्रकार पहला पद दूसरे पद से संबंधित है।

$$\frac{1}{14} : \frac{1}{196} :: \frac{1}{16} : ?$$

Ans

✓ 1. $\frac{1}{256}$

✗ 2. $\frac{1}{144}$


✗ 3. $\frac{1}{289}$

✗ 4. $\frac{1}{225}$

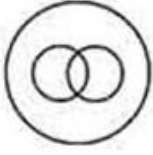
Q.2 वेन आरेख का चयन करें जो दिए गए तीन वर्गों के बीच के संबंध को सर्वोत्तम दर्शाता है।

पांच का वर्ग, तीन का घन, विषम संख्या

Ans



4.



Question ID : 9895808338
Chosen Option : 3

Q.2 उस विकल्प का चयन करें जो सही रूप में रिक्त स्थान की पूर्ति करते हुए श्रृंखला को पूरा करें।

2, 4, 8, 14, 22, _____

- Ans
- ✓ 1. 32
 - ✗ 2. 31
 - ✗ 3. 35
 - ✗ 4. 33

Question ID : 9895808328
Chosen Option : 1

Q.2 नीचे दिए गए कथनों के बाद दो निष्कर्ष I और II दिए गए हैं। यह मानते हुए कि कथनों में दी गई जानकारी सत्य है, भले ही वह सर्वज्ञात तथ्यों से भिन्न प्रतीत होती हो और यह निर्णय करें कि कौन सा/से निष्कर्ष तार्किक और निश्चित रूप से कथन में दी गई जानकारी का अनुसरण करता है/करते हैं।

कथन:

सभी झींगूर, पक्षी हैं।
कोई पक्षी, तितली नहीं है।

निष्कर्ष:

- I. सभी तितलियां, झींगूर हैं।
- II. कुछ झींगूर, तितलियां हैं।

- Ans
- ✗ 1. केवल निष्कर्ष I अनुसरण करता है।
 - ✗ 2. या तो निष्कर्ष I या II अनुसरण करता है।
 - ✓ 3. न तो निष्कर्ष I और न ही II अनुसरण करता है।
 - ✗ 4. केवल निष्कर्ष II अनुसरण करता है।

Question ID : 9895808326
Chosen Option : 3

Q.2 नीचे दिए गए कथनों के बाद दो निष्कर्ष I और II दिए गए हैं। यह मानते हुए कि कथनों में दी गई जानकारी सत्य है, भले ही वह सर्वज्ञात तथ्यों से भिन्न प्रतीत होती हो और यह निर्णय करें कि कौन सा/से निष्कर्ष तार्किक और निश्चित रूप से कथन में दी गई जानकारी का अनुसरण करता है/करते हैं।

कथन:

सभी फल, संतरे हैं।
कुछ फल, अंगूर हैं।
सभी अंगूर, चेरी हैं।

निष्कर्ष:

- I. सभी अंगूर, संतरे हैं।
- II. सभी चेरी, फल हैं।

Ans

✓ 1. न ही निष्कर्ष । न ॥ सत्य है।

✗ 2. केवल निष्कर्ष । सत्य है।

✗ 3. या निष्कर्ष । या ॥ सत्य है।

✗ 4. केवल निष्कर्ष ॥ सत्य है।

Question ID : 9895808325

Chosen Option : 1

Q.2
4 पाँच बन्दर A, B, C, D, और E, पेड़ की एक शाखा पर बैठे हैं।
C, D से अगला बैठा है। D, E के साथ नहीं बैठा है। E, शाखा के बाएँ छोर पर बैठा है। C दाएँ से दूसरे स्थान पर है। A, B के ठीक दाएँ ओर है और B, E के दाएँ ओर है। A और C साथ में बैठे हैं।

A किस स्थान पर बैठा है?

Ans

✓ 1. B और C के बीच

✗ 2. D और C के बीच

✗ 3. E और D के बीच

✗ 4. C और F के बीच

Question ID : 9895808322

Chosen Option : 1

Q.2
5 चार अक्षर समूह दिए गए हैं, जिनमें से तीन किसी तरह से समान हैं, जबकि एक अलग है। असंगत अक्षर समूह का चयन करें।

Ans

✗ 1. WXAB

✗ 2. BCFG

✓ 3. EGFC

✗ 4. NORS

Question ID : 9895808315

Chosen Option : 3

Q.2
6 गराड़ी नृत्य की शैली किस राज्य में लोकप्रिय है?

Ans

✗ 1. मध्य प्रदेश

✗ 2. महाराष्ट्र

✗ 3. पंजाब

✓ 4. पुडुचेरी

Question ID : 9895807380

Chosen Option : 3

Q.2
7 21 दिसंबर, 2018 को भारत का विदेशी मुद्रा भंडार कितना था?

Ans

✓ 1. US\$ 393.29 बिलियन

✗ 2. US\$ 491.50 बिलियन

✗ 3. US\$ 677.85 बिलियन

✗ 4. US\$ 524.17 बिलियन

Question ID : 9895807386

Chosen Option : 1

Q.2
8 लोन फॉक्स ड्रांसिंग: माय ऑटोबायोग्राफी किसकी आत्मकथा है?

Ans ✗ 1. डेविड दविदर

✗ 2. खुशवंत सिंह

✗ 3. शरदिंदु बंदोपाध्याय

✓ 4. रस्किन बांड

Question ID : 9895807384

Chosen Option : 3

Q.2
9 मिस वर्ल्ड का खिताब जीतने वाली पहली भारतीय और पहली एशियाई महिला का नाम बताइए।

Ans ✗ 1. डायना हेडन

✗ 2. जीनत अमान

✗ 3. तारा एनी फॉसेका

✓ 4. रीता फारिया

Question ID : 9895807385

Chosen Option : 4

Q.3
0 1942 के भारत छोड़ो आंदोलन के वक्त गोवालिया टैंक मैदान में भारत का राष्ट्रीय ध्वज फहराने वाला व्यक्ति कौन था?

Ans ✗ 1. अल्लूरी सीताराम राजू

✗ 2. शंभू दत्त शर्मा

✓ 3. अरुणा आसफ अली

✗ 4. मातंगिनी हाजरा

Question ID : 9895807401

Chosen Option : 3

Q.3
1 आवर्त सारणी के 6ठे आवर्त और समूह IVA में कौन सा तत्व रखा गया है?

Ans ✗ 1. टेलुरियम (क्रमांक 52 पर)

✗ 2. स्ट्रॉटियम (क्रमांक 38 पर)

✓ 3. लीड (क्रमांक 82 पर)

✗ 4. बेरियम (क्रमांक 56 पर)

Question ID : 9895807394

Chosen Option : 2

Q.3

2 326 BC में सिक्ंदर और राजा पोरस के बीच युद्ध किस नदी के किनारे पर लड़ा गया था?

- Ans
- 1. सतलज
 - 2. चंबल
 - 3. यमुना
 - 4. झेलम

Question ID : 9895807402
Chosen Option : 4

Q.3
3 दक्षिण भारतीय वंश, विजयनगर साम्राज्य किस राजा द्वारा स्थापित किया गया था?

- Ans
- 1. दंतिदुर्ग
 - 2. बिंदुसार
 - 3. हरिहर I
 - 4. नंदीवर्धन

Question ID : 9895807400
Chosen Option : 3

Q.3
4 2018-19 के लिए मडुवा का न्यूनतम समर्थन मूल्य कितना है?

- Ans
- 1. ₹5,150 प्रति क्विंटल
 - 2. ₹1,950 प्रति क्विंटल
 - 3. ₹2,897 प्रति क्विंटल
 - 4. ₹2,430 प्रति क्विंटल

Question ID : 9895807388
Chosen Option : 2

Q.3
5 निम्न में से कौन सी नदी गंगा की एक सहायक नदी नहीं है?

- Ans
- 1. बेतवा
 - 2. चंबल
 - 3. भीम
 - 4. गोमती

Question ID : 9895807397
Chosen Option : 3

Q.3
6 ब्लाईड वर्ल्ड कप, 2018 का फाइनल जीतने के लिए भारत ने किस देश की क्रिकेट टीम को हराया?

- Ans
- 1. दक्षिण अफ्रीका
 - 2. इंग्लैंड
 - 3. पाकिस्तान
 - 4. न्यूजीलैंड

Question ID : 9895807382
Chosen Option : 4

Q.3 M' द्रव्यमान और 'R' त्रिज्या वाले एक ठोस गोले का इसके केंद्र से गुजरने वाले अक्ष पर जड़त्वाघूर्ण कितना होगा?

- Ans
- 1. $5MR/2$
 - 2. $2MR/5$
 - 3. $5MR^2/2$
 - 4. $2MR^2/5$

Question ID : 9895807392
Chosen Option : 3

Q.3 निम्नलिखित में से कौन सा एक संवैधानिकनिकाय है?

- Ans
- 1. नियंत्रक एवं महा लेखापरीक्षक
 - 2. राज्य सूचना आयोग
 - 3. केन्द्रीय सतर्कता आयोग
 - 4. लोकपाल और लोकायुक्त

Question ID : 9895807390
Chosen Option : 1

Q.3 भारतीय संविधान में अवशिष्ट शक्तियों का विचार किस देश के संविधान से प्रेरित है?

- Ans
- 1. यूनाइटेड किंगडम
 - 2. ऑस्ट्रेलिया
 - 3. आयरलैंड
 - 4. कनाडा

Question ID : 9895807389
Chosen Option : 4

Q.4 कौन सी मिश्रधातु में लीड और टिन होते हैं?

- Ans
- 1. गन मेटल
 - 2. जर्मन सिल्वर
 - 3. बेल मेटल
 - 4. सोल्डर

Question ID : 9895807395
Chosen Option : 4

Q.4 2018 प्रीमियर लीग फाइनल किस टीम ने जीता?

- Ans
- 1. किंग्स XI पंजाब
 - 2. कोलकाता नाइट राइडर्स

3. राजस्थान राँयल्स
 4. चेन्नई सुपर किंग्स

Question ID : 9895807381
Chosen Option : 4

Q.4 कौन सी पर्वत श्रेणी में दुनिया की दूसरी सबसे ऊँची चोटी K2 स्थित है?

- Ans 1. जंस्कार पर्वतमाला
 2. ईस्ट काराकोरम पर्वतमाला
 3. धौलाधार पर्वतमाला
 4. पीर पंजाल पर्वतमाला

Question ID : 9895807398
Chosen Option : 3

Q.4 लोक कला, नृत्य, संगीत और नाटक की वह शैली कौन सी है जो केरल में ओणम त्यौहार के दौरान बाघ के शिकार की कहानी प्रस्तुत करती है?

- Ans 1. पुली काली
 2. मिंजर
 3. करमा
 4. मड़ई

Question ID : 9895807379
Chosen Option : 1

Q.4 किन ग्रहों की कक्षाओं के मध्य क्षुद्रग्रहों की बेल्ट है?

- Ans 1. यूरेनस और नेपचून
 2. शनि और यूरेनस
 3. बृहस्पति और शनि
 4. मंगल और बृहस्पति

Question ID : 9895807399
Chosen Option : 4

Q.4 केंद्रीय बजट 2018 में स्वयं-सहायता समूहों को दिए जाने वाले ऋण की राशि कितनी बढ़ाई गई है?

- Ans 1. ₹15,000 करोड़
 2. ₹35,000 करोड़
 3. ₹55,000 करोड़
 4. ₹75,000 करोड़

Question ID : 9895807387
Chosen Option : 3

Q.4
6 उपसर्ग ' _____ ' 10^{18} के अपवर्तक के बराबर है।

- Ans
- 1. peta
 - 2. atto
 - 3. femto
 - 4. exa

Question ID : 9895807393
Chosen Option : 3

Q.4
7 दादासाहेब फाल्के पुरस्कार पाने वाले प्रथम व्यक्ति का नाम बताइए।

- Ans
- 1. पंकज मलिक
 - 2. बोमीरेड्डी नरसिम्हा रेड्डी
 - 3. पृथ्वीराज कपूर
 - 4. देविका रानी

Question ID : 9895807383
Chosen Option : 4

Q.4
8 किस अधिनियम ने ईस्ट इंडिया कंपनी के सिविल सेवक की भर्ती के लिए आधार के रूप में खुली प्रतियोगिता की व्यवस्था लागू की, जिसका अर्थ था कि भारतीय सिविल सेवा सबके लिए खुल गई?

- Ans
- 1. पिट्स इंडिया एक्ट
 - 2. रेगुलेंटिंग एक्ट 1773
 - 3. 1853 का चार्टर एक्ट
 - 4. 1858 का भारत सरकार अधिनियम

Question ID : 9895807391
Chosen Option : 3

Q.4
9 कौन सी मांसपेशी कनपटी की हड्डी को जबड़े से जोड़ती है?

- Ans
- 1. पेक्टोरेलिस मेजर
 - 2. मेसेटर
 - 3. डेल्टॉयड
 - 4. सोलियस

Question ID : 9895807396
Chosen Option : 4

Q.5
0 कौन सी लिपि कन्नड़ और तेलुगू की लिपि के तौर पर विकसित हुई?

- Ans
- 1. कदंब
 - 2. ब्राह्मी
 - 3. शारदा
 - 4. ग्रंथ

Q.5 निम्न तालिका का अध्ययन करें और प्रश्न का उत्तर दें।
1

विभिन्न राज्यों में निम्न वर्षों में एक प्रतियोगी परीक्षा में उपस्थित और अर्हताप्राप्त उम्मीदवारों की संख्या

राज्य	वर्ष									
	1997		1998		1999		2000		2001	
	App.	Qual.	App.	Qual.	App.	Qual.	App.	Qual.	App.	Qual.
M	5200	720	8500	980	7400	850	6800	775	9500	1125
N	7500	840	9200	1050	8450	920	9200	980	8800	1020
P	6400	780	8800	1020	7800	890	8750	1010	9750	1250
Q	8100	950	9500	1240	8700	980	9700	1200	8950	995
R	7800	870	7600	940	9800	1350	7600	945	7990	885

2000 में एक साथ सभी राज्यों से अर्हताप्राप्त उम्मीदवारों की कुल संख्या 2001 में सभी राज्यों से अर्हताप्राप्त उम्मीदवारों की कुल संख्या का लगभग कितना प्रतिशत है?

- Ans
- 1. 94%
 - 2. 92%
 - 3. 91%
 - 4. 93%

Q.5 दो संख्याओं का योग उनके बीच अंतर का 4 गुना है। यदि छोटी संख्या 45 है, तो बड़ी संख्या ज्ञात कीजिए।
2

- Ans
- 1. 65
 - 2. 85
 - 3. 75
 - 4. 80

Q.5 सबसे छोटी संख्या कौन सी है जिसे 12, 15 और 18 से विभाजित करने पर प्रत्येक मामले में शेषफल 7 आता है?
3

- Ans
- 1. 187
 - 2. 194
 - 3. 182
 - 4. 173

Q.5 सरलीकृत करें: $\frac{18 + \frac{3}{2} \text{ of } 12 - 4}{28 - \frac{3}{2} \text{ of } (12 - 4)}$
4

- Ans
- 1. 3
 - 2. 2

✗ 3. 5

✗ 4. 4

Question ID : 9895807704
Chosen Option : 3

Q.5 निम्न तालिका का अध्ययन करें और प्रश्न का उत्तर दें।
5

विभिन्न राज्यों में निम्न वर्षों में एक प्रतियोगी परीक्षा में उपस्थित और अर्हताप्राप्त उम्मीदवारों की संख्या

राज्य	वर्ष									
	1997		1998		1999		2000		2001	
	App.	Qual.	App.	Qual.	App.	Qual.	App.	Qual.	App.	Qual.
M	5200	720	8500	980	7400	850	6800	775	9500	1125
N	7500	840	9200	1050	8450	920	9200	980	8800	1020
P	6400	780	8800	1020	7800	890	8750	1010	9750	1250
Q	8100	950	9500	1240	8700	980	9700	1200	8950	995
R	7800	870	7600	940	9800	1350	7600	945	7990	885

दिए गए किस वर्ष में, राज्य N से उपस्थित उम्मीदवारों की संख्या में अर्हताप्राप्त उम्मीदवार का अधिकतम प्रतिशत है?

- Ans
- ✗ 1. 1997
 - ✓ 2. 2001
 - ✗ 3. 1999
 - ✗ 4. 1998

Question ID : 9895807726
Chosen Option : 2

Q.5 ₹544 को A, B, C के बीच 3: 5: 8 के अनुपात में विभाजित किया जाना है। तो C को B से कितना अधिक
6 मिलेगा?

- Ans
- ✗ 1. ₹92
 - ✗ 2. ₹272
 - ✗ 3. ₹170
 - ✓ 4. ₹102

Question ID : 9895807713
Chosen Option : 4

Q.5 एक बैंडर ने एक रुपये में 10 टॉफी की दर से टॉफियां खरीदी। उसे 25% लाभ हासिल करने के लिए एक रुपये में
7 कितनी टॉफियां बेचनी चाहिए?

- Ans
- ✗ 1. 7
 - ✓ 2. 8
 - ✗ 3. 5
 - ✗ 4. 6

Question ID : 9895807711
Chosen Option : 2

Q.5 एक आदमी 10 km/hr की गति से अपने ऑफिस जाता है और 15 km/hr की गति से लौटता है। यदि वह कुल 6
8 घंटे का समय लेता है, तो निवास और ऑफिस के बीच की दूरी है:

- Ans
- ✗ 1. 40 km
 - ✗ 2. 26 km

3. 30 km

4. 36 km

Question ID : 9895807720

Chosen Option : 4

Q.5 एक तार एक वर्ग के आकार में मोड़ा जाता है जिसका 121 cm^2 क्षेत्रफल है। यदि तार को एक वृत्त के रूप में मोड़ा जाए तो वृत्त की त्रिज्या है:

Ans 1. 5 cm

2. 6 cm

3. 8 cm

4. 7 cm

Question ID : 9895807723

Chosen Option : 3

Q.6 A अपने वेतन का 80% और B अपने वेतन का 75% खर्च करता है। लेकिन दोनों की बचत बराबर है। यदि उनकी आय का योग ₹72,000 है तो B की आय ज्ञात करें।

Ans 1. ₹40,000

2. ₹32,000

3. ₹36,000

4. ₹38,000

Question ID : 9895807714

Chosen Option : 3

Q.6 एक आदमी 5 घंटे में 13 km धारा-प्रतिकूल (अपस्ट्रीम) और 5 घंटे में 28 km धारा-अनुकूल (डाउनस्ट्रीम) नौका विहार करता है, तो धारा की गति ज्ञात कीजिए।

Ans 1. 1.7 km/hr

2. 1.4 km/hr

3. 1.5 km/hr

4. 1.6 km/hr

Question ID : 9895807721

Chosen Option : 1

Q.6 $44\text{cm} \times 28\text{cm}$ आकार के कागज की एक आयताकार शीट, को 44 cm लंबाई में घुमाया जाता है और एक बेलन (सिलेंडर) बनता है। बने हुए बेलन का आयतन ज्ञात कीजिए।

Ans 1. 4123 cm^3

2. 4312 cm^3

3. 4132 cm^3

4. 4131 cm^3

Question ID : 9895807722

Chosen Option : 2

Q.6 22 परिक्रमण पर 49 cm त्रिज्या के पहिया द्वारा तय की गई समान दूरी को तय करने के लिए 98 cm त्रिज्या वाले पहिये द्वारा कितने परिक्रमण लगाने की आवश्यकता है?

Ans 1. 11

2. 14

✗ 3. 12

✗ 4. 13

Question ID : 9895807724

Chosen Option : 1

Q.6 निम्न तालिका का अध्ययन करें और प्रश्न का उत्तर दें।

4

विभिन्न राज्यों में निम्न वर्षों में एक प्रतियोगी परीक्षा में उपस्थित और अर्हताप्राप्त उम्मीदवारों की संख्या

राज्य	वर्ष									
	1997		1998		1999		2000		2001	
	App.	Qual.	App.	Qual.	App.	Qual.	App.	Qual.	App.	Qual.
M	5200	720	8500	980	7400	850	6800	775	9500	1125
N	7500	840	9200	1050	8450	920	9200	980	8800	1020
P	6400	780	8800	1020	7800	890	8750	1010	9750	1250
Q	8100	950	9500	1240	8700	980	9700	1200	8950	995
R	7800	870	7600	940	9800	1350	7600	945	7990	885

1998 में सभी पाँच राज्यों के बीच उपस्थित उम्मीदवारों की कुल संख्या, अर्हताप्राप्त उम्मीदवारों की कुल संख्या का कितने प्रतिशत है?

- Ans
- ✗ 1. 10.99%
 - ✗ 2. 12.99%
 - ✗ 3. 9.99%
 - ✓ 4. 11.99%

Question ID : 9895807727

Chosen Option : 2

Q.6 A अकेला किसी कार्य को 6 दिनों में, B और C 4 दिनों में, A और C 3 दिनों में करते हैं। तो B को कार्य पूरा करने में कितने दिन लगेंगे?

5

- Ans
- ✗ 1. 14 दिन
 - ✗ 2. 8 दिन
 - ✗ 3. 10 दिन
 - ✓ 4. 12 दिन

Question ID : 9895807718

Chosen Option : 4

Q.6 तीन संख्याओं में से, पहली संख्या दूसरी संख्या की दोगुनी और तीसरी संख्या की तीन गुनी है। यदि तीनों संख्याओं का औसत 660 है, तो सबसे छोटी संख्या क्या है?

6

- Ans
- ✗ 1. 300
 - ✗ 2. 320
 - ✓ 3. 360
 - ✗ 4. 260

Question ID : 9895807707

Chosen Option : 3

Q.6 ₹720 में 18 गेंदे बेचने पर, 6 गेंदों के क्रय मूल्य के बराबर हानि होती है। एक गेंद का क्रय मूल्य है:

7

- Ans
- ✗ 1. ₹50
 - ✗ 2. ₹70

✗ 3. ₹80

✓ 4. ₹60

Question ID : 9895807712

Chosen Option : 4

Q.6 सरलीकृत करें: $15.9 \div 0.3 + 3.2 \times (7.6 - 3.4) - 50$

Ans ✗ 1. 15.44

✗ 2. 16.24

✓ 3. 16.44

✗ 4. 15.42

Question ID : 9895807705

Chosen Option : 3

Q.6 3 के पहले 6 विषम गुणकों का औसत है

Ans ✓ 1. 18

✗ 2. 15

✗ 3. 30

✗ 4. 28

Question ID : 9895807706

Chosen Option : 1

Q.7 दो पाइप A और B क्रमशः 12 घंटे और 15 घंटे में एक टैंक भर सकते हैं, जबकि एक तीसरा पाइप C 10 घंटे में टैंक खाली कर सकता है। यदि सभी तीन पाइप एक साथ खोले जाते हैं, तो टैंक को भरने में कितना समय लगेगा।

Ans ✓ 1. 20 घंटे

✗ 2. 18 घंटे

✗ 3. 15 घंटे

✗ 4. 25 घंटे

Question ID : 9895807719

Chosen Option : 1

Q.7 एक व्यक्ति ने SBI से 10% प्रति वर्ष की साधारण ब्याज दर पर ऋण लिया। 5 वर्ष बाद, उसने ब्याज के रूप में ₹5,000 का भुगतान किया। तो उसके द्वारा उधर ली गई मूल राशि है:

Ans ✗ 1. ₹9,000

✗ 2. ₹8,000

✓ 3. ₹10,000

✗ 4. ₹12,000

Question ID : 9895807716

Chosen Option : 3

Q.7 80 वस्तुओं का माध्य 45 पाया गया। यदि गणना के समय, दो मर्दों को गलती से 26 और 14 के बजाय 62 और 58 लिया गया, तो सही माध्य होगा:

Ans ✗ 1. 43

✓ 2. 44

✗ 3. 45

✗ 4. 42

Question ID : 9895807709

Chosen Option : 1

Q.7 3 वर्ष पहले, बँगलोर की जनसंख्या 3 लाख थी। यदि यह संख्या क्रमिक 3 वर्षों के दौरान क्रमशः 2%, 5% और 4% की दर से बढ़ती है, तो वर्तमान जनसंख्या है:

Ans ✗ 1. 3,35,214

✗ 2. 3,43,152

✓ 3. 3,34,152

✗ 4. 3,53,412

Question ID : 9895807717

Chosen Option : 3

Q.7 ब्लैकबेरी ने शर्ट पर 20% की छूट की घोषणा की। कुमार दुकान पर गया। वह छूट में ₹ 400 बचाना चाहता था।
4 ऐसा करने के लिए उसे कितने शर्ट खरीदने चाहिए, यदि प्रत्येक शर्ट की कीमत ₹500 है?

Ans ✗ 1. 3

✓ 2. 4

✗ 3. 5

✗ 4. 6

Question ID : 9895807708

Chosen Option : 4

Q.7 एक व्यक्ति अपनी आय का 35% भोजन पर और 55% कपड़ों पर खर्च करता है। यदि उसके पास अभी भी ₹400 शेष है, तो उसकी कुल आय क्या है?
5

Ans ✗ 1. ₹3000

✓ 2. ₹4000

✗ 3. ₹5000

✗ 4. ₹4500

Question ID : 9895807710

Chosen Option : 2

Section : English Language

Q.1 Select the most appropriate word to fill in the blank.

Friends who empathise with one another _____ greater satisfaction with their friendship.

Ans ✗ 1. believe

✗ 2. relish

✗ 3. appreciate

✓ 4. experience

Question ID : 9895808059

Chosen Option : --

Q.2

Select the word which means the same as the group of words given.

Anything that cannot be avoided.

- Ans 1. Infallible
 2. Invincible
 3. Inevitable
 4. Indelible

Question ID : 9895808055
Chosen Option : --

Q.3 Select the antonym of the given word.

MUNDANE

- Ans 1. Extraordinary
 2. Common
 3. Regular
 4. Simple

Question ID : 9895808052
Chosen Option : --

Q.4 Select the word which means the same as the group of words given.

An imaginary ideal society free of poverty and suffering.

- Ans 1. Urban
 2. Egalitarian
 3. Cosmopolitan
 4. Utopian

Question ID : 9895808056
Chosen Option : --

Q.5 Select the most appropriate option to substitute the underlined segment in the given sentence. If there is no need to substitute it, select No improvement.

An award winning by a player in any game is testimony of his/her hard work and dedication.

- Ans 1. An award win by a player
 2. No improvement
 3. A award won by a player
 4. An award won for a player

Question ID : 9895808040
Chosen Option : --

Q.6 Select the synonym of the given word.

GALLANT

- Ans 1. Courageous

- 2. Anxious
- 3. Infirm
- 4. Restless

Question ID : 9895808049
Chosen Option : --

Q.7 Select the most appropriate option to substitute the underlined segment in the given sentence. If there is no need to substitute it, select No improvement.

There is a paradigm shift with digital media now becoming the primary source of information.

- Ans
- 1. There was paradigm shift
 - 2. There is paradigm shifts
 - 3. No improvement
 - 4. There are paradigm shift

Question ID : 9895808039
Chosen Option : --

Q.8 Select the synonym of the given word.

ERADICATE

- Ans
- 1. Decorate
 - 2. Dedicate
 - 3. Create
 - 4. Abolish

Question ID : 9895808050
Chosen Option : --

Q.9 From the given options, identify the segment in the sentence which contains the grammatical error.

Poverty and lack of schools are primary reasons for prevalence of child labour for any developing country.

- Ans
- 1. for any developing country
 - 2. lack of schools
 - 3. primary reasons
 - 4. of child labour

Question ID : 9895808036
Chosen Option : --

Q.1 Select the most appropriate word to fill in the blank.

Every good work is the result of cooperation and best wishes of _____ people.

- Ans
- 1. rare
 - 2. limited
 - 3. few
 - 4. several

Question ID : 9895808060
Chosen Option : --

Q.1

1 Select the most appropriate option to fill in the blank.

Artificial intelligence (AI) _____ defined as a system that employs machine learning.

- Ans
- 1. were
 - 2. was
 - 3. are
 - 4. is

Question ID : 9895808041

Chosen Option : --

Q.1
2 Select the option that means the same as the given idiom.

To hit the road.

- Ans
- 1. To cross the road
 - 2. Begin one's journey
 - 3. To complete a journey
 - 4. To meet with an accident

Question ID : 9895808053

Chosen Option : --

Q.1
3 Select the most appropriate option to fill in the blank.

Honesty _____ to being trustworthy and gaining personal recognition.

- Ans
- 1. refers
 - 2. refer
 - 3. referred
 - 4. referring

Question ID : 9895808042

Chosen Option : --

Q.1
4 Select the correctly spelt word.

- Ans
- 1. Receipt
 - 2. Riceipt
 - 3. Receptit
 - 4. Reciept

Question ID : 9895808057

Chosen Option : --

Q.1
5 From the given options, identify the segment in the sentence which contains the grammatical error.

Fitness does not mean to be only physically fit, it also meant healthy mental state of a person.

- Ans
- 1. it also meant healthy
 - 2. only physically fit
 - 3. Fitness does not mean
 - 4. mental state of a person

Comprehension:

In the following passage some words have been deleted. Fill in the blanks with the help of the alternatives given.

We are the leaders of the day and we have (1) _____ to fight against corruption. We have taken an oath that we will (2) _____ pay bribes nor will accept them in our life. If we can develop a committed young generation with this commitment and (3) _____, we can make a big change. We have several examples of how a committed leadership can make a big positive (4) _____ on social life. Another solution is to go for complete digitization and making the process more (5) _____. So let's be optimistic and dream about a corruption free society.

SubQuestion No : 16

Q.1
6 Select the most appropriate option that will fill in the blank number 1.

- Ans
- 1. taken
 - 2. reserved
 - 3. directed
 - 4. resolved

Comprehension:

In the following passage some words have been deleted. Fill in the blanks with the help of the alternatives given.

We are the leaders of the day and we have (1) _____ to fight against corruption. We have taken an oath that we will (2) _____ pay bribes nor will accept them in our life. If we can develop a committed young generation with this commitment and (3) _____, we can make a big change. We have several examples of how a committed leadership can make a big positive (4) _____ on social life. Another solution is to go for complete digitization and making the process more (5) _____. So let's be optimistic and dream about a corruption free society.

SubQuestion No : 17

Q.1
7 Select the most appropriate option that will fill in the blank number 2.

- Ans
- 1. never
 - 2. ever
 - 3. soon
 - 4. later

Comprehension:

In the following passage some words have been deleted. Fill in the blanks with the help of the alternatives given.

We are the leaders of the day and we have (1) _____ to fight against corruption. We have taken an oath that we will (2) _____ pay bribes nor will accept them in our life. If we can develop a committed young generation with this commitment and (3) _____, we can make a big change. We have several examples of how a committed leadership can make a big positive (4) _____ on social life. Another solution is to go for complete digitization and making the process more (5) _____. So let's be optimistic and dream about a corruption free society.

SubQuestion No : 18

Q.1
8 Select the most appropriate option that will fill in the blank number 3.

- Ans
- 1. support
 - 2. reliance
 - 3. promise
 - 4. belief

Question ID : 9895808046
Chosen Option : --

Comprehension:

In the following passage some words have been deleted. Fill in the blanks with the help of the alternatives given.

We are the leaders of the day and we have (1) _____ to fight against corruption. We have taken an oath that we will (2) _____ pay bribes nor will accept them in our life. If we can develop a committed young generation with this commitment and (3) _____, we can make a big change. We have several examples of how a committed leadership can make a big positive (4) _____ on social life. Another solution is to go for complete digitization and making the process more (5) _____. So let's be optimistic and dream about a corruption free society.

SubQuestion No : 19

Q.1
9 Select the most appropriate option that will fill in the blank number 4.

- Ans
- 1. liability
 - 2. blame
 - 3. guilt
 - 4. impact

Question ID : 9895808047
Chosen Option : --

Comprehension:

In the following passage some words have been deleted. Fill in the blanks with the help of the alternatives given.

We are the leaders of the day and we have (1) _____ to fight against corruption. We have taken an oath that we will (2) _____ pay bribes nor will accept them in our life. If we can develop a committed young generation with this commitment and (3) _____, we can make a big change. We have several examples of how a committed leadership can make a big positive (4) _____ on social life. Another solution is to go for complete digitization and making the process more (5) _____. So let's be optimistic and dream about a corruption free society.

SubQuestion No : 20

Q.2
0 Select the most appropriate option that will fill in the blank number 5.

- Ans
- 1. transparent
 - 2. opaque
 - 3. hidden
 - 4. secret

Question ID : 9895808048
Chosen Option : --

Q.2
1 Select the option that means the same as the given idiom.

To have a blast.

- Ans
- 1. To burst a balloon
 - 2. To have too many friends
 - 3. To fire a cracker
 - 4. To have a good time

Question ID : 9895808054
Chosen Option : --

Q.2
2 Select the most appropriate option to substitute the underlined segment in the given sentence. If there is no need to substitute it, select No improvement.

Karishma sent a word to me that she would be coming over.

- Ans
- 1. No improvement
 - 2. sent words
 - 3. had sent word
 - 4. sent a word

Question ID : 9895808038
Chosen Option : --

Q.2
3 Select the antonym of the given word.

LIBERAL

- Ans
- 1. Reserved
 - 2. Aloof
 - 3. Quiet

✗ 4. Stingy

Question ID : 9895808051

Chosen Option : --

Q.2
4 Select the correctly spelt word.

- Ans
- ✗ 1. Heterogeneous
 - ✗ 2. Heterogenaous
 - ✗ 3. Heteroganeous
 - ✓ 4. Hetarogeneous

Question ID : 9895808058

Chosen Option : --

Q.2 From the given options, identify the segment in the sentence which contains the grammatical error.

5

Technology have not only revolutionized the learning process but also has spread knowledge liberally across the world.

- Ans
- ✗ 1. the learning process
 - ✗ 2. has spread knowledge
 - ✗ 3. across the world
 - ✓ 4. Technology have not only

Question ID : 9895808037

Chosen Option : --

Section : Hindi Language

Comprehension:

निम्नलिखित गद्यांश के रिक्त स्थानों की पूर्ति गद्यांश के नीचे दिए गए प्रश्नों के अनुसार कीजिए-

आज के समय में लड़का लड़की एक _____ (1) हैं। आज अगर कोई ये मानता है कि लड़की कुछ नहीं कर सकती और लड़का सब कुछ कर सकता है तो वह इंसान _____ (2) है। आज का समय पहले की तरह नहीं जहाँ लड़कियों को सिर्फ घर का काम और बच्चों को संभालने की _____ (3) दी जाती थी और ये माना जाता था कि इसके इलावा लड़कियाँ और कुछ नहीं कर सकतीं। अब लड़कियाँ लड़कों के कंधे से कन्धा _____ (4) काम करती हैं। अब सरकार और समाज ने दोनों को _____ (5) का दर्जा दिया है।

SubQuestion No : 1

Q.1 गद्यांश में संकेतित रिक्त स्थान (1) के लिए उपयुक्त शब्द होगा।

- Ans
- ✗ 1. अभिन्न
 - ✗ 2. भिन्न
 - ✗ 3. सामान
 - ✓ 4. समान

Comprehension:

निम्नलिखित गद्यांश के रिक्त स्थानों की पूर्ति गद्यांश के नीचे दिए गए प्रश्नों के अनुसार कीजिए-

आज के समय में लड़का लड़की एक _____ (1) हैं। आज अगर कोई ये मानता है कि लड़की कुछ नहीं कर सकती और लड़का सब कुछ कर सकता है तो वह इंसान _____ (2) है। आज का समय पहले की तरह नहीं जहाँ लड़कियों को सिर्फ घर का काम और बच्चों को संभालने की _____ (3) दी जाती थी और ये माना जाता था कि इसके इलावा लड़कियाँ और कुछ नहीं कर सकतीं। अब लड़कियाँ लड़कों के कंधे से कन्धा _____ (4) काम करती हैं। अब सरकार और समाज ने दोनों को _____ (5) का दर्जा दिया है।

SubQuestion No : 2

Q.2 गद्यांश में संकेतित रिक्त स्थान (2) के लिए उपयुक्त शब्द होगा।

- Ans
- 1. आदर्श
 - 2. उचित
 - 3. गलत
 - 4. सही

Comprehension:

निम्नलिखित गद्यांश के रिक्त स्थानों की पूर्ति गद्यांश के नीचे दिए गए प्रश्नों के अनुसार कीजिए-

आज के समय में लड़का लड़की एक _____ (1) हैं। आज अगर कोई ये मानता है कि लड़की कुछ नहीं कर सकती और लड़का सब कुछ कर सकता है तो वह इंसान _____ (2) है। आज का समय पहले की तरह नहीं जहाँ लड़कियों को सिर्फ घर का काम और बच्चों को संभालने की _____ (3) दी जाती थी और ये माना जाता था कि इसके इलावा लड़कियाँ और कुछ नहीं कर सकतीं। अब लड़कियाँ लड़कों के कंधे से कन्धा _____ (4) काम करती हैं। अब सरकार और समाज ने दोनों को _____ (5) का दर्जा दिया है।

SubQuestion No : 3

Q.3 गद्यांश में संकेतित रिक्त स्थान (3) के लिए उपयुक्त शब्द होगा।

Ans

- ✓ 1. जिम्मेदारी
- ✗ 2. ईमानदारी
- ✗ 3. हिस्सेदारी
- ✗ 4. नौकरी

Question ID : 9895806826
Chosen Option : 1

Comprehension:

निम्नलिखित गद्यांश के रिक्त स्थानों की पूर्ति गद्यांश के नीचे दिए गए प्रश्नों के अनुसार कीजिए-

आज के समय में लड़का लड़की एक _____ (1) हैं। आज अगर कोई ये मानता है कि लड़की कुछ नहीं कर सकती और लड़का सब कुछ कर सकता है तो वह इंसान _____ (2) है। आज का समय पहले की तरह नहीं जहाँ लड़कियों को सिर्फ घर का काम और बच्चों को संभालने की _____ (3) दी जाती थी और ये माना जाता था कि इसके इलावा लड़कियाँ और कुछ नहीं कर सकतीं। अब लड़कियाँ लड़कों के कंधे से कन्धा _____ (4) काम करती हैं। अब सरकार और समाज ने दोनों को _____ (5) का दर्जा दिया है।

SubQuestion No : 4

Q.4 गद्यांश में संकेतित रिक्त स्थान (4) के लिए उपयुक्त शब्द होगा।

- Ans
- ✗ 1. हटाकर
 - ✓ 2. मिलाकर
 - ✗ 3. लगाकर
 - ✗ 4. टकराकर

Question ID : 9895806827
Chosen Option : 2

Comprehension:

निम्नलिखित गद्यांश के रिक्त स्थानों की पूर्ति गद्यांश के नीचे दिए गए प्रश्नों के अनुसार कीजिए-

आज के समय में लड़का लड़की एक _____ (1) हैं। आज अगर कोई ये मानता है कि लड़की कुछ नहीं कर सकती और लड़का सब कुछ कर सकता है तो वह इंसान _____ (2) है। आज का समय पहले की तरह नहीं जहाँ लड़कियों को सिर्फ घर का काम और बच्चों को संभालने की _____ (3) दी जाती थी और ये माना जाता था कि इसके इलावा लड़कियाँ और कुछ नहीं कर सकतीं। अब लड़कियाँ लड़कों के कंधे से कन्धा _____ (4) काम करती हैं। अब सरकार और समाज ने दोनों को _____ (5) का दर्जा दिया है।

SubQuestion No : 5

Q.5 गद्यांश में संकेतित रिक्त स्थान (5) के लिए उपयुक्त शब्द होगा।

- Ans
- 1. असमानता
 - 2. विशिष्टता
 - 3. समीपता
 - 4. बराबरी

Question ID : 9895806828

Chosen Option : 4

Q.6 रिक्त स्थान को भरने के लिए उपयुक्त शब्द का चयन करें।

मोहन स्कूल जाता है _____ मन लगाकर पढ़ता है।

- Ans
- 1. परंतु
 - 2. यदि
 - 3. और
 - 4. किंतु

Question ID : 9895806819

Chosen Option : 3

Q.7 निम्नलिखित में से उस विकल्प का चयन करें जो 'नाक में नकेल डालना' मुहावरे का अर्थ व्यक्त करता है।

- Ans
- 1. परेशान करना
 - 2. नाक में नथ पहनाना
 - 3. नियंत्रण में करना
 - 4. अनियंत्रित करना

Question ID : 9895806834

Chosen Option : 3

Q.8 दिए गए वाक्य का वह भाग ज्ञात करें जिसमें कोई त्रुटि है।

श्रम की साधना से ही राष्ट्र महान होती है।

- Ans
- 1. श्रम की
 - 2. होती है।
 - 3. साधना से ही
 - 4. राष्ट्र महान

Question ID : 9895806813
Chosen Option : 3

Q.9 दिए गए शब्द के पर्यायवाची शब्द का चयन करें।

प्रयत्न

- Ans
- 1. प्रयास
 - 2. श्रेष्ठ
 - 3. पयोद
 - 4. अनायास

Question ID : 9895806832
Chosen Option : 1

Q.10 निम्नलिखित में से उस विकल्प का चयन करें जो 'हाथ पाँव फूल जाना' मुहावरे का अर्थ व्यक्त करता है।

- Ans
- 1. हाथ-पैर में चोट लगना
 - 2. सूजन आ जाना
 - 3. घबरा जाना
 - 4. दुखी हो जाना

Question ID : 9895806833
Chosen Option : 3

Q.11 दिए गए वाक्य का वह भाग ज्ञात करें जिसमें कोई त्रुटि है।

कहने की आवश्यकता नहीं कि पुरुष किन्तु नारी एक दूसरे के पूरक हैं।

- Ans
- 1. एक दूसरे के
 - 2. कहने की आवश्यकता नहीं कि
 - 3. पूरक हैं।
 - 4. पुरुष किन्तु नारी

Question ID : 9895806815
Chosen Option : 2

Q.1
2 सही वर्तनी वाले शब्द का चयन करें।

- Ans
- 1. प्रधानमंत्री
 - 2. पर्धानमंत्री
 - 3. प्रधानमनत्री
 - 4. परधानमंत्री

Question ID : 9895806838

Chosen Option : 1

Q.1
3 दिए गए वाक्य में रेखांकित खंड को प्रतिस्थापित करने के लिए उपयुक्त विकल्प का चयन करें।

मेरा मित्र ज़रूरी काम में व्यस्त है।

- Ans
- 1. कठोर
 - 2. आवश्यक
 - 3. साधारण
 - 4. सामान्य

Question ID : 9895806816

Chosen Option : 2

Q.1
4 रिक्त स्थान को भरने के लिए उपयुक्त शब्द का चयन करें।

मुझे नैना पर चोरी का _____ है।

- Ans
- 1. संदेह
 - 2. अपमान
 - 3. गर्व
 - 4. मान

Question ID : 9895806822

Chosen Option : 1

Q.1
5 दिये गये वाक्यांश के लिए एक शब्द दीजिये।

शरण में आया हुआ

- Ans
- 1. शरणागत
 - 2. आगत
 - 3. गोपनीय
 - 4. शरणीय

Question ID : 9895806835

Chosen Option : 4

Q.1
6 सही वर्तनी वाले शब्द का चयन करें।

- Ans
- 1. हनसवहिनी

- 2. हंसवहिनि
- 3. हंसवाहीनी
- 4. हंसवाहिनी

Question ID : 9895806837
Chosen Option : 4

Q.1
7 रिक्त स्थान को भरने के लिए उपयुक्त शब्द का चयन करें।

वह दिल्ली से _____ आया है।

- Ans
- 1. आज
 - 2. ज्यादा
 - 3. चल
 - 4. थोड़ा

Question ID : 9895806820
Chosen Option : 1

Q.1
8 दिए गए शब्द के पर्यायवाची शब्द का चयन करें।

समता

- Ans
- 1. केतु
 - 2. बराबरी
 - 3. संकट
 - 4. असमता

Question ID : 9895806831
Chosen Option : 2

Q.1
9 दिए गए शब्द का विलोम चुनें।

सजीव

- Ans
- 1. राजीव
 - 2. निर्जीव
 - 3. जीव
 - 4. जीवित

Question ID : 9895806829
Chosen Option : 2

Q.2
0 रिक्त स्थान को भरने के लिए उपयुक्त शब्द का चयन करें।

पेट्रोल के _____ बढ़ गए हैं।

- Ans
- 1. कीमत

2. शाम

3. दाम

4. नाम

Question ID : 9895806821
Chosen Option : 3

Q.2
1 दिए गए शब्द का विलोम चुनें।

रोगी

Ans 1. योगी

2. निरोग

3. भोगी

4. बलवान

Question ID : 9895806830
Chosen Option : 2

Q.2
2 दिए गए वाक्य में रेखांकित खंड को प्रतिस्थापित करने के लिए उपयुक्त विकल्प का चयन करें।

पिक का स्वर बहुत मधुर होता है।

Ans 1. गरुड़

2. वायु

3. तरु

4. कोयल

Question ID : 9895806817
Chosen Option : 4

Q.2
3 दिए गए वाक्य में रेखांकित खंड को प्रतिस्थापित करने के लिए उपयुक्त विकल्प का चयन करें।

उसका भर्ता अच्छा शिक्षक है।

Ans 1. पुत्री

2. पुत्र

3. भाई

4. पति

Question ID : 9895806818
Chosen Option : 3

Q.2
4 दिये गये वाक्यांश के लिए एक शब्द दीजिये।

हाथ से लिखा हुआ

Ans 1. हस्तलिखित

2. उल्लिखित

- 3. अधोलिखित
- 4. निम्नलिखित

Question ID : 9895806836
Chosen Option : 1

Q.2 दिए गए वाक्य का वह भाग ज्ञात करें जिसमें कोई त्रुटि है।

तुलसीदास जी ने रामचरित मानस की रचना अवधी भाषा में किए हैं।

- Ans
- 1. अवधी भाषा में
 - 2. किए हैं।
 - 3. रामचरित मानस की रचना
 - 4. तुलसीदास जी ने

Question ID : 9895806814
Chosen Option : 2

Prepp



Latest Sarkari jobs, Govt Exam alerts, Results and Vacancies

- ▶ Latest News and Notification
- ▶ Exam Paper Analysis
- ▶ Topic-wise weightage
- ▶ Previous Year Papers with Answer Key
- ▶ Preparation Strategy & Subject-wise Books

To know more [Click Here](#)



www.prepp.in