

## Banaras Hindu University

**Question Paper Name:** 204 24th May 2019 Shift 2  
**Subject Name:** 204  
**Creation Date:** 2019-05-24 19:06:24  
**Duration:** 120  
**Total Marks:** 360  
**Display Marks:** Yes  
**Share Answer Key With Delivery Engine:** Yes  
**Actual Answer Key:** Yes

### Common Entrance Test II

**Group Number :** 1  
**Group Id :** 17856748  
**Group Maximum Duration :** 0  
**Group Minimum Duration :** 120  
**Revisit allowed for view? :** No  
**Revisit allowed for edit? :** No  
**Break time:** 0  
**Group Marks:** 360

### Section I

**Section Id :** 17856792  
**Section Number :** 1  
**Section type :** Online  
**Mandatory or Optional:** Mandatory  
**Number of Questions:** 30  
**Number of Questions to be attempted:** 30  
**Section Marks:** 90  
**Display Number Panel:** Yes  
**Group All Questions:** No

**Sub-Section Number:** 1  
**Sub-Section Id:** 178567136  
**Question Shuffling Allowed :** Yes

**Question Number : 1 Question Id : 1785675643 Question Type : MCQ Option Shuffling : Yes Display Question Number : Yes**  
**Single Line Question Option : No Option Orientation : Vertical Allowed Progression : Yes Number of Replay : 999 Play On Load : No Control Enable : Yes**

**Correct Marks : 3 Wrong Marks : 1**

**Question Label : Multiple Choice Question**

**The National Anthem of India was first sung in :**

**भारत का राष्ट्रीय गान पहली बार गाया गया था :**

**Options :**

1911 at Kolkata Session of the Indian National Congress.

1. भारतीय राष्ट्रीय कांग्रेस के 1911 के कोलकाता अधिवेशन में।

1911 at Kolkata Session of the Rashtriya Sewak Sangh.

2. राष्ट्रीय सेवक संघ के 1911 के कोलकाता अधिवेशन में।

1927 at Lahore Session of the Indian National Congress.

3. भारतीय राष्ट्रीय कांग्रेस के 1927 के लाहौर अधिवेशन में।

1947 at Nagpur Session of the Rashtriya Swayam Sevak Sangh.

4. भारतीय स्वयम् सेवक संघ के 1947 के नागपुर अधिवेशन में।

Question Number : 2 Question Id : 1785675644 Question Type : MCQ Option Shuffling : Yes Display Question Number : Yes  
Single Line Question Option : No Option Orientation : Vertical Allowed Progression : Yes Number of Replay : 999 Play On Load :  
No Control Enable : Yes

Correct Marks : 3 Wrong Marks : 1

Question Label : Multiple Choice Question

The mind of the makers of the Constitutions of India is reflected in the :

भारतीय संविधान के निर्माताओं की सोच परिलक्षित होती है :

Options :

Fundamental Rights

1. मौलिक अधिकार

Fundamental Duties

2. मौलिक कर्तव्य

Preamble

3. प्रस्तावना

Directive Principle of State Policy

4. राज्य के नीति निर्देशक तत्त्व

Question Number : 3 Question Id : 1785675645 Question Type : MCQ Option Shuffling : Yes Display Question Number : Yes  
Single Line Question Option : No Option Orientation : Vertical Allowed Progression : Yes Number of Replay : 999 Play On Load :  
No Control Enable : Yes

Correct Marks : 3 Wrong Marks : 1

Question Label : Multiple Choice Question

The colour of wheel (chakra) in the National Flag of India is :

भारत के राष्ट्रध्वज में चक्र का रंग है :

Options :

Black

1. काला



- Navy Blue  
2. गहरा नीला
- Green  
3. हरा
- Saffron  
4. केसरिया

Question Number : 4 Question Id : 1785675646 Question Type : MCQ Option Shuffling : Yes Display Question Number : Yes  
Single Line Question Option : No Option Orientation : Vertical Allowed Progression : Yes Number of Replay : 999 Play On Load :  
No Control Enable : Yes

Correct Marks : 3 Wrong Marks : 1

Question Label : Multiple Choice Question

National Emergency can be declared under the Constitution of India by invoking the provisions of :

भारत में राष्ट्रीय आपातकाल संविधान के किस प्रावधान का प्रयोग करके लाया जा सकता है :

Options :

- Article 352  
1. अनुच्छेद 352
- Article 356  
2. अनुच्छेद 356
- Article 360  
3. अनुच्छेद 360
- Article 370  
4. अनुच्छेद 370

Question Number : 5 Question Id : 1785675647 Question Type : MCQ Option Shuffling : Yes Display Question Number : Yes  
Single Line Question Option : No Option Orientation : Vertical Allowed Progression : Yes Number of Replay : 999 Play On Load :  
No Control Enable : Yes

Correct Marks : 3 Wrong Marks : 1

Question Label : Multiple Choice Question

'Indian Opinion' paper was started by :

'इण्डियन ओपिनियन' पत्र की शुरुआत की गयी :

Options :

- Gandhiji  
1. गाँधीजी द्वारा
- Tilak  
2. तिलक द्वारा

Gokhale

3. गोखले द्वारा

Swami Vivekanand

4. स्वामी विवेकानन्द द्वारा

Question Number : 6 Question Id : 1785675648 Question Type : MCQ Option Shuffling : Yes Display Question Number : Yes  
Single Line Question Option : No Option Orientation : Vertical Allowed Progression : Yes Number of Replay : 999 Play On Load :  
No Control Enable : Yes

Correct Marks : 3 Wrong Marks : 1

Question Label : Multiple Choice Question

Montague-Chelmsford proposals were related to :

माण्टेग्यू चेलमसफोर्ड प्रस्ताव सम्बन्धित थे :

Options :

Police Reform

1. पुलिस सुधार से

Administrative Reform

2. प्रशासनिक सुधार से

Social Reform

3. सामाजिक सुधार से

Constitutional Reform

4. संवैधानिक सुधार से

Question Number : 7 Question Id : 1785675649 Question Type : MCQ Option Shuffling : Yes Display Question Number : Yes  
Single Line Question Option : No Option Orientation : Vertical Allowed Progression : Yes Number of Replay : 999 Play On Load :  
No Control Enable : Yes

Correct Marks : 3 Wrong Marks : 1

Question Label : Multiple Choice Question

The treaty of Allahabad was concluded between :

इलाहाबाद संधि हुई :

Options :

Lord Clive and Shuja-ud-Daulah

1. लॉर्ड क्लाइव और शुजा-उ-दौला के मध्य

Lord Clive and Shah Alam II

2. लॉर्ड क्लाइव और शाह आलम II के मध्य

Lord Clive and Shuja-ud-Daulah and Shah Alam II

3. लॉर्ड क्लाइव एवं शुजा-उ-दौला और शाह आलम II के मध्य



Lord Clive and Mir Qasim

4. लॉर्ड क्लाइव और मीर कासिम के मध्य

Question Number : 8 Question Id : 1785675650 Question Type : MCQ Option Shuffling : Yes Display Question Number : Yes  
Single Line Question Option : No Option Orientation : Vertical Allowed Progression : Yes Number of Replay : 999 Play On Load :  
No Control Enable : Yes

Correct Marks : 3 Wrong Marks : 1

Question Label : Multiple Choice Question

Udhyam Abhilasha, a National Level Entrepreneurship Awareness Campaign is lauched by :

उद्यम अभिलाषा, जो एक राष्ट्रीय स्तर की उद्यमिता जागरूकता अभियान है उसे प्रारम्भ किया गया :

Options :

Exim Bank

1. इक्विजम बैंक द्वारा

NABARD

2. नाबार्ड द्वारा

SIDBI

3. सिडबी द्वारा

IFCI

4. आई० एफ० सी० आई० द्वारा

Question Number : 9 Question Id : 1785675651 Question Type : MCQ Option Shuffling : Yes Display Question Number : Yes  
Single Line Question Option : No Option Orientation : Vertical Allowed Progression : Yes Number of Replay : 999 Play On Load :  
No Control Enable : Yes

Correct Marks : 3 Wrong Marks : 1

Question Label : Multiple Choice Question

Which company has become India's largest tax payer in private sector ?

कौन-सी कम्पनी देश में निजी क्षेत्र में सबसे बड़ी करदाता बनी है ?

Options :

ICICI Bank

1. आई० सी० आई० सी० आई० बैंक

Reliance Industries

2. रिलायंस उद्योग

Tata Steel

3. टाटा स्टील

TCS

4. टी० सी० एस०

Question Number : 10 Question Id : 1785675652 Question Type : MCQ Option Shuffling : Yes Display Question Number : Yes  
Single Line Question Option : No Option Orientation : Vertical Allowed Progression : Yes Number of Replay : 999 Play On Load :  
No Control Enable : Yes

Correct Marks : 3 Wrong Marks : 1

Question Label : Multiple Choice Question

Who recommends the MSP and issue prices ?

एम० एस० पी० एवं निर्गमन कीमत की अनुशंसा कौन करता है ?

Options :

Ministry of Agriculture

1. कृषि मंत्रालय

Planning Commission

2. योजना आयोग

NABARD

3. नाबार्ड

Commission for Agricultural Costs and Price (CACP)

4. कृषि लागत एवं मूल्य आयोग (सी०ए०सी०पी०)

Question Number : 11 Question Id : 1785675653 Question Type : MCQ Option Shuffling : Yes Display Question Number : Yes  
Single Line Question Option : No Option Orientation : Vertical Allowed Progression : Yes Number of Replay : 999 Play On Load :  
No Control Enable : Yes

Correct Marks : 3 Wrong Marks : 1

Question Label : Multiple Choice Question

Black revolution is related to :

काली क्रान्ति (ब्लैक रिवोल्यूशन) संबंधित है :

Options :

Fish Production

1. मछली उत्पादन से

Coal Production

2. कोयला उत्पादन से

Crude Oil Production

3. कच्चा तेल उत्पादन से

Mustard Production

4. सरसों उत्पादन से



Question Number : 12 Question Id : 1785675654 Question Type : MCQ Option Shuffling : Yes Display Question Number : Yes  
Single Line Question Option : No Option Orientation : Vertical Allowed Progression : Yes Number of Replay : 999 Play On Load :  
No Control Enable : Yes

Correct Marks : 3 Wrong Marks : 1

Question Label : Multiple Choice Question

Which of the following is *not* a biotic element of environment ?

निम्नलिखित में से कौन पर्यावरण का जैविक तत्त्व *नहीं* है ?

Options :

1. Soil  
मिट्टी
2. Plants  
पौधे
3. Animals  
जानवर
4. Bacteria  
बैक्टीरिया

Question Number : 13 Question Id : 1785675655 Question Type : MCQ Option Shuffling : Yes Display Question Number : Yes  
Single Line Question Option : No Option Orientation : Vertical Allowed Progression : Yes Number of Replay : 999 Play On Load :  
No Control Enable : Yes

Correct Marks : 3 Wrong Marks : 1

Question Label : Multiple Choice Question

The Mohiniattam dance form was developed in :

मोहिनीअट्टम नृत्य विधि विकसित हुई थी :

Options :

1. Andhra Pradesh  
आन्ध्र प्रदेश में
2. Karnataka  
कर्नाटक में
3. Kerala  
केरल में
4. Tamil Nadu  
तमिलनाडु में

Question Number : 14 Question Id : 1785675656 Question Type : MCQ Option Shuffling : Yes Display Question Number : Yes  
Single Line Question Option : No Option Orientation : Vertical Allowed Progression : Yes Number of Replay : 999 Play On Load :  
No Control Enable : Yes

Correct Marks : 3 Wrong Marks : 1

Question Label : Multiple Choice Question

Where is Kandariya Mahadeo Temple situated ?

कन्दरिया महादेव मन्दिर कहाँ स्थित है ?

Options :

- Sarnath
- 1. सारनाथ
  
- Konark
- 2. कोर्णाक
  
- Khajuraho
- 3. खजुराहो
  
- Sanchi
- 4. साँची

Question Number : 15 Question Id : 1785675657 Question Type : MCQ Option Shuffling : Yes Display Question Number : Yes  
Single Line Question Option : No Option Orientation : Vertical Allowed Progression : Yes Number of Replay : 999 Play On Load :  
No Control Enable : Yes

Correct Marks : 3 Wrong Marks : 1

Question Label : Multiple Choice Question

Which of the following was *not* a centre of Buddhist Art ?

निम्न में से कौन बौद्धकला का केन्द्र *नहीं* था ?

Options :

- Sarnath
- 1. सारनाथ
  
- Gandhar
- 2. गांधार
  
- Mathura
- 3. मथुरा
  
- Vatapi
- 4. वातापी

Question Number : 16 Question Id : 1785675658 Question Type : MCQ Option Shuffling : Yes Display Question Number : Yes  
Single Line Question Option : No Option Orientation : Vertical Allowed Progression : Yes Number of Replay : 999 Play On Load :  
No Control Enable : Yes

Correct Marks : 3 Wrong Marks : 1

Question Label : Multiple Choice Question

Which country won FIFA World Cup Football tournament, 2018 held in Russia ?

रूस में हुए फीफा विश्व कप फुटबाल प्रतियोगिता, 2018 किस देश ने जीती ?

Options :



- France  
1. फ्रांस
- Brazil  
2. ब्राजील
- Argentina  
3. अर्जेण्टिना
- Germany  
4. जर्मनी

Question Number : 17 Question Id : 1785675659 Question Type : MCQ Option Shuffling : Yes Display Question Number : Yes  
Single Line Question Option : No Option Orientation : Vertical Allowed Progression : Yes Number of Replay : 999 Play On Load :  
No Control Enable : Yes

Correct Marks : 3 Wrong Marks : 1

Question Label : Multiple Choice Question

Which country hosted 2018 Mens Hockey World Cup Tournament ?

2018 में हुए पुरुष विश्व कप हॉकी प्रतियोगिता का आयोजन किस देश ने किया था ?

Options :

- Germany  
1. जर्मनी
- Australia  
2. ऑस्ट्रेलिया
- Argentina  
3. अर्जेण्टिना
- India  
4. भारत

Question Number : 18 Question Id : 1785675660 Question Type : MCQ Option Shuffling : Yes Display Question Number : Yes  
Single Line Question Option : No Option Orientation : Vertical Allowed Progression : Yes Number of Replay : 999 Play On Load :  
No Control Enable : Yes

Correct Marks : 3 Wrong Marks : 1

Question Label : Multiple Choice Question

'Chinaman' is a term associated with which of the following sports ?

'चाइनामैन' पद (टर्म) किस खेल से जुड़ा है ?

Options :

- Badminton  
1. बैडमिण्टन

Table Tennis  
2. टेबल टेनिस

Cricket  
3. क्रिकेट

Football  
4. फुटबाल

Question Number : 19 Question Id : 1785675661 Question Type : MCQ Option Shuffling : Yes Display Question Number : Yes  
Single Line Question Option : No Option Orientation : Vertical Allowed Progression : Yes Number of Replay : 999 Play On Load :  
No Control Enable : Yes

Correct Marks : 3 Wrong Marks : 1

Question Label : Multiple Choice Question

Oscar award winning film named '*Period. End of Sentence*' deals with stigma attached with :

ऑस्कर जीतने वाली फिल्म '*पीरियड। एण्ड ऑफ सेंटेंस*' किस समस्या की पीड़ा/क्षोभ से संबंधित थी ?

Options :

Leprosy  
1. कुष्ठ

Menstruation  
2. मासिक धर्म

Dowry  
3. दहेज

Acid Attack  
4. एसिड आक्रमण

Question Number : 20 Question Id : 1785675662 Question Type : MCQ Option Shuffling : Yes Display Question Number : Yes  
Single Line Question Option : No Option Orientation : Vertical Allowed Progression : Yes Number of Replay : 999 Play On Load :  
No Control Enable : Yes

Correct Marks : 3 Wrong Marks : 1

Question Label : Multiple Choice Question

Who is the Governor of the Reserve Bank of India ?

भारतीय रिजर्व बैंक का गवर्नर कौन है ?

Options :

Urjit Patel  
1. उर्जित पटेल



Raghuram Rajan

2. रघुराम राजन

Shashikanta Das

3. शशिकान्ता दास

Ajit Doval

4. अजित डोभाल

Question Number : 21 Question Id : 1785675663 Question Type : MCQ Option Shuffling : Yes Display Question Number : Yes  
Single Line Question Option : No Option Orientation : Vertical Allowed Progression : Yes Number of Replay : 999 Play On Load :  
No Control Enable : Yes

Correct Marks : 3 Wrong Marks : 1

Question Label : Multiple Choice Question

'Mission Shakti' recently in news is related to :

अभी हाल समाचार में 'मिशन शक्ति' सम्बन्धित है :

Options :

Anti-satellite Missile

1. एण्टी-सैटेलाइट मिसाइल

EMISAT satellite

2. एमीसैट सैटेलाइट

Women Empowerment

3. महिला सशक्तिकरण

Military operation

4. मिलिटरी आपरेशन

Question Number : 22 Question Id : 1785675664 Question Type : MCQ Option Shuffling : Yes Display Question Number : Yes  
Single Line Question Option : No Option Orientation : Vertical Allowed Progression : Yes Number of Replay : 999 Play On Load :  
No Control Enable : Yes

Correct Marks : 3 Wrong Marks : 1

Question Label : Multiple Choice Question

National Space Agency ISRO signed agreement with which country to set up a joint maritime surveillance system ?

राष्ट्रीय अंतरिक्ष एजेंसी आई० एस० आर० ओ० (इसरो) ने किस देश के साथ संयुक्त समुद्री निगरानी व्यवस्था स्थापित करने के लिए समझौता किया है ?

Options :

United States of America

1. संयुक्त राज्य अमेरिका

China  
2. चीन

France  
3. फ्रांस

Russia  
4. रूस

Question Number : 23 Question Id : 1785675665 Question Type : MCQ Option Shuffling : Yes Display Question Number : Yes  
Single Line Question Option : No Option Orientation : Vertical Allowed Progression : Yes Number of Replay : 999 Play On Load :  
No Control Enable : Yes

Correct Marks : 3 Wrong Marks : 1

Question Label : Multiple Choice Question

The provision for constitution of Finance Commission is in Article :  
वित्त आयोग के गठन के लिए प्रावधान है अनुच्छेद :

Options :

1. 280

2. 315

3. 248

4. 215

Question Number : 24 Question Id : 1785675666 Question Type : MCQ Option Shuffling : Yes Display Question Number : Yes  
Single Line Question Option : No Option Orientation : Vertical Allowed Progression : Yes Number of Replay : 999 Play On Load :  
No Control Enable : Yes

Correct Marks : 3 Wrong Marks : 1

Question Label : Multiple Choice Question

An area can be declared as 'Scheduled Area' by the :  
किसी क्षेत्र को 'अनुसूचित क्षेत्र' घोषित किया जा सकता है :

Options :

Parliament  
1. संसद द्वारा

State Legislative Assembly  
2. राज्य की विधानसभा द्वारा



President

3. राष्ट्रपति द्वारा

Governor

4. राज्यपाल द्वारा

Question Number : 25 Question Id : 1785675667 Question Type : MCQ Option Shuffling : Yes Display Question Number : Yes  
Single Line Question Option : No Option Orientation : Vertical Allowed Progression : Yes Number of Replay : 999 Play On Load :  
No Control Enable : Yes

Correct Marks : 3 Wrong Marks : 1

Question Label : Multiple Choice Question

The nature of Constitution of India is :

भारत के संविधान की प्रकृति है :

Options :

Unitary

1. एकात्मक

Federal

2. संघात्मक

Quasi-Federal

3. अर्ध-संघात्मक

Neither Unitary nor Federal

4. न एकात्मक और न संघात्मक

Question Number : 26 Question Id : 1785675668 Question Type : MCQ Option Shuffling : Yes Display Question Number : Yes  
Single Line Question Option : No Option Orientation : Vertical Allowed Progression : Yes Number of Replay : 999 Play On Load :  
No Control Enable : Yes

Correct Marks : 3 Wrong Marks : 1

Question Label : Multiple Choice Question

The Concurrent List of Schedule VII of the Constitution of India has :

भारत के संविधान के अनुसूची VII के समवर्ती सूची में है :

Options :

97 items

1. 97 मद

66 items

2. 66 मद

47 items

3. 47 मद

25 items

4. 25 मद

Question Number : 27 Question Id : 1785675669 Question Type : MCQ Option Shuffling : Yes Display Question Number : Yes  
Single Line Question Option : No Option Orientation : Vertical Allowed Progression : Yes Number of Replay : 999 Play On Load :  
No Control Enable : Yes

Correct Marks : 3 Wrong Marks : 1

Question Label : Multiple Choice Question

The University Grants Commission (UGC) in India is a :

भारत में विश्वविद्यालय अनुदान आयोग (यू०जी०सी०) है एक :

Options :

Statutory body

1. सांविधिक निकाय

Quasi-judicial body

2. अर्द्ध-न्यायिक निकाय

Constitutional body

3. संविधानिक निकाय

Instrumentality of Union Government

4. केन्द्रीय सरकार का अभिकरण

Question Number : 28 Question Id : 1785675670 Question Type : MCQ Option Shuffling : Yes Display Question Number : Yes  
Single Line Question Option : No Option Orientation : Vertical Allowed Progression : Yes Number of Replay : 999 Play On Load :  
No Control Enable : Yes

Correct Marks : 3 Wrong Marks : 1

Question Label : Multiple Choice Question

The administrators of Union Territories are designated as :

संघ शासित क्षेत्रों के प्रशासकों को कहा जाता है :

Options :

Lieutenant Governor

1. लेफ्टिनेण्ट गवर्नर

Chief Commissioner

2. चीफ कमिश्नर

Administrator

3. प्रशासक

All of the three

4. तीनों में सभी



Question Number : 29 Question Id : 1785675671 Question Type : MCQ Option Shuffling : Yes Display Question Number : Yes  
Single Line Question Option : No Option Orientation : Vertical Allowed Progression : Yes Number of Replay : 999 Play On Load :  
No Control Enable : Yes

Correct Marks : 3 Wrong Marks : 1

Question Label : Multiple Choice Question

The states of Punjab and Haryana created in 1966 were on the recommendation  
of :

वर्ष 1966 में पंजाब और हरियाणा राज्य का सृजन किया गया :

Options :

Mahajan Commission

1. महाजन आयोग की संस्तुतियों पर

Dass Commission

2. दास आयोग की संस्तुतियों पर

Shah Commission

3. शाह आयोग की संस्तुतियों पर

Dhar Commission

4. धर आयोग की संस्तुतियों पर

Question Number : 30 Question Id : 1785675672 Question Type : MCQ Option Shuffling : Yes Display Question Number : Yes  
Single Line Question Option : No Option Orientation : Vertical Allowed Progression : Yes Number of Replay : 999 Play On Load :  
No Control Enable : Yes

Correct Marks : 3 Wrong Marks : 1

Question Label : Multiple Choice Question

Angkor Vat temple is situated in which country ?

अंगकोरवाट मंदिर किस देश में स्थित है ?

Options :

Cambodia

1. कम्बोडिया

Nepal

2. नेपाल

Greece

3. यूनान

Indonesia

4. इण्डोनेशिया

	Section II
Section Id :	17856793
Section Number :	2
Section type :	Online
Mandatory or Optional:	Mandatory
Number of Questions:	27
Number of Questions to be attempted:	27
Section Marks:	90
Display Number Panel:	Yes
Group All Questions:	No

Sub-Section Number:	1
Sub-Section Id:	178567137
Question Shuffling Allowed :	Yes

Question Number : 31 Question Id : 1785675673 Question Type : MCQ Option Shuffling : Yes Display Question Number : Yes  
Single Line Question Option : No Option Orientation : Vertical Allowed Progression : Yes Number of Replay : 999 Play On Load :  
No Control Enable : Yes

Correct Marks : 3 Wrong Marks : 1

Question Label : Multiple Choice Question

'A + B' means 'A' is the son of B; 'A - B' means 'A' is the wife of B'; 'A × B' means A is the brother of B; 'A ÷ B' means 'A' is the mother of 'B' and 'A = B' means 'A' is the sister of B. What is does P + R - Q mean ?

'A + B' का अर्थ 'A', B का पुत्र है; 'A - B' का अर्थ 'A', 'B' की पत्नी है; 'A × B' का अर्थ 'A', 'B' का भाई है; 'A ÷ B' का अर्थ 'A', 'B' की माँ है तथा 'A = B' का अर्थ 'A', 'B' की बहन है। P + R - Q का क्या अर्थ है ?

Options :

Q is the father of P

1. Q, P का पिता है

Q is the son of P

2. Q, P का पुत्र है

Q is the uncle of P

3. Q, P का अंकल है

Q is the brother of P

4. Q, P का भाई है

Question Number : 32 Question Id : 1785675674 Question Type : MCQ Option Shuffling : Yes Display Question Number : Yes  
Single Line Question Option : No Option Orientation : Vertical Allowed Progression : Yes Number of Replay : 999 Play On Load :  
No Control Enable : Yes

Correct Marks : 3 Wrong Marks : 1

Question Label : Multiple Choice Question

What replaces question mark (?) in the series given below :

नीचे दिए गए श्रृंखला में प्रश्नवाचक चिन्ह (?) की जगह क्या होगा :

88, 64, 24, ?



Options :

1. 8
2. 6
3. 2
4. 5

Question Number : 33 Question Id : 1785675675 Question Type : MCQ Option Shuffling : Yes Display Question Number : Yes  
Single Line Question Option : No Option Orientation : Vertical Allowed Progression : Yes Number of Replay : 999 Play On Load :  
No Control Enable : Yes

Correct Marks : 3 Wrong Marks : 1

Question Label : Multiple Choice Question

What should come in the place of question mark (?) in the following series :

निम्नलिखित श्रृंखला में प्रश्न चिन्ह (?) के स्थान पर क्या आना चाहिए ?

CO3KP, DO4KQ, EO5KR, FO6KS, ?

Options :

1. GO7KP
2. GO6KT
3. GO6KP
4. GO7KT

Question Number : 34 Question Id : 1785675676 Question Type : MCQ Option Shuffling : Yes Display Question Number : Yes  
Single Line Question Option : No Option Orientation : Vertical Allowed Progression : Yes Number of Replay : 999 Play On Load :  
No Control Enable : Yes

Correct Marks : 3 Wrong Marks : 1

Question Label : Multiple Choice Question

In the following series, one number is wrong. Find out the wrong number :

निम्नलिखित श्रृंखला में, एक नम्बर गलत है। गलत संख्या बताएँ :

100, 97, 90, 86, 76, 71, 62, 55

Options :

1. 55
2. 62

3. 76

4. 86

Question Number : 35 Question Id : 1785675677 Question Type : MCQ Option Shuffling : Yes Display Question Number : Yes  
Single Line Question Option : No Option Orientation : Vertical Allowed Progression : Yes Number of Replay : 999 Play On Load :  
No Control Enable : Yes

Correct Marks : 3 Wrong Marks : 1

Question Label : Multiple Choice Question

If A means ' $\div$ ', B means '-', C means ' $\times$ ', then find the value of following equation :

यदि A का मतलब ' $\div$ ', B का मतलब '-', C का मतलब ' $\times$ ' है, तो निम्नलिखित समीकरण का मान ज्ञात करें :

$$46 A 2 B 3 C 4 = ?$$

Options :

1. 34

2. 23

3. 17

4. 11

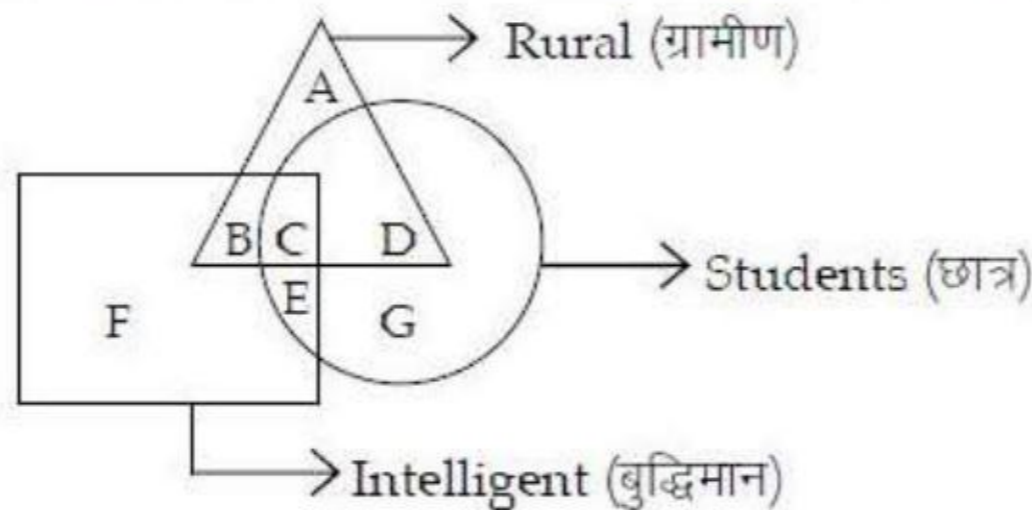
Question Number : 36 Question Id : 1785675678 Question Type : MCQ Option Shuffling : Yes Display Question Number : Yes  
Single Line Question Option : No Option Orientation : Vertical Allowed Progression : Yes Number of Replay : 999 Play On Load :  
No Control Enable : Yes

Correct Marks : 3 Wrong Marks : 1

Question Label : Multiple Choice Question

Find the region that represents those rural students who are *not* intelligent ?

उस क्षेत्र को बताएँ जो उन ग्रामीण छात्रों का प्रतिनिधित्व करता है जो बुद्धिमान *नहीं* है ?



Options :

1. D



2. A
3. B
4. G

Question Number : 37 Question Id : 1785675679 Question Type : MCQ Option Shuffling : Yes Display Question Number : Yes  
Single Line Question Option : No Option Orientation : Vertical Allowed Progression : Yes Number of Replay : 999 Play On Load :  
No Control Enable : Yes

Correct Marks : 3 Wrong Marks : 1

Question Label : Multiple Choice Question

If ' $A \times D$ ' means 'A' is sister of 'D', ' $A + D$ ' means 'D' is the daughter of 'A' and ' $A \div D$ ' means 'A' is the mother of 'D', then how will 'N' is the aunt of 'M' be denoted ?

यदि ' $A \times D$ ' का मतलब 'A', 'D' की बहन है, ' $A + D$ ' का मतलब 'D', 'A' की बेटी है और ' $A \div D$ ' का मतलब 'A', 'D' की माँ है, तब 'N', 'M' की चाची को कैसे निरूपित करेगा ?

Options :

1.  $M + L \times N$
2.  $L \times N \div M$
3.  $M \div L + N$
4.  $N \times L \div M$

Question Number : 38 Question Id : 1785675680 Question Type : MCQ Option Shuffling : Yes Display Question Number : Yes  
Single Line Question Option : No Option Orientation : Vertical Allowed Progression : Yes Number of Replay : 999 Play On Load :  
No Control Enable : Yes

Correct Marks : 3 Wrong Marks : 1

Question Label : Multiple Choice Question

A watch, which gains uniformly is 2 min slow at noon on Monday and is 4 min. 48s fast at 2 pm on the following Monday. At what time it was correct ?

एक घड़ी जिसमें समय समान रूप से बढ़ रहा है, वो समान रूप सोमवार को दोपहर में 2 मिनट धीमी है और अगले सोमवार को दोपहर 2 बजे, 4 मिनट 48 सेकण्ड तेज है। यह किस समय सही थी ?

Options :

1. 2 pm on Tuesday  
मंगलवार को 2 pm पर

2 pm on Wednesday

2. बुधवार को 2 pm पर

3 pm on Thursday

3. वृहस्पतिवार को 3 pm पर

1 pm on Friday

4. शुक्रवार को 1 pm पर

Question Number : 39 Question Id : 1785675681 Question Type : MCQ Option Shuffling : Yes Display Question Number : Yes  
Single Line Question Option : No Option Orientation : Vertical Allowed Progression : Yes Number of Replay : 999 Play On Load :  
No Control Enable : Yes

Correct Marks : 3 Wrong Marks : 1

Question Label : Multiple Choice Question

If the Republic Day of India in 1980, falls on Saturday, X was born on March 3, 1980 and Y is older to X by four days, then Y's birthday fell on :

यदि 1980 में भारत का गणतंत्र दिवस, शनिवार को पड़ता है, X का जन्म 3 मार्च, 1980 को है और Y, X से चार दिन बड़ा है, तो Y का जन्मदिन किस दिन है ?

Options :

Thursday

1. वृहस्पतिवार

Friday

2. शुक्रवार

Wednesday

3. बुधवार

Saturday

4. शनिवार

Question Number : 40 Question Id : 1785675682 Question Type : MCQ Option Shuffling : Yes Display Question Number : Yes  
Single Line Question Option : No Option Orientation : Vertical Allowed Progression : Yes Number of Replay : 999 Play On Load :  
No Control Enable : Yes

Correct Marks : 3 Wrong Marks : 1

Question Label : Multiple Choice Question



Six persons are sitting in a circle. A is facing B. B is to the right of E and left of C. C is to the left of D. F is to the right of A. Now, D exchanges his seat with F and E with B. Who will be sitting to the left of D ?

एक घेरे में छः व्यक्ति बैठे है। A, B के सामने है। B, E के दाईं ओर और C के बाईं ओर है। C, D के बाईं ओर है। F, A के दाईं ओर है। अब, D, F के साथ और E, B के साथ अपनी सीट का आदान-प्रदान करते है। D के बायें ओर कौन बैठा है ?

Options :

1. B
2. C
3. E
4. A

Question Number : 41 Question Id : 1785675683 Question Type : MCQ Option Shuffling : Yes Display Question Number : Yes  
Single Line Question Option : No Option Orientation : Vertical Allowed Progression : Yes Number of Replay : 999 Play On Load :  
No Control Enable : Yes

Correct Marks : 3 Wrong Marks : 1

Question Label : Multiple Choice Question

Six persons are sitting along a dining table to have dinner. B is between F and C. A is between E and D and F is to the left of D. Who is between A and F ?

छः व्यक्ति डिनर करने के लिए डाइनिंग टेबल पर बैठे है। F और C के बीच B है। E और D के बीच A है और F, D के बाईं ओर है। A और F के बीच कौन है ?

Options :

1. E
2. D
3. C
4. B

Question Number : 42 Question Id : 1785675684 Question Type : MCQ Option Shuffling : Yes Display Question Number : Yes  
Single Line Question Option : No Option Orientation : Vertical Allowed Progression : Yes Number of Replay : 999 Play On Load :  
No Control Enable : Yes

Correct Marks : 3 Wrong Marks : 1

Question Label : Multiple Choice Question

Question is followed by two statements numberd I and II. Decide whether the data given in the statements are sufficient to answer the question.

Mark answer as :

प्रश्न के बाद दो कथन I और II दिए गए हैं। तय करें कि प्रश्न का उत्तर देने के लिए कथन में दिया गया डाटा पर्याप्त है या नहीं। उत्तर के रूप में चिन्हित करें :

Who type at a faster rate, Navin or Sapna ?

नवीन या सपना, कौन तेज दर से टाईप करता है ?

I. The difference between their typing rates is 10 words per minute.

उनकी टाईपिंग दरों के बीच का अन्तर 10 शब्द प्रति मिनट है।

II. Sapna types at a constant rate of 80 words per minute.

सपना प्रति मिनट 80 शब्दों की एक निश्चित दर से टाईप करती है।

Options :

If Statement I alone is sufficient but statement II alone is not sufficient to answer the question.

1. यदि केवल कथन I पर्याप्त है, लेकिन केवल कथन II पर्याप्त नहीं है।

If Statement II alone is sufficient but statement I alone is not sufficient to answer the question.

2. यदि केवल कथन II पर्याप्त है, लेकिन केवल कथन I पर्याप्त नहीं है।

If both Statement I and II together are sufficient to answer the question but neither statement alons is sufficient.

3. यदि दोनों कथन I और II साथ में उत्तर देने के लिए पर्याप्त हैं, लेकिन अलग-अलग पर्याप्त नहीं हैं।

If Statement I and II together are not sufficient to answer the question.

4. यदि दोनों कथन I और II साथ में उत्तर देने के लिए पर्याप्त नहीं हैं।

Question Number : 43 Question Id : 1785675685 Question Type : MCQ Option Shuffling : Yes Display Question Number : Yes  
Single Line Question Option : No Option Orientation : Vertical Allowed Progression : Yes Number of Replay : 999 Play On Load :  
No Control Enable : Yes

Correct Marks : 3 Wrong Marks : 1

Question Label : Multiple Choice Question



Question is followed by two statements numberd I and II. Decide whether the data given in the statements are sufficient to answer the question.

Mark answer as :

प्रश्न के बाद दो कथन I और II दिए गए हैं। तय करें कि प्रश्न का उत्तर देने के लिए कथन में दिया गया डाटा पर्याप्त है या नहीं। उत्तर के रूप में चिन्हित करें :

If we assume a constant reading rate, can Sunil finish the book in 6 hours ?

यदि हम एक निरंतर पढ़ने की दर मान लेते हैं, तो क्या सुनील किताब को 6 घंटे में समाप्त कर सकता है ?

I. Sunil reads 54 pages an hour.

सुनील एक घंटे में 54 पेज पढ़ता है।

II. In 2 hours, he reads half the books.

2 घंटे में, वह किताब के आधे हिस्से को पढ़ता है।

Options :

If Statement I alone is sufficient but statement II alone is not sufficient to answer the question.

1. यदि केवल कथन I पर्याप्त है, लेकिन केवल कथन II पर्याप्त नहीं है।

If Statement II alone is sufficient but statement I alone is not sufficient to answer the question.

2. यदि केवल कथन II पर्याप्त है, लेकिन केवल कथन I पर्याप्त नहीं है।

If both Statement I and II together are sufficient to answer the question but neither statement alons is sufficient.

3. यदि दोनों कथन I और II साथ में उत्तर देने के लिए पर्याप्त है, लेकिन अलग-अलग पर्याप्त नहीं है।

If Statement I and II together are not sufficient to answer the question.

4. यदि दोनों कथन I और II साथ में उत्तर देने के लिए पर्याप्त नहीं है।

Question Number : 44 Question Id : 1785675686 Question Type : MCQ Option Shuffling : Yes Display Question Number : Yes  
Single Line Question Option : No Option Orientation : Vertical Allowed Progression : Yes Number of Replay : 999 Play On Load :  
No Control Enable : Yes

Correct Marks : 3 Wrong Marks : 1

Question Label : Multiple Choice Question

Question is followed by two statements numberd I and II. Decide whether the data given in the statements are sufficient to answer the question.

Mark answer as :

प्रश्न के बाद दो कथन I और II दिए गए हैं। तय करें कि प्रश्न का उत्तर देने के लिए कथन में दिया गया डाटा पर्याप्त है या नहीं। उत्तर के रूप में चिन्हित करें :

In a certain packing house, grapefruits are packed in bags and the bags are packed in cases. How many grapefruits are in each case, that is packed ?

एक पैकिंग हाऊस, अंगूर बैग में पैक किए जाते हैं और बैग को डिब्बों में पैक किए जाते हैं। प्रत्येक डिब्बे में कितने अंगूर हैं, जो कि पैक किया गया है ?

I. The grapefruits always packed 5 to a bag and the bags are always packed 8 to a case.

हमेशा एक बैग में 5 अंगूर पैक किया जाता है और हमेशा एक डिब्बे में 8 बैग पैक किया जाता है।

II. Each case is always 80% full.

प्रत्येक डिब्बे हमेशा 80% भरे होते हैं।

Options :

If Statement I alone is sufficient but statement II alone is not sufficient to answer the question.

1. यदि केवल कथन I पर्याप्त है, लेकिन केवल कथन II पर्याप्त नहीं है।

If Statement II alone is sufficient but statement I alone is not sufficient to answer the question.

2. यदि केवल कथन II पर्याप्त है, लेकिन केवल कथन I पर्याप्त नहीं है।

If both Statement I and II together are sufficient to answer the question but neither statement alone is sufficient.

3. यदि दोनों कथन I और II साथ में उत्तर देने के लिए पर्याप्त हैं, लेकिन अलग-अलग पर्याप्त नहीं हैं।

If Statement I and II together are not sufficient to answer the question.

4. यदि दोनों कथन I और II साथ में उत्तर देने के लिए पर्याप्त नहीं हैं।

Question Number : 45 Question Id : 1785675687 Question Type : MCQ Option Shuffling : Yes Display Question Number : Yes  
Single Line Question Option : No Option Orientation : Vertical Allowed Progression : Yes Number of Replay : 999 Play On Load :  
No Control Enable : Yes

Correct Marks : 3 Wrong Marks : 1

Question Label : Multiple Choice Question



All the surfaces of cube of 15 cm side are painted with red colour and then it is cut into smaller cubes of 3 cm side. Then, how many smaller cubes are there having only one surface painted with red colour ?

15 सेमी भुजा वाले क्यूब की सभी सतहों को लाल रंग से रंगा जाता है और फिर इसे 3 सेमी भुजा वाले छोटे क्यूब्स में काट दिया जाता है। तो कितने छोटे क्यूब्स हैं, जिनमें केवल एक ही सतह लाल रंग से रंगी हुई है ?

**Options :**

1. 18
2. 24
3. 36
4. 54

**Sub-Section Number:** 2  
**Sub-Section Id:** 178567138  
**Question Shuffling Allowed :** Yes

**Question Id : 1785675688 Question Type : COMPREHENSION Sub Question Shuffling Allowed : Yes Group Comprehension Questions : No Allowed Progression : Yes Number of Replay : 999 Play On Load : No Control Enable : Yes**

**Question Numbers : (46 to 48)**

**Question Label : Comprehension**

Read the following pie-chart carefully and answer the questions given :

निम्नलिखित पाई चार्ट ध्यानपूर्वक पढ़ें और दिए गए प्रश्नों का उत्तर दें :

Distribution of total voters from six different cities and distribution of female voters among these cities.

छ: अलग-अलग शहरों से कुल मतदाताओं का वितरण और इन शहरों के बीच महिला मतदाताओं का वितरण।

Total number of voters = 64,000

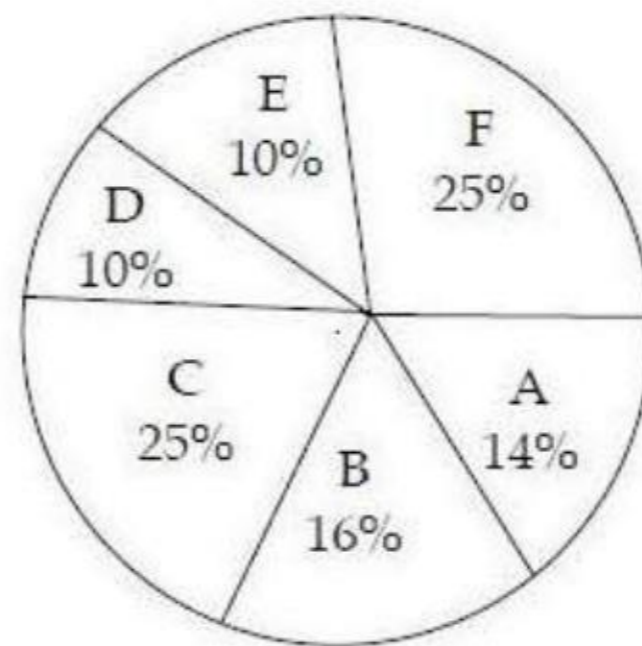
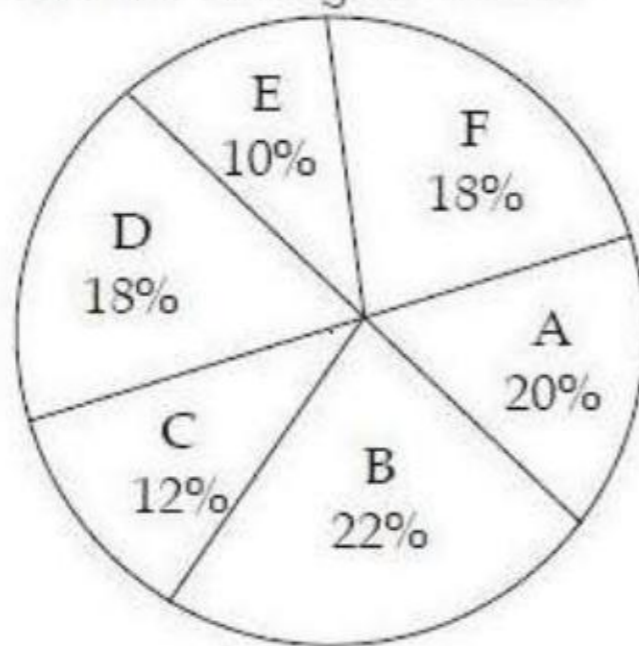
कुल मतदाताओं की संख्या = 64,000

Ratio of males and females = 5 : 3

पुरुष और महिलाओं का अनुपात = 5 : 3

Percentage distribution of female voters

महिला मतदाताओं का प्रतिशत विवरण



#### Sub questions

Question Number : 46 Question Id : 1785675689 Question Type : MCQ Option Shuffling : Yes Display Question Number : Yes  
Single Line Question Option : No Option Orientation : Vertical Allowed Progression : Yes Number of Replay : 999 Play On Load :  
No Control Enable : Yes

Correct Marks : 3 Wrong Marks : 1

Question Label : Multiple Choice Question

The number of male voters in city F is approximately what percent of the number of voters in the same city (approx.) ?

शहर F में पुरुष मतदाताओं की संख्या उसी शहर में मतदाताओं की संख्या का लगभग प्रतिशत है :

Options :

1. 48
2. 44
3. 53
4. 57

Question Number : 47 Question Id : 1785675690 Question Type : MCQ Option Shuffling : Yes Display Question Number : Yes  
Single Line Question Option : No Option Orientation : Vertical Allowed Progression : Yes Number of Replay : 999 Play On Load :  
No Control Enable : Yes

Correct Marks : 3 Wrong Marks : 1



Question Label : Multiple Choice Question

What is the average number of female voters in city A, B and E together ?

शहर A, B और E में एक साथ महिला मतदाताओं की औसत संख्या क्या है ?

Options :

1. 4200
2. 2300
3. 3200
4. 2400

Question Number : 48 Question Id : 1785675691 Question Type : MCQ Option Shuffling : Yes Display Question Number : Yes  
Single Line Question Option : No Option Orientation : Vertical Allowed Progression : Yes Number of Replay : 999 Play On Load :  
No Control Enable : Yes

Correct Marks : 3 Wrong Marks : 1

Question Label : Multiple Choice Question

The number of male voters in city C is what percent of the number of male voters in city D (approx.) ?

शहर C में पुरुष मतदाताओं की संख्या शहर D में पुरुष मतदाताओं की संख्या का कितना प्रतिशत है (लगभग) ?

Options :

1. 25
2. 48
3. 30
4. 18

Sub-Section Number: 3  
Sub-Section Id: 178567139  
Question Shuffling Allowed : Yes

Question Number : 49 Question Id : 1785675692 Question Type : MCQ Option Shuffling : Yes Display Question Number : Yes  
Single Line Question Option : No Option Orientation : Vertical Allowed Progression : Yes Number of Replay : 999 Play On Load :  
No Control Enable : Yes

Correct Marks : 3 Wrong Marks : 1

Question Label : Multiple Choice Question

Two statements are given below followed by two conclusions I and II. You have to consider the two statements to be true even if they seem to be at variance with commonly known facts. You have to decide which of the conclusions, if any follow from the given statements. Give answer :

दो कथन के बाद दो निष्कर्ष I और II नीचे दिये गये हैं। आपको दो कथनों को सत्य मानना है, भले ही वे सामान्यतः ज्ञात तथ्यों के साथ विचरण करते हों। आपको यह तय करना होगा कि दिए गए कथनों में से कौन-सा निष्कर्ष, यदि कोई हो, तो उत्तर दें :

**Statements :** I. Some books are magazine.

**कथन :** कुछ किताबें पत्रिकाएँ हैं।

II. Some magazines are novels.

कुछ पत्रिकाएँ उपन्यास हैं।

**Conclusions :** I. Some books are novels.

**निष्कर्ष :** कुछ किताबें उपन्यास हैं।

II. Some novels are magazines.

कुछ उपन्यास पत्रिकाएँ हैं।

**Options :**

Only I follows

1. केवल I अनुसरण करता है

Only II follows

2. केवल II अनुसरण करता है

Both I and II follows

3. I एवं II दोनों अनुसरण करते हैं

Neither I nor II follows

4. न तो I ना तो II अनुसरण करते हैं

Question Number : 50 Question Id : 1785675693 Question Type : MCQ Option Shuffling : Yes Display Question Number : Yes  
Single Line Question Option : No Option Orientation : Vertical Allowed Progression : Yes Number of Replay : 999 Play On Load :  
No Control Enable : Yes

Correct Marks : 3 Wrong Marks : 1

Question Label : Multiple Choice Question



Two statements are given below followed by two conclusions I and II. You have to consider the two statements to be true even if they seem to be at variance with commonly known facts. You have to decide which of the conclusions, if any follow from the given statements. Give answer :

दो कथन के बाद दो निष्कर्ष I और II नीचे दिये गये हैं। आपको दो कथनों को सत्य मानना है, भले ही वे सामान्यतः ज्ञात तथ्यों के साथ विवरण करते हों। आपको यह तय करना होगा कि दिए गए कथनों में से कौन-सा निष्कर्ष, यदि कोई हो, तो उत्तर दें :

**Statements :** I. All good hockey players are in the Indian hockey team.

**कथन :** सभी अच्छे हॉकी खिलाड़ी भारतीय हाकी टीम में हैं।

II. 'X' is not a good hockey player.

'X' एक अच्छा हॉकी खिलाड़ी नहीं है।

**Conclusions :** I. 'X' is not in the Indian hockey team.

**निष्कर्ष :** 'X' भारतीय हॉकी टीम में नहीं है।

II. 'X' wants to be in the Indian hockey team.

'X' भारतीय हॉकी टीम में शामिल होना चाहता है।

**Options :**

Only I follows

1. केवल I अनुसरण करता है

Only II follows

2. केवल II अनुसरण करता है

Both I and II follows

3. I एवं II दोनों अनुसरण करते हैं

Neither I nor II follows

4. न तो I ना तो II अनुसरण करते हैं

Question Number : 51 Question Id : 1785675694 Question Type : MCQ Option Shuffling : Yes Display Question Number : Yes  
Single Line Question Option : No Option Orientation : Vertical Allowed Progression : Yes Number of Replay : 999 Play On Load :  
No Control Enable : Yes

Correct Marks : 3 Wrong Marks : 1

Question Label : Multiple Choice Question

Two statements are given below followed by two conclusions I and II. You have to consider the two statements to be true even if they seem to be at variance with commonly known facts. You have to decide which of the conclusions, if any follow from the given statements. Give answer :

दो कथन के बाद दो निष्कर्ष I और II नीचे दिये गये हैं। आपको दो कथनों को सत्य मानना है, भले ही वे सामान्यतः ज्ञात तथ्यों के साथ विचरण करते हों। आपको यह तय करना होगा कि दिए गए कथनों में से कौन-सा निष्कर्ष, यदि कोई हो, तो उत्तर दें :

**Statements :** I. Some scales are pencils.

**कथन :** कुछ स्केल पेंसिल है।

II. Some erasers are pencils.

कुछ रबड़ पेंसिल है।

**Conclusions :** I. Some pencils are erasers.

**निष्कर्ष :** कुछ पेंसिल रबड़ है।

II. Some pencils are scales.

कुछ पेंसिल स्केल है।

**Options :**

Only I follows

1. केवल I अनुसरण करता है

Only II follows

2. केवल II अनुसरण करता है

Both I and II follows

3. I एवं II दोनों अनुसरण करते हैं

Neither I nor II follows

4. न तो I ना तो II अनुसरण करते हैं

**Question Number : 52 Question Id : 1785675695 Question Type : MCQ Option Shuffling : Yes Display Question Number : Yes Single Line Question Option : No Option Orientation : Vertical Allowed Progression : Yes Number of Replay : 999 Play On Load : No Control Enable : Yes**

**Correct Marks : 3 Wrong Marks : 1**

**Question Label : Multiple Choice Question**

A solid cube has been formed with 64 smaller cubes. How many smaller cubes are completely invisible ?

64 छोटे घन के साथ एक ठोस घन बनाया गया है। कितने छोटे घन पूरी तरह से अदृश्य हैं ?

**Options :**

1. 2

2. 4



3. 6

4. 8

Question Number : 53 Question Id : 1785675696 Question Type : MCQ Option Shuffling : Yes Display Question Number : Yes  
Single Line Question Option : No Option Orientation : Vertical Allowed Progression : Yes Number of Replay : 999 Play On Load :  
No Control Enable : Yes

Correct Marks : 3 Wrong Marks : 1

Question Label : Multiple Choice Question

Pointing towards a person in a photograph, Anjali said, "He is the only son of the father of my sister's brother". How is that person related to Anjali ?

फोटोग्राफ में व्यक्ति की ओर इशारा करते हुए अंजली ने कहा कि, "वह मेरी बहन के भाई के पिता का एकमात्र पुत्र है"। यह व्यक्ति का अंजली से क्या संबंध है ?

Options :

Anjali's Father

1. अंजली के पिता

Anjali's Mother

2. अंजली की माता

Anjali's Brother

3. अंजली का भाई

Maternal Uncle

4. मामा

Question Number : 54 Question Id : 1785675697 Question Type : MCQ Option Shuffling : Yes Display Question Number : Yes  
Single Line Question Option : No Option Orientation : Vertical Allowed Progression : Yes Number of Replay : 999 Play On Load :  
No Control Enable : Yes

Correct Marks : 3 Wrong Marks : 1

Question Label : Multiple Choice Question

Choose the word which is least like the other words :

शब्द को चुनिए जो अन्य शब्दों की भाँति कम से कम अलग है :

Options :

Pineapple

1. अनन्नास

Orange

2. संतरा

Malta

3. मालटा

Banana

4. केला

Question Number : 55 Question Id : 1785675698 Question Type : MCQ Option Shuffling : Yes Display Question Number : Yes  
Single Line Question Option : No Option Orientation : Vertical Allowed Progression : Yes Number of Replay : 999 Play On Load :  
No Control Enable : Yes

Correct Marks : 3 Wrong Marks : 1

Question Label : Multiple Choice Question

Rohit walked 25 meters towards South. Then he turned to his left and walked 20 meters. He then turned to his left and walked 25 meters. He again turned to his right and walked 15 meters. At what distance is he from the starting point and in which direction ?

रोहित दक्षिण की ओर 25 मीटर चलकर गया। तब वह अपने बायें मुड़ा एवं 20 मीटर चलकर गया। तत्पश्चात् वह अपने बायें मुड़ा तथा 25 मीटर चलकर गया। वह पुनः अपने दायें मुड़ा तथा 15 मीटर चलकर गया। वह आरंभिक स्थान से कितनी दूरी पर है तथा किस दिशा में है ?

Options :

35 metre, North

1. 35 मीटर, उत्तर

30 metre, South

2. 30 मीटर, दक्षिण

35 metre, East

3. 35 मीटर, पूरब

30 metre, North

4. 30 मीटर, उत्तर

Question Number : 56 Question Id : 1785675699 Question Type : MCQ Option Shuffling : Yes Display Question Number : Yes  
Single Line Question Option : No Option Orientation : Vertical Allowed Progression : Yes Number of Replay : 999 Play On Load :  
No Control Enable : Yes

Correct Marks : 3 Wrong Marks : 1

Question Label : Multiple Choice Question

Complete the series 95, 115.5, 138, ....., 189 :

श्रेणी 95, 115.5, 138, ....., 189 को पूरा कीजिए :

Options :

160.5

1.



2. 162.5

3. 164.5

4. 166.5

Question Number : 57 Question Id : 1785675700 Question Type : MCQ Option Shuffling : Yes Display Question Number : Yes  
Single Line Question Option : No Option Orientation : Vertical Allowed Progression : Yes Number of Replay : 999 Play On Load :  
No Control Enable : Yes

Correct Marks : 3 Wrong Marks : 1

Question Label : Multiple Choice Question

In the question below is given a statement followed by two conclusions numbered I and II. Give answer :

नीचे दिए गए प्रश्न में कथन दिया गया है जिसके बाद दो निष्कर्ष I एवं II हैं। उत्तर दीजिए :

**Statement :** Add colours to life - Use 'CAMLIN' colours.

**कथन :** जीवन में रंग भरिए – कैमलिन रंग का प्रयोग कीजिए।

**Conclusions :** I. Catchy slogans do not attract people.

**निष्कर्ष :** आकर्षक नारे लोगों को आकृष्ट नहीं करते हैं।

II. Water colours are preferred by people.

जलरंग लोगों द्वारा पसंद किया जाता है।

**Options :**

If only I follows

1. यदि केवल I अनुसरण करता है

If only II follows

2. यदि केवल II अनुसरण करता है

If either I or II follows

3. यदि न तो I या II अनुसरण करते हैं

If neither I nor II follows

4. यदि न तो I न ही II अनुसरण करते हैं

Sub-Section Number:	4
Sub-Section Id:	178567140
Question Shuffling Allowed :	Yes

Question Id : 1785675701 Question Type : COMPREHENSION Sub Question Shuffling Allowed : Yes Group Comprehension  
Questions : No Allowed Progression : Yes Number of Replay : 999 Play On Load : No Control Enable : Yes

Question Numbers : (58 to 59)

Question Label : Comprehension



Study the following information and answer the questions given :

Six students go to class on different days of the week from Monday to Sunday, but one day of the week has no class. They also like different colours. E goes immediate before C, who does not like white. The one who likes Blue, goes on Thursday. F likes black and goes on Tuesday. The one who likes Red, goes on Monday. D goes before B but does not like White. There is three days gap between F and A. There is one day gap between the days on which the ones who like Blue and Yellow go. The one who likes Green, goes after the one who likes in Yellow.

निम्नलिखित जानकारी का अध्ययन करें और दिए गए प्रश्नों के उत्तर दीजिए :

सप्ताह के विभिन्न दिनों में सोमवार से रविवार तक छः छात्र कक्षा में जाते हैं, किन्तु सप्ताह के एक दिन में कोई कक्षा नहीं होती है। उन्हें अलग-अलग रंग भी पसंद है। E, C से पहले तुरंत चला जाता है, जिसे सफेद पसंद नहीं है। जो नीला पसंद करता है, वह गुरुवार को जाता है। F को काला पसंद है और वह मंगलवार को जाता है। जो लाल पसंद करता है, वह सोमवार को जाता है। D, B से पहले जाता है किन्तु सफेद को पसंद नहीं करता है। F और A के बीच तीन दिन का अंतर है। जो नीला और पीला पसंद करते हैं, उनके बीच एक दिन का अंतर है जो हरा पसंद करता है, वह पीला रंग पसंद करने वाले के बाद जाता है।

Sub questions

Question Number : 58 Question Id : 1785675702 Question Type : MCQ Option Shuffling : Yes Display Question Number : Yes Single Line Question Option : No Option Orientation : Vertical Allowed Progression : Yes Number of Replay : 999 Play On Load : No Control Enable : Yes

Correct Marks : 3 Wrong Marks : 1

Question Label : Multiple Choice Question

Which of the following colour does A like ?

A निम्न में से किस रंग को पसंद करता है ?

Options :

Blue

1. नीला

Yellow

2. पीला

White

3. सफेद

Black

4. काला

Question Number : 59 Question Id : 1785675703 Question Type : MCQ Option Shuffling : Yes Display Question Number : Yes Single Line Question Option : No Option Orientation : Vertical Allowed Progression : Yes Number of Replay : 999 Play On Load : No Control Enable : Yes

Correct Marks : 3 Wrong Marks : 1

Question Label : Multiple Choice Question

On which of the following days B goes to the class ?

निम्न दिनों में किस दिन को B कक्षा में जाता है ?

Options :

Monday

1. सोमवार

Sunday

2. रविवार



Thursday  
3. वृहस्पतिवार

Friday  
4. शुक्रवार

Sub-Section Number: 5  
Sub-Section Id: 178567141  
Question Shuffling Allowed : Yes

Question Number : 60 Question Id : 1785675704 Question Type : MCQ Option Shuffling : Yes Display Question Number : Yes  
Single Line Question Option : No Option Orientation : Vertical Allowed Progression : Yes Number of Replay : 999 Play On Load :  
No Control Enable : Yes

Correct Marks : 3 Wrong Marks : 1

Question Label : Multiple Choice Question

Read the following information and answer the questions given below :

निम्न सूचना को पढ़िए तथा नीचे दिये गये प्रश्नों का उत्तर दीजिए :

'A + B' means A is daughter of B

'A + B' का मतलब है A, B की पुत्री है

'A \* B' means A is the son of B

'A \* B' का मतलब है A, B का पुत्र है

'A - B' means A is the wife of B

'A - B' का मतलब है A, B की पत्नी है

How is A related to B ?

A का B से कैसा संबंध है ?

- I. P, the only son of A, has two sisters.  
P जो A का एकमात्र पुत्र है, के दो बहने है।
- II. A's son is the brother of the only sister of B.  
A का पुत्र B के एकमात्र बहन का भाई है।
- III. B and P are children of A.  
B एवं P, A के बच्चे है।

Options :

1. Only I and II  
केवल I एवं II
2. Only II  
केवल II
3. Only II and III  
केवल II एवं III
4. None of three  
तीनों में से कोई नहीं

	Section III
Section Id :	17856794
Section Number :	3
Section type :	Online
Mandatory or Optional:	Mandatory
Number of Questions:	30
Number of Questions to be attempted:	30
Section Marks:	90
Display Number Panel:	Yes
Group All Questions:	No

Sub-Section Number:	1
Sub-Section Id:	178567142
Question Shuffling Allowed :	Yes

Question Number : 61 Question Id : 1785675705 Question Type : MCQ Option Shuffling : Yes Display Question Number : Yes  
Single Line Question Option : No Option Orientation : Vertical Allowed Progression : Yes Number of Replay : 999 Play On Load :  
No Control Enable : Yes

Correct Marks : 3 Wrong Marks : 1

Question Label : Multiple Choice Question

$$|2| + |-2| + (2)^2 + (-2)^2 = ?$$

Options :

- 6
- 8
- 10
- 12

Question Number : 62 Question Id : 1785675706 Question Type : MCQ Option Shuffling : Yes Display Question Number : Yes  
Single Line Question Option : No Option Orientation : Vertical Allowed Progression : Yes Number of Replay : 999 Play On Load :  
No Control Enable : Yes

Correct Marks : 3 Wrong Marks : 1

Question Label : Multiple Choice Question

The side of a square is 10 cm. How many times will the new perimeter become if the side of the square is doubled ?

एक वर्ग की भुजा 10 सेमी है। यदि इस वर्ग की भुजा को दोगुना कर दिया जाए तो परिमाप कितने गुना हो जाएगा ?

Options :

- 2 times
- 2 गुना



- 4 times  
2. 4 गुना  
6 times  
3. 6 गुना  
8 times  
4. 8 गुना

Question Number : 63 Question Id : 1785675707 Question Type : MCQ Option Shuffling : Yes Display Question Number : Yes  
Single Line Question Option : No Option Orientation : Vertical Allowed Progression : Yes Number of Replay : 999 Play On Load :  
No Control Enable : Yes

Correct Marks : 3 Wrong Marks : 1

Question Label : Multiple Choice Question

$$(2^2)^3 \times (2^3)^2 = ?$$

Options :

1. 4096  
2. 4046  
3. 3096  
4. 3046

Question Number : 64 Question Id : 1785675708 Question Type : MCQ Option Shuffling : Yes Display Question Number : Yes  
Single Line Question Option : No Option Orientation : Vertical Allowed Progression : Yes Number of Replay : 999 Play On Load :  
No Control Enable : Yes

Correct Marks : 3 Wrong Marks : 1

Question Label : Multiple Choice Question

To gain 25% after allowing a discount of 10%, the shopkeeper must mark the price of the article which costs him ₹ 360 as :

10% बढ़ा देने के बाद, 25% का लाभ प्राप्त करने के लिए किसी दुकानदार को ₹ 360 लागत वाली वस्तु का मूल्य अंकित करना चाहिए :

Options :

1. ₹ 500  
2. ₹ 450  
3. ₹ 460  
4. ₹ 486

Question Number : 65 Question Id : 1785675709 Question Type : MCQ Option Shuffling : Yes Display Question Number : Yes  
Single Line Question Option : No Option Orientation : Vertical Allowed Progression : Yes Number of Replay : 999 Play On Load :  
No Control Enable : Yes

Correct Marks : 3 Wrong Marks : 1

Question Label : Multiple Choice Question

The place value of zero in 1341.01 is :

1341.01 में शून्य का स्थानीय मान है :

Options :

10

1.

$\frac{1}{10}$

2.

1

3.

0

4.

Question Number : 66 Question Id : 1785675710 Question Type : MCQ Option Shuffling : Yes Display Question Number : Yes  
Single Line Question Option : No Option Orientation : Vertical Allowed Progression : Yes Number of Replay : 999 Play On Load :  
No Control Enable : Yes

Correct Marks : 3 Wrong Marks : 1

Question Label : Multiple Choice Question

Evaluate :

मान निकालिए :

$6202.5 + 620.25 + 62.025 + 6.2025 + 0.62025$

Options :

6791.59775

1.

6891.59775

2.

6891.59675

3.

5891.59775

4.

Question Number : 67 Question Id : 1785675711 Question Type : MCQ Option Shuffling : Yes Display Question Number : Yes  
Single Line Question Option : No Option Orientation : Vertical Allowed Progression : Yes Number of Replay : 999 Play On Load :  
No Control Enable : Yes

Correct Marks : 3 Wrong Marks : 1

Question Label : Multiple Choice Question



Company workers decided to raise Rs. 3 lakhs by equal contribution from each. Had they contributed Rs. 50 each extra, the contribution would have been Rs. 3.25 lakhs. How many workers were they ?

कम्पनी कर्मचारियों ने प्रत्येक से समान योगदान द्वारा रु० 3 लाख बढ़ाने का निश्चय किया था। यदि इन लोगों ने रु० 50 प्रत्येक अतिरिक्त योगदान किया होता, तो योगदान रु० 3.25 लाख हुआ होता। ये लोग कितने कर्मचारी थे ?

Options :

1. 300
2. 400
3. 500
4. 600

Question Number : 68 Question Id : 1785675712 Question Type : MCQ Option Shuffling : Yes Display Question Number : Yes  
Single Line Question Option : No Option Orientation : Vertical Allowed Progression : Yes Number of Replay : 999 Play On Load :  
No Control Enable : Yes

Correct Marks : 3 Wrong Marks : 1

Question Label : Multiple Choice Question

Find the sum of first 30 natural numbers :

पहले 30 प्राकृतिक संख्याओं के योगफल को ज्ञात कीजिए :

Options :

1. 470
2. 468
3. 465
4. 463

Question Number : 69 Question Id : 1785675713 Question Type : MCQ Option Shuffling : Yes Display Question Number : Yes  
Single Line Question Option : No Option Orientation : Vertical Allowed Progression : Yes Number of Replay : 999 Play On Load :  
No Control Enable : Yes

Correct Marks : 3 Wrong Marks : 1

Question Label : Multiple Choice Question

The ratio 5 : 20 expressed as percent equals to :

प्रतिशत के रूप में व्यक्त अनुपात 5 : 20 बराबर है :

Options :

1. 50%

2. 125%

3. 25%

4. 35%

Question Number : 70 Question Id : 1785675714 Question Type : MCQ Option Shuffling : Yes Display Question Number : Yes  
Single Line Question Option : No Option Orientation : Vertical Allowed Progression : Yes Number of Replay : 999 Play On Load :  
No Control Enable : Yes

Correct Marks : 3 Wrong Marks : 1

Question Label : Multiple Choice Question

If the cost price of 15 tables is equal to the selling price of 20 tables, then the loss percentage is :

यदि 15 मेजों का क्रय मूल्य 20 मेजों के विक्रय मूल्य के बराबर है, तो हानि प्रतिशत है :

Options :

1. 20%

2. 25%

3. 30%

4. 35%

Question Number : 71 Question Id : 1785675715 Question Type : MCQ Option Shuffling : Yes Display Question Number : Yes  
Single Line Question Option : No Option Orientation : Vertical Allowed Progression : Yes Number of Replay : 999 Play On Load :  
No Control Enable : Yes

Correct Marks : 3 Wrong Marks : 1

Question Label : Multiple Choice Question

If H. C. F. (14, 35) = 7, then L. C. M. (14, 35) will be equal to :

यदि H. C. F. (14, 35) = 7, तो L. C. M. (14, 35) बराबर होगा :

Options :

1. 70

2. 75

3. 80

4. 85



Question Number : 72 Question Id : 1785675716 Question Type : MCQ Option Shuffling : Yes Display Question Number : Yes  
Single Line Question Option : No Option Orientation : Vertical Allowed Progression : Yes Number of Replay : 999 Play On Load :  
No Control Enable : Yes

Correct Marks : 3 Wrong Marks : 1

Question Label : Multiple Choice Question

If a car travels at the speed of 72 km/hr, then the distance travelled by it in one second is :

यदि एक कार 72 किमी०/घ० की गति से चलती है, तो 1 सेकण्ड में उसके द्वारा तय की गयी दूरी है :

Options :

1. 40 meter  
40 मीटर
2. 30 meter  
30 मीटर
3. 25 meter  
25 मीटर
4. 20 meter  
20 मीटर

Question Number : 73 Question Id : 1785675717 Question Type : MCQ Option Shuffling : Yes Display Question Number : Yes  
Single Line Question Option : No Option Orientation : Vertical Allowed Progression : Yes Number of Replay : 999 Play On Load :  
No Control Enable : Yes

Correct Marks : 3 Wrong Marks : 1

Question Label : Multiple Choice Question

Out of her total income, Mrs. Dubey spends 20% on house rent and 70% of the rest on household expenditure. If she saves Rs. 1,800, then her total income is :

श्रीमती दूबे अपनी कुल आय का 20% मकान के किराये पर तथा शेष का 70% घरेलू खर्च पर व्यय करती है। यदि वह रु० 1,800 की बचत करती है, तो उनकी कुल आय है :

Options :

1. Rs. 7,200  
7,200 रु०
2. Rs. 7,300  
7,300 रु०
3. Rs. 7,400  
7,400 रु०

Rs. 7,500

4. 7,500 रु०

Question Number : 74 Question Id : 1785675718 Question Type : MCQ Option Shuffling : Yes Display Question Number : Yes  
Single Line Question Option : No Option Orientation : Vertical Allowed Progression : Yes Number of Replay : 999 Play On Load :  
No Control Enable : Yes

Correct Marks : 3 Wrong Marks : 1

Question Label : Multiple Choice Question

The compound interest on Rs. 25,600 for 2 years at 6.25% per annum is :

रु० 25,600 का 6.25% वार्षिक दर से 2 वर्ष का चक्रवृद्धि ब्याज है :

Options :

Rs. 2,800

1. 2,800 रु०

Rs. 3,000

2. 3,000 रु०

Rs. 3,300

3. 3,300 रु०

Rs. 3,800

4. 3,800 रु०

Question Number : 75 Question Id : 1785675719 Question Type : MCQ Option Shuffling : Yes Display Question Number : Yes  
Single Line Question Option : No Option Orientation : Vertical Allowed Progression : Yes Number of Replay : 999 Play On Load :  
No Control Enable : Yes

Correct Marks : 3 Wrong Marks : 1

Question Label : Multiple Choice Question

Suppose for the principal  $P$ , rate  $R\%$  and time  $T$ , the simple interest is  $S$  and compound interest is  $C$ . Consider the possibilities :

मान लीजिए कि मूलधन  $P$ , दर  $R\%$  और समय  $T$ , साधारण ब्याज  $S$  और चक्रवृद्धि ब्याज  $C$  है।

निम्न संभावनाओं पर विचार कीजिए :

(i)  $C > S$

(ii)  $C = S$

(iii)  $C < S$

Then :

तब :

Options :

Only (i) is correct

1. केवल (i) सही है



Either (i) or (ii) is correct

2. या तो (i) या फिर (ii) सही है

Either (ii) or (iii) is correct

3. या तो (ii) या फिर (iii) सही है

Only (iii) is correct

4. केवल (iii) सही है

Question Number : 76 Question Id : 1785675720 Question Type : MCQ Option Shuffling : Yes Display Question Number : Yes  
Single Line Question Option : No Option Orientation : Vertical Allowed Progression : Yes Number of Replay : 999 Play On Load :  
No Control Enable : Yes

Correct Marks : 3 Wrong Marks : 1

Question Label : Multiple Choice Question

The radii of two cylinders are in the ratio of 2 : 3 and their heights are in the ratio of 5 : 3. The ratio of their volumes is :

दो बेलनों की त्रिज्याएँ 2 : 3 के अनुपात में हैं तथा उनकी ऊँचाइयों का अनुपात 5 : 3 है। उनके आयतनों का अनुपात है :

Options :

1. 10 : 17

2. 20 : 27

3. 17 : 27

4. 20 : 37

Question Number : 77 Question Id : 1785675721 Question Type : MCQ Option Shuffling : Yes Display Question Number : Yes  
Single Line Question Option : No Option Orientation : Vertical Allowed Progression : Yes Number of Replay : 999 Play On Load :  
No Control Enable : Yes

Correct Marks : 3 Wrong Marks : 1

Question Label : Multiple Choice Question

The ratio of copper and zinc in an alloy is 5 : 3. If the weight of the copper in the alloy is 30.5 grams, then the weight of zinc in the alloy is :

एक मिश्र धातु में ताँबा और जस्ता का अनुपात 5 : 3 है। यदि मिश्र धातु में ताँबे का भार 30.5 ग्राम है, तो मिश्र धातु में जस्ते का भार है :

Options :

18.3 gm

1. 18.3 ग्राम

20.6 gm

2. 20.6 ग्राम

- 21.3 gm  
3. 21.3 ग्राम
- 22.4 gm  
4. 22.4 ग्राम

Question Number : 78 Question Id : 1785675722 Question Type : MCQ Option Shuffling : Yes Display Question Number : Yes  
Single Line Question Option : No Option Orientation : Vertical Allowed Progression : Yes Number of Replay : 999 Play On Load :  
No Control Enable : Yes

Correct Marks : 3 Wrong Marks : 1

Question Label : Multiple Choice Question

What will be the change in the volume of a cube when its side becomes 10 times the original side ?

किसी घन के आयतन में क्या परिवर्तन होगा, यदि उसकी भुजा मूल भुजा की 10 गुनी हो जाती है ?

Options :

- Volume becomes 1000 times  
1. आयतन 1000 गुना हो जाता है
- Volume becomes 10 times  
2. आयतन 10 गुना हो जाता है
- Volume becomes 100 times  
3. आयतन 100 गुना हो जाता है
- Volume becomes  $\frac{1}{1000}$  times  
4. आयतन  $\frac{1}{1000}$  गुना हो जाता है

Question Number : 79 Question Id : 1785675723 Question Type : MCQ Option Shuffling : Yes Display Question Number : Yes  
Single Line Question Option : No Option Orientation : Vertical Allowed Progression : Yes Number of Replay : 999 Play On Load :  
No Control Enable : Yes

Correct Marks : 3 Wrong Marks : 1

Question Label : Multiple Choice Question

100 persons had food provision for 24 days. If 20 persons left the place, the provision will last for :

100 व्यक्तियों के लिए 24 दिन के भोजन की व्यवस्था थी। यदि 20 व्यक्ति उस स्थान को छोड़कर चले जाएँ, तो भोजन कितने समय के लिए पर्याप्त रहेगा ?

Options :

- 30 days  
1. 30 दिन



- $\frac{96}{5}$  days
2.  $\frac{96}{5}$  दिन
- 120 days
3. 120 दिन
- 40 days
4. 40 दिन

Question Number : 80 Question Id : 1785675724 Question Type : MCQ Option Shuffling : Yes Display Question Number : Yes  
Single Line Question Option : No Option Orientation : Vertical Allowed Progression : Yes Number of Replay : 999 Play On Load :  
No Control Enable : Yes

Correct Marks : 3 Wrong Marks : 1

Question Label : Multiple Choice Question

What number must be subtracted from each term of the ratio 87 : 223 to make the ratio 5 : 13 ?

87 : 223 अनुपात वाली संख्याओं में से कौन-सी संख्या प्रत्येक संख्या में से घटा दी जाय कि नया अनुपात 5 : 13 का हो जाय ?

Options :

1. 4
2. 2
3. 6
4. 8

Question Number : 81 Question Id : 1785675725 Question Type : MCQ Option Shuffling : Yes Display Question Number : Yes  
Single Line Question Option : No Option Orientation : Vertical Allowed Progression : Yes Number of Replay : 999 Play On Load :  
No Control Enable : Yes

Correct Marks : 3 Wrong Marks : 1

Question Label : Multiple Choice Question

The enrollment of students in a school increases from 560 to 581. Increase in percentage in the enrollment of students is :

किसी स्कूल में प्रवेश पाने वाले छात्रों की संख्या 560 से बढ़कर 581 हो जाती है। छात्रों की संख्या में वृद्धि का प्रतिशत है :

Options :

1. 3.75%

2.  $3\frac{1}{2}\%$

3. 3.6%

4. 3.589%

Question Number : 82 Question Id : 1785675726 Question Type : MCQ Option Shuffling : Yes Display Question Number : Yes  
Single Line Question Option : No Option Orientation : Vertical Allowed Progression : Yes Number of Replay : 999 Play On Load :  
No Control Enable : Yes

Correct Marks : 3 Wrong Marks : 1

Question Label : Multiple Choice Question

A monkey climbs 30 feet at the beginning of each hour and rests for a while when he slips back 20 feet before he again starts climbing in the beginning of the next hour. If he begins his ascent at 8.00 a.m., at what will he first touch a flag at 120 feet from the ground ?

एक बंदर प्रत्येक घंटे की शुरुआत में 30 फीट ऊपर चढ़ता है और थोड़ी देर के लिए विश्राम करता है, जब अगले घंटे की शुरुआत में फिर से चढ़ाई शुरू करता है, तो पहले 20 फीट पीछे खिसक जाता है। यदि वह सुबह 8 बजे अपनी चढ़ाई शुरू करता है, तो सबसे पहले वह जमीन से 120 फीट पर ध्वज को कब छुएगा ?

Options :

1. 4 p.m.

2. 5 p.m.

3. 6 p.m.

4. 8 p.m.

Question Number : 83 Question Id : 1785675727 Question Type : MCQ Option Shuffling : Yes Display Question Number : Yes  
Single Line Question Option : No Option Orientation : Vertical Allowed Progression : Yes Number of Replay : 999 Play On Load :  
No Control Enable : Yes

Correct Marks : 3 Wrong Marks : 1

Question Label : Multiple Choice Question

Find the amount of compound interest on Rs. 20,000 for 3 years compounded annually. The rate of interest for first year is 5% and the rate of interest for next two years is 10% :

₹ 20,000 का 3 वर्षों का चक्रवृद्धि ब्याज ज्ञात कीजिए यदि ब्याज प्रतिवर्ष संयोजित होता है। प्रथम वर्ष में ब्याज दर 5% है तथा अगले दो वर्षों में ब्याज दर 10% है :

Options :

Rs. 5,410

1. 5,410 ₹



Rs. 5,400  
2. 5,400 रु०

Rs. 5,450  
3. 5,450 रु०

Rs. 5,480  
4. 5,480 रु०

Question Number : 84 Question Id : 1785675728 Question Type : MCQ Option Shuffling : Yes Display Question Number : Yes  
Single Line Question Option : No Option Orientation : Vertical Allowed Progression : Yes Number of Replay : 999 Play On Load :  
No Control Enable : Yes

Correct Marks : 3 Wrong Marks : 1

Question Label : Multiple Choice Question

I invested Rs. 8,000 at simple interest, for 3 years at 8% per annum. How much more would have been my return, if I had invested it, at a compound interest (compounded yearly) at  $7\frac{1}{2}$  % per annum ?

मैंने 8,000 रु० 8% साधारण ब्याज दर से 3 वर्षों के लिए जमा किया। यदि मैं इस राशि को  $7\frac{1}{2}$  % वार्षिक चक्रवृद्धि ब्याज दर से (ब्याज प्रतिवर्ष संयोजित होता है) जमा करता, तो कितनी अधिक धनराशि मुझे प्राप्त होगी ?

Options :

Rs.  $\frac{141}{8}$   
 $\frac{141}{8}$  रु०  
1.

Rs.  $\frac{147}{8}$   
 $\frac{147}{8}$  रु०  
2.

Rs. 20.50  
20.50 रु०  
3.

Rs.  $\frac{145}{8}$   
 $\frac{145}{8}$  रु०  
4.

Question Number : 85 Question Id : 1785675729 Question Type : MCQ Option Shuffling : Yes Display Question Number : Yes  
Single Line Question Option : No Option Orientation : Vertical Allowed Progression : Yes Number of Replay : 999 Play On Load :  
No Control Enable : Yes

Correct Marks : 3 Wrong Marks : 1

Question Label : Multiple Choice Question

10 years ago the age of man is 5 years more than the four times of the son. 10 years hence the age of man is 5 years more than 2 times the age of son. The present age of the man is :

10 वर्ष पूर्व आदमी की आयु, अपने लड़के की आयु के चार गुने से 5 वर्ष अधिक थी। 10 वर्षों के बाद आदमी की आयु अपने लड़के की आयु के दोगुने से 5 वर्ष अधिक हो जायेगी। आदमी की वर्तमान में आयु है :

Options :

1. 45 वर्ष
2. 40 वर्ष
3. 55 वर्ष
4. 50 वर्ष

Question Number : 86 Question Id : 1785675730 Question Type : MCQ Option Shuffling : Yes Display Question Number : Yes Single Line Question Option : No Option Orientation : Vertical Allowed Progression : Yes Number of Replay : 999 Play On Load : No Control Enable : Yes

Correct Marks : 3 Wrong Marks : 1

Question Label : Multiple Choice Question

If we buy 2 tickets from station A to station B and 3 from station A to C. We have to pay Rs. 795. But 3 tickets from station A to B and 5 tickets from A to C cost a total of Rs. 1,300. What is the fare from station A to C ?

यदि हम 2 टिकट स्टेशन A से स्टेशन B के लिए तथा 3 टिकट स्टेशन A से स्टेशन C के लिए खरीदते हैं तो मुझे 795 रु० देने पड़ते हैं। किन्तु 3 टिकट स्टेशन A से B के लिए तथा 5 टिकट स्टेशन A से C के लिए कुल 1,300 रु० देने पड़ते हैं। स्टेशन A से स्टेशन C का किराया कितने रुपये है ?

Options :

1. 200 रु०
2. 75 रु०
3. 215 रु०



Rs. 180

4. 180 ₹

Question Number : 87 Question Id : 1785675731 Question Type : MCQ Option Shuffling : Yes Display Question Number : Yes  
Single Line Question Option : No Option Orientation : Vertical Allowed Progression : Yes Number of Replay : 999 Play On Load :  
No Control Enable : Yes

Correct Marks : 3 Wrong Marks : 1

Question Label : Multiple Choice Question

An aeroplane take 1 hour more for a journey of 1000 km if its speed decrease by 50 km/hr from its usual speed. What is the usual speed of aeroplane ?

1000 किमी० की यात्रा के दौरान, यदि एक हवाई जहाज अपनी वास्तविक चाल को 50 किमी०/घंटा कम कर दे, तो एक घंटा अधिक समय लगता है। हवाई जहाज की वास्तविक चाल क्या है ?

Options :

1. 200 km/hr  
200 किमी०/घंटा

2. 240 km/hr  
240 किमी०/घंटा

3. 250 km/hr  
250 किमी०/घंटा

4. 300 km/hr  
300 किमी०/घंटा

Question Number : 88 Question Id : 1785675732 Question Type : MCQ Option Shuffling : Yes Display Question Number : Yes  
Single Line Question Option : No Option Orientation : Vertical Allowed Progression : Yes Number of Replay : 999 Play On Load :  
No Control Enable : Yes

Correct Marks : 3 Wrong Marks : 1

Question Label : Multiple Choice Question

How many liters of water will have to be added to 1125 liters of 45% solution of acid so that the resulting mixture will contain more than 25% but less than 30% acid content ?

45% एसिड घोल के 1125 ली० में कितना लीटर पानी और मिला दिया जाय कि मिश्रित घोल की सान्द्रता 25% से अधिक तथा 30% से कम हो जाय ?

Options :

1. More than 600 litres but less than 800 litres  
600 ली० से अधिक तथा 800 ली० से कम

2. More than 550 litres but less than 700 litres  
550 ली० से अधिक तथा 700 ली० से कम



More than 562.5 litres but less than 900 litres

3. 562.5 ली० से अधिक तथा 900 ली० से कम

More than 560 litres but less than 850 litres

4. 560 ली० से अधिक तथा 850 ली० से कम

Question Number : 89 Question Id : 1785675733 Question Type : MCQ Option Shuffling : Yes Display Question Number : Yes  
Single Line Question Option : No Option Orientation : Vertical Allowed Progression : Yes Number of Replay : 999 Play On Load :  
No Control Enable : Yes

Correct Marks : 3 Wrong Marks : 1

Question Label : Multiple Choice Question

Sum of the series  $2 + 6 + 18 + 54 + \dots + 4374$  is :

श्रेणी  $2 + 6 + 18 + 54 + \dots + 4374$  का योग है :

Options :

1. 6550

2. 6560

3. 6660

4. 6650

Question Number : 90 Question Id : 1785675734 Question Type : MCQ Option Shuffling : Yes Display Question Number : Yes  
Single Line Question Option : No Option Orientation : Vertical Allowed Progression : Yes Number of Replay : 999 Play On Load :  
No Control Enable : Yes

Correct Marks : 3 Wrong Marks : 1

Question Label : Multiple Choice Question

If one is added to the second digit of each number and one is subtracted from the third digit of each number and then if the first and third digits of each number are interchanged, then which number will be lowest ?

यदि प्रत्येक संख्या के दूसरे अंक में एक जोड़ा जाता है और प्रत्येक संख्या के तीसरे अंक से एक घटा दिया जाता है और फिर यदि प्रत्येक संख्या के पहले और तीसरे अंक को आपस में पलट दिया है, तो कौन-सी संख्या सबसे कम होगी ?

Options :

1. 473

2. 568

3. 382



## Section IV Verbal Ability English

<b>Section Id :</b>	17856795
<b>Section Number :</b>	4
<b>Section type :</b>	Online
<b>Mandatory or Optional:</b>	Optional
<b>Number of Questions:</b>	30
<b>Number of Questions to be attempted:</b>	30
<b>Section Marks:</b>	90
<b>Display Number Panel:</b>	Yes
<b>Group All Questions:</b>	No

<b>Sub-Section Number:</b>	1
<b>Sub-Section Id:</b>	178567143
<b>Question Shuffling Allowed :</b>	Yes

**Question Number : 91 Question Id : 1785675735 Question Type : MCQ Option Shuffling : Yes Display Question Number : Yes**  
**Single Line Question Option : No Option Orientation : Vertical Allowed Progression : Yes Number of Replay : 999 Play On Load :**  
**No Control Enable : Yes**

**Correct Marks : 3 Wrong Marks : 1**

Question Label : Multiple Choice Question

Select the word nearest in meaning to the given word :

Curtail :

Options :

1. crush
2. crook
3. reduce
4. finish

**Question Number : 92 Question Id : 1785675736 Question Type : MCQ Option Shuffling : Yes Display Question Number : Yes**  
**Single Line Question Option : No Option Orientation : Vertical Allowed Progression : Yes Number of Replay : 999 Play On Load :**  
**No Control Enable : Yes**

**Correct Marks : 3 Wrong Marks : 1**

Question Label : Multiple Choice Question

Select the word nearest in meaning to the given word :

Hectic :

Options :

1. feverish
2. rash
3. bold
4. saintly

Question Number : 93 Question Id : 1785675737 Question Type : MCQ Option Shuffling : Yes Display Question Number : Yes  
Single Line Question Option : No Option Orientation : Vertical Allowed Progression : Yes Number of Replay : 999 Play On Load :  
No Control Enable : Yes

Correct Marks : 3 Wrong Marks : 1

Question Label : Multiple Choice Question

Select the word nearest in meaning to the given word :

Expedite :

Options :

1. exhaust
2. delay
3. gladden
4. speed up

Question Number : 94 Question Id : 1785675738 Question Type : MCQ Option Shuffling : Yes Display Question Number : Yes  
Single Line Question Option : No Option Orientation : Vertical Allowed Progression : Yes Number of Replay : 999 Play On Load :  
No Control Enable : Yes

Correct Marks : 3 Wrong Marks : 1

Question Label : Multiple Choice Question

Select the word nearest in meaning to the given word :

Destitute :

Options :

1. compact
2. poor
3. complicated



4. troublesome

Question Number : 95 Question Id : 1785675739 Question Type : MCQ Option Shuffling : Yes Display Question Number : Yes  
Single Line Question Option : No Option Orientation : Vertical Allowed Progression : Yes Number of Replay : 999 Play On Load :  
No Control Enable : Yes

Correct Marks : 3 Wrong Marks : 1

Question Label : Multiple Choice Question

Select the word opposite in meaning to the given word :

thaw :

Options :

1. mild

2. freeze

3. terrify

4. concise

Question Number : 96 Question Id : 1785675740 Question Type : MCQ Option Shuffling : Yes Display Question Number : Yes  
Single Line Question Option : No Option Orientation : Vertical Allowed Progression : Yes Number of Replay : 999 Play On Load :  
No Control Enable : Yes

Correct Marks : 3 Wrong Marks : 1

Question Label : Multiple Choice Question

Select the word opposite in meaning to the given word :

garnish :

Options :

1. renounce

2. examine

3. appoint

4. disfigure

Question Number : 97 Question Id : 1785675741 Question Type : MCQ Option Shuffling : Yes Display Question Number : Yes  
Single Line Question Option : No Option Orientation : Vertical Allowed Progression : Yes Number of Replay : 999 Play On Load :  
No Control Enable : Yes

Correct Marks : 3 Wrong Marks : 1

Question Label : Multiple Choice Question

Select the word opposite in meaning to the given word :

morose :

Options :

1. tender
2. stable
3. jovial
4. watchful

Question Number : 98 Question Id : 1785675742 Question Type : MCQ Option Shuffling : Yes Display Question Number : Yes  
Single Line Question Option : No Option Orientation : Vertical Allowed Progression : Yes Number of Replay : 999 Play On Load :  
No Control Enable : Yes

Correct Marks : 3 Wrong Marks : 1

Question Label : Multiple Choice Question

Select the word opposite in meaning to the given word :

grubby :

Options :

1. neat
2. wasteful
3. harsh
4. kind

Question Number : 99 Question Id : 1785675743 Question Type : MCQ Option Shuffling : Yes Display Question Number : Yes  
Single Line Question Option : No Option Orientation : Vertical Allowed Progression : Yes Number of Replay : 999 Play On Load :  
No Control Enable : Yes

Correct Marks : 3 Wrong Marks : 1

Question Label : Multiple Choice Question

Select the correct meaning of the given idiomatic expression :

Run after :

Options :

1. communciate
2. pursue



3. rectify

4. point out

Question Number : 100 Question Id : 1785675744 Question Type : MCQ Option Shuffling : Yes Display Question Number : Yes  
Single Line Question Option : No Option Orientation : Vertical Allowed Progression : Yes Number of Replay : 999 Play On Load :  
No Control Enable : Yes

Correct Marks : 3 Wrong Marks : 1

Question Label : Multiple Choice Question

Select the correct meaning of the given idiomatic expression :

Put off :

Options :

1. defeat

2. switch off

3. postpone

4. settle down

Question Number : 101 Question Id : 1785675745 Question Type : MCQ Option Shuffling : Yes Display Question Number : Yes  
Single Line Question Option : No Option Orientation : Vertical Allowed Progression : Yes Number of Replay : 999 Play On Load :  
No Control Enable : Yes

Correct Marks : 3 Wrong Marks : 1

Question Label : Multiple Choice Question

Select the correct meaning of the given idiomatic expression :

Get through :

Options :

1. pass

2. resist

3. go through

4. burn down

Question Number : 102 Question Id : 1785675746 Question Type : MCQ Option Shuffling : Yes Display Question Number : Yes  
Single Line Question Option : No Option Orientation : Vertical Allowed Progression : Yes Number of Replay : 999 Play On Load :  
No Control Enable : Yes

Correct Marks : 3 Wrong Marks : 1

Question Label : Multiple Choice Question

Select the correct meaning of the given idiomatic expression :

By and by :

Options :

1. briefly
2. hurriedly
3. generally
4. soon

Question Number : 103 Question Id : 1785675747 Question Type : MCQ Option Shuffling : Yes Display Question Number : Yes  
Single Line Question Option : No Option Orientation : Vertical Allowed Progression : Yes Number of Replay : 999 Play On Load :  
No Control Enable : Yes

Correct Marks : 3 Wrong Marks : 1

Question Label : Multiple Choice Question

Select the right word to fill in the blanks in the given sentence :

He sat for hours just ..... into space.

Options :

1. peeping
2. gazing
3. seeing
4. noticing

Question Number : 104 Question Id : 1785675748 Question Type : MCQ Option Shuffling : Yes Display Question Number : Yes  
Single Line Question Option : No Option Orientation : Vertical Allowed Progression : Yes Number of Replay : 999 Play On Load :  
No Control Enable : Yes

Correct Marks : 3 Wrong Marks : 1

Question Label : Multiple Choice Question

Select the right word to fill in the blanks in the given sentence :

A memorial stone was ..... to those who were killed in the war.

Options :

1. ornamented



2. dedicated
3. founded
4. precious

Question Number : 105 Question Id : 1785675749 Question Type : MCQ Option Shuffling : Yes Display Question Number : Yes  
Single Line Question Option : No Option Orientation : Vertical Allowed Progression : Yes Number of Replay : 999 Play On Load :  
No Control Enable : Yes

Correct Marks : 3 Wrong Marks : 1

Question Label : Multiple Choice Question

Select the right word to fill in the blanks in the given sentence :

He was utterly ..... when his wife died.

Options :

1. bereft
2. bold
3. excited
4. cheerful

Question Number : 106 Question Id : 1785675750 Question Type : MCQ Option Shuffling : Yes Display Question Number : Yes  
Single Line Question Option : No Option Orientation : Vertical Allowed Progression : Yes Number of Replay : 999 Play On Load :  
No Control Enable : Yes

Correct Marks : 3 Wrong Marks : 1

Question Label : Multiple Choice Question

Select the right word to fill in the blanks in the given sentence :

When it came to cleaning up afterwards, Arati was ..... by her absence.

Options :

1. consistent
2. familiar
3. conspicuous
4. notorious

Question Number : 107 Question Id : 1785675751 Question Type : MCQ Option Shuffling : Yes Display Question Number : Yes  
Single Line Question Option : No Option Orientation : Vertical Allowed Progression : Yes Number of Replay : 999 Play On Load :  
No Control Enable : Yes

Correct Marks : 3 Wrong Marks : 1

Question Label : Multiple Choice Question

Choose the correct option to form the right sentence :

..... is a good book.

Options :

1. My

2. His

3. Her

4. Your

Question Number : 108 Question Id : 1785675752 Question Type : MCQ Option Shuffling : Yes Display Question Number : Yes  
Single Line Question Option : No Option Orientation : Vertical Allowed Progression : Yes Number of Replay : 999 Play On Load :  
No Control Enable : Yes

Correct Marks : 3 Wrong Marks : 1

Question Label : Multiple Choice Question

Choose the correct option to form the right sentence :

..... did I reach the platform than the train started.

Options :

1. As soon as

2. While

3. When

4. No sooner

Question Number : 109 Question Id : 1785675753 Question Type : MCQ Option Shuffling : Yes Display Question Number : Yes  
Single Line Question Option : No Option Orientation : Vertical Allowed Progression : Yes Number of Replay : 999 Play On Load :  
No Control Enable : Yes

Correct Marks : 3 Wrong Marks : 1

Question Label : Multiple Choice Question

Choose the correct option to form the right sentence :

An elephant .....

Options :



1. roars
2. bleats
3. trumpets
4. growls

Question Number : 110 Question Id : 1785675754 Question Type : MCQ Option Shuffling : Yes Display Question Number : Yes  
Single Line Question Option : No Option Orientation : Vertical Allowed Progression : Yes Number of Replay : 999 Play On Load :  
No Control Enable : Yes

Correct Marks : 3 Wrong Marks : 1

Question Label : Multiple Choice Question

Choose the correct option to form the right sentence :

A ..... of mules arrived at once.

Options :

1. flock
2. line
3. group
4. pack

Question Number : 111 Question Id : 1785675755 Question Type : MCQ Option Shuffling : Yes Display Question Number : Yes  
Single Line Question Option : No Option Orientation : Vertical Allowed Progression : Yes Number of Replay : 999 Play On Load :  
No Control Enable : Yes

Correct Marks : 3 Wrong Marks : 1

Question Label : Multiple Choice Question

Select the part of speech of the underlined words in the given sentence :

The train was moving very fast.

Options :

1. noun
2. adjective
3. adverb
4. verb

Question Number : 112 Question Id : 1785675756 Question Type : MCQ Option Shuffling : Yes Display Question Number : Yes  
Single Line Question Option : No Option Orientation : Vertical Allowed Progression : Yes Number of Replay : 999 Play On Load :  
No Control Enable : Yes

Correct Marks : 3 Wrong Marks : 1

Question Label : Multiple Choice Question

Select the part of speech of the underlined words in the given sentence :

He was very friendly with us.

Options :

1. noun
2. adjective
3. adverb
4. verb

Question Number : 113 Question Id : 1785675757 Question Type : MCQ Option Shuffling : Yes Display Question Number : Yes  
Single Line Question Option : No Option Orientation : Vertical Allowed Progression : Yes Number of Replay : 999 Play On Load :  
No Control Enable : Yes

Correct Marks : 3 Wrong Marks : 1

Question Label : Multiple Choice Question

Select the part of speech of the underlined words in the given sentence :

She is not a scholar.

Options :

1. noun
2. adjective
3. adverb
4. determiner

Question Number : 114 Question Id : 1785675758 Question Type : MCQ Option Shuffling : Yes Display Question Number : Yes  
Single Line Question Option : No Option Orientation : Vertical Allowed Progression : Yes Number of Replay : 999 Play On Load :  
No Control Enable : Yes

Correct Marks : 3 Wrong Marks : 1

Question Label : Multiple Choice Question

Select the part of speech of the underlined words in the given sentence :

Though he is poor, he is generous.

Options :



1. preposition
2. conjunction
3. determiner
4. interjection

Question Number : 115 Question Id : 1785675759 Question Type : MCQ Option Shuffling : Yes Display Question Number : Yes  
Single Line Question Option : No Option Orientation : Vertical Allowed Progression : Yes Number of Replay : 999 Play On Load :  
No Control Enable : Yes

Correct Marks : 3 Wrong Marks : 1

Question Label : Multiple Choice Question

Fill in the blank with the correct preposition :

He was accused ..... stealing a book.

Options :

1. with
2. in
3. from
4. of

Question Number : 116 Question Id : 1785675760 Question Type : MCQ Option Shuffling : Yes Display Question Number : Yes  
Single Line Question Option : No Option Orientation : Vertical Allowed Progression : Yes Number of Replay : 999 Play On Load :  
No Control Enable : Yes

Correct Marks : 3 Wrong Marks : 1

Question Label : Multiple Choice Question

Fill in the blank with the correct preposition :

I live ..... campus.

Options :

1. in
2. on
3. at

4. within

Question Number : 117 Question Id : 1785675761 Question Type : MCQ Option Shuffling : Yes Display Question Number : Yes  
Single Line Question Option : No Option Orientation : Vertical Allowed Progression : Yes Number of Replay : 999 Play On Load :  
No Control Enable : Yes

Correct Marks : 3 Wrong Marks : 1

Question Label : Multiple Choice Question

Fill in the blank with the correct preposition :

Joha was debarred ..... appearing at the examination.

Options :

1. by

2. from

3. with

4. in

Question Number : 118 Question Id : 1785675762 Question Type : MCQ Option Shuffling : Yes Display Question Number : Yes  
Single Line Question Option : No Option Orientation : Vertical Allowed Progression : Yes Number of Replay : 999 Play On Load :  
No Control Enable : Yes

Correct Marks : 3 Wrong Marks : 1

Question Label : Multiple Choice Question

Select the word which has been correctly spelt :

Options :

1. Comparison

2. Comperison

3. Comparision

4. Comperision

Question Number : 119 Question Id : 1785675763 Question Type : MCQ Option Shuffling : Yes Display Question Number : Yes  
Single Line Question Option : No Option Orientation : Vertical Allowed Progression : Yes Number of Replay : 999 Play On Load :  
No Control Enable : Yes

Correct Marks : 3 Wrong Marks : 1

Question Label : Multiple Choice Question

Select the word which has been correctly spelt :

Options :

1. Forigne



2. Foreign

3. Forign

4. Foreigne

Question Number : 120 Question Id : 1785675764 Question Type : MCQ Option Shuffling : Yes Display Question Number : Yes  
Single Line Question Option : No Option Orientation : Vertical Allowed Progression : Yes Number of Replay : 999 Play On Load :  
No Control Enable : Yes

Correct Marks : 3 Wrong Marks : 1

Question Label : Multiple Choice Question

Select the word which has been correctly spelt :

Options :

1. Superintendant

2. Superitendent

3. Superitendant

4. Superintendent

#### Section IV Verbal Ability Hindi

Section Id :	17856796
Section Number :	5
Section type :	Online
Mandatory or Optional:	Optional
Number of Questions:	30
Number of Questions to be attempted:	30
Section Marks:	90
Display Number Panel:	Yes
Group All Questions:	No

Sub-Section Number:	1
Sub-Section Id:	178567144
Question Shuffling Allowed :	Yes

Question Number : 121 Question Id : 1785675765 Question Type : MCQ Option Shuffling : Yes Display Question Number : Yes  
Single Line Question Option : No Option Orientation : Vertical Allowed Progression : Yes Number of Replay : 999 Play On Load :  
No Control Enable : Yes

Correct Marks : 3 Wrong Marks : 1

Question Label : Multiple Choice Question

'द्विवेदी युग' किसके नाम पर जाना जाता है ?

Options :

1. हजारी प्रसाद द्विवेदी
2. शांतिप्रिय द्विवेदी
3. महावीर प्रसाद द्विवेदी
4. मन्नन द्विवेदी

Question Number : 122 Question Id : 1785675766 Question Type : MCQ Option Shuffling : Yes Display Question Number : Yes  
Single Line Question Option : No Option Orientation : Vertical Allowed Progression : Yes Number of Replay : 999 Play On Load :  
No Control Enable : Yes

Correct Marks : 3 Wrong Marks : 1

Question Label : Multiple Choice Question

विनय-पत्रिका किसकी कृति है ?

Options :

1. विनय कृष्ण
2. गोस्वामी तुलसीदास
3. सूरदास
4. परमानन्द दास

Question Number : 123 Question Id : 1785675767 Question Type : MCQ Option Shuffling : Yes Display Question Number : Yes  
Single Line Question Option : No Option Orientation : Vertical Allowed Progression : Yes Number of Replay : 999 Play On Load :  
No Control Enable : Yes

Correct Marks : 3 Wrong Marks : 1

Question Label : Multiple Choice Question

इनमें से कौन वीररस के कवि के रूप में जाना जाता है ?

Options :

1. भूषण
2. ठाकुर
3. बोधा
4. आलम

Question Number : 124 Question Id : 1785675768 Question Type : MCQ Option Shuffling : Yes Display Question Number : Yes  
Single Line Question Option : No Option Orientation : Vertical Allowed Progression : Yes Number of Replay : 999 Play On Load :  
No Control Enable : Yes

Correct Marks : 3 Wrong Marks : 1

Question Label : Multiple Choice Question



'अँधेर नगरी' किसकी कृति है ?

Options :

1. श्रीनिवासदास
2. प्रताप नारायण मिश्र
3. राधाकृष्णदास
4. भारतेन्दु हरिश्चन्द्र

Question Number : 125 Question Id : 1785675769 Question Type : MCQ Option Shuffling : Yes Display Question Number : Yes  
Single Line Question Option : No Option Orientation : Vertical Allowed Progression : Yes Number of Replay : 999 Play On Load :  
No Control Enable : Yes

Correct Marks : 3 Wrong Marks : 1

Question Label : Multiple Choice Question

'सेवासदन' किसकी कृति है ?

Options :

1. सेवाराम
2. अमृतलाल नागर
3. प्रेमचंद
4. श्रीलाल शुक्ल

Question Number : 126 Question Id : 1785675770 Question Type : MCQ Option Shuffling : Yes Display Question Number : Yes  
Single Line Question Option : No Option Orientation : Vertical Allowed Progression : Yes Number of Replay : 999 Play On Load :  
No Control Enable : Yes

Correct Marks : 3 Wrong Marks : 1

Question Label : Multiple Choice Question

इनमें से कौन भक्ति काल का कवि **नहीं** है ?

Options :

1. दीनदयाल गिरि
2. कबीर दास
3. परमानन्द दास
4. कुंभन दास

Question Number : 127 Question Id : 1785675771 Question Type : MCQ Option Shuffling : Yes Display Question Number : Yes  
Single Line Question Option : No Option Orientation : Vertical Allowed Progression : Yes Number of Replay : 999 Play On Load :  
No Control Enable : Yes

Correct Marks : 3 Wrong Marks : 1

Question Label : Multiple Choice Question

आंचलिक उपन्यास के रूप में किसकी ख्याति है ?

Options :

1. सबहिं नचावत राम गोसाईं
2. मैला आंचल
3. झूठा सच
4. चित्रलेखा

Question Number : 128 Question Id : 1785675772 Question Type : MCQ Option Shuffling : Yes Display Question Number : Yes  
Single Line Question Option : No Option Orientation : Vertical Allowed Progression : Yes Number of Replay : 999 Play On Load :  
No Control Enable : Yes

Correct Marks : 3 Wrong Marks : 1

Question Label : Multiple Choice Question

'राम की शक्तिपूजा' किसकी रचना है ?

Options :

1. रामचरित उपाध्याय
2. निराला
3. पंत
4. प्रसाद

Question Number : 129 Question Id : 1785675773 Question Type : MCQ Option Shuffling : Yes Display Question Number : Yes  
Single Line Question Option : No Option Orientation : Vertical Allowed Progression : Yes Number of Replay : 999 Play On Load :  
No Control Enable : Yes

Correct Marks : 3 Wrong Marks : 1

Question Label : Multiple Choice Question

'आँसू' किसकी कृति है ?

Options :

1. महादेवी वर्मा
2. सुभद्रा कुमारी चौहान
3. जयशंकर प्रसाद



4. बाला वियोगिनी

Question Number : 130 Question Id : 1785675774 Question Type : MCQ Option Shuffling : Yes Display Question Number : Yes  
Single Line Question Option : No Option Orientation : Vertical Allowed Progression : Yes Number of Replay : 999 Play On Load :  
No Control Enable : Yes

Correct Marks : 3 Wrong Marks : 1

Question Label : Multiple Choice Question

'सरस्वती' के संपादक कौन थे ?

Options :

1. गोविन्द मिश्र
2. बालमुकुन्द गुप्त
3. बनारसी प्रसाद चतुर्वेदी
4. महावीर प्रसाद द्विवेदी

Question Number : 131 Question Id : 1785675775 Question Type : MCQ Option Shuffling : Yes Display Question Number : Yes  
Single Line Question Option : No Option Orientation : Vertical Allowed Progression : Yes Number of Replay : 999 Play On Load :  
No Control Enable : Yes

Correct Marks : 3 Wrong Marks : 1

Question Label : Multiple Choice Question

हिन्दी वर्णमाला का 'झ' किन दो ध्वनियों के योग से बना है ?

Options :

1. ज् + ज
2. ग् + य
3. ग् + ज
4. ग + य

Question Number : 132 Question Id : 1785675776 Question Type : MCQ Option Shuffling : Yes Display Question Number : Yes  
Single Line Question Option : No Option Orientation : Vertical Allowed Progression : Yes Number of Replay : 999 Play On Load :  
No Control Enable : Yes

Correct Marks : 3 Wrong Marks : 1

Question Label : Multiple Choice Question

इनमें से कौन वर्ण ट वर्ग के अन्तर्गत **नहीं** है ?

Options :

1. ठ
2. थ

3. ढ

4. ड

Question Number : 133 Question Id : 1785675777 Question Type : MCQ Option Shuffling : Yes Display Question Number : Yes  
Single Line Question Option : No Option Orientation : Vertical Allowed Progression : Yes Number of Replay : 999 Play On Load :  
No Control Enable : Yes

Correct Marks : 3 Wrong Marks : 1

Question Label : Multiple Choice Question

इनमें से कौन संयुक्त व्यंजन **नहीं** है ?

Options :

1. क्ष

2. त्र

3. छ

4. ज्ञ

Question Number : 134 Question Id : 1785675778 Question Type : MCQ Option Shuffling : Yes Display Question Number : Yes  
Single Line Question Option : No Option Orientation : Vertical Allowed Progression : Yes Number of Replay : 999 Play On Load :  
No Control Enable : Yes

Correct Marks : 3 Wrong Marks : 1

Question Label : Multiple Choice Question

शुद्ध वर्तनी चुनिए :

Options :

1. अन्वेषण

2. अन्वेशण

3. अन्वेषण

4. अनवेशन

Question Number : 135 Question Id : 1785675779 Question Type : MCQ Option Shuffling : Yes Display Question Number : Yes  
Single Line Question Option : No Option Orientation : Vertical Allowed Progression : Yes Number of Replay : 999 Play On Load :  
No Control Enable : Yes

Correct Marks : 3 Wrong Marks : 1

Question Label : Multiple Choice Question

'अधोगति' में किन दो शब्दों की संधि है ?

Options :

1. अधो + गति



2. अधो + ऋगति
3. अधो: + गति
4. अ + धोगति

Question Number : 136 Question Id : 1785675780 Question Type : MCQ Option Shuffling : Yes Display Question Number : Yes  
Single Line Question Option : No Option Orientation : Vertical Allowed Progression : Yes Number of Replay : 999 Play On Load :  
No Control Enable : Yes

Correct Marks : 3 Wrong Marks : 1

Question Label : Multiple Choice Question

इनमें से स्वर संधि का उदाहरण कौन है ?

Options :

1. वागीश
2. रत्नाकर
3. दिगम्बर
4. दुष्कर्म

Question Number : 137 Question Id : 1785675781 Question Type : MCQ Option Shuffling : Yes Display Question Number : Yes  
Single Line Question Option : No Option Orientation : Vertical Allowed Progression : Yes Number of Replay : 999 Play On Load :  
No Control Enable : Yes

Correct Marks : 3 Wrong Marks : 1

Question Label : Multiple Choice Question

'गमन' का विलोमार्थक शब्द बनाने के लिए इनमें से किस उपसर्ग का प्रयोग किया जायेगा ?

Options :

1. आ
2. नि
3. अनु
4. प्रति

Question Number : 138 Question Id : 1785675782 Question Type : MCQ Option Shuffling : Yes Display Question Number : Yes  
Single Line Question Option : No Option Orientation : Vertical Allowed Progression : Yes Number of Replay : 999 Play On Load :  
No Control Enable : Yes

Correct Marks : 3 Wrong Marks : 1

Question Label : Multiple Choice Question

'सुत' शब्द को स्त्रीवाचक रूप देने के लिए किस प्रत्यय का उपयोग करेंगे ?

Options :

1. ई
2. आ
3. इक
4. ऊ

Question Number : 139 Question Id : 1785675783 Question Type : MCQ Option Shuffling : Yes Display Question Number : Yes  
Single Line Question Option : No Option Orientation : Vertical Allowed Progression : Yes Number of Replay : 999 Play On Load :  
No Control Enable : Yes

Correct Marks : 3 Wrong Marks : 1

Question Label : Multiple Choice Question

इनमें से किस शब्द में उपसर्ग का प्रयोग **नहीं** है ?

Options :

1. सुकर्म
2. सुरेश
3. सुराज
4. सुदेश

Question Number : 140 Question Id : 1785675784 Question Type : MCQ Option Shuffling : Yes Display Question Number : Yes  
Single Line Question Option : No Option Orientation : Vertical Allowed Progression : Yes Number of Replay : 999 Play On Load :  
No Control Enable : Yes

Correct Marks : 3 Wrong Marks : 1

Question Label : Multiple Choice Question

इनमें से तत्सम शब्द रूप चुनिए :

Options :

1. दूध
2. गोबर
3. दधि
4. घी

Question Number : 141 Question Id : 1785675785 Question Type : MCQ Option Shuffling : Yes Display Question Number : Yes  
Single Line Question Option : No Option Orientation : Vertical Allowed Progression : Yes Number of Replay : 999 Play On Load :  
No Control Enable : Yes

Correct Marks : 3 Wrong Marks : 1

Question Label : Multiple Choice Question



इनमें से तद्भव शब्द रूप कौन है ?

Options :

1. विवाह
2. पाणिग्रहण
3. कन्यादान
4. बारात

Question Number : 142 Question Id : 1785675786 Question Type : MCQ Option Shuffling : Yes Display Question Number : Yes  
Single Line Question Option : No Option Orientation : Vertical Allowed Progression : Yes Number of Replay : 999 Play On Load :  
No Control Enable : Yes

Correct Marks : 3 Wrong Marks : 1

Question Label : Multiple Choice Question

जो धन को व्यर्थ करता है, उसे क्या कहेंगे ?

Options :

1. मितव्ययी
2. अपव्ययी
3. कृपण
4. अल्पव्ययी

Question Number : 143 Question Id : 1785675787 Question Type : MCQ Option Shuffling : Yes Display Question Number : Yes  
Single Line Question Option : No Option Orientation : Vertical Allowed Progression : Yes Number of Replay : 999 Play On Load :  
No Control Enable : Yes

Correct Marks : 3 Wrong Marks : 1

Question Label : Multiple Choice Question

शुद्ध वाक्य चुनिए :

Options :

1. भारत में अनेक जातियाँ हैं।
2. भारत में अनेकों जाति है।
3. भारत में अनेकों जातियाँ हैं।
4. भारत में अनेक जाति है।

Question Number : 144 Question Id : 1785675788 Question Type : MCQ Option Shuffling : Yes Display Question Number : Yes  
Single Line Question Option : No Option Orientation : Vertical Allowed Progression : Yes Number of Replay : 999 Play On Load :  
No Control Enable : Yes

Correct Marks : 3 Wrong Marks : 1

Question Label : Multiple Choice Question

'आँख लगना' का ठीक अर्थ क्या है ?

Options :

1. नजर गड़ जाना
2. नींद आना
3. प्रेम हो जाना
4. मृत्यु होना

Question Number : 145 Question Id : 1785675789 Question Type : MCQ Option Shuffling : Yes Display Question Number : Yes  
Single Line Question Option : No Option Orientation : Vertical Allowed Progression : Yes Number of Replay : 999 Play On Load :  
No Control Enable : Yes

Correct Marks : 3 Wrong Marks : 1

Question Label : Multiple Choice Question

'घाट-घाट का पानी पीना' का अर्थ है :

Options :

1. मारा-मारा फिरना
2. तीर्थयात्रा करना
3. धर्म में अधिक रुचि होना
4. अनुभव प्राप्त करना

Question Number : 146 Question Id : 1785675790 Question Type : MCQ Option Shuffling : Yes Display Question Number : Yes  
Single Line Question Option : No Option Orientation : Vertical Allowed Progression : Yes Number of Replay : 999 Play On Load :  
No Control Enable : Yes

Correct Marks : 3 Wrong Marks : 1

Question Label : Multiple Choice Question

'मैं' का कर्म कारक का रूप कौन-सा है ?

Options :

1. मुझसे
2. मेरे
3. मुझको



4. मेरे लिए

Question Number : 147 Question Id : 1785675791 Question Type : MCQ Option Shuffling : Yes Display Question Number : Yes  
Single Line Question Option : No Option Orientation : Vertical Allowed Progression : Yes Number of Replay : 999 Play On Load :  
No Control Enable : Yes

Correct Marks : 3 Wrong Marks : 1

Question Label : Multiple Choice Question

इनमें भाववाचक संज्ञा कौन है ?

Options :

1. अच्छा

2. अच्छाई

3. अच्छी तरह

4. अच्छा-अच्छा

Question Number : 148 Question Id : 1785675792 Question Type : MCQ Option Shuffling : Yes Display Question Number : Yes  
Single Line Question Option : No Option Orientation : Vertical Allowed Progression : Yes Number of Replay : 999 Play On Load :  
No Control Enable : Yes

Correct Marks : 3 Wrong Marks : 1

Question Label : Multiple Choice Question

किये गये उपकार का एहसान मानने वाले व्यक्ति को क्या कहेंगे ?

Options :

1. कृतघ्न

2. कृतज्ञ

3. कृती

4. सुकृती

Question Number : 149 Question Id : 1785675793 Question Type : MCQ Option Shuffling : Yes Display Question Number : Yes  
Single Line Question Option : No Option Orientation : Vertical Allowed Progression : Yes Number of Replay : 999 Play On Load :  
No Control Enable : Yes

Correct Marks : 3 Wrong Marks : 1

Question Label : Multiple Choice Question

दीवाल पर बनाये गये चित्र को क्या कहेंगे ?

Options :

1. भूमिचित्र

2. रंगचित्र

3. आधारचित्र

4. भित्तिचित्र

Question Number : 150 Question Id : 1785675794 Question Type : MCQ Option Shuffling : Yes Display Question Number : Yes  
Single Line Question Option : No Option Orientation : Vertical Allowed Progression : Yes Number of Replay : 999 Play On Load :  
No Control Enable : Yes

Correct Marks : 3 Wrong Marks : 1

Question Label : Multiple Choice Question

'जिसकी कोई आशा न हो' उसके लिए उचित शब्द क्या है ?

Options :

1. अनिच्छित

2. अनभीष्ट

3. अप्रत्याशित

4. अनपेक्षित