



Delhi Police Constable Online Exam Paper 06.12.2017 Shift-01

REGISTRATION NUMBER :

EXAM DATE : 6-December-2017

EXAM NAME : SSC Examination TOTAL MARKS : 100

CANDIDATE NAME :

EXAM START TIME : 10:00:00

EXAM DURATION : 01:30 Hrs

TOTAL NO OF QUESTIONS : 100

QID : 1 - In the following question, select the related word from the given alternatives.

Spectacles : See :: Pencil : ?

निम्नलिखित प्रश्न में दिए गए विकल्पों में से संबंधित शब्द को चुनिए।

कश्मा : देखना :: पेसिल : ?

Options:

1) Lead

सीसा

2) Write

लिखना

3) Paper

कगज़

4) Round

गोल

Correct Answer: Write

लिखना

Candidate Answer: Write

लिखना

QID : 2 - In the following question, select the related letters from the given alternatives.

FROM : MYVT :: TEAM : ?

निम्नलिखित प्रश्न में दिए गए विकल्पों में से संबंधित अक्षरों को चुनिए।

FROM : MYVT :: TEAM : ?

Options:

1) ALHT

2) BMJV

3) DKIA

4) HVAK

Correct Answer: ALHT

Candidate Answer: DKIA

QID : 3 - In the following question, select the related number from the given alternatives.

192 : 291 :: 316 : ?

निम्नलिखित प्रश्न में दिए गए विकल्पों में से संबंधित संख्या को चुनिए।

192 : 291 :: 316 : ?

Options:

1) 631

2) 136

3) 163

4) 613

Correct Answer: 613

Candidate Answer: 613

QID : 4 - In the following question, select the odd word from the given alternatives.

निम्नलिखित प्रश्न में दिए गए विकल्पों में से विषम शब्द को चुनिए।

**Options:**

1) Mustard

सरसों

2) Wheat

गेहूँ

3) Crop

फसल

4) Rice

चावल

**Correct Answer:** Crop

फसल

**Candidate Answer:** Mustard

सरसों

**QID : 5** - In the following question, select the odd letters from the given alternatives.

निम्नलिखित प्रश्न में दिए गए विकल्पों में से विषम अक्षरों को चुनिए।

**Options:**

1) AGMS

2) HNTZ

3) CIOZ

4) DJPV

**Correct Answer:** CIOZ

**Candidate Answer:** DJPV

**QID : 6** - In the following question, select the odd number pair from the given alternatives.

निम्नलिखित प्रश्न में दिए गए विकल्पों में से विषम संख्या युग्म को चुनिए।

**Options:**

1) 9 - 23

2) 2 - 16

3) 4 - 14

4) 11 - 25

**Correct Answer:** 4 - 14

**Candidate Answer:** 4 - 14

**QID : 7** - In the following question, select the odd number pair from the given alternatives.

निम्नलिखित प्रश्न में दिए गए विकल्पों में से विषम संख्या युग्म को चुनिए।

**Options:**

1) 73 - 21

2) 56 - 30

3) 53 - 15

4) 22 - 6

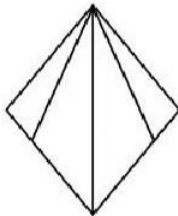
**Correct Answer:** 22 - 6

**Candidate Answer:** 73 - 21

**QID : 8** -

How many triangles are there in the given figure?

दी गई आकृति में कितने त्रिभुज हैं?



Options:

1) 5

2) 6

3) 7

4) 8

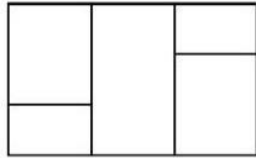
Correct Answer: 6

Candidate Answer: 6

QID : 9 -

How many rectangles are there in the given figure?

दी गई आकृति में कितने आयत हैं?



Options:

1) 8

2) 9

3) 10

4) 11

Correct Answer: 10

Candidate Answer: 8

QID : 10 -

Which of the following cube in the answer figure **CANNOT** be made based on the unfolded cube in the question figure?

निम्नलिखित उत्तर आकृति में से कौन सा घन दिए गए प्रश्न आकृति में से खुले घन से नहीं बनाया जा सकता?



Options:

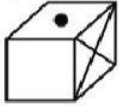
1)



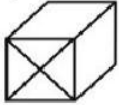
2)



3)



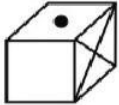
4)



Correct Answer:



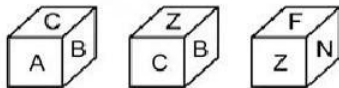
Candidate Answer:



QID : 11 -

Three positions of a cube are shown below. What will come opposite to face containing 'A'?

नीचे एक घन की तीन अवस्थाएँ दर्शायी गयी हैं। 'A' युक्त फलक के विपरीत क्या आयेगा?



Options:

1) F

2) Z

3) N

4) B

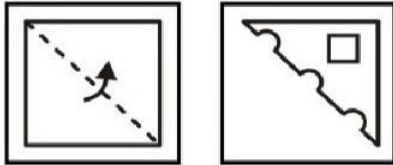
Correct Answer: Z

Candidate Answer: Z

**QID : 12 -**

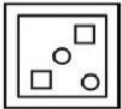
A piece of paper is folded and punched as shown below in the question figures. From the given answer figures, indicate how it will appear when opened?

नीचे के प्रश्न आकृतियों में दिखाए अनुसार कागज़ को मोड़कर छेदने तथा खोलने के बाद वह किस उत्तर आकृति जैसा दिखाई देगा?

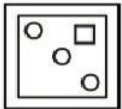


**Options:**

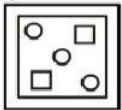
1)



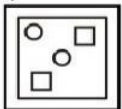
2)



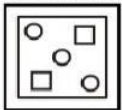
3)



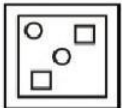
4)



**Correct Answer:**



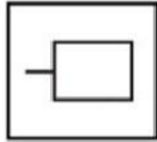
**Candidate Answer**



**QID : 13 -**

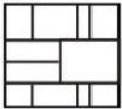
From the given answer figures, select the one in which the question figure is hidden/embedded.

दी गई उत्तर आकृतियों में से उस उत्तर आकृति को चुनिए जिस में प्रश्न आकृति निहित है।

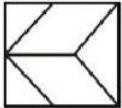


**Options:**

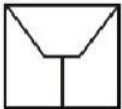
1)




2)



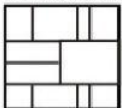
3)



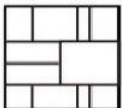
4)



**Correct Answer:**



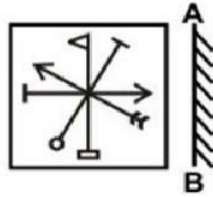
**Candidate Answer:**



**QID : 14 -**

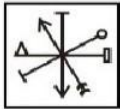
If a mirror is placed on the line AB, then which of the answer figures is the right mirror image of the given figure?

यदि एक दर्पण को AB रेखा पर रखा जाए, तो दी गई उत्तर आकृतियों में से कौन सी आकृति प्रश्न आकृति का सही दर्पण प्रतिबिम्ब होगी?

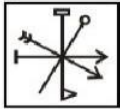


**Options:**

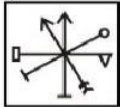
1)



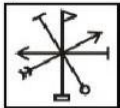
2)



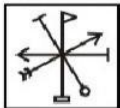
3)



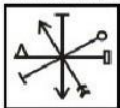
4)



**Correct Answer:**



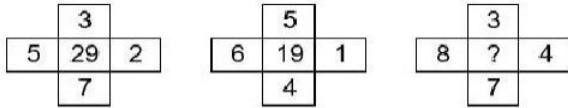
**Candidate Answer:**



**QID : 15 -**

In the following question, select the number which can be placed at the sign of question mark (?) from the given alternatives.

निम्नलिखित प्रश्न में दिए गए विकल्पों में से प्रश्न चिह्न (?) के स्थान पर आने वाली संख्या को चुनिए।



**Options:**

1) 42

2) 44

3) 40

4) 46

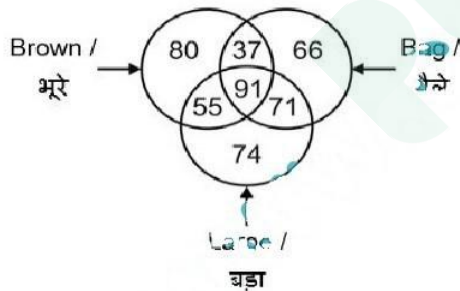
**Correct Answer:** 44

**Candidate Answer:** 42

**QID : 16 -**

In the given figure, how many bags are brown but not large?

दी गई आकृति में, कितने थैले भूरे हैं परंतु बड़े नहीं हैं?



**Options:**

1) 91

2) 37

3) 128

4) 146

**Correct Answer:** 37

**Candidate Answer:** 128

**QID : 17 -** From the given alternatives, select the word which can be formed using the letters of the given word.

**PASTURIZATION**

निम्नलिखित विकल्पों में से वह शब्द चुनिए जो दिए गए शब्द के अक्षरों का प्रयोग करके बनाया जा सकता है।

**PASTURIZATION**



**Options:**

- 1) NATURE
- 2) POSTER
- 3) START
- 4) STRAPED

**Correct Answer:** START

**Candidate Answer:** START

**QID : 18** - Identify the diagram that best represents the relationship among the given classes.

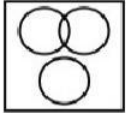
**Yellow, Blue, Man**

वह आरेख चुनिए जो नीचे दिए गए वर्गों के बीच के संबंध का सही निरूपण करता है।


पीला, नीला, पुरुष

**Options:**

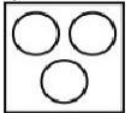
1)



2)



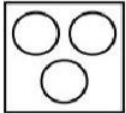
3)



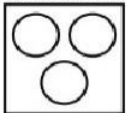
4)



**Correct Answer:**



**Candidate Answer:**



**QID : 19** - In the following question below are given some statements followed by some conclusions. Taking the given statements to be true even if they seem to be at variance from commonly known facts. Read all the conclusions and then decide which of the given conclusion logically follows the given statements.

**Statements:**

- I. All trousers are white.
- II. All white are colour.

**Conclusions:**

- I. Some white are trousers.
- II. All colour are white.

नीचे दिए गए प्रश्न में कुछ कथन और उनके बाद उन कथनों पर आधारित कुछ निष्कर्ष दिए गए हैं। दिए गए कथनों को सही माने, चाहे उनमें सामान्य ज्ञान तथ्यों से भिन्नता हो। सभी निष्कर्ष पढ़ें और फिर निर्धारित करें कि दिए गए कौन से निष्कर्ष, दिए गए कथनों के आधार पर युक्तिवांगत हैं।

**कथन:**

- I. सभी पतलून सफेद हैं।
- II. सभी सफेद रंग हैं।

**निष्कर्ष:**

- I. कुछ सफेद पतलून हैं।
- II. सभी रंग सफेद हैं।

**Options:**

1) Only conclusion (I) follows.

केवल निष्कर्ष (I) सही है।

2) Only conclusion (II) follows.

केवल निष्कर्ष (II) सही है।

3) Both conclusion follow.

दोनों ही निष्कर्ष सही हैं।

4) Neither conclusion (I) nor conclusion (II) follows.

न तो निष्कर्ष (I) न ही निष्कर्ष (II) सही है।

**Correct Answer:** Only conclusion (I) follows.

केवल निष्कर्ष (I) सही है।

**Candidate Answer:** Both conclusion follow.

दोनों ही निष्कर्ष सही हैं।

**QID : 20** - In the following question below are given some statements followed by some conclusions. Taking the given statements to be true even if they seem to be at variance from commonly known facts. Read all the conclusions and then decide which of the given conclusion logically follows the given statements.

**Statements:**

- I. All vehicles are tables.
- II. No vehicle is chair.

**Conclusions:**

- I. Some vehicles are tables.
- II. Some tables are chairs.
- III. All vehicles are chairs.

नीचे दिए गए प्रश्न में कुछ कथन और उनके बाद उन कथनों पर आधारित कुछ निष्कर्ष दिए गए हैं। दिए गए कथनों को सही माने, चाहे उनमें सामान्य ज्ञान तथ्यों से भिन्नता हो। सभी निष्कर्ष पढ़ें और फिर निर्धारित करें कि दिए गए कौन से निष्कर्ष, दिए गए कथनों के आधार पर युक्तिवांगत हैं।

**कथन:**

- I. सभी गाड़ियाँ मेज़े हैं।
- II. कोई गाड़ी कुर्सी नहीं है।

**निष्कर्ष:**

- I. कुछ गाड़ियाँ मेज़े हैं।
- II. कुछ मेज़े कुर्सियाँ हैं।
- III. सभी गाड़ियाँ कुर्सियाँ हैं।

**Options:**

1) Only conclusion (I) follows.

केवल निष्कर्ष (I) सही है।

2) Only conclusion (II) follows.

केवल निष्कर्ष (II) सही है।

3) Only conclusion (II) and (III) follow.

केवल निष्कर्ष (II) तथा (III) सही हैं।

4) Neither conclusion follows.

कोई निष्कर्ष सही नहीं है।

**Correct Answer:** Only conclusion (I) follows.

केवल निष्कर्ष (I) सही है।

**Candidate Answer:** Only conclusion (II) and (III) follow.

केवल निष्कर्ष (II) तथा (III) सही हैं।

**QID : 21** - L is the daughter of P. P is the brother of M. M is wife of J. How is M related to L?

L, P की पुत्री है। P, M का भाई है। M, J की पत्नी है। M, L से किस प्रकार संबंधित है?

**Options:**

- 1) Mother  
माता
- 2) Aunt  
बुआ
- 3) Sister  
बहन
- 4) Wife  
पत्नी

**Correct Answer:** Aunt

बुआ

**Candidate Answer:** Mother

माता

**QID : 22** - Pointing towards a man, a woman said, "He is the son of my sister's mother's only son." How is the woman's brother related to that man?

एक पुरुष की ओर संकेत करते हुए, एक महिला ने कहा, "वह मेरी बहन की माता के एकमात्र पुत्र का पुत्र है।" महिला का भाई उस पुरुष से किस प्रकार संबंधित है?

**Options:**

- 1) Father  
पिता
- 2) Sister  
बहन
- 3) Wife  
पत्नी
- 4) Daughter  
पुत्री

**Correct Answer:** Father

पिता

**Candidate Answer:** Daughter

पुत्री

**QID : 23** - A person buys 10 articles at rate of Rs 5 each and 30 articles at the rate of Rs 10 each. What will be the average price (in Rs) per article?

एक व्यक्ति 10 वस्तुएँ प्रति वस्तु 5 रु की दर से तथा 30 वस्तुएँ प्रति वस्तु 10 रु की दर से खरीत करता है। प्रत्येक वस्तु का औसत मूल्य (रु में) क्या होगा?

**Options:**

- 1) 8.75
- 2) 9.25
- 3) 9.85
- 4) 8.5

**Correct Answer:** 8.75

**Candidate Answer:** 8.75

**QID : 24** - P can do a piece of work in 7 days and Q can do the same work in 21 days. How many days will both take together to complete the same work?

P एक कार्य को 7 दिनों में कर सकता है और Q वही कार्य को 21 दिनों में कर सकता है। दोनों साथ मिलकर उसी कार्य को पूरा करने में कितने दिन लेंगे?

**Options:**

- 1) 4.75
- 2) 5.75
- 3) 6
- 4) 5.25

**Correct Answer:** 5.25

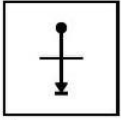
**Candidate Answer:** 4.75

**QID : 25** - In the given question, there are four figures given out of which three are similar in some manner and one is not like the others. Select the figure which is odd one out.

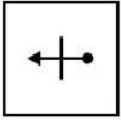
दिए गए चार में, चार आकृतियाँ दी गई हैं जिसमें से तीन किसी एक गुण के आधार पर समान हैं तथा एक सर्वप्रकार भिन्न है। भिन्न आकृति को चुनिए।

Options:

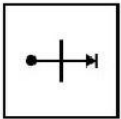
1)



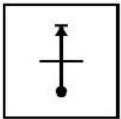
2)



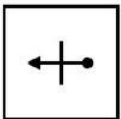
3)



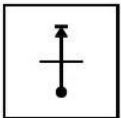
4)



Correct Answer:



Candidate Answer:




**QID : 26** - In the given question, there are four figures shown out of which three are similar in some manner and one is not like the others. Select the figure which is odd one out.

दिए गए प्रश्न में, चार आकृतियाँ दी गई हैं जिसमें से तीन किसी एक गुण के आधार पर समान हैं तथा एक सर्वप्रकार भिन्न है। भिन्न आकृति को चुनिए।

Options:

1)



2)



3)



4)



Correct Answer:



Candidate Answer:

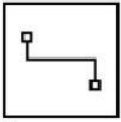


**QID : 27** - In the given question, there are four figures given out of which three are similar in some manner and one is not like the others. Select the figure which is odd one out.

दिए गए प्रश्न में, चार आकृतियाँ दी गई हैं जिसमें से एक आकृति एक गुण के आधार पर समान है तथा एक सर्वप्रकार भिन्न है। भिन्न आकृति को चुनिए।

Options:

1)



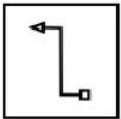
2)



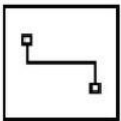
3)



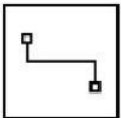
4)



Correct Answer:



Candidate Answer:



QID : 28 - In the following question, select the missing number from the given series.

21, 24, 26, 27, 30, 32, 31, ?

निम्नलिखित प्रश्न में दिए गए विकल्पों में से सही अंक चुनिए।

21, 24, 26, 27, 30, 32, 31, ?

Options:

1) 42

2) 34

3) 33

4) 46

Correct Answer: 34

Candidate Answer: 46

QID : 29 - In the following question, select the missing number from the given series.

3, 7, 16, 32, 57, ?

निम्नलिखित प्रश्न में दिए गए विकल्पों में से सही अंक चुनिए।

3, 7, 16, 32, 57, ?

Options:

1) 68

2) 93

3) 82

4) 74

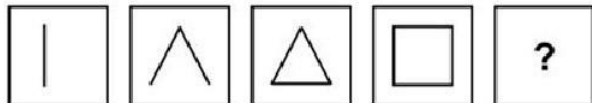
Correct Answer: 93

Candidate Answer: 68

QID : 30 -

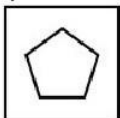
In the following question, select the figure which can be placed at the sign of question mark (?) from the given alternatives.

निम्नलिखित प्रश्न में दिए गए विकल्पों में से प्रश्न चिह्न (?) के स्थान पर आने वाली आकृति को चुनिए।




Options:


1)



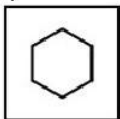
2)




3)




4)



Correct Answer:



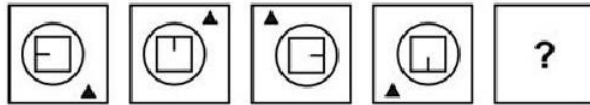
Candidate Answer:



**QID : 31 -**

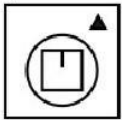
In the following question, select the figure which can be placed at the sign of question mark (?) from the given alternatives.

निम्नलिखित प्रश्न में दिए गए विकल्पों में से प्रश्न चिह्न (?) के स्थान पर आने वाली आकृति को चुनिए।

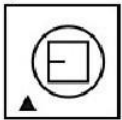


**Options:**

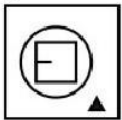
1)



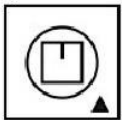
2)



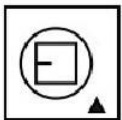
3)



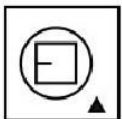
4)



**Correct Answer:**



**Candidate Answer:**

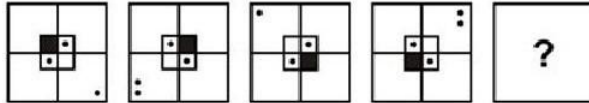




**QID : 32 -**

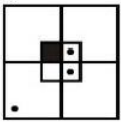
In the following question, select the figure which can be placed at the sign of question mark (?) from the given alternatives.

निम्नलिखित प्रश्न में दिए गए विकल्पों में से प्रश्न चिह्न (?) के स्थान पर आने वाली आकृति को चुनिए।

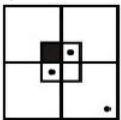


**Options:**

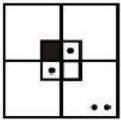
1)



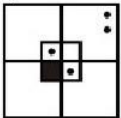
2)



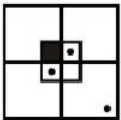
3)



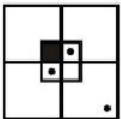
4)



**Correct Answer:**



**Candidate Answer:**



**QID : 33 -** In a certain code language, "FROM" is written as "6539" and "NOISE" is written as "73482". How is "ROSE" written in that code language?

एक विशिष्ट कोड भाषा में, "FROM" को "6539" तथा "NOISE" को "73482" लिखा जाता है। इस कोड भाषा में "ROSE" को किस प्रकार लिखा जाएगा?

**Options:**

1) 8253

2) 9583

3) 7382

4) 5382

**Correct Answer:** 5382

**Candidate Answer:** 5382

**QID : 34** - In a certain code language, "FILM" is written as "40" and "SHOT" is written as "62". How is "TAKE" written in that code language?

एक विशिष्ट कोड भाषा में, "FILM" को "40" तथा "SHOT" को "62" लिखा जाता है। इस कोड भाषा में "TAKE" को किस प्रकार लिखा जाएगा?

**Options:**

- 1) 37
- 2) 40
- 3) 41
- 4) 43

**Correct Answer:** 37

**Candidate Answer:** 40

**QID : 35** - In a certain code language, "TRUNCATE" is written as "XQYMGZXD". How is "APRAISE" written in that code language?

एक विशिष्ट कोड भाषा में, "TRUNCATE" को "XQYMGZXD" लिखा जाता है। इस कोड भाषा में "APRAISE" को किस प्रकार लिखा जाएगा?

**Options:**

- 1) EOVMRI
- 2) ZQSBFDA
- 3) ZVOEIRJ
- 4) DPRLOPN

**Correct Answer:** EOVMRI

**Candidate Answer:** ZVOEIRJ

**QID : 36** - Which of the following organisations is known as World Bank?

निम्नलिखित में से कौन सा संगठन विश्व बैंक के रूप में जाना जाता है?

**Options:**

- 1) IMF  
आईएमएफ
- 2) ADB  
एडीबी
- 3) IBRD  
आईबीआरडी
- 4) UNESCO  
यूनेस्को

**Correct Answer:** IBRD

आईबीआरडी

**Candidate Answer:** IMF

आईएमएफ

**QID : 37** - Economic planning is an essential feature of which of the following economies?

आर्थिक नियोजन किस अर्थव्यवस्था की एक अनिवार्य विशेषता है?

**Options:**

- 1) Socialist Economy  
समाजवादी अर्थव्यवस्था
- 2) Capitalist Economy  
पूंजीवादी अर्थव्यवस्था
- 3) Dual Economy  
दोहरी अर्थव्यवस्था
- 4) Mixed Economy  
मिश्रित अर्थव्यवस्था

**Correct Answer:** Socialist Economy

समाजवादी अर्थव्यवस्था

**Candidate Answer:** Mixed Economy

मिश्रित अर्थव्यवस्था

**QID : 38** - How many banks were nationalised in 1969?

1969 में कितने बैंकों का राष्ट्रीयकरण किये गए थे?

**Options:**

- 1) 10
- 2) 12
- 3) 14
- 4) 16

**Correct Answer:** 14

**Candidate Answer:** 14

**QID : 39** - Which of the following is the difference between total receipts and total expenditure?

इनमें से कौन सा कुल प्राप्तियाँ और कुल व्यय के बीच अंतर है?

**Options:**

- 1) Fiscal Deficit  
राजकोषीय घाटा
- 2) Budget Deficit  
बजट घाटा
- 3) Revenue Deficit  
राजस्व घाटा
- 4) Capital Deficit  
पूंजीगत घाटा

**Correct Answer:** Budget Deficit

बजट घाटा

**Candidate Answer:** Revenue Deficit

राजस्व घाटा

**QID : 40** - What is the official language of Indian state of Nagaland?

भारतीय राज्य नागालैंड की आधिकारिक भाषा क्या है?

**Options:**

- 1) English  
अंग्रेजी
- 2) Naga  
नागा
- 3) Meitei  
मिइती
- 4) No option is correct  
कोई विकल्प सही नहीं है

**Correct Answer:** English

अंग्रेजी

**Candidate Answer:** Meitei

मिइती

**QID : 41** - How many spokes are there in the Ashoka Chakra depicted on the National Flag of India?

भारत के राष्ट्रीय ध्वज पर चित्रित अशोक चक्र में कितनी तिलियां हैं?

**Options:**

- 1) 36
- 2) 24
- 3) 16
- 4) 32

**Correct Answer:** 24

**Candidate Answer:** 36

**QID : 42** - Which Article of the Indian Constitution provides for the institution a Panchayati Raj?

भारतीय संविधान का कौन सा अनुच्छेद पंचायती राज स्थापित करता है?

**Options:**

- 1) Article 38  
अनुच्छेद 38
- 2) Article 39  
अनुच्छेद 39
- 3) Article 40  
अनुच्छेद 40
- 4) Article 41  
अनुच्छेद 41

**Correct Answer:** Article 40

अनुच्छेद 40

**Candidate Answer:** Article 38

अनुच्छेद 38

**QID : 43** - Where is the 'abolition of untouchability' articulated in the Constitution of India?

भारत के संविधान में 'अस्पृश्यता उन्मूलन' किस अनुच्छेद में है?

**Options:**

- 1) Article 14  
अनुच्छेद 14
- 2) Article 15  
अनुच्छेद 15
- 3) Article 16  
अनुच्छेद 16
- 4) Article 17  
अनुच्छेद 17

**Correct Answer:** Article 17

अनुच्छेद 17

**Candidate Answer:** Article 14

अनुच्छेद 14

**QID : 44** - Where was the capital of Surasena Mahajanpada?

सुरसेन महाजनपद की राजधानी कहाँ थी?

**Options:**

- 1) Viratnagar  
विराटनगर
- 2) Taxila  
तक्षशिला
- 3) Kashi  
काशी
- 4) Mathura  
मथुरा

**Correct Answer:** Mathura

मथुरा

**Candidate Answer:** Viratnagar

विराटनगर

**QID : 45** - During reign of Harsha, the Kannauj assembly was held to publicise the doctrines of which of the following sects?

हर्ष के शासन के दौरान, कन्नौज सभा निम्नलिखित संप्रदायों के सिद्धांतों का प्रचार करने के लिए आयोजित किया गया था?

**Options:**

- 1) Hinayana  
हीनयान
- 2) Mahayana  
महायान
- 3) Shwetamber  
श्वेताम्बर
- 4) No option is correct  
कोई विकल्प सही नहीं है

**Correct Answer:** Mahayana

महायान

**Candidate Answer:** Mahayana

महायान

**QID : 46** - In 1923 by whom Swaraj Party was founded?

1923 में किसके द्वारा स्वराज पार्टी की स्थापना की गयी थी?

**Options:**

- 1) Abdul Gaffar Khan and Vithalbhai Patel  
अब्दुल गफ्फार खान और विठ्ठलभाई पटेल
- 2) Gandhiji and Jawaharlal Nehru  
गांधीजी और जवाहरलाल नेहरू
- 3) Sachin Sanyal and Jogesh Chatterji  
सचिन सान्याल और जोगेश चटर्जी
- 4) Motilal Nehru and C.R. Das  
मोतीलाल नेहरू और सी. आर. दास

**Correct Answer:** Motilal Nehru and C.R. Das

मोतीलाल नेहरू और सी. आर. दास

**Candidate Answer:** Abdul Gaffar Khan and Vithalbhai Patel

अब्दुल गफ्फार खान और विठ्ठलभाई पटेल

**QID : 47** - During the reign of which Viceroy of India, the elections were held for the first time in 11 Indian states?

किस वायसराय के शासनकाल के दौरान भारत के 11-राज्यों में पहली बार चुनाव कराए गए थे?

**Options:**

- 1) Lord Linlithgow  
लॉर्ड लिनलिथगो
- 2) Lord Mountbatten  
लॉर्ड माउंटबेटन
- 3) Lord Curzon  
लॉर्ड कर्जन
- 4) Lord Irwin  
लॉर्ड इरविन

**Correct Answer:** Lord Linlithgow  
लॉर्ड लिनलिथगो

**Candidate Answer:** Lord Irwin  
लॉर्ड इरविन

**QID : 48** - Where is the largest concentration of stupas in India?

भारत में स्तूप की सबसे बड़ी सघनता कहाँ है?

**Options:**

- 1) Himachal Pradesh  
हिमाचल प्रदेश
- 2) Bihar  
बिहार
- 3) Madhya Pradesh  
मध्य प्रदेश
- 4) Uttar Pradesh  
उत्तर प्रदेश

**Correct Answer:** Madhya Pradesh  
मध्य प्रदेश

**Candidate Answer:** Madhya Pradesh  
मध्य प्रदेश

**QID : 49** - Thaipusam festival is celebrated by which of the following communities?

थाईपूसम त्योहार निम्नलिखित में से किस समुदाय के द्वारा मनाया जाता है?

**Options:**

- 1) Malayalam  
मलयालम
- 2) Telugu  
तेलुगू
- 3) Marathi  
मराठी
- 4) Tamil  
तमिल

**Correct Answer:** Tamil  
तमिल

**Candidate Answer:** Malayalam  
मलयालम

**QID : 50** - Which of the following states has the largest forest area?

निम्नलिखित में से किस राज्य का सर्वाधिक जल क्षेत्र है?

**Options:**

- 1) Bihar  
बिहार
- 2) Karnataka  
कर्नाटक
- 3) Madhya Pradesh  
मध्य प्रदेश
- 4) Kerala  
केरल

**Correct Answer:** Madhya Pradesh  
मध्य प्रदेश

**Candidate Answer:** Karnataka  
कर्नाटक

**QID : 51** - Ken River is the tributary of which of the following river?

केन नदी निम्नलिखित में से किसकी सहायक नदी है?

**Options:**

- 1) Betwa  
बेतवा
- 2) Chambal  
चम्बल
- 3) Yamuna  
यमुना
- 4) Tapti  
ताप्ती

**Correct Answer:** Yamuna

यमुना

**Candidate Answer:** Betwa

बेतवा

**QID : 52** - Manipur has common boundaries with which of the group of state?

मणिपुर की किन राज्यों के समूह के साथ सीमाएं जुड़ी हैं?

**Options:**

- 1) Nagaland, Mizoram and Meghalaya  
नागालैंड, मिजोरम और मेघालय
- 2) Nagaland, Mizoram and Assam  
नागालैंड, मिजोरम और असम
- 3) Nagaland, Meghalaya and Sikkim  
नागालैंड, मेघालय और सिक्किम
- 4) No option is correct  
कोई विकल्प सही नहीं है

**Correct Answer:** Nagaland, Mizoram and Assam

नागालैंड, मिजोरम और असम

**Candidate Answer:** Nagaland, Meghalaya and Sikkim

नागालैंड, मेघालय और सिक्किम

**QID : 53** - The Himalayan mountain range is an example of \_\_\_\_\_.

हिमालय पर्वत श्रृंखला \_\_\_\_\_ एक उदाहरण है।

**Options:**

- 1) Fold mountain  
वलित पर्वत
- 2) Rock mountain  
राक पर्वत
- 3) Block mountain  
ब्लॉक पर्वत
- 4) Volcanic mountain  
ज्वालामुखी पर्वत

**Correct Answer:** Fold mountain

वलित पर्वत

**Candidate Answer:** Block mountain

ब्लॉक पर्वत

**QID : 54** - Which among the following states in India produces highest wool?

भारत में किस राज्य में उन सर्वाधिक उत्सर्जन है?

**Options:**

- 1) Haryana  
हरियाणा
- 2) Rajasthan  
राजस्थान
- 3) Madhya Pradesh  
मध्य प्रदेश
- 4) Jammu-Kashmir  
जम्मू-कश्मीर

**Correct Answer:** Rajasthan

राजस्थान

**Candidate Answer:** Jammu-Kashmir

जम्मू-कश्मीर

**QID : 55** - Which one of the following is an element of weather?

निम्न में से कौन मौसम का एक तत्व है?

**Options:**

1) Wind

पवन

2) Temperature

तापमान

3) Humidity

नमी

4) All options are correct

सभी विकल्प सही हैं

**Correct Answer:** All options are correct

सभी विकल्प सही हैं

**Candidate Answer:** All options are correct

सभी विकल्प सही हैं

**QID : 56** - What is the scale used for measuring the intensity of the earthquake?

भूकंप की तीव्रता को मापने (स्केल) के लिए क्या इस्तेमाल किया जाता है?

**Options:**

1) Metric Scale

मीट्रिक पैमाने (स्केल)

2) Richter Scale

रिक्टर पैमाने (स्केल)

3) Epicentre Scale

एपिसेंटर पैमाने (स्केल)

4) Quake Scale

भूकंप पैमाने (स्केल)

**Correct Answer:** Richter Scale

रिक्टर पैमाने (स्केल)

**Candidate Answer:** Richter Scale

रिक्टर पैमाने (स्केल)

**QID : 57** - Which one of the following has the highest value of specific heat?

निम्नलिखित में से किसकी विशिष्ट ऊष्मा का मान सर्वाधिक होता है?

**Options:**

1) Alcohol

अल्कोहल

2) Methane

मीथेन

3) Water

पानी

4) Kerosene

किट्टी तेल

**Correct Answer:** Water

पानी

**Candidate Answer:** Kerosene

किट्टी तेल

**QID : 58** - Which of the following quantities remains constant when an artificial Satellite revolves around the Earth in circular orbit?

एक कृत्रिम उपग्रह पृथ्वी के चारों ओर वृत्तकार कक्षा में घूमती है, कौन सा मात्रक नियत रहता है?

**Options:**

1) Linear Velocity

रेखीय वेग

2) Angular Momentum

कोणीय गति

3) Angular Displacement

कोणीय विस्थापन

4) No option is correct

कोई विकल्प सही नहीं है

**Correct Answer:** Angular Momentum

कोणीय गति

**Candidate Answer:** Angular Displacement

कोणीय विस्थापन

**QID : 59** - Which among the following lens is used to correct Presbyopia?

जर्रादूरदृष्टि (प्रेसबायोपिया) को ठीक करने के लिए निम्नलिखित किस लेंस का उपयोग किया जाता है?

**Options:**

1) Concave

अवतल

2) Convex

उत्तल

3) Cylindrical

बेलनाकार

4) Bifocal

बायफोकल

**Correct Answer:** Bifocal

बायफोकल

**Candidate Answer:** Convex

उत्तल

**QID : 60** - Which among the following blood protein regulates the amount of water in plasma?

निम्नलिखित में से कौन सा रक्त प्रोटीन प्लाज्मा में पानी की मात्रा को नियंत्रित करता है?

**Options:**

1) Albumin

एल्बुमिन

2) Globulin

ग्लोबुलिन

3) Fibulin

फिबुलिन

4) No option is correct

कोई विकल्प सही नहीं है

**Correct Answer:** Albumin

एल्बुमिन

**Candidate Answer:** Fibulin

फिबुलिन

**QID : 61** - Which one of the following is a mixture of carbon monoxide and hydrogen?

निम्नलिखित में से कौन कार्बन मोनोऑक्साइड और हाइड्रोजन का मिश्रण है?

**Options:**

1) coal gas

कोल गैस

2) producer gas

निर्माता गैस

3) water gas

जल गैस

4) gobar gas

गोबर गैस

**Correct Answer:** water gas

जल गैस

**Candidate Answer:** water gas

जल गैस

**QID : 62** - Name the gas which is used in balloons in the place of hydrogen?

हाइड्रोजन के स्थान पर गुब्बारे में इस्तेमाल किया जाने वाला गैस का नाम बताइए?

**Options:**

1) nitrogen

नाइट्रोजन

2) helium

हीलियम

3) neon

नीयन

4) argon

आर्गन

**Correct Answer:** helium

हीलियम

**Candidate Answer:** helium

हीलियम

**QID : 63** - Isobar is produced by the emission of which of the following?

निम्नलिखित में से किसके उत्सर्जन से समभारिक का निर्माण होता है?



**Options:**

- 1) X-ray  
एक्सरे
- 2) Gamma ray  
गामा किरण
- 3) Beta ray  
बीटा किरण
- 4) Alpha ray  
अल्फा किरण

**Correct Answer:** Gamma ray  
गामा किरण

**Candidate Answer:** X-ray  
एक्सरे

**QID : 64** - Which of the following consists of the highest biodiversity?

निम्नलिखित में से सर्वाधिक जैव विविधता कहाँ पायी जाती है?

**Options:**

- 1) Tropical rainforest  
उष्णकटिबंधीय वर्षा वन
- 2) Temperate forest  
समशीतोष्ण वन
- 3) Deciduous forest  
पतझड़ी वन
- 4) Grass land  
घास भूमि

**Correct Answer:** Tropical rainforest  
उष्णकटिबंधीय वर्षा वन

**Candidate Answer:** Temperate forest  
समशीतोष्ण वन

**QID : 65** - Which among the following is key faunal species that is being conserved and monitored in 'Dachigam National Park'?

निम्नलिखित में से किस प्रमुख प्रजातियों को 'दचीगाम नेशनल पार्क' में संरक्षित है और देखभाल किया जा रहा है?

**Options:**

- 1) Musk Deer  
कस्तूरी हिरन
- 2) Golden Oriole  
गोल्डन ओरियल
- 3) Marten  
मार्टेन
- 4) Hangul  
हंगुल

**Correct Answer:** Hangul  
हंगुल

**Candidate Answer:** Marten  
मार्टेन

**QID : 66** - Which of the following crops is used for producing Bio fuels?

जैव ईंधन के उत्पादन के लिए निम्न में से किस फसल का उपयोग किया जाता है?

**Options:**

- 1) Sugar cane  
गन्ना
- 2) Corn  
मक्का
- 3) Jatropha  
जटरोफा
- 4) All options are correct  
सभी विकल्प सही हैं

**Correct Answer:** All options are correct  
सभी विकल्प सही हैं

**Candidate Answer:** All options are correct  
सभी विकल्प सही हैं

**QID : 67** - The intensified version of which mission was recently launched by Prime Minister of India at Vadnagar in October 2017?

अक्टूबर 2017 में भारत के प्रधानमंत्री ने वडनगर में किस मिशन के तीव्र संस्करण को लांच किया था?

**Options:**

1) Smart City Mission

स्मार्ट सिटी मिशन

2) Mission Indra

मिशन इंद्र

3) Mission Indradhanush

मिशन इंद्रधनुष

4) Mission Swarna Jyoti

मिशन स्वर्ण ज्योति

**Correct Answer:** Mission Indradhanush

मिशन इंद्रधनुष

**Candidate Answer:** Smart City Mission

स्मार्ट सिटी मिशन

**QID : 68** - India has declared 2010-2020 as the decade of \_\_\_\_\_.

भारत ने 2010-2020 को \_\_\_\_\_ दशक के रूप में घोषित किया है।

**Options:**

1) Modernisation

आधुनिकीकरण

2) Innovation

नवोन्मेष (इनोवेशन)

3) Invention

आविष्कार

4) Inspiration

प्रेरणा स्रोत

**Correct Answer:** Innovation

नवोन्मेष (इनोवेशन)

**Candidate Answer:** Modernisation

आधुनिकीकरण

**QID : 69** - Indian railways is working with which organisation to make trains safer?

भारतीय रेलवे ट्रेनों को सुरक्षित बनाने के लिए किसके साथ काम कर रहा है?

**Options:**

1) DRDO

डीआरडीओ

2) ISRO

इसरो

3) NALSAR

नालसर

4) ICAR

आइसीएआर

**Correct Answer:** ISRO

इसरो

**Candidate Answer:** NALSAR

नालसर

**QID : 70** - Who has won the 2017 Women's Singles National Badminton Championships?

किसने 2017 महिला एकल राष्ट्रीय बैडमिंटन चैंपियनशिप जीती है?

**Options:**

1) Shriyanshi Pardeshi

श्रियांशी परदेशी

2) Prajakta Sawant

प्राजक्ता सावंत

3) Saina Nehwal

साइना नेहवाल

4) PV Sindhu

पी.वी. सिंधु

**Correct Answer:** Saina Nehwal

साइना नेहवाल

**Candidate Answer:** PV Sindhu

पी.वी. सिंधु

**QID : 71** - Which country will host the 8<sup>th</sup> Edition of FIFA Women's World Cup in 2019?

कौन सा देश 2019 में फीफा महिला विश्व कप के 8<sup>वें</sup> संस्करण की मेजबानी करेगा?

**Options:**

- 1) Chile  
चिली
- 2) Russia  
रूस
- 3) France  
फ्रांस
- 4) Germany  
जर्मनी

**Correct Answer:** France

फ्रांस

**Candidate Answer:** Germany

जर्मनी

**QID : 72** - With which following neighbouring country India had joint training exercise "Mitra Shakti 2017" in October 2017?

निम्नलिखित में से किस पड़ोसी देश के साथ भारत ने अक्टूबर 2017 में "मित्र शक्ति 2017" का अभ्यास किया था?

**Options:**

- 1) Bhutan  
भूटान
- 2) Nepal  
नेपाल
- 3) Sri Lanka  
श्रीलंका
- 4) Bangladesh  
बांग्लादेश

**Correct Answer:** Sri Lanka

श्रीलंका

**Candidate Answer:** Bangladesh

बांग्लादेश

**QID : 73** - What is the most popular sport in Nepal?

नेपाल का सबसे लोकप्रिय खेल कौन सा है?

**Options:**

- 1) Football  
फुटबॉल
- 2) Cricket  
क्रिकेट
- 3) Trekking  
ट्रेकिंग
- 4) Baseball  
बेसबॉल

**Correct Answer:** Football

फुटबॉल

**Candidate Answer:** Trekking

ट्रेकिंग

**QID : 74** - Who is the winner of the Man Booker International Prize 2017?

मैन बुकर अन्तर्राष्ट्रीय पुरस्कार 2017 के विजेता कौन हैं?

**Options:**

- 1) Arundhati Roy  
अरुंधति रॉय
- 2) David Grossman  
डेविड ग्रॉसमैन
- 3) Vikram Seth  
विक्रम सेठ
- 4) No option is correct  
कोई विकल्प सही नहीं है

**Correct Answer:** David Grossman

डेविड ग्रॉसमैन

**Candidate Answer:** Vikram Seth

विक्रम सेठ

**QID : 75** - Who has been awarded with France's highest civilian honour 'Legion of Honour' recently?

हाल ही में फ्रांस के सर्वोच्च नागरिक सम्मान 'लायन ऑफ ऑनर' से किसे सम्मानित किया गया है?

**Options:**

1) Amitabh Bachchan

अमिताभ बच्चन

2) Dilip Kumar

दिलीप कुमार

3) Shahrukh Khan

शाहरुख खान

4) Soumitra Chatterjee

सोमित्र चटर्जी

**Correct Answer:** Soumitra Chatterjee

सोमित्र चटर्जी

**Candidate Answer:** Amitabh Bachchan

अमिताभ बच्चन

**QID : 76** - India jumped over 30<sup>th</sup> ranks in the ease of doing business list issued by World Bank. What is its rank?

विश्व बैंक की 'इज ऑफ़ डूइंग बिज़नेस' सूची में भारत का रैंक 30 अंक ऊपर चढ़ा। इसका रैंक क्या है?

**Options:**

1) 100<sup>th</sup>

100-वाँ

2) 130<sup>th</sup>

130-वाँ

3) 125<sup>th</sup>

125-वाँ

4) 155<sup>th</sup>

155-वाँ

**Correct Answer:** 100<sup>th</sup>

100-वाँ

**Candidate Answer:** 100<sup>th</sup>

100-वाँ

**QID : 77** - According to the report of Bank of America, India is likely to overtake which nation as the world's third largest economy by 2028?

बैंक ऑफ़ अमेरिका की रिपोर्ट के मुताबिक, भारत 2028 तक किस देश को पछाड़कर विश्व की तीसरी सबसे बड़ी अर्थव्यवस्था के रूप में आगे निकल सकता है?

**Options:**

1) France

फ़्रांस

2) Russia

रूस

3) Pakistan

पाकिस्तान

4) Japan

जापान

**Correct Answer:** Japan

जापान

**Candidate Answer:** Russia

रूस

**QID : 78** - As per data released by the IMF in November 2017, which country ranked the world's richest country in terms of per capita GDP?

नवंबर 2017 में आईएमएफ़ द्वारा जारी संकेतों के अनुसार, प्रति व्यक्ति जीडीपी के मामले में किस देश ने दुनिया के सबसे अमीर देश का स्थान हासिल किया?

**Options:**

1) Brunei

ब्रुनेई

2) Qatar

कतार

3) Kuwait

कुवैत

4) Ireland

आयरलैंड

**Correct Answer:** Qatar

कतार

**Candidate Answer:** Kuwait

कुवैत

**QID : 79** - Which country has partnered India in its first private sector missile subsystems manufacturing facility near Hyderabad?

किस देश ने भारत के पहले निजी क्षेत्र के मिसाइल सबसिस्टम के साथ हैदराबाद के निकट विनिर्माण सुविधा में भागीदारी की है?

**Options:**

1) Canada

कनाडा

2) Russia

रूस

3) Israel

इजराइल

4) No option is correct

कोई विकल्प सही नहीं है

**Correct Answer:** Israel

इजराइल

**Candidate Answer:** Russia

रूस

**QID : 80** - The Odisha Govt has imposed a 7 months ban on sea fishing activity in order to protect which of the following sea animal?

ओडिशा सरकार ने किस समुद्री जंतु की रक्षा के लिए उसके पकड़ने की गतिविधियों पर 7 महीने का प्रतिबंध लगा दिया है?

**Options:**

1) Crocodile

मगरमच्छ

2) Turtle

कछुए

3) Shark

शार्क

4) No option is correct

कोई विकल्प सही नहीं है

**Correct Answer:** Turtle

कछुए

**Candidate Answer:** Turtle

कछुए

**QID : 81** - New species of edible fish is found in Pampa river. The river is located in which of the following state?

खाद्य मछली की नई प्रजातियां पंपा नदी में मिलीं। यह नदी किस राज्य में है?

**Options:**

1) Karnataka

कर्नाटक

2) Tamil Nadu

तमिलनाडु

3) Kerala

केरल

4) Goa

गोवा

**Correct Answer:** Kerala

केरल

**Candidate Answer:** Tamil Nadu

तमिलनाडु

**QID : 82** - Who has been appointed as the chairman of State Bank of India in October 2017?

अक्टूबर 2017 में भारतीय स्टेट बैंक के अध्यक्ष के रूप में किसे नियुक्त किया गया है?

**Options:**

1) Arundhati Ghosh

अरुंधति घोष

2) Ashwani Kumar

अश्विनी कुमार

3) Rajnish Kumar

रजनीश कुमार

4) Hashmukh Adhia

हशमुख अधिया

**Correct Answer:** Rajnish Kumar

रजनीश कुमार

**Candidate Answer:** Rajnish Kumar

रजनीश कुमार

**QID : 83** - Who of the following crowned Miss World 2017?

निम्न में से किसे मिस वर्ल्ड 2017 का ताज पहनाया गया है?

**Options:**

- 1) Stephanie Hill  
स्टेफनी हिल
- 2) Andrea Meza  
आंद्रिया मेजा
- 3) Manushi Chhillar  
मानुषी छिल्लर
- 4) No option is correct  
कोई विकल्प सही नहीं है

**Correct Answer:** Manushi Chhillar

मानुषी छिल्लर

**Candidate Answer:** Manushi Chhillar

मानुषी छिल्लर

**QID : 84** - Which of the following has been named as "World Book Capital" for 2019 by UNESCO?

निम्नलिखित में से किस शहर को यूनेस्को द्वारा 2019 के लिए "वर्ल्ड बुक कैपिटल" के रूप में नामित किया गया है?

**Options:**

- 1) New Delhi  
नई दिल्ली
- 2) Sharjah  
शारजाह
- 3) New York  
न्यूयॉर्क
- 4) London  
लंदन

**Correct Answer:** Sharjah

शारजाह

**Candidate Answer:** London

लंदन

**QID : 85** - Which of the following villages in Jammu and Kashmir became first to go cashless?

जम्मू और कश्मीर के कौन सा गाँव राज्य का पहला नकदी रहित बना था?

**Options:**

- 1) Lanura  
लानुरा
- 2) Pampore  
पंपोर
- 3) Lanura and Pampore Both  
लानुरा और पंपोर दोनों
- 4) No option is correct  
कोई विकल्प सही नहीं है

**Correct Answer:** Lanura

लानुरा

**Candidate Answer:** Lanura and Pampore Both

लानुरा और पंपोर दोनों

**QID : 86** - If  $x$  and  $y$  are even numbers, then which of the following is an odd number?

यदि  $x$  तथा  $y$  सम संख्याएँ हैं, तो निम्नलिखित में से कौन सी एक विषम संख्या है?

**Options:**

- 1)  $x^2$
- 2)  $xy$
- 3)  $x + y + xy$
- 4)  $x + y + 1$

**Correct Answer:**  $x + y + 1$

**Candidate Answer:**  $x + y + 1$

**QID : 87** - How many times the digit 7 appears in the numbers from 0 to 108?

अंक 7, संख्या 0 से 108 तक कितनी बार आता है?

**Options:**

- 1) 20
- 2) 19
- 3) 21
- 4) 22

**Correct Answer:** 21

**Candidate Answer:** 21

**QID : 88 -**

What is the value of  $5\frac{1}{2} + 7\frac{3}{4} + 8\frac{3}{8}$ ?

$5\frac{1}{2} + 7\frac{3}{4} + 8\frac{3}{8}$  का मान क्या है?

**Options:**

- 1)  $173/8$
- 2)  $171/8$
- 3)  $81/4$
- 4)  $87/4$

**Correct Answer:**  $173/8$

**Candidate Answer:**  $171/8$

**QID : 89 -** For what value of N,  $43N$  is divisible by 9?

N के किस मान के लिए  $43N$ , 9 से विभाज्य है?

**Options:**

- 1) 1
- 2) 2
- 3) 3
- 4) 7

**Correct Answer:** 2

**Candidate Answer:** 2

**QID : 90 -**

What is the value of  $\frac{(0.6 \times 0.6 \times 0.6) + (0.5 \times 0.5 \times 0.5)}{(0.6 \times 0.6) + (0.5 \times 0.5) - 0.3}$ ?

$\frac{(0.6 \times 0.6 \times 0.6) + (0.5 \times 0.5 \times 0.5)}{(0.6 \times 0.6) + (0.5 \times 0.5) - 0.3}$  का मान क्या है?

**Options:**

- 1) 0.1
- 2) 1.1
- 3) 0.9
- 4) 1.2

**Correct Answer:** 1.1

**Candidate Answer:** 0.1

**QID : 91 -** If 90 is subtracted from 70% of a number, then the result is 120. What is the value of the number?

यदि किसी संख्या के 70% में से 90 घटाया जाए तो परिणाम 120 आता है। संख्या का मान क्या है?

**Options:**

- 1) 300
- 2) 150
- 3) 450
- 4) 270

**Correct Answer:** 300

**Candidate Answer:** 300

**QID : 92 -** The ratio of copper and zinc in brass is 11 : 14. How much amount (in kg) of copper will be there in 150 kg of brass?

पीतल में ताम्बे तथा जस्ता के अनुपात 11 : 14 है। 150 कि.ग्रा. पीतल में ताम्बे की मात्रा (कि.ग्रा. में) कितनी होगी?

**Options:**

- 1) 44
- 2) 84
- 3) 66
- 4) 78

**Correct Answer:** 66

**Candidate Answer:** 44

**QID : 93 -** What is average of first 8 even numbers?

प्रथम 8 सम संख्याओं का औसत क्या है?