

SET
सेट **A**

1280/TF-JD/PP-M

Sl. No. : 711101

<p>परीक्षा केन्द्राध्यक्ष की मोहर Seal of Superintendent of Examination Centre</p>	<p>परीक्षार्थी द्वारा केवल काले या नीले बॉल-प्वाइंट पेन से ही भरा जाए। To be filled in by the Candidate using Black or Blue Ballpoint Pen only. उत्तर-पत्र का क्रमांक अनुक्रमांक / Roll Number (Sl. No. of Answer-Sheet)</p> <table border="1"> <tr> <td></td><td></td><td></td><td></td><td></td><td></td><td></td><td></td><td></td><td></td> </tr> </table>										
<p>वीक्षक का हस्ताक्षर : (Signature of Invigilator)</p>	<p>घोषणा : मैंने नीचे लिखे हुए निर्देश पढ़कर समझ लिए हैं। Declaration : I have read and understood the instructions given below.</p>										
<p>वीक्षक का नाम : (Name of Invigilator)</p>	<p>परीक्षार्थी का हस्ताक्षर : दिनांक : (Signature of Candidate) (Date)</p> <p>परीक्षार्थी का नाम : समय : (Name of Candidate) (Time)</p>										

पुस्तिका में पृष्ठों की संख्या—28

समय—2 घण्टे

पूर्णांक/Total Marks—100

Number of Pages in this Booklet—28

Time—2 Hours

कुल प्रश्न/No. of Questions—100

परीक्षार्थियों के लिए निर्देश

INSTRUCTIONS TO CANDIDATES

<ol style="list-style-type: none"> 1. प्रश्न-पुस्तिका मिलते ही मुख पृष्ठ एवं अंतिम पृष्ठ में दिए गए निर्देशों को अच्छी तरह पढ़ लें। दाहिनी ओर लगी सील को वीक्षक के कहने से पूर्व न खोलें। 2. ऊपर दिए हुए निर्धारित स्थानों में अपना अनुक्रमांक, उत्तर-पत्र का क्रमांक लिखें तथा अपने हस्ताक्षर करें। 3. OMR उत्तर-पत्र में समस्त प्रविष्टियाँ दिए गए निर्देशानुसार करें, अन्यथा उत्तर-पत्र का मूल्यांकन नहीं किया जाएगा। 4. सील खोलने के बाद सुनिश्चित कर लें कि प्रश्न-पुस्तिका में कुल पृष्ठ ऊपर लिखे अनुसार दिए हुए हैं तथा उसमें सभी 100 प्रश्नों का मुद्रण सही है। किसी भी प्रकार की त्रुटि होने पर 15 मिनट के अन्दर वीक्षक को सूचित कर सही प्रश्न-पुस्तिका प्राप्त करें। 5. प्रत्येक प्रश्न हेतु प्रश्न-पुस्तिका में प्रश्न के नीचे दिए गए चार विकल्पों में से सही/सबसे उपयुक्त विकल्प का चयन करें तथा OMR उत्तर-पत्र में सही विकल्प वाले गोले को, जो उस प्रश्न के सरल क्रमांक से सम्बन्धित हो, केवल काले या नीले बॉल-प्वाइंट पेन से भरें। 6. सही उत्तर वाले गोले को अच्छी तरह से भरें, अन्यथा उत्तरों का मूल्यांकन नहीं होगा। 7. इस प्रश्न-पुस्तिका में 100 वस्तुनिष्ठ प्रश्न दिए गए हैं। प्रत्येक सही उत्तर हेतु 1 अंक आबंटित किया गया है। सभी प्रश्न अनिवार्य हैं। 8. ऋणात्मक मूल्यांकन नहीं किया जाएगा। 9. प्रश्न-पुस्तिका तथा उत्तर-पत्र में निर्दिष्ट स्थानों पर प्रविष्टियाँ भरने के अतिरिक्त कहीं भी कुछ न लिखें। अन्यथा OMR उत्तर-पत्र का मूल्यांकन नहीं किया जाएगा। 10. परीक्षा समाप्ति के उपरान्त तथा कक्ष छोड़ने के पूर्व मूल OMR उत्तर-पत्र वीक्षक को सौंपनी है। उत्तर-पत्र की कार्बन प्रति तथा प्रश्न-पुस्तिका परीक्षार्थी अपने साथ ले जा सकते हैं। 11. इस प्रश्न-पुस्तिका में निम्न पाँच भाग हैं : <table border="0"> <tr> <td>भाग—I</td><td>: सामान्य मानसिक योग्यता</td><td>प्रश्न सं०</td><td>1-30</td></tr> <tr> <td>भाग—II</td><td>: सामान्य ज्ञान</td><td>प्रश्न सं०</td><td>31-50</td></tr> <tr> <td>भाग—III</td><td>: शिक्षण अभिरुचि</td><td>प्रश्न सं०</td><td>51-70</td></tr> <tr> <td>भाग—IV</td><td>: सामान्य हिन्दी</td><td>प्रश्न सं०</td><td>71-85</td></tr> <tr> <td>भाग—V</td><td>: सामान्य अंग्रेजी</td><td>प्रश्न सं०</td><td>86-100</td></tr> </table> 12. यदि हिन्दी भाषा में कोई संदेह है, तो अंग्रेजी भाषा को ही प्रामाणिक माना जाएगा। 	भाग—I	: सामान्य मानसिक योग्यता	प्रश्न सं०	1-30	भाग—II	: सामान्य ज्ञान	प्रश्न सं०	31-50	भाग—III	: शिक्षण अभिरुचि	प्रश्न सं०	51-70	भाग—IV	: सामान्य हिन्दी	प्रश्न सं०	71-85	भाग—V	: सामान्य अंग्रेजी	प्रश्न सं०	86-100	<ol style="list-style-type: none"> 1. Immediately after getting the Booklet read the instructions carefully, mentioned on the front and back page of the Question Booklet and do not open the seal given on the right-hand side, unless asked by the Invigilator. 2. Write your Roll No., Answer-Sheet No. in the specified places given above and do your signature. 3. Make all entries in the OMR Answer-Sheet as per the given instructions, otherwise Answer-Sheet will not be evaluated. 4. After opening the seal, ensure that the Question Booklet contains total number of pages as mentioned above and printing of all the 100 questions is proper. If any discrepancy is found, inform the Invigilator within 15 minutes and get a correct Question Booklet. 5. For each question in the Question Booklet, choose the correct/most appropriate option out of four options given below the question as answer and darken the circle provided against that option in the OMR Answer-Sheet, bearing the same serial number of the question. Darken the circle only with Black or Blue ballpoint pen. 6. Darken the circle of correct answer properly, otherwise answers will not be evaluated. 7. There are 100 objective-type questions in this Question Booklet. 1 mark is allotted for each correct answer. All questions are compulsory. 8. No negative marking will be done. 9. Do not write anything anywhere in the Question Booklet and the Answer-Sheet except making entries in the specified places, otherwise OMR Answer-Sheet will not be evaluated. 10. When the examination is over, only OMR Answer Sheet is to be handed over to the invigilator before leaving the examination hall, while Question Booklet and carbon copy of the Answer-Sheet can be retained by the candidate. 11. This Question Booklet consists of the following five Parts : <table border="0"> <tr> <td>Part—I</td><td>: General Mental Eligibility</td><td>Q. Nos.</td><td>1-30</td></tr> <tr> <td>Part—II</td><td>: General Knowledge</td><td>Q. Nos.</td><td>31-50</td></tr> <tr> <td>Part—III</td><td>: Educational Interest</td><td>Q. Nos.</td><td>51-70</td></tr> <tr> <td>Part—IV</td><td>: General Hindi</td><td>Q. Nos.</td><td>71-85</td></tr> <tr> <td>Part—V</td><td>: General English</td><td>Q. Nos.</td><td>86-100</td></tr> </table> 12. In case of any ambiguity in Hindi version, the English version shall be considered authentic. 	Part—I	: General Mental Eligibility	Q. Nos.	1-30	Part—II	: General Knowledge	Q. Nos.	31-50	Part—III	: Educational Interest	Q. Nos.	51-70	Part—IV	: General Hindi	Q. Nos.	71-85	Part—V	: General English	Q. Nos.	86-100
भाग—I	: सामान्य मानसिक योग्यता	प्रश्न सं०	1-30																																						
भाग—II	: सामान्य ज्ञान	प्रश्न सं०	31-50																																						
भाग—III	: शिक्षण अभिरुचि	प्रश्न सं०	51-70																																						
भाग—IV	: सामान्य हिन्दी	प्रश्न सं०	71-85																																						
भाग—V	: सामान्य अंग्रेजी	प्रश्न सं०	86-100																																						
Part—I	: General Mental Eligibility	Q. Nos.	1-30																																						
Part—II	: General Knowledge	Q. Nos.	31-50																																						
Part—III	: Educational Interest	Q. Nos.	51-70																																						
Part—IV	: General Hindi	Q. Nos.	71-85																																						
Part—V	: General English	Q. Nos.	86-100																																						

[Faint, illegible text in the upper section of the page]

[Faint, illegible text in the middle section of the page]

[Faint, illegible text in the lower section of the page]

PART—I / भाग—I

GENERAL MENTAL ELIGIBILITY / सामान्य मानसिक योग्यता

1. Which term will replace the question mark?

Book : Critic :: Building : ?

- (A) Engineer
(B) Contractor
(C) Weigher
(D) Appraiser

2. Which number will replace the question mark?

63 : 145 :: 48 : ?

- (A) 119 (B) 122
(C) 148 (D) 168

3. Find out the odd one.

- (A) 30 : 45 (B) 24 : 36
(C) 48 : 78 (D) 42 : 63

4. Find the next number.

13, 17, 19, 23, 29, 31, 37, ?

- (A) 39
(B) 41
(C) 43
(D) None of the above

5. Find the missing number.

556, 300, ?, 220, 216

- (A) 200 (B) 224
(C) 236 (D) 248

1. कौन-सा पद प्रश्नवाचक चिह्न (?) के स्थान पर आएगा?

पुस्तक : समीक्षक :: भवन : ?

- (A) अभियंता
(B) ठेकेदार
(C) तोलक
(D) मूल्यांकक

2. कौन-सी संख्या प्रश्नवाचक चिह्न (?) के स्थान पर आएगी?

63 : 145 :: 48 : ?

- (A) 119 (B) 122
(C) 148 (D) 168

3. विषम ज्ञात करें।

- (A) 30 : 45 (B) 24 : 36
(C) 48 : 78 (D) 42 : 63

4. अगली संख्या ज्ञात करें।

13, 17, 19, 23, 29, 31, 37, ?

- (A) 39
(B) 41
(C) 43
(D) उपर्युक्त में से कोई नहीं

5. विलुप्त संख्या ज्ञात करें।

556, 300, ?, 220, 216

- (A) 200 (B) 224
(C) 236 (D) 248

SPACE FOR ROUGH WORK / रफ़ कार्य के लिए जगह

6. Find the wrong number in the given series.

701, 348, 173, 85, 41, 19

- (A) 173 (B) 41
(C) 19 (D) 348

7. Find the next letter.

J, K, M, O, P, S, S, ____

- (A) W
(B) T
(C) X
(D) None of the above

8. Find the next term.

AZ, DW, GT, JQ, ____

- (A) MO (B) NM
(C) MN (D) LN

9. Find the wrong term in the given series.

Z1A, X2D, V6G, T21J, R87M, P445P

- (A) X2D
(B) T21J
(C) R87M
(D) P445P

6. दी गई श्रेणी में गलत संख्या ज्ञात करें।

701, 348, 173, 85, 41, 19

- (A) 173 (B) 41
(C) 19 (D) 348

7. अगला वर्ण ज्ञात करें।

J, K, M, O, P, S, S, ____

- (A) W
(B) T
(C) X
(D) उपर्युक्त में से कोई नहीं

8. अगला पद ज्ञात करें।

AZ, DW, GT, JQ, ____

- (A) MO (B) NM
(C) MN (D) LN

9. दी गई श्रेणी में गलत पद ज्ञात करें।

Z1A, X2D, V6G, T21J, R87M, P445P

- (A) X2D
(B) T21J
(C) R87M
(D) P445P

SPACE FOR ROUGH WORK / रफ़ कार्य के लिए जगह

10. A family has a man, his wife, their 5 sons and their wives. The family of every son also has 3 sons and 1 daughter. Find out the total number of male members in the whole family.

- (A) 9
(B) 17
(C) 20
(D) 21

11. A, B, C, D, E, F and G are sitting in a circle facing at the centre and playing cards. E is neighbour of A and D; G is not between F and C; F is to the immediate right of A, then who are the neighbours of G?

- (A) F and B
(B) D and E
(C) A and B
(D) D and C

12. Ramesh started from A moved 300 m straight towards east up to B. Ram also started from A moved 400 m straight towards north up to C. D is exactly in the middle of B and C. The distance between B and D is

- (A) 250 m
(B) $250\sqrt{2}$ m
(C) 350 m
(D) None of the above

10. एक परिवार में एक व्यक्ति, उसकी पत्नी, उनके 5 पुत्र एवं उनकी पत्नियाँ हैं। प्रत्येक पुत्र के परिवार में 3 पुत्र तथा 1 पुत्री भी है। पूरे परिवार में पुरुष सदस्यों की कुल संख्या ज्ञात करें।

- (A) 9
(B) 17
(C) 20
(D) 21

11. A, B, C, D, E, F और G एक वृत्ताकार घेरे में केन्द्र की ओर मुख करके बैठे हैं और कार्ड खेल रहे हैं। E, A और D का पड़ोसी है; G, F और C के बीच में नहीं है; F, A के ठीक दायें बैठा है, तो G के पड़ोसी कौन हैं?

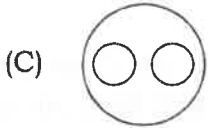
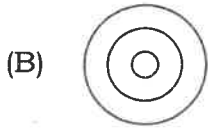
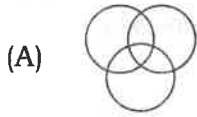
- (A) F और B
(B) D और E
(C) A और B
(D) D और C

12. रमेश A से चलना प्रारंभ करते हुए सीधे पूर्व की ओर 300 m B तक जाता है। राम भी A से सीधा उत्तर की ओर चलना प्रारंभ कर 400 m C तक जाता है। D, B और C के ठीक मध्य में है। B और D के बीच की दूरी है

- (A) 250 m
(B) $250\sqrt{2}$ m
(C) 350 m
(D) उपर्युक्त में से कोई नहीं

SPACE FOR ROUGH WORK / रफ़ कार्य के लिए जगह

13. Which of the following diagrams represents the relationship between Tiger, Animal, Carnivorous?



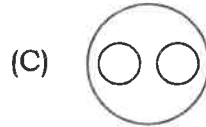
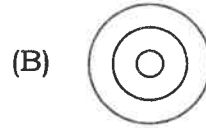
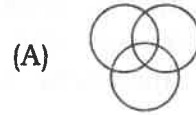
14. In a certain code, 'il be pee' means roses are blue, 'sik hee' means red flowers and 'pee mit hee' means flowers are vegetables, then how is 'flowers are red' written in that code?

- (A) sik pee hee
- (B) sik pee mit
- (C) sik be hee
- (D) sik il pee

15. If JOSEPH is coded as FKOALD, then GEORGE will be coded as

- (A) CADMNO
- (B) CAKNCA
- (C) CAKNIT
- (D) None of the above

13. निम्नांकित में से कौन-सा आरेख शेर, जानवर, मांसाहारी के मध्य संबंध दर्शाता है?



14. यदि किसी निश्चित कोड में 'il be pee' का मतलब roses are blue, 'sik hee' का मतलब red flowers और 'pee mit hee' का मतलब flowers are vegetables है, तो 'flowers are red' को उसी कोड में कैसे लिखा जाएगा?

- (A) sik pee hee
- (B) sik pee mit
- (C) sik be hee
- (D) sik il pee

15. यदि JOSEPH को किसी कोड में FKOALD लिखते हैं, तो उसी कोड में GEORGE को कैसे लिखेंगे?

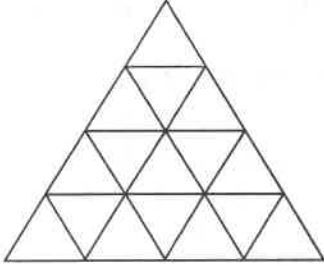
- (A) CADMNO
- (B) CAKNCA
- (C) CAKNIT
- (D) उपर्युक्त में से कोई नहीं

SPACE FOR ROUGH WORK / रफ़ कार्य के लिए जगह

16. If in a certain language ENTRY is written as 12345 and STEADY is written as 931785, then how is ARREST written in that code?


- (A) 744589 (B) 745194
(C) 744193 (D) 166479

17. How many triangles are there in the following figure?




- (A) 25 (B) 27
(C) 26 (D) 28

18. How many squares are there in the following figure?



- (A) 24 (B) 20
(C) 30 (D) 18

19. How many rectangles are there in the following figure?

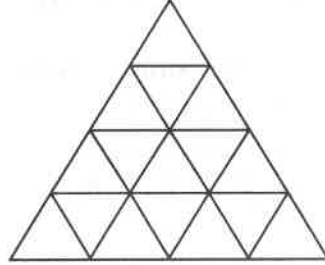


- (A) 9 (B) 7
(C) 8 (D) 6

16. यदि किसी सांकेतिक भाषा में ENTRY को 12345 लिखा जाता है और STEADY को 931785 लिखा जाता है, तो ARREST को उसी सांकेतिक भाषा में क्या लिखा जाएगा?


- (A) 744589 (B) 745194
(C) 744193 (D) 166479

17. नीचे दी गई आकृति में कितने त्रिभुज हैं?




- (A) 25 (B) 27
(C) 26 (D) 28

18. नीचे दी गई आकृति में कितने वर्ग हैं?



- (A) 24 (B) 20
(C) 30 (D) 18

19. नीचे दी गई आकृति में कितने आयत हैं?



- (A) 9 (B) 7
(C) 8 (D) 6

SPACE FOR ROUGH WORK / रफ़ कार्य के लिए जगह

20. Find the missing number.

6	2	14
7	4	32
8	5	45
9	7	?

- (A) 52 (B) 53
(C) 76 (D) 70

21. Find the missing number.

1	2	3
2	3	4
3	4	?
36	81	169

- (A) 5 (B) 4
(C) 7 (D) 6

22. Find the missing number.

14	16	15	?
18	16	12	22
12	10	8	14

- (A) 16 (B) 15
(C) 18 (D) 10

23. Find the missing letter.

B	G	N
D	J	R
G	N	?

- (A) U (B) V
(C) W (D) X

20. विलुप्त संख्या ज्ञात करें।

6	2	14
7	4	32
8	5	45
9	7	?

- (A) 52 (B) 53
(C) 76 (D) 70

21. विलुप्त संख्या ज्ञात करें।

1	2	3
2	3	4
3	4	?
36	81	169

- (A) 5 (B) 4
(C) 7 (D) 6

22. विलुप्त संख्या ज्ञात करें।

14	16	15	?
18	16	12	22
12	10	8	14

- (A) 16 (B) 15
(C) 18 (D) 10

23. विलुप्त वर्ण ज्ञात करें।

B	G	N
D	J	R
G	N	?

- (A) U (B) V
(C) W (D) X

SPACE FOR ROUGH WORK / रफ़ कार्य के लिए जगह

24. If 'A' means '-', 'B' means '+', 'C' means '÷' and 'D' means '×', then $15B3C24A12D2 = ?$

- (A) 34
- (B) 5
- (C) $-23\frac{4}{9}$
- (D) 2

25. If '-' and '×' are interchanged together with 3 and 6, which one of the alternatives is correct?

- (A) $6 - 3 \times 2 = 9$
- (B) $3 - 6 \times 8 = 10$
- (C) $6 \times 3 - 4 = 15$
- (D) $3 \times 6 - 4 = 33$

26. Insert proper arithmetical signs between the figures in the following equation.

$$(7 \quad 3) \quad 2 = 20$$

- (A) -, ×
- (B) +, ×
- (C) ×, ÷
- (D) ÷, +

27. If $3 \times 6 = 18$, $4 \times 7 = 22$ and $9 \times 1 = 20$, then $5 \times 2 = ?$

- (A) 7
- (B) 14
- (C) 10
- (D) 3

24. यदि 'A' का अर्थ '-', 'B' का अर्थ '+', 'C' का अर्थ '÷' और 'D' का अर्थ '×' हो, तो $15B3C24A12D2 = ?$

- (A) 34
- (B) 5
- (C) $-23\frac{4}{9}$
- (D) 2

25. यदि '-' और '×' तथा 3 और 6 की अदला-बदली की जाए, तो दिए गए विकल्पों में से कौन-सा सही होगा?

- (A) $6 - 3 \times 2 = 9$
- (B) $3 - 6 \times 8 = 10$
- (C) $6 \times 3 - 4 = 15$
- (D) $3 \times 6 - 4 = 33$

26. नीचे दिए गए समीकरण में संख्याओं के बीच सही गणितीय चिह्न लगाएँ।

$$(7 \quad 3) \quad 2 = 20$$

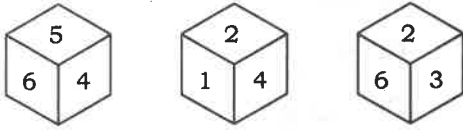
- (A) -, ×
- (B) +, ×
- (C) ×, ÷
- (D) ÷, +

27. यदि $3 \times 6 = 18$, $4 \times 7 = 22$ और $9 \times 1 = 20$ हो, तो $5 \times 2 = ?$

- (A) 7
- (B) 14
- (C) 10
- (D) 3

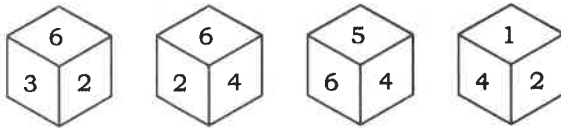
SPACE FOR ROUGH WORK / रफ़ कार्य के लिए जगह

28. Three positions of the same dice are shown below. What number will appear on the face opposite to the face having number 2?



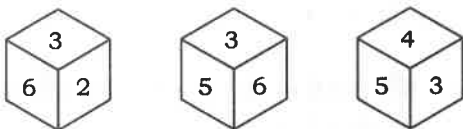
- (A) 6 (B) 5
(C) 3 (D) 4

29. Four positions of the same dice are shown below. Which number will appear on the face opposite to the face having number 6?



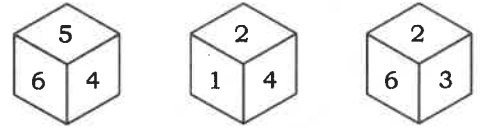
- (A) 1 (B) 2
(C) 3 (D) 4

30. Three positions of the same dice are shown below. Find the number opposite to the face having number 2.



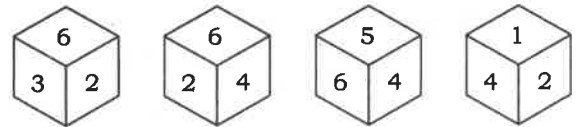
- (A) 1
(B) 4
(C) 5
(D) Cannot be determined

28. नीचे एक ही पासे की तीन स्थितियाँ दिखाई गई हैं। संख्या 2 के फलक के विपरीत फलक पर कौन-सी संख्या होगी?



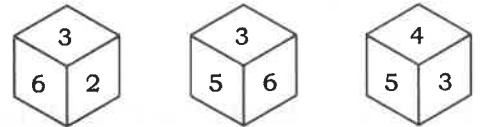
- (A) 6 (B) 5
(C) 3 (D) 4

29. नीचे एक ही पासे की चार स्थितियाँ दिखाई गई हैं। संख्या 6 के फलक के विपरीत फलक पर कौन-सी संख्या होगी?



- (A) 1 (B) 2
(C) 3 (D) 4

30. नीचे एक ही पासे की तीन स्थितियाँ दिखाई गई हैं। संख्या 2 के फलक के विपरीत फलक पर कौन-सी संख्या होगी?



- (A) 1
(B) 4
(C) 5
(D) तय नहीं किया जा सकता

SPACE FOR ROUGH WORK / रफ़ कार्य के लिए जगह

PART—II / भाग—II

GENERAL KNOWLEDGE / सामान्य ज्ञान

31. The Partition of Bengal was announced in

- (A) 1885
- (B) 1905
- (C) 1908
- (D) None of the above

32. Who is known as the 'Father of Renaissance' in India?

- (A) Swami Vivekananda
- (B) Keshab Chandra Sen
- (C) Raja Ram Mohan Roy
- (D) Debendranath Tagore

33. Indian Civil Services

- (A) make the Central Government more powerful than the State Government
- (B) make the State Government more powerful than the Central Government
- (C) has no effect on the powers of the State/Central Government
- (D) (A) or (B) depends on the circumstances

31. बंगाल का विभाजन किस वर्ष घोषित हुआ?

- (A) 1885
- (B) 1905
- (C) 1908
- (D) उपर्युक्त में से कोई नहीं

32. भारत में 'पुनर्जागरण का पिता' किसे कहा जाता है?

- (A) स्वामी विवेकानन्द
- (B) केशव चन्द्र सेन
- (C) राजा राममोहन राय
- (D) देबेन्द्रनाथ टैगोर

33. भारतीय सिविल सेवा

- (A) केन्द्रीय सरकार को राज्य सरकारों से अधिक शक्तिशाली बनाती है
- (B) राज्य सरकारों को केन्द्रीय सरकार से अधिक शक्तिशाली बनाती है
- (C) का केन्द्र सरकार/राज्य सरकारों की शक्तियों पर कोई प्रभाव नहीं होता
- (D) (A) अथवा (B) परिस्थितियों पर निर्भर करती है

SPACE FOR ROUGH WORK / रफ़ कार्य के लिए जगह

34. Equality of opportunity in the matters of public employment is provided in which of the following Articles of the Constitution of India?

- (A) Article 14
- (B) Article 15
- (C) Article 16
- (D) None of the above

35. Which of the following is **not** a function of the Supreme Court of India under the Constitution of India?

- (A) It acts as the guardian of the Fundamental rights
- (B) It acts as the interpreter of the Constitution of India
- (C) It acts as the arbiter of legal disputes between Union and States
- (D) None of the above

36. Under which of the Constitutional Amendments of the Constitution of India, the voting age for voting rights was reduced from 21 years to 18 years?

- (A) 61st Amendment
- (B) 74th Amendment
- (C) 93rd Amendment
- (D) None of the above

34. लोक रोजगार के मामले में समानता के अवसर का उल्लेख भारत के संविधान के किस अनुच्छेद में किया गया है?

- (A) अनुच्छेद 14
- (B) अनुच्छेद 15
- (C) अनुच्छेद 16
- (D) उपर्युक्त में से कोई नहीं

35. निम्नलिखित में से कौन-सा भारत के संविधान के तहत भारतीय उच्चतम न्यायालय का कार्य नहीं है?

- (A) यह मौलिक अधिकारों के संरक्षक के रूप में कार्य करता है
- (B) यह भारत के संविधान के विवेचक (इंटरप्रिटर) के रूप में कार्य करता है
- (C) यह संघ तथा राज्यों के बीच के कानूनी विवादों के लिए मध्यस्थ (आर्बिटर) का कार्य करता है
- (D) उपर्युक्त में से कोई नहीं

36. भारत के संविधान के किस संविधान संशोधन द्वारा वोट के लिए वोट देने के अधिकार हेतु आयु को 21 वर्ष से कम कर 18 वर्ष किया गया?

- (A) 61वाँ संशोधन
- (B) 74वाँ संशोधन
- (C) 93वाँ संशोधन
- (D) उपर्युक्त में से कोई नहीं

SPACE FOR ROUGH WORK / रफ़ कार्य के लिए जगह

37. What is the national flower of India?

- (A) Rose
- (B) Lotus
- (C) Sunflower
- (D) Jasmine

38. As per Census 2011, the highest literacy rate in India is

- (A) 93.91% in Kerala
- (B) 93.91% in Tamil Nadu
- (C) 89.31% in Kerala
- (D) 89.31% in Tamil Nadu

39. The per capita income of India in the financial year, 2017-18 has registered a growth of

- (A) 8.1%
- (B) 7.1%
- (C) 8.6%
- (D) 7.6%

40. The budgetary provision for education of the financial year, 2018-19 is about

- (A) ₹ 80,000 crore
- (B) ₹ 81,000 crore
- (C) ₹ 83,000 crore
- (D) ₹ 85,000 crore

37. निम्नलिखित में से भारत का राष्ट्रीय फूल क्या है?

- (A) गुलाब
- (B) कमल
- (C) सूर्यमुखी
- (D) जैस्मिन

38. जनगणना 2011 के अनुसार, भारत में सबसे अधिक साक्षरता दर है

- (A) 93.91% केरल में
- (B) 93.91% तमिलनाडु में
- (C) 89.31% केरल में
- (D) 89.31% तमिलनाडु में

39. वित्तीय वर्ष 2017-18 में भारत की प्रति व्यक्ति आय में कितने प्रतिशत की वृद्धि हुई?

- (A) 8.1%
- (B) 7.1%
- (C) 8.6%
- (D) 7.6%

40. शिक्षा के लिए वित्तीय वर्ष 2018-19 में बजटीय प्रावधान है, लगभग

- (A) ₹ 80,000 करोड़
- (B) ₹ 81,000 करोड़
- (C) ₹ 83,000 करोड़
- (D) ₹ 85,000 करोड़

SPACE FOR ROUGH WORK / रफ़ कार्य के लिए जगह

41. Which of the following is **not** GST rate for some slab?

- (A) 5%
- (B) 15%
- (C) 18%
- (D) 28%

42. The Scheduled Banks in India are those which are

- (A) included in the 3rd Schedule of the Reserve Bank of India Act, 1934
- (B) included in the 2nd Schedule of the Reserve Bank of India Act, 1934
- (C) included in the 2nd Schedule of the Constitution of India
- (D) None of the above

43. Which of the following is **correct**?

- (A) Maharashtra has the largest reserve of manganese
- (B) Odisha has the largest reserve of manganese
- (C) Madhya Pradesh has the largest reserve of manganese
- (D) None of the above

41. निम्नलिखित में से कौन-सा जी० एस० टी० का किसी स्लैब के लिए दर नहीं है?

- (A) 5%
- (B) 15%
- (C) 18%
- (D) 28%

42. भारत में अधिसूचित बैंक क्या हैं?

- (A) जो भारतीय रिज़र्व बैंक अधिनियम, 1934 की अनुसूची 3 में अधिसूचित हों
- (B) जो भारतीय रिज़र्व बैंक अधिनियम, 1934 की अनुसूची 2 में अधिसूचित हों
- (C) जो भारत के संविधान की अनुसूची 2 में अधिसूचित हों
- (D) उपर्युक्त में से कोई नहीं

43. निम्नलिखित में से क्या सही है?

- (A) महाराष्ट्र में मैंगनीज़ का सबसे बड़ा भंडार है
- (B) ओडिशा में मैंगनीज़ का सबसे बड़ा भंडार है
- (C) मध्य प्रदेश में मैंगनीज़ का सबसे बड़ा भंडार है
- (D) उपर्युक्त में से कोई नहीं

SPACE FOR ROUGH WORK / रफ़ कार्य के लिए जगह

44. A person with blood group A can donate blood to a person having blood group/groups

- (A) A
- (B) AB
- (C) A and AB
- (D) None of the above

45. Foot-and-mouth disease **does not** affect which of the following?

- (A) Swine
- (B) Buffalo
- (C) Sheep
- (D) Horse

46. Which of the following is used as malarial drug?

- (A) Quinine
- (B) Foxglove
- (C) Rauwolfia
- (D) None of the above

47. Which of the following places is **not** known for shipbuilding?

- (A) Cochin
- (B) Vishakhapatnam
- (C) Mazagon Docks
- (D) None of the above

44. एक व्यक्ति जिसका रक्त समूह A है उस व्यक्ति को रक्त दान दे सकता है, जिसका रक्त समूह है

- (A) A
- (B) AB
- (C) A तथा AB
- (D) उपर्युक्त में से कोई नहीं

45. फुट-एन्ड-माउथ रोग निम्नलिखित में से किसे प्रभावित नहीं करता है?

- (A) सूअर
- (B) भैंस
- (C) भेड़
- (D) घोड़ा

46. निम्नलिखित में से किसे मलेरिया की दवाई के रूप में उपयोग किया जाता है?

- (A) कुनैन
- (B) फॉक्सग्लोव
- (C) रौवॉल्फिया
- (D) उपर्युक्त में से कोई नहीं

47. निम्नलिखित में से कौन-सी जगह जहाज निर्माण के लिए नहीं जानी जाती है?

- (A) कोचीन
- (B) विशाखापटनम
- (C) मजगांव डॉक्स
- (D) उपर्युक्त में से कोई नहीं

SPACE FOR ROUGH WORK / रफ़ कार्य के लिए जगह

48. e-Pathshala is a joint initiative of

- (A) the Ministry of Human Resource Development and NCERT
- (B) the Ministry of Science and Technology and NCERT
- (C) NCERT and UGC
- (D) None of the above

49. Integrated School System integrates which of the following?

- (A) Sarva Shiksha Abhiyan (SSA)
- (B) Rashtriya Madhyamik Shiksha Abhiyan (RMSA)
- (C) Teacher Training Programme
- (D) All of the above

50. Rashtriya Uchchatar Shiksha Abhiyan (RUSA) was launched by the Government of India in

- (A) 2012
- (B) 2013
- (C) 2014
- (D) None of the above

48. ई-पाठशाला एक संयुक्त पहल है

- (A) मानव संसाधन विकास मंत्रालय तथा एन० सी० ई० आर० टी० का
- (B) विज्ञान तथा प्रौद्योगिकी मंत्रालय एवं एन० सी० ई० आर० टी० का
- (C) एन० सी० ई० आर० टी० तथा यू० जी० सी० का
- (D) उपर्युक्त में से कोई नहीं

49. समग्र शिक्षा कार्यक्रम शामिल करता है

- (A) सर्व शिक्षा अभियान (एस० एस० ए०) को
- (B) राष्ट्रीय माध्यमिक शिक्षा अभियान (आर० एम० एस० ए०) को
- (C) शिक्षक प्रशिक्षण कार्यक्रम को
- (D) उपर्युक्त सभी

50. राष्ट्रीय उच्चतर शिक्षा अभियान (आर० यू० एस० ए०) भारत सरकार द्वारा किस वर्ष प्रारम्भ किया गया?

- (A) 2012
- (B) 2013
- (C) 2014
- (D) उपर्युक्त में से कोई नहीं

SPACE FOR ROUGH WORK / रफ़ कार्य के लिए जगह

PART—III / भाग—III

EDUCATIONAL INTEREST / शिक्षण अभिरूचि

51. What type of questions will you ask the students during classroom teaching?

- (A) Related to the lesson taught earlier
- (B) Related to the lesson being taught
- (C) Related to the previous knowledge of the students
- (D) All of the above

52. Which one of the following should be given importance by the teacher?

- (A) Maintaining good relation with the headmaster
- (B) Teaching with dedication in the classroom
- (C) Being concerned about the future of the students
- (D) None of the above

53. Which of the following qualities of a teacher is most appreciated by the students?

- (A) Impartial nature
- (B) Panache
- (C) Punctuality
- (D) Discipline-loving nature

51. कक्षा-शिक्षण के दौरान आप छात्रों से कैसे प्रश्न पूछेंगे?

- (A) पहले पढ़ाए गए पाठ से सम्बन्धित
- (B) उस पाठ से सम्बन्धित, जो उस समय पढ़ाया जा रहा है
- (C) छात्रों के पूर्व ज्ञान से सम्बन्धित
- (D) उपर्युक्त सभी

52. अध्यापक को निम्न में से किसे महत्त्व देना चाहिए?

- (A) प्रधानाचार्य से अच्छे सम्बन्ध बनाना
- (B) कक्षा में समर्पण भाव से शिक्षण करना
- (C) छात्रों के भविष्य को लेकर चिन्तित रहना
- (D) उपर्युक्त में से कोई नहीं

53. शिक्षक के किस गुण को छात्र सबसे अधिक पसन्द करते हैं?

- (A) निष्पक्षता
- (B) रौब
- (C) समय की पाबंदी
- (D) अनुशासनप्रियता

SPACE FOR ROUGH WORK / रफ़ कार्य के लिए जगह

54. The true evaluation of the abilities, efforts and behaviour of a teacher can be done by
- (A) the headmaster
(B) his colleagues
(C) his students
(D) the experts
55. According to you, the objective of education should be
- (A) getting job after taking education
(B) the development of mental ability of the students
(C) to make the students literate
(D) all-round development of the students
56. Parents meeting day is most needed in
- (A) primary classes
(B) middle classes
(C) higher secondary classes
(D) colleges
57. If a teacher is not able to answer the question of a pupil, he should
- (A) say that he will answer after consultation
(B) rebuke the pupil
(C) say that the question is wrong
(D) feel shy of ignorance
54. शिक्षक की योग्यताओं, उसके प्रयासों एवं व्यवहार का सही मूल्यांकन किया जा सकता है
- (A) प्रधानाचार्य द्वारा
(B) उसके साथियों द्वारा
(C) उसके छात्रों द्वारा
(D) विशेषज्ञों द्वारा
55. आपके विचार में शिक्षा का उद्देश्य होना चाहिए
- (A) शिक्षा ग्रहण करने के बाद नौकरी
(B) छात्रों की मानसिक योग्यता का विकास
(C) छात्रों को साक्षर बनाना
(D) छात्रों का सर्वांगीण विकास
56. अभिभावक मुलाकात दिवस की सबसे अधिक आवश्यकता पड़ती है
- (A) प्राथमिक कक्षाओं में
(B) माध्यमिक कक्षाओं में
(C) उच्चतर माध्यमिक कक्षाओं में
(D) महाविद्यालयों में
57. यदि कोई शिक्षक किसी विद्यार्थी के प्रश्न का उत्तर देने में समर्थ नहीं होता है, तब उसे
- (A) कहना चाहिए कि वह परामर्श के पश्चात् उत्तर देगा
(B) विद्यार्थी को फटकारना चाहिए
(C) कहना चाहिए कि प्रश्न गलत है
(D) अपनी अज्ञानता पर शर्मिन्दगी महसूस होनी चाहिए

SPACE FOR ROUGH WORK / रफ़ कार्य के लिए जगह

58. The most tainted result of the conflict between teachers is

- (A) decrease in teaching time
- (B) deteriorated behaviour of the students
- (C) the effect on co-curricular activities
- (D) the relation between head-master and teachers getting worse

59. If some of your pupils misbehave with you in the school campus, you must

- (A) report to the Principal
- (B) report to their parents
- (C) improve their behaviour by your own character and scholarship
- (D) mobilize other teachers against these pupils

60. If students are not able to follow, you should

- (A) give them prompt
- (B) make the matter easy
- (C) illustrate with examples
- (D) All of the above

58. शिक्षकों के बीच संघर्ष का सबसे दूषित परिणाम होता है

- (A) शिक्षण समय में कमी
- (B) छात्रों का व्यवहार बिगड़ जाना
- (C) पाठ्य-सहगामी क्रियाएँ प्रभावित होना
- (D) प्रधानाध्यापक एवं अध्यापकों का सम्बन्ध खराब हो जाना

59. यदि आपके कुछ विद्यार्थी विद्यालय परिसर में आपसे अभद्र व्यवहार करते हैं, तो आपको

- (A) प्रधानाचार्य को अवश्य सूचित करना चाहिए
- (B) उनके अभिभावकों को अवश्य सूचित करना चाहिए
- (C) अपने स्वयं के चरित्र एवं विद्वता से उनके व्यवहार में अवश्य सुधार करना चाहिए
- (D) इन विद्यार्थियों के विरुद्ध अन्य शिक्षकों को अवश्य तैयार करना चाहिए

60. यदि विद्यार्थी आपका अनुसरण करने में असमर्थ हैं, तो आपको

- (A) उन्हें उत्तर बताना चाहिए
- (B) विषयवस्तु को सरल करना चाहिए
- (C) उदाहरणों सहित स्पष्ट करना चाहिए
- (D) उपर्युक्त सभी

SPACE FOR ROUGH WORK / रफ़ कार्य के लिए जगह

61. If you come across to teach a blind student along with normal students, what type of behaviour you are expected to exhibit?

- (A) Take care of him with sympathy
- (B) Do not give any extra attention because majority of the students may suffer
- (C) Arrange the seat in front row and try to keep your teaching pace according to him without making the other students suffer
- (D) None of the above

62. To improve the physical environment of the classroom, which one of the following should be given importance?

- (A) Control on air pollution
- (B) Control on noise pollution
- (C) Both of the above
- (D) None of the above

63. Goleman is associated with which of the following?

- (A) Social intelligence
- (B) Emotional intelligence
- (C) Spiritual intelligence
- (D) General intelligence

61. यदि आपको सामान्य विद्यार्थियों के साथ एक दृष्टिहीन विद्यार्थी को भी पढ़ाना पड़े, तो आपके द्वारा किस प्रकार का व्यवहार प्रदर्शित करने की अपेक्षा होगी?

- (A) सहानुभूतिपूर्वक उसकी देखभाल करेंगे
- (B) किसी भी प्रकार का अतिरिक्त ध्यान नहीं देंगे क्योंकि अधिकांश विद्यार्थी प्रभावित हो सकते हैं
- (C) अन्य विद्यार्थियों को प्रभावित किए बिना सामने के पंक्ति में उस छात्र की बैठक व्यवस्था करके उसके अनुरूप अपने अध्यापन की गति रखेंगे
- (D) उपर्युक्त में से कोई नहीं

62. कक्षा के भौतिक वातावरण को बेहतर बनाने के लिए निम्न में से किसे महत्त्व दिया जाना चाहिए?

- (A) वायु-प्रदूषण पर नियंत्रण
- (B) ध्वनि-प्रदूषण पर नियंत्रण
- (C) उपर्युक्त दोनों
- (D) उपर्युक्त में से कोई नहीं

63. गोलमैन निम्न में से किसके साथ सम्बन्धित है?

- (A) सामाजिक बुद्धि
- (B) सांवेगिक बुद्धि
- (C) आध्यात्मिक बुद्धि
- (D) सामान्य बुद्धि

SPACE FOR ROUGH WORK / रफ़ कार्य के लिए जगह

64. Blackboard can be included in which category of teaching aid?
- (A) Audio aid
(B) Visual aid
(C) Audio-visual aid
(D) None of the above
65. The Father of Psychoanalysis is
- (A) Ericson
(B) Jean Piaget
(C) Bruner
(D) Sigmund Freud
66. The longer a particular ability is unused it becomes
- (A) weaker
(B) stronger
(C) less important
(D) more important
67. The Waldorf education approach emphasizes a balanced development of
- (A) head and heart
(B) head and hands
(C) heart and hands
(D) head, heart and hands
64. शिक्षण सामग्री के रूप में ब्लैकबोर्ड को किस श्रेणी के अन्तर्गत जोड़ा जा सकता है?
- (A) श्रव्य सामग्री
(B) दृश्य सामग्री
(C) श्रव्य-दृश्य सामग्री
(D) उपर्युक्त में से कोई नहीं
65. मनोविश्लेषण के पिता हैं
- (A) एरिकसन
(B) जीन पियाजे
(C) ब्रूनर
(D) सिगमंड फ्रायड
66. किसी विशेष क्षमता का हम लम्बे समय तक उपयोग न करें, तो यह हो जाती है
- (A) कमजोर
(B) मजबूत
(C) कम महत्वपूर्ण
(D) अधिक महत्वपूर्ण
67. वाल्डोर्फ का शैक्षिक उपागम निम्न में से किसके संतुलित विकास पर जोर डालता है?
- (A) मस्तिष्क एवं हृदय
(B) मस्तिष्क एवं हाथ
(C) हृदय एवं हाथ
(D) मस्तिष्क, हृदय एवं हाथ

SPACE FOR ROUGH WORK / रफ़ कार्य के लिए जगह

68. In success of learning which of the following is considered as a main factor?

- (A) Punishment
- (B) Rewards
- (C) Strong will to achieve goal
- (D) Being an officer

69. "Fluid mosaic model" of intelligence was proposed by

- (A) Cattell
- (B) Thorndike
- (C) Vernon
- (D) Skinner

70. A slow learner needs

- (A) extra help
- (B) special help
- (C) some help
- (D) no help

68. अधिगम की सफलता का मुख्य कारक निम्न में से किसे माना जाता है?

- (A) दंड
- (B) पुरस्कार
- (C) लक्ष्यप्राप्ति की प्रबल इच्छा
- (D) अधिकारी बनना

69. बुद्धि का "फ्लुइड मोझेक मॉडल" किसने प्रतिपादित किया था?

- (A) केटल
- (B) थॉर्नडाइक
- (C) वरनान
- (D) स्किनर

70. एक धीमी गति से सीखने वाले को जरूरत होती है

- (A) अतिरिक्त सहायता की
- (B) विशेष सहायता की
- (C) कुछ सहायता की
- (D) किसी सहायता की नहीं

SPACE FOR ROUGH WORK / रफ़ कार्य के लिए जगह

PART—IV / भाग—IV
GENERAL HINDI / सामान्य हिन्दी

71. निम्नलिखित में घोष व्यंजन नहीं है
(A) ग
(B) न
(C) ज
(D) फ
72. 'अब्ज' शब्द का संधि-विच्छेद क्या होगा?
(A) अप् + ज
(B) अब् + ज
(C) अः + ज
(D) उपर्युक्त में से कोई नहीं
73. निम्नलिखित शब्दों में से तद्भव शब्द का चयन कीजिए।
(A) चट
(B) ठेस
(C) राय
(D) राजा
74. निम्नलिखित चारों विकल्पों में पहले शब्द के चार-चार अनेकार्थी शब्द दिए गए हैं। किस विकल्प में पहले शब्द के चारों अनेकार्थी शब्द सही हैं?
(A) पय : दूध, जल, अन्न, अमृत
(B) द्रोण : कौआ, पत्तों का दोना, नाव, सेना
(C) मित्र : सूर्य, आर्यों के एक देवता, दूत, सहयोगी
(D) हर : दूर करने वाला, शिव, प्रत्येक, धीरे
75. निम्नलिखित वाक्यों में से अपादान कारक का प्रयोग किस वाक्य में हुआ है?
(A) आपके दर्शन से लाभ हुआ।
(B) उसने उनकी ओर क्रोध से देखा।
(C) नौकर धीरज से काम करता है।
(D) मैं कल से बेकल हूँ।
76. निम्नलिखित वाक्यों में से कौन-सा इच्छाबोधक वाक्य नहीं है?
(A) ईश्वर तुम्हें चिरायु करे।
(B) तुम्हारी बढ़ती हो।
(C) गाड़ी आती होगी।
(D) मैं सुखी रहूँ और मेरे समान दूसरे भी सुखी रहें।
77. निम्नलिखित में से कौन-सी एक लोकोक्ति नहीं है?
(A) अपनी गली में कुत्ता भी शेर होता है
(B) अपने मुँह मियाँ मिट्टू बनना
(C) भागते भूत की लँगोटी भली
(D) हाथ सुमिरनी, बगल कतरनी
78. वाचन एवं लेखन की दृष्टि से निम्नलिखित में से अशुद्ध शब्द कौन-सा है?
(A) शासन
(B) पूज्यनीय
(C) सदृश
(D) सीधा-सादा

SPACE FOR ROUGH WORK / रफ़ कार्य के लिए जगह

79. कई एक (एकाधिक) क्रिया-विशेषण वाक्यांशों के साथ किस विराम-चिह्न का प्रयोग किया जाता है?

- (A) अर्द्धविराम
- (B) अल्प विराम
- (C) निर्देशक चिह्न
- (D) पूर्ण विराम

80. निम्नलिखित में शुद्ध वाक्य का चयन कीजिए :

- (A) वृक्षों पर कोयल कूक रही है।
- (B) तुम यह काम जरूर कर सकते हो।
- (C) जो लोग मेरी आवाज नहीं सुन सके हों, वे हाथ उठा दें।
- (D) आप जहाँ तक हो सके, इस बात का प्रयत्न करें।

81. 'सत्यव्रत' शब्द का विग्रह करने के पश्चात् निम्नलिखित में से कौन-सा कर्मधारय समास का सही उदाहरण है?

- (A) सत्य का व्रत
- (B) सत्य ही व्रत
- (C) सत्य है व्रत
- (D) सत्य और व्रत

82. निम्नलिखित में से कौन-सा शब्द 'चैत्य' शब्द का पर्याय नहीं है?

- (A) मंदिर
- (B) मठ
- (C) महल
- (D) मकान

83. निम्नलिखित में से कौन-सा मिश्र वाक्य नहीं है?

- (A) क्या तुम जानते हो कि वह आदमी कब आया?
- (B) बातचीत बंद करो और अपना काम देखो।
- (C) जो चिट्ठी मिली है, वह उस लड़के ने लिखी होगी।
- (D) हम चाहते हैं कि लड़के नीरोग रहें और विद्वान हों।

84. निम्नलिखित में से अशुद्ध शब्द का चयन कीजिए :

- (A) कलुष
- (B) कटूक्ति
- (C) कवयित्री
- (D) कैलाश

85. निम्नलिखित में से शुद्ध वाक्य कौन-सा है?

- (A) पूज्यनीय पिताजी को सादर प्रणाम।
- (B) कनखजूरे के सौ पैर होते हैं, जिससे वह चलता है।
- (C) उसकी गर्दन शर्म से नीचे थी।
- (D) इसका तो कुछ अर्थ ही नहीं होता।

SPACE FOR ROUGH WORK / रफ़ कार्य के लिए जगह

PART—V / भाग—V
GENERAL ENGLISH / सामान्य अंग्रेजी

- 86.** Choose the sentences in which the **correct** question tags are used.
- (i) Few people knew the answer, did they?
(ii) A few people knew the answer, didn't they?
(iii) Little progress has been made, has it?
(iv) A little progress has been made, hasn't it?
- (A) Only in (i) and (iii)
(B) Only in (ii) and (iv)
(C) In all of the above sentences
(D) None of the above sentences
- 87.** "Her hobby is painting."
In the above sentence, the word 'painting' is used as
- (A) infinitive
(B) present participle
(C) gerund
(D) main verb
- 88.** Choose the most appropriate antonym for the word 'adversary'.
- (A) Acquaintance
(B) Friend
(C) Enemy
(D) Competitor
- 89.** Choose the most appropriate synonym for the word 'miserable'.
- (A) Cruel
(B) Wrong
(C) Unhappy
(D) Miser
- 90.** Choose the correctly spelled word.
- (A) Marvalous
(B) Marvellous
(C) Marvellus
(D) Marvelous
- 91.** Rearrange the parts of sentence labelled (i), (ii), (iii), (iv) to make a correct sentence.
- The social worker devoted
- (i) to the upliftment
(ii) of the people
(iii) his entire life
(iv) of his village
- (A) (i), (ii), (iii), (iv)
(B) (iv), (iii), (ii), (i)
(C) (ii), (iv), (i), (iii)
(D) (iii), (i), (ii), (iv)

SPACE FOR ROUGH WORK / रफ़ कार्य के लिए जगह

92. Rearrange the parts of sentence labelled (i), (ii), (iii), (iv) to make a correct sentence.

- (i) my religion is based on
- (ii) truth is my God
- (iii) truth and non-violence
- (iv) non-violence is the means of realizing it

- (A) (i), (iii), (ii), (iv)
- (B) (ii), (i), (iii), (iv)
- (C) (i), (ii), (iii), (iv)
- (D) (iv), (iii), (ii), (i)

93. Rearrange the parts of sentence labelled (i), (ii), (iii), (iv), (v), (vi) to make a correct sentence.

- (i) the very first battle they fought
- (ii) and they had to fall back
- (iii) cross the border
- (iv) was lost

- (v) letting the enemy
- (vi) and enter the country
- (A) (vi), (iv), (iii), (v), (ii), (i)
- (B) (i), (iv), (ii), (v), (iii), (vi)
- (C) (vi), (iii), (iv), (ii), (v), (i)
- (D) (i), (iii), (ii), (iv), (v), (vi)

94. Rearrange the following phrases into a correct sentence.

- (i) for the school
- (ii) I was late
- (iii) however
- (iv) the class has not started

- (A) (i), (ii), (iii), (iv)
- (B) (ii), (i), (iii), (iv)
- (C) (i), (ii), (iv), (iii)
- (D) None of the above

95. Rearrange the following phrases into a correct sentence.

- (i) and the ice cream
- (ii) outside the house
- (iii) it was very hot
- (iv) melted completely

- (A) (i), (ii), (iii), (iv)
- (B) (iii), (ii), (iv), (i)
- (C) (iii), (ii), (i), (iv)
- (D) None of the above

SPACE FOR ROUGH WORK / रफ़ कार्य के लिए जगह

Read the following passage carefully and answer the questions (Q. Nos. 96 to 100) that follow :

The achievement of science in the twentieth century has been very great. Its influence can be felt in every sphere of life. From the small pins and needles to the huge iron sheets and joints, most of the things we require for our everyday use, come out of factories where scientific principles are utilized for practical ends. Science has enabled man to bring forces of nature under control and to use them for his own advantage. It has brought the distant parts of the world closer together. Remarkable cures of human disease have been possible owing to the discovery of some wonderful medicines.

96. The author discusses the development of science in the period

- (A) 2001-2020
- (B) 1901-1950
- (C) 1901-2000
- (D) None of the above

97. Which of the following is **not** true about the development of science?

- (A) Treatment of diseases
- (B) Communication has brought people closer
- (C) Steel industry has got a boost
- (D) None of the above

98. The main idea of the passage is

- (A) the impact of science can be felt in every sphere of life
- (B) science is an anathema
- (C) nothing is beyond the purview of science
- (D) science can work miracles

99. Science has proved a great boon for

- (A) scientists
- (B) artists
- (C) explorers
- (D) mankind

100. The most appropriate title for the passage will be

- (A) Science is a curse
- (B) Science is a good servant but bad master
- (C) Science, a great boon
- (D) None of the above

SPACE FOR ROUGH WORK / रफ़ कार्य के लिए जगह

सभी 100 प्रश्नों को अंकित करने का समय : 2 घण्टे
Time for marking all 100 questions : 2 hours

अधिकतम अंक : 100
Maximum Marks : 100

SET **A**
सेट

नोट

1. इस प्रश्न-पुस्तिका में निम्न पाँच भाग हैं :

भाग—I	: सामान्य मानसिक योग्यता	प्र० सं०	1-30
भाग—II	: सामान्य ज्ञान	प्र० सं०	31-50
भाग—III	: शिक्षण अभिरुचि	प्र० सं०	51-70
भाग—IV	: सामान्य हिन्दी	प्र० सं०	71-85
भाग—V	: सामान्य अंग्रेजी	प्र० सं०	86-100

2. सभी प्रश्न अनिवार्य हैं।

3. प्रश्नों के उत्तर दिए गए OMR उत्तर-पत्र पर अंकित करें।

4. प्रत्येक सही उत्तर हेतु 1 अंक आबंटित किया गया है तथा ऋणात्मक मूल्यांकन नहीं किया जाएगा।

5. किसी भी तरह के कैलकुलेटर या लॉग टेबल एवं मोबाइल फोन का प्रयोग वर्जित है।

6. OMR उत्तर-पत्र का प्रयोग करते समय ऐसी कोई असावधानी न करें/बरतें जिससे यह फट जाए या उसमें मोड़ या सिलवट आदि पड़ जाए जिसके फलस्वरूप यह खराब हो जाए।

NOTE

1. This Question Booklet consists of the following five Parts :

Part—I	: General Mental Eligibility	Q. Nos.	1-30
Part—II	: General Knowledge	Q. Nos.	31-50
Part—III	: Educational Interest	Q. Nos.	51-70
Part—IV	: General Hindi	Q. Nos.	71-85
Part—V	: General English	Q. Nos.	86-100

2. All questions are compulsory.

3. Indicate your answers on the OMR Answer-Sheet provided.

4. 1 mark is allotted for each correct answer and no negative marking will be done.

5. Use of any type of calculator or log table and mobile phone is prohibited.

6. While using OMR Answer-Sheet, care should be taken so that the Answer-Sheet does not get torn or spoiled due to folds and wrinkles.