

Subject Code

20362-MYWLN-PRV-VYX-M

45

SET
A

Question
Booklet No.

परीक्षा केन्द्राध्यक्ष की मोहर
Seal of Superintendent of Examination Centre

परीक्षार्थी द्वारा बॉल-प्वाइंट पेन से भरा जाए उत्तर शीट का क्रमांक
To Be filled in by Candidate by Ball-Point pen only Sl. No. of Answer-Sheet

अनुक्रमांक

Roll No.

घोषणा : मैंने नीचे दिये गये निर्देश अच्छी तरह पढ़कर समझ लिए हैं।

Declaration : I have read and understood the instructions given below.

वीक्षक के हस्ताक्षर

(Signature of Invigilator) -----

वीक्षक के नाम

(Name of Invigilator) -----

अभ्यर्थी के हस्ताक्षर

(Signature of Candidate) -----

अभ्यर्थी का नाम

(Name of Candidate) -----

पूर्णांक - 100

समय - 2 घंटे

प्रश्न पुस्तिका में पृष्ठों की संख्या

Number of Pages in this Question Booklet : 32

प्रश्न पुस्तिका में प्रश्नों की संख्या

Number of Questions in this Question Booklet : 100

अभ्यर्थियों के लिए निर्देश

1. प्रश्न-पुस्तिका मिलते ही मुख पृष्ठ एवं अंतिम पृष्ठ में दिए गए निर्देशों को अच्छी तरह पढ़ लें। प्रश्न पुस्तिका में लगी सील को वीक्षक के कहने से पूर्व न खोलें।
2. ऊपर दिए हुए निर्धारित स्थानों में अपना अनुक्रमांक, उत्तर-पुस्तिका का क्रमांक लिखें तथा अपने हस्ताक्षर करें।
3. ओ.एम.आर. उत्तर-शीट में समस्त प्रविष्टियां दिये गये निर्देशानुसार करें अन्यथा उत्तर-शीट का मूल्यांकन नहीं किया जाएगा।
4. सील खोलने के बाद सुनिश्चित कर लें कि प्रश्न-पुस्तिका में कुल पृष्ठ ऊपर लिखे अनुसार दिए हुए हैं तथा उसमें सभी 100 प्रश्नों का मुद्रण सही है। किसी भी प्रकार की त्रुटि होने पर 15 मिनट के अंदर वीक्षक को सूचित कर सही प्रश्न-पुस्तिका प्राप्त करें।
5. प्रत्येक प्रश्न हेतु प्रश्न-पुस्तिका में प्रश्न के नीचे दिए गए चार विकल्पों में से सही/सबसे उपयुक्त केवल एक ही विकल्प का चयन कर उत्तर शीट में सही विकल्प वाले गोले को जो उस प्रश्न के सरल क्रमांक से सम्बंधित हो काले या नीले बॉल-प्वाइंट पेन से भरें।
6. सही उत्तर वाले गोले को अच्छी तरह से भरें, अन्यथा उत्तरों का मूल्यांकन नहीं होगा।
7. प्रश्न-पुस्तिका में 100 वस्तुनिष्ठ प्रश्न दिए गए हैं। प्रत्येक प्रश्न के लिए 01 अंक निर्धारित हैं। सभी प्रश्न अनिवार्य हैं।
8. ऋणात्मक मूल्यांकन नहीं किया जावेगा।
9. प्रश्न-पुस्तिका तथा उत्तर-शीट में निर्दिष्ट स्थानों पर प्रविष्टियां भरने के अतिरिक्त कहीं भी कुछ न लिखें।
10. परीक्षा समाप्ति के उपरान्त तथा कक्ष छोड़ने के पूर्व मूल उत्तरशीट वीक्षक को सौंपी जाए। प्रश्न पुस्तिका एवं उत्तर-शीट की कार्बन कॉपी परीक्षार्थी अपने साथ ले जा सकते हैं।
11. इस प्रश्न पत्र में पाँच भाग होंगे :-

भाग	विवरण	प्रश्नों की संख्या	अंक
I	सामान्य मानसिक योग्यता	30	30
II	सामान्य ज्ञान	20	20
III	शिक्षण अभिरुचि	30	30
IV	सामान्य हिन्दी	10	10
V	सामान्य अंग्रेजी	10	10

12. सभी प्रश्न करने अनिवार्य हैं।
13. यदि हिन्दी भाषा / अंग्रेजी भाषा में कोई संदेह है तो अंग्रेजी भाषा को ही प्रामाणिक माना जायेगा।

INSTRUCTION TO CANDIDATES

1. Immediately after getting the booklet read instructions carefully, mentioned on the front and back page of the question booklet and do not open the seal given on the question booklet, unless asked by the invigilator.
2. Write your Roll No., Answer Sheet No., in the specified places given above and do your signature.
3. Make all entries in the OMR Answer Sheet as per the given instructions otherwise Answer-Sheet will not be evaluated.
4. After Opening the seal, ensure that the Question booklet contains total no. of pages as mentioned above and printing of all the 100 questions is proper. If any discrepancy is found, inform the invigilator within 15 minutes and get the correct booklet.
5. While answering the question from the question Booklet, for each question choose the correct/most appropriate option out of four options given, as answer and darken the circle provided against that option in the OMR Answer sheet, bearing the same serial number of the question. Darken the circle only with Black or Blue ball point pen.
6. Darken the circle of choose option fully, otherwise answers will not be evaluated.
7. There are 100 objective type questions in this question booklet. All questions are compulsory and carry 01 mark each.
8. No negative marking will be done.
9. Do not write anything anywhere in the question booklet or on the answer-sheet except making entries in the specified places.
10. When the examination is over, original OMR answer sheet is to be handed over to the invigilator before leaving the examination hall, while question booklet and carbon copy of the answer-sheet can be retained by the candidate.
11. This question paper consists of five parts namely :-

Part	Particular	No. of Ques.	Marks
I	General Mental Eligibility	30	30
II	General Knowledge	20	20
III	Educational Interest	30	30
IV	General Hindi	10	10
V	General English	10	10

12. All questions are compulsory.
13. In case of any ambiguity in Hindi version / English version the English version shall be considered authentic.

20362-MYWLN-PRV-VYX-M

45 Set A



collegedunia.com
India's largest Student Review Platform

SPACE FOR ROUGH WORK / रफ कार्य के लिये जगह

SPACE FOR ROUGH WORK / रफ कार्य के लिये जगह



PART - I

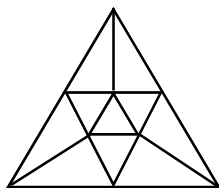
General Mental Eligibility

सामान्य मानसिक योग्यता

1. Fish : Ship :: Bird : ?

- A. Flying
- B. Pigeon
- C. Aeroplane
- D. Feather

2. How many triangles are there in this figure?



- A. 13
- B. 14
- C. 15
- D. 16

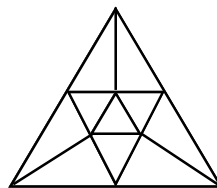
3. If roads were rivers, walkers would be-

- A. Fish
- B. Crocodile
- C. Swimmers
- D. Boats

1. मछली : जलयान :: चिड़िया : ?

- A. उड़ना
- B. कबूतर
- C. हवाई जहाज़
- D. पंख

2. निम्नलिखित आकृति में कितने त्रिभुज हैं?



- A. 13
- B. 14
- C. 15
- D. 16

3. यदि सड़कें नदियाँ हों तो पैदल चलने वाले होंगे-

- A. मछलियाँ
- B. मगरमच्छ
- C. तैराक
- D. नावें

SPACE FOR ROUGH WORK / रफ कार्य के लिये जगह



4. Solve the following equation and tick the correct answer.

$$7x - 21 - 3x + 13 = 7 + 6x - 16$$

- A. 5
B. 2
C. $\frac{1}{2}$
D. 3

5. The population of a town increased from 60,000 to 65,000. Find the increase percent?

- A. 10%
B. $10\frac{1}{3}\%$
C. $11\frac{1}{3}\%$
D. $8\frac{1}{3}\%$

6. A train with a speed of 60 km/hr crosses a pole in 30 seconds. The length of the train in meters is-

- A. 1000
B. 900
C. 750
D. 500

4. निम्नलिखित समीकरण को हल करें एवं सही उत्तर को चिन्हित करें-

$$7x - 21 - 3x + 13 = 7 + 6x - 16$$

- A. 5
B. 2
C. $\frac{1}{2}$
D. 3

5. एक शहर की जनसंख्या 60,000 से बढ़कर 65,000 हो जाती है। वृद्धि का प्रतिशत क्या होगा?

- A. 10%
B. $10\frac{1}{3}\%$
C. $11\frac{1}{3}\%$
D. $8\frac{1}{3}\%$

6. 60 कि.मी./घण्टे की गति से चलने वाली एक रेलगाड़ी एक खम्बे को 30 सेकण्ड में पार करती है। रेलगाड़ी की मीटर में लम्बाई होगी-

- A. 1000
B. 900
C. 750
D. 500

SPACE FOR ROUGH WORK / रफ कार्य के लिये जगह



7. A box contains 4 black balls, 3 red balls and 5 green balls. 2 balls are drawn from the box at random. What is the probability that both the balls are of the same colour?

A. $\frac{47}{68}$

B. $\frac{1}{6}$

C. $\frac{19}{66}$

D. $\frac{2}{11}$

8. Find odd name from the following-

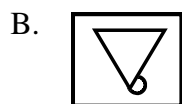
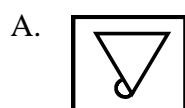
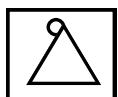
A. Kurukshetra

B. Panipat

C. Haldighati

D. Sarnath

9. What will be the mirror image of the following shape?



7. एक बक्से में 4 काली बॉल, 3 लाल बॉल, 5 हरी बॉल है। बक्से में से 2 बॉल यादृच्छिक रूप से निकाली जाती है। दोनों बॉल एक ही रंग के होने की प्रायिकता कितनी है?

A. $\frac{47}{68}$

B. $\frac{1}{6}$

C. $\frac{19}{66}$

D. $\frac{2}{11}$

8. निम्न में से विषम नाम चुनिए-

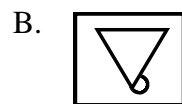
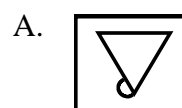
A. कुरुक्षेत्र

B. पानीपत

C. हल्दीघाटी

D. सारनाथ

9. निम्न आकृति का दर्पण प्रतिबिम्ब क्या होगा?



SPACE FOR ROUGH WORK / रफ कार्य के लिये जगह



10. If

$$+ = -$$

$$- = \times$$

$$\times = \div$$

$$\div = +$$


Then what will be the value of $2 \div 6 \times 6 \div 2$?

- A. 2
- B. 5
- C. 4
- D. 10

11. A machine is sold for Rs. 5060 at a gain of 10%. What would have been the gain or loss percent if it had been sold for Rs. 4370?

- A. Profit, 5%
- B. Loss, 5%
- C. Profit, 8%
- D. Loss, 7%

12. Fill appropriate number in the place of question mark-



- A. 20
- B. 25
- C. 26
- D. 75

10. यदि

$$+ = -$$

$$- = \times$$

$$\times = \div$$

$$\div = +$$

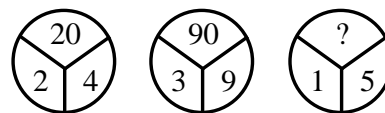
तो $2 \div 6 \times 6 \div 2$ का मान क्या होगा?

- A. 2
- B. 5
- C. 4
- D. 10

11. 10% के लाभ पर एक मशीन 5060 रु. में बेची गई। यदि इसे 4370 रु. में बेचा जाता तो लाभ या हानि का प्रतिशत क्या होता?

- A. लाभ, 5%
- B. हानि, 5%
- C. लाभ, 8%
- D. हानि, 7%

12. प्रश्नवाचक चिन्ह के स्थान पर उचित अंक भरें-



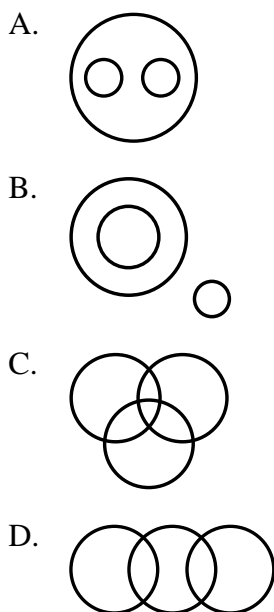
- A. 20
- B. 25
- C. 26
- D. 75

SPACE FOR ROUGH WORK / रफ कार्य के लिये जगह



13. Starting from his place Ravi walks 3 km. then turns right and walks 4 km. then again turned left and walked 4 km. At last he was going to the south direction. In which direction Ravi started his journey?
- A. North
B. South
C. East
D. West

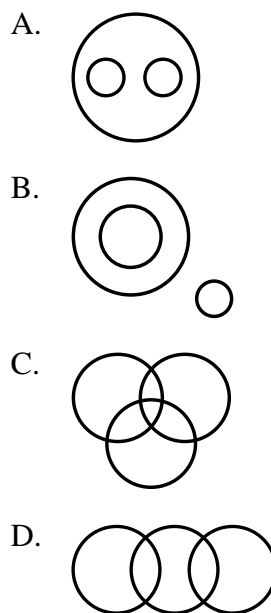
14. Which of the following figure correctly depicts the relationship of science, physics and chemistry?



15. A boy buys a pen for Rs. 25 and sells it for Rs. 30. Find his profit percent?
- A. 15%
B. 25%
C. 18%
D. 20%

13. रवि अपने स्थान से 3 कि.मी. चलने के बाद दायीं ओर मुड़कर 4 कि.मी. चला, पुनः बायीं ओर मुड़कर 4 कि.मी. चला। अन्त में वह दक्षिण दिशा की ओर जा रहा था। रवि ने किस दिशा में यात्रा शुरू की थी?
- A. उत्तर
B. दक्षिण
C. पूर्व
D. पश्चिम

14. निम्न में से कौन सी आकृति विज्ञान, भौतिकी, रसायन के संबंध को सही प्रकार प्रदर्शित करती है?



15. एक बालक एक पेन 25 रु. में खरीदकर 30 रुपए में बेचता है। उसके लाभ का प्रतिशत क्या होगा?
- A. 15%
B. 25%
C. 18%
D. 20%

SPACE FOR ROUGH WORK / रफ कार्य के लिये जगह



16. A tank is filled by two pipes A and B in 24 minutes and 32 minutes respectively. If both pipes are opened, then after how much time B should be closed so that the tank will be filled completely in 18 minutes?
- A. 6 minutes
B. 8 minutes
C. 10 minutes
D. 12 minutes
17. In the following pairs find out the odd pair-
- A. Leg – hand
B. Eye – nose
C. Body – head
D. Wrist – finger
18. If the code for MOBILITY is 46293927, then the code for EXAMINATION will be-
- A. 45038401854
B. 56149512965
C. 57159413955
D. 672506623076
19. A is twice as old as B. 8 years ago A was thrice as old as B. What are the present ages of B and A?
- A. 12, 30
B. 14, 30
C. 10, 30
D. 16, 32
16. एक टैंक, पाइप A एवं B के द्वारा क्रमशः 24 मिनट एवं 32 मिनट में भरता है। यदि दोनों पाइप खोल दिए जाएं तो B को कितने समय बाद बन्द करना पड़ेगा कि टैंक 18 मिनट में पूर्ण रूप से भर जाए?
- A. 6 मिनट
B. 8 मिनट
C. 10 मिनट
D. 12 मिनट
17. निम्न जोड़ों में से विजातीय जोड़े को पहचानें-
- A. पैर – हाथ
B. आँख – नाक
C. शरीर – सिर
D. कलाई – उंगली
18. MOBILITY का कोड है 46293927, तो EXAMINATION का कोड होगा-
- A. 45038401854
B. 56149512965
C. 57159413955
D. 672506623076
19. A की आयु B की आयु से दुगनी है। 8 वर्ष पूर्व A, B से तीन गुना अधिक आयु वाला था। B और A की वर्तमान आयु क्या होगी?
- A. 12, 30
B. 14, 30
C. 10, 30
D. 16, 32

SPACE FOR ROUGH WORK / रफ कार्य के लिये जगह



20. Find three numbers in the ratio of 1 : 2 : 3, so that the sum of their squares is equal to 504.
- A. 2, 4, 6
B. 6, 12, 18
C. 3, 5, 8
D. 5, 10, 15
21. In a sign language CAT can be written as ECV, then how RAT will be written?
- A. OCP
B. TCV
C. OPC
D. TPO
22. Suman recalls that her friend Meena's birthday falls between 10th and 15th February while according to Sheela, Meena's birthday is after 13th and before 17th of February. When will be Meena's birthday?
- A. 17th February
B. 18th February
C. 19th February
D. 14th February
23. On putting ELPAP word in proper order it gives the name of a fruit. What will be the last alphabet of the word?
- A. E
B. A
C. L
D. P
20. 1 : 2 : 3 के अनुपात में 3 संख्याओं को ज्ञात करें जिनके वर्ग का योग 504 हो।
- A. 2, 4, 6
B. 6, 12, 18
C. 3, 5, 8
D. 5, 10, 15
21. एक संकेत भाषा में CAT को ECV लिखते हैं, तो RAT को कैसे लिखेंगे?
- A. OCP
B. TCV
C. OPC
D. TPO
22. सुमन को याद है कि, उसकी सहेली मीना के जन्मदिन की तारीख 10 से 15 फरवरी के बीच पड़ती है जबकि शीला के अनुसार मीना का जन्मदिन 13 के बाद और 17 के पहले है। मीना का जन्मदिन कब पड़ेगा?
- A. 17 फरवरी
B. 18 फरवरी
C. 19 फरवरी
D. 14 फरवरी
23. ELPAP शब्द को व्यवस्थित करने पर एक फल का नाम बनता है। उसका अन्तिम अक्षर क्या होगा?
- A. E
B. A
C. L
D. P

SPACE FOR ROUGH WORK / रफ कार्य के लिये जगह



24. On arranging the odd number ranging from 1 – 45, which can be divided by 3; in ascending order, the number at 6th place will be-

- A. 27
- B. 15
- C. 33
- D. 37

25. Complete the series –
212, 179, 146, 113, -----

- A. 91
- B. 79
- C. 112
- D. 80

26. Find the wrong number in the series –
3, 8, 15, 24, 34, 48, 63

- A. 15
- B. 34
- C. 24
- D. 48

27. A is mother of B, but B is not the son of A. What is the relationship between A and B?

- A. Father – daughter
- B. Mother – son
- C. Father – son
- D. Mother – daughter

24. 1 से 45 तक की 3 से विभाजित होने वाली विषम संख्याओं के आरोही क्रम में व्यवस्थित करने पर छठवें क्रम में आने वाली संख्या होगी-

- A. 27
- B. 15
- C. 33
- D. 37

25. श्रेणी पूर्ण करें-

212, 179, 146, 113, -----

- A. 91
- B. 79
- C. 112
- D. 80

26. श्रेणी में गलत अंक की पहचान करें-

3, 8, 15, 24, 34, 48, 63

- A. 15
- B. 34
- C. 24
- D. 48

27. A, B की माँ है, परंतु B, A का पुत्र नहीं है। A और B में क्या संबंध है?

- A. पिता – पुत्री
- B. माता – पुत्र
- C. पिता – पुत्र
- D. माता – पुत्री

SPACE FOR ROUGH WORK / रफ कार्य के लिये जगह



28. If 8 men can reap 80 acres in 24 days, how many acres can 36 men reap in 30 days?
- A. 450 acres
B. 350 acres
C. 400 acres
D. 425 acres

29. If in the year 2006, Republic day was celebrated on Thursday, Then on what day in the year 2007, it would have been celebrated?
- A. Friday
B. Tuesday
C. Thursday
D. Saturday

30. Sunil's position from the beginning in a row is same as that from the end. Then what will be Sunil's position in this row when there are 51 persons in this row?
- A. 50th
B. 24th
C. 25th
D. 26th

28. यदि 8 व्यक्ति 80 एकड़ फसल को 24 दिनों में काटते हैं, तो 36 व्यक्ति 30 दिनों में कितने एकड़ की फसल को काट पाएंगे?

- A. 450 एकड़
B. 350 एकड़
C. 400 एकड़
D. 425 एकड़

29. वर्ष 2006 में गणतंत्र दिवस बृहस्पतिवार को मनाया गया तो वर्ष 2007 में यह किस दिन मनाया गया होगा?

- A. शुक्रवार
B. मंगलवार
C. बृहस्पतिवार
D. शनिवार

30. एक पंक्ति में सुनील का प्रारंभ से वही स्थान है, जो स्थान अन्त से है, तो सुनील का इस पंक्ति में क्या स्थान होगा जबकि इस पंक्ति में 51 व्यक्ति हैं?

- A. 50 वाँ
B. 24 वाँ
C. 25 वाँ
D. 26 वाँ

SPACE FOR ROUGH WORK / रफ कार्य के लिये जगह



PART - II

General Knowledge

सामान्य ज्ञान

31. What is included in the word 'State' as defined in article 12 of the Constitution?

- i) Government of India & Parliament
- ii) State Government & State Legislature
- iii) All local and other authorities
- iv) All Judiciaries

- A. (i)
- B. (i) (ii)
- C. (i) (ii) (iii)
- D. (i) (ii) (iii) (iv)

32. What is correct about Attorney General of India?

- i) He can speak in Lok Sabha.
- ii) He can speak in Rajya Sabha.
- iii) He can speak in joint session of Parliament.
- iv) He can speak in any committee of Parliament.

- A. (i)
- B. (i) (ii)
- C. (i) (ii) (iii)
- D. (i) (ii) (iii) (iv)

31. संविधान के अनुच्छेद 12 में परिभाषित 'राज्य' शब्द में क्या सम्मिलित है?

- i) भारत सरकार और संसद
- ii) राज्य सरकार और राज्य विधानमण्डल
- iii) सभी स्थानीय और अन्य प्राधिकारी
- iv) सभी न्यायपालिकाएं

- A. (i)
- B. (i) (ii)
- C. (i) (ii) (iii)
- D. (i) (ii) (iii) (iv)

32. भारत के महान्यायवादी के विषय में सही क्या है?

- i) वह लोकसभा में बोल सकता है।
- ii) वह राज्यसभा में बोल सकता है।
- iii) वह संसद के संयुक्त सत्र में बोल सकता है।
- iv) वह संसद की किसी भी समिति में बोल सकता है।

- A. (i)
- B. (i) (ii)
- C. (i) (ii) (iii)
- D. (i) (ii) (iii) (iv)

SPACE FOR ROUGH WORK / रफ कार्य के लिये जगह



33. According to new curricular structure 5 + 3 + 3 + 4 of Education Policy 2020, which classes come under the foundational stage?
- A. Only class 1-2
 B. *Anganwadi*, Pre school, *Balvatica*
 C. *Anganwadi*, Pre school, *Balvatica* and 2 years class 1-2
 D. *Anganwadi* to class 5
34. In an economy, if the share of its primary sector is 50% or more in the total output of the economy, it is called as-
- A. Industrial Economy
 B. Service Economy
 C. Agrarian Economy
 D. Command Economy
35. 'N-Protein' has been found to be associated with what?
- A. Corona Virus
 B. Human Immune System
 C. Plant Nutrient
 D. Malnutrition
36. Which Indian mass movement began with the famous *Dandi March* of Mahatma Gandhi?
- A. *Khilafat* Movement
 B. Non-Cooperation Movement
 C. Civil disobedience Movement
 D. Quit India Movement
33. शिक्षा नीति 2020 के नवीन पाठ्यक्रम संरचना 5 + 3 + 3 + 4 के अनुसार, मुलभूत चरण में कौन-कौन सी कक्षाएं आती है?
- A. केवल कक्षा 1-2
 B. आँगनवाड़ी, पूर्व प्राथमिक विद्यालय, बालवाटिका
 C. आँगनवाड़ी, पूर्व प्राथमिक विद्यालय, बालवाटिका और द्विवर्षीय कक्षा 1-2
 D. आँगनवाड़ी से कक्षा 5 तक
34. एक अर्थव्यवस्था में, यदि अर्थव्यवस्था के कुल उत्पादन में उसके प्राथमिक क्षेत्र का हिस्सा 50% या उससे अधिक है, तो उसे कहा जाता है-
- A. औद्योगिक अर्थव्यवस्था
 B. सेवा अर्थव्यवस्था
 C. कृषि अर्थव्यवस्था
 D. नियंत्रित अर्थव्यवस्था
35. 'एन - प्रोटीन' का संबंध किससे पाया गया है?
- A. कोरोना वायरस
 B. मानव प्रतिरक्षा प्रणाली
 C. पौधे पोषक तत्व
 D. कुपोषण
36. कौन सा भारतीय जन-आंदोलन महात्मा गांधी के प्रसिद्ध दांडी मार्च के साथ शुरु हुआ था?
- A. खिलाफत आंदोलन
 B. असहयोग आंदोलन
 C. सविनय अवज्ञा आंदोलन
 D. भारत छोड़ो आंदोलन

SPACE FOR ROUGH WORK / रफ कार्य के लिये जगह



37. Which Commission mentioned that 'work experience' should be an essential part of the school curriculum?

- A. National Education Commission (1964-66)
- B. Secondary Education Commission (1952)
- C. Acharya Ramamurti Review Committee (1990)
- D. University Education Commission (1948-49)

38. National Education Policy 2020 recommended that a sports based 'School Preparation Module' will be developed for students. For which class this module will be prepared?

- A. Class-6
- B. Class-8
- C. Class-1
- D. Class-3

39. The ISRO successfully launched which earth observation satellite, in its first launch of the year 2022?

- A. EOS - 4
- B. EOS - 2
- C. EOS - 3
- D. EOS - 5

37. किस आयोग ने उल्लेख किया कि 'कार्य अनुभव' विद्यालयीन पाठ्यक्रम का अनिवार्य हिस्सा होना चाहिए?

- A. राष्ट्रीय शिक्षा आयोग (1964-66)
- B. माध्यमिक शिक्षा आयोग (1952)
- C. आचार्य राममूर्ति समीक्षा समिति (1990)
- D. विश्वविद्यालय शिक्षा आयोग (1948-49)

38. राष्ट्रीय शिक्षा नीति 2020 ने अनुशंसा की है कि, विद्यार्थियों के लिए खेल आधारित 'स्कूल तैयारी मॉड्यूल' बनाया जावेगा। किस कक्षा के लिए यह मॉड्यूल तैयार किया जावेगा?

- A. कक्षा-6
- B. कक्षा-8
- C. कक्षा-1
- D. कक्षा-3

39. इसरो ने वर्ष 2022 के अपने पहले प्रक्षेपण में किस पृथ्वी अवलोकन उपग्रह को सफलतापूर्वक लाँच किया?

- A. ईओएस - 4
- B. ईओएस - 2
- C. ईओएस - 3
- D. ईओएस - 5

SPACE FOR ROUGH WORK / रफ कार्य के लिये जगह



40. Who was the commander in chief of the rebel army in Delhi in the revolt of 1857?

- A. Azimullah Khan
- B. Nazib Khan
- C. Karim Khan
- D. Bakht Khan

41. Which of the following is an example of 'Parallel Cropping'?

- A. Wheat + Mustard
- B. Cotton + Wheat
- C. Sorghum + Potato
- D. Potato + Rice

42. Which of the following leaders signed the Tashkent agreement?

- A. Vallabhbhai Patel and Jinnah
- B. Jawaharlal Nehru and Ayub Khan
- C. Lal Bahadur Shastri and Ayub Khan
- D. Jawaharlal Nehru and Jinnah

43. Economic Survey 2021-22 has projected how much growth in India's GDP in FY (23) 2022-23?

- A. 8 – 8.5%
- B. 10.5%
- C. 9.2%
- D. 7 – 7.5%

40. 1857 के विद्रोह में दिल्ली में विद्रोही सेना का मुख्य सेनापति कौन था?

- A. अजीमुल्ला खाँ
- B. नजीब खाँ
- C. करीम खाँ
- D. बख्त खाँ

41. निम्नलिखित में से कौन 'समानान्तर फसल' का उदाहरण है?

- A. गेहूँ + सरसों
- B. कपास + गेहूँ
- C. ज्वार + आलू
- D. आलू + चावल (धान)

42. निम्नलिखित में से किन नेताओं ने ताशकंद समझौते पर हस्ताक्षर किए?

- A. वल्लभ भाई पटेल एवं जिन्ना
- B. जवाहरलाल नेहरू एवं अयूब खाँ
- C. लाल बहादुर शास्त्री एवं अयूब खाँ
- D. जवाहरलाल नेहरू एवं जिन्ना

43. आर्थिक सर्वेक्षण 2021 – 22 ने वित्त वर्ष (23) 2022-23 में भारत की जीडीपी में कितनी वृद्धि का अनुमान लगाया है?

- A. 8 – 8.5%
- B. 10.5%
- C. 9.2%
- D. 7 – 7.5%

SPACE FOR ROUGH WORK / रफ कार्य के लिये जगह



44. Red colour of soil is caused by which of the following?
 A. Aluminium Compounds
 B. Iron Compound
 C. Mercury Compounds
 D. Clay
45. Gini coefficient or Gini ratio can be associated with which one of the following measurements in an economy?
 A. Rate of Inflation
 B. Poverty Index
 C. Income inequality
 D. Personal income
46. If Vice President is working as acting President and Office of Deputy Chairman of Rajya Sabha is vacant, who will preside over the meetings of Rajya Sabha?
 A. A person appointed by President
 B. A member appointed by President
 C. Deputy Chairman will be elected by Rajya Sabha
 D. A member as determined by the rules of procedure of Rajya Sabha
47. Which of the following is related to the Yashpal Committee Report (1993)?
 A. Learning through broadcasting
 B. Learning without burden
 C. Information and Communication Technology (ICT) in Education
 D. Learning by Insight
44. मिट्टी का लाल रंग निम्नलिखित में से किसके कारण होता है?
 A. एल्युमिनियम यौगिक
 B. लौह यौगिक
 C. पारा यौगिक
 D. मिट्टी
45. गिनी गुणांक या गिनी अनुपात को अर्थव्यवस्था में निम्नलिखित में से किस माप से जोड़ा जा सकता है?
 A. मुद्रास्फीति की दर
 B. गरीबी सूचकांक
 C. आय असमानता
 D. व्यक्तिगत आय
46. यदि उपराष्ट्रपति, राष्ट्रपति के रूप में कार्य कर रहा हो और राज्य सभा में उपसभापति का पद रिक्त हो तो राज्यसभा की बैठकों की अध्यक्षता कौन करेगा?
 A. राष्ट्रपति द्वारा नियुक्त एक व्यक्ति
 B. राष्ट्रपति द्वारा नियुक्त एक सदस्य
 C. उपसभापति का निर्वाचन राज्यसभा करेगी
 D. एक सदस्य जो राज्यसभा के नियमों के द्वारा अवधारित किया गया है
47. इनमें से किसका संबंध यशपाल कमेटी रिपोर्ट (1993) से है?
 A. प्रसारण के द्वारा सीखना
 B. बिना बोझ के सीखना
 C. शिक्षा में सूचना और संचार तकनीक
 D. सूझ के द्वारा सीखना

SPACE FOR ROUGH WORK / रफ कार्य के लिये जगह



48. 'Operation Black Board' is related to which of the following?
- Providing Black Board in all schools
 - Promote the use of Black Board in the schools
 - Providing basic facilities in schools
 - Increasing enrollment of students in schools
49. Which city has been the hottest place on earth with a record 53.2 degree Celsius?
- Chennai
 - Dubai
 - Kuwait
 - Delhi
50. Which of the following is the longest river in India?
- Godavari*
 - Brahmaputra*
 - Indus**
 - Ganga*

48. निम्नलिखित में से 'ऑपरेशन ब्लैक बोर्ड' का संबंध किससे है?
- सभी विद्यालयों में ब्लैक बोर्ड उपलब्ध कराने से
 - विद्यालयों में ब्लैक बोर्ड के उपयोग को बढ़ावा देने के लिए
 - विद्यालयों में मुलभूत सुविधाएं उपलब्ध कराने से
 - विद्यालयों में विद्यार्थियों का नामांकन बढ़ाने से
49. रिकार्ड 53.2 डिग्री सेल्सियस के साथ कौन सा शहर पृथ्वी पर सबसे गर्म स्थान रहा है?
- चेन्नई
 - दुबई
 - कुवैत
 - दिल्ली
50. निम्नलिखित में से कौन भारत की सबसे लंबी नदी है?
- गोदावरी
 - ब्रह्मपुत्र
 - सिंधु
 - गंगा

SPACE FOR ROUGH WORK / रफ कार्य के लिये जगह



PART - III

Educational Interest

शिक्षण अभिरुचि

51. Students should choose the subject-
- A. On the basis of usefulness of the subject
 - B. As per the wishes of the parents
 - C. As per the instructions of the teachers
 - D. According to their ability and interest
52. If a student is consistently late to school, then-
- A. complain to his parents
 - B. find out its reasons
 - C. expel the student from the school
 - D. punish him in front of all the students
53. Modern cinema influences the students-
- A. In running away from home
 - B. In daydreaming
 - C. In carrying out creative tasks
 - D. In appearance resembling actors
54. Communication in the classroom depends on-
- A. On the ability of the teacher to explain
 - B. On the difficulty level of the subject
 - C. On the merit of the students
 - D. On the classroom interaction
51. विद्यार्थियों को विषय का चयन करना चाहिये-
- A. विषय की उपयोगिता के आधार पर
 - B. अभिभावकों की इच्छानुसार
 - C. शिक्षक के दिशा निर्देश के अनुसार
 - D. उनकी क्षमता व रुचि के अनुसार
52. यदि एक छात्र लगातार विद्यालय में विलंब से आता है, तो-
- A. उसके अभिभावकों से शिकायत करेंगे
 - B. इसके कारणों का पता लगाएंगे
 - C. छात्र को विद्यालय से निकाल देंगे
 - D. सभी छात्रों के सामने उसे दंडित करेंगे
53. आधुनिक सिनेमा छात्रों को प्रभावित करता है-
- A. घर से पलायन में
 - B. दिवास्वप्नों में रत रहने में
 - C. रचनात्मक कार्यों को पूरा करने में
 - D. अभिनेताओं जैसा दिखने दिखाने में
54. कक्षा-कक्ष में संचार निर्भर करता है-
- A. शिक्षक की स्पष्ट करने की क्षमता पर
 - B. विषय की कठिनाई स्तर पर
 - C. विद्यार्थियों की योग्यता पर
 - D. कक्षा अंतःक्रिया पर

SPACE FOR ROUGH WORK / रफ कार्य के लिये जगह



55. The best assessment of teacher's ability and behaviour is done by equivalence-

- A. Their headmaster
- B. His students
- C. Elite people of the society
- D. Expert scholar

56. It is necessary to give the details of the progress of the students to the parents-

- A. It enables parents to know the progress of their children
- B. It gives proper advice to the parents for applying tuitions
- C. It keeps fear in children
- D. Children can not give wrong information to parents

57. According to you what should be the aim of education?

- A. Job after getting education
- B. Development of mental ability of the students
- C. To make students efficient literate
- D. All round development of children

55. अध्यापक की योग्यता एवं व्यवहार का सबसे अच्छा मूल्यांकन तुल्यता करते हैं-

- A. उनके प्रधानाध्यापक
- B. उनके छात्र
- C. समाज के सम्भ्रात लोग
- D. विशेषज्ञ विद्वान

56. छात्रों की प्रगति का ब्यौरा अभिभावकों को देना आवश्यक है-

- A. इससे अधिभावक अपने बच्चों की प्रगति जान सकते है
- B. इससे अधिभावक को ट्यूशन लगाने की उचित सलाह मिलती है
- C. इससे बच्चों में डर बना रहता है
- D. बच्चे अधिभावकों को गलत जानकारी नहीं दे सकते

57. आपके अनुसार शिक्षा का उद्देश्य क्या होना चाहिये?

- A. शिक्षा ग्रहण करने के उपरांत नौकरी
- B. छात्रों की मानसिक योग्यता का विकास
- C. छात्रों को कुशल साक्षर बनाना
- D. बालकों का संपूर्ण विकास

SPACE FOR ROUGH WORK / रफ कार्य के लिये जगह



58. The responsibility of the country will rest on shoulders of today's children. What is the meaning of this statement?

- A. Children's shoulders should be strengthened
- B. Children should be given physical training in schools
- C. Attention should be paid to the proper development of children
- D. Less load should be kept on the children

59. It is believed that female teachers are more suitable for primary level education because-

- A. They work with children patiently and lovingly
- B. They have less opportunity for other occupation
- C. They agree to work for less wages
- D. There is no need of any qualification for primary education

60. How can moral values be included in the students?

- A. By morning prayer
- B. Giving lectures on moral values
- C. Relating to the curriculum
- D. By telling the life story of great people

58. आज के बच्चों के कंधों पर ही कल देश का दायित्व होगा। इस कथन का क्या आशय है?

- A. बच्चों का कंधा मजबूत करना चाहिये।
- B. बच्चों को स्कूल में शारीरिक प्रशिक्षण देना चाहिये।
- C. बच्चों के समुचित विकास पर ध्यान देना चाहिये।
- D. बच्चों पर कम भार रखना चाहिये।

59. माना जाता है कि महिला शिक्षक प्राथमिक स्तर की शिक्षा के लिये अधिक उपयुक्त है, क्योंकि-

- A. वे बच्चों के साथ धैर्यपूर्वक और प्यार से काम करती है
- B. उनके पास अन्य व्यवसायों के लिये कम अवसर हैं
- C. वे कम वेतन पर काम करने के लिये सहमत होती है
- D. प्राथमिक शिक्षा के लिये कुछ योग्यता की कोई आवश्यकता नहीं है

60. विद्यार्थियों में नैतिक मूल्य किस प्रकार पैदा किये जा सकते हैं?

- A. सुबह की प्रार्थना द्वारा
- B. नैतिक मूल्यों पर व्याख्यान देकर
- C. पाठ्यक्रम के साथ संबंधित करके
- D. महान व्यक्तियों की जीवनगाथा बताकर

SPACE FOR ROUGH WORK / रफ कार्य के लिये जगह



61. The best means to study the evil prevailing in the society are-
- Contact with students
 - Contact with parents
 - Social survey
 - Book study
62. How does a teacher establish a good relationship with his students?
- Always making them laugh
 - Keeping proper distance from them
 - Diagnosing their problems after listening to them
 - By making students his best friends
63. What is teaching?
- A skill
 - An art
 - An action only
 - A penance
64. By whom should teachers be evaluated?
- By the inspecting officers
 - By their concurrent and higher officers
 - By society
 - By his students
61. निकट समाज में व्याप्त बुराईयों का अध्ययन करने का सर्वोत्तम साधन है-
- छात्रों से संपर्क
 - अभिभावकों से संपर्क
 - सामाजिक सर्वेक्षण
 - पुस्तक अध्ययन
62. एक शिक्षक अपने छात्रों से मधुर संबंध किस प्रकार स्थापित करता है?
- उन्हें सदैव हंसी मजाक करके
 - उनसे उचित दूरी बनाकर
 - उनकी समस्याओं को सुनने के बाद उनका निदान करके
 - छात्रों को अपना परम मित्र बनाकर
63. शिक्षण क्या है?
- एक कौशल
 - एक कला
 - एक क्रिया मात्र
 - एक तपस्या
64. शिक्षकों का मूल्यांकन किसके द्वारा होना चाहिये?
- निरीक्षण अधिकारियों द्वारा
 - उसके समवर्ती और उच्च अधिकारियों द्वारा
 - समाज द्वारा
 - उनके शिक्षार्थियों द्वारा

SPACE FOR ROUGH WORK / रफ कार्य के लिये जगह



65. If there is politically debate going on, you -----
- Will actively participate
 - Will enjoy
 - Will be on one side
 - Will not pay attention
66. As a teacher, in which work would you like to spend your evening time?
- In discussing politics
 - In entertainment activities
 - In other work of getting money
 - Social work
67. A teacher should use audio-visual aids because-
- A students are interested in the lesson.
 - Keeps the attention of the students focused in the studies.
 - It is helpful in providing real form to knowledge and in diversifying the lesson.
 - All of the above
68. For the development of creative thinking in the class, the teacher should-
- Keep an open environment
 - Keep the students under control
 - Do not let them deviate from the traditions
 - Provide them the right education at every step

65. यदि कहीं राजनीतिक बहस हो रही है, तो आप-
- सक्रिय रूप से भाग लेंगे
 - आनंद लेंगे
 - किसी एक पक्ष की ओर रहेंगे
 - ध्यान ही नहीं देंगे
66. एक अध्यापक के रूप में, आप अपना शाम का समय किस कार्य में लगाना पसंद करेंगे?
- राजनीति की चर्चा करने में
 - मनोरंजन कार्यों में
 - धनप्राप्ति के अन्य कार्य में
 - सामाजिक कार्य में
67. एक अध्यापक को दृश्य-श्रव्य सामग्री का उपयोग करना चाहिये, क्योंकि-
- छात्रों की पाठ में रूचि रहती है।
 - छात्रों का ध्यान पढ़ाई में केन्द्रित रहता है।
 - ज्ञान को वास्तविक रूप प्रदान करने एवं पाठ में विविधता लाने में सहायक होती है।
 - उपरोक्त सभी
68. कक्षा में सृजनात्मक चिन्तन के विकास हेतु शिक्षक को चाहिये कि वह कक्षा में-
- उन्मुक्त वातावरण रखे
 - छात्रों को नियंत्रित रखें
 - उन्हे परम्पराओं से न हटने दे
 - कदम-कदम पर उनको सही शिक्षा प्रदान करें

SPACE FOR ROUGH WORK / रफ कार्य के लिये जगह



69. What will you do if there is a shortage of teaching aids in the school?

- A. Will teach without any auxiliary material
- B. Will not care about all these
- C. Will use self – made auxiliary material
- D. Will complain to higher authorities

70. Which of the following book would a teacher like?

- A. Mental ability
- B. Gita
- C. General knowledge
- D. Methods of teaching

71. All round development of the students can be done-

- A. By providing good educational facilities
- B. By making them aware of social responsibility
- C. By giving knowledge of self interest in the students
- D. By giving them money

72. How is it possible to improve education?

- A. Administrative reforms
- B. By changing the examination pattern
- C. By spending more money on education
- D. By appointing best teachers

69. यदि विद्यालय में शिक्षण सहायक सामग्री का अभाव है, तो आप क्या करेंगे?

- A. बिना सहायक सामग्री के शिक्षण करेंगे
- B. इन सबकी परवाह नहीं करेंगे
- C. स्वनिर्मित सहायक सामग्री का प्रयोग करेंगे
- D. उच्च अधिकारियों से शिकायत करेंगे

70. एक शिक्षक निम्नलिखित में से कौन सी पुस्तक पसंद करेगा?

- A. मानसिक योग्यता
- B. गीता
- C. सामान्य ज्ञान
- D. शिक्षण की विधियाँ

71. छात्रों का सर्वांगीण विकास किया जा सकता है-

- A. अच्छी शिक्षण सुविधा देकर
- B. सामाजिक दायित्व का बोध करवा कर
- C. छात्रों में स्वयं के हित का ज्ञान देकर
- D. उनको धन देकर

72. शिक्षा में सुधार किस प्रकार संभव हैं?

- A. प्रशासनिक सुधार द्वारा
- B. परीक्षा पद्धति में परिवर्तन करके
- C. शिक्षा पर अधिक धन खर्च करके
- D. श्रेष्ठ शिक्षकों की नियुक्ति करके

SPACE FOR ROUGH WORK / रफ कार्य के लिये जगह



73. A successful teacher is one who -----
A. gives good marks
B. looks after the regular homework
C. maintains strict discipline
D. remains aware of the progress of the students

74. Teaching should be done mainly by ----
A. By skilled and trained teachers
B. By untrained person
C. By experienced teachers
D. By young talented persons

75. Successful leadership is-
A. Democratic
B. Monarchical
C. Group based
D. Dictatorship

76. While using ICT in classroom teaching-
A. There will be no need of teacher
B. The work load for the teacher will be more
C. The teacher's role will be that of a co-ordinator
D. The role of a teacher will become central

77. What does the development of the nation depend on?
A. on human means
B. on forest resources
C. on mineral resources
D. on physical means

73. सफल शिक्षक वहीं हैं, जो -----
A. अच्छे अंक देता हैं
B. नियमित गृहकार्य देखता हैं
C. कठोर अनुशासन रखता हैं
D. छात्रों की प्रगति के प्रति सजग रहता हैं

74. शिक्षण मुख्य रूप से ----- द्वारा किया जाना चाहिये।
A. कुशल एवं प्रशिक्षित शिक्षकों द्वारा
B. अप्रशिक्षित व्यक्ति द्वारा
C. अनुभवी शिक्षकों द्वारा
D. युवा प्रतिभाशाली व्यक्तियों द्वारा

75. सफल नेतृत्व होता है-
A. प्रजातांत्रिक
B. राजतांत्रिक
C. समूह आधारित
D. तानाशाही

76. कक्षा शिक्षण में ICT प्रयुक्त करते समय-
A. अध्यापक की आवश्यकता नहीं रहेगी
B. अध्यापक के लिये कार्यभार अधिक ले जावेगा
C. अध्यापक की भूमिका समन्वयक के रूप में रहेगी
D. अध्यापक की भूमिका केन्द्रीय हो जावेगी

77. राष्ट्र का विकास किस पर निर्भर करता है?
A. मानवीय साधनों पर
B. वन साधनों पर
C. खनीज पदार्थ साधनों पर
D. भौतिक साधनों पर

SPACE FOR ROUGH WORK / रफ कार्य के लिये जगह



78. Suppose one exceptional student sitting in your class and gives quick answers to all your questions. What will you do in relation to your students?

- A. You will ask comparatively difficult questions and explain to be him not impatient.
- B. You understand that he should immediately give all the answers so that you can be free from your responsibilities.
- C. You will say that being impatient in class is inappropriate behaviour.
- D. You will ask highly complicated question to the student, so that he will realize that you are one of the best teachers.

79. What will you do if your exam result is not good?

- A. Will blame the students
- B. Will consider himself guilty
- C. Will not care
- D. Will try to know the reason

80. This is the reason for the highest dropout rate in rural areas-

- A. Irrelevant courses
- B. Poverty
- C. Zeal for quick employment
- D. Inappropriate inter-personal relationship with teachers

78. मान लीजिए आपकी कक्षा में एक प्रतिभाशाली छात्र बैठा है और आपके सभी प्रश्नों के त्वरित उत्तर देता है। आप अपने छात्र के संबंध में क्या करेंगे?

- A. आप तुलनात्मक रूप से कठिन प्रश्न पूछेंगे और उसे अधिर न होने के लिये समझायेंगे।
- B. आप समझते हैं कि उसे तुरंत सभी उत्तर दे देने चाहिये, ताकि आप अपनी जिम्मेदारियों से मुक्त हो सकें।
- C. आप उसे कहेंगे कि कक्षा में अधिर होना अनुपयुक्त व्यवहार है।
- D. आप विद्यार्थी से अत्यधिक जटिल प्रश्न पूछेंगे जिससे यह अहसास हो कि आप सबसे अच्छे शिक्षकों में से एक हैं।

79. यदि आपका परीक्षा परिणाम अच्छा नहीं है, तो आप क्या करेंगे?

- A. विद्यार्थियों को दोषी बताएंगे
- B. स्वयं को दोषी समझेंगे
- C. परवाह नहीं करेंगे
- D. कारण जानने का प्रयत्न करेंगे

80. ग्रामीण क्षेत्रों में विद्यालय छोड़ने वालों की सर्वाधिक दर का कारण है-----

- A. अप्रासंगिक पाठ्यक्रम
- B. गरीबी
- C. त्वरित रोजगार के लिये उत्सुकता
- D. शिक्षकों के साथ अनुपयुक्त पारस्परिक संबंध

SPACE FOR ROUGH WORK / रफ कार्य के लिये जगह



PART – IV

General Hindi

सामान्य हिन्दी

81. "ईश्वर करे, सब स्वस्थ रहें" कौन सा वाक्य है?
- A. संकेतवाचक
B. इच्छावाचक
C. प्रश्नवाचक
D. संदेहवाचक
82. संज्ञा के जिस रूप से वस्तु की जाति का बोध होता है, उसे कहते हैं-
- A. कारक
B. वचन
C. काल
D. लिंग
83. कौन सा स्त्रीलिंग शब्द है?
- A. तिल
B. आहार
C. भील
D. छाछ
84. स्वरों के निश्चित चिन्हों को कहते हैं-
- A. मात्रा
B. विराम
C. अनुस्वार
D. चंद्रबिंदु
85. लोटा शब्द है-
- A. तत्सम
B. तद्भव
C. विदेशी
D. देशज
86. 'गंगा नहाना' का अर्थ है-
- A. सत्य बोलने के लिए तैयार होना
B. पवित्र होना
C. कार्य पूरा कर के निश्चित होना
D. गंगा की आराधना करना
87. 'आजीवन' कौन सा समास है?
- A. कर्मधारय
B. द्विगु
C. अव्ययीभाव
D. बहुब्रीहि
88. भाषा के शुद्ध रूप का ज्ञान किससे होता है?
- A. लिपि
B. लिखित भाषा
C. व्याकरण
D. पठन

SPACE FOR ROUGH WORK / रफ कार्य के लिये जगह



89. 'जो इंद्रियों द्वारा जाना न जा सके' के लिए एक शब्द क्या है?

- A. अछूता
- B. अगोचर
- C. अज्ञात
- D. अग्रणी

90. अशुद्ध शब्द को पहचानिए-

- A. भावुकता
- B. सूची
- C. उज्ज्वल
- D. साहित्यिक

SPACE FOR ROUGH WORK / रफ कार्य के लिये जगह



PART - V

General English

सामान्य अंग्रेजी

Read the following passage:

After dinner, all the gang turned out to hunt for turtle eggs on the bar. They went about poking sticks into the sand and when they found a soft place they went down on their knees and dug with their hands. Sometimes they would take fifty or sixty eggs out of one hole. They were perfectly round, white things, a trifle smaller than an English Walnut. They had a famous fried-egg feast that night and another on Friday morning. After breakfast they went whooping and prancing out of the bar and chased each other round and round, shedding clothes as they went, until they were naked and then continued the frolic far away up the shoal water of the bar, against the stiff current, which later tripped their legs from under them from time to time, and greatly increased the fun. And now and then they stood in a group and splashed water in each other's faces with their palms, gradually approaching each other with averted faces, to avoid the straggling sprays and finally gripping and struggling till the best man ducked his neighbour and then they all went under in a tangle of white legs and arms and came up blowing, sputtering, laughing and gasping for breath at one and the same time.

Now answer question nos. from 91 to 93 based on the above passage.

91. What effect did the stiff current have upon the gang?
- A. It splashed water in each other's faces.
 - B. It tripped their legs from under them.
 - C. It greatly increased the fun.
 - D. Both B and C.
92. In the given passage the word 'bar' appears thrice. What is the meaning of it?
- A. a straight piece (as of wood or metal) that is longer than it is wide and has any of various uses (as for a lever, support, barrier, or fastening)
 - B. a submerged or partly submerged bank (as of sand) along a shore or in a river often obstructing navigation
 - C. a solid piece or block of material that is longer than it is wide
 - D. something that obstructs or prevents passage, progress or action
93. Read the line, 'They were perfectly round, white things, a trifle smaller than an English walnut'.
- This line describes the -
- A. The breakfast
 - B. The famous fried-egg feast
 - C. The turtle eggs
 - D. Splashing of water

SPACE FOR ROUGH WORK / रफ कार्य के लिये जगह



94. Given is a statement-

Rajesh is opening a new pizza shop next week.

In light of the given statement, read the following arguments:-

- I. It indicates present time.
- II. It indicates futurity.

Now choose the correct option:-

- A. Only Argument I is correct
- B. Only Argument II is correct
- C. Both the Arguments I and II are correct
- D. Both the Arguments I and II are incorrect

95. Punctuate the given sentence-

what a great shot

- A. What a great shot?
- B. What a great shot!
- C. What? a great shot.
- D. What, a great shot?

96. There are some definite stages to writing an 'argumentative essay'. Here are some of them, but they are not in the proper order:-

- I. Writing the first draft
- II. Introduction of the argumentative text
- III. Developing a perspective
- IV. Final draft
- V. Peer-feedback and editing

Now, arrange them in the proper order.

- A. I – II – III – IV – V
- B. II – I – III – IV – V
- C. II – III – I – IV – V
- D. II – III – I – V – IV

97. Give the one word for the following expression-

'an official written record of what is discussed or decided at a formal meeting'.

- A. Report
- B. Summary
- C. Reportage
- D. Minutes

98. While writing a paragraph, we keep 'cohesion and coherence' in mind.

- A. Cohesion is the sense – connection
- B. Coherence is the logical connection
- C. Both A and B
- D. 'Cohesion and coherence' mean the same idea

SPACE FOR ROUGH WORK / रफ कार्य के लिये जगह



99. Read the following statement from a notarized rent agreement:-

'The tenant **shall** pay the rent in advance.'

Here the word 'shall' expresses-

- A. Futurity
- B. Volition
- C. Legal binding
- D. Indication

100. Which of the following is not a member of word family 'wit'?

- A. witty
- B. witness
- C. outwit
- D. witticism

SPACE FOR ROUGH WORK / रफ कार्य के लिये जगह



SPACE FOR ROUGH WORK / रफ कार्य के लिये जगह

SPACE FOR ROUGH WORK / रफ कार्य के लिये जगह



उत्तर अंकित करने का समय : 2 घंटे
Time for making answers : 2 Hours

अधिकतम अंक : 100
Maximum Marks : 100

नोट :

1. इस प्रश्न पुस्तिका में 100 प्रश्न हैं – प्रत्येक प्रश्न 01 अंक का है। सभी प्रश्न करने अनिवार्य हैं।

भाग	विवरण	प्रश्नों की संख्या	अंक
I	सामान्य मानसिक योग्यता	30	30
II	सामान्य ज्ञान	20	20
III	शिक्षण अभिरुचि	30	30
IV	सामान्य हिन्दी	10	10
V	सामान्य अंग्रेजी	10	10

2. प्रश्नों के उत्तर, दी गई OMR उत्तर-शीट (answer sheet) पर अंकित कीजिए।
3. ऋणात्मक मूल्यांकन नहीं किया जावेगा।
4. किसी भी तरह के कैलकुलेटर या लॉग टेबल एवं मोबाइल फोन का प्रयोग वर्जित है।
5. OMR उत्तर-शीट (answer sheet) का प्रयोग करते समय ऐसी कोई असावधानी न बरतें जिससे यह फट जाये या उसमें मोड़ या सिलवट आदि पड़ जाये या वह खराब हो जाये।

Note :

1. This question booklet contains 100 questions each question carries 01 mark.
All questions are compulsory.

Part	Particular	No. of Questions	Marks
I	General Mental Eligibility	30	30
II	General Knowledge	20	20
III	Educational Interest	30	30
IV	General Hindi	10	10
V	General English	10	10

2. Indicate your answers on the OMR answer sheet provided.
3. No negative marking will be done.
4. Use of any type of calculator or log table and mobile phone is prohibited.
5. While using answer-sheet care should be taken so that the answer sheet does not get torn or spoiled due to folds or wrinkles.

SPACE FOR ROUGH WORK / रफ कार्य के लिये जगह

