

# National Testing Agency

**Question Paper Name :** 18S3  
**Subject Name :** 18Jun2023 Shift3 Subject Combination 1  
**Creation Date :** 2023-06-18 22:37:53  
**Duration :** 690  
**Total Marks :** 3050  
**Display Marks:** Yes

## English

**Group Number :** 1  
**Group Id :** 485584768  
**Group Maximum Duration :** 45  
**Group Minimum Duration :** 45  
**Show Attended Group? :** No  
**Edit Attended Group? :** No  
**Break time :** 0  
**Group Marks :** 200  
**Is this Group for Examiner? :** No  
**Examiner permission :** Cant View  
**Show Progress Bar? :** No

## English

**Section Id :** 485584886  
**Section Number :** 1  
**Section type :** Online  
**Mandatory or Optional :** Mandatory  
**Number of Questions :** 50  
**Number of Questions to be attempted :** 40  
**Section Marks :** 200  
**Enable Mark as Answered Mark for Review and Clear Response :** Yes  
**Maximum Instruction Time :** 0  
**Sub-Section Number :** 1  
**Sub-Section Id :** 4855842506  
**Question Shuffling Allowed :** No  
**Is Section Default? :** null

**Question Number : 1 Question Id : 48558433946 Question Type : MCQ Option Shuffling : No Is Question Mandatory : No  
Calculator : None Response Time : N.A Think Time : N.A Minimum Instruction Time : 0**

**Correct Marks : 5 Wrong Marks : 1**

**Question Key Details :**

Key	Value
Comprehension	Compl

Read the following literary passage. Answer Questions:-

**No Man is an Island**

No man is an island,  
Entire of itself,  
Every man is a piece of the continent,  
A part of the main,  
if a clod be washed away by the sea,  
Europe is the less.  
As well as if a promontory were,  
As well as if a manor of the friend's  
Or of thine own were:  
Any man's death diminishes me,  
Because I am involved in mankind,  
and therefore never send to know for whom the bell tolls;  
It tolls for thee.

What is the essential idea of the passage?

1. The passage signifies a connection between all of humankind.
2. The passage signifies that all aquatic animals are connected.
3. The poet is uninvolved in mankind.
4. The poet wants to live in an island.

**Options :**

- 485584135781. 1
- 485584135782. 2
- 485584135783. 3
- 485584135784. 4

**Question Number : 2 Question Id : 48558433947 Question Type : MCQ Option Shuffling : No Is Question Mandatory : No Calculator : None Response Time : N.A Think Time : N.A Minimum Instruction Time : 0**

**Correct Marks : 5 Wrong Marks : 1**

**Question Key Details :**

Key	Value
Comprehension	Comp1

Read the following literary passage. Answer Questions:-

**No Man is an Island**

No man is an island,  
Entire of itself,  
Every man is a piece of the continent,  
A part of the main,  
if a clod be washed away by the sea,  
Europe is the less.  
As well as if a promontory were,  
As well as if a manor of the friend's  
Or of thine own were:  
Any man's death diminishes me,  
Because I am involved in mankind,  
and therefore never send to know for whom the bell tolls;  
It tolls for thee.

What is the meaning of the word 'clod'?

- 1. A ship
- 2. A child
- 3. Jellyfish
- 4. A lump of earth or clay

**Options :**

- 485584135785. 1
- 485584135786. 2
- 485584135787. 3
- 485584135788. 4

**Question Number : 3 Question Id : 48558433948 Question Type : MCQ Option Shuffling : No Is Question Mandatory : No Calculator : None Response Time : N.A Think Time : N.A Minimum Instruction Time : 0**

**Correct Marks : 5 Wrong Marks : 1**

**Question Key Details :**

Key	Value
Comprehension	Comp1

Read the following literary passage. Answer Questions:-

**No Man is an Island**

No man is an island,  
Entire of itself,  
Every man is a piece of the continent,  
A part of the main,  
if a clod be washed away by the sea,  
Europe is the less.  
As well as if a promontory were,  
As well as if a manor of the friend's  
Or of thine own were:  
Any man's death diminishes me,  
Because I am involved in mankind,  
and therefore never send to know for whom the bell tolls;  
It tolls for thee.

What is the name of the poetic device when there is a repetition of words/phrases at the beginning of successive lines?

- 1. Metaphor
- 2. Simili
- 3. Anaphera
- 4. Hyperbole

**Options :**

- 485584135789. 1
- 485584135790. 2
- 485584135791. 3
- 485584135792. 4

**Question Number : 4 Question Id : 48558433949 Question Type : MCQ Option Shuffling : No Is Question Mandatory : No Calculator : None Response Time : N.A Think Time : N.A Minimum Instruction Time : 0 Correct Marks : 5 Wrong Marks : 1**

**Question Key Details :**

Key	Value
Comprehension	Comp1

Read the following literary passage. Answer Questions:-

**No Man is an Island**

No man is an island,  
Entire of itself,  
Every man is a piece of the continent,  
A part of the main,  
if a clod be washed away by the sea,  
Europe is the less.  
As well as if a promontory were,  
As well as if a manor of the friend's  
Or of thine own were:  
Any man's death diminishes me,  
Because I am involved in mankind,  
and therefore never send to know for whom the bell tolls;  
It tolls for thee.

What does the clause "for whom the bell tolls" entail?

- 1. The arrival of a guest
- 2. The arrival of death
- 3. The Sunday church mass
- 4. Time to Pray

**Options :**

- 485584135793. 1
- 485584135794. 2
- 485584135795. 3
- 485584135796. 4

**Question Number : 5 Question Id : 48558433950 Question Type : MCQ Option Shuffling : No Is Question Mandatory : No Calculator : None Response Time : N.A Think Time : N.A Minimum Instruction Time : 0**

**Correct Marks : 5 Wrong Marks : 1**

**Question Key Details :**

Key	Value
Comprehension	Comp1

Read the following literary passage. Answer Questions:-

**No Man is an Island**

No man is an island,  
Entire of itself,  
Every man is a piece of the continent,  
A part of the main,  
if a clod be washed away by the sea,  
Europe is the less.  
As well as if a promontory were,  
As well as if a manor of the friend's  
Or of thine own were:  
Any man's death diminishes me,  
Because I am involved in mankind,  
and therefore never send to know for whom the bell tolls;  
It tolls for thee.

'No man is an Island' signifies that-

1. No man stands in isolation
2. All of humanity is connected
3. No man exists as a landmass
4. No island is inhabited by men

**Options :**

- 485584135797. 1
- 485584135798. 2
- 485584135799. 3
- 485584135800. 4

**Sub-Section Number :** 2  
**Sub-Section Id :** 4855842507  
**Question Shuffling Allowed :** No  
**Is Section Default? :** null

**Question Number : 6 Question Id : 48558433951 Question Type : MCQ Option Shuffling : No Is Question Mandatory : No Calculator : None Response Time : N.A Think Time : N.A Minimum Instruction Time : 0**

**Correct Marks : 5 Wrong Marks : 1**

**Question Key Details :**

Key	Value
Comprehension	Comp2

Read the passage and answer the question:

This is an age-old tale. A mother and her daughter Satto, lived in a village. During that time, the forests were full of fruits and flowers. The women and girls of the village used to go and pluck these fruits and flowers. All of them used to pluck the sweet flowers of the *mahua* (*Bassia Latifolia*) tree, stored them at home and consumed them later.

One day, all of them plucked the sweet flowers and kept them in their rooms without drying them. Satto's mother was not at home. Satto dried the sweet flowers. As the flowers died, they shrunk. Later on when Satto's mother came home, she found very little flowers and thought that either Satto had eaten the flowers or she had given them to the village girls. In her blind rage, she beat her daughter to death. The women and girls of the village told her that she killed her daughter for such a trivial issue. They asked her to soak the flowers in water. When she soaked the *mahuas*, they swelled up and the entire room was filled with the flowers. Satto's mother was full of remorse. She regretted the fact that she killed her daughter without thinking. She died because of grief.

She was reborn as the *pandak* bird. The *pandak* bird still sings this song-

'Daughter Satto, the *mahuas* were in proper quantity...'

According to the passage, What kind of tale is the translated story?

1. Fairy tale
2. Modern tale
3. Age-old tale
4. Disney tale

**Options :**

- 485584135801. 1
- 485584135802. 2
- 485584135803. 3
- 485584135804. 4

**Question Number : 7 Question Id : 48558433952 Question Type : MCQ Option Shuffling : No Is Question Mandatory : No Calculator : None Response Time : N.A Think Time : N.A Minimum Instruction Time : 0**

**Correct Marks : 5 Wrong Marks : 1**

**Question Key Details :**

Key	Value
Comprehension	Comp2

Read the passage and answer the question:

This is an age-old tale. A mother and her daughter Satto, lived in a village. During that time, the forests were full of fruits and flowers. The women and girls of the village used to go and pluck these fruits and flowers. All of them used to pluck the sweet flowers of the *mahua* (*Bassia Latifolia*) tree, stored them at home and consumed them later.

One day, all of them plucked the sweet flowers and kept them in their rooms without drying them. Satto's mother was not at home. Satto dried the sweet flowers. As the flowers dried, they shrunk. Later on when Satto's mother came home, she found very little flowers and thought that either Satto had eaten the flowers or she had given them to the village girls. In her blind rage, she beat her daughter to death. The women and girls of the village told her that she killed her daughter for such a trivial issue. They asked her to soak the flowers in water. When she soaked the *mahuas*, they swelled up and the entire room was filled with the flowers. Satto's mother was full of remorse. She regretted the fact that she killed her daughter without thinking. She died because of grief.

She was reborn as the *pandak* bird. The *pandak* bird still sings this song-

'Daughter Satto, the *mahuas* were in proper quantity...'

The antonym of the word 'remorse' is:

1. Regret
2. Rejoice
3. Repentance
4. Grief

**Options :**

- 485584135805. 1
- 485584135806. 2
- 485584135807. 3
- 485584135808. 4

**Question Number : 8 Question Id : 48558433953 Question Type : MCQ Option Shuffling : No Is Question Mandatory : No Calculator : None Response Time : N.A Think Time : N.A Minimum Instruction Time : 0**

**Correct Marks : 5 Wrong Marks : 1**

**Question Key Details :**

Key	Value
Comprehension	Comp2



Read the passage and answer the question:

This is an age-old tale. A mother and her daughter Satto, lived in a village. During that time, the forests were full of fruits and flowers. The women and girls of the village used to go and pluck these fruits and flowers. All of them used to pluck the sweet flowers of the *mahua* (*Bassia Latifolia*) tree, stored them at home and consumed them later.

One day, all of them plucked the sweet flowers and kept them in their rooms without drying them. Satto's mother was not at home. Satto dried the sweet flowers. As the flowers dried, they shrunk. Later on when Satto's mother came home, she found very little flowers and thought that either Satto had eaten the flowers or she had given them to the village girls. In her blind rage, she beat her daughter to death. The women and girls of the village told her that she killed her daughter for such a trivial issue. They asked her to soak the flowers in water. When she soaked the *mahuas*, they swelled up and the entire room was filled with the flowers. Satto's mother was full of remorse. She regretted the fact that she killed her daughter without thinking. She died because of grief.

She was reborn as the *pandak* bird. The *pandak* bird still sings this song-

'Daughter Satto, the *mahuas* were in proper quantity...'

As per the given passage, what was the mother reborn as?

1. an animal
2. a man
3. a woman
4. a bird

**Options :**

- 485584135809. 1
- 485584135810. 2
- 485584135811. 3
- 485584135812. 4

**Question Number : 9 Question Id : 48558433954 Question Type : MCQ Option Shuffling : No Is Question Mandatory : No Calculator : None Response Time : N.A Think Time : N.A Minimum Instruction Time : 0**

**Correct Marks : 5 Wrong Marks : 1**

**Question Key Details :**

Key	Value
Comprehension	Comp2

Read the passage and answer the question:

This is an age-old tale. A mother and her daughter Satto, lived in a village. During that time, the forests were full of fruits and flowers. The women and girls of the village used to go and pluck these fruits and flowers. All of them used to pluck the sweet flowers of the *mahua* (*Bassia Latifolia*) tree, stored them at home and consumed them later.

One day, all of them plucked the sweet flowers and kept them in their rooms without drying them. Satto's mother was not at home. Satto dried the sweet flowers. As the flowers dried, they shrunk. Later on when Satto's mother came home, she found very little flowers and thought that either Satto had eaten the flowers or she had given them to the village girls. In her blind rage, she beat her daughter to death. The women and girls of the village told her that she killed her daughter for such a trivial issue. They asked her to soak the flowers in water. When she soaked the *mahuas*, they swelled up and the entire room was filled with the flowers. Satto's mother was full of remorse. She regretted the fact that she killed her daughter without thinking. She died because of grief.

She was reborn as the *pandak* bird. The *pandak* bird still sings this song-

'Daughter Satto, the *mahuas* were in proper quantity...'

Why did the mother beat the daughter to death?

1. Because she went to pluck fruits and flowers without telling her.
2. Because Satto did not dry the flowers.
3. Because she thought Satto had eaten the flowers or given them to the village girls.
4. Because she was evil.

**Options :**

- 485584135813. 1
- 485584135814. 2
- 485584135815. 3
- 485584135816. 4

**Question Number : 10 Question Id : 48558433955 Question Type : MCQ Option Shuffling : No Is Question Mandatory : No Calculator : None Response Time : N.A Think Time : N.A Minimum Instruction Time : 0**

**Correct Marks : 5 Wrong Marks : 1**

**Question Key Details :**

Key	Value
Comprehension	Comp2

Read the passage and answer the question:

This is an age-old tale. A mother and her daughter Satto, lived in a village. During that time, the forests were full of fruits and flowers. The women and girls of the village used to go and pluck these fruits and flowers. All of them used to pluck the sweet flowers of the *mahua* (*Bassia Latifolia*) tree, stored them at home and consumed them later.

One day, all of them plucked the sweet flowers and kept them in their rooms without drying them. Satto's mother was not at home. Satto dried the sweet flowers. As the flowers dried, they shrunk. Later on when Satto's mother came home, she found very little flowers and thought that either Satto had eaten the flowers or she had given them to the village girls. In her blind rage, she beat her daughter to death. The women and girls of the village told her that she killed her daughter for such a trivial issue. They asked her to soak the flowers in water. When she soaked the *mahuas*, they swelled up and the entire room was filled with the flowers. Satto's mother was full of remorse. She regretted the fact that she killed her daughter without thinking. She died because of grief.

She was reborn as the *pandak* bird. The *pandak* bird still sings this song-

'Daughter Satto, the *mahuas* were in proper quantity...'

What happened Satto's mother soaked the flowers in water?

1. The entire room was filled with flowers as they soaked up
2. Satto came back to life
3. The flowers dissolved in water
4. The entire room was full of water

**Options :**

- 485584135817. 1
- 485584135818. 2
- 485584135819. 3
- 485584135820. 4

**Sub-Section Number :** 3  
**Sub-Section Id :** 4855842508  
**Question Shuffling Allowed :** No  
**Is Section Default? :** null

**Question Number : 11 Question Id : 48558433956 Question Type : MCQ Option Shuffling : No Is Question Mandatory : No Calculator : None Response Time : N.A Think Time : N.A Minimum Instruction Time : 0**

**Correct Marks : 5 Wrong Marks : 1**

**Question Key Details :**

Key	Value
Comprehension	Comp3

Once I was an archaeologist's assistant. I wandered up and down the country probing, exploring, and digging, in search of antiquities, a most interesting occupation, although cynics sometimes called us "grave-diggers." I enjoyed the work immensely. I had a master who was a famous archaeologist called Doctor something or other. He was superb, timeless being, who lived a thousand years behind the times, and who wanted neither food nor roof nor riches if only he was allowed to gaze on undisturbed at an old coin or chip of a burial urn.

He had torn up the earth in almost all parts of India and had brought to light very valuable information concerning the history and outlook of people of remote centuries. His monographs on each of his excavations filled several shelves in all the important libraries. And then, as our good fortune would have it, he received an inspiration that Malgudi district was eminently diggable. I am not competent to explain how he got this idea, but there it was. Word was brought to me that the great man was staying in the dak bungalow and was in need of an assistant. Within an hour of hearing it I stood before the great man. He was sitting on the floor with the most crazy collection of articles in front of him pots and beads and useless coins and palm leaves, all of them rusty and decaying. he had a lens by his side, through which he looked at these articles and made notes.

What does the branch of archaeology study?

1. Study of Soil
2. Study of past by excavating ground
3. Study of medicine
4. Study of minerals

**Options :**

- 485584135821. 1
- 485584135822. 2
- 485584135823. 3
- 485584135824. 4

**Question Number : 12 Question Id : 48558433957 Question Type : MCQ Option Shuffling : No Is Question Mandatory : No Calculator : None Response Time : N.A Think Time : N.A Minimum Instruction Time : 0**

**Correct Marks : 5 Wrong Marks : 1**

**Question Key Details :**

Key	Value
Comprehension	Comp3

Once I was an archaeologist's assistant. I wandered up and down the country probing, exploring, and digging, in search of antiquities, a most interesting occupation, although cynics sometimes called us "grave-diggers." I enjoyed the work immensely. I had a master who was a famous archaeologist called Doctor something or other. He was superb, timeless being, who lived a thousand years behind the times, and who wanted neither food nor roof nor riches if only he was allowed to gaze on undisturbed at an old coin or chip of a burial urn.

He had torn up the earth in almost all parts of India and had brought to light very valuable information concerning the history and outlook of people of remote centuries. His monographs on each of his excavations filled several shelves in all the important libraries. And then, as our good fortune would have it, he received an inspiration that Malgudi district was eminently diggable. I am not competent to explain how he got this idea, but there it was. Word was brought to me that the great man was staying in the dak bungalow and was in need of an assistant. Within an hour of hearing it I stood before the great man. He was sitting on the floor with the most crazy collection of articles in front of him pots and beads and useless coins and palm leaves, all of them rusty and decaying. he had a lens by his side, through which he looked at these articles and made notes.

Match List I with List II

LIST I		LIST II	
A.	The archaeologist had keen interest in	I.	all the important libraries
B.	The archaeologist was in need of	II.	almost all parts of India
C.	His monographs on excavations filled in	III.	old coin or chip of a burial urn
D.	The archaeologist had worked in	IV.	an assitant

Choose the correct answer from the options given below:

1. A-II, B-III, C-IV, D-I
2. A-III, B-IV, C-I, D-II
3. A-IV, B-III, C-II, D-I
4. A-I, B-III, C-II, D-IV

**Options :**

485584135825. 1  
 485584135826. 2  
 485584135827. 3  
 485584135828. 4

**Question Number : 13 Question Id : 48558433958 Question Type : MCQ Option Shuffling : No Is Question Mandatory : No Calculator : None Response Time : N.A Think Time : N.A Minimum Instruction Time : 0**

**Correct Marks : 5 Wrong Marks : 1**

**Question Key Details :**

Key	Value
Comprehension	Comp3

Once I was an archaeologist's assistant. I wandered up and down the country probing, exploring, and digging, in search of antiquities, a most interesting occupation, although cynics sometimes called us "grave-diggers." I enjoyed the work immensely. I had a master who was a famous archaeologist called Doctor something or other. He was superb, timeless being, who lived a thousand years behind the times, and who wanted neither food nor roof nor riches if only he was allowed to gaze on undisturbed at an old coin or chip of a burial urn.

He had torn up the earth in almost all parts of India and had brought to light very valuable information concerning the history and outlook of people of remote centuries. His monographs on each of his excavations filled several shelves in all the important libraries. And then, as our good fortune would have it, he received an inspiration that Malgudi district was eminently diggable. I am not competent to explain how he got this idea, but there it was. Word was brought to me that the great man was staying in the dak bungalow and was in need of an assistant. Within an hour of hearing it I stood before the great man. He was sitting on the floor with the most crazy collection of articles in front of him pots and beads and useless coins and palm leaves, all of them rusty and decaying. he had a lens by his side, through which he looked at these articles and made notes.

In which place did the archaeologist suddenly take interest?

1. Dark bungalow
2. Indian villages
3. Malgudi
4. Tamil Nadu

**Options :**

- 485584135829. 1
- 485584135830. 2
- 485584135831. 3
- 485584135832. 4

**Question Number : 14 Question Id : 48558433959 Question Type : MCQ Option Shuffling : No Is Question Mandatory : No Calculator : None Response Time : N.A Think Time : N.A Minimum Instruction Time : 0**

**Correct Marks : 5 Wrong Marks : 1**

**Question Key Details :**

Key	Value
Comprehension	Comp3

Once I was an archaeologist's assistant. I wandered up and down the country probing, exploring, and digging, in search of antiquities, a most interesting occupation, although cynics sometimes called us "grave-diggers." I enjoyed the work immensely. I had a master who was a famous archaeologist called Doctor something or other. He was superb, timeless being, who lived a thousand years behind the times, and who wanted neither food nor roof nor riches if only he was allowed to gaze on undisturbed at an old coin or chip of a burial urn.

He had torn up the earth in almost all parts of India and had brought to light very valuable information concerning the history and outlook of people of remote centuries. His monographs on each of his excavations filled several shelves in all the important libraries. And then, as our good fortune would have it, he received an inspiration that Malgudi district was eminently diggable. I am not competent to explain how he got this idea, but there it was. Word was brought to me that the great man was staying in the dak bungalow and was in need of an assistant. Within an hour of hearing it I stood before the great man. He was sitting on the floor with the most crazy collection of articles in front of him pots and beads and useless coins and palm leaves, all of them rusty and decaying. he had a lens by his side, through which he looked at these articles and made notes.

How do cynics called archaeologists 'grave-diggers'?

1. Mockingly
2. Proudly
3. Admirably
4. Sincerely

**Options :**

- 485584135833. 1
- 485584135834. 2
- 485584135835. 3
- 485584135836. 4

**Question Number : 15 Question Id : 48558433960 Question Type : MCQ Option Shuffling : No Is Question Mandatory : No Calculator : None Response Time : N.A Think Time : N.A Minimum Instruction Time : 0**

**Correct Marks : 5 Wrong Marks : 1**

**Question Key Details :**

Key	Value
Comprehension	Comp3

Once I was an archaeologist's assistant. I wandered up and down the country probing, exploring, and digging, in search of antiquities, a most interesting occupation, although cynics sometimes called us "grave-diggers." I enjoyed the work immensely. I had a master who was a famous archaeologist called Doctor something or other. He was superb, timeless being, who lived a thousand years behind the times, and who wanted neither food nor roof nor riches if only he was allowed to gaze on undisturbed at an old coin or chip of a burial urn.

He had torn up the earth in almost all parts of India and had brought to light very valuable information concerning the history and outlook of people of remote centuries. His monographs on each of his excavations filled several shelves in all the important libraries. And then, as our good fortune would have it, he received an inspiration that Malgudi district was eminently diggable. I am not competent to explain how he got this idea, but there it was. Word was brought to me that the great man was staying in the dak bungalow and was in need of an assistant. Within an hour of hearing it I stood before the great man. He was sitting on the floor with the most crazy collection of articles in front of him pots and beads and useless coins and palm leaves, all of them rusty and decaying. he had a lens by his side, through which he looked at these articles and made notes.

How do you know the archaeologist is an eminent figure?

1. He looked at old artifacts
2. His important monographs are in all reputed libraries
3. He needs an assistant
4. He used lens to inspect articles

**Options :**

- 485584135837. 1
- 485584135838. 2
- 485584135839. 3
- 485584135840. 4

**Sub-Section Number :** 4  
**Sub-Section Id :** 4855842509  
**Question Shuffling Allowed :** Yes  
**Is Section Default? :** null

**Question Number : 16 Question Id : 48558433961 Question Type : MCQ Option Shuffling : No Is Question Mandatory : No Calculator : None Response Time : N.A Think Time : N.A Minimum Instruction Time : 0 Correct Marks : 5 Wrong Marks : 1**

**Question Key Details :**

Key	Value
Comprehension	MCQ



Convert the following sentence in Passive Voice by choosing the appropriate answer from the given list.

The soldiers promptly obeyed his command.

1. The command should be obeyed might now, soldiers.
2. The command was promptly obeyed by the soldiers.
3. Obey the command promptly soldiers!
4. The command is promptly obeyed by the soldiers.

**Options :**

- 485584135841. 1
- 485584135842. 2
- 485584135843. 3
- 485584135844. 4

**Question Number : 17 Question Id : 48558433962 Question Type : MCQ Option Shuffling : No Is Question Mandatory : No Calculator : None Response Time : N.A Think Time : N.A Minimum Instruction Time : 0**

**Correct Marks : 5 Wrong Marks : 1**

**Question Key Details :**

Key	Value
Comprehension	MCQ

Change the following Passive Voice to Active Voice by choosing the right answer from the given list.

'Somebody has invited them to lunch tomorrow'.

1. They have been invited to lunch by somebody tomorrow
2. They will go to lunch somebody's house the following day.
3. They have been invited to lunch tomorrow
4. They will be invited to lunch the next day.

**Options :**

- 485584135845. 1
- 485584135846. 2
- 485584135847. 3
- 485584135848. 4

**Question Number : 18 Question Id : 48558433963 Question Type : MCQ Option Shuffling : No Is Question Mandatory : No Calculator : None Response Time : N.A Think Time : N.A Minimum Instruction Time : 0**

**Correct Marks : 5 Wrong Marks : 1**

**Question Key Details :**

Key	Value
Comprehension	MCQ

Fill in the blank with an appropriate question tag:

Let's go to the beach, \_\_\_\_\_?

1. Can we?
2. Should we?
3. Can't we?
4. Shall we?

**Options :**

- 485584135849. 1
- 485584135850. 2
- 485584135851. 3
- 485584135852. 4

**Question Number : 19 Question Id : 48558433964 Question Type : MCQ Option Shuffling : No Is Question Mandatory : No Calculator : None Response Time : N.A Think Time : N.A Minimum Instruction Time : 0**

**Correct Marks : 5 Wrong Marks : 1**

**Question Key Details :**

Key	Value
Comprehension	MCQ

From the given options, choose the appropriate meaning of the following phrase.

"AB INITIO".

1. at the end
2. from the beginning
3. to go to the gym
4. entry into a cult

**Options :**

- 485584135853. 1
- 485584135854. 2
- 485584135855. 3
- 485584135856. 4

**Question Number : 20 Question Id : 48558433965 Question Type : MCQ Option Shuffling : No Is Question Mandatory : No Calculator : None Response Time : N.A Think Time : N.A Minimum Instruction Time : 0**

**Correct Marks : 5 Wrong Marks : 1**

**Question Key Details :**

Key	Value
Comprehension	MCQ

From the given options, choose the meaning for the given foreign word:

"MAGNUM OPUS"

1. Masterpiece
2. the worst opponent
3. dark chocolate
4. posterity

**Options :**

485584135857. 1  
485584135858. 2  
485584135859. 3  
485584135860. 4

**Question Number : 21 Question Id : 48558433966 Question Type : MCQ Option Shuffling : No Is Question Mandatory : No Calculator : None Response Time : N.A Think Time : N.A Minimum Instruction Time : 0**

**Correct Marks : 5 Wrong Marks : 1**

**Question Key Details :**

Key	Value
Comprehension	MCQ

Choose the option that demonstrates the most appropriate use of articles

1. The Secretary and a Treasurer are absent
2. The Secretary and the Treasurer are absent
3. Secretary and Treasurer are absent
4. The Secretary and Treasurer are absent

**Options :**

485584135861. 1  
485584135862. 2  
485584135863. 3  
485584135864. 4

**Question Number : 22 Question Id : 48558433967 Question Type : MCQ Option Shuffling : No Is Question Mandatory : No Calculator : None Response Time : N.A Think Time : N.A Minimum Instruction Time : 0**

**Correct Marks : 5 Wrong Marks : 1**

**Question Key Details :**

Key	Value
Comprehension	MCQ

Fill in the blank with an appropriate Article.

I am subscribed \_\_\_\_\_ the New York Times journal.

1. with
2. for
3. from
4. to

**Options :**

- 485584135865. 1
- 485584135866. 2
- 485584135867. 3
- 485584135868. 4

**Question Number : 23 Question Id : 48558433968 Question Type : MCQ Option Shuffling : No Is Question Mandatory : No Calculator : None Response Time : N.A Think Time : N.A Minimum Instruction Time : 0**

**Correct Marks : 5 Wrong Marks : 1**

**Question Key Details :**

Key	Value
Comprehension	MCQ

From the given options, choose the most appropriate meaning of the word:

"CARTOGRAPHER"

1. one who draws maps
2. study of fossils
3. one who collects stamps
4. a number of cases

**Options :**

- 485584135869. 1
- 485584135870. 2
- 485584135871. 3
- 485584135872. 4

**Question Number : 24 Question Id : 48558433969 Question Type : MCQ Option Shuffling : No Is Question Mandatory : No Calculator : None Response Time : N.A Think Time : N.A Minimum Instruction Time : 0**

**Correct Marks : 5 Wrong Marks : 1**

**Question Key Details :**

Key	Value
Comprehension	MCQ

Match the words in List I with their appropriate Synonyms in List II

LIST I		LIST II	
A.	Mortuary	I.	Home for the destitute
B.	Cantonment	II.	A place where money is coined
C.	Mint	III.	A place where dead bodies are temporarily kept
D.	Asylum	IV.	A place where soldiers are quartered

Choose the correct answer from the options given below:

1. A-II, B-III, C-IV, D-I
2. A-IV, B-II, C-III, D-I
3. A-III, B-IV, C-I, D-II
4. A-III, B-IV, C-II, D-I

**Options :**

485584135873. 1  
485584135874. 2  
485584135875. 3  
485584135876. 4

**Question Number : 25 Question Id : 48558433970 Question Type : MCQ Option Shuffling : No Is Question Mandatory : No Calculator : None Response Time : N.A Think Time : N.A Minimum Instruction Time : 0**

**Correct Marks : 5 Wrong Marks : 1**

**Question Key Details :**

Key	Value
Comprehension	MCQ

Arrange the following headings of a formal letter in the correct order.

- A. Sender's address
- B. Salutation
- C. Receiver's address
- D. Subject
- E. Date

Choose the correct answer from the options given below:

1. B, A, C, E, D
2. E, D, C, A, B
3. A, B, C, D, E
4. A, E, C, D, B

**Options :**

485584135877. 1  
485584135878. 2  
485584135879. 3

**Question Number : 26 Question Id : 48558433971 Question Type : MCQ Option Shuffling : No Is Question Mandatory : No Calculator : None Response Time : N.A Think Time : N.A Minimum Instruction Time : 0**

**Correct Marks : 5 Wrong Marks : 1**

**Question Key Details :**

Key	Value
Comprehension	MCQ

Complete the given sentence by rearranging the jumbled phrases and form a coherent sentences. Choose the most appropriate option.

The lender's public meeting was disrupted.

P. by a section of the audience

Q. any firm assurance

R. he had not given them

S. who felt that

1. P, S, R, Q

2. Q, P, S, R

3. R, Q, P, S

4. S, R, Q, P

**Options :**

485584135881. 1

485584135882. 2

485584135883. 3

485584135884. 4

**Question Number : 27 Question Id : 48558433972 Question Type : MCQ Option Shuffling : No Is Question Mandatory : No Calculator : None Response Time : N.A Think Time : N.A Minimum Instruction Time : 0**

**Correct Marks : 5 Wrong Marks : 1**

**Question Key Details :**

Key	Value
Comprehension	MCQ

Choosing the most appropriate answer from the given list. Convert the following sentence in Direct Speech to Indirect Speech.

"I am guilty", the defended said.

1. The defendant admitted that he was guilty

2. The defendant accepted his guilt

3. The defendant said yes he was guilty

4. The guilty defendant accepted his fault

**Options :**

- 485584135885. 1
- 485584135886. 2
- 485584135887. 3
- 485584135888. 4

**Question Number : 28 Question Id : 48558433973 Question Type : MCQ Option Shuffling : No Is Question Mandatory : No Calculator : None Response Time : N.A Think Time : N.A Minimum Instruction Time : 0**

**Correct Marks : 5 Wrong Marks : 1**

**Question Key Details :**

Key	Value
Comprehension	MCQ

Choosing the most appropriate answer from the given list, convert the following sentence in Indirect speech to Direct speech.

I asked Sara whether Bill had given her that ring.

1. "Did Bill willing to give that ring?", I asked Sara.
2. "Did Bill give you that ring?", I asked Sara.
3. "Can Bill give you a ring?", I asked Sara.
4. "Should Bill give you rings?", I asked Sara.

**Options :**

- 485584135889. 1
- 485584135890. 2
- 485584135891. 3
- 485584135892. 4

**Question Number : 29 Question Id : 48558433974 Question Type : MCQ Option Shuffling : No Is Question Mandatory : No Calculator : None Response Time : N.A Think Time : N.A Minimum Instruction Time : 0**

**Correct Marks : 5 Wrong Marks : 1**

**Question Key Details :**

Key	Value
Comprehension	MCQ

Convert the following Exclamatory Sentence to Assertive Sentence:

What a Lovely House!

1. Oh! What a lovely house!
2. The house that I am looking at is very lonely
3. It was a very lovely house indeed
4. What a lovely house am I looking at

**Options :**

- 485584135893. 1
- 485584135894. 2
- 485584135895. 3

**Question Number : 30 Question Id : 48558433975 Question Type : MCQ Option Shuffling : No Is Question Mandatory : No Calculator : None Response Time : N.A Think Time : N.A Minimum Instruction Time : 0**

**Correct Marks : 5 Wrong Marks : 1**

**Question Key Details :**

Key	Value
Comprehension	MCQ

Fill in the blanks with the appropriate pair of Homonyms:

I heard an \_\_\_\_\_ when I was going to the tailor for \_\_\_\_\_.

1. alteration, altercation
2. altercation, alteration
3. alternative, alteration
4. alternative, altercation

**Options :**

485584135897. 1  
485584135898. 2  
485584135899. 3  
485584135900. 4

**Question Number : 31 Question Id : 48558433976 Question Type : MCQ Option Shuffling : No Is Question Mandatory : No Calculator : None Response Time : N.A Think Time : N.A Minimum Instruction Time : 0**

**Correct Marks : 5 Wrong Marks : 1**

**Question Key Details :**

Key	Value
Comprehension	MCQ

Arrange the following sentence in the proper order:

- A. for total destruction
- B. However, whether we have the capacity
- C. Remains debated
- D. through nuclear annihilation or such

Choose the correct answer from the options given below:

1. C, A, D, B
2. A, B, C, D
3. B, A, D, C
4. D, C, B, A

**Options :**

485584135901. 1  
485584135902. 2  
485584135903. 3



**Question Number : 32 Question Id : 48558433977 Question Type : MCQ Option Shuffling : No Is Question Mandatory : No Calculator : None Response Time : N.A Think Time : N.A Minimum Instruction Time : 0**

**Correct Marks : 5 Wrong Marks : 1**

**Question Key Details :**

Key	Value
Comprehension	MCQ

Choose the best option to convert the given Assertive Sentence into Exclamatory Sentence:

I wish I knew more people here.

1. If only I knew more people here!
2. What a pity to have known more people here.
3. Oh! Fie! I know nobody here.
4. Alas! I could have known more people here.

**Options :**

485584135905. 1  
485584135906. 2  
485584135907. 3  
485584135908. 4

**Question Number : 33 Question Id : 48558433978 Question Type : MCQ Option Shuffling : No Is Question Mandatory : No Calculator : None Response Time : N.A Think Time : N.A Minimum Instruction Time : 0**

**Correct Marks : 5 Wrong Marks : 1**

**Question Key Details :**

Key	Value
Comprehension	MCQ

Fill in the appropriate modals in List I with the sentences given in List II

LIST I		LIST II	
A.	How _____ you shout at your best friend?	I.	can
B.	_____ we go to the beach then?	II.	should
C.	No one _____ question the ways of God	III.	shall
D.	We _____ respect our elders	IV.	could

Choose the correct answer from the options given below:

1. A-I, B-IV, C-III, D-II
2. A-II, B-III, C-I, D-IV
3. A-IV, B-III, C-I, D-II
4. A-III, B-II, C-I, D-IV

**Options :**

485584135909. 1

485584135910. 2  
485584135911. 3  
485584135912. 4

**Question Number : 34 Question Id : 48558433979 Question Type : MCQ Option Shuffling : No Is Question Mandatory : No Calculator : None Response Time : N.A Think Time : N.A Minimum Instruction Time : 0**

**Correct Marks : 5 Wrong Marks : 1**

**Question Key Details :**

Key	Value
Comprehension	MCQ

Fill in the blank with a proper modal so that the sentence sounds like a promise.

I \_\_\_\_\_ help you.

1. might
2. shouldn't
3. can
4. will

**Options :**

485584135913. 1  
485584135914. 2  
485584135915. 3  
485584135916. 4

**Question Number : 35 Question Id : 48558433980 Question Type : MCQ Option Shuffling : No Is Question Mandatory : No Calculator : None Response Time : N.A Think Time : N.A Minimum Instruction Time : 0**

**Correct Marks : 5 Wrong Marks : 1**

**Question Key Details :**

Key	Value
Comprehension	MCQ

Identify the Adjective Clause in the following sentence.

"The spot where the battle was fought is unknown".

1. The spot where
2. where the battle was fought
3. The spot where the battle was fought
4. the battle was

**Options :**

485584135917. 1  
485584135918. 2  
485584135919. 3  
485584135920. 4

**Question Number : 36 Question Id : 48558433981 Question Type : MCQ Option Shuffling : No Is Question Mandatory : No Calculator : None Response Time : N.A Think Time : N.A Minimum Instruction Time : 0**

**Correct Marks : 5 Wrong Marks : 1**

**Question Key Details :**

Key	Value
Comprehension	MCQ

Identify the error in the following sentence.

Each girl and each boy was given a red pencil.

1. Each girl and each boy
2. was given
3. a red pencil
4. No error

**Options :**

- 485584135921. 1
- 485584135922. 2
- 485584135923. 3
- 485584135924. 4

**Question Number : 37 Question Id : 48558433982 Question Type : MCQ Option Shuffling : No Is Question Mandatory : No Calculator : None Response Time : N.A Think Time : N.A Minimum Instruction Time : 0**

**Correct Marks : 5 Wrong Marks : 1**

**Question Key Details :**

Key	Value
Comprehension	MCQ

Identify the error in the following sentence.

He was not able to concentrate because of the continual music being played next door.

1. He was not able to concentrate
2. because of the continual music
3. being played next door
4. No error

**Options :**

- 485584135925. 1
- 485584135926. 2
- 485584135927. 3
- 485584135928. 4

**Question Number : 38 Question Id : 48558433983 Question Type : MCQ Option Shuffling : No Is Question Mandatory : No Calculator : None Response Time : N.A Think Time : N.A Minimum Instruction Time : 0**

**Correct Marks : 5 Wrong Marks : 1**

**Question Key Details :**

Key	Value
-----	-------

Match List I with List II : Words with their antonyms

LIST I		LIST II	
Words		Antonyms	
A.	Meticulous	I.	Neglect
B.	Abrupt	II.	Active
C.	Nurse	III.	Careless
D.	Ennui	IV.	Gradual

Choose the correct answer from the options given below:

1. A-I, B-II, C-III, D-IV
2. A-III, B-IV, C-I, D-II
3. A-II, B-I, C-IV, D-III
4. A-IV, B-II, C-III, D-I

**Options :**

485584135929. 1  
 485584135930. 2  
 485584135931. 3  
 485584135932. 4

**Question Number : 39 Question Id : 48558433984 Question Type : MCQ Option Shuffling : No Is Question Mandatory : No Calculator : None Response Time : N.A Think Time : N.A Minimum Instruction Time : 0**

**Correct Marks : 5 Wrong Marks : 1**

**Question Key Details :**

Key	Value
Comprehension	MCQ

Choose the appropriate Antonym for the following word from the given list.

"ADRIOT"

1. Negate
2. Chumsy
3. Posture
4. Skillfull

**Options :**

485584135933. 1  
 485584135934. 2  
 485584135935. 3  
 485584135936. 4

**Question Number : 40 Question Id : 48558433985 Question Type : MCQ Option Shuffling : No Is Question Mandatory : No Calculator : None Response Time : N.A Think Time : N.A Minimum Instruction Time : 0**

**Correct Marks : 5 Wrong Marks : 1**

**Question Key Details :**

Key	Value
Comprehension	MCQ

Arrange the following sentence in the correct order.

- A. how efficient an administrator
- B. all days long
- C. The courtiers need to tell the king
- D. he was

Choose the correct answer from the options given below:

- 1. C, A, D, B
- 2. B, C, A, D
- 3. D, A, B, C
- 4. A, B, C, D

**Options :**

- 485584135937. 1
- 485584135938. 2
- 485584135939. 3
- 485584135940. 4

**Question Number : 41 Question Id : 48558433986 Question Type : MCQ Option Shuffling : No Is Question Mandatory : No Calculator : None Response Time : N.A Think Time : N.A Minimum Instruction Time : 0**

**Correct Marks : 5 Wrong Marks : 1**

**Question Key Details :**

Key	Value
Comprehension	MCQ

Fill in the blank with an appropriate preposition in the following sentence.

The boy fell \_\_\_\_\_ the roof.

- 1. under
- 2. off
- 3. of
- 4. since

**Options :**

- 485584135941. 1
- 485584135942. 2
- 485584135943. 3
- 485584135944. 4

Question Number : 42 Question Id : 48558433987 Question Type : MCQ Option Shuffling : No Is Question Mandatory : No Calculator : None Response Time : N.A Think Time : N.A Minimum Instruction Time : 0

Correct Marks : 5 Wrong Marks : 1

Question Key Details :

Key	Value
Comprehension	MCQ

Fill in the blanks with the correct pair of preposition in the given sentence.

They lived \_\_\_\_\_ Gohana, a small town \_\_\_\_\_ Haryana.

1. at, in
2. in, from
3. at, from
4. in, at

Options :

- 485584135945. 1
- 485584135946. 2
- 485584135947. 3
- 485584135948. 4

Question Number : 43 Question Id : 48558433988 Question Type : MCQ Option Shuffling : No Is Question Mandatory : No Calculator : None Response Time : N.A Think Time : N.A Minimum Instruction Time : 0

Correct Marks : 5 Wrong Marks : 1

Question Key Details :

Key	Value
Comprehension	MCQ

Choose the sentence with the correct use of the idiom/phrase from the given list:

1. His son put off a blind eye prank
2. He turned a blind eye to his son's prank
3. His father's blind eye turned at his prank
4. He turned blind to his son's prank

Options :

- 485584135949. 1
- 485584135950. 2
- 485584135951. 3
- 485584135952. 4

Question Number : 44 Question Id : 48558433989 Question Type : MCQ Option Shuffling : No Is Question Mandatory : No Calculator : None Response Time : N.A Think Time : N.A Minimum Instruction Time : 0

Correct Marks : 5 Wrong Marks : 1

Question Key Details :

Key	Value
Comprehension	MCQ

Match the idioms/phrases in List I with its meaning in List II

LIST I		LIST II	
A.	murder in cold blood	I.	to be in trouble
B.	go places	II.	murder ruthlessly
C.	A fly in the ointment	III.	a problem in a situation
D.	in the soup	IV.	be successful

Choose the correct answer from the options given below:

1. A-I, B-III, C-IV, D-II
2. A-IV, B-III, C-I, D-II
3. A-III, B-II, C-I, D-IV
4. A-II, B-IV, C-III, D-I

**Options :**

485584135953. 1  
485584135954. 2  
485584135955. 3  
485584135956. 4

**Question Number : 45 Question Id : 48558433990 Question Type : MCQ Option Shuffling : No Is Question Mandatory : No Calculator : None Response Time : N.A Think Time : N.A Minimum Instruction Time : 0**

**Correct Marks : 5 Wrong Marks : 1**

**Question Key Details :**

Key	Value
Comprehension	MCQ

Fill in the blanks with the most appropriate phrasal verb from the alternatives given under the sentence.

In her old age she has no one to \_\_\_\_\_ her.

1. Look at
2. Look after
3. Look for
4. Look ones

**Options :**

485584135957. 1  
485584135958. 2  
485584135959. 3  
485584135960. 4

**Question Number : 46 Question Id : 48558433991 Question Type : MCQ Option Shuffling : No Is Question Mandatory : No Calculator : None Response Time : N.A Think Time : N.A Minimum Instruction Time : 0**

**Correct Marks : 5 Wrong Marks : 1**

**Question Key Details :**

Key	Value
Comprehension	MCQ

Fill in the blanks with the most suitable phrasal verb from the alternatives given under the sentence.

The college will \_\_\_\_\_ next week for summer vacation.

1. Break up
2. Open up
3. Close down
4. Shut up

**Options :**

- 485584135961. 1
- 485584135962. 2
- 485584135963. 3
- 485584135964. 4

**Question Number : 47 Question Id : 48558433992 Question Type : MCQ Option Shuffling : No Is Question Mandatory : No Calculator : None Response Time : N.A Think Time : N.A Minimum Instruction Time : 0**

**Correct Marks : 5 Wrong Marks : 1**

**Question Key Details :**

Key	Value
Comprehension	MCQ

Some part of the sentence is grammatically incorrect. Pick the error.

Another surprising change that I noticed in him in recent times is that he avoids to speak to me.

1. Another surprising change
2. that is noticed in him in recent time
3. is that he avoids
4. to speak to me

**Options :**

- 485584135965. 1
- 485584135966. 2
- 485584135967. 3
- 485584135968. 4

**Question Number : 48 Question Id : 48558433993 Question Type : MCQ Option Shuffling : No Is Question Mandatory : No Calculator : None Response Time : N.A Think Time : N.A Minimum Instruction Time : 0**

**Correct Marks : 5 Wrong Marks : 1**

**Question Key Details :**

Key	Value
Comprehension	MCQ



Identify the type of adverb in the following sentence.

"I therefore left my apartment".

1. Adverb of frequency
2. Adverb of manner
3. Adverb of reason
4. Adverb of Time

**Options :**

- 485584135969. 1
- 485584135970. 2
- 485584135971. 3
- 485584135972. 4

**Question Number : 49 Question Id : 48558433994 Question Type : MCQ Option Shuffling : No Is Question Mandatory : No Calculator : None Response Time : N.A Think Time : N.A Minimum Instruction Time : 0**

**Correct Marks : 5 Wrong Marks : 1**

**Question Key Details :**

Key	Value
Comprehension	MCQ

Fill in the blank with an appropriate adverb.

They have \_\_\_\_\_ faith in their Guru.

1. Fairly good
2. wholly
3. very
4. too much

**Options :**

- 485584135973. 1
- 485584135974. 2
- 485584135975. 3
- 485584135976. 4

**Question Number : 50 Question Id : 48558433995 Question Type : MCQ Option Shuffling : No Is Question Mandatory : No Calculator : None Response Time : N.A Think Time : N.A Minimum Instruction Time : 0**

**Correct Marks : 5 Wrong Marks : 1**

**Question Key Details :**

Key	Value
Comprehension	MCQ

Choose the salutation used in a formal letter from the given options.

1. yours lovingly
2. yours sincerely
3. yours truly
4. yours punctually

**Options :**

485584135977. 1  
485584135978. 2  
485584135979. 3  
485584135980. 4

## Hindi

<b>Group Number :</b>	2
<b>Group Id :</b>	485584769
<b>Group Maximum Duration :</b>	45
<b>Group Minimum Duration :</b>	45
<b>Show Attended Group? :</b>	No
<b>Edit Attended Group? :</b>	No
<b>Break time :</b>	0
<b>Group Marks :</b>	200
<b>Is this Group for Examiner? :</b>	No
<b>Examiner permission :</b>	Cant View
<b>Show Progress Bar? :</b>	No

## Hindi

<b>Section Id :</b>	485584887
<b>Section Number :</b>	1
<b>Section type :</b>	Online
<b>Mandatory or Optional :</b>	Mandatory
<b>Number of Questions :</b>	50
<b>Number of Questions to be attempted :</b>	40
<b>Section Marks :</b>	200
<b>Enable Mark as Answered Mark for Review and Clear Response :</b>	Yes
<b>Maximum Instruction Time :</b>	0
<b>Sub-Section Number :</b>	1
<b>Sub-Section Id :</b>	4855842510
<b>Question Shuffling Allowed :</b>	No
<b>Is Section Default? :</b>	null

**Question Number : 51 Question Id : 48558434106 Question Type : MCQ Option Shuffling : No Is Question Mandatory : No Calculator : None Response Time : N.A Think Time : N.A Minimum Instruction Time : 0 Correct Marks : 5 Wrong Marks : 1**

**Question Key Details :**

Key	Value
Comprehension	Comp1

निम्नलिखित पद्यांश के आधार पर प्रश्नों के उत्तर दीजिए।

बीन भी हूँ मैं तुम्हारी रागिनी भी हूँ!  
नींद थी मेरी अचल निस्पंद कण-कण में,  
प्रथम जागृति थी जगत के प्रथम स्पंदन में;  
प्रलय में मेरा पता पदचिह्न जीवन में,  
शाप हूँ जो बन गया वरदान बंधन में;  
कूल भी हूँ कूलहीन प्रवाहिनी भी हूँ!  
नयन में जिस के जलद वह तृषित चातक हूँ,  
शलभ जिसके प्राण में वह निठुर दीपक हूँ;  
फूल को उर में छिपाए विकल बुलबुल हूँ,  
एक हो कर दूर तन से छाँह वह चल हूँ;  
दूर तुम से हूँ अखंड सुहागिनी भी हूँ!

'वरदान' शब्द का विलोम बताइए

1. उपकार
2. अभिशाप
3. अभिशप्त
4. वर का दान

**Options :**

485584136421. 1  
485584136422. 2  
485584136423. 3  
485584136424. 4

**Question Number : 52 Question Id : 48558434107 Question Type : MCQ Option Shuffling : No Is Question Mandatory : No Calculator : None Response Time : N.A Think Time : N.A Minimum Instruction Time : 0**

**Correct Marks : 5 Wrong Marks : 1**

**Question Key Details :**

Key	Value
Comprehension	Comp1

निम्नलिखित पद्यांश के आधार पर प्रश्नों के उत्तर दीजिए।

बीन भी हूँ मैं तुम्हारी रागिनी भी हूँ!  
नींद थी मेरी अचल निस्पंद कण-कण में,  
प्रथम जागृति थी जगत के प्रथम स्पंदन में;  
प्रलय में मेरा पता पदचिह्न जीवन में,  
शाप हूँ जो बन गया वरदान बंधन में;  
कूल भी हूँ कूलहीन प्रवाहिनी भी हूँ!  
नयन में जिस के जलद वह तृषित चातक हूँ,  
शलभ जिसके प्राण में वह निठुर दीपक हूँ;  
फूल को उर में छिपाए विकल बुलबुल हूँ,  
एक हो कर दूर तन से छाँह वह चल हूँ;  
दूर तुम से हूँ अखंड सुहागिनी भी हूँ!

पद्यांश के अनुसार क्रम लगाइए

नींद थी मेरी अचल .....

- A. पदचिह्न जीवन में
- B. वरदान बंधन में
- C. निस्पंद कण-कण में
- D. छाँह वह चल हूँ
- E. प्रथम स्पंदन में

नीचे दिए गए विकल्पों में से सही उत्तर का चयन कीजिए :

1. C, E, A, B, D
2. A, B, C, D, E
3. E, D, C, B, A
4. B, C, D, A, E

**Options :**

- 485584136425. 1
- 485584136426. 2
- 485584136427. 3
- 485584136428. 4

**Question Number : 53 Question Id : 48558434108 Question Type : MCQ Option Shuffling : No Is Question Mandatory : No Calculator : None Response Time : N.A Think Time : N.A Minimum Instruction Time : 0**

**Correct Marks : 5 Wrong Marks : 1**

**Question Key Details :**

Key	Value
Comprehension	Comp1

निम्नलिखित पद्यांश के आधार पर प्रश्नों के उत्तर दीजिए।

बीन भी हूँ मैं तुम्हारी रागिनी भी हूँ!  
नींद थी मेरी अचल निस्पंद कण-कण में,  
प्रथम जागृति थी जगत के प्रथम स्पंदन में;  
प्रलय में मेरा पता पदचिह्न जीवन में,  
शाप हूँ जो बन गया वरदान बंधन में;  
कूल भी हूँ कूलहीन प्रवाहिनी भी हूँ!  
नयन में जिस के जलद वह तृषित चातक हूँ,  
शलभ जिसके प्राण में वह निठुर दीपक हूँ;  
फूल को उर में छिपाए विकल बुलबुल हूँ,  
एक हो कर दूर तन से छाँह वह चल हूँ;  
दूर तुम से हूँ अखंड सुहागिनी भी हूँ!

'कूलहीन' में प्रत्यय होना :

1. कू
2. कूल
3. हीन
4. इन

**Options :**

485584136429. 1  
485584136430. 2  
485584136431. 3  
485584136432. 4

**Question Number : 54 Question Id : 48558434109 Question Type : MCQ Option Shuffling : No Is Question Mandatory :  
No Calculator : None Response Time : N.A Think Time : N.A Minimum Instruction Time : 0**

**Correct Marks : 5 Wrong Marks : 1**

**Question Key Details :**

Key	Value
Comprehension	Comp1

निम्नलिखित पद्यांश के आधार पर प्रश्नों के उत्तर दीजिए।

बीन भी हूँ मैं तुम्हारी रागिनी भी हूँ!  
नींद थी मेरी अचल निस्पंद कण-कण में,  
प्रथम जागृति थी जगत के प्रथम स्पंदन में;  
प्रलय में मेरा पता पदचिह्न जीवन में,  
शाप हूँ जो बन गया वरदान बंधन में;  
कूल भी हूँ कूलहीन प्रवाहिनी भी हूँ!  
नयन में जिस के जलद वह तृषित चातक हूँ,  
शलभ जिसके प्राण में वह निठुर दीपक हूँ;  
फूल को उर में छिपाए विकल बुलबुल हूँ,  
एक हो कर दूर तन से छाँह वह चल हूँ;  
दूर तुम से हूँ अखंड सुहागिनी भी हूँ!

दूर तुम से हूँ अखण्ड सुहागिनी भी हूँ। से आशय होगा :

1. सुहागिनी होना
2. सदा सुहागिन रहना
3. दूर रह कर भी सुहागिन रहना
4. प्रिय से दूर रह कर भी सदा सुहागिन रहना

**Options :**

485584136433. 1

485584136434. 2

485584136435. 3

485584136436. 4

**Question Number : 55 Question Id : 48558434110 Question Type : MCQ Option Shuffling : No Is Question Mandatory :  
No Calculator : None Response Time : N.A Think Time : N.A Minimum Instruction Time : 0**

**Correct Marks : 5 Wrong Marks : 1**

**Question Key Details :**

Key	Value
Comprehension	Comp1

निम्नलिखित पद्यांश के आधार पर प्रश्नों के उत्तर दीजिए।

बीन भी हूँ मैं तुम्हारी रागिनी भी हूँ!  
नींद थी मेरी अचल निस्पंद कण-कण में,  
प्रथम जागृति थी जगत के प्रथम स्पंदन में;  
प्रलय में मेरा पता पदचिह्न जीवन में,  
शाप हूँ जो बन गया वरदान बंधन में;  
कूल भी हूँ कूलहीन प्रवाहिनी भी हूँ!  
नयन में जिस के जलद वह तृषित चातक हूँ,  
शलभ जिसके प्राण में वह निठुर दीपक हूँ;  
फूल को उर में छिपाए विकल बुलबुल हूँ,  
एक हो कर दूर तन से छाँह वह चल हूँ;  
दूर तुम से हूँ अखंड सुहागिनी भी हूँ!

पद्यांश के अनुसार - 'जलद' शब्द का पर्यायवाची है ?

- A. जीमूत
- B. आसमान
- C. बादल
- D. मेघ
- E. आकाश

नीचे दिए गए विकल्पों में से सही उत्तर का चयन कीजिए :

1. केवल A, B
2. केवल B, C, D
3. केवल A, C, D
4. केवल C, D, E

**Options :**

- 485584136437. 1
- 485584136438. 2
- 485584136439. 3
- 485584136440. 4

**Sub-Section Number :**

2

**Sub-Section Id :**

4855842511

**Question Shuffling Allowed :**

No

**Is Section Default? :**

null

**Question Number : 56 Question Id : 48558434111 Question Type : MCQ Option Shuffling : No Is Question Mandatory : No Calculator : None Response Time : N.A Think Time : N.A Minimum Instruction Time : 0**

**Correct Marks : 5 Wrong Marks : 1**

**Question Key Details :**

Key	Value
Comprehension	Comp2

निम्नलिखित गद्यांश के आधार पर प्रश्नों के उत्तर दीजिए।

"हमारी हिन्दी सजीव भाषा है। इसी कारण, इसने अरबी, फारसी आदि के संपर्क में आकर इनके शब्द ग्रहण किए हैं, अब अंग्रेजी के भी शब्द ग्रहण करती जा रही है। इसे दोष नहीं, गुण ही समझना चाहिए; क्योंकि अपनी इस ग्रहण शक्ति से हिन्दी अपनी वृद्धि कर रही है, हास नहीं। ज्यों-ज्यों इसका प्रचार बढ़ेगा, त्यों-त्यों इसमें नए शब्दों का आगमन होता जाएगा। क्या भाषा की विशुद्धता के किसी भी पक्षपाती में यह शक्ति है कि वह विभिन्न जातियों के पारस्परिक संबंध को न होने दे अथवा भाषाओं की सम्मिश्रण-क्रिया में रुकावट पैदा कर दे ? यह कभी संभव नहीं। हमें तो केवल इस बात का ध्यान रखना चाहिए कि इस सम्मिश्रण के कारण हमारी भाषा अपने स्वरूप को तो नष्ट नहीं कर रही है — कहीं अन्य भाषाओं के बेमेल शब्दों के मिश्रण से अपना रूप तो विकृत नहीं कर रही है। अभिप्राय यह कि दूसरी भाषाओं के शब्द, मुहावरे आदि ग्रहण करने पर भी हिन्दी हिन्दी ही बनी रही है या नहीं, बिगड़कर कहीं वह कुछ और तो नहीं होती जा रही है ?"

उपरोक्त गद्यांश के आधार के हिन्दी कैसी भाषा है।

1. मौलिक
2. सजीव
3. निराकार
4. सौम्य

**Options :**

485584136441. 1  
485584136442. 2  
485584136443. 3  
485584136444. 4

**Question Number : 57 Question Id : 48558434112 Question Type : MCQ Option Shuffling : No Is Question Mandatory : No Calculator : None Response Time : N.A Think Time : N.A Minimum Instruction Time : 0**

**Correct Marks : 5 Wrong Marks : 1**

**Question Key Details :**

Key	Value
Comprehension	Comp2

निम्नलिखित गद्यांश के आधार पर प्रश्नों के उत्तर दीजिए।

"हमारी हिन्दी सजीव भाषा है। इसी कारण, इसने अरबी, फारसी आदि के संपर्क में आकर इनके शब्द ग्रहण किए हैं, अब अंग्रेजी के भी शब्द ग्रहण करती जा रही है। इसे दोष नहीं, गुण ही समझना चाहिए; क्योंकि अपनी इस ग्रहण शक्ति से हिन्दी अपनी वृद्धि कर रही है, हास नहीं। ज्यों-ज्यों इसका प्रचार बढ़ेगा, त्यों-त्यों इसमें नए शब्दों का आगमन होता जाएगा। क्या भाषा की विशुद्धता के किसी भी पक्षपाती में यह शक्ति है कि वह विभिन्न जातियों के पारस्परिक संबंध को न होने दे अथवा भाषाओं की सम्मिश्रण-क्रिया में रुकावट पैदा कर दे ? यह कभी संभव नहीं। हमें तो केवल इस बात का ध्यान रखना चाहिए कि इस सम्मिश्रण के कारण हमारी भाषा अपने स्वरूप को तो नष्ट नहीं कर रही है — कहीं अन्य भाषाओं के बेमेल शब्दों के मिश्रण से अपना रूप तो विकृत नहीं कर रही है। अभिप्राय यह कि दूसरी भाषाओं के शब्द, मुहावरे आदि ग्रहण करने पर भी हिन्दी हिन्दी ही बनी रही है या नहीं, बिगड़कर कहीं वह कुछ और तो नहीं होती जा रही है ?"



अरबी, फारसी के साथ-साथ हिन्दी अब कौन-सी भाषा के शब्द ग्रहण करती जा रही है।

1. मलयालम
2. गुजराती
3. मराठी
4. अँग्रेजी

**Options :**

485584136445. 1  
485584136446. 2  
485584136447. 3  
485584136448. 4

**Question Number : 58 Question Id : 48558434113 Question Type : MCQ Option Shuffling : No Is Question Mandatory : No Calculator : None Response Time : N.A Think Time : N.A Minimum Instruction Time : 0**

**Correct Marks : 5 Wrong Marks : 1**

**Question Key Details :**

Key	Value
Comprehension	Comp2

निम्नलिखित गद्यांश के आधार पर प्रश्नों के उत्तर दीजिए।

"हमारी हिन्दी सजीव भाषा है। इसी कारण, इसने अरबी, फारसी आदि के संपर्क में आकर इनके शब्द ग्रहण किए हैं, अब अँग्रेजी के भी शब्द ग्रहण करती जा रही है। इसे दोष नहीं, गुण ही समझना चाहिए; क्योंकि अपनी इस ग्रहण शक्ति से हिन्दी अपनी वृद्धि कर रही है, हास नहीं। ज्यों-ज्यों इसका प्रचार बढ़ेगा, त्यों-त्यों इसमें नए शब्दों का आगमन होता जाएगा। क्या भाषा की विशुद्धता के किसी भी पक्षपाती में यह शक्ति है कि वह विभिन्न जातियों के पारस्परिक संबंध को न होने दे अथवा भाषाओं की सम्मिश्रण-क्रिया में रुकावट पैदा कर दे ? यह कभी संभव नहीं। हमें तो केवल इस बात का ध्यान रखना चाहिए कि इस सम्मिश्रण के कारण हमारी भाषा अपने स्वरूप को तो नष्ट नहीं कर रही है — कहीं अन्य भाषाओं के बेमेल शब्दों के मिश्रण से अपना रूप तो विकृत नहीं कर रही है। अभिप्राय यह कि दूसरी भाषाओं के शब्द, मुहावरे आदि ग्रहण करने पर भी हिन्दी हिन्दी ही बनी रही है या नहीं, बिगड़कर कहीं वह कुछ और तो नहीं होती जा रही है ?"

अन्य भाषाओं के मिश्रण से हिन्दी का कौन-सा रूप प्रभावित होने का उर है।

1. संकल्पना
2. स्वरूप
3. मौलिकता
4. उद्देश्य

**Options :**

485584136449. 1  
485584136450. 2  
485584136451. 3  
485584136452. 4

Question Number : 59 Question Id : 48558434114 Question Type : MCQ Option Shuffling : No Is Question Mandatory : No Calculator : None Response Time : N.A Think Time : N.A Minimum Instruction Time : 0

Correct Marks : 5 Wrong Marks : 1

Question Key Details :

Key	Value
Comprehension	Comp2

निम्नलिखित गद्यांश के आधार पर प्रश्नों के उत्तर दीजिए।

"हमारी हिन्दी सजीव भाषा है। इसी कारण, इसने अरबी, फारसी आदि के संपर्क में आकर इनके शब्द ग्रहण किए हैं, अब अँग्रेजी के भी शब्द ग्रहण करती जा रही है। इसे दोष नहीं, गुण ही समझना चाहिए; क्योंकि अपनी इस ग्रहण शक्ति से हिन्दी अपनी वृद्धि कर रही है, हास नहीं। ज्यों-ज्यों इसका प्रचार बढ़ेगा, त्यों-त्यों इसमें नए शब्दों का आगमन होता जाएगा। क्या भाषा की विशुद्धता के किसी भी पक्षपाती में यह शक्ति है कि वह विभिन्न जातियों के पारस्परिक संबंध को न होने दे अथवा भाषाओं की सम्मिश्रण-क्रिया में रुकावट पैदा कर दे ? यह कभी संभव नहीं। हमें तो केवल इस बात का ध्यान रखना चाहिए कि इस सम्मिश्रण के कारण हमारी भाषा अपने स्वरूप को तो नष्ट नहीं कर रही है — कहीं अन्य भाषाओं के बेमेल शब्दों के मिश्रण से अपना रूप तो विकृत नहीं कर रही है। अभिप्राय यह कि दूसरी भाषाओं के शब्द, मुहावरे आदि ग्रहण करने पर भी हिन्दी हिन्दी ही बनी रही है या नहीं, बिगड़कर कहीं वह कुछ और तो नहीं होती जा रही है ?"

हिन्दी का प्रचार बढ़ने से हिन्दी भाषा को क्या लाभ होगा ?

1. नयी भाषा का विकास होगा
2. नए शब्दों का आगमन होगा
3. बेमेल शब्दों का आगमन होगा
4. मुहावरों का आगमन होगा

Options :

485584136453. 1  
485584136454. 2  
485584136455. 3  
485584136456. 4

Question Number : 60 Question Id : 48558434115 Question Type : MCQ Option Shuffling : No Is Question Mandatory : No Calculator : None Response Time : N.A Think Time : N.A Minimum Instruction Time : 0

Correct Marks : 5 Wrong Marks : 1

Question Key Details :

Key	Value
Comprehension	Comp2

निम्नलिखित गद्यांश के आधार पर प्रश्नों के उत्तर दीजिए।

"हमारी हिन्दी सजीव भाषा है। इसी कारण, इसने अरबी, फारसी आदि के संपर्क में आकर इनके शब्द ग्रहण किए हैं, अब अंग्रेजी के भी शब्द ग्रहण करती जा रही है। इसे दोष नहीं, गुण ही समझना चाहिए; क्योंकि अपनी इस ग्रहण शक्ति से हिन्दी अपनी वृद्धि कर रही है, हास नहीं। ज्यों-ज्यों इसका प्रचार बढ़ेगा, त्यों-त्यों इसमें नए शब्दों का आगमन होता जाएगा। क्या भाषा की विशुद्धता के किसी भी पक्षपाती में यह शक्ति है कि वह विभिन्न जातियों के पारस्परिक संबंध को न होने दे अथवा भाषाओं की सम्मिश्रण-क्रिया में रुकावट पैदा कर दे ? यह कभी संभव नहीं। हमें तो केवल इस बात का ध्यान रखना चाहिए कि इस सम्मिश्रण के कारण हमारी भाषा अपने स्वरूप को तो नष्ट नहीं कर रही है — कहीं अन्य भाषाओं के बेमेल शब्दों के मिश्रण से अपना रूप तो विकृत नहीं कर रही है। अभिप्राय यह कि दूसरी भाषाओं के शब्द, मुहावरे आदि ग्रहण करने पर भी हिन्दी हिन्दी ही बनी रही है या नहीं, बिगड़कर कहीं वह कुछ और तो नहीं होती जा रही है ?"

कौन-सी शक्ति के कारण हिन्दी वृद्धि कर रही है?

1. ग्रहण शक्ति
2. सहन शक्ति
3. मानवीय शक्ति
4. भावात्मक शक्ति

**Options :**

485584136457. 1  
485584136458. 2  
485584136459. 3  
485584136460. 4

**Sub-Section Number :**

3

**Sub-Section Id :**

4855842512

**Question Shuffling Allowed :**

No

**Is Section Default? :**

null

**Question Number : 61 Question Id : 48558434116 Question Type : MCQ Option Shuffling : No Is Question Mandatory : No Calculator : None Response Time : N.A Think Time : N.A Minimum Instruction Time : 0**

**Correct Marks : 5 Wrong Marks : 1**

**Question Key Details :**

Key	Value
Comprehension	Comp3

निम्नलिखित गद्यांश के आधार पर प्रश्नों के उत्तर दीजिए।

ओंकारनाथ सैर करके लौटे थे और आज के पत्र के लिए संपादकीय लेख लिखने की चिन्ता में बैठे थे; पर मन पक्षी की भाँति अभी उड़ा-उड़ा फिरता था। उनकी धर्मपत्नी ने रात में उन्हें कुछ ऐसी बातें कह डाली थीं, जो अभी तक काँटों की तरह चुभ रही थीं। उन्हें कोई दरिद्र कह ले, अभागा कह ले, बुद्धू कह ले, वह जरा भी बुरा न मानते थे; लेकिन यह कहना की उनमें पुरुषत्व नहीं है, यह उनके लिए असह्य था। और फिर अपनी पत्नी को यह कहने का क्या हक है ? उससे तो यह आशा की जाती है कि कोई इस तरह का आक्षेप करे; तो उसका मुँह बंद कर दे। बेशक वह ऐसी खबरें नहीं छापते, ऐसी टिप्पणियाँ नहीं करते कि सिर पर कोई आफत आ जाए। फूँक-फूँककर कदम रखते हैं। इन काले कानूनों के युग में वह और कर ही क्या सकते हैं; मगर वह क्यों साँप के बिल में हाथ नहीं डालते ? इसलिए तो कि उनके घरवालों को कष्ट न उठाने पड़ें।

ओंकार नाथ पत्र में कैसी खबर नहीं छापते?

1. प्रेम प्रसंगों की
2. लूट-पाट की
3. आफत लेकर आने वाली
4. महँगाई की

**Options :**

485584136461. 1
485584136462. 2
485584136463. 3
485584136464. 4

**Question Number : 62 Question Id : 48558434117 Question Type : MCQ Option Shuffling : No Is Question Mandatory : No Calculator : None Response Time : N.A Think Time : N.A Minimum Instruction Time : 0**

**Correct Marks : 5 Wrong Marks : 1**

**Question Key Details :**

Key	Value
Comprehension	Comp3

निम्नलिखित गद्यांश के आधार पर प्रश्नों के उत्तर दीजिए।

ओंकारनाथ सैर करके लौटे थे और आज के पत्र के लिए संपादकीय लेख लिखने की चिन्ता में बैठे थे; पर मन पक्षी की भाँति अभी उड़ा-उड़ा फिरता था। उनकी धर्मपत्नी ने रात में उन्हें कुछ ऐसी बातें कह डाली थीं, जो अभी तक काँटों की तरह चुभ रही थीं। उन्हें कोई दरिद्र कह ले, अभागा कह ले, बुद्धू कह ले, वह जरा भी बुरा न मानते थे; लेकिन यह कहना की उनमें पुरुषत्व नहीं है, यह उनके लिए असह्य था। और फिर अपनी पत्नी को यह कहने का क्या हक है ? उससे तो यह आशा की जाती है कि कोई इस तरह का आक्षेप करे; तो उसका मुहँ बंद कर दे। बेशक वह ऐसी खबरें नहीं छापते, ऐसी टिप्पणियाँ नहीं करते कि सिर पर कोई आफत आ जाए। फूँक-फूँककर कदम रखते हैं। इन काले कानूनों के युग में वह और कर ही क्या सकते हैं; मगर वह क्यों साँप के बिल में हाथ नहीं डालते ? इसलिए तो कि उनके घरवालों को कष्ट न उठाने पड़ें।

ओंकारनाथ के पुरुषत्व पर किसने प्रश्नचिह्न लगाया?

1. उसके दोस्तों ने
2. उसकी प्रेमिका ने
3. मालती ने
4. उसकी धर्मपत्नी ने

**Options :**

485584136465. 1
485584136466. 2
485584136467. 3
485584136468. 4

**Question Number : 63 Question Id : 48558434118 Question Type : MCQ Option Shuffling : No Is Question Mandatory : No Calculator : None Response Time : N.A Think Time : N.A Minimum Instruction Time : 0**

Correct Marks : 5 Wrong Marks : 1

Question Key Details :

Key	Value
Comprehension	Comp3

निम्नलिखित गद्यांश के आधार पर प्रश्नों के उत्तर दीजिए।

ओंकारनाथ सैर करके लौटे थे और आज के पत्र के लिए संपादकीय लेख लिखने की चिन्ता में बैठे थे; पर मन पक्षी की भाँति अभी उड़ा-उड़ा फिरता था। उनकी धर्मपत्नी ने रात में उन्हें कुछ ऐसी बातें कह डाली थीं, जो अभी तक काँटों की तरह चुभ रही थीं। उन्हें कोई दरिद्र कह ले, अभागा कह ले, बुद्धू कह ले, वह जरा भी बुरा न मानते थे; लेकिन यह कहना की उनमें पुरुषत्व नहीं है, यह उनके लिए असह्य था। और फिर अपनी पत्नी को यह कहने का क्या हक है ? उससे तो यह आशा की जाती है कि कोई इस तरह का आक्षेप करे; तो उसका मुहँ बंद कर दे। बेशक वह ऐसी खबरें नहीं छापते, ऐसी टिप्पणियाँ नहीं करते कि सिर पर कोई आफत आ जाए। फूँक-फूँककर कदम रखते हैं। इन काले कानूनों के युग में वह और कर ही क्या सकते हैं; मगर वह क्यों साँप के बिल में हाथ नहीं डालते ? इसलिए तो कि उनके घरवालों को कष्ट न उठाने पड़ें।

ओंकारनाथ का मन किस की भाँति उड़ा-उड़ा जा रहा था?

1. पपीहे
2. जुगनु
3. पक्षी
4. हवा

Options :

485584136469. 1  
485584136470. 2  
485584136471. 3  
485584136472. 4

Question Number : 64 Question Id : 48558434119 Question Type : MCQ Option Shuffling : No Is Question Mandatory : No Calculator : None Response Time : N.A Think Time : N.A Minimum Instruction Time : 0

Correct Marks : 5 Wrong Marks : 1

Question Key Details :

Key	Value
Comprehension	Comp3

निम्नलिखित गद्यांश के आधार पर प्रश्नों के उत्तर दीजिए।

ओंकारनाथ सैर करके लौटे थे और आज के पत्र के लिए संपादकीय लेख लिखने की चिन्ता में बैठे थे; पर मन पक्षी की भाँति अभी उड़ा-उड़ा फिरता था। उनकी धर्मपत्नी ने रात में उन्हें कुछ ऐसी बातें कह डाली थीं, जो अभी तक काँटों की तरह चुभ रही थीं। उन्हें कोई दरिद्र कह ले, अभागा कह ले, बुद्धू कह ले, वह जरा भी बुरा न मानते थे; लेकिन यह कहना की उनमें पुरुषत्व नहीं है, यह उनके लिए असह्य था। और फिर अपनी पत्नी को यह कहने का क्या हक है ? उससे तो यह आशा की जाती है कि कोई इस तरह का आक्षेप करे; तो उसका मुहँ बंद कर दे। बेशक वह ऐसी खबरें नहीं छापते, ऐसी टिप्पणियाँ नहीं करते कि सिर पर कोई आफत आ जाए। फूँक-फूँककर कदम रखते हैं। इन काले कानूनों के युग में वह और कर ही क्या सकते हैं; मगर वह क्यों साँप के बिल में हाथ नहीं डालते ? इसलिए तो कि उनके घरवालों को कष्ट न उठाने पड़ें।

ओंकारनाथ कैसे कदम रखते हैं?

1. तेज-तेज
2. दौड़ते-दौड़ते
3. फूँक-फूँककर
4. सहज-सहज

**Options :**

485584136473. 1  
485584136474. 2  
485584136475. 3  
485584136476. 4

**Question Number : 65 Question Id : 48558434120 Question Type : MCQ Option Shuffling : No Is Question Mandatory : No Calculator : None Response Time : N.A Think Time : N.A Minimum Instruction Time : 0**

**Correct Marks : 5 Wrong Marks : 1**

**Question Key Details :**

Key	Value
Comprehension	Comp3

निम्नलिखित गद्यांश के आधार पर प्रश्नों के उत्तर दीजिए।

ओंकारनाथ सैर करके लौटे थे और आज के पत्र के लिए संपादकीय लेख लिखने की चिन्ता में बैठे थे; पर मन पक्षी की भाँति अभी उड़ा-उड़ा फिरता था। उनकी धर्मपत्नी ने रात में उन्हें कुछ ऐसी बातें कह डाली थीं, जो अभी तक काँटों की तरह चुभ रही थीं। उन्हें कोई दरिद्र कह ले, अभागा कह ले, बुद्धू कह ले, वह जरा भी बुरा न मानते थे; लेकिन यह कहना की उनमें पुरुषत्व नहीं है, यह उनके लिए असह्य था। और फिर अपनी पत्नी को यह कहने का क्या हक है ? उससे तो यह आशा की जाती है कि कोई इस तरह का आक्षेप करे; तो उसका मुहँ बंद कर दे। बेशक वह ऐसी खबरें नहीं छापते, ऐसी टिप्पणियाँ नहीं करते कि सिर पर कोई आफत आ जाए। फूँक-फूँककर कदम रखते हैं। इन काले कानूनों के युग में वह और कर ही क्या सकते हैं; मगर वह क्यों साँप के बिल में हाथ नहीं डालते ? इसलिए तो कि उनके घरवालों को कष्ट न उठाने पड़ें।

ओंकारनाथ जी किस के बिल में हाथ नहीं डालते?

1. साँप
2. चूहे
3. नेवले
4. खरगोश

**Options :**

485584136477. 1  
485584136478. 2  
485584136479. 3  
485584136480. 4

**Sub-Section Number :**

4

**Sub-Section Id :**

4855842513

**Question Shuffling Allowed :**

Yes

Is Section Default? :

null

Question Number : 66 Question Id : 48558434121 Question Type : MCQ Option Shuffling : No Is Question Mandatory : No Calculator : None Response Time : N.A Think Time : N.A Minimum Instruction Time : 0

Correct Marks : 5 Wrong Marks : 1

Question Key Details :

Key	Value
Comprehension	MCQ

सूची I का सूची II से मिलान कीजिए

सूची I		सूची II	
A.	तोता डाल पर बैठा है।	I.	करण
B.	वह शहर से चला गया।	II.	संप्रदान
C.	मैंने राम को उपहार दिया	III.	अपादान
D.	भिखारी हैजे से मर गया	IV.	अधिकरण

निम्नलिखित विकल्पों में से सही उत्तर का चयन कीजिए :

1. A-I, B-IV, C-III, D-II

2. A-II, B-I, C-III, D-IV

3. A-I, B-II, C-III, D-IV

4. A-IV, B-III, C-II, D-I

Options :

485584136481. 1

485584136482. 2

485584136483. 3

485584136484. 4

Question Number : 67 Question Id : 48558434122 Question Type : MCQ Option Shuffling : No Is Question Mandatory : No Calculator : None Response Time : N.A Think Time : N.A Minimum Instruction Time : 0

Correct Marks : 5 Wrong Marks : 1

Question Key Details :

Key	Value
Comprehension	MCQ

काली घटा का घमंड घटा में कौन-सा अलंकार है ?

1. यमक अलंकार

2. उपमा अलंकार

3. श्लेष अलंकार

4. अतिशयोक्ति अलंकार

Options :

485584136485. 1

485584136486. 2  
485584136487. 3  
485584136488. 4

**Question Number : 68 Question Id : 48558434123 Question Type : MCQ Option Shuffling : No Is Question Mandatory : No Calculator : None Response Time : N.A Think Time : N.A Minimum Instruction Time : 0**

**Correct Marks : 5 Wrong Marks : 1**

**Question Key Details :**

Key	Value
Comprehension	MCQ

कहै कवि बेनी, बेनी व्याल की चुराई लिनी।

पंक्ति में कौन-सा अलंकार है -

1. उपमा अलंकार
2. यमक अलंकार
3. उत्प्रेक्षा अलंकार
4. रूपक अलंकार

**Options :**

485584136489. 1  
485584136490. 2  
485584136491. 3  
485584136492. 4

**Question Number : 69 Question Id : 48558434124 Question Type : MCQ Option Shuffling : No Is Question Mandatory : No Calculator : None Response Time : N.A Think Time : N.A Minimum Instruction Time : 0**

**Correct Marks : 5 Wrong Marks : 1**

**Question Key Details :**

Key	Value
Comprehension	MCQ

निम्नलिखित पंक्तियों में कौन-सा रस है :

"प्रिय व मेरा प्राण प्यार कहाँ है  
दुख जल निधि में डूबी का सहारा कहाँ है।"

1. करुण रस
2. शृंगार रस
3. शांत रस
4. भक्ति रस

**Options :**

485584136493. 1  
485584136494. 2  
485584136495. 3



**Question Number : 70 Question Id : 48558434125 Question Type : MCQ Option Shuffling : No Is Question Mandatory : No Calculator : None Response Time : N.A Think Time : N.A Minimum Instruction Time : 0**

**Correct Marks : 5 Wrong Marks : 1**

**Question Key Details :**

Key	Value
Comprehension	MCQ

सूची I का सूची II से मिलान कीजिए

सूची I		सूची II	
A.	आदर्श	I.	अनिच्छा
B.	गृहीत	II.	शासित
C.	इच्छा	III.	यथार्थ
D.	शासक	IV.	त्यक्त

निम्नलिखित विकल्पों में से सही उत्तर का चयन कीजिए :

1. A-III, B-I, C-II, D-IV
2. A-III, B-IV, C-I, D-II
3. A-III, B-IV, C-II, D-I
4. A-III, B-II, C-IV, D-I

**Options :**

485584136497. 1  
485584136498. 2  
485584136499. 3  
485584136500. 4

**Question Number : 71 Question Id : 48558434126 Question Type : MCQ Option Shuffling : No Is Question Mandatory : No Calculator : None Response Time : N.A Think Time : N.A Minimum Instruction Time : 0**

**Correct Marks : 5 Wrong Marks : 1**

**Question Key Details :**

Key	Value
Comprehension	MCQ

'शूद्र' शब्द का विलोम होगा -

1. शुद्री
2. शूद्रा
3. शूदी
4. शूद्राइम

**Options :**

485584136501. 1

485584136502. 2  
485584136503. 3  
485584136504. 4

**Question Number : 72 Question Id : 48558434127 Question Type : MCQ Option Shuffling : No Is Question Mandatory : No Calculator : None Response Time : N.A Think Time : N.A Minimum Instruction Time : 0**

**Correct Marks : 5 Wrong Marks : 1**

**Question Key Details :**

Key	Value
Comprehension	MCQ

निम्नलिखित शब्दों में से कौन-सा शब्द सदैव बहुवचन में ही प्रयोग किया जाता है :

1. रीति
2. दर्शन
3. नीति
4. डोली

**Options :**

485584136505. 1  
485584136506. 2  
485584136507. 3  
485584136508. 4

**Question Number : 73 Question Id : 48558434128 Question Type : MCQ Option Shuffling : No Is Question Mandatory : No Calculator : None Response Time : N.A Think Time : N.A Minimum Instruction Time : 0**

**Correct Marks : 5 Wrong Marks : 1**

**Question Key Details :**

Key	Value
Comprehension	MCQ

'आगामी' शब्द का विलोम क्या होगा :

1. दूरगामी
2. पश्चगामी
3. अग्रगामी
4. विगत

**Options :**

485584136509. 1  
485584136510. 2  
485584136511. 3  
485584136512. 4

**Question Number : 74 Question Id : 48558434129 Question Type : MCQ Option Shuffling : No Is Question Mandatory : No Calculator : None Response Time : N.A Think Time : N.A Minimum Instruction Time : 0**

**Correct Marks : 5 Wrong Marks : 1**

**Question Key Details :**

Key	Value
Comprehension	MCQ

सूची I का सूची II से मिलान कीजिए

सूची I		सूची II	
शब्द		पर्यायवाची	
A.	स्त्री	I.	हय
B.	मुकुंद	II.	विष्णु
C.	आग	III.	वनिता
D.	अश्व	IV.	पावक

निम्नलिखित विकल्पों में से सही उत्तर का चयन कीजिए :

1. A-II, B-I, C-IV, D-III
2. A-III, B-IV, C-II, D-I
3. A-III, B-II, C-IV, D-I
4. A-I, B-II, C-III, D-IV

**Options :**

485584136513. 1  
485584136514. 2  
485584136515. 3  
485584136516. 4

**Question Number : 75 Question Id : 48558434130 Question Type : MCQ Option Shuffling : No Is Question Mandatory : No Calculator : None Response Time : N.A Think Time : N.A Minimum Instruction Time : 0**

**Correct Marks : 5 Wrong Marks : 1**

**Question Key Details :**

Key	Value
Comprehension	MCQ

इनमें से कौन-सा शब्द अनेकार्थी नहीं है ?

1. खर
2. कर
3. कनक
4. दही

**Options :**

485584136517. 1  
485584136518. 2  
485584136519. 3  
485584136520. 4

Question Number : 76 Question Id : 48558434131 Question Type : MCQ Option Shuffling : No Is Question Mandatory : No Calculator : None Response Time : N.A Think Time : N.A Minimum Instruction Time : 0

Correct Marks : 5 Wrong Marks : 1

Question Key Details :

Key	Value
Comprehension	MCQ

कौन-सा शब्द दिए गए शब्द का अनेकार्थी नहीं है -

1. जाति
2. धर्म
3. अक्षर
4. रंग

Options :

485584136521. 1  
485584136522. 2  
485584136523. 3  
485584136524. 4

Question Number : 77 Question Id : 48558434132 Question Type : MCQ Option Shuffling : No Is Question Mandatory : No Calculator : None Response Time : N.A Think Time : N.A Minimum Instruction Time : 0

Correct Marks : 5 Wrong Marks : 1

Question Key Details :

Key	Value
Comprehension	MCQ

निम्नलिखित में से शुद्ध वर्तनी है -

1. कृतग्य
2. कृतज्ञ
3. कृतघन
4. कृतनध

Options :

485584136525. 1  
485584136526. 2  
485584136527. 3  
485584136528. 4

Question Number : 78 Question Id : 48558434133 Question Type : MCQ Option Shuffling : No Is Question Mandatory : No Calculator : None Response Time : N.A Think Time : N.A Minimum Instruction Time : 0

Correct Marks : 5 Wrong Marks : 1

Question Key Details :

Key	Value
Comprehension	MCQ

सूची I का सूची II से मिलान कीजिए

सूची I		सूची II	
A.	तत्सम	I.	सौ
B.	तद्भव	II.	मोर
C.	देशज	III.	निद्रा
D.	तद्भव	IV.	पगड़ी

निम्नलिखित विकल्पों में से सही उत्तर का चयन कीजिए :

1. A-III, B-I, C-IV, D-II
2. A-III, B-IV, C-II, D-I
3. A-III, B-I, C-II, D-IV
4. A-I, B-II, C-III, D-IV

**Options :**

485584136529. 1  
485584136530. 2  
485584136531. 3  
485584136532. 4

**Question Number : 79 Question Id : 48558434134 Question Type : MCQ Option Shuffling : No Is Question Mandatory : No Calculator : None Response Time : N.A Think Time : N.A Minimum Instruction Time : 0**

**Correct Marks : 5 Wrong Marks : 1**

**Question Key Details :**

Key	Value
Comprehension	MCQ

निम्नलिखित शब्दों में कौन-सा तत्सम है :

1. निर्जीव
2. नेह
3. निकास
4. नौकर

**Options :**

485584136533. 1  
485584136534. 2  
485584136535. 3  
485584136536. 4

**Question Number : 80 Question Id : 48558434135 Question Type : MCQ Option Shuffling : No Is Question Mandatory : No Calculator : None Response Time : N.A Think Time : N.A Minimum Instruction Time : 0**

**Correct Marks : 5 Wrong Marks : 1**

**Question Key Details :**

Key	Value
Comprehension	MCQ

कालक्रम की दृष्टि से निम्नलिखित रचनाकारों का सही अनुक्रम क्या है -

- A. महादेवी वर्मा
- B. भारतेन्दु हरिश्चंद्र
- C. प्रेमचंद
- D. मोहन राकेश
- E. कबीर

नीचे दिए गए विकल्पों में से सही उत्तर का चयन कीजिए :

- 1. E, B, C, A, D
- 2. E, A, B, C, D
- 3. E, C, B, A, D
- 4. E, B, A, C, D

**Options :**

- 485584136537. 1
- 485584136538. 2
- 485584136539. 3
- 485584136540. 4

**Question Number : 81 Question Id : 48558434136 Question Type : MCQ Option Shuffling : No Is Question Mandatory : No Calculator : None Response Time : N.A Think Time : N.A Minimum Instruction Time : 0**

**Correct Marks : 5 Wrong Marks : 1**

**Question Key Details :**

Key	Value
Comprehension	MCQ

तुलसीदास की निम्न रचनाओं को काल क्रमानुसार लगाइए -

- A. रामाज्ञा प्रश्नावली
- B. रामललानहछू
- C. वैराग्य संदीपनी
- D. रामचरितमानस
- E. जानकी मंगल

नीचे दिए गए विकल्पों में से सही उत्तर का चयन कीजिए :

- 1. A, B, C, D, E
- 2. C, A, E, D, B
- 3. C, A, B, E, D
- 4. C, A, E, B, D

**Options :**

- 485584136541. 1

485584136542. 2  
485584136543. 3  
485584136544. 4

**Question Number : 82 Question Id : 48558434137 Question Type : MCQ Option Shuffling : No Is Question Mandatory : No Calculator : None Response Time : N.A Think Time : N.A Minimum Instruction Time : 0**

**Correct Marks : 5 Wrong Marks : 1**

**Question Key Details :**

Key	Value
Comprehension	MCQ

निबंध के संदर्भ में कौन-सा कथन सत्य है-

- A. निबंध छंद में लिखी जाने वाली विधा है।
- B. निबंध पद्य में लिखा जाता है।
- C. निबंध का अर्थ है- भली प्रकार बँधा हुआ।
- D. निबंध में संवाद का होना अनिवार्य है।
- E. निबंध में किसी व्यक्ति के जीवन का समग्र वर्णन होता है।

नीचे दिए गए विकल्पों में से सही उत्तर का चयन कीजिए :

- 1. केवल A
- 2. केवल C
- 3. केवल B
- 4. केवल E

**Options :**

485584136545. 1  
485584136546. 2  
485584136547. 3  
485584136548. 4

**Question Number : 83 Question Id : 48558434138 Question Type : MCQ Option Shuffling : No Is Question Mandatory : No Calculator : None Response Time : N.A Think Time : N.A Minimum Instruction Time : 0**

**Correct Marks : 5 Wrong Marks : 1**

**Question Key Details :**

Key	Value
Comprehension	MCQ

सूची I का सूची II से मिलान कीजिए

सूची I		सूची II	
A.	अग्नि	I.	संघ
B.	किरण	II.	सुरसरित
C.	गंगा	III.	दहन
D.	आश्रम	IV.	मरीचि

निम्नलिखित विकल्पों में से सही उत्तर का चयन कीजिए :

1. A-III, B-II, D-IV, D-I
2. A-III, B-IV, D-II, D-I
3. A-II, B-I, D-IV, D-III
4. A-IV, B-III, D-I, D-II

**Options :**

485584136549. 1  
485584136550. 2  
485584136551. 3  
485584136552. 4

**Question Number : 84 Question Id : 48558434139 Question Type : MCQ Option Shuffling : No Is Question Mandatory : No Calculator : None Response Time : N.A Think Time : N.A Minimum Instruction Time : 0**

**Correct Marks : 5 Wrong Marks : 1**

**Question Key Details :**

Key	Value
Comprehension	MCQ

निश्चित समय में पत्र का उत्तर न प्राप्त होने की दशा में अनुबोधक के रूप में भेजा जाने वाले पत्र कहलाता है:

1. ज्ञापन
2. अनुस्मारक
3. परिपत्र
4. प्रतिवेदन

**Options :**

485584136553. 1  
485584136554. 2  
485584136555. 3  
485584136556. 4

**Question Number : 85 Question Id : 48558434140 Question Type : MCQ Option Shuffling : No Is Question Mandatory : No Calculator : None Response Time : N.A Think Time : N.A Minimum Instruction Time : 0**

**Correct Marks : 5 Wrong Marks : 1**

**Question Key Details :**



Key	Value
Comprehension	MCQ

जिसका त्याग नहीं किया जाए, वाक्यांश के लिए एक शब्द बताइए:

1. अत्याग
2. अपरिहार्य
3. अनिर्वचनीय
4. वीतरागी

**Options :**

485584136557. 1  
485584136558. 2  
485584136559. 3  
485584136560. 4

**Question Number : 86 Question Id : 48558434141 Question Type : MCQ Option Shuffling : No Is Question Mandatory : No Calculator : None Response Time : N.A Think Time : N.A Minimum Instruction Time : 0**

**Correct Marks : 5 Wrong Marks : 1**

**Question Key Details :**

Key	Value
Comprehension	MCQ

'थोथा चना बाजे घना' मुहावरे का अर्थ क्या है, सही विकल्प का चुनाव करें :

1. चना अधिक शोर करता है
2. अज्ञानी व्यक्ति अधिक अपने ज्ञान का प्रचार करता है
3. चना वाद्ययंत्र में प्रयोग होता है
4. ज्ञानी व्यक्ति अधिक बोलता है

**Options :**

485584136561. 1  
485584136562. 2  
485584136563. 3  
485584136564. 4

**Question Number : 87 Question Id : 48558434142 Question Type : MCQ Option Shuffling : No Is Question Mandatory : No Calculator : None Response Time : N.A Think Time : N.A Minimum Instruction Time : 0**

**Correct Marks : 5 Wrong Marks : 1**

**Question Key Details :**

Key	Value
Comprehension	MCQ

'नदी-नाव संयोग' - लोकोक्ति का क्या अर्थ है :

1. नदी व नाव का साथ होना
2. नदी व नाव का अलग-अलग होना
3. नदी के ऊपर नाव रखती है
4. अटूट संबंध

**Options :**

485584136565. 1  
485584136566. 2  
485584136567. 3  
485584136568. 4

**Question Number : 88 Question Id : 48558434143 Question Type : MCQ Option Shuffling : No Is Question Mandatory : No Calculator : None Response Time : N.A Think Time : N.A Minimum Instruction Time : 0**

**Correct Marks : 5 Wrong Marks : 1**

**Question Key Details :**

Key	Value
Comprehension	MCQ

'निठल्ला' का उपसर्ग है -

1. निठ
2. निः
3. नि
4. निठ्

**Options :**

485584136569. 1  
485584136570. 2  
485584136571. 3  
485584136572. 4

**Question Number : 89 Question Id : 48558434144 Question Type : MCQ Option Shuffling : No Is Question Mandatory : No Calculator : None Response Time : N.A Think Time : N.A Minimum Instruction Time : 0**

**Correct Marks : 5 Wrong Marks : 1**

**Question Key Details :**

Key	Value
Comprehension	MCQ

नीचे दो कथन दिए गए है :

कथन I : 'जो प्रत्यय क्रिया के धातु रूप के उपरान्त लगते हैं' वे तद्धित प्रत्यय हैं।

कथन II : 'जिन शब्दांशों का प्रयोग क्रिया से भिन्न (संज्ञा, सर्वनाम, विशेषण व अव्यय) शब्दों के अंत में किया जाए, उन्हें कृत् प्रत्यय कहते हैं।

उपरोक्त कथनों के आलोक में, नीचे दिए गए विकल्पों में सही उत्तर का चयन कीजिए :

1. कथन I और कथन II दोनों सत्य हैं।
2. कथन I और कथन II दोनों असत्य हैं।
3. कथन I सत्य है लेकिन कथन II असत्य हैं
4. कथन I असत्य है लेकिन कथन II सत्य हैं

**Options :**

485584136573. 1  
485584136574. 2  
485584136575. 3  
485584136576. 4

**Question Number : 90 Question Id : 48558434145 Question Type : MCQ Option Shuffling : No Is Question Mandatory : No Calculator : None Response Time : N.A Think Time : N.A Minimum Instruction Time : 0 Correct Marks : 5 Wrong Marks : 1**

**Question Key Details :**

Key	Value
Comprehension	MCQ

'मदन काली कमीज़ पहनकर विद्यालय आया' में विशेषण पहचानिये -

1. मदन
2. काली
3. कमीज़
4. विद्यालय

**Options :**

485584136577. 1  
485584136578. 2  
485584136579. 3  
485584136580. 4

**Question Number : 91 Question Id : 48558434146 Question Type : MCQ Option Shuffling : No Is Question Mandatory : No Calculator : None Response Time : N.A Think Time : N.A Minimum Instruction Time : 0 Correct Marks : 5 Wrong Marks : 1**

**Question Key Details :**

Key	Value
-----	-------

Comprehension	MCQ
---------------	-----

निम्नलिखित शब्द में उपयुक्त 'विशेष्य' का चयन कीजिए :

'ईर्ष्यालु'

1. ईश
2. ई
3. ईर्ष्या
4. ईष्ट

**Options :**

485584136581. 1  
485584136582. 2  
485584136583. 3  
485584136584. 4

**Question Number : 92 Question Id : 48558434147 Question Type : MCQ Option Shuffling : No Is Question Mandatory : No Calculator : None Response Time : N.A Think Time : N.A Minimum Instruction Time : 0**

**Correct Marks : 5 Wrong Marks : 1**

**Question Key Details :**

Key	Value
Comprehension	MCQ

'राम घोड़े से गिर पड़ा' रेखांकित पद में निहित कारक बातइये -

1. करण
2. संप्रदान
3. अपादान
4. अधिकरण

**Options :**

485584136585. 1  
485584136586. 2  
485584136587. 3  
485584136588. 4

**Question Number : 93 Question Id : 48558434148 Question Type : MCQ Option Shuffling : No Is Question Mandatory : No Calculator : None Response Time : N.A Think Time : N.A Minimum Instruction Time : 0**

**Correct Marks : 5 Wrong Marks : 1**

**Question Key Details :**

Key	Value
Comprehension	MCQ

बालक महल से नीचे गिर गया। में कौन-सा कारक है?

1. संप्रदान
2. अपादान
3. कर्ता
4. कर्म

**Options :**

485584136589. 1  
485584136590. 2  
485584136591. 3  
485584136592. 4

**Question Number : 94 Question Id : 48558434149 Question Type : MCQ Option Shuffling : No Is Question Mandatory : No Calculator : None Response Time : N.A Think Time : N.A Minimum Instruction Time : 0**

**Correct Marks : 5 Wrong Marks : 1**

**Question Key Details :**

Key	Value
Comprehension	MCQ

सूची I का सूची II से मिलान कीजिए

सूची I		सूची II	
A.	अकेले सफर का वक्त काटने के लिए ही नींबू खरीदे होंगे।	I.	आरंभ बोधक
B.	वह पढ़ता-लिखता है।	II.	इच्छाबोधक
C.	मेघ बरसने लगा।	III.	सकर्मक क्रिया
D.	बच्चा बहुत खाना खाना चाहता है।	IV.	अकर्मक क्रिया

निम्नलिखित विकल्पों में से सही उत्तर का चयन कीजिए :

1. A-I, B-III, C-II, D-IV
2. A-III, B-IV, C-I, D-II
3. A-IV, B-II, C-III, D-I
4. A-II, B-I, C-IV, D-III

**Options :**

485584136593. 1  
485584136594. 2  
485584136595. 3  
485584136596. 4

**Question Number : 95 Question Id : 48558434150 Question Type : MCQ Option Shuffling : No Is Question Mandatory : No Calculator : None Response Time : N.A Think Time : N.A Minimum Instruction Time : 0**

**Correct Marks : 5 Wrong Marks : 1**

**Question Key Details :**

Key	Value
Comprehension	MCQ

पुलिस चोर को पीटते-पीटते थाने ले गई - वाक्य में कौन-सी क्रिया है?

1. सकर्मक
2. अकर्मक
3. संयुक्त
4. साधारण

**Options :**

485584136597. 1  
485584136598. 2  
485584136599. 3  
485584136600. 4

**Question Number : 96 Question Id : 48558434151 Question Type : MCQ Option Shuffling : No Is Question Mandatory : No Calculator : None Response Time : N.A Think Time : N.A Minimum Instruction Time : 0**

**Correct Marks : 5 Wrong Marks : 1**

**Question Key Details :**

Key	Value
Comprehension	MCQ

'चिराग तले अंधेरा है' वाक्य में कौन-सा शब्द अव्यय है ?

1. चिराग
2. अंधेरा
3. तले
4. है

**Options :**

485584136601. 1  
485584136602. 2  
485584136603. 3  
485584136604. 4

**Question Number : 97 Question Id : 48558434152 Question Type : MCQ Option Shuffling : No Is Question Mandatory : No Calculator : None Response Time : N.A Think Time : N.A Minimum Instruction Time : 0**

**Correct Marks : 5 Wrong Marks : 1**

**Question Key Details :**

Key	Value
Comprehension	MCQ

'पित्रिच्छा' का सही संधि विच्छेद है -

1. पितृ + इच्छा
2. पितृ: ईच्छा
3. पित्रि + इच्छा
4. पित्रि: ईच्छा

**Options :**

485584136605. 1  
485584136606. 2  
485584136607. 3  
485584136608. 4

**Question Number : 98 Question Id : 48558434153 Question Type : MCQ Option Shuffling : No Is Question Mandatory : No Calculator : None Response Time : N.A Think Time : N.A Minimum Instruction Time : 0**

**Correct Marks : 5 Wrong Marks : 1**

**Question Key Details :**

Key	Value
Comprehension	MCQ

इनमें से किसमें महाप्राणीकरण हुआ है?

1. सब+ही
2. कान + कटा
3. वहाँ + ही
4. मूसल + धार

**Options :**

485584136609. 1  
485584136610. 2  
485584136611. 3  
485584136612. 4

**Question Number : 99 Question Id : 48558434154 Question Type : MCQ Option Shuffling : No Is Question Mandatory : No Calculator : None Response Time : N.A Think Time : N.A Minimum Instruction Time : 0**

**Correct Marks : 5 Wrong Marks : 1**

**Question Key Details :**

Key	Value
Comprehension	MCQ

निम्नलिखित पंक्तियों में कौन-सा छंद प्रयुक्त हुआ है?

‘मंगल भवन अमंगल हारी।  
द्रवहु सो दशरथ अजिर बिहारी॥

1. दोहा
2. सौरठा
3. चौपाई
4. रोला

**Options :**

485584136613. 1  
485584136614. 2  
485584136615. 3  
485584136616. 4

**Question Number : 100 Question Id : 48558434155 Question Type : MCQ Option Shuffling : No Is Question Mandatory : No Calculator : None Response Time : N.A Think Time : N.A Minimum Instruction Time : 0**

**Correct Marks : 5 Wrong Marks : 1**

**Question Key Details :**

Key	Value
Comprehension	MCQ

कौन-सा बहुव्रीहि समास का उदाहरण है-

1. बेराह
2. प्रतिदिन
3. मीनाक्षी
4. राजपुत्र

**Options :**

485584136617. 1  
485584136618. 2  
485584136619. 3  
485584136620. 4

## Odia

<b>Group Number :</b>	3
<b>Group Id :</b>	485584770
<b>Group Maximum Duration :</b>	45
<b>Group Minimum Duration :</b>	45
<b>Show Attended Group? :</b>	No
<b>Edit Attended Group? :</b>	No
<b>Break time :</b>	0
<b>Group Marks :</b>	200



<b>Is this Group for Examiner? :</b>	No
<b>Examiner permission :</b>	Cant View
<b>Show Progress Bar? :</b>	No

## Odia

<b>Section Id :</b>	485584888
<b>Section Number :</b>	1
<b>Section type :</b>	Online
<b>Mandatory or Optional :</b>	Mandatory
<b>Number of Questions :</b>	50
<b>Number of Questions to be attempted :</b>	40
<b>Section Marks :</b>	200
<b>Enable Mark as Answered Mark for Review and Clear Response :</b>	Yes
<b>Maximum Instruction Time :</b>	0
<b>Sub-Section Number :</b>	1
<b>Sub-Section Id :</b>	4855842514
<b>Question Shuffling Allowed :</b>	No
<b>Is Section Default? :</b>	null
<b>Sub-Section Number :</b>	2
<b>Sub-Section Id :</b>	4855842515
<b>Question Shuffling Allowed :</b>	No
<b>Is Section Default? :</b>	null
<b>Sub-Section Number :</b>	3
<b>Sub-Section Id :</b>	4855842516
<b>Question Shuffling Allowed :</b>	No
<b>Is Section Default? :</b>	null
<b>Sub-Section Number :</b>	4
<b>Sub-Section Id :</b>	4855842517
<b>Question Shuffling Allowed :</b>	Yes
<b>Is Section Default? :</b>	null

## Punjabi

<b>Group Number :</b>	4
<b>Group Id :</b>	485584771
<b>Group Maximum Duration :</b>	45
<b>Group Minimum Duration :</b>	45
<b>Show Attended Group? :</b>	No
<b>Edit Attended Group? :</b>	No
<b>Break time :</b>	0
<b>Group Marks :</b>	200
<b>Is this Group for Examiner? :</b>	No
<b>Examiner permission :</b>	Cant View
<b>Show Progress Bar? :</b>	No

## Punjabi

<b>Section Id :</b>	485584889
<b>Section Number :</b>	1
<b>Section type :</b>	Online

<b>Mandatory or Optional :</b>	Mandatory
<b>Number of Questions :</b>	50
<b>Number of Questions to be attempted :</b>	40
<b>Section Marks :</b>	200
<b>Enable Mark as Answered Mark for Review and Clear Response :</b>	Yes
<b>Maximum Instruction Time :</b>	0
<b>Sub-Section Number :</b>	1
<b>Sub-Section Id :</b>	4855842518
<b>Question Shuffling Allowed :</b>	No
<b>Is Section Default? :</b>	null
<b>Sub-Section Number :</b>	2
<b>Sub-Section Id :</b>	4855842519
<b>Question Shuffling Allowed :</b>	No
<b>Is Section Default? :</b>	null
<b>Sub-Section Number :</b>	3
<b>Sub-Section Id :</b>	4855842520
<b>Question Shuffling Allowed :</b>	No
<b>Is Section Default? :</b>	null
<b>Sub-Section Number :</b>	4
<b>Sub-Section Id :</b>	4855842521
<b>Question Shuffling Allowed :</b>	Yes
<b>Is Section Default? :</b>	null

## Tamil

<b>Group Number :</b>	5
<b>Group Id :</b>	485584772
<b>Group Maximum Duration :</b>	45
<b>Group Minimum Duration :</b>	45
<b>Show Attended Group? :</b>	No
<b>Edit Attended Group? :</b>	No
<b>Break time :</b>	0
<b>Group Marks :</b>	200
<b>Is this Group for Examiner? :</b>	No
<b>Examiner permission :</b>	Cant View
<b>Show Progress Bar? :</b>	No

## Tamil

<b>Section Id :</b>	485584890
<b>Section Number :</b>	1
<b>Section type :</b>	Online
<b>Mandatory or Optional :</b>	Mandatory
<b>Number of Questions :</b>	50
<b>Number of Questions to be attempted :</b>	40
<b>Section Marks :</b>	200
<b>Enable Mark as Answered Mark for Review and Clear Response :</b>	Yes
<b>Maximum Instruction Time :</b>	0
<b>Sub-Section Number :</b>	1
<b>Sub-Section Id :</b>	4855842522
<b>Question Shuffling Allowed :</b>	No
<b>Is Section Default? :</b>	null

<b>Sub-Section Number :</b>	2
<b>Sub-Section Id :</b>	4855842523
<b>Question Shuffling Allowed :</b>	No
<b>Is Section Default? :</b>	null
<b>Sub-Section Number :</b>	3
<b>Sub-Section Id :</b>	4855842524
<b>Question Shuffling Allowed :</b>	No
<b>Is Section Default? :</b>	null
<b>Sub-Section Number :</b>	4
<b>Sub-Section Id :</b>	4855842525
<b>Question Shuffling Allowed :</b>	Yes
<b>Is Section Default? :</b>	null

## Spanish

<b>Group Number :</b>	6
<b>Group Id :</b>	485584773
<b>Group Maximum Duration :</b>	45
<b>Group Minimum Duration :</b>	45
<b>Show Attended Group? :</b>	No
<b>Edit Attended Group? :</b>	No
<b>Break time :</b>	0
<b>Group Marks :</b>	200
<b>Is this Group for Examiner? :</b>	No
<b>Examiner permission :</b>	Cant View
<b>Show Progress Bar? :</b>	No

## Spanish

<b>Section Id :</b>	485584891
<b>Section Number :</b>	1
<b>Section type :</b>	Online
<b>Mandatory or Optional :</b>	Mandatory
<b>Number of Questions :</b>	50
<b>Number of Questions to be attempted :</b>	40
<b>Section Marks :</b>	200
<b>Enable Mark as Answered Mark for Review and Clear Response :</b>	Yes
<b>Maximum Instruction Time :</b>	0
<b>Sub-Section Number :</b>	1
<b>Sub-Section Id :</b>	4855842526
<b>Question Shuffling Allowed :</b>	No
<b>Is Section Default? :</b>	null
<b>Sub-Section Number :</b>	2
<b>Sub-Section Id :</b>	4855842527
<b>Question Shuffling Allowed :</b>	No
<b>Is Section Default? :</b>	null
<b>Sub-Section Number :</b>	3
<b>Sub-Section Id :</b>	4855842528
<b>Question Shuffling Allowed :</b>	No
<b>Is Section Default? :</b>	null
<b>Sub-Section Number :</b>	4
<b>Sub-Section Id :</b>	4855842529

Question Shuffling Allowed : Yes  
Is Section Default? : null

## Anthropology

Group Number : 7  
Group Id : 485584774  
Group Maximum Duration : 45  
Group Minimum Duration : 45  
Show Attended Group? : No  
Edit Attended Group? : No  
Break time : 0  
Group Marks : 200  
Is this Group for Examiner? : No  
Examiner permission : Cant View  
Show Progress Bar? : No

## Anthropology

Section Id : 485584892  
Section Number : 1  
Section type : Online  
Mandatory or Optional : Mandatory  
Number of Questions : 50  
Number of Questions to be attempted : 40  
Section Marks : 200  
Enable Mark as Answered Mark for Review and Clear Response : Yes  
Maximum Instruction Time : 0  
Sub-Section Number : 1  
Sub-Section Id : 4855842530  
Question Shuffling Allowed : Yes  
Is Section Default? : null

Question Number : 101 Question Id : 48558434206 Question Type : MCQ Option Shuffling : No Is Question Mandatory : No Calculator : None Response Time : N.A Think Time : N.A Minimum Instruction Time : 0

Correct Marks : 5 Wrong Marks : 1

Question Key Details :

Key	Value
Comprehension	MCQ

The science of genetics is an important discipline which deals with the:

1. Study of organism in their natural habitat
2. Study of relation of humans and their culture
3. Study of heredity or mechanism of inheritance
4. Study of micro-organism

Options :

485584136821. 1  
485584136822. 2

485584136823. 3  
485584136824. 4

**Question Number : 101 Question Id : 48558434206 Question Type : MCQ Option Shuffling : No Is Question Mandatory : No Calculator : None Response Time : N.A Think Time : N.A Minimum Instruction Time : 0**

**Correct Marks : 5 Wrong Marks : 1**

**Question Key Details :**

Key	Value
Comprehension	MCQ

एक महत्वपूर्ण अनुशासन में आनुवांशिकी का विज्ञान जो संबंधित है :

1. उनकी प्राकृतिक आदत में जीवों का अध्ययन
2. मनुष्यों और उनकी संस्कृति के संबंध का अध्ययन
3. आनुवंशिकता या विरासत के तंत्र का अध्ययन
4. सूक्ष्म जीवों का अध्ययन

**Options :**

485584136821. 1  
485584136822. 2  
485584136823. 3  
485584136824. 4

**Question Number : 102 Question Id : 48558434207 Question Type : MCQ Option Shuffling : No Is Question Mandatory : No Calculator : None Response Time : N.A Think Time : N.A Minimum Instruction Time : 0**

**Correct Marks : 5 Wrong Marks : 1**

**Question Key Details :**

Key	Value
Comprehension	MCQ

Scientists associated with rediscovery of Mendel's law were.

1. de Vries, Carrens and von Tschermak
2. Walter Sutton, Landsteiner and Theodore Boveri
3. Longdon Varies, James Watson and Mark Chose
4. Alfred Hershey, Peter Curtstein and Victor Hugo

**Options :**

485584136825. 1  
485584136826. 2  
485584136827. 3  
485584136828. 4

**Question Number : 102 Question Id : 48558434207 Question Type : MCQ Option Shuffling : No Is Question Mandatory : No Calculator : None Response Time : N.A Think Time : N.A Minimum Instruction Time : 0**

**Correct Marks : 5 Wrong Marks : 1**

**Question Key Details :**

Key	Value
-----	-------

Comprehension	MCQ
---------------	-----

मेंडल का नियम की पुर्नखोज से जुड़े वैज्ञानिक थे

1. डी ब्रीस, कैरेन्स और वॉन चेरमार्क
2. वाल्टर सटन, लैडस्टीनर थियोडोर बोवेरी
3. लॉन्गडन वेरीस, जेम्स वाटसन और मार्क चोस
4. अल्फ्रेड हर्श, पीटर कर्टस्टीन और विक्टर ह्यूगों

**Options :**

485584136825. 1  
485584136826. 2  
485584136827. 3  
485584136828. 4

**Question Number : 103 Question Id : 48558434208 Question Type : MCQ Option Shuffling : No Is Question Mandatory : No Calculator : None Response Time : N.A Think Time : N.A Minimum Instruction Time : 0**

**Correct Marks : 5 Wrong Marks : 1**

**Question Key Details :**

Key	Value
Comprehension	MCQ

The production of gametes by the parents, the formation of the Zygotes, the F1 and F2 plants can be understood from a diagram called as:

1. Mendel Square
2. Punnett Square
3. Watson Square
4. Francis Crick Square

**Options :**

485584136829. 1  
485584136830. 2  
485584136831. 3  
485584136832. 4

**Question Number : 103 Question Id : 48558434208 Question Type : MCQ Option Shuffling : No Is Question Mandatory : No Calculator : None Response Time : N.A Think Time : N.A Minimum Instruction Time : 0**

**Correct Marks : 5 Wrong Marks : 1**

**Question Key Details :**

Key	Value
Comprehension	MCQ

माता-पिता द्वारा युग्मकों का उत्पादन, युग्मनज का निर्माण, F1 और F2 पौधों को एक अरेख से समझा जा सकता है जिसे कहा जाता है :

1. मेंडेल स्क्रायर
2. पनेट स्क्रायर
3. वाटसन स्क्रायर
4. फ्रांसिस क्रिक स्क्रायर

**Options :**

485584136829. 1  
485584136830. 2  
485584136831. 3  
485584136832. 4

**Question Number : 104 Question Id : 48558434209 Question Type : MCQ Option Shuffling : No Is Question Mandatory : No Calculator : None Response Time : N.A Think Time : N.A Minimum Instruction Time : 0**

**Correct Marks : 5 Wrong Marks : 1**

**Question Key Details :**

Key	Value
Comprehension	MCQ

The belief without scientific basis that some "races" are inferior to others is known as:

1. Ethnocentrism
2. Racism
3. Cultural relativism
4. Animatism

**Options :**

485584136833. 1  
485584136834. 2  
485584136835. 3  
485584136836. 4

**Question Number : 104 Question Id : 48558434209 Question Type : MCQ Option Shuffling : No Is Question Mandatory : No Calculator : None Response Time : N.A Think Time : N.A Minimum Instruction Time : 0**

**Correct Marks : 5 Wrong Marks : 1**

**Question Key Details :**

Key	Value
Comprehension	MCQ

वैज्ञानिक आधार के बिना यह विश्वास कि कुछ "जाति" दूसरों से हीन है, के रूप में जाना जाता है :

1. प्रजातिकेंद्रिता
2. जातिवाद
3. सांस्कृतिक सापेक्षवाद
4. जीववाद

**Options :**

485584136833. 1  
485584136834. 2  
485584136835. 3  
485584136836. 4

**Question Number : 105 Question Id : 48558434210 Question Type : MCQ Option Shuffling : No Is Question Mandatory : No Calculator : None Response Time : N.A Think Time : N.A Minimum Instruction Time : 0**

**Correct Marks : 5 Wrong Marks : 1**

**Question Key Details :**

Key	Value
Comprehension	MCQ

The Fibrinogen has got some special features. It may cause clotting in whole blood by creating certain fibrous substances known as:

1. Clot
2. Lymph
3. PLASMA
4. Fibrin

**Options :**

485584136837. 1  
485584136838. 2  
485584136839. 3  
485584136840. 4

**Question Number : 105 Question Id : 48558434210 Question Type : MCQ Option Shuffling : No Is Question Mandatory : No Calculator : None Response Time : N.A Think Time : N.A Minimum Instruction Time : 0**

**Correct Marks : 5 Wrong Marks : 1**

**Question Key Details :**

Key	Value
Comprehension	MCQ



फाइब्रेजेन की कुछ विशेष विशेषताएं मिली हैं। यह कई रेशेदार पदार्थ बनकर पूरे रक्त में धक्के का कारण बनता है जिसे जाना जाता है

1. धक्का
2. लसीका
3. प्लाज्मा
4. फाइब्रिन

**Options :**

485584136837. 1  
485584136838. 2  
485584136839. 3  
485584136840. 4

**Question Number : 106 Question Id : 48558434211 Question Type : MCQ Option Shuffling : No Is Question Mandatory : No Calculator : None Response Time : N.A Think Time : N.A Minimum Instruction Time : 0**

**Correct Marks : 5 Wrong Marks : 1**

**Question Key Details :**

Key	Value
Comprehension	MCQ

Match List I with List II

LIST I Persons of blood group		LIST II Can receive blood from persons having blood group	
A.	A	I.	O
B.	B	II.	A, B, AB, O
C.	AB	III.	B, O
D.	O	IV.	A, O

Choose the correct answer from the options given below:

1. A-IV, B-II, C-III, D-I
2. A-I, B-II, C-III, D-IV
3. A-IV, B-III, C-II, D-I
4. A-II, B-III, C-I, D-IV

**Options :**

485584136841. 1  
485584136842. 2  
485584136843. 3  
485584136844. 4

**Question Number : 106 Question Id : 48558434211 Question Type : MCQ Option Shuffling : No Is Question Mandatory : No Calculator : None Response Time : N.A Think Time : N.A Minimum Instruction Time : 0**

**Correct Marks : 5 Wrong Marks : 1**

**Question Key Details :**

Key	Value
Comprehension	MCQ

सूची I का सूची II के साथ मिलान कीजिए

सूची I व्यक्ति का रक्त समूह		सूची II	
A.	A	I.	O
B.	B	II.	A, B, AB, O
C.	AB	III.	B, O
D.	O	IV.	A, O

नीचे दिये गये विकल्पों में सही उत्तर का चयन कीजिए :

1. A-IV, B-II, C-III, D-I
2. A-I, B-II, C-III, D-IV
3. A-IV, B-III, C-II, D-I
4. A-II, B-III, C-I, D-IV

**Options :**

485584136841. 1  
485584136842. 2  
485584136843. 3  
485584136844. 4

**Question Number : 107 Question Id : 48558434212 Question Type : MCQ Option Shuffling : No Is Question Mandatory : No Calculator : None Response Time : N.A Think Time : N.A Minimum Instruction Time : 0**

**Correct Marks : 5 Wrong Marks : 1**

**Question Key Details :**

Key	Value
Comprehension	MCQ

Write the following in chronological order beginning from the oldest to the newest.

- A. Microliths
- B. Copper - clay culture
- C. Core tool industry
- D. Flake tool culture
- E. Blade tool culture

Choose the correct answer from the options given below:

1. A, B, C, D, E
2. C, D, A, B, E
3. E, A, B, C, D
4. C, D, E, A, B

**Options :**

485584136845. 1

485584136846. 2  
485584136847. 3  
485584136848. 4

**Question Number : 107 Question Id : 48558434212 Question Type : MCQ Option Shuffling : No Is Question Mandatory : No Calculator : None Response Time : N.A Think Time : N.A Minimum Instruction Time : 0**

**Correct Marks : 5 Wrong Marks : 1**

**Question Key Details :**

Key	Value
Comprehension	MCQ

निम्नलिखित की कालानुक्रमिक क्रम में सबसे पुराने से सबसे नए तक लिखें

- A. सूक्ष्मपाषाण
- B. तांबा-मिट्टी संस्कृति
- C. परत उपकरण संस्कृति
- D. शल्क उपकरण संस्कृति
- E. फलक उपकरण संस्कृति

नीचे दिये गये विकल्पों में सही उत्तर का चयन कीजिए :

- 1. A, B, C, D, E
- 2. C, D, A, B, E
- 3. E, A, B, C, D
- 4. C, D, E, A, B

**Options :**

485584136845. 1  
485584136846. 2  
485584136847. 3  
485584136848. 4

**Question Number : 108 Question Id : 48558434213 Question Type : MCQ Option Shuffling : No Is Question Mandatory : No Calculator : None Response Time : N.A Think Time : N.A Minimum Instruction Time : 0**

**Correct Marks : 5 Wrong Marks : 1**

**Question Key Details :**

Key	Value
Comprehension	MCQ

To determine the genotype of a tall plant at  $F_2$  generation, Mendel crossed the tall plant from  $F_2$  generation with a dwarf plant. This he called as:

- 1. Monohybrid Cross
- 2. Dihybrid Cross
- 3. Back Cross
- 4. Test Cross

**Options :**

485584136849. 1  
485584136850. 2  
485584136851. 3  
485584136852. 4

**Question Number : 108 Question Id : 48558434213 Question Type : MCQ Option Shuffling : No Is Question Mandatory : No Calculator : None Response Time : N.A Think Time : N.A Minimum Instruction Time : 0**

**Correct Marks : 5 Wrong Marks : 1**

**Question Key Details :**

Key	Value
Comprehension	MCQ

$F_2$  पीढ़ी के लंबे पौधे के जीनोटाइप को निर्धारित करने के लिए। मेंडल ने  $F_2$  पीढ़ी के लंबे पौधे को एक बौने पौधे से क्रॉस कराया। इसे उन्होंने ने कहा :

1. मोनोहाइब्रिड क्रॉस
2. डीहाइब्रिड क्रॉस
3. बैक क्रॉस
4. टेस्ट क्रॉस

**Options :**

485584136849. 1  
485584136850. 2  
485584136851. 3  
485584136852. 4

**Question Number : 109 Question Id : 48558434214 Question Type : MCQ Option Shuffling : No Is Question Mandatory : No Calculator : None Response Time : N.A Think Time : N.A Minimum Instruction Time : 0**

**Correct Marks : 5 Wrong Marks : 1**

**Question Key Details :**

Key	Value
Comprehension	MCQ

Which of the following does not belong to the Mendel's law of inheritance.

1. Law of Dominance
2. Law of Segregation
3. Use and Disuse of organs
4. Law of Purity of gametes

**Options :**

485584136853. 1  
485584136854. 2  
485584136855. 3  
485584136856. 4

**Question Number : 109 Question Id : 48558434214 Question Type : MCQ Option Shuffling : No Is Question Mandatory : No Calculator : None Response Time : N.A Think Time : N.A Minimum Instruction Time : 0**

Correct Marks : 5 Wrong Marks : 1

Question Key Details :

Key	Value
Comprehension	MCQ

निम्नलिखित में से कौन-सी मेंडल के उत्तराधिकार के नियम से संबंधित नहीं हैं

1. प्रभुत्व का नियम
2. पृथक्करण का नियम
3. अंगों का उपयोग और अनुप्रयोग
4. युग्मकों को शुद्धता का नियम

Options :

485584136853. 1  
485584136854. 2  
485584136855. 3  
485584136856. 4

Question Number : 110 Question Id : 48558434215 Question Type : MCQ Option Shuffling : No Is Question Mandatory : No Calculator : None Response Time : N.A Think Time : N.A Minimum Instruction Time : 0

Correct Marks : 5 Wrong Marks : 1

Question Key Details :

Key	Value
Comprehension	MCQ

Which of the following are considered as primary race ?

- A. Mongoloid
- B. Australoid
- C. Veddoid
- D. Negroid
- E. Caucasoid

Choose the correct answer from the options given below:

1. A, D and E only
2. A, B and C only
3. B, C and D only
4. C, D and E only

Options :

485584136857. 1  
485584136858. 2  
485584136859. 3  
485584136860. 4

Question Number : 110 Question Id : 48558434215 Question Type : MCQ Option Shuffling : No Is Question Mandatory : No Calculator : None Response Time : N.A Think Time : N.A Minimum Instruction Time : 0

Correct Marks : 5 Wrong Marks : 1

Question Key Details :

Key	Value
Comprehension	MCQ

निम्नलिखित में से किसे प्राथमिक जाति माना जाता है ?

- A. मंगोलॉइड
- B. आस्ट्रेलॉइड
- C. वेडोइड
- D. निग्रोइड
- E. काकेसॉयड

नीचे दिए गये कूट से सही उत्तर का चुनाव कीजिए :

1. A, D और E केवल
2. A, B और C केवल
3. B, C और D केवल
4. C, D और E केवल

Options :

- 485584136857. 1
- 485584136858. 2
- 485584136859. 3
- 485584136860. 4

Question Number : 111 Question Id : 48558434216 Question Type : MCQ Option Shuffling : No Is Question Mandatory : No Calculator : None Response Time : N.A Think Time : N.A Minimum Instruction Time : 0

Correct Marks : 5 Wrong Marks : 1

Question Key Details :

Key	Value
Comprehension	MCQ

Match List I with List II

LIST I		LIST II	
A.	Anvil technique	I.	Swinging blow method
B.	Blade technique	II.	Negative Bulb of Percussion
C.	Clactonian technique	III.	Blade Tools
D.	Stone hammer technique	IV.	Handaxes

Choose the correct answer from the options given below:

1. A-IV, B-II, C-I, D-III
2. A-IV, B-III, C-I, D-II
3. A-I, B-II, C-III, D-IV
4. A-II, B-III, C-IV, D-I

**Options :**

485584136861. 1  
485584136862. 2  
485584136863. 3  
485584136864. 4

**Question Number : 111 Question Id : 48558434216 Question Type : MCQ Option Shuffling : No Is Question Mandatory : No Calculator : None Response Time : N.A Think Time : N.A Minimum Instruction Time : 0**

**Correct Marks : 5 Wrong Marks : 1**

**Question Key Details :**

Key	Value
Comprehension	MCQ

सूची I का सूची II से मिलान कीजिए

सूची I		सूची II	
A.	निहाई तकनीक	I.	बड़े परतदार उपकरण
B.	फलक तकनीक	II.	आधार कंद
C.	क्लैक्वोनियन तकनीक	III.	फलक उपकरण
D.	प्रस्तर हथौड़ा तकनीक	IV.	हस्तकुठार

निम्नलिखित विकल्पों में से सही उत्तर का चयन कीजिए :

1. A-IV, B-II, C-I, D-III
2. A-IV, B-III, C-I, D-II
3. A-I, B-II, C-III, D-IV
4. A-II, B-III, C-IV, D-I

**Options :**

485584136861. 1  
485584136862. 2  
485584136863. 3  
485584136864. 4

**Question Number : 112 Question Id : 48558434217 Question Type : MCQ Option Shuffling : No Is Question Mandatory : No Calculator : None Response Time : N.A Think Time : N.A Minimum Instruction Time : 0**

**Correct Marks : 5 Wrong Marks : 1**

**Question Key Details :**

Key	Value
Comprehension	MCQ

The first metal used in the human culture to make various implements was:

1. Bronze
2. Iron
3. Zinc
4. Copper

**Options :**

- 485584136865. 1
- 485584136866. 2
- 485584136867. 3
- 485584136868. 4

**Question Number : 112 Question Id : 48558434217 Question Type : MCQ Option Shuffling : No Is Question Mandatory : No Calculator : None Response Time : N.A Think Time : N.A Minimum Instruction Time : 0**

**Correct Marks : 5 Wrong Marks : 1**

**Question Key Details :**

Key	Value
Comprehension	MCQ

मानव संस्कृति में विभिन्न उपकरणों को बनाने के लिए प्रयुक्त होने वाली पहली घातु थी :

- 1. कांस्य
- 2. लोहा
- 3. जिंक
- 4. तांबा

**Options :**

- 485584136865. 1
- 485584136866. 2
- 485584136867. 3
- 485584136868. 4

**Question Number : 113 Question Id : 48558434218 Question Type : MCQ Option Shuffling : No Is Question Mandatory : No Calculator : None Response Time : N.A Think Time : N.A Minimum Instruction Time : 0**

**Correct Marks : 5 Wrong Marks : 1**

**Question Key Details :**

Key	Value
Comprehension	MCQ

Chopper - Chopping comprises of which of the following types?

- A. Pebble tool
- B. Chopper
- C. Chopping
- D. Proto handaxe
- E. Points

Choose the correct answer from the options given below:

- 1. A, B, C, E only
- 2. B, C, D and E only
- 3. A, B, C and D only
- 4. A, B, and E only

**Options :**



485584136869. 1  
485584136870. 2  
485584136871. 3  
485584136872. 4

**Question Number : 113 Question Id : 48558434218 Question Type : MCQ Option Shuffling : No Is Question Mandatory : No Calculator : None Response Time : N.A Think Time : N.A Minimum Instruction Time : 0**

**Correct Marks : 5 Wrong Marks : 1**

**Question Key Details :**

Key	Value
Comprehension	MCQ

चॉपर-चॉपिंग निम्नलिखित में से किस प्रकार का है ?

- A. बटिका औजार
- B. चॉपर
- C. चॉपिंग
- D. आद्य हथकुठार
- E. पावइंटस

नीचे दिए गये कूट से सही उत्तर का चुनाव कीजिए :

1. A, B, C, E केवल
2. B, C, D और E केवल
3. A, B, C और D केवल
4. A, B, और E केवल

**Options :**

485584136869. 1  
485584136870. 2  
485584136871. 3  
485584136872. 4

**Question Number : 114 Question Id : 48558434219 Question Type : MCQ Option Shuffling : No Is Question Mandatory : No Calculator : None Response Time : N.A Think Time : N.A Minimum Instruction Time : 0**

**Correct Marks : 5 Wrong Marks : 1**

**Question Key Details :**

Key	Value
Comprehension	MCQ

\_\_\_\_\_ is believed to have dominated the Middle Palaeolithic stage of human culture.

1. Homo-sapien sapien
2. Narmada man
3. Neanderthal man
4. Homo erectus

**Options :**

485584136873. 1  
485584136874. 2  
485584136875. 3  
485584136876. 4

**Question Number : 114 Question Id : 48558434219 Question Type : MCQ Option Shuffling : No Is Question Mandatory : No Calculator : None Response Time : N.A Think Time : N.A Minimum Instruction Time : 0**

**Correct Marks : 5 Wrong Marks : 1**

**Question Key Details :**

Key	Value
Comprehension	MCQ

\_\_\_\_\_ ऐसा माना जाता है कि मानव संस्कृति के मध्य पुरापाषाण चरण पर इसका प्रभुत्व था।

1. होमो-सेपियन सौपियन
2. नर्मदा मैन
3. निएन्डरथल मैन
4. होमो इरेक्टस

**Options :**

485584136873. 1  
485584136874. 2  
485584136875. 3  
485584136876. 4

**Question Number : 115 Question Id : 48558434220 Question Type : MCQ Option Shuffling : No Is Question Mandatory : No Calculator : None Response Time : N.A Think Time : N.A Minimum Instruction Time : 0**

**Correct Marks : 5 Wrong Marks : 1**

**Question Key Details :**

Key	Value
Comprehension	MCQ

The earliest occurrence of Middle Palaeolithic cultural phase in India is dated around:

1. 1,00,000 BC
2. 10,000 BC
3. 36,000 BC
4. 3,60,000 BC

**Options :**

485584136877. 1  
485584136878. 2  
485584136879. 3  
485584136880. 4

**Question Number : 115 Question Id : 48558434220 Question Type : MCQ Option Shuffling : No Is Question Mandatory : No Calculator : None Response Time : N.A Think Time : N.A Minimum Instruction Time : 0**

**Correct Marks : 5 Wrong Marks : 1**

**Question Key Details :**

Key	Value
Comprehension	MCQ

भारत में मध्य पुरापाषाण संस्कृति चरण की सबसे पहली घटना लगभग दिनांकित है

1. 1,00,000 ईसा पूर्व
2. 10,000 ईसा पूर्व
3. 36,000 ईसा पूर्व
4. 3,60,000 ईसा पूर्व

**Options :**

485584136877. 1  
485584136878. 2  
485584136879. 3  
485584136880. 4

**Question Number : 116 Question Id : 48558434221 Question Type : MCQ Option Shuffling : No Is Question Mandatory : No Calculator : None Response Time : N.A Think Time : N.A Minimum Instruction Time : 0**

**Correct Marks : 5 Wrong Marks : 1**

**Question Key Details :**

Key	Value
Comprehension	MCQ

The transitional period between Upper Palaeolithic and Neolithic is:

1. Lower Palaeolithic
2. Middle Palaeolithic
3. Mesolithic
4. Chalcolithic Culture

**Options :**

485584136881. 1  
485584136882. 2  
485584136883. 3  
485584136884. 4

**Question Number : 116 Question Id : 48558434221 Question Type : MCQ Option Shuffling : No Is Question Mandatory : No Calculator : None Response Time : N.A Think Time : N.A Minimum Instruction Time : 0**

**Correct Marks : 5 Wrong Marks : 1**

**Question Key Details :**

Key	Value
Comprehension	MCQ

ऊपरी पुरापाषाण काल और नव पाषाण काल के बीच संक्रमणकालीन अवधि है

1. निम्न पुरापाषाण
2. मध्य पुरापाषाण
3. मध्य पाषाण
4. ताम्र पाषाण संस्कृति

**Options :**

485584136881. 1  
485584136882. 2  
485584136883. 3  
485584136884. 4

**Question Number : 117 Question Id : 48558434222 Question Type : MCQ Option Shuffling : No Is Question Mandatory : No Calculator : None Response Time : N.A Think Time : N.A Minimum Instruction Time : 0**

**Correct Marks : 5 Wrong Marks : 1**

**Question Key Details :**

Key	Value
Comprehension	MCQ

The earliest manifestation of Neolithic Culture in South India is seen at.

1. Burzahom
2. Bagor
3. Sanganakallu
4. Hathnora

**Options :**

485584136885. 1  
485584136886. 2  
485584136887. 3  
485584136888. 4

**Question Number : 117 Question Id : 48558434222 Question Type : MCQ Option Shuffling : No Is Question Mandatory : No Calculator : None Response Time : N.A Think Time : N.A Minimum Instruction Time : 0**

**Correct Marks : 5 Wrong Marks : 1**

**Question Key Details :**

Key	Value
Comprehension	MCQ

दक्षिण भारत में नव पाषाण संस्कृति का सबसे पहला प्रकटीकरण देखा जाता है।

1. बुर्जहोम
2. बागोर
3. संगनकल्लू
4. हथनौरा

**Options :**

485584136885. 1  
485584136886. 2  
485584136887. 3  
485584136888. 4

**Question Number : 118 Question Id : 48558434223 Question Type : MCQ Option Shuffling : No Is Question Mandatory : No Calculator : None Response Time : N.A Think Time : N.A Minimum Instruction Time : 0**

**Correct Marks : 5 Wrong Marks : 1**

**Question Key Details :**

Key	Value
Comprehension	MCQ

Arrange the following in chronological order beginning with the oldest first.

- A. Lower Palaeolithic
- B. Neolithic
- C. Middle Palaeolithic
- D. Mesolithic
- E. Upper Palaeolithic

Choose the correct answer from the options given below:

1. A, B, C, D, E
2. B, D, C, E, A
3. A, C, E, D, B
4. A, E, B, C, D

**Options :**

485584136889. 1  
485584136890. 2  
485584136891. 3  
485584136892. 4

**Question Number : 118 Question Id : 48558434223 Question Type : MCQ Option Shuffling : No Is Question Mandatory : No Calculator : None Response Time : N.A Think Time : N.A Minimum Instruction Time : 0**

**Correct Marks : 5 Wrong Marks : 1**

**Question Key Details :**

Key	Value
Comprehension	MCQ

निम्नलिखित का सबसे पुराने पहले से कालानुक्रमिक क्रम में व्यवस्थित करें

- A. निम्न पुरापाषाण
- B. नवपाषाण
- C. मध्य पुरापाषाण
- D. मध्य पाषाण
- E. उच्च पुरापाषाण

नीचे दिए गये कूट से सही उत्तर का चुनाव कीजिए :

- 1. A, B, C, D, E
- 2. B, D, C, E, A
- 3. A, C, E, D, B
- 4. A, E, B, C, D

**Options :**

- 485584136889. 1
- 485584136890. 2
- 485584136891. 3
- 485584136892. 4

**Question Number : 119 Question Id : 48558434224 Question Type : MCQ Option Shuffling : No Is Question Mandatory : No Calculator : None Response Time : N.A Think Time : N.A Minimum Instruction Time : 0**

**Correct Marks : 5 Wrong Marks : 1**

**Question Key Details :**

Key	Value
Comprehension	MCQ

Which of the following statements are correct for S.C. Roy?

- A. He was a lawyer by profession
- B. He had a formal degree in anthropology
- C. He founded the journal, Eastern Anthropologist
- D. He was the first person to describe 'dhumkuria'
- E. He founded the journal, Man in India.

Choose the correct answer from the options given below:

- 1. A, C and E only
- 2. B, D and E only
- 3. A, D and E only
- 4. B, C and E only

**Options :**

- 485584136893. 1
- 485584136894. 2
- 485584136895. 3
- 485584136896. 4

Question Number : 119 Question Id : 48558434224 Question Type : MCQ Option Shuffling : No Is Question Mandatory : No Calculator : None Response Time : N.A Think Time : N.A Minimum Instruction Time : 0

Correct Marks : 5 Wrong Marks : 1

Question Key Details :

Key	Value
Comprehension	MCQ

एस. सी. रॉय के लिए निम्न कौन-सा कथन सही है

- A. वह पेशे से वकील थे
- B. उनके पास नृविज्ञान में औपचारिक डिग्री थी
- C. उन्होंने जर्नल, ईस्टर्न मानव विज्ञानियों की स्थापना की
- D. वह 'धूमकुरिया' का वर्णन करने वाले पहले व्यक्ति थे
- E. उन्होंने मैन इन इंडिया, जर्नल की स्थापना की

नीचे दिए गये कूट से सही उत्तर का चुनाव कीजिए :

- 1. A, C और E केवल
- 2. B, D और E केवल
- 3. A, D और E केवल
- 4. B, C और E केवल

Options :

- 485584136893. 1
- 485584136894. 2
- 485584136895. 3
- 485584136896. 4

Question Number : 120 Question Id : 48558434225 Question Type : MCQ Option Shuffling : No Is Question Mandatory : No Calculator : None Response Time : N.A Think Time : N.A Minimum Instruction Time : 0

Correct Marks : 5 Wrong Marks : 1

Question Key Details :

Key	Value
Comprehension	MCQ

Arrange the following cultures in chronological order.

- A. Abbevillian
- B. Mousterian
- C. Chalcolithic
- D. Azilian
- E. Chatelperronian

Choose the correct answer from the options given below:

1. A, B, E, D, C
2. A, B, C, D, E
3. B, C, D, A, E
4. D, E, B, A, C

**Options :**

- 485584136897. 1
- 485584136898. 2
- 485584136899. 3
- 485584136900. 4

**Question Number : 120 Question Id : 48558434225 Question Type : MCQ Option Shuffling : No Is Question Mandatory : No Calculator : None Response Time : N.A Think Time : N.A Minimum Instruction Time : 0**

**Correct Marks : 5 Wrong Marks : 1**

**Question Key Details :**

Key	Value
Comprehension	MCQ

निम्नलिखित संस्कृतियों को कालानुक्रमिक में व्यवस्थित करें

- A. एबीबेविलियन
- B. मौस्टरियन
- C. ताम्र पाषाण
- D. आजिलियाई
- E. चटेल पेरोनियन

नीचे दिए गये कूट से सही उत्तर का चुनाव कीजिए :

1. A, B, E, D, C
2. A, B, C, D, E
3. B, C, D, A, E
4. D, E, B, A, C

**Options :**

- 485584136897. 1
- 485584136898. 2
- 485584136899. 3
- 485584136900. 4



Question Number : 121 Question Id : 48558434226 Question Type : MCQ Option Shuffling : No Is Question Mandatory : No Calculator : None Response Time : N.A Think Time : N.A Minimum Instruction Time : 0

Correct Marks : 5 Wrong Marks : 1

Question Key Details :

Key	Value
Comprehension	MCQ

\_\_\_\_\_ describes the diverse economic arrangements developed by human being in different times and places.

1. Physical Anthropology
2. Archaeological Anthropology
3. Economic Anthropology
4. Linguistic Anthropology

Options :

- 485584136901. 1
- 485584136902. 2
- 485584136903. 3
- 485584136904. 4

Question Number : 121 Question Id : 48558434226 Question Type : MCQ Option Shuffling : No Is Question Mandatory : No Calculator : None Response Time : N.A Think Time : N.A Minimum Instruction Time : 0

Correct Marks : 5 Wrong Marks : 1

Question Key Details :

Key	Value
Comprehension	MCQ

\_\_\_\_\_ अलग-अलग समय और स्थानों में मानव द्वारा विकसित विविध आर्थिक व्यवस्थाओं का वर्णन करता है।

1. भौतिक मानव विज्ञान
2. वास्तुकलात्मक मानव विज्ञान
3. आर्थिक मानव विज्ञान
4. भाषायी मानव विज्ञान

Options :

- 485584136901. 1
- 485584136902. 2
- 485584136903. 3
- 485584136904. 4

Question Number : 122 Question Id : 48558434227 Question Type : MCQ Option Shuffling : No Is Question Mandatory : No Calculator : None Response Time : N.A Think Time : N.A Minimum Instruction Time : 0

Correct Marks : 5 Wrong Marks : 1

Question Key Details :

Key	Value
Comprehension	MCQ

Arrange the following agricultural activities in order of their occurrence in the paddy cultivation.

- A. Threshing
- B. Sowing
- C. Harvesting
- D. Winnowing
- E. Protecting Plants

Choose the correct answer from the options given below:

1. A, B, C, D, E
2. E, D, B, C, A
3. B, E, C, A, D
4. C, D, E, B, A

**Options :**

- 485584136905. 1
- 485584136906. 2
- 485584136907. 3
- 485584136908. 4

**Question Number : 122 Question Id : 48558434227 Question Type : MCQ Option Shuffling : No Is Question Mandatory : No Calculator : None Response Time : N.A Think Time : N.A Minimum Instruction Time : 0**

**Correct Marks : 5 Wrong Marks : 1**

**Question Key Details :**

Key	Value
Comprehension	MCQ

निम्नलिखित कृषि क्रियाओं को धान की खेती में उनके होने के क्रम में व्यवस्थित करें

- A. मड़ाई
- B. बुवाई
- C. फसल काटना
- D. फटकना
- E. पौध की रक्षा करना

नीचे दिए गये कूट से सही उत्तर का चुनाव कीजिए :

1. A, B, C, D, E
2. E, D, B, C, A
3. B, E, C, A, D
4. C, D, E, B, A

**Options :**

- 485584136905. 1
- 485584136906. 2
- 485584136907. 3
- 485584136908. 4

Question Number : 123 Question Id : 48558434228 Question Type : MCQ Option Shuffling : No Is Question Mandatory : No Calculator : None Response Time : N.A Think Time : N.A Minimum Instruction Time : 0

Correct Marks : 5 Wrong Marks : 1

Question Key Details :

Key	Value
Comprehension	MCQ

Match List I with List II

LIST I		LIST II	
A.	Cultivation of fruits and vegetables	I.	Community hunting
B.	Cultivation using plough and yoke	II.	Terrace cultivation
C.	Hunting by a group of persons	III.	Plough cultivation
D.	Cultivation on hill slopes	IV.	Horticulture

Choose the correct answer from the options given below:

1. A-I, B-II, C-III, D-IV
2. A-I, B-IV, C-II, D-III
3. A-IV, B-III, C-II, D-I
4. A-IV, B-III, C-I, D-II

Options :

- 485584136909. 1
- 485584136910. 2
- 485584136911. 3
- 485584136912. 4

Question Number : 123 Question Id : 48558434228 Question Type : MCQ Option Shuffling : No Is Question Mandatory : No Calculator : None Response Time : N.A Think Time : N.A Minimum Instruction Time : 0

Correct Marks : 5 Wrong Marks : 1

Question Key Details :

Key	Value
Comprehension	MCQ

सूची I का सूची II से मिलान कीजिए

सूची I		सूची II	
A.	फलों और सब्जियों की खेती	I.	समुदाय आखेट
B.	हल और नाथना द्वारा खेती	II.	सीढ़ीदार खेती
C.	लोगों के समूह द्वारा शिकार करना	III.	हल की खेती
D.	पहाड़ी ढाल पर खेती	IV.	बागवानी

नीचे दिए गये कूट से सही उत्तर का चुनाव कीजिए :

1. A-I, B-II, C-III, D-IV
2. A-I, B-IV, C-II, D-III
3. A-IV, B-III, C-II, D-I
4. A-IV, B-III, C-I, D-II

**Options :**

485584136909. 1  
485584136910. 2  
485584136911. 3  
485584136912. 4

**Question Number : 124 Question Id : 48558434229 Question Type : MCQ Option Shuffling : No Is Question Mandatory : No Calculator : None Response Time : N.A Think Time : N.A Minimum Instruction Time : 0**

**Correct Marks : 5 Wrong Marks : 1**

**Question Key Details :**

Key	Value
Comprehension	MCQ

Food Gathering economy is not based on:

1. Gathering of fruits and roots
2. Horticulture
3. Hunting
4. Fishing

**Options :**

485584136913. 1  
485584136914. 2  
485584136915. 3  
485584136916. 4

**Question Number : 124 Question Id : 48558434229 Question Type : MCQ Option Shuffling : No Is Question Mandatory : No Calculator : None Response Time : N.A Think Time : N.A Minimum Instruction Time : 0**

**Correct Marks : 5 Wrong Marks : 1**

**Question Key Details :**

Key	Value
Comprehension	MCQ

खाद्य संग्रह अर्थव्यवस्था पर आधारित नहीं है :

1. कंद और मूल का संग्रह
2. बागबानी
3. आखेट
4. मछली पकड़ना

**Options :**

485584136913. 1  
485584136914. 2  
485584136915. 3  
485584136916. 4

**Question Number : 125 Question Id : 48558434230 Question Type : MCQ Option Shuffling : No Is Question Mandatory : No Calculator : None Response Time : N.A Think Time : N.A Minimum Instruction Time : 0**

**Correct Marks : 5 Wrong Marks : 1**

**Question Key Details :**

Key	Value
Comprehension	MCQ

In Arunachal Pradesh, Shifting Cultivation is called as.

1. Shyrti
2. Tekeonglu
3. Bogma
4. Adimik

**Options :**

485584136917. 1  
485584136918. 2  
485584136919. 3  
485584136920. 4

**Question Number : 125 Question Id : 48558434230 Question Type : MCQ Option Shuffling : No Is Question Mandatory : No Calculator : None Response Time : N.A Think Time : N.A Minimum Instruction Time : 0**

**Correct Marks : 5 Wrong Marks : 1**

**Question Key Details :**

Key	Value
Comprehension	MCQ

अरुणाचल प्रदेश में, झूम खेती कहलाते हैं

1. सिट्टी
2. टेकोग्लू
3. बोगमा
4. आदिमिक

**Options :**

485584136917. 1  
485584136918. 2  
485584136919. 3  
485584136920. 4

**Question Number : 126 Question Id : 48558434231 Question Type : MCQ Option Shuffling : No Is Question Mandatory : No Calculator : None Response Time : N.A Think Time : N.A Minimum Instruction Time : 0**

**Correct Marks : 5 Wrong Marks : 1**

**Question Key Details :**

Key	Value
Comprehension	MCQ

Mean annual temperature (in°C) is negative in which of the following biomes.

1. Deserts
2. Tropical forests
3. Arctic and Alpine tundra
4. Grasslands

**Options :**

485584136921. 1  
485584136922. 2  
485584136923. 3  
485584136924. 4

**Question Number : 126 Question Id : 48558434231 Question Type : MCQ Option Shuffling : No Is Question Mandatory : No Calculator : None Response Time : N.A Think Time : N.A Minimum Instruction Time : 0**

**Correct Marks : 5 Wrong Marks : 1**

**Question Key Details :**

Key	Value
Comprehension	MCQ

निम्न में से किस बायोम में और औसत वार्षिक तापमान (°C में) ऋणात्मक होता है ।

1. मरुस्थल
2. उष्णकटिबंध वन
3. आर्कटिक और अल्पाइन टुष्ट्र
4. घास का मैदान

**Options :**

485584136921. 1  
485584136922. 2  
485584136923. 3  
485584136924. 4

**Question Number : 127 Question Id : 48558434232 Question Type : MCQ Option Shuffling : No Is Question Mandatory : No Calculator : None Response Time : N.A Think Time : N.A Minimum Instruction Time : 0**

**Correct Marks : 5 Wrong Marks : 1**

**Question Key Details :**

Key	Value
Comprehension	MCQ

The micro-organisms like bacteria and fungi are called:

1. Autotrophs
2. Omnivore
3. Herbivores
4. Decomposers

**Options :**

485584136925. 1  
485584136926. 2  
485584136927. 3  
485584136928. 4

**Question Number : 127 Question Id : 48558434232 Question Type : MCQ Option Shuffling : No Is Question Mandatory : No Calculator : None Response Time : N.A Think Time : N.A Minimum Instruction Time : 0**

**Correct Marks : 5 Wrong Marks : 1**

**Question Key Details :**

Key	Value
Comprehension	MCQ

बेक्टीरिया और कवक जैसे सूक्ष्म जीव कहलाते है

1. स्वपोषी
2. सर्वाहारी
3. शाकाहारी
4. जैव अपघटक

**Options :**

485584136925. 1  
485584136926. 2  
485584136927. 3  
485584136928. 4

**Question Number : 128 Question Id : 48558434233 Question Type : MCQ Option Shuffling : No Is Question Mandatory : No Calculator : None Response Time : N.A Think Time : N.A Minimum Instruction Time : 0**

**Correct Marks : 5 Wrong Marks : 1**

**Question Key Details :**

Key	Value
Comprehension	MCQ

Match List I with List II

LIST I		LIST II	
A.	Cow	I.	Omnivore
B.	Humans	II.	Carnivore
C.	Lion	III.	Detritivore
D.	Earthworm	IV.	Herbivore

Choose the correct answer from the options given below:

1. A-II, B-I, C-III, D-IV
2. A-IV, B-I, C-II, D-III
3. A-I, B-III, C-II, D-IV
4. A-I, B-II, C-III, D-IV

**Options :**

485584136929. 1  
485584136930. 2  
485584136931. 3  
485584136932. 4

**Question Number : 128 Question Id : 48558434233 Question Type : MCQ Option Shuffling : No Is Question Mandatory : No Calculator : None Response Time : N.A Think Time : N.A Minimum Instruction Time : 0**

**Correct Marks : 5 Wrong Marks : 1**

**Question Key Details :**

Key	Value
Comprehension	MCQ



सूची I की सूची II के साथ मिलान करें

सूची I		सूची II	
A.	गाय	I.	सर्वाहारी
B.	मानव	II.	मांसाहारी
C.	शेर	III.	अपरदहारी
D.	केंचुआ	IV.	शाकाहारी

नीचे दिये विकल्पों में से सही उत्तर चुनिये ।

1. A-II, B-I, C-III, D-IV
2. A-IV, B-I, C-II, D-III
3. A-I, B-III, C-II, D-IV
4. A-I, B-II, C-III, D-IV

**Options :**

485584136929. 1  
485584136930. 2  
485584136931. 3  
485584136932. 4

**Question Number : 129 Question Id : 48558434234 Question Type : MCQ Option Shuffling : No Is Question Mandatory : No Calculator : None Response Time : N.A Think Time : N.A Minimum Instruction Time : 0**

**Correct Marks : 5 Wrong Marks : 1**

**Question Key Details :**

Key	Value
Comprehension	MCQ

Itai - Itai disease among the people of Japan was primarily caused due to consumption of.

- A. Cadmium contaminated rice
- B. Cadmium contaminated water
- C. Cadmium Contaminated Fish
- D. Contaminated Milk

1. A and B only
2. B and C only
3. C and D only
4. A and D only

**Options :**

485584136933. 1  
485584136934. 2  
485584136935. 3  
485584136936. 4

**Question Number : 129 Question Id : 48558434234 Question Type : MCQ Option Shuffling : No Is Question Mandatory : No Calculator : None Response Time : N.A Think Time : N.A Minimum Instruction Time : 0**

Correct Marks : 5 Wrong Marks : 1

Question Key Details :

Key	Value
Comprehension	MCQ

जापान के लोगों में इटाई - ईटाई रोग मुख्य रूप से किसके सेवन के कारण होता था ।

- A. केडमियम संदूषित चावल
- B. केडमियम संदूषित जल
- C. संदूषित मछली (केडमियम संदूषित मछली)
- D. संदूषित दूध

- 1. केवल A और B
- 2. केवल B और C
- 3. केवल C और D
- 4. केवल A और D

Options :

- 485584136933. 1
- 485584136934. 2
- 485584136935. 3
- 485584136936. 4

Question Number : 130 Question Id : 48558434235 Question Type : MCQ Option Shuffling : No Is Question Mandatory : No Calculator : None Response Time : N.A Think Time : N.A Minimum Instruction Time : 0

Correct Marks : 5 Wrong Marks : 1

Question Key Details :

Key	Value
Comprehension	MCQ

\_\_\_\_\_ is characterised by less prominent cheek bones and absence of fascial prognathism.

- 1. Causasoid
- 2. Negroid
- 3. Mongoloid
- 4. Australoid

Options :

- 485584136937. 1
- 485584136938. 2
- 485584136939. 3
- 485584136940. 4

Question Number : 130 Question Id : 48558434235 Question Type : MCQ Option Shuffling : No Is Question Mandatory : No Calculator : None Response Time : N.A Think Time : N.A Minimum Instruction Time : 0

Correct Marks : 5 Wrong Marks : 1

Question Key Details :

Key	Value
-----	-------

\_\_\_\_\_ गालो की कम उभरी हुई हाड्डियाँ और प्रवरणीय प्रेग्रेथिज़म की अनुपस्थित इसकी विशेषता है

1. काकेसॉयड
2. निग्रोइड
3. मंगोलोइड
4. आस्ट्रेलाइड

**Options :**

485584136937. 1  
485584136938. 2  
485584136939. 3  
485584136940. 4

**Question Number : 131 Question Id : 48558434236 Question Type : MCQ Option Shuffling : No Is Question Mandatory : No Calculator : None Response Time : N.A Think Time : N.A Minimum Instruction Time : 0**

**Correct Marks : 5 Wrong Marks : 1**

**Question Key Details :**

Key	Value
Comprehension	MCQ

A family which one sets up after one's marriage is called as.

1. Family of orientation
2. Family of origin
3. Family of procreation
4. Family of happiness

**Options :**

485584136941. 1  
485584136942. 2  
485584136943. 3  
485584136944. 4

**Question Number : 131 Question Id : 48558434236 Question Type : MCQ Option Shuffling : No Is Question Mandatory : No Calculator : None Response Time : N.A Think Time : N.A Minimum Instruction Time : 0**

**Correct Marks : 5 Wrong Marks : 1**

**Question Key Details :**

Key	Value
Comprehension	MCQ

वह परिवार जिसे कोई अपनी शादी के बाद स्थापित करता है, कहलाता है।

1. अभिविन्यास का परिवार
2. परिवार का उद्भव
3. प्रजनन का परिवार
4. खुशी का परिवार

**Options :**

485584136941. 1  
485584136942. 2  
485584136943. 3  
485584136944. 4

**Question Number : 132 Question Id : 48558434237 Question Type : MCQ Option Shuffling : No Is Question Mandatory : No Calculator : None Response Time : N.A Think Time : N.A Minimum Instruction Time : 0**

**Correct Marks : 5 Wrong Marks : 1**

**Question Key Details :**

Key	Value
Comprehension	MCQ

\_\_\_\_\_ is one form of unilineal descent, where males trace ancestry through males and females through females.

1. Double unilineal descent
2. Ambilineal descent
3. Parallel descent
4. Double descent

**Options :**

485584136945. 1  
485584136946. 2  
485584136947. 3  
485584136948. 4

**Question Number : 132 Question Id : 48558434237 Question Type : MCQ Option Shuffling : No Is Question Mandatory : No Calculator : None Response Time : N.A Think Time : N.A Minimum Instruction Time : 0**

**Correct Marks : 5 Wrong Marks : 1**

**Question Key Details :**

Key	Value
Comprehension	MCQ

एक एकरेखीय वंश का रूप है, जहाँ पुरुष पुरुषों के माध्यम से और महिलाओं के माध्यम महिलाओं के वंश का पता लगता है

1. दुहरा एकरेखीय वंश
2. उभयलिंगी वंश
3. समानांतर वंश
4. दोहरा वंश

**Options :**

485584136945. 1  
485584136946. 2  
485584136947. 3  
485584136948. 4

**Question Number : 133 Question Id : 48558434238 Question Type : MCQ Option Shuffling : No Is Question Mandatory : No Calculator : None Response Time : N.A Think Time : N.A Minimum Instruction Time : 0**

**Correct Marks : 5 Wrong Marks : 1**

**Question Key Details :**

Key	Value
Comprehension	MCQ

The type of family found among Gonds and Baigas is called as:

1. Polyandrous family
2. Fraternal family
3. Non-Fraternal family
4. Polygynous family

**Options :**

485584136949. 1  
485584136950. 2  
485584136951. 3  
485584136952. 4

**Question Number : 133 Question Id : 48558434238 Question Type : MCQ Option Shuffling : No Is Question Mandatory : No Calculator : None Response Time : N.A Think Time : N.A Minimum Instruction Time : 0**

**Correct Marks : 5 Wrong Marks : 1**

**Question Key Details :**

Key	Value
Comprehension	MCQ

गोड़ो और बेगाओ में पाए जाने वाले परिवार के प्रकार कहलाते हैं :

1. बहुपतित्व परिवार
2. भ्रातृ परिवार
3. गैर-भ्रातृ परिवार
4. बहु विवाहित परिवार

**Options :**

485584136949. 1  
485584136950. 2  
485584136951. 3  
485584136952. 4

**Question Number : 134 Question Id : 48558434239 Question Type : MCQ Option Shuffling : No Is Question Mandatory : No Calculator : None Response Time : N.A Think Time : N.A Minimum Instruction Time : 0**

**Correct Marks : 5 Wrong Marks : 1**

**Question Key Details :**

Key	Value
Comprehension	MCQ

Which of the following are not the features of family?

- A. It is an economic unit
- B. It is a secondary social group
- C. It is unlimited in size
- D. It is a socializing unit
- E. It is a social unit

Choose the correct answer from the options given below:

1. B and C only
2. C and D only
3. B and D only
4. D and E only

**Options :**

485584136953. 1  
485584136954. 2  
485584136955. 3  
485584136956. 4

**Question Number : 134 Question Id : 48558434239 Question Type : MCQ Option Shuffling : No Is Question Mandatory : No Calculator : None Response Time : N.A Think Time : N.A Minimum Instruction Time : 0**

**Correct Marks : 5 Wrong Marks : 1**

**Question Key Details :**

Key	Value
Comprehension	MCQ

निम्नलिखित में परिवार की विशेषताएं नहीं है ?

- A. यह एक आर्थिक इकाई है
- B. यह एक द्वितीयक सामाजिक समूह हैं
- C. यह आकार में असीमित हैं
- D. यह एक सामाजिकरण करने वाली इकाई है
- E. यह एक सामाजिक इकाई है

नीचे दिए गये कूट से सही उत्तर का चुनाव कीजिए :

- 1. B और C केवल
- 2. C और D केवल
- 3. B और D केवल
- 4. D और E केवल

**Options :**

- 485584136953. 1
- 485584136954. 2
- 485584136955. 3
- 485584136956. 4

**Question Number : 135 Question Id : 48558434240 Question Type : MCQ Option Shuffling : No Is Question Mandatory : No Calculator : None Response Time : N.A Think Time : N.A Minimum Instruction Time : 0**

**Correct Marks : 5 Wrong Marks : 1**

**Question Key Details :**

Key	Value
Comprehension	MCQ

Match List I with List II

LIST I		LIST II	
A.	Matrilineal	I.	Agnatic
B.	Matrilocal	II.	Uxorilocal
C.	Patrilineal	III.	Virilocal
D.	Patrilocal	IV.	Uterine

Choose the correct answer from the options given below:

- 1. A-IV, B-III, C-II, D-I
- 2. A-I, B-II, C-III, D-IV
- 3. A-IV, B-II, C-I, D-III
- 4. A-I, B-IV, C-III, D-II

**Options :**

- 485584136957. 1
- 485584136958. 2
- 485584136959. 3
- 485584136960. 4

Question Number : 135 Question Id : 48558434240 Question Type : MCQ Option Shuffling : No Is Question Mandatory : No Calculator : None Response Time : N.A Think Time : N.A Minimum Instruction Time : 0

Correct Marks : 5 Wrong Marks : 1

Question Key Details :

Key	Value
Comprehension	MCQ

सूची I का सूची II से मिलान कीजिए

सूची I		सूची II	
A.	मातृसत्तात्मक	I.	पिता
B.	मातृस्थानिक	II.	पत्नी स्थानिक
C.	पुत्रवंशिक	III.	पतिस्थानिक
D.	पितृस्थानिक	IV.	गर्भाशय संबंधी

निम्नलिखित विकल्पों में से सही उत्तर का चयन कीजिए :

1. A-IV, B-III, C-II, D-I
2. A-I, B-II, C-III, D-IV
3. A-IV, B-II, C-I, D-III
4. A-I, B-IV, C-III, D-II

Options :

485584136957. 1
485584136958. 2
485584136959. 3
485584136960. 4

Question Number : 136 Question Id : 48558434241 Question Type : MCQ Option Shuffling : No Is Question Mandatory : No Calculator : None Response Time : N.A Think Time : N.A Minimum Instruction Time : 0

Correct Marks : 5 Wrong Marks : 1

Question Key Details :

Key	Value
Comprehension	MCQ

Who is revered as the Father of Ecology in India?

1. Kailash Satyarthi
2. Prof. W.H Pearsall
3. K.K. Misra
4. Ramdeo Misra

Options :

485584136961. 1
485584136962. 2
485584136963. 3
485584136964. 4



Question Number : 136 Question Id : 48558434241 Question Type : MCQ Option Shuffling : No Is Question Mandatory : No Calculator : None Response Time : N.A Think Time : N.A Minimum Instruction Time : 0

Correct Marks : 5 Wrong Marks : 1

Question Key Details :

Key	Value
Comprehension	MCQ

भारत में पारिस्थिकि के जनक के रूप किसे सम्मानित किया जाता है ।

1. कैलाश सत्यार्थी
2. प्रो. डब्ल्यू. एच पीयरसल
3. के. के. मिश्रा
4. रामदेव मिश्रा

Options :

485584136961. 1  
485584136962. 2  
485584136963. 3  
485584136964. 4

Question Number : 137 Question Id : 48558434242 Question Type : MCQ Option Shuffling : No Is Question Mandatory : No Calculator : None Response Time : N.A Think Time : N.A Minimum Instruction Time : 0

Correct Marks : 5 Wrong Marks : 1

Question Key Details :

Key	Value
Comprehension	MCQ

The percentage of oxygen in the atmosphere is \_\_\_\_\_.

1. 78.09%
2. 20.94%
3. 0.03%
4. 0.93%

Options :

485584136965. 1  
485584136966. 2  
485584136967. 3  
485584136968. 4

Question Number : 137 Question Id : 48558434242 Question Type : MCQ Option Shuffling : No Is Question Mandatory : No Calculator : None Response Time : N.A Think Time : N.A Minimum Instruction Time : 0

Correct Marks : 5 Wrong Marks : 1

Question Key Details :

Key	Value
Comprehension	MCQ

वायुमंडल में आक्सीजन का प्रतिशत पाया जाता है।

1. 78.09%

2. 20.94%

3. 0.03%

4. 0.93%

**Options :**

485584136965. 1

485584136966. 2

485584136967. 3

485584136968. 4

**Question Number : 138 Question Id : 48558434243 Question Type : MCQ Option Shuffling : No Is Question Mandatory : No Calculator : None Response Time : N.A Think Time : N.A Minimum Instruction Time : 0**

**Correct Marks : 5 Wrong Marks : 1**

**Question Key Details :**

Key	Value
Comprehension	MCQ

Which one of the following is an example of an aquatic ecosystem?

1. Forest ecosystem

2. Desert ecosystem

3. Pond ecosystem

4. Grassland ecosystem

**Options :**

485584136969. 1

485584136970. 2

485584136971. 3

485584136972. 4

**Question Number : 138 Question Id : 48558434243 Question Type : MCQ Option Shuffling : No Is Question Mandatory : No Calculator : None Response Time : N.A Think Time : N.A Minimum Instruction Time : 0**

**Correct Marks : 5 Wrong Marks : 1**

**Question Key Details :**

Key	Value
Comprehension	MCQ

निम्नलिखित में से कौन जलीय पारितंत्र का एक उदाहरण है ?

1. वन पारितंत्र
2. मरुस्थल पारितंत्र
3. तालाब पारितंत्र
4. घासभूमि पारितंत्र

**Options :**

485584136969. 1  
485584136970. 2  
485584136971. 3  
485584136972. 4

**Question Number : 139 Question Id : 48558434244 Question Type : MCQ Option Shuffling : No Is Question Mandatory : No Calculator : None Response Time : N.A Think Time : N.A Minimum Instruction Time : 0**

**Correct Marks : 5 Wrong Marks : 1**

**Question Key Details :**

Key	Value
Comprehension	MCQ

Arrange the following in an order.

- A. Secondary consumer
- B. Detritus
- C. Primary consumer
- D. Primary producer
- E. Tertiary consumer

Choose the correct answer from the options given below:

1. D, A, B, C, E
2. B, C, A, D, E
3. A, E, C, D, B
4. D, C, A, E, B

**Options :**

485584136973. 1  
485584136974. 2  
485584136975. 3  
485584136976. 4

**Question Number : 139 Question Id : 48558434244 Question Type : MCQ Option Shuffling : No Is Question Mandatory : No Calculator : None Response Time : N.A Think Time : N.A Minimum Instruction Time : 0**

**Correct Marks : 5 Wrong Marks : 1**

**Question Key Details :**

Key	Value
Comprehension	MCQ

निम्नलिखित क्रम की व्यवस्थित करें

- A. द्वितीयक उपभोक्ता
- B. अपरद
- C. प्राथमिक उपभोक्ता
- D. प्राथमिक उत्पाद
- E. तृतीयक उपभोक्ता

नीचे दिये विकल्पों में से सही उत्तर चुनिये ।

- 1. D, A, B, C, E
- 2. B, C, A, D, E
- 3. A, E, C, D, B
- 4. D, C, A, E, B

**Options :**

- 485584136973. 1
- 485584136974. 2
- 485584136975. 3
- 485584136976. 4

**Question Number : 140 Question Id : 48558434245 Question Type : MCQ Option Shuffling : No Is Question Mandatory : No Calculator : None Response Time : N.A Think Time : N.A Minimum Instruction Time : 0**

**Correct Marks : 5 Wrong Marks : 1**

**Question Key Details :**

Key	Value
Comprehension	MCQ

The smallest microscopic organism that are found on the surface of water bodies like pond, lake etc are known as:

- 1. Nektons
- 2. Phytoplankton
- 3. Floating plants
- 4. Terrestrial plants

**Options :**

- 485584136977. 1
- 485584136978. 2
- 485584136979. 3
- 485584136980. 4

**Question Number : 140 Question Id : 48558434245 Question Type : MCQ Option Shuffling : No Is Question Mandatory : No Calculator : None Response Time : N.A Think Time : N.A Minimum Instruction Time : 0**

**Correct Marks : 5 Wrong Marks : 1**

**Question Key Details :**

Key	Value
-----	-------

जल निकायों जैसे तालाब, झील आदि की सतहपर पाए जाने वाले सबसे छोटे सूक्ष्मजीव को जाना जाता है

1. नेक्टन
2. फाइटोप्लेकंटन
3. तेरते पौधे
4. पार्थिव पौधे

**Options :**

485584136977. 1  
485584136978. 2  
485584136979. 3  
485584136980. 4

**Sub-Section Number :**

2

**Sub-Section Id :**

4855842531

**Question Shuffling Allowed :**

No

**Is Section Default? :**

null

**Question Number : 141 Question Id : 48558434246 Question Type : MCQ Option Shuffling : No Is Question Mandatory : No Calculator : None Response Time : N.A Think Time : N.A Minimum Instruction Time : 0**

**Correct Marks : 5 Wrong Marks : 1**

**Question Key Details :**

Key	Value
Comprehension	Compl

The Mismi built their houses on raised platform. A traditional Mismi house is built with materials like bamboo and straw. The walls are constructed with bamboo and the roof is thatched. A typical Mismi house consists of a big hall like room which accommodates all the family members. The area near the entrance acts as a portico and is used to entertain guests. Below the platform the rooms are kept. It also sometimes houses the pigs which they rear. Adjacent to their house they construct cattlesheds and coops for reaching fowls. The fire place is called as meram and is considered as a sacred place.

The walls of the Mising's house is constructed using

1. Mud bricks
2. Bamboo
3. Plywood
4. Bricks with Cement

**Options :**

485584136981. 1  
485584136982. 2  
485584136983. 3  
485584136984. 4

Question Number : 141 Question Id : 48558434246 Question Type : MCQ Option Shuffling : No Is Question Mandatory : No Calculator : None Response Time : N.A Think Time : N.A Minimum Instruction Time : 0

Correct Marks : 5 Wrong Marks : 1

Question Key Details :

Key	Value
Comprehension	Comp1

मिश्मी अपने घरों को उच्च चबूतरों पर बनाते हैं। एक पारंपरिक मिश्मी घर बांस और पुआल जैसी सामग्री से बनाया जाता है। दीवारें बांस से बनी होती हैं और छत छप्पर की होती है। एक विशिष्ट मिश्मी घर में एक बड़ा महाकक्ष जैसा कमरा होता है जिसमें परिवार के सभी सदस्य रहते हैं। क्षेत्र का प्रवेश द्वार मंडप के रूप में कार्य करता है और अतिथियों का मनोरंजन करने के लिए उपयोग किया जाता है चबूतरों के नीचे कमरे रखे हुए हैं कभी-कभी उन कमरों में सूअरों को रखा जाता है। जिन्हें वे पालते हैं। उनके घर के निकट पशुओं तक पहुंचने के लिए मवेशी बाड़ा और दरवा का निर्माण करते हैं। अग्नि स्थान को मेराम कहा जाता है और इसे एक पवित्र स्थान समझा है।

मिश्मी घर की दीवार का निर्माण किया जाता है।

1. मिट्टी के ईंट
2. बांस
3. परतदार लकड़ी
4. सीमेन्ट के साथ ईंट

Options :

485584136981. 1  
485584136982. 2  
485584136983. 3  
485584136984. 4

Question Number : 142 Question Id : 48558434247 Question Type : MCQ Option Shuffling : No Is Question Mandatory : No Calculator : None Response Time : N.A Think Time : N.A Minimum Instruction Time : 0

Correct Marks : 5 Wrong Marks : 1

Question Key Details :

Key	Value
Comprehension	Comp1

The Mismi built their houses on raised platform. A traditional Mismi house is built with materials like bamboo and straw. The walls are constructed with bamboo and the roof is thatched. A typical Mismi house consists of a big hall like room which accommodates all the family members. The area near the entrance acts as a portico and is used to entertain guests. Below the platform the rooms are kept. It also sometimes houses the pigs which they rear. Adjacent to their house they construct cattlesheds and coops for rearing fowls. The fire place is called as meram and is considered as a sacred place.

A traditional Mising house is built with materials like.

1. Bamboo and tree leaves
2. Straw and tree leaves
3. Straw and Bamboo
4. Tree leaves and grass

**Options :**

485584136985. 1  
485584136986. 2  
485584136987. 3  
485584136988. 4

**Question Number : 142 Question Id : 48558434247 Question Type : MCQ Option Shuffling : No Is Question Mandatory : No Calculator : None Response Time : N.A Think Time : N.A Minimum Instruction Time : 0**

**Correct Marks : 5 Wrong Marks : 1**

**Question Key Details :**

Key	Value
Comprehension	Comp1

मिश्मी अपने घरों को उच्च चबूतरों पर बनाते हैं। एक पारंपरिक मिश्मी घर बांस और पुआल जैसी सामग्री से बनाया जाता है। दीवारें बांस से बनी होती हैं और छत छप्पर की होती है। एक विशिष्ट मिश्मी घर में एक बड़ा महाकक्ष जैसा कमरा होता है जिसमें परिवार के सभी सदस्य रहते हैं। क्षेत्र का प्रवेश द्वार मंडप के रूप में कार्य करता है और अतिथियों का मनोरंजन करने के लिए उपयोग किया जाता है चबूतरो के नीचे कमरे रखे हुए हैं कभी-कभी उन कमरों में सूअरों को रखा जाता है। जिन्हें वे पालते हैं। उनके घर के निकट पशुओं तक पहुंचने के लिए मवेशी बाड़ा और दरबा का निर्माण कहते हैं। अग्नि स्थान को मेराम कहा जाता है और इसे एक पवित्र स्थान समझा है।

एक परंपरागत मिश्मी घर किस सामग्री से निर्माण करते हैं।

1. बांस और पेड़ के पत्ते
2. पुआल और पेड़ के पत्ते
3. पुआल और बांस
4. पेड़ के पत्ते और घास

**Options :**

485584136985. 1  
485584136986. 2  
485584136987. 3  
485584136988. 4

**Question Number : 143 Question Id : 48558434248 Question Type : MCQ Option Shuffling : No Is Question Mandatory : No Calculator : None Response Time : N.A Think Time : N.A Minimum Instruction Time : 0**

**Correct Marks : 5 Wrong Marks : 1**

**Question Key Details :**

Key	Value
-----	-------

The Mismi built their houses on raised platform. A traditional Mismi house is built with materials like bamboo and straw. The walls are constructed with bamboo and the roof is thatched. A typical Mismi house consists of a big hall like room which accommodates all the family members. The area near the entrance acts as a portico and is used to entertain guests. Below the platform the rooms are kept. It also sometimes houses the pigs which they rear. Adjacent to their house they construct cattlesheds and coops for reaching fowls. The fire place is called as meram and is considered as a sacred place.

\_\_\_\_\_ is a place called as meram and is considered as a sacred place in Misings.

1. Big hall
2. Fire place
3. Temple outside village
4. Mosque

**Options :**

485584136989. 1  
485584136990. 2  
485584136991. 3  
485584136992. 4

**Question Number : 143 Question Id : 48558434248 Question Type : MCQ Option Shuffling : No Is Question Mandatory : No Calculator : None Response Time : N.A Think Time : N.A Minimum Instruction Time : 0**

**Correct Marks : 5 Wrong Marks : 1**

**Question Key Details :**

Key	Value
Comprehension	Comp1

मिश्मी अपने घरों को उच्च चबूतरों पर बनाते हैं। एक पारंपरिक मिश्मी घर बांस और पुआल जैसी सामग्री से बनाया जाता है। दीवारें बांस से बनी होती हैं और छत छप्पर की होती है। एक विशिष्ट मिश्मी घर में एक बड़ा महाकक्ष जैसा कमरा होता है जिसमें परिवार के सभी सदस्य रहते हैं। क्षेत्र का प्रवेश द्वार मंडप के रूप में कार्य करता है और अतिथियोंका मनोरंजन करने के लिए उपयोग किया जाता है चबूतरों के नीचे कमरे रखे हुए हैं कभी-कभी उन कमरों में सूअरों को रखा जाता है। जिन्हें वे पालते हैं। उनके घर के निकट पशुओं तक पहुंचने के लिए मवेशी बाड़ा और दरबा का निर्माण करते हैं। अग्नि स्थान को मेराम कहा जाता है और इसे एक पवित्र स्थान समझा है।

\_\_\_\_\_ जगत को मेराम कहा जाता है और मिश्मी में एक पवित्र स्थान समझा जाता है।

1. महाकक्ष
2. अग्निस्थान
3. गांवों के बाहर मंदिर
4. मस्जिद

**Options :**

485584136989. 1



485584136990. 2  
485584136991. 3  
485584136992. 4

**Question Number : 144 Question Id : 48558434249 Question Type : MCQ Option Shuffling : No Is Question Mandatory : No Calculator : None Response Time : N.A Think Time : N.A Minimum Instruction Time : 0**

**Correct Marks : 5 Wrong Marks : 1**

**Question Key Details :**

Key	Value
Comprehension	Comp1

The Mismi built their houses on raised platform. A traditional Mismi house is built with materials like bamboo and straw. The walls are constructed with bamboo and the roof is thatched. A typical Mismi house consists of a big hall like room which accommodates all the family members. The area near the entrance acts as a portico and is used to entertain guests. Below the platform the rooms are kept. It also sometimes houses the pigs which they rear. Adjacent to their house they construct cattlesheds and coops for reaching fowls. The fire place is called as meram and is considered as a sacred place.

A big hall in a typical Misings house accomodates.

1. All the relatives of family
2. All the village members
3. All the Saints and Seers of family
4. All the family members

**Options :**

485584136993. 1  
485584136994. 2  
485584136995. 3  
485584136996. 4

**Question Number : 144 Question Id : 48558434249 Question Type : MCQ Option Shuffling : No Is Question Mandatory : No Calculator : None Response Time : N.A Think Time : N.A Minimum Instruction Time : 0**

**Correct Marks : 5 Wrong Marks : 1**

**Question Key Details :**

Key	Value
Comprehension	Comp1

मिश्मी अपने घरों को उच्च चबूतरों पर बनाते हैं। एक पारंपरिक मिश्मी घर बांस और पुआल जैसी सामग्री से बनाया जाता है। दीवारें बांस से बनी होती हैं और छत छप्पर की होती है। एक विशिष्ट मिश्मी घर में एक बड़ा महाकक्ष जैसा कमरा होता है जिसमें परिवार के सभी सदस्य रहते हैं। क्षेत्र का प्रवेश द्वार मंडप के रूप में कार्य करता है और अतिथियों का मनोरंजन करने के लिए उपयोग किया जाता है चबूतरों के नीचे कमरे रखे हुए हैं कभी-कभी उन कमरों में सूअरों को रखा जाता है। जिन्हें वे पालते हैं। उनके घर के निकट पशुओं तक पहुंचने के लिए मवेशी बाड़ा और दरबा का निर्माण करते हैं। अग्नि स्थान को मेराम कहा जाता है और इसे एक पवित्र स्थान समझा है।

विशिष्ट मिशमी घर में एक बड़ा महाकक्ष होता है

1. परिवार के सभी सगे संबंधी
2. गांवों के सभी सदस्य
3. परिवार के सभी संत व द्रष्टा
4. परिवार के सभी सदस्य

**Options :**

485584136993. 1  
485584136994. 2  
485584136995. 3  
485584136996. 4

**Question Number : 145 Question Id : 48558434250 Question Type : MCQ Option Shuffling : No Is Question Mandatory : No Calculator : None Response Time : N.A Think Time : N.A Minimum Instruction Time : 0**

**Correct Marks : 5 Wrong Marks : 1**

**Question Key Details :**

Key	Value
Comprehension	Comp1

The Mismi built their houses on raised platform. A traditional Mismi house is built with materials like bamboo and straw. The walls are constructed with bamboo and the roof is thatched. A typical Mismi house consists of a big hall like room which accommodates all the family members. The area near the entrance acts as a portico and is used to entertain guests. Below the platform the rooms are kept. It also sometimes houses the pigs which they rear. Adjacent to their house they construct cattlesheds and coops for reaching fowls. The fire place is called as meram and is considered as a sacred place.

The area near the entrance of 'Mising house act as portico and is used to entertain.

1. Family members
2. Guests
3. Friends and villagers
4. Karta of family

**Options :**

485584136997. 1  
485584136998. 2  
485584136999. 3  
485584137000. 4

**Question Number : 145 Question Id : 48558434250 Question Type : MCQ Option Shuffling : No Is Question Mandatory : No Calculator : None Response Time : N.A Think Time : N.A Minimum Instruction Time : 0**

**Correct Marks : 5 Wrong Marks : 1**

**Question Key Details :**

Key	Value
Comprehension	Comp1

मिश्मी अपने घरों को उच्च चबूतरों पर बनाते हैं। एक पारंपरिक मिश्मी घर बांस और पुआल जैसी सामग्री से बनाया जाता है। दीवारें बांस से बनी होती हैं और छत छप्पर की होती है। एक विशिष्ट मिश्मी घर में एक बड़ा महाकक्ष जैसा कमरा होता है जिसमें परिवार के सभी सदस्य रहते हैं। क्षेत्र का प्रवेश द्वार मंडप के रूप में कार्य करता है और अतिथियों का मनोरंजन करने के लिए उपयोग किया जाता है चबूतरों के नीचे कमरे रखे हुए हैं कभी-कभी उन कमरों में सूअरों को रखा जाता है। जिन्हें वे पालते हैं। उनके घर के निकट पशुओं तक पहुंचने के लिए मवेशी बाड़ा और दरबा का निर्माण करते हैं। अग्नि स्थान को मेराम कहा जाता है और इसे एक पवित्र स्थान समझा है।

मिश्मी घर के प्रवेश द्वार के पास क्षेत्र मंडप के रूप में कार्य करता है और मनोरंजन करता है।

1. परिवार के सदस्य
2. अतिथियों
3. मित्रों और गांववासी
4. परिवार का कर्ता

**Options :**

485584136997. 1  
 485584136998. 2  
 485584136999. 3  
 485584137000. 4

**Sub-Section Number :**

3

**Sub-Section Id :**

4855842532

**Question Shuffling Allowed :**

No

**Is Section Default? :**

null

**Question Number : 146 Question Id : 48558434251 Question Type : MCQ Option Shuffling : No Is Question Mandatory : No Calculator : None Response Time : N.A Think Time : N.A Minimum Instruction Time : 0**

**Correct Marks : 5 Wrong Marks : 1**

**Question Key Details :**

Key	Value
Comprehension	Comp2

The French established cocoa and coffee plantations in West Africa. The British set up large tea gardens in India and Sri Lanka, rubber plantation in Malaysia, and Sugarcane and banana plantations in West Indies. Spanish and Americans invested heavily in coconut and sugarcane plantations in the Philippines. The Dutch once had monopoly over Sugarcane plantations in Indonesia. Some Coffee Fazendar (large plantation) in Brazil are still managed by Europeans. Today, ownership of the majority of plantations have passed into the hands of the government or the nationals of the countries concerned.

The British set up large \_\_\_\_\_ in India and Sri Lanka.

1. Rubber plantation
2. Sugarcane plantation
3. Banana gardens
4. Tea gardens

**Options :**

485584137001. 1  
485584137002. 2  
485584137003. 3  
485584137004. 4

**Question Number : 146 Question Id : 48558434251 Question Type : MCQ Option Shuffling : No Is Question Mandatory : No Calculator : None Response Time : N.A Think Time : N.A Minimum Instruction Time : 0**

**Correct Marks : 5 Wrong Marks : 1**

**Question Key Details :**

Key	Value
Comprehension	Comp2

फ्रांसिसियो ने पश्चिम अफ्रिका में कोको और कोफी बागान की स्थापना की। ब्रिटिश ने भारत और श्रीलंका में बड़े चाय बागान, मलेशिया में रबर के बागान और वेस्टइंडीज में गन्ने और केले के बागान स्थापित किए। स्पेनिशो और अमेरिकियो ने फिलीपींस में नारियल और गन्ने की खेती में भारी निवेश किया। इंडोनिशीया में गन्ने की खेती पर एक बार डचो का एकाधिकार था। ब्राजील के कुछ कॉफी फैक्ट्री (वृहत बागान) अभी भी यूरोपिय लोगों के द्वारा संचालित किया जा रहा है।

आज, अधिकांश बागान का स्वामित्व सरकार या संबंधित देशों के नागरिकों के हाथों में चला गया है।

ब्रिटिश लोगों ने भारत और श्रीलंका में वृहत \_\_\_\_\_ स्थापित की है।

1. रबर बागान
2. गन्ने की खेती
3. केले का बगीचा
4. चाय का बगीचा

**Options :**

485584137001. 1  
485584137002. 2  
485584137003. 3  
485584137004. 4

**Question Number : 147 Question Id : 48558434252 Question Type : MCQ Option Shuffling : No Is Question Mandatory : No Calculator : None Response Time : N.A Think Time : N.A Minimum Instruction Time : 0**

**Correct Marks : 5 Wrong Marks : 1**

**Question Key Details :**

Key	Value
-----	-------

The French established cocoa and coffee plantations in West Africa. The British set up large tea gardens in India and Sri Lanka, rubber plantation in Malaysia, and Sugarcane and banana plantations in West Indies. Spanish and Americans invested heavily in coconut and sugarcane plantations in the Philippines. The Dutch once had monopoly over Sugarcane plantations in Indonesia. Some Coffee Fazendar (large plantation) in Brazil are still managed by Europeans. Today, ownership of the majority of plantations have passed into the hands of the government or the nationals of the countries concerned.

\_\_\_\_\_ once had monopoly over Sugarcane plantation in Indonesia.

1. French
2. Malaysia
3. Philippines
4. Dutch

**Options :**

485584137005. 1  
485584137006. 2  
485584137007. 3  
485584137008. 4

**Question Number : 147 Question Id : 48558434252 Question Type : MCQ Option Shuffling : No Is Question Mandatory : No Calculator : None Response Time : N.A Think Time : N.A Minimum Instruction Time : 0**

**Correct Marks : 5 Wrong Marks : 1**

**Question Key Details :**

Key	Value
Comprehension	Comp2

फ्रांसिसियो ने पश्चिम अफ्रिका में कोको और कोफी बागान की स्थापना की। ब्रिटिश ने भारत और श्रीलंका में बड़े चाय बागान, मलेशिया में रबर के बागान और वेस्टइंडीज में गन्ने और केले के बागान स्थापित किए। स्पेनिश और अमेरिकियो ने फिलीपींस में नारियल और गन्ने की खेती में भारी निवेश किया। इंडोनेशीया में गन्ने की खेती पर एक बार डचो का एकाधिकार था। ब्राजील के कुछ कॉफी फैज़डर (वृहत बागान) अभी भी यूरोपिय लोगों के द्वारा संचालित किया जा रहा है।

आज, अधिकांश बागान का स्वामित्व सरकार या संबंधित देशों के नागरिकों के हाथों में चला गया है।

एक समय इंडोनेशीया में गन्ने की खेती पर \_\_\_\_\_ एकाधिकार था

1. फ्रेंच
2. मलेशिया
3. फिलीपींस
4. डच

**Options :**

485584137005. 1

485584137006. 2  
485584137007. 3  
485584137008. 4

**Question Number : 148 Question Id : 48558434253 Question Type : MCQ Option Shuffling : No Is Question Mandatory : No Calculator : None Response Time : N.A Think Time : N.A Minimum Instruction Time : 0**

**Correct Marks : 5 Wrong Marks : 1**

**Question Key Details :**

Key	Value
Comprehension	Comp2

The French established cocoa and coffee plantations in West Africa. The British set up large tea gardens in India and Sri Lanka, rubber plantation in Malaysia, and Sugarcane and banana plantations in West Indies. Spanish and Americans invested heavily in coconut and sugarcane plantations in the Philippines. The Dutch once had monopoly over Sugarcane plantations in Indonesia. Some Coffee Fazendar (large plantation) in Brazil are still managed by Europeans. Today, ownership of the majority of plantations have passed into the hands of the government or the nationals of the countries concerned.

The French established Cocoa and Coffee plantations in.

1. East Africa
2. West Africa
3. East America
4. South America

**Options :**

485584137009. 1  
485584137010. 2  
485584137011. 3  
485584137012. 4

**Question Number : 148 Question Id : 48558434253 Question Type : MCQ Option Shuffling : No Is Question Mandatory : No Calculator : None Response Time : N.A Think Time : N.A Minimum Instruction Time : 0**

**Correct Marks : 5 Wrong Marks : 1**

**Question Key Details :**

Key	Value
Comprehension	Comp2

फ्रांसिसियो ने पश्चिम अफ्रिका में कोको और कोफी बागान की स्थापना की। ब्रिटिश ने भारत और श्रीलंका में बड़े चाय बागान, मलेशिया में रबर के बागान और वेस्टइंडीज में गन्ने और केले के बागान स्थापित किए। स्पेनिशयो और अमेरिकियो ने फिलीपींस में नारियल और गन्ने की खेती में भारी निवेश किया। इंडोनेशीया में गन्ने की खेती पर एक बार डचो का एकाधिकार था। ब्राजील के कुछ कॉफी फैज़डर (वृहत बागान) अभी भी यूरोपिय लोगों के द्वारा संचालित किया जा रहा है।

आज, अधिकांश बागान का स्वामित्व सरकारया संबंधित देशो के नागरिको के हाथो में चला गया है।

फ्रांसीसियों ने कोको और कॉफी के बागान स्थापित किये

1. पूर्वी अफ्रीका
2. पश्चिमी अफ्रीका
3. पूर्व अमेरिका
4. दक्षिण अमेरिका

**Options :**

485584137009. 1  
485584137010. 2  
485584137011. 3  
485584137012. 4

**Question Number : 149 Question Id : 48558434254 Question Type : MCQ Option Shuffling : No Is Question Mandatory : No Calculator : None Response Time : N.A Think Time : N.A Minimum Instruction Time : 0**

**Correct Marks : 5 Wrong Marks : 1**

**Question Key Details :**

Key	Value
Comprehension	Comp2

The French established cocoa and coffee plantations in West Africa. The British set up large tea gardens in India and Sri Lanka, rubber plantation in Malaysia, and Sugarcane and banana plantations in West Indies. Spanish and Americans invested heavily in coconut and sugarcane plantations in the Philippines. The Dutch once had monopoly over Sugarcane plantations in Indonesia. Some Coffee Fazendar (large plantation) in Brazil are still managed by Europeans. Today, ownership of the majority of plantations have passed into the hands of the government or the nationals of the countries concerned.

The British set up large sugarcane and banana plantations in.

1. India and Sri Lanka
2. Indonesia
3. West Indies
4. Spain

**Options :**

485584137013. 1  
485584137014. 2  
485584137015. 3  
485584137016. 4

**Question Number : 149 Question Id : 48558434254 Question Type : MCQ Option Shuffling : No Is Question Mandatory : No Calculator : None Response Time : N.A Think Time : N.A Minimum Instruction Time : 0**

**Correct Marks : 5 Wrong Marks : 1**

**Question Key Details :**

Key	Value
Comprehension	Comp2

फ्रांसिसियो ने पश्चिम अफ्रिका में कोको और कोफी बागान की स्थापना की । ब्रिटिश ने भारत और श्रीलंका में बड़े चाय बागान, मलेशिया में रबर के बागान और वेस्टइंडीज में गन्ने और केले के बागान स्थापित किए । स्पेनिसियो और अमेरिकियो ने फिलीपींस में नारियल और गन्ने की खेती में भारी निवेश किया । इंडोनेशिया में गन्ने की खेती पर एक बार डचो का एकाधिकार था । ब्राजील के कुछ कॉफी फैज़डर (बृहत बागान) अभी भी यूरोपिय लोगों के द्वारा संचालित किया जा रहा है ।

आज, अधिकांश बागान का स्वामित्व सरकारया संबंधित देशो के नागरिको के हाथो में चला गया है ।

में ब्रिटिश लोगो ने बृहत गन्ना और केले बागान स्थापित किए

1. भारत और श्रीलंका
2. इंडोनेशिया
3. वेस्टइंडीज
4. स्पेन

**Options :**

485584137013. 1  
485584137014. 2  
485584137015. 3  
485584137016. 4

**Question Number : 150 Question Id : 48558434255 Question Type : MCQ Option Shuffling : No Is Question Mandatory : No Calculator : None Response Time : N.A Think Time : N.A Minimum Instruction Time : 0**

**Correct Marks : 5 Wrong Marks : 1**

**Question Key Details :**

Key	Value
Comprehension	Comp2

The French established cocoa and coffee plantations in West Africa. The British set up large tea gardens in India and Sri Lanka, rubber plantation in Malaysia, and Sugarcane and banana plantations in West Indies. Spanish and Americans invested heavily in coconut and sugarcane plantations in the Philippines. The Dutch once had monopoly over Sugarcane plantations in Indonesia. Some Coffee Fazendar (large plantation) in Brazil are still managed by Europeans. Today, ownership of the majority of plantations have passed into the hands of the government or the nationals of the countries concerned.



Spanish and Americans invested heavily in \_\_\_\_\_ the Philippines.

- A. Banana plantation
- B. Rubber plantation
- C. Coconut plantation
- D. Sugarcane plantation
- E. Tea garden

Choose the correct answer from the options given below:

- 1. A and B only
- 2. B and D only
- 3. C and D only
- 4. D and E only

**Options :**

- 485584137017. 1
- 485584137018. 2
- 485584137019. 3
- 485584137020. 4

**Question Number : 150 Question Id : 48558434255 Question Type : MCQ Option Shuffling : No Is Question Mandatory : No Calculator : None Response Time : N.A Think Time : N.A Minimum Instruction Time : 0**

**Correct Marks : 5 Wrong Marks : 1**

**Question Key Details :**

Key	Value
Comprehension	Comp2

फ्रांसिसियो ने पश्चिम अफ्रिका में कोको और कोफी बागान की स्थापना की । ब्रिटिश ने भारत और श्रीलंका में बड़े चाय बागान, मलेशिया में रबर के बागान और वेस्टइंडीज में गन्ने और केले के बागान स्थापित किए । स्पेनिशयो और अमेरिकियो ने फिलीपींस में नारियल और गन्ने की खेती में भारी निवेश किया । इंडोनिशीया में गन्ने की खेती पर एक बार डचो का एकाधिकार था । ब्राजील के कुछ कॉफी फैज़डर (वृहत बागान) अभी भी यूरोपिय लोगों के द्वारा संचालित किया जा रहा है ।

आज, अधिकांश बागान का स्वामित्व सरकारया संबंधित देशो के नागरिको के हाथो में चला गया है ।

स्पेनिश और अमेरिकियो ने फिलीपींस मे भारी निवेश किया

- A. केले का बागान
- B. रबर का बागान
- C. नारियल का बागान
- D. गन्ने का बागान
- E. चायका बागान

नीचे दिये गये कूट से सही उत्तर का चयन कीजिए ।

1. केवल A और B
2. केवल B और D
3. केवल C और D
4. केवल D और E

**Options :**

- 485584137017. 1
- 485584137018. 2
- 485584137019. 3
- 485584137020. 4

## Engineering Graphics

Group Number :	8
Group Id :	485584775
Group Maximum Duration :	45
Group Minimum Duration :	45
Show Attended Group? :	No
Edit Attended Group? :	No
Break time :	0
Group Marks :	200
Is this Group for Examiner? :	No
Examiner permission :	Cant View
Show Progress Bar? :	No

## Engineering Graphics

Section Id :	485584893
Section Number :	1
Section type :	Online
Mandatory or Optional :	Mandatory
Number of Questions :	50
Number of Questions to be attempted :	40
Section Marks :	200
Enable Mark as Answered Mark for Review and Clear Response :	Yes
Maximum Instruction Time :	0
Sub-Section Number :	1
Sub-Section Id :	4855842533

Question Shuffling Allowed :

Yes

Is Section Default? :

null

Question Number : 151 Question Id : 48558434606 Question Type : MCQ Option Shuffling : No Is Question Mandatory : No Calculator : None Response Time : N.A Think Time : N.A Minimum Instruction Time : 0

Correct Marks : 5 Wrong Marks : 1

Question Key Details :

Key	Value
Comprehension	MCQ

The view that gives inside details of an object is \_\_\_\_\_.

1. top view
2. front view
3. detailed view
4. sectional view

Options :

485584138421. 1  
485584138422. 2  
485584138423. 3  
485584138424. 4

Question Number : 151 Question Id : 48558434606 Question Type : MCQ Option Shuffling : No Is Question Mandatory : No Calculator : None Response Time : N.A Think Time : N.A Minimum Instruction Time : 0

Correct Marks : 5 Wrong Marks : 1

Question Key Details :

Key	Value
Comprehension	MCQ

\_\_\_\_\_ एक वस्तु के आंतरिक विस्तृत विवरण को दर्शाता है।

1. ऊपरी दृश्य
2. सम्मुख दृश्य
3. विस्तृत दृश्य
4. काट दृश्य

Options :

485584138421. 1  
485584138422. 2  
485584138423. 3  
485584138424. 4

Question Number : 152 Question Id : 48558434607 Question Type : MCQ Option Shuffling : No Is Question Mandatory : No Calculator : None Response Time : N.A Think Time : N.A Minimum Instruction Time : 0

Correct Marks : 5 Wrong Marks : 1

Question Key Details :

Key	Value
-----	-------

Comprehension	MCQ
---------------	-----

In Perspective projection, object appears to converge at a point, called \_\_\_\_\_.

1. enlarged point
2. vanishing point
3. dimensional point
4. horizontal plane

**Options :**

485584138425. 1  
485584138426. 2  
485584138427. 3  
485584138428. 4

**Question Number : 152 Question Id : 48558434607 Question Type : MCQ Option Shuffling : No Is Question Mandatory : No Calculator : None Response Time : N.A Think Time : N.A Minimum Instruction Time : 0**

**Correct Marks : 5 Wrong Marks : 1**

**Question Key Details :**

Key	Value
Comprehension	MCQ

परिप्रेक्ष्य प्रक्षेपण में, वस्तु एक बिंदु पर अभिसरित होता है, \_\_\_\_\_ कहलाता है।

1. विवर्धित बिंदु
2. लोपी बिंदु
3. आयामी बिंदु
4. क्षैतिज तल

**Options :**

485584138425. 1  
485584138426. 2  
485584138427. 3  
485584138428. 4

**Question Number : 153 Question Id : 48558434608 Question Type : MCQ Option Shuffling : No Is Question Mandatory : No Calculator : None Response Time : N.A Think Time : N.A Minimum Instruction Time : 0**

**Correct Marks : 5 Wrong Marks : 1**

**Question Key Details :**

Key	Value
Comprehension	MCQ

A solid having two bases and rectangular faces is \_\_\_\_\_.

1. Pyramid
2. Sphere
3. Prism
4. Cylinder

**Options :**

485584138429. 1  
485584138430. 2  
485584138431. 3  
485584138432. 4

**Question Number : 153 Question Id : 48558434608 Question Type : MCQ Option Shuffling : No Is Question Mandatory : No Calculator : None Response Time : N.A Think Time : N.A Minimum Instruction Time : 0**

**Correct Marks : 5 Wrong Marks : 1**

**Question Key Details :**

Key	Value
Comprehension	MCQ

एक ठोस जो दो आधार और आयताकार फलक रखता है \_\_\_\_\_ कहलाता है।

1. पिरामिड
2. गोला
3. प्रिज्म
4. बेलन

**Options :**

485584138429. 1  
485584138430. 2  
485584138431. 3  
485584138432. 4

**Question Number : 154 Question Id : 48558434609 Question Type : MCQ Option Shuffling : No Is Question Mandatory : No Calculator : None Response Time : N.A Think Time : N.A Minimum Instruction Time : 0**

**Correct Marks : 5 Wrong Marks : 1**

**Question Key Details :**

Key	Value
Comprehension	MCQ

The isometric projection of an object is \_\_\_\_\_ view projection.

1. double
2. single
3. multiple
4. triple

**Options :**

485584138433. 1  
485584138434. 2  
485584138435. 3  
485584138436. 4

**Question Number : 154 Question Id : 48558434609 Question Type : MCQ Option Shuffling : No Is Question Mandatory : No Calculator : None Response Time : N.A Think Time : N.A Minimum Instruction Time : 0**

**Correct Marks : 5 Wrong Marks : 1**

**Question Key Details :**

Key	Value
Comprehension	MCQ

एक वस्तु का समपरिमाण प्रक्षेपण \_\_\_\_\_ दृष्य प्रक्षेपण है।

1. दुगुना
2. एकल
3. बहुल
4. तिगुना

**Options :**

485584138433. 1  
485584138434. 2  
485584138435. 3  
485584138436. 4

**Question Number : 155 Question Id : 48558434610 Question Type : MCQ Option Shuffling : No Is Question Mandatory : No Calculator : None Response Time : N.A Think Time : N.A Minimum Instruction Time : 0**

**Correct Marks : 5 Wrong Marks : 1**

**Question Key Details :**

Key	Value
Comprehension	MCQ

The isometric scale is used to obtain the \_\_\_\_\_ of the edges of any object to draw its isometric projection.

1. foreshortened length
2. enlarged length
3. true length
4. double length

**Options :**

485584138437. 1  
485584138438. 2  
485584138439. 3  
485584138440. 4

**Question Number : 155 Question Id : 48558434610 Question Type : MCQ Option Shuffling : No Is Question Mandatory : No Calculator : None Response Time : N.A Think Time : N.A Minimum Instruction Time : 0**

**Correct Marks : 5 Wrong Marks : 1**

**Question Key Details :**

Key	Value
Comprehension	MCQ

समपरिमाण पैमाने का उपयोग किसी वस्तु के समपरिमाण प्रक्षेपण को आरेखित करने के लिए इसके किनारों की \_\_\_\_\_ प्राप्त करने के लिए किया जाता है।

1. समान घटी हुई लंबाई
2. बढ़ी हुई लंबाई
3. वास्तविक लंबाई
4. दुगुनी लंबाई

**Options :**

485584138437. 1  
485584138438. 2  
485584138439. 3  
485584138440. 4

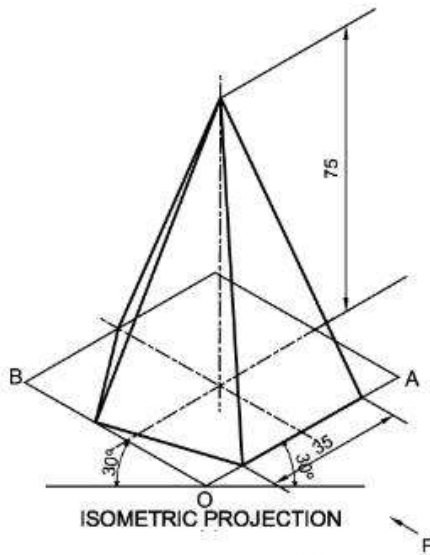
**Question Number : 156 Question Id : 48558434611 Question Type : MCQ Option Shuffling : No Is Question Mandatory : No Calculator : None Response Time : N.A Think Time : N.A Minimum Instruction Time : 0**

**Correct Marks : 5 Wrong Marks : 1**

**Question Key Details :**

Key	Value
Comprehension	MCQ

Choose the **correct** option as per the given figure:



1. A hexagonal prism is resting on H.P. on its base.
2. A pentagonal prism is resting on H.P. on its base.
3. A pentagonal pyramid is resting on H.P. on its apex.
4. A pentagonal pyramid is resting on H.P. on its base.

**Options :**

- 485584138441. 1
- 485584138442. 2
- 485584138443. 3
- 485584138444. 4

**Question Number : 156 Question Id : 48558434611 Question Type : MCQ Option Shuffling : No Is Question Mandatory : No Calculator : None Response Time : N.A Think Time : N.A Minimum Instruction Time : 0**

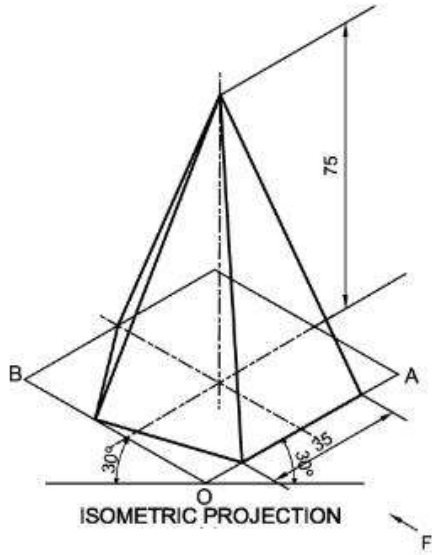
**Correct Marks : 5 Wrong Marks : 1**

**Question Key Details :**

Key	Value
Comprehension	MCQ



दिए हुए चित्र के आधार पर सही विकल्प चुनें:



1. एक षटभुजाकार प्रिज्म एच. पी. पर अपने आधार पर रखा हुआ है।
2. एक पंचभुजाकार प्रिज्म एच. पी. पर अपने आधार पर रखा हुआ है।
3. एक पंचभुजाकार पिरामिड एच. पी. पर अपने शीर्ष पर रखा हुआ है।
4. एक पंचभुजाकार पिरामिड एच. पी. पर अपने आधार पर रखा हुआ है।

**Options :**

485584138441. 1  
485584138442. 2  
485584138443. 3  
485584138444. 4

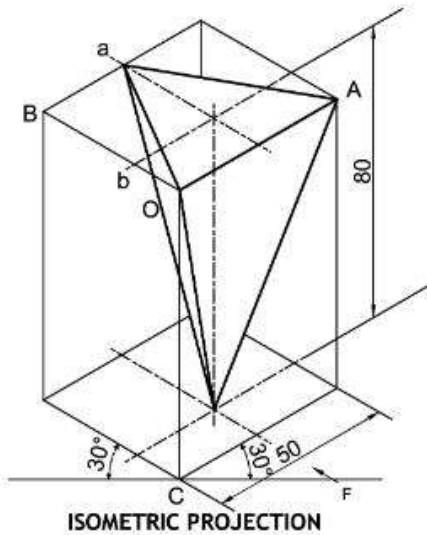
**Question Number : 157 Question Id : 48558434612 Question Type : MCQ Option Shuffling : No Is Question Mandatory : No Calculator : None Response Time : N.A Think Time : N.A Minimum Instruction Time : 0**

**Correct Marks : 5 Wrong Marks : 1**

**Question Key Details :**

Key	Value
Comprehension	MCQ

Choose the **correct** option as per the given figure:



1. One of its base edges is perpendicular to V.P.
2. One of its base edges is parallel to V.P. and away from the observer.
3. One of its base edges is parallel to V.P. and nearer to the observer.
4. One of its base edges is perpendicular to H.P.

**Options :**

- 485584138445. 1
- 485584138446. 2
- 485584138447. 3
- 485584138448. 4

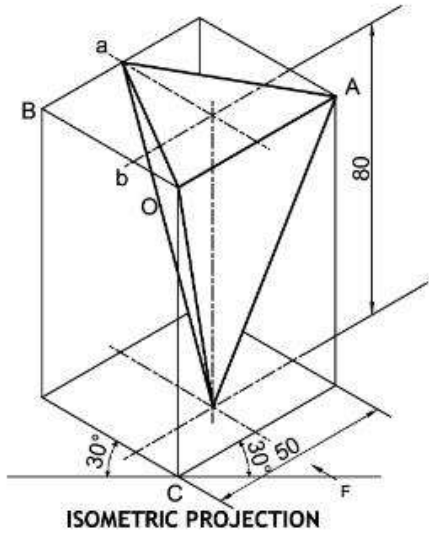
**Question Number : 157 Question Id : 48558434612 Question Type : MCQ Option Shuffling : No Is Question Mandatory : No Calculator : None Response Time : N.A Think Time : N.A Minimum Instruction Time : 0**

**Correct Marks : 5 Wrong Marks : 1**

**Question Key Details :**

Key	Value
Comprehension	MCQ

दिए हुए चित्र के अनुसार **सही** विकल्प चुनें:



1. इसका एक आधार किनारा वी.पी. के लंबवत है।
2. इसका एक आधार किनारा वी.पी. के समानांतर है और पर्यवेक्षक से दूर है।
3. इसका एक आधार किनारा वी.पी. के समानांतर है और पर्यवेक्षक के नजदीक है।
4. इसका एक आधार किनारा एच.पी. के लंबवत है।

**Options :**

- 485584138445. 1
- 485584138446. 2
- 485584138447. 3
- 485584138448. 4

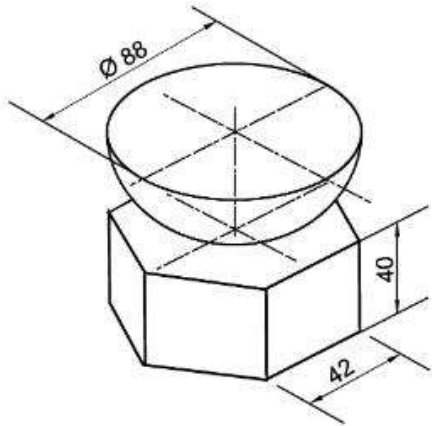
**Question Number : 158 Question Id : 48558434613 Question Type : MCQ Option Shuffling : No Is Question Mandatory : No Calculator : None Response Time : N.A Think Time : N.A Minimum Instruction Time : 0**

**Correct Marks : 5 Wrong Marks : 1**

**Question Key Details :**

Key	Value
Comprehension	MCQ

Choose the **correct** option as per the given figure:



1. A hemisphere is resting on a hexagonal pyramid.
2. A hemisphere is resting on a hexagonal prism.
3. A sphere is resting on a pentagonal pyramid.
4. A sphere is resting on a hexagonal prism.

**Options :**

- 485584138449. 1
- 485584138450. 2
- 485584138451. 3
- 485584138452. 4

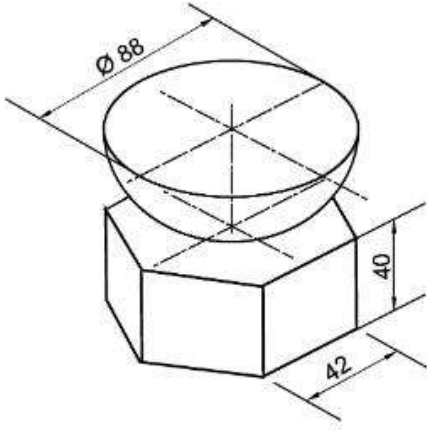
**Question Number : 158 Question Id : 48558434613 Question Type : MCQ Option Shuffling : No Is Question Mandatory : No Calculator : None Response Time : N.A Think Time : N.A Minimum Instruction Time : 0**

**Correct Marks : 5 Wrong Marks : 1**

**Question Key Details :**

Key	Value
Comprehension	MCQ

दिए हुए चित्र के अनुसार सही विकल्प चुनें:



1. एक अर्द्धगोला एक षटभुजाकार पिरामिड पर रखा है।
2. एक अर्द्धगोला एक षटभुजाकार प्रिज्म पर रखा है।
3. एक अर्द्धगोला एक पंचभुजाकार पिरामिड पर रखा है।
4. एक गोला एक षटभुजाकार प्रिज्म पर रखा है।

**Options :**

485584138449. 1  
485584138450. 2  
485584138451. 3  
485584138452. 4

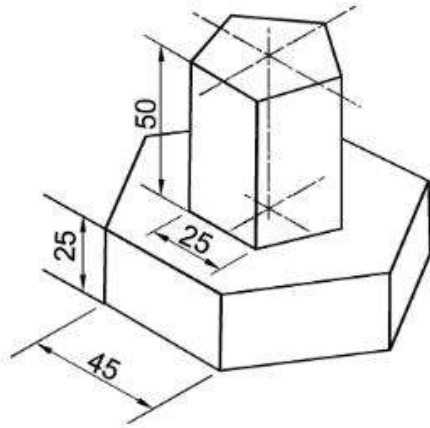
**Question Number : 159 Question Id : 48558434614 Question Type : MCQ Option Shuffling : No Is Question Mandatory : No Calculator : None Response Time : N.A Think Time : N.A Minimum Instruction Time : 0**

**Correct Marks : 5 Wrong Marks : 1**

**Question Key Details :**

Key	Value
Comprehension	MCQ

How many rectangular faces are there in the given figure:



1. 9
2. 10
3. 11
4. 12

**Options :**

- 485584138453. 1
- 485584138454. 2
- 485584138455. 3
- 485584138456. 4

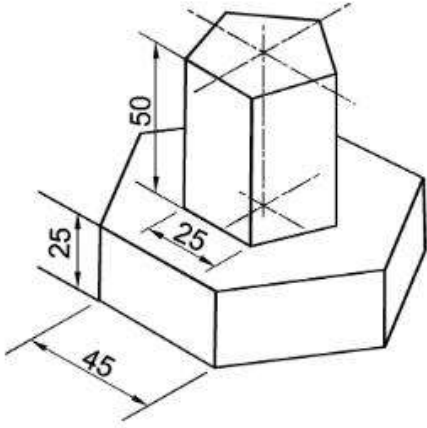
**Question Number : 159 Question Id : 48558434614 Question Type : MCQ Option Shuffling : No Is Question Mandatory : No Calculator : None Response Time : N.A Think Time : N.A Minimum Instruction Time : 0**

**Correct Marks : 5 Wrong Marks : 1**

**Question Key Details :**

Key	Value
Comprehension	MCQ

दिए हुए चित्र में कितने आयताकार फलक हैं:



1. 9
2. 10
3. 11
4. 12

**Options :**

- 485584138453. 1
- 485584138454. 2
- 485584138455. 3
- 485584138456. 4

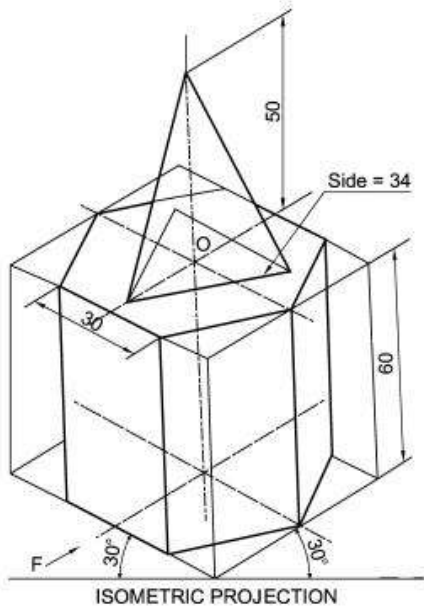
**Question Number : 160 Question Id : 48558434615 Question Type : MCQ Option Shuffling : No Is Question Mandatory : No Calculator : None Response Time : N.A Think Time : N.A Minimum Instruction Time : 0**

**Correct Marks : 5 Wrong Marks : 1**

**Question Key Details :**

Key	Value
Comprehension	MCQ

Choose the correct option as per the given figure:



1. Axial height of isometric projection of combination of solids is 88 mm.
2. Axial height of isometric projection of combination of solids is 110 mm.
3. Axial height of isometric projection of combination of solids is 60 mm.
4. Axial height of isometric projection of combination of solids is 50 mm.

**Options :**

- 485584138457. 1
- 485584138458. 2
- 485584138459. 3
- 485584138460. 4

**Question Number : 160 Question Id : 48558434615 Question Type : MCQ Option Shuffling : No Is Question Mandatory : No Calculator : None Response Time : N.A Think Time : N.A Minimum Instruction Time : 0**

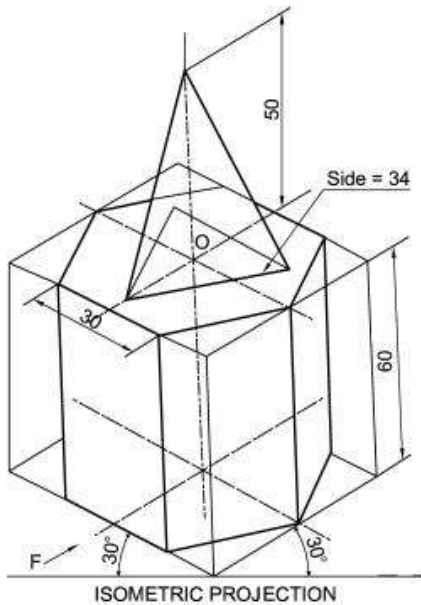
**Correct Marks : 5 Wrong Marks : 1**

**Question Key Details :**

Key	Value
Comprehension	MCQ



दिए हुए चित्र के आधार पर सही विकल्प चुनें:



1. ठोसों के संयोजन के समपरिमाण प्रक्षेपण की अक्षिय ऊंचाई 88 मि.मी. है।
2. ठोसों के संयोजन के समपरिमाण प्रक्षेपण की अक्षिय ऊंचाई 110 मि.मी. है।
3. ठोसों के संयोजन के समपरिमाण प्रक्षेपण की अक्षिय ऊंचाई 60 मि.मी. है।
4. ठोसों के संयोजन के समपरिमाण प्रक्षेपण की अक्षिय ऊंचाई 50 मि.मी. है।

**Options :**

485584138457. 1  
 485584138458. 2  
 485584138459. 3  
 485584138460. 4

**Question Number : 161 Question Id : 48558434616 Question Type : MCQ Option Shuffling : No Is Question Mandatory : No Calculator : None Response Time : N.A Think Time : N.A Minimum Instruction Time : 0**

**Correct Marks : 5 Wrong Marks : 1**

**Question Key Details :**

Key	Value
Comprehension	MCQ

In a Screw thread, theoretical depth (D) of the thread will be equal to \_\_\_\_\_.

1. (Major Diameter) – (Minor Diameter)
2.  $\frac{\{(Major\ Diameter) - (Minor\ Diameter)\}}{2}$
3.  $2 \times \{(Major\ Diameter) - (Minor\ Diameter)\}$
4. (Major Diameter) + (Minor Diameter)

**Options :**

485584138461. 1  
 485584138462. 2  
 485584138463. 3  
 485584138464. 4

**Question Number : 161 Question Id : 48558434616 Question Type : MCQ Option Shuffling : No Is Question Mandatory : No Calculator : None Response Time : N.A Think Time : N.A Minimum Instruction Time : 0**

**Correct Marks : 5 Wrong Marks : 1**

**Question Key Details :**

Key	Value
Comprehension	MCQ

स्कू-चूड़ी में, चूड़ी की सैद्धान्तिक गहराई (D) \_\_\_\_\_ के बराबर होगी।

1. ( दीर्घ व्यास )-( लघु व्यास )
2.  $\frac{\{( दीर्घ व्यास )-( लघु व्यास )\}}{2}$
3.  $2 \times \{( दीर्घ व्यास )-( लघु व्यास )\}$
4. ( दीर्घ व्यास ) + ( लघु व्यास )

**Options :**

485584138461. 1  
 485584138462. 2  
 485584138463. 3  
 485584138464. 4

**Question Number : 162 Question Id : 48558434617 Question Type : MCQ Option Shuffling : No Is Question Mandatory : No Calculator : None Response Time : N.A Think Time : N.A Minimum Instruction Time : 0**

**Correct Marks : 5 Wrong Marks : 1**

**Question Key Details :**

Key	Value
Comprehension	MCQ

If pitch is 'P' in B.S.W. thread, then the value of 'd' (d= Actual Depth) will be \_\_\_\_\_.

1. 0.96P
2. 0.64P
3. 0.51P
4. 0.86P

**Options :**

485584138465. 1  
 485584138466. 2  
 485584138467. 3  
 485584138468. 4

Question Number : 162 Question Id : 48558434617 Question Type : MCQ Option Shuffling : No Is Question Mandatory : No Calculator : None Response Time : N.A Think Time : N.A Minimum Instruction Time : 0

Correct Marks : 5 Wrong Marks : 1

Question Key Details :

Key	Value
Comprehension	MCQ

अगर बी.एस.डब्ल्यू. चूड़ी में पिच 'P' है, तो 'd' (d= वास्तिक गहराई) का मान \_\_\_\_\_ होगा।

1. 0.96P
2. 0.64P
3. 0.51P
4. 0.86P

Options :

- 485584138465. 1
- 485584138466. 2
- 485584138467. 3
- 485584138468. 4

Question Number : 163 Question Id : 48558434618 Question Type : MCQ Option Shuffling : No Is Question Mandatory : No Calculator : None Response Time : N.A Think Time : N.A Minimum Instruction Time : 0

Correct Marks : 5 Wrong Marks : 1

Question Key Details :

Key	Value
Comprehension	MCQ

Thread profile on an electric bulb:

1. Metric internal thread
2. Square thread
3. B.S.W. thread
4. Knuckle thread

Options :

- 485584138469. 1
- 485584138470. 2
- 485584138471. 3
- 485584138472. 4

Question Number : 163 Question Id : 48558434618 Question Type : MCQ Option Shuffling : No Is Question Mandatory : No Calculator : None Response Time : N.A Think Time : N.A Minimum Instruction Time : 0

Correct Marks : 5 Wrong Marks : 1

Question Key Details :

Key	Value
Comprehension	MCQ

एक बिजली के बल्ब पर चूड़ी प्रोफाइल:

1. अंत: मीट्रिक चूड़ी
2. वर्गाकार चूड़ी
3. बी.एस.डब्ल्यू. चूड़ी
4. नक्कल चूड़ी

**Options :**

485584138469. 1  
485584138470. 2  
485584138471. 3  
485584138472. 4

**Question Number : 164 Question Id : 48558434619 Question Type : MCQ Option Shuffling : No Is Question Mandatory : No Calculator : None Response Time : N.A Think Time : N.A Minimum Instruction Time : 0**

**Correct Marks : 5 Wrong Marks : 1**

**Question Key Details :**

Key	Value
Comprehension	MCQ

The total length of a bolt does not include its \_\_\_\_\_.

1. shank length
2. threaded length
3. head thickness / head height
4. non-threaded length

**Options :**

485584138473. 1  
485584138474. 2  
485584138475. 3  
485584138476. 4

**Question Number : 164 Question Id : 48558434619 Question Type : MCQ Option Shuffling : No Is Question Mandatory : No Calculator : None Response Time : N.A Think Time : N.A Minimum Instruction Time : 0**

**Correct Marks : 5 Wrong Marks : 1**

**Question Key Details :**

Key	Value
Comprehension	MCQ

एक बोल्ट की कुल लंबाई में इसकी \_\_\_\_\_ को शामिल नहीं करते।

1. शैंक लंबाई
2. चूड़ीदार लंबाई
3. शिर्ष मोटाई/शिर्ष ऊंचाई
4. बिना चूड़ी वाली लंबाई

**Options :**

485584138473. 1  
485584138474. 2  
485584138475. 3  
485584138476. 4

**Question Number : 165 Question Id : 48558434620 Question Type : MCQ Option Shuffling : No Is Question Mandatory : No Calculator : None Response Time : N.A Think Time : N.A Minimum Instruction Time : 0**

**Correct Marks : 5 Wrong Marks : 1**

**Question Key Details :**

Key	Value
Comprehension	MCQ

\_\_\_\_\_ is the diameter of the chamfered circle of a square nut used for bolt of size M30.

1. 40 mm
2. 60 mm
3. 30 mm
4. 45 mm

**Options :**

485584138477. 1  
485584138478. 2  
485584138479. 3  
485584138480. 4

**Question Number : 165 Question Id : 48558434620 Question Type : MCQ Option Shuffling : No Is Question Mandatory : No Calculator : None Response Time : N.A Think Time : N.A Minimum Instruction Time : 0**

**Correct Marks : 5 Wrong Marks : 1**

**Question Key Details :**

Key	Value
Comprehension	MCQ

एक वर्गाकार नट के चैम्फर वृत्त का व्यास \_\_\_\_\_ है, जो M30 आकार के बोल्ट के लिए उपयोग किया जाता है।

1. 40 मि.मी.
2. 60 मि.मी.
3. 30 मि.मी.
4. 45 मि.मी.

**Options :**

485584138477. 1  
485584138478. 2  
485584138479. 3  
485584138480. 4

**Question Number : 166 Question Id : 48558434621 Question Type : MCQ Option Shuffling : No Is Question Mandatory : No Calculator : None Response Time : N.A Think Time : N.A Minimum Instruction Time : 0**

**Correct Marks : 5 Wrong Marks : 1**

**Question Key Details :**

Key	Value
Comprehension	MCQ

The value of outer diameter of a plain washer for a bolt of nominal diameter 24 mm is \_\_\_\_\_.

1. 25 mm
2. 3 mm
3. 51 mm
4. 24 mm

**Options :**

485584138481. 1  
485584138482. 2  
485584138483. 3  
485584138484. 4

**Question Number : 166 Question Id : 48558434621 Question Type : MCQ Option Shuffling : No Is Question Mandatory : No Calculator : None Response Time : N.A Think Time : N.A Minimum Instruction Time : 0**

**Correct Marks : 5 Wrong Marks : 1**

**Question Key Details :**

Key	Value
Comprehension	MCQ

नॉमिनल व्यास 24 मि.मी. के बोल्ट के लिए प्लेन वॉशर के बाह्य व्यास का मान \_\_\_\_\_ है।

1. 25 मि.मी.
2. 3 मि.मी.
3. 51 मि.मी.
4. 24 मि.मी.

**Options :**

485584138481. 1  
485584138482. 2  
485584138483. 3  
485584138484. 4

**Question Number : 167 Question Id : 48558434622 Question Type : MCQ Option Shuffling : No Is Question Mandatory : No Calculator : None Response Time : N.A Think Time : N.A Minimum Instruction Time : 0**

**Correct Marks : 5 Wrong Marks : 1**

**Question Key Details :**

Key	Value
Comprehension	MCQ

In conventional representation of V-thread, the side view shows a complete thick circle representing the \_\_\_\_\_.

1. Crest
2. Root
3. Lead
4. Pitch

**Options :**

485584138485. 1  
485584138486. 2  
485584138487. 3  
485584138488. 4

**Question Number : 167 Question Id : 48558434622 Question Type : MCQ Option Shuffling : No Is Question Mandatory : No Calculator : None Response Time : N.A Think Time : N.A Minimum Instruction Time : 0**

**Correct Marks : 5 Wrong Marks : 1**

**Question Key Details :**

Key	Value
Comprehension	MCQ

V - चूड़ी के पारंपारिक चित्रण में, पार्श्व दृश्य में एक पूर्ण मोटे वृत्त को दिखाया गया है, जो \_\_\_\_\_ को दर्शाता है।

1. क्रेस्ट
2. रुट
3. लीड
4. पिच

**Options :**

485584138485. 1  
485584138486. 2  
485584138487. 3  
485584138488. 4

**Question Number : 168 Question Id : 48558434623 Question Type : MCQ Option Shuffling : No Is Question Mandatory : No Calculator : None Response Time : N.A Think Time : N.A Minimum Instruction Time : 0**

**Correct Marks : 5 Wrong Marks : 1**

**Question Key Details :**

Key	Value
Comprehension	MCQ

Length of metal end for a Square neck stud of diameter 'd=30 mm' can be \_\_\_\_\_.

1. 15 mm
2. 25 mm
3. 45 mm
4. 60 mm

**Options :**

485584138489. 1  
485584138490. 2  
485584138491. 3  
485584138492. 4

**Question Number : 168 Question Id : 48558434623 Question Type : MCQ Option Shuffling : No Is Question Mandatory : No Calculator : None Response Time : N.A Think Time : N.A Minimum Instruction Time : 0**

**Correct Marks : 5 Wrong Marks : 1**

**Question Key Details :**

Key	Value
Comprehension	MCQ



व्यास 'd'=30 मि.मी. के वर्गाकार नेक वाले स्टड के मेटल सिरे की लंबाई \_\_\_\_\_ है।

1. 15 मि.मी.
2. 25 मि.मी.
3. 45 मि.मी.
4. 60 मि.मी.

**Options :**

485584138489. 1  
485584138490. 2  
485584138491. 3  
485584138492. 4

**Question Number : 169 Question Id : 48558434624 Question Type : MCQ Option Shuffling : No Is Question Mandatory : No Calculator : None Response Time : N.A Think Time : N.A Minimum Instruction Time : 0**

**Correct Marks : 5 Wrong Marks : 1**

**Question Key Details :**

Key	Value
Comprehension	MCQ

The thickness of collar in a Collar stud of diameter 30 mm is :

1. 30 mm
2. 45 mm
3. 12 mm
4. 20 mm

**Options :**

485584138493. 1  
485584138494. 2  
485584138495. 3  
485584138496. 4

**Question Number : 169 Question Id : 48558434624 Question Type : MCQ Option Shuffling : No Is Question Mandatory : No Calculator : None Response Time : N.A Think Time : N.A Minimum Instruction Time : 0**

**Correct Marks : 5 Wrong Marks : 1**

**Question Key Details :**

Key	Value
Comprehension	MCQ

30 मि.मी. व्यास के कॉलर स्टड में कॉलर की मोटाई:

1. 30 मि.मी.
2. 45 मि.मी.
3. 12 मि.मी.
4. 20 मि.मी.

**Options :**

485584138493. 1  
485584138494. 2  
485584138495. 3  
485584138496. 4

**Question Number : 170 Question Id : 48558434625 Question Type : MCQ Option Shuffling : No Is Question Mandatory : No Calculator : None Response Time : N.A Think Time : N.A Minimum Instruction Time : 0**

**Correct Marks : 5 Wrong Marks : 1**

**Question Key Details :**

Key	Value
Comprehension	MCQ

Rivets are not used in \_\_\_\_\_.

1. a pressure cooker
2. belts
3. a frying pan
4. a wooden stool

**Options :**

485584138497. 1  
485584138498. 2  
485584138499. 3  
485584138500. 4

**Question Number : 170 Question Id : 48558434625 Question Type : MCQ Option Shuffling : No Is Question Mandatory : No Calculator : None Response Time : N.A Think Time : N.A Minimum Instruction Time : 0**

**Correct Marks : 5 Wrong Marks : 1**

**Question Key Details :**

Key	Value
Comprehension	MCQ

रिवेटों का उपयोग \_\_\_\_\_ में नहीं किया जाता है।

1. प्रेशर कुकर
2. बेल्ट/पट्टों
3. तलने की कड़ाई
4. लकड़ी के स्टूल

**Options :**

485584138497. 1  
485584138498. 2  
485584138499. 3  
485584138500. 4

**Question Number : 171 Question Id : 48558434626 Question Type : MCQ Option Shuffling : No Is Question Mandatory : No Calculator : None Response Time : N.A Think Time : N.A Minimum Instruction Time : 0**

**Correct Marks : 5 Wrong Marks : 1**

**Question Key Details :**

Key	Value
Comprehension	MCQ

In the top view of a vertical Pan Head Rivet of diameter 20mm, \_\_\_\_\_ is the diameter of the outer circle.

1. 20 mm
2. 32 mm
3. 40 mm
4. 25 mm

**Options :**

485584138501. 1  
485584138502. 2  
485584138503. 3  
485584138504. 4

**Question Number : 171 Question Id : 48558434626 Question Type : MCQ Option Shuffling : No Is Question Mandatory : No Calculator : None Response Time : N.A Think Time : N.A Minimum Instruction Time : 0**

**Correct Marks : 5 Wrong Marks : 1**

**Question Key Details :**

Key	Value
Comprehension	MCQ

20 मि.मी. व्यास वाले ऊर्ध्वाधर पैन हेड रिबेट के ऊपरी द्रश्य में बाह्य वृत्त का व्यास \_\_\_\_\_ है।

1. 20 मि.मी.
2. 32 मि.मी.
3. 40 मि.मी.
4. 25 मि.मी.

**Options :**

485584138501. 1  
485584138502. 2  
485584138503. 3  
485584138504. 4

**Question Number : 172 Question Id : 48558434627 Question Type : MCQ Option Shuffling : No Is Question Mandatory : No Calculator : None Response Time : N.A Think Time : N.A Minimum Instruction Time : 0**

**Correct Marks : 5 Wrong Marks : 1**

**Question Key Details :**

Key	Value
Comprehension	MCQ

This assembly has an oil hole:

1. Sleeve and cotter joint assembly
2. Turnbuckle joint assembly
3. Bush bearing assembly
4. Open bearing assembly

**Options :**

485584138505. 1  
485584138506. 2  
485584138507. 3  
485584138508. 4

**Question Number : 172 Question Id : 48558434627 Question Type : MCQ Option Shuffling : No Is Question Mandatory : No Calculator : None Response Time : N.A Think Time : N.A Minimum Instruction Time : 0**

**Correct Marks : 5 Wrong Marks : 1**

**Question Key Details :**

Key	Value
Comprehension	MCQ

इस असेम्बली में एक तेल छिद्र होता है :

1. स्लीव और कॉटर जोड़ असेम्बली
2. टर्नबकवल जोड़ असेम्बली
3. बुश बियरिंग असेम्बली
4. ओपेन बियरिंग असेम्बली

**Options :**

485584138505. 1  
485584138506. 2  
485584138507. 3  
485584138508. 4

**Question Number : 173 Question Id : 48558434628 Question Type : MCQ Option Shuffling : No Is Question Mandatory : No Calculator : None Response Time : N.A Think Time : N.A Minimum Instruction Time : 0**

**Correct Marks : 5 Wrong Marks : 1**

**Question Key Details :**

Key	Value
Comprehension	MCQ

Open Bearing is used for \_\_\_\_\_.

1. vertical shafts
2. shafts rotating at high speed
3. shafts rotating at medium speed
4. zigzag shafts

**Options :**

485584138509. 1  
485584138510. 2  
485584138511. 3  
485584138512. 4

**Question Number : 173 Question Id : 48558434628 Question Type : MCQ Option Shuffling : No Is Question Mandatory : No Calculator : None Response Time : N.A Think Time : N.A Minimum Instruction Time : 0**

**Correct Marks : 5 Wrong Marks : 1**

**Question Key Details :**

Key	Value
Comprehension	MCQ

ओपेन बियरिंग \_\_\_\_\_ के लिए उपयोग किया जाता है।

1. ऊर्ध्वाधर शाफ्टों
2. उच्च वेग से घूर्णन करने वाले शाफ्टों
3. मध्यम वेग से घूर्णन करने वाले शाफ्टों
4. टेढ़े-मेढ़े शाफ्टों

**Options :**

485584138509. 1  
485584138510. 2  
485584138511. 3  
485584138512. 4

**Question Number : 174 Question Id : 48558434629 Question Type : MCQ Option Shuffling : No Is Question Mandatory : No Calculator : None Response Time : N.A Think Time : N.A Minimum Instruction Time : 0**

**Correct Marks : 5 Wrong Marks : 1**

**Question Key Details :**

Key	Value
Comprehension	MCQ

This bearing / joint is useful for higher loads at medium speed:

1. Bush Bearing
2. Open Bearing
3. Gib and Cotter joint
4. Sleeve and Cotter joint

**Options :**

485584138513. 1  
485584138514. 2  
485584138515. 3  
485584138516. 4

**Question Number : 174 Question Id : 48558434629 Question Type : MCQ Option Shuffling : No Is Question Mandatory : No Calculator : None Response Time : N.A Think Time : N.A Minimum Instruction Time : 0**

**Correct Marks : 5 Wrong Marks : 1**

**Question Key Details :**

Key	Value
Comprehension	MCQ

यह बियरिंग/जोड़ मध्यम वेग पर अधिक भारों (loads) के लिए उपयोगी है।

1. बुश बियरिंग
2. ओपेन बियरिंग
3. गिब और कॉटर जोड़
4. स्लीव और कॉटर जोड़

**Options :**

485584138513. 1  
485584138514. 2  
485584138515. 3  
485584138516. 4

**Question Number : 175 Question Id : 48558434630 Question Type : MCQ Option Shuffling : No Is Question Mandatory : No Calculator : None Response Time : N.A Think Time : N.A Minimum Instruction Time : 0**

**Correct Marks : 5 Wrong Marks : 1**

**Question Key Details :**

Key	Value
Comprehension	MCQ

In a Sleeve and Cotter joint, each rod has \_\_\_\_\_ rectangular hole(s) for the insertion of cotter at right angle to the axis.

1. One
2. Two
3. Three
4. Five

**Options :**

485584138517. 1  
485584138518. 2  
485584138519. 3  
485584138520. 4

**Question Number : 175 Question Id : 48558434630 Question Type : MCQ Option Shuffling : No Is Question Mandatory : No Calculator : None Response Time : N.A Think Time : N.A Minimum Instruction Time : 0**

**Correct Marks : 5 Wrong Marks : 1**

**Question Key Details :**

Key	Value
Comprehension	MCQ

स्लीव और कॉटर जोड़ में, कॉटर को अक्ष के समकोण पर डालने के लिए सभी छड़ों के पास \_\_\_\_\_ आयताकार छिद्र/छिद्रे होते हैं।

1. एक
2. दो
3. तीन
4. पाँच

**Options :**

485584138517. 1  
485584138518. 2  
485584138519. 3  
485584138520. 4

**Question Number : 176 Question Id : 48558434631 Question Type : MCQ Option Shuffling : No Is Question Mandatory : No Calculator : None Response Time : N.A Think Time : N.A Minimum Instruction Time : 0**

**Correct Marks : 5 Wrong Marks : 1**

**Question Key Details :**

Key	Value
Comprehension	MCQ

A machine part which prevents slacking of the joint besides holding the jaws of the strap from opening wide when the cotter is inserted:

1. Cotter
2. Rod
3. Gib
4. Sleeve

**Options :**

485584138521. 1  
485584138522. 2  
485584138523. 3  
485584138524. 4

**Question Number : 176 Question Id : 48558434631 Question Type : MCQ Option Shuffling : No Is Question Mandatory : No Calculator : None Response Time : N.A Think Time : N.A Minimum Instruction Time : 0**

**Correct Marks : 5 Wrong Marks : 1**

**Question Key Details :**

Key	Value
Comprehension	MCQ



मशीन का एक पूर्जा जो कॉटर डालने पर स्ट्रेप के जबड़ों को चौड़ा खुलने से रोकने के अलावा जोड़ को ढीला होने से रोकता है।

1. कॉटर
2. छड़
3. गिब
4. स्लीव

**Options :**

485584138521. 1  
485584138522. 2  
485584138523. 3  
485584138524. 4

**Question Number : 177 Question Id : 48558434632 Question Type : MCQ Option Shuffling : No Is Question Mandatory : No Calculator : None Response Time : N.A Think Time : N.A Minimum Instruction Time : 0**

**Correct Marks : 5 Wrong Marks : 1**

**Question Key Details :**

Key	Value
Comprehension	MCQ

In Flange Pipe Joint, if it is mentioned SQ Headed Bolt MS-4 OFF. What is the meaning of 4 OFF ?

1. Four number of bolt.
2. Four types of bolt.
3. Four mm length of bolt.
4. Four mm thickness of bolt.

**Options :**

485584138525. 1  
485584138526. 2  
485584138527. 3  
485584138528. 4

**Question Number : 177 Question Id : 48558434632 Question Type : MCQ Option Shuffling : No Is Question Mandatory : No Calculator : None Response Time : N.A Think Time : N.A Minimum Instruction Time : 0**

**Correct Marks : 5 Wrong Marks : 1**

**Question Key Details :**

Key	Value
Comprehension	MCQ

फलैंज पाइप जोड़ में, अगर SQ हेडेड बोल्ट MS-4 OFF अंकित है। तो 4 OFF का मतलब क्या है?

1. बोल्ट की संख्या चार है।
2. बोल्ट चार प्रकार के है।
3. बोल्ट की लम्बाई चार मि.मी. है।
4. बोल्ट की मोटाई चार मि.मी. है।

**Options :**

485584138525. 1  
485584138526. 2  
485584138527. 3  
485584138528. 4

**Question Number : 178 Question Id : 48558434633 Question Type : MCQ Option Shuffling : No Is Question Mandatory : No Calculator : None Response Time : N.A Think Time : N.A Minimum Instruction Time : 0**

**Correct Marks : 5 Wrong Marks : 1**

**Question Key Details :**

Key	Value
Comprehension	MCQ

In Turnbuckle joint, the two rods have \_\_\_\_\_ screw threads.

1. Opposite hand external
2. Opposite hand internal
3. Both external RH
4. Both internal LH

**Options :**

485584138529. 1  
485584138530. 2  
485584138531. 3  
485584138532. 4

**Question Number : 178 Question Id : 48558434633 Question Type : MCQ Option Shuffling : No Is Question Mandatory : No Calculator : None Response Time : N.A Think Time : N.A Minimum Instruction Time : 0**

**Correct Marks : 5 Wrong Marks : 1**

**Question Key Details :**

Key	Value
Comprehension	MCQ

टर्नबकल जोड़ में दो छड़ों के पास \_\_\_\_\_ स्कू-चुडीयाँ हैं।

1. विपरीत हाथ की बाह्य
2. विपरीत हाथ की अंतः
3. दोनों बाह्य RH
4. दोनों अंतः LH

**Options :**

485584138529. 1  
485584138530. 2  
485584138531. 3  
485584138532. 4

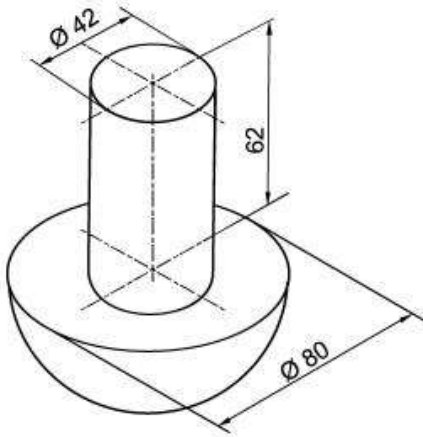
**Question Number : 179 Question Id : 48558434634 Question Type : MCQ Option Shuffling : No Is Question Mandatory : No Calculator : None Response Time : N.A Think Time : N.A Minimum Instruction Time : 0**

**Correct Marks : 5 Wrong Marks : 1**

**Question Key Details :**

Key	Value
Comprehension	MCQ

Identify the **correct** statements for the given figure:



- A. Axes of both solids are perpendicular to H.P.
- B. Axis of cylinder is perpendicular to V.P. and axis of hemisphere is perpendicular to H.P.
- C. A vertical cylinder is resting on the circular face of a hemisphere.
- D. A hemisphere is resting on a cylinder.
- E. A horizontal cylinder is resting on a hemisphere.

Choose the **correct** answer from the options given below:

- 1. B and E only
- 2. A and D only
- 3. D and E only
- 4. A and C only

**Options :**

- 485584138533. 1
- 485584138534. 2
- 485584138535. 3
- 485584138536. 4

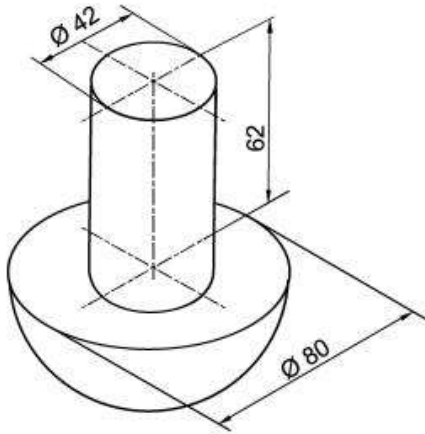
**Question Number : 179 Question Id : 48558434634 Question Type : MCQ Option Shuffling : No Is Question Mandatory : No Calculator : None Response Time : N.A Think Time : N.A Minimum Instruction Time : 0**

**Correct Marks : 5 Wrong Marks : 1**

**Question Key Details :**

Key	Value
Comprehension	MCQ

दिए गए चित्र के लिए सही कथनों की पहचान करें:



- A. दोनों ठोसों के अक्ष एच.पी. के लंबवत है।
- B. बेलन का अक्ष वी.पी. के लंबवत है तथा अर्धगोले का अक्ष एच.पी. के लंबवत है।
- C. एक ऊर्ध्वाधर बेलन एक अर्धगोले के वृत्ताकार फलक पर रखा हुआ है।
- D. एक अर्धगोला एक बेलन पर रखा हुआ है।
- E. एक क्षैतिज बेलन एक अर्धगोला पर रखा हुआ है।

नीचे दिए विकल्पों में से सही उत्तर चुनें:

- 1. केवल B और E
- 2. केवल A और D
- 3. केवल D और E
- 4. केवल A और C

**Options :**

- 485584138533. 1
- 485584138534. 2
- 485584138535. 3
- 485584138536. 4

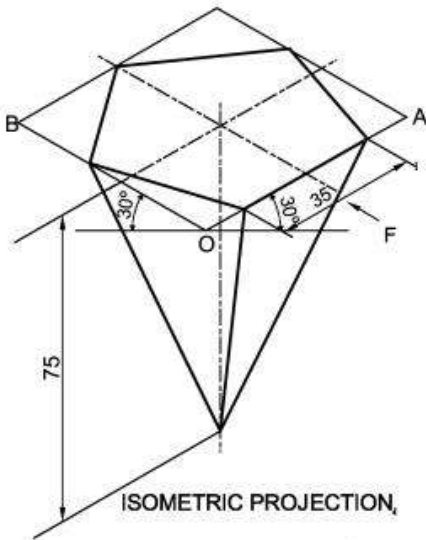
**Question Number : 180 Question Id : 48558434635 Question Type : MCQ Option Shuffling : No Is Question Mandatory : No Calculator : None Response Time : N.A Think Time : N.A Minimum Instruction Time : 0**

**Correct Marks : 5 Wrong Marks : 1**

**Question Key Details :**

Key	Value
Comprehension	MCQ

Identify the **correct** statements for the given figure:



- A. A pentagonal prism is resting on H.P. on its base.
- B. Axis of pyramid is perpendicular to V.P.
- C. Axis of pyramid is perpendicular to H.P.
- D. A pentagonal pyramid is resting on H.P. on its apex.
- E. Length of its axis is 35 mm.

Choose the **correct** answer from the options given below:

- 1. A and B only
- 2. C and D only
- 3. B and E only
- 4. A and C only

**Options :**

- 485584138537. 1
- 485584138538. 2
- 485584138539. 3
- 485584138540. 4

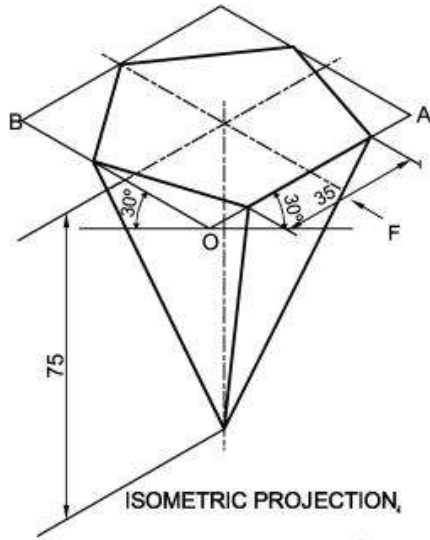
**Question Number : 180 Question Id : 48558434635 Question Type : MCQ Option Shuffling : No Is Question Mandatory : No Calculator : None Response Time : N.A Think Time : N.A Minimum Instruction Time : 0**

**Correct Marks : 5 Wrong Marks : 1**

**Question Key Details :**

Key	Value
Comprehension	MCQ

दिए गए चित्र के लिए सही कथनों की पहचान करें:



- A. एक पंचभुजाकार प्रिज्म एच.पी. पर अपने आधार पर रखा है।
- B. पिरामिड का अक्ष वी.पी. के लंबवत है।
- C. पिरामिड का अक्ष एच.पी. के लंबवत है।
- D. एक पंचभुजाकार पिरामिड एच.पी. पर इसके शीर्ष पर रखा है।
- E. इसके अक्ष की लंबाई 35 मि.मी. है।

नीचे दिए विकल्पों में से सही उत्तर चुनें:

1. केवल A और B
2. केवल C और D
3. केवल B और E
4. केवल A और C

**Options :**

- 485584138537. 1
- 485584138538. 2
- 485584138539. 3
- 485584138540. 4

**Question Number : 181 Question Id : 48558434636 Question Type : MCQ Option Shuffling : No Is Question Mandatory : No Calculator : None Response Time : N.A Think Time : N.A Minimum Instruction Time : 0**

**Correct Marks : 5 Wrong Marks : 1**

**Question Key Details :**

Key	Value
Comprehension	MCQ

Identify the **correct** statements for Isometric Projection of a Sphere:

- A. Its diameter is foreshortened.
- B. Its isometric projection appears as circle.
- C. Its isometric projection is drawn by taking an angle of  $60^\circ$  with the horizontal reference line.
- D. Its diameter is drawn using true scale.
- E. Its isometric projection appears as hemisphere.

Choose the **correct** answer from the options given below:

- 1. B and D only
- 2. B and C only
- 3. A and D only
- 4. A and E only

**Options :**

- 485584138541. 1
- 485584138542. 2
- 485584138543. 3
- 485584138544. 4

**Question Number : 181 Question Id : 48558434636 Question Type : MCQ Option Shuffling : No Is Question Mandatory : No Calculator : None Response Time : N.A Think Time : N.A Minimum Instruction Time : 0**

**Correct Marks : 5 Wrong Marks : 1**

**Question Key Details :**

Key	Value
Comprehension	MCQ

एक गोले के समपरिमाण प्रक्षेपण के लिए **सही** कथनों की पहचान करें :

- A. इसका व्यास घट जाएगा।
- B. इसका समपरिमाण प्रक्षेपण वृत्त के जैसा प्रतीत होता है।
- C. इसका समपरिमाण प्रक्षेपण क्षैतिज निर्देश रेखा से  $60^\circ$  को कोण लेकर बनाया गया है।
- D. इसका व्यास वास्तविक पैमाने का उपयोग कर के बनाया गया है।
- E. इसका समपरिमाण प्रक्षेपण अर्धगोले की तरह प्रतीत होता है।

नीचे दिए विकल्पों में से **सही** उत्तर चुनें:

- 1. केवल B और D
- 2. केवल B और C
- 3. केवल A और D
- 4. केवल A और E

**Options :**

- 485584138541. 1
- 485584138542. 2
- 485584138543. 3
- 485584138544. 4



**Question Number : 182 Question Id : 48558434637 Question Type : MCQ Option Shuffling : No Is Question Mandatory : No Calculator : None Response Time : N.A Think Time : N.A Minimum Instruction Time : 0 Correct Marks : 5 Wrong Marks : 1**

**Question Key Details :**

Key	Value
Comprehension	MCQ

Identify the **correct** statements for the Screw threads:

- A. A square thread of nominal diameter = 30 mm and Pitch = 6 mm is designated as K 30 × 6.
- B. Knuckle threads are used on necks of glass bottles.
- C. Square threads offers less frictional resistance.
- D. The angle between flanks of metric thread is 55°.
- E. The flanks of B.S.W. thread are equally rounded at both crest and root.

Choose the **correct** answer from the options given below:

- 1. A, B and C only
- 2. B, C and D only
- 3. C, D and E only
- 4. B, C and E only

**Options :**

- 485584138545. 1
- 485584138546. 2
- 485584138547. 3
- 485584138548. 4

**Question Number : 182 Question Id : 48558434637 Question Type : MCQ Option Shuffling : No Is Question Mandatory : No Calculator : None Response Time : N.A Think Time : N.A Minimum Instruction Time : 0 Correct Marks : 5 Wrong Marks : 1**

**Question Key Details :**

Key	Value
Comprehension	MCQ

स्कू चूड़ी के लिए सही कथनों की पहचान करें।

- A. नॉमिनल व्यास = 30 मि.मी. और पिच = 6 मि.मी. की एक वर्गाकार चूड़ी K 30 × 6 से दर्शायी गयी है।
- B. नक्कल चूड़ी को शीशे की बोलतलों को गर्दन पर उपयोग किया जाता है।
- C. वर्गाकार चूड़ी कम घर्षण प्रतिरोध प्रदान करती है।
- D. मीट्रिक चूड़ी के फ्लैंको के बिच का कोण 55° है।
- E. बी.एस.डबल्यू. चूड़ी के फ्लैंक क्रैस्ट एवं रूट दोनों पर समान रूप से गोल होते हैं।

नीचे दिए विकल्पों से सही उत्तर चुनें:

- 1. केवल A, B और C
- 2. केवल B, C और D
- 3. केवल C, D और E
- 4. केवल B, C और E

**Options :**

- 485584138545. 1
- 485584138546. 2
- 485584138547. 3
- 485584138548. 4

**Question Number : 183 Question Id : 48558434638 Question Type : MCQ Option Shuffling : No Is Question Mandatory : No Calculator : None Response Time : N.A Think Time : N.A Minimum Instruction Time : 0**

**Correct Marks : 5 Wrong Marks : 1**

**Question Key Details :**

Key	Value
Comprehension	MCQ

Identify the correct statements for Stud:

- A. Stud is a permanent fastener.
- B. A stud is a cylindrical rod, having threads on both ends.
- C. It has internal thread.
- D. It is always used with cotter.
- E. It is used where there is no place for the bolt head.

Choose the correct answer from the options given below:

- 1. A and E only
- 2. B and E only
- 3. D and E only
- 4. B and D only

**Options :**

- 485584138549. 1
- 485584138550. 2
- 485584138551. 3

**Question Number : 183 Question Id : 48558434638 Question Type : MCQ Option Shuffling : No Is Question Mandatory : No Calculator : None Response Time : N.A Think Time : N.A Minimum Instruction Time : 0**

**Correct Marks : 5 Wrong Marks : 1**

**Question Key Details :**

Key	Value
Comprehension	MCQ

स्टड के लिए **सही** कथनों की पहचान करें।

- A. स्टड एक स्थाई कसनी है।
- B. स्टड एक बेलनाकार छड़ है। जिसके दोनों सिरों पर चूड़ी हैं।
- C. इसके पास अंतः चूड़ी है।
- D. यह हमेशा कॉटर के साथ उपयोग किया जाता है।
- E. इसका उपयोग वहाँ किया जाता है जहाँ बोल्ट के हैड के लिए कोई स्थान नहीं होता।

नीचे दिए विकल्पों में से **सही** उत्तर चुनें:

- 1. केवल A और E
- 2. केवल B और E
- 3. केवल D और E
- 4. केवल B और D

**Options :**

- 485584138549. 1
- 485584138550. 2
- 485584138551. 3
- 485584138552. 4

**Question Number : 184 Question Id : 48558434639 Question Type : MCQ Option Shuffling : No Is Question Mandatory : No Calculator : None Response Time : N.A Think Time : N.A Minimum Instruction Time : 0**

**Correct Marks : 5 Wrong Marks : 1**

**Question Key Details :**

Key	Value
Comprehension	MCQ

Identify the **correct** statements for a Gib and Cotter joint:

- A. The Gib has the same thickness as that of the Cotter.
- B. Two cotters are used in this joint.
- C. Cotter is made of plastic.
- D. Cotter is used in conjunction with Gib.
- E. Rods are of circular shape in this joint.

Choose the **correct** answer from the options given below:

- 1. A and B only
- 2. A and C only
- 3. A and D only
- 4. D and E only

**Options :**

- 485584138553. 1
- 485584138554. 2
- 485584138555. 3
- 485584138556. 4

**Question Number : 184 Question Id : 48558434639 Question Type : MCQ Option Shuffling : No Is Question Mandatory : No Calculator : None Response Time : N.A Think Time : N.A Minimum Instruction Time : 0**

**Correct Marks : 5 Wrong Marks : 1**

**Question Key Details :**

Key	Value
Comprehension	MCQ

गिब और कॉटर जोड़ के लिए **सही** कथनों की पहचान करें:

- A. गिब की मोटाई कॉटर की मोटाई के समान होती है।
- B. इस जोड़ में दो कॉटरों का उपयोग किया जाता है।
- C. कॉटर प्लास्टिक का बना होता है।
- D. कॉटर का उपयोग गिब के साथ किया जाता है।
- E. इस जोड़ में छड़े गोलाकार होती हैं।

नीचे दिए विकल्पों से **सही** उत्तर चुनें:

- 1. केवल A और B
- 2. केवल A और C
- 3. केवल A और D
- 4. केवल D और E

**Options :**

- 485584138553. 1
- 485584138554. 2
- 485584138555. 3
- 485584138556. 4

Question Number : 185 Question Id : 48558434640 Question Type : MCQ Option Shuffling : No Is Question Mandatory : No Calculator : None Response Time : N.A Think Time : N.A Minimum Instruction Time : 0  
 Correct Marks : 5 Wrong Marks : 1

Question Key Details :

Key	Value
Comprehension	MCQ

Match List I with List II

LIST I		LIST II	
A.	Isometric projection	I.	Angle between two principal planes is $90^\circ$ .
B.	Dimetric projection	II.	All the angles between principal axes are unequal and not less than $90^\circ$ .
C.	Trimetric projection	III.	All the angles between principal axes are equal.
D.	Orthographic projection	IV.	Only two angles between three principal axes are equal.

Choose the correct answer from the options given below:

1. A-III, B-IV, C-II, D-I
2. A-I, B-II, C-III, D-IV
3. A-II, B-III, C-IV, D-I
4. A-IV, B-II, C-III, D-I

Options :

- 485584138557. 1
- 485584138558. 2
- 485584138559. 3
- 485584138560. 4

Question Number : 185 Question Id : 48558434640 Question Type : MCQ Option Shuffling : No Is Question Mandatory : No Calculator : None Response Time : N.A Think Time : N.A Minimum Instruction Time : 0  
 Correct Marks : 5 Wrong Marks : 1

Question Key Details :

Key	Value
Comprehension	MCQ

सूची I का सूची II से मिलान कीजिए

सूची I		सूची II	
A.	समपरिमाण प्रक्षेपण	I.	दो मुख्य तलों के बीच का कोण $90^\circ$ है।
B.	द्विमितीय प्रक्षेपण	II.	मुख्य अक्षों के बीच के सभी कोण बराबर नहीं हैं और $90^\circ$ से कम नहीं हैं।
C.	त्रिमितीय प्रक्षेपण	III.	मुख्य अक्षों के बीच के सभी कोण बराबर हैं।
D.	लंबकोणिय प्रक्षेपण	IV.	तीन मुख्य अक्षों के बीच के केवल दो कोण बराबर हैं।

निम्नलिखित विकल्पों में से सही उत्तर का चयन कीजिए :

1. A-III, B-IV, C-II, D-I
2. A-I, B-II, C-III, D-IV
3. A-II, B-III, C-IV, D-I
4. A-IV, B-II, C-III, D-I

**Options :**

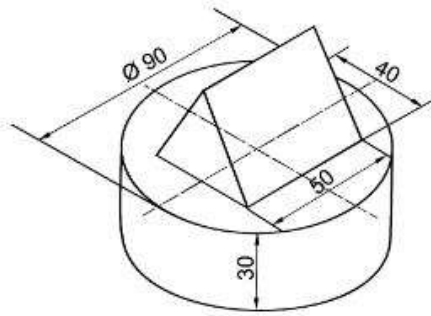
485584138557. 1  
485584138558. 2  
485584138559. 3  
485584138560. 4

**Question Number : 186 Question Id : 48558434641 Question Type : MCQ Option Shuffling : No Is Question Mandatory : No Calculator : None Response Time : N.A Think Time : N.A Minimum Instruction Time : 0**

**Correct Marks : 5 Wrong Marks : 1**

**Question Key Details :**

Key	Value
Comprehension	MCQ



Match List I with List II on the basis of the given figure.

LIST I		LIST II	
A.	Bottom Solid.	I.	Vertical
B.	Top solid.	II.	Horizontal
C.	Axis of top solid.	III.	Equilateral Triangular Prism
D.	Axis of bottom solid.	IV.	Circular slab

Choose the **correct** answer from the options given below:

1. A-III, B-II, C-I, D-IV
2. A-III, B-II, C-IV, D-I
3. A-I, B-II, C-III, D-IV
4. A-IV, B-III, C-II, D-I

**Options :**

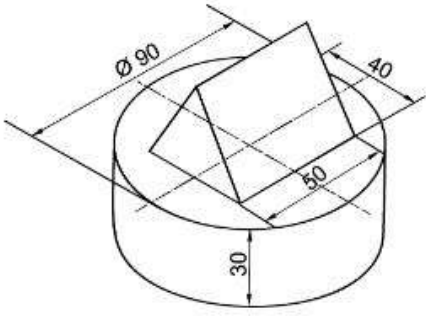
485584138561. 1  
 485584138562. 2  
 485584138563. 3  
 485584138564. 4

**Question Number : 186 Question Id : 48558434641 Question Type : MCQ Option Shuffling : No Is Question Mandatory : No Calculator : None Response Time : N.A Think Time : N.A Minimum Instruction Time : 0**

**Correct Marks : 5 Wrong Marks : 1**

**Question Key Details :**

Key	Value
Comprehension	MCQ



दिए गए चित्र के आधार पर सूची I का सूची II मिलान करें

सूची I		सूची II	
A.	निचला ठोस	I.	ऊर्ध्वाधर
B.	ऊपरी ठोस	II.	क्षैतिज
C.	ऊपरी ठोस का अक्ष	III.	समबाहु त्रिभुजाकार प्रिज्म
D.	निचले ठोस का अक्ष	IV.	वृताकार पट्टि

नीचे दिए विकल्पों में से **सही** उत्तर चुनें:

1. A-III, B-II, C-I, D-IV

2. A-III, B-II, C-IV, D-I

3. A-I, B-II, C-III, D-IV

4. A-IV, B-III, C-II, D-I

**Options :**

485584138561. 1

485584138562. 2

485584138563. 3

485584138564. 4

**Question Number : 187 Question Id : 48558434642 Question Type : MCQ Option Shuffling : No Is Question Mandatory : No Calculator : None Response Time : N.A Think Time : N.A Minimum Instruction Time : 0**

**Correct Marks : 5 Wrong Marks : 1**

**Question Key Details :**

Key	Value
Comprehension	MCQ



Match List I with List II

LIST I Hexagonal headed bolt		LIST II (‘d’ is the nominal diameter)	
A.	Thickness of Head	I.	d
B.	Threaded length of shank	II.	0.8d
C.	Radius of arc showing conventional end of the shank in its front view	III.	2d +6
D.	Width across the flats of head	IV.	1.5d+3

Choose the **correct** answer from the options given below:

1. A-II, B-III, C-I, D-IV
2. A-I, B-II, C-III, D-IV
3. A-III, B-IV, C-II, D-I
4. A-IV, B-I, C-II, D-III

**Options :**

485584138565. 1  
485584138566. 2  
485584138567. 3  
485584138568. 4

**Question Number : 187 Question Id : 48558434642 Question Type : MCQ Option Shuffling : No Is Question Mandatory : No Calculator : None Response Time : N.A Think Time : N.A Minimum Instruction Time : 0**

**Correct Marks : 5 Wrong Marks : 1**

**Question Key Details :**

Key	Value
Comprehension	MCQ

सूची I का सूची II से मिलान कीजिए

सूची I षटकोणिय हेडेड बोल्ट		सूची II 'd' = नॉमिनल व्यास	
A.	हेड की मोटाई	I.	d
B.	शैंक की चूड़ीदार लंबाई	II.	0.8d
C.	सम्मुख दृश्य में शैंक के सिरे की चाप की त्रिज्या	III.	2d +6
D.	हेड के दो सपाटों के बिच कि चौड़ाई	IV.	1.5d+3

निम्नलिखित विकल्पों में से **सही** उत्तर का चयन कीजिए :

1. A-II, B-III, C-I, D-IV
2. A-I, B-II, C-III, D-IV
3. A-III, B-IV, C-II, D-I
4. A-IV, B-I, C-II, D-III

**Options :**

- 485584138565. 1
- 485584138566. 2
- 485584138567. 3
- 485584138568. 4

**Question Number : 188 Question Id : 48558434643 Question Type : MCQ Option Shuffling : No Is Question Mandatory : No Calculator : None Response Time : N.A Think Time : N.A Minimum Instruction Time : 0**

**Correct Marks : 5 Wrong Marks : 1**

**Question Key Details :**

Key	Value
Comprehension	MCQ

Match List I with List II

LIST I		LIST II	
A.	B.S.W. Thread	I.	Semicircles on opposite side
B.	Metric External Thread	II.	Both crest and root are flat
C.	Square Thread	III.	Rounded equally at root and crest
D.	Knuckle Thread	IV.	Crest flat and root rounded

Choose the **correct** answer from the options given below:

1. A-I, B-II, C-III, D-IV
2. A-IV, B-III, C-I, D-II
3. A-III, B-IV, C-II, D-I
4. A-II, B-III, C-I, D-IV

**Options :**

- 485584138569. 1
- 485584138570. 2
- 485584138571. 3
- 485584138572. 4

**Question Number : 188 Question Id : 48558434643 Question Type : MCQ Option Shuffling : No Is Question Mandatory : No Calculator : None Response Time : N.A Think Time : N.A Minimum Instruction Time : 0**

**Correct Marks : 5 Wrong Marks : 1**

**Question Key Details :**

Key	Value
Comprehension	MCQ

सूची I का सूची II से मिलान कीजिए

सूची I		सूची II	
A.	बी.एस.डब्ल्यू. चूड़ी	I.	विपरीत दिशा के अर्धवृत्ताकार है।
B.	मीट्रिक बाह्य चूड़ी	II.	क्रेस्ट एवं रूट दोनों सपाट है।
C.	वर्गाकार चूड़ी	III.	क्रेस्ट एवं रूट दोनों गोलीय है।
D.	नक्कल चूड़ी	IV.	क्रेस्ट सपाट तथा रूट गोलीय है।

निम्नलिखित विकल्पों में से **सही** उत्तर का चयन कीजिए :

1. A-I, B-II, C-III, D-IV
2. A-IV, B-III, C-I, D-II
3. A-III, B-IV, C-II, D-I
4. A-II, B-III, C-I, D-IV

**Options :**

485584138569. 1  
485584138570. 2  
485584138571. 3  
485584138572. 4

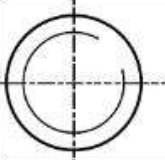

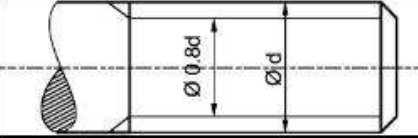
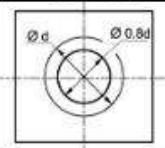
**Question Number : 189 Question Id : 48558434644 Question Type : MCQ Option Shuffling : No Is Question Mandatory : No Calculator : None Response Time : N.A Think Time : N.A Minimum Instruction Time : 0**

**Correct Marks : 5 Wrong Marks : 1**

**Question Key Details :**

Key	Value
Comprehension	MCQ

Match List I with List II

LIST I (Conventional representation of V- thread)		LIST II (Orthographic View)	
A.	External V-thread in the front view	I.	
B.	Internal V-thread in the side view	II.	
C.	External V-thread in the side view	III.	
D.	Internal V-thread in the front view	IV.	

Choose the **correct** answer from the options given below:

1. A-I, B-III, C-II, D-IV
2. A-III, B-IV, C-I, D-II
3. A-II, B-I, C-IV, D-III
4. A-IV, B-II, C-III, D-I

**Options :**

485584138573. 1  
 485584138574. 2  
 485584138575. 3  
 485584138576. 4

**Question Number : 189 Question Id : 48558434644 Question Type : MCQ Option Shuffling : No Is Question Mandatory : No Calculator : None Response Time : N.A Think Time : N.A Minimum Instruction Time : 0**

**Correct Marks : 5 Wrong Marks : 1**

**Question Key Details :**

Key	Value
Comprehension	MCQ

सूची I का सूची II से मिलान कीजिए

सूची I श्रेड का पारंपारिक निरूपण		सूची II (लम्बकोणीय दृश्य)	
A.	बाह्य V-चूड़ी का सम्मुख दृश्य	I.	
B.	अन्तः V-चूड़ी का पार्श्व दृश्य	II.	
C.	बाह्य V-चूड़ी का पार्श्व दृश्य	III.	
D.	अन्तः V-चूड़ी का सम्मुख दृश्य	IV.	

निम्नलिखित विकल्पों में से **सही** उत्तर का चयन कीजिए :

1. A-I, B-III, C-II, D-IV
2. A-III, B-IV, C-I, D-II
3. A-II, B-I, C-IV, D-III
4. A-IV, B-II, C-III, D-I

**Options :**

485584138573. 1  
485584138574. 2  
485584138575. 3  
485584138576. 4

Question Number : 190 Question Id : 48558434645 Question Type : MCQ Option Shuffling : No Is Question Mandatory : No Calculator : None Response Time : N.A Think Time : N.A Minimum Instruction Time : 0

Correct Marks : 5 Wrong Marks : 1

**Question Key Details :**

Key	Value
Comprehension	MCQ

Match List I with List II

LIST I		LIST II	
A.	Turnbuckle Joint	I.	Journal Bearing
B.	Flange Joint	II.	Square Rod Joint
C.	Bush Bearing	III.	Pipe Joint
D.	Gib and Cotter Joint	IV.	Tie-rod Joint

Choose the **correct** answer from the options given below:

1. A-IV, B-III, C-I, D-II
2. A-I, B-II, C-III, D-IV
3. A-II, B-III, C-IV, D-I
4. A-III, B-II, C-IV, D-I

**Options :**

485584138577. 1  
485584138578. 2  
485584138579. 3  
485584138580. 4

**Question Number : 190 Question Id : 48558434645 Question Type : MCQ Option Shuffling : No Is Question Mandatory : No Calculator : None Response Time : N.A Think Time : N.A Minimum Instruction Time : 0**

**Correct Marks : 5 Wrong Marks : 1**

**Question Key Details :**

Key	Value
Comprehension	MCQ

सूची I का सूची II से मिलान कीजिए

सूची I		सूची II	
A.	टर्नबककल जोड़	I.	जर्नल बियरिंग
B.	फ्लैज जोड़	II.	वर्गाकार छड़ों का जोड़
C.	बुश बियरिंग	III.	पाईप जोड़
D.	गिब और कोटर जोड़	IV.	टार्ड-रोड का जोड़

निम्नलिखित विकल्पों में से **सही** उत्तर का चयन कीजिए:

1. A-IV, B-III, C-I, D-II
2. A-I, B-II, C-III, D-IV
3. A-II, B-III, C-IV, D-I
4. A-III, B-II, C-IV, D-I

**Options :**

485584138577. 1  
485584138578. 2  
485584138579. 3  
485584138580. 4

Sub-Section Number : 2  
Sub-Section Id : 4855842534  
Question Shuffling Allowed : No  
Is Section Default? : null


Question Number : 191 Question Id : 48558434646 Question Type : MCQ Option Shuffling : No Is Question Mandatory : No Calculator : None Response Time : N.A Think Time : N.A Minimum Instruction Time : 0

Correct Marks : 5 Wrong Marks : 1

Question Key Details :

Key	Value
Comprehension	Comp1

Read the passage and answer the following question.



Rohan during his industrial visit saw a storage tank which is a combination of different solids he had studied in his class. For preparing his industrial visit report, he clicked pictures and measured dimensions of the tank and other machine parts in the industry. One such picture from his report is shown here (dimensions given are in meters). Ignore the thickness, stands, opening and other branches of the tank and answer the following questions.

The storage tank is the combination of \_\_\_\_\_.

1. two spheres and one cylinder
2. two hemispheres and one cylinder
3. one hemisphere and one cylinder
4. two cones and one cylinder

Options :

- 485584138581. 1
- 485584138582. 2
- 485584138583. 3
- 485584138584. 4


Question Number : 191 Question Id : 48558434646 Question Type : MCQ Option Shuffling : No Is Question Mandatory : No Calculator : None Response Time : N.A Think Time : N.A Minimum Instruction Time : 0

Correct Marks : 5 Wrong Marks : 1

Question Key Details :

Key	Value
Comprehension	Comp1

अनुच्छेद को पढ़ें और निम्न प्रश्नों के उत्तर दें



अपने औद्योगिक दौरे के दौरान रोहन ने एक भंडारण टंकी (storage tank) देखी जो विभिन्न ठोसों का एक संयोजन है जिन्हें उसने अपनी कक्षा में पढ़ा था। अपनी औद्योगिक यात्रा की रिपोर्ट तैयार करने के लिए, उसने तस्वीरें खींची और उद्योग में टंकी और अन्य मशीन भागों के आयामों को मापा। उसके रिपोर्ट की ऐसी ही एक तस्वीर यहाँ दिखाई गई है (दिए गए आयाम मीटर में हैं)। टंकी की मोटाई, स्टैंड, औपेनिंग और अन्य शाखाओं को छोड़कर निम्न प्रश्नों के उत्तर दें।

भंडारण टंकी \_\_\_\_\_ का संयोजन है।

1. दो गोलें और एक बेलन
2. दो अर्धगोलें और एक बेलन
3. एक अर्धगोला और एक बेलन
4. दो शंकु और एक बेलन

Options :

485584138581. 1  
485584138582. 2  
485584138583. 3  
485584138584. 4

Question Number : 192 Question Id : 48558434647 Question Type : MCQ Option Shuffling : No Is Question Mandatory : No Calculator : None Response Time : N.A Think Time : N.A Minimum Instruction Time : 0


Correct Marks : 5 Wrong Marks : 1

Question Key Details :

Key	Value
Comprehension	Comp1



Read the passage and answer the following question.



Rohan during his industrial visit saw a storage tank which is a combination of different solids he had studied in his class. For preparing his industrial visit report, he clicked pictures and measured dimensions of the tank and other machine parts in the industry. One such picture from his report is shown here (dimensions given are in meters). Ignore the thickness, stands, opening and other branches of the tank and answer the following questions.

The axial length of the cylindrical central portion in its isometric projection will be reduced to \_\_\_\_\_ (approximately).

1. 88 meter
2. 110 meter
3. 55 meter
4. 44 meter

**Options :**

- 485584138585. 1
- 485584138586. 2
- 485584138587. 3
- 485584138588. 4


**Question Number : 192 Question Id : 48558434647 Question Type : MCQ Option Shuffling : No Is Question Mandatory : No Calculator : None Response Time : N.A Think Time : N.A Minimum Instruction Time : 0**

**Correct Marks : 5 Wrong Marks : 1**

**Question Key Details :**

Key	Value
Comprehension	Comp1

अनुच्छेद को पढ़ें और निम्न प्रश्नों के उत्तर दें



अपने औद्योगिक दौरे के दौरान रोहन ने एक भंडारण टंकी (storage tank) देखी जो विभिन्न ठोसों का एक संयोजन है जिन्हें उसने अपनी कक्षा में पढ़ा था। अपनी औद्योगिक यात्रा की रिपोर्ट तैयार करने के लिए, उसने तस्वीरें खींची और उद्योग में टंकी और अन्य मशीन भागों के आयामों को मापा। उसके रिपोर्ट की ऐसी ही एक तस्वीर यहाँ दिखाई गई है (दिए गए आयाम मीटर में हैं)। टंकी की मोटाई, स्टैंड, औपनिंग और अन्य शाखाओं को छोड़कर निम्न प्रश्नों के उत्तर दें।

इसके समपरिमाण प्रक्षेपण में बेलनाकार भाग की अक्षीय लंबाई घटकर \_\_\_\_\_ (लगभग) रह जाएगी।

1. 88 मीटर
2. 110 मीटर
3. 55 मीटर
4. 44 मीटर

**Options :**

485584138585. 1  
485584138586. 2  
485584138587. 3  
485584138588. 4


**Question Number : 193 Question Id : 48558434648 Question Type : MCQ Option Shuffling : No Is Question Mandatory : No Calculator : None Response Time : N.A Think Time : N.A Minimum Instruction Time : 0**

**Correct Marks : 5 Wrong Marks : 1**

**Question Key Details :**

Key	Value
Comprehension	Compl

Read the passage and answer the following question.



Rohan during his industrial visit saw a storage tank which is a combination of different solids he had studied in his class. For preparing his industrial visit report, he clicked pictures and measured dimensions of the tank and other machine parts in the industry. One such picture from his report is shown here (dimensions given are in meters). Ignore the thickness, stands, opening and other branches of the tank and answer the following questions.

In the side view of the tank, the diameter of the circle is \_\_\_\_\_.

1. 20 meter
2. 75 meter
3. 40 meter
4. 55 meter

**Options :**

485584138589. 1  
485584138590. 2  
485584138591. 3  
485584138592. 4


**Question Number : 193 Question Id : 48558434648 Question Type : MCQ Option Shuffling : No Is Question Mandatory : No Calculator : None Response Time : N.A Think Time : N.A Minimum Instruction Time : 0**

**Correct Marks : 5 Wrong Marks : 1**

**Question Key Details :**

Key	Value
Comprehension	Compl

अनुच्छेद को पढ़ें और निम्न प्रश्नों के उत्तर दें



अपने औद्योगिक दौरे के दौरान रोहन ने एक भंडारण टंकी (storage tank) देखी जो विभिन्न ठोसों का एक संयोजन है जिन्हें उसने अपनी कक्षा में पढ़ा था। अपनी औद्योगिक यात्रा की रिपोर्ट तैयार करने के लिए, उसने तस्वीरें खींची और उद्योग में टंकी और अन्य मशीन भागों के आयामों को मापा। उसके रिपोर्ट की ऐसी ही एक तस्वीर यहाँ दिखाई गई है (दिए गए आयाम मीटर में हैं)। टंकी की मोटाई, स्टैंड, औपनिग और अन्य शाखाओं को छोड़कर निम्न प्रश्नों के उत्तर दें।

टंकी के पार्श्व दृश्य में वृत्त का व्यास \_\_\_\_\_ है।

1. 20 मीटर
2. 75 मीटर
3. 40 मीटर
4. 55 मीटर

**Options :**

485584138589. 1  
485584138590. 2  
485584138591. 3  
485584138592. 4


**Question Number : 194 Question Id : 48558434649 Question Type : MCQ Option Shuffling : No Is Question Mandatory : No Calculator : None Response Time : N.A Think Time : N.A Minimum Instruction Time : 0**

**Correct Marks : 5 Wrong Marks : 1**

**Question Key Details :**

Key	Value
Comprehension	Compl

Read the passage and answer the following question.



Rohan during his industrial visit saw a storage tank which is a combination of different solids he had studied in his class. For preparing his industrial visit report, he clicked pictures and measured dimensions of the tank and other machine parts in the industry. One such picture from his report is shown here (dimensions given are in meters). Ignore the thickness, stands, opening and other branches of the tank and answer the following questions.

According to the shown picture, choose a statement regarding the axis of the tank, which is **not possible** at all.

1. it is parallel to V.P.
2. it is parallel to H.P.
3. it is perpendicular to V.P.
4. it is perpendicular to H.P.

**Options :**

485584138593. 1  
485584138594. 2  
485584138595. 3  
485584138596. 4


**Question Number : 194 Question Id : 48558434649 Question Type : MCQ Option Shuffling : No Is Question Mandatory : No Calculator : None Response Time : N.A Think Time : N.A Minimum Instruction Time : 0**

**Correct Marks : 5 Wrong Marks : 1**

**Question Key Details :**

Key	Value
Comprehension	Comp1

अनुच्छेद को पढ़ें और निम्न प्रश्नों के उत्तर दें



अपने औद्योगिक दौर के दौरान रोहन ने एक भंडारण टंकी (storage tank) देखी जो विभिन्न ठोसों का एक संयोजन है जिन्हें उसने अपनी कक्षा में पढ़ा था। अपनी औद्योगिक यात्रा की रिपोर्ट तैयार करने के लिए, उसने तस्वीरें खींची और उद्योग में टंकी और अन्य मशीन भागों के आयामों को मापा। उसके रिपोर्ट की ऐसी ही एक तस्वीर यहाँ दिखाई गई है (दिए गए आयाम मीटर में हैं)। टंकी की मोटाई, स्टैंड, औपनिंग और अन्य शाखाओं को छोड़कर निम्न प्रश्नों के उत्तर दें।

दर्शाए चित्र के अनुसार, टंकी के अक्ष के संदर्भ में कथन चुनें, जो कभी संभव नहीं हो सकता।

1. यह वी.पी. के समानांतर है।
2. यह एच.पी. के समानांतर है।
3. यह वी.पी. के लंबवत है।
4. यह एच.पी. के लंबवत है।

**Options :**

485584138593. 1  
485584138594. 2  
485584138595. 3  
485584138596. 4


**Question Number : 195 Question Id : 48558434650 Question Type : MCQ Option Shuffling : No Is Question Mandatory : No Calculator : None Response Time : N.A Think Time : N.A Minimum Instruction Time : 0**

**Correct Marks : 5 Wrong Marks : 1**

**Question Key Details :**

Key	Value
Comprehension	Comp1

Read the passage and answer the following question.



Rohan during his industrial visit saw a storage tank which is a combination of different solids he had studied in his class. For preparing his industrial visit report, he clicked pictures and measured dimensions of the tank and other machine parts in the industry. One such picture from his report is shown here (dimensions given are in meters). Ignore the thickness, stands, opening and other branches of the tank and answer the following questions.

The 2D figure required for drawing isometric projection of this tank is \_\_\_\_\_.

1. Ellipse
2. Pentagon
3. Hexagon
4. Triangle

**Options :**

485584138597. 1  
485584138598. 2  
485584138599. 3  
485584138600. 4


**Question Number : 195 Question Id : 48558434650 Question Type : MCQ Option Shuffling : No Is Question Mandatory : No Calculator : None Response Time : N.A Think Time : N.A Minimum Instruction Time : 0**

**Correct Marks : 5 Wrong Marks : 1**

**Question Key Details :**

Key	Value
Comprehension	Comp1

अनुच्छेद को पढ़ें और निम्न प्रश्नों के उत्तर दें



अपने औद्योगिक दौरे के दौरान रोहन ने एक भंडारण टंकी (storage tank) देखी जो विभिन्न ठोसों का एक संयोजन है जिन्हें उसने अपनी कक्षा में पढ़ा था। अपनी औद्योगिक यात्रा की रिपोर्ट तैयार करने के लिए, उसने तस्वीरें खींची और उद्योग में टंकी और अन्य मशीन भागों के आयामों को मापा। उसके रिपोर्ट की ऐसी ही एक तस्वीर यहाँ दिखाई गई है (दिए गए आयाम मीटर में हैं)। टंकी की मोटाई, स्टैंड, औपेनिंग और अन्य शाखाओं को छोड़कर निम्न प्रश्नों के उत्तर दें।

इस टंकी के समपरिमाण प्रक्षेपण को चित्रित करने के लिए आवश्यक दो आयामी चित्र \_\_\_\_\_ है।

1. दीर्घवृत्त
2. पंचभुज
3. षट्भुज
4. त्रिभुज

**Options :**

485584138597. 1  
485584138598. 2  
485584138599. 3  
485584138600. 4

**Sub-Section Number :**

3

**Sub-Section Id :**

4855842535

**Question Shuffling Allowed :**

No

**Is Section Default? :**

null

**Question Number : 196 Question Id : 48558434651 Question Type : MCQ Option Shuffling : No Is Question Mandatory : No Calculator : None Response Time : N.A Think Time : N.A Minimum Instruction Time : 0**

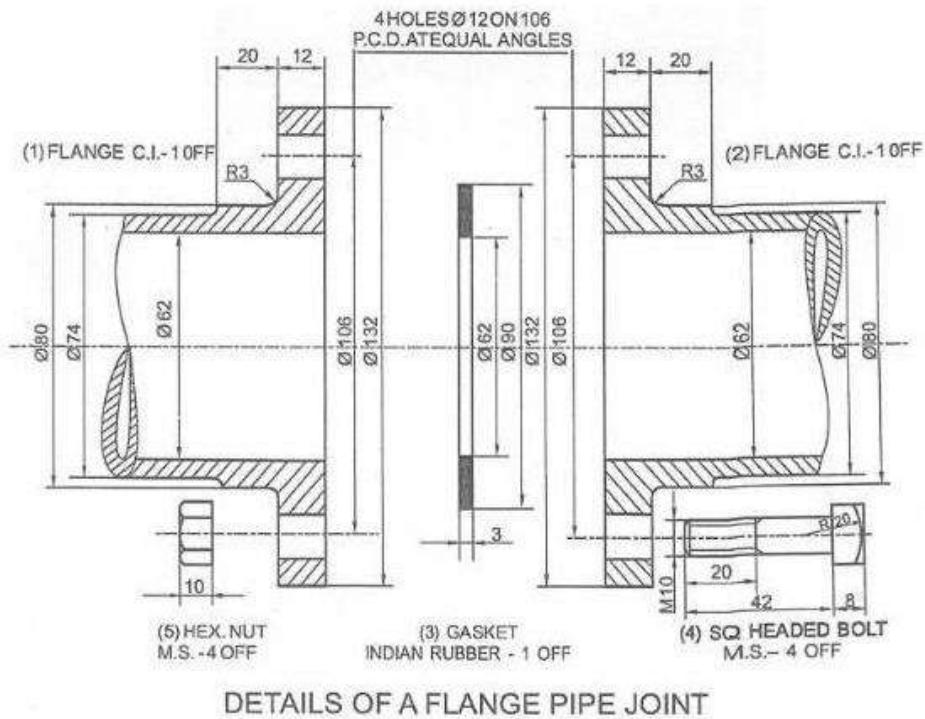
**Correct Marks : 5 Wrong Marks : 1**

**Question Key Details :**

Key	Value
Comprehension	Comp2



The given figure shows the disassembled part of a Flange Pipe Joint. Answer the following question based on this drawing:



\_\_\_\_\_ is the inner diameter of the Pipe from which liquid / gas has to flow.

1. 62 mm
2. 90 mm
3. 74 mm
4. 80 mm

**Options :**

- 485584138601. 1
- 485584138602. 2
- 485584138603. 3
- 485584138604. 4

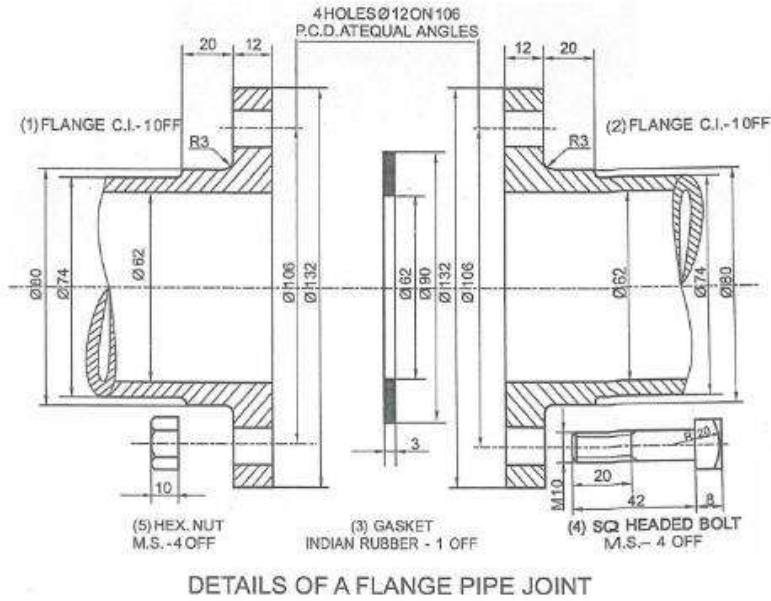
**Question Number : 196 Question Id : 48558434651 Question Type : MCQ Option Shuffling : No Is Question Mandatory : No Calculator : None Response Time : N.A Think Time : N.A Minimum Instruction Time : 0**

**Correct Marks : 5 Wrong Marks : 1**

**Question Key Details :**

Key	Value
Comprehension	Comp2

दिया हुआ चित्र फ्लैज पाइप जोड़ के वियोजित पूर्जों की दर्शाता है। इस चित्र के आधार पर निम्न प्रश्न के उत्तर दें।



पाइप का आंतरिक व्यास है, \_\_\_\_\_ जिसमें से तरल / गैस प्रवाहित होती है।

1. 62 मि.मी.
2. 90 मि.मी.
3. 74 मि.मी.
4. 80 मि.मी.

**Options :**

- 485584138601. 1
- 485584138602. 2
- 485584138603. 3
- 485584138604. 4

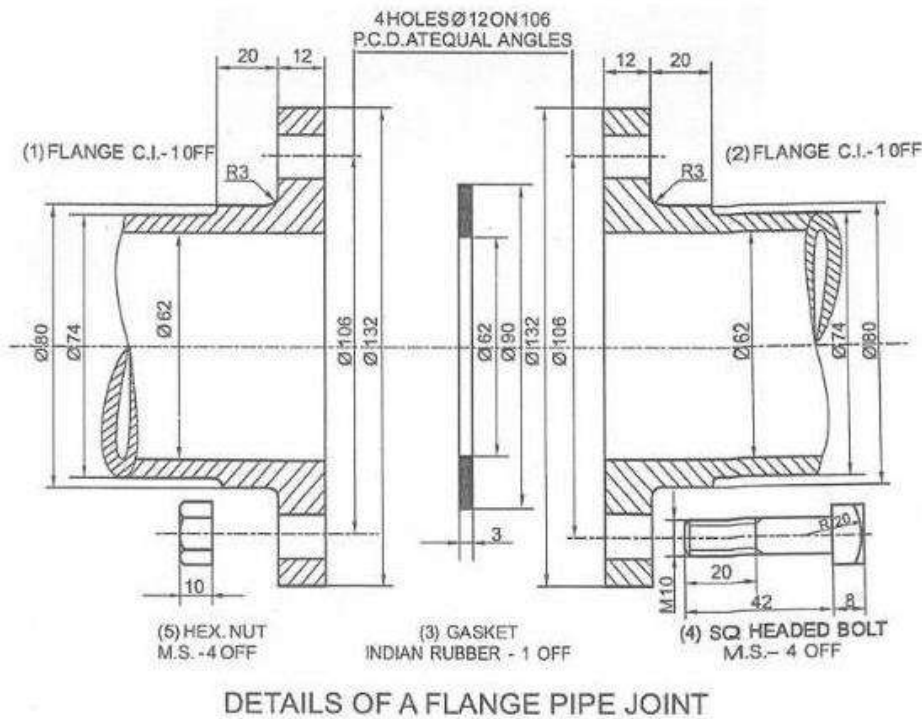
**Question Number : 197 Question Id : 48558434652 Question Type : MCQ Option Shuffling : No Is Question Mandatory : No Calculator : None Response Time : N.A Think Time : N.A Minimum Instruction Time : 0**

**Correct Marks : 5 Wrong Marks : 1**

**Question Key Details :**

Key	Value
Comprehension	Comp2

The given figure shows the disassembled part of a Flange Pipe Joint. Answer the following question based on this drawing:



Choose the **correct** statement for the Flange:

1. It is a projected semicircular rim.
2. It is made thinner than pipe-walls.
3. It attaches to a shaft.
4. It serves to hold the pipe in place.

**Options :**

485584138605. 1
485584138606. 2
485584138607. 3
485584138608. 4

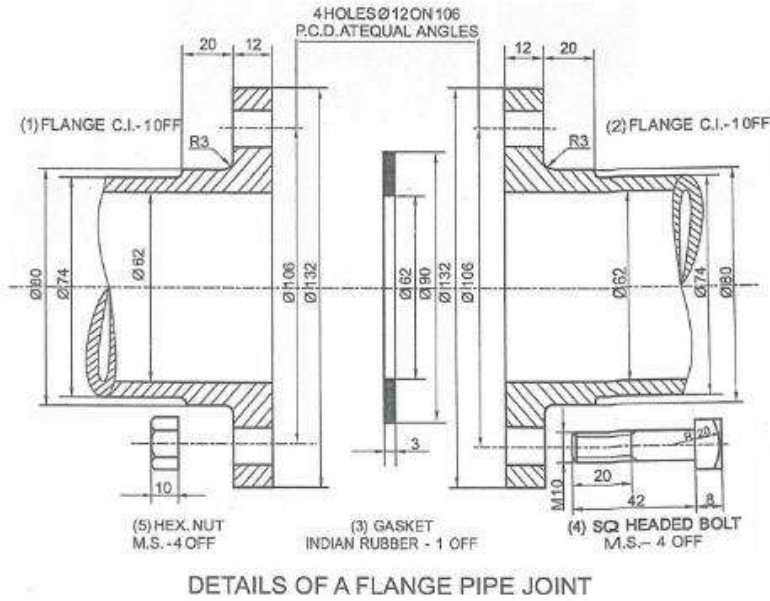
**Question Number : 197 Question Id : 48558434652 Question Type : MCQ Option Shuffling : No Is Question Mandatory : No Calculator : None Response Time : N.A Think Time : N.A Minimum Instruction Time : 0**

**Correct Marks : 5 Wrong Marks : 1**

**Question Key Details :**

Key	Value
Comprehension	Comp2

दिया हुआ चित्र फ्लैज पाइप जोड़ के वियोजित पूर्जों की दर्शाता है। इस चित्र के आधार पर निम्न प्रश्न के उत्तर दें।



फ्लैज के लिए सही कथन चुनें:

1. यह एक प्रक्षेपित अर्द्धगोलाकार रिम है।
2. यह पाइप दिवारों से पतला बनाया गया है।
3. यह एक शॉफ्ट से जुड़ता है।
4. यह पाइप को उनके स्थान पर पकड़ने के लिए कार्य करता है।

**Options :**

485584138605. 1  
 485584138606. 2  
 485584138607. 3  
 485584138608. 4

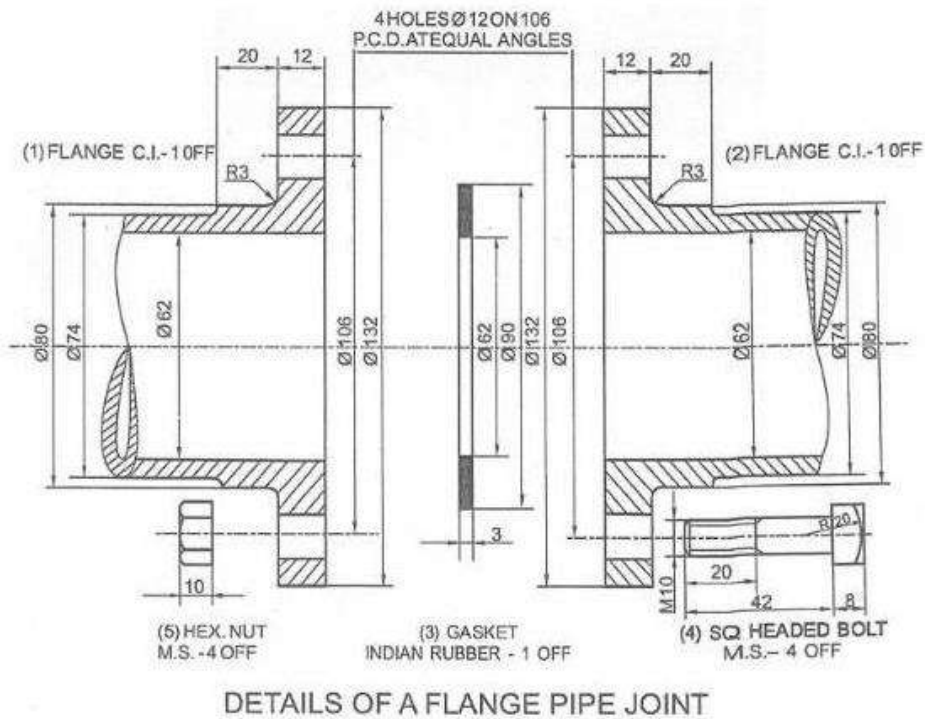
**Question Number : 198 Question Id : 48558434653 Question Type : MCQ Option Shuffling : No Is Question Mandatory : No Calculator : None Response Time : N.A Think Time : N.A Minimum Instruction Time : 0**

**Correct Marks : 5 Wrong Marks : 1**

**Question Key Details :**

Key	Value
Comprehension	Comp2

The given figure shows the disassembled part of a Flange Pipe Joint. Answer the following question based on this drawing:



External diameter of the rubber Gasket is:

1. 132 mm
2. 62 mm
3. 74 mm
4. 90 mm

Options :

- 485584138609. 1
- 485584138610. 2
- 485584138611. 3
- 485584138612. 4

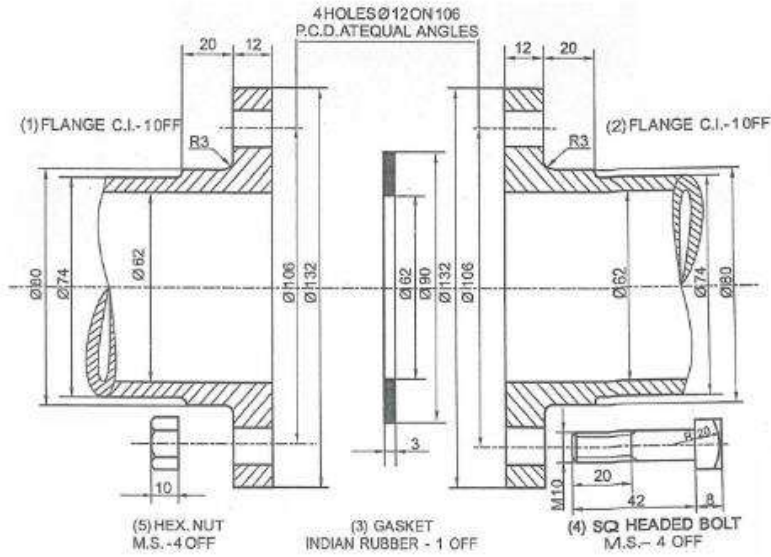
Question Number : 198 Question Id : 48558434653 Question Type : MCQ Option Shuffling : No Is Question Mandatory : No Calculator : None Response Time : N.A Think Time : N.A Minimum Instruction Time : 0

Correct Marks : 5 Wrong Marks : 1

Question Key Details :

Key	Value
Comprehension	Comp2

दिया हुआ चित्र फ्लैज पाइप जोड़ के वियोजित पूर्जों की दर्शाता है। इस चित्र के आधार पर निम्न प्रश्न के उत्तर दें।



DETAILS OF A FLANGE PIPE JOINT

रबड़ गैसकित का बाह्य व्यास है।

1. 132 मि.मी.
2. 62 मि.मी.
3. 74 मि.मी.
4. 90 मि.मी.

**Options :**

- 485584138609. 1
- 485584138610. 2
- 485584138611. 3
- 485584138612. 4

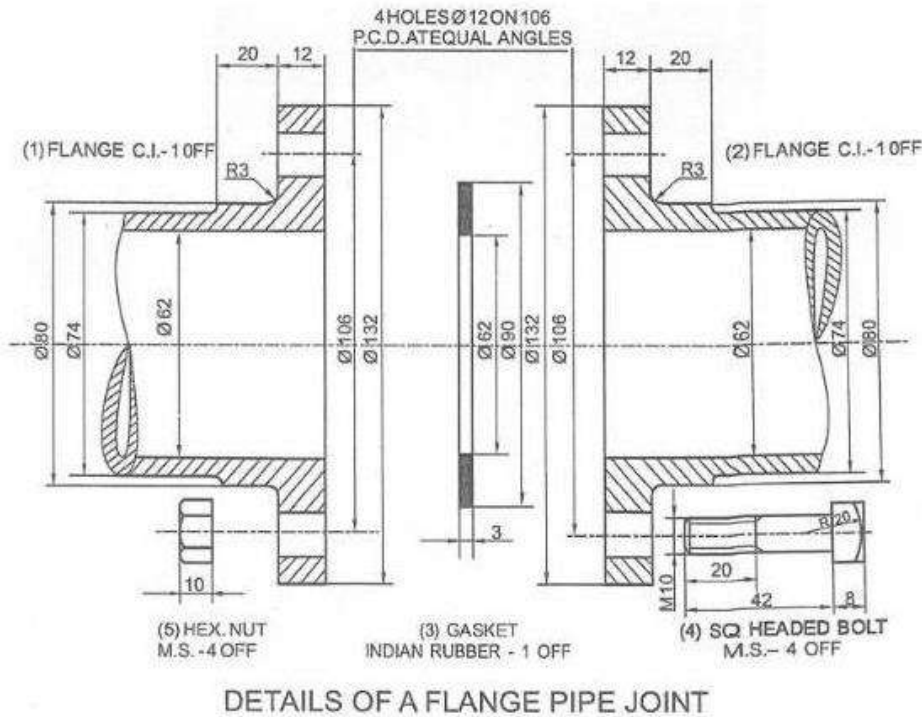
**Question Number : 199 Question Id : 48558434654 Question Type : MCQ Option Shuffling : No Is Question Mandatory : No Calculator : None Response Time : N.A Think Time : N.A Minimum Instruction Time : 0**

**Correct Marks : 5 Wrong Marks : 1**

**Question Key Details :**

Key	Value
Comprehension	Comp2

The given figure shows the disassembled part of a Flange Pipe Joint. Answer the following question based on this drawing:



C.I. stands for :

1. Closed Interior
2. Crest Index
3. Cast Iron
4. Counter Iron

**Options :**

- 485584138613. 1
- 485584138614. 2
- 485584138615. 3
- 485584138616. 4

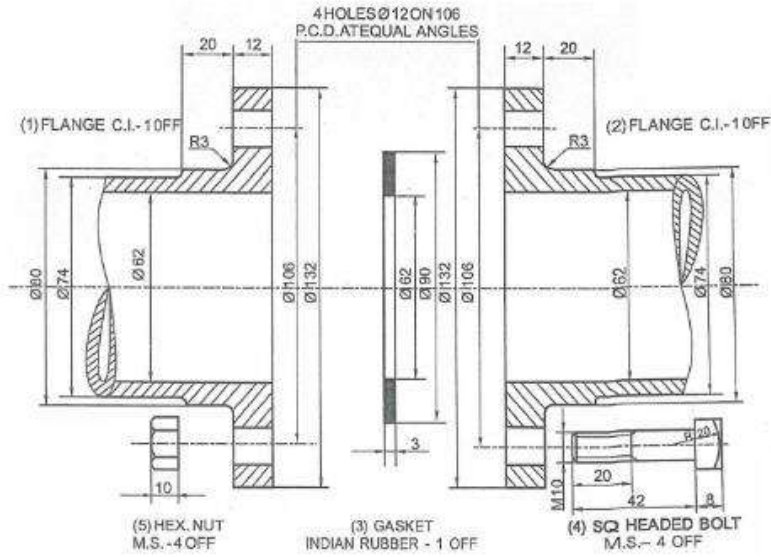
**Question Number : 199 Question Id : 48558434654 Question Type : MCQ Option Shuffling : No Is Question Mandatory : No Calculator : None Response Time : N.A Think Time : N.A Minimum Instruction Time : 0**

**Correct Marks : 5 Wrong Marks : 1**

**Question Key Details :**

Key	Value
Comprehension	Comp2

दिया हुआ चित्र फ्लैंज पाइप जोड़ के वियोजित पूर्जों की दर्शाता है। इस चित्र के आधार पर निम्न प्रश्न के उत्तर दें।



DETAILS OF A FLANGE PIPE JOINT

C.I. का पूर्ण प्रारूप :

1. Closed Interior
2. Crest Index
3. Cast Iron
4. Counter Iron

Options :

- 485584138613. 1
- 485584138614. 2
- 485584138615. 3
- 485584138616. 4

Question Number : 200 Question Id : 48558434655 Question Type : MCQ Option Shuffling : No Is Question Mandatory : No Calculator : None Response Time : N.A Think Time : N.A Minimum Instruction Time : 0

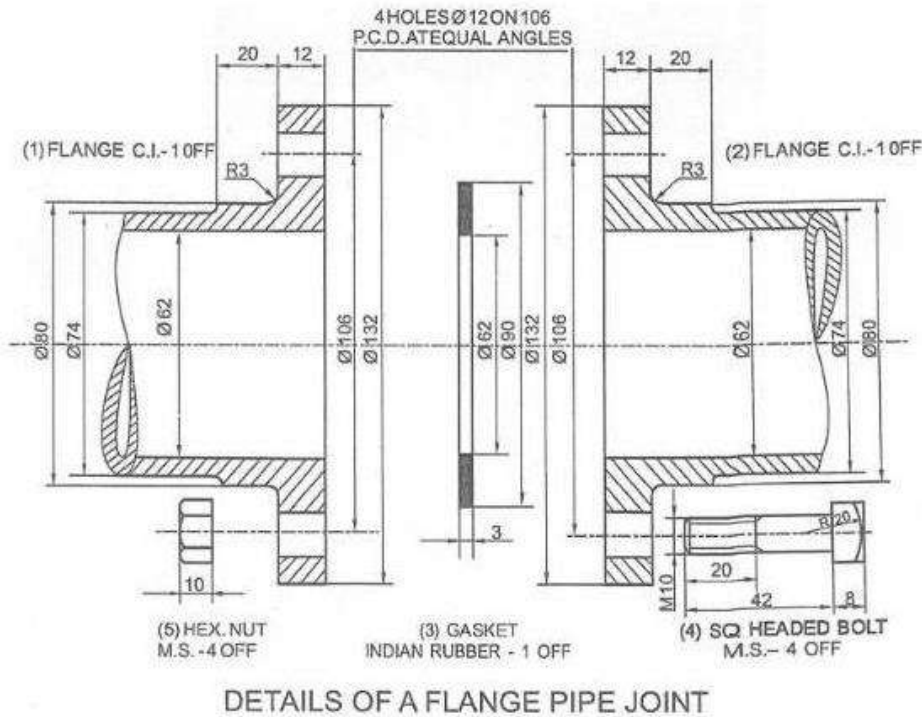
Correct Marks : 5 Wrong Marks : 1

Question Key Details :

Key	Value
Comprehension	Comp2



The given figure shows the disassembled part of a Flange Pipe Joint. Answer the following question based on this drawing:



The thickness of pipe walls can be increased when \_\_\_\_\_.

1. pressure is low
2. pressure is high
3. length of pipe has to be increased
4. length of pipe has to be decreased

**Options :**

- 485584138617. 1
- 485584138618. 2
- 485584138619. 3
- 485584138620. 4

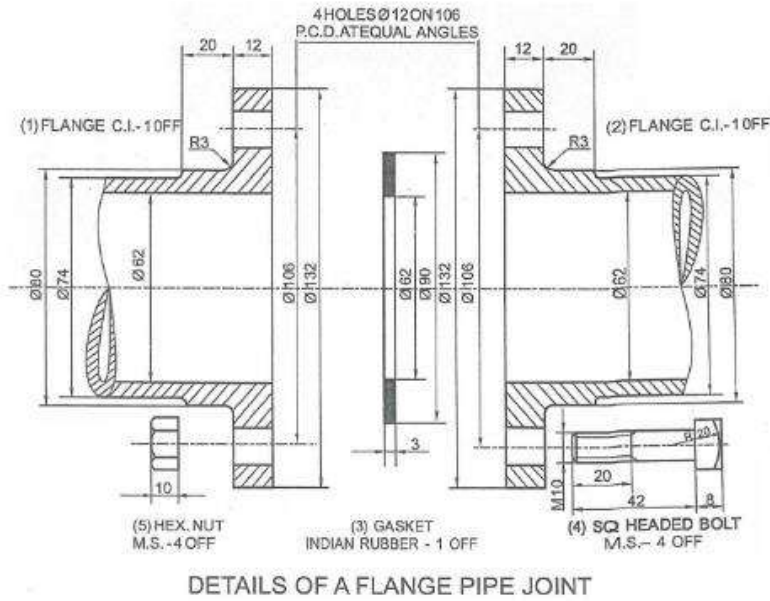
**Question Number : 200 Question Id : 48558434655 Question Type : MCQ Option Shuffling : No Is Question Mandatory : No Calculator : None Response Time : N.A Think Time : N.A Minimum Instruction Time : 0**

**Correct Marks : 5 Wrong Marks : 1**

**Question Key Details :**

Key	Value
Comprehension	Comp2

दिया हुआ चित्र फ्लैज पाइप जोड़ के वियोजित पूर्जों की दर्शाता है। इस चित्र के आधार पर निम्न प्रश्न के उत्तर दें।



होने पर पाइप की दीवारों की मोटाई बढ़ाई जा सकती है।

1. कम दबाव
2. उच्च दबाव
3. पाइप की लंबाई बढ़े
4. पाइप की लंबाई घटे

**Options :**

485584138617. 1  
 485584138618. 2  
 485584138619. 3  
 485584138620. 4

## Geography

<b>Group Number :</b>	9
<b>Group Id :</b>	485584776
<b>Group Maximum Duration :</b>	45
<b>Group Minimum Duration :</b>	45
<b>Show Attended Group? :</b>	No
<b>Edit Attended Group? :</b>	No
<b>Break time :</b>	0
<b>Group Marks :</b>	200
<b>Is this Group for Examiner? :</b>	No
<b>Examiner permission :</b>	Can't View
<b>Show Progress Bar? :</b>	No

## Geography

**Section Id :** 485584894  
**Section Number :** 1  
**Section type :** Online  
**Mandatory or Optional :** Mandatory  
**Number of Questions :** 50  
**Number of Questions to be attempted :** 40  
**Section Marks :** 200  
**Enable Mark as Answered Mark for Review and Clear Response :** Yes  
**Maximum Instruction Time :** 0  
**Sub-Section Number :** 1  
**Sub-Section Id :** 4855842536  
**Question Shuffling Allowed :** Yes  
**Is Section Default? :** null

**Question Number : 201 Question Id : 48558434056 Question Type : MCQ Option Shuffling : No Is Question Mandatory : No Calculator : None Response Time : N.A Think Time : N.A Minimum Instruction Time : 0 Correct Marks : 5 Wrong Marks : 1**

**Question Key Details :**

Key	Value
Comprehension	MCQ

The concept neither there is a situation of absolute necessity nor absolute freedom is called :

1. Environmentalism
2. Probablism
3. Possibilism
4. Neo-determinism

**Options :**

485584136221. 1  
485584136222. 2  
485584136223. 3  
485584136224. 4

**Question Number : 201 Question Id : 48558434056 Question Type : MCQ Option Shuffling : No Is Question Mandatory : No Calculator : None Response Time : N.A Think Time : N.A Minimum Instruction Time : 0 Correct Marks : 5 Wrong Marks : 1**

**Question Key Details :**

Key	Value
Comprehension	MCQ

"न तो पूर्णरूप से (नितांत) आवश्यकता की स्थिति और न ही नितांत स्वतंत्रता की दशा है" यह संकल्पना कहलाती है :

1. पर्यावरणीयवाद
2. संभाव्यवाद
3. संभववाद
4. नव-निश्चयवाद

**Options :**

485584136221. 1  
485584136222. 2  
485584136223. 3  
485584136224. 4

**Question Number : 202 Question Id : 48558434057 Question Type : MCQ Option Shuffling : No Is Question Mandatory : No Calculator : None Response Time : N.A Think Time : N.A Minimum Instruction Time : 0**

**Correct Marks : 5 Wrong Marks : 1**

**Question Key Details :**

Key	Value
Comprehension	MCQ

Radical school approach in human geography is related to \_\_\_\_\_.

1. encyclo paetic description of the area
2. indentifying the Uniqueness of any region
3. indentifying mappable pattern for different human activities
4. explaining the basic cause of poverty and social inequality

**Options :**

485584136225. 1  
485584136226. 2  
485584136227. 3  
485584136228. 4

**Question Number : 202 Question Id : 48558434057 Question Type : MCQ Option Shuffling : No Is Question Mandatory : No Calculator : None Response Time : N.A Think Time : N.A Minimum Instruction Time : 0**

**Correct Marks : 5 Wrong Marks : 1**

**Question Key Details :**

Key	Value
Comprehension	MCQ

मानव भूगोल में आमूलवादी विचारधारा उपागम \_\_\_\_\_ से संबंधित है।

1. क्षेत्र का विश्व ज्ञान कोषीय विवरण
2. किसी क्षेत्र की विलक्षणता की पहचान करना
3. विभिन्न मानवीय क्रियाओं के लिए मानचित्र योग्य प्रतिरूप की पहचान करना
4. निर्धनता के मूल कारण और सामाजिक असमानता की व्याख्या करना

**Options :**

485584136225. 1  
485584136226. 2  
485584136227. 3  
485584136228. 4

**Question Number : 203 Question Id : 48558434058 Question Type : MCQ Option Shuffling : No Is Question Mandatory : No Calculator : None Response Time : N.A Think Time : N.A Minimum Instruction Time : 0**

**Correct Marks : 5 Wrong Marks : 1**

**Question Key Details :**

Key	Value
Comprehension	MCQ

Discontentment with quantitative revolution did not lead to the emergence of \_\_\_\_\_.

1. Humanistic school of geography
2. Radical Geography
3. Regional Geography
4. Behavioural Geography

**Options :**

485584136229. 1  
485584136230. 2  
485584136231. 3  
485584136232. 4

**Question Number : 203 Question Id : 48558434058 Question Type : MCQ Option Shuffling : No Is Question Mandatory : No Calculator : None Response Time : N.A Think Time : N.A Minimum Instruction Time : 0**

**Correct Marks : 5 Wrong Marks : 1**

**Question Key Details :**

Key	Value
Comprehension	MCQ

मात्रात्मक क्रांति से उत्पन्न असंतुष्टि के उद्भव से संबंधित नहीं है।

1. भूगोल की मानवतावादी विचारधारा
2. आमूलवाद भूगोल
3. प्रादेशिक भूगोल
4. व्यवहारवादी भूगोल

**Options :**

485584136229. 1  
485584136230. 2  
485584136231. 3  
485584136232. 4

**Question Number : 204 Question Id : 48558434059 Question Type : MCQ Option Shuffling : No Is Question Mandatory : No Calculator : None Response Time : N.A Think Time : N.A Minimum Instruction Time : 0**

**Correct Marks : 5 Wrong Marks : 1**

**Question Key Details :**

Key	Value
Comprehension	MCQ

\_\_\_\_\_ is a sub-field of social Geography.

1. Geography of Leisure
2. Geography of Resources
3. Geography of Tourism
4. Geography to Agriculture

**Options :**

485584136233. 1  
485584136234. 2  
485584136235. 3  
485584136236. 4

**Question Number : 204 Question Id : 48558434059 Question Type : MCQ Option Shuffling : No Is Question Mandatory : No Calculator : None Response Time : N.A Think Time : N.A Minimum Instruction Time : 0**

**Correct Marks : 5 Wrong Marks : 1**

**Question Key Details :**

Key	Value
Comprehension	MCQ

सामाजिक भूगोल का एक उपक्षेत्र है।

1. अवकाश का भूगोल
2. संसाधन भूगोल
3. पर्यटन भूगोल
4. कृषि भूगोल

**Options :**

485584136233. 1  
485584136234. 2  
485584136235. 3  
485584136236. 4

**Question Number : 205 Question Id : 48558434060 Question Type : MCQ Option Shuffling : No Is Question Mandatory : No Calculator : None Response Time : N.A Think Time : N.A Minimum Instruction Time : 0**

**Correct Marks : 5 Wrong Marks : 1**

**Question Key Details :**

Key	Value
Comprehension	MCQ

Demographic Transition Theory can be used to describe and predict :

1. People participation in different categories of economic activities
2. Future population of an area
3. Gender based classification of population of an area
4. Working and depend and population of an area

**Options :**

485584136237. 1  
485584136238. 2  
485584136239. 3  
485584136240. 4

**Question Number : 205 Question Id : 48558434060 Question Type : MCQ Option Shuffling : No Is Question Mandatory : No Calculator : None Response Time : N.A Think Time : N.A Minimum Instruction Time : 0**

**Correct Marks : 5 Wrong Marks : 1**

**Question Key Details :**

Key	Value
Comprehension	MCQ

जनसंख्या संक्रमण सिद्धांत का उपयोग वर्णन और पूर्वानुमान के लिए किया जा सकता है :

1. आर्थिक गतिविधियों की विभिन्न श्रेणियों में लोगों की भागीदारी
2. एक क्षेत्र की भविष्य की जनसंख्या
3. एक क्षेत्र की जनसंख्या का लिंगाधारित वर्गीकरण
4. एक क्षेत्र की कार्यशील और आश्रित जनसंख्या

**Options :**

485584136237. 1  
485584136238. 2  
485584136239. 3  
485584136240. 4

**Question Number : 206 Question Id : 48558434061 Question Type : MCQ Option Shuffling : No Is Question Mandatory : No Calculator : None Response Time : N.A Think Time : N.A Minimum Instruction Time : 0**

**Correct Marks : 5 Wrong Marks : 1**

**Question Key Details :**

Key	Value
Comprehension	MCQ

Which programme was introduced by the Government of India to address the issue of decline in child sex ratio?

1. Beti Bachao Beti Padhao
2. Beti Samjhao Beto Padhao
3. Beti Samjhao Beti Bachao
4. Beti Batao Beti Badhao

**Options :**

485584136241. 1  
485584136242. 2  
485584136243. 3  
485584136244. 4

**Question Number : 206 Question Id : 48558434061 Question Type : MCQ Option Shuffling : No Is Question Mandatory : No Calculator : None Response Time : N.A Think Time : N.A Minimum Instruction Time : 0**

**Correct Marks : 5 Wrong Marks : 1**

**Question Key Details :**

Key	Value
Comprehension	MCQ



शिशु लिंगानुपात में कमी के मुद्दे को उठाने के लिए भारत सरकार ने किस कार्यक्रम का आरंभ किया था ?

1. बेटी बचाओ बेटी पढ़ाओ
2. बेटी समझाओ बेटी पढ़ाओ
3. बेटी समझाओ बेटी बचाओ
4. बेटी बताओ बेटी बढ़ाओ

**Options :**

485584136241. 1  
485584136242. 2  
485584136243. 3  
485584136244. 4

**Question Number : 207 Question Id : 48558434062 Question Type : MCQ Option Shuffling : No Is Question Mandatory : No Calculator : None Response Time : N.A Think Time : N.A Minimum Instruction Time : 0**

**Correct Marks : 5 Wrong Marks : 1**

**Question Key Details :**

Key	Value
Comprehension	MCQ

International Labour Organisation (ILO) proposed \_\_\_\_\_ for human development measurement.

1. basic needs approach
2. income approach
3. welfare approach
4. capability approach

**Options :**

485584136245. 1  
485584136246. 2  
485584136247. 3  
485584136248. 4

**Question Number : 207 Question Id : 48558434062 Question Type : MCQ Option Shuffling : No Is Question Mandatory : No Calculator : None Response Time : N.A Think Time : N.A Minimum Instruction Time : 0**

**Correct Marks : 5 Wrong Marks : 1**

**Question Key Details :**

Key	Value
Comprehension	MCQ

मानव विकास के मापन के लिए अन्तर्राष्ट्रीय श्रम संगठन (आई एल ओ) ने \_\_\_\_\_ प्रस्तावित किया।

1. आधारभूत क्षमता उपागम
2. आय उपागम
3. कल्याण उपागम
4. क्षमता उपागम

**Options :**

485584136245. 1  
485584136246. 2  
485584136247. 3  
485584136248. 4

**Question Number : 208 Question Id : 48558434063 Question Type : MCQ Option Shuffling : No Is Question Mandatory : No Calculator : None Response Time : N.A Think Time : N.A Minimum Instruction Time : 0**

**Correct Marks : 5 Wrong Marks : 1**

**Question Key Details :**

Key	Value
Comprehension	MCQ

The process of migration from plain areas to pastures on mountain during summers and again from mountain pastures to plain areas during winter is known as \_\_\_\_\_.

1. immigration
2. migration
3. transhumance
4. emigration

**Options :**

485584136249. 1  
485584136250. 2  
485584136251. 3  
485584136252. 4

**Question Number : 208 Question Id : 48558434063 Question Type : MCQ Option Shuffling : No Is Question Mandatory : No Calculator : None Response Time : N.A Think Time : N.A Minimum Instruction Time : 0**

**Correct Marks : 5 Wrong Marks : 1**

**Question Key Details :**

Key	Value
Comprehension	MCQ

गर्मियों के दौरान मैदानी क्षेत्रों से पर्वतीय चारागाहों की ओर तथा पुनः सर्दियों में पर्वतीय चारागाहों से मैदानी क्षेत्रों की ओर प्रवास की प्रक्रिया को के नाम से जाना जाता है "

1. आप्रवास
2. प्रवास
3. ऋतुप्रवास
4. उत्प्रवास

**Options :**

485584136249. 1  
485584136250. 2  
485584136251. 3  
485584136252. 4

**Question Number : 209 Question Id : 48558434064 Question Type : MCQ Option Shuffling : No Is Question Mandatory : No Calculator : None Response Time : N.A Think Time : N.A Minimum Instruction Time : 0**

**Correct Marks : 5 Wrong Marks : 1**

**Question Key Details :**

Key	Value
Comprehension	MCQ

'Chicago-Gary' is a major industrial region of \_\_\_\_\_.

1. Europe
2. Australia
3. Canada
4. United States of America

**Options :**

485584136253. 1  
485584136254. 2  
485584136255. 3  
485584136256. 4

**Question Number : 209 Question Id : 48558434064 Question Type : MCQ Option Shuffling : No Is Question Mandatory : No Calculator : None Response Time : N.A Think Time : N.A Minimum Instruction Time : 0**

**Correct Marks : 5 Wrong Marks : 1**

**Question Key Details :**

Key	Value
Comprehension	MCQ

शिकागो गैरी \_\_\_\_\_ का एक प्रमुख औद्योगिक प्रदेश है।

1. यूरोप
2. ऑस्ट्रेलिया
3. कनाडा
4. संयुक्त राज्य अमेरिका

**Options :**

485584136253. 1  
485584136254. 2  
485584136255. 3  
485584136256. 4

**Question Number : 210 Question Id : 48558434065 Question Type : MCQ Option Shuffling : No Is Question Mandatory : No Calculator : None Response Time : N.A Think Time : N.A Minimum Instruction Time : 0**

**Correct Marks : 5 Wrong Marks : 1**

**Question Key Details :**

Key	Value
Comprehension	MCQ

Which of the following sea route is called as Big Trunk Route ?

1. North Pacific Sea Route
2. Northern Atlantic Sea Route
3. Cape of Good Hope Sea Route
4. Southern Atlantic Sea Route

**Options :**

485584136257. 1  
485584136258. 2  
485584136259. 3  
485584136260. 4

**Question Number : 210 Question Id : 48558434065 Question Type : MCQ Option Shuffling : No Is Question Mandatory : No Calculator : None Response Time : N.A Think Time : N.A Minimum Instruction Time : 0**

**Correct Marks : 5 Wrong Marks : 1**

**Question Key Details :**

Key	Value
Comprehension	MCQ

निम्न में से किस समुद्री मार्ग को 'बृहद ट्रंक मार्ग' कहा जाता है?

1. उत्तरी प्रशांत समुद्री मार्ग
2. उत्तरी अटलांटिक समुद्री मार्ग
3. उत्तमाशा अंतरीय समुद्री मार्ग
4. दक्षिणी अटलांटिक समुद्री मार्ग

**Options :**

485584136257. 1  
485584136258. 2  
485584136259. 3  
485584136260. 4

**Question Number : 211 Question Id : 48558434066 Question Type : MCQ Option Shuffling : No Is Question Mandatory : No Calculator : None Response Time : N.A Think Time : N.A Minimum Instruction Time : 0**

**Correct Marks : 5 Wrong Marks : 1**

**Question Key Details :**

Key	Value
Comprehension	MCQ

Which of the following country has the highest density of rail network ?

1. Africa
2. Canada
3. Asia
4. Australia

**Options :**

485584136261. 1  
485584136262. 2  
485584136263. 3  
485584136264. 4

**Question Number : 211 Question Id : 48558434066 Question Type : MCQ Option Shuffling : No Is Question Mandatory : No Calculator : None Response Time : N.A Think Time : N.A Minimum Instruction Time : 0**

**Correct Marks : 5 Wrong Marks : 1**

**Question Key Details :**

Key	Value
Comprehension	MCQ

निम्न में से किस देश में रेल तंत्र का घनत्व सर्वोच्च है?

1. अफ्रीका
2. कनाडा
3. एशिया
4. आस्ट्रेलिया

**Options :**

485584136261. 1  
485584136262. 2  
485584136263. 3  
485584136264. 4

**Question Number : 212 Question Id : 48558434067 Question Type : MCQ Option Shuffling : No Is Question Mandatory : No Calculator : None Response Time : N.A Think Time : N.A Minimum Instruction Time : 0**

**Correct Marks : 5 Wrong Marks : 1**

**Question Key Details :**

Key	Value
Comprehension	MCQ

The Union of Conurbations is called \_\_\_\_\_.

1. Megolopolis
2. Conurbation
3. Metropolitan
4. Million City

**Options :**

485584136265. 1  
485584136266. 2  
485584136267. 3  
485584136268. 4

**Question Number : 212 Question Id : 48558434067 Question Type : MCQ Option Shuffling : No Is Question Mandatory : No Calculator : None Response Time : N.A Think Time : N.A Minimum Instruction Time : 0**

**Correct Marks : 5 Wrong Marks : 1**

**Question Key Details :**

Key	Value
Comprehension	MCQ

सन्नगरों का समूह कहलाता है ।

1. विश्वनगरी
2. सन्नगर
3. महानगर
4. मिलियन सिटी

**Options :**

485584136265. 1  
485584136266. 2  
485584136267. 3  
485584136268. 4

**Question Number : 213 Question Id : 48558434068 Question Type : MCQ Option Shuffling : No Is Question Mandatory : No Calculator : None Response Time : N.A Think Time : N.A Minimum Instruction Time : 0**

**Correct Marks : 5 Wrong Marks : 1**

**Question Key Details :**

Key	Value
Comprehension	MCQ

Arrange the following regions in ascending order according to growth rate of population (2010-15).

- A. Oceania
- B. Europe
- C. Asia
- D. Africa

Choose the correct answer from the options given below :

1. (B), (C), (A), (D)
2. (B), (A), (C), (D)
3. (B), (D), (A), (C)
4. (A), (B), (C), (D)

**Options :**

485584136269. 1  
485584136270. 2  
485584136271. 3  
485584136272. 4

**Question Number : 213 Question Id : 48558434068 Question Type : MCQ Option Shuffling : No Is Question Mandatory : No Calculator : None Response Time : N.A Think Time : N.A Minimum Instruction Time : 0**

**Correct Marks : 5 Wrong Marks : 1**

**Question Key Details :**

Key	Value
Comprehension	MCQ

2010-15 की जनसंख्या वृद्धि दर के अनुसार निम्न प्रदेशों को आरोही क्रम में व्यवस्थित कीजिए।

- A. ओशनिया
- B. यूरोप
- C. एशिया
- D. अफ्रीका

नीचे दिए गए विकल्पों में से सही उत्तर दीजिए :

1. (B), (C), (A), (D)
2. (B), (A), (C), (D)
3. (B), (D), (A), (C)
4. (A), (B), (C), (D)

**Options :**

- 485584136269. 1
- 485584136270. 2
- 485584136271. 3
- 485584136272. 4

**Question Number : 214 Question Id : 48558434069 Question Type : MCQ Option Shuffling : No Is Question Mandatory : No Calculator : None Response Time : N.A Think Time : N.A Minimum Instruction Time : 0**

**Correct Marks : 5 Wrong Marks : 1**

**Question Key Details :**

Key	Value
Comprehension	MCQ

Arrange the following stations of Trans-Siberian Railway from East to West direction.

- A. Chita
- B. Vladivostak
- C. Moscow
- D. Omsk

Choose the correct answer from the options given below :

1. (A), (B), (C), (D)
2. (B), (A), (D), (C)
3. (B), (A), (C), (D)
4. (A), (B), (C), (D)

**Options :**

- 485584136273. 1
- 485584136274. 2
- 485584136275. 3
- 485584136276. 4



Question Number : 214 Question Id : 48558434069 Question Type : MCQ Option Shuffling : No Is Question Mandatory : No Calculator : None Response Time : N.A Think Time : N.A Minimum Instruction Time : 0

Correct Marks : 5 Wrong Marks : 1

Question Key Details :

Key	Value
Comprehension	MCQ

पार साइबेरियन रेलमार्ग को निम्न स्टेशनों को पूर्व से पश्चिम की ओर व्यवस्थित कीजिए।

- A. चिता
- B. व्लाडिवोस्तक
- C. मास्को
- D. ओमस्क

नीचे दिए गए विकल्पों में से सही उत्तर दीजिए :

- 1. (A), (B), (C), (D)
- 2. (B), (A), (D), (C)
- 3. (B), (A), (C), (D)
- 4. (A), (B), (C), (D)

Options :

- 485584136273. 1
- 485584136274. 2
- 485584136275. 3
- 485584136276. 4

Question Number : 215 Question Id : 48558434070 Question Type : MCQ Option Shuffling : No Is Question Mandatory : No Calculator : None Response Time : N.A Think Time : N.A Minimum Instruction Time : 0

Correct Marks : 5 Wrong Marks : 1

Question Key Details :

Key	Value
Comprehension	MCQ

Arrange the following mega cities of the world in descending order according to population (2016).

- A. Shanghai
- B. Beijing
- C. Sao Paulo
- D. Tokyo

Choose the correct answer from the options given below :

- 1. (D), (A), (C), (B)
- 2. (D), (A), (B), (C)
- 3. (A), (D), (B), (C)
- 4. (A), (D), (C), (B)

Options :

485584136277. 1  
485584136278. 2  
485584136279. 3  
485584136280. 4

**Question Number : 215 Question Id : 48558434070 Question Type : MCQ Option Shuffling : No Is Question Mandatory : No Calculator : None Response Time : N.A Think Time : N.A Minimum Instruction Time : 0**

**Correct Marks : 5 Wrong Marks : 1**

**Question Key Details :**

Key	Value
Comprehension	MCQ

विश्व के निम्न मेगा सिटी को 2016 की उनकी जनसंख्या के अनुसार अवरोही क्रम में व्यवस्थित कीजिए।

- A. शंघाई
- B. बीजिंग
- C. साओ पोलो
- D. टोक्यो

निम्नलिखित विकल्पों मेंसे सही उत्तर चुनिए :

1. (D), (A), (C), (B)
2. (D), (A), (B), (C)
3. (A), (D), (B), (C)
4. (A), (D), (C), (B)

**Options :**

485584136277. 1  
485584136278. 2  
485584136279. 3  
485584136280. 4

**Question Number : 216 Question Id : 48558434071 Question Type : MCQ Option Shuffling : No Is Question Mandatory : No Calculator : None Response Time : N.A Think Time : N.A Minimum Instruction Time : 0**

**Correct Marks : 5 Wrong Marks : 1**

**Question Key Details :**

Key	Value
Comprehension	MCQ

Read the following statements about demographic transition theory carefully :

- A. The first stage has high fertility and high mortality
- B. Fertility remains high in beginning of second stage
- C. In the last stage both fertility and mortality declined considerably
- D. This theory cannot be used to describe and predict the future population of any area

Choose the correct answer from the options given below :

- 1. (A), (B), (C) only
- 2. (A), (B), (D) only
- 3. (A), (C), (D) only
- 4. (B), (C), (D) only

**Options :**

- 485584136281. 1
- 485584136282. 2
- 485584136283. 3
- 485584136284. 4

**Question Number : 216 Question Id : 48558434071 Question Type : MCQ Option Shuffling : No Is Question Mandatory : No Calculator : None Response Time : N.A Think Time : N.A Minimum Instruction Time : 0**

**Correct Marks : 5 Wrong Marks : 1**

**Question Key Details :**

Key	Value
Comprehension	MCQ

जनांकिकीय संक्रमण सिद्धांत के संदर्भ में निम्न कथनों को ध्यानपूर्वक पढ़िए :

- A. प्रथम अवस्था में उच्च प्रजननशीलता और उच्च मर्त्यता
- B. द्वितीय अवस्था के प्रारंभ में प्रजननशीलता उच्च बनी रहती है
- C. अंतिम अवस्था में प्रजननशीलता और मर्त्यता दोनों अधिक घट जाती हैं
- D. इस सिद्धांत का उपयोग किसी क्षेत्र की भविष्य की जनसंख्या के वर्णन तथा पूर्वानुमान के लिए नहीं किया जा सकता

नीचे दिए गए विकल्पों में से सही उत्तर का चयन कीजिए :

- 1. (A), (B), (C) only
- 2. (A), (B), (D) only
- 3. (A), (C), (D) only
- 4. (B), (C), (D) only

**Options :**

- 485584136281. 1
- 485584136282. 2
- 485584136283. 3
- 485584136284. 4

**Question Number : 217 Question Id : 48558434072 Question Type : MCQ Option Shuffling : No Is Question Mandatory : No Calculator : None Response Time : N.A Think Time : N.A Minimum Instruction Time : 0**

**Correct Marks : 5 Wrong Marks : 1**

**Question Key Details :**

Key	Value
Comprehension	MCQ

Identify the characteristics of compact or nucleated settlements :

- A. Houses are built very close to each other.
- B. Communities share common occupation.
- C. Mainly found in fertile plains.
- D. Houses are interspersed with fields.

Choose the correct answer from the options given below :

- 1. (A), (B), (D) only
- 2. (A), (C), (D) only
- 3. (B), (C), (D) only
- 4. (A), (B), (C) only

**Options :**

- 485584136285. 1
- 485584136286. 2
- 485584136287. 3
- 485584136288. 4

**Question Number : 217 Question Id : 48558434072 Question Type : MCQ Option Shuffling : No Is Question Mandatory : No Calculator : None Response Time : N.A Think Time : N.A Minimum Instruction Time : 0**

**Correct Marks : 5 Wrong Marks : 1**

**Question Key Details :**

Key	Value
Comprehension	MCQ

संहत या केंद्रित बस्तियों की विशेषताओं को पहचानिए :

- A. घर एक दूसरे के बहुत समीप बनाए जाते हैं।
- B. समुदायों के व्यवसाय समान होते हैं।
- C. मुख्यतः उपजाऊ मैदानों में पाई जाती हैं।
- D. घर खेतों द्वारा एक दूसरे से अलग होते हैं।

नीचे दिए गए विकल्पों में से सही उत्तर का चयन कीजिए :

- 1. (A), (B), (D) only
- 2. (A), (C), (D) only
- 3. (B), (C), (D) only
- 4. (A), (B), (C) only

**Options :**

485584136285. 1  
 485584136286. 2  
 485584136287. 3  
 485584136288. 4

**Question Number : 218 Question Id : 48558434073 Question Type : MCQ Option Shuffling : No Is Question Mandatory : No Calculator : None Response Time : N.A Think Time : N.A Minimum Instruction Time : 0**

**Correct Marks : 5 Wrong Marks : 1**

**Question Key Details :**

Key	Value
Comprehension	MCQ

Match List I with List II

LIST I (Concept)		LIST II (Definition)	
A.	Density of population	I.	The working population participation in various occupations
B.	Sex Ratio	II.	Numbers of people in different age groups
C.	Age structure	III.	Ratio between the number of women and men
D.	Occupational Structure	IV.	Ratio between the numbers of people to size of land

Choose the correct answer from the options given below:

1. (A)-(IV), (B)-(III), (C)-(II), (D)-(I)
2. (A)-(IV), (B)-(II), (C)-(III), (D)-(I)
3. (A)-(I), (B)-(II), (C)-(IV), (D)-(III)
4. (A)-(IV), (B)-(I), (C)-(III), (D)-(II)

**Options :**

485584136289. 1  
 485584136290. 2  
 485584136291. 3  
 485584136292. 4

**Question Number : 218 Question Id : 48558434073 Question Type : MCQ Option Shuffling : No Is Question Mandatory : No Calculator : None Response Time : N.A Think Time : N.A Minimum Instruction Time : 0**

**Correct Marks : 5 Wrong Marks : 1**

**Question Key Details :**

Key	Value
Comprehension	MCQ

सूची I का सूची II के साथ मिलान कीजिए :

सूची I (अवधारणा)		सूची II (परिभाषा)	
A.	जनसंख्या का घनत्व	I.	कार्यशील जनसंख्या की विभिन्न व्यवस्थाओं में भागीदारी
B.	लिंग अनुपात	II.	विभिन्न आयुवर्ग के लोगों की संख्या
C.	आयु संरचना	III.	महिला और पुरुषों की संख्या के बीच अनुपात
D.	व्यवसायिक संरचना	IV.	लोगों की संख्या और भूमि के आकार के बीच अनुपात

निम्नलिखित विकल्पों में सही उत्तर का चयन कीजिए ::

1. (A)-(IV), (B)-(III), (C)-(II), (D)-(I)
2. (A)-(IV), (B)-(II), (C)-(III), (D)-(I)
3. (A)-(I), (B)-(II), (C)-(IV), (D)-(III)
4. (A)-(IV), (B)-(I), (C)-(III), (D)-(II)

**Options :**

485584136289. 1  
485584136290. 2  
485584136291. 3  
485584136292. 4

**Question Number : 219 Question Id : 48558434074 Question Type : MCQ Option Shuffling : No Is Question Mandatory : No Calculator : None Response Time : N.A Think Time : N.A Minimum Instruction Time : 0**

**Correct Marks : 5 Wrong Marks : 1**

**Question Key Details :**

Key	Value
Comprehension	MCQ

Match List I with List II

LIST I (Trains Continental Railways)		LIST II (Stations)	
A.	Trans-Siberian Railways	I.	Perth to Sydney
B.	Tran-Canadian Railways	II.	St. Petersburg to Vladivostok
C.	The Union and Pacific Railways	III.	New York to San Francisco
D.	The Australian Trans-continental Railways	IV.	Halifax to Vancouver

Choose the correct answer from the options given below:

1. (A)-(II), (B)-(I), (C)-(IV), (D)-(III)
2. (A)-(II), (B)-(IV), (C)-(III), (D)-(I)
3. (A)-(II), (B)-(III), (C)-(IV), (D)-(I)
4. (A)-(IV), (B)-(III), (C)-(I), (D)-(II)

**Options :**

485584136293. 1  
485584136294. 2  
485584136295. 3  
485584136296. 4

**Question Number : 219 Question Id : 48558434074 Question Type : MCQ Option Shuffling : No Is Question Mandatory : No Calculator : None Response Time : N.A Think Time : N.A Minimum Instruction Time : 0**

**Correct Marks : 5 Wrong Marks : 1**

**Question Key Details :**

Key	Value
Comprehension	MCQ

सूची I का सूची II से मिलान कीजिए

सूची I (पार-महाद्वीपीय रेलमार्ग)		सूची II (स्टेशन)	
A.	पार-साइबेरियन रेलमार्ग	I.	पर्थ से सिडनी
B.	पार-कनेडियन रेलमार्ग	II.	सेंट पीटर्सवर्ग से ब्लडिवोस्टक
C.	संघ और प्रशांत रेलमार्ग	III.	न्यूयॉर्क से सान फ्रांसिस्को
D.	आस्ट्रेलियाई पार-महाद्वीपीय रेलमार्ग	IV.	हैलीफैक्स से वैंकूवर

निम्नलिखित विकल्पों में से सही उत्तर का चयन कीजिए :

1. (A)-(II), (B)-(I), (C)-(IV), (D)-(III)
2. (A)-(II), (B)-(IV), (C)-(III), (D)-(I)
3. (A)-(II), (B)-(III), (C)-(IV), (D)-(I)
4. (A)-(IV), (B)-(III), (C)-(I), (D)-(II)

**Options :**

485584136293. 1  
485584136294. 2  
485584136295. 3  
485584136296. 4

**Question Number : 220 Question Id : 48558434075 Question Type : MCQ Option Shuffling : No Is Question Mandatory : No Calculator : None Response Time : N.A Think Time : N.A Minimum Instruction Time : 0**

**Correct Marks : 5 Wrong Marks : 1**

**Question Key Details :**

Key	Value
Comprehension	MCQ



Match List I with List II

LIST I (Aspects of International Trade)		LIST II (Characteristics)	
A.	Multi-lateral Trade	I.	Trade is done by two countries with each other
B.	Volume of Trade	II.	The nature of goods and services imported and exported by countries
C.	Composition of Trade	III.	Trade is conducted with many trading countries
D.	Bilateral Trade	IV.	The total value of goods and services traded

Choose the correct answer from the options given below:

1. (A)-(III), (B)-(IV), (C)-(I), (D)-(II)
2. (A)-(III), (B)-(IV), (C)-(II), (D)-(I)
3. (A)-(III), (B)-(II), (C)-(IV), (D)-(I)
4. (A)-(IV), (B)-(II), (C)-(III), (D)-(I)

**Options :**

485584136297. 1  
 485584136298. 2  
 485584136299. 3  
 485584136300. 4

**Question Number : 220 Question Id : 48558434075 Question Type : MCQ Option Shuffling : No Is Question Mandatory : No Calculator : None Response Time : N.A Think Time : N.A Minimum Instruction Time : 0**

**Correct Marks : 5 Wrong Marks : 1**

**Question Key Details :**

Key	Value
Comprehension	MCQ

सूची I का सूची II से मिलान कीजिए

सूची I (अंतर्राष्ट्रीय व्यापार के पक्ष/पहलू)		सूची II (विशेषताएं)	
A.	बहु पार्श्विक व्यापार	I.	दो देशों द्वारा एक दूसरे के साथ व्यापार किया जाता है
B.	व्यापार का परिमाण	II.	देशों द्वारा आयात और निर्यात होने वाली वस्तुओं और सेवाओं की प्रकृति
C.	व्यापार संघटन	III.	व्यापार अनेक व्यापारिक देशों के साथ किया जाता है
D.	द्वि-पार्श्विक व्यापार	IV.	व्यापार की गई वस्तुओं और सेवाओं का कुल मूल्य

निम्नलिखित विकल्पों में से सही उत्तर का चयन कीजिए :

1. (A)-(III), (B)-(IV), (C)-(I), (D)-(II)
2. (A)-(III), (B)-(IV), (C)-(II), (D)-(I)
3. (A)-(III), (B)-(II), (C)-(IV), (D)-(I)
4. (A)-(IV), (B)-(II), (C)-(III), (D)-(I)

**Options :**

485584136297. 1  
485584136298. 2  
485584136299. 3  
485584136300. 4

**Question Number : 221 Question Id : 48558434076 Question Type : MCQ Option Shuffling : No Is Question Mandatory : No Calculator : None Response Time : N.A Think Time : N.A Minimum Instruction Time : 0**

**Correct Marks : 5 Wrong Marks : 1**

**Question Key Details :**

Key	Value
Comprehension	MCQ

According to 2011, the highest population density is recorded in \_\_\_\_\_

1. West Bengal
2. Kerala
3. Bihar
4. Uttar Pradesh

**Options :**

485584136301. 1  
485584136302. 2  
485584136303. 3

485584136304. 4

**Question Number : 221 Question Id : 48558434076 Question Type : MCQ Option Shuffling : No Is Question Mandatory : No Calculator : None Response Time : N.A Think Time : N.A Minimum Instruction Time : 0**

**Correct Marks : 5 Wrong Marks : 1**

**Question Key Details :**

Key	Value
Comprehension	MCQ

2011 के अनुसार, \_\_\_\_\_ में सर्वाधिक जनसंख्या वृद्धि दर्ज की गई है।

1. पश्चिम बंगाल
2. केरल
3. बिहार
4. उत्तर प्रदेश

**Options :**

485584136301. 1  
485584136302. 2  
485584136303. 3  
485584136304. 4

**Question Number : 222 Question Id : 48558434077 Question Type : MCQ Option Shuffling : No Is Question Mandatory : No Calculator : None Response Time : N.A Think Time : N.A Minimum Instruction Time : 0**

**Correct Marks : 5 Wrong Marks : 1**

**Question Key Details :**

Key	Value
Comprehension	MCQ

Both the birth rate and death rate were high in India during \_\_\_\_\_.

1. 1901 - 1921
2. 1921 - 1951
3. 1951 - 1981
4. After 1981

**Options :**

485584136305. 1  
485584136306. 2  
485584136307. 3  
485584136308. 4

**Question Number : 222 Question Id : 48558434077 Question Type : MCQ Option Shuffling : No Is Question Mandatory : No Calculator : None Response Time : N.A Think Time : N.A Minimum Instruction Time : 0**

**Correct Marks : 5 Wrong Marks : 1**

**Question Key Details :**

Key	Value
Comprehension	MCQ

भारत में \_\_\_\_\_ के मध्य जन्म दर और मृत्यु दर दोनों उच्च थी।

1. 1901 - 1921
2. 1921 - 1951
3. 1951 - 1981
4. 1981 के पश्चात

**Options :**

485584136305. 1  
485584136306. 2  
485584136307. 3  
485584136308. 4

**Question Number : 223 Question Id : 48558434078 Question Type : MCQ Option Shuffling : No Is Question Mandatory : No Calculator : None Response Time : N.A Think Time : N.A Minimum Instruction Time : 0**

**Correct Marks : 5 Wrong Marks : 1**

**Question Key Details :**

Key	Value
Comprehension	MCQ

Arunachal Pradesh is dominated by the speakers of \_\_\_\_\_ family of Indian language.

1. Austric
2. Dravidian
3. Sino-Tibetan
4. Indo-European

**Options :**

485584136309. 1  
485584136310. 2  
485584136311. 3  
485584136312. 4

**Question Number : 223 Question Id : 48558434078 Question Type : MCQ Option Shuffling : No Is Question Mandatory : No Calculator : None Response Time : N.A Think Time : N.A Minimum Instruction Time : 0**

**Correct Marks : 5 Wrong Marks : 1**

**Question Key Details :**

Key	Value
Comprehension	MCQ

अरुणाचल प्रदेश में भारतीय भाषा के \_\_\_\_\_ परिवार की भाषा बोलने वालों का आधिपत्य है।

1. आस्ट्रिक
2. द्रविड
3. चीनी-तिब्बती
4. भारतीय-यूरोपीय

**Options :**

485584136309. 1  
485584136310. 2  
485584136311. 3  
485584136312. 4

**Question Number : 224 Question Id : 48558434079 Question Type : MCQ Option Shuffling : No Is Question Mandatory : No Calculator : None Response Time : N.A Think Time : N.A Minimum Instruction Time : 0**

**Correct Marks : 5 Wrong Marks : 1**

**Question Key Details :**

Key	Value
Comprehension	MCQ

The Agenda - 21 Report of the Rio Conference was published in \_\_\_\_\_.

1. 1972
2. 1974
3. 1987
4. 1993

**Options :**

485584136313. 1  
485584136314. 2  
485584136315. 3  
485584136316. 4

**Question Number : 224 Question Id : 48558434079 Question Type : MCQ Option Shuffling : No Is Question Mandatory : No Calculator : None Response Time : N.A Think Time : N.A Minimum Instruction Time : 0**

**Correct Marks : 5 Wrong Marks : 1**

**Question Key Details :**

Key	Value
Comprehension	MCQ

रियो सम्मेलन की रिपोर्ट एजेंडा - 21 \_\_\_\_\_ में प्रकाशित हुई थी।

1. 1972

2. 1974

3. 1987

4. 1993

**Options :**

485584136313. 1

485584136314. 2

485584136315. 3

485584136316. 4

**Question Number : 225 Question Id : 48558434080 Question Type : MCQ Option Shuffling : No Is Question Mandatory : No Calculator : None Response Time : N.A Think Time : N.A Minimum Instruction Time : 0**

**Correct Marks : 5 Wrong Marks : 1**

**Question Key Details :**

Key	Value
Comprehension	MCQ

Which one of the following is a garrison contonment town ?

1. Chandigarh

2. Satna

3. Raniganj

4. Udhampur

**Options :**

485584136317. 1

485584136318. 2

485584136319. 3

485584136320. 4

**Question Number : 225 Question Id : 48558434080 Question Type : MCQ Option Shuffling : No Is Question Mandatory : No Calculator : None Response Time : N.A Think Time : N.A Minimum Instruction Time : 0**

**Correct Marks : 5 Wrong Marks : 1**

**Question Key Details :**

Key	Value
Comprehension	MCQ

निम्नलिखित में से कौन-सा एक छावनी नगर है ?

1. चंडीगढ़
2. सतना
3. रानीगंज
4. उधमपुर

**Options :**

485584136317. 1  
485584136318. 2  
485584136319. 3  
485584136320. 4

**Question Number : 226 Question Id : 48558434081 Question Type : MCQ Option Shuffling : No Is Question Mandatory : No Calculator : None Response Time : N.A Think Time : N.A Minimum Instruction Time : 0**

**Correct Marks : 5 Wrong Marks : 1**

**Question Key Details :**

Key	Value
Comprehension	MCQ

A population size of 5000 - 9,999 is put into which class of town according to 2011 census of India ?

1. Class – III
2. Class – IV
3. Class – V
4. Class – VI

**Options :**

485584136321. 1  
485584136322. 2  
485584136323. 3  
485584136324. 4

**Question Number : 226 Question Id : 48558434081 Question Type : MCQ Option Shuffling : No Is Question Mandatory : No Calculator : None Response Time : N.A Think Time : N.A Minimum Instruction Time : 0**

**Correct Marks : 5 Wrong Marks : 1**

**Question Key Details :**

Key	Value
Comprehension	MCQ

भारत की 2011 की जनगणना के अनुसार 5000-9,999 की जनसंख्या के आकार का नगर किस वर्ग में रखा जाएगा ?

1. वर्ग – III
2. वर्ग – IV
3. वर्ग – V
4. वर्ग – VI

**Options :**

485584136321. 1  
485584136322. 2  
485584136323. 3  
485584136324. 4

**Question Number : 227 Question Id : 48558434082 Question Type : MCQ Option Shuffling : No Is Question Mandatory : No Calculator : None Response Time : N.A Think Time : N.A Minimum Instruction Time : 0**

**Correct Marks : 5 Wrong Marks : 1**

**Question Key Details :**

Key	Value
Comprehension	MCQ

Which one of the following minerals is mainly used in the electrical and electronic industries ?

1. Graphite
2. Mica
3. Manganese
4. Bauxite

**Options :**

485584136325. 1  
485584136326. 2  
485584136327. 3  
485584136328. 4

**Question Number : 227 Question Id : 48558434082 Question Type : MCQ Option Shuffling : No Is Question Mandatory : No Calculator : None Response Time : N.A Think Time : N.A Minimum Instruction Time : 0**

**Correct Marks : 5 Wrong Marks : 1**

**Question Key Details :**

Key	Value
Comprehension	MCQ



निम्नलिखित में से कौन-सा खनिज मुख्यतः इलेक्ट्रिकल और इलेक्ट्रानिक्स उद्योगों में उपयोग होता है ?

1. ग्रेफ़ाइट
2. अभ्रक
3. मैंगनीज
4. बाक्साइट

**Options :**

485584136325. 1  
485584136326. 2  
485584136327. 3  
485584136328. 4

**Question Number : 228 Question Id : 48558434083 Question Type : MCQ Option Shuffling : No Is Question Mandatory : No Calculator : None Response Time : N.A Think Time : N.A Minimum Instruction Time : 0**

**Correct Marks : 5 Wrong Marks : 1**

**Question Key Details :**

Key	Value
Comprehension	MCQ

Which of the following energy plant has been commissioned at Manikaran ?

1. Wind Energy
2. Bio Energy
3. Solar Energy
4. Geothermal Energy

**Options :**

485584136329. 1  
485584136330. 2  
485584136331. 3  
485584136332. 4

**Question Number : 228 Question Id : 48558434083 Question Type : MCQ Option Shuffling : No Is Question Mandatory : No Calculator : None Response Time : N.A Think Time : N.A Minimum Instruction Time : 0**

**Correct Marks : 5 Wrong Marks : 1**

**Question Key Details :**

Key	Value
Comprehension	MCQ

निम्नलिखित कौन-सा ऊर्जा संयंत्र मणिकरण में अधिकृत किया गया है ?

1. पवन ऊर्जा
2. जैव ऊर्जा
3. सौर ऊर्जा
4. भूतापीय ऊर्जा

**Options :**

485584136329. 1  
485584136330. 2  
485584136331. 3  
485584136332. 4

**Question Number : 229 Question Id : 48558434084 Question Type : MCQ Option Shuffling : No Is Question Mandatory : No Calculator : None Response Time : N.A Think Time : N.A Minimum Instruction Time : 0**

**Correct Marks : 5 Wrong Marks : 1**

**Question Key Details :**

Key	Value
Comprehension	MCQ

Which steel plant in India has a supply of iron ore from Noamundi, coal from Joda mines, and water from Kharkai river ?

1. Indian Iron and Steel Company (IISCO)
2. Tata Iron and Steel Company (TISCO)
3. Visvesvaraiya Iron and Steel Works Ltd. (VISL)
4. Rourkela Steel Plant

**Options :**

485584136333. 1  
485584136334. 2  
485584136335. 3  
485584136336. 4

**Question Number : 229 Question Id : 48558434084 Question Type : MCQ Option Shuffling : No Is Question Mandatory : No Calculator : None Response Time : N.A Think Time : N.A Minimum Instruction Time : 0**

**Correct Marks : 5 Wrong Marks : 1**

**Question Key Details :**

Key	Value
Comprehension	MCQ

भारत में किस इस्पात संयंत्र को नोआमंडी से लोहा, जोड़ा खानों से कोयला, और खारकोई नदी से जल की आपूर्ति होती है ?

1. भारतीय लोहा और इस्पात कंपनी (IISCO)
2. टाटा लौह-इस्पात कंपनी (TISCO)
3. विश्वेश्वरैया आयरन एण्ड स्टील वर्क्स (VISL)
4. राउरकेला इस्पात संयंत्र

**Options :**

485584136333. 1  
485584136334. 2  
485584136335. 3  
485584136336. 4

**Question Number : 230 Question Id : 48558434085 Question Type : MCQ Option Shuffling : No Is Question Mandatory : No Calculator : None Response Time : N.A Think Time : N.A Minimum Instruction Time : 0**

**Correct Marks : 5 Wrong Marks : 1**

**Question Key Details :**

Key	Value
Comprehension	MCQ

India was famous worldwide for the production of a very fine variety of cotton cloth ?Which of the following was that ?

1. Chanderi
2. Khadi
3. Muslin
4. Lahori

**Options :**

485584136337. 1  
485584136338. 2  
485584136339. 3  
485584136340. 4

**Question Number : 230 Question Id : 48558434085 Question Type : MCQ Option Shuffling : No Is Question Mandatory : No Calculator : None Response Time : N.A Think Time : N.A Minimum Instruction Time : 0**

**Correct Marks : 5 Wrong Marks : 1**

**Question Key Details :**

Key	Value
Comprehension	MCQ

भारत संसार में अच्छी गुणवत्ता वाले सूती कपड़ों के उत्पादन के लिए प्रसिद्ध था। उल्लेख कीजिए कि उनमें निम्न में से कौन-सा था ?

1. चंदेरी
2. खादी
3. मलमल
4. लाहौरी

**Options :**

485584136337. 1  
485584136338. 2  
485584136339. 3  
485584136340. 4

**Question Number : 231 Question Id : 48558434086 Question Type : MCQ Option Shuffling : No Is Question Mandatory : No Calculator : None Response Time : N.A Think Time : N.A Minimum Instruction Time : 0**

**Correct Marks : 5 Wrong Marks : 1**

**Question Key Details :**

Key	Value
Comprehension	MCQ

The length of first railway run between Bombay and Thane was \_\_\_\_\_.

1. 32 km
2. 34 km
3. 36 km
4. 38 km

**Options :**

485584136341. 1  
485584136342. 2  
485584136343. 3  
485584136344. 4

**Question Number : 231 Question Id : 48558434086 Question Type : MCQ Option Shuffling : No Is Question Mandatory : No Calculator : None Response Time : N.A Think Time : N.A Minimum Instruction Time : 0**

**Correct Marks : 5 Wrong Marks : 1**

**Question Key Details :**

Key	Value
Comprehension	MCQ

बम्बई से ठाणे के बीच चलने वाली पहली रेलमार्ग की लम्बाई \_\_\_\_\_ थी।

1. 32 कि.मी
2. 34 कि.मी
3. 36 कि.मी
4. 38 कि.मी

**Options :**

485584136341. 1  
485584136342. 2  
485584136343. 3  
485584136344. 4

**Question Number : 232 Question Id : 48558434087 Question Type : MCQ Option Shuffling : No Is Question Mandatory : No Calculator : None Response Time : N.A Think Time : N.A Minimum Instruction Time : 0**

**Correct Marks : 5 Wrong Marks : 1**

**Question Key Details :**

Key	Value
Comprehension	MCQ

Which one of the following is the cause of intestinal worms ?

1. Water Pollution
2. Air Pollution
3. Noise Pollution
4. Land Pollution

**Options :**

485584136345. 1  
485584136346. 2  
485584136347. 3  
485584136348. 4

**Question Number : 232 Question Id : 48558434087 Question Type : MCQ Option Shuffling : No Is Question Mandatory : No Calculator : None Response Time : N.A Think Time : N.A Minimum Instruction Time : 0**

**Correct Marks : 5 Wrong Marks : 1**

**Question Key Details :**

Key	Value
Comprehension	MCQ

निम्नलिखित में से कौन सा आंश के कृमि का कारण है?

1. जल प्रदूषण
2. वायु प्रदूषण
3. ध्वनि प्रदूषण
4. भूमि प्रदूषण

**Options :**

485584136345. 1  
485584136346. 2  
485584136347. 3  
485584136348. 4

**Question Number : 233 Question Id : 48558434088 Question Type : MCQ Option Shuffling : No Is Question Mandatory : No Calculator : None Response Time : N.A Think Time : N.A Minimum Instruction Time : 0**

**Correct Marks : 5 Wrong Marks : 1**

**Question Key Details :**

Key	Value
Comprehension	MCQ

By 2050, an estimated \_\_\_\_\_ of the world's population will live in Urban areas.

1. one-third
2. two-third
3. half
4. three-fourth

**Options :**

485584136349. 1  
485584136350. 2  
485584136351. 3  
485584136352. 4

**Question Number : 233 Question Id : 48558434088 Question Type : MCQ Option Shuffling : No Is Question Mandatory : No Calculator : None Response Time : N.A Think Time : N.A Minimum Instruction Time : 0**

**Correct Marks : 5 Wrong Marks : 1**

**Question Key Details :**

Key	Value
Comprehension	MCQ

एक अनुमान के अनुसार, 2050 तक विश्व की जनसंख्या का \_\_\_\_\_ भाग नगरीय क्षेत्रों में निवास करेगा।

1. एक तिहाई
2. दो तिहाई
3. आधा
4. तीन चौथाई

**Options :**

485584136349. 1  
485584136350. 2  
485584136351. 3  
485584136352. 4

**Question Number : 234 Question Id : 48558434089 Question Type : MCQ Option Shuffling : No Is Question Mandatory : No Calculator : None Response Time : N.A Think Time : N.A Minimum Instruction Time : 0**

**Correct Marks : 5 Wrong Marks : 1**

**Question Key Details :**

Key	Value
Comprehension	MCQ

Arrange the following oil refineries of India from north to south direction.

- A. Mangaluru
- B. Haldia
- C. Kochchi
- D. Tatipaka

Choose the correct answer from the options given below :

1. (D), (A), (B), (C)
2. (D), (B), (A), (C)
3. (B), (D), (A), (C)
4. (B), (D), (C), (A)

**Options :**

485584136353. 1  
485584136354. 2  
485584136355. 3  
485584136356. 4

**Question Number : 234 Question Id : 48558434089 Question Type : MCQ Option Shuffling : No Is Question Mandatory : No Calculator : None Response Time : N.A Think Time : N.A Minimum Instruction Time : 0**

**Correct Marks : 5 Wrong Marks : 1**

**Question Key Details :**

Key	Value
Comprehension	MCQ

भारत की निम्नलिखित तेल परिष्करणशालाओं को उत्तर से दक्षिण दिशा में व्यवस्थित कीजिए।

- A. मंगलूरू
- B. हल्दिया
- C. कोच्चि
- D. तातीपाका

निम्न विकल्पों में से सही उत्तर का चयन कीजिए:

1. (D), (A), (B), (C)
2. (D), (B), (A), (C)
3. (B), (D), (A), (C)
4. (B), (D), (C), (A)

**Options :**

- 485584136353. 1
- 485584136354. 2
- 485584136355. 3
- 485584136356. 4

**Question Number : 235 Question Id : 48558434090 Question Type : MCQ Option Shuffling : No Is Question Mandatory : No Calculator : None Response Time : N.A Think Time : N.A Minimum Instruction Time : 0**

**Correct Marks : 5 Wrong Marks : 1**

**Question Key Details :**

Key	Value
Comprehension	MCQ

Arrange the following software technology parks of India from West to East direction.

- A. Delhi
- B. Kanpur
- C. Kolkata
- D. Gandhinagar

Choose the correct answer from the options given below :

1. (D), (A), (C), (B)
2. (D), (C), (B), (A)
3. (D), (A), (B), (C)
4. (A), (D), (B), (C)

**Options :**

- 485584136357. 1
- 485584136358. 2
- 485584136359. 3
- 485584136360. 4



**Question Number : 235 Question Id : 48558434090 Question Type : MCQ Option Shuffling : No Is Question Mandatory : No Calculator : None Response Time : N.A Think Time : N.A Minimum Instruction Time : 0**

**Correct Marks : 5 Wrong Marks : 1**

**Question Key Details :**

Key	Value
Comprehension	MCQ

भारत के निम्नलिखित सॉफ्टवेयर टेक्नोलॉजी पार्क को पश्चिम से पूर्व दिशा में व्यवस्थित कीजिए

- A. दिल्ली
- B. कानपुर
- C. कोलकाता
- D. गांधीनगर

निम्न विकल्पों में से सही उत्तर का चयन कीजिए:

- 1. (D), (A), (C), (B)
- 2. (D), (C), (B), (A)
- 3. (D), (A), (B), (C)
- 4. (A), (D), (B), (C)

**Options :**

- 485584136357. 1
- 485584136358. 2
- 485584136359. 3
- 485584136360. 4

**Question Number : 236 Question Id : 48558434091 Question Type : MCQ Option Shuffling : No Is Question Mandatory : No Calculator : None Response Time : N.A Think Time : N.A Minimum Instruction Time : 0**

**Correct Marks : 5 Wrong Marks : 1**

**Question Key Details :**

Key	Value
Comprehension	MCQ

Read the following statements about rice crop in India carefully.

- A. It is considered to be a crop of tropical humid areas.
- B. Rice cultivation in the irrigated areas of Punjab and Haryana was introduced in 1950s.
- C. In West Bengal farmers grow three crops of rice.
- D. India was the second largest producer of rice in 2018.

Choose the correct answer from the options given below :

- 1. (A), (B) and (C) only
- 2. (A), (C) and (D) only
- 3. (B), (C) and (D) only
- 4. (A), (B) and (D) only

**Options :**

485584136361. 1  
485584136362. 2  
485584136363. 3  
485584136364. 4

**Question Number : 236 Question Id : 48558434091 Question Type : MCQ Option Shuffling : No Is Question Mandatory : No Calculator : None Response Time : N.A Think Time : N.A Minimum Instruction Time : 0**

**Correct Marks : 5 Wrong Marks : 1**

**Question Key Details :**

Key	Value
Comprehension	MCQ

भारत में चावल कृषि के संदर्भ में निम्न कथनों को ध्यानपूर्वक पढ़िए।

- A. इसे उष्ण आर्द्र कटिबंधीय फसल माना जाता है।
- B. पंजाब और हरियाणा के सिंचित क्षेत्रों में चावल की कृषि 1950 में प्रारम्भ की गई।
- C. पश्चिम बंगाल में किसान चावल की तीन फसलें उगाते हैं।
- D. 2018 में भारत चावल का दूसरा सबसे बड़ा उत्पादक था।

निम्न विकल्पों में से सही उत्तर का चयन कीजिए:

- 1. केवल (A), (B) और (C)
- 2. केवल (A), (C) और (D)
- 3. केवल (B), (C) और (D)
- 4. केवल (A), (B) और (D)

**Options :**

485584136361. 1  
485584136362. 2  
485584136363. 3  
485584136364. 4

**Question Number : 237 Question Id : 48558434092 Question Type : MCQ Option Shuffling : No Is Question Mandatory : No Calculator : None Response Time : N.A Think Time : N.A Minimum Instruction Time : 0**

**Correct Marks : 5 Wrong Marks : 1**

**Question Key Details :**

Key	Value
Comprehension	MCQ

Read the following statements about tea Crop in India carefully.

- A. Tea is a plantation crop
- B. Tea leaves have rich content of caffeine and tannin
- C. Tea is an indigenous crop of India
- D. It is grown our undulating topography of hilly area

Choose the correct answer from the options given below :

1. (A), (B) and (C) only
2. (A), (B) and (D) only
3. (A), (C) and (D) only
4. (B), (C) and (D) only

**Options :**

- 485584136365. 1
- 485584136366. 2
- 485584136367. 3
- 485584136368. 4

**Question Number : 237 Question Id : 48558434092 Question Type : MCQ Option Shuffling : No Is Question Mandatory : No Calculator : None Response Time : N.A Think Time : N.A Minimum Instruction Time : 0**

**Correct Marks : 5 Wrong Marks : 1**

**Question Key Details :**

Key	Value
Comprehension	MCQ

भारत में चाय के कृषि के संदर्भ में निम्नलिखित कथनों को ध्यानपूर्वक पढ़िए।

- A. चाय एक रोपण फसल है।
- B. चाय की पत्तियों में कैफिन और टैनिन की प्रचुरता पाई जाती है।
- C. चाय भारत की देशज फसल है।
- D. यह पहाड़ी क्षेत्रों के तरांगित भागों (स्थलाकृतियों) पर बोई जाती है।

निम्न विकल्पों में से सही उत्तर का चयन कीजिए:

1. केवल (A), (B) और (C)
2. केवल (A), (B) और (D)
3. केवल (A), (C) और (D)
4. केवल (B), (C) और (D)

**Options :**

- 485584136365. 1
- 485584136366. 2
- 485584136367. 3
- 485584136368. 4

**Question Number : 238 Question Id : 48558434093 Question Type : MCQ Option Shuffling : No Is Question Mandatory : No Calculator : None Response Time : N.A Think Time : N.A Minimum Instruction Time : 0**

**Correct Marks : 5 Wrong Marks : 1**

**Question Key Details :**

Key	Value
Comprehension	MCQ

Read the following statements about Coal deposit in India carefully.

- A. About 80 per cent of the coal deposit in India is lignite type.
- B. The most important Gondwans Coal fields of India are located in Damodar Valley.
- C. Tharia is the largest coal field of India.
- D. Korba coal mining centre is located in West Bengal

Choose the correct answer from the options given below :

- 1. (A), (B) and (C) only
- 2. (A), (C) and (D) only
- 3. (A), (B) and (D) only
- 4. (B), (C) and (D) only

**Options :**

- 485584136369. 1
- 485584136370. 2
- 485584136371. 3
- 485584136372. 4

**Question Number : 238 Question Id : 48558434093 Question Type : MCQ Option Shuffling : No Is Question Mandatory : No Calculator : None Response Time : N.A Think Time : N.A Minimum Instruction Time : 0**

**Correct Marks : 5 Wrong Marks : 1**

**Question Key Details :**

Key	Value
Comprehension	MCQ

भारत में कोयला निक्षेप से संदर्भ में निम्न कथनों को ध्यानपूर्वक पढ़िए।

- A. भारत में कोयला निक्षेपों का लगभग 80 प्रतिशत भाग लिग्नाइट प्रकार का है।
- B. भारत में सर्वाधिक महत्वपूर्ण गोडवाना कोयला क्षेत्र दामोदर घाटी में स्थित है।
- C. झरिया भारत का सबसे बड़ा कोयला क्षेत्र है।
- D. कोरबा कोयला खनन केंद्र पश्चिम बंगाल में स्थित है।

निम्न विकल्पों में से सही उत्तर का चयन कीजिए:

- 1. केवल (A), (B) और (C)
- 2. केवल (A), (C) और (D)
- 3. केवल (A), (B) और (D)
- 4. केवल (B), (C) और (D)

**Options :**

485584136369. 1  
 485584136370. 2  
 485584136371. 3  
 485584136372. 4

**Question Number : 239 Question Id : 48558434094 Question Type : MCQ Option Shuffling : No Is Question Mandatory : No Calculator : None Response Time : N.A Think Time : N.A Minimum Instruction Time : 0**

**Correct Marks : 5 Wrong Marks : 1**

**Question Key Details :**

Key	Value
Comprehension	MCQ

Match List I with List II

LIST I (State)		LIST II (Total Literacy Rate 2011)	
A.	Bihar	I.	69.72
B.	Kerala	II.	87.40
C.	Goa	III.	93.91
D.	Uttar Pradesh	IV.	63.82

Choose the correct answer from the options given below:

1. (A)-(I), (B)-(II), (C)-(III), (D)-(IV)
2. (A)-(II), (B)-(IV), (C)-(I), (D)-(III)
3. (A)-(IV), (B)-(III), (C)-(II), (D)-(I)
4. (A)-(I), (B)-(III), (C)-(II), (D)-(IV)

**Options :**

485584136373. 1  
 485584136374. 2  
 485584136375. 3  
 485584136376. 4

**Question Number : 239 Question Id : 48558434094 Question Type : MCQ Option Shuffling : No Is Question Mandatory : No Calculator : None Response Time : N.A Think Time : N.A Minimum Instruction Time : 0**

**Correct Marks : 5 Wrong Marks : 1**

**Question Key Details :**

Key	Value
Comprehension	MCQ

सूची I का सूची II से मिलान कीजिए

सूची I (राज्य)		सूची II (कुल साक्षरता दर 2011)	
A.	बिहार	I.	69.72
B.	केरल	II.	87.40
C.	गोआ	III.	93.91
D.	उत्तर प्रदेश	IV.	63.82

निम्नलिखित विकल्पों में से सही उत्तर का चयन कीजिए :

1. (A)-(I), (B)-(II), (C)-(III), (D)-(IV)
2. (A)-(II), (B)-(IV), (C)-(I), (D)-(III)
3. (A)-(IV), (B)-(III), (C)-(II), (D)-(I)
4. (A)-(I), (B)-(III), (C)-(II), (D)-(IV)

**Options :**

485584136373. 1  
485584136374. 2  
485584136375. 3  
485584136376. 4

**Question Number : 240 Question Id : 48558434095 Question Type : MCQ Option Shuffling : No Is Question Mandatory :  
No Calculator : None Response Time : N.A Think Time : N.A Minimum Instruction Time : 0**

**Correct Marks : 5 Wrong Marks : 1**

**Question Key Details :**

Key	Value
Comprehension	MCQ

Match List I with List II

LIST I (Types to town)		LIST II (Examples)	
A.	Ancient Town	I.	Nagpur
B.	Medieval Town	II.	Gandhinagar
C.	Modern Town	III.	Madurai
D.	After Independence Town	IV.	Surat

Choose the correct answer from the options given below:

1. (A)-(III), (B)-(I), (C)-(II), (D)-(IV)
2. (A)-(I), (B)-(II), (C)-(IV), (D)-(III)
3. (A)-(III), (B)-(I), (C)-(IV), (D)-(II)
4. (A)-(I), (B)-(IV), (C)-(III), (D)-(II)

**Options :**

485584136377. 1  
485584136378. 2  
485584136379. 3  
485584136380. 4

**Question Number : 240 Question Id : 48558434095 Question Type : MCQ Option Shuffling : No Is Question Mandatory : No Calculator : None Response Time : N.A Think Time : N.A Minimum Instruction Time : 0**

**Correct Marks : 5 Wrong Marks : 1**

**Question Key Details :**

Key	Value
Comprehension	MCQ

सूची I का सूची II से मिलान कीजिए

सूची I (नगरो का प्रकार)		सूची II (उदाहरण)	
A.	प्राचीन नगर	I.	नागपुर
B.	मध्यकालीन नगर	II.	गांधीनगर
C.	आधुनिक नगर	III.	मदुरई
D.	स्वतंत्रता प्राप्ति के पश्चात का नगर	IV.	सूरत

निम्नलिखित विकल्पों में से सही उत्तर का चयन कीजिए :

1. (A)-(III), (B)-(I), (C)-(II), (D)-(IV)
2. (A)-(I), (B)-(II), (C)-(IV), (D)-(III)
3. (A)-(III), (B)-(I), (C)-(IV), (D)-(II)
4. (A)-(I), (B)-(IV), (C)-(III), (D)-(II)

**Options :**

485584136377. 1  
485584136378. 2  
485584136379. 3  
485584136380. 4

**Sub-Section Number :**

2

**Sub-Section Id :**

4855842537

**Question Shuffling Allowed :**

No

**Is Section Default? :**

null

**Question Number : 241 Question Id : 48558434096 Question Type : MCQ Option Shuffling : No Is Question Mandatory : No Calculator : None Response Time : N.A Think Time : N.A Minimum Instruction Time : 0**

**Correct Marks : 5 Wrong Marks : 1**

**Question Key Details :**

Key	Value
Comprehension	Comp1



Read the given passage carefully and answer following question .

The Ruhr Coal field of Germany has been one of the major industrial regions of Europe for a long time. Coal and iron and steel formed the basis of the economy, but as the demand for coal declined, the industry started shrinking. Even after the iron ore was exhausted, the industry remained, using imported ore brought by waterways to the Ruhr.

The Ruhr region is responsible for 80 per cent of Germany's total steel production. Changes in the industrial structure have led to the decay of some areas, and there are problems of industrial waste and pollution. The future prosperity of the Ruhr is based less on the products of coal and steel, for which it was initially famous, and more on the new industries like the huge Opel car assembly plant, new chemical plants, universities. Out-of-town shopping centres have appeared resulting in a 'New Ruhr' landscape.

The iron and steel industry forms the base of all other industries and, therefore, it is called a basic industry. It is basic because it provides raw material for other industries such as machine tools used for further production. It may also be called a heavy industry because it uses large quantities of bulky raw materials and its products are also heavy.

Iron is extracted from iron ore by smelting in a blast furnace with carbon (coke) and limestone. The molten iron is cooled and moulded to form pig iron which is used for converting into steel by adding strengthening materials manganese.

\_\_\_\_\_ and \_\_\_\_\_ formed the basis of the economy Ruhr region.

1. Coal, Petrochemical
2. Iron and Steel, coal
3. Iron and Steel, Cotton textile
4. Cotton textile and Petrochemical

**Options :**

485584136381. 1  
485584136382. 2  
485584136383. 3  
485584136384. 4

**Question Number : 241 Question Id : 48558434096 Question Type : MCQ Option Shuffling : No Is Question Mandatory : No Calculator : None Response Time : N.A Think Time : N.A Minimum Instruction Time : 0**

**Correct Marks : 5 Wrong Marks : 1**

**Question Key Details :**

Key	Value
Comprehension	Comp1

दिए गए गद्यांश को ध्यानपूर्वक पढ़िए और निम्न प्रश्नों के उत्तर दीजिए।

यह लंबे समय से यूरोप का प्रमुख औद्योगिक प्रदेश रहा है। कोयला, लोहा एवं इस्पात यहाँ अर्थव्यवस्था का प्रमुख आधार रहा है पर कोयले की माँग में कमी आने के कारण उद्योग संकुचित होने लगा। यहाँ लौह अयस्क समाप्त होने पर भी जलमार्ग से आयातित अयस्क का प्रयोग करके उद्योग कार्यशील रहा है।

जर्मनी के इस्पात उत्पादन का 80 प्रतिशत रूहर से प्राप्त होता है। औद्योगिक ढाँचे में परिवर्तन के कारण कुछ छेत्रों के उत्पादन में गिरावट आई है एवं प्रदूषण व औद्योगिक अपशिष्ट की समस्या भी होने लगी है। अब रूहर के भविष्य की संपन्नता कोयले व इस्पात के बजाए नए उद्योग जैसे ओपेल कार बनाने का विशाल कारखाना, नए रासायनिक संयंत्र, विश्वविद्यालय इत्यादि पर आधारित है। यहाँ खरीदारी के बड़े-बड़े बाज़ार बन गए हैं जिससे एक 'नया रूहर' भू-दृश्य विकसित हो रहा है।

लौह-इस्पात उद्योग सभी उद्योगों का आधार है इसलिए इसे आधारभूत उद्योग भी कहा जाता है। यह आधारभूत इसलिए है क्योंकि यह अन्य उद्योगों जैसे कि मशीन और औज़ार जो आगे उत्पादों के लिए प्रयोग किए जाते हैं को कच्चा माल प्रदान करता है। इसे भारी उद्योग भी कहते हैं क्योंकि इसमें बड़ी मात्रा में भारी-भरकम कच्चा माल उपयोग में लाया जाता है एवं इसके उत्पाद भी भारी होते हैं।

लोहा निकालने के लिए लौह-अयस्क को झोंका भट्टियों में कार्बन (कोक) एवं चूना पत्थर के साथ प्रगलन किया जाता है। पिघला हुआ लौह बाहर निकलकर जब ठंडा हो जाता है तो उसे कच्चा लोहा कहते हैं। इसी कच्चे लोहे में मैंगनीज मिलाकर इस्पात बनाया जाता है।

\_\_\_\_\_ और \_\_\_\_\_ रूहर प्रदेश की अर्थव्यवस्था को आधार प्रदान करते हैं।

1. कोयला, पेट्रोरसायन
2. लोहा और इस्पात, कोयला
3. लोहा और इस्पात, सूती वस्त्र
4. सूती वस्त्र और पेट्रो रसायन

**Options :**

485584136381. 1  
485584136382. 2  
485584136383. 3  
485584136384. 4

**Question Number : 242 Question Id : 48558434097 Question Type : MCQ Option Shuffling : No Is Question Mandatory : No Calculator : None Response Time : N.A Think Time : N.A Minimum Instruction Time : 0**

**Correct Marks : 5 Wrong Marks : 1**

**Question Key Details :**

Key	Value
Comprehension	Comp1

Read the given passage carefully and answer following question .

The Ruhr Coal field of Germany has been one of the major industrial regions of Europe for a long time. Coal and iron and steel formed the basis of the economy, but as the demand for coal declined, the industry started shrinking. Even after the iron ore was exhausted, the industry remained, using imported ore brought by waterways to the Ruhr.

The Ruhr region is responsible for 80 per cent of Germany's total steel production. Changes in the industrial structure have led to the decay of some areas, and there are problems of industrial waste and pollution. The future prosperity of the Ruhr is based less on the products of coal and steel, for which it was initially famous, and more on the new industries like the huge Opel car assembly plant, new chemical plants, universities. Out-of-town shopping centres have appeared resulting in a 'New Ruhr' landscape.

The iron and steel industry forms the base of all other industries and, therefore, it is called a basic industry. It is basic because it provides raw material for other industries such as machine tools used for further production. It may also be called a heavy industry because it uses large quantities of bulky raw materials and its products are also heavy.

Iron is extracted from iron ore by smelting in a blast furnace with carbon (coke) and limestone. The molten iron is cooled and moulded to form pig iron which is used for converting into steel by adding strengthening materials manganese.

Ruhr region contribute \_\_\_\_\_ of Germany's total steel production.

1. 73%
2. 77%
3. 80%
4. 83%

**Options :**

485584136385. 1  
485584136386. 2  
485584136387. 3  
485584136388. 4

**Question Number : 242 Question Id : 48558434097 Question Type : MCQ Option Shuffling : No Is Question Mandatory : No Calculator : None Response Time : N.A Think Time : N.A Minimum Instruction Time : 0**

**Correct Marks : 5 Wrong Marks : 1**

**Question Key Details :**

Key	Value
Comprehension	Comp1

दिए गए गद्यांश को ध्यानपूर्वक पढ़िए और निम्न प्रश्नों के उत्तर दीजिए।

यह लंबे समय से यूरोप का प्रमुख औद्योगिक प्रदेश रहा है। कोयला, लोहा एवं इस्पात यहाँ अर्थव्यवस्था का प्रमुख आधार रहा है पर कोयले की माँग में कमी आने के कारण उद्योग संकुचित होने लगा। यहाँ लौह अयस्क समाप्त होने पर भी जलमार्ग से आयातित अयस्क का प्रयोग करके उद्योग कार्यशील रहा है।

जर्मनी के इस्पात उत्पादन का 80 प्रतिशत रूहर से प्राप्त होता है। औद्योगिक ढाँचे में परिवर्तन के कारण कुछ छेत्रों के उत्पादन में गिरावट आई है एवं प्रदूषण व औद्योगिक अपशिष्ट की समस्या भी होने लगी है। अब रूहर के भविष्य की संपन्नता कोयले व इस्पात के बजाए नए उद्योग जैसे ओपेल कार बनाने का विशाल कारखाना, नए रासायनिक संयंत्र, विश्वविद्यालय इत्यादि पर आधारित है। यहाँ खरीदारी के बड़े-बड़े बाज़ार बन गए हैं जिससे एक 'नया रूहर' भू-दृश्य विकसित हो रहा है।

लौह-इस्पात उद्योग सभी उद्योगों का आधार है इसलिए इसे आधारभूत उद्योग भी कहा जाता है। यह आधारभूत इसलिए है क्योंकि यह अन्य उद्योगों जैसे कि मशीन और औज़ार जो आगे उत्पादों के लिए प्रयोग किए जाते हैं को कच्चा माल प्रदान करता है। इसे भारी उद्योग भी कहते हैं क्योंकि इसमें बड़ी मात्रा में भारी-भरकम कच्चा माल उपयोग में लाया जाता है एवं इसके उत्पाद भी भारी होते हैं।

लोहा निकालने के लिए लौह-अयस्क को झोंका भट्टियों में कार्बन (कोक) एवं चूना पत्थर के साथ प्रगलन किया जाता है। पिघला हुआ लौह बाहर निकलकर जब ठंडा हो जाता है तो उसे कच्चा लोहा कहते हैं। इसी कच्चे लोहे में मैंगनीज मिलाकर इस्पात बनाया जाता है।

जर्मनी के कुछ कुल इस्पात का \_\_\_\_\_ रूहर से प्राप्त होता है।

1. 73%
2. 77%
3. 80%
4. 83%

**Options :**

485584136385. 1  
485584136386. 2  
485584136387. 3  
485584136388. 4

**Question Number : 243 Question Id : 48558434098 Question Type : MCQ Option Shuffling : No Is Question Mandatory : No Calculator : None Response Time : N.A Think Time : N.A Minimum Instruction Time : 0**

**Correct Marks : 5 Wrong Marks : 1**

**Question Key Details :**

Key	Value
Comprehension	Comp1

Read the given passage carefully and answer following question .

The Ruhr Coal field of Germany has been one of the major industrial regions of Europe for a long time. Coal and iron and steel formed the basis of the economy, but as the demand for coal declined, the industry started shrinking. Even after the iron ore was exhausted, the industry remained, using imported ore brought by waterways to the Ruhr.

The Ruhr region is responsible for 80 per cent of Germany's total steel production. Changes in the industrial structure have led to the decay of some areas, and there are problems of industrial waste and pollution. The future prosperity of the Ruhr is based less on the products of coal and steel, for which it was initially famous, and more on the new industries like the huge Opel car assembly plant, new chemical plants, universities. Out-of-town shopping centres have appeared resulting in a 'New Ruhr' landscape.

The iron and steel industry forms the base of all other industries and, therefore, it is called a basic industry. It is basic because it provides raw material for other industries such as machine tools used for further production. It may also be called a heavy industry because it uses large quantities of bulky raw materials and its products are also heavy.

Iron is extracted from iron ore by smelting in a blast furnace with carbon (coke) and limestone. The molten iron is cooled and moulded to form pig iron which is used for converting into steel by adding strengthening materials manganese.

The assembly of \_\_\_\_\_ car is done in the Ruhr region of Germany.

1. Opel
2. Napel
3. Napthel
4. Onthel

**Options :**

485584136389. 1  
485584136390. 2  
485584136391. 3  
485584136392. 4

**Question Number : 243 Question Id : 48558434098 Question Type : MCQ Option Shuffling : No Is Question Mandatory : No Calculator : None Response Time : N.A Think Time : N.A Minimum Instruction Time : 0**

**Correct Marks : 5 Wrong Marks : 1**

**Question Key Details :**

Key	Value
Comprehension	Comp1

दिए गए गद्यांश को ध्यानपूर्वक पढ़िए और निम्न प्रश्नों के उत्तर दीजिए।

यह लंबे समय से यूरोप का प्रमुख औद्योगिक प्रदेश रहा है। कोयला, लोहा एवं इस्पात यहाँ अर्थव्यवस्था का प्रमुख आधार रहा है पर कोयले की माँग में कमी आने के कारण उद्योग संकुचित होने लगा। यहाँ लौह अयस्क समाप्त होने पर भी जलमार्ग से आयातित अयस्क का प्रयोग करके उद्योग कार्यशील रहा है।

जर्मनी के इस्पात उत्पादन का 80 प्रतिशत रूहर से प्राप्त होता है। औद्योगिक ढाँचे में परिवर्तन के कारण कुछ छेत्रों के उत्पादन में गिरावट आई है एवं प्रदूषण व औद्योगिक अपशिष्ट की समस्या भी होने लगी है। अब रूहर के भविष्य की संपन्नता कोयले व इस्पात के बजाए नए उद्योग जैसे ओपेल कार बनाने का विशाल कारखाना, नए रासायनिक संयंत्र, विश्वविद्यालय इत्यादि पर आधारित है। यहाँ खरीदारी के बड़े-बड़े बाज़ार बन गए हैं जिससे एक 'नया रूहर' भू-दृश्य विकसित हो रहा है।

लौह-इस्पात उद्योग सभी उद्योगों का आधार है इसलिए इसे आधारभूत उद्योग भी कहा जाता है। यह आधारभूत इसलिए है क्योंकि यह अन्य उद्योगों जैसे कि मशीन और औज़ार जो आगे उत्पादों के लिए प्रयोग किए जाते हैं को कच्चा माल प्रदान करता है। इसे भारी उद्योग भी कहते हैं क्योंकि इसमें बड़ी मात्रा में भारी-भरकम कच्चा माल उपयोग में लाया जाता है एवं इसके उत्पाद भी भारी होते हैं।

लोहा निकालने के लिए लौह-अयस्क को झोंका भट्टियों में कार्बन (कोक) एवं चूना पत्थर के साथ प्रगलन किया जाता है। पिघला हुआ लौह बाहर निकलकर जब ठंडा हो जाता है तो उसे कच्चा लोहा कहते हैं। इसी कच्चे लोहे में मैंगनीज मिलाकर इस्पात बनाया जाता है।

जर्मनी के रूहर क्षेत्र में \_\_\_\_\_ कार का निर्माण होता है।

1. ओपेल
2. नेपल
3. नापथेल
4. ओन्थेल

**Options :**

485584136389. 1  
485584136390. 2  
485584136391. 3  
485584136392. 4

**Question Number : 244 Question Id : 48558434099 Question Type : MCQ Option Shuffling : No Is Question Mandatory : No Calculator : None Response Time : N.A Think Time : N.A Minimum Instruction Time : 0**

**Correct Marks : 5 Wrong Marks : 1**

**Question Key Details :**

Key	Value
Comprehension	Comp1

Read the given passage carefully and answer following question .

The Ruhr Coal field of Germany has been one of the major industrial regions of Europe for a long time. Coal and iron and steel formed the basis of the economy, but as the demand for coal declined, the industry started shrinking. Even after the iron ore was exhausted, the industry remained, using imported ore brought by waterways to the Ruhr.

The Ruhr region is responsible for 80 per cent of Germany's total steel production. Changes in the industrial structure have led to the decay of some areas, and there are problems of industrial waste and pollution. The future prosperity of the Ruhr is based less on the products of coal and steel, for which it was initially famous, and more on the new industries like the huge Opel car assembly plant, new chemical plants, universities. Out-of-town shopping centres have appeared resulting in a 'New Ruhr' landscape.

The iron and steel industry forms the base of all other industries and, therefore, it is called a basic industry. It is basic because it provides raw material for other industries such as machine tools used for further production. It may also be called a heavy industry because it uses large quantities of bulky raw materials and its products are also heavy.

Iron is extracted from iron ore by smelting in a blast furnace with carbon (coke) and limestone. The molten iron is cooled and moulded to form pig iron which is used for converting into steel by adding strengthening materials manganese.

Iron and Steel industry is called \_\_\_\_\_ industry.

1. Basic
2. Secondary
3. Tertiary
4. Quaternary

**Options :**

485584136393. 1  
485584136394. 2  
485584136395. 3  
485584136396. 4

**Question Number : 244 Question Id : 48558434099 Question Type : MCQ Option Shuffling : No Is Question Mandatory : No Calculator : None Response Time : N.A Think Time : N.A Minimum Instruction Time : 0**

**Correct Marks : 5 Wrong Marks : 1**

**Question Key Details :**

Key	Value
Comprehension	Comp1

दिए गए गद्यांश को ध्यानपूर्वक पढ़िए और निम्न प्रश्नों के उत्तर दीजिए।

यह लंबे समय से यूरोप का प्रमुख औद्योगिक प्रदेश रहा है। कोयला, लोहा एवं इस्पात यहाँ अर्थव्यवस्था का प्रमुख आधार रहा है पर कोयले की माँग में कमी आने के कारण उद्योग संकुचित होने लगा। यहाँ लौह अयस्क समाप्त होने पर भी जलमार्ग से आयातित अयस्क का प्रयोग करके उद्योग कार्यशील रहा है।

जर्मनी के इस्पात उत्पादन का 80 प्रतिशत रूहर से प्राप्त होता है। औद्योगिक ढाँचे में परिवर्तन के कारण कुछ छेत्रों के उत्पादन में गिरावट आई है एवं प्रदूषण व औद्योगिक अपशिष्ट की समस्या भी होने लगी है। अब रूहर के भविष्य की संपन्नता कोयले व इस्पात के बजाए नए उद्योग जैसे ओपेल कार बनाने का विशाल कारखाना, नए रासायनिक संयंत्र, विश्वविद्यालय इत्यादि पर आधारित है। यहाँ खरीदारी के बड़े-बड़े बाज़ार बन गए हैं जिससे एक 'नया रूहर' भू-दृश्य विकसित हो रहा है।

लौह-इस्पात उद्योग सभी उद्योगों का आधार है इसलिए इसे आधारभूत उद्योग भी कहा जाता है। यह आधारभूत इसलिए है क्योंकि यह अन्य उद्योगों जैसे कि मशीन और औज़ार जो आगे उत्पादों के लिए प्रयोग किए जाते हैं को कच्चा माल प्रदान करता है। इसे भारी उद्योग भी कहते हैं क्योंकि इसमें बड़ी मात्रा में भारी-भरकम कच्चा माल उपयोग में लाया जाता है एवं इसके उत्पाद भी भारी होते हैं।

लोहा निकालने के लिए लौह-अयस्क को झोंका भट्टियों में कार्बन (कोक) एवं चूना पत्थर के साथ प्रगलन किया जाता है। पिघला हुआ लौह बाहर निकलकर जब ठंडा हो जाता है तो उसे कच्चा लोहा कहते हैं। इसी कच्चे लोहे में मैंगनीज मिलाकर इस्पात बनाया जाता है।

लौह उस्पात उद्योग को \_\_\_\_\_ उद्योग कहा जाता है।

1. आधारभूत
2. द्वितीयक
3. तृतीयक
4. चतुर्थक

**Options :**

485584136393. 1  
485584136394. 2  
485584136395. 3  
485584136396. 4

**Question Number : 245 Question Id : 48558434100 Question Type : MCQ Option Shuffling : No Is Question Mandatory : No Calculator : None Response Time : N.A Think Time : N.A Minimum Instruction Time : 0**

**Correct Marks : 5 Wrong Marks : 1**

**Question Key Details :**

Key	Value
Comprehension	Comp1



Read the given passage carefully and answer following question .

The Ruhr Coal field of Germany has been one of the major industrial regions of Europe for a long time. Coal and iron and steel formed the basis of the economy, but as the demand for coal declined, the industry started shrinking. Even after the iron ore was exhausted, the industry remained, using imported ore brought by waterways to the Ruhr.

The Ruhr region is responsible for 80 per cent of Germany's total steel production. Changes in the industrial structure have led to the decay of some areas, and there are problems of industrial waste and pollution. The future prosperity of the Ruhr is based less on the products of coal and steel, for which it was initially famous, and more on the new industries like the huge Opel car assembly plant, new chemical plants, universities. Out-of-town shopping centres have appeared resulting in a 'New Ruhr' landscape.

The iron and steel industry forms the base of all other industries and, therefore, it is called a basic industry. It is basic because it provides raw material for other industries such as machine tools used for further production. It may also be called a heavy industry because it uses large quantities of bulky raw materials and its products are also heavy.

Iron is extracted from iron ore by smelting in a blast furnace with carbon (coke) and limestone. The molten iron is cooled and moulded to form pig iron which is used for converting into steel by adding strengthening materials manganese.

\_\_\_\_\_ is added to strengthen the material for making steel.

1. Mica
2. Limestone
3. Coke
4. Manganese

**Options :**

485584136397. 1  
485584136398. 2  
485584136399. 3  
485584136400. 4

**Question Number : 245 Question Id : 48558434100 Question Type : MCQ Option Shuffling : No Is Question Mandatory : No Calculator : None Response Time : N.A Think Time : N.A Minimum Instruction Time : 0**

**Correct Marks : 5 Wrong Marks : 1**

**Question Key Details :**

Key	Value
Comprehension	Comp1

दिए गए गद्यांश को ध्यानपूर्वक पढ़िए और निम्न प्रश्नों के उत्तर दीजिए।

यह लंबे समय से यूरोप का प्रमुख औद्योगिक प्रदेश रहा है। कोयला, लोहा एवं इस्पात यहाँ अर्थव्यवस्था का प्रमुख आधार रहा है पर कोयले की माँग में कमी आने के कारण उद्योग संकुचित होने लगा। यहाँ लौह अयस्क समाप्त होने पर भी जलमार्ग से आयातित अयस्क का प्रयोग करके उद्योग कार्यशील रहा है।

जर्मनी के इस्पात उत्पादन का 80 प्रतिशत रूहर से प्राप्त होता है। औद्योगिक ढाँचे में परिवर्तन के कारण कुछ क्षेत्रों के उत्पादन में गिरावट आई है एवं प्रदूषण व औद्योगिक अपशिष्ट की समस्या भी होने लगी है। अब रूहर के भविष्य की संपन्नता कोयले व इस्पात के बजाए नए उद्योग जैसे ओपेल कार बनाने का विशाल कारखाना, नए रासायनिक संयंत्र, विश्वविद्यालय इत्यादि पर आधारित है। यहाँ खरीदारी के बड़े-बड़े बाज़ार बन गए हैं जिससे एक 'नया रूहर' भू-दृश्य विकसित हो रहा है।

लौह-इस्पात उद्योग सभी उद्योगों का आधार है इसलिए इसे आधारभूत उद्योग भी कहा जाता है। यह आधारभूत इसलिए है क्योंकि यह अन्य उद्योगों जैसे कि मशीन और औज़ार जो आगे उत्पादों के लिए प्रयोग किए जाते हैं को कच्चा माल प्रदान करता है। इसे भारी उद्योग भी कहते हैं क्योंकि इसमें बड़ी मात्रा में भारी-भरकम कच्चा माल उपयोग में लाया जाता है एवं इसके उत्पाद भी भारी होते हैं।

लोहा निकालने के लिए लौह-अयस्क को झोंका भट्टियों में कार्बन (कोक) एवं चूना पत्थर के साथ प्रगलन किया जाता है। पिघला हुआ लौह बाहर निकलकर जब ठंडा हो जाता है तो उसे कच्चा लोहा कहते हैं। इसी कच्चे लोहे में मैंगनीज मिलाकर इस्पात बनाया जाता है।

इस्पात बनाने के लिए \_\_\_\_\_ को पदार्थ (कच्चा लोहा) को प्रबलता प्रदान करने के लिए मिलाया जाता है।

1. अभ्रक
2. चूना पत्थर
3. कोक
4. मैंगनीज

**Options :**

485584136397. 1

485584136398. 2

485584136399. 3

485584136400. 4

**Sub-Section Number :**

3

**Sub-Section Id :**

4855842538

**Question Shuffling Allowed :**

No

**Is Section Default? :**

null

**Question Number : 246 Question Id : 48558434101 Question Type : MCQ Option Shuffling : No Is Question Mandatory : No Calculator : None Response Time : N.A Think Time : N.A Minimum Instruction Time : 0**

**Correct Marks : 5 Wrong Marks : 1**

**Question Key Details :**

Key	Value
Comprehension	Comp2

Study the given table carefully and answer the following question:

Composition of India's Export, 2009-2017

(Percentage share in Exports)

Commodities	2009-10	2010-11	2015-16	2016-17
Agriculture and allied products	10.0	9.9	12.6	12.3
Ore and Minerals	4.9	4.0	1.6	1.9
Manufactured goods	67.4	68.0	72.9	73.6
Crude and petroleum products	16.2	16.8	11.9	11.7
Other Commodities	1.5	1.2	1.1	0.5

How many of the following export commodities are showing an increasing trend between 2015 - 16 to 2016 - 17 ?

1. 1
2. 2
3. 3
4. 4

**Options :**

485584136401. 1  
485584136402. 2  
485584136403. 3  
485584136404. 4

**Question Number : 246 Question Id : 48558434101 Question Type : MCQ Option Shuffling : No Is Question Mandatory : No Calculator : None Response Time : N.A Think Time : N.A Minimum Instruction Time : 0**

**Correct Marks : 5 Wrong Marks : 1**

**Question Key Details :**

Key	Value
Comprehension	Comp2

भारत का निर्यात संघटन, 2009-2017

(निर्यात में प्रतिशत अंश)

वस्तुएँ / माल	2009-10	2010-11	2015-16	2016-17
कृषि एवं समवर्गी उत्पाद	10.0	9.9	12.6	12.3
अयस्क एवं खनिज	4.9	4.0	1.6	1.9
विनिर्मित वस्तुएँ	67.4	68.0	72.9	73.6
पैट्रोलियम व अपरिष्कृत उत्पाद	16.2	16.8	11.9	11.7
अन्य वस्तुएँ	1.5	1.2	1.1	0.5

2015 - 16 से 2016 - 17 की अवधि में निर्यात की गई निम्नलिखित कितनी वस्तुओं में वृद्धि की प्रवृत्ति दिखआई देती है?

1. 1
2. 2
3. 3
4. 4

**Options :**

485584136401. 1  
485584136402. 2  
485584136403. 3  
485584136404. 4

**Question Number : 247 Question Id : 48558434102 Question Type : MCQ Option Shuffling : No Is Question Mandatory : No Calculator : None Response Time : N.A Think Time : N.A Minimum Instruction Time : 0**

**Correct Marks : 5 Wrong Marks : 1**

**Question Key Details :**

Key	Value
Comprehension	Comp2

Study the given table carefully and answer the following question:

Composition of India's Export, 2009-2017

(Percentage share in Exports)

Commodities	2009-10	2010-11	2015-16	2016-17
Agriculture and allied products	10.0	9.9	12.6	12.3
Ore and Minerals	4.9	4.0	1.6	1.9
Manufactured goods	67.4	68.0	72.9	73.6
Crude and petroleum products	16.2	16.8	11.9	11.7
Other Commodities	1.5	1.2	1.1	0.5

In 2015 - 16, if agriculture and allied products and manufactured goods percentages are added, it would be \_\_\_\_\_.

1. 84.5%
2. 85.0%
3. 85.5%
4. 86.0%

**Options :**

485584136405. 1  
485584136406. 2  
485584136407. 3  
485584136408. 4

Question Number : 247 Question Id : 48558434102 Question Type : MCQ Option Shuffling : No Is Question Mandatory : No Calculator : None Response Time : N.A Think Time : N.A Minimum Instruction Time : 0

Correct Marks : 5 Wrong Marks : 1

Question Key Details :

Key	Value
Comprehension	Comp2

भारत का निर्यात संघटन, 2009-2017

(निर्यात में प्रतिशत अंश)

वस्तुएँ / माल	2009-10	2010-11	2015-16	2016-17
कृषि एवं समवर्गी उत्पाद	10.0	9.9	12.6	12.3
अयस्क एवं खनिज	4.9	4.0	1.6	1.9
विनिर्मित वस्तुएँ	67.4	68.0	72.9	73.6
पेट्रोलियम व अपरिष्कृत उत्पाद	16.2	16.8	11.9	11.7
अन्य वस्तुएँ	1.5	1.2	1.1	0.5

2015 - 16 में, यदि कृषि एवं समवर्गी उत्पाद और विनिर्मित वस्तुओं के प्रतिशत को जोड़ा जाए तो वह \_\_\_\_\_ होगा।

1. 84.5%
2. 85.0%
3. 85.5%
4. 86.0%

Options :

485584136405. 1  
485584136406. 2  
485584136407. 3  
485584136408. 4

Question Number : 248 Question Id : 48558434103 Question Type : MCQ Option Shuffling : No Is Question Mandatory : No Calculator : None Response Time : N.A Think Time : N.A Minimum Instruction Time : 0

Correct Marks : 5 Wrong Marks : 1

Question Key Details :

Key	Value
Comprehension	Comp2

Study the given table carefully and answer the following question:

Composition of India's Export, 2009-2017

(Percentage share in Exports)

Commodities	2009-10	2010-11	2015-16	2016-17
Agriculture and allied products	10.0	9.9	12.6	12.3
Ore and Minerals	4.9	4.0	1.6	1.9
Manufactured goods	67.4	68.0	72.9	73.6
Crude and petroleum products	16.2	16.8	11.9	11.7
Other Commodities	1.5	1.2	1.1	0.5

Which of the following export commodities registered increasing trends from 2009 - 10 to 2010 - 11 ?

1. Ore and minerals and manufactured
2. Agriculture and allied product and crude and petroleum products
3. Manufactured goods and other commodities
4. Manufactured goods and crud and petroleum products

**Options :**

485584136409. 1  
485584136410. 2  
485584136411. 3  
485584136412. 4

**Question Number : 248 Question Id : 48558434103 Question Type : MCQ Option Shuffling : No Is Question Mandatory : No Calculator : None Response Time : N.A Think Time : N.A Minimum Instruction Time : 0**

**Correct Marks : 5 Wrong Marks : 1**

**Question Key Details :**

Key	Value
Comprehension	Comp2

भारत का निर्यात संघटन, 2009-2017

(निर्यात में प्रतिशत अंश)

वस्तुएँ / माल	2009-10	2010-11	2015-16	2016-17
कृषि एवं समवर्गी उत्पाद	10.0	9.9	12.6	12.3
अयस्क एवं खनिज	4.9	4.0	1.6	1.9
विनिर्मित वस्तुएँ	67.4	68.0	72.9	73.6
पैट्रोलियम व अपरिष्कृत उत्पाद	16.2	16.8	11.9	11.7
अन्य वस्तुएँ	1.5	1.2	1.1	0.5

2009 - 10 से 2010 - 11 में निम्न में से कौन सी निर्यातित वस्तु में वृद्धि की प्रवृत्ति दर्ज की गई है?

1. अयस्क एवं खनिज और पेट्रिलियम व अपरिष्कृत उत्पाद
2. कृषि एवं समवर्गी उत्पाद और पेट्रिलियम व अपरिष्कृत उत्पाद
3. विनिर्मित वस्तुएँ और अन्य उत्पाद पेट्रिलियम व अपरिष्कृत उत्पाद
4. विनिर्मित वस्तुएँ और पेट्रोलियम व अपरिष्कृत उत्पाद

**Options :**

485584136409. 1  
485584136410. 2  
485584136411. 3  
485584136412. 4

**Question Number : 249 Question Id : 48558434104 Question Type : MCQ Option Shuffling : No Is Question Mandatory : No Calculator : None Response Time : N.A Think Time : N.A Minimum Instruction Time : 0**

**Correct Marks : 5 Wrong Marks : 1**

**Question Key Details :**

Key	Value
Comprehension	Comp2

Study the given table carefully and answer the following question:

Composition of India's Export, 2009-2017

(Percentage share in Exports)

Commodities	2009-10	2010-11	2015-16	2016-17
Agriculture and allied products	10.0	9.9	12.6	12.3
Ore and Minerals	4.9	4.0	1.6	1.9
Manufactured goods	67.4	68.0	72.9	73.6
Crude and petroleum products	16.2	16.8	11.9	11.7
Other Commodities	1.5	1.2	1.1	0.5

Percentage increase in manufactured goods from 2010 - 11 to 2015 - 16 is reported by which one of the following ?

1. 1.9%
2. 2.9%
3. 3.9%
4. 4.9%

**Options :**

485584136413. 1  
485584136414. 2  
485584136415. 3

**Question Number : 249 Question Id : 48558434104 Question Type : MCQ Option Shuffling : No Is Question Mandatory : No Calculator : None Response Time : N.A Think Time : N.A Minimum Instruction Time : 0**

**Correct Marks : 5 Wrong Marks : 1**

**Question Key Details :**

Key	Value
Comprehension	Comp2

भारत का निर्यात संघटन, 2009-2017

(निर्यात में प्रतिशत अंश)

वस्तुएँ / माल	2009-10	2010-11	2015-16	2016-17
कृषि एवं समवर्गी उत्पाद	10.0	9.9	12.6	12.3
अयस्क एवं खनिज	4.9	4.0	1.6	1.9
विनिर्मित वस्तुएँ	67.4	68.0	72.9	73.6
पेट्रोलियम व अपरिष्कृत उत्पाद	16.2	16.8	11.9	11.7
अन्य वस्तुएँ	1.5	1.2	1.1	0.5

2010 - 11 से 2015 - 16 में विनिर्मित वस्तु में निम्नलिखित में से कितने प्रतिशत वृद्धि दर्ज की गई है?

1. 1.9%
2. 2.9%
3. 3.9%
4. 4.9%

**Options :**

485584136413. 1  
485584136414. 2  
485584136415. 3  
485584136416. 4

**Question Number : 250 Question Id : 48558434105 Question Type : MCQ Option Shuffling : No Is Question Mandatory : No Calculator : None Response Time : N.A Think Time : N.A Minimum Instruction Time : 0**

**Correct Marks : 5 Wrong Marks : 1**

**Question Key Details :**

Key	Value
Comprehension	Comp2



Study the given table carefully and answer the following question:

Composition of India's Export, 2009-2017

(Percentage share in Exports)

Commodities	2009-10	2010-11	2015-16	2016-17
Agriculture and allied products	10.0	9.9	12.6	12.3
Ore and Minerals	4.9	4.0	1.6	1.9
Manufactured goods	67.4	68.0	72.9	73.6
Crude and petroleum products	16.2	16.8	11.9	11.7
Other Commodities	1.5	1.2	1.1	0.5

The highest difference in percentage between, 2010 - 11 to 2015 - 16 is associated with which of the following categories ?

1. Agriculture and allied products
2. Ore and Minerals
3. Manufactured goods
4. Other Commodities

**Options :**

485584136417. 1  
485584136418. 2  
485584136419. 3  
485584136420. 4

**Question Number : 250 Question Id : 48558434105 Question Type : MCQ Option Shuffling : No Is Question Mandatory : No Calculator : None Response Time : N.A Think Time : N.A Minimum Instruction Time : 0**

**Correct Marks : 5 Wrong Marks : 1**

**Question Key Details :**

Key	Value
Comprehension	Comp2

भारत का निर्यात संघटन, 2009-2017

(निर्यात में प्रतिशत अंश)

वस्तुएँ / माल	2009-10	2010-11	2015-16	2016-17
कृषि एवं समवर्गी उत्पाद	10.0	9.9	12.6	12.3
अयस्क एवं खनिज	4.9	4.0	1.6	1.9
विनिर्मित वस्तुएँ	67.4	68.0	72.9	73.6
पैट्रोलियम व अपरिष्कृत उत्पाद	16.2	16.8	11.9	11.7
अन्य वस्तुएँ	1.5	1.2	1.1	0.5

2010-15 से 2015-16 के मध्य प्रतिशत का सर्वाधिक अन्तर निम्नलिखित किस वर्ग से संबंधित है?

1. कृषि एवं समवर्गी उत्पाद
2. अयस्क एवं खनिज
3. विनिर्मित वस्तुएँ
4. अन्य वस्तुएँ

**Options :**

485584136417. 1  
485584136418. 2  
485584136419. 3  
485584136420. 4

### History

Group Number :	10
Group Id :	485584777
Group Maximum Duration :	45
Group Minimum Duration :	45
Show Attended Group? :	No
Edit Attended Group? :	No
Break time :	0
Group Marks :	200
Is this Group for Examiner? :	No
Examiner permission :	Cant View
Show Progress Bar? :	No

### History

Section Id :	485584895
Section Number :	1
Section type :	Online
Mandatory or Optional :	Mandatory
Number of Questions :	50
Number of Questions to be attempted :	40
Section Marks :	200
Enable Mark as Answered Mark for Review and Clear Response :	Yes
Maximum Instruction Time :	0
Sub-Section Number :	1
Sub-Section Id :	4855842539
Question Shuffling Allowed :	Yes
Is Section Default? :	null

Question Number : 251 Question Id : 48558434156 Question Type : MCQ Option Shuffling : No Is Question Mandatory : No  
No Calculator : None Response Time : N.A Think Time : N.A Minimum Instruction Time : 0

Correct Marks : 5 Wrong Marks : 1

Question Key Details :

Key	Value
-----	-------

Which of the following is **NOT True** of the 'Objectives Resolution'?

1. It proclaimed India to be an 'Independent Sovereign Republic'.
2. It guaranteed its citizens justice, equality and freedom.
3. Nehru located history of Constitution-making in India within a longer history of struggle for liberty and freedom.
4. The ideas and provisions of the Constitution introduced in India could be derived colonial past.

**Options :**

485584136621. 1  
485584136622. 2  
485584136623. 3  
485584136624. 4

**Question Number : 251 Question Id : 48558434156 Question Type : MCQ Option Shuffling : No Is Question Mandatory : No Calculator : None Response Time : N.A Think Time : N.A Minimum Instruction Time : 0**

**Correct Marks : 5 Wrong Marks : 1**

**Question Key Details :**

Key	Value
Comprehension	MCQ

निम्नलिखित में से कौन 'उद्देश्य संकल्प' (प्रस्ताव) के बारे में **सही नहीं** है?

1. इसमें घोषणा की गयी कि भारत एक 'स्वतंत्र संप्रभु गणराज्य' होगा।
2. इसमें अपने देश के नागरिकों को न्याय, समानता और स्वतंत्रता की गारंटी दी गयी थी।
3. नेहरु ने भारत के संविधान-निर्माण के इतिहास को स्वतंत्रता एवं आजादी के लिए किये गए संघर्ष के वृहत इतिहास के तहत स्थापित किया।
4. भारत में लागू किये गए संविधान के आदर्श एवं प्रावधान, औपनिवेशिक अतीत में ढूँढे जा सकते हैं।

**Options :**

485584136621. 1  
485584136622. 2  
485584136623. 3  
485584136624. 4

**Question Number : 252 Question Id : 48558434157 Question Type : MCQ Option Shuffling : No Is Question Mandatory : No Calculator : None Response Time : N.A Think Time : N.A Minimum Instruction Time : 0**

**Correct Marks : 5 Wrong Marks : 1**

**Question Key Details :**

Key	Value
Comprehension	MCQ

The 'Constituent Assembly' was composed of how many members?

1. 250
2. 120
3. 300
4. 522

**Options :**

485584136625. 1  
485584136626. 2  
485584136627. 3  
485584136628. 4

**Question Number : 252 Question Id : 48558434157 Question Type : MCQ Option Shuffling : No Is Question Mandatory : No Calculator : None Response Time : N.A Think Time : N.A Minimum Instruction Time : 0**

**Correct Marks : 5 Wrong Marks : 1**

**Question Key Details :**

Key	Value
Comprehension	MCQ

'संविधान सभा' में कितने सदस्य थे?

1. 250
2. 120
3. 300
4. 522

**Options :**

485584136625. 1  
485584136626. 2  
485584136627. 3  
485584136628. 4

**Question Number : 253 Question Id : 48558434158 Question Type : MCQ Option Shuffling : No Is Question Mandatory : No Calculator : None Response Time : N.A Think Time : N.A Minimum Instruction Time : 0**

**Correct Marks : 5 Wrong Marks : 1**

**Question Key Details :**

Key	Value
Comprehension	MCQ

The 'Great Calcutta Killings' took place in which year?

1. 1946
2. 1945
3. 1947
4. 1943

**Options :**

485584136629. 1  
485584136630. 2  
485584136631. 3  
485584136632. 4

**Question Number : 253 Question Id : 48558434158 Question Type : MCQ Option Shuffling : No Is Question Mandatory : No Calculator : None Response Time : N.A Think Time : N.A Minimum Instruction Time : 0**

**Correct Marks : 5 Wrong Marks : 1**

**Question Key Details :**

Key	Value
Comprehension	MCQ

व्यापक स्तर पर कलकत्ता में हत्याएं (ग्रेट कलकत्ता किलिंग) निम्नांकित किस वर्ष में हुई थी?

1. 1946
2. 1945
3. 1947
4. 1943

**Options :**

485584136629. 1  
485584136630. 2  
485584136631. 3  
485584136632. 4

**Question Number : 254 Question Id : 48558434159 Question Type : MCQ Option Shuffling : No Is Question Mandatory : No Calculator : None Response Time : N.A Think Time : N.A Minimum Instruction Time : 0**

**Correct Marks : 5 Wrong Marks : 1**

**Question Key Details :**

Key	Value
Comprehension	MCQ

Which Governor General adopted policies that abolished 'Sati'?

1. Henry Hardings
2. William Bentinck
3. Canning
4. Dalhousie

**Options :**

485584136633. 1  
485584136634. 2  
485584136635. 3  
485584136636. 4

**Question Number : 254 Question Id : 48558434159 Question Type : MCQ Option Shuffling : No Is Question Mandatory : No Calculator : None Response Time : N.A Think Time : N.A Minimum Instruction Time : 0**

**Correct Marks : 5 Wrong Marks : 1**

**Question Key Details :**

Key	Value
Comprehension	MCQ

'सती' प्रथा के उन्मूलन हेतु किस गवर्नर जनरल ने नीतियों को क्रियान्वित (अपनाया) किया?

1. हेनरी हार्डिंग
2. विलियम बेंटिक
3. कैनिंग
4. डलहौजी

**Options :**

485584136633. 1  
485584136634. 2  
485584136635. 3  
485584136636. 4

**Question Number : 255 Question Id : 48558434160 Question Type : MCQ Option Shuffling : No Is Question Mandatory : No Calculator : None Response Time : N.A Think Time : N.A Minimum Instruction Time : 0**

**Correct Marks : 5 Wrong Marks : 1**

**Question Key Details :**

Key	Value
Comprehension	MCQ

Who wrote one of the earliest histories of the Uprising of 1857?

1. Francis Grant
2. Captain Hearsey
3. Charles Ball
4. Colin Campbell

**Options :**

485584136637. 1  
485584136638. 2  
485584136639. 3  
485584136640. 4

**Question Number : 255 Question Id : 48558434160 Question Type : MCQ Option Shuffling : No Is Question Mandatory : No Calculator : None Response Time : N.A Think Time : N.A Minimum Instruction Time : 0**

**Correct Marks : 5 Wrong Marks : 1**

**Question Key Details :**

Key	Value
Comprehension	MCQ

निम्नलिखित में से किसने 1857 के विद्रोह से संबंधित आरंभिक इतिहास का लेखन किया?

1. फ्रांसिस ग्रांट
2. कैप्टन हियर्से
3. चार्ल्स बॉल
4. कॉलिन कैम्पेबल

**Options :**

485584136637. 1  
485584136638. 2  
485584136639. 3  
485584136640. 4

**Question Number : 256 Question Id : 48558434161 Question Type : MCQ Option Shuffling : No Is Question Mandatory : No Calculator : None Response Time : N.A Think Time : N.A Minimum Instruction Time : 0**

**Correct Marks : 5 Wrong Marks : 1**

**Question Key Details :**

Key	Value
Comprehension	MCQ

Which region was known as the 'nursery of the Bengal Army' as many sepoys were recruited from the region?

1. Jhansi
2. Satara
3. Awadh
4. Delhi

**Options :**

485584136641. 1  
485584136642. 2  
485584136643. 3  
485584136644. 4

**Question Number : 256 Question Id : 48558434161 Question Type : MCQ Option Shuffling : No Is Question Mandatory : No Calculator : None Response Time : N.A Think Time : N.A Minimum Instruction Time : 0**

**Correct Marks : 5 Wrong Marks : 1**

**Question Key Details :**

Key	Value
Comprehension	MCQ

निम्नलिखित कौन-सा क्षेत्र (भूभाग) "बंगाल सेना की नर्सरी" के रूप में जाना जाता था क्योंकि उस क्षेत्र से बहुत से सिपाहियों की भर्ती की गयी थी?

1. झाँसी
2. सतारा
3. अवध
4. दिल्ली

**Options :**

485584136641. 1  
485584136642. 2  
485584136643. 3  
485584136644. 4

**Question Number : 257 Question Id : 48558434162 Question Type : MCQ Option Shuffling : No Is Question Mandatory : No Calculator : None Response Time : N.A Think Time : N.A Minimum Instruction Time : 0**

**Correct Marks : 5 Wrong Marks : 1**

**Question Key Details :**

Key	Value
Comprehension	MCQ



Where was the 'Summary Settlement' of 1856 imposed?

1. Jhansi
2. Bengal
3. Kanpur
4. Awadh

**Options :**

485584136645. 1  
485584136646. 2  
485584136647. 3  
485584136648. 4

**Question Number : 257 Question Id : 48558434162 Question Type : MCQ Option Shuffling : No Is Question Mandatory : No Calculator : None Response Time : N.A Think Time : N.A Minimum Instruction Time : 0**

**Correct Marks : 5 Wrong Marks : 1**

**Question Key Details :**

Key	Value
Comprehension	MCQ

1856 का 'एकमुश्त बंदोबस्त' कहाँ प्रवर्तित (लागू) किया गया था?

1. झाँसी
2. बंगाल
3. कानपूर
4. अवध

**Options :**

485584136645. 1  
485584136646. 2  
485584136647. 3  
485584136648. 4

**Question Number : 258 Question Id : 48558434163 Question Type : MCQ Option Shuffling : No Is Question Mandatory : No Calculator : None Response Time : N.A Think Time : N.A Minimum Instruction Time : 0**

**Correct Marks : 5 Wrong Marks : 1**

**Question Key Details :**

Key	Value
Comprehension	MCQ

Who went around mobilising the headman and cultivators of Chaurasee des (eighty-four villages) in 1857?

1. Maului Ahmadullah Shah
2. Henry Lawrence
3. Hanwant Singh
4. Shah Mal

**Options :**

485584136649. 1  
485584136650. 2  
485584136651. 3  
485584136652. 4

**Question Number : 258 Question Id : 48558434163 Question Type : MCQ Option Shuffling : No Is Question Mandatory : No Calculator : None Response Time : N.A Think Time : N.A Minimum Instruction Time : 0**

**Correct Marks : 5 Wrong Marks : 1**

**Question Key Details :**

Key	Value
Comprehension	MCQ

1857 में निम्नलिखित में से किसने चौरासी देश के मुखिया एवं कृषकों को लामबंद किया?

1. मौलवी अहमदउल्ला शाह
2. हेनरी लॉरेंस
3. हनवंत सिंह
4. शाह मल

**Options :**

485584136649. 1  
485584136650. 2  
485584136651. 3  
485584136652. 4

**Question Number : 259 Question Id : 48558434164 Question Type : MCQ Option Shuffling : No Is Question Mandatory : No Calculator : None Response Time : N.A Think Time : N.A Minimum Instruction Time : 0**

**Correct Marks : 5 Wrong Marks : 1**

**Question Key Details :**

Key	Value
Comprehension	MCQ

Colonial rule was first established in which part of India?

1. Bombay
2. Madras
3. Bengal
4. Punjab

**Options :**

485584136653. 1  
485584136654. 2  
485584136655. 3  
485584136656. 4

**Question Number : 259 Question Id : 48558434164 Question Type : MCQ Option Shuffling : No Is Question Mandatory : No Calculator : None Response Time : N.A Think Time : N.A Minimum Instruction Time : 0**

**Correct Marks : 5 Wrong Marks : 1**

**Question Key Details :**

Key	Value
Comprehension	MCQ

भारत के किस भू-क्षेत्र में पहली बार औपनिवेशक शासन की स्थापना हुई?

1. बम्बई
2. मद्रास
3. बंगाल
4. पंजाब

**Options :**

485584136653. 1  
485584136654. 2  
485584136655. 3  
485584136656. 4

**Question Number : 260 Question Id : 48558434165 Question Type : MCQ Option Shuffling : No Is Question Mandatory : No Calculator : None Response Time : N.A Think Time : N.A Minimum Instruction Time : 0**

**Correct Marks : 5 Wrong Marks : 1**

**Question Key Details :**

Key	Value
Comprehension	MCQ

Colonial officials were strongly influenced by the ideas of which British economic thinker in 19th-century?

1. Adam Smith
2. J. M. Keynes
3. David Ricardo
4. Thomas Paine

**Options :**

485584136657. 1  
485584136658. 2  
485584136659. 3  
485584136660. 4

**Question Number : 260 Question Id : 48558434165 Question Type : MCQ Option Shuffling : No Is Question Mandatory : No Calculator : None Response Time : N.A Think Time : N.A Minimum Instruction Time : 0**

**Correct Marks : 5 Wrong Marks : 1**

**Question Key Details :**

Key	Value
Comprehension	MCQ

19 वीं सदी में किस अंग्रेजी अर्थशास्त्री के विचारों से औपनिवेशक अधिकारी बहुत अधिक प्रभावित थे?

1. एडम स्मिथ
2. जे. एम. कीन्स
3. डेविड रिकार्डो
4. थॉमस पैन

**Options :**

485584136657. 1  
485584136658. 2  
485584136659. 3  
485584136660. 4

**Question Number : 261 Question Id : 48558434166 Question Type : MCQ Option Shuffling : No Is Question Mandatory : No Calculator : None Response Time : N.A Think Time : N.A Minimum Instruction Time : 0**

**Correct Marks : 5 Wrong Marks : 1**

**Question Key Details :**

Key	Value
Comprehension	MCQ

Where was Satyajit Ray's 'Jalsaghar' filmed?

1. Andul Raj Palace
2. City Palace
3. Rajmahal
4. Jangal Mahal

**Options :**

485584136661. 1  
485584136662. 2  
485584136663. 3  
485584136664. 4

**Question Number : 261 Question Id : 48558434166 Question Type : MCQ Option Shuffling : No Is Question Mandatory : No Calculator : None Response Time : N.A Think Time : N.A Minimum Instruction Time : 0**

**Correct Marks : 5 Wrong Marks : 1**

**Question Key Details :**

Key	Value
Comprehension	MCQ

सत्यजित रॉय की फिल्म 'जलसागर' को कहाँ पर फिल्माया गया?

1. अंडुल राजमहल
2. सिटी पैलेस
3. राजमहल
4. जंगलमहल

**Options :**

485584136661. 1  
485584136662. 2  
485584136663. 3  
485584136664. 4

**Question Number : 262 Question Id : 48558434167 Question Type : MCQ Option Shuffling : No Is Question Mandatory : No Calculator : None Response Time : N.A Think Time : N.A Minimum Instruction Time : 0**

**Correct Marks : 5 Wrong Marks : 1**

**Question Key Details :**

Key	Value
Comprehension	MCQ

Who wrote 'Char Chaman': describing the Mughal nobility?

1. Chandrabahan Barahman
2. Antonio Monserrate
3. Abu'l Hasan
4. Muhammad Husayn

**Options :**

485584136665. 1  
485584136666. 2  
485584136667. 3  
485584136668. 4

**Question Number : 262 Question Id : 48558434167 Question Type : MCQ Option Shuffling : No Is Question Mandatory : No Calculator : None Response Time : N.A Think Time : N.A Minimum Instruction Time : 0**

**Correct Marks : 5 Wrong Marks : 1**

**Question Key Details :**

Key	Value
Comprehension	MCQ

मुगल अभिजात्य का वर्णन करने वाली कृति 'चार चमन' का किसने लेखन किया?

1. चन्द्रभान ब्राह्मण
2. अंतोनियो मानसेरेते
3. अबुल हसन
4. मुहम्मद हुसैन

**Options :**

485584136665. 1  
485584136666. 2  
485584136667. 3  
485584136668. 4

**Question Number : 263 Question Id : 48558434168 Question Type : MCQ Option Shuffling : No Is Question Mandatory : No Calculator : None Response Time : N.A Think Time : N.A Minimum Instruction Time : 0**

**Correct Marks : 5 Wrong Marks : 1**

**Question Key Details :**

Key	Value
Comprehension	MCQ

Which chronicle was gifted by Nawab of Awadh to King George III in 1799.

1. Akbarnama
2. Shahjahan Nama
3. Badshah Nama
4. Alamgir Nama

**Options :**

485584136669. 1  
485584136670. 2  
485584136671. 3  
485584136672. 4

**Question Number : 263 Question Id : 48558434168 Question Type : MCQ Option Shuffling : No Is Question Mandatory : No Calculator : None Response Time : N.A Think Time : N.A Minimum Instruction Time : 0**

**Correct Marks : 5 Wrong Marks : 1**

**Question Key Details :**

Key	Value
Comprehension	MCQ

अवध के नवाब द्वारा निम्नलिखित कौन-से इतिवृत्त (इतिहास) को 1799 में किंग जार्ज III को उपहार रूप में दिया गया।

1. अकबरनामा
2. शाहजहाँनामा
3. बादशाहनामा
4. अलमगीर नामा

**Options :**

485584136669. 1  
485584136670. 2  
485584136671. 3  
485584136672. 4

**Question Number : 264 Question Id : 48558434169 Question Type : MCQ Option Shuffling : No Is Question Mandatory : No Calculator : None Response Time : N.A Think Time : N.A Minimum Instruction Time : 0**

**Correct Marks : 5 Wrong Marks : 1**

**Question Key Details :**

Key	Value
Comprehension	MCQ

What was the meaning of 'Jangama' in 12th-century Karnataka?

1. Sayings
2. Wandering Monks
3. Incarnations
4. Four Thousand Sacred Compositions

**Options :**

485584136673. 1  
485584136674. 2  
485584136675. 3  
485584136676. 4

**Question Number : 264 Question Id : 48558434169 Question Type : MCQ Option Shuffling : No Is Question Mandatory : No Calculator : None Response Time : N.A Think Time : N.A Minimum Instruction Time : 0**

**Correct Marks : 5 Wrong Marks : 1**

**Question Key Details :**

Key	Value
Comprehension	MCQ

12 वीं शताब्दी में कर्नाटक में 'जंगम' का क्या अभिप्राय था?

1. कहावते
2. यायावार भिक्षु
3. अवतार
4. चार हजार पवित्र संरचनाएँ (कृतियाँ)

**Options :**

485584136673. 1  
485584136674. 2  
485584136675. 3  
485584136676. 4

**Question Number : 265 Question Id : 48558434170 Question Type : MCQ Option Shuffling : No Is Question Mandatory : No Calculator : None Response Time : N.A Think Time : N.A Minimum Instruction Time : 0**

**Correct Marks : 5 Wrong Marks : 1**

**Question Key Details :**

Key	Value
Comprehension	MCQ



'Kabir Granthavali' is associated with which of the following traditions?

1. Kabirpanth in Varanasi
2. Dadupanth in Rajasthan
3. Kabirpanth in Bengal
4. Kabirvani in Adi Granth Sahib

**Options :**

485584136677. 1  
485584136678. 2  
485584136679. 3  
485584136680. 4

**Question Number : 265 Question Id : 48558434170 Question Type : MCQ Option Shuffling : No Is Question Mandatory : No Calculator : None Response Time : N.A Think Time : N.A Minimum Instruction Time : 0**

**Correct Marks : 5 Wrong Marks : 1**

**Question Key Details :**

Key	Value
Comprehension	MCQ

'कबीर ग्रन्थावली' निम्नलिखित किस परम्परा (प्रथा) से संबंधित है?

1. वाराणसी के कबीरपंथ से
2. राजस्थान के दादूपन्थ से
3. बंगाल के कबीरपंथ से
4. आदिग्रन्थ साहिब की कबीरवाणी से

**Options :**

485584136677. 1  
485584136678. 2  
485584136679. 3  
485584136680. 4

**Question Number : 266 Question Id : 48558434171 Question Type : MCQ Option Shuffling : No Is Question Mandatory : No Calculator : None Response Time : N.A Think Time : N.A Minimum Instruction Time : 0**

**Correct Marks : 5 Wrong Marks : 1**

**Question Key Details :**

Key	Value
Comprehension	MCQ

'Malfuzat' an important source for constructing history is \_\_\_\_\_.

1. A record of conversations of sufi saints.
2. A record of agrarian tax.
3. A record of kings announcement.
4. A collection of letters written by sufi saints.

**Options :**

485584136681. 1  
485584136682. 2  
485584136683. 3  
485584136684. 4

**Question Number : 266 Question Id : 48558434171 Question Type : MCQ Option Shuffling : No Is Question Mandatory : No Calculator : None Response Time : N.A Think Time : N.A Minimum Instruction Time : 0**

**Correct Marks : 5 Wrong Marks : 1**

**Question Key Details :**

Key	Value
Comprehension	MCQ

इतिहास लेखन का एक महत्वपूर्ण स्रोत 'मुलफुज़ात' \_\_\_\_\_ है।

1. सूफ़ी संतों की बातचीत का रिकार्ड (लेख)।
2. कृषि कर का रिकार्ड (लेख)।
3. राजाओं की घोषणा का रिकार्ड (लेख)।
4. सूफ़ी संतों द्वारा लिखे गए पत्रों का संग्रह।

**Options :**

485584136681. 1  
485584136682. 2  
485584136683. 3  
485584136684. 4

**Question Number : 267 Question Id : 48558434172 Question Type : MCQ Option Shuffling : No Is Question Mandatory : No Calculator : None Response Time : N.A Think Time : N.A Minimum Instruction Time : 0**

**Correct Marks : 5 Wrong Marks : 1**

**Question Key Details :**

Key	Value
Comprehension	MCQ

Who described Mughal cities of the 17th-century as 'Camp Towns'?

1. Francois Bernier
2. Pelsaert
3. Abu'l Fazl
4. Karl Marx

**Options :**

485584136685. 1  
485584136686. 2  
485584136687. 3  
485584136688. 4

**Question Number : 267 Question Id : 48558434172 Question Type : MCQ Option Shuffling : No Is Question Mandatory : No Calculator : None Response Time : N.A Think Time : N.A Minimum Instruction Time : 0**

**Correct Marks : 5 Wrong Marks : 1**

**Question Key Details :**

Key	Value
Comprehension	MCQ

17वीं सदी के मुगलकालीन शहरों (नगरों)को किसने 'कैम्प टाउन' (शिविर नगर )के रूप में वर्णन किया है?

1. फ्रांस्वा बर्नियर
2. पेलसार्ट
3. अबुल फज़ल
4. कार्ल मार्क्स

**Options :**

485584136685. 1  
485584136686. 2  
485584136687. 3  
485584136688. 4

**Question Number : 268 Question Id : 48558434173 Question Type : MCQ Option Shuffling : No Is Question Mandatory : No Calculator : None Response Time : N.A Think Time : N.A Minimum Instruction Time : 0**

**Correct Marks : 5 Wrong Marks : 1**

**Question Key Details :**

Key	Value
Comprehension	MCQ

Who among the following were known as 'materialists' in Sixth BCE India.

1. Ajivikas
2. Lokayatas
3. Buddhists
4. Jains

**Options :**

485584136689. 1  
485584136690. 2  
485584136691. 3  
485584136692. 4

**Question Number : 268 Question Id : 48558434173 Question Type : MCQ Option Shuffling : No Is Question Mandatory : No Calculator : None Response Time : N.A Think Time : N.A Minimum Instruction Time : 0**

**Correct Marks : 5 Wrong Marks : 1**

**Question Key Details :**

Key	Value
Comprehension	MCQ

निम्नलिखित में से कौन छठी शताब्दी ईसापूर्व भारत में 'भौतिकवादी' के रूप में जाने जाते थे?

1. आजीविक
2. लोकायत
3. बौद्ध
4. जैन

**Options :**

485584136689. 1  
485584136690. 2  
485584136691. 3  
485584136692. 4

**Question Number : 269 Question Id : 48558434174 Question Type : MCQ Option Shuffling : No Is Question Mandatory : No Calculator : None Response Time : N.A Think Time : N.A Minimum Instruction Time : 0**

**Correct Marks : 5 Wrong Marks : 1**

**Question Key Details :**

Key	Value
Comprehension	MCQ

Which amongst the following is another name for the 'Buddha'?

1. Tirthankara
2. Theragatha
3. Theravadva
4. Tathagatha

**Options :**

485584136693. 1  
485584136694. 2  
485584136695. 3  
485584136696. 4

**Question Number : 269 Question Id : 48558434174 Question Type : MCQ Option Shuffling : No Is Question Mandatory : No Calculator : None Response Time : N.A Think Time : N.A Minimum Instruction Time : 0**

**Correct Marks : 5 Wrong Marks : 1**

**Question Key Details :**

Key	Value
Comprehension	MCQ

निम्नलिखित में से कौन-सा 'बुद्ध' का दूसरा नाम है?

1. तीर्थकर
2. थेरगाथा
3. थेरवाद
4. तथागत

**Options :**

485584136693. 1  
485584136694. 2  
485584136695. 3  
485584136696. 4

**Question Number : 270 Question Id : 48558434175 Question Type : MCQ Option Shuffling : No Is Question Mandatory : No Calculator : None Response Time : N.A Think Time : N.A Minimum Instruction Time : 0**

**Correct Marks : 5 Wrong Marks : 1**

**Question Key Details :**

Key	Value
Comprehension	MCQ

Who was the first women to be ordained as a 'Bhikkhuni'?

1. Yasodhara
2. Purna
3. Radha
4. Mahapajapati Gotami

**Options :**

485584136697. 1  
485584136698. 2  
485584136699. 3  
485584136700. 4

**Question Number : 270 Question Id : 48558434175 Question Type : MCQ Option Shuffling : No Is Question Mandatory : No Calculator : None Response Time : N.A Think Time : N.A Minimum Instruction Time : 0**

**Correct Marks : 5 Wrong Marks : 1**

**Question Key Details :**

Key	Value
Comprehension	MCQ

निम्नलिखित में से कौन-सी महिला को प्रथम 'भिक्षुनी' के रूप में मान्यता मिली?

1. यशोधरा
2. पुन्न
3. राधा
4. महापजापति गोतमी

**Options :**

485584136697. 1  
485584136698. 2  
485584136699. 3  
485584136700. 4

**Question Number : 271 Question Id : 48558434176 Question Type : MCQ Option Shuffling : No Is Question Mandatory : No Calculator : None Response Time : N.A Think Time : N.A Minimum Instruction Time : 0**

**Correct Marks : 5 Wrong Marks : 1**

**Question Key Details :**

Key	Value
Comprehension	MCQ

Which of the following suggests that many people who turned to buddhists enriched it with their own Pre-Buddhist beliefs, practices and ideas?

1. Wheel of Dharma
2. Jataka Scenes
3. Shalabhanjika
4. Mahaparinibbana

**Options :**

485584136701. 1  
485584136702. 2  
485584136703. 3  
485584136704. 4

**Question Number : 271 Question Id : 48558434176 Question Type : MCQ Option Shuffling : No Is Question Mandatory : No Calculator : None Response Time : N.A Think Time : N.A Minimum Instruction Time : 0**

**Correct Marks : 5 Wrong Marks : 1**

**Question Key Details :**

Key	Value
Comprehension	MCQ

निम्नलिखित में से कौन-सा संकेत चिन्ह से यह पता चलता है कि अनेक लोग जिन्होंने बौद्ध धर्म ग्रहण किया वे इसे अपने स्वयं के बौद्ध-पूर्व के विश्वासों, प्रथाओं एवं विचारों से समृद्ध बनाएं।

1. धर्म चक्र
2. जातक दृश्य
3. शालभंजिका
4. महाप्रिनिब्बान

**Options :**

485584136701. 1  
485584136702. 2  
485584136703. 3  
485584136704. 4

**Question Number : 272 Question Id : 48558434177 Question Type : MCQ Option Shuffling : No Is Question Mandatory : No Calculator : None Response Time : N.A Think Time : N.A Minimum Instruction Time : 0**

**Correct Marks : 5 Wrong Marks : 1**

**Question Key Details :**

Key	Value
Comprehension	MCQ

Who led a team of dozen scholars in collecting Sanskrit manuscripts and preparing a critical edition of the 'Mahabharata'?

1. V. S. Wakankar
2. B. B. Lal
3. V. S. Sukthankar
4. V. A. Smith

**Options :**

485584136705. 1  
485584136706. 2  
485584136707. 3  
485584136708. 4

**Question Number : 272 Question Id : 48558434177 Question Type : MCQ Option Shuffling : No Is Question Mandatory : No Calculator : None Response Time : N.A Think Time : N.A Minimum Instruction Time : 0**

**Correct Marks : 5 Wrong Marks : 1**

**Question Key Details :**

Key	Value
Comprehension	MCQ

निम्नलिखित में से किसने दर्जन भर विद्वानों के एक दल का नेतृत्व संस्कृत की पांडुलिपियों को एकत्र करने एवं 'महाभारत' के एक महत्वपूर्ण संस्करण को तैयार करने के लिए किया?

1. डब्लू. एस. वाकणकर
2. बी. बी. लाल
3. वी. एस. सुक्थांकर
4. वी. ए. स्मिथ

**Options :**

485584136705. 1  
485584136706. 2  
485584136707. 3  
485584136708. 4

**Question Number : 273 Question Id : 48558434178 Question Type : MCQ Option Shuffling : No Is Question Mandatory : No Calculator : None Response Time : N.A Think Time : N.A Minimum Instruction Time : 0**

**Correct Marks : 5 Wrong Marks : 1**

**Question Key Details :**

Key	Value
Comprehension	MCQ



Asokan inscriptions in the North-West of the subcontinent were written in which of the following languages?

1. Prakrit
2. Pali
3. Aramaic
4. Arad-Magadhi

**Options :**

485584136709. 1  
485584136710. 2  
485584136711. 3  
485584136712. 4

**Question Number : 273 Question Id : 48558434178 Question Type : MCQ Option Shuffling : No Is Question Mandatory : No Calculator : None Response Time : N.A Think Time : N.A Minimum Instruction Time : 0**

**Correct Marks : 5 Wrong Marks : 1**

**Question Key Details :**

Key	Value
Comprehension	MCQ

उपमहाद्वीप के पश्चिमोत्तर में अवस्थित अशोक के अभिलेख निम्नलिखित किस भासा में लिखे गए थे?

1. प्राकृत
2. पालि
3. आरमेइक
4. अर्ध-मागधी

**Options :**

485584136709. 1  
485584136710. 2  
485584136711. 3  
485584136712. 4

**Question Number : 274 Question Id : 48558434179 Question Type : MCQ Option Shuffling : No Is Question Mandatory : No Calculator : None Response Time : N.A Think Time : N.A Minimum Instruction Time : 0**

**Correct Marks : 5 Wrong Marks : 1**

**Question Key Details :**

Key	Value
Comprehension	MCQ

Which of the following time period is related to the emergence of early states in Indian history?

1. First Century BCE
2. Sixth Century BCE
3. Eighth Century BCE
4. Tenth Century BCE

**Options :**

485584136713. 1  
485584136714. 2  
485584136715. 3  
485584136716. 4

**Question Number : 274 Question Id : 48558434179 Question Type : MCQ Option Shuffling : No Is Question Mandatory : No Calculator : None Response Time : N.A Think Time : N.A Minimum Instruction Time : 0**

**Correct Marks : 5 Wrong Marks : 1**

**Question Key Details :**

Key	Value
Comprehension	MCQ

निम्नलिखित में से कौन-सा समयकाल भारतीय इतिहास में आरंभिक राज्यों के उद्भव से संबंधित है?

1. प्रथम शताब्दी ईसा-पूर्व
2. छठी शताब्दी ईसा-पूर्व
3. आठवीं शताब्दी ईसा-पूर्व
4. दसवीं शताब्दी ईसा-पूर्व

**Options :**

485584136713. 1  
485584136714. 2  
485584136715. 3  
485584136716. 4

**Question Number : 275 Question Id : 48558434180 Question Type : MCQ Option Shuffling : No Is Question Mandatory : No Calculator : None Response Time : N.A Think Time : N.A Minimum Instruction Time : 0**

**Correct Marks : 5 Wrong Marks : 1**

**Question Key Details :**

Key	Value
Comprehension	MCQ

The 'Prayag Prashasti' was composed by the court poet of which of the following rings?

1. Chandragupta
2. Chandragupta Vikramaditya
3. Samudragupta
4. Skandagupta

**Options :**

485584136717. 1  
485584136718. 2  
485584136719. 3  
485584136720. 4

**Question Number : 275 Question Id : 48558434180 Question Type : MCQ Option Shuffling : No Is Question Mandatory : No Calculator : None Response Time : N.A Think Time : N.A Minimum Instruction Time : 0**

**Correct Marks : 5 Wrong Marks : 1**

**Question Key Details :**

Key	Value
Comprehension	MCQ

निम्नलिखित किस राजा (सम्राट) के दरबारी कवि द्वारा 'प्रयाग प्रशस्ति' की रचना की गई थी?

1. चंद्रगुप्त
2. चंद्रगुप्त विक्रमादित्य
3. समुद्रगुप्त
4. स्कंदगुप्त

**Options :**

485584136717. 1  
485584136718. 2  
485584136719. 3  
485584136720. 4

**Question Number : 276 Question Id : 48558434181 Question Type : MCQ Option Shuffling : No Is Question Mandatory : No Calculator : None Response Time : N.A Think Time : N.A Minimum Instruction Time : 0**

**Correct Marks : 5 Wrong Marks : 1**

**Question Key Details :**

Key	Value
Comprehension	MCQ

Nageshwar and Balakot settlement near the coast in the Harappan Civilisation served as \_\_\_\_\_.

1. Sources of Carnelian
2. Sources of Lapis Lazuli
3. Centre of shell production
4. Sources of gold

**Options :**

485584136721. 1  
485584136722. 2  
485584136723. 3  
485584136724. 4

**Question Number : 276 Question Id : 48558434181 Question Type : MCQ Option Shuffling : No Is Question Mandatory : No Calculator : None Response Time : N.A Think Time : N.A Minimum Instruction Time : 0**

**Correct Marks : 5 Wrong Marks : 1**

**Question Key Details :**

Key	Value
Comprehension	MCQ

हड़प्पा सभ्यता के समय तटीय क्षेत्र में अवस्थित नागेश्वर एवं बालाकोट नामक बस्तियों से निम्नलिखित क्या प्राप्त होता है

1. कार्नीलियन के स्रोत
2. लाजवर्द मणि के स्रोत
3. शंख से बनी वस्तुओं के उत्पादन के स्रोत
4. स्वर्ण के स्रोत

**Options :**

485584136721. 1  
485584136722. 2  
485584136723. 3  
485584136724. 4

**Question Number : 277 Question Id : 48558434182 Question Type : MCQ Option Shuffling : No Is Question Mandatory : No Calculator : None Response Time : N.A Think Time : N.A Minimum Instruction Time : 0**

**Correct Marks : 5 Wrong Marks : 1**

**Question Key Details :**

Key	Value
Comprehension	MCQ

Evidence of a ploughed field comes from which of the following Harrapan site?

1. Cholistan
2. Amri-Nal
3. Kalibangan
4. Harappa

**Options :**

485584136725. 1  
485584136726. 2  
485584136727. 3  
485584136728. 4

**Question Number : 277 Question Id : 48558434182 Question Type : MCQ Option Shuffling : No Is Question Mandatory : No Calculator : None Response Time : N.A Think Time : N.A Minimum Instruction Time : 0**

**Correct Marks : 5 Wrong Marks : 1**

**Question Key Details :**

Key	Value
Comprehension	MCQ

निम्नलिखित किस हड़प्पाई स्थल से जुते हुए खेत के साक्ष्य प्राप्त होते हैं?

1. चोलिस्तान
2. आमरी-नाल
3. कालीबंगन
4. हड़प्पा

**Options :**

485584136725. 1  
485584136726. 2  
485584136727. 3  
485584136728. 4

**Question Number : 278 Question Id : 48558434183 Question Type : MCQ Option Shuffling : No Is Question Mandatory : No Calculator : None Response Time : N.A Think Time : N.A Minimum Instruction Time : 0**

**Correct Marks : 5 Wrong Marks : 1**

**Question Key Details :**

Key	Value
Comprehension	MCQ

Match List I with List II:

LIST I		LIST II	
A.	Dakshyani Velayudhan	I.	Hindustani as language of nation
B.	Hansa Mehta	II.	Removal of social disabilities
C.	R. V. Dhulekar	III.	Justice for women
D.	Shankarrao Deo	IV.	Hindi as national language

Choose the **correct** answer from the options given below:

1. A-II, B-IV, C-I, D-III
2. A-II, B-III, C-IV, D-I
3. A-I, B-II, C-III, D-IV
4. A-I, B-III, C-IV, D-II

**Options :**

485584136729. 1  
485584136730. 2  
485584136731. 3  
485584136732. 4

**Question Number : 278 Question Id : 48558434183 Question Type : MCQ Option Shuffling : No Is Question Mandatory : No Calculator : None Response Time : N.A Think Time : N.A Minimum Instruction Time : 0**

**Correct Marks : 5 Wrong Marks : 1**

**Question Key Details :**

Key	Value
Comprehension	MCQ

सूची I का सूची II से मिलान कीजिए:

सूची I		सूची II	
A.	दक्षायणी वेलायुधन	I.	राष्ट्र की भाषा के रूप में हिन्दुस्तानी
B.	हंसा मेहता	II.	सामाजिकअशक्तताओं की समाप्ति
C.	आर.वी.धुलेकर	III.	महिलाओं के प्रति न्याय
D.	शंकर राव देव	IV.	राष्ट्री भाषा के रूप में हिन्दी

नीचे दिए गए विकल्पों में से **सही** उत्तर का चयन कीजिए :

1. A-II, B-IV, C-I, D-III
2. A-II, B-III, C-IV, D-I
3. A-I, B-II, C-III, D-IV
4. A-I, B-III, C-IV, D-II

**Options :**

485584136729. 1

485584136730. 2  
485584136731. 3  
485584136732. 4

**Question Number : 279 Question Id : 48558434184 Question Type : MCQ Option Shuffling : No Is Question Mandatory : No Calculator : None Response Time : N.A Think Time : N.A Minimum Instruction Time : 0**

**Correct Marks : 5 Wrong Marks : 1**

**Question Key Details :**

Key	Value
Comprehension	MCQ

Match List I with List II:

LIST I		LIST II	
A.	Nageshwar	I.	Steatite
B.	Lothal	II.	Lapis Lazuli
C.	Gujarat	III.	Carnelian
D.	Shortughai	IV.	Shell

Choose the **correct** answer from the options given below:

1. A-IV, B-III, C-I, D-II
2. A-I, B-III, C-IV, D-II
3. A-II, B-I, C-IV, D-III
4. A-IV, B-III, C-I, D-II

**Options :**

485584136733. 1  
485584136734. 2  
485584136735. 3  
485584136736. 4

**Question Number : 279 Question Id : 48558434184 Question Type : MCQ Option Shuffling : No Is Question Mandatory : No Calculator : None Response Time : N.A Think Time : N.A Minimum Instruction Time : 0**

**Correct Marks : 5 Wrong Marks : 1**

**Question Key Details :**

Key	Value
Comprehension	MCQ

सूची I का सूची II से मिलान कीजिए:

सूची I		सूची II	
A.	नागेश्वर	I.	सेलखड़ी
B.	लोथल	II.	लाजवर्द मणि
C.	गुजरात	III.	कानीलियन
D.	शोर्तुघई	IV.	शंख

नीचे दिए गए विकल्पों में से **सही** उत्तर का चयन कीजिए :

1. A-IV, B-III, C-I, D-II
2. A-I, B-III, C-IV, D-II
3. A-II, B-I, C-IV, D-III
4. A-IV, B-III, C-I, D-II

**Options :**

485584136733. 1  
485584136734. 2  
485584136735. 3  
485584136736. 4

**Question Number : 280 Question Id : 48558434185 Question Type : MCQ Option Shuffling : No Is Question Mandatory : No Calculator : None Response Time : N.A Think Time : N.A Minimum Instruction Time : 0**

**Correct Marks : 5 Wrong Marks : 1**

**Question Key Details :**

Key	Value
Comprehension	MCQ

Match List I with List II:

LIST I		LIST II	
A.	Jesuit	I.	Jean-Baptiste Tavernier
B.	French Jeweller	II.	Danishmand Khan
C.	Italian Doctor	III.	Roberto Nobili
D.	Armenian Noble	IV.	Manucci

Choose the **correct** answer from the options given below:

1. A-IV, B-II, C-I, D-III
2. A-III, B-I, C-II, D-IV
3. A-IV, B-I, C-II, D-III
4. A-III, B-I, C-IV, D-II

**Options :**

485584136737. 1



485584136738. 2  
485584136739. 3  
485584136740. 4

**Question Number : 280 Question Id : 48558434185 Question Type : MCQ Option Shuffling : No Is Question Mandatory : No Calculator : None Response Time : N.A Think Time : N.A Minimum Instruction Time : 0**

**Correct Marks : 5 Wrong Marks : 1**

**Question Key Details :**

Key	Value
Comprehension	MCQ

सूची I का सूची II से मिलान कीजिए:

सूची I		सूची II	
A.	जेसुइट	I.	ज्यौ-तैवार्नियर बैप्टिस्ट
B.	फ्रांसीसी जौहरी	II.	दानिशमंद खान
C.	इतालवी चिकित्सक	III.	रॉबर्टो नोबिली
D.	अमीनियार्ई अमीर	IV.	मनूकी

नीचे दिए गए विकल्पों में से **सही** उत्तर का चयन कीजिए :

1. A-IV, B-II, C-I, D-III
2. A-III, B-I, C-II, D-IV
3. A-IV, B-I, C-II, D-III
4. A-III, B-I, C-IV, D-II

**Options :**

485584136737. 1  
485584136738. 2  
485584136739. 3  
485584136740. 4

**Question Number : 281 Question Id : 48558434186 Question Type : MCQ Option Shuffling : No Is Question Mandatory : No Calculator : None Response Time : N.A Think Time : N.A Minimum Instruction Time : 0**

**Correct Marks : 5 Wrong Marks : 1**

**Question Key Details :**

Key	Value
Comprehension	MCQ

Match List I with List II:

LIST I		LIST II	
A.	Bargadar	I.	Powerful Zamindar
B.	Raja	II.	Sharecropper
C.	Diku	III.	Strongman of a Zamindar
D.	Lathyal	IV.	Moneylender

Choose the **correct** answer from the options given below:

1. A-I, B-IV, C-II, D-III
2. A-IV, B-II, C-III, D-I
3. A-II, B-I, C-IV, D-III
4. A-IV, B-I, C-II, D-III

**Options :**

485584136741. 1  
485584136742. 2  
485584136743. 3  
485584136744. 4

**Question Number : 281 Question Id : 48558434186 Question Type : MCQ Option Shuffling : No Is Question Mandatory : No Calculator : None Response Time : N.A Think Time : N.A Minimum Instruction Time : 0**

**Correct Marks : 5 Wrong Marks : 1**

**Question Key Details :**

Key	Value
Comprehension	MCQ

सूची I का सूची II से मिलान कीजिए:

सूची I		सूची II	
A.	बरगादार	I.	शक्तिशाली ज़मींदार
B.	राजा	II.	बटाईदार
C.	दिकू	III.	जमीनदार के डंडेबाज पक्षधर
D.	लठियाल	IV.	साहूकार

नीचे दिए गए विकल्पों में से **सही** उत्तर का चयन कीजिए :

1. A-I, B-IV, C-II, D-III
2. A-IV, B-II, C-III, D-I
3. A-II, B-I, C-IV, D-III
4. A-IV, B-I, C-II, D-III

**Options :**

485584136741. 1

485584136742. 2  
485584136743. 3  
485584136744. 4

**Question Number : 282 Question Id : 48558434187 Question Type : MCQ Option Shuffling : No Is Question Mandatory : No Calculator : None Response Time : N.A Think Time : N.A Minimum Instruction Time : 0**

**Correct Marks : 5 Wrong Marks : 1**

**Question Key Details :**

Key	Value
Comprehension	MCQ

Which of the following statements are **True** for the Harappan script?

- A. It contains around 400 signs.
- B. It was written from right to left.
- C. It has been deciphered.
- D. It is alphabetical.

Choose the **correct** answer from the options given below:

- 1. A, D only
- 2. A, B only
- 3. B, C only
- 4. B, D only

**Options :**

485584136745. 1  
485584136746. 2  
485584136747. 3  
485584136748. 4

**Question Number : 282 Question Id : 48558434187 Question Type : MCQ Option Shuffling : No Is Question Mandatory : No Calculator : None Response Time : N.A Think Time : N.A Minimum Instruction Time : 0**

**Correct Marks : 5 Wrong Marks : 1**

**Question Key Details :**

Key	Value
Comprehension	MCQ

हड़प्पा लिपि के बारे में निम्नलिखित में से कौन से कथन **सही** हैं?

- A. इसमें लगभग 400 चिन्ह हैं।
- B. यह दाईं से बाईं ओर लिखी जाती थी।
- C. यह पढ़ी जा चुकी है।
- D. यह वर्णमाली है।

नीचे दिए गए विकल्पों में से **सही** उत्तर का चयन करें :

- 1. केवल A, D
- 2. केवल A, B
- 3. केवल B, C
- 4. केवल B, D

**Options :**

- 485584136745. 1
- 485584136746. 2
- 485584136747. 3
- 485584136748. 4

**Question Number : 283 Question Id : 48558434188 Question Type : MCQ Option Shuffling : No Is Question Mandatory : No Calculator : None Response Time : N.A Think Time : N.A Minimum Instruction Time : 0**

**Correct Marks : 5 Wrong Marks : 1**

**Question Key Details :**

Key	Value
Comprehension	MCQ

Which of the following terms are used for 'peasants' in Indo-Persian sources?

- A. Raiyat
- B. Muzarian
- C. Do-Fasla
- D. Jins-i-Kamil

Choose the **correct** answer from the options given below:

- 1. A, B only
- 2. B, C only
- 3. A, C only
- 4. C, D only

**Options :**

- 485584136749. 1
- 485584136750. 2
- 485584136751. 3
- 485584136752. 4

Question Number : 283 Question Id : 48558434188 Question Type : MCQ Option Shuffling : No Is Question Mandatory : No Calculator : None Response Time : N.A Think Time : N.A Minimum Instruction Time : 0

Correct Marks : 5 Wrong Marks : 1

Question Key Details :

Key	Value
Comprehension	MCQ

भारतीय-फ़ारसी श्रोत किसानों के लिए निम्नलिखित में से कौन से शब्द का उपयोग किया जाता था ?

- A. रैयत
- B. मुज़रियान
- C. दो-फासला
- D. जिन्स-ए-कामिल

नीचे दिए गए विकल्पों में से सही उत्तर का चयन करें :-

- 1. केवल A, B
- 2. केवल B, C
- 3. केवल A, C
- 4. केवल C, D

Options :

- 485584136749. 1
- 485584136750. 2
- 485584136751. 3
- 485584136752. 4

Question Number : 284 Question Id : 48558434189 Question Type : MCQ Option Shuffling : No Is Question Mandatory : No Calculator : None Response Time : N.A Think Time : N.A Minimum Instruction Time : 0

Correct Marks : 5 Wrong Marks : 1

Question Key Details :

Key	Value
Comprehension	MCQ

Which of the following were part of the recommendations made by the Constituent Assembly?

- A. Seats in legislature and jobs in government offices be reserved for the lowest caste.
- B. Separate electorates for Depressed Classes.
- C. Hindu temples be thrown open to all castes.
- D. Permanently segregate them from the society.

Choose the correct answer from the options given below:

- 1. A, B only
- 2. B, C only
- 3. A, C only
- 4. C, D only

**Options :**

485584136753. 1  
485584136754. 2  
485584136755. 3  
485584136756. 4

**Question Number : 284 Question Id : 48558434189 Question Type : MCQ Option Shuffling : No Is Question Mandatory : No Calculator : None Response Time : N.A Think Time : N.A Minimum Instruction Time : 0**

**Correct Marks : 5 Wrong Marks : 1**

**Question Key Details :**

Key	Value
Comprehension	MCQ

निम्नलिखित में से कौन से संविधान सभा द्वारा किये गये अनुमोदन का भाग थे?

- A. विधानमंडल में सीटों और सरकारी कार्यालयों में नौकरियाँ सबसे निचली जाति के लिए आरक्षित की जाए।  
B. वंचित वर्गों के लिए पृथक निर्वाचिका मंडल।  
C. हिन्दू मंदिरों को सभी जातियों के लिए खोला जाए।  
D. उन्हें समाज से हमेशा के लिए अलग कर दिया जाए।

नीचे दिए गए विकल्पों में से **सही** उत्तर का चयन करें :

- केवल A, B
- केवल B, C
- केवल A, C
- केवल C, D

**Options :**

485584136753. 1  
485584136754. 2  
485584136755. 3  
485584136756. 4

**Question Number : 285 Question Id : 48558434190 Question Type : MCQ Option Shuffling : No Is Question Mandatory : No Calculator : None Response Time : N.A Think Time : N.A Minimum Instruction Time : 0**

**Correct Marks : 5 Wrong Marks : 1**

**Question Key Details :**

Key	Value
Comprehension	MCQ

Which of the following sites was of late Harappan occupation?

- A. Sutkagendor
- B. Swat
- C. Jhukar
- D. Shortughai

Choose the **correct** answer from the options given below:

1. A, D only
2. C, D only
3. B, C only
4. C, A only

**Options :**

- 485584136757. 1
- 485584136758. 2
- 485584136759. 3
- 485584136760. 4

**Question Number : 285 Question Id : 48558434190 Question Type : MCQ Option Shuffling : No Is Question Mandatory : No Calculator : None Response Time : N.A Think Time : N.A Minimum Instruction Time : 0**

**Correct Marks : 5 Wrong Marks : 1**

**Question Key Details :**

Key	Value
Comprehension	MCQ

निम्नलिखित में से कौन से स्थल विकसित हड़प्पा संस्कृति स्थल थे?

- A. सुत्कागेंडोर
- B. स्वात
- C. झूकर
- D. शोर्तुघई

नीचे दिए गए विकल्पों में से **सही** उत्तर का चयन करें :

1. केवल A, D
2. केवल C, D
3. केवल B, C
4. केवल C, A

**Options :**

- 485584136757. 1
- 485584136758. 2
- 485584136759. 3
- 485584136760. 4

Question Number : 286 Question Id : 48558434191 Question Type : MCQ Option Shuffling : No Is Question Mandatory : No Calculator : None Response Time : N.A Think Time : N.A Minimum Instruction Time : 0

Correct Marks : 5 Wrong Marks : 1

Question Key Details :

Key	Value
Comprehension	MCQ

Arrange the following in a chronological order according to the year of formation.

- A. All-India Muslim League
- B. Hindu Mahasabha
- C. 1937 Provincial Elections
- D. Lucknow Pact

Choose the correct answer from the options given below:

- 1. A, B, C, D
- 2. A, B, D, C
- 3. B, A, D, C
- 4. D, C, B, A

Options :

- 485584136761. 1
- 485584136762. 2
- 485584136763. 3
- 485584136764. 4

Question Number : 286 Question Id : 48558434191 Question Type : MCQ Option Shuffling : No Is Question Mandatory : No Calculator : None Response Time : N.A Think Time : N.A Minimum Instruction Time : 0

Correct Marks : 5 Wrong Marks : 1

Question Key Details :

Key	Value
Comprehension	MCQ

निम्नलिखित स्थापना वर्ष के अनुसार को कालक्रमानुसार व्यवस्थित कीजिए।

- A. आल इंडिया मुस्लिम लीग
- B. हिन्दू महासभा
- C. 1937 के प्रांतीय चुनाव
- D. लखनऊ समझौता

नीचे दिए गए विकल्पों में से सही उत्तर का चयन करें :

- 1. A, B, C, D
- 2. A, B, D, C
- 3. B, A, D, C
- 4. D, C, B, A

Options :



485584136761. 1  
485584136762. 2  
485584136763. 3  
485584136764. 4

**Question Number : 287 Question Id : 48558434192 Question Type : MCQ Option Shuffling : No Is Question Mandatory : No Calculator : None Response Time : N.A Think Time : N.A Minimum Instruction Time : 0**

**Correct Marks : 5 Wrong Marks : 1**

**Question Key Details :**

Key	Value
Comprehension	MCQ

Arrange the following sequentially as per their period of establishment.

- A. Setting up of Supreme Court, Calcutta.
- B. Universities in Bombay, Madras, Calcutta.
- C. Formation of the Asiatic Society in Bengal.
- D. The British in Bombay.

Choose the **correct** answer from the options given below:

- 1. C, B, D, A
- 2. C, B, A, D
- 3. D, A, C, B
- 4. B, C, A, D

**Options :**

485584136765. 1  
485584136766. 2  
485584136767. 3  
485584136768. 4

**Question Number : 287 Question Id : 48558434192 Question Type : MCQ Option Shuffling : No Is Question Mandatory : No Calculator : None Response Time : N.A Think Time : N.A Minimum Instruction Time : 0**

**Correct Marks : 5 Wrong Marks : 1**

**Question Key Details :**

Key	Value
Comprehension	MCQ

निम्नलिखित को उनके स्थापना काल के अनुसार व्यवस्थित कीजिए:

- A. सर्वोच्च न्यायालय की स्थापना, कलकत्ता
- B. बम्बई, मद्रास और कलकत्ता में विश्वविद्यालयों की स्थापना
- C. बंगला में एशियाटिक सोसाइटी की स्थापना
- D. बम्बई में ब्रिटिश

नीचे दिए गए विकल्पों में से **सही** उत्तर का चयन कीजिए:

- 1. C, B, D, A
- 2. C, B, A, D
- 3. D, A, C, B
- 4. B, C, A, D

**Options :**

- 485584136765. 1
- 485584136766. 2
- 485584136767. 3
- 485584136768. 4

**Question Number : 288 Question Id : 48558434193 Question Type : MCQ Option Shuffling : No Is Question Mandatory : No Calculator : None Response Time : N.A Think Time : N.A Minimum Instruction Time : 0**

**Correct Marks : 5 Wrong Marks : 1**

**Question Key Details :**

Key	Value
Comprehension	MCQ

Arrange the following in a hierarchal order in context of British India Company Rule.

- A. Ryots
- B. Jotedars
- C. The Permanent Settlement
- D. Zamindar

Choose the **correct** answer from the options given below:

- 1. C, B, A, D
- 2. D, B, C, A
- 3. C, D, B, A
- 4. A, C, B, A

**Options :**

- 485584136769. 1
- 485584136770. 2
- 485584136771. 3
- 485584136772. 4

Question Number : 288 Question Id : 48558434193 Question Type : MCQ Option Shuffling : No Is Question Mandatory : No Calculator : None Response Time : N.A Think Time : N.A Minimum Instruction Time : 0

Correct Marks : 5 Wrong Marks : 1

Question Key Details :

Key	Value
Comprehension	MCQ

ब्रिटिश ईस्ट इंडिया कंपनी के संदर्भ में निम्न को पदानुक्रम के अनुसार व्यवस्थित कीजिए:

- A. रैयत
- B. जोतदार
- C. इस्तमारी बंदोबस्त
- D. ज़मींदार

नीचे दिए गए विकल्पों में से **सही** उत्तर का चयन कीजिए:

- 1. C, B, A, D
- 2. D, B, C, A
- 3. C, D, B, A
- 4. A, C, B, A

Options :

- 485584136769. 1
- 485584136770. 2
- 485584136771. 3
- 485584136772. 4

Question Number : 289 Question Id : 48558434194 Question Type : MCQ Option Shuffling : No Is Question Mandatory : No Calculator : None Response Time : N.A Think Time : N.A Minimum Instruction Time : 0

Correct Marks : 5 Wrong Marks : 1

Question Key Details :

Key	Value
Comprehension	MCQ

Arrange the following sequentially according to their period of completion.

- A. Alamgir Nama
- B. Badshah Nama
- C. Akbar Nama
- D. Humayun Nama

Choose the **correct** answer from the options given below:

- 1. C, D, B, A
- 2. D, C, A, B
- 3. C, D, A, B
- 4. A, D, C, B

Options :

485584136773. 1  
485584136774. 2  
485584136775. 3  
485584136776. 4

**Question Number : 289 Question Id : 48558434194 Question Type : MCQ Option Shuffling : No Is Question Mandatory :  
No Calculator : None Response Time : N.A Think Time : N.A Minimum Instruction Time : 0**

**Correct Marks : 5 Wrong Marks : 1**

**Question Key Details :**

Key	Value
Comprehension	MCQ

निम्नलिखित को उनके पूरा होने के काल के अनुसार क्रम में व्यवस्थित कीजिए।

- A. आलमगीर नामा
- B. बादशाह नामा
- C. अकबर नामा
- D. हिमायूँ नामा

नीचे दिए गए विकल्पों में से **सही** उत्तर का चयन कीजिए:

- 1. C, D, B, A
- 2. D, C, A, B
- 3. C, D, A, B
- 4. A, D, C, B

**Options :**

485584136773. 1  
485584136774. 2  
485584136775. 3  
485584136776. 4

**Question Number : 290 Question Id : 48558434195 Question Type : MCQ Option Shuffling : No Is Question Mandatory :  
No Calculator : None Response Time : N.A Think Time : N.A Minimum Instruction Time : 0**

**Correct Marks : 5 Wrong Marks : 1**

**Question Key Details :**

Key	Value
Comprehension	MCQ

Arrange the following sequentially in relation to the preservation of Early monuments:

- A. Foundation of Indian Museum, Calcutta.
- B. James Fergusson's Survey
- C. H.H. Cole Appointed as Curator of Ancient Monument.
- D. Passing of Treasure Trove Act.

Choose the correct answer from the options given below:

- 1. A, C, B, D
- 2. A, B, C, D
- 3. B, C, A, D
- 4. D, A, B, C

**Options :**

- 485584136777. 1
- 485584136778. 2
- 485584136779. 3
- 485584136780. 4

**Question Number : 290 Question Id : 48558434195 Question Type : MCQ Option Shuffling : No Is Question Mandatory : No Calculator : None Response Time : N.A Think Time : N.A Minimum Instruction Time : 0**

**Correct Marks : 5 Wrong Marks : 1**

**Question Key Details :**

Key	Value
Comprehension	MCQ

पुराने स्मारकों के संरक्षण से संबंधित निम्नलिखित को सही क्रम में व्यवस्थित कीजिए:

- A. कलकत्ता में भारतीय संग्रहालय की स्थापना।
- B. जेम्स फर्गुसन का सर्वेक्षण।
- C. एच.एच. कोल को प्राचीन इमारतों का संग्रहध्यक्ष नियुक्त किया गया।
- D. ट्रेज़र-ट्रूव एक्ट का पारित होना।

नीचे दिए गए विकल्पों में से **सही** उत्तर का चयन कीजिए:

- 1. A, C, B, D
- 2. A, B, C, D
- 3. B, C, A, D
- 4. D, A, B, C

**Options :**

- 485584136777. 1
- 485584136778. 2
- 485584136779. 3
- 485584136780. 4

**Sub-Section Number :**

2

**Sub-Section Id :**

4855842540

Question Shuffling Allowed :

No

Is Section Default? :

null

Question Number : 291 Question Id : 48558434196 Question Type : MCQ Option Shuffling : No Is Question Mandatory : No Calculator : None Response Time : N.A Think Time : N.A Minimum Instruction Time : 0

Correct Marks : 5 Wrong Marks : 1

Question Key Details :

Key	Value
Comprehension	Comp1

**Read the passage and answer the questions:**

Temple building in the region had a long history, going back to dynasties such as the Pallavas, Chalukyas, Hoysalas and Cholas. Rulers very often encouraged temple building as a means of associating themselves with the divine - often, the deity was explicitly or implicitly identified with the king. Temples also functioned as centres of learning. Besides, rulers and others often granted land and other resources for the maintenance of temples. Consequently, temples developed as significant religious, social, cultural and economic centres. From the point of view of the rulers, constructing, repairing and maintaining temples were important means of winning support and recognition for their power, wealth and piety.

What was the 'Kalyana mandapa' used for?

1. To worship the image of God.
2. To celebrate divine weddings.
3. For dance and music performances.
4. For drama performances.

**Options :**

485584136781. 1

485584136782. 2

485584136783. 3

485584136784. 4

Question Number : 291 Question Id : 48558434196 Question Type : MCQ Option Shuffling : No Is Question Mandatory : No Calculator : None Response Time : N.A Think Time : N.A Minimum Instruction Time : 0

Correct Marks : 5 Wrong Marks : 1

Question Key Details :

Key	Value
Comprehension	Comp1

**नीचे दिए गद्यांश को पढ़ें और प्रश्नों के उत्तर दें:**

इस क्षेत्र में मंदिर निर्माण का एक लंबा इतिहास रहा है जो पल्लव, चालुक्य होयसाल तथा चोल वंशों तक जाता है। आमतौर पर शासक अपने आप को ईश्वर से जोड़ने के लिए मंदिर निर्माण को प्रोत्साहन देते थे- अक्सर देवता को व्यक्त अथवा अव्यक्त रूप से राजा से जोड़ा जाता था। मंदिर शिक्षा के केन्द्रों के रूप में भी कार्य करते थे। शासक और अन्य लोग मंदिर के रख-रखाव के लोइए भूमि या अन्य संपदा दान में देते थे। अतएव, मन्दिर महत्वपूर्ण धार्मिक, सामाजिक सांस्कृतिक तथा आर्थिक केन्द्रों के रूप में विकसित हुए। शासकों के दृष्टिकोण से मन्दिरों का निर्माण, मरम्मत तथा रखरखाव, अपनी सत्ता, संपत्ति तथा निष्ठा के लिए समर्थन तथा मान्यता के महत्वपूर्ण माध्यम थे।

कल्याण मंडप का उपयोग किस लिए होता था ?

1. ईश्वर की प्रतिमा की पूजा के लिए।
2. दैवीय विवाहों के आयोजन के लिए।
3. नृत्य और संगीत के आयोजन के लिए।
4. ड्रामा करने के लिए।

**Options :**

485584136781. 1  
485584136782. 2  
485584136783. 3  
485584136784. 4

**Question Number : 292 Question Id : 48558434197 Question Type : MCQ Option Shuffling : No Is Question Mandatory : No Calculator : None Response Time : N.A Think Time : N.A Minimum Instruction Time : 0**

**Correct Marks : 5 Wrong Marks : 1**

**Question Key Details :**

Key	Value
Comprehension	Comp1

**Read the passage and answer the questions:**

Temple building in the region had a long history, going back to dynasties such as the Pallavas, Chalukyas, Hoysalas and Cholas. Rulers very often encouraged temple building as a means of associating themselves with the divine - often, the deity was explicitly or implicitly identified with the king. Temples also functioned as centres of learning. Besides, rulers and others often granted land and other resources for the maintenance of temples. Consequently, temples developed as significant religious, social, cultural and economic centres. From the point of view of the rulers, constructing, repairing and maintaining temples were important means of winning support and recognition for their power, wealth and piety.

Krishnadeva Raya built a hall in front of the main shrine of which of the following temples to mark his accession?

1. Hazara Rama Temple
2. Vithala Temple
3. Virupaksha Temple
4. Chidambaram Temple

**Options :**

485584136785. 1  
485584136786. 2  
485584136787. 3  
485584136788. 4

**Question Number : 292 Question Id : 48558434197 Question Type : MCQ Option Shuffling : No Is Question Mandatory : No Calculator : None Response Time : N.A Think Time : N.A Minimum Instruction Time : 0**

**Correct Marks : 5 Wrong Marks : 1**

**Question Key Details :**

Key	Value
Comprehension	Comp1

**नीचे दिए गद्यांश को पढ़ें और प्रश्नों के उत्तर दें:**

इस क्षेत्र में मंदिर निर्माण का एक लंबा इतिहास रहा है जो पल्लव, चालुक्य होयसाल तथा चोल वंशों तक जाता है। आमतौर पर शासक अपने आप को ईश्वर से जोड़ने के लिए मंदिर निर्माण को प्रोत्साहन देते थे- अक्सर देवता को व्यक्त अथवा अव्यक्त रूप से राजा से जोड़ा जाता था। मंदिर शिक्षा के केन्द्रों के रूप में भी कार्य करते थे। शासक और अन्य लोग मंदिर के रख-रखाव के लोड़ए भूमि या अन्य संपदा दान में देते थे। अतएव, मन्दिर महत्वपूर्ण धार्मिक, सामाजिक सांस्कृतिक तथा आर्थिक केन्द्रों के रूप में विकसित हुए। शासकों के दृष्टिकोण से मन्दिरों का निर्माण, मरम्मत तथा रखरखाव, अपनी सत्ता, संपत्ति तथा निष्ठा के लिए समर्थन तथा मान्यता के महत्वपूर्ण माध्यम थे।

कृष्णदेव राय ने अपने राज्यारोहण के उपलक्ष्य में निम्नलिखित में से किस मंदिर के मुख्य मंदिर के सामने मण्डप बनवाया?

1. हज़ार राम मंदिर
2. विठ्ठल मंदिर
3. विरुपाक्ष मंदिर
4. चिदंबरम मंदिर

**Options :**

485584136785. 1  
485584136786. 2  
485584136787. 3  
485584136788. 4

**Question Number : 293 Question Id : 48558434198 Question Type : MCQ Option Shuffling : No Is Question Mandatory : No Calculator : None Response Time : N.A Think Time : N.A Minimum Instruction Time : 0**

**Correct Marks : 5 Wrong Marks : 1**

**Question Key Details :**

Key	Value
Comprehension	Comp1

**Read the passage and answer the questions:**

Temple building in the region had a long history, going back to dynasties such as the Pallavas, Chalukyas, Hoysalas and Cholas. Rulers very often encouraged temple building as a means of associating themselves with the divine - often, the deity was explicitly or implicitly identified with the king. Temples also functioned as centres of learning. Besides, rulers and others often granted land and other resources for the maintenance of temples. Consequently, temples developed as significant religious, social, cultural and economic centres. From the point of view of the rulers, constructing, repairing and maintaining temples were important means of winning support and recognition for their power, wealth and piety.



Which of the following temple has a shrine designed as a 'chariot'?

1. Brihadeshvara Temple
2. Chidambaram Temple
3. Virupaksha Temple
4. Vitthala Temple

**Options :**

485584136789. 1  
485584136790. 2  
485584136791. 3  
485584136792. 4

**Question Number : 293 Question Id : 48558434198 Question Type : MCQ Option Shuffling : No Is Question Mandatory : No Calculator : None Response Time : N.A Think Time : N.A Minimum Instruction Time : 0**

**Correct Marks : 5 Wrong Marks : 1**

**Question Key Details :**

Key	Value
Comprehension	Comp1

**नीचे दिए गद्यांश को पढ़ें और प्रश्नों के उत्तर दें:**

इस क्षेत्र में मंदिर निर्माण का एक लंबा इतिहास रहा है जो पल्लव, चालुक्य होयसाल तथा चोल वंशों तक जाता है। आमतौर पर शासक अपने आप को ईश्वर से जोड़ने के लिए मंदिर निर्माण को प्रोत्साहन देते थे- अक्सर देवता को व्यक्त अथवा अव्यक्त रूप से राजा से जोड़ा जाता था। मंदिर शिक्षा के केन्द्रों के रूप में भी कार्य करते थे। शासक और अन्य लोग मंदिर के रख-रखाव के लोड़ए भूमि या अन्य संपदा दान में देते थे। अतएव, मन्दिर महत्वपूर्ण धार्मिक, सामाजिक सांस्कृतिक तथा आर्थिक केन्द्रों के रूप में विकसित हुए। शासकों के दृष्टिकोण से मन्दिरों का निर्माण, मरम्मत तथा रखरखाव, अपनी सत्ता, संपत्ति तथा निष्ठा के लिए समर्थन तथा मान्यता के महत्वपूर्ण माध्यम थे।

निम्नलिखित में से किस मंदिर का मुख्य मंदिर एक रथ के आकार का है?

1. बृहदीश्वर मंदिर
2. चिदंबरम मंदिर
3. वुरुपाक्ष मंदिर
4. विठ्ठल मंदिर

**Options :**

485584136789. 1  
485584136790. 2  
485584136791. 3  
485584136792. 4

**Question Number : 294 Question Id : 48558434199 Question Type : MCQ Option Shuffling : No Is Question Mandatory : No Calculator : None Response Time : N.A Think Time : N.A Minimum Instruction Time : 0**

**Correct Marks : 5 Wrong Marks : 1**

**Question Key Details :**

Key	Value
Comprehension	Compl

**Read the passage and answer the questions:**

Temple building in the region had a long history, going back to dynasties such as the Pallavas, Chalukyas, Hoysalas and Cholas. Rulers very often encouraged temple building as a means of associating themselves with the divine - often, the deity was explicitly or implicitly identified with the king. Temples also functioned as centres of learning. Besides, rulers and others often granted land and other resources for the maintenance of temples. Consequently, temples developed as significant religious, social, cultural and economic centres. From the point of view of the rulers, constructing, repairing and maintaining temples were important means of winning support and recognition for their power, wealth and piety.

Which of the following temple portrays sculpture of scenes from the Ramayana?

1. Vitthala Temple
2. Hazar Rama Temple
3. Pampadevi Temple
4. Virupaksha Temple

**Options :**

485584136793. 1  
 485584136794. 2  
 485584136795. 3  
 485584136796. 4

**Question Number : 294 Question Id : 48558434199 Question Type : MCQ Option Shuffling : No Is Question Mandatory : No Calculator : None Response Time : N.A Think Time : N.A Minimum Instruction Time : 0**

**Correct Marks : 5 Wrong Marks : 1**

**Question Key Details :**

Key	Value
Comprehension	Compl

**नीचे दिए गद्यांश को पढ़ें और प्रश्नों के उत्तर दें:**

इस क्षेत्र में मंदिर निर्माण का एक लंबा इतिहास रहा है जो पल्लव, चालुक्य होयसाल तथा चोल वंशों तक जाता है। आमतौर पर शासक अपने आप को ईश्वर से जोड़ने के लिए मंदिर निर्माण को प्रोत्साहन देते थे। अक्सर देवता को व्यक्त अथवा अव्यक्त रूप से राजा से जोड़ा जाता था। मंदिर शिक्षा के केन्द्रों के रूप में भी कार्य करते थे। शासक और अन्य लोग मंदिर के रख-रखाव के लोड़ए भूमि या अन्य संपदा दान में देते थे। अतएव, मन्दिर महत्वपूर्ण धार्मिक, सामाजिक सांस्कृतिक तथा आर्थिक केन्द्रों के रूप में विकसित हुए। शासकों के दृष्टिकोण से मन्दिरों का निर्माण, मरम्मत तथा रखरखाव, अपनी सत्ता, संपत्ति तथा निष्ठा के लिए समर्थन तथा मान्यता के महत्वपूर्ण माध्यम थे।

निम्नलिखित में से किस मंदिर की दीवारों पर रामायण के कुछ दृश्यांश उत्कीर्णित है?

1. विठ्ठल मंदिर
2. हज़ार राम मंदिर
3. पंपादेवी मंदिर
4. वुरुपाक्ष मंदिर

**Options :**

485584136793. 1  
485584136794. 2  
485584136795. 3  
485584136796. 4

**Question Number : 295 Question Id : 48558434200 Question Type : MCQ Option Shuffling : No Is Question Mandatory : No Calculator : None Response Time : N.A Think Time : N.A Minimum Instruction Time : 0**

**Correct Marks : 5 Wrong Marks : 1**

**Question Key Details :**

Key	Value
Comprehension	Comp1

**Read the passage and answer the questions:**

Temple building in the region had a long history, going back to dynasties such as the Pallavas, Chalukyas, Hoysalas and Cholas. Rulers very often encouraged temple building as a means of associating themselves with the divine - often, the deity was explicitly or implicitly identified with the king. Temples also functioned as centres of learning. Besides, rulers and others often granted land and other resources for the maintenance of temples. Consequently, temples developed as significant religious, social, cultural and economic centres. From the point of view of the rulers, constructing, repairing and maintaining temples were important means of winning support and recognition for their power, wealth and piety.

"In our study of these monuments of Vijayanagara we have to imagine a whole series of vanished wooden elements...." Who amongst the following stated these lines?

- A. J. F. Fleet
- B. George Michell
- C. M.S. Nagaraja
- D. Fernao Nuniz

Choose the **correct** answer from the options given below:

1. A, B only
2. B, C only
3. C, D only
4. B, D only

**Options :**

485584136797. 1

485584136798. 2  
485584136799. 3  
485584136800. 4

**Question Number : 295 Question Id : 48558434200 Question Type : MCQ Option Shuffling : No Is Question Mandatory : No Calculator : None Response Time : N.A Think Time : N.A Minimum Instruction Time : 0**

**Correct Marks : 5 Wrong Marks : 1**

**Question Key Details :**

Key	Value
Comprehension	Comp1

**नीचे दिए गद्यांश को पढ़ें और प्रश्नों के उत्तर दें:**

इस क्षेत्र में मंदिर निर्माण का एक लंबा इतिहास रहा है जो पल्लव, चालुक्य होयसाल तथा चोल वंशों तक जाता है। आमतौर पर शासक अपने आप को ईश्वर से जोड़ने के लिए मंदिर निर्माण को प्रोत्साहन देते थे- अक्सर देवता को व्यक्त अथवा अव्यक्त रूप से राजा से जोड़ा जाता था। मंदिर शिक्षा के केन्द्रों के रूप में भी कार्य करते थे। शासक और अन्य लोग मंदिर के रख-रखाव के लोड़ए भूमि या अन्य संपदा दान में देते थे। अतएव, मन्दिर महत्वपूर्ण धार्मिक, सामाजिक सांस्कृतिक तथा आर्थिक केन्द्रों के रूप में विकसित हुए। शासकों के दृष्टिकोण से मन्दिरों का निर्माण, मरम्मत तथा रखरखाव, अपनी सत्ता, संपत्ति तथा निष्ठा के लिए समर्थन तथा मान्यता के महत्वपूर्ण माध्यम थे।

"विजयनगर के स्मारकों के हमारे अध्ययन में हमें नष्ट हो चुकी लकड़ी की वस्तुओं की एक पूरी श्रेणी की कल्पना करनी पड़ी"। निम्न में से किसने यह बातें कहीं?

- A. जे. एफ. फ्लीट
- B. जॉर्ज मिशेल
- C. एम.एस. नागराज
- D. फर्नानों नूनिज़

नीचे दिए गए विकल्पों में से **सही** उत्तर का चयन कीजिए:

1. केवल A, B
2. केवल B, C
3. केवल C, D
4. केवल B, D

**Options :**

485584136797. 1  
485584136798. 2  
485584136799. 3  
485584136800. 4

**Sub-Section Number :**

3

**Sub-Section Id :**

4855842541

**Question Shuffling Allowed :**

No

**Is Section Default? :**

null

**Question Number : 296 Question Id : 48558434201 Question Type : MCQ Option Shuffling : No Is Question Mandatory : No Calculator : None Response Time : N.A Think Time : N.A Minimum Instruction Time : 0**

**Correct Marks : 5 Wrong Marks : 1**

**Question Key Details :**

Key	Value
Comprehension	Comp2

**Read the passage and answer the questions:**

In January 1915, Mohandas Karamchand Gandhi returned to his homeland after two decades of residence abroad. These years had been spent for the most part in South Africa, where he went as a lawyer, and in time became a leader of the Indian community in that territory. As the historian Chandran Devanesan has remarked, South Africa was "the making of the Mahatma". It was in South Africa that Mahatma Gandhi first forged the distinctive techniques of non-violent protest known as satyagraha, first promoted harmony between religions, and first alerted upper-caste Indians to their discriminatory treatment of low castes and women.

In 1915, Mahatma Gandhi returned to India from which country?

1. England
2. South Africa
3. Mexico
4. Kenya

**Options :**

485584136801. 1  
 485584136802. 2  
 485584136803. 3  
 485584136804. 4

**Question Number : 296 Question Id : 48558434201 Question Type : MCQ Option Shuffling : No Is Question Mandatory : No Calculator : None Response Time : N.A Think Time : N.A Minimum Instruction Time : 0**

**Correct Marks : 5 Wrong Marks : 1**

**Question Key Details :**

Key	Value
Comprehension	Comp2

**गद्यांश को पढ़ें और प्रश्नों के उत्तर दें:**

मोहनदास करमचन्द्र गाँधी विदेश में दो दशक रहने के बाद जनवरी 1915 में अपनी गृहभूमि वापस आए। इन वर्षों का अधिकांश हिस्सा उन्होंने दक्षिण अफ्रीकी में बिताया। यहाँ वे एक वकील के रूप में गए थे और बाड़ा में वे इस क्षेत्र के भारतीय समुदाय के नेता बन गए। जैसाकि इतिहासकार चंद्रन देवनेसन ने टिप्पणी की है कि दक्षिण अफ्रीका ने ही गाँधी जी को 'महात्मा' बनाया। दक्षिण अफ्रीका में ही महात्मा गाँधी ने पहली बार सत्याग्रह के रूप में जानी गई अहिंसात्मक विरोध की अपनी विशिष्ट तकनीक का इस्तेमाल किया, विभिन्न धर्मों के बीच सौहार्द बढ़ाने का प्रयास किया तथा उच्च जातीय भारतीयों को निम्न जातियों और महिलाओं के प्रति भेदभाव वाले व्यवहार के लिए चेतावनी दी।

1915 में महात्मा गाँधी किस देश से भारत वापस आये?

1. इंग्लैण्ड
2. दक्षिण अफ्रिका
3. मैक्सिको
4. केन्या

**Options :**

485584136801. 1  
485584136802. 2  
485584136803. 3  
485584136804. 4

**Question Number : 297 Question Id : 48558434202 Question Type : MCQ Option Shuffling : No Is Question Mandatory : No Calculator : None Response Time : N.A Think Time : N.A Minimum Instruction Time : 0**

**Correct Marks : 5 Wrong Marks : 1**

**Question Key Details :**

Key	Value
Comprehension	Comp2

**Read the passage and answer the questions:**

In January 1915, Mohandas Karamchand Gandhi returned to his homeland after two decades of residence abroad. These years had been spent for the most part in South Africa, where he went as a lawyer, and in time became a leader of the Indian community in that territory. As the historian Chandran Devanesan has remarked, South Africa was "the making of the Mahatma". It was in South Africa that Mahatma Gandhi first forged the distinctive techniques of non-violent protest known as satyagraha, first promoted harmony between religions, and first alerted upper-caste Indians to their discriminatory treatment of low castes and women.

Where was the technique of 'satyagraha' invented?

1. Ahmedabad
2. Champaran
3. Kheda
4. South Africa

**Options :**

485584136805. 1  
485584136806. 2  
485584136807. 3  
485584136808. 4

**Question Number : 297 Question Id : 48558434202 Question Type : MCQ Option Shuffling : No Is Question Mandatory : No Calculator : None Response Time : N.A Think Time : N.A Minimum Instruction Time : 0**

**Correct Marks : 5 Wrong Marks : 1**

**Question Key Details :**

Key	Value
Comprehension	Comp2

### गद्यांश को पढ़ें और प्रश्नों के उत्तर दें:

मोहनदास करमचन्द्र गाँधी विदेश में दो दशक रहने के बाद जनवरी 1915 में अपनी गृहभूमि वापस आए। इन वर्षों का अधिकांश हिस्सा उन्होंने दक्षिण अफ्रीकी में बिताया। यहाँ वे एक वकील के रूप में गए थे और बाड़ा में वे इस क्षेत्र के भारतीय समुदाय के नेता बन गए। जैसाकि इतिहासकार चंद्रन देवनेसन ने टिप्पणी की है कि दक्षिण अफ्रीका ने ही गाँधी जी को 'महात्मा' बनाया। दक्षिण अफ्रीका में ही महात्मा गाँधी ने पहली बार सत्याग्रह के रूप में जानी गई अहिंसात्मक विरोध की अपनी विशिष्ट तकनीक का इस्तेमाल किया, विभिन्न धर्मों के बीच सौहार्द बढ़ाने का प्रयास किया तथा उच्च जातीय भारतीयों को निम्न जातियों और महिलाओं के प्रति भेदभाव वाले व्यवहार के लिए चेतावनी दी।

सत्याग्रह की तकनीक/विधि का आविष्कार कहाँ हुआ था?

1. अहमदाबाद
2. चम्पारन
3. खेड़ा
4. दक्षिण अफ्रिका

#### Options :

485584136805. 1  
485584136806. 2  
485584136807. 3  
485584136808. 4

**Question Number : 298 Question Id : 48558434203 Question Type : MCQ Option Shuffling : No Is Question Mandatory : No Calculator : None Response Time : N.A Think Time : N.A Minimum Instruction Time : 0**

**Correct Marks : 5 Wrong Marks : 1**

#### Question Key Details :

Key	Value
Comprehension	Comp2

### Read the passage and answer the questions:

In January 1915, Mohandas Karamchand Gandhi returned to his homeland after two decades of residence abroad. These years had been spent for the most part in South Africa, where he went as a lawyer, and in time became a leader of the Indian community in that territory. As the historian Chandran Devanesan has remarked, South Africa was "the making of the Mahatma". It was in South Africa that Mahatma Gandhi first forged the distinctive techniques of non-violent protest known as satyagraha, first promoted harmony between religions, and first alerted upper-caste Indians to their discriminatory treatment of low castes and women.

Where did Mahatma Gandhi give his first public appearance after returning to India?

1. Kheda
2. Ahmedabad
3. Champaran
4. Banaras

**Options :**

485584136809. 1  
485584136810. 2  
485584136811. 3  
485584136812. 4

**Question Number : 298 Question Id : 48558434203 Question Type : MCQ Option Shuffling : No Is Question Mandatory : No Calculator : None Response Time : N.A Think Time : N.A Minimum Instruction Time : 0**

**Correct Marks : 5 Wrong Marks : 1**

**Question Key Details :**

Key	Value
Comprehension	Comp2

**गद्यांश को पढ़ें और प्रश्नों के उत्तर दें:**

मोहनदास करमचन्द्र गाँधी विदेश में दो दशक रहने के बाद जनवरी 1915 में अपनी गृहभूमि वापस आए। इन वर्षों का अधिकांश हिस्सा उन्होंने दक्षिण अफ्रीका में बिताया। यहाँ वे एक वकील के रूप में गए थे और बाड़ा में वे इस क्षेत्र के भारतीय समुदाय के नेता बन गए। जैसाकि इतिहासकार चंद्रन देवनेसन ने टिप्पणी की है कि दक्षिण अफ्रीका ने ही गाँधी जी को 'महात्मा' बनाया। दक्षिण अफ्रीका में ही महात्मा गाँधी ने पहली बार सत्याग्रह के रूप में जानी गई अहिंसात्मक विरोध की अपनी विशिष्ट तकनीक का इस्तेमाल किया, विभिन्न धर्मों के बीच सौहार्द बढ़ाने का प्रयास किया तथा उच्च जातीय भारतीयों को निम्न जातियों और महिलाओं के प्रति भेदभाव वाले व्यवहार के लिए चेतावनी दी।

भारत वापस आने के बाद महात्मा गांधी ने कहाँ अपनी पहली सार्वजनिक उपस्थिति दर्ज की थी ?

1. खेड़ा
2. अहमदाबाद
3. चम्पारन
4. बनारस

**Options :**

485584136809. 1  
485584136810. 2  
485584136811. 3  
485584136812. 4

**Question Number : 299 Question Id : 48558434204 Question Type : MCQ Option Shuffling : No Is Question Mandatory : No Calculator : None Response Time : N.A Think Time : N.A Minimum Instruction Time : 0**

**Correct Marks : 5 Wrong Marks : 1**

**Question Key Details :**



Key	Value
Comprehension	Comp2

**Read the passage and answer the questions:**

In January 1915, Mohandas Karamchand Gandhi returned to his homeland after two decades of residence abroad. These years had been spent for the most part in South Africa, where he went as a lawyer, and in time became a leader of the Indian community in that territory. As the historian Chandran Devanesan has remarked, South Africa was "the making of the Mahatma". It was in South Africa that Mahatma Gandhi first forged the distinctive techniques of non-violent protest known as satyagraha, first promoted harmony between religions, and first alerted upper-caste Indians to their discriminatory treatment of low castes and women.

Which historian remarked that South Africa was "the making of the Mahatma"?

1. Chandran Devanesan
2. Irafan habib
3. Romila Thapar
4. Seema Alavi

**Options :**

485584136813. 1  
 485584136814. 2  
 485584136815. 3  
 485584136816. 4

**Question Number : 299 Question Id : 48558434204 Question Type : MCQ Option Shuffling : No Is Question Mandatory : No Calculator : None Response Time : N.A Think Time : N.A Minimum Instruction Time : 0**

**Correct Marks : 5 Wrong Marks : 1**

**Question Key Details :**

Key	Value
Comprehension	Comp2

**गद्यांश को पढ़ें और प्रश्नों के उत्तर दें:**

मोहनदास करमचन्द्र गाँधी विदेश में दो दशक रहने के बाद जनवरी 1915 में अपनी गृहभूमि वापस आए। इन वर्षों का अधिकांश हिस्सा उन्होंने दक्षिण अफ्रीकी में बिताया। यहाँ वे एक वकील के रूप में गए थे और बाड़ा में वे इस क्षेत्र के भारतीय समुदाय के नेता बन गए। जैसाकि इतिहासकार चंद्रन देवनेसन ने टिप्पणी की है कि दक्षिण अफ्रीका ने ही गाँधी जी को 'महात्मा' बनाया। दक्षिण अफ्रीका में ही महात्मा गाँधी ने पहली बार सत्याग्रह के रूप में जानी गई अहिंसात्मक विरोध की अपनी विशिष्ट तकनीक का इस्तेमाल किया, विभिन्न धर्मों के बीच सौहार्द बढ़ाने का प्रयास किया तथा उच्च जातीय भारतीयों को निम्न जातियों और महिलाओं के प्रति भेदभाव वाले व्यवहार के लिए चेतावनी दी।

किस इतिहासकार ने टिप्पणी की थी कि दक्षिण अफ्रिका महात्मा का निर्माण स्थान था ?

1. चन्द्रन देवनेसन
2. इरफ़ान हबीब
3. रोमिला थापर
4. सीमा अल्वी

**Options :**

485584136813. 1  
485584136814. 2  
485584136815. 3  
485584136816. 4

**Question Number : 300 Question Id : 48558434205 Question Type : MCQ Option Shuffling : No Is Question Mandatory : No Calculator : None Response Time : N.A Think Time : N.A Minimum Instruction Time : 0**

**Correct Marks : 5 Wrong Marks : 1**

**Question Key Details :**

Key	Value
Comprehension	Comp2

**Read the passage and answer the questions:**

In January 1915, Mohandas Karamchand Gandhi returned to his homeland after two decades of residence abroad. These years had been spent for the most part in South Africa, where he went as a lawyer, and in time became a leader of the Indian community in that territory. As the historian Chandran Devanesan has remarked, South Africa was "the making of the Mahatma". It was in South Africa that Mahatma Gandhi first forged the distinctive techniques of non-violent protest known as satyagraha, first promoted harmony between religions, and first alerted upper-caste Indians to their discriminatory treatment of low castes and women.

Who was Gandhi's political mentor after his return from South Africa?

1. Mohammad Ali Jinnah
2. Gopal Krsihna Gokhale
3. Bipin Chadra Pal
4. Bal Gangadhar Tilak

**Options :**

485584136817. 1  
485584136818. 2  
485584136819. 3  
485584136820. 4

**Question Number : 300 Question Id : 48558434205 Question Type : MCQ Option Shuffling : No Is Question Mandatory : No Calculator : None Response Time : N.A Think Time : N.A Minimum Instruction Time : 0**

**Correct Marks : 5 Wrong Marks : 1**

**Question Key Details :**

Key	Value
Comprehension	Comp2

### गद्यांश को पढ़ें और प्रश्नों के उत्तर दें:

मोहनदास करमचन्द्र गाँधी विदेश में दो दशक रहने के बाद जनवरी 1915 में अपनी गृहभूमि वापस आए। इन वर्षों का अधिकांश हिस्सा उन्होंने दक्षिण अफ्रीकी में बिताया। यहाँ वे एक वकील के रूप में गए थे और बाड़ा में वे इस क्षेत्र के भारतीय समुदाय के नेता बन गए। जैसाकि इतिहासकार चंद्रन देवनेसन ने टिप्पणी की है कि दक्षिण अफ्रीका ने ही गाँधी जी को 'महात्मा' बनाया। दक्षिण अफ्रीका में ही महात्मा गाँधी ने पहली बार सत्याग्रह के रूप में जानी गई अहिंसात्मक विरोध की अपनी विशिष्ट तकनीक का इस्तेमाल किया, विभिन्न धर्मों के बीच सौहार्द बढ़ाने का प्रयास किया तथा उच्च जातीय भारतीयों को निम्न जातियों और महिलाओं के प्रति भेदभाव वाले व्यवहार के लिए चेतावनी दी।

दक्षिण अफ्रीका से वापसी के बाद गांधी का राजनीतिक गुरु कौन था?

1. मोहम्मद अली जिन्ना
2. गोपाल कृष्ण गोखले
3. बिपिन चन्द्र पाल
4. बाल गंगाधर तिलक

#### Options :

485584136817. 1  
485584136818. 2  
485584136819. 3  
485584136820. 4

### KTPI

Group Number :	11
Group Id :	485584778
Group Maximum Duration :	45
Group Minimum Duration :	45
Show Attended Group? :	No
Edit Attended Group? :	No
Break time :	0
Group Marks :	200
Is this Group for Examiner? :	No
Examiner permission :	Cant View
Show Progress Bar? :	No

### KTPI

Section Id :	485584896
Section Number :	1
Section type :	Online
Mandatory or Optional :	Mandatory
Number of Questions :	50
Number of Questions to be attempted :	40

Section Marks : 200  
Enable Mark as Answered Mark for Review and Clear Response : Yes  
Maximum Instruction Time : 0  
Sub-Section Number : 1  
Sub-Section Id : 4855842542  
Question Shuffling Allowed : Yes  
Is Section Default? : null

Question Number : 301 Question Id : 48558434256 Question Type : MCQ Option Shuffling : No Is Question Mandatory :  
No Calculator : None Response Time : N.A Think Time : N.A Minimum Instruction Time : 0  
Correct Marks : 5 Wrong Marks : 1

Question Key Details :

Key	Value
Comprehension	MCQ

How many purusarthas are defined in Hindu way of life?

1. 5
2. 4
3. 2
4. 3

Options :

485584137021. 1  
485584137022. 2  
485584137023. 3  
485584137024. 4

Question Number : 301 Question Id : 48558434256 Question Type : MCQ Option Shuffling : No Is Question Mandatory :  
No Calculator : None Response Time : N.A Think Time : N.A Minimum Instruction Time : 0  
Correct Marks : 5 Wrong Marks : 1

Question Key Details :

Key	Value
Comprehension	MCQ

हिन्दू जीवन पद्धति में कितने पुरुषार्थों को परिभाषित किया गया है?

1. 5
2. 4
3. 2
4. 3

Options :

485584137021. 1  
485584137022. 2  
485584137023. 3  
485584137024. 4

Question Number : 302 Question Id : 48558434257 Question Type : MCQ Option Shuffling : No Is Question Mandatory : No Calculator : None Response Time : N.A Think Time : N.A Minimum Instruction Time : 0

Correct Marks : 5 Wrong Marks : 1

Question Key Details :

Key	Value
Comprehension	MCQ

The word Dhamma is used in :

1. Rgveda
2. Bhagavad-Gita
3. Jain Ethics
4. Buddhism

Options :

485584137025. 1  
485584137026. 2  
485584137027. 3  
485584137028. 4

Question Number : 302 Question Id : 48558434257 Question Type : MCQ Option Shuffling : No Is Question Mandatory : No Calculator : None Response Time : N.A Think Time : N.A Minimum Instruction Time : 0

Correct Marks : 5 Wrong Marks : 1

Question Key Details :

Key	Value
Comprehension	MCQ

धम्म शब्द का प्रयोग हुआ है?

1. ऋगवेद
2. भगवत-गीता
3. जैन नीतिशास्त्र
4. बौद्ध धर्म

Options :

485584137025. 1  
485584137026. 2  
485584137027. 3  
485584137028. 4

Question Number : 303 Question Id : 48558434258 Question Type : MCQ Option Shuffling : No Is Question Mandatory : No Calculator : None Response Time : N.A Think Time : N.A Minimum Instruction Time : 0

Correct Marks : 5 Wrong Marks : 1

Question Key Details :

Key	Value
Comprehension	MCQ

Which stage of life is the grahastha, stage of the householder in the Hindu way of life?

1. 4
2. 2
3. 1
4. 3

**Options :**

485584137029. 1  
485584137030. 2  
485584137031. 3  
485584137032. 4

**Question Number : 303 Question Id : 48558434258 Question Type : MCQ Option Shuffling : No Is Question Mandatory : No Calculator : None Response Time : N.A Think Time : N.A Minimum Instruction Time : 0**

**Correct Marks : 5 Wrong Marks : 1**

**Question Key Details :**

Key	Value
Comprehension	MCQ

हिन्दु जीवन पद्धति के अनुसार, गृहस्थ जीवन की कौन सी अवस्था है?

1. 4
2. 2
3. 1
4. 3

**Options :**

485584137029. 1  
485584137030. 2  
485584137031. 3  
485584137032. 4

**Question Number : 304 Question Id : 48558434259 Question Type : MCQ Option Shuffling : No Is Question Mandatory : No Calculator : None Response Time : N.A Think Time : N.A Minimum Instruction Time : 0**

**Correct Marks : 5 Wrong Marks : 1**

**Question Key Details :**

Key	Value
Comprehension	MCQ

Who among the following is associated with Niti Satakam?

1. Vidur
2. Sukracarya
3. Bharrhari
4. King Bhoja

**Options :**

485584137033. 1  
485584137034. 2  
485584137035. 3  
485584137036. 4

**Question Number : 304 Question Id : 48558434259 Question Type : MCQ Option Shuffling : No Is Question Mandatory : No Calculator : None Response Time : N.A Think Time : N.A Minimum Instruction Time : 0**

**Correct Marks : 5 Wrong Marks : 1**

**Question Key Details :**

Key	Value
Comprehension	MCQ

निम्नलिखित में से कौन नीति सतकम से जुड़ा हुआ है?

1. विदुर
2. शुक्राचार्य
3. भर्तृहरि
4. राजा भोज

**Options :**

485584137033. 1  
485584137034. 2  
485584137035. 3  
485584137036. 4

**Question Number : 305 Question Id : 48558434260 Question Type : MCQ Option Shuffling : No Is Question Mandatory : No Calculator : None Response Time : N.A Think Time : N.A Minimum Instruction Time : 0**

**Correct Marks : 5 Wrong Marks : 1**

**Question Key Details :**

Key	Value
Comprehension	MCQ

Which among the following is the basis of the Buddhist ethics?

1. Compassion
2. Friendliness
3. Good will
4. Four Noble Truths

**Options :**

485584137037. 1  
485584137038. 2  
485584137039. 3  
485584137040. 4

**Question Number : 305 Question Id : 48558434260 Question Type : MCQ Option Shuffling : No Is Question Mandatory : No Calculator : None Response Time : N.A Think Time : N.A Minimum Instruction Time : 0**

**Correct Marks : 5 Wrong Marks : 1**

**Question Key Details :**

Key	Value
Comprehension	MCQ

निम्नलिखित में से कौन सा बौद्ध नैतिकता का आधार है?

1. करुणा
2. मित्रता
3. सद्भाव
4. चार महान सत्य

**Options :**

485584137037. 1  
485584137038. 2  
485584137039. 3  
485584137040. 4

**Question Number : 306 Question Id : 48558434261 Question Type : MCQ Option Shuffling : No Is Question Mandatory : No Calculator : None Response Time : N.A Think Time : N.A Minimum Instruction Time : 0**

**Correct Marks : 5 Wrong Marks : 1**

**Question Key Details :**

Key	Value
Comprehension	MCQ



In which age the tradition of excavating cave temples and monolithic shrines evolved into the construction of brick and stone temple

1. Maurya age
2. Gupta age
3. Kushan age
4. Mughal age

**Options :**

485584137041. 1  
485584137042. 2  
485584137043. 3  
485584137044. 4

**Question Number : 306 Question Id : 48558434261 Question Type : MCQ Option Shuffling : No Is Question Mandatory : No Calculator : None Response Time : N.A Think Time : N.A Minimum Instruction Time : 0**

**Correct Marks : 5 Wrong Marks : 1**

**Question Key Details :**

Key	Value
Comprehension	MCQ

किस युग में गुफा मंदिरों और एकचट्टानी मंदिरों के निमणी का स्थानांतरण ईटों और पत्थरों के मंदिरों से होना लगा?

1. मौर्य काल
2. गुप्त काल
3. कुषाण काल
4. मुगल काल

**Options :**

485584137041. 1  
485584137042. 2  
485584137043. 3  
485584137044. 4

**Question Number : 307 Question Id : 48558434262 Question Type : MCQ Option Shuffling : No Is Question Mandatory : No Calculator : None Response Time : N.A Think Time : N.A Minimum Instruction Time : 0**

**Correct Marks : 5 Wrong Marks : 1**

**Question Key Details :**

Key	Value
Comprehension	MCQ

Match List I with List II

LIST I		LIST II	
A.	Kuchipudi	I.	Uttar Pradesh
B.	Sattriya	II.	Tamil Nadu
C.	Kathak	III.	Andhra Pradesh
D.	Bharatanatyam	IV.	Assam

Choose the correct answer from the options given below:

1. A-III, B-I, C-IV, D-II
2. A-IV, B-II, C-I, D-III
3. A-III, B-IV, C-I, D-II
4. A-I, B-III, C-II, D-IV

**Options :**

485584137045. 1  
485584137046. 2  
485584137047. 3  
485584137048. 4

**Question Number : 307 Question Id : 48558434262 Question Type : MCQ Option Shuffling : No Is Question Mandatory : No Calculator : None Response Time : N.A Think Time : N.A Minimum Instruction Time : 0**

**Correct Marks : 5 Wrong Marks : 1**

**Question Key Details :**

Key	Value
Comprehension	MCQ

सूची I का सूची II से मिलान कीजिए

सूची I		सूची II	
A.	कुचिपुड़ी	I.	उत्तर प्रदेश
B.	सत्तरिया	II.	तमिलनाडु
C.	कथक	III.	आंध्र प्रदेश
D.	भरतनाट्यम्	IV.	असम

निम्नलिखित विकल्पों में से सही उत्तर का चयन कीजिए :

1. A-III, B-I, C-IV, D-II
2. A-IV, B-II, C-I, D-III
3. A-III, B-IV, C-I, D-II
4. A-I, B-III, C-II, D-IV

**Options :**

485584137045. 1  
485584137046. 2  
485584137047. 3  
485584137048. 4

Question Number : 308 Question Id : 48558434263 Question Type : MCQ Option Shuffling : No Is Question Mandatory : No Calculator : None Response Time : N.A Think Time : N.A Minimum Instruction Time : 0

Correct Marks : 5 Wrong Marks : 1

Question Key Details :

Key	Value
Comprehension	MCQ

In India where do you find sculptures depicting odissi style?

1. Caves of Ellora
2. Caves of Udayagiri and Khandagiri
3. Caves of Ajanta
4. Caves of Nilgiri

Options :

485584137049. 1  
485584137050. 2  
485584137051. 3  
485584137052. 4

Question Number : 308 Question Id : 48558434263 Question Type : MCQ Option Shuffling : No Is Question Mandatory : No Calculator : None Response Time : N.A Think Time : N.A Minimum Instruction Time : 0

Correct Marks : 5 Wrong Marks : 1

Question Key Details :

Key	Value
Comprehension	MCQ

भारत में ओडिसी शैली को दर्शाती मूर्तियाँ कहाँ मिलती हैं?

1. एलोरा की गुफा में
2. उदयगिरी और खंदारी की गुफा में
3. अजन्ता की गुफा में
4. नीलगिरी की गुफा में

Options :

485584137049. 1  
485584137050. 2  
485584137051. 3  
485584137052. 4

Question Number : 309 Question Id : 48558434264 Question Type : MCQ Option Shuffling : No Is Question Mandatory : No Calculator : None Response Time : N.A Think Time : N.A Minimum Instruction Time : 0

Correct Marks : 5 Wrong Marks : 1

Question Key Details :

Key	Value
Comprehension	MCQ

In 1930s, E. Krishna Iyer and Rukmini Devi Arundale renamed Sadirattam as \_\_\_\_\_ ?

1. Odissi
2. Kucipudi
3. Manipuri
4. Bharatanatyam

**Options :**

485584137053. 1  
485584137054. 2  
485584137055. 3  
485584137056. 4

**Question Number : 309 Question Id : 48558434264 Question Type : MCQ Option Shuffling : No Is Question Mandatory : No Calculator : None Response Time : N.A Think Time : N.A Minimum Instruction Time : 0**

**Correct Marks : 5 Wrong Marks : 1**

**Question Key Details :**

Key	Value
Comprehension	MCQ

1930 के दशक में ई. कृष्ण अय्यर और रुकमणी देवी अरूंडले ने सादिरअट्टम का नाम परिवर्तित कर के रख दिया था \_\_\_\_\_।

1. ओडिसी
2. कुचिपुड़ी
3. मणिपुरी
4. भरतनाट्यम्

**Options :**

485584137053. 1  
485584137054. 2  
485584137055. 3  
485584137056. 4

**Question Number : 310 Question Id : 48558434265 Question Type : MCQ Option Shuffling : No Is Question Mandatory : No Calculator : None Response Time : N.A Think Time : N.A Minimum Instruction Time : 0**

**Correct Marks : 5 Wrong Marks : 1**

**Question Key Details :**

Key	Value
Comprehension	MCQ

The ( Brhadesvara ) temple of Thanjavur belongs to which century?

1. 9th century
2. 10th Century
3. 11th Century
4. 12th Century

**Options :**

485584137057. 1  
485584137058. 2  
485584137059. 3  
485584137060. 4

**Question Number : 310 Question Id : 48558434265 Question Type : MCQ Option Shuffling : No Is Question Mandatory : No Calculator : None Response Time : N.A Think Time : N.A Minimum Instruction Time : 0**

**Correct Marks : 5 Wrong Marks : 1**

**Question Key Details :**

Key	Value
Comprehension	MCQ

बृहदेश्वर मंदिर किस शताब्दी का है?

1. 9 वीं शताब्दी
2. 10 वीं शताब्दी
3. 11 वीं शताब्दी
4. 12 वीं शताब्दी

**Options :**

485584137057. 1  
485584137058. 2  
485584137059. 3  
485584137060. 4

**Question Number : 311 Question Id : 48558434266 Question Type : MCQ Option Shuffling : No Is Question Mandatory : No Calculator : None Response Time : N.A Think Time : N.A Minimum Instruction Time : 0**

**Correct Marks : 5 Wrong Marks : 1**

**Question Key Details :**

Key	Value
Comprehension	MCQ

Dharma required all including students in the ancient days to perform their

1. Work
2. Skills
3. Duty
4. Prayers

**Options :**

485584137061. 1  
485584137062. 2  
485584137063. 3  
485584137064. 4

**Question Number : 311 Question Id : 48558434266 Question Type : MCQ Option Shuffling : No Is Question Mandatory : No Calculator : None Response Time : N.A Think Time : N.A Minimum Instruction Time : 0**

**Correct Marks : 5 Wrong Marks : 1**

**Question Key Details :**

Key	Value
Comprehension	MCQ

प्राचीन काल में धर्म में विद्यार्थियों सहित सभी को अपना क्या प्रदर्शन करने की आवश्यकता थी -

1. कार्य
2. कौशलता
3. कर्त्तव्य
4. प्रार्थना

**Options :**

485584137061. 1  
485584137062. 2  
485584137063. 3  
485584137064. 4

**Question Number : 312 Question Id : 48558434267 Question Type : MCQ Option Shuffling : No Is Question Mandatory : No Calculator : None Response Time : N.A Think Time : N.A Minimum Instruction Time : 0**

**Correct Marks : 5 Wrong Marks : 1**

**Question Key Details :**

Key	Value
Comprehension	MCQ

The Sastras are classified into:

1. Sastra and Kavya
2. Pauruseya and Apauruseya
3. Vedas and Vedangas
4. Siksa and Kalpa

**Options :**

485584137065. 1  
485584137066. 2  
485584137067. 3  
485584137068. 4

**Question Number : 312 Question Id : 48558434267 Question Type : MCQ Option Shuffling : No Is Question Mandatory : No Calculator : None Response Time : N.A Think Time : N.A Minimum Instruction Time : 0**

**Correct Marks : 5 Wrong Marks : 1**

**Question Key Details :**

Key	Value
Comprehension	MCQ

शास्त्र वर्गीकृत है:

1. शास्त्र और काव्य
2. पौरुषेय और अपौरुषेय
3. वेद और वेदांग
4. शिक्षा और कल्प

**Options :**

485584137065. 1  
485584137066. 2  
485584137067. 3  
485584137068. 4

**Question Number : 313 Question Id : 48558434268 Question Type : MCQ Option Shuffling : No Is Question Mandatory : No Calculator : None Response Time : N.A Think Time : N.A Minimum Instruction Time : 0**

**Correct Marks : 5 Wrong Marks : 1**

**Question Key Details :**

Key	Value
Comprehension	MCQ

Which among the following is not a part of Vedanga?

1. Siksa
2. Kavya
3. Kalpa
4. Vyakarana

**Options :**

485584137069. 1  
485584137070. 2  
485584137071. 3  
485584137072. 4

**Question Number : 313 Question Id : 48558434268 Question Type : MCQ Option Shuffling : No Is Question Mandatory : No Calculator : None Response Time : N.A Think Time : N.A Minimum Instruction Time : 0**

**Correct Marks : 5 Wrong Marks : 1**

**Question Key Details :**

Key	Value
Comprehension	MCQ

निम्नलिखित में से कौन वेदांग का भाग नहीं है?

1. शिक्षा
2. काव्य
3. कल्प
4. व्याकरण

**Options :**

485584137069. 1  
485584137070. 2  
485584137071. 3  
485584137072. 4

**Question Number : 314 Question Id : 48558434269 Question Type : MCQ Option Shuffling : No Is Question Mandatory : No Calculator : None Response Time : N.A Think Time : N.A Minimum Instruction Time : 0**

**Correct Marks : 5 Wrong Marks : 1**

**Question Key Details :**

Key	Value
Comprehension	MCQ



Pauruseya literature is also known as

1. Sruti literature
2. Sastrartha
3. Kavya
4. Smriti Literature

**Options :**

485584137073. 1  
485584137074. 2  
485584137075. 3  
485584137076. 4

**Question Number : 314 Question Id : 48558434269 Question Type : MCQ Option Shuffling : No Is Question Mandatory : No Calculator : None Response Time : N.A Think Time : N.A Minimum Instruction Time : 0**

**Correct Marks : 5 Wrong Marks : 1**

**Question Key Details :**

Key	Value
Comprehension	MCQ

पौरुषेय साहित्य को जाना जाता है:

1. श्रुति साहित्य
2. शास्त्रार्थ
3. काव्य
4. स्मृति साहित्य

**Options :**

485584137073. 1  
485584137074. 2  
485584137075. 3  
485584137076. 4

**Question Number : 315 Question Id : 48558434270 Question Type : MCQ Option Shuffling : No Is Question Mandatory : No Calculator : None Response Time : N.A Think Time : N.A Minimum Instruction Time : 0**

**Correct Marks : 5 Wrong Marks : 1**

**Question Key Details :**

Key	Value
Comprehension	MCQ

Which among the following is not a stage of path to knowledge as given in the Brhadaranyaka upanisad?

1. Sravana
2. Sastrartha
3. Manana
4. Nidhidhyasana

**Options :**

485584137077. 1  
485584137078. 2  
485584137079. 3  
485584137080. 4

**Question Number : 315 Question Id : 48558434270 Question Type : MCQ Option Shuffling : No Is Question Mandatory : No Calculator : None Response Time : N.A Think Time : N.A Minimum Instruction Time : 0**

**Correct Marks : 5 Wrong Marks : 1**

**Question Key Details :**

Key	Value
Comprehension	MCQ

बृहदारण्यक उपनिषद के अनुसार निम्नलिखित में कौन सा ज्ञान के पथ का चरण नहीं है?

1. श्रवण
2. शास्त्रार्थ
3. मनन
4. निधिध्यासन

**Options :**

485584137077. 1  
485584137078. 2  
485584137079. 3  
485584137080. 4

**Question Number : 316 Question Id : 48558434271 Question Type : MCQ Option Shuffling : No Is Question Mandatory : No Calculator : None Response Time : N.A Think Time : N.A Minimum Instruction Time : 0**

**Correct Marks : 5 Wrong Marks : 1**

**Question Key Details :**

Key	Value
Comprehension	MCQ

Arrange the four ends of life (Purusartha Catustaya) in sequence.

- A. Kama
- B. Moksa
- C. Artha
- D. Dharma

Choose the correct answer from the options given below:

1. A, B, D, C
2. B, C, A, D
3. D, C, A, B
4. C, A, B, D

**Options :**

- 485584137081. 1
- 485584137082. 2
- 485584137083. 3
- 485584137084. 4

**Question Number : 316 Question Id : 48558434271 Question Type : MCQ Option Shuffling : No Is Question Mandatory : No Calculator : None Response Time : N.A Think Time : N.A Minimum Instruction Time : 0**

**Correct Marks : 5 Wrong Marks : 1**

**Question Key Details :**

Key	Value
Comprehension	MCQ

जीवन के चार प्रयोजनों (पुरुषार्थ चातुस्तय) को क्रमबद्ध करें।

- A. कर्म
- B. मोक्ष
- C. अर्थ
- D. धर्म

नीचे दीए गए विकल्पों में से सही विकल्प चुनें:

1. A, B, D, C
2. B, C, A, D
3. D, C, A, B
4. C, A, B, D

**Options :**

- 485584137081. 1
- 485584137082. 2
- 485584137083. 3
- 485584137084. 4

Question Number : 317 Question Id : 48558434272 Question Type : MCQ Option Shuffling : No Is Question Mandatory : No Calculator : None Response Time : N.A Think Time : N.A Minimum Instruction Time : 0

Correct Marks : 5 Wrong Marks : 1

Question Key Details :

Key	Value
Comprehension	MCQ

Name the Chinese Scholars who visited Nalanda in the 7th century CE.

- A. I-tsing
- B. Hsuan-tsang
- C. Ba Jin
- D. Kang Youwei

Choose the correct answer from the options given below:

- 1. A and B only
- 2. B and C only
- 3. C and D only
- 4. D and A only

Options :

- 485584137085. 1
- 485584137086. 2
- 485584137087. 3
- 485584137088. 4

Question Number : 317 Question Id : 48558434272 Question Type : MCQ Option Shuffling : No Is Question Mandatory : No Calculator : None Response Time : N.A Think Time : N.A Minimum Instruction Time : 0

Correct Marks : 5 Wrong Marks : 1

Question Key Details :

Key	Value
Comprehension	MCQ

7 वीं शताब्दी ईस्वी में नालंदा की यात्रा करने वाले चीनी यात्रियों के नाम लिखिए:

- A. इत्सिंग
- B. ह्वेन - सांग
- C. बा जिन
- D. कांग यूवेई

नीचे दीए गए विकल्पों में से सही विकल्प चुनें:

- 1. केवल A और B
- 2. केवल B और C
- 3. केवल C और D
- 4. केवल D और A

Options :

485584137085. 1  
485584137086. 2  
485584137087. 3  
485584137088. 4

**Question Number : 318 Question Id : 48558434273 Question Type : MCQ Option Shuffling : No Is Question Mandatory : No Calculator : None Response Time : N.A Think Time : N.A Minimum Instruction Time : 0**

**Correct Marks : 5 Wrong Marks : 1**

**Question Key Details :**

Key	Value
Comprehension	MCQ

Match List I with List II

LIST I		LIST II	
A.	Krida	I.	Archery, sword play
B.	Vyayama Prakara	II.	Pranayama, asana
C.	Yoga - Sadhana	III.	games, recreational activities
D.	Dhanurveda	IV.	Various types of exercises

Choose the correct answer from the options given below:

1. A-III, B-II, C-IV, D-I
2. A-II, B-III, C-I, D-IV
3. A-III, B-IV, C-II, D-I
4. A-I, B-II, C-III, D-IV

**Options :**

485584137089. 1  
485584137090. 2  
485584137091. 3  
485584137092. 4

**Question Number : 318 Question Id : 48558434273 Question Type : MCQ Option Shuffling : No Is Question Mandatory : No Calculator : None Response Time : N.A Think Time : N.A Minimum Instruction Time : 0**

**Correct Marks : 5 Wrong Marks : 1**

**Question Key Details :**

Key	Value
Comprehension	MCQ

सूची I का सूची II से मिलान कीजिए

सूची I		सूची II	
A.	क्रीड़ा	I.	तीरंदाजी और तलवारबाज़ी
B.	व्यायाम प्रकार	II.	प्राणायाम, आसन
C.	योग-साधना	III.	खेल, मनोरंजक गतिविधियाँ
D.	धनुर्वेद	IV.	विभिन्न प्रकार के अभ्यास

निम्नलिखित विकल्पों में से सही उत्तर का चयन कीजिए :

1. A-III, B-II, C-IV, D-I
2. A-II, B-III, C-I, D-IV
3. A-III, B-IV, C-II, D-I
4. A-I, B-II, C-III, D-IV

**Options :**

485584137089. 1  
485584137090. 2  
485584137091. 3  
485584137092. 4

**Question Number : 319 Question Id : 48558434274 Question Type : MCQ Option Shuffling : No Is Question Mandatory : No Calculator : None Response Time : N.A Think Time : N.A Minimum Instruction Time : 0**

**Correct Marks : 5 Wrong Marks : 1**

**Question Key Details :**

Key	Value
Comprehension	MCQ

Three gems in life are right vision, right knowledge and \_\_\_\_\_

1. right choice
2. right step
3. right conduct
4. right word

**Options :**

485584137093. 1  
485584137094. 2  
485584137095. 3  
485584137096. 4

**Question Number : 319 Question Id : 48558434274 Question Type : MCQ Option Shuffling : No Is Question Mandatory : No Calculator : None Response Time : N.A Think Time : N.A Minimum Instruction Time : 0**

**Correct Marks : 5 Wrong Marks : 1**

**Question Key Details :**

Key	Value
Comprehension	MCQ

जीवन के त्रि-रत्न हैं सम्यक दृष्टि, सम्यक ज्ञान और \_\_\_\_\_

1. सम्यक विकल्प
2. सम्यक पग
3. सम्यक आचरण
4. सम्यक शब्द

**Options :**

485584137093. 1  
485584137094. 2  
485584137095. 3  
485584137096. 4

**Question Number : 320 Question Id : 48558434275 Question Type : MCQ Option Shuffling : No Is Question Mandatory : No Calculator : None Response Time : N.A Think Time : N.A Minimum Instruction Time : 0**

**Correct Marks : 5 Wrong Marks : 1**

**Question Key Details :**

Key	Value
Comprehension	MCQ

According to Jainism Spiritual growth is dependent upon \_\_\_\_\_

1. religious rituals
2. hygienic food
3. meditation
4. right conduct

**Options :**

485584137097. 1  
485584137098. 2  
485584137099. 3  
485584137100. 4

**Question Number : 320 Question Id : 48558434275 Question Type : MCQ Option Shuffling : No Is Question Mandatory : No Calculator : None Response Time : N.A Think Time : N.A Minimum Instruction Time : 0**

**Correct Marks : 5 Wrong Marks : 1**

**Question Key Details :**

Key	Value
Comprehension	MCQ

जैन धर्म के अनुसार आध्यात्मिकता निर्भर है -

1. धार्मिक संस्कार
2. स्वच्छ भोजन
3. ध्यान
4. सम्यक आचरण

**Options :**

485584137097. 1  
485584137098. 2  
485584137099. 3  
485584137100. 4

**Question Number : 321 Question Id : 48558434276 Question Type : MCQ Option Shuffling : No Is Question Mandatory : No Calculator : None Response Time : N.A Think Time : N.A Minimum Instruction Time : 0**

**Correct Marks : 5 Wrong Marks : 1**

**Question Key Details :**

Key	Value
Comprehension	MCQ

Who are the first poets according to the ancient Indian Tradition?

1. Rshis
2. Vedic Seers
3. Dialecticians
4. Grammarians

**Options :**

485584137101. 1  
485584137102. 2  
485584137103. 3  
485584137104. 4

**Question Number : 321 Question Id : 48558434276 Question Type : MCQ Option Shuffling : No Is Question Mandatory : No Calculator : None Response Time : N.A Think Time : N.A Minimum Instruction Time : 0**

**Correct Marks : 5 Wrong Marks : 1**

**Question Key Details :**

Key	Value
Comprehension	MCQ



प्राचीन भारतीय परम्परा के अनुसार कौन सबसे पहले कवि थे?

1. ऋषि
2. वेदिक ऋषि
3. न्याविद्
4. व्याकरण विद्

**Options :**

485584137101. 1  
485584137102. 2  
485584137103. 3  
485584137104. 4

**Question Number : 322 Question Id : 48558434277 Question Type : MCQ Option Shuffling : No Is Question Mandatory : No Calculator : None Response Time : N.A Think Time : N.A Minimum Instruction Time : 0**

**Correct Marks : 5 Wrong Marks : 1**

**Question Key Details :**

Key	Value
Comprehension	MCQ

Which among the following is referred as 'one of the living monuments of human intelligence'?

1. Language
2. Astadhyayi
3. Mahabhasya
4. Vakyapadiya

**Options :**

485584137105. 1  
485584137106. 2  
485584137107. 3  
485584137108. 4

**Question Number : 322 Question Id : 48558434277 Question Type : MCQ Option Shuffling : No Is Question Mandatory : No Calculator : None Response Time : N.A Think Time : N.A Minimum Instruction Time : 0**

**Correct Marks : 5 Wrong Marks : 1**

**Question Key Details :**

Key	Value
Comprehension	MCQ

निम्नलिखित में से किसे मानव बुद्धिमत्ता का जीवंत स्मारक के रूप में जाना जाता है?

1. भाषा
2. अष्टध्यायी
3. महाभाष्य
4. वाक्यपडिया

**Options :**

485584137105. 1  
485584137106. 2  
485584137107. 3  
485584137108. 4

**Question Number : 323 Question Id : 48558434278 Question Type : MCQ Option Shuffling : No Is Question Mandatory : No Calculator : None Response Time : N.A Think Time : N.A Minimum Instruction Time : 0**

**Correct Marks : 5 Wrong Marks : 1**

**Question Key Details :**

Key	Value
Comprehension	MCQ

How many sutras are given in the invaluable work of Panini's Astadhyayi?

1. 2,000
2. 1,000
3. 4,000
4. 3,000

**Options :**

485584137109. 1  
485584137110. 2  
485584137111. 3  
485584137112. 4

**Question Number : 323 Question Id : 48558434278 Question Type : MCQ Option Shuffling : No Is Question Mandatory : No Calculator : None Response Time : N.A Think Time : N.A Minimum Instruction Time : 0**

**Correct Marks : 5 Wrong Marks : 1**

**Question Key Details :**

Key	Value
Comprehension	MCQ

पाणिनी की अष्टध्यायी में कितने अमूल्य सूत्र दिए गए हैं?

1. 2,000

2. 1,000

3. 4,000

4. 3,000

**Options :**

485584137109. 1

485584137110. 2

485584137111. 3

485584137112. 4

**Question Number : 324 Question Id : 48558434279 Question Type : MCQ Option Shuffling : No Is Question Mandatory : No Calculator : None Response Time : N.A Think Time : N.A Minimum Instruction Time : 0**

**Correct Marks : 5 Wrong Marks : 1**

**Question Key Details :**

Key	Value
Comprehension	MCQ

Match List I with List II

LIST I		LIST II	
A.	Ghumar	I.	Ring dance
B.	Kalbela	II.	Rhythmic Clapping
C.	Giddha	III.	Swirling robes
D.	Garba	IV.	Black Swirling skirts

Choose the correct answer from the options given below:

1. A-I, B-II, C-III, D-IV

2. A-III, B-IV, C-I, D-II

3. A-II, B-III, C-IV, D-I

4. A-I, B-II, C-IV, D-III

**Options :**

485584137113. 1

485584137114. 2

485584137115. 3

485584137116. 4

**Question Number : 324 Question Id : 48558434279 Question Type : MCQ Option Shuffling : No Is Question Mandatory : No Calculator : None Response Time : N.A Think Time : N.A Minimum Instruction Time : 0**

**Correct Marks : 5 Wrong Marks : 1**

**Question Key Details :**

Key	Value
Comprehension	MCQ

सूची I का सूची II से मिलान कीजिए

सूची I		सूची II	
A.	धूमर	I.	गोला बनाकर नृत्य
B.	कालबेलिया	II.	लयबद्ध ताली
C.	गिद्धा	III.	घूर्णमान वस्त्र
D.	गरबा	IV.	घूर्णमान श्याम घाघरा

निम्नलिखित विकल्पों में से सही उत्तर का चयन कीजिए :

1. A-I, B-II, C-III, D-IV
2. A-III, B-IV, C-I, D-II
3. A-II, B-III, C-IV, D-I
4. A-I, B-II, C-IV, D-III

**Options :**

485584137113. 1  
485584137114. 2  
485584137115. 3  
485584137116. 4

**Question Number : 325 Question Id : 48558434280 Question Type : MCQ Option Shuffling : No Is Question Mandatory : No Calculator : None Response Time : N.A Think Time : N.A Minimum Instruction Time : 0**

**Correct Marks : 5 Wrong Marks : 1**

**Question Key Details :**

Key	Value
Comprehension	MCQ

Hindu temple architecture is divided into different types. Choose the correct number to define different types.

1. 3
2. 2
3. 4
4. 1

**Options :**

485584137117. 1  
485584137118. 2  
485584137119. 3  
485584137120. 4

**Question Number : 325 Question Id : 48558434280 Question Type : MCQ Option Shuffling : No Is Question Mandatory : No Calculator : None Response Time : N.A Think Time : N.A Minimum Instruction Time : 0**

**Correct Marks : 5 Wrong Marks : 1**

**Question Key Details :**

Key	Value
Comprehension	MCQ

हिन्दू मंदिर वास्तुकला को विभिन्न प्रकारों में विभाजित किया है। विभिन्न प्रकारों को परिभाषित करने के लिए सही संख्या चुनें -

1. 3

2. 2

3. 4

4. 1

**Options :**

485584137117. 1

485584137118. 2

485584137119. 3

485584137120. 4

**Question Number : 326 Question Id : 48558434281 Question Type : MCQ Option Shuffling : No Is Question Mandatory : No Calculator : None Response Time : N.A Think Time : N.A Minimum Instruction Time : 0**

**Correct Marks : 5 Wrong Marks : 1**

**Question Key Details :**

Key	Value
Comprehension	MCQ

The origin of Indian temple architecture can be traced to

1. Vedic times

2. Gupta Period

3. Medieval Period

4. Modern Period

**Options :**

485584137121. 1

485584137122. 2

485584137123. 3

485584137124. 4

**Question Number : 326 Question Id : 48558434281 Question Type : MCQ Option Shuffling : No Is Question Mandatory : No Calculator : None Response Time : N.A Think Time : N.A Minimum Instruction Time : 0**

**Correct Marks : 5 Wrong Marks : 1**

**Question Key Details :**

Key	Value
Comprehension	MCQ

भारतीय मंदिर वास्तुकला की उत्पत्ति का अनुरेखण किया जा सकता है?

1. वैदिक काल
2. गुप्त काल
3. मध्यकाल
4. आधुनिक काल

**Options :**

485584137121. 1  
485584137122. 2  
485584137123. 3  
485584137124. 4

**Question Number : 327 Question Id : 48558434282 Question Type : MCQ Option Shuffling : No Is Question Mandatory : No Calculator : None Response Time : N.A Think Time : N.A Minimum Instruction Time : 0**

**Correct Marks : 5 Wrong Marks : 1**

**Question Key Details :**

Key	Value
Comprehension	MCQ

One central objective of Indian temple architecture is to connect human beings to

1. The world
2. The Religion
3. The community
4. The Universe

**Options :**

485584137125. 1  
485584137126. 2  
485584137127. 3  
485584137128. 4

**Question Number : 327 Question Id : 48558434282 Question Type : MCQ Option Shuffling : No Is Question Mandatory : No Calculator : None Response Time : N.A Think Time : N.A Minimum Instruction Time : 0**

**Correct Marks : 5 Wrong Marks : 1**

**Question Key Details :**

Key	Value
Comprehension	MCQ

भारतीय मंदिर स्थापत्य कला का एक मुख्य उद्देश्य मनुष्य को किससे जोड़ना है?

1. विश्व
2. धर्म
3. समुदाय
4. ब्रह्मांड

**Options :**

485584137125. 1  
485584137126. 2  
485584137127. 3  
485584137128. 4

**Question Number : 328 Question Id : 48558434283 Question Type : MCQ Option Shuffling : No Is Question Mandatory : No Calculator : None Response Time : N.A Think Time : N.A Minimum Instruction Time : 0**

**Correct Marks : 5 Wrong Marks : 1**

**Question Key Details :**

Key	Value
Comprehension	MCQ

What is the concept of monolithic temples among the following:

1. Carved wholly out of one piece of rock
2. made in monolithic era
3. made in stones from very ancient times
4. only the deity is carved from and one stone

**Options :**

485584137129. 1  
485584137130. 2  
485584137131. 3  
485584137132. 4

**Question Number : 328 Question Id : 48558434283 Question Type : MCQ Option Shuffling : No Is Question Mandatory : No Calculator : None Response Time : N.A Think Time : N.A Minimum Instruction Time : 0**

**Correct Marks : 5 Wrong Marks : 1**

**Question Key Details :**

Key	Value
Comprehension	MCQ

निम्नलिखित में से एकाश्मक मंदिरों की अवधारणा क्या है?

1. पूर्णतः पाषाण के एक खंड से निर्मित
2. एकाश्मक काल में निर्मित
3. प्राचीन काल में पाषाण निर्मित
4. केवल देवता को पाषाण के एक खंड से निर्मित किया है

**Options :**

485584137129. 1  
485584137130. 2  
485584137131. 3  
485584137132. 4

**Question Number : 329 Question Id : 48558434284 Question Type : MCQ Option Shuffling : No Is Question Mandatory : No Calculator : None Response Time : N.A Think Time : N.A Minimum Instruction Time : 0**

**Correct Marks : 5 Wrong Marks : 1**

**Question Key Details :**

Key	Value
Comprehension	MCQ

How many types of fight are included in vajramusti?

1. 6
2. 4
3. 3
4. 5

**Options :**

485584137133. 1  
485584137134. 2  
485584137135. 3  
485584137136. 4

**Question Number : 329 Question Id : 48558434284 Question Type : MCQ Option Shuffling : No Is Question Mandatory : No Calculator : None Response Time : N.A Think Time : N.A Minimum Instruction Time : 0**

**Correct Marks : 5 Wrong Marks : 1**

**Question Key Details :**

Key	Value
Comprehension	MCQ



वज्रमुष्टि में कितने प्रकार के संघर्षों का वर्णन है?

1. 6

2. 4

3. 3

4. 5

**Options :**

485584137133. 1

485584137134. 2

485584137135. 3

485584137136. 4

**Question Number : 330 Question Id : 48558434285 Question Type : MCQ Option Shuffling : No Is Question Mandatory : No Calculator : None Response Time : N.A Think Time : N.A Minimum Instruction Time : 0**

**Correct Marks : 5 Wrong Marks : 1**

**Question Key Details :**

Key	Value
Comprehension	MCQ

Give name of one of the oldest Martial Arts in existence which is said to have originated in Kerala?

1. Ankavinoda

2. Sastrasrama

3. Mallakhamba

4. Kalaripayattu

**Options :**

485584137137. 1

485584137138. 2

485584137139. 3

485584137140. 4

**Question Number : 330 Question Id : 48558434285 Question Type : MCQ Option Shuffling : No Is Question Mandatory : No Calculator : None Response Time : N.A Think Time : N.A Minimum Instruction Time : 0**

**Correct Marks : 5 Wrong Marks : 1**

**Question Key Details :**

Key	Value
Comprehension	MCQ

अस्तित्व में सबसे प्राचीन मार्शल आर्ट में से एक का नाम बताएं, जिसके बारे में कहा जाता है कि इसकी उत्पत्ति केरल में हुई थी?

1. अंकविनोद
2. शास्त्रश्रम
3. मल्लखंब
4. कलारिप्पयट्टु

**Options :**

485584137137. 1  
485584137138. 2  
485584137139. 3  
485584137140. 4

**Question Number : 331 Question Id : 48558434286 Question Type : MCQ Option Shuffling : No Is Question Mandatory : No Calculator : None Response Time : N.A Think Time : N.A Minimum Instruction Time : 0**

**Correct Marks : 5 Wrong Marks : 1**

**Question Key Details :**

Key	Value
Comprehension	MCQ

Chint was brought to Europe by which traders?

1. Italian and German traders
2. Portuguese and Dutch traders
3. Dutch and Italian Traders
4. German and Irish Traders

**Options :**

485584137141. 1  
485584137142. 2  
485584137143. 3  
485584137144. 4

**Question Number : 331 Question Id : 48558434286 Question Type : MCQ Option Shuffling : No Is Question Mandatory : No Calculator : None Response Time : N.A Think Time : N.A Minimum Instruction Time : 0**

**Correct Marks : 5 Wrong Marks : 1**

**Question Key Details :**

Key	Value
Comprehension	MCQ

चिंट को किस व्यापारी द्वारा यूरोप लाया गया था?

1. इतालवी और जर्मन व्यापारी
2. पुर्तगाली और डच व्यापारी
3. डच और इतालवी व्यापारी
4. जर्मन और आयरिश व्यापारी

**Options :**

485584137141. 1  
485584137142. 2  
485584137143. 3  
485584137144. 4

**Question Number : 332 Question Id : 48558434287 Question Type : MCQ Option Shuffling : No Is Question Mandatory : No Calculator : None Response Time : N.A Think Time : N.A Minimum Instruction Time : 0**

**Correct Marks : 5 Wrong Marks : 1**

**Question Key Details :**

Key	Value
Comprehension	MCQ

Name the textile made from unbleached cotton?

1. Calico
2. Linen
3. Jute
4. Hemp

**Options :**

485584137145. 1  
485584137146. 2  
485584137147. 3  
485584137148. 4

**Question Number : 332 Question Id : 48558434287 Question Type : MCQ Option Shuffling : No Is Question Mandatory : No Calculator : None Response Time : N.A Think Time : N.A Minimum Instruction Time : 0**

**Correct Marks : 5 Wrong Marks : 1**

**Question Key Details :**

Key	Value
Comprehension	MCQ

विरजित कपास से बने वस्त्र का नाम लिखिए -

1. श्वेत वस्त्र (केलिको)
2. क्षीम वस्त्र
3. पटसन
4. भांग

**Options :**

485584137145. 1  
485584137146. 2  
485584137147. 3  
485584137148. 4

**Question Number : 333 Question Id : 48558434288 Question Type : MCQ Option Shuffling : No Is Question Mandatory : No Calculator : None Response Time : N.A Think Time : N.A Minimum Instruction Time : 0**

**Correct Marks : 5 Wrong Marks : 1**

**Question Key Details :**

Key	Value
Comprehension	MCQ

Arrange the technologies according to their origin time period:

- A. Art of paper making
- B. Pottery
- C. Rockets
- D. Fired Bricks

Choose the correct answer from the options given below:

1. A, B, C, D
2. D, C, A, B
3. D, B, A, C
4. B, C, A, D

**Options :**

485584137149. 1  
485584137150. 2  
485584137151. 3  
485584137152. 4

**Question Number : 333 Question Id : 48558434288 Question Type : MCQ Option Shuffling : No Is Question Mandatory : No Calculator : None Response Time : N.A Think Time : N.A Minimum Instruction Time : 0**

**Correct Marks : 5 Wrong Marks : 1**

**Question Key Details :**

Key	Value
Comprehension	MCQ

प्रौद्योगिकियों को उनके मूल समय अवधि के अनुसार व्यवस्थित करें:

- A. कागज़ बनाने की कला
- B. मृदभाण्ड
- C. रॉकेट्स
- D. पक्की ईंटे

नीचे दिए गए विकल्पों में से सही उत्तर का चयन कीजिए:

1. A, B, C, D
2. D, C, A, B
3. D, B, A, C
4. B, C, A, D

**Options :**

- 485584137149. 1
- 485584137150. 2
- 485584137151. 3
- 485584137152. 4

**Question Number : 334 Question Id : 48558434289 Question Type : MCQ Option Shuffling : No Is Question Mandatory : No Calculator : None Response Time : N.A Think Time : N.A Minimum Instruction Time : 0**

**Correct Marks : 5 Wrong Marks : 1**

**Question Key Details :**

Key	Value
Comprehension	MCQ

Which two countries together controlling nearly 60 per cent of the worlds GDP 2,000 year ago.

- A. India
- B. China
- C. Romans
- D. East Africa

Choose the correct answer from the options given below:

1. A and C only
2. B and D only
3. A and B only
4. C and D only

**Options :**

- 485584137153. 1
- 485584137154. 2
- 485584137155. 3
- 485584137156. 4

Question Number : 334 Question Id : 48558434289 Question Type : MCQ Option Shuffling : No Is Question Mandatory : No Calculator : None Response Time : N.A Think Time : N.A Minimum Instruction Time : 0

Correct Marks : 5 Wrong Marks : 1

Question Key Details :

Key	Value
Comprehension	MCQ

कौन से दो देश मिलकर 2,000 वर्ष पूर्व दुनिया के सकल घरेलू उत्पाद का लगभग 60 प्रतिशत नियंत्रित करते थे?

- A. भारत
- B. चीन
- C. रोम
- D. पूर्व अफ्रीका

नीचे दिए गए विकल्पों में से सही उत्तर का चयन कीजिए:

1. केवल A और C
2. केवल B और D
3. केवल A और B
4. केवल C और D

Options :

- 485584137153. 1
- 485584137154. 2
- 485584137155. 3
- 485584137156. 4

Question Number : 335 Question Id : 48558434290 Question Type : MCQ Option Shuffling : No Is Question Mandatory : No Calculator : None Response Time : N.A Think Time : N.A Minimum Instruction Time : 0

Correct Marks : 5 Wrong Marks : 1

Question Key Details :

Key	Value
Comprehension	MCQ

In which century, Roman empire began the trade with India?

1. 3<sup>rd</sup> Century BCE
2. 4<sup>th</sup> Century BCE
3. 2<sup>nd</sup> Century BCE
4. 5<sup>th</sup> Century BCE

Options :

- 485584137157. 1
- 485584137158. 2
- 485584137159. 3
- 485584137160. 4

Question Number : 335 Question Id : 48558434290 Question Type : MCQ Option Shuffling : No Is Question Mandatory : No Calculator : None Response Time : N.A Think Time : N.A Minimum Instruction Time : 0

Correct Marks : 5 Wrong Marks : 1

Question Key Details :

Key	Value
Comprehension	MCQ

किस शताब्दी में रोम सम्राज्य ने भारत के साथ व्यापार की शुरुआत की था?

1. तीसरी शताब्दी ई.पू.
2. चौथी शताब्दी ई.पू.
3. दूसरी शताब्दी ई.पू.
4. पाँचवी शताब्दी ई.पू.

Options :

485584137157. 1  
485584137158. 2  
485584137159. 3  
485584137160. 4

Question Number : 336 Question Id : 48558434291 Question Type : MCQ Option Shuffling : No Is Question Mandatory : No Calculator : None Response Time : N.A Think Time : N.A Minimum Instruction Time : 0

Correct Marks : 5 Wrong Marks : 1

Question Key Details :

Key	Value
Comprehension	MCQ

Match List I with List II

LIST I		LIST II	
A.	Chau	I.	Harvest time
B.	Bihu	II.	Polished Sticks
C.	Dollu Kunitha	III.	Mask
D.	Dandiya	IV.	drum dance

Choose the correct answer from the options given below:

1. A-III, B-I, C-IV, D-II
2. A-II, B-I, C-III, D-IV
3. A-IV, B-III, C-II, D-I
4. A-I, B-II, C-III, D-IV

Options :

485584137161. 1  
485584137162. 2  
485584137163. 3  
485584137164. 4

Question Number : 336 Question Id : 48558434291 Question Type : MCQ Option Shuffling : No Is Question Mandatory : No Calculator : None Response Time : N.A Think Time : N.A Minimum Instruction Time : 0

Correct Marks : 5 Wrong Marks : 1

Question Key Details :

Key	Value
Comprehension	MCQ

सूची I का सूची II से मिलान कीजिए

सूची I	सूची II
A. छाऊ	I. फसल कटाई के समय
B. बिहु	II. पोलिशदार छड़ियाँ
C. दोलु कुनिथा	III. नकाब
D. दांडिया	IV. डूम नृत्य

निम्नलिखित विकल्पों में से सही उत्तर का चयन कीजिए :

1. A-III, B-I, C-IV, D-II
2. A-II, B-I, C-III, D-IV
3. A-IV, B-III, C-II, D-I
4. A-I, B-II, C-III, D-IV

Options :

485584137161. 1  
485584137162. 2  
485584137163. 3  
485584137164. 4

Question Number : 337 Question Id : 48558434292 Question Type : MCQ Option Shuffling : No Is Question Mandatory : No Calculator : None Response Time : N.A Think Time : N.A Minimum Instruction Time : 0

Correct Marks : 5 Wrong Marks : 1

Question Key Details :

Key	Value
Comprehension	MCQ

Silpasastra or Vastu Vidya the science of architecture was studied in ancient India within

- A. Ayurveda
- B. Dhanurved
- C. Jyotisa
- D. Rgveda

Choose the correct answer from the options given below:

1. B, D, C only
2. A, C, D only
3. A, D, B only
4. A, B, C only



**Options :**

485584137165. 1  
485584137166. 2  
485584137167. 3  
485584137168. 4

**Question Number : 337 Question Id : 48558434292 Question Type : MCQ Option Shuffling : No Is Question Mandatory : No Calculator : None Response Time : N.A Think Time : N.A Minimum Instruction Time : 0**

**Correct Marks : 5 Wrong Marks : 1**

**Question Key Details :**

Key	Value
Comprehension	MCQ

शिल्पशास्त्र या वास्तुकला के विज्ञान का प्राचीन भारत में अध्ययन किया जाता था

- A. आयुर्वेद  
B. धनुर्वेद  
C. ज्योतिष  
D. ऋग्वेद

नीचे दिए गए विकल्पों में से सही उत्तर का चयन कीजिए:

1. B, D, C केवल  
2. A, C, D केवल  
3. A, D, B केवल  
4. A, B, C केवल

**Options :**

485584137165. 1  
485584137166. 2  
485584137167. 3  
485584137168. 4

**Question Number : 338 Question Id : 48558434293 Question Type : MCQ Option Shuffling : No Is Question Mandatory : No Calculator : None Response Time : N.A Think Time : N.A Minimum Instruction Time : 0**

**Correct Marks : 5 Wrong Marks : 1**

**Question Key Details :**

Key	Value
Comprehension	MCQ

Match List I with List II

LIST I		LIST II	
A.	Kucipudi	I.	Manipur
B.	Manipuri	II.	Uttar Pradesh
C.	Odissi	III.	Andhra Pradesh
D.	Kathak	IV.	Odisha

Choose the correct answer from the options given below:

1. A-III, B-I, C-IV, D-II
2. A-I, B-II, C-III, D-IV
3. A-III, B-II, C-I, D-IV
4. A-IV, B-III, C-II, D-I

**Options :**

485584137169. 1  
485584137170. 2  
485584137171. 3  
485584137172. 4

**Question Number : 338 Question Id : 48558434293 Question Type : MCQ Option Shuffling : No Is Question Mandatory : No Calculator : None Response Time : N.A Think Time : N.A Minimum Instruction Time : 0**

**Correct Marks : 5 Wrong Marks : 1**

**Question Key Details :**

Key	Value
Comprehension	MCQ

सूची I का सूची II से मिलान कीजिए

सूची I		सूची II	
A.	कुचिपुड़ी	I.	मणिपुर
B.	मणिपुर	II.	उत्तर प्रदेश
C.	ओडिसी	III.	आंध्र प्रदेश
D.	कथक	IV.	ओडिशा

निम्नलिखित विकल्पों में से सही उत्तर का चयन कीजिए :

1. A-III, B-I, C-IV, D-II
2. A-I, B-II, C-III, D-IV
3. A-III, B-II, C-I, D-IV
4. A-IV, B-III, C-II, D-I

**Options :**

485584137169. 1  
485584137170. 2  
485584137171. 3  
485584137172. 4

Question Number : 339 Question Id : 48558434294 Question Type : MCQ Option Shuffling : No Is Question Mandatory : No Calculator : None Response Time : N.A Think Time : N.A Minimum Instruction Time : 0

Correct Marks : 5 Wrong Marks : 1

Question Key Details :

Key	Value
Comprehension	MCQ

Choose the correct order of Vedas as suggested below:

- A. Samveda
- B. Atharveda
- C. Rgveda
- D. Yajurveda

Choose the correct answer from the options given below:

- 1. A - B - C - D
- 2. C - D - A - B
- 3. B - C - A - D
- 4. D - C - A - B

Options :

- 485584137173. 1
- 485584137174. 2
- 485584137175. 3
- 485584137176. 4

Question Number : 339 Question Id : 48558434294 Question Type : MCQ Option Shuffling : No Is Question Mandatory : No Calculator : None Response Time : N.A Think Time : N.A Minimum Instruction Time : 0

Correct Marks : 5 Wrong Marks : 1

Question Key Details :

Key	Value
Comprehension	MCQ

निम्नलिखित वेदों को सही क्रम में लिखें:

- A. सामवेद
- B. अथर्ववेद
- C. ऋग्वेद
- D. यजुर्वेद

नीचे दिए गए विकल्पों में से सही उत्तर का चयन कीजिए:

- 1. A - B - C - D
- 2. C - D - A - B
- 3. B - C - A - D
- 4. D - C - A - B

**Options :**

- 485584137173. 1
- 485584137174. 2
- 485584137175. 3
- 485584137176. 4

**Question Number : 340 Question Id : 48558434295 Question Type : MCQ Option Shuffling : No Is Question Mandatory : No Calculator : None Response Time : N.A Think Time : N.A Minimum Instruction Time : 0**

**Correct Marks : 5 Wrong Marks : 1**

**Question Key Details :**

Key	Value
Comprehension	MCQ

Which fort is known for not being on a hilltop?

- 1. Gwalior Fort
- 2. Mehrangarh Fort
- 3. Junagarh fort
- 4. Amber Fort

**Options :**

- 485584137177. 1
- 485584137178. 2
- 485584137179. 3
- 485584137180. 4

**Question Number : 340 Question Id : 48558434295 Question Type : MCQ Option Shuffling : No Is Question Mandatory : No Calculator : None Response Time : N.A Think Time : N.A Minimum Instruction Time : 0**

**Correct Marks : 5 Wrong Marks : 1**

**Question Key Details :**

Key	Value
Comprehension	MCQ

कौन सा किला पहाड़ी की चोटी पर नहीं होने के लिए जाना जाता है?

- 1. ग्वालियर का किला
- 2. मेहरानगढ़ का किला
- 3. जूनागढ़ का किला
- 4. आमेर का किला

**Options :**

- 485584137177. 1
- 485584137178. 2
- 485584137179. 3
- 485584137180. 4

**Sub-Section Number :**

2

**Sub-Section Id :**

4855842543

**Question Shuffling Allowed :**

No

Is Section Default? :

null

**Question Number : 341 Question Id : 48558434296 Question Type : MCQ Option Shuffling : No Is Question Mandatory : No Calculator : None Response Time : N.A Think Time : N.A Minimum Instruction Time : 0**

**Correct Marks : 5 Wrong Marks : 1**

**Question Key Details :**

Key	Value
Comprehension	Comp1

Read the passage and answer the following questions given below:-

Kathakali is a classical dance form which originated in Kerala. Katha in Sanskrit means story and kali in Malayalam means play. So Kathakali is a play based on a story. Kathakali, like other classical dances of India, has its origins in Bharata Muni's Natyasastra. It is an art which has evolved from many social and religious theatrical art forms like Cakiarkottu, Kudiattam, Krsnattam, Ramattam which existed in the Southern region in ancient times. The main custodian of Kathakali is the famous poet Vallathol Narayana Menon who established Kerala Kalamandalam in 1930 for the preservation of this art form.

Kathakali, a stylised art form, is a blend of dance music and acting and dramatizes stories mostly adapted from the Indian epics. All the four aspects of abhinaya - angika, vacika, aharya, Sattrika and the three components of the dance - natya, nrta and nrtya are unified flawlessly in this form. As far as the costume of this dance form is concerned, it is elaborate and designed to heighten the effect of physical strength. The large overcoats, the flowing scarves, the bulging skirts, the antique ornaments, the strikingly opulent head dresses with streaming hair flowing down to the waist and covering the back all create enlarged figures well befitting the sculptured facial features and produce tremendously impressive impersonations. If the characters are Sattvika (a righteous character or hero), the basic make up is pacca (green); if the characters are rajsika (a character with particular vices or anti hero) the basic make up is cutti (white); and if the characters are tamsika (an evil character or villain), the basic green make up is broken up by red patches. Also, on the basic green make up, an oral red and white design is made on the nose and on the upper nose.

Classical Dance form Kathakali originated in which state of India?

1. Karnataka
2. Tamil Nadu
3. Andhra Pradesh
4. Kerala

**Options :**

485584137181. 1

485584137182. 2

485584137183. 3

485584137184. 4

**Question Number : 341 Question Id : 48558434296 Question Type : MCQ Option Shuffling : No Is Question Mandatory : No Calculator : None Response Time : N.A Think Time : N.A Minimum Instruction Time : 0**

**Correct Marks : 5 Wrong Marks : 1**

**Question Key Details :**

Key	Value
Comprehension	Comp1

नीचे दिए गए गद्यांश पढ़ें और प्रश्नों के उत्तर दें।

कथकली एक शास्त्रीय नृत्य शैली है जिसकी उत्पत्ति केरल में हुई थी। संस्कृत में कथा का अर्थ है कहानी और मलयालम में कली का अर्थ है खेलना। अतः कथकली एक कहानी पर आधारित नाटक है। भारत के अन्य शास्त्रीय नृत्यों की तरह कथकली की मूल उत्पत्ति भी भरतमुनि के नाट्यशास्त्र से हुई है। यह एक ऐसी कला है जो कई सामाजिक और धार्मिक नाट्य कला रूपों से विकसित हुई है जैसे कि काकियारकोट्टु, कुडियाट्टम, कृष्णअट्टम, रामअट्टम जो प्राचीन भारत में दक्षिणी क्षेत्र में प्रख्यात थे। कथकली के मुख्य संरक्षक प्रसिद्ध कवि वल्लथोल नारायण मेनन हैं जिन्होंने इस कला के संरक्षण के लिए 1930 में केरल कलामंडलम की स्थापना की थी।

कथकली, एक शैलीबद्ध कला रूप, संगीत और अभिनय का मिश्रण है तथा अधिकतर भारतीय महाकाव्यों से अनुकूलित कहानियों को नाटकीय रूप देता है, अभिनय के सभी चार पक्ष - अंगिका, वाचिका, आहार, सात्रिका और नृत्य के तीन पक्ष नाट्य, नृत्य त्रुटिहीन रूप से एकीकृत है। जहाँ तक नृत्य की वेशभूषा का संबंध है यह विस्तृत है तथा शारीरिक लम्बाई का प्रभाव देखने हेतु इसमें उभरे हुए डिजाइनों का प्रयोग किया है। भव्य लम्बफोट, उड़ता दुप्पट्टा, उभरी हुई स्कर्ट, प्राचीन आभूषण, कमर से नीचे बहते हुए बालों के साथ आकर्षक ढंग से भव्य सिर के कपड़े और कमर तक ढकने वाले वस्त्र सभी चेहरे की विशेषताओं के अनुरूप बड़े आकार का निर्माण करते हैं और अत्यधिक प्रभावशाली प्रतिरूपण उत्पन्न करते हैं। यदि पात्र राजसिका (धार्मिक चरित्र या नायक) हैं, तो मूल शृंगार पक्का (हरा) है; और यदि पात्र तामसिक (एक दुष्ट चरित्र या खलनायक) हैं, तो मूल शृंगार को टूटे हुए लाल धब्बों के साथ इंगित किया जाता है। इसके अलावा मूल हरे शृंगार पर नाक पर और ऊपर नाक पर एक मौखिक लाल और सफ़ेद डिजाइन बनाया जाता है।

शास्त्रीय नृत्य रूप कथकली की उत्पत्ति भारत के किस राज्य में हुई थी?

1. कर्नाटक
2. तमिलनाडु
3. आंध्र प्रदेश
4. केरल

**Options :**

485584137181. 1  
485584137182. 2  
485584137183. 3  
485584137184. 4

**Question Number : 342 Question Id : 48558434297 Question Type : MCQ Option Shuffling : No Is Question Mandatory : No Calculator : None Response Time : N.A Think Time : N.A Minimum Instruction Time : 0**

**Correct Marks : 5 Wrong Marks : 1**

**Question Key Details :**

Key	Value
Comprehension	Comp1

Read the passage and answer the following questions given below:-

Kathakali is a classical dance form which originated in Kerala. Katha in Sanskrit means story and kali in Malayalam means play. So Kathakali is a play based on a story. Kathakali, like other classical dances of India, has its origins in Bharata Muni's Natyasastra. It is an art which has evolved from many social and religious theatrical art forms like Cakiarkottu, Kudiattam, Krsnattam, Ramattam which existed in the Southern region in ancient times. The main custodian of Kathakali is the famous poet Vallathol Narayana Menon who established Kerala Kalamandalam in 1930 for the preservation of this art form.

Kathakali, a stylised art form, is a blend of dance music and acting and dramatizes stories mostly adapted from the Indian epics. All the four aspects of abhinaya - angika, vacika, aharya, Sattrika and the three components of the dance - natya, nrta and nrtya are unified flawlessly in this form. As far as the costume of this dance form is concerned, it is elaborate and designed to heighten the effect of physical strength. The large overcoats, the flowing scarves, the bulging skirts, the antique ornaments, the strikingly opulent head dresses with streaming hair flowing down to the waist and covering the back all create enlarged figures well befitting the sculptured facial features and produce tremendously impressive impersonations. If the characters are Sattvika (a righteous character or hero), the basic make up is pacca (green); if the characters are rajsika (a character with particular vices or anti hero) the basic make up is cutti (white); and if the characters are tamsika (an evil character or villain), the basic green make up is broken up by red patches. Also, on the basic green make up, an oral red and white design is made on the nose and on the upper nose.

Name the main custodian of Kathakali who established Kerala Kalamandalam in 1930 for the preservation of this art form?

1. Vedantam Laksmi Narayana
2. Cinta Krsnamurthy
3. Vallathol Narayana Menon
4. Rukmini Devi

**Options :**

485584137185. 1  
485584137186. 2  
485584137187. 3  
485584137188. 4

**Question Number : 342 Question Id : 48558434297 Question Type : MCQ Option Shuffling : No Is Question Mandatory : No Calculator : None Response Time : N.A Think Time : N.A Minimum Instruction Time : 0**

**Correct Marks : 5 Wrong Marks : 1**

**Question Key Details :**

Key	Value
Comprehension	Comp1

नीचे दिए गए गद्यांश पढ़ें और प्रश्नों के उत्तर दें।

कथकली एक शास्त्रीय नृत्य शैली है जिसकी उत्पत्ति केरल में हुई थी। संस्कृत में कथा का अर्थ है कहानी और मलयालम में कली का अर्थ है खेलना। अतः कथकली एक कहानी पर आधारित नाटक है। भारत के अन्य शास्त्रीय नृत्यों की तरह कथकली की मूल उत्पत्ति भी भरतमुनि के नाट्यशास्त्र से हुई है। यह एक ऐसी कला है जो कई सामाजिक और धार्मिक नाट्य कला रूपों से विकसित हुई है जैसे कि काकियारकोट्टु, कुडियाट्टम, कृष्णअट्टम, रामअट्टम जो प्राचीन भारत में दक्षिणी क्षेत्र में प्रख्यात थे। कथकली के मुख्य संरक्षक प्रसिद्ध कवि वल्लथोल नारायण मेनन हैं जिन्होंने इस कला के संरक्षण के लिए 1930 में केरल कलामंडलम की स्थापना की थी।

कथकली, एक शैलीबद्ध कला रूप, संगीत और अभिनय का मिश्रण है तथा अधिकतर भारतीय महाकाव्यों से अनुकूलित कहानियों को नाटकीय रूप देता है, अभिनय के सभी चार पक्ष - अंगिका, वाचिका, आहार, सात्रिका और नृत्य के तीन पक्ष नाट्य, नृत्य त्रुटिहीन रूप से एकीकृत है। जहाँ तक नृत्य की वेशभूषा का संबंध है यह विस्तृत है तथा शारीरिक लम्बाई का प्रभाव देखने हेतु इसमें उभरे हुए डिजाइनों का प्रयोग किया है। भव्य लम्बफोट, उड़ता दुप्पट्टा, उभरी हुई स्कर्ट, प्राचीन आभूषण, कमर से नीचे बहते हुए बालों के साथ आकर्षक ढंग से भव्य सिर के कपड़े और कमर तक ढकने वाले वस्त्र सभी चेहरे की विशेषताओं के अनुरूप बड़े आकार का निर्माण करते हैं और अत्यधिक प्रभावशाली प्रतिरूपण उत्पन्न करते हैं। यदि पात्र राजसिका (धार्मिक चरित्र या नायक) हैं, तो मूल शृंगार पक्का (हरा) है; और यदि पात्र तामसिक (एक दुष्ट चरित्र या खलनायक) हैं, तो मूल शृंगार को टूटे हुए लाल धब्बों के साथ इंगित किया जाता है। इसके अलावा मूल हरे शृंगार पर नाक पर और ऊपर नाक पर एक मौखिक लाल और सफ़ेद डिजाइन बनाया जाता है।

कथकली के उस संरक्षक का नाम बताइए जिसने इस कला के संरक्षण के लिए 1930 में केरल कलामंडलम की स्थापना की थी?

1. वेदांतम लक्ष्मी नारायण
2. चिंता कृष्णमूर्ति
3. वल्लथोल नारायण मेनन
4. रुक्मिणी देवी

**Options :**

485584137185. 1  
485584137186. 2  
485584137187. 3  
485584137188. 4

**Question Number : 343 Question Id : 48558434298 Question Type : MCQ Option Shuffling : No Is Question Mandatory : No Calculator : None Response Time : N.A Think Time : N.A Minimum Instruction Time : 0**

**Correct Marks : 5 Wrong Marks : 1**

**Question Key Details :**

Key	Value
Comprehension	Comp1



Read the passage and answer the following questions given below:-

Kathakali is a classical dance form which originated in Kerala. Katha in Sanskrit means story and kali in Malayalam means play. So Kathakali is a play based on a story. Kathakali, like other classical dances of India, has its origins in Bharata Muni's Natyasastra. It is an art which has evolved from many social and religious theatrical art forms like Cakiarkottu, Kudiattam, Krsnattam, Ramattam which existed in the Southern region in ancient times. The main custodian of Kathakali is the famous poet Vallathol Narayana Menon who established Kerala Kalamandalam in 1930 for the preservation of this art form.

Kathakali, a stylised art form, is a blend of dance music and acting and dramatizes stories mostly adapted from the Indian epics. All the four aspects of abhinaya - angika, vacika, aharya, Sattrika and the three components of the dance - natya, nrta and nrtya are unified flawlessly in this form. As far as the costume of this dance form is concerned, it is elaborate and designed to heighten the effect of physical strength. The large overcoats, the flowing scarves, the bulging skirts, the antique ornaments, the strikingly opulent head dresses with streaming hair flowing down to the waist and covering the back all create enlarged figures well befitting the sculptured facial features and produce tremendously impressive impersonations. If the characters are Sattvika (a righteous character or hero), the basic make up is pacca (green); if the characters are rajsika (a character with particular vices or anti hero) the basic make up is cutti (white); and if the characters are tamsika (an evil character or villain), the basic green make up is broken up by red patches. Also, on the basic green make up, an oral red and white design is made on the nose and on the upper nose.

How many aspects of Abhinaya?

1. 2
2. 3
3. 4
4. 5

**Options :**

485584137189. 1  
485584137190. 2  
485584137191. 3  
485584137192. 4

**Question Number : 343 Question Id : 48558434298 Question Type : MCQ Option Shuffling : No Is Question Mandatory : No Calculator : None Response Time : N.A Think Time : N.A Minimum Instruction Time : 0**

**Correct Marks : 5 Wrong Marks : 1**

**Question Key Details :**

Key	Value
Comprehension	Comp1

नीचे दिए गए गद्यांश पढ़ें और प्रश्नों के उत्तर दें।

कथकली एक शास्त्रीय नृत्य शैली है जिसकी उत्पत्ति केरल में हुई थी। संस्कृत में कथा का अर्थ है कहानी और मलयालम में कली का अर्थ है खेलना। अतः कथकली एक कहानी पर आधारित नाटक है। भारत के अन्य शास्त्रीय नृत्यों की तरह कथकली की मूल उत्पत्ति भी भरतमुनि के नाट्यशास्त्र से हुई है। यह एक ऐसी कला है जो कई सामाजिक और धार्मिक नाट्य कला रूपों से विकसित हुई है जैसे कि काकियारकोट्टु, कुडियाट्टम, कृष्णअट्टम, रामअट्टम जो प्राचीन भारत में दक्षिणी क्षेत्र में प्रख्यात थे। कथकली के मुख्य संरक्षक प्रसिद्ध कवि वल्लथोल नारायण मेनन हैं जिन्होंने इस कला के संरक्षण के लिए 1930 में केरल कलामंडलम की स्थापना की थी।

कथकली, एक शैलीबद्ध कला रूप, संगीत और अभिनय का मिश्रण है तथा अधिकतर भारतीय महाकाव्यों से अनुकूलित कहानियों को नाटकीय रूप देता है, अभिनय के सभी चार पक्ष - अंगिका, वाचिका, आहार, सात्रिका और नृत्य के तीन पक्ष नाट्य, नृत्य त्रुटिहीन रूप से एकीकृत है। जहाँ तक नृत्य की वेशभूषा का संबंध है यह विस्तृत है तथा शारीरिक लम्बाई का प्रभाव देखने हेतु इसमें उभरे हुए डिजाइनों का प्रयोग किया है। भव्य लम्बफोट, उड़ता दुप्पट्टा, उभरी हुई स्कर्ट, प्राचीन आभूषण, कमर से नीचे बहते हुए बालों के साथ आकर्षक ढंग से भव्य सिर के कपड़े और कमर तक ढकने वाले वस्त्र सभी चेहरे की विशेषताओं के अनुरूप बड़े आकार का निर्माण करते हैं और अत्यधिक प्रभावशाली प्रतिरूपण उत्पन्न करते हैं। यदि पात्र राजसिका (धार्मिक चरित्र या नायक) हैं, तो मूल शृंगार पक्का (हरा) है; और यदि पात्र तामसिक (एक दुष्ट चरित्र या खलनायक) हैं, तो मूल शृंगार को टूटे हुए लाल धब्बों के साथ इंगित किया जाता है। इसके अलावा मूल हरे शृंगार पर नाक पर और ऊपर नाक पर एक मौखिक लाल और सफ़ेद डिजाइन बनाया जाता है।

अभिनय के कितने पक्ष हैं?

1. 2
2. 3
3. 4
4. 5

**Options :**

485584137189. 1
485584137190. 2
485584137191. 3
485584137192. 4

**Question Number : 344 Question Id : 48558434299 Question Type : MCQ Option Shuffling : No Is Question Mandatory : No Calculator : None Response Time : N.A Think Time : N.A Minimum Instruction Time : 0**

**Correct Marks : 5 Wrong Marks : 1**

**Question Key Details :**

Key	Value
Comprehension	Comp1

Read the passage and answer the following questions given below:-

Kathakali is a classical dance form which originated in Kerala. Katha in Sanskrit means story and kali in Malayalam means play. So Kathakali is a play based on a story. Kathakali, like other classical dances of India, has its origins in Bharata Muni's Natyasastra. It is an art which has evolved from many social and religious theatrical art forms like Cakiarkottu, Kudiattam, Krsnattam, Ramattam which existed in the Southern region in ancient times. The main custodian of Kathakali is the famous poet Vallathol Narayana Menon who established Kerala Kalamandalam in 1930 for the preservation of this art form.

Kathakali, a stylised art form, is a blend of dance music and acting and dramatizes stories mostly adapted from the Indian epics. All the four aspects of abhinaya - angika, vacika, aharya, Sattrika and the three components of the dance - natya, nrta and nrtya are unified flawlessly in this form. As far as the costume of this dance form is concerned, it is elaborate and designed to heighten the effect of physical strength. The large overcoats, the flowing scarves, the bulging skirts, the antique ornaments, the strikingly opulent head dresses with streaming hair flowing down to the waist and covering the back all create enlarged figures well befitting the sculptured facial features and produce tremendously impressive impersonations. If the characters are Sattvika (a righteous character or hero), the basic make up is pacca (green); if the characters are rajsika (a character with particular vices or anti hero) the basic make up is cutti (white); and if the characters are tamsika (an evil character or villain), the basic green make up is broken up by red patches. Also, on the basic green make up, an oral red and white design is made on the nose and on the upper nose.

Which of the following is not the component of dance?

1. natya
2. vacika
3. nrta
4. nrtya

**Options :**

485584137193. 1  
485584137194. 2  
485584137195. 3  
485584137196. 4

**Question Number : 344 Question Id : 48558434299 Question Type : MCQ Option Shuffling : No Is Question Mandatory : No Calculator : None Response Time : N.A Think Time : N.A Minimum Instruction Time : 0**

**Correct Marks : 5 Wrong Marks : 1**

**Question Key Details :**

Key	Value
Comprehension	Compl

नीचे दिए गए गद्यांश पढ़ें और प्रश्नों के उत्तर दें।

कथकली एक शास्त्रीय नृत्य शैली है जिसकी उत्पत्ति केरल में हुई थी। संस्कृत में कथा का अर्थ है कहानी और मलयालम में कली का अर्थ है खेलना। अतः कथकली एक कहानी पर आधारित नाटक है। भारत के अन्य शास्त्रीय नृत्यों की तरह कथकली की मूल उत्पत्ति भी भरतमुनि के नाट्यशास्त्र से हुई है। यह एक ऐसी कला है जो कई सामाजिक और धार्मिक नाट्य कला रूपों से विकसित हुई है जैसे कि काकियारकोट्टु, कुडियाट्टम, कृष्णअट्टम, रामअट्टम जो प्राचीन भारत में दक्षिणी क्षेत्र में प्रख्यात थे। कथकली के मुख्य संरक्षक प्रसिद्ध कवि वल्लथोल नारायण मेनन हैं जिन्होंने इस कला के संरक्षण के लिए 1930 में केरल कलामंडलम की स्थापना की थी।

कथकली, एक शैलीबद्ध कला रूप, संगीत और अभिनय का मिश्रण है तथा अधिकतर भारतीय महाकाव्यों से अनुकूलित कहानियों को नाटकीय रूप देता है, अभिनय के सभी चार पक्ष - अंगिका, वाचिका, आहार, सात्रिका और नृत्य के तीन पक्ष नाट्य, नृत्य त्रुटिहीन रूप से एकीकृत है। जहाँ तक नृत्य की वेशभूषा का संबंध है यह विस्तृत है तथा शारीरिक लम्बाई का प्रभाव देखने हेतु इसमें उभरे हुए डिजाइनों का प्रयोग किया है। भव्य लम्बफोट, उड़ता दुप्पट्टा, उभरी हुई स्कर्ट, प्राचीन आभूषण, कमर से नीचे बहते हुए बालों के साथ आकर्षक ढंग से भव्य सिर के कपड़े और कमर तक ढकने वाले वस्त्र सभी चेहरे की विशेषताओं के अनुरूप बड़े आकार का निर्माण करते हैं और अत्यधिक प्रभावशाली प्रतिरूपण उत्पन्न करते हैं। यदि पात्र राजसिका (धार्मिक चरित्र या नायक) हैं, तो मूल शृंगार पक्का (हरा) है; और यदि पात्र तामसिक (एक दुष्ट चरित्र या खलनायक) हैं, तो मूल शृंगार को टूटे हुए लाल धब्बों के साथ इंगित किया जाता है। इसके अलावा मूल हरे शृंगार पर नाक पर और ऊपर नाक पर एक मौखिक लाल और सफ़ेद डिजाइन बनाया जाता है।

निम्नलिखित में से कौन नृत्य का अंग नहीं है?

1. नाट्य
2. वाचिका
3. नृत्य
4. नृत्य

**Options :**

485584137193. 1  
485584137194. 2  
485584137195. 3  
485584137196. 4

**Question Number : 345 Question Id : 48558434300 Question Type : MCQ Option Shuffling : No Is Question Mandatory : No Calculator : None Response Time : N.A Think Time : N.A Minimum Instruction Time : 0**

**Correct Marks : 5 Wrong Marks : 1**

**Question Key Details :**

Key	Value
Comprehension	Comp1

Read the passage and answer the following questions given below:-

Kathakali is a classical dance form which originated in Kerala. Katha in Sanskrit means story and kali in Malayalam means play. So Kathakali is a play based on a story. Kathakali, like other classical dances of India, has its origins in Bharata Muni's Natyasastra. It is an art which has evolved from many social and religious theatrical art forms like Cakiarkottu, Kudiattam, Krsnattam, Ramattam which existed in the Southern region in ancient times. The main custodian of Kathakali is the famous poet Vallathol Narayana Menon who established Kerala Kalamandalam in 1930 for the preservation of this art form.

Kathakali, a stylised art form, is a blend of dance music and acting and dramatizes stories mostly adapted from the Indian epics. All the four aspects of abhinaya - angika, vacika, aharya, Sattrika and the three components of the dance - natya, nrta and nrtya are unified flawlessly in this form. As far as the costume of this dance form is concerned, it is elaborate and designed to heighten the effect of physical strength. The large overcoats, the flowing scarves, the bulging skirts, the antique ornaments, the strikingly opulent head dresses with streaming hair flowing down to the waist and covering the back all create enlarged figures well befitting the sculptured facial features and produce tremendously impressive impersonations. If the characters are Sattvika (a righteous character or hero), the basic make up is pacca (green); if the characters are rajsika (a character with particular vices or anti hero) the basic make up is cutti (white); and if the characters are tamsika (an evil character or villain), the basic green make up is broken up by red patches. Also, on the basic green make up, an oral red and white design is made on the nose and on the upper nose.

In Kathakali dance form, Basic make up colour changes according to character. If the characters are rajsika, what will be the basic colour makeup

1. Green
2. White
3. Green with red patches
4. White with red patches

**Options :**

485584137197. 1  
485584137198. 2  
485584137199. 3  
485584137200. 4

**Question Number : 345 Question Id : 48558434300 Question Type : MCQ Option Shuffling : No Is Question Mandatory : No Calculator : None Response Time : N.A Think Time : N.A Minimum Instruction Time : 0**

**Correct Marks : 5 Wrong Marks : 1**

**Question Key Details :**

Key	Value
Comprehension	Compl

नीचे दिए गए गद्यांश पढ़ें और प्रश्नों के उत्तर दें।

कथकली एक शास्त्रीय नृत्य शैली है जिसकी उत्पत्ति केरल में हुई थी। संस्कृत में कथा का अर्थ है कहानी और मलयालम में कली का अर्थ है खेलना। अतः कथकली एक कहानी पर आधारित नाटक है। भारत के अन्य शास्त्रीय नृत्यों की तरह कथकली की मूल उत्पत्ति भी भरतमुनि के नाट्यशास्त्र से हुई है। यह एक ऐसी कला है जो कई सामाजिक और धार्मिक नाट्य कला रूपों से विकसित हुई है जैसे कि काकियारकोट्ट, कुडियाट्टम, कृष्णअट्टम, रामअट्टम जो प्राचीन भारत में दक्षिणी क्षेत्र में प्रख्यात थे। कथकली के मुख्य संरक्षक प्रसिद्ध कवि वल्लथोल नारायण मेनन हैं जिन्होंने इस कला के संरक्षण के लिए 1930 में केरल कलामंडलम की स्थापना की थी।

कथकली, एक शैलीबद्ध कला रूप, संगीत और अभिनय का मिश्रण है तथा अधिकतर भारतीय महाकाव्यों से अनुकूलित कहानियों को नाटकीय रूप देता है, अभिनय के सभी चार पक्ष - अंगिका, वाचिका, आहार, सात्रिका और नृत्य के तीन पक्ष नाट्य, नृत्य त्रुटिहीन रूप से एकीकृत है। जहाँ तक नृत्य की वेशभूषा का संबंध है यह विस्तृत है तथा शारीरिक लम्बाई का प्रभाव देखने हेतु इसमें उभरे हुए डिजाइनों का प्रयोग किया है। भव्य लम्बफोट, उड़ता दुप्पट्टा, उभरी हुई स्कर्ट, प्राचीन आभूषण, कमर से नीचे बहते हुए बालों के साथ आकर्षक ढंग से भव्य सिर के कपड़े और कमर तक ढकने वाले वस्त्र सभी चेहरे की विशेषताओं के अनुरूप बड़े आकार का निर्माण करते हैं और अत्यधिक प्रभावशाली प्रतिरूपण उत्पन्न करते हैं। यदि पात्र राजसिका (धार्मिक चरित्र या नायक) हैं, तो मूल शृंगार पक्का (हरा) है; और यदि पात्र तामसिक (एक दुष्ट चरित्र या खलनायक) हैं, तो मूल शृंगार को टूटे हुए लाल धब्बों के साथ इंगित किया जाता है। इसके अलावा मूल हरे शृंगार पर नाक पर और ऊपर नाक पर एक मौखिक लाल और सफ़ेद डिजाइन बनाया जाता है।

कथकली नृत्य में, चरित्र के अनुसार मूल शृंगार गार गार परिवर्तित होता रहता है। यदि पात्र राजसिका है तो मूल शृंगार किस रंग का होगा?

1. हरा
2. सफ़ेद
3. हरा लाल धब्बों के साथ
4. सफ़ेद लाल धब्बों के साथ

**Options :**

485584137197. 1  
485584137198. 2  
485584137199. 3  
485584137200. 4

**Sub-Section Number :**

3

**Sub-Section Id :**

4855842544

**Question Shuffling Allowed :**

No

**Is Section Default? :**

null

**Question Number : 346 Question Id : 48558434301 Question Type : MCQ Option Shuffling : No Is Question Mandatory : No Calculator : None Response Time : N.A Think Time : N.A Minimum Instruction Time : 0**

**Correct Marks : 5 Wrong Marks : 1**

**Question Key Details :**

Key	Value
Comprehension	Comp2

Read the following passage and answer the questions given below:

The moral code of the people is an indicator of their social and spiritual ways of life. The true essence of human life is to live amidst worldly joy and sorrows, Ethics is primarily concerned with the moral issues of the world. True religion lays stress on moral virtues. People are required to discharge their duties according to the moral code of ethics. A true knowledge of ethics would be attained if one practices and imbibes these moral values. Ethics is of two kinds individuals and social. Individual ethics is indicative of the good qualities that are essential for individual well-being of the good qualities that are essential for individual well-being and happiness. Social ethics represents the values that are needed for social order and harmony.

In the knowledge tradition of India ethics has its origin in its religious and philosophical thinking. From time immemorial, various religious faiths have flourished here. Every religious and every philosophical system of India has a prominent ethical component. Ethics is the core of all these systems. In every religious tradition, good moral conduct is considered essential for a happy and contented life.

Choose from the following that is not the purpose of the moral code of ethics.

1. To perform duties in the society
2. To live a balanced life between joy and sorrow
3. To live a peaceful life
4. To keep a strict discipline

**Options :**

- 485584137201. 1
- 485584137202. 2
- 485584137203. 3
- 485584137204. 4

**Question Number : 346 Question Id : 48558434301 Question Type : MCQ Option Shuffling : No Is Question Mandatory : No Calculator : None Response Time : N.A Think Time : N.A Minimum Instruction Time : 0**

**Correct Marks : 5 Wrong Marks : 1**

**Question Key Details :**

Key	Value
Comprehension	Comp2

नीचे दिए गए गद्यांश पढ़ें और प्रश्नों के उत्तर दें।

लोगों का नैतिक नियमसंग्रह उनके जीवन के सामाजिक और आध्यात्मिक तरीकों का सूचक है। मानव जीवन का सच्चा सार संसारिक सुखों और दुःखों को स्वीकार करना है, नैतिकता मुख्य रूप से दुनिया के नैतिक मुद्दों से संबंधित है। सच्चा धर्म नैतिक गुणों पर बल देता है। लोगों को नैतिक आचार संहिता के अनुसार अपने कर्तव्यों का निर्वहन करना आवश्यक है। यदि कोई इन नैतिक मूल्यों का अभ्यास और आत्मसात करता है तो उस व्यक्ति को ही नैतिकता का सच्चा ज्ञान प्राप्त होता है। नैतिकता व्यक्तिगत और सामाजिक दो बंधनों का संक्षय है। व्यक्तिगत नैतिकता अच्छे गुणों का संकेत है जो व्यक्तिगत भलाई और खुशी के लिए आवश्यक है। सामाजिक नैतिकता उन मूल्यों का प्रतिनिधित्व करती है जो सामाजिक व्यवस्था और सद्भाव के लिए आवश्यक हैं।

भारत की ज्ञान परंपरा में उसके धार्मिक और दार्शनिक चिंतन में है। अनादिकाल से, यहाँ विभिन्न धार्मिक आस्थाएँ फली-फूली हैं। भारत के प्रत्येक धार्मिक और प्रत्येक दार्शनिक व्यवस्था में एक प्रमुख नैतिक घटक है। नैतिकता इन सभी प्रणालियों का मूल है। प्रत्येक धार्मिक परंपरा में सुखी और संतुष्ट जीवन के लिए अच्छे नैतिक आचरण आवश्यक हैं।

निम्नलिखित में से वह विकल्प चुनें जो नैतिक आचार संहिता का उद्देश्य नहीं है?

1. सामाज में कर्तव्यों का पालन
2. सुख और दुःख के मध्य संतुलित जीवन व्यतीत करना
3. एक शांतिपूर्वक जीवन व्यतीत करना
4. कठोर अनुशासन का पालन करना

**Options :**

485584137201. 1  
485584137202. 2  
485584137203. 3  
485584137204. 4

**Question Number : 347 Question Id : 48558434302 Question Type : MCQ Option Shuffling : No Is Question Mandatory : No Calculator : None Response Time : N.A Think Time : N.A Minimum Instruction Time : 0**

**Correct Marks : 5 Wrong Marks : 1**

**Question Key Details :**

Key	Value
Comprehension	Comp2



Read the following passage and answer the questions given below:

The moral code of the people is an indicator of their social and spiritual ways of life. The true essence of human life is to live amidst worldly joy and sorrows, Ethics is primarily concerned with the moral issues of the world. True religion lays stress on moral virtues. People are required to discharge their duties according to the moral code of ethics. A true knowledge of ethics would be attained if one practices and imbibes these moral values. Ethics is of two kinds individuals and social. Individual ethics is indicative of the good qualities that are essential for individual well-being of the good qualities that are essential for individual well-being and happiness. Social ethics represents the values that are needed for social order and harmony.

In the knowledge tradition of India ethics has its origin in its religious and philosophical thinking. From time immemorial, various religious faiths have flourished here. Every religious and every philosophical system of India has a prominent ethical component. Ethics is the core of all these systems. In every religious tradition, good moral conduct is considered essential for a happy and contented life.

What are the two major types of Ethics?

1. Religious and Philosophical
2. Individual and Social
3. Opened and Closed
4. Hard and Soft

**Options :**

- 485584137205. 1
- 485584137206. 2
- 485584137207. 3
- 485584137208. 4

**Question Number : 347 Question Id : 48558434302 Question Type : MCQ Option Shuffling : No Is Question Mandatory : No Calculator : None Response Time : N.A Think Time : N.A Minimum Instruction Time : 0**

**Correct Marks : 5 Wrong Marks : 1**

**Question Key Details :**

Key	Value
Comprehension	Comp2

नीचे दिए गए गद्यांश पढ़ें और प्रश्नों के उत्तर दें।

लोगों का नैतिक नियमसंग्रह उनके जीवन के सामाजिक और आध्यात्मिक तरीकों का सूचक है। मानव जीवन का सच्चा सार संसारिक सुखों और दुःखों को स्वीकार करना है, नैतिकता मुख्य रूप से दुनिया के नैतिक मुद्दों से संबंधित है। सच्चा धर्म नैतिक गुणों पर बल देता है। लोगों को नैतिक आचार संहिता के अनुसार अपने कर्तव्यों का निर्वहन करना आवश्यक है। यदि कोई इन नैतिक मूल्यों का अभ्यास और आत्मसात करता है तो उस व्यक्ति को ही नैतिकता का सच्चा ज्ञान प्राप्त होता है। नैतिकता व्यक्तिगत और सामाजिक दो बंधनों का संक्षय है। व्यक्तिगत नैतिकता अच्छे गुणों का संकेत है जो व्यक्तिगत भलाई और खुशी के लिए आवश्यक है। सामाजिक नैतिकता उन मूल्यों का प्रतिनिधित्व करती है जो सामाजिक व्यवस्था और सद्भाव के लिए आवश्यक हैं।

भारत की ज्ञान परंपरा में उसके धार्मिक और दार्शनिक चिंतन में है। अनादिकाल से, यहाँ विभिन्न धार्मिक आस्थाएँ फली-फूली हैं। भारत के प्रत्येक धार्मिक और प्रत्येक दार्शनिक व्यवस्था में एक प्रमुख नैतिक घटक है। नैतिकता इन सभी प्रणालियों का मूल है। प्रत्येक धार्मिक परंपरा में सुखी और संतुष्ट जीवन के लिए अच्छे नैतिक आचरण आवश्यक हैं।

नैतिकता के दो प्रमुख प्रकार कौन से हैं?

1. धार्मिक और दार्शनिक
2. व्यक्तिगत और सामाजिक
3. मुक्त और सीमित
4. कठिन और सरल

**Options :**

485584137205. 1  
485584137206. 2  
485584137207. 3  
485584137208. 4

**Question Number : 348 Question Id : 48558434303 Question Type : MCQ Option Shuffling : No Is Question Mandatory : No Calculator : None Response Time : N.A Think Time : N.A Minimum Instruction Time : 0**

**Correct Marks : 5 Wrong Marks : 1**

**Question Key Details :**

Key	Value
Comprehension	Comp2

Read the following passage and answer the questions given below:

The moral code of the people is an indicator of their social and spiritual ways of life. The true essence of human life is to live amidst worldly joy and sorrows, Ethics is primarily concerned with the moral issues of the world. True religion lays stress on moral virtues. People are required to discharge their duties according to the moral code of ethics. A true knowledge of ethics would be attained if one practices and imbibes these moral values. Ethics is of two kinds individuals and social. Individual ethics is indicative of the good qualities that are essential for individual well-being of the good qualities that are essential for individual well-being and happiness. Social ethics represents the values that are needed for social order and harmony.

In the knowledge tradition of India ethics has its origin in its religious and philosophical thinking. From time immemorial, various religious faiths have flourished here. Every religious and every philosophical system of India has a prominent ethical component. Ethics is the core of all these systems. In every religious tradition, good moral conduct is considered essential for a happy and contented life.

In the knowledge tradition of India, Ethics originated in \_\_\_\_\_

1. Religious and Philosophical thinking
2. Traditional and Spiritual thinking
3. Broad and Positive thinking
4. Backward and Negative thinking

**Options :**

- 485584137209. 1
- 485584137210. 2
- 485584137211. 3
- 485584137212. 4

**Question Number : 348 Question Id : 48558434303 Question Type : MCQ Option Shuffling : No Is Question Mandatory : No Calculator : None Response Time : N.A Think Time : N.A Minimum Instruction Time : 0**

**Correct Marks : 5 Wrong Marks : 1**

**Question Key Details :**

Key	Value
Comprehension	Comp2

नीचे दिए गए गद्यांश पढ़ें और प्रश्नों के उत्तर दें।

लोगों का नैतिक नियमसंग्रह उनके जीवन के सामाजिक और आध्यात्मिक तरीकों का सूचक है। मानव जीवन का सच्चा सार संसारिक सुखों और दुःखों को स्वीकार करना है, नैतिकता मुख्य रूप से दुनिया के नैतिक मुद्दों से संबंधित है। सच्चा धर्म नैतिक गुणों पर बल देता है। लोगों को नैतिक आचार संहिता के अनुसार अपने कर्तव्यों का निर्वहन करना आवश्यक है। यदि कोई इन नैतिक मूल्यों का अभ्यास और आत्मसात करता है तो उस व्यक्ति को ही नैतिकता का सच्चा ज्ञान प्राप्त होता है। नैतिकता व्यक्तिगत और सामाजिक दो बंधनों का संक्षय है। व्यक्तिगत नैतिकता अच्छे गुणों का संकेत है जो व्यक्तिगत भलाई और खुशी के लिए आवश्यक है। सामाजिक नैतिकता उन मूल्यों का प्रतिनिधित्व करती है जो सामाजिक व्यवस्था और सद्भाव के लिए आवश्यक हैं।

भारत की ज्ञान परंपरा में उसके धार्मिक और दार्शनिक चिंतन में है। अनादिकाल से, यहाँ विभिन्न धार्मिक आस्थाएँ फली-फूली हैं। भारत के प्रत्येक धार्मिक और प्रत्येक दार्शनिक व्यवस्था में एक प्रमुख नैतिक घटक है। नैतिकता इन सभी प्रणालियों का मूल है। प्रत्येक धार्मिक परंपरा में सुखी और संतुष्ट जीवन के लिए अच्छे नैतिक आचरण आवश्यक हैं।

भारत की ज्ञान परंपरा में, नैतिकता की उत्पत्ति हुई है -

1. धार्मिक और दार्शनिक चिन्तन
2. परंपरागत और आध्यात्मिक चिन्तन
3. व्यापक और सकारात्मक चिन्तन
4. पिछड़ा और नकारात्मक चिन्तन

**Options :**

485584137209. 1  
485584137210. 2  
485584137211. 3  
485584137212. 4

**Question Number : 349 Question Id : 48558434304 Question Type : MCQ Option Shuffling : No Is Question Mandatory : No Calculator : None Response Time : N.A Think Time : N.A Minimum Instruction Time : 0**

**Correct Marks : 5 Wrong Marks : 1**

**Question Key Details :**

Key	Value
Comprehension	Comp2

Read the following passage and answer the questions given below:

The moral code of the people is an indicator of their social and spiritual ways of life. The true essence of human life is to live amidst worldly joy and sorrows, Ethics is primarily concerned with the moral issues of the world. True religion lays stress on moral virtues. People are required to discharge their duties according to the moral code of ethics. A true knowledge of ethics would be attained if one practices and imbibes these moral values. Ethics is of two kinds individuals and social. Individual ethics is indicative of the good qualities that are essential for individual well-being of the good qualities that are essential for individual well-being and happiness. Social ethics represents the values that are needed for social order and harmony.

In the knowledge tradition of India ethics has its origin in its religious and philosophical thinking. From time immemorial, various religious faiths have flourished here. Every religious and every philosophical system of India has a prominent ethical component. Ethics is the core of all these systems. In every religious tradition, good moral conduct is considered essential for a happy and contented life.

Ethics is primarily concerned with the \_\_\_\_\_

1. Social issues of the world
2. Economic issues of the world
3. Moral issues of the world
4. Religious issues of the world

**Options :**

- 485584137213. 1
- 485584137214. 2
- 485584137215. 3
- 485584137216. 4

**Question Number : 349 Question Id : 48558434304 Question Type : MCQ Option Shuffling : No Is Question Mandatory : No Calculator : None Response Time : N.A Think Time : N.A Minimum Instruction Time : 0**

**Correct Marks : 5 Wrong Marks : 1**

**Question Key Details :**

Key	Value
Comprehension	Comp2

नीचे दिए गए गद्यांश पढ़ें और प्रश्नों के उत्तर दें।

लोगों का नैतिक नियमसंग्रह उनके जीवन के सामाजिक और आध्यात्मिक तरीकों का सूचक है। मानव जीवन का सच्चा सार संसारिक सुखों और दुःखों को स्वीकार करना है, नैतिकता मुख्य रूप से दुनिया के नैतिक मुद्दों से संबंधित है। सच्चा धर्म नैतिक गुणों पर बल देता है। लोगों को नैतिक आचार संहिता के अनुसार अपने कर्तव्यों का निर्वहन करना आवश्यक है। यदि कोई इन नैतिक मूल्यों का अभ्यास और आत्मसात करता है तो उस व्यक्ति को ही नैतिकता का सच्चा ज्ञान प्राप्त होता है। नैतिकता व्यक्तिगत और सामाजिक दो बंधनों का संक्षय है। व्यक्तिगत नैतिकता अच्छे गुणों का संकेत है जो व्यक्तिगत भलाई और खुशी के लिए आवश्यक है। सामाजिक नैतिकता उन मूल्यों का प्रतिनिधित्व करती है जो सामाजिक व्यवस्था और सद्भाव के लिए आवश्यक हैं।

भारत की ज्ञान परंपरा में उसके धार्मिक और दार्शनिक चिंतन में है। अनादिकाल से, यहाँ विभिन्न धार्मिक आस्थाएँ फली-फूली हैं। भारत के प्रत्येक धार्मिक और प्रत्येक दार्शनिक व्यवस्था में एक प्रमुख नैतिक घटक है। नैतिकता इन सभी प्रणालियों का मूल है। प्रत्येक धार्मिक परंपरा में सुखी और संतुष्ट जीवन के लिए अच्छे नैतिक आचरण आवश्यक हैं।

नैतिकता मुख्य रूप से संबंधित है -

1. विश्व की सामाजिक समस्याओं से
2. विश्व की आर्थिक समस्याओं से
3. विश्व की नैतिक समस्याओं से
4. विश्व की धार्मिक समस्याओं से

**Options :**

485584137213. 1  
485584137214. 2  
485584137215. 3  
485584137216. 4

**Question Number : 350 Question Id : 48558434305 Question Type : MCQ Option Shuffling : No Is Question Mandatory : No Calculator : None Response Time : N.A Think Time : N.A Minimum Instruction Time : 0**

**Correct Marks : 5 Wrong Marks : 1**

**Question Key Details :**

Key	Value
Comprehension	Comp2

Read the following passage and answer the questions given below:

The moral code of the people is an indicator of their social and spiritual ways of life. The true essence of human life is to live amidst worldly joy and sorrows, Ethics is primarily concerned with the moral issues of the world. True religion lays stress on moral virtues. People are required to discharge their duties according to the moral code of ethics. A true knowledge of ethics would be attained if one practices and imbibes these moral values. Ethics is of two kinds individuals and social. Individual ethics is indicative of the good qualities that are essential for individual well-being of the good qualities that are essential for individual well-being and happiness. Social ethics represents the values that are needed for social order and harmony.

In the knowledge tradition of India ethics has its origin in its religious and philosophical thinking. From time immemorial, various religious faiths have flourished here. Every religious and every philosophical system of India has a prominent ethical component. Ethics is the core of all these systems. In every religious tradition, good moral conduct is considered essential for a happy and contented life.

To maintain social order and harmony what type of ethics play an important role in society?

1. Individual Ethics
2. Social Ethics
3. Political Ethics
4. Legal Ethics

**Options :**

- 485584137217. 1
- 485584137218. 2
- 485584137219. 3
- 485584137220. 4

**Question Number : 350 Question Id : 48558434305 Question Type : MCQ Option Shuffling : No Is Question Mandatory : No Calculator : None Response Time : N.A Think Time : N.A Minimum Instruction Time : 0**

**Correct Marks : 5 Wrong Marks : 1**

**Question Key Details :**

Key	Value
Comprehension	Comp2

नीचे दिए गए गद्यांश पढ़ें और प्रश्नों के उत्तर दें।

लोगों का नैतिक नियमसंग्रह उनके जीवन के सामाजिक और आध्यात्मिक तरीकों का सूचक है। मानव जीवन का सच्चा सार संसारिक सुखों और दुःखों को स्वीकार करना है, नैतिकता मुख्य रूप से दुनिया के नैतिक मुद्दों से संबंधित है। सच्चा धर्म नैतिक गुणों पर बल देता है। लोगों को नैतिक आचार संहिता के अनुसार अपने कर्तव्यों का निर्वहन करना आवश्यक है। यदि कोई इन नैतिक मूल्यों का अभ्यास और आत्मसात करता है तो उस व्यक्ति को ही नैतिकता का सच्चा ज्ञान प्राप्त होता है। नैतिकता व्यक्तिगत और सामाजिक दो बंधनों का संक्षेप है। व्यक्तिगत नैतिकता अच्छे गुणों का संकेत है जो व्यक्तिगत भलाई और खुशी के लिए आवश्यक है। सामाजिक नैतिकता उन मूल्यों का प्रतिनिधित्व करती है जो सामाजिक व्यवस्था और सद्भाव के लिए आवश्यक हैं।

भारत की ज्ञान परंपरा में उसके धार्मिक और दार्शनिक चिंतन में है। अनादिकाल से, यहाँ विभिन्न धार्मिक आस्थाएँ फली-फूली हैं। भारत के प्रत्येक धार्मिक और प्रत्येक दार्शनिक व्यवस्था में एक प्रमुख नैतिक घटक है। नैतिकता इन सभी प्रणालियों का मूल है। प्रत्येक धार्मिक परंपरा में सुखी और संतुष्ट जीवन के लिए अच्छे नैतिक आचरण आवश्यक हैं।

सामाजिक व्यवस्था और सद्भाव बनाए रखने के लिए किस प्रकार की नैतिकता समाज में महत्वपूर्ण भूमिका निभाती है?

1. व्यक्तिगत नैतिकता
2. सामाजिक नैतिकता
3. राजनीतिक नैतिकता
4. कानूनी नैतिकता

**Options :**

485584137217. 1  
485584137218. 2  
485584137219. 3  
485584137220. 4

## Political Science

Group Number :	12
Group Id :	485584779
Group Maximum Duration :	45
Group Minimum Duration :	45
Show Attended Group? :	No
Edit Attended Group? :	No
Break time :	0
Group Marks :	200
Is this Group for Examiner? :	No
Examiner permission :	Cant View
Show Progress Bar? :	No

## Political Science

Section Id :	485584897
Section Number :	1
Section type :	Online



<b>Mandatory or Optional :</b>	Mandatory
<b>Number of Questions :</b>	50
<b>Number of Questions to be attempted :</b>	40
<b>Section Marks :</b>	200
<b>Enable Mark as Answered Mark for Review and Clear Response :</b>	Yes
<b>Maximum Instruction Time :</b>	0
<b>Sub-Section Number :</b>	1
<b>Sub-Section Id :</b>	4855842545
<b>Question Shuffling Allowed :</b>	Yes
<b>Is Section Default? :</b>	null

**Question Number : 351 Question Id : 48558434356 Question Type : MCQ Option Shuffling : No Is Question Mandatory : No Calculator : None Response Time : N.A Think Time : N.A Minimum Instruction Time : 0**

**Correct Marks : 5 Wrong Marks : 1**

**Question Key Details :**

Key	Value
Comprehension	MCQ

When the constitution was signed?

1. 24 January 1950
2. 26 November 1949
3. 26 January 1950
4. 26 November 1950

**Options :**

485584137421. 1  
485584137422. 2  
485584137423. 3  
485584137424. 4

**Question Number : 351 Question Id : 48558434356 Question Type : MCQ Option Shuffling : No Is Question Mandatory : No Calculator : None Response Time : N.A Think Time : N.A Minimum Instruction Time : 0**

**Correct Marks : 5 Wrong Marks : 1**

**Question Key Details :**

Key	Value
Comprehension	MCQ

संविधान पर कब हस्ताक्षर किए गए?

1. 24 जनवरी 1950
2. 26 नवंबर 1949
3. 26 जनवरी 1950
4. 26 नवंबर 1950

**Options :**

485584137421. 1  
485584137422. 2

485584137423. 3

485584137424. 4

**Question Number : 352 Question Id : 48558434357 Question Type : MCQ Option Shuffling : No Is Question Mandatory : No Calculator : None Response Time : N.A Think Time : N.A Minimum Instruction Time : 0**

**Correct Marks : 5 Wrong Marks : 1**

**Question Key Details :**

Key	Value
Comprehension	MCQ

Election Commission of India was setup in

1. January 1949
2. January 1950
3. November 1949
4. November 1950

**Options :**

- 485584137425. 1
- 485584137426. 2
- 485584137427. 3
- 485584137428. 4

**Question Number : 352 Question Id : 48558434357 Question Type : MCQ Option Shuffling : No Is Question Mandatory : No Calculator : None Response Time : N.A Think Time : N.A Minimum Instruction Time : 0**

**Correct Marks : 5 Wrong Marks : 1**

**Question Key Details :**

Key	Value
Comprehension	MCQ

'भारतीय चुनाव आयोग' का गठन किया गया \_\_\_\_\_

1. जनवरी 1949
2. जनवरी 1950
3. नवंबर 1949
4. नवंबर 1950

**Options :**

- 485584137425. 1
- 485584137426. 2
- 485584137427. 3
- 485584137428. 4

**Question Number : 353 Question Id : 48558434358 Question Type : MCQ Option Shuffling : No Is Question Mandatory : No Calculator : None Response Time : N.A Think Time : N.A Minimum Instruction Time : 0**

**Correct Marks : 5 Wrong Marks : 1**

**Question Key Details :**

Key	Value
-----	-------

Comprehension	MCQ
---------------	-----

Who was the first Election Commissioner of India.

1. S S Sen
2. Sukumar Sen
3. Kumar Sen
4. S Kumar Sen

**Options :**

485584137429. 1  
485584137430. 2  
485584137431. 3  
485584137432. 4

**Question Number : 353 Question Id : 48558434358 Question Type : MCQ Option Shuffling : No Is Question Mandatory : No Calculator : None Response Time : N.A Think Time : N.A Minimum Instruction Time : 0**

**Correct Marks : 5 Wrong Marks : 1**

**Question Key Details :**

Key	Value
Comprehension	MCQ

भारत का प्रथम चुनाव आयुक्त कौन था?

1. एस. एस. सेन
2. सुकुमार सेन
3. कुमार सेन
4. एस. कुमार सेन

**Options :**

485584137429. 1  
485584137430. 2  
485584137431. 3  
485584137432. 4

**Question Number : 354 Question Id : 48558434359 Question Type : MCQ Option Shuffling : No Is Question Mandatory : No Calculator : None Response Time : N.A Think Time : N.A Minimum Instruction Time : 0**

**Correct Marks : 5 Wrong Marks : 1**

**Question Key Details :**

Key	Value
Comprehension	MCQ

Who decided to convert Cuba in to a Russian base in 1962.

1. Nikhil Khurushchev
2. Nikita Khurushchev
3. Neil Khurushchev
4. Nail Khurushchev

**Options :**

485584137433. 1  
485584137434. 2  
485584137435. 3  
485584137436. 4

**Question Number : 354 Question Id : 48558434359 Question Type : MCQ Option Shuffling : No Is Question Mandatory : No Calculator : None Response Time : N.A Think Time : N.A Minimum Instruction Time : 0**

**Correct Marks : 5 Wrong Marks : 1**

**Question Key Details :**

Key	Value
Comprehension	MCQ

वर्ष 1962 में किसने निर्णय लिया कि क्यूबा को रूस के 'बेस' में बदल दिया जाए।

1. निखाइल खुश्चेव
2. निकिता खुश्चेव
3. नील खुश्चेव
4. नाइल खुश्चेव

**Options :**

485584137433. 1  
485584137434. 2  
485584137435. 3  
485584137436. 4

**Question Number : 355 Question Id : 48558434360 Question Type : MCQ Option Shuffling : No Is Question Mandatory : No Calculator : None Response Time : N.A Think Time : N.A Minimum Instruction Time : 0**

**Correct Marks : 5 Wrong Marks : 1**

**Question Key Details :**

Key	Value
Comprehension	MCQ

The First world War was shaken the world between

1. 1914-1918
2. 1914-1916
3. 1914-1919
4. 1914-1917

**Options :**

485584137437. 1  
485584137438. 2  
485584137439. 3  
485584137440. 4

**Question Number : 355 Question Id : 48558434360 Question Type : MCQ Option Shuffling : No Is Question Mandatory : No Calculator : None Response Time : N.A Think Time : N.A Minimum Instruction Time : 0**

**Correct Marks : 5 Wrong Marks : 1**

**Question Key Details :**

Key	Value
Comprehension	MCQ

अवधि में प्रथम विश्व युद्ध ने दुनिया को हिला दिया।

1. 1914-1918
2. 1914-1916
3. 1914-1919
4. 1914-1917

**Options :**

485584137437. 1  
485584137438. 2  
485584137439. 3  
485584137440. 4

**Question Number : 356 Question Id : 48558434361 Question Type : MCQ Option Shuffling : No Is Question Mandatory : No Calculator : None Response Time : N.A Think Time : N.A Minimum Instruction Time : 0**

**Correct Marks : 5 Wrong Marks : 1**

**Question Key Details :**

Key	Value
Comprehension	MCQ

United States dropped two atomic bombs on the Japanese cities of Hiroshima and Nagasaki in

1. July 1945
2. August 1945
3. September 1945
4. October 1945

**Options :**

485584137441. 1  
485584137442. 2  
485584137443. 3  
485584137444. 4

**Question Number : 356 Question Id : 48558434361 Question Type : MCQ Option Shuffling : No Is Question Mandatory : No Calculator : None Response Time : N.A Think Time : N.A Minimum Instruction Time : 0**

**Correct Marks : 5 Wrong Marks : 1**

**Question Key Details :**

Key	Value
Comprehension	MCQ

अमेरिका ने दो जापानी शहरों - नागासाकी और हिरोशिमा पर दो परमाणु बम गिराए ---

1. जुलाई 1945
2. अगस्त 1945
3. सितम्बर 1945
4. अक्टूबर 1945

**Options :**

485584137441. 1  
485584137442. 2  
485584137443. 3  
485584137444. 4

**Question Number : 357 Question Id : 48558434362 Question Type : MCQ Option Shuffling : No Is Question Mandatory : No Calculator : None Response Time : N.A Think Time : N.A Minimum Instruction Time : 0**

**Correct Marks : 5 Wrong Marks : 1**

**Question Key Details :**

Key	Value
Comprehension	MCQ

North Atlantic Treaty Organisation (NATO) came into existence in

1. March 1949
2. April 1949
3. May 1949
4. June 1949

**Options :**

485584137445. 1  
485584137446. 2  
485584137447. 3  
485584137448. 4

**Question Number : 357 Question Id : 48558434362 Question Type : MCQ Option Shuffling : No Is Question Mandatory : No Calculator : None Response Time : N.A Think Time : N.A Minimum Instruction Time : 0**

**Correct Marks : 5 Wrong Marks : 1**

**Question Key Details :**

Key	Value
Comprehension	MCQ

उत्तरी अटलांटिक संधि संगठन (NATO) अस्तित्व में आया :

1. मार्च 1949
2. अप्रैल 1949
3. मई 1949
4. जून 1949

**Options :**

485584137445. 1  
485584137446. 2  
485584137447. 3  
485584137448. 4

**Question Number : 358 Question Id : 48558434363 Question Type : MCQ Option Shuffling : No Is Question Mandatory : No Calculator : None Response Time : N.A Think Time : N.A Minimum Instruction Time : 0**

**Correct Marks : 5 Wrong Marks : 1**

**Question Key Details :**

Key	Value
Comprehension	MCQ

The Eastern alliance, known as the Warsaw Pact, was led by the Soviet Union was created in

1. 1945
2. 1949
3. 1955
4. 1957

**Options :**

- 485584137449. 1
- 485584137450. 2
- 485584137451. 3
- 485584137452. 4

**Question Number : 358 Question Id : 48558434363 Question Type : MCQ Option Shuffling : No Is Question Mandatory : No Calculator : None Response Time : N.A Think Time : N.A Minimum Instruction Time : 0**

**Correct Marks : 5 Wrong Marks : 1**

**Question Key Details :**

Key	Value
Comprehension	MCQ

पूर्वी मैत्री संधि (ईस्टर्न एलाइंस), जिसे वार्साय की संधि भी कहते हैं, का नेतृत्व रूस ने किया/ इसका गठन हुआ :

1. 1945
2. 1949
3. 1955
4. 1957

**Options :**

- 485584137449. 1
- 485584137450. 2
- 485584137451. 3
- 485584137452. 4

**Question Number : 359 Question Id : 48558434364 Question Type : MCQ Option Shuffling : No Is Question Mandatory : No Calculator : None Response Time : N.A Think Time : N.A Minimum Instruction Time : 0**

**Correct Marks : 5 Wrong Marks : 1**

**Question Key Details :**

Key	Value
Comprehension	MCQ



The First non-aligned summit was held in Belgrade in.

1. 1958
2. 1959
3. 1960
4. 1961

**Options :**

485584137453. 1  
485584137454. 2  
485584137455. 3  
485584137456. 4

**Question Number : 359 Question Id : 48558434364 Question Type : MCQ Option Shuffling : No Is Question Mandatory : No Calculator : None Response Time : N.A Think Time : N.A Minimum Instruction Time : 0**

**Correct Marks : 5 Wrong Marks : 1**

**Question Key Details :**

Key	Value
Comprehension	MCQ

प्रथम गट निरपेक्ष शिखर सम्मेलन बेलग्रेड में हुआ :

1. 1958
2. 1959
3. 1960
4. 1961

**Options :**

485584137453. 1  
485584137454. 2  
485584137455. 3  
485584137456. 4

**Question Number : 360 Question Id : 48558434365 Question Type : MCQ Option Shuffling : No Is Question Mandatory : No Calculator : None Response Time : N.A Think Time : N.A Minimum Instruction Time : 0**

**Correct Marks : 5 Wrong Marks : 1**

**Question Key Details :**

Key	Value
Comprehension	MCQ

Famous speech 'tryst with destiny' is addressed by :-

1. Jawaharlal Nehru
2. Mahatma Gandhi
3. Lal Bahadur Shastri
4. Khan Abdul Gaffar Khan

**Options :**

485584137457. 1  
485584137458. 2  
485584137459. 3  
485584137460. 4

**Question Number : 360 Question Id : 48558434365 Question Type : MCQ Option Shuffling : No Is Question Mandatory : No Calculator : None Response Time : N.A Think Time : N.A Minimum Instruction Time : 0**

**Correct Marks : 5 Wrong Marks : 1**

**Question Key Details :**

Key	Value
Comprehension	MCQ

प्रसिद्ध भाषण 'ट्रायस्ट विद डेस्टिनी' (Tryst with Destiny) किसके द्वारा दिया गया।

1. जवाहरलाल नेहरू
2. महात्मा गाँधी
3. लाल बहादुर शास्त्री
4. खान अब्दुल गफ्फार खान

**Options :**

485584137457. 1  
485584137458. 2  
485584137459. 3  
485584137460. 4

**Question Number : 361 Question Id : 48558434366 Question Type : MCQ Option Shuffling : No Is Question Mandatory : No Calculator : None Response Time : N.A Think Time : N.A Minimum Instruction Time : 0**

**Correct Marks : 5 Wrong Marks : 1**

**Question Key Details :**

Key	Value
Comprehension	MCQ

Who was the Deputy Prime Minister and first home minister of Independent India

1. Raf Ahmad Kidwai
2. Sardar Vallabh Bhai Patel
3. C. Rajgopalachari
4. K. S. Menon

**Options :**

485584137461. 1  
485584137462. 2  
485584137463. 3  
485584137464. 4

**Question Number : 361 Question Id : 48558434366 Question Type : MCQ Option Shuffling : No Is Question Mandatory : No Calculator : None Response Time : N.A Think Time : N.A Minimum Instruction Time : 0**

**Correct Marks : 5 Wrong Marks : 1**

**Question Key Details :**

Key	Value
Comprehension	MCQ

स्वतंत्र भारत का प्रथम उप-प्रधानमंत्री एवं गृह मंत्री कौन था?

1. रफी अहमद किदवई
2. सरदार वल्लभ भाई पटेल
3. राजगोपालाचारी
4. के. एस. मेनन

**Options :**

485584137461. 1  
485584137462. 2  
485584137463. 3  
485584137464. 4

**Question Number : 362 Question Id : 48558434367 Question Type : MCQ Option Shuffling : No Is Question Mandatory : No Calculator : None Response Time : N.A Think Time : N.A Minimum Instruction Time : 0**

**Correct Marks : 5 Wrong Marks : 1**

**Question Key Details :**

Key	Value
Comprehension	MCQ

A section of the big industrialists got together in 1944 and drafted a joint proposal for setting up a planned economy in the country it was called \_\_\_\_\_

1. Russian Plan
2. Global Plan
3. Bombay Plan
4. SwissPlan

**Options :**

485584137465. 1  
485584137466. 2  
485584137467. 3  
485584137468. 4

**Question Number : 362 Question Id : 48558434367 Question Type : MCQ Option Shuffling : No Is Question Mandatory : No Calculator : None Response Time : N.A Think Time : N.A Minimum Instruction Time : 0**

**Correct Marks : 5 Wrong Marks : 1**

**Question Key Details :**

Key	Value
Comprehension	MCQ

देश के कुछ उद्योगपति 1944 में इकट्ठे हुए और देश में एक सुनियोजित अर्थ व्यवस्था स्थापित करने के लिए एक संयुक्त-प्रस्ताव तैयार किया। इसे कहा जाता है -

1. रूसी योजना
2. वैश्विक योजना
3. बंबई योजना
4. स्विस योजना

**Options :**

485584137465. 1  
485584137466. 2  
485584137467. 3  
485584137468. 4

**Question Number : 363 Question Id : 48558434368 Question Type : MCQ Option Shuffling : No Is Question Mandatory : No Calculator : None Response Time : N.A Think Time : N.A Minimum Instruction Time : 0**

**Correct Marks : 5 Wrong Marks : 1**

**Question Key Details :**

Key	Value
Comprehension	MCQ

Name the founder of Indian Stastical Institute

1. K. N. Raj
2. J. C. Kumarappa
3. R. D. Raj
4. P. C. Mahalanobis

**Options :**

485584137469. 1  
485584137470. 2  
485584137471. 3  
485584137472. 4

**Question Number : 363 Question Id : 48558434368 Question Type : MCQ Option Shuffling : No Is Question Mandatory : No Calculator : None Response Time : N.A Think Time : N.A Minimum Instruction Time : 0**

**Correct Marks : 5 Wrong Marks : 1**

**Question Key Details :**

Key	Value
Comprehension	MCQ

भारतीय सांख्यिकी संस्थान के संस्थापक का नाम बताइए।

1. के. एम. राज
2. जे. सी. कुमारप्पा
3. आर. डी. राज
4. पी. सी. महालनोबिस

**Options :**

485584137469. 1  
485584137470. 2  
485584137471. 3  
485584137472. 4

**Question Number : 364 Question Id : 48558434369 Question Type : MCQ Option Shuffling : No Is Question Mandatory : No Calculator : None Response Time : N.A Think Time : N.A Minimum Instruction Time : 0**

**Correct Marks : 5 Wrong Marks : 1**

**Question Key Details :**

Key	Value
Comprehension	MCQ

Which Article of the Indian constitution lays down some directive principles of State policy on 'Promotion of international peace and security'

1. Article 51
2. Article 52
3. Article 53
4. Article 54

**Options :**

485584137473. 1  
485584137474. 2  
485584137475. 3  
485584137476. 4

**Question Number : 364 Question Id : 48558434369 Question Type : MCQ Option Shuffling : No Is Question Mandatory : No Calculator : None Response Time : N.A Think Time : N.A Minimum Instruction Time : 0**

**Correct Marks : 5 Wrong Marks : 1**

**Question Key Details :**

Key	Value
Comprehension	MCQ

अन्तर्राष्ट्रीय शांति एवम् सुरक्षा के उन्नयन के लिए भारत के संविधान के किस अधिनियम में राज्य के नीति निर्देशक सिद्धांतों का निर्धारण किया गया है?

1. अधिनियम 51
2. अधिनियम 52
3. अधिनियम 53
4. अधिनियम 54

**Options :**

485584137473. 1  
485584137474. 2  
485584137475. 3  
485584137476. 4

**Question Number : 365 Question Id : 48558434370 Question Type : MCQ Option Shuffling : No Is Question Mandatory : No Calculator : None Response Time : N.A Think Time : N.A Minimum Instruction Time : 0**

**Correct Marks : 5 Wrong Marks : 1**

**Question Key Details :**

Key	Value
Comprehension	MCQ

Who is the director of film 'Haqeeqat' (year 1964)

1. Sanjay Khan
2. Balraj Sahni
3. Chetan Anand
4. Jaxant Karvey

**Options :**

485584137477. 1  
485584137478. 2  
485584137479. 3  
485584137480. 4

**Question Number : 365 Question Id : 48558434370 Question Type : MCQ Option Shuffling : No Is Question Mandatory : No Calculator : None Response Time : N.A Think Time : N.A Minimum Instruction Time : 0**

**Correct Marks : 5 Wrong Marks : 1**

**Question Key Details :**

Key	Value
Comprehension	MCQ

'हकीकत' (वर्ष 1964) फिल्म का निर्देशक कौन है?

1. संजय खान
2. बलराज साहनी
3. चेतन आनन्द
4. जयंत कार्वे

**Options :**

485584137477. 1  
485584137478. 2  
485584137479. 3  
485584137480. 4

**Question Number : 366 Question Id : 48558434371 Question Type : MCQ Option Shuffling : No Is Question Mandatory : No Calculator : None Response Time : N.A Think Time : N.A Minimum Instruction Time : 0**

**Correct Marks : 5 Wrong Marks : 1**

**Question Key Details :**

Key	Value
Comprehension	MCQ

Who coined the famous slogan 'Jai Jawan Jai Kisan'?

1. Lal Bahadur Sashtri
2. Jawaharlal Nehru
3. Khan Abdul Gaffar
4. Mahatma Gandhi

**Options :**

485584137481. 1  
485584137482. 2  
485584137483. 3  
485584137484. 4

**Question Number : 366 Question Id : 48558434371 Question Type : MCQ Option Shuffling : No Is Question Mandatory : No Calculator : None Response Time : N.A Think Time : N.A Minimum Instruction Time : 0**

**Correct Marks : 5 Wrong Marks : 1**

**Question Key Details :**

Key	Value
Comprehension	MCQ

'जय जवान जय किसान' का प्रसिद्ध नारा किसने दिया था ?

1. लाल बहादुर शास्त्री
2. जवाहरलाल नेहरू
3. खान अब्दुल गफ्फार
4. महात्मा गाँधी

**Options :**

485584137481. 1  
485584137482. 2  
485584137483. 3  
485584137484. 4

**Question Number : 367 Question Id : 48558434372 Question Type : MCQ Option Shuffling : No Is Question Mandatory : No Calculator : None Response Time : N.A Think Time : N.A Minimum Instruction Time : 0**

**Correct Marks : 5 Wrong Marks : 1**

**Question Key Details :**

Key	Value
Comprehension	MCQ



Who formed DMK as a political party in 1949

1. Ram Manohar Lohia
2. C. Natrajan Annadurai
3. C. Kagle
4. Karpoori Thakur

**Options :**

485584137485. 1  
485584137486. 2  
485584137487. 3  
485584137488. 4

**Question Number : 367 Question Id : 48558434372 Question Type : MCQ Option Shuffling : No Is Question Mandatory : No Calculator : None Response Time : N.A Think Time : N.A Minimum Instruction Time : 0**

**Correct Marks : 5 Wrong Marks : 1**

**Question Key Details :**

Key	Value
Comprehension	MCQ

1949 में किसने राजनीतिक पार्टी डी. एम. के. की स्थापना की थी ?

1. राम मनोहर लोहिया
2. सी. नटराजन अन्नादुरई
3. सी. कागले
4. कर्पूरी ठाकुर

**Options :**

485584137485. 1  
485584137486. 2  
485584137487. 3  
485584137488. 4

**Question Number : 368 Question Id : 48558434373 Question Type : MCQ Option Shuffling : No Is Question Mandatory : No Calculator : None Response Time : N.A Think Time : N.A Minimum Instruction Time : 0**

**Correct Marks : 5 Wrong Marks : 1**

**Question Key Details :**

Key	Value
Comprehension	MCQ

Under the provision of which Article in Indian constitution government could declare a state of emergency on ground of external threat or internal disturbance.

1. Article 362
2. Article 352
3. Article 372
4. Article 382

**Options :**

485584137489. 1  
485584137490. 2  
485584137491. 3  
485584137492. 4

**Question Number : 368 Question Id : 48558434373 Question Type : MCQ Option Shuffling : No Is Question Mandatory : No Calculator : None Response Time : N.A Think Time : N.A Minimum Instruction Time : 0**

**Correct Marks : 5 Wrong Marks : 1**

**Question Key Details :**

Key	Value
Comprehension	MCQ

भारतीय संविधान के किस अनुच्छेद के प्रावधान के अन्तर्गत सरकार बाहरी खतरे अथवा आन्तरिक अशांति के आधार पर आपातकाल की स्थिति घोषित कर सकती है ?

1. अनुच्छेद 362
2. अनुच्छेद 352
3. अनुच्छेद 372
4. अनुच्छेद 382

**Options :**

485584137489. 1  
485584137490. 2  
485584137491. 3  
485584137492. 4

**Question Number : 369 Question Id : 48558434374 Question Type : MCQ Option Shuffling : No Is Question Mandatory : No Calculator : None Response Time : N.A Think Time : N.A Minimum Instruction Time : 0**

**Correct Marks : 5 Wrong Marks : 1**

**Question Key Details :**

Key	Value
Comprehension	MCQ

in which year the Janta Party governmet appointed a commision of inquiry headed by Justice J. C. Shah.

1. May 1977
2. June 1977
3. July 1977
4. August 1977

**Options :**

485584137493. 1  
485584137494. 2  
485584137495. 3  
485584137496. 4

**Question Number : 369 Question Id : 48558434374 Question Type : MCQ Option Shuffling : No Is Question Mandatory : No Calculator : None Response Time : N.A Think Time : N.A Minimum Instruction Time : 0**

**Correct Marks : 5 Wrong Marks : 1**

**Question Key Details :**

Key	Value
Comprehension	MCQ

किस वर्ष में जनता पार्टी की सरकार ने न्यायाधीश जे. सी. शाह की अध्यक्षता में जाँच आयोग की नियुक्ति की ?

1. मई 1977
2. जून 1977
3. जुलाई 1977
4. अगस्त 1977

**Options :**

485584137493. 1  
485584137494. 2  
485584137495. 3  
485584137496. 4

**Question Number : 370 Question Id : 48558434375 Question Type : MCQ Option Shuffling : No Is Question Mandatory : No Calculator : None Response Time : N.A Think Time : N.A Minimum Instruction Time : 0**

**Correct Marks : 5 Wrong Marks : 1**

**Question Key Details :**

Key	Value
Comprehension	MCQ

Dalit Panthers, a militant organisation of the Dalit youth was formed in which state

1. Gujarat
2. Andhra Pradesh
3. Maharashtra
4. Bihar

**Options :**

485584137497. 1  
485584137498. 2  
485584137499. 3  
485584137500. 4

**Question Number : 370 Question Id : 48558434375 Question Type : MCQ Option Shuffling : No Is Question Mandatory : No Calculator : None Response Time : N.A Think Time : N.A Minimum Instruction Time : 0**

**Correct Marks : 5 Wrong Marks : 1**

**Question Key Details :**

Key	Value
Comprehension	MCQ

दलित युवाओं के उग्रवादी संगठन दलित पैन्थर्स की स्थापना किस राज्य में हुई थी ?

1. गुजरात
2. आंध्र प्रदेश
3. महाराष्ट्र
4. बिहार

**Options :**

485584137497. 1  
485584137498. 2  
485584137499. 3  
485584137500. 4

**Question Number : 371 Question Id : 48558434376 Question Type : MCQ Option Shuffling : No Is Question Mandatory : No Calculator : None Response Time : N.A Think Time : N.A Minimum Instruction Time : 0**

**Correct Marks : 5 Wrong Marks : 1**

**Question Key Details :**

Key	Value
Comprehension	MCQ

Write the full form of BKU

1. Bharat Keval Union
2. Bharat Kisan Union
3. Bharat Karma union
4. Bhartiya Kisan United

**Options :**

485584137501. 1  
485584137502. 2  
485584137503. 3  
485584137504. 4

**Question Number : 371 Question Id : 48558434376 Question Type : MCQ Option Shuffling : No Is Question Mandatory : No Calculator : None Response Time : N.A Think Time : N.A Minimum Instruction Time : 0**

**Correct Marks : 5 Wrong Marks : 1**

**Question Key Details :**

Key	Value
Comprehension	MCQ

बी. के. यू. का पूरा नाम है -

1. भारत केवल यूनियन
2. भारत किसान यूनियन
3. भारत कर्मा यूनियन
4. भारतीय किसान यूनाइटेड

**Options :**

485584137501. 1  
485584137502. 2  
485584137503. 3  
485584137504. 4

**Question Number : 372 Question Id : 48558434377 Question Type : MCQ Option Shuffling : No Is Question Mandatory : No Calculator : None Response Time : N.A Think Time : N.A Minimum Instruction Time : 0**

**Correct Marks : 5 Wrong Marks : 1**

**Question Key Details :**

Key	Value
Comprehension	MCQ

Turning their back to the  
Sun they prayed through centuries  
Now, now we must refuse  
to be pilgrims of darkness

Who is the author of above poem

1. Eleanor Zelliot
2. Namdeo Dhasal
3. Golpitha
4. Jayanti Karvay

**Options :**

485584137505. 1  
485584137506. 2  
485584137507. 3  
485584137508. 4

**Question Number : 372 Question Id : 48558434377 Question Type : MCQ Option Shuffling : No Is Question Mandatory :  
No Calculator : None Response Time : N.A Think Time : N.A Minimum Instruction Time : 0**

**Correct Marks : 5 Wrong Marks : 1**

**Question Key Details :**

Key	Value
Comprehension	MCQ

सदियों तक सफर किया उन लोगों ने  
सूरज की तरफ पीठ किए  
लेकिन अब हमें कहना है 'ना'  
अंधेरे की इस पथयात्रा से।

उपर्युक्त कविता का रचनाकार कौन है -

1. एलेनोर जेलियट
2. नामदेव ढसाल
3. गोलपीठा
4. जयंती कारवे

**Options :**

485584137505. 1  
485584137506. 2  
485584137507. 3  
485584137508. 4

**Question Number : 373 Question Id : 48558434378 Question Type : MCQ Option Shuffling : No Is Question Mandatory :  
No Calculator : None Response Time : N.A Think Time : N.A Minimum Instruction Time : 0**

**Correct Marks : 5 Wrong Marks : 1**

**Question Key Details :**

Key	Value
Comprehension	MCQ

The slogan of "Anti Arrack Movement in Andhra Pradesh was

1. Say no to liquor
2. Stop liquor
3. Prohibition on the sale of arrack
4. Stop arrack save lives

**Options :**

485584137509. 1  
485584137510. 2  
485584137511. 3  
485584137512. 4

**Question Number : 373 Question Id : 48558434378 Question Type : MCQ Option Shuffling : No Is Question Mandatory : No Calculator : None Response Time : N.A Think Time : N.A Minimum Instruction Time : 0**

**Correct Marks : 5 Wrong Marks : 1**

**Question Key Details :**

Key	Value
Comprehension	MCQ

आंध्र प्रदेश में 'ताड़ी विरोध प्रदर्शन' का नारा था -

1. शराब को ना कहें
2. शराब को रोकें
3. ताड़ी की बिक्री पर रोक
4. ताड़ी को रोके, जीवन बचाएँ

**Options :**

485584137509. 1  
485584137510. 2  
485584137511. 3  
485584137512. 4

**Question Number : 374 Question Id : 48558434379 Question Type : MCQ Option Shuffling : No Is Question Mandatory : No Calculator : None Response Time : N.A Think Time : N.A Minimum Instruction Time : 0**

**Correct Marks : 5 Wrong Marks : 1**

**Question Key Details :**

Key	Value
Comprehension	MCQ

Who was known as 'Periyar'?

1. E.V. Ramasami Naicker
2. Sheikh Abdulla
3. E.V. Ramanujan
4. E.S. Naiyekar

**Options :**

485584137513. 1  
485584137514. 2  
485584137515. 3  
485584137516. 4

**Question Number : 374 Question Id : 48558434379 Question Type : MCQ Option Shuffling : No Is Question Mandatory : No Calculator : None Response Time : N.A Think Time : N.A Minimum Instruction Time : 0**

**Correct Marks : 5 Wrong Marks : 1**

**Question Key Details :**

Key	Value
Comprehension	MCQ

किसे 'पेरियार' के नाम से जाना जाता था -

1. ई. वी. रामासामी नईकर
2. शेख अब्दुल्ला
3. ई. वी. रामानुजन
4. ई. सी. नईयेकर

**Options :**

485584137513. 1  
485584137514. 2  
485584137515. 3  
485584137516. 4

**Question Number : 375 Question Id : 48558434380 Question Type : MCQ Option Shuffling : No Is Question Mandatory : No Calculator : None Response Time : N.A Think Time : N.A Minimum Instruction Time : 0**

**Correct Marks : 5 Wrong Marks : 1**

**Question Key Details :**

Key	Value
Comprehension	MCQ



Write the full form of 'AASU'

1. All Assam Students Union
2. All Assam Samarathak Union
3. All Assam Samman Union
4. All Assam Student united

**Options :**

485584137517. 1  
485584137518. 2  
485584137519. 3  
485584137520. 4

**Question Number : 375 Question Id : 48558434380 Question Type : MCQ Option Shuffling : No Is Question Mandatory : No Calculator : None Response Time : N.A Think Time : N.A Minimum Instruction Time : 0**

**Correct Marks : 5 Wrong Marks : 1**

**Question Key Details :**

Key	Value
Comprehension	MCQ

'ए. ए. एस. यू.' का पूरा नाम लिखें -

1. ऑल आसाम स्टूडेंट्स यूनियन
2. ऑल आसाम समर्थक यूनियन
3. ऑल आसाम सम्मान यूनियन
4. ऑल आसाम स्टूडेंट यूनाइटेड

**Options :**

485584137517. 1  
485584137518. 2  
485584137519. 3  
485584137520. 4

**Question Number : 376 Question Id : 48558434381 Question Type : MCQ Option Shuffling : No Is Question Mandatory : No Calculator : None Response Time : N.A Think Time : N.A Minimum Instruction Time : 0**

**Correct Marks : 5 Wrong Marks : 1**

**Question Key Details :**

Key	Value
Comprehension	MCQ

Who advocated the Charbuja Rajniti

1. Ram Manohar Lohia
2. Ram Thakur
3. Lala Lajpat Rai
4. Atal Bihari Vajpayee

**Options :**

485584137521. 1  
485584137522. 2  
485584137523. 3  
485584137524. 4

**Question Number : 376 Question Id : 48558434381 Question Type : MCQ Option Shuffling : No Is Question Mandatory : No Calculator : None Response Time : N.A Think Time : N.A Minimum Instruction Time : 0**

**Correct Marks : 5 Wrong Marks : 1**

**Question Key Details :**

Key	Value
Comprehension	MCQ

किसने चारभुजा राजनीति की वकालत की ?

1. राम मनोहर लोहिया
2. राम ठाकुर
3. लाला लाजपत राय
4. अटल बिहारी वाजपेयी

**Options :**

485584137521. 1  
485584137522. 2  
485584137523. 3  
485584137524. 4

**Question Number : 377 Question Id : 48558434382 Question Type : MCQ Option Shuffling : No Is Question Mandatory : No Calculator : None Response Time : N.A Think Time : N.A Minimum Instruction Time : 0**

**Correct Marks : 5 Wrong Marks : 1**

**Question Key Details :**

Key	Value
Comprehension	MCQ

BRIC was formed in which year

1. 2005
2. 2006
3. 2007
4. 2008

**Options :**

485584137525. 1  
485584137526. 2  
485584137527. 3  
485584137528. 4

**Question Number : 377 Question Id : 48558434382 Question Type : MCQ Option Shuffling : No Is Question Mandatory : No Calculator : None Response Time : N.A Think Time : N.A Minimum Instruction Time : 0**

**Correct Marks : 5 Wrong Marks : 1**

**Question Key Details :**

Key	Value
Comprehension	MCQ

'ब्रिक' की स्थापना किस वर्ष में की गयी थी -

1. 2005
2. 2006
3. 2007
4. 2008

**Options :**

485584137525. 1  
485584137526. 2  
485584137527. 3  
485584137528. 4

**Question Number : 378 Question Id : 48558434383 Question Type : MCQ Option Shuffling : No Is Question Mandatory : No Calculator : None Response Time : N.A Think Time : N.A Minimum Instruction Time : 0**

**Correct Marks : 5 Wrong Marks : 1**

**Question Key Details :**

Key	Value
Comprehension	MCQ

Full form of NITI Aayog :

1. National Institution for Transforming India
2. National Institution for Testing India
3. National Institution for Total India
4. national Integration of total India

**Options :**

485584137529. 1  
485584137530. 2  
485584137531. 3  
485584137532. 4

**Question Number : 378 Question Id : 48558434383 Question Type : MCQ Option Shuffling : No Is Question Mandatory : No Calculator : None Response Time : N.A Think Time : N.A Minimum Instruction Time : 0**

**Correct Marks : 5 Wrong Marks : 1**

**Question Key Details :**

Key	Value
Comprehension	MCQ

नीति आयोग का पूरा नाम है -

1. नेशनल इन्स्टिट्यूशन फॉर ट्रांसफार्मिंग इण्डिया
2. नेशनल इन्स्टिट्यूशन फॉर टेस्टिंग इण्डिया
3. नेशनल इन्स्टिट्यूशन फॉर टोटल इण्डिया
4. नेशनल एन्टीग्रेशन ऑफ टोटल इण्डिया

**Options :**

485584137529. 1  
485584137530. 2  
485584137531. 3  
485584137532. 4

**Question Number : 379 Question Id : 48558434384 Question Type : MCQ Option Shuffling : No Is Question Mandatory : No Calculator : None Response Time : N.A Think Time : N.A Minimum Instruction Time : 0**

**Correct Marks : 5 Wrong Marks : 1**

**Question Key Details :**

Key	Value
Comprehension	MCQ

Match List I with List II

LIST I		LIST II	
A.	IAEA	I.	2006
B.	World Bank	II.	1995
C.	human Rights Council	III.	1957
D.	WTO	IV.	1944

Choose the correct answer from the options given below:

1. A-IV, B-I, C-II, D-III
2. A-I, B-II, C-III, D-IV
3. A-III, B-IV, C-I, D-II
4. A-II, B-III, C-I, D-IV

**Options :**

485584137533. 1  
485584137534. 2  
485584137535. 3  
485584137536. 4

**Question Number : 379 Question Id : 48558434384 Question Type : MCQ Option Shuffling : No Is Question Mandatory : No Calculator : None Response Time : N.A Think Time : N.A Minimum Instruction Time : 0**

**Correct Marks : 5 Wrong Marks : 1**

**Question Key Details :**

Key	Value
Comprehension	MCQ

सूची I का सूची II के साथ मिलान कीजिए :

सूची I		सूची II	
A.	आई. ए. ई. ए.	I.	2006
B.	वर्ल्ड बैंक	II.	1995
C.	ह्यूमन राइट्स काउंसिल	III.	1957
D.	डब्ल्यू. टी. ओ.	IV.	1944

निम्नलिखित विकल्पों में सही उत्तर का चयन कीजिए :

1. A-IV, B-I, C-II, D-III
2. A-I, B-II, C-III, D-IV
3. A-III, B-IV, C-I, D-II
4. A-II, B-III, C-I, D-IV

**Options :**

485584137533. 1

485584137534. 2  
485584137535. 3  
485584137536. 4

**Question Number : 380 Question Id : 48558434385 Question Type : MCQ Option Shuffling : No Is Question Mandatory : No Calculator : None Response Time : N.A Think Time : N.A Minimum Instruction Time : 0**

**Correct Marks : 5 Wrong Marks : 1**

**Question Key Details :**

Key	Value
Comprehension	MCQ

Match List I with List II

LIST I		LIST II	
A.	Maulana Abul Kalam	I.	President of Congress Socialist Party
B.	Rajkumari Amrit Kaur	II.	First Education Minister
C.	Acharya Narendra Dev	III.	Political leader from Kerala
D.	A K Gopalan	IV.	First Health Minister

Choose the correct answer from the options given below:

1. A-II, B-I, C-IV, D-III
2. A-I, B-IV, C-III, D-II
3. A-II, B-IV, C-I, D-III
4. A-IV, B-II, C-I, D-III

**Options :**

485584137537. 1  
485584137538. 2  
485584137539. 3  
485584137540. 4

**Question Number : 380 Question Id : 48558434385 Question Type : MCQ Option Shuffling : No Is Question Mandatory : No Calculator : None Response Time : N.A Think Time : N.A Minimum Instruction Time : 0**

**Correct Marks : 5 Wrong Marks : 1**

**Question Key Details :**

Key	Value
Comprehension	MCQ

सूची I का सूची II से मिलान कीजिए

सूची I		सूची II	
A.	मौलाना अबुल कलाम	I.	कांग्रेस सोशलिस्ट पार्टी के अध्यक्ष
B.	राजकुमारी अमृत कौर	II.	प्रथम शिक्षा मंत्री
C.	आचार्य नरेन्द्र देव	III.	केरल के राजनेता
D.	ए. के. गोपालन	IV.	प्रथम स्वास्थ्य मंत्री

निम्नलिखित विकल्पों में से सही उत्तर का चयन कीजिए :

1

1. A-II, B-I, C-IV, D-III
2. A-I, B-IV, C-III, D-II
3. A-II, B-IV, C-I, D-III
4. A-IV, B-II, C-I, D-III

**Options :**

485584137537. 1  
485584137538. 2  
485584137539. 3  
485584137540. 4

**Question Number : 381 Question Id : 48558434386 Question Type : MCQ Option Shuffling : No Is Question Mandatory : No Calculator : None Response Time : N.A Think Time : N.A Minimum Instruction Time : 0**

**Correct Marks : 5 Wrong Marks : 1**

**Question Key Details :**

Key	Value
Comprehension	MCQ

Choose the wrong statement about Jagjivan Ram from the following options:

1. Member of Parliament since 1952 till his death.
2. Freedom fighter and Congress leader from Bihar
3. Finance Minister in the first Ministry of free India
4. Deputy Prime Minister of India (1977-1979)

**Options :**

485584137541. 1  
485584137542. 2  
485584137543. 3  
485584137544. 4

**Question Number : 381 Question Id : 48558434386 Question Type : MCQ Option Shuffling : No Is Question Mandatory : No Calculator : None Response Time : N.A Think Time : N.A Minimum Instruction Time : 0**

**Correct Marks : 5 Wrong Marks : 1**

**Question Key Details :**

Key	Value
Comprehension	MCQ

नीचे दिए गए विकल्पों में से जगजीवन राम के बारे में गलत का चयन करें-

1. 1952 से उनकी मृत्यु तक संसद सदस्य
2. स्वतंत्रता सेनानी एवं बिहार से काँग्रेस नेता
3. स्वतन्त्र भारत के प्रथम मन्त्रिमण्डल में वित्त मन्त्री
4. भारत के उप-प्रधानमन्त्री (1977-1979)

**Options :**

485584137541. 1  
485584137542. 2  
485584137543. 3  
485584137544. 4

**Question Number : 382 Question Id : 48558434387 Question Type : MCQ Option Shuffling : No Is Question Mandatory : No Calculator : None Response Time : N.A Think Time : N.A Minimum Instruction Time : 0**

**Correct Marks : 5 Wrong Marks : 1**

**Question Key Details :**

Key	Value
Comprehension	MCQ

Arrange the following Prime Ministers in chronological order of their tenure.

- A. Narendra Modi
- B. Chandra Shekhar
- C. V. P. Singh
- D. P. V. Narsimha Rao
- E. Manmohan Singh

Choose the most appropriate answer from the options given below:

1. C, B, D, E, A only
2. B, C, D, E, A only
3. D, B, C, E, A only
4. C, D, B, E, A only

**Options :**

485584137545. 1  
485584137546. 2  
485584137547. 3  
485584137548. 4

**Question Number : 382 Question Id : 48558434387 Question Type : MCQ Option Shuffling : No Is Question Mandatory : No Calculator : None Response Time : N.A Think Time : N.A Minimum Instruction Time : 0**

**Correct Marks : 5 Wrong Marks : 1**



**Question Key Details :**

Key	Value
Comprehension	MCQ

निम्नलिखित प्रधानमन्त्रियों को उनके कार्यकाल के कालक्रमानुसार व्यवस्थित कीजिए-

- A. नरेंद्र मोदी
- B. चन्द्र शेखर
- C. वी. पी. सिंह
- D. पी. वी नरसिंह राव
- E. मनमोहन सिंह

नीचे दिए गए विकल्पों में से सबसे उपयुक्त उत्तर का चयन करें:-

- 1. केवल C, B, D, E, A
- 2. केवल B, C, D, E, A
- 3. केवल D, B, C, E, A
- 4. केवल C, D, B, E, A

**Options :**

- 485584137545. 1
- 485584137546. 2
- 485584137547. 3
- 485584137548. 4

**Question Number : 383 Question Id : 48558434388 Question Type : MCQ Option Shuffling : No Is Question Mandatory : No Calculator : None Response Time : N.A Think Time : N.A Minimum Instruction Time : 0**

**Correct Marks : 5 Wrong Marks : 1**

**Question Key Details :**

Key	Value
Comprehension	MCQ

UNHCR stands for-

- 1. The United Nations High Commission For Refugees.
- 2. The United National High Commission For Refugees.
- 3. The United Nations High Commission for Refugees.
- 4. The United Nations Health Commission for Refugees.

**Options :**

- 485584137549. 1
- 485584137550. 2
- 485584137551. 3
- 485584137552. 4

**Question Number : 383 Question Id : 48558434388 Question Type : MCQ Option Shuffling : No Is Question Mandatory : No Calculator : None Response Time : N.A Think Time : N.A Minimum Instruction Time : 0**

**Correct Marks : 5 Wrong Marks : 1**

**Question Key Details :**

Key	Value
Comprehension	MCQ

UNHCR का पूरा नाम क्या है?

1. युनाइटेड नेशन हाई कमीशन फॉर रिफ्यूजी
2. युनाइटेड नेशनल हाई कमीशन फॉर रिफ्यूजी
3. युनाइटेड नेशन हाई कमीशन फॉर रिफ्यूजी
4. युनाइटेड नेशन हेल्थ कमीशन फॉर रिफ्यूजी

**Options :**

485584137549. 1  
485584137550. 2  
485584137551. 3  
485584137552. 4

**Question Number : 384 Question Id : 48558434389 Question Type : MCQ Option Shuffling : No Is Question Mandatory : No Calculator : None Response Time : N.A Think Time : N.A Minimum Instruction Time : 0**

**Correct Marks : 5 Wrong Marks : 1**

**Question Key Details :**

Key	Value
Comprehension	MCQ

Who announced the formation of a separate Andhra state in December 1952

1. First Deputy Prime Minister of an independent India
2. First Home Minister of an independent India
3. Chief Minister of Madras
4. First Prime Minister of an independent India

**Options :**

485584137553. 1  
485584137554. 2  
485584137555. 3  
485584137556. 4

**Question Number : 384 Question Id : 48558434389 Question Type : MCQ Option Shuffling : No Is Question Mandatory : No Calculator : None Response Time : N.A Think Time : N.A Minimum Instruction Time : 0**

**Correct Marks : 5 Wrong Marks : 1**

**Question Key Details :**

Key	Value
Comprehension	MCQ

सन 1952, दिसम्बर में अलग आंध्र राज्य की गठन का घोषणा किसने की?

1. स्वतन्त्र भारत के प्रथम उप प्रधानमंत्री
2. स्वतन्त्र भारत के प्रथम गृहमंत्री
3. मद्रास के मुख्यमंत्री
4. स्वतन्त्र भारत के प्रथम प्रधानमंत्री

**Options :**

485584137553. 1  
485584137554. 2  
485584137555. 3  
485584137556. 4

**Question Number : 385 Question Id : 48558434390 Question Type : MCQ Option Shuffling : No Is Question Mandatory : No Calculator : None Response Time : N.A Think Time : N.A Minimum Instruction Time : 0**

**Correct Marks : 5 Wrong Marks : 1**

**Question Key Details :**

Key	Value
Comprehension	MCQ

- A. The green revolution resulted in the rise of what is called the middle peasant sections.  
B. After green revolution Uttar Pradesh, Bihar and Madhya Pradesh became agriculturally prosperous.  
C. The green revolution delivered only a moderate agriculture growth and raised the availability of food in the country.  
D. In 1982 the rural development programme called operation flood was started.

Choose the correct answer from the options given below:

1. A and C only
2. A and D only
3. C and D only
4. B and C only

**Options :**

485584137557. 1  
485584137558. 2  
485584137559. 3  
485584137560. 4

**Question Number : 385 Question Id : 48558434390 Question Type : MCQ Option Shuffling : No Is Question Mandatory : No Calculator : None Response Time : N.A Think Time : N.A Minimum Instruction Time : 0**

**Correct Marks : 5 Wrong Marks : 1**

**Question Key Details :**

Key	Value
Comprehension	MCQ

- A. हरित क्रांति के परिणामस्वरूप उदय हुआ, जिसे मध्य किसान वर्ग कहा जाता है
- B. हरित क्रांति के बाद उत्तर-प्रदेश, बिहार और मध्य-प्रदेश कृषि से समृद्ध हो गया
- C. हरित क्रांति ने केवल मध्यम कृषि उत्पादन दिया और देश में भोजन की उपलब्धता बढ़ाई
- D. सन 1982 में ऑपरेशन फ्लड के नाम से ग्रामीण विकास कार्यक्रम प्रारम्भ किया गया

नीचे दिए गए विकल्पों में से सही उत्तर का चयन कीजिए:

1. केवल A और C
2. केवल A और D
3. केवल C और D
4. केवल B और C

**Options :**

- 485584137557. 1
- 485584137558. 2
- 485584137559. 3
- 485584137560. 4

**Question Number : 386 Question Id : 48558434391 Question Type : MCQ Option Shuffling : No Is Question Mandatory : No Calculator : None Response Time : N.A Think Time : N.A Minimum Instruction Time : 0**

**Correct Marks : 5 Wrong Marks : 1**

**Question Key Details :**

Key	Value
Comprehension	MCQ

When did the Government of India replaced the Planning Commission with a new institution named "NITI Ayog"

1. 1 January 2014
2. 1 January 2016
3. 1 January 2019
4. 1 January 2015

**Options :**

- 485584137561. 1
- 485584137562. 2
- 485584137563. 3
- 485584137564. 4

**Question Number : 386 Question Id : 48558434391 Question Type : MCQ Option Shuffling : No Is Question Mandatory : No Calculator : None Response Time : N.A Think Time : N.A Minimum Instruction Time : 0**

**Correct Marks : 5 Wrong Marks : 1**

**Question Key Details :**

Key	Value
Comprehension	MCQ

योजना आयोग की जगह 'नीति आयोग' एक नयी संसाधन भारत सरकार द्वारा प्रतिस्थापित अस्तित्व में आया।

1. 1 जनवरी 2014
2. 1 जनवरी 2016
3. 1 जनवरी 2019
4. 1 जनवरी 2015

**Options :**

485584137561. 1  
485584137562. 2  
485584137563. 3  
485584137564. 4

**Question Number : 387 Question Id : 48558434392 Question Type : MCQ Option Shuffling : No Is Question Mandatory : No Calculator : None Response Time : N.A Think Time : N.A Minimum Instruction Time : 0**

**Correct Marks : 5 Wrong Marks : 1**

**Question Key Details :**

Key	Value
Comprehension	MCQ

The idea of Planning in India was drawn from:-

- A. The Bombay Plan
- B. Experiences of the Soviet bloc countries
- C. Gandhian vision of Society
- D. Demand by Peasant Organisation
- E. Self Sufficiency

Choose the correct answer from the options given below:

1. B and D only
2. D and C only
3. A and B only
4. A only

**Options :**

485584137565. 1  
485584137566. 2  
485584137567. 3  
485584137568. 4

**Question Number : 387 Question Id : 48558434392 Question Type : MCQ Option Shuffling : No Is Question Mandatory : No Calculator : None Response Time : N.A Think Time : N.A Minimum Instruction Time : 0**

**Correct Marks : 5 Wrong Marks : 1**

**Question Key Details :**

Key	Value
Comprehension	MCQ

भारत में योजना का विचार कब से शुरू किया गया:-

- A. बाम्बे योजना
- B. सोवियत ब्लाक देशों का अनुभव
- C. समाज का गांधीवादी दृष्टीकोण
- D. किसान संगठन के द्वारा मांग
- E. आत्म-निर्भर

नीचे दिये गए विकल्पों में से सही उत्तर का चयन कीजिए:

1. केवल B और D
2. केवल D और C
3. केवल A और B
4. केवल A

**Options :**

- 485584137565. 1
- 485584137566. 2
- 485584137567. 3
- 485584137568. 4

**Question Number : 388 Question Id : 48558434393 Question Type : MCQ Option Shuffling : No Is Question Mandatory : No Calculator : None Response Time : N.A Think Time : N.A Minimum Instruction Time : 0**

**Correct Marks : 5 Wrong Marks : 1**

**Question Key Details :**

Key	Value
Comprehension	MCQ

What led to the era of coalition government at the centre after 1989:

1. Due to rise of communist party.
2. Weaking of the congress system.
3. Due to death of Rajiv Gandhi
4. Due to implementation of recommendation by Mandal Commission

**Options :**

- 485584137569. 1
- 485584137570. 2
- 485584137571. 3
- 485584137572. 4

**Question Number : 388 Question Id : 48558434393 Question Type : MCQ Option Shuffling : No Is Question Mandatory : No Calculator : None Response Time : N.A Think Time : N.A Minimum Instruction Time : 0**

**Correct Marks : 5 Wrong Marks : 1**

**Question Key Details :**

Key	Value
Comprehension	MCQ

1989 के बाद केंद्र में गठबंधन के युग का क्या कारण था:

1. साम्यवादी पार्टी में उदय के कारण
2. कांग्रेस तंत्र का कमजोर होना
3. राजीव गांधी की मृत्यु के कारण
4. मंडल आयोग के द्वारा सिफारिश में क्रियान्वयन के कारण

**Options :**

485584137569. 1  
485584137570. 2  
485584137571. 3  
485584137572. 4

**Question Number : 389 Question Id : 48558434394 Question Type : MCQ Option Shuffling : No Is Question Mandatory : No Calculator : None Response Time : N.A Think Time : N.A Minimum Instruction Time : 0**

**Correct Marks : 5 Wrong Marks : 1**

**Question Key Details :**

Key	Value
Comprehension	MCQ

Match List I with List II

LIST I Incident		LIST II Year	
A.	Formation of NATO	I.	1947
B.	Cuban Missile Crisis	II.	1956
C.	Truman's Doctrine	III.	1949
D.	Soviet intervention in Hungary	IV.	1962

Choose the correct answer from the options given below:

1. A-III, B-IV, C-II, D-I
2. A-III, B-IV, C-I, D-II
3. A-I, B-II, C-III, D-IV
4. A-II, B-I, C-III, D-IV

**Options :**

485584137573. 1  
485584137574. 2  
485584137575. 3  
485584137576. 4

**Question Number : 389 Question Id : 48558434394 Question Type : MCQ Option Shuffling : No Is Question Mandatory : No Calculator : None Response Time : N.A Think Time : N.A Minimum Instruction Time : 0**

**Correct Marks : 5 Wrong Marks : 1**

**Question Key Details :**

Key	Value
Comprehension	MCQ

सूची I का सूची II से मिलान कीजिए

सूची I (घटना)		सूची II (वर्ष)	
A.	नाटो का गठन	I.	1947
B.	क्यूबा का गठन	II.	1956
C.	टूमैन सिद्धान्त	III.	1949
D.	हंगरी में सोवियत हस्तक्षेप	IV.	1962

निम्नलिखित विकल्पों में से सही उत्तर का चयन कीजिए :

1. A-III, B-IV, C-II, D-I
2. A-III, B-IV, C-I, D-II
3. A-I, B-II, C-III, D-IV
4. A-II, B-I, C-III, D-IV

**Options :**

485584137573. 1  
485584137574. 2  
485584137575. 3  
485584137576. 4

**Question Number : 390 Question Id : 48558434395 Question Type : MCQ Option Shuffling : No Is Question Mandatory : No Calculator : None Response Time : N.A Think Time : N.A Minimum Instruction Time : 0**

**Correct Marks : 5 Wrong Marks : 1**

**Question Key Details :**

Key	Value
Comprehension	MCQ

Which of the Given leader is not the founding Member of NAM?

1. Josip Broz Tito
2. Jawaharlal Nehru
3. Indira Gandhi
4. Sukarno

**Options :**

485584137577. 1  
485584137578. 2  
485584137579. 3  
485584137580. 4



Question Number : 390 Question Id : 48558434395 Question Type : MCQ Option Shuffling : No Is Question Mandatory : No Calculator : None Response Time : N.A Think Time : N.A Minimum Instruction Time : 0

Correct Marks : 5 Wrong Marks : 1

Question Key Details :

Key	Value
Comprehension	MCQ

निम्न में से कौन सा नेता नम (NAM) का स्थापक सदस्य नहीं है?

1. जोसेफ ब्रॉज टीटो
2. जवाहरलाल नेहरू
3. इंदिरा गांधी
4. सुकार्णो

Options :

485584137577. 1  
485584137578. 2  
485584137579. 3  
485584137580. 4

Sub-Section Number : 2  
Sub-Section Id : 4855842546  
Question Shuffling Allowed : No  
Is Section Default? : null

Question Number : 391 Question Id : 48558434396 Question Type : MCQ Option Shuffling : No Is Question Mandatory : No Calculator : None Response Time : N.A Think Time : N.A Minimum Instruction Time : 0

Correct Marks : 5 Wrong Marks : 1

Question Key Details :

Key	Value
Comprehension	Comp1

Read the passage given below to answer

In spite of the many conflicts, the states of South Asia recognize the importance of cooperation and friendly relationship among themselves. The South Asian association for regional Cooperation (SAARC) is a major regional initiative by the South Asian states to evolve cooperation through multilateral means. It began in 1985. Unfortunately, due to persisting political differences, SAARC has not had much success. SAARC members signed the South Asian Free Trade (SAFTA) agreement which promised the formation of a free trade zone for the whole of South Asia.

The SAFTA agreement was signed in 2004 and came into effect on 1 January 2006. India thinks that there are real economic benefits for all SAFTA. Some in India think that SAFTA is not worth the trouble since India already has bilateral agreements with Bhutan, Nepal and Shri Lanka.

What statement is correct about SAARC

1. SAARC began in 1986
2. SAARC is an association of East Asian Nations
3. SAARC members signed South Asian Free Trade (SAFTA) Agreement
4. SAARC is a highly successful regional organisation

**Options :**

485584137581. 1  
485584137582. 2  
485584137583. 3  
485584137584. 4

**Question Number : 391 Question Id : 48558434396 Question Type : MCQ Option Shuffling : No Is Question Mandatory : No Calculator : None Response Time : N.A Think Time : N.A Minimum Instruction Time : 0**

**Correct Marks : 5 Wrong Marks : 1**

**Question Key Details :**

Key	Value
Comprehension	Compl

अनेक संघर्षों के बावजूद दक्षिण एशिया के देश आपस में दोस्ताना रिश्ते तथा सहयोग के महत्व को पहचानते हैं। शांति के प्रयास द्विपक्षीय भी हुए और क्षेत्रीय स्तर पर भी। दक्षेस (साउथ एशियन एसोसिएशन फॉर रिजनल को-ऑपरेशन) (SAARC) दक्षिण एशियाई देशों द्वारा बहुस्तरीय साधनों से आपस में सहयोग करने की दिशामें उठाया गया बड़ा कदम है। इसकी शुरुआत 1985 में हुई। दुर्भाग्य से विभेदों की मौजूदगी के कारण दक्षेस को ज्यादा सफलता नहीं मिली है। दक्षेस के सदस्य देशों ने सन् 2002 में 'दक्षिण एशियाई मुक्त व्यापार क्षेत्र समझौते' (SAFTA) पर दस्तखत किये। इसमें पूरे दक्षिण एशिया के लिए मुक्त व्यापार क्षेत्र बनाने का वायदा है। इस समझौते पर 2004 में हस्ताक्षर हुए और यह समझौता 1 जनवरी 2006 से प्रभावी हो गया। भारत सोचता है कि 'साफ्टा' से इस क्षेत्र के हर देश को फायदा होगा। भारत में कुछ लोगों का मानना है कि 'साफ्टा' के लिए परेशान होने की जरूरत नहीं क्योंकि भारत, भूटान, नेपाल और श्री लंका से पहले ही द्विपक्षीय व्यापार समझौता कर चुका है।

सार्क के बारे में सही कथन है?

1. सार्क 1986 में शुरुआत हुई
2. सार्क एक दक्षिण पूर्वी एशिया राष्ट्रों का संघ है
3. सार्क सदस्य दक्षिण एशिया मुक्त व्यापार क्षेत्र समझौते (साफ्टा) दस्तखत किया
4. सार्क एक उच्च सफलतापूर्वक प्रादेशिक संगठन है

**Options :**

485584137581. 1  
485584137582. 2  
485584137583. 3  
485584137584. 4

Question Number : 392 Question Id : 48558434397 Question Type : MCQ Option Shuffling : No Is Question Mandatory : No Calculator : None Response Time : N.A Think Time : N.A Minimum Instruction Time : 0

Correct Marks : 5 Wrong Marks : 1

Question Key Details :

Key	Value
Comprehension	Compl

Read the passage given below to answer

In spite of the many conflicts, the states of South Asia recognize the importance of cooperation and friendly relationship among themselves. The South Asian association for regional Cooperation (SAARC) is a major regional initiative by the South Asian states to evolve cooperation through multilateral means. It began in 1985. Unfortunately, due to persisting political differences, SAARC has not had much success. SAARC members signed the South Asian Free Trade (SAFTA) agreement which promised the formation of a free trade zone for the whole of South Asia.

The SAFTA agreement was signed in 2004 and came into effect on 1 January 2006. India thinks that there are real economic benefits for all SAFTA. Some in India think that SAFTA is not worth the trouble since India already has bilateral agreements with Bhutan, Nepal and Shri Lanka.

State the years correctly when the agreement SAFTA was signed and came into effect:-

1. 2006 and 2007
2. 2004 and 2005
3. 2004 and 2006
4. 2008 and 2009

Options :

- 485584137585. 1
- 485584137586. 2
- 485584137587. 3
- 485584137588. 4

Question Number : 392 Question Id : 48558434397 Question Type : MCQ Option Shuffling : No Is Question Mandatory : No Calculator : None Response Time : N.A Think Time : N.A Minimum Instruction Time : 0

Correct Marks : 5 Wrong Marks : 1

Question Key Details :

Key	Value
Comprehension	Compl

अनेक संघर्षों के बावजूद दक्षिण एशिया के देश आपस में दोस्ताना रिश्ते तथा सहयोग के महत्व को पहचानते हैं। शांति के प्रयास द्विपक्षीय भी हुए और क्षेत्रीय स्तर पर भी। दक्षेस (साउथ एशियन एसोसिएशन फॉर रिजनल को-ऑपरेशन) (SAARC) दक्षिण एशियाई देशों द्वारा बहुस्तरीय साधनों से आपस में सहयोग करने की दिशामें उठाया गया बड़ा कदम है। इसकी शुरुआत 1985 में हुई। दुर्भाग्य से विभेदों की मौजूदगी के कारण दक्षेस को ज्यादा सफलता नहीं मिली है। दक्षेस के सदस्य देशों ने सन् 2002 में 'दक्षिण एशियाई मुक्त व्यापार क्षेत्र समझौते' (SAFTA) पर दस्तखत किये। इसमें पूरे दक्षिण एशिया के लिए मुक्त व्यापार क्षेत्र बनाने का वायदा है। इस समझौते पर 2004 में हस्ताक्षर हुए और यह समझौता 1 जनवरी 2006 से प्रभावी हो गया। भारत सोचता है कि 'साफ्टा' से इस क्षेत्र के हर देश को फायदा होगा। भारत में कुछ लोगों का मानना है कि 'साफ्टा' के लिए परेशान होने की जरूरत नहीं क्योंकि भारत, भूटान, नेपाल और श्री लंका से पहले ही द्विपक्षीय व्यापार समझौता कर चुका है।

साफ्टा समझौता कब हस्ताक्षर व प्रभावी हुई

1. 2006 और 2007
2. 2004 और 2005
3. 2004 और 2006
4. 2008 और 2009

**Options :**

485584137585. 1  
485584137586. 2  
485584137587. 3  
485584137588. 4

**Question Number : 393 Question Id : 48558434398 Question Type : MCQ Option Shuffling : No Is Question Mandatory : No Calculator : None Response Time : N.A Think Time : N.A Minimum Instruction Time : 0**

**Correct Marks : 5 Wrong Marks : 1**

**Question Key Details :**

Key	Value
Comprehension	Comp1

Read the passage given below to answer

In spite of the many conflicts, the states of South Asia recognize the importance of cooperation and friendly relationship among themselves. The South Asian association for regional Cooperation (SAARC) is a major regional initiative by the South Asian states to evolve cooperation through multilateral means. It began in 1985. Unfortunately, due to persisting political differences, SAARC has not had much success. SAARC members signed the South Asian Free Trade (SAFTA) agreement which promised the formation of a free trade zone for the whole of South Asia.

The SAFTA agreement was signed in 2004 and came into effect on 1 January 2006. India thinks that there are real economic benefits for all SAFTA. Some in India think that SAFTA is not worth the trouble since India already has bilateral agreements with Bhutan, Nepal and Shri Lanka.

Complete the following:

SAARC has been evolved for cooperation through which of the following means

1. Multilateral
2. Bilateral
3. Unilateral
4. Tripartite

**Options :**

485584137589. 1  
485584137590. 2  
485584137591. 3  
485584137592. 4

**Question Number : 393 Question Id : 48558434398 Question Type : MCQ Option Shuffling : No Is Question Mandatory : No Calculator : None Response Time : N.A Think Time : N.A Minimum Instruction Time : 0**

**Correct Marks : 5 Wrong Marks : 1**

**Question Key Details :**

Key	Value
Comprehension	Compl

अनेक संघर्षों के बावजूद दक्षिण एशिया के देश आपस में दोस्ताना रिश्ते तथा सहयोग के महत्व को पहचानते हैं। शांति के प्रयास द्विपक्षीय भी हुए और क्षेत्रीय स्तर पर भी। दक्षेस (साउथ एशियन एसोसिएशन फॉर रिजनल को-ऑपरेशन) (SAARC) दक्षिण एशियाई देशों द्वारा बहुस्तरीय साधनों से आपस में सहयोग करने की दिशामें उठाया गया बड़ा कदम है। इसकी शुरुआत 1985 में हुई। दुर्भाग्य से विभेदों की मौजूदगी के कारण दक्षेस को ज्यादा सफलता नहीं मिली है। दक्षेस के सदस्य देशों ने सन् 2002 में 'दक्षिण एशियाई मुक्त व्यापार क्षेत्र समझौते' (SAFTA) पर दस्तखत किये। इसमें पूरे दक्षिण एशिया के लिए मुक्त व्यापार क्षेत्र बनाने का वायदा है। इस समझौते पर 2004 में हस्ताक्षर हुए और यह समझौता 1 जनवरी 2006 से प्रभावी हो गया। भारत सोचता है कि 'साफ्टा' से इस क्षेत्र के हर देश को फायदा होगा। भारत में कुछ लोगों का मानना है कि 'साफ्टा' के लिए परेशान होने की जरूरत नहीं क्योंकि भारत, भूटान, नेपाल और श्री लंका से पहले ही द्विपक्षीय व्यापार समझौता कर चुका है।

निम्नलिखित को पूरा करें-

सार्क (SAARC) देशों द्वारा \_\_\_\_\_ से आपस में सहयोग कर चुका है। निम्नलिखित में से कौन-सा साधक है।

1. बहुस्तरीय
2. द्विपक्षीय
3. एक पक्षीय
4. त्रिपक्षीय

**Options :**

485584137589. 1  
485584137590. 2  
485584137591. 3

**Question Number : 394 Question Id : 48558434399 Question Type : MCQ Option Shuffling : No Is Question Mandatory : No Calculator : None Response Time : N.A Think Time : N.A Minimum Instruction Time : 0**

**Correct Marks : 5 Wrong Marks : 1**

**Question Key Details :**

Key	Value
Comprehension	Comp1

Read the passage given below to answer

In spite of the many conflicts, the states of South Asia recognize the importance of cooperation and friendly relationship among themselves. The South Asian association for regional Cooperation (SAARC) is a major regional initiative by the South Asian states to evolve cooperation through multilateral means. It began in 1985. Unfortunately, due to persisting political differences, SAARC has not had much success. SAARC members signed the South Asian Free Trade (SAFTA) agreement which promised the formation of a free trade zone for the whole of South Asia.

The SAFTA agreement was signed in 2004 and came into effect on 1 January 2006. India thinks that there are real economic benefits for all SAFTA. Some in India think that SAFTA is not worth the trouble since India already has bilateral agreements with Bhutan, Nepal and Shri Lanka.

The full form of SAARC is

1. South Asian Amalgamation for Regional Cooperation
2. South Asian Association for Regional Cooperation
3. South African Association for Regional Cooperation
4. South Asian Association for Research and Cooperation

**Options :**

485584137593. 1  
 485584137594. 2  
 485584137595. 3  
 485584137596. 4

**Question Number : 394 Question Id : 48558434399 Question Type : MCQ Option Shuffling : No Is Question Mandatory : No Calculator : None Response Time : N.A Think Time : N.A Minimum Instruction Time : 0**

**Correct Marks : 5 Wrong Marks : 1**

**Question Key Details :**

Key	Value
Comprehension	Comp1

अनेक संघर्षों के बावजूद दक्षिण एशिया के देश आपस में दोस्ताना रिश्ते तथा सहयोग के महत्व को पहचानते हैं। शांति के प्रयास द्विपक्षीय भी हुए और क्षेत्रीय स्तर पर भी। दक्षेस (साउथ एशियन एसोसिएशन फॉर रिजिनल को-ऑपरेशन) (SAARC) दक्षिण एशियाई देशों द्वारा बहुस्तरीय साधनों से आपस में सहयोग करने की दिशामें उठाया गया बड़ा कदम है। इसकी शुरुआत 1985 में हुई। दुर्भाग्य से विभेदों की मौजूदगी के कारण दक्षेस को ज्यादा सफलता नहीं मिली है। दक्षेस के सदस्य देशों ने सन् 2002 में 'दक्षिण एशियाई मुक्त व्यापार क्षेत्र समझौते' (SAFTA) पर दस्तखत किये। इसमें पूरे दक्षिण एशिया के लिए मुक्त व्यापार क्षेत्र बनाने का वायदा है। इस समझौते पर 2004 में हस्ताक्षर हुए और यह समझौता 1 जनवरी 2006 से प्रभावी हो गया। भारत सोचता है कि 'साफ्टा' से इस क्षेत्र के हर देश को फायदा होगा। भारत में कुछ लोगों का मानना है कि 'साफ्टा' के लिए परेशान होने की जरूरत नहीं क्योंकि भारत, भूटान, नेपाल और श्री लंका से पहले ही द्विपक्षीय व्यापार समझौता कर चुका है।

सार्क (SAARC) का पूरा नाम है -

1. साउथ एशियन एंमालमार्गेशन फॉर रिजिनल कोऑपरेशन
2. साउथ एशियन एसोसिएशन फॉर रिजिनल कोऑपरेशन
3. साउथ अफ्रीका एसोसिएशन फॉर रिजिनल कोऑपरेशन
4. साउथ एशियन एसोसिएशन फॉर रिसर्च एंड कोऑपरेशन

**Options :**

485584137593. 1  
 485584137594. 2  
 485584137595. 3  
 485584137596. 4

**Question Number : 395 Question Id : 48558434400 Question Type : MCQ Option Shuffling : No Is Question Mandatory : No Calculator : None Response Time : N.A Think Time : N.A Minimum Instruction Time : 0**

**Correct Marks : 5 Wrong Marks : 1**

**Question Key Details :**

Key	Value
Comprehension	Compl

Read the passage given below to answer

In spite of the many conflicts, the states of South Asia recognize the importance of cooperation and friendly relationship among themselves. The South Asian association for regional Cooperation (SAARC) is a major regional initiative by the South Asian states to evolve cooperation through multilateral means. It began in 1985. Unfortunately, due to persisting political differences, SAARC has not had much success. SAARC members signed the South Asian Free Trade (SAFTA) agreement which promised the formation of a free trade zone for the whole of South Asia.

The SAFTA agreement was signed in 2004 and came into effect on 1 January 2006. India thinks that there are real economic benefits for all SAFTA. Some in India think that SAFTA is not worth the trouble since India already has bilateral agreements with Bhutan, Nepal and Shri Lanka.

The following agreement promised the formation of a free trade zone for the whole of South Asia

1. WTO
2. BAFTA
3. SAARC
4. SAFTA

**Options :**

485584137597. 1
485584137598. 2
485584137599. 3
485584137600. 4

**Question Number : 395 Question Id : 48558434400 Question Type : MCQ Option Shuffling : No Is Question Mandatory : No Calculator : None Response Time : N.A Think Time : N.A Minimum Instruction Time : 0**

**Correct Marks : 5 Wrong Marks : 1**

**Question Key Details :**

Key	Value
Comprehension	Compl

अनेक संघर्षों के बावजूद दक्षिण एशिया के देश आपस में दोस्ताना रिश्ते तथा सहयोग के महत्व को पहचानते हैं। शांति के प्रयास द्विपक्षीय भी हुए और क्षेत्रीय स्तर पर भी। दक्षेस (साउथ एशियन एसोसिएशन फॉर रिजनल को-ऑपरेशन) (SAARC) दक्षिण एशियाई देशों द्वारा बहुस्तरीय साधनों से आपस में सहयोग करने की दिशामें उठाया गया बड़ा कदम है। इसकी शुरुआत 1985 में हुई। दुर्भाग्य से विभेदों की मौजूदगी के कारण दक्षेस को ज्यादा सफलता नहीं मिली है। दक्षेस के सदस्य देशों ने सन् 2002 में 'दक्षिण एशियाई मुक्त व्यापार क्षेत्र समझौते' (SAFTA) पर दस्तखत किये। इसमें पूरे दक्षिण एशिया के लिए मुक्त व्यापार क्षेत्र बनाने का वायदा है। इस समझौते पर 2004 में हस्ताक्षर हुए और यह समझौता 1 जनवरी 2006 से प्रभावी हो गया। भारत सोचता है कि 'साफ्टा' से इस क्षेत्र के हर देश को फायदा होगा। भारत में कुछ लोगों का मानना है कि 'साफ्टा' के लिए परेशान होने की जरूरत नहीं क्योंकि भारत, भूटान, नेपाल और श्री लंका से पहले ही द्विपक्षीय व्यापार समझौता कर चुका है।

सम्पूर्ण दक्षिण एशिया के लिए एक मुक्त व्यापार क्षेत्र के गठन के समझौते के सहमति का वादा किया

1. डब्ल्यू टी ओ (WTO)
2. बाफ्टा (BAFTA)
3. सार्क (SAARC)
4. साफ्टा (SAFTA)

**Options :**

485584137597. 1
485584137598. 2
485584137599. 3
485584137600. 4

**Sub-Section Number :**

3

**Sub-Section Id :**

4855842547



Question Shuffling Allowed :

No

Is Section Default? :

null

Question Number : 396 Question Id : 48558434401 Question Type : MCQ Option Shuffling : No Is Question Mandatory : No Calculator : None Response Time : N.A Think Time : N.A Minimum Instruction Time : 0

Correct Marks : 5 Wrong Marks : 1

Question Key Details :

Key	Value
Comprehension	Comp2

Globalisation is a multi-dimensional concept. It has political, economic and cultural manifestations, and these must be adequately distinguished. The impact of globalisation is vastly uneven. It affects some societies more than others. It is important to avoid drawing general conclusions about the impact of globalisation without paying sufficient attention to specific contexts. Globalisation as a concept fundamentally deals with flows. These flows could be of various kinds- ideas moving from one part of the world to another, capital shunted between two or more places, commodities being traded across borders, and people moving in search of better livelihoods to different parts of the world.

Globalisation is a most dimensional concept because it deals with:

1. Political, economic, cultural etc aspects.
2. Democratic countries only
3. Economic Aspect
4. MNC's

Options :

485584137601. 1

485584137602. 2

485584137603. 3

485584137604. 4

Question Number : 396 Question Id : 48558434401 Question Type : MCQ Option Shuffling : No Is Question Mandatory : No Calculator : None Response Time : N.A Think Time : N.A Minimum Instruction Time : 0

Correct Marks : 5 Wrong Marks : 1

Question Key Details :

Key	Value
Comprehension	Comp2

वैश्वीकरण एक बहुआयामी अवधारणा है इसके राजनीतिक, आर्थिक और सांस्कृतिक अवतार हैं और उनके बीच ठीक-ठीक भेद किया जाना चाहिए। वैश्वीकरण का प्रभाव विषम रहा है- यह कुछ समाजों को बाकियों की अपेक्षा और समाज के एक हिस्से को बाकी हिस्सों की अपेक्षा ज्यादा प्रभावित करता रहा है। ऐसे में जरूरी हो जाता है कि विशिष्ट संदर्भों पर पर्याप्त ध्यान दिए बिना हम वैश्वीकरण के प्रभाव के बारे में सर्व सामान्य निष्कर्ष निकालने से परहेज करें। वैश्वीकरण की एक संकल्पना के रूप में मौलिक रूप से आवाजाही से जुड़ी है। यह आवाजाही कई प्रकार की हो सकती है - विचारों का एक स्थान से दूसरे स्थान पर गमन, पूँजी, दो या दो स्थानों के बीच अलग करना, वस्तुओं का पूरे सीमाओं में व्यापार करना और लोगों का विश्व के विभिन्न भागों में बेहतर आजीविका खोज के लिए घूमना।

वैश्वीकरण एक बहुआयामी संकल्पना है, क्योंकि यह संबंध है -

1. राजनैतिक, आर्थिक, सांस्कृतिक इत्यादि के पहलू
2. सिर्फ लोकतान्त्रिक राष्ट्र
3. आर्थिक पहलू
4. MNC's

**Options :**

485584137601. 1
485584137602. 2
485584137603. 3
485584137604. 4

**Question Number : 397 Question Id : 48558434402 Question Type : MCQ Option Shuffling : No Is Question Mandatory : No Calculator : None Response Time : N.A Think Time : N.A Minimum Instruction Time : 0**

**Correct Marks : 5 Wrong Marks : 1**

**Question Key Details :**

Key	Value
Comprehension	Comp2

Globalisation is a multi-dimensional concept. It has political, economic and cultural manifestations, and these must be adequately distinguished. The impact of globalisation is vastly uneven. It affects some societies more than others. It is important to avoid drawing general conclusions about the impact of globalisation without paying sufficient attention to specific contexts. Globalisation as a concept fundamentally deals with flows. These flows could be of various kinds- ideas moving from one part of the world to another, capital shunted between two or more places, commodities being traded across borders, and people moving in search of better livelihoods to different parts of the world.

It is important to avoid a general conclusion about Globalisation because:-

1. It's impact will vary due to different contexts.
2. There are different winds of Globalisation.
3. It is not a world-wide phenomenon.
4. Only the developed world is involved.

**Options :**

485584137605. 1
485584137606. 2
485584137607. 3
485584137608. 4

**Question Number : 397 Question Id : 48558434402 Question Type : MCQ Option Shuffling : No Is Question Mandatory : No Calculator : None Response Time : N.A Think Time : N.A Minimum Instruction Time : 0**

**Correct Marks : 5 Wrong Marks : 1**

**Question Key Details :**

Key	Value
-----	-------

वैश्वीकरण एक बहुआयामी अवधारणा है इसके राजनीतिक, आर्थिक और सांस्कृतिक अवतार हैं और उनके बीच ठीक-ठीक भेद किया जाना चाहिए। वैश्वीकरण का प्रभाव विषम रहा है- यह कुछ समाजों को बाकियों की अपेक्षा और समाज के एक हिस्से को बाकी हिस्सों की अपेक्षा ज्यादा प्रभावित करता रहा है। ऐसे में जरूरी हो जाता है कि विशिष्ट संदर्भों पर पर्याप्त ध्यान दिए बिना हम वैश्वीकरण के प्रभाव के बारे में सर्व सामान्य निष्कर्ष निकालने से परहेज करें। वैश्वीकरण की एक संकल्पना के रूप में मौलिक रूप से आवाजाही से जुड़ी है। यह आवाजाही कई प्रकार की हो सकती है - विचारों का एक स्थान से दूसरे स्थान पर गमन, पूँजी, दो या दो स्थानों के बीच अलग करना, वस्तुओं का पूरे सीमाओं में व्यापार करना और लोगों का विश्व के विभिन्न भागों में बेहतर आजीविका खोज के लिए घूमना।

वैश्वीकरण के बारे में सामान्य निष्कर्ष लेने से हमें बचना चाहिए-

1. इसका प्रभाव विभिन्न संदर्भ में परिवर्तित होगा
2. यह वैश्वीकरण के विभिन्न प्रकार है
3. यह विश्वव्यापी घटनाएँ नहीं है
4. सिर्फ विकसित विश्व ही सम्मिलित है

**Options :**

485584137605. 1  
485584137606. 2  
485584137607. 3  
485584137608. 4

**Question Number : 398 Question Id : 48558434403 Question Type : MCQ Option Shuffling : No Is Question Mandatory : No Calculator : None Response Time : N.A Think Time : N.A Minimum Instruction Time : 0**

**Correct Marks : 5 Wrong Marks : 1**

**Question Key Details :**

Key	Value
Comprehension	Comp2

Globalisation is a multi-dimensional concept. It has political, economic and cultural manifestations, and these must be adequately distinguished. The impact of globalisation is vastly uneven. It affects some societies more than others. It is important to avoid drawing general conclusions about the impact of globalisation without paying sufficient attention to specific contexts. Globalisation as a concept fundamentally deals with flows. These flows could be of various kinds- ideas moving from one part of the world to another, capital shunted between two or more places, commodities being traded across borders, and people moving in search of better livelihoods to different parts of the world.

## The process of Gloablisation

- A. affects almost every society.
- B. involves flow of various kinds.
- C. Does not deals with Individual.
- D. Wherein commodities cannot be traded across borders.
- E. impact varies on the basis of context.

Choose the correct answer from the options given below:

- 1. A, B, C only
- 2. A, B, E only
- 3. B, C, E only
- 4. A, D, E only

### Options :

- 485584137609. 1
- 485584137610. 2
- 485584137611. 3
- 485584137612. 4

**Question Number : 398 Question Id : 48558434403 Question Type : MCQ Option Shuffling : No Is Question Mandatory : No Calculator : None Response Time : N.A Think Time : N.A Minimum Instruction Time : 0**

**Correct Marks : 5 Wrong Marks : 1**

### Question Key Details :

Key	Value
Comprehension	Comp2

वैश्वीकरण एक बहुआयामी अवधारणा है इसके राजनीतिक, आर्थिक और सांस्कृतिक अवतार है और उनके बीच ठीक-ठीक भेद किया जाना चाहिए। वैश्वीकरण का प्रभाव विषम रहा है- यह कुछ समाजों को बाकियों की अपेक्षा और समाज के एक हिस्से को बाकी हिस्सों की अपेक्षा ज्यादा प्रभावित करता रहा है। ऐसे में जरूरी हो जाता है कि विशिष्ट संदर्भों पर पर्याप्त ध्यान दिए बिना हम वैश्वीकरण के प्रभाव के बारे में सर्व सामान्य निष्कर्ष निकालने से परहेज करें। वैश्वीकरण की एक संकल्पना के रूप में मौलिक रूप से आवाजाही से जुड़ी है। यह आवाजाही कई प्रकार की हो सकती है - विचारों का एक स्थान से दूसरे स्थान पर गमन, पूँजी, दो या दो स्थानों के बीच अलग करना, वस्तुओं का पूरे सीमाओं में व्यापार करना और लोगों का विश्व के विभिन्न भागों में बेहतर आजीविका खोज के लिए घूमना।

वैश्वीकरण की प्रक्रिया है-

- A. प्रायःप्रत्येक समाज को प्रभावित करना
- B. विभिन्न प्रकार के प्रवाह का सम्मिलित होना
- C. वैयक्तिक के साथ समझौता नहीं करना
- D. मदो का सीमा पार व्यापार नहीं हो सकता
- E. संदर्भ के आधार पर विभिन्न प्रभाव

निम्नलिखित में से सही संदर्भ का चयन कीजिए:

1. केवल A, B, C
2. केवल A, B, E
3. केवल B, C, E
4. केवल A, D, E

**Options :**

- 485584137609. 1
- 485584137610. 2
- 485584137611. 3
- 485584137612. 4

**Question Number : 399 Question Id : 48558434404 Question Type : MCQ Option Shuffling : No Is Question Mandatory : No Calculator : None Response Time : N.A Think Time : N.A Minimum Instruction Time : 0**

**Correct Marks : 5 Wrong Marks : 1**

**Question Key Details :**

Key	Value
Comprehension	Comp2

Globalisation is a multi-dimensional concept. It has political, economic and cultural manifestations, and these must be adequately distinguished. The impact of globalisation is vastly uneven. It affects some societies more than others. It is important to avoid drawing general conclusions about the impact of globalisation without paying sufficient attention to specific contexts. Globalisation as a concept fundamentally deals with flows. These flows could be of various kinds- ideas moving from one part of the world to another, capital shunted between two or more places, commodities being traded across borders, and people moving in search of better livelihoods to different parts of the world.

- A. Due to Globalisation, the states become borderless.
- B. Due to Globalisation, the borders have become blurred.
- C. Due to Globalisation, borders doesn't get affected.
- D. Due to Globalisation, there is flow commodities and goods.
- E. Due to Globalisation, there is flow capital and people.

Choose the correct answer from the options given below:

- 1. A, B, D, E only
- 2. A, B, C, D only
- 3. B, C, D, E only
- 4. A, C, D, E only

**Options :**

- 485584137613. 1
- 485584137614. 2
- 485584137615. 3
- 485584137616. 4

**Question Number : 399 Question Id : 48558434404 Question Type : MCQ Option Shuffling : No Is Question Mandatory : No Calculator : None Response Time : N.A Think Time : N.A Minimum Instruction Time : 0**

**Correct Marks : 5 Wrong Marks : 1**

**Question Key Details :**

Key	Value
Comprehension	Comp2

वैश्वीकरण एक बहुआयामी अवधारणा है इसके राजनीतिक, आर्थिक और सांस्कृतिक अवतार है और उनके बीच ठीक-ठीक भेद किया जाना चाहिए। वैश्वीकरण का प्रभाव विषम रहा है- यह कुछ समाजों को बाकियों की अपेक्षा और समाज के एक हिस्से को बाकी हिस्सों की अपेक्षा ज्यादा प्रभावित करता रहा है। ऐसे में जरूरी हो जाता है कि विशिष्ट संदर्भों पर पर्याप्त ध्यान दिए बिना हम वैश्वीकरण के प्रभाव के बारे में सर्व सामान्य निष्कर्ष निकालने से परहेज करें। वैश्वीकरण की एक संकल्पना के रूप में मौलिक रूप से आवाजाही से जुड़ी है। यह आवाजाही कई प्रकार की हो सकती है - विचारों का एक स्थान से दूसरे स्थान पर गमन, पूँजी, दो या दो स्थानों के बीच अलग करना, वस्तुओं का पूरे सीमाओं में व्यापार करना और लोगों का विश्व के विभिन्न भागों में बेहतर आजीविका खोज के लिए घूमना।

- A. वैश्वीकरण के कारण, राज्यों का सीमाविहिन होना
- B. वैश्वीकरण के कारण, राज्यों का धुमिल होना
- C. वैश्वीकरण के कारण, राज्यों पर कोई प्रभाव नहीं पडना
- D. वैश्वीकरण के कारण, खाद्य और मद का प्रवाह
- E. वैश्वीकरण के कारण, लोगों और वस्तुओं का प्रवाह

निम्नलिखित में से सही विकल्प का चयन कीजिए:

- 1. केवल A, B, D, E
- 2. केवल A, B, C, D
- 3. केवल B, C, D, E
- 4. केवल A, C, D, E

**Options :**

- 485584137613. 1
- 485584137614. 2
- 485584137615. 3
- 485584137616. 4

**Question Number : 400 Question Id : 48558434405 Question Type : MCQ Option Shuffling : No Is Question Mandatory : No Calculator : None Response Time : N.A Think Time : N.A Minimum Instruction Time : 0**

**Correct Marks : 5 Wrong Marks : 1**

**Question Key Details :**

Key	Value
Comprehension	Comp2

Globalisation is a multi-dimensional concept. It has political, economic and cultural manifestations, and these must be adequate distinguished. The impact of globalisation is vastly uneven. It affects some societies more than others. It is important to avoid drawing general conclusions about the impact of globalisation without paying sufficient attention to specific contexts. Globalisation as a concept fundamentally deals with flows. These flows could be of various kinds- ideas moving from one part of the world to another, capital shunted between two or more places, commodities being traded across borders, and people moving in search of better livelihoods to different parts of the world.

Choose the incorrect from the following:-

- 1. World Bank is an international organisation.
- 2. World Bank provides loan to member-countries as well as non-member countries.
- 3. World Bank influences the economic policy of the developing countries.
- 4. World Bank Works for human development, agriculture and rural development, environment protection, governance, to name a few.

**Options :**

- 485584137617. 1
- 485584137618. 2
- 485584137619. 3

**Question Number : 400 Question Id : 48558434405 Question Type : MCQ Option Shuffling : No Is Question Mandatory : No Calculator : None Response Time : N.A Think Time : N.A Minimum Instruction Time : 0**

**Correct Marks : 5 Wrong Marks : 1**

**Question Key Details :**

Key	Value
Comprehension	Comp2

वैश्वीकरण एक बहुआयामी अवधारणा है इसके राजनीतिक, आर्थिक और सांस्कृतिक अवतार है और उनके बीच ठीक-ठीक भेद किया जाना चाहिए। वैश्वीकरण का प्रभाव विषम रहा है- यह कुछ समाजों को बाकियों की अपेक्षा और समाज के एक हिस्से को बाकी हिस्सों की अपेक्षा ज्यादा प्रभावित करता रहा है। ऐसे में जरूरी हो जाता है कि विशिष्ट संदर्भों पर पर्याप्त ध्यान दिए बिना हम वैश्वीकरण के प्रभाव के बारे में सर्व सामान्य निष्कर्ष निकालने से परहेज करें। वैश्वीकरण की एक संकल्पना के रूप में मौलिक रूप से आवाजाही से जुड़ी है। यह आवाजाही कई प्रकार की हो सकती है - विचारों का एक स्थान से दूसरे स्थान पर गमन, पूँजी, दो या दो स्थानों के बीच अलग करना, वस्तुओं का पूरे सीमाओं में व्यापार करना और लोगों का विश्व के विभिन्न भागों में बेहतर आजीविका खोज के लिए घूमना।

निम्नलिखित में से असत्य का चयन कीजिए -

1. विश्व बैंक एक अन्तर्राष्ट्रीय संस्थान है
2. विश्व बैंक असदस्य राष्ट्र और सदस्य राष्ट्र को उधार देता है।
3. विश्व बैंक विकसित देश की आर्थिक नीति को प्रभावित करता है
4. विश्व बैंक प्रशासन, वातावरण असुरक्षा, कृषि और ग्रामीण विकास, मानव विकास के लिए कार्य करता है।

**Options :**

485584137617. 1  
485584137618. 2  
485584137619. 3  
485584137620. 4

## Sanskrit Lang

<b>Group Number :</b>	13
<b>Group Id :</b>	485584780
<b>Group Maximum Duration :</b>	45
<b>Group Minimum Duration :</b>	45
<b>Show Attended Group? :</b>	No
<b>Edit Attended Group? :</b>	No
<b>Break time :</b>	0
<b>Group Marks :</b>	200
<b>Is this Group for Examiner? :</b>	No
<b>Examiner permission :</b>	Cant View
<b>Show Progress Bar? :</b>	No

## Sanskrit Lang



<b>Section Id :</b>	485584898
<b>Section Number :</b>	1
<b>Section type :</b>	Online
<b>Mandatory or Optional :</b>	Mandatory
<b>Number of Questions :</b>	50
<b>Number of Questions to be attempted :</b>	40
<b>Section Marks :</b>	200
<b>Enable Mark as Answered Mark for Review and Clear Response :</b>	Yes
<b>Maximum Instruction Time :</b>	0
<b>Sub-Section Number :</b>	1
<b>Sub-Section Id :</b>	4855842548
<b>Question Shuffling Allowed :</b>	No
<b>Is Section Default? :</b>	null
<b>Sub-Section Number :</b>	2
<b>Sub-Section Id :</b>	4855842549
<b>Question Shuffling Allowed :</b>	No
<b>Is Section Default? :</b>	null
<b>Sub-Section Number :</b>	3
<b>Sub-Section Id :</b>	4855842550
<b>Question Shuffling Allowed :</b>	No
<b>Is Section Default? :</b>	null
<b>Sub-Section Number :</b>	4
<b>Sub-Section Id :</b>	4855842551
<b>Question Shuffling Allowed :</b>	Yes
<b>Is Section Default? :</b>	null

## Sociology

<b>Group Number :</b>	14
<b>Group Id :</b>	485584781
<b>Group Maximum Duration :</b>	45
<b>Group Minimum Duration :</b>	45
<b>Show Attended Group? :</b>	No
<b>Edit Attended Group? :</b>	No
<b>Break time :</b>	0
<b>Group Marks :</b>	200
<b>Is this Group for Examiner? :</b>	No
<b>Examiner permission :</b>	Cant View
<b>Show Progress Bar? :</b>	No

## Sociology

<b>Section Id :</b>	485584899
<b>Section Number :</b>	1
<b>Section type :</b>	Online
<b>Mandatory or Optional :</b>	Mandatory
<b>Number of Questions :</b>	50
<b>Number of Questions to be attempted :</b>	40
<b>Section Marks :</b>	200
<b>Enable Mark as Answered Mark for Review and Clear Response :</b>	Yes
<b>Maximum Instruction Time :</b>	0
<b>Sub-Section Number :</b>	1

**Sub-Section Id :** 4855842552  
**Question Shuffling Allowed :** Yes  
**Is Section Default? :** null

**Question Number : 401 Question Id : 48558434506 Question Type : MCQ Option Shuffling : No Is Question Mandatory : No Calculator : None Response Time : N.A Think Time : N.A Minimum Instruction Time : 0**

**Correct Marks : 5 Wrong Marks : 1**

**Question Key Details :**

Key	Value
Comprehension	MCQ

Wrights milla is a well known:

1. French sociologist
2. American sociologist
3. German sociologist
4. British sociologist

**Options :**

485584138021. 1  
485584138022. 2  
485584138023. 3  
485584138024. 4

**Question Number : 401 Question Id : 48558434506 Question Type : MCQ Option Shuffling : No Is Question Mandatory : No Calculator : None Response Time : N.A Think Time : N.A Minimum Instruction Time : 0**

**Correct Marks : 5 Wrong Marks : 1**

**Question Key Details :**

Key	Value
Comprehension	MCQ

राइट मिल्स एक विख्यात \_\_\_\_\_ है।

1. फ्रांसिसी समाजविज्ञानी
2. अमेरिकी समाजविज्ञानी
3. जर्मनी समाजविज्ञानी
4. इंग्लैंड समाजविज्ञानी

**Options :**

485584138021. 1  
485584138022. 2  
485584138023. 3  
485584138024. 4

**Question Number : 402 Question Id : 48558434507 Question Type : MCQ Option Shuffling : No Is Question Mandatory : No Calculator : None Response Time : N.A Think Time : N.A Minimum Instruction Time : 0**

**Correct Marks : 5 Wrong Marks : 1**

**Question Key Details :**

Key	Value
Comprehension	MCQ

The concept of 'failure of entitlements has been given by:

1. Amartya Sen
2. Emile Durkheim
3. Abhijit Banerjee
4. Thomas Robert Malthus

**Options :**

485584138025. 1  
485584138026. 2  
485584138027. 3  
485584138028. 4

**Question Number : 402 Question Id : 48558434507 Question Type : MCQ Option Shuffling : No Is Question Mandatory : No Calculator : None Response Time : N.A Think Time : N.A Minimum Instruction Time : 0**

**Correct Marks : 5 Wrong Marks : 1**

**Question Key Details :**

Key	Value
Comprehension	MCQ

पात्रता की विफलता की अवधारणा निम्नलिखित में से किसने दी है?

1. अमर्त्य सेन
2. इमाइल दुर्खेइम
3. अभिजीत बेनर्जी
4. राबर्ट मेथ्यूस

**Options :**

485584138025. 1  
485584138026. 2  
485584138027. 3  
485584138028. 4

**Question Number : 403 Question Id : 48558434508 Question Type : MCQ Option Shuffling : No Is Question Mandatory : No Calculator : None Response Time : N.A Think Time : N.A Minimum Instruction Time : 0**

**Correct Marks : 5 Wrong Marks : 1**

**Question Key Details :**

Key	Value
Comprehension	MCQ

A systematic study of population is called

1. Polygraphy
2. Sesmiography
3. Oceanography
4. Demography

**Options :**

485584138029. 1  
485584138030. 2  
485584138031. 3  
485584138032. 4

**Question Number : 403 Question Id : 48558434508 Question Type : MCQ Option Shuffling : No Is Question Mandatory : No Calculator : None Response Time : N.A Think Time : N.A Minimum Instruction Time : 0**

**Correct Marks : 5 Wrong Marks : 1**

**Question Key Details :**

Key	Value
Comprehension	MCQ

जनसंख्या का व्यवस्थित ज्ञान कहलाता है।

1. पॉलीग्राफी
2. सिस्मियोलोजी
3. ऑसियानॉग्राफी
4. डेमोग्राफी

**Options :**

485584138029. 1  
485584138030. 2  
485584138031. 3  
485584138032. 4

**Question Number : 404 Question Id : 48558434509 Question Type : MCQ Option Shuffling : No Is Question Mandatory : No Calculator : None Response Time : N.A Think Time : N.A Minimum Instruction Time : 0**

**Correct Marks : 5 Wrong Marks : 1**

**Question Key Details :**

Key	Value
Comprehension	MCQ

Match List I with List II

LIST I		LIST II	
A.	Population momentum	I.	Voluntary action to reduce population growth
B.	Demographic Divident	II.	Large cohort of women at reproduct age
C.	Population pyramid	III.	Group data in term of gender and age
D.	Preventive check	IV.	Higher population of workers compared to non-workers

Choose the correct answer from the options given below:

1. A-III, B-I, C-IV, D-II
2. A-II, B-IV, C-III, D-I
3. A-I, B-III, C-II, D-IV
4. A-IV, B-II, C-I, D-III

**Options :**

485584138033. 1  
485584138034. 2  
485584138035. 3  
485584138036. 4

**Question Number : 404 Question Id : 48558434509 Question Type : MCQ Option Shuffling : No Is Question Mandatory : No Calculator : None Response Time : N.A Think Time : N.A Minimum Instruction Time : 0**

**Correct Marks : 5 Wrong Marks : 1**

**Question Key Details :**

Key	Value
Comprehension	MCQ

सूची I का सूची II से मिलान कीजिए

सूची I		सूची II	
A.	जनसंख्या परिवल	I.	जनसंख्या वृद्धि रोकने कम करने हेतु स्वैच्छिक क्रिया
B.	जनसांरिण्यकी लाभांश	II.	जनन आयु वाली महिलाओं का प्रचुर सहगण
C.	जनसंख्या पिरामिड	III.	लिंग तथा आयु के पदों में समूह डेटा
D.	कृत्रिम निरोध	IV.	कार्मिकेतर की तुलना में कार्मिकों की अधिक जनसंख्या

निम्नलिखित विकल्पों में से सही उत्तर का चयन कीजिए :

1. A-III, B-I, C-IV, D-II
2. A-II, B-IV, C-III, D-I
3. A-I, B-III, C-II, D-IV
4. A-IV, B-II, C-I, D-III

**Options :**

485584138033. 1  
485584138034. 2  
485584138035. 3  
485584138036. 4

**Question Number : 405 Question Id : 48558434510 Question Type : MCQ Option Shuffling : No Is Question Mandatory : No Calculator : None Response Time : N.A Think Time : N.A Minimum Instruction Time : 0**

**Correct Marks : 5 Wrong Marks : 1**

**Question Key Details :**

Key	Value
Comprehension	MCQ

Match List I with List II

LIST I		LIST II	
A.	Welth of Nation	I.	Mask Weber
B.	Capitalism	II.	Alfred Gell
C.	Status symbol	III.	Adam Smith
D.	Heirarchial social group	IV.	Karl Mark

Choose the correct answer from the options given below:

1. A-III, B-I, C-II, D-IV
2. A-III, B-II, C-I, D-IV
3. A-III, B-IV, C-I, D-II
4. A-III, B-I, C-IV, D-II

**Options :**

485584138037. 1  
485584138038. 2  
485584138039. 3  
485584138040. 4

**Question Number : 405 Question Id : 48558434510 Question Type : MCQ Option Shuffling : No Is Question Mandatory : No Calculator : None Response Time : N.A Think Time : N.A Minimum Instruction Time : 0**

**Correct Marks : 5 Wrong Marks : 1**

**Question Key Details :**

Key	Value
Comprehension	MCQ

सूची I का सूची II से मिलान कीजिए

सूची I		सूची II	
A.	वेल्थ ऑफ नेशन्स	I.	माक्स वेबर
B.	कैपिटलिज्म	II.	अल्फ्रेड गेल
C.	स्टेट्स सिंबॉल	III.	अडम स्मिथ
D.	हाइरारकिअल सोशल ग्रुप	IV.	कार्ल मार्क्स

निम्नलिखित विकल्पों में से सही उत्तर का चयन कीजिए :

1. A-III, B-I, C-II, D-IV
2. A-III, B-II, C-I, D-IV
3. A-III, B-IV, C-I, D-II
4. A-III, B-I, C-IV, D-II

**Options :**

485584138037. 1

485584138038. 2  
485584138039. 3  
485584138040. 4

**Question Number : 406 Question Id : 48558434511 Question Type : MCQ Option Shuffling : No Is Question Mandatory : No Calculator : None Response Time : N.A Think Time : N.A Minimum Instruction Time : 0**

**Correct Marks : 5 Wrong Marks : 1**

**Question Key Details :**

Key	Value
Comprehension	MCQ

The criteria for inclusion in civil society is that the organisation should lie:

1. Commercial
2. State controlled
3. Non-State controlled
4. Profit making

**Options :**

485584138041. 1  
485584138042. 2  
485584138043. 3  
485584138044. 4

**Question Number : 406 Question Id : 48558434511 Question Type : MCQ Option Shuffling : No Is Question Mandatory : No Calculator : None Response Time : N.A Think Time : N.A Minimum Instruction Time : 0**

**Correct Marks : 5 Wrong Marks : 1**

**Question Key Details :**

Key	Value
Comprehension	MCQ

नागरिक समाज में शामिल किये जाने का मानदंड यह है कि संगठन को \_\_\_\_\_ होना चाहिए।

1. वाणिज्यिक
2. राज्य के द्वारा नियंत्रित
3. राज्य के द्वारा नहीं नियंत्रित
4. लाभ कमाने वाला

**Options :**

485584138041. 1  
485584138042. 2  
485584138043. 3  
485584138044. 4

**Question Number : 407 Question Id : 48558434512 Question Type : MCQ Option Shuffling : No Is Question Mandatory : No Calculator : None Response Time : N.A Think Time : N.A Minimum Instruction Time : 0**

**Correct Marks : 5 Wrong Marks : 1**

**Question Key Details :**



<b>Key</b>	<b>Value</b>
Comprehension	MCQ

Match List I with List II

LIST I		LIST II	
A.	Kaka Kalelkar commission	I.	1990
B.	Brahmo Samaj	II.	1828
C.	Karachi session of Indian National Congress	III.	1953
D.	B.P.Mandal commission	IV.	1931

Choose the correct answer from the options given below:

1. A-III, B-II, C-IV, D-I
2. A-IV, B-III, C-II, D-I
3. A-II, B-III, C-I, D-IV
4. A-I, B-II, C-III, D-IV

**Options :**

485584138045. 1  
485584138046. 2  
485584138047. 3  
485584138048. 4

**Question Number : 407 Question Id : 48558434512 Question Type : MCQ Option Shuffling : No Is Question Mandatory : No Calculator : None Response Time : N.A Think Time : N.A Minimum Instruction Time : 0**

**Correct Marks : 5 Wrong Marks : 1**

**Question Key Details :**

<b>Key</b>	<b>Value</b>
Comprehension	MCQ

सूची I का सूची II से मिलान कीजिए

सूची I (आयोग समाज)		सूची II (स्थापना का वर्ष)	
A.	काका कालेलकर आयोग	I.	1990
B.	ब्रह्म समाज	II.	1828
C.	भारतीय राष्ट्रिय कांग्रेस का कराची सत्र	III.	1953
D.	बी.पी. मंडल आयोग	IV.	1931

निम्नलिखित विकल्पों में से सही उत्तर का चयन कीजिए :

1. A-III, B-II, C-IV, D-I
2. A-IV, B-III, C-II, D-I
3. A-II, B-III, C-I, D-IV
4. A-I, B-II, C-III, D-IV

**Options :**

485584138045. 1  
485584138046. 2  
485584138047. 3  
485584138048. 4

**Question Number : 408 Question Id : 48558434513 Question Type : MCQ Option Shuffling : No Is Question Mandatory : No Calculator : None Response Time : N.A Think Time : N.A Minimum Instruction Time : 0**

**Correct Marks : 5 Wrong Marks : 1**

**Question Key Details :**

Key	Value
Comprehension	MCQ

Arrange the following statement in correct sequence of events

- A. Effort to re-organise into Ethnic-Linguistic states
- B. Indian state continued with British-Indian arrangement of presidency
- C. Vigorous moments among Maratha and Kannada speakers in Bombay and Madras presidency
- D. Pakistan was divided between Urdu and Punjabi speakers in the west and Bengali speakers in the east
- E. Formation of SRC for final approval on Linguistic states

Choose the correct answer from the option given below:

1. A, B, E, C, D
2. B, A, C, E, D
3. B, C, A, E, D
4. A, D, C, E, B

**Options :**

485584138049. 1

485584138050. 2  
485584138051. 3  
485584138052. 4

**Question Number : 408 Question Id : 48558434513 Question Type : MCQ Option Shuffling : No Is Question Mandatory : No Calculator : None Response Time : N.A Think Time : N.A Minimum Instruction Time : 0**

**Correct Marks : 5 Wrong Marks : 1**

**Question Key Details :**

Key	Value
Comprehension	MCQ

निम्नलिखित कथनों को घटना क्रमानुसार व्यवस्थित कीजिए

- A. नृजाति भाषा विज्ञानं राज्यों में पुनर्गठित करने का प्रयास
- B. भारतीय राज्य ब्रिटिश-भारतीय प्रेसीडेंसी व्यवस्था बना रहा
- C. बम्बई और मद्रास प्रेसीडेंसी में मराठा और कन्नड़ भाषा भाषी लोगों में जोरदार आन्दोलन
- D. पाकिस्तान का पश्चिम में उर्दू और पंजाबी भाषा भाषियों तथा पूरब में बंगाल भाषा भाषियों के बीच विभाजन
- E. भाषाई आधार पर राज्यों के अंतिम अनुमोदन हेतु एस आर सी का गठन

नीचे दिए गए विकल्पों में से सही उत्तर का चयन करें :

- 1. A, B, E, C, D
- 2. B, A, C, E, D
- 3. B, C, A, E, D
- 4. A, D, C, E, B

**Options :**

485584138049. 1  
485584138050. 2  
485584138051. 3  
485584138052. 4

**Question Number : 409 Question Id : 48558434514 Question Type : MCQ Option Shuffling : No Is Question Mandatory : No Calculator : None Response Time : N.A Think Time : N.A Minimum Instruction Time : 0**

**Correct Marks : 5 Wrong Marks : 1**

**Question Key Details :**

Key	Value
Comprehension	MCQ

The most infamous pandemic was 'Spanish flue'which occurred in the year-

- 1. 2020
- 2. 1957
- 3. 1918
- 4. 1947\

**Options :**

485584138053. 1

485584138054. 2  
485584138055. 3  
485584138056. 4

**Question Number : 409 Question Id : 48558434514 Question Type : MCQ Option Shuffling : No Is Question Mandatory : No Calculator : None Response Time : N.A Think Time : N.A Minimum Instruction Time : 0**

**Correct Marks : 5 Wrong Marks : 1**

**Question Key Details :**

Key	Value
Comprehension	MCQ

सर्वाधिक कुख्यात महामारी "स्पेनिश फ्लू" थी जिसका प्रकोप वर्ष \_\_\_\_\_ में हुआ था।

1. 2020
2. 1957
3. 1918
4. 1947\

**Options :**

485584138053. 1  
485584138054. 2  
485584138055. 3  
485584138056. 4

**Question Number : 410 Question Id : 48558434515 Question Type : MCQ Option Shuffling : No Is Question Mandatory : No Calculator : None Response Time : N.A Think Time : N.A Minimum Instruction Time : 0**

**Correct Marks : 5 Wrong Marks : 1**

**Question Key Details :**

Key	Value
Comprehension	MCQ

Which article of the constitution of India states the following

"No citizen shall be denied admission into any educational institution, maintained by the state or received out of state funds on grounds only of religion, race, caste, language or any of them"

1. Article 29(1)
2. Article 29(2)
3. Article 30(1)
4. Article 30(2)

**Options :**

485584138057. 1  
485584138058. 2  
485584138059. 3  
485584138060. 4

**Question Number : 410 Question Id : 48558434515 Question Type : MCQ Option Shuffling : No Is Question Mandatory : No Calculator : None Response Time : N.A Think Time : N.A Minimum Instruction Time : 0**

Correct Marks : 5 Wrong Marks : 1

Question Key Details :

Key	Value
Comprehension	MCQ

भारत के संविधान के किस अनुच्छेद में निम्नलिखित कहा गया है

"राज्य द्वारा पोषित या राज्य निधि से सहायता पानेवाली किसी संस्था में प्रवेश से किसी भी नागरिक को केवल धर्म,मूलवेश,जाति या भाषा इनमे से किसी के आधार पर वंचित नहीं किया जाएगा"

1. अनुच्छेद 29(1)
2. अनुच्छेद 29(2)
3. अनुच्छेद 30(1)
4. अनुच्छेद 30(2)

Options :

485584138057. 1  
485584138058. 2  
485584138059. 3  
485584138060. 4

Question Number : 411 Question Id : 48558434516 Question Type : MCQ Option Shuffling : No Is Question Mandatory : No Calculator : None Response Time : N.A Think Time : N.A Minimum Instruction Time : 0

Correct Marks : 5 Wrong Marks : 1

Question Key Details :

Key	Value
Comprehension	MCQ

Who considered exclusive nationalism to be an evil?

1. J.Nehru
2. R. Tagor
3. B.R. Ambedkar
4. Bhagat Singh

Options :

485584138061. 1  
485584138062. 2  
485584138063. 3  
485584138064. 4

Question Number : 411 Question Id : 48558434516 Question Type : MCQ Option Shuffling : No Is Question Mandatory : No Calculator : None Response Time : N.A Think Time : N.A Minimum Instruction Time : 0

Correct Marks : 5 Wrong Marks : 1

Question Key Details :

Key	Value
Comprehension	MCQ

किसने अनन्य राष्ट्रवाद को एक बुरे बताया है ?

1. जे.नेहरु
2. आर.टैगोर
3. बी.आर.आंबेडकर
4. भगत सिंह

**Options :**

485584138061. 1  
485584138062. 2  
485584138063. 3  
485584138064. 4

**Question Number : 412 Question Id : 48558434517 Question Type : MCQ Option Shuffling : No Is Question Mandatory : No Calculator : None Response Time : N.A Think Time : N.A Minimum Instruction Time : 0**

**Correct Marks : 5 Wrong Marks : 1**

**Question Key Details :**

Key	Value
Comprehension	MCQ

Match List I with List II

LIST I		LIST II	
A.	Zamindari System	I.	Benami transfer
B.	Rayatwari System	II.	Radical restructuring of agrarian structure in Kerala+Bengal
C.	Tenancy abolition and regulation	III.	Less burden of taxation, more proporsion
D.	Land Ceiling	IV.	Agricultural product stagnated/deliver

Choose the correct answer from the options given below:

1. A-III, B-I, C-IV, D-II
2. A-IV, B-II, C-I, D-III
3. A-I, B-II, C-III, D-IV
4. A-IV, B-III, C-II, D-I

**Options :**

485584138065. 1  
485584138066. 2  
485584138067. 3  
485584138068. 4

Question Number : 412 Question Id : 48558434517 Question Type : MCQ Option Shuffling : No Is Question Mandatory : No Calculator : None Response Time : N.A Think Time : N.A Minimum Instruction Time : 0

Correct Marks : 5 Wrong Marks : 1

Question Key Details :

Key	Value
Comprehension	MCQ

सूची I का सूची II से मिलान कीजिए

सूची I		सूची II	
A.	ज़मीनदारी प्रथा	I.	बेनामी अंतरण
B.	रैयन प्रथा	II.	केरल और बंगाल में मूलभूत कृषि पुनर्संरचना
C.	कास्तकारी उन्मूलन और विनियमन	III.	कराधान का कम भार अधिक समृद्ध
D.	भूमि हदबंदी	IV.	कृषि उत्पाद अवरुद्ध / इसमें गिरावट

निम्नलिखित विकल्पों में से सही उत्तर का चयन कीजिए :

1. A-III, B-I, C-IV, D-II
2. A-IV, B-II, C-I, D-III
3. A-I, B-II, C-III, D-IV
4. A-IV, B-III, C-II, D-I

Options :

485584138065. 1
485584138066. 2
485584138067. 3
485584138068. 4

Question Number : 413 Question Id : 48558434518 Question Type : MCQ Option Shuffling : No Is Question Mandatory : No Calculator : None Response Time : N.A Think Time : N.A Minimum Instruction Time : 0

Correct Marks : 5 Wrong Marks : 1

Question Key Details :

Key	Value
Comprehension	MCQ

Strike out incorrect statement about Panchayati Raj:-

1. Panchayati Raj translates to "Governance by five individuals"
2. At the base of the structure stands "Gram Sabha"
3. The 74<sup>th</sup> Amendment provided a three-tier system of Panchayati Raj
4. Election to these bodies are conducted every five years.

Options :

485584138069. 1
485584138070. 2
485584138071. 3

**Question Number : 413 Question Id : 48558434518 Question Type : MCQ Option Shuffling : No Is Question Mandatory : No Calculator : None Response Time : N.A Think Time : N.A Minimum Instruction Time : 0**

**Correct Marks : 5 Wrong Marks : 1**

**Question Key Details :**

Key	Value
Comprehension	MCQ

पंचायती राज के सम्बन्ध में निम्नलिखित में से गलत कथन को चुनिए:-

1. पंचायती राज "पाँच व्यक्तियों का शासन है।
2. इसकी संरचना का आधार "ग्राम सभा" है।
3. 74वें संशोधन में त्रिस्तरीय पंचायती राज प्रणाली का प्रावधान किया गया है।
4. इन निकायों का प्रत्येक पाँच वर्षों में चुनाव होता है।

**Options :**

- 485584138069. 1
- 485584138070. 2
- 485584138071. 3
- 485584138072. 4

**Question Number : 414 Question Id : 48558434519 Question Type : MCQ Option Shuffling : No Is Question Mandatory : No Calculator : None Response Time : N.A Think Time : N.A Minimum Instruction Time : 0**

**Correct Marks : 5 Wrong Marks : 1**

**Question Key Details :**

Key	Value
Comprehension	MCQ

Read the statements given below and choose the option with the correct sequence of events:

- A. Green revolution introduced in the dry and the semi-arid regions of India 2<sup>nd</sup> phase
- B. New technology introduced
- C. Displacement of service caste groups.
- D. Increasing Commercialisation

Choose the correct answer from the option given below:

1. A, B, C, D
2. B, C, A, D
3. D, C, A, B
4. B, C, D, A

**Options :**

- 485584138073. 1
- 485584138074. 2



485584138075. 3

485584138076. 4

**Question Number : 414 Question Id : 48558434519 Question Type : MCQ Option Shuffling : No Is Question Mandatory : No Calculator : None Response Time : N.A Think Time : N.A Minimum Instruction Time : 0**

**Correct Marks : 5 Wrong Marks : 1**

**Question Key Details :**

Key	Value
Comprehension	MCQ

निम्नलिखित कथनों को पढ़िए तथा घटनाओं के सही क्रम में विकल्पों का चयन कीजिए:-

- A. हरित क्रांति दूसरे चरण में भारत के शुष्क तथा अर्ध शुष्क क्षेत्र में शुरू की गयी थी।
- B. नई प्रौद्योगिकी शुरू की गई।
- C. सेवक जाति समूह का विस्थापन
- D. बढ़ता व्यवसायीकरण

नीचे दिए गए विकल्पों में से सही उत्तर का चयन करें :

- 1. A, B, C, D
- 2. B, C, A, D
- 3. D, C, A, B
- 4. B, C, D, A

**Options :**

485584138073. 1

485584138074. 2

485584138075. 3

485584138076. 4

**Question Number : 415 Question Id : 48558434520 Question Type : MCQ Option Shuffling : No Is Question Mandatory : No Calculator : None Response Time : N.A Think Time : N.A Minimum Instruction Time : 0**

**Correct Marks : 5 Wrong Marks : 1**

**Question Key Details :**

Key	Value
Comprehension	MCQ

Extended working hours are Legitimesed by the common management, Which in theory, gives the employee freedom to choose his/her working hours. Give the common nomenclature of this process.

- 1. Own-Time
- 2. Flexi-Time
- 3. Me-Time
- 4. Work-From-Home-Time

**Options :**

485584138077. 1

485584138078. 2  
485584138079. 3  
485584138080. 4

**Question Number : 415 Question Id : 48558434520 Question Type : MCQ Option Shuffling : No Is Question Mandatory : No Calculator : None Response Time : N.A Think Time : N.A Minimum Instruction Time : 0**

**Correct Marks : 5 Wrong Marks : 1**

**Question Key Details :**

Key	Value
Comprehension	MCQ

विस्तारित कार्य घंटों को सामान्य प्रबंधन द्वारा वैध ठहराया जाता है, जिसमें सिद्धान्ततः कर्मचारियों को कार्य के अपने घंटे को चुनने की स्वतंत्रता दी जाती है। इस प्रक्रिया का सामान्य नामतंत्र बताये

1. अपना समय (ओन टाइम)
2. फ्लेक्सी टाइम
3. मी-टाइम
4. वर्क फ्रॉम होम टाइम

**Options :**

485584138077. 1  
485584138078. 2  
485584138079. 3  
485584138080. 4

**Question Number : 416 Question Id : 48558434521 Question Type : MCQ Option Shuffling : No Is Question Mandatory : No Calculator : None Response Time : N.A Think Time : N.A Minimum Instruction Time : 0**

**Correct Marks : 5 Wrong Marks : 1**

**Question Key Details :**

Key	Value
Comprehension	MCQ

Disinvestment means:

1. Svaging in the bank
2. Privatisation of public sector or Government companies
3. Open market for global citizens
4. Acquiring small and medium industries

**Options :**

485584138081. 1  
485584138082. 2  
485584138083. 3  
485584138084. 4

**Question Number : 416 Question Id : 48558434521 Question Type : MCQ Option Shuffling : No Is Question Mandatory : No Calculator : None Response Time : N.A Think Time : N.A Minimum Instruction Time : 0**

**Correct Marks : 5 Wrong Marks : 1**

**Question Key Details :**

Key	Value
Comprehension	MCQ

विनिवेश का अर्थ है

1. बैंक में बचत
2. सार्वजनिक क्षेत्र अथवा सरकारी कम्पनियों का निजीकरण
3. वैश्विक नागरिकों के लिए बाजार खोलना
4. लघु तथा मध्यम उद्योगों का अर्जन

**Options :**

485584138081. 1  
485584138082. 2  
485584138083. 3  
485584138084. 4

**Question Number : 417 Question Id : 48558434522 Question Type : MCQ Option Shuffling : No Is Question Mandatory : No Calculator : None Response Time : N.A Think Time : N.A Minimum Instruction Time : 0**

**Correct Marks : 5 Wrong Marks : 1**

**Question Key Details :**

Key	Value
Comprehension	MCQ

Arrange the following process in chronological order:

- A. Manufacturer branding and selling
- B. Workers rolling the leaves
- C. Plucking of tendu leaves
- D. Selling tendu leaves by contractor to government
- E. Auctions leaves of factory owners

Choose the correct answer from the options given below:

1. C, D, E, B, A
2. C, D, E, A, B
3. C, D, B, A, E
4. C, D, A, E, B

**Options :**

485584138085. 1  
485584138086. 2  
485584138087. 3  
485584138088. 4

**Question Number : 417 Question Id : 48558434522 Question Type : MCQ Option Shuffling : No Is Question Mandatory : No Calculator : None Response Time : N.A Think Time : N.A Minimum Instruction Time : 0**

**Correct Marks : 5 Wrong Marks : 1**

**Question Key Details :**

Key	Value
Comprehension	MCQ

निम्नलिखित प्रक्रियाओं को कालक्रमानुसार व्यवस्थित कीजिए:

- उत्पादनकर्ता द्वारा ब्रांडिंग तथा विक्री
- कार्मिकों द्वारा पत्तों को लपेटना
- तेन्दूपत्रों को तोड़ना ठेकेदार द्वारा सरकार के पास तेंदू
- पत्रों को बेचना
- फैक्ट्री मालिकों को पत्ते की नीलामी

नीचे दिए गए विकल्पों में से सही उत्तर का चयन कीजिए:

- C, D, E, B, A
- C, D, E, A, B
- C, D, B, A, E
- C, D, A, E, B

**Options :**

485584138085. 1  
485584138086. 2  
485584138087. 3  
485584138088. 4

**Question Number : 418 Question Id : 48558434523 Question Type : MCQ Option Shuffling : No Is Question Mandatory : No Calculator : None Response Time : N.A Think Time : N.A Minimum Instruction Time : 0**

**Correct Marks : 5 Wrong Marks : 1**

**Question Key Details :**

Key	Value
Comprehension	MCQ

Who has argued nation as an imagined community?

- J. Gutenleerg
- Raja Rammohan Roy
- Vidyasagar
- Benedict Anderson

**Options :**

485584138089. 1  
485584138090. 2  
485584138091. 3  
485584138092. 4

**Question Number : 418 Question Id : 48558434523 Question Type : MCQ Option Shuffling : No Is Question Mandatory : No Calculator : None Response Time : N.A Think Time : N.A Minimum Instruction Time : 0**

**Correct Marks : 5 Wrong Marks : 1**

**Question Key Details :**

Key	Value
Comprehension	MCQ

किसने राष्ट्र को एक काल्पनिक समुदाय सिद्ध करने की कोशिश की है?

1. जे. गुडनबर्ग
2. राजा राम मोहन राय
3. विद्यासागर
4. बेनेडिक्ट एण्डर्सन

**Options :**

485584138089. 1  
485584138090. 2  
485584138091. 3  
485584138092. 4

**Question Number : 419 Question Id : 48558434524 Question Type : MCQ Option Shuffling : No Is Question Mandatory : No Calculator : None Response Time : N.A Think Time : N.A Minimum Instruction Time : 0**

**Correct Marks : 5 Wrong Marks : 1**

**Question Key Details :**

Key	Value
Comprehension	MCQ

Match List I with List II

LIST I		LIST II	
Nature of work		Industry	
A.	Working conditions	I.	Bidi making, zari making
B.	Recruitment	II.	The mines Act 1952
C.	Management	III.	Jobless
D.	Home based work	IV.	Taylorism

Choose the correct answer from the options given below:

1. A-I, B-II, C-III, D-IV
2. A-III, B-IV, C-I, D-II
3. A-IV, B-I, C-II, D-III
4. A-II, B-III, C-IV, D-I

**Options :**

485584138093. 1  
485584138094. 2  
485584138095. 3  
485584138096. 4

Question Number : 419 Question Id : 48558434524 Question Type : MCQ Option Shuffling : No Is Question Mandatory : No Calculator : None Response Time : N.A Think Time : N.A Minimum Instruction Time : 0

Correct Marks : 5 Wrong Marks : 1

Question Key Details :

Key	Value
Comprehension	MCQ

सूची I का सूची II से मिलान कीजिए

सूची I कार्य की प्रकृति		सूची II उद्योग	
A.	कार्य परिस्थितिया	I.	बीड़ी बनाना, जरी का निर्माण
B.	भर्ती	II.	खान अधिनियम, 1952
C.	प्रबंधन	III.	जाबर्स
D.	घर आधारित कार्य	IV.	टेलरवाद

निम्नलिखित विकल्पों में से सही उत्तर का चयन कीजिए :

1. A-I, B-II, C-III, D-IV
2. A-III, B-IV, C-I, D-II
3. A-IV, B-I, C-II, D-III
4. A-II, B-III, C-IV, D-I

Options :

485584138093. 1  
485584138094. 2  
485584138095. 3  
485584138096. 4

Question Number : 420 Question Id : 48558434525 Question Type : MCQ Option Shuffling : No Is Question Mandatory : No Calculator : None Response Time : N.A Think Time : N.A Minimum Instruction Time : 0

Correct Marks : 5 Wrong Marks : 1

Question Key Details :

Key	Value
Comprehension	MCQ

bidi workers are:

- A. Workers who substitute for regular permanent workers.
- B. Contract workers.
- C. Permanent workers.
- D. Workers who receive equal status and security like permanent workers

Choose the correct answer from the options given below:

- 1. C, D Only
- 2. A, B Only
- 3. A, D Only
- 4. B, D Only

**Options :**

- 485584138097. 1
- 485584138098. 2
- 485584138099. 3
- 485584138100. 4

**Question Number : 420 Question Id : 48558434525 Question Type : MCQ Option Shuffling : No Is Question Mandatory : No Calculator : None Response Time : N.A Think Time : N.A Minimum Instruction Time : 0**

**Correct Marks : 5 Wrong Marks : 1**

**Question Key Details :**

Key	Value
Comprehension	MCQ

बींड़ी कार्मिक है

- A. वे कार्मिक जो नियमित स्थायी कार्मिकों को प्रतिस्थापित करते हैं।
- B. संविदा कार्मिक
- C. स्थायी कार्मिक
- D. वे कार्मिक जिन्हें स्थायी कामिकों के समान है स्थित तथा सुरक्षा प्राप्त है।

नीचे दिए गए विकल्पों में से सही उत्तर का चयन कीजिए:

- 1. केवल C, D
- 2. केवल A, B
- 3. केवल A, D
- 4. केवल B, D

**Options :**

- 485584138097. 1
- 485584138098. 2
- 485584138099. 3
- 485584138100. 4

**Question Number : 421 Question Id : 48558434526 Question Type : MCQ Option Shuffling : No Is Question Mandatory : No Calculator : None Response Time : N.A Think Time : N.A Minimum Instruction Time : 0**

**Correct Marks : 5 Wrong Marks : 1**

**Question Key Details :**

Key	Value
Comprehension	MCQ

The critics of Malthosian theory argued that poverty and Starvation were caused by

- A. Unequal distribution of economic resources
- B. Population growth
- C. injust social system
- D. Privileged minority

Choose the correct answer from the options given below:

- 1. B & D Only
- 2. B & C Only
- 3. A & C Only
- 4. A & B Only

**Options :**

- 485584138101. 1
- 485584138102. 2
- 485584138103. 3
- 485584138104. 4

**Question Number : 421 Question Id : 48558434526 Question Type : MCQ Option Shuffling : No Is Question Mandatory : No Calculator : None Response Time : N.A Think Time : N.A Minimum Instruction Time : 0**

**Correct Marks : 5 Wrong Marks : 1**

**Question Key Details :**

Key	Value
Comprehension	MCQ

मालथस के सिद्धांत के आलोचकों का तर्क है कि गरीबी तथा भुखमारी के कारण हैं

- A. आर्थिक से साधनों का असमान वितरण
- B. जनसंख्या वृद्धि
- C. अन्यायपूर्ण सामाजिक व्यवस्था
- D. विशेषाधिकार प्राप्त अल्पसंख्यक

नीचे दिए गए विकल्पों में से सही उत्तर का चयन कीजिए:

- 1. केवल B और D
- 2. केवल B और C
- 3. केवल A और C
- 4. केवल A और B

**Options :**



485584138101. 1  
485584138102. 2  
485584138103. 3  
485584138104. 4

**Question Number : 422 Question Id : 48558434527 Question Type : MCQ Option Shuffling : No Is Question Mandatory : No Calculator : None Response Time : N.A Think Time : N.A Minimum Instruction Time : 0**

**Correct Marks : 5 Wrong Marks : 1**

**Question Key Details :**

Key	Value
Comprehension	MCQ

The term used when individual are required to marry outside his/her group:

1. Monogamy
2. Polygamy
3. Endogamy
4. Exogamy

**Options :**

485584138105. 1  
485584138106. 2  
485584138107. 3  
485584138108. 4

**Question Number : 422 Question Id : 48558434527 Question Type : MCQ Option Shuffling : No Is Question Mandatory : No Calculator : None Response Time : N.A Think Time : N.A Minimum Instruction Time : 0**

**Correct Marks : 5 Wrong Marks : 1**

**Question Key Details :**

Key	Value
Comprehension	MCQ

जब व्यक्ति को अपने समूह के बाहर विवाह करना अपेक्षित हो, तो वह पद कहलाता है:

1. एक विवाह प्रथा
2. बहु विवाह प्रथा
3. अंतर्विवाह
4. बहिर्विवाह

**Options :**

485584138105. 1  
485584138106. 2  
485584138107. 3  
485584138108. 4

**Question Number : 423 Question Id : 48558434528 Question Type : MCQ Option Shuffling : No Is Question Mandatory : No Calculator : None Response Time : N.A Think Time : N.A Minimum Instruction Time : 0**

**Correct Marks : 5 Wrong Marks : 1**

**Question Key Details :**

Key	Value
Comprehension	MCQ

Permanent traits in tribes does not include:

1. region
2. Religion
3. language
4. Ecological Habit

**Options :**

485584138109. 1  
485584138110. 2  
485584138111. 3  
485584138112. 4

**Question Number : 423 Question Id : 48558434528 Question Type : MCQ Option Shuffling : No Is Question Mandatory : No Calculator : None Response Time : N.A Think Time : N.A Minimum Instruction Time : 0**

**Correct Marks : 5 Wrong Marks : 1**

**Question Key Details :**

Key	Value
Comprehension	MCQ

निम्नलिखित में से कौन जनजातियों की स्थायी विशेषता नहीं है?

1. क्षेत्र
2. धर्म
3. भाषा
4. पारिस्थितिक आदत

**Options :**

485584138109. 1  
485584138110. 2  
485584138111. 3  
485584138112. 4

**Question Number : 424 Question Id : 48558434529 Question Type : MCQ Option Shuffling : No Is Question Mandatory : No Calculator : None Response Time : N.A Think Time : N.A Minimum Instruction Time : 0**

**Correct Marks : 5 Wrong Marks : 1**

**Question Key Details :**

Key	Value
Comprehension	MCQ

The most common features of caste are:

- A. It involves strict rule about marriage.
- B. It involves rules about food and food sharing
- C. It is a matter of choice.
- D. Castes involved subdivisions within themselves.

Choose the correct answer from the options given below:

- 1. A, B & D Only
- 2. B, C & D Only
- 3. A, C & D Only
- 4. A, B & C Only

**Options :**

- 485584138113. 1
- 485584138114. 2
- 485584138115. 3
- 485584138116. 4

**Question Number : 424 Question Id : 48558434529 Question Type : MCQ Option Shuffling : No Is Question Mandatory : No Calculator : None Response Time : N.A Think Time : N.A Minimum Instruction Time : 0**

**Correct Marks : 5 Wrong Marks : 1**

**Question Key Details :**

Key	Value
Comprehension	MCQ

जाति की सर्वाधिक सामान्य विशेषताएं है:

- A. इसमें विवाह के कठोर नियम होते हैं।
- B. इसमें भोजन तथा भोजन साझा करने के नियम होते है।
- C. यह अपनी पसंद का विषम है।
- D. जातियों के अंतर उनके भी अपने उपविभाजन होते हैं।

नीचे दिए गए विकल्पों में से सही उत्तर का चयन कीजिए:

- 1. केवल A, B और D
- 2. केवल B, C और D
- 3. केवल A, C और D
- 4. केवल A, B और C

**Options :**

- 485584138113. 1
- 485584138114. 2
- 485584138115. 3
- 485584138116. 4

Question Number : 425 Question Id : 48558434530 Question Type : MCQ Option Shuffling : No Is Question Mandatory : No Calculator : None Response Time : N.A Think Time : N.A Minimum Instruction Time : 0

Correct Marks : 5 Wrong Marks : 1

Question Key Details :

Key	Value
Comprehension	MCQ

Who coined the term 'Status Symbol'?

1. T. K. Domenn
2. Levi Strauss
3. Emile Durkheim
4. Max Weber

Options :

- 485584138117. 1
- 485584138118. 2
- 485584138119. 3
- 485584138120. 4

Question Number : 425 Question Id : 48558434530 Question Type : MCQ Option Shuffling : No Is Question Mandatory : No Calculator : None Response Time : N.A Think Time : N.A Minimum Instruction Time : 0

Correct Marks : 5 Wrong Marks : 1

Question Key Details :

Key	Value
Comprehension	MCQ

पद 'स्टेटस सिम्बॉल' किसने गढ़ा है?

1. टी. के अमेन
2. लेवी स्ट्रॉस
3. एमाइल दुखेइम
4. मैक्स वेबर

Options :

- 485584138117. 1
- 485584138118. 2
- 485584138119. 3
- 485584138120. 4

Question Number : 426 Question Id : 48558434531 Question Type : MCQ Option Shuffling : No Is Question Mandatory : No Calculator : None Response Time : N.A Think Time : N.A Minimum Instruction Time : 0

Correct Marks : 5 Wrong Marks : 1

Question Key Details :

Key	Value
Comprehension	MCQ

Which tribe is matrilineal?

1. Bakarwal
2. Khasi
3. Bhil
4. Santhal

**Options :**

485584138121. 1  
485584138122. 2  
485584138123. 3  
485584138124. 4

**Question Number : 426 Question Id : 48558434531 Question Type : MCQ Option Shuffling : No Is Question Mandatory : No Calculator : None Response Time : N.A Think Time : N.A Minimum Instruction Time : 0**

**Correct Marks : 5 Wrong Marks : 1**

**Question Key Details :**

Key	Value
Comprehension	MCQ

कौन-सी जाति मातृवंशीय है?

1. बकरवाल
2. खासी
3. भील
4. संथाला

**Options :**

485584138121. 1  
485584138122. 2  
485584138123. 3  
485584138124. 4

**Question Number : 427 Question Id : 48558434532 Question Type : MCQ Option Shuffling : No Is Question Mandatory : No Calculator : None Response Time : N.A Think Time : N.A Minimum Instruction Time : 0**

**Correct Marks : 5 Wrong Marks : 1**

**Question Key Details :**

Key	Value
Comprehension	MCQ

Indian parliamentary and Legal system is based on:

1. French Model
2. Canadian Model
3. British Model
4. Australian Model

**Options :**

485584138125. 1  
485584138126. 2  
485584138127. 3  
485584138128. 4

**Question Number : 427 Question Id : 48558434532 Question Type : MCQ Option Shuffling : No Is Question Mandatory : No Calculator : None Response Time : N.A Think Time : N.A Minimum Instruction Time : 0**

**Correct Marks : 5 Wrong Marks : 1**

**Question Key Details :**

Key	Value
Comprehension	MCQ

भारत की संसदीय तथा विधिक प्रणाली निम्नलिखित में से किस के आधार पर बनी है

1. फ्रांसीसी मॉडल
2. कनाडाई मॉडल
3. ब्रिटिश मॉडल
4. ऑस्ट्रेलियन मॉडल

**Options :**

485584138125. 1  
485584138126. 2  
485584138127. 3  
485584138128. 4

**Question Number : 428 Question Id : 48558434533 Question Type : MCQ Option Shuffling : No Is Question Mandatory : No Calculator : None Response Time : N.A Think Time : N.A Minimum Instruction Time : 0**

**Correct Marks : 5 Wrong Marks : 1**

**Question Key Details :**

Key	Value
Comprehension	MCQ

Social inequality and exclusion are social because

- A. They are structured
- B. They are systematic
- C. They are unstructured
- D. They are non systematic

Choose the correct answer from the options given below:

- 1. A & D Only
- 2. B & C Only
- 3. A & B Only
- 4. C & D Only

**Options :**

- 485584138129. 1
- 485584138130. 2
- 485584138131. 3
- 485584138132. 4

**Question Number : 428 Question Id : 48558434533 Question Type : MCQ Option Shuffling : No Is Question Mandatory : No Calculator : None Response Time : N.A Think Time : N.A Minimum Instruction Time : 0**

**Correct Marks : 5 Wrong Marks : 1**

**Question Key Details :**

Key	Value
Comprehension	MCQ

समाजिक असमानता तथा अपवर्जन सामाजिक है क्योंकि:

- A. वे संरचनाबद्ध हैं।
- B. वे व्यवस्थित हैं।
- C. वे संरचनाबद्ध नहीं हैं।
- D. वे व्यवस्थित नहीं हैं।

नीचे दिए गए विकल्पों में से सही उत्तर का चयन कीजिए:

- 1. केवल A और D
- 2. केवल B और C
- 3. केवल A और B
- 4. केवल C और D

**Options :**

- 485584138129. 1
- 485584138130. 2
- 485584138131. 3
- 485584138132. 4

Question Number : 429 Question Id : 48558434534 Question Type : MCQ Option Shuffling : No Is Question Mandatory : No Calculator : None Response Time : N.A Think Time : N.A Minimum Instruction Time : 0

Correct Marks : 5 Wrong Marks : 1

Question Key Details :

Key	Value
Comprehension	MCQ

In 1993 Supreme Court held that Right to Information is part of and incidental to The Right of expression under:

1. Article 19 (1)(A)
2. Article 17
3. Article 20 (1)(B)
4. Article 15

Options :

- 485584138133. 1
- 485584138134. 2
- 485584138135. 3
- 485584138136. 4

Question Number : 429 Question Id : 48558434534 Question Type : MCQ Option Shuffling : No Is Question Mandatory : No Calculator : None Response Time : N.A Think Time : N.A Minimum Instruction Time : 0

Correct Marks : 5 Wrong Marks : 1

Question Key Details :

Key	Value
Comprehension	MCQ

वर्ष 1993 में उच्चतम न्यायालय ने यह निर्णय दिया कि सूचना का अधिकार-----के अंतर्गत अभिव्यक्ति के अधिकार का एक भाग तथा इसके आनुषंगिक है।

1. अनुच्छेद 19 (1)(क)
2. अनुच्छेद 17
3. अनुच्छेद 20 (1)(ख)
4. अनुच्छेद 15

Options :

- 485584138133. 1
- 485584138134. 2
- 485584138135. 3
- 485584138136. 4

Question Number : 430 Question Id : 48558434535 Question Type : MCQ Option Shuffling : No Is Question Mandatory : No Calculator : None Response Time : N.A Think Time : N.A Minimum Instruction Time : 0

Correct Marks : 5 Wrong Marks : 1

Question Key Details :

Key	Value
Comprehension	MCQ



Arrange the following in order of the development of Indian women's struggle for equality.

- A. Raja Rammohan Roy undertook the campaign against Sati
- B. Law became the major site for reform against violence
- C. Karachi Session of INC committed itself to women's equality
- D. Dayanand Saraswati stood for women's education based on religious principles

Choose the correct answer from the options given below:

- 1. D, A, C, B
- 2. B, D, C, A
- 3. A, B, C, D
- 4. A, D, C, B

**Options :**

- 485584138137. 1
- 485584138138. 2
- 485584138139. 3
- 485584138140. 4

**Question Number : 430 Question Id : 48558434535 Question Type : MCQ Option Shuffling : No Is Question Mandatory : No Calculator : None Response Time : N.A Think Time : N.A Minimum Instruction Time : 0**

**Correct Marks : 5 Wrong Marks : 1**

**Question Key Details :**

Key	Value
Comprehension	MCQ

निम्नलिखित को समानता के लिये भारतीय महिलाओं संघर्ष के विकास के क्रम में व्यवस्थित कीजिए:

- A. राजा राम मोहन राय ने सती के विरुद्ध अभियान चलाया।
- B. हिंसा के विरुद्ध कानून सुधार का मुख्य स्थान बना।
- C. आई एन सी का कराची अधिवेशन स्वयं महिलाओं की समानता के प्रति प्रतिबद्ध था।
- D. दयानंद सरस्वती धार्मिक सिद्धांत के आधार पर महिलाओं की शिक्षा के पक्षधर थे

नीचे दिए गए विकल्पों में से सही उत्तर का चयन कीजिए:

- 1. D, A, C, B
- 2. B, D, C, A
- 3. A, B, C, D
- 4. A, D, C, B

**Options :**

- 485584138137. 1
- 485584138138. 2
- 485584138139. 3
- 485584138140. 4

**Question Number : 431 Question Id : 48558434536 Question Type : MCQ Option Shuffling : No Is Question Mandatory : No Calculator : None Response Time : N.A Think Time : N.A Minimum Instruction Time : 0**

**Correct Marks : 5 Wrong Marks : 1**

**Question Key Details :**

Key	Value
Comprehension	MCQ

Arrange the following in chronological sequence (from oldest to newest events)

- A. Champaran Satyagraha
- B. Bihar Provincial Kisan Sabha
- C. Deccan riots
- D. Tebhaga Movement
- E. Bardoli Satyagraha

Choose the correct answer from the options given below:

- 1. D, B, C, A, E
- 2. C, A, E, B, D
- 3. B, D, A, C, E
- 4. A, B, C, D, E

**Options :**

- 485584138141. 1
- 485584138142. 2
- 485584138143. 3
- 485584138144. 4

**Question Number : 431 Question Id : 48558434536 Question Type : MCQ Option Shuffling : No Is Question Mandatory : No Calculator : None Response Time : N.A Think Time : N.A Minimum Instruction Time : 0**

**Correct Marks : 5 Wrong Marks : 1**

**Question Key Details :**

Key	Value
Comprehension	MCQ

निम्नलिखित को प्राचीन से आधुनिकतम घटनाओं के कालक्रमानुसार व्यवस्थित कीजिए:-

- A. चंपारण सत्याग्रह
- B. बिहार प्रांतीय किसान सभा
- C. दक्कन के दंगे
- D. तेभागा आन्दोलन
- E. बारदोली सत्याग्रह

नीचे दिए गए विकल्पों में से सही उत्तर का चयन करें :

- 1. D, B, C, A, E
- 2. C, A, E, B, D
- 3. B, D, A, C, E
- 4. A, B, C, D, E

**Options :**

- 485584138141. 1
- 485584138142. 2
- 485584138143. 3
- 485584138144. 4

**Question Number : 432 Question Id : 48558434537 Question Type : MCQ Option Shuffling : No Is Question Mandatory : No Calculator : None Response Time : N.A Think Time : N.A Minimum Instruction Time : 0**

**Correct Marks : 5 Wrong Marks : 1**

**Question Key Details :**

Key	Value
Comprehension	MCQ

Sanskritization is a process of

- 1. Upward mobility
- 2. Downward mobility
- 3. Intra-generational mobility
- 4. Horizontal mobility

**Options :**

- 485584138145. 1
- 485584138146. 2
- 485584138147. 3
- 485584138148. 4

**Question Number : 432 Question Id : 48558434537 Question Type : MCQ Option Shuffling : No Is Question Mandatory : No Calculator : None Response Time : N.A Think Time : N.A Minimum Instruction Time : 0**

**Correct Marks : 5 Wrong Marks : 1**

**Question Key Details :**

Key	Value
Comprehension	MCQ

संस्कृतिकरण निम्नलिखित में से किसकी एक प्रक्रिया है?

1. उर्ध्वमुख गतिशीलता
2. उधोमुख गतिशीलता
3. अन्तर पीढ़ी गतिशीलता
4. समस्तर गतिशीलता

**Options :**

485584138145. 1  
485584138146. 2  
485584138147. 3  
485584138148. 4

**Question Number : 433 Question Id : 48558434538 Question Type : MCQ Option Shuffling : No Is Question Mandatory : No Calculator : None Response Time : N.A Think Time : N.A Minimum Instruction Time : 0**

**Correct Marks : 5 Wrong Marks : 1**

**Question Key Details :**

Key	Value
Comprehension	MCQ

Out of the following which is the dominant caste in Andhra Pradesh?

1. Lingayats
2. Kammas
3. Jat
4. Sikhs

**Options :**

485584138149. 1  
485584138150. 2  
485584138151. 3  
485584138152. 4

**Question Number : 433 Question Id : 48558434538 Question Type : MCQ Option Shuffling : No Is Question Mandatory : No Calculator : None Response Time : N.A Think Time : N.A Minimum Instruction Time : 0**

**Correct Marks : 5 Wrong Marks : 1**

**Question Key Details :**

Key	Value
Comprehension	MCQ

निम्नलिखित में से कौन आन्ध्र प्रदेश में एक प्रबल जाति है?

1. लिंगायत
2. कम्मा
3. जाट
4. सिक्ख

**Options :**

485584138149. 1  
485584138150. 2  
485584138151. 3  
485584138152. 4

**Question Number : 434 Question Id : 48558434539 Question Type : MCQ Option Shuffling : No Is Question Mandatory : No Calculator : None Response Time : N.A Think Time : N.A Minimum Instruction Time : 0**

**Correct Marks : 5 Wrong Marks : 1**

**Question Key Details :**

Key	Value
Comprehension	MCQ

In the decocratic form of government who are the key actors?

1. Industrialists
2. Political Parties
3. People
4. NGO's

**Options :**

485584138153. 1  
485584138154. 2  
485584138155. 3  
485584138156. 4

**Question Number : 434 Question Id : 48558434539 Question Type : MCQ Option Shuffling : No Is Question Mandatory : No Calculator : None Response Time : N.A Think Time : N.A Minimum Instruction Time : 0**

**Correct Marks : 5 Wrong Marks : 1**

**Question Key Details :**

Key	Value
Comprehension	MCQ

किसी लोकतांत्रिक सरकार में कौन मुख्या करता है ?

1. उद्योगपति
2. राजनीतिक दल
3. जनता
4. एन. जी. ओ

**Options :**

485584138153. 1  
485584138154. 2  
485584138155. 3  
485584138156. 4

**Question Number : 435 Question Id : 48558434540 Question Type : MCQ Option Shuffling : No Is Question Mandatory : No Calculator : None Response Time : N.A Think Time : N.A Minimum Instruction Time : 0**

**Correct Marks : 5 Wrong Marks : 1**

**Question Key Details :**

Key	Value
Comprehension	MCQ

Which amendment provided a three-tier system of Panchayati Raj for all states having a population of over twenty lakh.

1. The 92nd Amendment
2. The 73<sup>rd</sup> Amendment
3. The 56<sup>th</sup> Amendment
4. The 83<sup>rd</sup> Amendment

**Options :**

485584138157. 1  
485584138158. 2  
485584138159. 3  
485584138160. 4

**Question Number : 435 Question Id : 48558434540 Question Type : MCQ Option Shuffling : No Is Question Mandatory : No Calculator : None Response Time : N.A Think Time : N.A Minimum Instruction Time : 0**

**Correct Marks : 5 Wrong Marks : 1**

**Question Key Details :**

Key	Value
Comprehension	MCQ

किस संविधान संसोधन द्वारा बीस लाख से अधिक की जनसंख्या वाले सभी राज्यों के लिए त्रिस्तरीय पंचायती राज प्रणाली प्रदान की गई है?

1. 92 वें संसोधन
2. 73 वें संसोधन
3. 56 वें संसोधन
4. 83 वें संसोधन

**Options :**

- 485584138157. 1
- 485584138158. 2
- 485584138159. 3
- 485584138160. 4

**Question Number : 436 Question Id : 48558434541 Question Type : MCQ Option Shuffling : No Is Question Mandatory : No Calculator : None Response Time : N.A Think Time : N.A Minimum Instruction Time : 0**

**Correct Marks : 5 Wrong Marks : 1**

**Question Key Details :**

Key	Value
Comprehension	MCQ

An economy where the workforce involved in Design, Development, Technology, Marketing, Sales and Services is known as:-

1. Knowledge economy
2. Developed economy
3. Developing
4. Electronic economy

**Options :**

- 485584138161. 1
- 485584138162. 2
- 485584138163. 3
- 485584138164. 4

**Question Number : 436 Question Id : 48558434541 Question Type : MCQ Option Shuffling : No Is Question Mandatory : No Calculator : None Response Time : N.A Think Time : N.A Minimum Instruction Time : 0**

**Correct Marks : 5 Wrong Marks : 1**

**Question Key Details :**

Key	Value
Comprehension	MCQ

कोई अर्थव्यवस्था जिसके कार्यबल में अभिकल्प (डिजाइन), विकास, प्रौद्योगिकी बिपणन, विक्री तथा सेवाए होती है, कहलाती है:

1. ज्ञानपरक अर्थव्यवस्था
2. विकसित अर्थव्यवस्था
3. विकासशील अर्थव्यवस्था
4. इलेक्ट्रॉनिक अर्थव्यवस्था

**Options :**

485584138161. 1  
485584138162. 2  
485584138163. 3  
485584138164. 4

**Question Number : 437 Question Id : 48558434542 Question Type : MCQ Option Shuffling : No Is Question Mandatory : No Calculator : None Response Time : N.A Think Time : N.A Minimum Instruction Time : 0**

**Correct Marks : 5 Wrong Marks : 1**

**Question Key Details :**

Key	Value
Comprehension	MCQ

India's first long running soap opera was:

1. Hum log
2. Buniyaad
3. Ramayana
4. Mahabharata

**Options :**

485584138165. 1  
485584138166. 2  
485584138167. 3  
485584138168. 4

**Question Number : 437 Question Id : 48558434542 Question Type : MCQ Option Shuffling : No Is Question Mandatory : No Calculator : None Response Time : N.A Think Time : N.A Minimum Instruction Time : 0**

**Correct Marks : 5 Wrong Marks : 1**

**Question Key Details :**

Key	Value
Comprehension	MCQ



भारत का पहला दीर्घकालिक सोप ओपोरा था

1. हमलोग
2. बुनियाद
3. रामायण
4. महाभारत

**Options :**

485584138165. 1  
485584138166. 2  
485584138167. 3  
485584138168. 4

**Question Number : 438 Question Id : 48558434543 Question Type : MCQ Option Shuffling : No Is Question Mandatory : No Calculator : None Response Time : N.A Think Time : N.A Minimum Instruction Time : 0**

**Correct Marks : 5 Wrong Marks : 1**

**Question Key Details :**

Key	Value
Comprehension	MCQ

Who wrote Unquite Woods?

1. Karl Marx
2. Ramchandra Guha
3. Dipanker Gupta
4. M.N.Srinivas

**Options :**

485584138169. 1  
485584138170. 2  
485584138171. 3  
485584138172. 4

**Question Number : 438 Question Id : 48558434543 Question Type : MCQ Option Shuffling : No Is Question Mandatory : No Calculator : None Response Time : N.A Think Time : N.A Minimum Instruction Time : 0**

**Correct Marks : 5 Wrong Marks : 1**

**Question Key Details :**

Key	Value
Comprehension	MCQ

अनक्राइट वूड्स किसकी रचना है?

1. कार्लमार्क्स
2. रामचंद्र गुहा
3. दीपांकर गुप्ता
4. एम. एन श्रीनिवास

**Options :**

485584138169. 1  
485584138170. 2  
485584138171. 3  
485584138172. 4

**Question Number : 439 Question Id : 48558434544 Question Type : MCQ Option Shuffling : No Is Question Mandatory : No Calculator : None Response Time : N.A Think Time : N.A Minimum Instruction Time : 0**

**Correct Marks : 5 Wrong Marks : 1**

**Question Key Details :**

Key	Value
Comprehension	MCQ

Social movement is:

1. absence of any degree of organisation
2. sustained collective action
3. necessarily include a leadership
4. disorganised protest

**Options :**

485584138173. 1  
485584138174. 2  
485584138175. 3  
485584138176. 4

**Question Number : 439 Question Id : 48558434544 Question Type : MCQ Option Shuffling : No Is Question Mandatory : No Calculator : None Response Time : N.A Think Time : N.A Minimum Instruction Time : 0**

**Correct Marks : 5 Wrong Marks : 1**

**Question Key Details :**

Key	Value
Comprehension	MCQ

सामाजिक आंदोलन है:

1. संगठन की किसी श्रेणी का नहीं होना
2. सतत सामूहिक कार्य
3. इसमें अनिवार्यतः एक नेतृत्व
4. असंगठित विरोध

**Options :**

485584138173. 1  
485584138174. 2  
485584138175. 3  
485584138176. 4

**Question Number : 440 Question Id : 48558434545 Question Type : MCQ Option Shuffling : No Is Question Mandatory : No Calculator : None Response Time : N.A Think Time : N.A Minimum Instruction Time : 0**

**Correct Marks : 5 Wrong Marks : 1**

**Question Key Details :**

Key	Value
Comprehension	MCQ

Gender identities impact men as well. A typical man in the Indian society is expected to be the following:

1. Do household work
2. Help in child rearing
3. Strong and successful
4. Helpful and compassionate

**Options :**

485584138177. 1  
485584138178. 2  
485584138179. 3  
485584138180. 4

**Question Number : 440 Question Id : 48558434545 Question Type : MCQ Option Shuffling : No Is Question Mandatory : No Calculator : None Response Time : N.A Think Time : N.A Minimum Instruction Time : 0**

**Correct Marks : 5 Wrong Marks : 1**

**Question Key Details :**

Key	Value
Comprehension	MCQ

लिंग आधारित पहचान का प्रभाव पुरुषों पर भी पड़ता है। भारतीय समाज में प्ररुपी पुरुष से निम्नलिखित की उम्मीद की जाती है:

1. घर का काम करे
2. बच्चों के पालन- पोषण में सहायता करे
3. मजबूत और सफल
4. मददगार तथा भावपूर्ण

**Options :**

- 485584138177. 1
- 485584138178. 2
- 485584138179. 3
- 485584138180. 4

**Sub-Section Number :** 2  
**Sub-Section Id :** 4855842553  
**Question Shuffling Allowed :** No  
**Is Section Default? :** null

**Question Number : 441 Question Id : 48558434546 Question Type : MCQ Option Shuffling : No Is Question Mandatory : No Calculator : None Response Time : N.A Think Time : N.A Minimum Instruction Time : 0**

**Correct Marks : 5 Wrong Marks : 1**

**Question Key Details :**

Key	Value
Comprehension	Comp1

Clamoring to enter India's red-hot retail sector, the world's largest chains, including WalMart Stores, Carrefour and Tesco, are seeking the best way to enter the country, despite a government ban on foreign direct investment in the market. Recent large investment by major Indian businesses, like Reliance Industries and Bharat Airtel, have increased the sense of urgency for foreign retailers..... Last week Bharat Airtel indicated that it was in talks with Wal-Mart, Carrefour and Tesco to set up a joint venture .... India's retails sector is attractive not only because of its fast growth, but because family-run street corner stores have 97 % of the nation's business. But this industry trait is precisely why the government makes it hard for foreigners to enter the market. Politicians frequently argue that global retailers would destroy thousands of small local players and fledgling domestic chains.

The government is trying to sell its share in several public sector companies, a process which is known as \_\_\_\_\_

1. Foreign investment
2. De investment
3. Dis investment
4. Retail therapy

**Options :**

- 485584138181. 1

485584138182. 2  
485584138183. 3  
485584138184. 4

**Question Number : 441 Question Id : 48558434546 Question Type : MCQ Option Shuffling : No Is Question Mandatory : No Calculator : None Response Time : N.A Think Time : N.A Minimum Instruction Time : 0**

**Correct Marks : 5 Wrong Marks : 1**

**Question Key Details :**

Key	Value
Comprehension	Comp1

नीचे दिए गए गद्यांश को पढ़िए और प्रश्नों के उत्तर दीजिए:

भारत के नवीनतम खुदरा क्षेत्र में प्रवेश पाने के लिए उत्सुक विश्व की सबसे बड़ी श्रृंखला जिसमें वाल मार्ट स्टोर कारेफोर, तथा टिस्को भी शामिल है बाजार में विदेशी प्रत्यक्ष निवेश पर सरकार द्वारा लगाए गए प्रतिबन्ध के बावजूद हमारे देश में प्रवेश करने का भरसक प्रयत्न कर रही है रिलायंस इंडस्ट्रीज तथा भारतीय एयरटेल जैसे प्रमुख भारतीय व्यवसाय घटाने द्वारा हाल में किये गए भारी निवेश के कारण विदेशी रिटेलरों का आग्रह बढ़ गया है। गत सप्ताह भारती एयरटेल ने संकेत दिया कि वह रिटेलिंग संयुक्त उद्यम की स्थापना हेतु वाल-मार्ट, कारेफोर तथा टिस्को से बातचीत करा रही है ..... भारत का खुदरा क्षेत्र ने केवल इसके तेज विकास के कारण आकर्षक है, बल्कि इसका परिवार-चालित नुककड़ स्टोर ने राष्ट्र का 97% व्यवसाय किया है। परन्तु उद्योग की इतनी विशेषता के कारण सरकार विदेशियों को बाजार में प्रवेश करने के लिए मुश्किल बना देती है। राजनेता बार-बार यह तर्क देते हैं कि वैश्विक रिटेलरों के कारण हजारों लघु स्थानीय उद्योग तथा अनुभवहीन घरेलू श्रृंखलाएं बर्बाद हो जायेंगी।

सरकार अनेक सार्वजनिक क्षेत्र की कंपनियों में अपनी हिस्सेदारी बेचने की कोशिश कर रही है और इस प्रक्रिया को कहा जाता है:

1. विदेशी निवेश
2. निवेश समाप्त करना
3. विनिवेश
4. रिटेल थरेपी

**Options :**

485584138181. 1  
485584138182. 2  
485584138183. 3  
485584138184. 4

**Question Number : 442 Question Id : 48558434547 Question Type : MCQ Option Shuffling : No Is Question Mandatory : No Calculator : None Response Time : N.A Think Time : N.A Minimum Instruction Time : 0**

**Correct Marks : 5 Wrong Marks : 1**

**Question Key Details :**

Key	Value
Comprehension	Comp1

Clamoring to enter India's red-hot retail sector, the world's largest chains, including WalMart Stores, Carrefour and Tesco, are seeking the best way to enter the country, despite a government ban on foreign direct investment in the market. Recent large investment by major Indian businesses, like Reliance Industries and Bharat Airtel, have increased the sense of urgency for foreign retailers..... Last week Bharat Airtel indicated that it was in talks with Wal-Mart, Carrefour and Tesco to set up a joint venture .... India's retails sector is attractive

not only because of its fast growth, but because family-run street corner stores have 97 % of the nation's business. But this industry trait is precisely why the government makes it hard for foreigners to enter the market. Politicians frequently argue that global retailers would destroy thousands of small local players and fledgling domestic chains.

Due to globalisation, MNCs are outsourcing work to developing countries because:

1. Most MNC are headed by people from developing countries like India
2. The International Monetary Fund and World Trade Organisation makes it mandatory
3. Labour is skilled
4. Labour is cheaper in developing countries which will yield bigger profits for the MNCs

**Options :**

- 485584138185. 1
- 485584138186. 2
- 485584138187. 3
- 485584138188. 4

**Question Number : 442 Question Id : 48558434547 Question Type : MCQ Option Shuffling : No Is Question Mandatory : No Calculator : None Response Time : N.A Think Time : N.A Minimum Instruction Time : 0**

**Correct Marks : 5 Wrong Marks : 1**

**Question Key Details :**

Key	Value
Comprehension	Comp1

नीचे दिए गए गद्यांश को पढ़िए और प्रश्नों के उत्तर दीजिए:

भारत के नवीनतम खुदरा क्षेत्र में प्रवेश पाने के लिए उत्सुक विश्व की सबसे बड़ी श्रृंखला जिसमें वाल मार्ट स्टोर कारेफोर, तथा टिस्को भी शामिल है बाजार में विदेशी प्रत्यक्ष निवेश पर सरकार द्वारा लगाए गए प्रतिबन्ध के बावजूद हमारे देश में प्रवेश करने का भरसक प्रयत्न कर रही है रिलायंस इंडस्ट्रीज तथा भारतीय एयरटेल जैसे प्रमुख भारतीय व्यवसाय घटाने द्वारा हाल में किये गए भारी निवेश के कारण विदेशी रिटेलरों का आग्रह बढ़ गया है। गत सप्ताह भारती एयरटेल ने संकेत दिया कि वह रिटेलिंग संयुक्त उद्यम की स्थापना हेतु वाल-मार्ट, कारेफोर तथा टिस्को से बातचीत करा रही है ..... भारत का खुदरा क्षेत्र ने केवल इसके तेज विकास के कारण आकर्षक है, बल्कि इसका परिवार-चालित नुककड़ स्टोर ने राष्ट्र का 97% व्यवसाय किया है। परन्तु उद्योग की इतनी विशेषता के कारण सरकार विदेशियों को बाजार में प्रवेश करने के लिए मुश्किल बना देती है। राजनेता बार-बार यह तर्क देते हैं कि वैश्विक रिटेलरों के कारण हजारों लघु स्थानीय उद्योग तथा अनुभवहीन घरेलू श्रृंखलाएं बर्बाद हो जायेंगी।

भूमंडलीकरण के कारण एम एन सी विकासशील देशों को कार्य का बाह्यस्त्रोतन (आउटसोर्सिंग) कर रही हैं क्योंकि

1. अधिकांश एम एन सी के प्रमुख भारत जैसे विकासशील देशों के लोग हैं।
2. अंतरराष्ट्रीय मुद्रा कोष तथा विश्व व्यापार संगठन ने ऐसा करना अनिवार्य कर दिया है।
3. श्रमिक कुशल होते हैं
4. विकासशील देशों के श्रमिक सस्ते होते हैं जिससे एफ एन सी को अधिक मुनाफा होता है

**Options :**

- 485584138185. 1
- 485584138186. 2
- 485584138187. 3
- 485584138188. 4

**Question Number : 443 Question Id : 48558434548 Question Type : MCQ Option Shuffling : No Is Question Mandatory : No Calculator : None Response Time : N.A Think Time : N.A Minimum Instruction Time : 0**

**Correct Marks : 5 Wrong Marks : 1**

**Question Key Details :**

Key	Value
Comprehension	Comp1

Clamoring to enter India's red-hot retail sector, the world's largest chains, including WalMart Stores, Carrefour and Tesco, are seeking the best way to enter the country, despite a government ban on foreign direct investment in the market. Recent large investment by major Indian businesses, like Reliance Industries and Bharat Airtel, have increased the sense of urgency for foreign retailers..... Last week Bharat Airtel indicated that it was in talks with Wal-Mart, Carrefour and Tesco to set up a joint venture .... India's retails sector is attractive not only because of its fast growth, but because family-run street corner stores have 97 % of the nation's business. But this industry trait is precisely why the government makes it hard for foreigners to enter the market. Politicians frequently argue that global retailers would destroy thousands of small local players and fledgling domestic chains.

India's retail sector is attractive not only because of its fast growth, but because family run street cover. Stores have a large share of the market. Identify the share of the family run cover business in retail sector.

1. 59%
2. 97%
3. 79%
4. 90%

**Options :**

- 485584138189. 1
- 485584138190. 2
- 485584138191. 3
- 485584138192. 4

Question Number : 443 Question Id : 48558434548 Question Type : MCQ Option Shuffling : No Is Question Mandatory : No Calculator : None Response Time : N.A Think Time : N.A Minimum Instruction Time : 0

Correct Marks : 5 Wrong Marks : 1

Question Key Details :

Key	Value
Comprehension	Comp1

नीचे दिए गए गद्यांश को पढ़िए और प्रश्नों के उत्तर दीजिए:

भारत के नवीनतम खुदरा क्षेत्र में प्रवेश पाने के लिए उत्सुक विश्व की सबसे बड़ी श्रृंखला जिसमें वाल मार्ट स्टोर कारेफोर, तथा टिस्को भी शामिल है बाजार में विदेशी प्रत्यक्ष निवेश पर सरकार द्वारा लगाए गए प्रतिबन्ध के बावजूद हमारे देश में प्रवेश करने का भरसक प्रयत्न कर रही है रिलायंस इंडस्ट्रीज तथा भारतीय एयरटेल जैसे प्रमुख भारतीय व्यवसाय घटाने द्वारा हाल में किये गए भारी निवेश के कारण विदेशी रिटेलरों का आग्रह बढ़ गया है। गत सप्ताह भारती एयरटेल ने संकेत दिया कि वह रिटेलिंग संयुक्त उद्यम की स्थापना हेतु वाल-मार्ट, कारेफोर तथा टिस्को से बातचीत करा रही है ..... भारत का खुदरा क्षेत्र ने केवल इसके तेज विकास के कारण आकर्षक है, बल्कि इसका परिवार-चालित नुक्कड़ स्टोर ने राष्ट्र का 97% व्यवसाय किया है। परन्तु उद्योग की इतनी विशेषता के कारण सरकार विदेशियों को बाजार में प्रवेश करने के लिए मुश्किल बना देती है। राजनेता बार-बार यह तर्क देते हैं कि वैश्विक रिटेलरों के कारण हजारों लघु स्थानीय उद्योग तथा अनुभवहीन घरेलू श्रृंखलाएं बर्बाद हो जायेंगी।

भारत का खुदरा क्षेत्र न केवल इसके तेज विकास के कारण आकर्षक है, बल्कि इसका परिवार चालित नुक्कड़ स्टोर की बाजार में बड़ी हिस्सेदारी है। खुदरा क्षेत्र में बाजार- चालित नुक्कड़ व्यवसाय की हिस्सेदारी कितनी है?

1. 59%
2. 97%
3. 79%
4. 90%

Options :

- 485584138189. 1
- 485584138190. 2
- 485584138191. 3
- 485584138192. 4

Question Number : 444 Question Id : 48558434549 Question Type : MCQ Option Shuffling : No Is Question Mandatory : No Calculator : None Response Time : N.A Think Time : N.A Minimum Instruction Time : 0

Correct Marks : 5 Wrong Marks : 1

Question Key Details :

Key	Value
Comprehension	Comp1



Clamoring to enter India's red-hot retail sector, the world's largest chains, including WalMart Stores, Carrefour and Tesco, are seeking the best way to enter the country, despite a government ban on foreign direct investment in the market. Recent large investment by major Indian businesses, like Reliance Industries and Bharat Airtel, have increased the sense of urgency for foreign retailers..... Last week Bharat Airtel indicated that it was in talks with Wal-Mart, Carrefour and Tesco to set up a joint venture .... India's retails sector is attractive

not only because of its fast growth, but because family-run street corner stores have 97 % of the nation's business. But this industry trait is precisely why the government makes it hard for foreigners to enter the market. Politicians frequently argue that global retailers would destroy thousands of small local players and fledgling domestic chains.

Parle drinks bring bought by Coca Cola in an example of

1. Liberealization
2. De-Monetisation
3. Globalization
4. Acquisition

**Options :**

485584138193. 1  
485584138194. 2  
485584138195. 3  
485584138196. 4

**Question Number : 444 Question Id : 48558434549 Question Type : MCQ Option Shuffling : No Is Question Mandatory : No Calculator : None Response Time : N.A Think Time : N.A Minimum Instruction Time : 0**

**Correct Marks : 5 Wrong Marks : 1**

**Question Key Details :**

Key	Value
Comprehension	Compl

नीचे दिए गए गद्यांश को पढ़िए और प्रश्नों के उत्तर दीजिए:

भारत के नवीनतम खुदरा क्षेत्र में प्रवेश पाने के लिए उत्सुक विश्व की सबसे बड़ी श्रृंखला जिसमें वाल मार्ट स्टोर कारेफोर, तथा टिस्को भी शामिल है बाजार में विदेशी प्रत्यक्ष निवेश पर सरकार द्वारा लगाए गए प्रतिबन्ध के बावजूद हमारे देश में प्रवेश करने का भरसक प्रयत्न कर रही है रिलायंस इंडस्ट्रीज तथा भारतीय एयरटेल जैसे प्रमुख भारतीय व्यवसाय घटाने द्वारा हाल में किये गए भारी निवेश के कारण विदेशी रिटेलरों का आग्रह बढ़ गया है। गत सप्ताह भारती एयरटेल ने संकेत दिया कि वह रिटेलिंग संयुक्त उद्यम की स्थापना हेतु वाल-मार्ट, कारेफोर तथा टिस्को से बातचीत करा रही है ..... भारत का खुदरा क्षेत्र ने केवल इसके तेज विकास के कारण आकर्षक है, बल्कि इसका परिवार-चालित नुककड़ स्टोर ने राष्ट्र का 97% व्यवसाय किया है। परन्तु उद्योग की इतनी विशेषता के कारण सरकार विदेशियों को बाजार में प्रवेश करने के लिए मुश्किल बना देती है। राजनेता बार-बार यह तर्क देते हैं कि वैश्विक रिटेलरों के कारण हजारों लघु स्थानीय उद्योग तथा अनुभवहीन घरेलू श्रृंखलाएं बर्बाद हो जायेंगी।

कोका कोला द्वारा खरीदा जा रहा पार्ले ड्रिंक्स किसका उदाहरण है?

1. उदारीकरण
2. विमुद्रीकरण
3. भूमंडलीकरण
4. अर्जन

**Options :**

485584138193. 1  
485584138194. 2  
485584138195. 3  
485584138196. 4

**Question Number : 445 Question Id : 48558434550 Question Type : MCQ Option Shuffling : No Is Question Mandatory : No Calculator : None Response Time : N.A Think Time : N.A Minimum Instruction Time : 0**

**Correct Marks : 5 Wrong Marks : 1**

**Question Key Details :**

Key	Value
Comprehension	Compl

Clamoring to enter India's red-hot retail sector, the world's largest chains, including WalMart Stores, Carrefour and Tesco, are seeking the best way to enter the country, despite a government ban on foreign direct investment in the market. Recent large investment by major Indian businesses, like Reliance Industries and Bharat Airtel, have increased the sense of urgency for foreign retailers..... Last week Bharat Airtel indicated that it was in talks with Wal-Mart, Carrefour and Tesco to set up a joint venture .... India's retails sector is attractive not only because of its fast growth, but because family-run street corner stores have 97 % of the nation's business. But this industry trait is precisely why the government makes it hard for foreigners to enter the market. Politicians frequently argue that global retailers would destroy thousands of small local players and fledgling domestic chains.

Identify the world's largest MNC in retail market

1. Wal - Mart stores
2. Pepsico
3. Relaince- Industries
4. Amazon

**Options :**

485584138197. 1  
485584138198. 2  
485584138199. 3  
485584138200. 4

**Question Number : 445 Question Id : 48558434550 Question Type : MCQ Option Shuffling : No Is Question Mandatory : No Calculator : None Response Time : N.A Think Time : N.A Minimum Instruction Time : 0**

Correct Marks : 5 Wrong Marks : 1

Question Key Details :

Key	Value
Comprehension	Comp1

नीचे दिए गए गद्यांश को पढ़िए और प्रश्नों के उत्तर दीजिए:

भारत के नवीनतम खुदरा क्षेत्र में प्रवेश पाने के लिए उत्सुक विश्व की सबसे बड़ी श्रृंखला जिसमें वाल मार्ट स्टोर कारेफोर, तथा टिस्को भी शामिल है बाजार में विदेशी प्रत्यक्ष निवेश पर सरकार द्वारा लगाए गए प्रतिबन्ध के बावजूद हमारे देश में प्रवेश करने का भरसक प्रयत्न कर रही है रिलायंस इंडस्ट्रीज तथा भारतीय एयरटेल जैसे प्रमुख भारतीय व्यवसाय घटाने द्वारा हाल में किये गए भारी निवेश के कारण विदेशी रिटेलरों का आग्रह बढ़ गया है। गत सप्ताह भारती एयरटेल ने संकेत दिया कि वह रिटेलिंग संयुक्त उद्यम की स्थापना हेतु वाल-मार्ट, कारेफोर तथा टिस्को से बातचीत करा रही है ..... भारत का खुदरा क्षेत्र ने केवल इसके तेज विकास के कारण आकर्षक है, बल्कि इसका परिवार-चालित नुक्कड़ स्टोर ने राष्ट्र का 97% व्यवसाय किया है। परन्तु उद्योग की इतनी विशेषता के कारण सरकार विदेशियों को बाजार में प्रवेश करने के लिए मुश्किल बना देती है। राजनेता बार-बार यह तर्क देते हैं कि वैश्विक रिटेलरों के कारण हजारों लघु स्थानीय उद्योग तथा अनुभवहीन घरेलू श्रृंखलाएं बर्बाद हो जायेंगी।

खुदरा बाजार में विश्व की सबसे बड़ी एम एनसी कौन है?

1. वालमार्ट स्टोर्स
2. पेप्सीकोला
3. रिलायंस इंडस्ट्रीज
4. अमेजन

Options :

485584138197. 1  
485584138198. 2  
485584138199. 3  
485584138200. 4

Sub-Section Number :

3

Sub-Section Id :

4855842554

Question Shuffling Allowed :

No

Is Section Default? :

null

Question Number : 446 Question Id : 48558434551 Question Type : MCQ Option Shuffling : No Is Question Mandatory : No Calculator : None Response Time : N.A Think Time : N.A Minimum Instruction Time : 0

Correct Marks : 5 Wrong Marks : 1

Question Key Details :

Key	Value
Comprehension	Comp2

Read the following passage and answer question based on the concept.

Considered from an, urban point of view. The rapid growth in urbanization shows that the town or city has been acting as a magnet for the rural population. Those who cannot find work (or sufficient work) in the rural areas go to the city in search of work. This flow of rural-to-urban migration has also been accelerated by the continuous decline of common property resources like ponds, forests and grazing land. These common resources enabled poor people to survive in the villages although they owned little or no land. Now, these resources have been turned into private property, or they are exhausted. (Ponds may run dry no longer provide enough fish; forests may have been cut down and have vanished...). If people no longer have access to these resources, but on the other hand have to buy many things in the market that they used to get free (like fuel, fodder or supplementary food items). Then their hardship increases. This hardship is worsened by the fact that opportunities for cash income are limited in the villages.

Identify how is Mass Media contributing to urbanization?

1. By controlling the product market
2. By streaming the image of urban life styles and patterns of consumption to rural people
3. By changing the views of rural people
4. By providing employment

**Options :**

485584138201. 1  
485584138202. 2  
485584138203. 3  
485584138204. 4

**Question Number : 446 Question Id : 48558434551 Question Type : MCQ Option Shuffling : No Is Question Mandatory : No Calculator : None Response Time : N.A Think Time : N.A Minimum Instruction Time : 0**

**Correct Marks : 5 Wrong Marks : 1**

**Question Key Details :**

Key	Value
Comprehension	Comp2

नीचे दिए गए गद्यांश को पढ़िए और प्रश्नों के उत्तर दीजिए:

शहरी दृष्टिकोण से देखे, शहरीकरण में तीव्र वृद्धि दर्शाती है कि ग्रामीण जनसंख्या के लिए नगर अथवा शहर चुंबक के रूप में कार्य करते हैं। जिन्हें ग्रामीण क्षेत्रों में काम (अथवा पर्याप्त काम) नहीं मिलता है, वे काम की तलाश में शहर जाते हैं। तालाबों, जंगलों और चारागाहों जैसे सामूहिक संपत्ति संसाधनों में सतत गिरावट से भी यह ग्रामीण से शहरी प्रवाह का प्रवाह त्वरित हुआ है। गरीब लोगों के पास बहुत कम अथवा कोई भूमि न होने पर भी इन सामूहिक संसाधनों से गरीब गावों में जीवित रह पाते थे। अब ये संसाधन निजी संपत्ति बन गए हैं अथवा वे निःशेष हो गए हैं। (तालाब सूख गए हैं अथवा अब वहाँ पर्याप्त मछलियाँ नहीं हैं; जंगल काट डाले गए हैं और लुप्त हो गए हैं) यदि इन संसाधनों तक अब लोगों की पहुँच नहीं है, परन्तु पहले मिलने वाली अनेक निःशुल्क वस्तुओं ( ईंधन, चारा अथवा अनुपूरक खाद्य पदार्थ) दूसरी ओर, उन्हें बाजार से खरीदना पड़ता है, तो कठिनाई बढ़ जाती है। यह कठिनाई is तथ्य से और अधिक खराब हो जाती है कि गाँवों में नकद आमदनी के अवसर सीमित हैं।

निम्न में से पहचान कीजिए की जनसंचार किस प्रकार शहरीकरण में योगदान कर रहा है?

1. उत्पाद बाजार को नियंत्रित कर
2. शहरी जीवन शैली व उपभोग के पैटर्न के बिम्ब ग्रामीण जनता के समक्ष परोस कर
3. ग्रामीण जनता के दृष्टिकोण को परिवर्तित कर
4. रोजगार प्रदान कर

**Options :**

485584138201. 1  
485584138202. 2  
485584138203. 3  
485584138204. 4

**Question Number : 447 Question Id : 48558434552 Question Type : MCQ Option Shuffling : No Is Question Mandatory : No Calculator : None Response Time : N.A Think Time : N.A Minimum Instruction Time : 0**

**Correct Marks : 5 Wrong Marks : 1**

**Question Key Details :**

Key	Value
Comprehension	Comp2

Read the following passage and answer question based on the concept.

Considered from an, urban point of view. The rapid growth in urbanization shows that the town or city has been acting as a magnet for the rural population. Those who cannot find work (or sufficient work) in the rural areas go to the city in search of work. This flow of rural-to-urban migration has also been accelerated by the continuous decline of common property resources like ponds, forests and grazing land. These common resources enabled poor people to survive in the villages although they owned little or no land. Now, these resources have been turned into private property, or they are exhausted. (Ponds may run dry no longer provide enough fish; forests may have been cut down and have vanished...). If people no longer have access to these resources, but on the other hand have to buy many things in the market that they used to get free (like fuel, fodder or supplementary food items). Then their hardship increases. This hardship is worsened by the fact that opportunities for cash income are limited in the villages.

"There is a selective in the common property resources in the village trading to migration in that are these common property resources?"

1. Agricultural land
2. Ponds, forests and grazing land
3. Agricultural Implements
4. Friends and relatives

**Options :**

485584138205. 1  
485584138206. 2  
485584138207. 3  
485584138208. 4

Question Number : 447 Question Id : 48558434552 Question Type : MCQ Option Shuffling : No Is Question Mandatory : No Calculator : None Response Time : N.A Think Time : N.A Minimum Instruction Time : 0

Correct Marks : 5 Wrong Marks : 1

Question Key Details :

Key	Value
Comprehension	Comp2

नीचे दिए गए गद्यांश को पढ़िए और प्रश्नों के उत्तर दीजिए:

शहरी दृष्टिकोण से देखे, शहरीकरण में तीव्र वृद्धि दर्शाती है कि ग्रामीण जनसंख्या के लिए नगर अथवा शहर चुंबक के रूप में कार्य करते हैं। जिन्हें ग्रामीण क्षेत्रों में काम (अथवा पर्याप्त काम) नहीं मिलता है, वे काम की तलाश में शहर जाते हैं। तालाबों, जंगलों और चारागाहों जैसे सामूहिक संपत्ति संसाधनों में सतत गिरावट से भी यह ग्रामीण से शहरी प्रव्रजन का प्रवाह त्वरित हुआ है। गरीब लोगों के पास बहुत कम अथवा कोई भूमि न होने पर भी इन सामूहिक संसाधनों से गरीब गावों में जीवित रह पाते थे। अब ये संसाधन निजी संपत्ति बन गए हैं अथवा वे निःशेष हो गए हैं। (तालाब सूख गए हैं अथवा अब वहाँ पर्याप्त मछलियाँ नहीं हैं; जंगल काट डाले गए हैं और लुप्त हो गए हैं) यदि इन संसाधनों तक अब लोगों की पहुँच नहीं है, परन्तु पहले मिलने वाली अनेक निःशुल्क वस्तुओं ( ईंधन, चारा अथवा अनुपूरक खाद्य पदार्थ) दूसरी ओर, उन्हें बाजार से खरीदना पड़ता है, तो कठिनाई बढ़ जाती है। यह कठिनाई is तथ्य से और अधिक खराब हो जाती है कि गाँवों में नकद आमदनी के अवसर सीमित हैं।

"गावों में सामूहिक संपत्ति संसाधनों में गिरावट के चलते प्रव्रजन हो रहा है" । संपत्ति के सामूहिक संसाधन कौन से हैं?

1. कृषि भूमि
2. तालाब, जंगल व चरागाह
3. कृषि उपकरण
4. मित्र व रिश्तेदार

Options :

485584138205. 1  
485584138206. 2  
485584138207. 3  
485584138208. 4

Question Number : 448 Question Id : 48558434553 Question Type : MCQ Option Shuffling : No Is Question Mandatory : No Calculator : None Response Time : N.A Think Time : N.A Minimum Instruction Time : 0

Correct Marks : 5 Wrong Marks : 1

Question Key Details :

Key	Value
Comprehension	Comp2

Read the following passage and answer question based on the concept.

Considered from an, urban point of view. The rapid growth in urbanization shows that the town or city has been acting as a magnet for the rural population. Those who cannot find work (or sufficient work) in the rural areas go to the city in search of work. This flow of rural-to-urban migration has also been accelerated by the continuous decline of common property resources like ponds, forests and grazing land. These common resources enabled poor people to survive in the villages although they owned little or no land. Now, these resources have been turned into private property, or they are exhausted. (Ponds may run dry no longer provide enough fish; forests may have been cut down and have vanished...). If people no longer have access to these resources, but on the other hand have to buy many things in the market that they used to get free (like fuel, fodder or supplementary food items). Then their hardship increases. This hardship is worsened by the fact that opportunities for cash income are limited in the villages.

Urbanisation is not just impacting the number of people migration to urban areas, but also impacting:

1. Increased interaction of urban people
2. Increased resources for rural people left behind
3. Decline in socio- economic significances of agrarian way of life
4. Increased resources of urban people

**Options :**

485584138209. 1  
485584138210. 2  
485584138211. 3  
485584138212. 4

**Question Number : 448 Question Id : 48558434553 Question Type : MCQ Option Shuffling : No Is Question Mandatory : No Calculator : None Response Time : N.A Think Time : N.A Minimum Instruction Time : 0**

**Correct Marks : 5 Wrong Marks : 1**

**Question Key Details :**

Key	Value
Comprehension	Comp2

नीचे दिए गए गद्यांश को पढ़िए और प्रश्नों के उत्तर दीजिए:

शहरी दृष्टिकोण से देखे, शहरीकरण में तीव्र वृद्धि दर्शाती है कि ग्रामीण जनसंख्या के लिए नगर अथवा शहर चुंबक के रूप में कार्य करते हैं। जिन्हें ग्रामीण क्षेत्रों में काम (अथवा पर्याप्त काम) नहीं मिलता है, वे काम की तलाश में शहर जाते हैं। तालाबों, जंगलों और चारागाहों जैसे सामूहिक संपत्ति संसाधनों में सतत गिरावट से भी यह ग्रामीण से शहरी प्रवाह का प्रवाह त्वरित हुआ है। गरीब लोगों के पास बहुत कम अथवा कोई भूमि न होने पर भी इन सामूहिक संसाधनों से गरीब गावों में जीवित रह पाते थे। अब ये संसाधन निजी संपत्ति बन गए हैं अथवा वे निःशेष हो गए हैं। (तालाब सूख गए हैं अथवा अब वहाँ पर्याप्त मछलियाँ नहीं हैं; जंगल काट डाले गए हैं और लुप्त हो गए हैं) यदि इन संसाधनों तक अब लोगों की पहुँच नहीं है, परन्तु पहले मिलने वाली अनेक निःशुल्क वस्तुओं ( ईंधन, चारा अथवा अनुपूरक खाद्य पदार्थ) दूसरी ओर, उन्हें बाजार से खरीदना पड़ता है, तो कठिनाई बढ़ जाती है। यह कठिनाई is तथ्य से और अधिक खराब हो जाती है कि गाँवों में नकद आमदनी के अवसर सीमित हैं।

शहरीकरण केवल शहरी क्षेत्रों में प्रव्रजन करने वाले व्यक्तियों की संख्या को ही प्रभावित नहीं कर रहा, अपितु यह निम्न को भी प्रभावित कर रहा है-

1. शहरी लोगों को वर्धित अंतः क्रिया
2. शेष ग्रामीण जनता के लिए वर्धित संसाधन
3. कृषि जीवन शैली के सामाजिक-आर्थिक महत्त्व में गिरावट
4. शहरी जनता के वर्धित संसाधन

**Options :**

485584138209. 1  
485584138210. 2  
485584138211. 3  
485584138212. 4

**Question Number : 449 Question Id : 48558434554 Question Type : MCQ Option Shuffling : No Is Question Mandatory : No Calculator : None Response Time : N.A Think Time : N.A Minimum Instruction Time : 0**

**Correct Marks : 5 Wrong Marks : 1**

**Question Key Details :**

Key	Value
Comprehension	Comp2

Read the following passage and answer question based on the concept.

Considered from an, urban point of view. The rapid growth in urbanization shows that the town or city has been acting as a magnet for the rural population. Those who cannot find work (or sufficient work) in the rural areas go to the city in search of work. This flow of rural-to-urban migration has also been accelerated by the continuous decline of common property resources like ponds, forests and grazing land. These common resources enabled poor people to survive in the villages although they owned little or no land. Now, these resources have been turned into private property, or they are exhausted. (Ponds may run dry no longer provide enough fish; forests may have been cut down and have vanished...). If people no longer have access to these resources, but on the other hand have to buy many things in the market that they used to get free (like fuel, fodder or supplementary food items). Then their hardship increases. This hardship is worsened by the fact that opportunities for cash income are limited in the villages.

Decline in common property resources like ponds, forests has led to acceleration of:

1. Rural and rural
2. Urban and rural
3. Rural and urban
4. Urban to urban

**Options :**

485584138213. 1  
485584138214. 2  
485584138215. 3  
485584138216. 4



Question Number : 449 Question Id : 48558434554 Question Type : MCQ Option Shuffling : No Is Question Mandatory : No Calculator : None Response Time : N.A Think Time : N.A Minimum Instruction Time : 0

Correct Marks : 5 Wrong Marks : 1

Question Key Details :

Key	Value
Comprehension	Comp2

नीचे दिए गए गद्यांश को पढ़िए और प्रश्नों के उत्तर दीजिए:

शहरी दृष्टिकोण से देखे, शहरीकरण में तीव्र वृद्धि दर्शाती है कि ग्रामीण जनसंख्या के लिए नगर अथवा शहर चुंबक के रूप में कार्य करते हैं। जिन्हें ग्रामीण क्षेत्रों में काम (अथवा पर्याप्त काम) नहीं मिलता है, वे काम की तलाश में शहर जाते हैं। तालाबों, जंगलों और चारागाहों जैसे सामूहिक संपत्ति संसाधनों में सतत गिरावट से भी यह ग्रामीण से शहरी प्रव्रजन का प्रवाह त्वरित हुआ है। गरीब लोगों के पास बहुत कम अथवा कोई भूमि न होने पर भी इन सामूहिक संसाधनों से गरीब गावों में जीवित रह पाते थे। अब ये संसाधन निजी संपत्ति बन गए हैं अथवा वे निःशेष हो गए हैं। (तालाब सूख गए हैं अथवा अब वहाँ पर्याप्त मछलियाँ नहीं हैं; जंगल काट डाले गए हैं और लुप्त हो गए हैं) यदि इन संसाधनों तक अब लोगों की पहुँच नहीं है, परन्तु पहले मिलने वाली अनेक निःशुल्क वस्तुओं ( ईंधन, चारा अथवा अनुपूरक खाद्य पदार्थ) दूसरी ओर, उन्हें बाजार से खरीदना पड़ता है, तो कठिनाई बढ़ जाती है। यह कठिनाई is तथ्य से और अधिक खराब हो जाती है कि गाँवों में नकद आमदनी के अवसर सीमित हैं।

तालाबों, जंगलों जैसे सामूहिक संपत्ति संसाधनों में गिरावट ने निम्न में से किस प्रकार के प्रव्रजन को त्वरित किया है?

1. ग्रामीण से ग्रामीण
2. शहरी से ग्रामीण
3. ग्रामीण से शहरी
4. शहरी से शहरी

Options :

485584138213. 1  
485584138214. 2  
485584138215. 3  
485584138216. 4

Question Number : 450 Question Id : 48558434555 Question Type : MCQ Option Shuffling : No Is Question Mandatory : No Calculator : None Response Time : N.A Think Time : N.A Minimum Instruction Time : 0

Correct Marks : 5 Wrong Marks : 1

Question Key Details :

Key	Value
Comprehension	Comp2

Read the following passage and answer question based on the concept.

Considered from an, urban point of view. The rapid growth in urbanization shows that the town or city has been acting as a magnet for the rural population. Those who cannot find work (or sufficient work) in the rural areas go to the city in search of work. This flow of rural-to-urban migration has also been accelerated by the continuous decline of common property resources like ponds, forests and grazing land. These common resources enabled poor people to survive in the villages although they owned little or no land. Now, these resources have been turned into private property, or they are exhausted. (Ponds may run dry no longer provide enough fish; forests may have been cut down and have vanished...). If people no longer have access to these resources, but on the other hand have to buy many things in the market that they used to get free (like fuel, fodder or supplementary food items). Then their hardship increases. This hardship is worsened by the fact that opportunities for cash income are limited in the villages.

The emergence of machine production, based on the use of inanimate power resources like steam or electricity is known as:

1. Globalisation
2. Modernisation
3. Industrialisation
4. Globalisation

**Options :**

485584138217. 1  
485584138218. 2  
485584138219. 3  
485584138220. 4

**Question Number : 450 Question Id : 48558434555 Question Type : MCQ Option Shuffling : No Is Question Mandatory : No Calculator : None Response Time : N.A Think Time : N.A Minimum Instruction Time : 0**

**Correct Marks : 5 Wrong Marks : 1**

**Question Key Details :**

Key	Value
Comprehension	Comp2

नीचे दिए गए गद्यांश को पढ़िए और प्रश्नों के उत्तर दीजिए:

शहरी दृष्टिकोण से देखे, शहरीकरण में तीव्र वृद्धि दर्शाती है कि ग्रामीण जनसंख्या के लिए नगर अथवा शहर चुंबक के रूप में कार्य करते हैं। जिन्हें ग्रामीण क्षेत्रों में काम (अथवा पर्याप्त काम) नहीं मिलता है, वे काम की तलाश में शहर जाते हैं। तालाबों, जंगलों और चारागाहों जैसे सामूहिक संपत्ति संसाधनों में सतत गिरावट से भी यह ग्रामीण से शहरी प्रवाह का प्रवाह त्वरित हुआ है। गरीब लोगों के पास बहुत कम अथवा कोई भूमि न होने पर भी इन सामूहिक संसाधनों से गरीब गावों में जीवित रह पाते थे। अब ये संसाधन निजी संपत्ति बन गए हैं अथवा वे निःशेष हो गए हैं। (तालाब सूख गए हैं अथवा अब वहाँ पर्याप्त मछलियाँ नहीं हैं; जंगल काट डाले गए हैं और लुप्त हो गए हैं) यदि इन संसाधनों तक अब लोगों की पहुँच नहीं है, परन्तु पहले मिलने वाली अनेक निःशुल्क वस्तुओं ( ईंधन, चारा अथवा अनुपूरक खाद्य पदार्थ) दूसरी ओर, उन्हें बाजार से खरीदना पड़ता है, तो कठिनाई बढ़ जाती है। यह कठिनाई is तथ्य से और अधिक खराब हो जाती है कि गाँवों में नकद आमदनी के अवसर सीमित हैं।

भाप अथवा विद्युत् जैसे जड़ ऊर्जा संसाधनों के प्रयोग आधारित मशीन उत्पादन के उदय को निम्न में से किस रूप में जाना जाता है?

1. वैश्वीकरण
2. आधुनिकीकरण
3. औद्योगीकरण
4. वैश्वी-स्थानीकरण (ग्लोकेलाइजेशन)

**Options :**

485584138217. 1  
485584138218. 2  
485584138219. 3  
485584138220. 4

### General Test

Group Number :	15
Group Id :	485584782
Group Maximum Duration :	60
Group Minimum Duration :	60
Show Attended Group? :	No
Edit Attended Group? :	No
Break time :	0
Group Marks :	250
Is this Group for Examiner? :	No
Examiner permission :	Cant View
Show Progress Bar? :	No

### General Test

Section Id :	485584900
Section Number :	1
Section type :	Online
Mandatory or Optional :	Mandatory
Number of Questions :	60
Number of Questions to be attempted :	50
Section Marks :	250
Enable Mark as Answered Mark for Review and Clear Response :	Yes
Maximum Instruction Time :	0
Sub-Section Number :	1
Sub-Section Id :	4855842555
Question Shuffling Allowed :	Yes
Is Section Default? :	null

Question Number : 451 Question Id : 48558433996 Question Type : MCQ Option Shuffling : No Is Question Mandatory :  
No Calculator : None Response Time : N.A Think Time : N.A Minimum Instruction Time : 0  
Correct Marks : 5 Wrong Marks : 1  
Question Key Details :

Key	Value
Comprehension	MCQ

In how many ways can a committee of 7 members be selected from 6 men and 5 women consisting of 4 men and 3 women?

1. 25
2. 147
3. 150
4. 600

**Options :**

- 485584135981. 1
- 485584135982. 2
- 485584135983. 3
- 485584135984. 4

**Question Number : 451 Question Id : 48558433996 Question Type : MCQ Option Shuffling : No Is Question Mandatory : No Calculator : None Response Time : N.A Think Time : N.A Minimum Instruction Time : 0 Correct Marks : 5 Wrong Marks : 1**

**Question Key Details :**

Key	Value
Comprehension	MCQ

7 सदस्यों की एक कमेटी कितने प्रकार से चयनित की जा सकती है  
6 पुरुष और 5 महिलाओं में से 7 जिसमें 4 पुरुष और 3 महिलाएं हों।

1. 25
2. 147
3. 150
4. 600

**Options :**

- 485584135981. 1
- 485584135982. 2
- 485584135983. 3
- 485584135984. 4

**Question Number : 452 Question Id : 48558433997 Question Type : MCQ Option Shuffling : No Is Question Mandatory : No Calculator : None Response Time : N.A Think Time : N.A Minimum Instruction Time : 0 Correct Marks : 5 Wrong Marks : 1**

**Question Key Details :**

Key	Value
Comprehension	MCQ

The simple interest of Rs 6500 for  $1\frac{1}{2}$  years at 10% is

1. 945
2. 950
3. 960
4. 975

**Options :**

485584135985. 1  
485584135986. 2  
485584135987. 3  
485584135988. 4

**Question Number : 452 Question Id : 48558433997 Question Type : MCQ Option Shuffling : No Is Question Mandatory : No Calculator : None Response Time : N.A Think Time : N.A Minimum Instruction Time : 0**

**Correct Marks : 5 Wrong Marks : 1**

**Question Key Details :**

Key	Value
Comprehension	MCQ

₹6500 पर  $1\frac{1}{2}$  वर्ष के लिए 10% की दर पर साधारण ब्याज है :

1. 945
2. 950
3. 960
4. 975

**Options :**

485584135985. 1  
485584135986. 2  
485584135987. 3  
485584135988. 4

**Question Number : 453 Question Id : 48558433998 Question Type : MCQ Option Shuffling : No Is Question Mandatory : No Calculator : None Response Time : N.A Think Time : N.A Minimum Instruction Time : 0**

**Correct Marks : 5 Wrong Marks : 1**

**Question Key Details :**

Key	Value
Comprehension	MCQ

Two friends A and B invest in a buisness in partnership. B borrows 20% of A's salary, combines it with 60% of his salary and invest with A, who puts all of his remaining salary. One year later the ratio of profit of A and B is 5:3 respectively and B returns Rs.21000 to A which he borrowed from him. What is the difference between salary of A and B?

1. Rs. 56000
2. Rs. 32000
3. Rs. 60000
4. Rs. 28000

**Options :**

485584135989. 1  
485584135990. 2  
485584135991. 3  
485584135992. 4

**Question Number : 453 Question Id : 48558433998 Question Type : MCQ Option Shuffling : No Is Question Mandatory : No Calculator : None Response Time : N.A Think Time : N.A Minimum Instruction Time : 0**

**Correct Marks : 5 Wrong Marks : 1**

**Question Key Details :**

Key	Value
Comprehension	MCQ

दो दोस्त A और B एक व्यवसाय में पार्टनरशिप में निवेश करते हैं। B, A से उसके वेतन का 20% उधार लेता है जो इसमें अपने वेतन का 60% मिलाता है और A के साथ निवेश करता है, अपना सारा बचा हुआ वेतन निवेश करता है। एक वर्ष के पश्चात A और B के मध्य लाभ का अनुपात 3 है और B 21000 रूपये A को वापस करता है जो उसने उस से उधार लिए थे। A और B के वेतन का अन्तर क्या है?

1. Rs. 56000
2. Rs. 32000
3. Rs. 60000
4. Rs. 28000

**Options :**

485584135989. 1  
485584135990. 2  
485584135991. 3  
485584135992. 4

**Question Number : 454 Question Id : 48558433999 Question Type : MCQ Option Shuffling : No Is Question Mandatory : No Calculator : None Response Time : N.A Think Time : N.A Minimum Instruction Time : 0**

**Correct Marks : 5 Wrong Marks : 1**

**Question Key Details :**

Key	Value
Comprehension	MCQ

The perimeter of one face of a cube is 24cm. its volume must be:

1. 216 cm<sup>3</sup>
2. 1200 cm<sup>3</sup>
3. 576 cm<sup>3</sup>
4. 13824 cm<sup>3</sup>

**Options :**

485584135993. 1  
485584135994. 2  
485584135995. 3  
485584135996. 4

**Question Number : 454 Question Id : 48558433999 Question Type : MCQ Option Shuffling : No Is Question Mandatory : No Calculator : None Response Time : N.A Think Time : N.A Minimum Instruction Time : 0**

**Correct Marks : 5 Wrong Marks : 1**

**Question Key Details :**

Key	Value
Comprehension	MCQ

एक घन की एक पृष्ठ की परिधि 24 Cm है. इसका आयतन होगा :

1. 216 cm<sup>3</sup>
2. 1200 cm<sup>3</sup>
3. 576 cm<sup>3</sup>
4. 13824 cm<sup>3</sup>

**Options :**

485584135993. 1  
485584135994. 2  
485584135995. 3  
485584135996. 4

**Question Number : 455 Question Id : 48558434000 Question Type : MCQ Option Shuffling : No Is Question Mandatory : No Calculator : None Response Time : N.A Think Time : N.A Minimum Instruction Time : 0**

**Correct Marks : 5 Wrong Marks : 1**

**Question Key Details :**

Key	Value
Comprehension	MCQ

What is empirical relationship between mean, median and mode?

- A. Mean - Mode = 3(Mean - Median)
- B. Mode = Mean - Median
- C. Mode = 3 Median - 2 Mean
- D. Median - Mode = 3 (Mean - Median)
- E. Mode = 2 Mean + 3 Median

Choose the correct answer from the options given below\_

- 1. C only
- 2. Both A and C only
- 3. Both A and B only
- 4. Both D and E only

**Options :**

- 485584135997. 1
- 485584135998. 2
- 485584135999. 3
- 485584136000. 4

**Question Number : 455 Question Id : 48558434000 Question Type : MCQ Option Shuffling : No Is Question Mandatory : No Calculator : None Response Time : N.A Think Time : N.A Minimum Instruction Time : 0**

**Correct Marks : 5 Wrong Marks : 1**

**Question Key Details :**

Key	Value
Comprehension	MCQ

माध्य, माधिका और बहुलक के मध्य आनुभाविक संबंध क्या है?

- A. माध्य- बहुलक = 3(माध्य - माधिका)
- B. बहुलक = माध्य - माधिका
- C. बहुलक = 3 माधिका- 2 माध्य
- D. माधिका- बहुलक = 3 (माध्य - माधिका)
- E. बहुलक = 2 माध्य + 3 माधिका

नीचे दिए गए विकल्पों में से सही उत्तर दीजिए :

- 1. केवल C
- 2. केवल A और C
- 3. केवल A और B
- 4. केवल D और E

**Options :**

- 485584135997. 1
- 485584135998. 2
- 485584135999. 3
- 485584136000. 4



Question Number : 456 Question Id : 48558434001 Question Type : MCQ Option Shuffling : No Is Question Mandatory : No Calculator : None Response Time : N.A Think Time : N.A Minimum Instruction Time : 0

Correct Marks : 5 Wrong Marks : 1

Question Key Details :

Key	Value
Comprehension	MCQ

A person walks from his house to his office at a speed of  $x_1$  km/hr and returns by the same route at a speed of  $x_2$  km/hr. What is his average speed?

1.  $\frac{x_1 + x_2}{2}$

2.  $\frac{x_1 + x_2}{2x_1x_2}$

3.  $\frac{2x_1x_2}{x_1 + x_2}$

4.  $\frac{x_1 + x_2}{x_1x_2}$

Options :

485584136001. 1

485584136002. 2

485584136003. 3

485584136004. 4

Question Number : 456 Question Id : 48558434001 Question Type : MCQ Option Shuffling : No Is Question Mandatory : No Calculator : None Response Time : N.A Think Time : N.A Minimum Instruction Time : 0

Correct Marks : 5 Wrong Marks : 1

Question Key Details :

Key	Value
Comprehension	MCQ

एक व्यक्ति अपने घर से अपने कार्यालय  $x_1$  किमी/घण्टा की गति से पैदल जाता है और उसी मार्ग से  $x_2$  किमी/घण्टा की गति से वापस लौटता है तो उसकी औसत गति क्या होगी?

1.  $\frac{x_1 + x_2}{2}$

2.  $\frac{x_1 + x_2}{2x_1x_2}$

3.  $\frac{2x_1x_2}{x_1 + x_2}$

4.  $\frac{x_1 + x_2}{x_1x_2}$

Options :

485584136001. 1

485584136002. 2  
485584136003. 3  
485584136004. 4

**Question Number : 457 Question Id : 48558434002 Question Type : MCQ Option Shuffling : No Is Question Mandatory : No Calculator : None Response Time : N.A Think Time : N.A Minimum Instruction Time : 0**

**Correct Marks : 5 Wrong Marks : 1**

**Question Key Details :**

Key	Value
Comprehension	MCQ

A thief is spotted by a policeman from a distance of 100m. when the policeman starts the chase, the thief also starts running. If the speed of the thief be 8 km/hr and that of the policeman 10 km/hr, how far the thief will have run before he is overtaken ?

1. 100 m
2. 200 m
3. 400 m
4. 500 m

**Options :**

485584136005. 1  
485584136006. 2  
485584136007. 3  
485584136008. 4

**Question Number : 457 Question Id : 48558434002 Question Type : MCQ Option Shuffling : No Is Question Mandatory : No Calculator : None Response Time : N.A Think Time : N.A Minimum Instruction Time : 0**

**Correct Marks : 5 Wrong Marks : 1**

**Question Key Details :**

Key	Value
Comprehension	MCQ

एक पुलिसमैन 100 m की दूरी से एक चोर की स्थिति को पहचानता है। जब पुलिसमैन उसका पीछा करना शुरू करता है तो चोर भी दौड़ना शुरू कर देता है। यदि चोर की गति 8 कि. मी./घंटा और पुलिसमैन की गति 10 कि. मी./घंटा है, पकड़े जाने से पूर्व चोर कितनी दूर जा चुका होगा?

1. 100 मी.
2. 200 मी.
3. 400 मी.
4. 500 मी.

**Options :**

485584136005. 1  
485584136006. 2  
485584136007. 3  
485584136008. 4

Question Number : 458 Question Id : 48558434003 Question Type : MCQ Option Shuffling : No Is Question Mandatory : No Calculator : None Response Time : N.A Think Time : N.A Minimum Instruction Time : 0

Correct Marks : 5 Wrong Marks : 1

Question Key Details :

Key	Value
Comprehension	MCQ

The perimeter of a square and a regular hexagon are equal. The ratio of the area of the hexagon to the area of the square is:

1.  $2\sqrt{3} : 1$

2.  $2 : \sqrt{3}$

3.  $3\sqrt{3} : 2$

4.  $\sqrt{2} : 3$

Options :

485584136009. 1

485584136010. 2

485584136011. 3

485584136012. 4

Question Number : 458 Question Id : 48558434003 Question Type : MCQ Option Shuffling : No Is Question Mandatory : No Calculator : None Response Time : N.A Think Time : N.A Minimum Instruction Time : 0

Correct Marks : 5 Wrong Marks : 1

Question Key Details :

Key	Value
Comprehension	MCQ

एक वर्ग और षटभुज की परिमाप समान है। तब षटभुज के क्षेत्रफल का वर्ग के क्षेत्रफल से अनुपात है:

1.  $2\sqrt{3} : 1$

2.  $2 : \sqrt{3}$

3.  $3\sqrt{3} : 2$

4.  $\sqrt{2} : 3$

Options :

485584136009. 1

485584136010. 2

485584136011. 3

485584136012. 4

Question Number : 459 Question Id : 48558434004 Question Type : MCQ Option Shuffling : No Is Question Mandatory : No Calculator : None Response Time : N.A Think Time : N.A Minimum Instruction Time : 0

Correct Marks : 5 Wrong Marks : 1

Question Key Details :

Key	Value
Comprehension	MCQ

The radius of the wheel of a vehicle is 35cm. The wheel makes 10 revolutions in 6 seconds. The speed of the vehicle is:

1. 70 km/hr
2. 13.2 km/hr
3. 17.5 km/hr
4. 20 km/hr

**Options :**

485584136013. 1  
485584136014. 2  
485584136015. 3  
485584136016. 4

**Question Number : 459 Question Id : 48558434004 Question Type : MCQ Option Shuffling : No Is Question Mandatory : No Calculator : None Response Time : N.A Think Time : N.A Minimum Instruction Time : 0**

**Correct Marks : 5 Wrong Marks : 1**

**Question Key Details :**

Key	Value
Comprehension	MCQ

एक वाहन के पहिए का अर्द्धव्यास 35 cm है। पहिया 06 सेकंड में 10 चक्कर पूरे करता है। पहिए की गति है -

1. 70 कि. मी./घंटा
2. 13.2 कि. मी./घंटा
3. 17.5 कि. मी./घंटा
4. 20 कि. मी./घंटा

**Options :**

485584136013. 1  
485584136014. 2  
485584136015. 3  
485584136016. 4

**Question Number : 460 Question Id : 48558434005 Question Type : MCQ Option Shuffling : No Is Question Mandatory : No Calculator : None Response Time : N.A Think Time : N.A Minimum Instruction Time : 0**

**Correct Marks : 5 Wrong Marks : 1**

**Question Key Details :**

Key	Value
Comprehension	MCQ

A sum of money triples it self in 3 years at compound interest. In how many years will it becomes 9 times

1. 9 years
2. 6 years
3. 12 years
4. 5 years

**Options :**

485584136017. 1  
485584136018. 2  
485584136019. 3  
485584136020. 4

**Question Number : 460 Question Id : 48558434005 Question Type : MCQ Option Shuffling : No Is Question Mandatory : No Calculator : None Response Time : N.A Think Time : N.A Minimum Instruction Time : 0**

**Correct Marks : 5 Wrong Marks : 1**

**Question Key Details :**

Key	Value
Comprehension	MCQ

एक धनराशि तीन वर्ष में चक्रवृद्धि ब्याज दर से अपने से तीन गुनी हो जाती है। कितने वर्षों में यह नौ गुनी हो जाएगी?

1. 9 वर्ष
2. 6 वर्ष
3. 12 वर्ष
4. 5 वर्ष

**Options :**

485584136017. 1  
485584136018. 2  
485584136019. 3  
485584136020. 4

**Question Number : 461 Question Id : 48558434006 Question Type : MCQ Option Shuffling : No Is Question Mandatory : No Calculator : None Response Time : N.A Think Time : N.A Minimum Instruction Time : 0**

**Correct Marks : 5 Wrong Marks : 1**

**Question Key Details :**

Key	Value
Comprehension	MCQ

Aman got 30% of the maximum marks in an examination and failed by 15% marks. However, Anil who took the same examination got 40% of the total marks and got 10 marks more than the passing marks. What were the passing marks in the examination?

1. 85
2. 90
3. 95
4. 100

**Options :**

485584136021. 1  
485584136022. 2  
485584136023. 3  
485584136024. 4

**Question Number : 461 Question Id : 48558434006 Question Type : MCQ Option Shuffling : No Is Question Mandatory : No Calculator : None Response Time : N.A Think Time : N.A Minimum Instruction Time : 0**

**Correct Marks : 5 Wrong Marks : 1**

**Question Key Details :**

Key	Value
Comprehension	MCQ

एक परीक्षा में अमन ने अधिकतम अंकों में से 30% अंक प्राप्त किए और 15 अंकों से अनुत्तीर्ण हो गया। अनील ने उसी परीक्षा में 40% अंक प्राप्त किए जो 'उत्तीर्ण होने योग्य अंकों' से 10 अधिक थे। परीक्षा में उत्तीर्ण होने के लिए कितने अंक (आवश्यक) थे।

1. 85
2. 90
3. 95
4. 100

**Options :**

485584136021. 1  
485584136022. 2  
485584136023. 3  
485584136024. 4

**Question Number : 462 Question Id : 48558434007 Question Type : MCQ Option Shuffling : No Is Question Mandatory : No Calculator : None Response Time : N.A Think Time : N.A Minimum Instruction Time : 0**

**Correct Marks : 5 Wrong Marks : 1**

**Question Key Details :**

Key	Value
Comprehension	MCQ

Akriti buys a smartphone for ₹12,500. If she wants to profit of 30%, how much should she charge for the smartphone?

1. 16000
2. 14375
3. 16250
4. 15400

**Options :**

485584136025. 1  
485584136026. 2  
485584136027. 3  
485584136028. 4

**Question Number : 462 Question Id : 48558434007 Question Type : MCQ Option Shuffling : No Is Question Mandatory : No Calculator : None Response Time : N.A Think Time : N.A Minimum Instruction Time : 0**

**Correct Marks : 5 Wrong Marks : 1**

**Question Key Details :**

Key	Value
Comprehension	MCQ

आकृति एक स्मार्टफोन 12,5000/- रुपए में खरीदती है। यदि वह इस पर 30 % लाभ चाहती है, तो उसे इस स्मार्ट फोन के लिए कितने रूपए में बचना चाहिए।

1. 16000
2. 14375
3. 16250
4. 15400

**Options :**

485584136025. 1  
485584136026. 2  
485584136027. 3  
485584136028. 4

**Question Number : 463 Question Id : 48558434008 Question Type : MCQ Option Shuffling : No Is Question Mandatory : No Calculator : None Response Time : N.A Think Time : N.A Minimum Instruction Time : 0**

**Correct Marks : 5 Wrong Marks : 1**

**Question Key Details :**

Key	Value
Comprehension	MCQ

₹4200 are divided among 'P', 'Q', 'R' and 'S' in such a way that the shares of 'P' and 'Q', 'Q' and 'R' as well 'R' and 'S' are in the ratios of 2:3, 4:5 and 6:7 resp. ectively the share of 'P' is:

1. ₹ 600
2. ₹ 640
3. ₹ 1280
4. ₹ 1480

**Options :**

485584136029. 1  
485584136030. 2  
485584136031. 3  
485584136032. 4

**Question Number : 463 Question Id : 48558434008 Question Type : MCQ Option Shuffling : No Is Question Mandatory : No Calculator : None Response Time : N.A Think Time : N.A Minimum Instruction Time : 0**

**Correct Marks : 5 Wrong Marks : 1**

**Question Key Details :**

Key	Value
Comprehension	MCQ

₹4200 को 'P', 'Q', 'R' और 'S' में इस प्रकार बाँटा जाता है कि 'P' और 'Q', 'Q' और 'R' तथा 'R' और 'S' के भाग का अनुपात क्रमशः 2:3, 4:5 और 6:7 है। 'P' का भाग है।

1. ₹ 600
2. ₹ 640
3. ₹ 1280
4. ₹ 1480

**Options :**

485584136029. 1  
485584136030. 2  
485584136031. 3  
485584136032. 4

**Question Number : 464 Question Id : 48558434009 Question Type : MCQ Option Shuffling : No Is Question Mandatory : No Calculator : None Response Time : N.A Think Time : N.A Minimum Instruction Time : 0**

**Correct Marks : 5 Wrong Marks : 1**

**Question Key Details :**

Key	Value
Comprehension	MCQ



Work done by A in one day is half of the work done by B in one day. Work done by B is half of the work done by C in one day. If C alone can do the work in 7 days, then in how many days can A, B and C together complete the work?

- 1. 4
- 2. 14
- 3. 21
- 4. 28

**Options :**

- 485584136033. 1
- 485584136034. 2
- 485584136035. 3
- 485584136036. 4

**Question Number : 464 Question Id : 48558434009 Question Type : MCQ Option Shuffling : No Is Question Mandatory : No Calculator : None Response Time : N.A Think Time : N.A Minimum Instruction Time : 0**

**Correct Marks : 5 Wrong Marks : 1**

**Question Key Details :**

Key	Value
Comprehension	MCQ

A के द्वारा एक दिन में किया गया कार्य 'B' द्वारा एक दिन में किए गए कार्य से आधा है। 'B' द्वारा एक दिन में किया गया कार्य 'C' द्वारा एक दिन में किए गए कार्य से आधा है। यदि 'C' अकेला किसी काम को 07 दिन में कर सकता है; तो A, B और C साथ मिलकर इस कार्य को कितने दिन में कर सकते हैं।

- 1. 4
- 2. 14
- 3. 21
- 4. 28

**Options :**

- 485584136033. 1
- 485584136034. 2
- 485584136035. 3
- 485584136036. 4

**Question Number : 465 Question Id : 48558434010 Question Type : MCQ Option Shuffling : No Is Question Mandatory : No Calculator : None Response Time : N.A Think Time : N.A Minimum Instruction Time : 0**

**Correct Marks : 5 Wrong Marks : 1**

**Question Key Details :**

Key	Value
Comprehension	MCQ

A pair of dice is thrown and sum of the numbers on two tosses is observed. Which of the statements are correct

A. Probability of getting sum as 11 is  $\frac{1}{18}$

B. Probability of getting sum as 5 is  $\frac{1}{12}$

C. Probability of getting sum as 7 is  $\frac{1}{6}$

D. Probability of getting sum as 6 is  $\frac{1}{9}$

Choose the correct answer from the options given below:

1. A and C Only
2. A and B Only
3. A, C, D Only
4. A and C Only

**Options :**

485584136037. 1

485584136038. 2

485584136039. 3

485584136040. 4

**Question Number : 465 Question Id : 48558434010 Question Type : MCQ Option Shuffling : No Is Question Mandatory : No Calculator : None Response Time : N.A Think Time : N.A Minimum Instruction Time : 0**

**Correct Marks : 5 Wrong Marks : 1**

**Question Key Details :**

Key	Value
Comprehension	MCQ

पासों (DICE) का जोड़ा फेंका जाता है और दो बार के टॉस की संख्याओं के योग का अवलोकन किया जाता है। निम्न में से कौन-से कथन सत्य है?

- A. योग 11 प्राप्त करने की प्रायिकता है  $\frac{1}{18}$
- B. योग 05 प्राप्त करने की प्रायिकता है  $\frac{1}{12}$
- C. योग 07 प्राप्त करने की प्रायिकता है  $\frac{1}{6}$
- D. योग 06 प्राप्त करने की प्रायिकता है  $\frac{1}{9}$

नीचे दिए गए विकल्पों में से सही उत्तर दीजिए :

1. केवल A और C
2. केवल A और B
3. केवल A, C और D
4. केवल A और C

**Options :**

- 485584136037. 1
- 485584136038. 2
- 485584136039. 3
- 485584136040. 4

**Question Number : 466 Question Id : 48558434011 Question Type : MCQ Option Shuffling : No Is Question Mandatory : No Calculator : None Response Time : N.A Think Time : N.A Minimum Instruction Time : 0**

**Correct Marks : 5 Wrong Marks : 1**

**Question Key Details :**

Key	Value
Comprehension	MCQ

The value of the sum of 10 term of the series

$$S_{10} = \frac{1}{2^2 - 1} + \frac{1}{4^2 - 1} + \frac{1}{6^2 - 1} + \dots \text{ is}$$

1.  $\frac{11}{21}$
2.  $\frac{9}{10}$
3.  $\frac{21}{10}$
4.  $\frac{10}{21}$

**Options :**

- 485584136041. 1
- 485584136042. 2
- 485584136043. 3
- 485584136044. 4

**Question Number : 466 Question Id : 48558434011 Question Type : MCQ Option Shuffling : No Is Question Mandatory : No Calculator : None Response Time : N.A Think Time : N.A Minimum Instruction Time : 0**

**Correct Marks : 5 Wrong Marks : 1**

**Question Key Details :**

Key	Value
Comprehension	MCQ

निचे दी गई श्रेणी के दस पदों के योग का मान \_\_\_\_\_ है।

$$S_{10} = \frac{1}{2^2 - 1} + \frac{1}{4^2 - 1} + \frac{1}{6^2 - 1} + \dots$$

1.  $\frac{11}{21}$

2.  $\frac{9}{10}$

3.  $\frac{21}{10}$

4.  $\frac{10}{21}$

**Options :**

- 485584136041. 1
- 485584136042. 2
- 485584136043. 3
- 485584136044. 4

**Question Number : 467 Question Id : 48558434012 Question Type : MCQ Option Shuffling : No Is Question Mandatory : No Calculator : None Response Time : N.A Think Time : N.A Minimum Instruction Time : 0**

**Correct Marks : 5 Wrong Marks : 1**

**Question Key Details :**

Key	Value
Comprehension	MCQ

Diameter of sphere is 28 cm Find out its surface area?

1.  $2464 \text{ cm}^2$

2.  $11498 \text{ cm}^2$

3.  $2490 \text{ cm}^2$

4.  $2260 \text{ cm}^2$

**Options :**

- 485584136045. 1
- 485584136046. 2
- 485584136047. 3
- 485584136048. 4

**Question Number : 467 Question Id : 48558434012 Question Type : MCQ Option Shuffling : No Is Question Mandatory : No Calculator : None Response Time : N.A Think Time : N.A Minimum Instruction Time : 0**

**Correct Marks : 5 Wrong Marks : 1**

**Question Key Details :**

Key	Value
Comprehension	MCQ

एक गोले का व्यास 28 से.मी. है। इसका पृष्ठीय क्षेत्रफल ज्ञात कीजिए।

- 1. 2464 से.मी.<sup>2</sup>
- 2. 11498 से.मी.<sup>2</sup>
- 3. 2490 से.मी.<sup>2</sup>
- 4. 2260 से.मी.<sup>2</sup>

**Options :**

- 485584136045. 1
- 485584136046. 2
- 485584136047. 3
- 485584136048. 4

**Question Number : 468 Question Id : 48558434013 Question Type : MCQ Option Shuffling : No Is Question Mandatory : No Calculator : None Response Time : N.A Think Time : N.A Minimum Instruction Time : 0**

**Correct Marks : 5 Wrong Marks : 1**

**Question Key Details :**

Key	Value
Comprehension	MCQ

Which two numbers are both square and cube numbers?

- 1. 1 and 8
- 2. 8 and 27
- 3. 27 and 64
- 4. 1 and 64

**Options :**

- 485584136049. 1
- 485584136050. 2
- 485584136051. 3
- 485584136052. 4

**Question Number : 468 Question Id : 48558434013 Question Type : MCQ Option Shuffling : No Is Question Mandatory : No Calculator : None Response Time : N.A Think Time : N.A Minimum Instruction Time : 0**

Correct Marks : 5 Wrong Marks : 1

Question Key Details :

Key	Value
Comprehension	MCQ

कौन-से दो नम्बर वर्ग और घन संख्याएँ दोनों है ?

- 1 और 8
- 8 और 27
- 27 और 64
- 1 और 64

Options :

485584136049. 1  
485584136050. 2  
485584136051. 3  
485584136052. 4

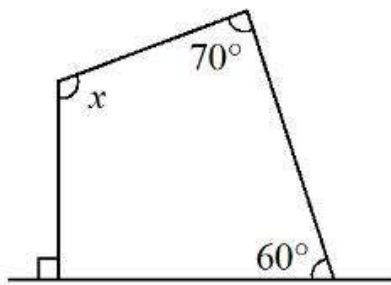
Question Number : 469 Question Id : 48558434014 Question Type : MCQ Option Shuffling : No Is Question Mandatory : No Calculator : None Response Time : N.A Think Time : N.A Minimum Instruction Time : 0

Correct Marks : 5 Wrong Marks : 1

Question Key Details :

Key	Value
Comprehension	MCQ

In the given figure the value of angle 'x' is \_\_\_\_\_



1.  $130^\circ$
2.  $120^\circ$
3.  $140^\circ$
4.  $110^\circ$

Options :

485584136053. 1  
485584136054. 2  
485584136055. 3  
485584136056. 4

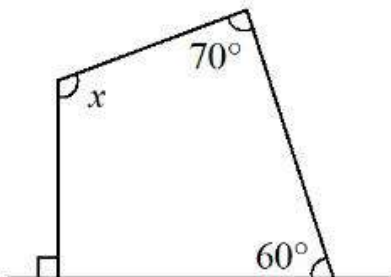
Question Number : 469 Question Id : 48558434014 Question Type : MCQ Option Shuffling : No Is Question Mandatory : No Calculator : None Response Time : N.A Think Time : N.A Minimum Instruction Time : 0

Correct Marks : 5 Wrong Marks : 1

Question Key Details :

Key	Value
Comprehension	MCQ

दिए गए चित्र में 'x' का मान \_\_\_\_\_ है।



1.  $130^\circ$
2.  $120^\circ$
3.  $140^\circ$
4.  $110^\circ$

Options :

- 485584136053. 1
- 485584136054. 2
- 485584136055. 3
- 485584136056. 4

Question Number : 470 Question Id : 48558434015 Question Type : MCQ Option Shuffling : No Is Question Mandatory : No Calculator : None Response Time : N.A Think Time : N.A Minimum Instruction Time : 0

Correct Marks : 5 Wrong Marks : 1

Question Key Details :

Key	Value
Comprehension	MCQ

How many words with or without meaning, can be formed by using all the letters of the word "DELHI", using each letter exactly once?

1. 12
2. 50
3. 60
4. 10

Options :

- 485584136057. 1
- 485584136058. 2
- 485584136059. 3
- 485584136060. 4

**Question Number : 470 Question Id : 48558434015 Question Type : MCQ Option Shuffling : No Is Question Mandatory : No Calculator : None Response Time : N.A Think Time : N.A Minimum Instruction Time : 0 Correct Marks : 5 Wrong Marks : 1**

**Question Key Details :**

Key	Value
Comprehension	MCQ

कितने सार्थक अथवा निरर्थक शब्द, 'DELHI' शब्द के अक्षरों का उपयोग करके बनाए जा सकते हैं, एक अक्षर का उपयोग अगर एक बार होगा?

1. 12
2. 50
3. 60
4. 10

**Options :**

- 485584136057. 1
- 485584136058. 2
- 485584136059. 3
- 485584136060. 4

**Question Number : 471 Question Id : 48558434016 Question Type : MCQ Option Shuffling : No Is Question Mandatory : No Calculator : None Response Time : N.A Think Time : N.A Minimum Instruction Time : 0 Correct Marks : 5 Wrong Marks : 1**

**Question Key Details :**

Key	Value
Comprehension	MCQ

If UPKAR is coded as UOQJLAQS, then the code for HONEY will be:

1. HIOMOXZA
2. GIOMEOXY
3. GIOMOEXZ
4. HIOMOEXZ

**Options :**

- 485584136061. 1
- 485584136062. 2
- 485584136063. 3
- 485584136064. 4

**Question Number : 471 Question Id : 48558434016 Question Type : MCQ Option Shuffling : No Is Question Mandatory : No Calculator : None Response Time : N.A Think Time : N.A Minimum Instruction Time : 0 Correct Marks : 5 Wrong Marks : 1**

**Question Key Details :**

Key	Value
Comprehension	MCQ



यदि UPKAR को लिखा जाए UOQJLAQS, तब HONEY को लिखा जाएगा :

1. HIOMOXZA
2. GIOMEOXY
3. GIOMOEXZ
4. HIOMOEXZ

**Options :**

485584136061. 1  
485584136062. 2  
485584136063. 3  
485584136064. 4

**Question Number : 472 Question Id : 48558434017 Question Type : MCQ Option Shuffling : No Is Question Mandatory : No Calculator : None Response Time : N.A Think Time : N.A Minimum Instruction Time : 0**

**Correct Marks : 5 Wrong Marks : 1**

**Question Key Details :**

Key	Value
Comprehension	MCQ

STATEMENT: Covid-19 is a pandemic issue now.

ASSUMPTIONS:

- I. Government should work towards complete vaccination of the population.
  - II. Covid-19 upcoming variants are not fatal and should be treated as normal flu.
1. Only Assumption I is implicit
  2. Only Assumption II is implicit
  3. neither Assumption I nor Assumption II is implicit
  4. Both Assumption I and Assumption II are implicit

**Options :**

485584136065. 1  
485584136066. 2  
485584136067. 3  
485584136068. 4

**Question Number : 472 Question Id : 48558434017 Question Type : MCQ Option Shuffling : No Is Question Mandatory : No Calculator : None Response Time : N.A Think Time : N.A Minimum Instruction Time : 0**

**Correct Marks : 5 Wrong Marks : 1**

**Question Key Details :**

Key	Value
Comprehension	MCQ

कथन: कोविड-19 अब एक महामारी का विषम है।

अवधारणाएँ :

- I. सरकार को लोगों के संपूर्ण टीकाकरण पर कार्य करना चाहिए।
- II. कोविड- 19 का आने वाले वैरिएंट घातक नहीं है और साधारण फ्लू की तरह समझना चाहिए।

1. केवल अवधारणा I लागू है
2. केवल अवधारणा II लागू है
3. अवधारणा I और II दोनों लागू नहीं है
4. दोनों अवधारणाएँ I और II लागू है

**Options :**

485584136065. 1
485584136066. 2
485584136067. 3
485584136068. 4

**Question Number : 473 Question Id : 48558434018 Question Type : MCQ Option Shuffling : No Is Question Mandatory : No Calculator : None Response Time : N.A Think Time : N.A Minimum Instruction Time : 0**

**Correct Marks : 5 Wrong Marks : 1**

**Question Key Details :**

Key	Value
Comprehension	MCQ

Mark the correct option based on the statement and conclusion that follows

Statements

- A. All states having Rain Water Harvesting face no water problem.
- B. One of the states has still not applied Rain Water Harvesting policy

Conclusions:

- I. It may be facing water problem
- II. Rain Water Harvesting solve water problem.

1. Only conclusion I follows
2. Only conclusion II follows
3. Both conclusion I and II follows

4. Neither conclusion I nor II follows

**Options :**

485584136069. 1
485584136070. 2

485584136071. 3

485584136072. 4

**Question Number : 473 Question Id : 48558434018 Question Type : MCQ Option Shuffling : No Is Question Mandatory : No Calculator : None Response Time : N.A Think Time : N.A Minimum Instruction Time : 0**

**Correct Marks : 5 Wrong Marks : 1**

**Question Key Details :**

Key	Value
Comprehension	MCQ

निम्नलिखित कथन और निष्कर्ष के आधार पर सही विकल्प चुनिए :

कथन

- A. सभी राज्य जो वर्षा जल संग्रहण करते हैं जल समस्या का सामना नहीं करते।  
B. एक राज्य ने अभी तक वर्षा जल संग्रहण नीति को लागू नहीं किया है।

निष्कर्ष :

- I. यह जल प्रदूषण की समस्या का सामना कर सकता है।  
II. वर्षा जल संग्रहण जल की समस्या को हल करता है।

- केवल निष्कर्ष I अनुसरण करता है।
- केवल निष्कर्ष II अनुसरण करता है।
- दोनों निष्कर्ष I और II अनुसरण करते हैं
- दोनों निष्कर्ष I और II अनुसरण नहीं करते हैं

**Options :**

485584136069. 1

485584136070. 2

485584136071. 3

485584136072. 4

**Question Number : 474 Question Id : 48558434019 Question Type : MCQ Option Shuffling : No Is Question Mandatory : No Calculator : None Response Time : N.A Think Time : N.A Minimum Instruction Time : 0**

**Correct Marks : 5 Wrong Marks : 1**

**Question Key Details :**

Key	Value
Comprehension	MCQ

Identify the next number from the following series 36,40, 48, 60, 76 ?

1. 94
2. 98
3. 92
4. 96

**Options :**

485584136073. 1  
485584136074. 2  
485584136075. 3  
485584136076. 4

**Question Number : 474 Question Id : 48558434019 Question Type : MCQ Option Shuffling : No Is Question Mandatory : No Calculator : None Response Time : N.A Think Time : N.A Minimum Instruction Time : 0**

**Correct Marks : 5 Wrong Marks : 1**

**Question Key Details :**

Key	Value
Comprehension	MCQ

निम्नलिखित श्रृंखला में आगामी अंक की पहचान कीजिए 36,40, 48, 60, 76 ?

1. 94
2. 98
3. 92
4. 96

**Options :**

485584136073. 1  
485584136074. 2  
485584136075. 3  
485584136076. 4

**Question Number : 475 Question Id : 48558434020 Question Type : MCQ Option Shuffling : No Is Question Mandatory : No Calculator : None Response Time : N.A Think Time : N.A Minimum Instruction Time : 0**

**Correct Marks : 5 Wrong Marks : 1**

**Question Key Details :**

Key	Value
Comprehension	MCQ

What will be the measurement of the angle made by the hands at 18 min past 5?

1.  $52^\circ$
2.  $51^\circ$
3.  $50^\circ$
4.  $49^\circ$

**Options :**

485584136077. 1  
485584136078. 2  
485584136079. 3  
485584136080. 4

**Question Number : 475 Question Id : 48558434020 Question Type : MCQ Option Shuffling : No Is Question Mandatory : No Calculator : None Response Time : N.A Think Time : N.A Minimum Instruction Time : 0**

**Correct Marks : 5 Wrong Marks : 1**

**Question Key Details :**

Key	Value
Comprehension	MCQ

5 बजकर में 18 मिनट पर घड़ी की घण्टे और मिनट की सूइयों द्वारा बनाया गया कोण क्या होगा?

1.  $52^\circ$
2.  $51^\circ$
3.  $50^\circ$
4.  $49^\circ$

**Options :**

485584136077. 1  
485584136078. 2  
485584136079. 3  
485584136080. 4

**Question Number : 476 Question Id : 48558434021 Question Type : MCQ Option Shuffling : No Is Question Mandatory : No Calculator : None Response Time : N.A Think Time : N.A Minimum Instruction Time : 0**

**Correct Marks : 5 Wrong Marks : 1**

**Question Key Details :**

Key	Value
Comprehension	MCQ

Hear is to Deaf as Speak it to

1. Quite
2. Silent
3. Mumb or Mum
4. Dumb

**Options :**

485584136081. 1  
485584136082. 2  
485584136083. 3  
485584136084. 4

**Question Number : 476 Question Id : 48558434021 Question Type : MCQ Option Shuffling : No Is Question Mandatory : No Calculator : None Response Time : N.A Think Time : N.A Minimum Instruction Time : 0**

**Correct Marks : 5 Wrong Marks : 1**

**Question Key Details :**

Key	Value
Comprehension	MCQ

अगर सुनना मतलब बहरा है तो बोलना मतलब:

1. चुप
2. शांत
3. मूक
4. गूंगा

**Options :**

485584136081. 1  
485584136082. 2  
485584136083. 3  
485584136084. 4

**Question Number : 477 Question Id : 48558434022 Question Type : MCQ Option Shuffling : No Is Question Mandatory : No Calculator : None Response Time : N.A Think Time : N.A Minimum Instruction Time : 0**

**Correct Marks : 5 Wrong Marks : 1**

**Question Key Details :**

Key	Value
Comprehension	MCQ

Given below are two statements: one is labelled as Assertion A and the other is labelled as Reason R.

**Assertion A :** The sun rises 2 hours later in Gujrat as compared to Arunachal Pradesh, but watches shows the same time.

**Reason R :** The longitudinal gap between Arunachal Pradesh and Gujrat is about 30 degrees but at the same time India has adopted Indian Standard time which is at 82.5° West.

In the light of the above statements, choose the most appropriate answer from the options given below:

1. Both A and R are correct and R is the correct explanation of A
2. Both A and R are correct but R is NOT the correct explanation of A
3. A is correct but R is not correct
4. A is not correct but R is correct

**Options :**

485584136085. 1  
485584136086. 2  
485584136087. 3  
485584136088. 4

**Question Number : 477 Question Id : 48558434022 Question Type : MCQ Option Shuffling : No Is Question Mandatory : No Calculator : None Response Time : N.A Think Time : N.A Minimum Instruction Time : 0**

**Correct Marks : 5 Wrong Marks : 1**

**Question Key Details :**

Key	Value
Comprehension	MCQ

नीचे दो कथन दिए हैं: एक अभिकथन (Assertion A) के रूप में लिखित है तो दूसरा उसके कारण (Reason R) के रूप में;

**अभिकथन A:** अरुणाचल प्रदेश की तुलना में गुजरात में सूर्योदय 2 घण्टे बाद में होता है, लेकिन घड़ियाँ समान समय दर्शाती है।

**कारण R:** अरुणाचल प्रदेश और गुजरात के मध्य देशांतरिय दूरी लगभग 30 डिग्री है किन्तु समान समय के लिए भारतीय मानक समय को अपनाया गया है जो 82.5° पश्चिम है।

उपरोक्त कथनों के आलोक में, नीचे दिए गए विकल्पों में से सबसे उपयुक्त उत्तर का चयन कीजिए

1. A और R दोनों सही हैं और R, A की सही व्याख्या है
2. A और R दोनों गलत हैं और R, A की सही व्याख्या नहीं है
3. A सही है लेकिन R सही नहीं है
4. A सही नहीं है लेकिन R सही है

**Options :**

485584136085. 1  
485584136086. 2  
485584136087. 3  
485584136088. 4

**Question Number : 478 Question Id : 48558434023 Question Type : MCQ Option Shuffling : No Is Question Mandatory : No Calculator : None Response Time : N.A Think Time : N.A Minimum Instruction Time : 0**

**Correct Marks : 5 Wrong Marks : 1**

**Question Key Details :**

Key	Value
Comprehension	MCQ

K is more beautiful than B. B is not as beautiful as Y. J is not beautiful as B or Y. The least beautiful among all is:

1. B
2. Y
3. J
4. K

**Options :**

485584136089. 1  
485584136090. 2  
485584136091. 3  
485584136092. 4

**Question Number : 478 Question Id : 48558434023 Question Type : MCQ Option Shuffling : No Is Question Mandatory : No Calculator : None Response Time : N.A Think Time : N.A Minimum Instruction Time : 0**

**Correct Marks : 5 Wrong Marks : 1**

**Question Key Details :**

Key	Value
Comprehension	MCQ

K अधिक सुंदर है B से। B इतना सुंदर नहीं जितना Y है। J इतना सुंदर नहीं है जितना B और Y। इन सभी में से कम सुंदर है :

1. B
2. Y
3. J
4. K

**Options :**

485584136089. 1  
485584136090. 2  
485584136091. 3  
485584136092. 4

**Question Number : 479 Question Id : 48558434024 Question Type : MCQ Option Shuffling : No Is Question Mandatory :**



No Calculator : None Response Time : N.A Think Time : N.A Minimum Instruction Time : 0

Correct Marks : 5 Wrong Marks : 1

Question Key Details :

Key	Value
Comprehension	MCQ

I introduced a lady "she is the mother of the only daughter of my son's father in law. how is she related to me:

- A. She is my sister
- B. She is the mother in law of my son
- C. She is my son's aunt
- D. She is the wife of my son's father in law
- E. She is my mother

Choose the correct answer from the options given below:

- 1. A, C, D Only
- 2. B, C, D Only
- 3. A, D, E Only
- 4. B, D Only

Options :

- 485584136093. 1
- 485584136094. 2
- 485584136095. 3
- 485584136096. 4

Question Number : 479 Question Id : 48558434024 Question Type : MCQ Option Shuffling : No Is Question Mandatory : No Calculator : None Response Time : N.A Think Time : N.A Minimum Instruction Time : 0

Correct Marks : 5 Wrong Marks : 1

Question Key Details :

Key	Value
Comprehension	MCQ

मैं एक महिला का परिचय देता हूँ, वह मेरे बेटे के ससुर की इकलौती बेटी की माँ है। वह मुझसे किस प्रकार संबंधित है ?

- A. वह मेरी बहन है
- B. वह मेरे बेटे की सास है
- C. वह मेरे बेटे की आंटी है
- D. वह मेरे बेटे के ससुर की पत्नी है
- E. वह मेरी माँ है

नीचे दिए गए विकल्पों में से सही उत्तर का चयन कीजिए :

- 1. केवल A, C, D
- 2. केवल B, C, D
- 3. केवल A, D, E
- 4. केवल B, D

**Options :**

- 485584136093. 1
- 485584136094. 2
- 485584136095. 3
- 485584136096. 4

**Question Number : 480 Question Id : 48558434025 Question Type : MCQ Option Shuffling : No Is Question Mandatory : No Calculator : None Response Time : N.A Think Time : N.A Minimum Instruction Time : 0**

**Correct Marks : 5 Wrong Marks : 1**

**Question Key Details :**

Key	Value
Comprehension	MCQ

In the statements below study the question asked and decide which of the following statement is/are necessary to answer the question:

Find the present salary of Arvind:

- I. The salary increase every year by 15%
- II. The salary at the time of joining was ₹18,000
- III. He has joined the company exactly 10 years ago.

Which statement(s) are necessary

- 1. I and II only
- 2. II and III only
- 3. I and III only
- 4. all I, II, and III necessary

**Options :**

- 485584136097. 1

485584136098. 2  
485584136099. 3  
485584136100. 4

**Question Number : 480 Question Id : 48558434025 Question Type : MCQ Option Shuffling : No Is Question Mandatory : No Calculator : None Response Time : N.A Think Time : N.A Minimum Instruction Time : 0**

**Correct Marks : 5 Wrong Marks : 1**

**Question Key Details :**

Key	Value
Comprehension	MCQ

नीचे दिए कथनों में, पूछे गए प्रश्न का अध्ययन करें और निर्णय करें कि उत्तर देने के लिए निम्नलिखित कथन/कथनों में से कौन आवश्यक हैं ?

अरविन्द का वर्तमान वेतन ज्ञात कीजिए :

- I. वेतन प्रतिवर्ष 15% बढ़ता है ।
- II. कंपनी में प्रवेश के समय वेतन था - ₹18,000
- III. उसने कंपनी ज्वाइन की थी - 10 वर्ष पूर्व

कौन-से कथन सत्य हैं।

1. केवल I और II
2. केवल II और III
3. केवल I और III
4. सभी I I, II, और III आवश्यक हैं।

**Options :**

485584136097. 1  
485584136098. 2  
485584136099. 3  
485584136100. 4

**Question Number : 481 Question Id : 48558434026 Question Type : MCQ Option Shuffling : No Is Question Mandatory : No Calculator : None Response Time : N.A Think Time : N.A Minimum Instruction Time : 0**

**Correct Marks : 5 Wrong Marks : 1**

**Question Key Details :**

Key	Value
Comprehension	MCQ

Which does not belong to the others

1. Key Board
2. Windows
3. Hard Drive
4. CPU

**Options :**

485584136101. 1  
485584136102. 2  
485584136103. 3  
485584136104. 4

**Question Number : 481 Question Id : 48558434026 Question Type : MCQ Option Shuffling : No Is Question Mandatory : No Calculator : None Response Time : N.A Think Time : N.A Minimum Instruction Time : 0**

**Correct Marks : 5 Wrong Marks : 1**

**Question Key Details :**

Key	Value
Comprehension	MCQ

जो अन्य से सम्बन्धित नहीं है।

1. की बोर्ड
2. विंडोज़
3. हार्ड ड्राइव
4. सीपीयू

**Options :**

485584136101. 1  
485584136102. 2  
485584136103. 3  
485584136104. 4

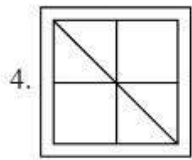
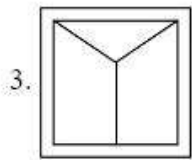
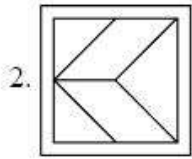
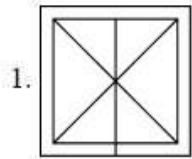
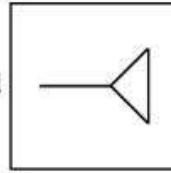
**Question Number : 482 Question Id : 48558434027 Question Type : MCQ Option Shuffling : No Is Question Mandatory : No Calculator : None Response Time : N.A Think Time : N.A Minimum Instruction Time : 0**

**Correct Marks : 5 Wrong Marks : 1**

**Question Key Details :**

Key	Value
Comprehension	MCQ

Find the answer figure in which question figure is imbrted



**Options :**

- 485584136105. 1
- 485584136106. 2
- 485584136107. 3
- 485584136108. 4

**Question Number : 482 Question Id : 48558434027 Question Type : MCQ Option Shuffling : No Is Question Mandatory : No Calculator : None Response Time : N.A Think Time : N.A Minimum Instruction Time : 0**

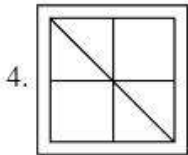
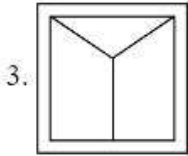
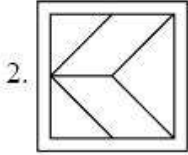
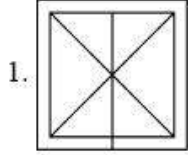
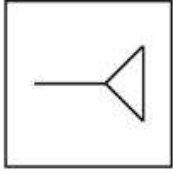
**Correct Marks : 5 Wrong Marks : 1**

**Question Key Details :**

Key	Value
Comprehension	MCQ

उस उत्तर आकृति को पहचानिए जिसमें प्रश्न आकृति अन्तर्निहित है।

प्रश्न आकृति



**Options :**

485584136105. 1

485584136106. 2

485584136107. 3

485584136108. 4

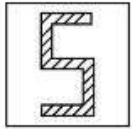
**Question Number : 483 Question Id : 48558434028 Question Type : MCQ Option Shuffling : No Is Question Mandatory : No Calculator : None Response Time : N.A Think Time : N.A Minimum Instruction Time : 0**

**Correct Marks : 5 Wrong Marks : 1**

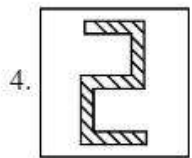
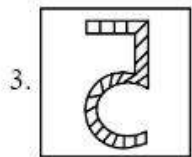
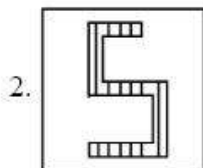

**Question Key Details :**

Key	Value
Comprehension	MCQ

Choose the correct mirror-image of fig(X) from amongst the four alternatives (1), (2), (3) and (4) given along with it.



(x)



**Options :**

485584136109. 1

485584136110. 2

485584136111. 3

485584136112. 4

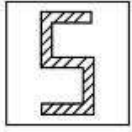
**Question Number : 483 Question Id : 48558434028 Question Type : MCQ Option Shuffling : No Is Question Mandatory : No Calculator : None Response Time : N.A Think Time : N.A Minimum Instruction Time : 0**

**Correct Marks : 5 Wrong Marks : 1**

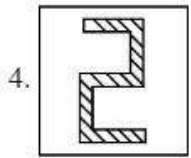
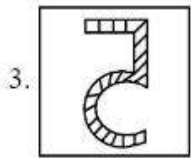
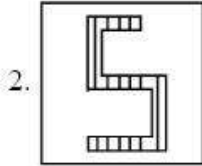
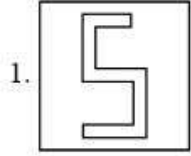
**Question Key Details :**

Key	Value
Comprehension	MCQ

आकृति (X) की सही प्रतिबिम्ब को नीचे दिए गए चार विकल्पों (1), (2), (3) और (4) में चुनिए।



(x)



**Options :**

485584136109. 1

485584136110. 2

485584136111. 3

485584136112. 4

**Question Number : 484 Question Id : 48558434029 Question Type : MCQ Option Shuffling : No Is Question Mandatory : No Calculator : None Response Time : N.A Think Time : N.A Minimum Instruction Time : 0**

**Correct Marks : 5 Wrong Marks : 1**

**Question Key Details :**

Key	Value
Comprehension	MCQ

The days before yesterday, it was monday. After 39 days, it will be

1. Wednesday

2. Sunday

3. Friday

4. Saturday

**Options :**

485584136113. 1



485584136114. 2  
485584136115. 3  
485584136116. 4

**Question Number : 484 Question Id : 48558434029 Question Type : MCQ Option Shuffling : No Is Question Mandatory : No Calculator : None Response Time : N.A Think Time : N.A Minimum Instruction Time : 0**

**Correct Marks : 5 Wrong Marks : 1**

**Question Key Details :**

Key	Value
Comprehension	MCQ

बिते हुए कल से पहले दिन सोमवार था, 39 दिन बाद होगा

1. बुधवार
2. रविवार
3. शुक्रवार
4. शनिवार

**Options :**

485584136113. 1  
485584136114. 2  
485584136115. 3  
485584136116. 4

**Question Number : 485 Question Id : 48558434030 Question Type : MCQ Option Shuffling : No Is Question Mandatory : No Calculator : None Response Time : N.A Think Time : N.A Minimum Instruction Time : 0**

**Correct Marks : 5 Wrong Marks : 1**

**Question Key Details :**

Key	Value
Comprehension	MCQ

Find missing term: P2A, S6D, ?, Y54J

1. F9U
2. V18G
3. V24G
4. V12X

**Options :**

485584136117. 1  
485584136118. 2  
485584136119. 3  
485584136120. 4

**Question Number : 485 Question Id : 48558434030 Question Type : MCQ Option Shuffling : No Is Question Mandatory : No Calculator : None Response Time : N.A Think Time : N.A Minimum Instruction Time : 0**

**Correct Marks : 5 Wrong Marks : 1**

**Question Key Details :**

Key	Value
Comprehension	MCQ

P2A, S6D, ? , Y54J

अज्ञात संख्या ज्ञात कीजिए:

1. F9U
2. V18G
3. V24G
4. V12X

**Options :**

485584136117. 1  
485584136118. 2  
485584136119. 3  
485584136120. 4

**Question Number : 486 Question Id : 48558434031 Question Type : MCQ Option Shuffling : No Is Question Mandatory : No Calculator : None Response Time : N.A Think Time : N.A Minimum Instruction Time : 0**

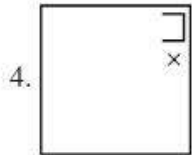
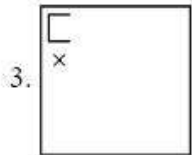
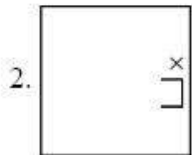
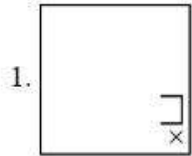
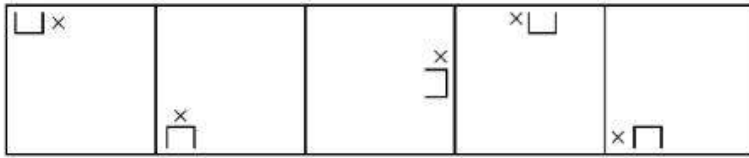
**Correct Marks : 5 Wrong Marks : 1**

**Question Key Details :**

Key	Value
Comprehension	MCQ

Choose the correct option to complete the series.

Problem figures



**Options :**

- 485584136121. 1
- 485584136122. 2
- 485584136123. 3
- 485584136124. 4

**Question Number : 486 Question Id : 48558434031 Question Type : MCQ Option Shuffling : No Is Question Mandatory : No Calculator : None Response Time : N.A Think Time : N.A Minimum Instruction Time : 0**

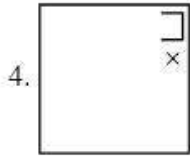
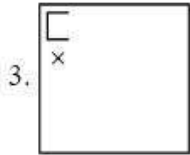
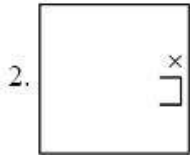
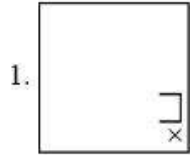
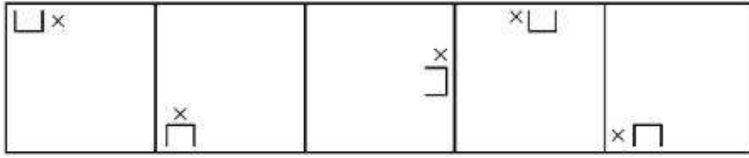
**Correct Marks : 5 Wrong Marks : 1**

**Question Key Details :**

Key	Value
Comprehension	MCQ

श्रेणी को पूर्ण करने के लिए सही विकल्प का चुनाव करें।

प्रश्न आकृति



**Options :**

485584136121. 1

485584136122. 2

485584136123. 3

485584136124. 4

**Question Number : 487 Question Id : 48558434032 Question Type : MCQ Option Shuffling : No Is Question Mandatory : No Calculator : None Response Time : N.A Think Time : N.A Minimum Instruction Time : 0**

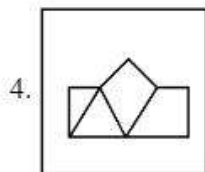
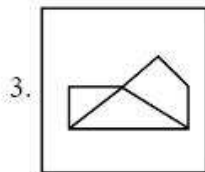
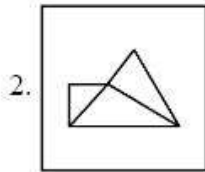
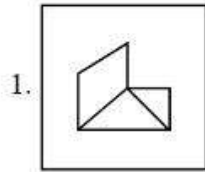
**Correct Marks : 5 Wrong Marks : 1**

**Question Key Details :**

Key	Value
Comprehension	MCQ



Choose the correct option by forming the pieces given in the above figure.



**Options :**

- 485584136125. 1
- 485584136126. 2
- 485584136127. 3
- 485584136128. 4

**Question Number : 487 Question Id : 48558434032 Question Type : MCQ Option Shuffling : No Is Question Mandatory : No Calculator : None Response Time : N.A Think Time : N.A Minimum Instruction Time : 0**

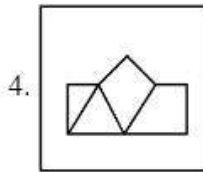
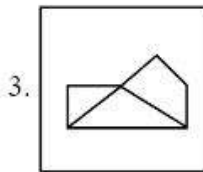
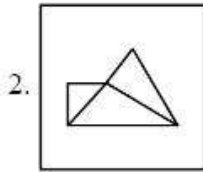
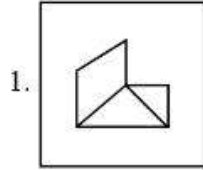
**Correct Marks : 5 Wrong Marks : 1**

**Question Key Details :**

Key	Value
Comprehension	MCQ



उपरोक्त चित्र में दिए गए टुकड़ों से निर्मित आकृतियों के विकल्प को चुने।



**Options :**

485584136125. 1

485584136126. 2

485584136127. 3

485584136128. 4

**Question Number : 488 Question Id : 48558434033 Question Type : MCQ Option Shuffling : No Is Question Mandatory : No Calculator : None Response Time : N.A Think Time : N.A Minimum Instruction Time : 0**

**Correct Marks : 5 Wrong Marks : 1**

**Question Key Details :**

Key	Value
Comprehension	MCQ

Following are the conditions for selection of Director in an Organisation. The candidate must

- I. Be a MBA in Marketing with 1st class securing a minimum of 65% marks
- II. Have an experience of working in related area at least two years after acquiring the desired qualification
- III. Have passed the written test with at least 60% marks.
- IV. Be not less than 40 year and not more than 50 year of age as 2.3.2020

Salman Khan is a MBA from IIM Lucknow, passed out in 2000 with 70% marks. He is working as a marketing head since July 2001. His date of birth is 25th Dec 1975. He has cleared the written test with 60% marks?

Indicate your decision by marking answers to each question as follows:

1. If the candidate is to be selected
2. If the candidate is not to be selected
3. If data is not adequate to take the decision
4. If the case is referred to the chairman

**Options :**

485584136129. 1  
485584136130. 2  
485584136131. 3  
485584136132. 4

**Question Number : 488 Question Id : 48558434033 Question Type : MCQ Option Shuffling : No Is Question Mandatory : No Calculator : None Response Time : N.A Think Time : N.A Minimum Instruction Time : 0**

**Correct Marks : 5 Wrong Marks : 1**

**Question Key Details :**

Key	Value
Comprehension	MCQ

एक संगठन में निर्देशक पद के चयन के लिए दी गई स्थितियों के अनुरूप उम्मीदवार होना चाहिए।  
उम्मीदवार के पास:

- I. मार्केटिंग में एम.बी.ए. (MBA) हो, कम से कम 65% अंकों के साथ प्रथम श्रेणी प्राप्त।
- II. आवश्यक योग्यता प्राप्त करने के बाद सम्बन्धित क्षेत्र में कम से कम दो वर्ष काम करने का अनुभव हो।
- III. लिखित परीक्षा कम से कम 60% अंकों के साथ उत्तीर्ण की हो।
- IV. उसकी आयु 2.3.2020 को 40 वर्ष से कम और 50 वर्ष से अधिक न हो।

सलमान खान एम.बी.ए. है आई.आई.एम. लखनऊ से। वर्ष 2000 में 70% अंकों के साथ उत्तीर्ण हुआ। जुलाई 2001 से 'मार्केटिंग हैड' के रूप में कार्य कर रहा है। उसकी जन्म तिथि 25 दिसम्बर 1975 है। उसने लिखित परीक्षा 60% अंकों से उत्तीर्ण की है।

नीचे दिए गए प्रश्नों के उत्तरों से अपने निर्णय को संकेतित करें:

1. यदि उम्मीदवार का चयन किया जाना है।
2. यदि उम्मीदवार का चयन नहीं किया जाना है।
3. निर्णय लेने के लिए डाटा अपर्याप्त है।
4. यदि केस चेयरमैन को (निर्णय करने के लिए) भेज दिया जाता है।

**Options :**

485584136129. 1  
485584136130. 2  
485584136131. 3  
485584136132. 4

**Question Number : 489 Question Id : 48558434034 Question Type : MCQ Option Shuffling : No Is Question Mandatory : No Calculator : None Response Time : N.A Think Time : N.A Minimum Instruction Time : 0**

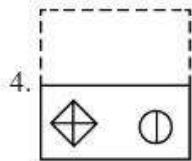
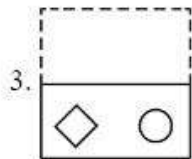
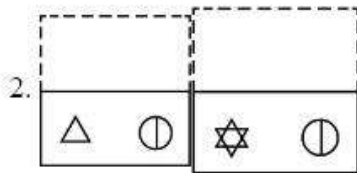
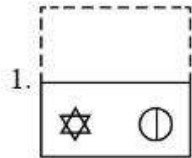
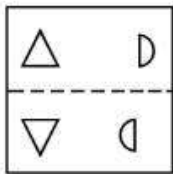
**Correct Marks : 5 Wrong Marks : 1**

**Question Key Details :**

Key	Value
Comprehension	MCQ



Find the figure obtained after folding the given figure along the dotted line.



**Options :**

- 485584136133. 1
- 485584136134. 2
- 485584136135. 3
- 485584136136. 4

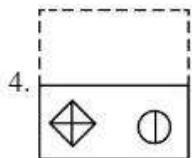
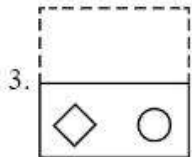
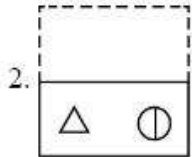
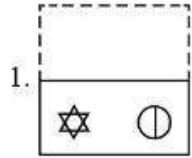
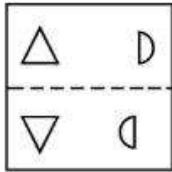
**Question Number : 489 Question Id : 48558434034 Question Type : MCQ Option Shuffling : No Is Question Mandatory : No Calculator : None Response Time : N.A Think Time : N.A Minimum Instruction Time : 0**

**Correct Marks : 5 Wrong Marks : 1**

**Question Key Details :**

Key	Value
Comprehension	MCQ

दी हुई आकृति का बिन्दुकित रेखा के साथ मोडने पर प्राप्त हुई आकृति को ज्ञात कीजिए।



**Options :**

- 485584136133. 1
- 485584136134. 2
- 485584136135. 3
- 485584136136. 4

**Question Number : 490 Question Id : 48558434035 Question Type : MCQ Option Shuffling : No Is Question Mandatory : No Calculator : None Response Time : N.A Think Time : N.A Minimum Instruction Time : 0**

**Correct Marks : 5 Wrong Marks : 1**

**Question Key Details :**

Key	Value
Comprehension	MCQ

If South-East becomes North and North-East becomes West and all the rest directions are changed in the same manner, what will the direction for the South-East?

- 1. West
- 2. North-West
- 3. North
- 4. East

**Options :**

- 485584136137. 1

485584136138. 2  
485584136139. 3  
485584136140. 4

**Question Number : 490 Question Id : 48558434035 Question Type : MCQ Option Shuffling : No Is Question Mandatory : No Calculator : None Response Time : N.A Think Time : N.A Minimum Instruction Time : 0**

**Correct Marks : 5 Wrong Marks : 1**

**Question Key Details :**

Key	Value
Comprehension	MCQ

यदि दक्षिणपूर्व, उत्तर हो जाता है और उत्तरपूर्व, पश्चिम हो जाता है; और इसी प्रकार सभी बाकी (शेष) दिशाएँ भी बदल जाती हैं; तो कौन सी दिशा दक्षिण पूर्व के लिए होगी?

1. पश्चिम
2. उत्तर पूर्व
3. उत्तर
4. पूर्व

**Options :**

485584136137. 1  
485584136138. 2  
485584136139. 3  
485584136140. 4

**Question Number : 491 Question Id : 48558434036 Question Type : MCQ Option Shuffling : No Is Question Mandatory : No Calculator : None Response Time : N.A Think Time : N.A Minimum Instruction Time : 0**

**Correct Marks : 5 Wrong Marks : 1**

**Question Key Details :**

Key	Value
Comprehension	MCQ

Which among the following dances is not a Martial Dance?

1. Pika
2. Gatka
3. Kathaputli
4. Choliya

**Options :**

485584136141. 1  
485584136142. 2  
485584136143. 3  
485584136144. 4

**Question Number : 491 Question Id : 48558434036 Question Type : MCQ Option Shuffling : No Is Question Mandatory : No Calculator : None Response Time : N.A Think Time : N.A Minimum Instruction Time : 0**

Correct Marks : 5 Wrong Marks : 1

Question Key Details :

Key	Value
Comprehension	MCQ

निम्नलिखित में से कौन सा सामरिक नृत्य नहीं है?

1. पिका
2. गतका
3. कठपुतली
4. छोलिया

Options :

485584136141. 1  
485584136142. 2  
485584136143. 3  
485584136144. 4

Question Number : 492 Question Id : 48558434037 Question Type : MCQ Option Shuffling : No Is Question Mandatory : No Calculator : None Response Time : N.A Think Time : N.A Minimum Instruction Time : 0

Correct Marks : 5 Wrong Marks : 1

Question Key Details :

Key	Value
Comprehension	MCQ

Harappan age is

1. 3,500 BC – 2,500 BC
2. 2,500 BC – 1,750 BC
3. 2,000 BC – 1,000 BC
4. 3,500 BC – 1,000 BC

Options :

485584136145. 1  
485584136146. 2  
485584136147. 3  
485584136148. 4

Question Number : 492 Question Id : 48558434037 Question Type : MCQ Option Shuffling : No Is Question Mandatory : No Calculator : None Response Time : N.A Think Time : N.A Minimum Instruction Time : 0

Correct Marks : 5 Wrong Marks : 1

Question Key Details :

Key	Value
Comprehension	MCQ

हड़प्पा काल है

1. 3,500 BC – 2,500 BC
2. 2,500 BC – 1,750 BC
3. 2,000 BC – 1,000 BC
4. 3,500 BC – 1,000 BC

**Options :**

485584136145. 1  
485584136146. 2  
485584136147. 3  
485584136148. 4

**Question Number : 493 Question Id : 48558434038 Question Type : MCQ Option Shuffling : No Is Question Mandatory : No Calculator : None Response Time : N.A Think Time : N.A Minimum Instruction Time : 0**

**Correct Marks : 5 Wrong Marks : 1**

**Question Key Details :**

Key	Value
Comprehension	MCQ

Archaeological site 'Palvai' is situated in

1. Kerala
2. Andhra Pradesh
3. Karnataka
4. Tamil Nadu

**Options :**

485584136149. 1  
485584136150. 2  
485584136151. 3  
485584136152. 4

**Question Number : 493 Question Id : 48558434038 Question Type : MCQ Option Shuffling : No Is Question Mandatory : No Calculator : None Response Time : N.A Think Time : N.A Minimum Instruction Time : 0**

**Correct Marks : 5 Wrong Marks : 1**

**Question Key Details :**

Key	Value
Comprehension	MCQ

पुरातत्विक स्थल 'पलवाई' स्थित है

1. केरल
2. आंध्र प्रदेश
3. कर्नाटक
4. तमिलनाडु

**Options :**

485584136149. 1  
485584136150. 2  
485584136151. 3  
485584136152. 4

**Question Number : 494 Question Id : 48558434039 Question Type : MCQ Option Shuffling : No Is Question Mandatory : No Calculator : None Response Time : N.A Think Time : N.A Minimum Instruction Time : 0**

**Correct Marks : 5 Wrong Marks : 1**

**Question Key Details :**

Key	Value
Comprehension	MCQ

There are 4 electric bulb of 50W (each) is used for 5 hour per day. Calculate the energy consumed in the month of January.

1. 31 Kwh
2. 31 Joulr
3.  $3.6 \times 10^6$  J
4.  $31 \times 3.6 \times 10^6$  J Kwh

**Options :**

485584136153. 1  
485584136154. 2  
485584136155. 3  
485584136156. 4

**Question Number : 494 Question Id : 48558434039 Question Type : MCQ Option Shuffling : No Is Question Mandatory : No Calculator : None Response Time : N.A Think Time : N.A Minimum Instruction Time : 0**

**Correct Marks : 5 Wrong Marks : 1**

**Question Key Details :**

Key	Value
Comprehension	MCQ

50W (प्रत्येक) के 4 बल्बों को प्रतिदिन 5 घंटे जलाया जाता है। जनवरी माह में बिजली की कुल खपत की गणना कीजिए।

1. 31 Kwh
2. 31 Joulr
3.  $3.6 \times 10^6$  J
4.  $31 \times 3.6 \times 10^6$  J Kwh

**Options :**

485584136153. 1  
485584136154. 2  
485584136155. 3  
485584136156. 4

**Question Number : 495 Question Id : 48558434040 Question Type : MCQ Option Shuffling : No Is Question Mandatory : No Calculator : None Response Time : N.A Think Time : N.A Minimum Instruction Time : 0**

**Correct Marks : 5 Wrong Marks : 1**

**Question Key Details :**

Key	Value
Comprehension	MCQ

Which of the following is an example of an Emulsion?

1. Fog
2. Clouds
3. Mist
4. Milk

**Options :**

485584136157. 1  
485584136158. 2  
485584136159. 3  
485584136160. 4

**Question Number : 495 Question Id : 48558434040 Question Type : MCQ Option Shuffling : No Is Question Mandatory : No Calculator : None Response Time : N.A Think Time : N.A Minimum Instruction Time : 0**

**Correct Marks : 5 Wrong Marks : 1**

**Question Key Details :**

Key	Value
Comprehension	MCQ

निम्नलिखित में से कौन सा पायस का एक उदाहरण है?

1. कोहरा
2. बादल
3. कुहासा
4. दूध

**Options :**

485584136157. 1  
485584136158. 2  
485584136159. 3  
485584136160. 4

**Question Number : 496 Question Id : 48558434041 Question Type : MCQ Option Shuffling : No Is Question Mandatory : No Calculator : None Response Time : N.A Think Time : N.A Minimum Instruction Time : 0**

**Correct Marks : 5 Wrong Marks : 1**

**Question Key Details :**

Key	Value
Comprehension	MCQ

Which statements are true about Phylum Arthropoda?

- A. Body is divided into one part.
- B. Body is divided into two parts.
- C. Body is divided into three parts.
- D. Joinedleg
- E. Circulatory system is of close type.

Choose the correct answer from the options given below:

1. A and B only
2. B and C only
3. D and E only
4. C and D only

**Options :**

485584136161. 1  
485584136162. 2  
485584136163. 3  
485584136164. 4

**Question Number : 496 Question Id : 48558434041 Question Type : MCQ Option Shuffling : No Is Question Mandatory : No Calculator : None Response Time : N.A Think Time : N.A Minimum Instruction Time : 0**

**Correct Marks : 5 Wrong Marks : 1**

**Question Key Details :**

Key	Value
Comprehension	MCQ



फाइलम आर्थोपोडा के संबंध मे कौन सा कथन सही है?

- A. शरीर एक भाग में विभाजित होता है।
- B. शरीर दो भाग में विभाजित होता है।
- C. शरीर तीन भाग में विभाजित होता है।
- D. संधियुक्त पैर
- E. बंध परिसंचरण तंत्र

नीचे दिए गए विकल्पों में से सही उत्तर का चयन कीजिए:

- 1. केवल A और B
- 2. केवल B और C
- 3. केवल D और E
- 4. केवल C और D

**Options :**

- 485584136161. 1
- 485584136162. 2
- 485584136163. 3
- 485584136164. 4

**Question Number : 497 Question Id : 48558434042 Question Type : MCQ Option Shuffling : No Is Question Mandatory : No Calculator : None Response Time : N.A Think Time : N.A Minimum Instruction Time : 0**

**Correct Marks : 5 Wrong Marks : 1**

**Question Key Details :**

Key	Value
Comprehension	MCQ

Who was invented Universal Serial Bus (USB)?

- 1. Ajay Sood
- 2. Ajay Bhatt
- 3. M.S. Swaminathan
- 4. Gagan B. Mohanthy

**Options :**

- 485584136165. 1
- 485584136166. 2
- 485584136167. 3
- 485584136168. 4

**Question Number : 497 Question Id : 48558434042 Question Type : MCQ Option Shuffling : No Is Question Mandatory : No Calculator : None Response Time : N.A Think Time : N.A Minimum Instruction Time : 0**

**Correct Marks : 5 Wrong Marks : 1**

**Question Key Details :**

Key	Value
Comprehension	MCQ

यूनिवर्सल सिरियल बस (USB) का अविष्कार किसने किया था?

1. अजय सूद
2. अजय भट्ट
3. एम. एस. स्वामीनाथ
4. गगन बी- मोहंती

**Options :**

485584136165. 1  
485584136166. 2  
485584136167. 3  
485584136168. 4

**Question Number : 498 Question Id : 48558434043 Question Type : MCQ Option Shuffling : No Is Question Mandatory : No Calculator : None Response Time : N.A Think Time : N.A Minimum Instruction Time : 0**

**Correct Marks : 5 Wrong Marks : 1**

**Question Key Details :**

Key	Value
Comprehension	MCQ

Where was Commonwealth Games 2022 held?

1. London
2. Canberra
3. Brimingham
4. Manchester

**Options :**

485584136169. 1  
485584136170. 2  
485584136171. 3  
485584136172. 4

**Question Number : 498 Question Id : 48558434043 Question Type : MCQ Option Shuffling : No Is Question Mandatory : No Calculator : None Response Time : N.A Think Time : N.A Minimum Instruction Time : 0**

**Correct Marks : 5 Wrong Marks : 1**

**Question Key Details :**

Key	Value
Comprehension	MCQ

कॉमनवेल्थ खेल 2022 कहाँ आयोजित किए गए थे?

1. लंदन
2. केनबरा
3. बर्मिंघम
4. मेनचेस्टर

**Options :**

485584136169. 1  
485584136170. 2  
485584136171. 3  
485584136172. 4

**Question Number : 499 Question Id : 48558434044 Question Type : MCQ Option Shuffling : No Is Question Mandatory : No Calculator : None Response Time : N.A Think Time : N.A Minimum Instruction Time : 0**

**Correct Marks : 5 Wrong Marks : 1**

**Question Key Details :**

Key	Value
Comprehension	MCQ

Which states women's U-18 team won the Khelo India Youth Games 2022?

1. Kerala
2. Punjab
3. Tamil Nadu
4. Haryana

**Options :**

485584136173. 1  
485584136174. 2  
485584136175. 3  
485584136176. 4

**Question Number : 499 Question Id : 48558434044 Question Type : MCQ Option Shuffling : No Is Question Mandatory : No Calculator : None Response Time : N.A Think Time : N.A Minimum Instruction Time : 0**

**Correct Marks : 5 Wrong Marks : 1**

**Question Key Details :**

Key	Value
Comprehension	MCQ

किस राज्य की अंडर 18 महिला टीम ने खेलो इंडिया युवा खेल 2022 को जीता?

1. केरल
2. पंजाब
3. तमिलनाडु
4. हरियाणा

**Options :**

485584136173. 1  
485584136174. 2  
485584136175. 3  
485584136176. 4

**Question Number : 500 Question Id : 48558434045 Question Type : MCQ Option Shuffling : No Is Question Mandatory : No Calculator : None Response Time : N.A Think Time : N.A Minimum Instruction Time : 0**

**Correct Marks : 5 Wrong Marks : 1**

**Question Key Details :**

Key	Value
Comprehension	MCQ

India has been building the sea-port of Chabahar port for which of these West Asian country:

1. Iraq
2. Iran
3. UAE
4. Oman

**Options :**

485584136177. 1  
485584136178. 2  
485584136179. 3  
485584136180. 4

**Question Number : 500 Question Id : 48558434045 Question Type : MCQ Option Shuffling : No Is Question Mandatory : No Calculator : None Response Time : N.A Think Time : N.A Minimum Instruction Time : 0**

**Correct Marks : 5 Wrong Marks : 1**

**Question Key Details :**

Key	Value
Comprehension	MCQ

इनमें से किस पश्चिम एसियाई देश के लिए भारत ने चाबहार समुद्री पत्तन का निर्माण किया है:

1. इराक
2. ईरान
3. यू. ए. ई
4. ओमान

**Options :**

485584136177. 1  
485584136178. 2  
485584136179. 3  
485584136180. 4

**Question Number : 501 Question Id : 48558434046 Question Type : MCQ Option Shuffling : No Is Question Mandatory : No Calculator : None Response Time : N.A Think Time : N.A Minimum Instruction Time : 0**

**Correct Marks : 5 Wrong Marks : 1**

**Question Key Details :**

Key	Value
Comprehension	MCQ

Recently, whom of Indian origin has become the new prime minister of Britain?

1. Dilip Boland
2. Rajesh David
3. Rishi Sunak
4. Aman Panda

**Options :**

485584136181. 1  
485584136182. 2  
485584136183. 3  
485584136184. 4

**Question Number : 501 Question Id : 48558434046 Question Type : MCQ Option Shuffling : No Is Question Mandatory : No Calculator : None Response Time : N.A Think Time : N.A Minimum Instruction Time : 0**

**Correct Marks : 5 Wrong Marks : 1**

**Question Key Details :**

Key	Value
Comprehension	MCQ

हाल ही में, भारतीय मूल का कौन ब्रिटेन का नया प्रधानमंत्री बना है?

1. दिलीप बोलंद
2. राजेश डेविड
3. कृषि सुनक
4. अमन पांडा

**Options :**

485584136181. 1  
485584136182. 2  
485584136183. 3  
485584136184. 4

**Question Number : 502 Question Id : 48558434047 Question Type : MCQ Option Shuffling : No Is Question Mandatory : No Calculator : None Response Time : N.A Think Time : N.A Minimum Instruction Time : 0**

**Correct Marks : 5 Wrong Marks : 1**

**Question Key Details :**

Key	Value
Comprehension	MCQ

Which team has won the 2022 Women's Pan American Cup Field Hockey Tournament?

1. Netherland
2. Argentina
3. South Korea
4. Malaysia

**Options :**

485584136185. 1  
485584136186. 2  
485584136187. 3  
485584136188. 4

**Question Number : 502 Question Id : 48558434047 Question Type : MCQ Option Shuffling : No Is Question Mandatory : No Calculator : None Response Time : N.A Think Time : N.A Minimum Instruction Time : 0**

**Correct Marks : 5 Wrong Marks : 1**

**Question Key Details :**

Key	Value
Comprehension	MCQ

किस टीम ने महिलाओं का पैन अमेरिकन कप फील्ड हाकी टूर्नामेंट 2022 जीता है?

1. नीदरलैंड
2. अर्जेन्टाइना
3. दक्षिण कोरिया
4. मलेशिया

**Options :**

485584136185. 1  
485584136186. 2  
485584136187. 3  
485584136188. 4

**Question Number : 503 Question Id : 48558434048 Question Type : MCQ Option Shuffling : No Is Question Mandatory : No Calculator : None Response Time : N.A Think Time : N.A Minimum Instruction Time : 0**

**Correct Marks : 5 Wrong Marks : 1**

**Question Key Details :**

Key	Value
Comprehension	MCQ

Name the longest river of the world?

1. Nile
2. Ganga
3. Amazon
4. Yangtze river

**Options :**

485584136189. 1  
485584136190. 2  
485584136191. 3  
485584136192. 4

**Question Number : 503 Question Id : 48558434048 Question Type : MCQ Option Shuffling : No Is Question Mandatory : No Calculator : None Response Time : N.A Think Time : N.A Minimum Instruction Time : 0**

**Correct Marks : 5 Wrong Marks : 1**

**Question Key Details :**

Key	Value
Comprehension	MCQ

विश्व की सबसे लंबी नदी का नाम बाचिए

1. नील
2. गंगा
3. अमेजन
4. यांगत्से नदी

**Options :**

485584136189. 1  
485584136190. 2  
485584136191. 3  
485584136192. 4

**Question Number : 504 Question Id : 48558434049 Question Type : MCQ Option Shuffling : No Is Question Mandatory : No Calculator : None Response Time : N.A Think Time : N.A Minimum Instruction Time : 0**

**Correct Marks : 5 Wrong Marks : 1**

**Question Key Details :**

Key	Value
Comprehension	MCQ

Which is the highest Peak of the Pennisulan Plateau of India?

1. Dodda betha
2. Mullayanagiri
3. Agasthyamala
4. Anamudi

**Options :**

485584136193. 1  
485584136194. 2  
485584136195. 3  
485584136196. 4

**Question Number : 504 Question Id : 48558434049 Question Type : MCQ Option Shuffling : No Is Question Mandatory : No Calculator : None Response Time : N.A Think Time : N.A Minimum Instruction Time : 0**

**Correct Marks : 5 Wrong Marks : 1**

**Question Key Details :**

Key	Value
Comprehension	MCQ



भारत के प्रायद्वीपीय पठार का सर्वोच्च शिखर कौन सा है?

1. डोडा बेटा
2. मुलयन गिरी
3. अगस्थिमाल
4. अनामुदी

**Options :**

485584136193. 1  
485584136194. 2  
485584136195. 3  
485584136196. 4

**Question Number : 505 Question Id : 48558434050 Question Type : MCQ Option Shuffling : No Is Question Mandatory : No Calculator : None Response Time : N.A Think Time : N.A Minimum Instruction Time : 0**

**Correct Marks : 5 Wrong Marks : 1**

**Question Key Details :**

Key	Value
Comprehension	MCQ

On which date is the shortest day of the year in the northern Hemisphere?

1. 22 June
2. 21 June
3. 22 December
4. 26 December

**Options :**

485584136197. 1  
485584136198. 2  
485584136199. 3  
485584136200. 4

**Question Number : 505 Question Id : 48558434050 Question Type : MCQ Option Shuffling : No Is Question Mandatory : No Calculator : None Response Time : N.A Think Time : N.A Minimum Instruction Time : 0**

**Correct Marks : 5 Wrong Marks : 1**

**Question Key Details :**

Key	Value
Comprehension	MCQ

उत्तरी गोलार्द्ध में वर्ष का सबसे छोटा दिन किस तारीख को है?

1. 22 जून
2. 21 जून
3. 22 दिसम्बर
4. 26 दिसम्बर

**Options :**

485584136197. 1  
485584136198. 2  
485584136199. 3  
485584136200. 4

**Question Number : 506 Question Id : 48558434051 Question Type : MCQ Option Shuffling : No Is Question Mandatory : No Calculator : None Response Time : N.A Think Time : N.A Minimum Instruction Time : 0**

**Correct Marks : 5 Wrong Marks : 1**

**Question Key Details :**

Key	Value
Comprehension	MCQ

Criminal Identification Bill has been passed by President in April 2022. The Bill (or Act)

- A. Empowers police to obtain physical and biological samples of convicts and those accused of crimes.
- B. Empowers police to order measurement of photographs of a person to aid the investigation of offence.
- C. Explains the data to be collected.
- D. Provides the data to be stored in a Central database.

Choose the correct answer from the options given below:

1. C, A and B only
2. A, C and D only
3. B, A and D only
4. A, B and D only

**Options :**

485584136201. 1  
485584136202. 2  
485584136203. 3  
485584136204. 4

**Question Number : 506 Question Id : 48558434051 Question Type : MCQ Option Shuffling : No Is Question Mandatory : No Calculator : None Response Time : N.A Think Time : N.A Minimum Instruction Time : 0**

**Correct Marks : 5 Wrong Marks : 1**

**Question Key Details :**

Key	Value
Comprehension	MCQ

अप्रैल 2022 में राष्ट्रपति द्वारा अपराधी पहचान विधेयक पास किया गया।

विधेयक

- A. पुलिस को दोषियों और अपराध के अपराधियों के भौतिक और जैविक नमूने प्राप्त करने का अधिकार देता है।
- B. पुलिस को अपराध की जांच में सहयोग के लिए व्यक्ति के फोटो लेने के आदेश देने का अधिकार देता है।
- C. आकड़ों की व्यवस्था को एकत्रित करना।
- D. केन्द्रीय डाटा बेस में आकड़ों को एकत्र कराता है।

नीचे दिए गए विकल्पों में सही उत्तर का चयन कीजिए:

1. केवल C, A और B
2. केवल A, C और D
3. केवल B, A और D
4. केवल A, B और D

**Options :**

485584136201. 1  
485584136202. 2  
485584136203. 3  
485584136204. 4

**Question Number : 507 Question Id : 48558434052 Question Type : MCQ Option Shuffling : No Is Question Mandatory : No Calculator : None Response Time : N.A Think Time : N.A Minimum Instruction Time : 0**

**Correct Marks : 5 Wrong Marks : 1**

**Question Key Details :**

Key	Value
Comprehension	MCQ

What growth rate The Economic Survey 2021-22 had projected for the financial year ending March 2023?

1. 8.5-9%
2. 8-8.5%
3. 10-11%
4. 7-7.5%

**Options :**

485584136205. 1  
485584136206. 2  
485584136207. 3  
485584136208. 4

**Question Number : 507 Question Id : 48558434052 Question Type : MCQ Option Shuffling : No Is Question Mandatory : No Calculator : None Response Time : N.A Think Time : N.A Minimum Instruction Time : 0**

**Correct Marks : 5 Wrong Marks : 1**

**Question Key Details :**

Key	Value
-----	-------

मार्च 2023 को समाप्त होने वाले वित्तवर्ष के लिए 2021-22 के आर्थिक सर्वेक्षण के कितनी वृद्धि दर प्रक्षेपित (अनुमानित) की है?

1. 8.5-9%
2. 8-8.5%
3. 10-11%
4. 7-7.5%

**Options :**

485584136205. 1  
485584136206. 2  
485584136207. 3  
485584136208. 4

**Question Number : 508 Question Id : 48558434053 Question Type : MCQ Option Shuffling : No Is Question Mandatory : No Calculator : None Response Time : N.A Think Time : N.A Minimum Instruction Time : 0**

**Correct Marks : 5 Wrong Marks : 1**

**Question Key Details :**

Key	Value
Comprehension	MCQ

Which English writer has been awarded the Tata Literature Lifetime Achievement Award?

1. Arundhati Roy
2. Vikram Seth
3. Ruskin Bond
4. Prof. Shorad Pagadey

**Options :**

485584136209. 1  
485584136210. 2  
485584136211. 3  
485584136212. 4

**Question Number : 508 Question Id : 48558434053 Question Type : MCQ Option Shuffling : No Is Question Mandatory : No Calculator : None Response Time : N.A Think Time : N.A Minimum Instruction Time : 0**

**Correct Marks : 5 Wrong Marks : 1**

**Question Key Details :**

Key	Value
Comprehension	MCQ

अंग्रेजी भाषा के किस लेखक को "टाटा लिटरेचर लाइफ टाइम एचीवमेंट अवार्ड" सम्मानित किया गया है।

1. अरुन्धती रॉय
2. विक्रम सेठ
3. रस्किन बॉण्ड
4. प्रोफेसर शरद पगाडे

**Options :**

485584136209. 1
485584136210. 2
485584136211. 3
485584136212. 4

**Question Number : 509 Question Id : 48558434054 Question Type : MCQ Option Shuffling : No Is Question Mandatory : No Calculator : None Response Time : N.A Think Time : N.A Minimum Instruction Time : 0**

**Correct Marks : 5 Wrong Marks : 1**

**Question Key Details :**

Key	Value
Comprehension	MCQ

Match List I with List II

LIST I Satellite		LIST II Launch Date	
A.	Aryabhata	I.	2008
B.	Mangalyaan	II.	1975
C.	Chandrayaan - I	III.	2017
D.	IRNAA-1H Mission	IV.	2013

Choose the correct answer from the options given below:

1. A-II, B-IV, C-I, D-III
2. A-I, B-II, C-III, D-IV
3. A-IV, B-III, C-II, D-I
4. A-IV, B-II, C-III, D-I

**Options :**

485584136213. 1
485584136214. 2
485584136215. 3
485584136216. 4

**Question Number : 509 Question Id : 48558434054 Question Type : MCQ Option Shuffling : No Is Question Mandatory : No Calculator : None Response Time : N.A Think Time : N.A Minimum Instruction Time : 0**

**Correct Marks : 5 Wrong Marks : 1**

**Question Key Details :**

<b>Key</b>	<b>Value</b>
Comprehension	MCQ

सूची I का सूची II से मिलान कीजिए

सूची I उपग्रह		सूची II प्रक्षेपण तिथि	
A.	आर्यभट्ट	I.	2008
B.	मंगलयान	II.	1975
C.	चन्द्रयान-I	III.	2017
D.	आई.आर. ए.ए. एश.-1 एच मिशन	IV.	2013

निम्नलिखित विकल्पों में से सही उत्तर का चयन कीजिए :

1. A-II, B-IV, C-I, D-III
2. A-I, B-II, C-III, D-IV
3. A-IV, B-III, C-II, D-I
4. A-IV, B-II, C-III, D-I

**Options :**

485584136213. 1  
485584136214. 2  
485584136215. 3  
485584136216. 4

**Question Number : 510 Question Id : 48558434055 Question Type : MCQ Option Shuffling : No Is Question Mandatory : No Calculator : None Response Time : N.A Think Time : N.A Minimum Instruction Time : 0**

**Correct Marks : 5 Wrong Marks : 1**

**Question Key Details :**

<b>Key</b>	<b>Value</b>
Comprehension	MCQ

Formal source of credit for an individual does not include:

1. Cooperatives
2. Banks
3. MUDRA Bank
4. RBI

**Options :**

485584136217. 1  
485584136218. 2  
485584136219. 3  
485584136220. 4

**Question Number : 510 Question Id : 48558434055 Question Type : MCQ Option Shuffling : No Is Question Mandatory : No Calculator : None Response Time : N.A Think Time : N.A Minimum Instruction Time : 0**

Correct Marks : 5 Wrong Marks : 1

Question Key Details :

Key	Value
Comprehension	MCQ

एक व्यक्ति के क्रेडिट के औपचारिक स्रोत में सम्मिलित नहीं है-

1. सहकारी संस्था
2. बैंक
3. मुद्रा बैंक
4. आर. बी. आई

Options :

485584136217. 1

485584136218. 2

485584136219. 3

485584136220. 4