

# National Testing Agency

**Question Paper Name :** 20S1  
**Subject Name :** 20Jun2023 Shift1 Subject Combination 1  
**Creation Date :** 2023-06-20 19:27:10  
**Duration :** 150  
**Total Marks :** 600  
**Display Marks:** Yes

## Economics

**Group Number :** 1  
**Group Id :** 485584806  
**Group Maximum Duration :** 60  
**Group Minimum Duration :** 60  
**Show Attended Group? :** No  
**Edit Attended Group? :** No  
**Break time :** 0  
**Group Marks :** 200  
**Is this Group for Examiner? :** No  
**Examiner permission :** Cant View  
**Show Progress Bar? :** No

## Economics

**Section Id :** 485584926  
**Section Number :** 1  
**Section type :** Online  
**Mandatory or Optional :** Mandatory  
**Number of Questions :** 50  
**Number of Questions to be attempted :** 40  
**Section Marks :** 200  
**Enable Mark as Answered Mark for Review and Clear Response :** Yes  
**Maximum Instruction Time :** 0  
**Sub-Section Number :** 1  
**Sub-Section Id :** 4855842634  
**Question Shuffling Allowed :** Yes  
**Is Section Default? :** null

**Question Number : 1 Question Id : 48558435516 Question Type : MCQ Option Shuffling : No Is Question Mandatory : No Calculator : None Response Time : N.A Think Time : N.A Minimum Instruction Time : 0**

**Correct Marks : 5 Wrong Marks : 1**

**Question Key Details :**

Key	Value
Comprehension	MCQ

Which of the following was not an industrial reform policy introduced in India in and after 1991?

1. Many goods produced by small-scale industries have been dereserved
2. The only industries reserved for public sector is a part of atomic energy generation and some core activities in railway transport
3. Industrial licencing for private sector industries
4. In most industries the market has ben allowed to determine the prices

**Options :**

485584142061. 1  
485584142062. 2  
485584142063. 3  
485584142064. 4

**Question Number : 1 Question Id : 48558435516 Question Type : MCQ Option Shuffling : No Is Question Mandatory : No Calculator : None Response Time : N.A Think Time : N.A Minimum Instruction Time : 0**

**Correct Marks : 5 Wrong Marks : 1**

**Question Key Details :**

Key	Value
Comprehension	MCQ

निम्नांकित में से वर्ष 1991 में और तत्पश्चात भारत में पर: स्थापित की गई औद्योगिक नीति नहीं है?

1. लघु उद्योगों द्वारा उत्पादित बहुतसी वस्तुओं को अनारक्षित कर दिया गया है ।
2. सरकारी क्षेत्र के लिए आरक्षित मात्र उद्योग परमाणु ऊर्जा उत्पादन का एक हिस्सा और रेल परिवहन के कुछ प्रमुख कार्यकलाप
3. गैर सरकारी (निजी) क्षेत्र के उद्योगों के लिए औद्योगिक अनुज्ञापण
4. अधिकांश अद्योगों में बाजार को कीमत निर्धारित करने की अनुमति दी गई है

**Options :**

485584142061. 1  
485584142062. 2  
485584142063. 3  
485584142064. 4

**Question Number : 2 Question Id : 48558435517 Question Type : MCQ Option Shuffling : No Is Question Mandatory : No Calculator : None Response Time : N.A Think Time : N.A Minimum Instruction Time : 0**

**Correct Marks : 5 Wrong Marks : 1**

**Question Key Details :**

Key	Value
Comprehension	MCQ

How can morbidity be prevented?

- A. Ensuring safe drinking water
- B. Taking good education
- C. Healthy and nutritive food
- D. By employment generation
- E. Sanitation

Choose the correct answer from the options given below:

- 1. B, C, E only
- 2. A, D, E only
- 3. A, C, E only
- 4. C, D, E only

**Options :**

- 485584142065. 1
- 485584142066. 2
- 485584142067. 3
- 485584142068. 4

**Question Number : 2 Question Id : 48558435517 Question Type : MCQ Option Shuffling : No Is Question Mandatory : No Calculator : None Response Time : N.A Think Time : N.A Minimum Instruction Time : 0**

**Correct Marks : 5 Wrong Marks : 1**

**Question Key Details :**

Key	Value
Comprehension	MCQ

रूग्णता क निवारण कैसे किया जा सकता है?

- A. सुरक्षित पेयजल की उपलब्धता सुनिश्चित करके
- B. उत्तम शिक्षा प्राप्त करके
- C. स्वस्थ और पोषक आहार ग्रहण करके
- D. रोजगार सृजन करके
- E. सफाई के द्वारा

नीचे दिए गए विकल्पों में से सही उत्तर चुनिए:

- 1. केवल B, C, E
- 2. केवल A, D, E
- 3. केवल A, C, E
- 4. केवल C, D, E

**Options :**

- 485584142065. 1
- 485584142066. 2

485584142067. 3

485584142068. 4

**Question Number : 3 Question Id : 48558435518 Question Type : MCQ Option Shuffling : No Is Question Mandatory : No Calculator : None Response Time : N.A Think Time : N.A Minimum Instruction Time : 0**

**Correct Marks : 5 Wrong Marks : 1**

**Question Key Details :**

Key	Value
Comprehension	MCQ

Arrange the following in sequence in order of their formation.

- A. Green Revolution
- B. First Industrial Policy Resolution
- C. Karve committee
- D. Planning Commission

Choose the correct answer from the options given below:

- 1. B, D, A, C
- 2. B, D, C, A
- 3. A, B, C, D
- 4. B, C, A, D

**Options :**

485584142069. 1

485584142070. 2

485584142071. 3

485584142072. 4

**Question Number : 3 Question Id : 48558435518 Question Type : MCQ Option Shuffling : No Is Question Mandatory : No Calculator : None Response Time : N.A Think Time : N.A Minimum Instruction Time : 0**

**Correct Marks : 5 Wrong Marks : 1**

**Question Key Details :**

Key	Value
Comprehension	MCQ

निम्नांकित को उनके अस्तित्व में आने के आधार पर सही क्रम में व्यवस्थित कीजिए

- A. हरित क्रांति
- B. प्रथम आद्योगिक नीति संकल्प
- C. कर्वे कमिटी
- D. योजना आयोग

नीचे दिए गए विकल्पों में से सही उत्तर चुनिए:

- 1. B, D, A, C
- 2. B, D, C, A
- 3. A, B, C, D
- 4. B, C, A, D

**Options :**

- 485584142069. 1
- 485584142070. 2
- 485584142071. 3
- 485584142072. 4

**Question Number : 4 Question Id : 48558435519 Question Type : MCQ Option Shuffling : No Is Question Mandatory : No Calculator : None Response Time : N.A Think Time : N.A Minimum Instruction Time : 0**

**Correct Marks : 5 Wrong Marks : 1**

**Question Key Details :**

Key	Value
Comprehension	MCQ

Arrange the following of elasticities of demand in increasing order as per geometric method.

- A. Mid-Point of the demand curve
- B. Intercept on Y-axis
- C. Between Mid-Point and intercept on X-axis
- D. Between Mid-Point and intercept on Y-axis
- E. Intercept on X-axis

Choose the correct answer from the options given below:

- 1. A, B, C, D, E
- 2. D, B, A, E, C
- 3. B, D, A, C, E
- 4. E, C, A, D, B

**Options :**

- 485584142073. 1
- 485584142074. 2
- 485584142075. 3
- 485584142076. 4

Question Number : 4 Question Id : 48558435519 Question Type : MCQ Option Shuffling : No Is Question Mandatory : No Calculator : None Response Time : N.A Think Time : N.A Minimum Instruction Time : 0

Correct Marks : 5 Wrong Marks : 1

Question Key Details :

Key	Value
Comprehension	MCQ

मांग की लोचों को ज्यामितिक विधि के अनुसार आरोही क्रम में व्यवस्थित कीजिए

- A. मांग वक्र की मध्य बिंदु
- B. Y अक्ष पर अवरोध
- C. मध्य बिंदु और X अक्ष पर अवरोध के मध्य
- D. मध्य बिंदु और Y अक्ष पर अवरोध के मध्य
- E. X-अक्ष पर अवरोध

नीचे दिए गए विकल्पों में से सही उत्तर चुनिए:

- 1. A, B, C, D, E
- 2. D, B, A, E, C
- 3. B, D, A, C, E
- 4. E, C, A, D, B

Options :

- 485584142073. 1
- 485584142074. 2
- 485584142075. 3
- 485584142076. 4

Question Number : 5 Question Id : 48558435520 Question Type : MCQ Option Shuffling : No Is Question Mandatory : No Calculator : None Response Time : N.A Think Time : N.A Minimum Instruction Time : 0

Correct Marks : 5 Wrong Marks : 1

Question Key Details :

Key	Value
Comprehension	MCQ

When Central Bank buys securities, this agreement of purchase also has specification about date and price of the resale, it is called:

- 1. Output open market operation
- 2. Repo open market operation
- 3. Coin reserve ratio
- 4. Reverse Repo Rate

Options :

- 485584142077. 1

485584142078. 2

485584142079. 3

485584142080. 4

**Question Number : 5 Question Id : 48558435520 Question Type : MCQ Option Shuffling : No Is Question Mandatory : No Calculator : None Response Time : N.A Think Time : N.A Minimum Instruction Time : 0**

**Correct Marks : 5 Wrong Marks : 1**

**Question Key Details :**

Key	Value
Comprehension	MCQ

जब केन्द्रीय बैंक प्रतिभूतियां खरीदता है इस क्रय करार में पुनः विक्री की तारीख और मूल्य का भी विनिर्देशन रहता है, यह कहलाता है:

1. प्रतिफल विवृत बाजार कार्य
2. रेपो विवृत बाजार कार्य
3. नकद आरक्षित अनुपात
4. रिवर्स (व्युत्क्रमित) रेपो दर

**Options :**

485584142077. 1

485584142078. 2

485584142079. 3

485584142080. 4

**Question Number : 6 Question Id : 48558435521 Question Type : MCQ Option Shuffling : No Is Question Mandatory : No Calculator : None Response Time : N.A Think Time : N.A Minimum Instruction Time : 0**

**Correct Marks : 5 Wrong Marks : 1**

**Question Key Details :**

Key	Value
Comprehension	MCQ

The Government Budget has a revenue deficit this can be financed by : \_\_\_\_\_ .

- A. Borrowings
- B. Tax Revenue
- C. Disinvestment
- D. Indirect taxes

Choose the correct answer from the options given below:

1. A and B only
2. D and C only
3. A and C only
4. B and D only

**Options :**

485584142081. 1  
485584142082. 2  
485584142083. 3  
485584142084. 4

**Question Number : 6 Question Id : 48558435521 Question Type : MCQ Option Shuffling : No Is Question Mandatory : No Calculator : None Response Time : N.A Think Time : N.A Minimum Instruction Time : 0**

**Correct Marks : 5 Wrong Marks : 1**

**Question Key Details :**

Key	Value
Comprehension	MCQ

सरकारी बजट में राजस्व घाटा होता है, इसका वित्त पोषण निम्नांकित में से किस्से किया जाता है:

- A. कर्ज
- B. कर राजस्व
- C. विनिवेश
- D. अप्रत्यक्ष कर

नीचे दिए गए विकल्पों में से सही उत्तर चुनिए:

- 1. केवल A and B
- 2. केवल D and C
- 3. केवल A and C
- 4. केवल B and D

**Options :**

485584142081. 1  
485584142082. 2  
485584142083. 3  
485584142084. 4

**Question Number : 7 Question Id : 48558435522 Question Type : MCQ Option Shuffling : No Is Question Mandatory : No Calculator : None Response Time : N.A Think Time : N.A Minimum Instruction Time : 0**

**Correct Marks : 5 Wrong Marks : 1**

**Question Key Details :**

Key	Value
Comprehension	MCQ

When Central Bank buys securities without any promise to sell them later, it is known as?

- 1. Repo open market operation
- 2. Output open market operation
- 3. Margin Requirement
- 4. Reverse repo rate



**Options :**

485584142085. 1  
485584142086. 2  
485584142087. 3  
485584142088. 4

**Question Number : 7 Question Id : 48558435522 Question Type : MCQ Option Shuffling : No Is Question Mandatory :  
No Calculator : None Response Time : N.A Think Time : N.A Minimum Instruction Time : 0**

**Correct Marks : 5 Wrong Marks : 1**

**Question Key Details :**

Key	Value
Comprehension	MCQ

परवर्तीकाल में प्रिभूती को बेचने संबंधी जब केन्द्रीय बैंक बिना किसी वचन के ही प्रतिभूतियां खरीदता है तो इसे कहा जाता है:

1. रेपो विवृत बाजार कार्य
2. उत्पादन (प्रतिफल) विवृत बाजार कार्य
3. उपांत आवश्यकता (मार्जिन रिक्वायरमेंट)
4. व्युत्क्रमित रेपो रेट ( रिवर्स रेपो रेट)

**Options :**

485584142085. 1  
485584142086. 2  
485584142087. 3  
485584142088. 4

**Question Number : 8 Question Id : 48558435523 Question Type : MCQ Option Shuffling : No Is Question Mandatory :  
No Calculator : None Response Time : N.A Think Time : N.A Minimum Instruction Time : 0**

**Correct Marks : 5 Wrong Marks : 1**

**Question Key Details :**

Key	Value
Comprehension	MCQ

Match List I with List II

LIST I		LIST II	
A.	Revenue Receipt	I.	Increase in Liability
B.	Capital Receipt	II.	Do not increase in Asset
C.	Revenue Expenditure	III.	Increase in Asset
D.	Capital Expenditure	IV.	Do not increase Liability

Choose the correct answer from the options given below:

1. A-I, B-III, C-II, D-IV
2. A-IV, B-I, C-II, D-III
3. A-II, B-III, C-IV, D-I
4. A-I, B-IV, C-II, D-III

**Options :**

485584142089. 1  
485584142090. 2  
485584142091. 3  
485584142092. 4

**Question Number : 8 Question Id : 48558435523 Question Type : MCQ Option Shuffling : No Is Question Mandatory : No Calculator : None Response Time : N.A Think Time : N.A Minimum Instruction Time : 0**

**Correct Marks : 5 Wrong Marks : 1**

**Question Key Details :**

Key	Value
Comprehension	MCQ

सूची I और सूची II को सुमेलित कीजिए

सूची I		सूची II	
A.	राजस्व प्राप्ति	I.	देयता में वृद्धि
B.	पूंजी प्राप्ति	II.	आस्ति नहीं बढ़ती है
C.	राजस्व व्यय	III.	आस्ति में वृद्धि
D.	पूंजीगत व्यय	IV.	देयता नहीं बढ़ती है

निम्नलिखित विकल्पों में से सही उत्तर का चयन कीजिए :

1. A-I, B-III, C-II, D-IV
2. A-IV, B-I, C-II, D-III
3. A-II, B-III, C-IV, D-I
4. A-I, B-IV, C-II, D-III

**Options :**

485584142089. 1

485584142090. 2  
485584142091. 3  
485584142092. 4

**Question Number : 9 Question Id : 48558435524 Question Type : MCQ Option Shuffling : No Is Question Mandatory : No Calculator : None Response Time : N.A Think Time : N.A Minimum Instruction Time : 0**

**Correct Marks : 5 Wrong Marks : 1**

**Question Key Details :**

Key	Value
Comprehension	MCQ

Match List I with List II

LIST I		LIST II	
A.	Accommodating items	I.	International purchases
B.	Capital Account	II.	Central Bank
C.	Balance of trade	III.	Above the line items
D.	Dirty Floating	IV.	Visible items

Choose the correct answer from the options given below:

1. A-III, B-I, C-IV, D-II
2. A-I, B-II, C-III, D-IV
3. A-III, B-IV, C-II, D-I
4. A-IV, B-II, C-I, D-III

**Options :**

485584142093. 1  
485584142094. 2  
485584142095. 3  
485584142096. 4

**Question Number : 9 Question Id : 48558435524 Question Type : MCQ Option Shuffling : No Is Question Mandatory : No Calculator : None Response Time : N.A Think Time : N.A Minimum Instruction Time : 0**

**Correct Marks : 5 Wrong Marks : 1**

**Question Key Details :**

Key	Value
Comprehension	MCQ

सूची I और सूची II को सुमेलित कीजिए

सूची I		सूची II	
A.	समायोजन की जाने वाली मर्दे	I.	अंतरराष्ट्रीय खरीद
B.	पूँजीगत खाता	II.	केन्द्रीय बैंक
C.	व्यापर संतुलन	III.	रेखा से उपर की मर्दे
D.	गन्दा प्लवन (डर्टी फ्लोटिंग)	IV.	दृश्यमान मर्दे

नीचे दिए गए विकल्पों में से सही उत्तर चुनिए:

1. A-III, B-I, C-IV, D-II
2. A-I, B-II, C-III, D-IV
3. A-III, B-IV, C-II, D-I
4. A-IV, B-II, C-I, D-III

**Options :**

485584142093. 1  
485584142094. 2  
485584142095. 3  
485584142096. 4

**Question Number : 10 Question Id : 48558435525 Question Type : MCQ Option Shuffling : No Is Question Mandatory : No Calculator : None Response Time : N.A Think Time : N.A Minimum Instruction Time : 0**

**Correct Marks : 5 Wrong Marks : 1**

**Question Key Details :**

Key	Value
Comprehension	MCQ

Arrange the following events relating to India in the correct time line sequence.

- A. First 'Industrial Policy Resolution'
- B. "Modern Bread", a bread manufacturing firm sold to private sector
- C. First phase of green revolution
- D. Setting up of planning commission

Choose the correct answer from the options given below:

1. D, A, C, B
2. A, D, C, B
3. D, A, B, C
4. A, C, B, D

**Options :**

485584142097. 1  
485584142098. 2

485584142099. 3

485584142100. 4

**Question Number : 10 Question Id : 48558435525 Question Type : MCQ Option Shuffling : No Is Question Mandatory : No Calculator : None Response Time : N.A Think Time : N.A Minimum Instruction Time : 0**

**Correct Marks : 5 Wrong Marks : 1**

**Question Key Details :**

Key	Value
Comprehension	MCQ

भारत से संबंधित निम्नांकित घटनाओं को सही समय रेखा क्रम में व्यवस्थित कीजिए

- A. प्रथम आद्योगिक नीति संकल्प
- B. "मॉडर्न ब्रेड", ब्रेड विनिर्माण फर्म निजी क्षेत्र के हाथों बेचा गया
- C. हरित क्रांति का प्रथम चरण
- D. योजना आयोग की स्थापना

नीचे दिए गए विकल्पों में से सही उत्तर चुनिए:

- 1. D, A, C, B
- 2. A, D, C, B
- 3. D, A, B, C
- 4. A, C, B, D

**Options :**

485584142097. 1

485584142098. 2

485584142099. 3

485584142100. 4

**Question Number : 11 Question Id : 48558435526 Question Type : MCQ Option Shuffling : No Is Question Mandatory : No Calculator : None Response Time : N.A Think Time : N.A Minimum Instruction Time : 0**

**Correct Marks : 5 Wrong Marks : 1**

**Question Key Details :**

Key	Value
Comprehension	MCQ

Match List I with List II

LIST I		LIST II	
A.	Pradhan Mantri Jan-Dhan Yojana	I.	Elderly people given pension by Central Government
B.	Swarna Jayanti Shahari Rozgar Yojana	II.	Self-Employment opportunities in urban areas.
C.	National Social Assistance Programme	III.	Urban poor
D.	National Urban Livelihood Mission	IV.	Encouraged to open Bank Account

Choose the correct answer from the options given below:

1. A-I, B-III, C-II, D-IV
2. A-IV, B-III, C-II, D-I
3. A-IV, B-II, C-I, D-III
4. A-I, B-II, C-III, D-IV

**Options :**

485584142101. 1  
485584142102. 2  
485584142103. 3  
485584142104. 4

**Question Number : 11 Question Id : 48558435526 Question Type : MCQ Option Shuffling : No Is Question Mandatory : No Calculator : None Response Time : N.A Think Time : N.A Minimum Instruction Time : 0**

**Correct Marks : 5 Wrong Marks : 1**

**Question Key Details :**

Key	Value
Comprehension	MCQ

सूची I और सूची II को सुमेलित कीजिए

सूची I		सूची II	
A.	प्रधानमन्त्री जन धन योजना	I.	वृद्ध व्यक्तियों को केंद्री सरकार द्वारा पेंशन दिया गया
B.	स्वर्ण जयंती शहरी रोजगार योजना	II.	शहरी अंगों में स्व-रोजगार के अवसर
C.	राष्ट्रीय समाजिक सहायता कार्यक्रम	III.	शहरी गरीब
D.	राष्ट्रीय शहरी जीवनयापन (आजीविका) मिशन	IV.	बैंक खाता खोलने के लिए प्रोत्साहन दिया गया

नीचे दिए गए विकल्पों में से सही उत्तर चुनिए:

1. A-I, B-III, C-II, D-IV
2. A-IV, B-III, C-II, D-I
3. A-IV, B-II, C-I, D-III
4. A-I, B-II, C-III, D-IV

**Options :**

485584142101. 1

485584142102. 2  
485584142103. 3  
485584142104. 4

**Question Number : 12 Question Id : 48558435527 Question Type : MCQ Option Shuffling : No Is Question Mandatory : No Calculator : None Response Time : N.A Think Time : N.A Minimum Instruction Time : 0**

**Correct Marks : 5 Wrong Marks : 1**

**Question Key Details :**

Key	Value
Comprehension	MCQ

Arrange the following in sequence in the events of happening.

- A. First census in India
- B. The Tata Iron steel company
- C. The opening of Suez canal
- D. Railways in India

Choose the correct answer from the options given below:

- 1. A, C, D, B
- 2. D, C, B, A
- 3. D, C, A, B
- 4. C, D, A, B

**Options :**

485584142105. 1  
485584142106. 2  
485584142107. 3  
485584142108. 4

**Question Number : 12 Question Id : 48558435527 Question Type : MCQ Option Shuffling : No Is Question Mandatory : No Calculator : None Response Time : N.A Think Time : N.A Minimum Instruction Time : 0**

**Correct Marks : 5 Wrong Marks : 1**

**Question Key Details :**

Key	Value
Comprehension	MCQ

निम्नांकित को उनके घटित होने के आधार पर सही क्रम में व्यवस्थित कीजिए

- A. भारत की प्रथम जनगणना
- B. टाटा लौह इस्पात कंपनी
- C. स्वेज नहर का खोला जाना
- D. भारत में रेल

नीचे दिए गए विकल्पों में से सही उत्तर चुनिए:

- 1. A, C, D, B
- 2. D, C, B, A
- 3. D, C, A, B
- 4. C, D, A, B

**Options :**

- 485584142105. 1
- 485584142106. 2
- 485584142107. 3
- 485584142108. 4

**Question Number : 13 Question Id : 48558435528 Question Type : MCQ Option Shuffling : No Is Question Mandatory : No Calculator : None Response Time : N.A Think Time : N.A Minimum Instruction Time : 0**

**Correct Marks : 5 Wrong Marks : 1**

**Question Key Details :**

Key	Value
Comprehension	MCQ

Which of the main factor is responsible to create economic problems in society?

- 1. Resources are costly
- 2. Unlimited wants and surplus resources
- 3. Unlimited wants and scare resources
- 4. High density of population

**Options :**

- 485584142109. 1
- 485584142110. 2
- 485584142111. 3
- 485584142112. 4

**Question Number : 13 Question Id : 48558435528 Question Type : MCQ Option Shuffling : No Is Question Mandatory : No Calculator : None Response Time : N.A Think Time : N.A Minimum Instruction Time : 0**

**Correct Marks : 5 Wrong Marks : 1**

**Question Key Details :**

Key	Value
Comprehension	MCQ





निम्नांकित में से क्या समाज में अधिक समस्याएं उत्पन्न करने के लिए उत्तरदायी प्रमुख कारक है

1. महंगे संसाधन
2. असीमित आवश्यकता और अधिक संसाधनों का अभाव
3. असीमित आवश्यकता और दुर्लभ संसाधन
4. जनसंख्या का उच्च घनत्व

**Options :**

485584142109. 1  
485584142110. 2  
485584142111. 3  
485584142112. 4

**Question Number : 14 Question Id : 48558435529 Question Type : MCQ Option Shuffling : No Is Question Mandatory : No Calculator : None Response Time : N.A Think Time : N.A Minimum Instruction Time : 0**

**Correct Marks : 5 Wrong Marks : 1**

**Question Key Details :**

Key	Value
Comprehension	MCQ

Calculate operating surplus from the following.

		(₹ in Cr)
a	Rent & Interest	50
b	Bonus	80
c	Profit After Tax	30
d	Tax rate	40%

Choose the correct option.

1. ₹110 Cr
2. ₹130 Cr
3. ₹80 Cr
4. ₹100 Cr

**Options :**

485584142113. 1  
485584142114. 2  
485584142115. 3  
485584142116. 4

**Question Number : 14 Question Id : 48558435529 Question Type : MCQ Option Shuffling : No Is Question Mandatory : No Calculator : None Response Time : N.A Think Time : N.A Minimum Instruction Time : 0**

**Correct Marks : 5 Wrong Marks : 1**



**Question Key Details :**

Key	Value
Comprehension	MCQ

निम्नांकित में से प्रचालन अधिशेष का परिकलन कीजिए;

		(करोड़ रू. में)
a	किराया और ब्याज	50
b	बोनस	80
c	कर उपरांत लाभ (Profit After Tax)	30
d	कर की दर	40%

सही विकल्प चुनिए

1. 110 करोड़ रू.
2. 130 करोड़ रू.
3. 80 करोड़ रू.
4. 100 करोड़ रू.

**Options :**

485584142113. 1  
485584142114. 2  
485584142115. 3  
485584142116. 4

**Question Number : 15 Question Id : 48558435530 Question Type : MCQ Option Shuffling : No Is Question Mandatory : No Calculator : None Response Time : N.A Think Time : N.A Minimum Instruction Time : 0**

**Correct Marks : 5 Wrong Marks : 1**

**Question Key Details :**

Key	Value
Comprehension	MCQ

Given a Cash Reserve Ratio (CRR) being 20%, the value of the money multiplier will be \_\_\_\_\_.

1. 3
2. 20
3. 10
4. 5

**Options :**

485584142117. 1  
485584142118. 2  
485584142119. 3  
485584142120. 4

Question Number : 15 Question Id : 48558435530 Question Type : MCQ Option Shuffling : No Is Question Mandatory : No Calculator : None Response Time : N.A Think Time : N.A Minimum Instruction Time : 0

Correct Marks : 5 Wrong Marks : 1

Question Key Details :

Key	Value
Comprehension	MCQ

यदि नकद आरक्षिति अनुपात (सि आर आर) 20% हो तो धन गुणक का मन होगा \_\_\_\_\_.

1. 3
2. 20
3. 10
4. 5

Options :

485584142117. 1  
485584142118. 2  
485584142119. 3  
485584142120. 4

Question Number : 16 Question Id : 48558435531 Question Type : MCQ Option Shuffling : No Is Question Mandatory : No Calculator : None Response Time : N.A Think Time : N.A Minimum Instruction Time : 0

Correct Marks : 5 Wrong Marks : 1

Question Key Details :

Key	Value
Comprehension	MCQ

Choose the correct example of Revenue Expenditure.

1. Excise duty
2. Post office savings Accounts
3. Payment of salary to staff of government hospital
4. Recovery of loans

Options :

485584142121. 1  
485584142122. 2  
485584142123. 3  
485584142124. 4

Question Number : 16 Question Id : 48558435531 Question Type : MCQ Option Shuffling : No Is Question Mandatory : No Calculator : None Response Time : N.A Think Time : N.A Minimum Instruction Time : 0

Correct Marks : 5 Wrong Marks : 1

Question Key Details :

Key	Value
Comprehension	MCQ



राजस्व व्यय का सही उदाहरण चुनिए

1. उत्पाद शुल्क
2. डाकघर बचत खाता
3. सरकारी अस्पताल के कर्मचारी को वेतन की संदायगी
4. ऋण की वसूली

**Options :**

485584142121. 1  
485584142122. 2  
485584142123. 3  
485584142124. 4

**Question Number : 17 Question Id : 48558435532 Question Type : MCQ Option Shuffling : No Is Question Mandatory : No Calculator : None Response Time : N.A Think Time : N.A Minimum Instruction Time : 0**

**Correct Marks : 5 Wrong Marks : 1**

**Question Key Details :**

Key	Value
Comprehension	MCQ

Arrange the sequence of events in the correct order relating to a quantitative tool used by the central bank during the times of inflation.

- A. Hence the money supply in the economy decreases
- B. As a result, loans taken by commercial banks become more expensive
- C. The central bank increases the bank rate
- D. This reduces the reserves held by the commercial banks

Choose the correct answer from the options given below:

1. B, C, A, D
2. C, B, D, A
3. A, B, C, D
4. D, B, A, C

**Options :**

485584142125. 1  
485584142126. 2  
485584142127. 3  
485584142128. 4

**Question Number : 17 Question Id : 48558435532 Question Type : MCQ Option Shuffling : No Is Question Mandatory : No Calculator : None Response Time : N.A Think Time : N.A Minimum Instruction Time : 0**

**Correct Marks : 5 Wrong Marks : 1**

**Question Key Details :**

Key	Value
-----	-------



मुद्रास्फीति के समय केन्द्रीय बैंक द्वारा प्रयुक्त मात्रात्मक युक्ति से संबंधित निम्नांकित को सही क्रम में व्यवस्थित कीजिए

- अतएव अर्थव्यवस्था में धनापूर्ति घटती है।
- इसके फलस्वरूप, वाणिज्यिक बैंकों द्वारा लिए गए ऋण अधिक महंगे हो जाते हैं।
- केन्द्रीय बैंक बैंक रेट बढ़ा देता है।
- इसके फलस्वरूप वाणिज्यिक बैंकों द्वारा धारित आरक्षित घट जाती है।

नीचे दिए गए विकल्पों में से सही उत्तर चुनिए:

- B, C, A, D
- C, B, D, A
- A, B, C, D
- D, B, A, C

**Options :**

485584142125. 1  
485584142126. 2  
485584142127. 3  
485584142128. 4

**Question Number : 18 Question Id : 48558435533 Question Type : MCQ Option Shuffling : No Is Question Mandatory : No Calculator : None Response Time : N.A Think Time : N.A Minimum Instruction Time : 0**

**Correct Marks : 5 Wrong Marks : 1**

**Question Key Details :**

Key	Value
Comprehension	MCQ

Match List I with List II

LIST I		LIST II	
A.	Stocks	I.	Expected constant loss in value of a capital
B.	Flows	II.	Unexpected destruction of capital
C.	Depreciation	III.	Have time dimension
D.	Capital loss	IV.	Do not have any time dimension

Choose the correct answer from the options given below:

- A-I, B-II, C-III, D-IV
- A-IV, B-III, C-I, D-II
- A-III, B-IV, C-II, D-I
- A-IV, B-III, C-II, D-I

**Options :**

485584142129. 1  
485584142130. 2

485584142131. 3  
485584142132. 4

**Question Number : 18 Question Id : 48558435533 Question Type : MCQ Option Shuffling : No Is Question Mandatory : No Calculator : None Response Time : N.A Think Time : N.A Minimum Instruction Time : 0**

**Correct Marks : 5 Wrong Marks : 1**

**Question Key Details :**

Key	Value
Comprehension	MCQ

सूची I और सूची II को सुमेलित कीजिए

LIST I		LIST II	
A.	स्टॉक	I.	पूंजी के मूल्य में प्रत्याशित निरंतर हानी
B.	प्रवाह	II.	पूंजी का अप्रत्याशित रूप से नष्ट होना
C.	मूल्यहास	III.	इसमें समय का आयाम होता है
D.	पूंजी की हानि	IV.	इसमें समय का आयाम नहीं होता है

नीचे दिए गए विकल्पों में से सही उत्तर चुनिए:

1. A-I, B-II, C-III, D-IV
2. A-IV, B-III, C-I, D-II
3. A-III, B-IV, C-II, D-I
4. A-IV, B-III, C-II, D-I

**Options :**

485584142129. 1  
485584142130. 2  
485584142131. 3  
485584142132. 4

**Question Number : 19 Question Id : 48558435534 Question Type : MCQ Option Shuffling : No Is Question Mandatory : No Calculator : None Response Time : N.A Think Time : N.A Minimum Instruction Time : 0**

**Correct Marks : 5 Wrong Marks : 1**

**Question Key Details :**

Key	Value
Comprehension	MCQ

Arrange the following events in a sequence of its happening.

- A. Reforms in Pakistan
- B. Great Proletarian Cultural Revolution
- C. Commune system
- D. Pakistan's First Five year plan
- E. China's Twelfth Five Year Plan

Choose the correct answer from the options given below:

- 1. C, D, B, A, E
- 2. C, D, A, B, E
- 3. E, B, A, C, D
- 4. A, D, C, B, E

**Options :**

- 485584142133. 1
- 485584142134. 2
- 485584142135. 3
- 485584142136. 4

**Question Number : 19 Question Id : 48558435534 Question Type : MCQ Option Shuffling : No Is Question Mandatory : No Calculator : None Response Time : N.A Think Time : N.A Minimum Instruction Time : 0**

**Correct Marks : 5 Wrong Marks : 1**

**Question Key Details :**

Key	Value
Comprehension	MCQ

निम्नांकित घटनाओं को उनके घटित होने के क्रम में व्यवस्थित कीजिए

- A. पाकिस्तान में सुधार
- B. महा अभिजात्य परक सांस्कृतिक आन्दोलन
- C. साम्यवादी तन्त्र
- D. पाकिस्तान की प्रथम पंचवर्षीय योजना
- E. चीन की बारहवीं पंचवर्षीय योजना

नीचे दिए गए विकल्पों में से सही उत्तर चुनिए:

- 1. C, D, B, A, E
- 2. C, D, A, B, E
- 3. E, B, A, C, D
- 4. A, D, C, B, E

**Options :**

- 485584142133. 1
- 485584142134. 2

485584142135. 3

485584142136. 4

**Question Number : 20 Question Id : 48558435535 Question Type : MCQ Option Shuffling : No Is Question Mandatory : No Calculator : None Response Time : N.A Think Time : N.A Minimum Instruction Time : 0**

**Correct Marks : 5 Wrong Marks : 1**

**Question Key Details :**

Key	Value
Comprehension	MCQ

Formal sector establishment are those establishment that employs ?

1. 20 hired workers or more
2. 20 hired workers or less
3. 10 hired workers or more
4. 10 hired workers or less

**Options :**

485584142137. 1

485584142138. 2

485584142139. 3

485584142140. 4

**Question Number : 20 Question Id : 48558435535 Question Type : MCQ Option Shuffling : No Is Question Mandatory : No Calculator : None Response Time : N.A Think Time : N.A Minimum Instruction Time : 0**

**Correct Marks : 5 Wrong Marks : 1**

**Question Key Details :**

Key	Value
Comprehension	MCQ

औपचारिक क्षेत्र की स्थापनाओं में ऐसे स्थापन शामिल हैं जहाँ

1. 20 या उससे अधिक श्रमिक को नियोजित किया जाता है
2. 20 या उससे कम श्रमिक को नियोजित किया जाता है
3. 10 या उससे अधिक श्रमिक को नियोजित किया जाता है
4. 10 या उससे कम श्रमिक को नियोजित किया जाता है

**Options :**

485584142137. 1

485584142138. 2

485584142139. 3

485584142140. 4

**Question Number : 21 Question Id : 48558435536 Question Type : MCQ Option Shuffling : No Is Question Mandatory : No Calculator : None Response Time : N.A Think Time : N.A Minimum Instruction Time : 0**

**Correct Marks : 5 Wrong Marks : 1**





**Question Key Details :**

Key	Value
Comprehension	MCQ

Which of the following are operating in the informal sector of the country?

- A. Cycle-rickshaw puller
- B. Civil engineer in a government construction enterprises
- C. Cook in a hostel which employs nine hired workers
- D. Private school teacher in a school which has eleven hired teachers.
- E. Farmer cultivating his plot of land

Choose the correct answer from the options given below:

- 1. B, and C only
- 2. A and D only
- 3. A, B and D only
- 4. A, C and E only

**Options :**

- 485584142141. 1
- 485584142142. 2
- 485584142143. 3
- 485584142144. 4

**Question Number : 21 Question Id : 48558435536 Question Type : MCQ Option Shuffling : No Is Question Mandatory : No Calculator : None Response Time : N.A Think Time : N.A Minimum Instruction Time : 0**

**Correct Marks : 5 Wrong Marks : 1**

**Question Key Details :**

Key	Value
Comprehension	MCQ

निम्नांकित में से कौन देश के अनौपचारिक क्षेत्र में कार्यरत है?

- A. साइकल -रिक्शा चालक
- B. किसी सरकारी भवन निर्माण उधम में कार्यरत सिविल अभियंता
- C. किसी ऐसे छात्रावास का रसोइया जहाँ नौ कर्मकार नियोजित है
- D. किसी निजी विद्यालय का स्कूल शिक्षक जिसमे 11 अध्यापक नियोजित हैं
- E. अपनी भूमि के प्लॉट में खेती करनेवाला कृषक

नीचे दिए गए विकल्पों में से सही उत्तर चुनिए:

- 1. केवल B, and C
- 2. केवल A and D
- 3. केवल A, B and D
- 4. केवल A, C and E

**Options :**

485584142141. 1  
485584142142. 2  
485584142143. 3  
485584142144. 4

**Question Number : 22 Question Id : 48558435537 Question Type : MCQ Option Shuffling : No Is Question Mandatory : No Calculator : None Response Time : N.A Think Time : N.A Minimum Instruction Time : 0**

**Correct Marks : 5 Wrong Marks : 1**

**Question Key Details :**

Key	Value
Comprehension	MCQ

Which of the following is not a central problem of an economy?

1. What to produce more ?
2. How much of which resource to be used ?
3. How to increase resources ?
4. Distribution of final produce among the individuals.

**Options :**

485584142145. 1  
485584142146. 2  
485584142147. 3  
485584142148. 4

**Question Number : 22 Question Id : 48558435537 Question Type : MCQ Option Shuffling : No Is Question Mandatory : No Calculator : None Response Time : N.A Think Time : N.A Minimum Instruction Time : 0**

**Correct Marks : 5 Wrong Marks : 1**

**Question Key Details :**

Key	Value
Comprehension	MCQ

निम्नांकित में से क्या किसी अर्थव्यवस्था की मुख्य समस्या नहीं है:

1. किस चीज का और अधिक उत्पादन किया जाये ?
2. किस संसाधन कितना अधिक प्रयोग किया जाए?
3. संसाधनों में कैसे वृद्धि किया जाए?
4. व्यक्तियों में अंतिम उत्पादन का वितरण ?

**Options :**

485584142145. 1  
485584142146. 2  
485584142147. 3  
485584142148. 4

Question Number : 23 Question Id : 48558435538 Question Type : MCQ Option Shuffling : No Is Question Mandatory : No Calculator : None Response Time : N.A Think Time : N.A Minimum Instruction Time : 0

Correct Marks : 5 Wrong Marks : 1

Question Key Details :

Key	Value
Comprehension	MCQ

Calculate the factor income from Abroad from the following.

		(₹ in core)
(a)	NNP at market price	550
(b)	Net Indirect taxes	30
(c)	NVA at factor cost	540
(d)	Factor income to Abroad	50

1. ₹70 Crore
2. ₹90 Crore
3. ₹30 Crore
4. ₹50 Crore

Options :

- 485584142149. 1
- 485584142150. 2
- 485584142151. 3
- 485584142152. 4

Question Number : 23 Question Id : 48558435538 Question Type : MCQ Option Shuffling : No Is Question Mandatory : No Calculator : None Response Time : N.A Think Time : N.A Minimum Instruction Time : 0

Correct Marks : 5 Wrong Marks : 1

Question Key Details :

Key	Value
Comprehension	MCQ

निम्नांकित में से विदेश से घटक आय का परिकलन कीजिए

		(करोड़ रु. में)
(a)	बाजार मूल्य पर एन एन पी	550
(b)	निबल अप्रत्यक्ष कर	30
(c)	कारक लागत पर एन वी ए	540
(d)	विदेश में हुई कारक आय	50

नीचे दिए गए विकल्पों में से सही उत्तर चुनिए:

1. 70 करोड़ रु.
2. 90 करोड़ रु.
3. 30 करोड़ रु.
4. 50 करोड़ रु.

**Options :**

485584142149. 1  
485584142150. 2  
485584142151. 3  
485584142152. 4

**Question Number : 24 Question Id : 48558435539 Question Type : MCQ Option Shuffling : No Is Question Mandatory : No Calculator : None Response Time : N.A Think Time : N.A Minimum Instruction Time : 0**

**Correct Marks : 5 Wrong Marks : 1**

**Question Key Details :**

Key	Value
Comprehension	MCQ

A fall in Bank rate can increase the \_\_\_\_\_ .

1. Money supply
2. Liability
3. G.D.P
4. Reverse Repo Rate

**Options :**

485584142153. 1  
485584142154. 2  
485584142155. 3  
485584142156. 4

**Question Number : 24 Question Id : 48558435539 Question Type : MCQ Option Shuffling : No Is Question Mandatory : No Calculator : None Response Time : N.A Think Time : N.A Minimum Instruction Time : 0**

**Correct Marks : 5 Wrong Marks : 1**

**Question Key Details :**



Key	Value
Comprehension	MCQ

बैंक दर में गिरावट आने के फलस्वरूप इनमे से किसमे वृद्धि होती है

1. धनापूर्ती
2. देयता
3. सकल घरेलू उत्पाद (जी डी पी)
4. रिवर्स रेपो रेट

**Options :**

485584142153. 1  
 485584142154. 2  
 485584142155. 3  
 485584142156. 4

**Question Number : 25 Question Id : 48558435540 Question Type : MCQ Option Shuffling : No Is Question Mandatory : No Calculator : None Response Time : N.A Think Time : N.A Minimum Instruction Time : 0**

**Correct Marks : 5 Wrong Marks : 1**

**Question Key Details :**

Key	Value
Comprehension	MCQ

Identify the correct formula of calculating of domestic income by Expenditure Method.

1.  $GDP_{MP} = PFCE + GFCE + NDCF - NE$
2.  $GDP_{MP} = PFCE - GFCE + GDCF - NE$
3.  $GDP_{MP} = PFCE + GFCE + GDCF + NE$
4.  $GDP_{MP} = PFCE - GFCE - NDCF + NE$

**Options :**

485584142157. 1  
 485584142158. 2  
 485584142159. 3  
 485584142160. 4

**Question Number : 25 Question Id : 48558435540 Question Type : MCQ Option Shuffling : No Is Question Mandatory : No Calculator : None Response Time : N.A Think Time : N.A Minimum Instruction Time : 0**

**Correct Marks : 5 Wrong Marks : 1**

**Question Key Details :**

Key	Value
Comprehension	MCQ

व्यय विधि द्वारा घरेलू आय के परिकलन संबंधी सही सूत्र को चिह्नंकित कीजिए

1.  $GDP_{MP} = PFCE + GFCE + NDCF - NE$
2.  $GDP_{MP} = PFCE - GFCE + GDCF - NE$
3.  $GDP_{MP} = PFCE + GFCE + GDCF + NE$
4.  $GDP_{MP} = PFCE - GFCE - NDCF + NE$

**Options :**

485584142157. 1  
485584142158. 2  
485584142159. 3  
485584142160. 4

**Question Number : 26 Question Id : 48558435541 Question Type : MCQ Option Shuffling : No Is Question Mandatory : No Calculator : None Response Time : N.A Think Time : N.A Minimum Instruction Time : 0**

**Correct Marks : 5 Wrong Marks : 1**

**Question Key Details :**

Key	Value
Comprehension	MCQ

Which of the following is not true about a commercial Bank?

1. Assets = Reserves + Loans
2. Net worth = Assets - Liabilities
3. Liabilities = Loans
4. Deposits = Assets - Net worth

**Options :**

485584142161. 1  
485584142162. 2  
485584142163. 3  
485584142164. 4

**Question Number : 26 Question Id : 48558435541 Question Type : MCQ Option Shuffling : No Is Question Mandatory : No Calculator : None Response Time : N.A Think Time : N.A Minimum Instruction Time : 0**

**Correct Marks : 5 Wrong Marks : 1**

**Question Key Details :**

Key	Value
Comprehension	MCQ

वाणिज्यिक बैंक के बारे में निम्नांकित में से कौन सा कथन सही नहीं है:

1. परिसंपत्तिया = आरक्षित + ऋण
2. निबल मूल्य = परिसंपत्तिया – देयताएं
3. देयताएं = ऋण
4. निक्षेप = आस्तियां – निबल मूल्य

**Options :**

485584142161. 1  
485584142162. 2  
485584142163. 3  
485584142164. 4

**Question Number : 27 Question Id : 48558435542 Question Type : MCQ Option Shuffling : No Is Question Mandatory : No Calculator : None Response Time : N.A Think Time : N.A Minimum Instruction Time : 0**

**Correct Marks : 5 Wrong Marks : 1**

**Question Key Details :**

Key	Value
Comprehension	MCQ

Flexible exchange rate is determined by:

1. RBI
2. Govt
3. Market forces
4. IMF

**Options :**

485584142165. 1  
485584142166. 2  
485584142167. 3  
485584142168. 4

**Question Number : 27 Question Id : 48558435542 Question Type : MCQ Option Shuffling : No Is Question Mandatory : No Calculator : None Response Time : N.A Think Time : N.A Minimum Instruction Time : 0**

**Correct Marks : 5 Wrong Marks : 1**

**Question Key Details :**

Key	Value
Comprehension	MCQ

लोचदार विनियम दर का अवधारणा किसके द्वारा किया जाता है?

1. भारतीय रिजर्व बैंक
2. सरकार
3. बाजार की शक्तियाँ
4. अंतरराष्ट्रीय मुद्रा कोष (आई एम एफ)

**Options :**

485584142165. 1  
485584142166. 2  
485584142167. 3  
485584142168. 4

**Question Number : 28 Question Id : 48558435543 Question Type : MCQ Option Shuffling : No Is Question Mandatory : No Calculator : None Response Time : N.A Think Time : N.A Minimum Instruction Time : 0**

**Correct Marks : 5 Wrong Marks : 1**

**Question Key Details :**

Key	Value
Comprehension	MCQ

Match List I with List II

LIST I		LIST II	
A.	Self -reliance	I.	Increase in Production
B.	Modernisation	II.	Avoiding imports
C.	Growth	III.	Benefits to rich and poor
D.	Equity	IV.	Adopting new technology

Choose the correct answer from the options given below:

1. A-I, B-II, C-III, D-IV
2. A-IV, B-III, C-II, D-I
3. A-II, B-IV, C-I, D-III
4. A-III, B-I, C-II, D-IV

**Options :**

485584142169. 1  
485584142170. 2  
485584142171. 3  
485584142172. 4

**Question Number : 28 Question Id : 48558435543 Question Type : MCQ Option Shuffling : No Is Question Mandatory : No Calculator : None Response Time : N.A Think Time : N.A Minimum Instruction Time : 0**

**Correct Marks : 5 Wrong Marks : 1**

**Question Key Details :**

Key	Value
-----	-------





सूची I और सूची II को सुमेलित कीजिए

सूची I		सूची II	
A.	आत्मनिर्भरता	I.	उत्पादन में वृद्धि
B.	आधुनिकरण	II.	आयात का परिहार
C.	वृद्धि	III.	धनि और गरीब दोनों को प्रसुविधाएं (लाभ)
D.	इकित्ती	IV.	नै प्रद्योगिकी को अपनाना

नीचे दिए गए विकल्पों में से सही उत्तर चुनिए:

1. A-I, B-II, C-III, D-IV
2. A-IV, B-III, C-II, D-I
3. A-II, B-IV, C-I, D-III
4. A-III, B-I, C-II, D-IV

**Options :**

485584142169. 1  
485584142170. 2  
485584142171. 3  
485584142172. 4

**Question Number : 29 Question Id : 48558435544 Question Type : MCQ Option Shuffling : No Is Question Mandatory : No Calculator : None Response Time : N.A Think Time : N.A Minimum Instruction Time : 0**

**Correct Marks : 5 Wrong Marks : 1**

**Question Key Details :**

Key	Value
Comprehension	MCQ

Those group who regularly moves in and out of poverty are known as \_\_\_\_\_.

1. Churning poor
2. Chronic poor
3. Occasionally poor
4. Never poor

**Options :**

485584142173. 1  
485584142174. 2  
485584142175. 3  
485584142176. 4

**Question Number : 29 Question Id : 48558435544 Question Type : MCQ Option Shuffling : No No Calculator : None Response Time : N.A Think Time : N.A Minimum Instruction Time : 0**



Correct Marks : 5 Wrong Marks : 1

Question Key Details :

Key	Value
Comprehension	MCQ

ऐसे समूह जो नियमित तौर पर निर्धनता में आते हैं और निर्धनता से बाहर निकल जाते हैं, उन्हें कहा जाता है \_\_\_\_\_।

1. विलोडित निर्धन
2. चिरकालिक निर्धन
3. कभी - कबार निर्धन
4. कभी भी निर्धन नहीं

Options :

485584142173. 1  
485584142174. 2  
485584142175. 3  
485584142176. 4

Question Number : 30 Question Id : 48558435545 Question Type : MCQ Option Shuffling : No Is Question Mandatory : No Calculator : None Response Time : N.A Think Time : N.A Minimum Instruction Time : 0

Correct Marks : 5 Wrong Marks : 1

Question Key Details :

Key	Value
Comprehension	MCQ

Full form of IBRD

1. Indian Bank for Reconstruction
2. Indian Bank for Rural Development
3. International Bank for Rural Development
4. International Bank for Reconstruction and Development

Options :

485584142177. 1  
485584142178. 2  
485584142179. 3  
485584142180. 4

Question Number : 30 Question Id : 48558435545 Question Type : MCQ Option Shuffling : No Is Question Mandatory : No Calculator : None Response Time : N.A Think Time : N.A Minimum Instruction Time : 0

Correct Marks : 5 Wrong Marks : 1

Question Key Details :

Key	Value
Comprehension	MCQ

आई वी आर डी का पूरा नाम है:

1. इंडियन बैंक फॉर रिकंस्ट्रक्शन
2. इंडियन बैंक फॉर रुरल डेवलपमेंट
3. इंटरनेशनल बैंक फॉर रुरल डेवलपमेंट
4. इंटरनेशनल बैंक फॉर रिकंस्ट्रक्शन एंड डेवलपमेंट

**Options :**

485584142177. 1  
485584142178. 2  
485584142179. 3  
485584142180. 4

**Question Number : 31 Question Id : 48558435546 Question Type : MCQ Option Shuffling : No Is Question Mandatory : No Calculator : None Response Time : N.A Think Time : N.A Minimum Instruction Time : 0**

**Correct Marks : 5 Wrong Marks : 1**

**Question Key Details :**

Key	Value
Comprehension	MCQ

Which of the following is studied under micro economics?

1. National Income of a country
2. Condition of unemployment
3. Textile industry
4. Revenue deficit of the country

**Options :**

485584142181. 1  
485584142182. 2  
485584142183. 3  
485584142184. 4

**Question Number : 31 Question Id : 48558435546 Question Type : MCQ Option Shuffling : No Is Question Mandatory : No Calculator : None Response Time : N.A Think Time : N.A Minimum Instruction Time : 0**

**Correct Marks : 5 Wrong Marks : 1**

**Question Key Details :**

Key	Value
Comprehension	MCQ

सूक्ष्म अर्थशास्त्र (माइक्रो इकोनॉमिक्स) के अंतर्गत निम्नांकित में से किसका अध्ययन किया जाता है?

1. किसी देश की राष्ट्रिय आय
2. बेरोजगारी की स्थिति
3. वस्तु उद्योग
4. देश का राजस्व घाटा

**Options :**

485584142181. 1  
485584142182. 2  
485584142183. 3  
485584142184. 4

**Question Number : 32 Question Id : 48558435547 Question Type : MCQ Option Shuffling : No Is Question Mandatory : No Calculator : None Response Time : N.A Think Time : N.A Minimum Instruction Time : 0**

**Correct Marks : 5 Wrong Marks : 1**

**Question Key Details :**

Key	Value
Comprehension	MCQ

Calculate compensation of employees from the following items:

Items	Rs in Crores
Profit after tax	20
Interest	45
GDP <sub>MP</sub>	200
Goods and service tax	10
Depreciation	50
Rent	25
Corporate tax	5

Choose the correct option.

1. 45 Cores
2. 42 Cores
3. 50 Cores
4. 44 Cores

**Options :**

485584142185. 1  
485584142186. 2  
485584142187. 3  
485584142188. 4

Question Number : 32 Question Id : 48558435547 Question Type : MCQ Option Shuffling : No Is Question Mandatory : No Calculator : None Response Time : N.A Think Time : N.A Minimum Instruction Time : 0

Correct Marks : 5 Wrong Marks : 1

Question Key Details :

Key	Value
Comprehension	MCQ

निम्नांकित मदों से कर्मचारियों की खपत का परिकलन कीजिए:

मद	करोड़ रु. में
कर पश्चात लाभ (Profit after tax)	20
ब्याज	45
जी डी पी एम पी	200
वस्तु और सेवा कर	10
मूल्यहास	50
किराया	25
कारपोरेट कर	5

सही विकल्प चुनिए:

1. 45 करोड़
2. 42 करोड़
3. 50 करोड़
4. 44 करोड़

Options :

485584142185. 1

485584142186. 2

485584142187. 3

485584142188. 4

Question Number : 33 Question Id : 48558435548 Question Type : MCQ Option Shuffling : No Is Question Mandatory : No Calculator : None Response Time : N.A Think Time : N.A Minimum Instruction Time : 0

Correct Marks : 5 Wrong Marks : 1

Question Key Details :

Key	Value
Comprehension	MCQ

Which statement is not related to Normative Economics?

1. It prescribes norms of welfare of the society
2. It regulates in order to achieve idealised norms
3. It explains ideal situation and gives policy prescriptions explicitly
4. It explains actual behavior of economic agents

**Options :**

485584142189. 1  
485584142190. 2  
485584142191. 3  
485584142192. 4

**Question Number : 33 Question Id : 48558435548 Question Type : MCQ Option Shuffling : No Is Question Mandatory : No Calculator : None Response Time : N.A Think Time : N.A Minimum Instruction Time : 0**

**Correct Marks : 5 Wrong Marks : 1**

**Question Key Details :**

Key	Value
Comprehension	MCQ

निम्नांकित में से कौन सा कथन प्रतिमानी अर्थशास्त्र से संबंध नहीं है ?

1. इसमें समाज कल्याण के प्रतिमान विहित किया जाता है।
2. यह आदर्शकृत प्रतिमानों की प्राप्ति को विनियमित करता है।
3. इसमें आदर्श स्थिति की व्याख्या की जाती है और स्पष्ट रूप से नीति-संबंधी निर्धारक तथ्यों का उल्लेख होता है।
4. इसमें आर्थिक अभिकर्ताओं के वास्तविक व्यवहार की व्याख्या की जाती है।

**Options :**

485584142189. 1  
485584142190. 2  
485584142191. 3  
485584142192. 4

**Question Number : 34 Question Id : 48558435549 Question Type : MCQ Option Shuffling : No Is Question Mandatory : No Calculator : None Response Time : N.A Think Time : N.A Minimum Instruction Time : 0**

**Correct Marks : 5 Wrong Marks : 1**

**Question Key Details :**

Key	Value
Comprehension	MCQ

Which of the following are to be considered while Measuring Fiscal Deficit?

- A. Capital expenditure
- B. Revenue receipts
- C. Debt creating receipts
- D. Revenue expenditure
- E. Deficit on current A/c

Choose the correct answer from the options given below:

1. A, B and C only
2. A, B and D only
3. A, B and E only
4. A, D and E only

**Options :**

- 485584142193. 1
- 485584142194. 2
- 485584142195. 3
- 485584142196. 4

**Question Number : 34 Question Id : 48558435549 Question Type : MCQ Option Shuffling : No Is Question Mandatory : No Calculator : None Response Time : N.A Think Time : N.A Minimum Instruction Time : 0**

**Correct Marks : 5 Wrong Marks : 1**

**Question Key Details :**

Key	Value
Comprehension	MCQ

राजकोषीय घाटा के निर्मांकित में से किन पर विचार किया जाता है ?

- A. पूंजीगत व्यय
- B. राजस्व प्राप्तियां
- C. ऋण लेने संबंधी प्राप्तियां
- D. राजस्व व्यय
- E. चालू खाता में घाटा

नीचे दिए गए विकल्पों में से सही उत्तर चुनिए:

1. केवल A, B और C
2. केवल A, B और D
3. केवल A, B और E
4. केवल A, D और E

**Options :**

- 485584142193. 1
- 485584142194. 2

485584142195. 3

485584142196. 4

**Question Number : 35 Question Id : 48558435550 Question Type : MCQ Option Shuffling : No Is Question Mandatory : No Calculator : None Response Time : N.A Think Time : N.A Minimum Instruction Time : 0**

**Correct Marks : 5 Wrong Marks : 1**

**Question Key Details :**

Key	Value
Comprehension	MCQ

Which of the following is not true about Public goods?

1. Benefit are available to all
2. May be produced by private sector
3. Benefit not exclude anyone from enjoying the benefits
4. Available free to users

**Options :**

485584142197. 1

485584142198. 2

485584142199. 3

485584142200. 4

**Question Number : 35 Question Id : 48558435550 Question Type : MCQ Option Shuffling : No Is Question Mandatory : No Calculator : None Response Time : N.A Think Time : N.A Minimum Instruction Time : 0**

**Correct Marks : 5 Wrong Marks : 1**

**Question Key Details :**

Key	Value
Comprehension	MCQ

सार्वजनिक वस्तु के बारे में निम्नांकित में से कौन सा कथन सही नहीं है:

1. सभी को प्रसुविधाएं उपलब्ध होती हैं।
2. निजी क्षेत्र द्वारा उत्पन्न की जा सकती हैं।
3. ऐसी प्रसुविधा जिसमे किसी भी व्यक्ति को प्रसुविधाओ के लाभ से वंचित नहीं किया जाता है।
4. यह उपभोक्ताओ को निःशुल्क उपलब्ध होता है

**Options :**

485584142197. 1

485584142198. 2

485584142199. 3

485584142200. 4

**Question Number : 36 Question Id : 48558435551 Question Type : MCQ Option Shuffling : No Is Question Mandatory : No Calculator : None Response Time : N.A Think Time : N.A Minimum Instruction Time : 0**

**Correct Marks : 5 Wrong Marks : 1**





**Question Key Details :**

Key	Value
Comprehension	MCQ

Exchange Rate is the price of a currency expressed in terms of.

1. Gold rates of other country
2. Another currency
3. Income of the country
4. FDI from other country

**Options :**

485584142201. 1  
485584142202. 2  
485584142203. 3  
485584142204. 4

**Question Number : 36 Question Id : 48558435551 Question Type : MCQ Option Shuffling : No Is Question Mandatory : No Calculator : None Response Time : N.A Think Time : N.A Minimum Instruction Time : 0**

**Correct Marks : 5 Wrong Marks : 1**

**Question Key Details :**

Key	Value
Comprehension	MCQ

विभिन्न दर पर किसी मुद्रा की वह कीमत है जिसे निम्नांकित सन्दर्भ में अभिव्यक्त किया जाता है:

1. अन्य देश की स्वर्ण दरें
2. दूसरी मुद्रा
3. देश की आय
4. अन्य देश से प्रत्यक्ष विदेशी निवेश

**Options :**

485584142201. 1  
485584142202. 2  
485584142203. 3  
485584142204. 4

**Question Number : 37 Question Id : 48558435552 Question Type : MCQ Option Shuffling : No Is Question Mandatory : No Calculator : None Response Time : N.A Think Time : N.A Minimum Instruction Time : 0**

**Correct Marks : 5 Wrong Marks : 1**

**Question Key Details :**

Key	Value
Comprehension	MCQ

The International Bank for Reconstruction and Development (IBRD) is popularly known as\_\_\_\_\_.

1. State Bank of India
2. Reserve Bank Of India
3. World Bank
4. International Monetary Fund

**Options :**

485584142205. 1  
485584142206. 2  
485584142207. 3  
485584142208. 4

**Question Number : 37 Question Id : 48558435552 Question Type : MCQ Option Shuffling : No Is Question Mandatory : No Calculator : None Response Time : N.A Think Time : N.A Minimum Instruction Time : 0**

**Correct Marks : 5 Wrong Marks : 1**

**Question Key Details :**

Key	Value
Comprehension	MCQ

अंतरराष्ट्रीय पुनर्निर्माण और विकास बोर्ड (आई बी आर डी) किस नाम से लोकप्रिय है ?

1. भारतीय स्टेट बैंक
2. भारतीय रिजर्व बैंक
3. विश्व बैंक
4. अंतरराष्ट्रीय मुद्रा शेष

**Options :**

485584142205. 1  
485584142206. 2  
485584142207. 3  
485584142208. 4

**Question Number : 38 Question Id : 48558435553 Question Type : MCQ Option Shuffling : No Is Question Mandatory : No Calculator : None Response Time : N.A Think Time : N.A Minimum Instruction Time : 0**

**Correct Marks : 5 Wrong Marks : 1**

**Question Key Details :**

Key	Value
Comprehension	MCQ

"Human Resource Development was necessarily to be assigned a key role in any development strategy, particularly in a country with a large population" which of the following five year plane states?

1. 5<sup>th</sup> Five year plan
2. 6<sup>th</sup> Five year plan
3. 7<sup>th</sup> Five year plan
4. 8<sup>th</sup> Five year plan

**Options :**

485584142209. 1  
485584142210. 2  
485584142211. 3  
485584142212. 4

**Question Number : 38 Question Id : 48558435553 Question Type : MCQ Option Shuffling : No Is Question Mandatory : No Calculator : None Response Time : N.A Think Time : N.A Minimum Instruction Time : 0**

**Correct Marks : 5 Wrong Marks : 1**

**Question Key Details :**

Key	Value
Comprehension	MCQ

"मानव संसाधन विकास को किसी भी विकास रणनीति में विशेष रूप से बड़ी आबादी वाले देश में अनिवार्यतः महत्वपूर्ण भूमिका समनुष्टि की गई थी।" इसका उल्लेख निम्नांकित में से किस पंचवर्षीय योजना में किया गया था?

1. 5 वीं पंचवर्षीय योजना
2. 6 वीं पंचवर्षीय योजना
3. 7 वीं पंचवर्षीय योजना
4. 8 वीं पंचवर्षीय योजना

**Options :**

485584142209. 1  
485584142210. 2  
485584142211. 3  
485584142212. 4

**Question Number : 39 Question Id : 48558435554 Question Type : MCQ Option Shuffling : No Is Question Mandatory : No Calculator : None Response Time : N.A Think Time : N.A Minimum Instruction Time : 0**

**Correct Marks : 5 Wrong Marks : 1**

**Question Key Details :**

Key	Value
Comprehension	MCQ

Full form of FII.

1. Foreign Indirect Investment
2. Foreign International Income
3. Foreign Indirect Investors
4. Foreign Institutional Investors

**Options :**

485584142213. 1  
485584142214. 2  
485584142215. 3  
485584142216. 4

**Question Number : 39 Question Id : 48558435554 Question Type : MCQ Option Shuffling : No Is Question Mandatory : No Calculator : None Response Time : N.A Think Time : N.A Minimum Instruction Time : 0**

**Correct Marks : 5 Wrong Marks : 1**

**Question Key Details :**

Key	Value
Comprehension	MCQ

एफ आई आई (FII) का पूरा नाम क्या है?

1. विदेशी अप्रत्यक्ष निवेश (फॉरन इंडायरेक्ट इन्वेस्टमेंट)
2. विदेशी अंतरराष्ट्रीय आय (फॉरन इंटरनेशनल इनकम)
3. विदेशी अप्रत्यक्ष निवेशक (फॉरन इंडायरेक्ट इन्वेस्टर्स)
4. विदेशी इन्स्टिट्यूशनल निवेशक (फॉरन इन्स्टिट्यूशनल इन्वेस्टर्स)

**Options :**

485584142213. 1  
485584142214. 2  
485584142215. 3  
485584142216. 4

**Question Number : 40 Question Id : 48558435555 Question Type : MCQ Option Shuffling : No Is Question Mandatory : No Calculator : None Response Time : N.A Think Time : N.A Minimum Instruction Time : 0**

**Correct Marks : 5 Wrong Marks : 1**

**Question Key Details :**

Key	Value
Comprehension	MCQ

Which of the following statements relate to physical capital?

- A. It is intangible
- B. It is tangible
- C. It creates only private benefit
- D. Owner of physical capital needs to be present at the place where it is used
- E. It can easily be sold in the market

Choose the correct answer from the options given below:

- 1. A and B only
- 2. B and C only
- 3. A, D and E only
- 4. B, C and E only

**Options :**

- 485584142217. 1
- 485584142218. 2
- 485584142219. 3
- 485584142220. 4

**Question Number : 40 Question Id : 48558435555 Question Type : MCQ Option Shuffling : No Is Question Mandatory : No Calculator : None Response Time : N.A Think Time : N.A Minimum Instruction Time : 0**

**Correct Marks : 5 Wrong Marks : 1**

**Question Key Details :**

Key	Value
Comprehension	MCQ

निम्नांकित में से कौन से कथन भौतिक पूंजी से संबंधित है?

- A. यह अमूर्त होता है।
- B. यह मूर्त होता है।
- C. इससे केवल निजी लाभ होता है।
- D. भौतिक पूंजी के स्वामी को इसके प्रयुक्त होने के स्थान पर उपस्थित होने की आवश्यकता होती है।
- E. इसे आसानी से बाजार में बेचा जा सकता है।

नीचे दिए गए विकल्पों में से सही उत्तर चुनिए:

- 1. केवल A और B
- 2. केवल B और C
- 3. केवल A, D और E
- 4. केवल B, C और E

**Options :**

485584142217. 1  
485584142218. 2  
485584142219. 3  
485584142220. 4

**Sub-Section Number :** 2  
**Sub-Section Id :** 4855842635  
**Question Shuffling Allowed :** No  
**Is Section Default? :** null

**Question Number : 41 Question Id : 48558435556 Question Type : MCQ Option Shuffling : No Is Question Mandatory : No Calculator : None Response Time : N.A Think Time : N.A Minimum Instruction Time : 0 Correct Marks : 5 Wrong Marks : 1**

**Question Key Details :**

Key	Value
Comprehension	Comp1

The quantity of a good that the consumer chooses can increase or decrease with the rise in the price of a related goods depending on whether the two goods are substitutes or complementary to each other. Goods which are consumed together are called complementary goods. Examples of goods which are complement to each other include tea and sugar, shoes and socks, pen and ink, etc. Since tea and sugar are used together, an increase in the price of sugar is likely to decrease the demand for tea and decrease in the price of sugar is likely to increase the demand for tea. Similar is the case with other complements. In general, the demand for a good moves in the opposite direction of the price of its complementary goods.

The goods which can be used in place of each other are called ?

1. Normal goods
2. Complementary goods
3. Substitute goods
4. Giffen goods

**Options :**

485584142221. 1  
485584142222. 2  
485584142223. 3  
485584142224. 4

**Question Number : 41 Question Id : 48558435556 Question Type : MCQ Option Shuffling : No Is Question Mandatory : No Calculator : None Response Time : N.A Think Time : N.A Minimum Instruction Time : 0 Correct Marks : 5 Wrong Marks : 1**

**Question Key Details :**

Key	Value
Comprehension	Comp1

उपभोक्ता द्वारा चुनी जाने वाली वस्तुओं की मात्रा संबंधित वस्तुओं की कीमत बढ़ने से बढ़ घट सकती है। यह इस बात पर निर्भर करता है कि दो वस्तुएं एक दुसरे के प्रतिस्थापन या पूरक हैं अथवा नहीं। जिन वस्तुओं का उपभोग एक साथ किया जाता है उन्हें पूरक वस्तुएं कहा जाता है। चाय और चीनी, जुते और मोजा, कलम और स्याही पूरक वस्तुओं के उदाहरण में शामिल हैं। चुकी, चाय और चीनी एक साथ प्रयुक्त होते हैं, चीनी की कीमत बढ़ने के परिणामस्वरूप चाय की मांग घटने की संभावना रहती है और चीनी की कीमत घटने से चाय की मांग बढ़ने की संभावना रहती है। अन्य पूरक वस्तुओं के मामले में भी यही स्थिति है। सामान्यतया, वस्तु की मांग उसकी पूरक वस्तुओं की कीमत की विपरीत दिशा में संचालित होती है

एक दुसरे के स्थान पर प्रयुक्त होने वाली वस्तुएं कहलाती हैं:

1. सामान्य वस्तु
2. पूरक वस्तु
3. प्रतिस्थापन वस्तु
4. उपहार में प्राप्त वस्तु

**Options :**

485584142221. 1

485584142222. 2

485584142223. 3

485584142224. 4

**Question Number : 42 Question Id : 48558435557 Question Type : MCQ Option Shuffling : No Is Question Mandatory : No Calculator : None Response Time : N.A Think Time : N.A Minimum Instruction Time : 0**

**Correct Marks : 5 Wrong Marks : 1**

**Question Key Details :**

Key	Value
Comprehension	Comp1

The quantity of a good that the consumer chooses can increase or decrease with the rise in the price of a related goods depending on whether the two goods are substitutes or complementary to each other. Goods which are consumed together are called complementary goods. Examples of goods which are complement to each other include tea and sugar, shoes and socks, pen and ink, etc. Since tea and sugar are used together, an increase in the price of sugar is likely to decrease the demand for tea and decrease in the price of sugar is likely to increase the demand for tea. Similar is the case with other complements. In general, the demand for a good moves in the opposite direction of the price of its complementary goods.

The demand for a good moves in opposite direction if change in the price of its \_\_\_\_\_ :

1. Complementary goods
2. Substitute goods
3. Inferior goods
4. Consumption goods

**Options :**

485584142225. 1  
485584142226. 2  
485584142227. 3  
485584142228. 4

**Question Number : 42 Question Id : 48558435557 Question Type : MCQ Option Shuffling : No Is Question Mandatory : No Calculator : None Response Time : N.A Think Time : N.A Minimum Instruction Time : 0**

**Correct Marks : 5 Wrong Marks : 1**

**Question Key Details :**

Key	Value
Comprehension	Comp1

उपभोक्ता द्वारा चुनी जाने वाली वस्तुओं की मात्रा संबंधित वस्तुओं की कीमत बढ़ने से बढ़ घट सकती है। यह इस बात पर निर्भर करता है कि दो वस्तुएं एक दुसरे के प्रतिस्थापन या पूरक हैं अथवा नहीं। जिन वस्तुओं का उपभोग एक साथ किया जाता है उन्हें पूरक वस्तुएं कहा जाता है। चाय और चीनी, जुते और मोजा, कलम और स्याही पूरक वस्तुओं के उदाहरण में शामिल हैं। चुकी, चाय और चीनी एक साथ प्रयुक्त होते हैं, चीनी की कीमत बढ़ने के परिणामस्वरूप चाय की मांग घटने की संभावना रहती है और चीनी की कीमत घटने से चाय की मांग बढ़ने की संभावना रहती है। अन्य पूरक वस्तुओं के मामले में भी यही स्थिति है। सामान्यतया, वस्तु की मांग उसकी पूरक वस्तुओं की कीमत की विपरीत दिशा में संचालित होती है

किसी वस्तु की मांग विपरीत दिशा में संचालित होती है यदि इसकी \_\_\_\_\_ की कीमत में परिवर्तन होता है:

1. पूरक वस्तुएं
2. प्रतिस्थापन वस्तुएं
3. न्यूनगुणवत्ता वाली वस्तुएं
4. उपभोग्य वस्तुएं

**Options :**

485584142225. 1  
485584142226. 2  
485584142227. 3  
485584142228. 4

**Question Number : 43 Question Id : 48558435558 Question Type : MCQ Option Shuffling : No Is Question Mandatory : No Calculator : None Response Time : N.A Think Time : N.A Minimum Instruction Time : 0**





Correct Marks : 5 Wrong Marks : 1

Question Key Details :

Key	Value
Comprehension	Comp1

The quantity of a good that the consumer chooses can increase or decrease with the rise in the price of a related goods depending on whether the two goods are substitutes or complementary to each other. Goods which are consumed together are called complementary goods. Examples of goods which are complement to each other include tea and sugar, shoes and socks, pen and ink, etc. Since tea and sugar are used together, an increase in the price of sugar is likely to decrease the demand for tea and decrease in the price of sugar is likely to increase the demand for tea. Similar is the case with other complements. In general, the demand for a good moves in the opposite direction of the price of its complementary goods.

If the price of coffee increases then consumption of tea also increases it implies that tea and coffee are \_\_\_\_\_ .

1. Substitute good
2. Giffen good
3. Complementary good
4. Perishable good

Options :

485584142229. 1  
485584142230. 2  
485584142231. 3  
485584142232. 4

Question Number : 43 Question Id : 48558435558 Question Type : MCQ Option Shuffling : No Is Question Mandatory : No Calculator : None Response Time : N.A Think Time : N.A Minimum Instruction Time : 0

Correct Marks : 5 Wrong Marks : 1

Question Key Details :

Key	Value
Comprehension	Comp1

उपभोक्ता द्वारा चुनी जाने वाली वस्तुओं की मात्रा संबंधित वस्तुओं की कीमत बढ़ने से बढ़ घट सकती है। यह इस बात पर निर्भर करता है कि दो वस्तुएं एक दुसरे के प्रतिस्थापन या पूरक हैं अथवा नहीं। जिन वस्तुओं का उपभोग एक साथ किया जाता है उन्हें पूरक वस्तुएं कहा जाता है। चाय और चीनी, जुते और मोजा, कलम और स्याही पूरक वस्तुओं के उदाहरण में शामिल हैं। चुकी, चाय और चीनी एक साथ प्रयुक्त होते हैं, चीनी की कीमत बढ़ने के परिणामस्वरूप चाय की मांग घटने की संभावना रहती है और चीनी की कीमत घटने से चाय की मांग बढ़ने की संभावना रहती है। अन्य पूरक वस्तुओं के मामले में भी यही स्थिति है। सामान्यतया, वस्तु की मांग उसकी पूरक वस्तुओं की कीमत की विपरीत दिशा में संचालित होती है

यदि कॉफी की कीमत बढ़ती है तो चाय की खपत में वृद्धि होती है, इससे अभिप्रेत है कि चाय और कॉफी \_\_\_\_\_ हैं ।

1. प्रतिस्थापित वस्तु
2. उपहार स्वरूप प्राप्त वस्तु
3. पूरक वस्तु
4. नाशवान वस्तु

**Options :**

485584142229. 1  
485584142230. 2  
485584142231. 3  
485584142232. 4

**Question Number : 44 Question Id : 48558435559 Question Type : MCQ Option Shuffling : No Is Question Mandatory : No Calculator : None Response Time : N.A Think Time : N.A Minimum Instruction Time : 0**

**Correct Marks : 5 Wrong Marks : 1**

**Question Key Details :**

Key	Value
Comprehension	Comp1

The quantity of a good that the consumer chooses can increase or decrease with the rise in the price of a related goods depending on whether the two goods are substitutes or complementary to each other. Goods which are consumed together are called complementary goods. Examples of goods which are complement to each other include tea and sugar, shoes and socks, pen and ink, etc. Since tea and sugar are used together, an increase in the price of sugar is likely to decrease the demand for tea and decrease in the price of sugar is likely to increase the demand for tea. Similar is the case with other complements. In general, the demand for a good moves in the opposite direction of the price of its complementary goods.

Car and petrol are the example of \_\_\_\_\_ goods .

1. Normal goods
2. Inferior goods
3. Substitute goods
4. Complementary goods

**Options :**

485584142233. 1  
485584142234. 2  
485584142235. 3  
485584142236. 4

**Question Number : 44 Question Id : 48558435559 Question Type : MCQ Option Shuffling : No Is Question Mandatory : No Calculator : None Response Time : N.A Think Time : N.A Minimum Instruction Time : 0**

**Correct Marks : 5 Wrong Marks : 1**



**Question Key Details :**

Key	Value
Comprehension	Comp1

उपभोक्ता द्वारा चुनी जाने वाली वस्तुओं की मात्रा संबंधित वस्तुओं की कीमत बढ़ने से बढ़ घट सकती है। यह इस बात पर निर्भर करता है कि दो वस्तुएं एक दुसरे के प्रतिस्थापन या पूरक हैं अथवा नहीं। जिन वस्तुओं का उपभोग एक साथ किया जाता है उन्हें पूरक वस्तुएं कहा जाता है। चाय और चीनी, जुते और मोजा, कलम और स्याही पूरक वस्तुओं के उदाहरण में शामिल हैं। चुकी, चाय और चीनी एक साथ प्रयुक्त होते हैं, चीनी की कीमत बढ़ने के परिणामस्वरूप चाय की मांग घटने की संभावना रहती है और चीनी की कीमत घटने से चाय की मांग बढ़ने की संभावना रहती है। अन्य पूरक वस्तुओं के मामले में भी यही स्थिति है। सामान्यतया, वस्तु की मांग उसकी पूरक वस्तुओं की कीमत की विपरीत दिशा में संचालित होती है

कार और पेट्रोल \_\_\_\_\_ वस्तुओं के उदाहरण है:

1. सामान्य वस्तुएं
2. न्यूनगुणवत्ता वाली वस्तुएं
3. प्रतिस्थापित वस्तुएं
4. पूरक वस्तुएं

**Options :**

485584142233. 1  
485584142234. 2  
485584142235. 3  
485584142236. 4

**Question Number : 45 Question Id : 48558435560 Question Type : MCQ Option Shuffling : No Is Question Mandatory : No Calculator : None Response Time : N.A Think Time : N.A Minimum Instruction Time : 0**

**Correct Marks : 5 Wrong Marks : 1**

**Question Key Details :**

Key	Value
Comprehension	Comp1

The quantity of a good that the consumer chooses can increase or decrease with the rise in the price of a related goods depending on whether the two goods are substitutes or complementary to each other. Goods which are consumed together are called complementary goods. Examples of goods which are complement to each other include tea and sugar, shoes and socks, pen and ink, etc. Since tea and sugar are used together, an increase in the price of sugar is likely to decrease the demand for tea and decrease in the price of sugar is likely to increase the demand for tea. Similar is the case with other complements. In general, the demand for a good moves in the opposite direction of the price of its complementary goods.

Those goods which can be used together are called \_\_\_\_\_ goods .

1. Substitute goods
2. Complementary goods
3. Consumption goods
4. Capital goods

**Options :**

485584142237. 1  
485584142238. 2  
485584142239. 3  
485584142240. 4

**Question Number : 45 Question Id : 48558435560 Question Type : MCQ Option Shuffling : No Is Question Mandatory : No Calculator : None Response Time : N.A Think Time : N.A Minimum Instruction Time : 0**

**Correct Marks : 5 Wrong Marks : 1**

**Question Key Details :**

Key	Value
Comprehension	Comp1

उपभोक्ता द्वारा चुनी जाने वाली वस्तुओं की मात्रा संबंधित वस्तुओं की कीमत बढ़ने से बढ़ घट सकती है। यह इस बात पर निर्भर करता है कि दो वस्तुएं एक दुसरे के प्रतिस्थापन या पूरक हैं अथवा नहीं। जिन वस्तुओं का उपभोग एक साथ किया जाता है उन्हें पूरक वस्तुएं कहा जाता है। चाय और चीनी, जुते और मोजा, कलम और स्याही पूरक वस्तुओं के उदाहरण में शामिल हैं। चुकी, चाय और चीनी एक साथ प्रयुक्त होते हैं, चीनी की कीमत बढ़ने के परिणामस्वरूप चाय की मांग घटने की संभावना रहती है और चीनी की कीमत घटने से चाय की मांग बढ़ने की संभावना रहती है। अन्य पूरक वस्तुओं के मामले में भी यही स्थिति है। सामान्यतया, वस्तु की मांग उसकी पूरक वस्तुओं की कीमत की विपरीत दिशा में संचालित होती है

एक साथ प्रयुक्त की जाने वाली वस्तुएं कहलाती हैं:

1. प्रतिस्थापित वस्तुएं
2. पूरक वस्तुएं
3. उपभोग की वस्तुएं
4. पूंजीगत वस्तुएं

**Options :**

485584142237. 1  
485584142238. 2  
485584142239. 3  
485584142240. 4

**Sub-Section Number :**

3

**Sub-Section Id :**

4855842636

**Question Shuffling Allowed :**

No

Is Section Default? :

null

**Question Number : 46 Question Id : 48558435561 Question Type : MCQ Option Shuffling : No Is Question Mandatory : No Calculator : None Response Time : N.A Think Time : N.A Minimum Instruction Time : 0**

**Correct Marks : 5 Wrong Marks : 1**

**Question Key Details :**

Key	Value
Comprehension	Comp2

When at a particular price level, aggregate demand for final goods equals aggregate supply of final goods, the final goods or product in market reaches its equilibrium. Aggregate demand for final goods consist of ex-ante consumption, ex-ante investment, government spending etc. The rate of increase in ex-ante consumption due to a unit increase in income is called marginal propensity to consume.

Equilibrium in product market achieved when.

1.  $AD = AS$
2.  $AD > AS$
3.  $AD < AS$
4.  $S > I$

**Options :**

- 485584142241. 1
- 485584142242. 2
- 485584142243. 3
- 485584142244. 4

**Question Number : 46 Question Id : 48558435561 Question Type : MCQ Option Shuffling : No Is Question Mandatory : No Calculator : None Response Time : N.A Think Time : N.A Minimum Instruction Time : 0**

**Correct Marks : 5 Wrong Marks : 1**

**Question Key Details :**

Key	Value
Comprehension	Comp2

जब किसी विशेष मूल्य स्तर पर अंतिम रूप से तैयार माल की कूल आपूर्ति के समान होती है तो बाजार में तैयार माल या उत्पाद समय की स्थिति में पहुच जाता है। अंतिम रूप से तैयार माल की कुल मांग में पूर्वानुमान पर आधारित खपत, पुएवनुमनित निवेश, सरकारी व्यय इत्यादि शामिल है।

आय में यूनिट वृद्धि के कारण पूर्वानुमानित खपत में वृद्धि की दर उपभोग करने की सीमांत प्रवृत्ति कहलाती है।

बाजार के उत्पाद में साम्यता की स्थिति प्राप्त होती है जब:

1.  $AD = AS$
2.  $AD > AS$
3.  $AD < AS$
4.  $S > I$

**Options :**

485584142241. 1  
485584142242. 2  
485584142243. 3  
485584142244. 4

**Question Number : 47 Question Id : 48558435562 Question Type : MCQ Option Shuffling : No Is Question Mandatory : No Calculator : None Response Time : N.A Think Time : N.A Minimum Instruction Time : 0**

**Correct Marks : 5 Wrong Marks : 1**

**Question Key Details :**

Key	Value
Comprehension	Comp2

When at a particular price level, aggregate demand for final goods equals aggregate supply of final goods, the final goods or product in market reaches its equilibrium. Aggregate demand for final goods consist of ex-ante consumption, ex-ante investment, government spending etc. The rate of increase in ex-ante consumption due to a unit increase in income is called marginal propensity to consume.

Final goods are those goods.

1. Which are used in the process of production
2. Which are used as an intermediate good
3. Which are purchased for the purpose of reselling in the same year
4. Which are either used for consumption or for investment

**Options :**

485584142245. 1  
485584142246. 2  
485584142247. 3  
485584142248. 4

**Question Number : 47 Question Id : 48558435562 Question Type : MCQ Option Shuffling : No Is Question Mandatory : No Calculator : None Response Time : N.A Think Time : N.A Minimum Instruction Time : 0**

**Correct Marks : 5 Wrong Marks : 1**

**Question Key Details :**

Key	Value
Comprehension	Comp2



जब किसी विशेष मूल्य स्तर पर अंतिम रूप से तैयार माल की कूल आपूर्ति के समान होती है तो बाजार में तैयार माल या उत्पाद समय की स्थिति में पहुच जाता है। अंतिम रूप से तैयार माल की कुल मांग में पूर्वानुमान पर आधारित खपत, पुएवनुमनित निवेश, सरकारी व्यय इत्यादि शामिल है।

आय में यूनिट वृद्धि के कारण पूर्वानुमानित खपत में वृद्धि की दर उपभोग करने की सीमांत प्रवृत्ति कहलाती है।

अंतिम रूप से तैयार वस्तुएं वे हैं:

1. जो उत्पन की प्रक्रिया में प्रयुक्त होती हैं।
2. जो मध्यवर्ती वास्तु के रूप में प्रयुक्त होती हैं।
3. जिन्हें उसी वर्ष पुनःविक्री के प्रयोजनार्थ खरीदी जाने वाली वस्तुएं।
4. जिनका प्रयोग या तो उपभोग के लिए अथवा निवेश के लिए किया जाता है।

**Options :**

485584142245. 1  
485584142246. 2  
485584142247. 3  
485584142248. 4

**Question Number : 48 Question Id : 48558435563 Question Type : MCQ Option Shuffling : No Is Question Mandatory : No Calculator : None Response Time : N.A Think Time : N.A Minimum Instruction Time : 0**

**Correct Marks : 5 Wrong Marks : 1**

**Question Key Details :**

Key	Value
Comprehension	Comp2

When at a particular price level, aggregate demand for final goods equals aggregate supply of final goods, the final goods or product in market reaches its equilibrium. Aggregate demand for final goods consist of ex-ante consumption, ex-ante investment, government spending etc. The rate of increase in ex-ante consumption due to a unit increase in income is called marginal propensity to consume.

Aggregate demand for final goods doesn't include.

1. Consumption
2. Saving
3. Investment
4. Government spendings

**Options :**

485584142249. 1  
485584142250. 2  
485584142251. 3

**Question Number : 48 Question Id : 48558435563 Question Type : MCQ Option Shuffling : No Is Question Mandatory : No Calculator : None Response Time : N.A Think Time : N.A Minimum Instruction Time : 0**

**Correct Marks : 5 Wrong Marks : 1**

**Question Key Details :**

Key	Value
Comprehension	Comp2

जब किसी विशेष मूल्य स्तर पर अंतिम रूप से तैयार माल की कूल आपूर्ति के समान होती है तो बाजार में तैयार माल या उत्पाद समय की स्थिति में पहुँच जाता है। अंतिम रूप से तैयार माल की कुल मांग में पूर्वानुमान पर आधारित खपत, पुएवनुमानित निवेश, सरकारी व्यय इत्यादि शामिल है।

आय में यूनिट वृद्धि के कारण पूर्वानुमानित खपत में वृद्धि की दर उपभोग करने की सीमांत प्रवृत्ति कहलाती है।

अंतिम रूप से तैयार माल की कूल मांग में सम्मिलित नहीं है:

1. खपत
2. बचत
3. निवेश
4. सरकारी व्यय

**Options :**

485584142249. 1

485584142250. 2

485584142251. 3

485584142252. 4

**Question Number : 49 Question Id : 48558435564 Question Type : MCQ Option Shuffling : No Is Question Mandatory : No Calculator : None Response Time : N.A Think Time : N.A Minimum Instruction Time : 0**

**Correct Marks : 5 Wrong Marks : 1**

**Question Key Details :**

Key	Value
Comprehension	Comp2

When at a particular price level, aggregate demand for final goods equals aggregate supply of final goods, the final goods or product in market reaches its equilibrium. Aggregate demand for final goods consist of ex-ante consumption, ex-ante investment, government spending etc. The rate of increase in ex-ante consumption due to a unit increase in income is called marginal propensity to consume.



MPC stands for.

1. Marginal Propensity to Converse
2. Marginal Propensity to Consume
3. Marginal Propensity to Compensate
4. Marginal Propensity to correction

**Options :**

485584142253. 1  
485584142254. 2  
485584142255. 3  
485584142256. 4

**Question Number : 49 Question Id : 48558435564 Question Type : MCQ Option Shuffling : No Is Question Mandatory : No Calculator : None Response Time : N.A Think Time : N.A Minimum Instruction Time : 0**

**Correct Marks : 5 Wrong Marks : 1**

**Question Key Details :**

Key	Value
Comprehension	Comp2

जब किसी विशेष मूल्य स्तर पर अंतिम रूप से तैयार माल की कुल आपूर्ति के समान होती है तो बाजार में तैयार माल या उत्पाद समय की स्थिति में पहुच जाता है। अंतिम रूप से तैयार माल की कुल मांग में पूर्वानुमान पर आधारित खपत, पुएवनुमनित निवेश, सरकारी व्यय इत्यादि शामिल है।

आय में यूनिट वृद्धि के कारण पूर्वानुमानित खपत में वृद्धि की दर उपभोग करने की सीमांत प्रवृत्ति कहलाती है।

एम पी सी से अभिप्रेत है:

1. मार्जिनल प्रोपेसिटी टू कनवर्स
2. मार्जिनल प्रोपेसिटी टू कंज्यूम
3. मार्जिनल प्रोपेसिटी टू कॉम्पेन्सेट
4. मार्जिनल प्रोपेसिटी टू करेक्शन

**Options :**

485584142253. 1  
485584142254. 2  
485584142255. 3  
485584142256. 4

**Question Number : 50 Question Id : 48558435565 Question Type : MCQ Option Shuffling : No Is Question Mandatory : No Calculator : None Response Time : N.A Think Time : N.A Minimum Instruction Time : 0**

**Correct Marks : 5 Wrong Marks : 1**

**Question Key Details :**

Key	Value
Comprehension	Comp2

When at a particular price level, aggregate demand for final goods equals aggregate supply of final goods, the final goods or product in market reaches its equilibrium. Aggregate demand for final goods consist of ex-ante consumption, ex-ante investment, government spending etc. The rate of increase in ex-ante consumption due to a unit increase in income is called marginal propensity to consume.

The sum total of MPC and MPS is always equal to:

1. Zero
2. Infinity
3. One
4. Two

**Options :**

485584142257. 1  
 485584142258. 2  
 485584142259. 3  
 485584142260. 4

**Question Number : 50 Question Id : 48558435565 Question Type : MCQ Option Shuffling : No Is Question Mandatory : No Calculator : None Response Time : N.A Think Time : N.A Minimum Instruction Time : 0**

**Correct Marks : 5 Wrong Marks : 1**

**Question Key Details :**

Key	Value
Comprehension	Comp2

जब किसी विशेष मूल्य स्तर पर अंतिम रूप से तैयार माल की कूल आपूर्ति के समान होती है तो बाजार में तैयार माल या उत्पाद समय की स्थिति में पहुच जाता है। अंतिम रूप से तैयार माल की कुल मांग में पूर्वानुमान पर आधारित खपत, पुएवनुमानित निवेश, सरकारी व्यय इत्यादि शामिल है।

आय में यूनिट वृद्धि के कारण पूर्वानुमानित खपत में वृद्धि की दर उपभोग करने की सीमांत प्रवृत्ति कहलाती है।

एम पी सी और एम पी एस का कूल योग सदैव होता है:

1. शून्य
2. अनंत
3. एक
4. दो

**Options :**

485584142257. 1

485584142258. 2  
485584142259. 3  
485584142260. 4

## Fine Arts

**Group Number :** 2  
**Group Id :** 485584807  
**Group Maximum Duration :** 45  
**Group Minimum Duration :** 45  
**Show Attended Group? :** No  
**Edit Attended Group? :** No  
**Break time :** 0  
**Group Marks :** 200  
**Is this Group for Examiner? :** No  
**Examiner permission :** Cant View  
**Show Progress Bar? :** No

## Fine Arts

**Section Id :** 485584927  
**Section Number :** 1  
**Section type :** Online  
**Mandatory or Optional :** Mandatory  
**Number of Questions :** 50  
**Number of Questions to be attempted :** 40  
**Section Marks :** 200  
**Enable Mark as Answered Mark for Review and Clear Response :** Yes  
**Maximum Instruction Time :** 0  
**Sub-Section Number :** 1  
**Sub-Section Id :** 4855842637  
**Question Shuffling Allowed :** Yes  
**Is Section Default? :** null

**Question Number : 51 Question Id : 48558435566 Question Type : MCQ Option Shuffling : No Is Question Mandatory : No Calculator : None Response Time : N.A Think Time : N.A Minimum Instruction Time : 0 Correct Marks : 5 Wrong Marks : 1 Question Key Details :**

Key	Value
Comprehension	MCQ1

Who is the artist of the miniature painting "Maru Ragini" ?

1. Aniruddha Singh
2. Abul Hasan
3. Sahibdin
4. Nuruddin

**Options :**

485584142261. 1  
485584142262. 2  
485584142263. 3  
485584142264. 4

**Question Number : 51 Question Id : 48558435566 Question Type : MCQ Option Shuffling : No Is Question Mandatory : No Calculator : None Response Time : N.A Think Time : N.A Minimum Instruction Time : 0**

**Correct Marks : 5 Wrong Marks : 1**

**Question Key Details :**

Key	Value
Comprehension	MCQ1

"मारु रागिनी" लघु चित्रकला का कलाकार कौन है?

1. अनिरुद्ध सिंह
2. अबुल हसन
3. साहिबदिन
4. नूरुद्दिन

**Options :**

485584142261. 1  
485584142262. 2  
485584142263. 3  
485584142264. 4

**Question Number : 52 Question Id : 48558435567 Question Type : MCQ Option Shuffling : No Is Question Mandatory : No Calculator : None Response Time : N.A Think Time : N.A Minimum Instruction Time : 0**

**Correct Marks : 5 Wrong Marks : 1**

**Question Key Details :**

Key	Value
Comprehension	MCQ1

The mixture of two colours Blue and Yellow is :

1. Purple
2. Green
3. Red
4. Brown

**Options :**

485584142265. 1  
485584142266. 2  
485584142267. 3  
485584142268. 4

Question Number : 52 Question Id : 48558435567 Question Type : MCQ Option Shuffling : No Is Question Mandatory : No Calculator : None Response Time : N.A Think Time : N.A Minimum Instruction Time : 0

Correct Marks : 5 Wrong Marks : 1

Question Key Details :

Key	Value
Comprehension	MCQ1

नीला और पीला रंगों का मिश्रण है :

1. बैंगनी
2. हरा
3. लाल
4. भूरा

Options :

485584142265. 1  
485584142266. 2  
485584142267. 3  
485584142268. 4

Question Number : 53 Question Id : 48558435568 Question Type : MCQ Option Shuffling : No Is Question Mandatory : No Calculator : None Response Time : N.A Think Time : N.A Minimum Instruction Time : 0

Correct Marks : 5 Wrong Marks : 1

Question Key Details :

Key	Value
Comprehension	MCQ1

The "Maru Ragini" is taken from which particular text series ?

1. Bhagvata Purana
2. Gita Govinda
3. Ragamala
4. Chaurpanchashika

Options :

485584142269. 1  
485584142270. 2  
485584142271. 3  
485584142272. 4

Question Number : 53 Question Id : 48558435568 Question Type : MCQ Option Shuffling : No Is Question Mandatory : No Calculator : None Response Time : N.A Think Time : N.A Minimum Instruction Time : 0

Correct Marks : 5 Wrong Marks : 1

Question Key Details :

Key	Value
Comprehension	MCQ1



"मारु रागिनी" को किस विशिष्ट पाण्डुलिपि श्रृंखला से लिया गया है?

1. भागवत् पुराण
2. गीत गोविन्द
3. रागमाला
4. चौरुपञ्चाशिका

**Options :**

485584142269. 1  
485584142270. 2  
485584142271. 3  
485584142272. 4

**Question Number : 54 Question Id : 48558435569 Question Type : MCQ Option Shuffling : No Is Question Mandatory : No Calculator : None Response Time : N.A Think Time : N.A Minimum Instruction Time : 0**

**Correct Marks : 5 Wrong Marks : 1**

**Question Key Details :**

Key	Value
Comprehension	MCQ1

"The Marriage Procession of Dara Shikoh" painting was painted during which period ?

1. Babur
2. Akbar
3. Jahangir
4. Shah Jahan

**Options :**

485584142273. 1  
485584142274. 2  
485584142275. 3  
485584142276. 4

**Question Number : 54 Question Id : 48558435569 Question Type : MCQ Option Shuffling : No Is Question Mandatory : No Calculator : None Response Time : N.A Think Time : N.A Minimum Instruction Time : 0**

**Correct Marks : 5 Wrong Marks : 1**

**Question Key Details :**

Key	Value
Comprehension	MCQ1

"दारा शिकोह की विवाह-शोभायात्रा" चित्र को किस अवधि के दौरान चित्रित किया गया था?

1. बाबर
2. अकबर
3. जहाँगीर
4. शाहजहाँ

**Options :**

485584142273. 1  
485584142274. 2  
485584142275. 3  
485584142276. 4

**Question Number : 55 Question Id : 48558435570 Question Type : MCQ Option Shuffling : No Is Question Mandatory : No Calculator : None Response Time : N.A Think Time : N.A Minimum Instruction Time : 0**

**Correct Marks : 5 Wrong Marks : 1**

**Question Key Details :**

Key	Value
Comprehension	MCQ1

Identify the first Indian painter who was trained in the Western technique of oil painting and got inspired by Indian culture and mythology ?

1. Abanindranath Tagore
2. Rabindranath Tagore
3. Raja Ravi Varma
4. M. F. Husain

**Options :**

485584142277. 1  
485584142278. 2  
485584142279. 3  
485584142280. 4

**Question Number : 55 Question Id : 48558435570 Question Type : MCQ Option Shuffling : No Is Question Mandatory : No Calculator : None Response Time : N.A Think Time : N.A Minimum Instruction Time : 0**

**Correct Marks : 5 Wrong Marks : 1**

**Question Key Details :**

Key	Value
Comprehension	MCQ1

उस प्रथम भारतीय कलाकार को पहचानिए जिसे तैल चित्रकला की पाश्चात्य तकनीकी में प्रशिक्षित किया गया था और वो भारतीय संस्कृति एवं पौराणिक कथाओं से प्रेरित था।

1. अबनिन्द्रनाथ टैगोर
2. रबिन्द्रनाथ टैगोर
3. राजा रवि वर्मा
4. एफ. एफ. हुसैन

**Options :**

485584142277. 1  
485584142278. 2  
485584142279. 3  
485584142280. 4

**Question Number : 56 Question Id : 48558435571 Question Type : MCQ Option Shuffling : No Is Question Mandatory : No Calculator : None Response Time : N.A Think Time : N.A Minimum Instruction Time : 0**

**Correct Marks : 5 Wrong Marks : 1**

**Question Key Details :**

Key	Value
Comprehension	MCQ1

Which element of art displays a strong suggestion of movement that can be delicate, bold or expressive ?

1. Line
2. Colour
3. Shape
4. Tone

**Options :**

485584142281. 1  
485584142282. 2  
485584142283. 3  
485584142284. 4

**Question Number : 56 Question Id : 48558435571 Question Type : MCQ Option Shuffling : No Is Question Mandatory : No Calculator : None Response Time : N.A Think Time : N.A Minimum Instruction Time : 0**

**Correct Marks : 5 Wrong Marks : 1**

**Question Key Details :**

Key	Value
Comprehension	MCQ1



कला का कौन-सा तत्व संचलन की सशक्त शैली का प्रदर्शन करता है जो बारीक, सुस्पष्ट या अभिव्यञ्जक हो सकती है?

1. रेखा
2. वर्ण (रंग)
3. आकार
4. रंगसामंजस्य

**Options :**

485584142281. 1  
485584142282. 2  
485584142283. 3  
485584142284. 4

**Question Number : 57 Question Id : 48558435572 Question Type : MCQ Option Shuffling : No Is Question Mandatory : No Calculator : None Response Time : N.A Think Time : N.A Minimum Instruction Time : 0**

**Correct Marks : 5 Wrong Marks : 1**

**Question Key Details :**

Key	Value
Comprehension	MCQ1

What is the medium of the painting "Radhika" ?

1. Acrylic on canvas
2. Oil on canvas
3. Wash and Tempera on paper
4. Water colour on paper

**Options :**

485584142285. 1  
485584142286. 2  
485584142287. 3  
485584142288. 4

**Question Number : 57 Question Id : 48558435572 Question Type : MCQ Option Shuffling : No Is Question Mandatory : No Calculator : None Response Time : N.A Think Time : N.A Minimum Instruction Time : 0**

**Correct Marks : 5 Wrong Marks : 1**

**Question Key Details :**

Key	Value
Comprehension	MCQ1

"राधिका" चित्र का माध्यम क्या है?

1. केनवस पर एक्रिलिक
2. केनवस पर तैल रंग
3. कागज पर टेम्परा
4. कागज पर जल रंग

**Options :**

485584142285. 1  
485584142286. 2  
485584142287. 3  
485584142288. 4

**Question Number : 58 Question Id : 48558435573 Question Type : MCQ Option Shuffling : No Is Question Mandatory : No Calculator : None Response Time : N.A Think Time : N.A Minimum Instruction Time : 0**

**Correct Marks : 5 Wrong Marks : 1**

**Question Key Details :**

Key	Value
Comprehension	MCQ1

The chapter related to Art in Vishnudharmottara Purana ?

1. Rang Sutra
2. Chitrasutra
3. Abhinay Sutra
4. Kala Sutra

**Options :**

485584142289. 1  
485584142290. 2  
485584142291. 3  
485584142292. 4

**Question Number : 58 Question Id : 48558435573 Question Type : MCQ Option Shuffling : No Is Question Mandatory : No Calculator : None Response Time : N.A Think Time : N.A Minimum Instruction Time : 0**

**Correct Marks : 5 Wrong Marks : 1**

**Question Key Details :**

Key	Value
Comprehension	MCQ1

विष्णुधर्मोत्तर पुराण में कला से सम्बन्धित अध्याय कौन सा है:

1. रंगसूत्र
2. चित्रसूत्र
3. अभिनयसूत्र
4. कलासूत्र

**Options :**

485584142289. 1  
485584142290. 2  
485584142291. 3  
485584142292. 4

**Question Number : 59 Question Id : 48558435574 Question Type : MCQ Option Shuffling : No Is Question Mandatory : No Calculator : None Response Time : N.A Think Time : N.A Minimum Instruction Time : 0**

**Correct Marks : 5 Wrong Marks : 1**

**Question Key Details :**

Key	Value
Comprehension	MCQ1

The famous illustrated text 'Kalpasutra' belongs to which religion ?

1. Baudh
2. Vaishnava
3. Jain
4. Shaiva

**Options :**

485584142293. 1  
485584142294. 2  
485584142295. 3  
485584142296. 4

**Question Number : 59 Question Id : 48558435574 Question Type : MCQ Option Shuffling : No Is Question Mandatory : No Calculator : None Response Time : N.A Think Time : N.A Minimum Instruction Time : 0**

**Correct Marks : 5 Wrong Marks : 1**

**Question Key Details :**

Key	Value
Comprehension	MCQ1

प्रसिद्ध सचित पाण्डुलिपि "कल्पसूत्र" किस धर्म से सम्बन्ध रखती है?

1. बौद्ध
2. वैष्णव
3. जैन
4. शैव

**Options :**

485584142293. 1  
485584142294. 2  
485584142295. 3  
485584142296. 4

**Question Number : 60 Question Id : 48558435575 Question Type : MCQ Option Shuffling : No Is Question Mandatory : No Calculator : None Response Time : N.A Think Time : N.A Minimum Instruction Time : 0**

**Correct Marks : 5 Wrong Marks : 1**

**Question Key Details :**

Key	Value
Comprehension	MCQ1

Baramasa was the popular theme of which painting style ?

1. Mughal
2. Bundi
3. Kishangarh
4. Pahari

**Options :**

485584142297. 1  
485584142298. 2  
485584142299. 3  
485584142300. 4

**Question Number : 60 Question Id : 48558435575 Question Type : MCQ Option Shuffling : No Is Question Mandatory : No Calculator : None Response Time : N.A Think Time : N.A Minimum Instruction Time : 0**

**Correct Marks : 5 Wrong Marks : 1**

**Question Key Details :**

Key	Value
Comprehension	MCQ1

वारहमासा किस चित्रकला शैली का लोकप्रिय प्रसंग था?

1. मुगल
2. बूँदी
3. किशनगढ़
4. पहाड़ी

**Options :**

485584142297. 1  
485584142298. 2  
485584142299. 3  
485584142300. 4

**Question Number : 61 Question Id : 48558435576 Question Type : MCQ Option Shuffling : No Is Question Mandatory : No Calculator : None Response Time : N.A Think Time : N.A Minimum Instruction Time : 0**

**Correct Marks : 5 Wrong Marks : 1**

**Question Key Details :**

Key	Value
Comprehension	MCQ1

During 16<sup>th</sup> century which painting style of miniature was developed ?

1. Marwadi
2. Bundi
3. Mughal
4. Rajasthani

**Options :**

485584142301. 1  
485584142302. 2  
485584142303. 3  
485584142304. 4

**Question Number : 61 Question Id : 48558435576 Question Type : MCQ Option Shuffling : No Is Question Mandatory : No Calculator : None Response Time : N.A Think Time : N.A Minimum Instruction Time : 0**

**Correct Marks : 5 Wrong Marks : 1**

**Question Key Details :**

Key	Value
Comprehension	MCQ1

16<sup>वीं</sup> शताब्दी की अवधि के दौरान लघुचित्र कला की कोन सी शैली विकसित की हुइ थी।

1. मारवाड़ी
2. बूँदी
3. मुगल
4. राजस्थानी

**Options :**

485584142301. 1  
485584142302. 2  
485584142303. 3  
485584142304. 4

**Question Number : 62 Question Id : 48558435577 Question Type : MCQ Option Shuffling : No Is Question Mandatory : No Calculator : None Response Time : N.A Think Time : N.A Minimum Instruction Time : 0**

**Correct Marks : 5 Wrong Marks : 1**

**Question Key Details :**

Key	Value
Comprehension	MCQ1

The technique of the painting "Tiller of Soil" is :

1. Oil on canvas
2. Oil pastels
3. Ink on paper
4. Watercolour wash and tempera

**Options :**

485584142305. 1  
485584142306. 2  
485584142307. 3  
485584142308. 4

**Question Number : 62 Question Id : 48558435577 Question Type : MCQ Option Shuffling : No Is Question Mandatory : No Calculator : None Response Time : N.A Think Time : N.A Minimum Instruction Time : 0**

**Correct Marks : 5 Wrong Marks : 1**

**Question Key Details :**

Key	Value
Comprehension	MCQ1

"टिलर ऑफ सॉइल" चित्र की तकनीकी है:

1. केनवस पर तैल रंग
2. तैल रंगीन पेंसिल
3. कागज पर स्याही
4. जल रंग प्रक्षाल और टेम्परा

**Options :**

485584142305. 1  
485584142306. 2  
485584142307. 3  
485584142308. 4

**Question Number : 63 Question Id : 48558435578 Question Type : MCQ Option Shuffling : No Is Question Mandatory : No Calculator : None Response Time : N.A Think Time : N.A Minimum Instruction Time : 0**

**Correct Marks : 5 Wrong Marks : 1**

**Question Key Details :**

Key	Value
Comprehension	MCQ1

Which of these is a famous painting of Nihal Chand ?

1. Radha Govind
2. Chausar player
3. Thani Thani
4. Bani Thani

**Options :**

485584142309. 1  
485584142310. 2  
485584142311. 3  
485584142312. 4

**Question Number : 63 Question Id : 48558435578 Question Type : MCQ Option Shuffling : No Is Question Mandatory : No Calculator : None Response Time : N.A Think Time : N.A Minimum Instruction Time : 0**

**Correct Marks : 5 Wrong Marks : 1**

**Question Key Details :**

Key	Value
Comprehension	MCQ1

निहाल चंद की प्रसिद्ध चित्रकला कोन सी है?

1. राधा गोविन्द
2. चौसर खिलाडी
3. थानी थानी
4. बनी ठण्णी

**Options :**

485584142309. 1  
485584142310. 2  
485584142311. 3  
485584142312. 4

**Question Number : 64 Question Id : 48558435579 Question Type : MCQ Option Shuffling : No Is Question Mandatory : No Calculator : None Response Time : N.A Think Time : N.A Minimum Instruction Time : 0**

**Correct Marks : 5 Wrong Marks : 1**

**Question Key Details :**

Key	Value
Comprehension	MCQ1

Seals were found during which period ?

1. Gupta Period
2. Indus Valley Civilization
3. Mughal Period
4. Mathura Civilization

**Options :**

485584142313. 1  
485584142314. 2  
485584142315. 3  
485584142316. 4

**Question Number : 64 Question Id : 48558435579 Question Type : MCQ Option Shuffling : No Is Question Mandatory : No Calculator : None Response Time : N.A Think Time : N.A Minimum Instruction Time : 0**

**Correct Marks : 5 Wrong Marks : 1**

**Question Key Details :**

Key	Value
Comprehension	MCQ1



किस अवधि में मुहर पाए जाते थे?

1. गुप्तकाल
2. सिन्धु घाटी सभ्यता
3. मुगलकाल
4. मथुरा सभ्यता

**Options :**

485584142313. 1  
485584142314. 2  
485584142315. 3  
485584142316. 4

**Question Number : 65 Question Id : 48558435580 Question Type : MCQ Option Shuffling : No Is Question Mandatory : No Calculator : None Response Time : N.A Think Time : N.A Minimum Instruction Time : 0**

**Correct Marks : 5 Wrong Marks : 1**

**Question Key Details :**

Key	Value
Comprehension	MCQ1

Who is the artist of painting "Radhika" ?

1. Kshitindranath Majumdar
2. Abdul Rehman Chughtai
3. Abanindranath Tagore
4. Nandalal Bose

**Options :**

485584142317. 1  
485584142318. 2  
485584142319. 3  
485584142320. 4

**Question Number : 65 Question Id : 48558435580 Question Type : MCQ Option Shuffling : No Is Question Mandatory : No Calculator : None Response Time : N.A Think Time : N.A Minimum Instruction Time : 0**

**Correct Marks : 5 Wrong Marks : 1**

**Question Key Details :**

Key	Value
Comprehension	MCQ1

"राधिका" चित्र का कलाकार कौन है?

1. क्षितीन्द्रनाथ मजूमदार
2. अब्दुल रहमान चुगताई
3. अबनिन्द्रनाथ टैगोर
4. नन्दलाल बोस

**Options :**

485584142317. 1  
485584142318. 2  
485584142319. 3  
485584142320. 4

**Question Number : 66 Question Id : 48558435581 Question Type : MCQ Option Shuffling : No Is Question Mandatory : No Calculator : None Response Time : N.A Think Time : N.A Minimum Instruction Time : 0**

**Correct Marks : 5 Wrong Marks : 1**

**Question Key Details :**

Key	Value
Comprehension	MCQ1

Warli paintings are traditionally painted on earthen walls with :

1. Maida
2. Wheat flour
3. Rice flour
4. Natural mineral colours

**Options :**

485584142321. 1  
485584142322. 2  
485584142323. 3  
485584142324. 4

**Question Number : 66 Question Id : 48558435581 Question Type : MCQ Option Shuffling : No Is Question Mandatory : No Calculator : None Response Time : N.A Think Time : N.A Minimum Instruction Time : 0**

**Correct Marks : 5 Wrong Marks : 1**

**Question Key Details :**

Key	Value
Comprehension	MCQ1

वर्ली चित्रकलाओं को पारम्पारिक रूप से भित्तियों पर किसके साथ चित्रित किया जाता है?

1. मैदा
2. गेहूँ का आटा
3. चावल का आटा
4. प्राकृतिक खनिजयुक्त रंग

**Options :**

485584142321. 1  
485584142322. 2  
485584142323. 3  
485584142324. 4

**Question Number : 67 Question Id : 48558435582 Question Type : MCQ Option Shuffling : No Is Question Mandatory : No Calculator : None Response Time : N.A Think Time : N.A Minimum Instruction Time : 0**

**Correct Marks : 5 Wrong Marks : 1**

**Question Key Details :**

Key	Value
Comprehension	MCQ1

The traditional art 'Pichhwai' is originated from ?

1. Jammu
2. Kolkata
3. Dwarka
4. Nathdwara

**Options :**

485584142325. 1  
485584142326. 2  
485584142327. 3  
485584142328. 4

**Question Number : 67 Question Id : 48558435582 Question Type : MCQ Option Shuffling : No Is Question Mandatory : No Calculator : None Response Time : N.A Think Time : N.A Minimum Instruction Time : 0**

**Correct Marks : 5 Wrong Marks : 1**

**Question Key Details :**

Key	Value
Comprehension	MCQ1

पारम्परिक कला (पिछवाई) कहाँ से उद्भूत हुई है?

1. जम्मू
2. कोलकाता
3. द्वारका
4. नाथद्वारा

**Options :**

485584142325. 1  
485584142326. 2  
485584142327. 3  
485584142328. 4

**Question Number : 68 Question Id : 48558435583 Question Type : MCQ Option Shuffling : No Is Question Mandatory : No Calculator : None Response Time : N.A Think Time : N.A Minimum Instruction Time : 0**

**Correct Marks : 5 Wrong Marks : 1**

**Question Key Details :**

Key	Value
Comprehension	MCQ1

Who painted the painting "Noah's Ark" ?

1. Ustad Mansur
2. Miskin
3. Farrukh Beg
4. Basawan

**Options :**

485584142329. 1  
485584142330. 2  
485584142331. 3  
485584142332. 4

**Question Number : 68 Question Id : 48558435583 Question Type : MCQ Option Shuffling : No Is Question Mandatory : No Calculator : None Response Time : N.A Think Time : N.A Minimum Instruction Time : 0**

**Correct Marks : 5 Wrong Marks : 1**

**Question Key Details :**

Key	Value
Comprehension	MCQ1

"नोह का आर्क" चित्र किसने चित्रित किया ?

1. उस्ताद मंसूर
2. मिस्किन
3. फारुख बेग
4. बसावन

**Options :**

485584142329. 1  
485584142330. 2  
485584142331. 3  
485584142332. 4

**Question Number : 69 Question Id : 48558435584 Question Type : MCQ Option Shuffling : No Is Question Mandatory : No Calculator : None Response Time : N.A Think Time : N.A Minimum Instruction Time : 0**

**Correct Marks : 5 Wrong Marks : 1**

**Question Key Details :**

Key	Value
Comprehension	MCQ1

The illustrated 'Kalkacharyakatha' manuscript is from which of the following art School?

1. Mughal School
2. Pala School
3. Pahari School
4. Jain School

**Options :**

485584142333. 1  
485584142334. 2  
485584142335. 3  
485584142336. 4

**Question Number : 69 Question Id : 48558435584 Question Type : MCQ Option Shuffling : No Is Question Mandatory : No Calculator : None Response Time : N.A Think Time : N.A Minimum Instruction Time : 0**

**Correct Marks : 5 Wrong Marks : 1**

**Question Key Details :**

Key	Value
Comprehension	MCQ1

चित्रित 'काल्काचार्यकथा' पाण्डुलिपि निम्न में से किस कला शैली से है?

1. मुगल शैली
2. पाल शैली
3. पहाड़ी शैली
4. जैन शैली

**Options :**

485584142333. 1  
485584142334. 2  
485584142335. 3  
485584142336. 4

**Question Number : 70 Question Id : 48558435585 Question Type : MCQ Option Shuffling : No Is Question Mandatory : No Calculator : None Response Time : N.A Think Time : N.A Minimum Instruction Time : 0**

**Correct Marks : 5 Wrong Marks : 1**

**Question Key Details :**

Key	Value
Comprehension	MCQ1

Which of the following Painting was created by "Jamini Roy" ?

1. Black Bear
2. Black Horse
3. Black Cat
4. Black Elephant

**Options :**

485584142337. 1  
485584142338. 2  
485584142339. 3  
485584142340. 4

**Question Number : 70 Question Id : 48558435585 Question Type : MCQ Option Shuffling : No Is Question Mandatory : No Calculator : None Response Time : N.A Think Time : N.A Minimum Instruction Time : 0**

**Correct Marks : 5 Wrong Marks : 1**

**Question Key Details :**

Key	Value
Comprehension	MCQ1

निम्न मे से कोन सा चित्र "जामिनी रॉय" ने बनाया है ?

1. ब्लैक बेएर
2. ब्लैक हॉर्स
3. ब्लैक कैट
4. ब्लैक एलिफैन्ट

**Options :**

485584142337. 1  
485584142338. 2  
485584142339. 3  
485584142340. 4

**Question Number : 71 Question Id : 48558435586 Question Type : MCQ Option Shuffling : No Is Question Mandatory : No Calculator : None Response Time : N.A Think Time : N.A Minimum Instruction Time : 0**

**Correct Marks : 5 Wrong Marks : 1**

**Question Key Details :**

Key	Value
Comprehension	MCQ1

During which Mughal Emperor's rule, maximum number of historical scenes were painted ?

1. Babur
2. Humayun
3. Shah Jahan
4. Akbar

**Options :**

485584142341. 1  
485584142342. 2  
485584142343. 3  
485584142344. 4

**Question Number : 71 Question Id : 48558435586 Question Type : MCQ Option Shuffling : No Is Question Mandatory : No Calculator : None Response Time : N.A Think Time : N.A Minimum Instruction Time : 0**

**Correct Marks : 5 Wrong Marks : 1**

**Question Key Details :**

Key	Value
Comprehension	MCQ1

किस मुगल सम्राट के शासन काल में अधिकतम संख्या में ऐतिहासिक दृश्यों को चित्रित किया गया था?

1. बाबर
2. हुमायूँ
3. शाहजहाँ
4. अकबर

**Options :**

485584142341. 1  
485584142342. 2  
485584142343. 3  
485584142344. 4

**Question Number : 72 Question Id : 48558435587 Question Type : MCQ Option Shuffling : No Is Question Mandatory : No Calculator : None Response Time : N.A Think Time : N.A Minimum Instruction Time : 0**

**Correct Marks : 5 Wrong Marks : 1**

**Question Key Details :**

Key	Value
Comprehension	MCQ1

Red Fort Delhi is the famous architecture made under the reign of which Mughal Ruler ?

1. Aurangzeb
2. Shah Jahan
3. Jahangir
4. Humayun

**Options :**

485584142345. 1  
485584142346. 2  
485584142347. 3  
485584142348. 4

**Question Number : 72 Question Id : 48558435587 Question Type : MCQ Option Shuffling : No Is Question Mandatory : No Calculator : None Response Time : N.A Think Time : N.A Minimum Instruction Time : 0**

**Correct Marks : 5 Wrong Marks : 1**

**Question Key Details :**

Key	Value
Comprehension	MCQ1



प्रसिद्ध स्थापत्य दिल्ली का लाल किला किस मुगल शासक के शासनकाल में बनाया गया?

1. औरंगजेब
2. शाहजहाँ
3. जहाँगीर
4. हुमायूँ

**Options :**

485584142345. 1  
485584142346. 2  
485584142347. 3  
485584142348. 4

**Question Number : 73 Question Id : 48558435588 Question Type : MCQ Option Shuffling : No Is Question Mandatory : No Calculator : None Response Time : N.A Think Time : N.A Minimum Instruction Time : 0**

**Correct Marks : 5 Wrong Marks : 1**

**Question Key Details :**

Key	Value
Comprehension	MCQ1

"Krishna Lifts mount Govardhan" is taken from which religious text ?

1. Ramayana
2. Raslila
3. Harivamsa Purana
4. Mahabharat

**Options :**

485584142349. 1  
485584142350. 2  
485584142351. 3  
485584142352. 4

**Question Number : 73 Question Id : 48558435588 Question Type : MCQ Option Shuffling : No Is Question Mandatory : No Calculator : None Response Time : N.A Think Time : N.A Minimum Instruction Time : 0**

**Correct Marks : 5 Wrong Marks : 1**

**Question Key Details :**

Key	Value
Comprehension	MCQ1

"कृष्ण गोवर्धन पर्वत उठाते हुए " किस धार्मिक मूलपाठ से लिया गया है?

1. रामायण
2. रासलीला
3. हरिवंश पुराण
4. महाभारत

**Options :**

485584142349. 1  
485584142350. 2  
485584142351. 3  
485584142352. 4

**Question Number : 74 Question Id : 48558435589 Question Type : MCQ Option Shuffling : No Is Question Mandatory : No Calculator : None Response Time : N.A Think Time : N.A Minimum Instruction Time : 0**

**Correct Marks : 5 Wrong Marks : 1**

**Question Key Details :**

Key	Value
Comprehension	MCQ1

The person who makes Dhokra sculptures are called :

1. Ghadwa
2. Loharu
3. Sarpanch
4. Pujari

**Options :**

485584142353. 1  
485584142354. 2  
485584142355. 3  
485584142356. 4

**Question Number : 74 Question Id : 48558435589 Question Type : MCQ Option Shuffling : No Is Question Mandatory : No Calculator : None Response Time : N.A Think Time : N.A Minimum Instruction Time : 0**

**Correct Marks : 5 Wrong Marks : 1**

**Question Key Details :**

Key	Value
Comprehension	MCQ1

डोकरा शिल्प बनाने वाले व्यक्ति को क्या कहा जाता है?

1. घड़वा
2. लोहारु
3. सरपंच
4. पुजारी

**Options :**

485584142353. 1  
485584142354. 2  
485584142355. 3  
485584142356. 4

**Question Number : 75 Question Id : 48558435590 Question Type : MCQ Option Shuffling : No Is Question Mandatory : No Calculator : None Response Time : N.A Think Time : N.A Minimum Instruction Time : 0**

**Correct Marks : 5 Wrong Marks : 1**

**Question Key Details :**

Key	Value
Comprehension	MCQ1

The Sarnath Lion Capital is the finest example of which of the following art ?

1. Mughal Art
2. Deccan Art
3. Mauryan Art
4. Gupta Art

**Options :**

485584142357. 1  
485584142358. 2  
485584142359. 3  
485584142360. 4

**Question Number : 75 Question Id : 48558435590 Question Type : MCQ Option Shuffling : No Is Question Mandatory : No Calculator : None Response Time : N.A Think Time : N.A Minimum Instruction Time : 0**

**Correct Marks : 5 Wrong Marks : 1**

**Question Key Details :**

Key	Value
Comprehension	MCQ1

सारनाथ का सिंह स्तम्भ निम्न मे से कोन सी कला का उदाहरण है?

1. मुगल कला
2. दक्कन कला
3. मोर्य कला
4. गुप्ता कला

**Options :**

485584142357. 1

485584142358. 2

485584142359. 3

485584142360. 4

**Sub-Section Number :**

2

**Sub-Section Id :**

4855842638

**Question Shuffling Allowed :**

No

**Is Section Default? :**

null

**Question Number : 76 Question Id : 48558435591 Question Type : MCQ Option Shuffling : No Is Question Mandatory :**

**No Calculator : None Response Time : N.A Think Time : N.A Minimum Instruction Time : 0**

**Correct Marks : 5 Wrong Marks : 1**

**Question Key Details :**

Key	Value
Comprehension	Comp1

Observe the image and answer the question :



Identify the year in which this image was made

1. 1905
2. 1909
3. 1906
4. 1901

**Options :**

- 485584142361. 1
- 485584142362. 2
- 485584142363. 3
- 485584142364. 4

**Question Number : 76 Question Id : 48558435591 Question Type : MCQ Option Shuffling : No Is Question Mandatory : No Calculator : None Response Time : N.A Think Time : N.A Minimum Instruction Time : 0**

**Correct Marks : 5 Wrong Marks : 1**

**Question Key Details :**

Key	Value
Comprehension	Comp1

चित्र को ध्यान से देखिए और प्रश्न का उत्तर दीजिए।



वर्ष को पहचानिए जिसमें इस चित्र को बनाया गया था?

1. 1905
2. 1909
3. 1906
4. 1901

**Options :**

485584142361. 1
485584142362. 2
485584142363. 3
485584142364. 4

**Question Number : 77 Question Id : 48558435592 Question Type : MCQ Option Shuffling : No Is Question Mandatory : No Calculator : None Response Time : N.A Think Time : N.A Minimum Instruction Time : 0**

**Correct Marks : 5 Wrong Marks : 1**

**Question Key Details :**

Key	Value
-----	-------



Observe the image and answer the question :



Who among the following is the artist of this image ?

1. Jamini Roy
2. Raja Harsh Varma
3. Nandalal Bose
4. Raja Ravi Varma

**Options :**

485584142365. 1  
485584142366. 2  
485584142367. 3  
485584142368. 4

**Question Number : 77 Question Id : 48558435592 Question Type : MCQ Option Shuffling : No Is Question Mandatory : No Calculator : None Response Time : N.A Think Time : N.A Minimum Instruction Time : 0**

**Correct Marks : 5 Wrong Marks : 1**

**Question Key Details :**

Key	Value
-----	-------



चित्र को ध्यान से देखिए और प्रश्न का उत्तर दीजिए।



निम्नलिखित में से इस चित्र का कलाकार कौन है?

1. जैमिनी रॉय
2. राजा हर्ष वर्मा
3. नन्दलाल बोस
4. राजा रवि वर्मा

**Options :**

485584142365. 1
485584142366. 2
485584142367. 3
485584142368. 4

**Question Number : 78 Question Id : 48558435593 Question Type : MCQ Option Shuffling : No Is Question Mandatory : No Calculator : None Response Time : N.A Think Time : N.A Minimum Instruction Time : 0 Correct Marks : 5 Wrong Marks : 1**



**Question Key Details :**

Key	Value
Comprehension	Comp1

Observe the image and answer the question :



Identify the title of this image :

1. Krishna as child
2. Krishna as envoy
3. Krishna as soldier
4. Krishna as king

**Options :**

- 485584142369. 1
- 485584142370. 2
- 485584142371. 3
- 485584142372. 4

**Question Number : 78 Question Id : 48558435593 Question Type : MCQ Option Shuffling : No Is Question Mandatory : No Calculator : None Response Time : N.A Think Time : N.A Minimum Instruction Time : 0 Correct Marks : 5 Wrong Marks : 1**

**Question Key Details :**

Key	Value
Comprehension	Comp1

चित्र को ध्यान से देखिए और प्रश्न का उत्तर दीजिए।



इस चित्र का शीर्षक पहचानिए।

1. बाल-रूप में कृष्ण
2. दूत-रूप में कृष्ण
3. सैनिक-रूप में कृष्ण
4. राजा-रूप में कृष्ण

**Options :**

485584142369. 1  
485584142370. 2  
485584142371. 3  
485584142372. 4


Question Number : 79 Question Id : 48558435594 Question Type : MCQ Option Shuffling : No Is Question Mandatory : No Calculator : None Response Time : N.A Think Time : N.A Minimum Instruction Time : 0

Correct Marks : 5 Wrong Marks : 1

Question Key Details :

Key	Value
Comprehension	Comp1

Observe the image and answer the question :



Identify the medium of this image :

1. Planography
2. Screen printing
3. Oleograph
4. Aquatint

Options :

- 485584142373. 1
- 485584142374. 2
- 485584142375. 3
- 485584142376. 4

Question Number : 79 Question Id : 48558435594 Question Type : MCQ Option Shuffling : No Is Question Mandatory : No Calculator : None Response Time : N.A Think Time : N.A Minimum Instruction Time : 0

Correct Marks : 5 Wrong Marks : 1

Question Key Details :

Key	Value
Comprehension	Comp1

चित्र को ध्यान से देखिए और प्रश्न का उत्तर दीजिए।



इस चित्र का माध्यम पहचानिए।

1. समतललेखी आलेखन (प्लेनोग्राफी)
2. आवरण मुद्रण (स्क्रीन प्रिंटिंग)
3. तैल आलेखन (ओलियोग्राफ)
4. एक्वाटिंट

Options :

485584142373. 1

485584142374. 2

485584142375. 3


Question Number : 80 Question Id : 48558435595 Question Type : MCQ Option Shuffling : No Is Question Mandatory : No Calculator : None Response Time : N.A Think Time : N.A Minimum Instruction Time : 0

Correct Marks : 5 Wrong Marks : 1

Question Key Details :

Key	Value
Comprehension	Comp1

Observe the image and answer the question :



Where is this image located ?

1. National Gallery of Modern Art, Bengaluru
2. National Museum, New Delhi
3. National Gallery of Modern Art, New Delhi
4. National Gallery of Modern Art, Mumbai

Options :

- 485584142377. 1
- 485584142378. 2
- 485584142379. 3

Question Number : 80 Question Id : 48558435595 Question Type : MCQ Option Shuffling : No Is Question Mandatory : No Calculator : None Response Time : N.A Think Time : N.A Minimum Instruction Time : 0

Correct Marks : 5 Wrong Marks : 1

Question Key Details :

Key	Value
Comprehension	Comp1

चित्र को ध्यान से देखिए और प्रश्न का उत्तर दीजिए।



यह चित्र कहाँ अवस्थित है?

1. राष्ट्रीय आधुनिक कला दीर्घा, बैंगलुरु
2. राष्ट्रीय संग्रहालय, नई दिल्ली
3. राष्ट्रीय आधुनिक कला दीर्घा, नई दिल्ली
4. राष्ट्रीय आधुनिक कला दीर्घा, मुम्बई

Options :

485584142377. 1

485584142378. 2  
485584142379. 3  
485584142380. 4

**Sub-Section Number :** 3  
**Sub-Section Id :** 4855842639  
**Question Shuffling Allowed :** No  
**Is Section Default? :** null

**Question Number : 81 Question Id : 48558435596 Question Type : MCQ Option Shuffling : No Is Question Mandatory : No Calculator : None Response Time : N.A Think Time : N.A Minimum Instruction Time : 0**

**Correct Marks : 5 Wrong Marks : 1**

**Question Key Details :**

Key	Value
Comprehension	Comp2

Observe the image and answer the question :



Identify the style of the image :

1. Kalamkari
2. Pattachitra
3. Kalighat
4. Mithila

**Options :**

485584142381. 1  
485584142382. 2  
485584142383. 3  
485584142384. 4

**Question Number : 81 Question Id : 48558435596 Question Type : MCQ Option Shuffling : No Is Question Mandatory : No Calculator : None Response Time : N.A Think Time : N.A Minimum Instruction Time : 0**

**Correct Marks : 5 Wrong Marks : 1**

**Question Key Details :**

Key	Value
Comprehension	Comp2



चित्र को ध्यान से देखिए और प्रश्न का उत्तर दीजिए।



चित्र की शैली को पहचानिए।

1. कलमकारी
2. पट्टचित्र
3. कालीघाट
4. मिथिला

**Options :**

485584142381. 1  
485584142382. 2  
485584142383. 3  
485584142384. 4

**Question Number : 82 Question Id : 48558435597 Question Type : MCQ Option Shuffling : No Is Question Mandatory : No Calculator : None Response Time : N.A Think Time : N.A Minimum Instruction Time : 0**

**Correct Marks : 5 Wrong Marks : 1**

**Question Key Details :**

Key	Value
Comprehension	Comp2



Observe the image and answer the question :



This style of painting belongs to which State?

1. Uttar Pradesh
2. Bengal
3. Maharashtra
4. Bihar

**Options :**

485584142385. 1  
485584142386. 2  
485584142387. 3  
485584142388. 4

**Question Number : 82 Question Id : 48558435597 Question Type : MCQ Option Shuffling : No Is Question Mandatory : No Calculator : None Response Time : N.A Think Time : N.A Minimum Instruction Time : 0**

**Correct Marks : 5 Wrong Marks : 1**

**Question Key Details :**

Key	Value
Comprehension	Comp2

चित्र को ध्यान से देखिए और प्रश्न का उत्तर दीजिए।



चित्रकला की शैली किस राज्य से सम्बन्ध रखती है?

1. उत्तर प्रदेश
2. बंगाल
3. महाराष्ट्र
4. बिहार

**Options :**

485584142385. 1  
485584142386. 2  
485584142387. 3  
485584142388. 4

**Question Number : 83 Question Id : 48558435598 Question Type : MCQ Option Shuffling : No Is Question Mandatory : No Calculator : None Response Time : N.A Think Time : N.A Minimum Instruction Time : 0**

**Correct Marks : 5 Wrong Marks : 1**

**Question Key Details :**

Key	Value
Comprehension	Comp2

Observe the image and answer the question :



This style is also known as :

1. Wall painting
2. Madhubani
3. Pichwai
4. Mural painting

**Options :**

- 485584142389. 1
- 485584142390. 2
- 485584142391. 3
- 485584142392. 4

**Question Number : 83 Question Id : 48558435598 Question Type : MCQ Option Shuffling : No Is Question Mandatory : No Calculator : None Response Time : N.A Think Time : N.A Minimum Instruction Time : 0**

**Correct Marks : 5 Wrong Marks : 1**

**Question Key Details :**

Key	Value
Comprehension	Comp2

चित्र को ध्यान से देखिए और प्रश्न का उत्तर दीजिए।



इस शैली को जाना जाता है:

1. भित्ति चित्रकला
2. मधुबनी
3. पिछवई
4. म्युरल चित्रकला

**Options :**

485584142389. 1  
485584142390. 2  
485584142391. 3  
485584142392. 4

**Question Number : 84 Question Id : 48558435599 Question Type : MCQ Option Shuffling : No Is Question Mandatory : No Calculator : None Response Time : N.A Think Time : N.A Minimum Instruction Time : 0**

**Correct Marks : 5 Wrong Marks : 1**

**Question Key Details :**

Key	Value
Comprehension	Comp2

Observe the image and answer the question :



At what place this is painted ?

1. Inside Northern part
2. At the Gate of the house
3. Inside room
4. Eastern part of outside

**Options :**

- 485584142393. 1
- 485584142394. 2
- 485584142395. 3
- 485584142396. 4

**Question Number : 84 Question Id : 48558435599 Question Type : MCQ Option Shuffling : No Is Question Mandatory : No Calculator : None Response Time : N.A Think Time : N.A Minimum Instruction Time : 0**

**Correct Marks : 5 Wrong Marks : 1**

**Question Key Details :**

Key	Value
Comprehension	Comp2

चित्र को ध्यान से देखिए और प्रश्न का उत्तर दीजिए।



किस स्थान पर इसे चित्रित किया जाता है?

1. उत्तरी भाग के अन्दर
2. गृह के द्वारा पर
3. कमरे के अन्दर
4. पूर्व का बाहरी भाग

**Options :**

485584142393. 1  
485584142394. 2  
485584142395. 3  
485584142396. 4

**Question Number : 85 Question Id : 48558435600 Question Type : MCQ Option Shuffling : No Is Question Mandatory : No Calculator : None Response Time : N.A Think Time : N.A Minimum Instruction Time : 0**

**Correct Marks : 5 Wrong Marks : 1**

**Question Key Details :**

Key	Value
Comprehension	Comp2

Observe the image and answer the question :



Who creates this image ?

1. Women only
2. Girls only
3. Head of the house
4. Pujari only

**Options :**

485584142397. 1  
485584142398. 2  
485584142399. 3  
485584142400. 4

**Question Number : 85 Question Id : 48558435600 Question Type : MCQ Option Shuffling : No Is Question Mandatory : No Calculator : None Response Time : N.A Think Time : N.A Minimum Instruction Time : 0**

**Correct Marks : 5 Wrong Marks : 1**

**Question Key Details :**

Key	Value
Comprehension	Comp2

चित्र को ध्यान से देखिए और प्रश्न का उत्तर दीजिए।



इस चित्र को कौन चित्रित करता है?

1. केवल महिलाएँ
2. केवल लड़कियाँ
3. केवल गृह-स्वामी/स्वामिनी
4. केवल पुजारी

**Options :**

485584142397. 1  
485584142398. 2  
485584142399. 3  
485584142400. 4

**Sub-Section Number :**

4

**Sub-Section Id :**

4855842640

**Question Shuffling Allowed :**

Yes

**Is Section Default? :**

null

**Question Number : 86 Question Id : 48558435601 Question Type : MCQ Option Shuffling : No Is Question Mandatory : No Calculator : None Response Time : N.A Think Time : N.A Minimum Instruction Time : 0**

**Correct Marks : 5 Wrong Marks : 1**

**Question Key Details :**

Key	Value
Comprehension	MCQ2



Arrange the following Art Groups in chronological order according to their formation.

- A. Delhi Shilpi Chakra
- B. Group 1890
- C. Calcutta Group
- D. Progressive Group
- E. Baroda Group

Choose the correct answer from the options given below :

- 1. E, B, C, A, D
- 2. A, C, D, B, E
- 3. B, A, C, D, E
- 4. C, D, A, E, B

**Options :**

- 485584142401. 1
- 485584142402. 2
- 485584142403. 3
- 485584142404. 4

**Question Number : 86 Question Id : 48558435601 Question Type : MCQ Option Shuffling : No Is Question Mandatory : No Calculator : None Response Time : N.A Think Time : N.A Minimum Instruction Time : 0**

**Correct Marks : 5 Wrong Marks : 1**

**Question Key Details :**

Key	Value
Comprehension	MCQ2

निम्नलिखित कलाकारों के समूहों को उनके गठन के अनुसार कालानुक्रमिक क्रम में व्यवस्थित कीजिए।

- A. दिल्ली शिल्ली चक्र
- B. समूह 1890
- C. कलकत्ता समूह
- D. प्रगतिशील समूह
- E. बड़ौदा समूह

नीचे दिए गए विकल्पों में से सही उत्तर का चयन कीजिए:

- 1. E, B, C, A, D
- 2. A, C, D, B, E
- 3. B, A, C, D, E
- 4. C, D, A, E, B

**Options :**

- 485584142401. 1
- 485584142402. 2

485584142403. 3

485584142404. 4

**Question Number : 87 Question Id : 48558435602 Question Type : MCQ Option Shuffling : No Is Question Mandatory : No Calculator : None Response Time : N.A Think Time : N.A Minimum Instruction Time : 0**

**Correct Marks : 5 Wrong Marks : 1**

**Question Key Details :**

Key	Value
Comprehension	MCQ2

Arrange the following artists in chronological order according to their arrival in India.

- A. Daswant
- B. Abul Hasan
- C. Mir Sayyid Ali
- D. Ustad Farquitullah Khan
- E. Bihzad

Choose the correct answer from the options given below :

- 1. A,B,C,D,E
- 2. D,B,C,A,E
- 3. E,C,A,B,D
- 4. B,C,E,D,A

**Options :**

485584142405. 1

485584142406. 2

485584142407. 3

485584142408. 4

**Question Number : 87 Question Id : 48558435602 Question Type : MCQ Option Shuffling : No Is Question Mandatory : No Calculator : None Response Time : N.A Think Time : N.A Minimum Instruction Time : 0**

**Correct Marks : 5 Wrong Marks : 1**

**Question Key Details :**

Key	Value
Comprehension	MCQ2

निम्नलिखित कलाकारों को उनके भारत में आगमन के कालानुक्रमिक क्रम में व्यवस्थित कीजिए।

- A. दस्वंत
- B. अबुल हसन
- C. मीर सैय्यद अली
- D. उस्ताद फकिरुल्लाह खान
- E. बिहज़ाद

नीचे दिए गए विकल्पों में से सही उत्तर का चयन कीजिए:

- 1. A,B,C,D,E
- 2. D,B,C,A,E
- 3. E,C,A,B,D
- 4. B,C,E,D,A

**Options :**

- 485584142405. 1
- 485584142406. 2
- 485584142407. 3
- 485584142408. 4

**Question Number : 88 Question Id : 48558435603 Question Type : MCQ Option Shuffling : No Is Question Mandatory : No Calculator : None Response Time : N.A Think Time : N.A Minimum Instruction Time : 0**

**Correct Marks : 5 Wrong Marks : 1**

**Question Key Details :**

Key	Value
Comprehension	MCQ2

Arrange the the following manuscripts in chronological order according to their existance.

- A. Bhagvata Purana
- B. Nizam-ul-Mulk
- C. Nujum-al-Ulum
- D. Sufi poem
- E. Tarif-i-Hussain Shahi

Choose the correct answer from the options given below :

- 1. A,B,C,D,E
- 2. E,C,D,B,A
- 3. B,C,A,D,E
- 4. D,C,A,E,B

**Options :**

- 485584142409. 1
- 485584142410. 2

485584142411. 3

485584142412. 4

**Question Number : 88 Question Id : 48558435603 Question Type : MCQ Option Shuffling : No Is Question Mandatory : No Calculator : None Response Time : N.A Think Time : N.A Minimum Instruction Time : 0**

**Correct Marks : 5 Wrong Marks : 1**

**Question Key Details :**

Key	Value
Comprehension	MCQ2

निम्नलिखित पाण्डुलिपियों को उनकी विद्यमानता के अनुसार कालानुक्रमिक क्रम में व्यवस्थित करें:

- A. भागवत पुराण
- B. निज़ाम-उल-मुल्क
- C. नुजुन-अल-उलुम
- D. सूफी नजम
- E. तारीफ ए हुसैन शाही

नीचे दिए गए विकल्पों में से सही उत्तर का चयन कीजिए:

- 1. A,B,C,D,E
- 2. E,C,D,B,A
- 3. B,C,A,D,E
- 4. D,C,A,E,B

**Options :**

485584142409. 1

485584142410. 2

485584142411. 3

485584142412. 4

**Question Number : 89 Question Id : 48558435604 Question Type : MCQ Option Shuffling : No Is Question Mandatory : No Calculator : None Response Time : N.A Think Time : N.A Minimum Instruction Time : 0**

**Correct Marks : 5 Wrong Marks : 1**

**Question Key Details :**

Key	Value
Comprehension	MCQ2

Arrange the artworks in chronological order according to their creation.

- A. Tiller of the Soil
- B. Rasa Lila
- C. Radhika
- D. City in the night
- E. Journey's End

Choose the correct answer from the options given below :

- 1. B,C,A,D,E
- 2. D,C,E,A,B
- 3. C,D,B,A,E
- 4. A,D,E,B,C

**Options :**

- 485584142413. 1
- 485584142414. 2
- 485584142415. 3
- 485584142416. 4

**Question Number : 89 Question Id : 48558435604 Question Type : MCQ Option Shuffling : No Is Question Mandatory : No Calculator : None Response Time : N.A Think Time : N.A Minimum Instruction Time : 0**

**Correct Marks : 5 Wrong Marks : 1**

**Question Key Details :**

Key	Value
Comprehension	MCQ2

निम्नलिखित कलाकृतियों को उनकी रचना के वर्षों के अनुसार कालानुक्रमिक क्रम में व्यवस्थित करें

- A. टिलर ऑफ सॉअल (मिट्टी जोतने वाला/कृषक)
- B. रासलीला
- C. राधिका
- D. सिटी इन द नाइट (रात्रिमें नगर)
- E. जर्नीज एंड (यात्रा की समाप्ति)

नीचे दिए गए विकल्पों में से सही उत्तर का चयन कीजिए:

- 1. B,C,A,D,E
- 2. D,C,E,A,B
- 3. C,D,B,A,E
- 4. A,D,E,B,C

**Options :**

- 485584142413. 1
- 485584142414. 2

485584142415. 3

485584142416. 4

**Question Number : 90 Question Id : 48558435605 Question Type : MCQ Option Shuffling : No Is Question Mandatory : No Calculator : None Response Time : N.A Think Time : N.A Minimum Instruction Time : 0**

**Correct Marks : 5 Wrong Marks : 1**

**Question Key Details :**

Key	Value
Comprehension	MCQ2

Given below are two statements :

Statement I : Shilpa and Vastu Shastras are related, Shilpa Shastras deal with arts and crafts such as forming Statues, Icons, Murals, Painting, Carpentry, Pottery, Jewellery, Dying, Textiles and others.

Statement II : Vastu Shastras deal with Building Architecture-Building Houses, Forts, Temples, Apartments, Village and Town Layout, etc.

In the light of the above statements, choose the most appropriate answer from the options given below

1. Both Statement I and Statement II are correct
2. Both Statement I and Statement II are incorrect
3. Statement I is correct but Statement II is incorrect
4. Statement I is incorrect but Statement II is correct

**Options :**

485584142417. 1

485584142418. 2

485584142419. 3

485584142420. 4

**Question Number : 90 Question Id : 48558435605 Question Type : MCQ Option Shuffling : No Is Question Mandatory : No Calculator : None Response Time : N.A Think Time : N.A Minimum Instruction Time : 0**

**Correct Marks : 5 Wrong Marks : 1**

**Question Key Details :**

Key	Value
Comprehension	MCQ2

नीचे दो कथन दिए गए हैं :

**कथन I** : शिल्प और वास्तु शास्त्र सम्बन्धित हैं। शिल्प शास्त्र, कला और शिल्प तथा मूर्तियों, प्रतिमाओं, प्रस्तर, भित्तियों, चित्रकलाओं, बढ़ईगिरी, मृण्पात्र, आभूषण, रंजन, वस्त्र एवं अन्य से सम्बन्ध रखता है।

**कथन II** : वास्तुशास्त्र भवन स्थापत्य से सम्बन्ध रखता है - गृह-निर्माण, किले, मंदिर, भवन, ग्राम और नगर अभिविन्यास इत्यदि।

उपरोक्त कथन के आलोक में, नीचे दिए गए विकल्पों में से **सबसे उपयुक्त उत्तर** का चयन कीजिए:

1. कथन I और कथन II दोनों सही हैं
2. कथन I और कथन II दोनों गलत हैं
3. कथन I सही है लेकिन कथन II गलत है।
4. कथन I गलत है लेकिन कथन II सही है।

**Options :**

485584142417. 1  
485584142418. 2  
485584142419. 3  
485584142420. 4

**Question Number : 91 Question Id : 48558435606 Question Type : MCQ Option Shuffling : No Is Question Mandatory : No Calculator : None Response Time : N.A Think Time : N.A Minimum Instruction Time : 0**

**Correct Marks : 5 Wrong Marks : 1**

**Question Key Details :**

Key	Value
Comprehension	MCQ2

Pattachitra are traditionally done in ?

- A. West Bengal
- B. Tamil Nadu
- C. Kerala
- D. Odisha

Choose the correct answer from the options given below :

1. B & C Only
2. A & D Only
3. C & D Only
4. B & D Only

**Options :**

485584142421. 1  
485584142422. 2  
485584142423. 3  
485584142424. 4

**Question Number : 91 Question Id : 48558435606 Question Type : MCQ Option Shuffling : No Is Question Mandatory : No Calculator : None Response Time : N.A Think Time : N.A Minimum Instruction Time : 0**

**Correct Marks : 5 Wrong Marks : 1**

**Question Key Details :**

Key	Value
Comprehension	MCQ2

पट्टचित्र पारम्परिक रूप से \_\_\_\_\_ मे बनाए जाते है

- A. पश्चिम बंगाल  
B. तमिलनाडु  
C. केरल  
D. ओडिशा

नाचे दिए गए विकल्पों से सही उत्तर का चयन कीजिए:

- केवल B और C
- केवल A और D
- केवल C और D
- केवल B और D

**Options :**

485584142421. 1  
485584142422. 2  
485584142423. 3  
485584142424. 4

**Question Number : 92 Question Id : 48558435607 Question Type : MCQ Option Shuffling : No Is Question Mandatory : No Calculator : None Response Time : N.A Think Time : N.A Minimum Instruction Time : 0**

**Correct Marks : 5 Wrong Marks : 1**

**Question Key Details :**

Key	Value
Comprehension	MCQ2



These are the famous paintings of Bundi School :

- A. Krishna supporting mount Govardhan
- B. Raga Dipak
- C. Ashwin, Baramasa
- D. Maru Ragini

Choose the correct answer from the options given below :

- 1. B & C Only
- 2. A & B Only
- 3. C & D Only
- 4. B & D Only

**Options :**

- 485584142425. 1
- 485584142426. 2
- 485584142427. 3
- 485584142428. 4

**Question Number : 92 Question Id : 48558435607 Question Type : MCQ Option Shuffling : No Is Question Mandatory : No Calculator : None Response Time : N.A Think Time : N.A Minimum Instruction Time : 0**

**Correct Marks : 5 Wrong Marks : 1**

**Question Key Details :**

Key	Value
Comprehension	MCQ2

ये सभी बूँदी शैली की प्रसिद्ध चित्रकलाएँ हैं:

- A. गोवर्धन पर्वत को सहारा देते हुए कृष्ण
- B. राग दीपक
- C. आश्विन, बारहमासा
- D. मारु रागिनी

नीचे दिए विकल्पों में से सही उत्तर का चयन कीजिए:

- 1. केवल B और C
- 2. केवल A और B
- 3. केवल C और D
- 4. केवल B और D

**Options :**

- 485584142425. 1
- 485584142426. 2
- 485584142427. 3
- 485584142428. 4

**Question Number : 93 Question Id : 48558435608 Question Type : MCQ Option Shuffling : No Is Question Mandatory : No Calculator : None Response Time : N.A Think Time : N.A Minimum Instruction Time : 0**

**Correct Marks : 5 Wrong Marks : 1**

**Question Key Details :**

Key	Value
Comprehension	MCQ2

The Hamza Nama was created under the supervision of ?

- A. Mir Sayyid Ali
- B. Abd us Samad
- C. Adil Shah
- D. Qutb Shah

Choose the correct answer from the options given below :

- 1. B & C Only
- 2. A & B Only
- 3. C & D Only
- 4. B & D Only

**Options :**

- 485584142429. 1
- 485584142430. 2
- 485584142431. 3
- 485584142432. 4

**Question Number : 93 Question Id : 48558435608 Question Type : MCQ Option Shuffling : No Is Question Mandatory : No Calculator : None Response Time : N.A Think Time : N.A Minimum Instruction Time : 0**

**Correct Marks : 5 Wrong Marks : 1**

**Question Key Details :**

Key	Value
Comprehension	MCQ2

हम्जानामा की रचना किसके पर्यवेक्षण के अन्तर्गत की गई थी?

- A. मीर सैय्यद अली
- B. अब्द उस समद
- C. अदिल शाह
- D. कुतुब शाह

नीचे दिए विकल्पों में से सही उत्तर का चयन कीजिए :

1. केवल B और C
2. केवल A और B
3. केवल C और D
4. केवल B और D

**Options :**

- 485584142429. 1
- 485584142430. 2
- 485584142431. 3
- 485584142432. 4

**Question Number : 94 Question Id : 48558435609 Question Type : MCQ Option Shuffling : No Is Question Mandatory : No Calculator : None Response Time : N.A Think Time : N.A Minimum Instruction Time : 0 Correct Marks : 5 Wrong Marks : 1**

**Question Key Details :**

Key	Value
Comprehension	MCQ2

Select the points which describes best the "Noah's ark" ?

- A. Bright red colours
- B. Bright colour palette
- C. Use of pure white and subtle shades of red
- D. Blue and yellow is used

Choose the correct answer from the options given below :

1. A and B
2. B and C
3. C and D
4. D and A

**Options :**

- 485584142433. 1
- 485584142434. 2
- 485584142435. 3
- 485584142436. 4

Question Number : 94 Question Id : 48558435609 Question Type : MCQ Option Shuffling : No Is Question Mandatory : No Calculator : None Response Time : N.A Think Time : N.A Minimum Instruction Time : 0

Correct Marks : 5 Wrong Marks : 1

Question Key Details :

Key	Value
Comprehension	MCQ2

"नोहा का आर्क" को सर्वोत्तम विधि से वर्णन करने वाले बिन्दुओं का चयन कीजिए।

- A. चटकीले लाल रंग
- B. चटकीली रंग-पट्टिका
- C. विशुद्ध श्वेत और लाल के अतिसूक्ष्म रंगत का प्रयोग
- D. नीला और पीला प्रयुक्त हैं

नीचे दिए विकल्पों में से सही उत्तर का चयन कीजिए::

- 1. केवल A और B
- 2. केवल B और C
- 3. केवल C और D
- 4. केवल D और A

Options :

- 485584142433. 1
- 485584142434. 2
- 485584142435. 3
- 485584142436. 4

Question Number : 95 Question Id : 48558435610 Question Type : MCQ Option Shuffling : No Is Question Mandatory : No Calculator : None Response Time : N.A Think Time : N.A Minimum Instruction Time : 0

Correct Marks : 5 Wrong Marks : 1

Question Key Details :

Key	Value
Comprehension	MCQ2

Which of the following statements are correct regarding Paintings :

- A. Kamasutra written by Vatsayana mentions about 64 kinds of paintings.
- B. The Vishnudharmottara purana has a section on painting called Chitrasutra.
- C. The play Mudrarakshasa mentions numerous Patas.
- D. Lepyacitras, Iekhacitras are example of various types of painting of Gupta era.

Choose the most appropriate answer from the options given below :

- 1. A and B Only
- 2. B and C Only
- 3. C and D Only
- 4. A, C and D Only

**Options :**

- 485584142437. 1
- 485584142438. 2
- 485584142439. 3
- 485584142440. 4

**Question Number : 95 Question Id : 48558435610 Question Type : MCQ Option Shuffling : No Is Question Mandatory : No Calculator : None Response Time : N.A Think Time : N.A Minimum Instruction Time : 0**

**Correct Marks : 5 Wrong Marks : 1**

**Question Key Details :**

Key	Value
Comprehension	MCQ2

चित्रकलाओं के सम्बन्ध में निम्नलिखित कथनों में से कौन सही हैं?

- A. वात्स्यायन द्वारा रचित कामसूत्र 64 प्रकार की चित्रकलाओं का उल्लेख करता है।
- B. विष्णुधर्मोत्तर पुराण में चित्रकला पर चित्रसूत्र कहे जाने वाला एक खण्ड है।
- C. मुद्राराक्षस नाटक असंख्य पट्टा का उल्लेख करता है।
- D. गुप्तकला की विभिन्न प्रकार की चित्रकलाओं के उदाहरण लेप्यचित्र और लेखाचित्र हैं।

नीचे दिए विकल्पों में से सही उत्तर का चयन कीजिए:

- 1. केवल A और B
- 2. केवल B और C
- 3. केवल C और D
- 4. केवल A, C और D

**Options :**

- 485584142437. 1
- 485584142438. 2
- 485584142439. 3
- 485584142440. 4

Question Number : 96 Question Id : 48558435611 Question Type : MCQ Option Shuffling : No Is Question Mandatory : No Calculator : None Response Time : N.A Think Time : N.A Minimum Instruction Time : 0

Correct Marks : 5 Wrong Marks : 1

Question Key Details :

Key	Value
Comprehension	MCQ2

Match List I with List II

LIST I		LIST II	
A.	Stone carving	I.	Printing
B.	Canvas	II.	Sculpture
C.	Etching	III.	Raster
D.	Photoshop	IV.	Painting

Choose the correct answer from the options given below:

1. A-IV, B-II, C-III, D-I
2. A-II, B-IV, C-I, D-III
3. A-I, B-III, C-II, D-IV
4. A-III, B-IV, C-I, D-II

Options :

- 485584142441. 1
- 485584142442. 2
- 485584142443. 3
- 485584142444. 4

Question Number : 96 Question Id : 48558435611 Question Type : MCQ Option Shuffling : No Is Question Mandatory : No Calculator : None Response Time : N.A Think Time : N.A Minimum Instruction Time : 0

Correct Marks : 5 Wrong Marks : 1

Question Key Details :

Key	Value
Comprehension	MCQ2

सूची I का सूची II से मिलान कीजिए

सूची I		सूची II	
A.	प्रस्तर उत्कीर्णन	I.	मुद्रण
B.	केनवस	II.	मूर्तिकला
C.	निक्षारण/अम्लांकन	III.	चित्ररेख पुंज/रेस्टर
D.	फोटोशाप	IV.	चित्रकला

निम्नलिखित विकल्पों में से सही उत्तर का चयन कीजिए :

1. A-IV, B-II, C-III, D-I
2. A-II, B-IV, C-I, D-III
3. A-I, B-III, C-II, D-IV
4. A-III, B-IV, C-I, D-II

**Options :**

485584142441. 1  
485584142442. 2  
485584142443. 3  
485584142444. 4

**Question Number : 97 Question Id : 48558435612 Question Type : MCQ Option Shuffling : No Is Question Mandatory : No Calculator : None Response Time : N.A Think Time : N.A Minimum Instruction Time : 0**

**Correct Marks : 5 Wrong Marks : 1**

**Question Key Details :**

Key	Value
Comprehension	MCQ2

Match List I with List II

LIST I		LIST II	
A.	Ibrahim Adil Shah	I.	Golconda
B.	Raga Hindola	II.	Hyderabad
C.	Hazrat Nizamuddin Auliya and Amir Khusro	III.	Ahmednagar
D.	Chand Bibi Playing Polo	IV.	Bijapur

Choose the correct answer from the options given below:

1. A-III, B-I, C-II, D-IV
2. A-II, B-IV, C-I, D-III
3. A-I, B-III, C-II, D-IV
4. A-IV, B-III, C-II, D-I

**Options :**

485584142445. 1  
485584142446. 2  
485584142447. 3

485584142448. 4

**Question Number : 97 Question Id : 48558435612 Question Type : MCQ Option Shuffling : No Is Question Mandatory : No Calculator : None Response Time : N.A Think Time : N.A Minimum Instruction Time : 0**

**Correct Marks : 5 Wrong Marks : 1**

**Question Key Details :**

Key	Value
Comprehension	MCQ2

सूची I का सूची II से मिलान कीजिए

सूची I		सूची II	
A.	इब्राहिम आदिल शाह	I.	गोलकुंडा
B.	राग हिंडोला	II.	हैदराबाद
C.	हजरत निजामुद्दीन औलिया और अमीर खुसरो	III.	अहमदनगर
D.	पोलो खेलती हुई चाँद बीबी	IV.	बीजापुर

निम्नलिखित विकल्पों में से सही उत्तर का चयन कीजिए :

1. A-III, B-I, C-II, D-IV
2. A-II, B-IV, C-I, D-III
3. A-I, B-III, C-II, D-IV
4. A-IV, B-III, C-II, D-I

**Options :**

485584142445. 1

485584142446. 2

485584142447. 3

485584142448. 4

**Question Number : 98 Question Id : 48558435613 Question Type : MCQ Option Shuffling : No Is Question Mandatory : No Calculator : None Response Time : N.A Think Time : N.A Minimum Instruction Time : 0**

**Correct Marks : 5 Wrong Marks : 1**

**Question Key Details :**

Key	Value
Comprehension	MCQ2



Match List I with List II

LIST I		LIST II	
A.	Standing Woman	I.	Jamini Roy
B.	Children	II.	N.S. Bendre
C.	Mother and Child	III.	Dhanraj Bhagat
D.	Gossip	IV.	Somnath Hore

Choose the correct answer from the options given below:

1. A-IV, B-I, C-II, D-III
2. A-II, B-IV, C-I, D-III
3. A-III, B-IV, C-I, D-II
4. A-IV, B-III, C-II, D-I

**Options :**

485584142449. 1  
485584142450. 2  
485584142451. 3  
485584142452. 4

**Question Number : 98 Question Id : 48558435613 Question Type : MCQ Option Shuffling : No Is Question Mandatory : No Calculator : None Response Time : N.A Think Time : N.A Minimum Instruction Time : 0**

**Correct Marks : 5 Wrong Marks : 1**

**Question Key Details :**

Key	Value
Comprehension	MCQ2

सूची I का सूची II से मिलान कीजिए

सूची I		सूची II	
A.	खड़ी हुई महिला	I.	जामिनी रॉय
B.	बच्चे	II.	एन. एस. बेन्द्रे
C.	माँ और बच्चा	III.	धनराज भगत
D.	गपशप	IV.	सोमनाथ होर

निम्नलिखित विकल्पों में से सही उत्तर का चयन कीजिए :

1. A-IV, B-I, C-II, D-III
2. A-II, B-IV, C-I, D-III
3. A-III, B-IV, C-I, D-II
4. A-IV, B-III, C-II, D-I

**Options :**

485584142449. 1  
485584142450. 2  
485584142451. 3

485584142452. 4

**Question Number : 99 Question Id : 48558435614 Question Type : MCQ Option Shuffling : No Is Question Mandatory : No Calculator : None Response Time : N.A Think Time : N.A Minimum Instruction Time : 0**

**Correct Marks : 5 Wrong Marks : 1**

**Question Key Details :**

Key	Value
Comprehension	MCQ2

Match List I with List II

LIST I		LIST II	
A.	Pramana	I.	Expressions
B.	Sadrishym	II.	Use of brush and colours
C.	Bhava	III.	Resemblance
D.	Varnikabhanga	IV.	Proportion

Choose the correct answer from the options given below:

1. A-IV, B-III, C-I, D-II
2. A-III, B-IV, C-I, D-II
3. A-IV, B-I, C-II, D-III
4. A-III, B-IV, C-I, D-II

**Options :**

485584142453. 1  
485584142454. 2  
485584142455. 3  
485584142456. 4

**Question Number : 99 Question Id : 48558435614 Question Type : MCQ Option Shuffling : No Is Question Mandatory : No Calculator : None Response Time : N.A Think Time : N.A Minimum Instruction Time : 0**

**Correct Marks : 5 Wrong Marks : 1**

**Question Key Details :**

Key	Value
Comprehension	MCQ2

सूची I का सूची II से मिलान कीजिए

सूची I		सूची II	
A.	प्रमाणानि	I.	मुद्रा (एक्सप्रेसन्स)
B.	सादृश्यम्	II.	कूची और रंग का प्रयोग
C.	भाव	III.	प्रतिकृति (रिसेम्बलेंस)
D.	वर्णिकाभङ्ग	IV.	परिमाण (प्रोपोर्शन)

निम्नलिखित विकल्पों में से सही उत्तर का चयन कीजिए :

1. A-IV, B-III, C-I, D-II
2. A-III, B-IV, C-I, D-II
3. A-IV, B-I, C-II, D-III
4. A-III, B-IV, C-I, D-II

**Options :**

485584142453. 1  
485584142454. 2  
485584142455. 3  
485584142456. 4

**Question Number : 100 Question Id : 48558435615 Question Type : MCQ Option Shuffling : No Is Question Mandatory : No Calculator : None Response Time : N.A Think Time : N.A Minimum Instruction Time : 0**

**Correct Marks : 5 Wrong Marks : 1**

**Question Key Details :**

Key	Value
Comprehension	MCQ2

Match List I with List II

LIST I		LIST II	
A.	Nihal Chand	I.	Mughal School of Painting
B.	Basawan	II.	Guler School of Painting
C.	Nainsukh	III.	Bikaner School of Painting
D.	Ruknuddin	IV.	Kishangarh School of Painting

Choose the correct answer from the options given below:

1. A-IV, B-I, C-II, D-III
2. A-III, B-II, C-IV, D-I
3. A-II, B-III, C-I, D-IV
4. A-IV, B-II, C-I, D-III

**Options :**

485584142457. 1  
485584142458. 2  
485584142459. 3

485584142460. 4

Question Number : 100 Question Id : 48558435615 Question Type : MCQ Option Shuffling : No Is Question Mandatory : No Calculator : None Response Time : N.A Think Time : N.A Minimum Instruction Time : 0

Correct Marks : 5 Wrong Marks : 1

Question Key Details :

Key	Value
Comprehension	MCQ2

सूची I का सूची II से मिलान कीजिए

सूची I		सूची II	
A.	निहाल चन्द	I.	चित्रकला की मुगल शैली
B.	बसावन	II.	चित्रकला की गुलर शैली
C.	नैनसुख	III.	चित्रकला की बीकानेर शैली
D.	रुक्नुद्दीन	IV.	चित्रकला की किशनगढ़ शैली

निम्नलिखित विकल्पों में से सही उत्तर का चयन कीजिए :

1. A-IV, B-I, C-II, D-III
2. A-III, B-II, C-IV, D-I
3. A-II, B-III, C-I, D-IV
4. A-IV, B-II, C-I, D-III

Options :

485584142457. 1  
485584142458. 2  
485584142459. 3  
485584142460. 4

## Geography

Group Number :	3
Group Id :	485584808
Group Maximum Duration :	45
Group Minimum Duration :	45
Show Attended Group? :	No
Edit Attended Group? :	No
Break time :	0
Group Marks :	200
Is this Group for Examiner? :	No
Examiner permission :	Cant View
Show Progress Bar? :	No

## Geography

Section Id :	485584928
Section Number :	1



Section type :	Online
Mandatory or Optional :	Mandatory
Number of Questions :	50
Number of Questions to be attempted :	40
Section Marks :	200
Enable Mark as Answered Mark for Review and Clear Response :	Yes
Maximum Instruction Time :	0
Sub-Section Number :	1
Sub-Section Id :	4855842641
Question Shuffling Allowed :	Yes
Is Section Default? :	null

Question Number : 101 Question Id : 48558435616 Question Type : MCQ Option Shuffling : No Is Question Mandatory : No Calculator : None Response Time : N.A Think Time : N.A Minimum Instruction Time : 0

Correct Marks : 5 Wrong Marks : 1

Question Key Details :

Key	Value
Comprehension	MCQ

Griffith Taylor introduced \_\_\_\_\_ in human geography.

1. Environmental determinism
2. Neo determinism
3. Possibilism
4. Post-modernism

Options :

485584142461. 1  
485584142462. 2  
485584142463. 3  
485584142464. 4

Question Number : 101 Question Id : 48558435616 Question Type : MCQ Option Shuffling : No Is Question Mandatory : No Calculator : None Response Time : N.A Think Time : N.A Minimum Instruction Time : 0

Correct Marks : 5 Wrong Marks : 1

Question Key Details :

Key	Value
Comprehension	MCQ

ग्रिफिथ टेलर ने मानव भूगोल में \_\_\_\_\_ प्रारंभ किया था।

1. पर्यावरणीय नियतिवाद
2. नव नियतिवाद
3. संभववाद
4. उत्तर-आधुनिकवाद

**Options :**

- 485584142461. 1
- 485584142462. 2
- 485584142463. 3
- 485584142464. 4

**Question Number : 102 Question Id : 48558435617 Question Type : MCQ Option Shuffling : No Is Question Mandatory : No Calculator : None Response Time : N.A Think Time : N.A Minimum Instruction Time : 0**

**Correct Marks : 5 Wrong Marks : 1**

**Question Key Details :**

Key	Value
Comprehension	MCQ

\_\_\_\_\_ is NOT the part of Economic Geography.

1. Business Studies
2. Agricultural Sciences
3. Resource Economics
4. Welfare Economics

**Options :**

- 485584142465. 1
- 485584142466. 2
- 485584142467. 3
- 485584142468. 4

**Question Number : 102 Question Id : 48558435617 Question Type : MCQ Option Shuffling : No Is Question Mandatory : No Calculator : None Response Time : N.A Think Time : N.A Minimum Instruction Time : 0**

**Correct Marks : 5 Wrong Marks : 1**

**Question Key Details :**

Key	Value
Comprehension	MCQ

\_\_\_\_\_ आर्थिक भूगोल का भाग नहीं है।

1. व्यापारिक अध्ययन
2. कृषि विज्ञान
3. संसाधन अर्थ शास्त्र
4. कल्याण अर्थशास्त्र

**Options :**

- 485584142465. 1
- 485584142466. 2
- 485584142467. 3
- 485584142468. 4

Question Number : 103 Question Id : 48558435618 Question Type : MCQ Option Shuffling : No Is Question Mandatory : No Calculator : None Response Time : N.A Think Time : N.A Minimum Instruction Time : 0

Correct Marks : 5 Wrong Marks : 1

Question Key Details :

Key	Value
Comprehension	MCQ

The highest proportion of the total water is used in the country in \_\_\_\_\_ sector.

1. Industries
2. Irrigation
3. Domestic use
4. Electricity production

Options :

485584142469. 1  
485584142470. 2  
485584142471. 3  
485584142472. 4

Question Number : 103 Question Id : 48558435618 Question Type : MCQ Option Shuffling : No Is Question Mandatory : No Calculator : None Response Time : N.A Think Time : N.A Minimum Instruction Time : 0

Correct Marks : 5 Wrong Marks : 1

Question Key Details :

Key	Value
Comprehension	MCQ

देश में \_\_\_\_\_ क्षेत्र में प्रयोग किए जाने कुल जल का अनुपात उच्चतम है।

1. उद्योग
2. सिंचाई
3. घरेलू उपयोग
4. विद्युत उत्पादन

Options :

485584142469. 1  
485584142470. 2  
485584142471. 3  
485584142472. 4

Question Number : 104 Question Id : 48558435619 Question Type : MCQ Option Shuffling : No Is Question Mandatory : No Calculator : None Response Time : N.A Think Time : N.A Minimum Instruction Time : 0

Correct Marks : 5 Wrong Marks : 1

Question Key Details :

Key	Value
Comprehension	MCQ



\_\_\_\_\_ continent has highest density of population.

1. Europe
2. Africa
3. Asia
4. South America

**Options :**

485584142473. 1  
485584142474. 2  
485584142475. 3  
485584142476. 4

**Question Number : 104 Question Id : 48558435619 Question Type : MCQ Option Shuffling : No Is Question Mandatory : No Calculator : None Response Time : N.A Think Time : N.A Minimum Instruction Time : 0**

**Correct Marks : 5 Wrong Marks : 1**

**Question Key Details :**

Key	Value
Comprehension	MCQ

\_\_\_\_\_ महाद्वीप में जनसंख्या घनत्व सर्वाधिक है।

1. यूरोप
2. अफ्रीका
3. एशिया
4. दक्षिण अमेरिका

**Options :**

485584142473. 1  
485584142474. 2  
485584142475. 3  
485584142476. 4

**Question Number : 105 Question Id : 48558435620 Question Type : MCQ Option Shuffling : No Is Question Mandatory : No Calculator : None Response Time : N.A Think Time : N.A Minimum Instruction Time : 0**

**Correct Marks : 5 Wrong Marks : 1**

**Question Key Details :**

Key	Value
Comprehension	MCQ



\_\_\_\_\_ is NOT directed for spatial target areas development.

1. Marginal Farmers Development Agency
2. Desert development programme
3. Command area development programme
4. Hill area development programme

**Options :**

485584142477. 1  
485584142478. 2  
485584142479. 3  
485584142480. 4

**Question Number : 105 Question Id : 48558435620 Question Type : MCQ Option Shuffling : No Is Question Mandatory : No Calculator : None Response Time : N.A Think Time : N.A Minimum Instruction Time : 0**

**Correct Marks : 5 Wrong Marks : 1**

**Question Key Details :**

Key	Value
Comprehension	MCQ

\_\_\_\_\_ स्थानिक लक्ष्य क्षेत्र विकास के लिए निर्देशित नहीं है।

1. सीमांत कृषक विकास संस्था
2. मरुस्थल विकास कार्यक्रम
3. कमान क्षेत्र विकास कार्यक्रम
4. पर्वतीय क्षेत्र विकास कार्यक्रम

**Options :**

485584142477. 1  
485584142478. 2  
485584142479. 3  
485584142480. 4

**Question Number : 106 Question Id : 48558435621 Question Type : MCQ Option Shuffling : No Is Question Mandatory : No Calculator : None Response Time : N.A Think Time : N.A Minimum Instruction Time : 0**

**Correct Marks : 5 Wrong Marks : 1**

**Question Key Details :**

Key	Value
Comprehension	MCQ

\_\_\_\_\_ tribal community lives in Bharmaur region.

1. Gonds
2. Bhils
3. Santhals
4. Gaddis

**Options :**

485584142481. 1  
485584142482. 2  
485584142483. 3  
485584142484. 4

**Question Number : 106 Question Id : 48558435621 Question Type : MCQ Option Shuffling : No Is Question Mandatory : No Calculator : None Response Time : N.A Think Time : N.A Minimum Instruction Time : 0**

**Correct Marks : 5 Wrong Marks : 1**

**Question Key Details :**

Key	Value
Comprehension	MCQ

\_\_\_\_\_ जनजातीय समुदाय भरमौर क्षेत्र में निवास करता है।

1. गोंड
2. भील
3. संथाल
4. गद्दी

**Options :**

485584142481. 1  
485584142482. 2  
485584142483. 3  
485584142484. 4

**Question Number : 107 Question Id : 48558435622 Question Type : MCQ Option Shuffling : No Is Question Mandatory : No Calculator : None Response Time : N.A Think Time : N.A Minimum Instruction Time : 0**

**Correct Marks : 5 Wrong Marks : 1**

**Question Key Details :**

Key	Value
Comprehension	MCQ

In \_\_\_\_\_ milk is supplied through pipelines from farms to factories.

1. Denmark
2. USA
3. Australia
4. New Zealand

**Options :**

485584142485. 1  
485584142486. 2  
485584142487. 3  
485584142488. 4

**Question Number : 107 Question Id : 48558435622 Question Type : MCQ Option Shuffling : No Is Question Mandatory : No Calculator : None Response Time : N.A Think Time : N.A Minimum Instruction Time : 0**

**Correct Marks : 5 Wrong Marks : 1**

**Question Key Details :**

Key	Value
Comprehension	MCQ

\_\_\_\_\_ में फार्मों से फैक्ट्रियों तब दूध की आपूर्ति पाइपलाइनों से की जाती है।

1. डेनमार्क
2. यू एस ए
3. आस्ट्रेलिया
4. न्यूजीलैंड

**Options :**

485584142485. 1  
485584142486. 2  
485584142487. 3  
485584142488. 4

**Question Number : 108 Question Id : 48558435623 Question Type : MCQ Option Shuffling : No Is Question Mandatory : No Calculator : None Response Time : N.A Think Time : N.A Minimum Instruction Time : 0**

**Correct Marks : 5 Wrong Marks : 1**

**Question Key Details :**

Key	Value
Comprehension	MCQ

\_\_\_\_\_ is a conventional source of energy.

1. Coal
2. Tidal energy
3. Solar energy
4. Geo-Thermal energy

**Options :**

485584142489. 1  
485584142490. 2  
485584142491. 3  
485584142492. 4

**Question Number : 108 Question Id : 48558435623 Question Type : MCQ Option Shuffling : No Is Question Mandatory : No Calculator : None Response Time : N.A Think Time : N.A Minimum Instruction Time : 0**

**Correct Marks : 5 Wrong Marks : 1**

**Question Key Details :**

Key	Value
Comprehension	MCQ

\_\_\_\_\_ एक ऊर्जा का पारंपारिक स्रोत है।

1. कोयला
2. तरंग ऊर्जा
3. सौर ऊर्जा
4. भू-ताप ऊर्जा

**Options :**

485584142489. 1  
485584142490. 2  
485584142491. 3  
485584142492. 4

**Question Number : 109 Question Id : 48558435624 Question Type : MCQ Option Shuffling : No Is Question Mandatory : No Calculator : None Response Time : N.A Think Time : N.A Minimum Instruction Time : 0**

**Correct Marks : 5 Wrong Marks : 1**

**Question Key Details :**

Key	Value
Comprehension	MCQ

\_\_\_\_\_ workers are known as "Gold Collar Professionals".

1. Quaternary activities
2. Tertiary activities
3. Quinary activities
4. Outsourcing

**Options :**

485584142493. 1  
485584142494. 2  
485584142495. 3  
485584142496. 4

**Question Number : 109 Question Id : 48558435624 Question Type : MCQ Option Shuffling : No Is Question Mandatory : No Calculator : None Response Time : N.A Think Time : N.A Minimum Instruction Time : 0**

**Correct Marks : 5 Wrong Marks : 1**

**Question Key Details :**

Key	Value
Comprehension	MCQ

\_\_\_\_\_ कर्मचारियों को "स्वर्ग कॉलर प्रोफेशनल्स" के रूप में जाना जाता है।

1. चतुर्थ क्रियाकलापों के
2. तृतीयक क्रियाकलापों के
3. पंचम क्रियाकलापों के
4. बाह्य स्त्रोतन

**Options :**

485584142493. 1  
485584142494. 2  
485584142495. 3  
485584142496. 4

**Question Number : 110 Question Id : 48558435625 Question Type : MCQ Option Shuffling : No Is Question Mandatory : No Calculator : None Response Time : N.A Think Time : N.A Minimum Instruction Time : 0**

**Correct Marks : 5 Wrong Marks : 1**

**Question Key Details :**

Key	Value
Comprehension	MCQ

\_\_\_\_\_ approach was proposed by the International Labour Organisation.

1. Capability Approach
2. Welfare Approach
3. Basic Needs Approach
4. Income Approach

**Options :**

485584142497. 1  
485584142498. 2  
485584142499. 3  
485584142500. 4

**Question Number : 110 Question Id : 48558435625 Question Type : MCQ Option Shuffling : No Is Question Mandatory : No Calculator : None Response Time : N.A Think Time : N.A Minimum Instruction Time : 0**

**Correct Marks : 5 Wrong Marks : 1**

**Question Key Details :**

Key	Value
Comprehension	MCQ

\_\_\_\_\_ उपागम का प्रस्ताव अंतर्राष्ट्रीय श्रम संगठन ने दिया था?

1. क्षमता उपागम
2. कल्याण उपागम
3. बुनियादी आवश्यकता उपागम
4. आय उपागम

**Options :**

485584142497. 1  
485584142498. 2  
485584142499. 3  
485584142500. 4

**Question Number : 111 Question Id : 48558435626 Question Type : MCQ Option Shuffling : No Is Question Mandatory : No Calculator : None Response Time : N.A Think Time : N.A Minimum Instruction Time : 0**

**Correct Marks : 5 Wrong Marks : 1**

**Question Key Details :**

Key	Value
Comprehension	MCQ

Identify scholar, who voiced his concern about the growing scarcity of resources as compared to the human population.

1. Griffith Taylor
2. Robert Malthus
3. Ratzel
4. Karl Marx

**Options :**

485584142501. 1  
485584142502. 2  
485584142503. 3  
485584142504. 4

**Question Number : 111 Question Id : 48558435626 Question Type : MCQ Option Shuffling : No Is Question Mandatory : No Calculator : None Response Time : N.A Think Time : N.A Minimum Instruction Time : 0**

**Correct Marks : 5 Wrong Marks : 1**

**Question Key Details :**

Key	Value
Comprehension	MCQ

किस विद्वान ने मानव जनसंख्या की तुलना में संसाधनों की बढ़ती कमी के बारे में चिंता व्यक्त की है?

1. ग्रिफिन टेलर
2. राबर्ट माल्थस
3. रेटजेल
4. कार्ल मार्क्स

**Options :**

485584142501. 1  
485584142502. 2  
485584142503. 3  
485584142504. 4

**Question Number : 112 Question Id : 48558435627 Question Type : MCQ Option Shuffling : No Is Question Mandatory : No Calculator : None Response Time : N.A Think Time : N.A Minimum Instruction Time : 0**

**Correct Marks : 5 Wrong Marks : 1**

**Question Key Details :**

Key	Value
Comprehension	MCQ

\_\_\_\_\_ is NOT a tertiary activity.

1. Trade activities
2. Services in government offices
3. Dairy farming
4. Transport activities

**Options :**

485584142505. 1  
485584142506. 2  
485584142507. 3  
485584142508. 4

**Question Number : 112 Question Id : 48558435627 Question Type : MCQ Option Shuffling : No Is Question Mandatory : No Calculator : None Response Time : N.A Think Time : N.A Minimum Instruction Time : 0**

**Correct Marks : 5 Wrong Marks : 1**

**Question Key Details :**

Key	Value
Comprehension	MCQ

\_\_\_\_\_ एक तृतीयक कार्यकलाप नहीं है।

1. व्यापार कार्यकलाप
2. सरकारी कार्यालयों में सेवाएं
3. डेयरी फार्मिंग
4. परिवहन कार्यकलाप

**Options :**

485584142505. 1  
485584142506. 2  
485584142507. 3  
485584142508. 4

**Question Number : 113 Question Id : 48558435628 Question Type : MCQ Option Shuffling : No Is Question Mandatory : No Calculator : None Response Time : N.A Think Time : N.A Minimum Instruction Time : 0**

**Correct Marks : 5 Wrong Marks : 1**

**Question Key Details :**

Key	Value
Comprehension	MCQ



Identify the major cause of female migration in India.

1. Employment
2. Education
3. Marriage
4. Health care

**Options :**

485584142509. 1  
485584142510. 2  
485584142511. 3  
485584142512. 4

**Question Number : 113 Question Id : 48558435628 Question Type : MCQ Option Shuffling : No Is Question Mandatory : No Calculator : None Response Time : N.A Think Time : N.A Minimum Instruction Time : 0**

**Correct Marks : 5 Wrong Marks : 1**

**Question Key Details :**

Key	Value
Comprehension	MCQ

भारत में स्त्री प्रवासन के मुख्य कारण की पहचान करें।

1. रोजगार
2. शिक्षा
3. विवाह
4. स्वास्थ्य देखरेख

**Options :**

485584142509. 1  
485584142510. 2  
485584142511. 3  
485584142512. 4

**Question Number : 114 Question Id : 48558435629 Question Type : MCQ Option Shuffling : No Is Question Mandatory : No Calculator : None Response Time : N.A Think Time : N.A Minimum Instruction Time : 0**

**Correct Marks : 5 Wrong Marks : 1**

**Question Key Details :**

Key	Value
Comprehension	MCQ

Hill Area Development Programme was launched during \_\_\_\_\_ five year plan.

1. Third
2. Fourth
3. Fifth
4. Sixth

**Options :**

485584142513. 1  
485584142514. 2  
485584142515. 3  
485584142516. 4

**Question Number : 114 Question Id : 48558435629 Question Type : MCQ Option Shuffling : No Is Question Mandatory : No Calculator : None Response Time : N.A Think Time : N.A Minimum Instruction Time : 0**

**Correct Marks : 5 Wrong Marks : 1**

**Question Key Details :**

Key	Value
Comprehension	MCQ

\_\_\_\_\_ पंचवर्षीय योजना में पहाड़ी क्षेत्र विकास कार्यक्रम शुरु किया गया था।

1. तीसरी
2. चौथी
3. पांचवी
4. छठी

**Options :**

485584142513. 1  
485584142514. 2  
485584142515. 3  
485584142516. 4

**Question Number : 115 Question Id : 48558435630 Question Type : MCQ Option Shuffling : No Is Question Mandatory : No Calculator : None Response Time : N.A Think Time : N.A Minimum Instruction Time : 0**

**Correct Marks : 5 Wrong Marks : 1**

**Question Key Details :**

Key	Value
Comprehension	MCQ

\_\_\_\_\_ has officially proclaimed the Gross National Happiness Index as the measure of the country's progress.

1. Nepal
2. Bangladesh
3. Srilanka
4. Bhutan

**Options :**

485584142517. 1  
485584142518. 2  
485584142519. 3  
485584142520. 4

**Question Number : 115 Question Id : 48558435630 Question Type : MCQ Option Shuffling : No Is Question Mandatory : No Calculator : None Response Time : N.A Think Time : N.A Minimum Instruction Time : 0**

**Correct Marks : 5 Wrong Marks : 1**

**Question Key Details :**

Key	Value
Comprehension	MCQ

\_\_\_\_\_ ने सकल राष्ट्रीय प्रसन्नता सूचकांक को आधिकारिक रूप से देश की प्रगति की माप के रूप में घोषित किया है।

1. नेपाल
2. बंगाल
3. श्रीलंका
4. भूटान

**Options :**

485584142517. 1  
485584142518. 2  
485584142519. 3  
485584142520. 4

**Question Number : 116 Question Id : 48558435631 Question Type : MCQ Option Shuffling : No Is Question Mandatory : No Calculator : None Response Time : N.A Think Time : N.A Minimum Instruction Time : 0**

**Correct Marks : 5 Wrong Marks : 1**

**Question Key Details :**

Key	Value
Comprehension	MCQ

Arrange the following major sea ports of the world from North to South.

- A. New York
- B. London
- C. North Cape
- D. Durban

Choose the correct answer from the options given below:

1. C, D, B, A
2. C, D, A, B
3. C, B, D, A
4. C, B, A, D

**Options :**

- 485584142521. 1
- 485584142522. 2
- 485584142523. 3
- 485584142524. 4

**Question Number : 116 Question Id : 48558435631 Question Type : MCQ Option Shuffling : No Is Question Mandatory : No Calculator : None Response Time : N.A Think Time : N.A Minimum Instruction Time : 0**

**Correct Marks : 5 Wrong Marks : 1**

**Question Key Details :**

Key	Value
Comprehension	MCQ

निम्नलिखित प्रमुख समुद्री बंदरगाहों को उत्तर से दक्षिण के क्रम में व्यवस्थित कीजिए:

- A. न्यूयार्क
- B. लंदन
- C. नार्थ केप
- D. डर्बन

नीचे दिए गए विकल्पों में सही उत्तर का चयन कीजिए।

1. C, D, B, A
2. C, D, A, B
3. C, B, D, A
4. C, B, A, D

**Options :**

- 485584142521. 1
- 485584142522. 2
- 485584142523. 3
- 485584142524. 4

Question Number : 117 Question Id : 48558435632 Question Type : MCQ Option Shuffling : No Is Question Mandatory : No Calculator : None Response Time : N.A Think Time : N.A Minimum Instruction Time : 0

Correct Marks : 5 Wrong Marks : 1

Question Key Details :

Key	Value
Comprehension	MCQ

Match List I with List II

LIST I		LIST II	
Agricultural System		Region/Countries	
A.	Mixed farming	I.	Mediterranean region
B.	Dairy farming	II.	North-Western Europe
C.	Mediterranean Agriculture	III.	New Zealand and Tasmania
D.	Viticulture	IV.	Southern coast of Europe and North Africa

Choose the correct answer from the options given below:

1. A-I, B-II, C-IV, D-III
2. A-II, B-IV, C-I, D-III
3. A-II, B-III, C-IV, D-I
4. A-I, B-II, C-III, D-IV

Options :

485584142525. 1

485584142526. 2

485584142527. 3

485584142528. 4

Question Number : 117 Question Id : 48558435632 Question Type : MCQ Option Shuffling : No Is Question Mandatory : No Calculator : None Response Time : N.A Think Time : N.A Minimum Instruction Time : 0

Correct Marks : 5 Wrong Marks : 1

Question Key Details :

Key	Value
Comprehension	MCQ

सूची I का सूची II से मिलान कीजिए

सूची I कृषि प्रणाली		सूची II क्षेत्र/देश	
A.	मिश्रित खेती	I.	भूमध्यसागरीय क्षेत्र
B.	डेयरी फार्मिंग	II.	उत्तर-पश्चिमी यूरोप
C.	भूमध्यसागरीय कृषि	III.	न्यूजीलैंड और तस्मानिया
D.	अंगूर की खेती	IV.	यूरोप का दक्षिणी तट तथा उत्तरी अफ्रीका

निम्नलिखित विकल्पों में से सही उत्तर का चयन कीजिए :

1. A-I, B-II, C-IV, D-III
2. A-II, B-IV, C-I, D-III
3. A-II, B-III, C-IV, D-I
4. A-I, B-II, C-III, D-IV

**Options :**

485584142525. 1  
485584142526. 2  
485584142527. 3  
485584142528. 4

**Question Number : 118 Question Id : 48558435633 Question Type : MCQ Option Shuffling : No Is Question Mandatory : No Calculator : None Response Time : N.A Think Time : N.A Minimum Instruction Time : 0**

**Correct Marks : 5 Wrong Marks : 1**

**Question Key Details :**

Key	Value
Comprehension	MCQ

Match List I with List II

LIST I (Factors of high population distribution)		LIST II (Examples)	
A.	Pleasant climate	I.	Katanga-Zambia
B.	Minerals	II.	The Ganga - plains
C.	Industrialization	III.	Mediterranean regions
D.	Landscape and landforms	IV.	Kobe - Osaka region of Japan

Choose the correct answer from the options given below:

1. A-III, B-II, C-I, D-IV
2. A-III, B-I, C-IV, D-II
3. A-III, B-IV, C-I, D-II
4. A-I, B-II, C-III, D-IV

**Options :**

485584142529. 1  
485584142530. 2  
485584142531. 3  
485584142532. 4

**Question Number : 118 Question Id : 48558435633 Question Type : MCQ Option Shuffling : No Is Question Mandatory : No Calculator : None Response Time : N.A Think Time : N.A Minimum Instruction Time : 0**

**Correct Marks : 5 Wrong Marks : 1**

**Question Key Details :**

Key	Value
Comprehension	MCQ

सूची I का सूची II से मिलान कीजिए

सूची I (उच्च जनसंख्या वितरण के कारक)		सूची II (उदाहरण)	
A.	सुखद जलवायु	I.	कटंगा-जाम्बिया
B.	खनिज	II.	गंगा-मैदानी क्षेत्र
C.	उद्योगीकरण	III.	भूमध्यसागरीय क्षेत्र
D.	भूदृश्य और भूस्वरूप	IV.	जापान का कोबे-ओसाका क्षेत्र

निम्नलिखित विकल्पों में से सही उत्तर का चयन कीजिए :

1. A-III, B-II, C-I, D-IV
2. A-III, B-I, C-IV, D-II
3. A-III, B-IV, C-I, D-II
4. A-I, B-II, C-III, D-IV

**Options :**

485584142529. 1  
485584142530. 2  
485584142531. 3  
485584142532. 4

**Question Number : 119 Question Id : 48558435634 Question Type : MCQ Option Shuffling : No Is Question Mandatory : No Calculator : None Response Time : N.A Think Time : N.A Minimum Instruction Time : 0**

**Correct Marks : 5 Wrong Marks : 1**

**Question Key Details :**

Key	Value
Comprehension	MCQ



Characteristics of Urban Marketing Centres are usually -

- A. Widely specialized urban services
- B. Offer manufactured goods as well as many specialized markets
- C. Have only retail trading centres
- D. Have services of educational institutions and professionals
- E. Trading centres of the most rudimentary type

Choose the correct answer from the options given below:

- 1. A, B and D only
- 2. A, C and E only
- 3. B, C and E only
- 4. D, A and E only

**Options :**

- 485584142533. 1
- 485584142534. 2
- 485584142535. 3
- 485584142536. 4

**Question Number : 119 Question Id : 48558435634 Question Type : MCQ Option Shuffling : No Is Question Mandatory : No Calculator : None Response Time : N.A Think Time : N.A Minimum Instruction Time : 0**

**Correct Marks : 5 Wrong Marks : 1**

**Question Key Details :**

Key	Value
Comprehension	MCQ

शहरी विपणन केंद्रों की सामान्यतः विशेषताएं हैं -

- A. व्यापक रूप से, विशिष्टीकृत शहरी सेवाएं
- B. विनिर्मित वस्तुओं को तथा अनेक विशिष्टीकृत बाजारों की प्रदान करना
- C. शैक्षणिक संस्थानों तथा व्यवसायिकों की सेवाएं होना
- D. व्यापार केंद्रों की सर्वाधिक आदिकालीन प्रकार

नीचे दिए गए विकल्पों में से सबसे उफयुक्त उत्तर का चयन कीजिए:

- 1. केवल A, B और D
- 2. केवल A, C और E
- 3. केवल B, C और E
- 4. केवल D, A और E

**Options :**

- 485584142533. 1
- 485584142534. 2
- 485584142535. 3

485584142536. 4

**Question Number : 120 Question Id : 48558435635 Question Type : MCQ Option Shuffling : No Is Question Mandatory : No Calculator : None Response Time : N.A Think Time : N.A Minimum Instruction Time : 0**

**Correct Marks : 5 Wrong Marks : 1**

**Question Key Details :**

Key	Value
Comprehension	MCQ

Arrange the events in order of land transport development:

1. Animals were used as beasts of burden
2. Invention of wheel, use of carts and wagons
3. railway line development and transport
4. Human beings as carriers

Choose the correct answer from the options given below:

1. D, A, B, C
2. A, D, B, C
3. D, B, A, C
4. A, D, C, B

**Options :**

- 485584142537. 1
- 485584142538. 2
- 485584142539. 3
- 485584142540. 4

**Question Number : 120 Question Id : 48558435635 Question Type : MCQ Option Shuffling : No Is Question Mandatory : No Calculator : None Response Time : N.A Think Time : N.A Minimum Instruction Time : 0**

**Correct Marks : 5 Wrong Marks : 1**

**Question Key Details :**

Key	Value
Comprehension	MCQ

निम्नलिखित घटनाओं को भूमि परिवहन विकास के क्रम में व्यवस्थित कीजिए

1. पशुओं का उपयोग बोझ ढोने के काम में किया जाने लगा।
2. पहिये का आविष्कार, बैलगाड़ी तथा माल डिब्बों का उपयोग
3. रेलवे लाइन का विकास तथा परिवहन
4. मानव वाहकों के रूप में

नीचे दिए गए विकल्पों में से सही उत्तर का चयन कीजिए:

1. D, A, B, C
2. A, D, B, C
3. D, B, A, C
4. A, D, C, B

**Options :**

485584142537. 1  
485584142538. 2  
485584142539. 3  
485584142540. 4

**Question Number : 121 Question Id : 48558435636 Question Type : MCQ Option Shuffling : No Is Question Mandatory : No Calculator : None Response Time : N.A Think Time : N.A Minimum Instruction Time : 0**

**Correct Marks : 5 Wrong Marks : 1**

**Question Key Details :**

Key	Value
Comprehension	MCQ

Match List I with List II

LIST I		LIST II	
Regional Trade Blocks		Headquarter Hosting Countries	
A.	ASEAN	I.	Belgium
B.	OPEC	II.	Uruguay
C.	EU	III.	Indonesia
D.	LAIA	IV.	Austria

Choose the correct answer from the options given below:

1. A-IV, B-III, C-II, D-I
2. A-I, B-II, C-IV, D-III
3. A-III, B-II, C-I, D-IV
4. A-III, B-IV, C-I, D-II

**Options :**

485584142541. 1  
485584142542. 2  
485584142543. 3  
485584142544. 4

**Question Number : 121 Question Id : 48558435636 Question Type : MCQ Option Shuffling : No Is Question Mandatory : No Calculator : None Response Time : N.A Think Time : N.A Minimum Instruction Time : 0**

**Correct Marks : 5 Wrong Marks : 1**

**Question Key Details :**

Key	Value
Comprehension	MCQ

सूची I का सूची II से मिलान कीजिए

सूची I		सूची II	
क्षेत्रीय व्यापार खंड		मुख्यालय का मेजबान देश	
A.	आसियान	I.	बेल्जियम
B.	ओपेक	II.	उरुग्वे
C.	ई. यू.	III.	इंडोनेशिया
D.	एल. ए. आई. ए.	IV.	आस्ट्रिया

निम्नलिखित विकल्पों में से सही उत्तर का चयन कीजिए :

1. A-IV, B-III, C-II, D-I
2. A-I, B-II, C-IV, D-III
3. A-III, B-II, C-I, D-IV
4. A-III, B-IV, C-I, D-II

**Options :**

485584142541. 1  
485584142542. 2  
485584142543. 3  
485584142544. 4

**Question Number : 122 Question Id : 48558435637 Question Type : MCQ Option Shuffling : No Is Question Mandatory : No Calculator : None Response Time : N.A Think Time : N.A Minimum Instruction Time : 0**

**Correct Marks : 5 Wrong Marks : 1**

**Question Key Details :**

Key	Value
Comprehension	MCQ

Identify the main features of capability approach to Human Development.

- A. This is the oldest approach to Human Development.
- B. This approach was initially proposed by International Labour Organisation.
- C. This approach is associated with Prof. Amartya Sen.
- D. Access to resources is the key to increasing human development.

Choose the correct answer from the options given below:

- 1. C and A only
- 2. C and D only
- 3. A and B only
- 4. A and D only

**Options :**

- 485584142545. 1
- 485584142546. 2
- 485584142547. 3
- 485584142548. 4

**Question Number : 122 Question Id : 48558435637 Question Type : MCQ Option Shuffling : No Is Question Mandatory : No Calculator : None Response Time : N.A Think Time : N.A Minimum Instruction Time : 0**

**Correct Marks : 5 Wrong Marks : 1**

**Question Key Details :**

Key	Value
Comprehension	MCQ

मानव विकास के क्षमता उपागम की मुख्य विशेषताएं क्या हैं ?

- A. यह मानव विकास का प्राचीनतम उपागम है।
- B. इस उपागम का शुरू में अंतर्राष्ट्रीय श्रम संगठन ने प्रस्ताव दिया था।
- C. यह उपागम प्रो. अमर्त्य सेन से संबंधित है।
- D. संसाधनों तक पहुँच बढ़ते मानव विकास की कुंजी है।

नीचे दिए गए विकल्पों में से सही उत्तर का चयन कीजिए :

- 1. केवल C और A
- 2. केवल C और D
- 3. केवल A और B
- 4. केवल A और D

**Options :**

- 485584142545. 1
- 485584142546. 2
- 485584142547. 3
- 485584142548. 4

**Question Number : 123 Question Id : 48558435638 Question Type : MCQ Option Shuffling : No Is Question Mandatory : No Calculator : None Response Time : N.A Think Time : N.A Minimum Instruction Time : 0**

**Correct Marks : 5 Wrong Marks : 1**

**Question Key Details :**

Key	Value
Comprehension	MCQ

Which of the following does not fall on Trans-Siberian Railway route?

- A. Regina
- B. Baku
- C. Moscow
- D. Khabarovsk
- E. Ulan Bator

Choose the correct answer from the options given below:

- 1. B and D only
- 2. C and D only
- 3. B and E only
- 4. D and E only

**Options :**

485584142549. 1

485584142550. 2

485584142551. 3

485584142552. 4

**Question Number : 123 Question Id : 48558435638 Question Type : MCQ Option Shuffling : No Is Question Mandatory : No Calculator : None Response Time : N.A Think Time : N.A Minimum Instruction Time : 0**

**Correct Marks : 5 Wrong Marks : 1**

**Question Key Details :**

Key	Value
Comprehension	MCQ

निम्नलिखित में से कौन ट्रांस - साइबेरियाई रेल मार्ग पर नहीं पड़ता है ?

- A. रेगिना
- B. बाकू
- C. मास्को
- D. खबोरोवस्क
- E. उलन बटोर

नीचे दिए गए विकल्पों में से सही उत्तर का चयन कीजिए :

1. केवल B और D
2. केवल C और D
3. केवल B और E
4. केवल D और E

**Options :**

- 485584142549. 1
- 485584142550. 2
- 485584142551. 3
- 485584142552. 4

**Question Number : 124 Question Id : 48558435639 Question Type : MCQ Option Shuffling : No Is Question Mandatory : No Calculator : None Response Time : N.A Think Time : N.A Minimum Instruction Time : 0**

**Correct Marks : 5 Wrong Marks : 1**

**Question Key Details :**

Key	Value
Comprehension	MCQ

Green Revolution is successful in North Western part of the country, select the reasons.

- A. Ample rainfall
- B. Use of high yielding varieties of seeds
- C. Easily available local labour
- D. More employment pressure on agriculture
- E. 85% net sown area is cultivated through irrigation

Choose the correct answer from the options given below:

1. B and E only
2. A, B and C only
3. A, B and D only
4. C and D only

**Options :**

- 485584142553. 1
- 485584142554. 2

485584142555. 3

485584142556. 4

**Question Number : 124 Question Id : 48558435639 Question Type : MCQ Option Shuffling : No Is Question Mandatory : No Calculator : None Response Time : N.A Think Time : N.A Minimum Instruction Time : 0**

**Correct Marks : 5 Wrong Marks : 1**

**Question Key Details :**

Key	Value
Comprehension	MCQ

हरित क्रांति देश के उत्तर पश्चिमी भाग में सफल रही है। इसके कारण चुनिए

- A. प्रचुर बारिश
- B. अधिक उपज देने वाले बीजों की किस्मों का उपयोग
- C. सुगमतापूर्वक स्थानिय श्रमिकों का उपलब्ध होना
- D. कृषि पर रोजगार का अधिक दबाव
- E. शुद्ध बोये जाने वाले 85% क्षेत्र की सिंचाई द्वारा खेती

नीचे दिए गए विकल्पों में से सही उत्तर का चयन कीजिए :

1. केवल B और E
2. केवल A, B और C
3. केवल A, B और D
4. केवल C और D

**Options :**

485584142553. 1

485584142554. 2

485584142555. 3

485584142556. 4

**Question Number : 125 Question Id : 48558435640 Question Type : MCQ Option Shuffling : No Is Question Mandatory : No Calculator : None Response Time : N.A Think Time : N.A Minimum Instruction Time : 0**

**Correct Marks : 5 Wrong Marks : 1**

**Question Key Details :**

Key	Value
Comprehension	MCQ



Identify the push factors of migration from the following:

- A. Unemployment
- B. Political turmoil
- C. Peace and Stability
- D. Socio-economic backwardness
- E. Security of life and poverty

Choose the correct answer from the options given below:

1. A, B and C only
2. C, D and E only
3. A, C and D only
4. A, B and D only

**Options :**

- 485584142557. 1
- 485584142558. 2
- 485584142559. 3
- 485584142560. 4

**Question Number : 125 Question Id : 48558435640 Question Type : MCQ Option Shuffling : No Is Question Mandatory : No Calculator : None Response Time : N.A Think Time : N.A Minimum Instruction Time : 0**

**Correct Marks : 5 Wrong Marks : 1**

**Question Key Details :**

Key	Value
Comprehension	MCQ

निम्नलिखित में प्रवास के प्रतिकर्ष कारकों की पहचान कीजिए :

- A. बेरोजगारी
- B. राजनीतिक उथल पुथल
- C. शांति व स्थिरता
- D. सामाजिक आर्थिक पिछड़ापन
- E. जीवन व संपत्ति की सुरक्षा

प्रव्रजन के निम्न में से धकेल (पुश) कारकों की पहचान कीजिए :

1. केवल A, B और C
2. केवल C, D और E
3. केवल A, C और D
4. केवल A, B और D

**Options :**

- 485584142557. 1
- 485584142558. 2

485584142559. 3

485584142560. 4

**Question Number : 126 Question Id : 48558435641 Question Type : MCQ Option Shuffling : No Is Question Mandatory : No Calculator : None Response Time : N.A Think Time : N.A Minimum Instruction Time : 0**

**Correct Marks : 5 Wrong Marks : 1**

**Question Key Details :**

Key	Value
Comprehension	MCQ

Arrange the following states in ascending order in terms of their literacy rate according to (Census 2011):

- A. Gujarat
- B. Uttar Pradesh
- C. Bihar
- D. Punjab

Choose the correct answer from the options given below:

- 1. A, D, B, C
- 2. A, D, C, B
- 3. C, B, D, A
- 4. C, B, A, D

**Options :**

485584142561. 1

485584142562. 2

485584142563. 3

485584142564. 4

**Question Number : 126 Question Id : 48558435641 Question Type : MCQ Option Shuffling : No Is Question Mandatory : No Calculator : None Response Time : N.A Think Time : N.A Minimum Instruction Time : 0**

**Correct Marks : 5 Wrong Marks : 1**

**Question Key Details :**

Key	Value
Comprehension	MCQ

निम्न राज्यों को उनकी साक्षरता दर (जनगणना 2011) के आरोही क्रमानुसार व्यवस्थित कीजिए :

- A. गुजरात
- B. उत्तर प्रदेश
- C. बिहार
- D. पंजाब

नीचे दिए गए विकल्पों में से सही उत्तर का चयन कीजिए :

- 1. A, D, B, C
- 2. A, D, C, B
- 3. C, B, D, A
- 4. C, B, A, D

**Options :**

- 485584142561. 1
- 485584142562. 2
- 485584142563. 3
- 485584142564. 4

**Question Number : 127 Question Id : 48558435642 Question Type : MCQ Option Shuffling : No Is Question Mandatory : No Calculator : None Response Time : N.A Think Time : N.A Minimum Instruction Time : 0**

**Correct Marks : 5 Wrong Marks : 1**

**Question Key Details :**

Key	Value
Comprehension	MCQ

Arrange the following Radio broadcasting development in chronological order:

- A. Radio broadcasting started by the Radio club of Bombay
- B. Changed to Akashwani
- C. Changed to All India Radio
- D. Broadcasting system adopted

Choose the correct answer from the options given below:

- 1. D, A, B, C
- 2. A, D, C, B
- 3. D, A, C, B
- 4. A, B, C, D

**Options :**

- 485584142565. 1
- 485584142566. 2
- 485584142567. 3
- 485584142568. 4

Question Number : 127 Question Id : 48558435642 Question Type : MCQ Option Shuffling : No Is Question Mandatory : No Calculator : None Response Time : N.A Think Time : N.A Minimum Instruction Time : 0

Correct Marks : 5 Wrong Marks : 1

Question Key Details :

Key	Value
Comprehension	MCQ

निम्न रेडियो प्रसारण विकास को कालक्रमानुसार व्यवस्थित कीजिए :

- A. रेडियो क्लब ऑफ बाम्बे द्वारा रेडियो प्रसारण आरंभ किया गया
- B. इसे बदलकर आकाशवाणी किया गया
- C. इसे बदलकर ऑल इण्डिया रेडियो किया गया
- D. प्रसारण प्रणाली अंगीकार की गई

नीचे दिए गए विकल्पों में से सही उत्तर का चयन कीजिए :

- 1. D, A, B, C
- 2. A, D, C, B
- 3. D, A, C, B
- 4. A, B, C, D

Options :

- 485584142565. 1
- 485584142566. 2
- 485584142567. 3
- 485584142568. 4

Question Number : 128 Question Id : 48558435643 Question Type : MCQ Option Shuffling : No Is Question Mandatory : No Calculator : None Response Time : N.A Think Time : N.A Minimum Instruction Time : 0

Correct Marks : 5 Wrong Marks : 1

Question Key Details :

Key	Value
Comprehension	MCQ

Paper industry is mainly associated with which of the following industries?

- 1. Forest - based
- 2. Mineral - based
- 3. Agro - based
- 4. Chemical - based

Options :

- 485584142569. 1
- 485584142570. 2
- 485584142571. 3
- 485584142572. 4

Question Number : 128 Question Id : 48558435643 Question Type : MCQ Option Shuffling : No Is Question Mandatory : No Calculator : None Response Time : N.A Think Time : N.A Minimum Instruction Time : 0

Correct Marks : 5 Wrong Marks : 1

Question Key Details :

Key	Value
Comprehension	MCQ

कागज उद्योग निम्न में से मुख्यतः किस उद्योग से संबंधित है ?

1. वन आधारित
2. खनिज आधारित
3. कृषि आधारित
4. रसायन आधारित

Options :

485584142569. 1  
485584142570. 2  
485584142571. 3  
485584142572. 4

Question Number : 129 Question Id : 48558435644 Question Type : MCQ Option Shuffling : No Is Question Mandatory : No Calculator : None Response Time : N.A Think Time : N.A Minimum Instruction Time : 0

Correct Marks : 5 Wrong Marks : 1

Question Key Details :

Key	Value
Comprehension	MCQ

The first complete population census in India was conducted in which of the following years?

1. 1881
2. 1872
3. 1891
4. 1951

Options :

485584142573. 1  
485584142574. 2  
485584142575. 3  
485584142576. 4

Question Number : 129 Question Id : 48558435644 Question Type : MCQ Option Shuffling : No Is Question Mandatory : No Calculator : None Response Time : N.A Think Time : N.A Minimum Instruction Time : 0

Correct Marks : 5 Wrong Marks : 1

Question Key Details :

Key	Value
-----	-------



निम्नलिखित में से किस वर्ष भारत में पूर्ण जनगणना की गई थी ?

1. 1881
2. 1872
3. 1891
4. 1951

**Options :**

485584142573. 1  
485584142574. 2  
485584142575. 3  
485584142576. 4

**Question Number : 130 Question Id : 48558435645 Question Type : MCQ Option Shuffling : No Is Question Mandatory : No Calculator : None Response Time : N.A Think Time : N.A Minimum Instruction Time : 0**

**Correct Marks : 5 Wrong Marks : 1**

**Question Key Details :**

Key	Value
Comprehension	MCQ

Which of the following is not a part of watershed managed programme in India?

1. Haryali
2. Neeru-Meeru
3. Khushhali
4. Arvary Pani Sansad

**Options :**

485584142577. 1  
485584142578. 2  
485584142579. 3  
485584142580. 4

**Question Number : 130 Question Id : 48558435645 Question Type : MCQ Option Shuffling : No Is Question Mandatory : No Calculator : None Response Time : N.A Think Time : N.A Minimum Instruction Time : 0**

**Correct Marks : 5 Wrong Marks : 1**

**Question Key Details :**

Key	Value
Comprehension	MCQ

निम्नलिखित में से कौन-सा भारत में जलसंभर प्रबंधन कार्यक्रम का एक भाग नहीं है ?

1. हरियाली
2. नीरू मीरू
3. खुशहाली
4. अरवारी पानी संसद

**Options :**

485584142577. 1  
485584142578. 2  
485584142579. 3  
485584142580. 4

**Question Number : 131 Question Id : 48558435646 Question Type : MCQ Option Shuffling : No Is Question Mandatory : No Calculator : None Response Time : N.A Think Time : N.A Minimum Instruction Time : 0**

**Correct Marks : 5 Wrong Marks : 1**

**Question Key Details :**

Key	Value
Comprehension	MCQ

The land left out of cultivation for one or less than one agriculture year is known by which of the following?

1. Barren land
2. Current fallow
3. Fallow other than current fallow
4. Cultural waste-land

**Options :**

485584142581. 1  
485584142582. 2  
485584142583. 3  
485584142584. 4

**Question Number : 131 Question Id : 48558435646 Question Type : MCQ Option Shuffling : No Is Question Mandatory : No Calculator : None Response Time : N.A Think Time : N.A Minimum Instruction Time : 0**

**Correct Marks : 5 Wrong Marks : 1**

**Question Key Details :**

Key	Value
Comprehension	MCQ

एक अथवा एक से कम कृषि वर्ष के लिए कृषि में से छोड़ी गयी भूमि निम्न में से कौन-सी कहलाती है।

1. बंजर भूमि
2. चालू परती भूमि
3. चालू परती से इतर परती भूमि
4. सांस्कृतिक व्यर्थ भूमि

**Options :**

485584142581. 1  
485584142582. 2  
485584142583. 3  
485584142584. 4

**Question Number : 132 Question Id : 48558435647 Question Type : MCQ Option Shuffling : No Is Question Mandatory : No Calculator : None Response Time : N.A Think Time : N.A Minimum Instruction Time : 0**

**Correct Marks : 5 Wrong Marks : 1**

**Question Key Details :**

Key	Value
Comprehension	MCQ

Match List I with List II

LIST I		LIST II	
Minerals		Places	
A.	Coal	I.	Talcher
B.	Iron	II.	Maikal Hills
C.	Copper	III.	Mayurbhanj
D.	Bauxite	IV.	Khetri

Choose the correct answer from the options given below:

1. A-I, B-III, C-IV, D-II
2. A-I, B-III, C-II, D-IV
3. A-I, B-II, C-IV, D-III
4. A-III, B-II, C-I, D-IV

**Options :**

485584142585. 1  
485584142586. 2  
485584142587. 3  
485584142588. 4

**Question Number : 132 Question Id : 48558435647 Question Type : MCQ Option Shuffling : No Calculator : None Response Time : N.A Think Time : N.A Minimum Instruction Time : 0**





Correct Marks : 5 Wrong Marks : 1

Question Key Details :

Key	Value
Comprehension	MCQ

सूची I का सूची II से मिलान कीजिए

सूची I		सूची II	
खनिज		स्थान	
A.	कोयला	I.	तालचेर
B.	लोहा	II.	मैकाल पहाड़ी
C.	तांबा	III.	मयूरभंज
D.	बॉक्साइट	IV.	खेतड़ी

निम्नलिखित विकल्पों में से सही उत्तर का चयन कीजिए :

1. A-I, B-III, C-IV, D-II
2. A-I, B-III, C-II, D-IV
3. A-I, B-II, C-IV, D-III
4. A-III, B-II, C-I, D-IV

Options :

485584142585. 1  
485584142586. 2  
485584142587. 3  
485584142588. 4

Question Number : 133 Question Id : 48558435648 Question Type : MCQ Option Shuffling : No Is Question Mandatory : No Calculator : None Response Time : N.A Think Time : N.A Minimum Instruction Time : 0

Correct Marks : 5 Wrong Marks : 1

Question Key Details :

Key	Value
Comprehension	MCQ

In which one of the following states, people live in compact villages for security and defence purposes?

1. Nagaland
2. Uttar Pradesh
3. Bihar
4. Maharashtra

Options :

485584142589. 1  
485584142590. 2

485584142591. 3

485584142592. 4

**Question Number : 133 Question Id : 48558435648 Question Type : MCQ Option Shuffling : No Is Question Mandatory : No Calculator : None Response Time : N.A Think Time : N.A Minimum Instruction Time : 0**

**Correct Marks : 5 Wrong Marks : 1**

**Question Key Details :**

Key	Value
Comprehension	MCQ

निम्नलिखित में से किस राज्य में लोग सुरक्षा तथा बचाव हेतु सघन गाँवों में रहते हैं?

1. नागालैंड
2. उत्तर प्रदेश
3. बिहार
4. महाराष्ट्र

**Options :**

485584142589. 1

485584142590. 2

485584142591. 3

485584142592. 4

**Question Number : 134 Question Id : 48558435649 Question Type : MCQ Option Shuffling : No Is Question Mandatory : No Calculator : None Response Time : N.A Think Time : N.A Minimum Instruction Time : 0**

**Correct Marks : 5 Wrong Marks : 1**

**Question Key Details :**

Key	Value
Comprehension	MCQ

The Silicon Valley near San Francisco and Silicon Forest near Seattle are example of which type of industry?

1. Iron and Steel
2. Cotton Textile
3. high tech
4. Cement

**Options :**

485584142593. 1

485584142594. 2

485584142595. 3

485584142596. 4

**Question Number : 134 Question Id : 48558435649 Question Type : MCQ Option Shuffling : No Is Question Mandatory : No Calculator : None Response Time : N.A Think Time : N.A Minimum Instruction Time : 0**

**Correct Marks : 5 Wrong Marks : 1**



**Question Key Details :**

Key	Value
Comprehension	MCQ

सेन फ्रांसिस्को के निकट सिलीकॉन वैली तथा सिएटल के निकट सिलीकॉन वन किस प्रकार के उद्योग के उदाहरण हैं?

1. लौहा और इस्पात
2. सूती कपड़े
3. उच्च प्रौद्योगिकी
4. सीमेंट

**Options :**

485584142593. 1  
485584142594. 2  
485584142595. 3  
485584142596. 4

**Question Number : 135 Question Id : 48558435650 Question Type : MCQ Option Shuffling : No Is Question Mandatory : No Calculator : None Response Time : N.A Think Time : N.A Minimum Instruction Time : 0**

**Correct Marks : 5 Wrong Marks : 1**

**Question Key Details :**

Key	Value
Comprehension	MCQ

As per the Census of India 2011, the level of urbanisation in India is \_\_\_\_\_.

1. 21.16 percent
2. 41.16 percent
3. 33.76 percent
4. 31.16 percent

**Options :**

485584142597. 1  
485584142598. 2  
485584142599. 3  
485584142600. 4

**Question Number : 135 Question Id : 48558435650 Question Type : MCQ Option Shuffling : No Is Question Mandatory : No Calculator : None Response Time : N.A Think Time : N.A Minimum Instruction Time : 0**

**Correct Marks : 5 Wrong Marks : 1**

**Question Key Details :**

Key	Value
Comprehension	MCQ

भारत की वर्ष 2011 की जनगणना के अनुसार भारत में शहरीकरण का स्तर \_\_\_\_\_ है।

1. 21.16 प्रतिशत
2. 41.16 प्रतिशत
3. 33.76 प्रतिशत
4. 31.16 प्रतिशत

**Options :**

485584142597. 1  
485584142598. 2  
485584142599. 3  
485584142600. 4

**Question Number : 136 Question Id : 48558435651 Question Type : MCQ Option Shuffling : No Is Question Mandatory : No Calculator : None Response Time : N.A Think Time : N.A Minimum Instruction Time : 0**

**Correct Marks : 5 Wrong Marks : 1**

**Question Key Details :**

Key	Value
Comprehension	MCQ

India accounts for about \_\_\_\_\_ percent of the World's surface area.

1. 4.00
2. 2.45
3. 3.76
4. 17.16

**Options :**

485584142601. 1  
485584142602. 2  
485584142603. 3  
485584142604. 4

**Question Number : 136 Question Id : 48558435651 Question Type : MCQ Option Shuffling : No Is Question Mandatory : No Calculator : None Response Time : N.A Think Time : N.A Minimum Instruction Time : 0**

**Correct Marks : 5 Wrong Marks : 1**

**Question Key Details :**

Key	Value
Comprehension	MCQ

भारत का क्षेत्रफल विश्व के पृष्ठ क्षेत्रफल का \_\_\_\_\_ प्रतिशत है।

1. 4.00
2. 2.45
3. 3.76
4. 17.16

**Options :**

485584142601. 1  
485584142602. 2  
485584142603. 3  
485584142604. 4

**Question Number : 137 Question Id : 48558435652 Question Type : MCQ Option Shuffling : No Is Question Mandatory : No Calculator : None Response Time : N.A Think Time : N.A Minimum Instruction Time : 0**

**Correct Marks : 5 Wrong Marks : 1**

**Question Key Details :**

Key	Value
Comprehension	MCQ

The Jal Kranti Abhiyan was launched in \_\_\_\_\_.

1. 2015-16
2. 2014-15
3. 2018-19
4. 2004-05

**Options :**

485584142605. 1  
485584142606. 2  
485584142607. 3  
485584142608. 4

**Question Number : 137 Question Id : 48558435652 Question Type : MCQ Option Shuffling : No Is Question Mandatory : No Calculator : None Response Time : N.A Think Time : N.A Minimum Instruction Time : 0**

**Correct Marks : 5 Wrong Marks : 1**

**Question Key Details :**

Key	Value
Comprehension	MCQ

वर्ष \_\_\_\_\_ में जल क्रांति अभियान शुरू किया गया था

1. 2015-16
2. 2014-15
3. 2018-19
4. 2004-05

**Options :**

485584142605. 1  
485584142606. 2  
485584142607. 3  
485584142608. 4

**Question Number : 138 Question Id : 48558435653 Question Type : MCQ Option Shuffling : No Is Question Mandatory : No Calculator : None Response Time : N.A Think Time : N.A Minimum Instruction Time : 0**

**Correct Marks : 5 Wrong Marks : 1**

**Question Key Details :**

Key	Value
Comprehension	MCQ

National Waterway 2 stretch extends between \_\_\_\_\_.

1. Allahabad-Haldia
2. Kottapuram-Kollam
3. Sadiya-Dhubri
4. Patna-Haldia

**Options :**

485584142609. 1  
485584142610. 2  
485584142611. 3  
485584142612. 4

**Question Number : 138 Question Id : 48558435653 Question Type : MCQ Option Shuffling : No Is Question Mandatory : No Calculator : None Response Time : N.A Think Time : N.A Minimum Instruction Time : 0**

**Correct Marks : 5 Wrong Marks : 1**

**Question Key Details :**

Key	Value
Comprehension	MCQ

राष्ट्रीय जलमार्ग 2 का विस्तार \_\_\_\_\_ के बीच है।

1. इलाहाबाद-हल्दिया
2. कोटापुरम-कोल्लम
3. सदिया-धुबरी
4. पटना-हल्दिया

**Options :**

485584142609. 1  
485584142610. 2  
485584142611. 3  
485584142612. 4

**Question Number : 139 Question Id : 48558435654 Question Type : MCQ Option Shuffling : No Is Question Mandatory : No Calculator : None Response Time : N.A Think Time : N.A Minimum Instruction Time : 0**

**Correct Marks : 5 Wrong Marks : 1**

**Question Key Details :**

Key	Value
Comprehension	MCQ

\_\_\_\_\_ port is situated at the Zuari estuary.

1. Marmagao
2. Kandla
3. New Mangalore
4. Paradwip

**Options :**

485584142613. 1  
485584142614. 2  
485584142615. 3  
485584142616. 4

**Question Number : 139 Question Id : 48558435654 Question Type : MCQ Option Shuffling : No Is Question Mandatory : No Calculator : None Response Time : N.A Think Time : N.A Minimum Instruction Time : 0**

**Correct Marks : 5 Wrong Marks : 1**

**Question Key Details :**

Key	Value
Comprehension	MCQ

\_\_\_\_\_ बंदरगाह जुआरी मुहाना में स्थित है।

1. मार्मागाओ
2. कांडला
3. न्यू मंगलौर
4. पाराद्वीप

**Options :**

485584142613. 1  
485584142614. 2  
485584142615. 3  
485584142616. 4

**Question Number : 140 Question Id : 48558435655 Question Type : MCQ Option Shuffling : No Is Question Mandatory : No Calculator : None Response Time : N.A Think Time : N.A Minimum Instruction Time : 0**

**Correct Marks : 5 Wrong Marks : 1**

**Question Key Details :**

Key	Value
Comprehension	MCQ

As per Census of India 2011, the population density was highest in \_\_\_\_\_.

1. West Bengal
2. Uttar Pradesh
3. Goa
4. Bihar

**Options :**

485584142617. 1  
485584142618. 2  
485584142619. 3  
485584142620. 4

**Question Number : 140 Question Id : 48558435655 Question Type : MCQ Option Shuffling : No Is Question Mandatory : No Calculator : None Response Time : N.A Think Time : N.A Minimum Instruction Time : 0**

**Correct Marks : 5 Wrong Marks : 1**

**Question Key Details :**

Key	Value
Comprehension	MCQ



वर्ष 2011 की भारत की जनगणना के अनुसार \_\_\_\_\_ में जनसंख्या घनत्व सबसे अधिक था।

1. पश्चिम बंगाल
2. उत्तर प्रदेश
3. गोवा
4. बिहार

**Options :**

485584142617. 1  
485584142618. 2  
485584142619. 3  
485584142620. 4

**Sub-Section Number :** 2  
**Sub-Section Id :** 4855842642  
**Question Shuffling Allowed :** No  
**Is Section Default? :** null

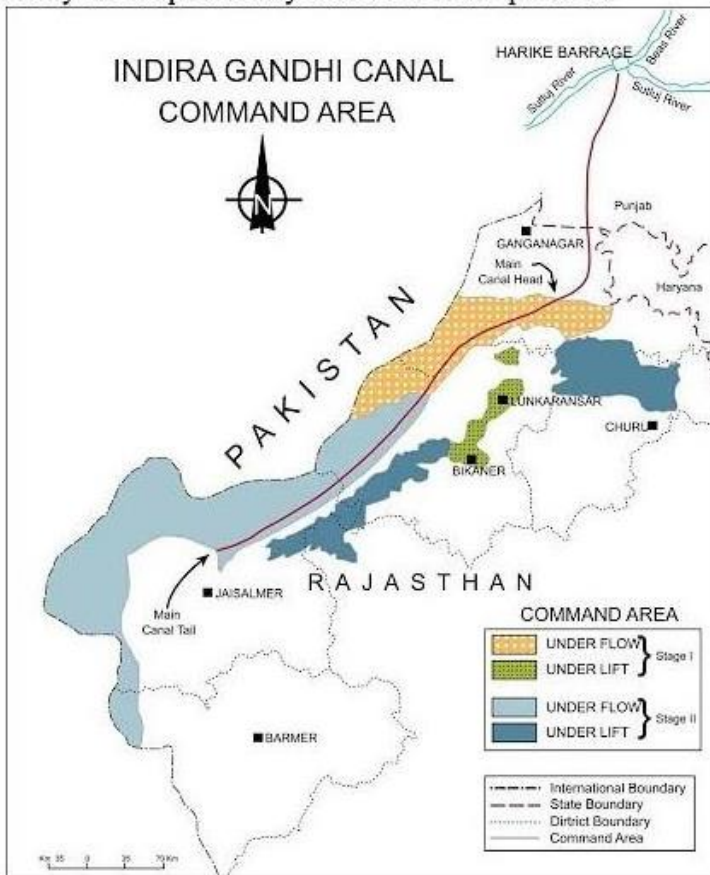
**Question Number : 141 Question Id : 48558435656 Question Type : MCQ Option Shuffling : No Is Question Mandatory : No Calculator : None Response Time : N.A Think Time : N.A Minimum Instruction Time : 0**

**Correct Marks : 5 Wrong Marks : 1**

**Question Key Details :**

Key	Value
Comprehension	Comp1

Study the map carefully and answer the question.



Which of the following is the general direction of main canal shown on the map?

1. North to South
2. South to North
3. South-West to North-East
4. North-East to South-West

**Options :**

- 485584142621. 1
- 485584142622. 2
- 485584142623. 3
- 485584142624. 4

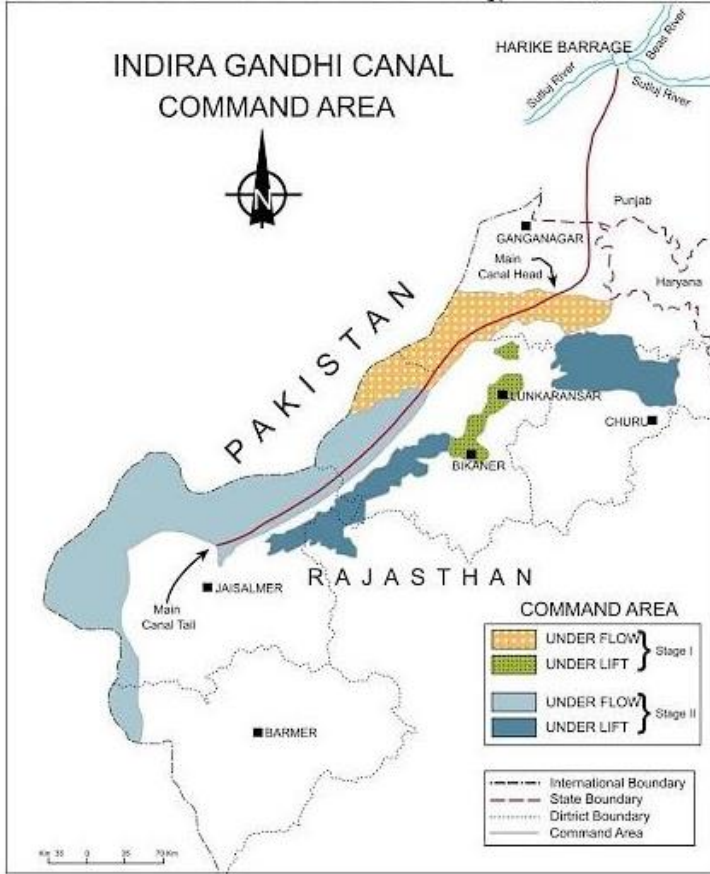
**Question Number : 141 Question Id : 48558435656 Question Type : MCQ Option Shuffling : No Is Question Mandatory : No Calculator : None Response Time : N.A Think Time : N.A Minimum Instruction Time : 0**

**Correct Marks : 5 Wrong Marks : 1**

**Question Key Details :**

Key	Value
Comprehension	Comp1

नीचे दिए गए मानचित्र को पढ़िए ध्यानपूर्वक पढ़िए और प्रश्नों के उत्तर दीजिए।



निम्नलिखित में से कौन-सी मानचित्र में दर्शायी गयी मुख्य नहर की सामान्य दिशा है?

1. उत्तर से दक्षिण
2. दक्षिण से उत्तर
3. दक्षिण-पश्चिम से उत्तर-पूर्व
4. उत्तर-पूर्व से दक्षिण-पश्चिम

**Options :**

- 485584142621. 1
- 485584142622. 2
- 485584142623. 3
- 485584142624. 4

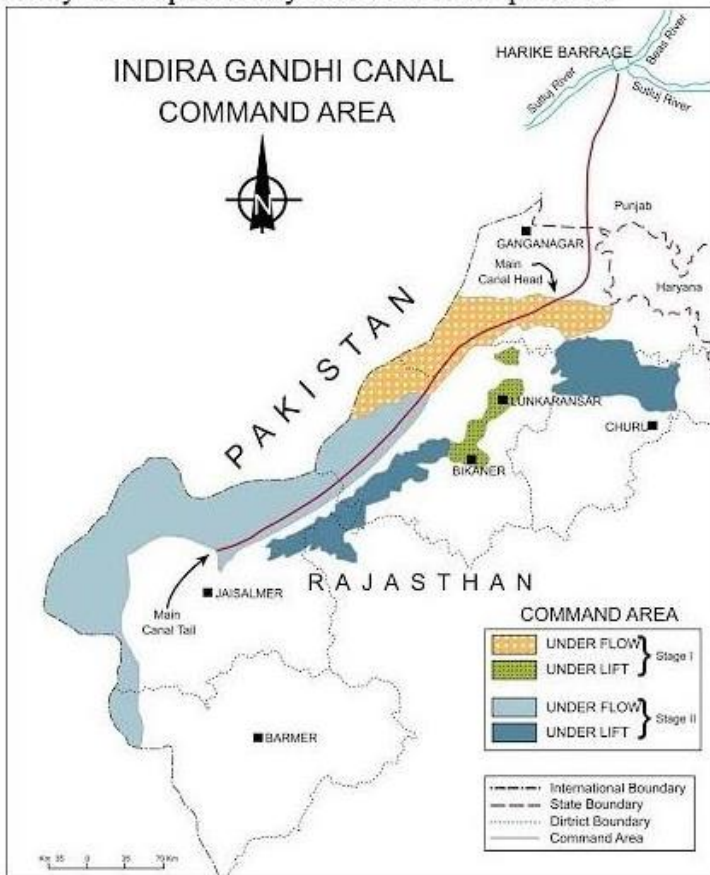
**Question Number : 142 Question Id : 48558435657 Question Type : MCQ Option Shuffling : No Is Question Mandatory : No Calculator : None Response Time : N.A Think Time : N.A Minimum Instruction Time : 0**

**Correct Marks : 5 Wrong Marks : 1**

**Question Key Details :**

Key	Value
Comprehension	Comp1

Study the map carefully and answer the question.



Identify the districts through which the main canal is passing.

- A. Churu
- B. Ganganagar
- C. Bikaner
- D. Jaisalmer
- E. Barmer

Choose the correct answer from the options given below:

- 1. B, C and D only
- 2. B, C and E only
- 3. A, B and D only
- 4. A, B and C only

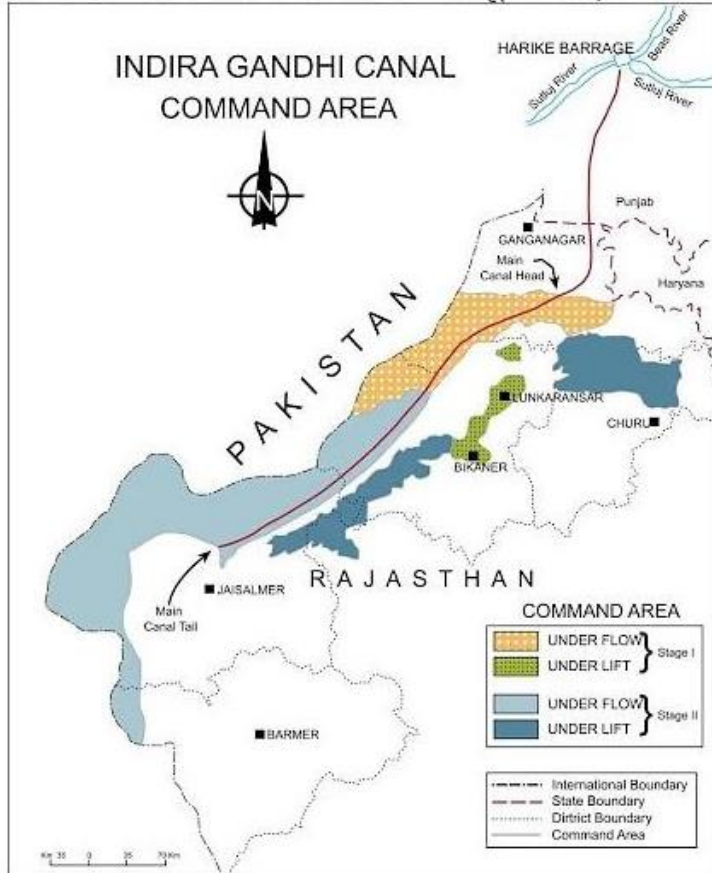
**Options :**

- 485584142625. 1
- 485584142626. 2
- 485584142627. 3
- 485584142628. 4

Question Number : 142 Question Id : 48558435657 Question Type : MCQ Option Shuffling : No Is Question Mandatory : No Calculator : None Response Time : N.A Think Time : N.A Minimum Instruction Time : 0  
 Correct Marks : 5 Wrong Marks : 1  
 Question Key Details :

Key	Value
Comprehension	Comp1

नीचे दिए गए मानचित्र को पढ़िए ध्यानपूर्वक पढ़िए और प्रश्नों के उत्तर दीजिए।



उन जिलों की पहचान कीजिए जिनसे होकर मुख्य नहर गुजरती है।

- A. चुरू
- B. गंगानगर
- C. बीकानेर
- D. जैसेलमेर
- E. बाड़मेर

नीचे दिए गए विकल्पों में से सबसे उपयुक्त उत्तर का चयन कीजिए :

1. केवल B, C और D
2. केवल B, C और E
3. केवल A, B और D
4. केवल A, B और C

**Options :**

- 485584142625. 1
- 485584142626. 2
- 485584142627. 3
- 485584142628. 4

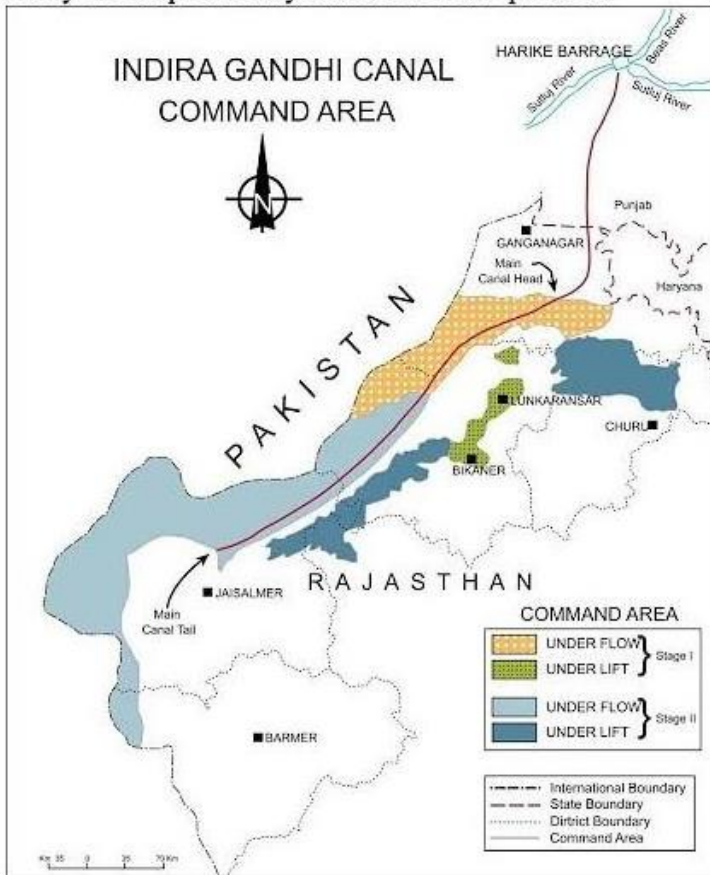
**Question Number : 143 Question Id : 48558435658 Question Type : MCQ Option Shuffling : No Is Question Mandatory : No Calculator : None Response Time : N.A Think Time : N.A Minimum Instruction Time : 0**

**Correct Marks : 5 Wrong Marks : 1**

**Question Key Details :**

Key	Value
Comprehension	Comp1

Study the map carefully and answer the question.



Identify the districts where Stage II areas are located.

- A. Ropar
- B. Bikaner
- C. Barmer
- D. Jaisalmer

Choose the correct answer from the options given below:

- 1. A and B only
- 2. A and C only
- 3. A and D only
- 4. B, C and D only

**Options :**

- 485584142629. 1
- 485584142630. 2
- 485584142631. 3
- 485584142632. 4

Question Number : 143 Question Id : 48558435658 Question Type : MCQ Option Shuffling : No  
No Calculator : None Response Time : N.A Think Time : N.A Minimum Instruction Time : 0

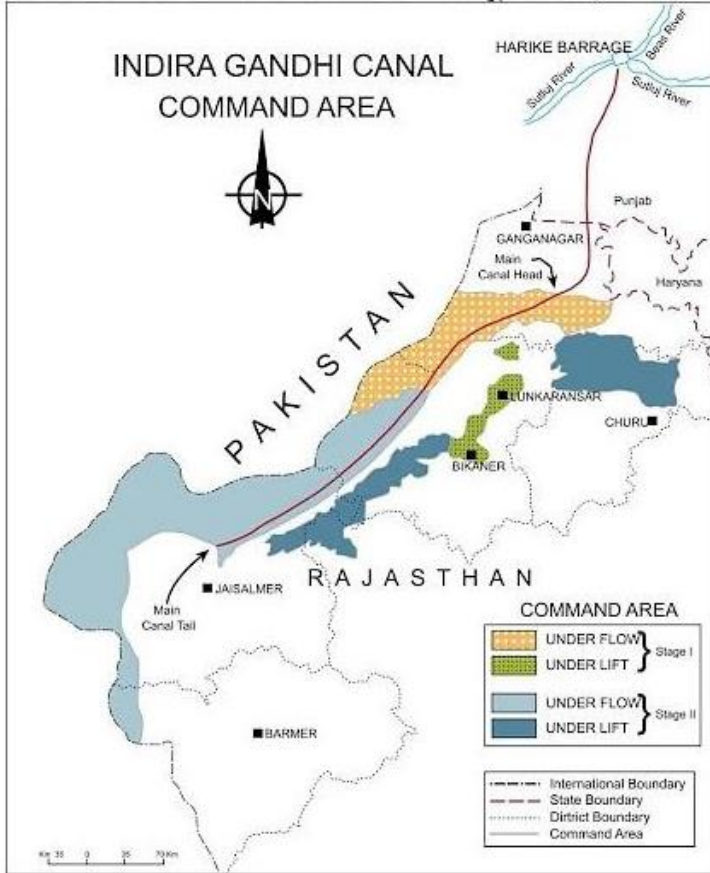


Correct Marks : 5 Wrong Marks : 1

Question Key Details :

Key	Value
Comprehension	Comp1

नीचे दिए गए मानचित्र को पढ़िए ध्यानपूर्वक पढ़िए और प्रश्नों के उत्तर दीजिए।



उन जिलों की पहचान कीजिए जहाँ चरण II क्षेत्र अवस्थित हैं।

- A. रोपड़
- B. बीकानेर
- C. बाड़मेर
- D. जैसलमेर

नीचे दिए गए विकल्पों में से सही उत्तर दीजिए :

1. केवल A और B
2. केवल A और C
3. केवल A और D
4. केवल B, C और D

Options :

485584142629. 1



485584142630. 2  
485584142631. 3  
485584142632. 4

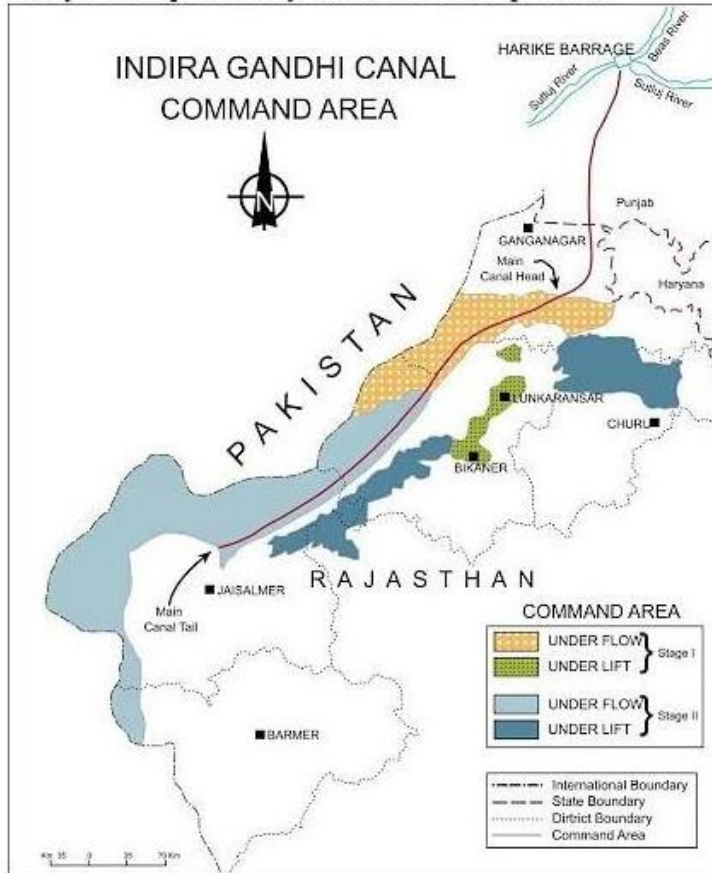
Question Number : 144 Question Id : 48558435659 Question Type : MCQ Option Shuffling : No Is Question Mandatory : No Calculator : None Response Time : N.A Think Time : N.A Minimum Instruction Time : 0

Correct Marks : 5 Wrong Marks : 1

Question Key Details :

Key	Value
Comprehension	Comp1

Study the map carefully and answer the question.



Gravity flow of canal water is majorly found in which one of the following?

1. South side of the command area
2. Left side of the main canal
3. Right side of the main canal
4. North side of the command area

Options :

485584142633. 1  
485584142634. 2  
485584142635. 3

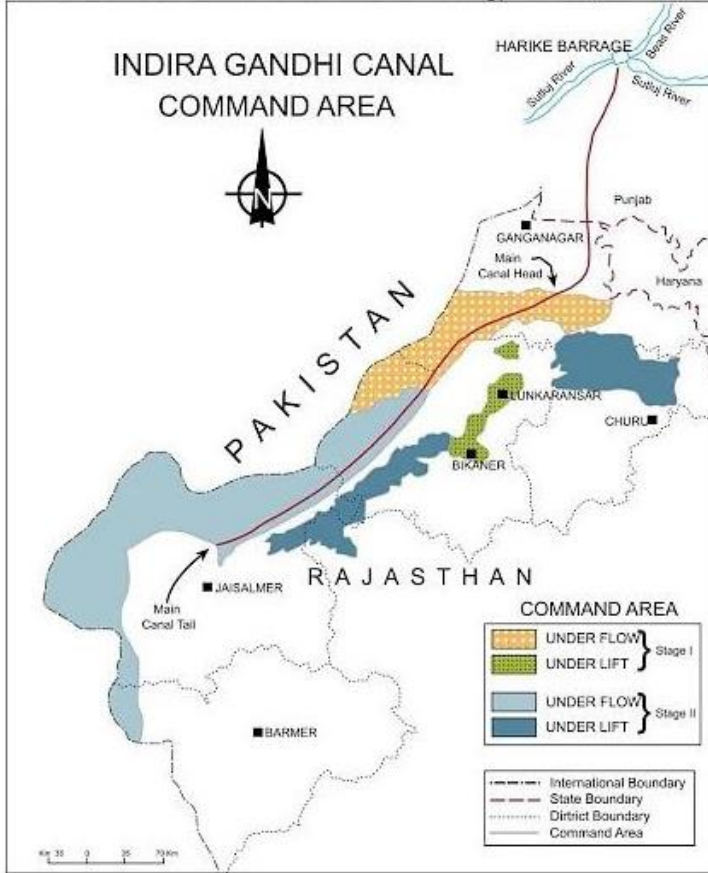
Question Number : 144 Question Id : 48558435659 Question Type : MCQ Option Shuffling : No Is Question Mandatory : No Calculator : None Response Time : N.A Think Time : N.A Minimum Instruction Time : 0

Correct Marks : 5 Wrong Marks : 1

Question Key Details :

Key	Value
Comprehension	Comp1

नीचे दिए गए मानचित्र को पढ़िए ध्यानपूर्वक पढ़िए और प्रश्नों के उत्तर दीजिए।



नहर के पानी का गुरुत्व बहाव मुख्यतः निम्नलिखित में से किसमें पाया जाता है?

1. कमान क्षेत्र की दक्षिण की दिशा
2. मुख्य नहर की बायीं तरफ
3. मुख्य नहर की दायीं तरफ
4. कमान क्षेत्र की उत्तर की दिशा

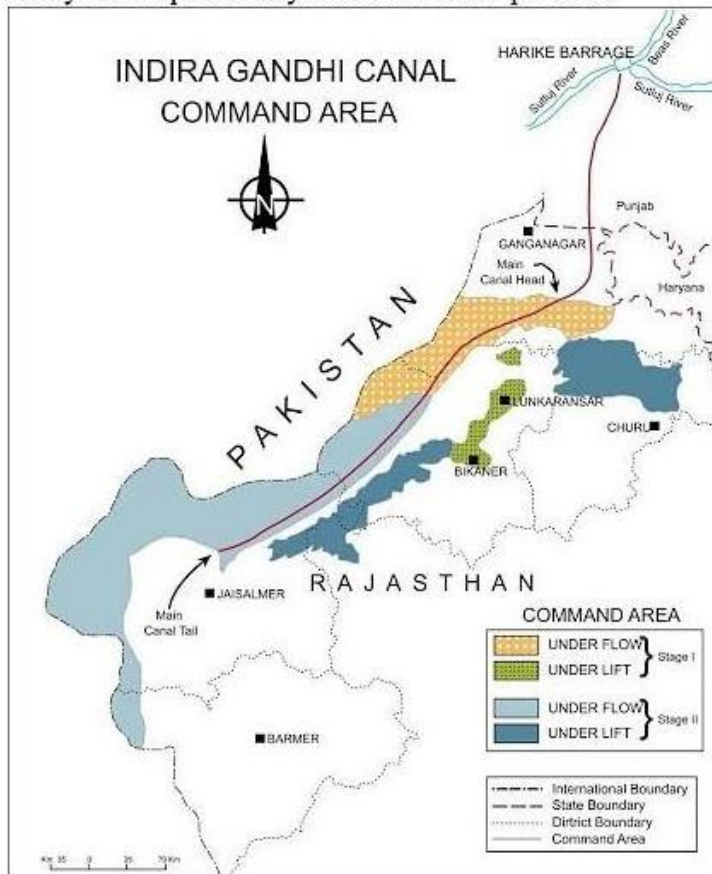
Options :

485584142633. 1  
485584142634. 2  
485584142635. 3  
485584142636. 4

Question Number : 145 Question Id : 48558435660 Question Type : MCQ Option Shuffling : No Is Question Mandatory : No Calculator : None Response Time : N.A Think Time : N.A Minimum Instruction Time : 0  
 Correct Marks : 5 Wrong Marks : 1  
 Question Key Details :

Key	Value
Comprehension	Comp1

Study the map carefully and answer the question.



Arrange the following districts from north to south direction.

- A. Bikaner
- B. Barmer
- C. Jaisalmer
- D. Ganganagar

Choose the correct answer from the options given below:

- 1. D, A, B, C
- 2. D, A, C, B
- 3. D, C, A, B
- 4. A, D, C, B

Options :

485584142637. 1  
 485584142638. 2  
 485584142639. 3  
 485584142640. 4

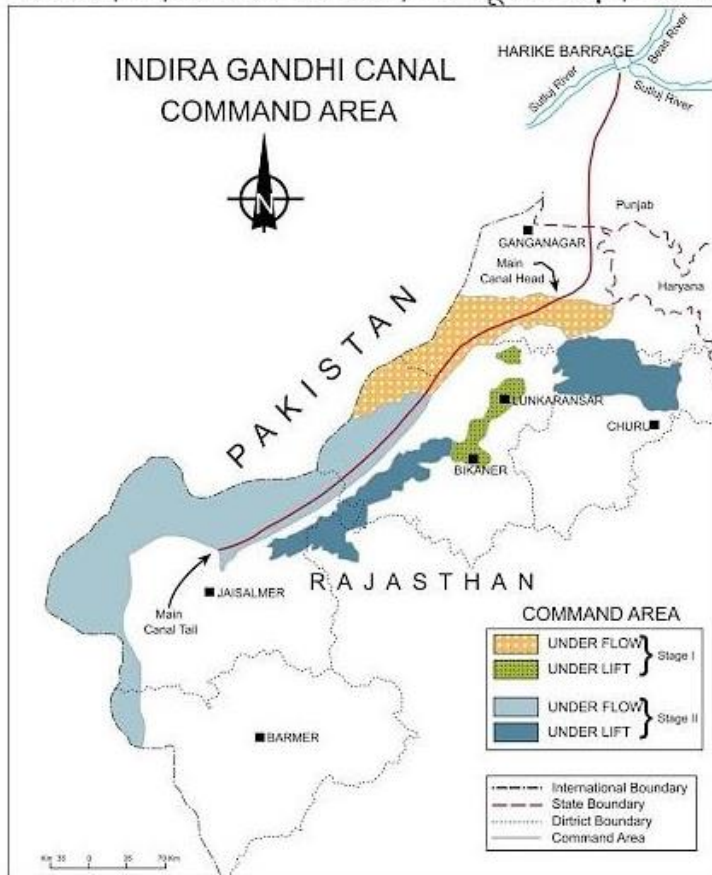
**Question Number : 145 Question Id : 48558435660 Question Type : MCQ Option Shuffling : No Is Question Mandatory : No Calculator : None Response Time : N.A Think Time : N.A Minimum Instruction Time : 0**

**Correct Marks : 5 Wrong Marks : 1**

**Question Key Details :**

Key	Value
Comprehension	Comp1

नीचे दिए गए मानचित्र को पढ़िए ध्यानपूर्वक पढ़िए और प्रश्नों के उत्तर दीजिए।



निम्नलिखित जिलों को उत्तर से दक्षिण दिशा के क्रम में व्यवस्थित कीजिए :

- A. बीकानेर
- B. बाड़मेर
- C. जैसलमेर
- D. गंगानगर

नीचे दिए गए विकल्पों में से सही उत्तर दीजिए :

- 1. D, A, B, C
- 2. D, A, C, B
- 3. D, C, A, B
- 4. A, D, C, B

**Options :**

- 485584142637. 1
- 485584142638. 2
- 485584142639. 3
- 485584142640. 4

**Sub-Section Number :** 3  
**Sub-Section Id :** 4855842643  
**Question Shuffling Allowed :** No  
**Is Section Default? :** null

**Question Number : 146 Question Id : 48558435661 Question Type : MCQ Option Shuffling : No Is Question Mandatory : No Calculator : None Response Time : N.A Think Time : N.A Minimum Instruction Time : 0 Correct Marks : 5 Wrong Marks : 1**

**Question Key Details :**

Key	Value
Comprehension	Comp2

Study the passage and answer the following question:

Benda lives in the wilds of the Abujh Maad area of central India. His village consists of three huts deep in the wilds. Not even birds or stray dogs that usually crowd villages can be seen in these areas. Wearing a small loin cloth and armed with his axe he slowly surveys the penda (forest) where his tribe practices a primitive form of agriculture called shifting cultivation. Benda and his friends burn small patches of forest to clear them for cultivation. The ash is used for making the soil fertile. Benda is happy that the Mahua trees around him are in bloom. How lucky I am to be a part of this beautiful universe, he thinks as he looks up to see the Mahua, Palash and Sal trees that have sheltered him since childhood. Crossing the penda in a gliding motion, Benda makes his way to a stream. As he bends down to scoop up a palmful of water, he remembers to thank Loi-Lugi, the spirit of the forest for allowing him to quench his thirst. Moving on with his friends, Benda chews on succulent leaves and roots. The boys have been trying to collect Gajjhara and Kuchla, from the forest. These are special plants that Benda and his people use. He hopes the spirits of the forest will be kind and lead him to these herbs. These are needed to barter in the madhai or tribal fair coming up the next full moon. He closes his eyes and tries hard to recall what the elders had taught him about the herbs and the places they are found in. He wishes he had listened more carefully. Suddenly there is a rustling of leaves. Benda and his friends know it is the outsiders who have come searching for them in the wilds. In a single fluid motion Benda and his friends disappear behind the thick canopy of trees and become one with the spirit of the forest.

To which one of the following 'Benda' represents as given in the passage?

1. Tribe living in the area
2. Weaver
3. Trader
4. Fisherman

**Options :**

485584142641. 1  
485584142642. 2  
485584142643. 3  
485584142644. 4

**Question Number : 146 Question Id : 48558435661 Question Type : MCQ Option Shuffling : No Is Question Mandatory : No Calculator : None Response Time : N.A Think Time : N.A Minimum Instruction Time : 0**

**Correct Marks : 5 Wrong Marks : 1**

**Question Key Details :**

Key	Value
Comprehension	Comp2

बेंदा मध्य भारत के अबूझमाड़ क्षेत्र के जंगलों में रहता है। उसके गाँव में तीन झोपड़ियाँ हैं जो जंगल के बीच हैं। यहाँ तक कि पक्षी और आवारा कुत्ते जिनकी भीड़ प्रायः गाँवों में मिलती है, भी यहाँ दिखाई नहीं देते। छोटी लंगोटी पहने और हाथ में कुल्हाड़ी लिए वह पेंडा (वन) का सर्वेक्षण करता है, जहाँ उसका कबीला कृषि का आदिम रूप-स्थानांतरी कृषि करता है।

बेंदा तथा उसके मित्र वन के छोटे टुकड़ों को जुताई के लिए जलाकर साफ करते हैं। राख का उपयोग मृदा को उर्वर बनाने के लिए किया जाता है। अपने चारों ओर खिले हुए महुआ वृक्षों को देखकर बेंदा प्रसन्न है। जैसे ही वह महुआ, पलाश और साल के वृक्षों को देखता है, जिन्होंने बचपन से ही उसे आश्रय दिया, वह सोचता है कि इस सुंदर ब्रह्मांड का अंग बनकर वह कितना सौभाग्यशाली है। विसर्पी गति से पेंडा को पार करके बेंदा नदी तक पहुँचता है। जैसे ही वह चुल्लू भर जल लेने के लिए झुकता है, उसे वन की आत्मा लोई-लुगी की प्यास बुझाने के स्वीकृति देने के लिए धन्यवाद करना याद आता है। अपने मित्रों के साथ आगे बढ़ते हुए बेंदा गूदेदार पत्तों और कंदमूल को चबाता है। लड़के वन से गज्जहरा और कुचला का संग्रहण करने का प्रयास कर रहे हैं। ये विशिष्ट पादप हैं जिनका प्रयोग बेंदा और उसके लोग करते हैं। वह आशा करता है कि वन की आत्माएँ दया करेंगी और उसे उन जड़ी बूटियों तक ले जाएँगी। ये आगामी पूर्णिमा को मधाई अथवा जनजातीय मेले में वस्तु विनियम के लिए आवश्यक है। वह अपने नेत्र बंद करके स्मरण करने का कठिन प्रयत्न करता है, जो उसके बुजुर्गों ने उन जड़ी बूटियों और उनके पाए जाने वाले स्थानों के बारे में समझाया था। वह चाहता है कि काश उसने अधिक ध्यानपूर्वक सुना होता। अचानक पत्तों में खड़खड़ाहट होती है। बेंदा और उसके मित्र जानते हैं कि इन जंगलों में उन्हें ढूँढते हुए आए हैं। एक ही प्रवाह गति से बेंदा और उसके मित्र सघन वृक्षों के वितान के पीछे अदृश्य हो जाते हैं और वन की आत्मा के साथ एकाकार हो जाते हैं।

दिए गए गद्यांश में 'बेंदा' निम्नलिखित में से किसका निरूपण करता है?

1. उस क्षेत्र की रहने वाली जनजाति
2. बुनकर
3. व्यापारी
4. मछुआरा

**Options :**

485584142641. 1

485584142642. 2

485584142643. 3

485584142644. 4

**Question Number : 147 Question Id : 48558435662 Question Type : MCQ Option Shuffling : No Is Question Mandatory : No Calculator : None Response Time : N.A Think Time : N.A Minimum Instruction Time : 0**

**Correct Marks : 5 Wrong Marks : 1**

**Question Key Details :**

Key	Value
Comprehension	Comp2

Study the passage and answer the following question:

Benda lives in the wilds of the Abujh Maad area of central India. His village consists of three huts deep in the wilds. Not even birds or stray dogs that usually crowd villages can be seen in these areas. Wearing a small loin cloth and armed with his axe he slowly surveys the penda (forest) where his tribe practices a primitive form of agriculture called shifting cultivation. Benda and his friends burn small patches of forest to clear them for cultivation. The ash is used for making the soil fertile. Benda is happy that the Mahua trees around him are in bloom. How lucky I am to be a part of this beautiful universe, he thinks as he looks up to see the Mahua, Palash and Sal trees that have sheltered him since childhood. Crossing the penda in a gliding motion, Benda makes his way to a stream. As he bends down to scoop up a palmful of water, he remembers to thank Loi-Lugi, the spirit of the forest for allowing him to quench his thirst. Moving on with his friends, Benda chews on succulent leaves and roots. The boys have been trying to collect Gajjhara and Kuchla, from the forest. These are special plants that Benda and his people use. He hopes the spirits of the forest will be kind and lead him to these herbs. These are needed to barter in the madhai or tribal fair coming up the next full moon. He closes his eyes and tries hard to recall what the elders had taught him about the herbs and the places they are found in. He wishes he had listened more carefully. Suddenly there is a rustling of leaves. Benda and his friends know it is the outsiders who have come searching for them in the wilds. In a single fluid motion Benda and his friends disappear behind the thick canopy of trees and become one with the spirit of the forest.

To which one of the following 'Penda' is referred in the text?

1. A tribe
2. A hut
3. Forest
4. Succulent leaves

**Options :**

485584142645. 1  
485584142646. 2  
485584142647. 3  
485584142648. 4

**Question Number : 147 Question Id : 48558435662 Question Type : MCQ Option Shuffling : No Is Question Mandatory : No Calculator : None Response Time : N.A Think Time : N.A Minimum Instruction Time : 0**

**Correct Marks : 5 Wrong Marks : 1**

**Question Key Details :**

Key	Value
Comprehension	Comp2



बेंदा मध्य भारत के अबूझमाड़ क्षेत्र के जंगलों में रहता है। उसके गाँव में तीन झोपड़ियाँ हैं जो जंगल के बीच हैं। यहाँ तक कि पक्षी और आवारा कुत्ते जिनकी भीड़ प्रायः गाँवों में मिलती है, भी यहाँ दिखाई नहीं देते। छोटी लंगोटी पहने और हाथ में कुल्हाड़ी लिए वह पेंडा (वन) का सर्वेक्षण करता है, जहाँ उसका कबीला कृषि का आदिम रूप-स्थानांतरी कृषि करता है।

बेंदा तथा उसके मित्र वन के छोटे टुकड़ों को जुताई के लिए जलाकर साफ करते हैं। राख का उपयोग मृदा को उर्वर बनाने के लिए किया जाता है। अपने चारों ओर खिले हुए महुआ वृक्षों को देखकर बेंदा प्रसन्न है। जैसे ही वह महुआ, पलाश और साल के वृक्षों को देखता है, जिन्होंने बचपन से ही उसे आश्रय दिया, वह सोचता है कि इस सुंदर ब्रह्मांड का अंग बनकर वह कितना सौभाग्यशाली है। विसर्पी गति से पेंडा को पार करके बेंदा नदी तक पहुँचता है। जैसे ही वह चुल्लू भर जल लेने के लिए झुकता है, उसे वन की आत्मा लोई-लुगी की प्यास बुझाने के स्वीकृति देने के लिए धन्यवाद करना याद आता है। अपने मित्रों के साथ आगे बढ़ते हुए बेंदा गूदेदार पत्तों और कंदमूल को चबाता है। लड़के वन से गज्जहरा और कुचला का संग्रहण करने का प्रयास कर रहे हैं। ये विशिष्ट पादप है जिनका प्रयोग बेंदा और उसके लोग करते हैं। वह आशा करता है कि वन की आत्माएँ दया करेंगी और उसे उन जड़ी बूटियों तक ले जाएँगी। ये आगामी पूर्णिमा को मधाई अथवा जनजातीय मेले में वस्तु विनियम के लिए आवश्यक है। वह अपने नेत्र बंद करके स्मरण करने का कठिन प्रयत्न करता है, जो उसके बुजुर्गों ने उन जड़ी बूटियों और उनके पाए जाने वाले स्थानों के बारे में समझाया था। वह चाहता है कि काश उसने अधिक ध्यानपूर्वक सुना होता। अचानक पत्तों में खड़खड़ाहट होती है। बेंदा और उसके मित्र जानते हैं कि इन जंगलों में उन्हें ढूँढते हुए आए हैं। एक ही प्रवाह गति से बेंदा और उसके मित्र सघन वृक्षों के वितान के पीछे अदृश्य हो जाते हैं और वन की आत्मा के साथ एकाकार हो जाते हैं।

इस गद्यांश में पेंडा निम्न में से किसका संकेत करता है।

1. जनजाति
2. झोपड़ी
3. जंगल
4. गूदेदार पत्तियाँ

**Options :**

485584142645. 1  
485584142646. 2  
485584142647. 3  
485584142648. 4

**Question Number : 148 Question Id : 48558435663 Question Type : MCQ Option Shuffling : No Is Question Mandatory : No Calculator : None Response Time : N.A Think Time : N.A Minimum Instruction Time : 0**

**Correct Marks : 5 Wrong Marks : 1**

**Question Key Details :**

Key	Value
Comprehension	Comp2

Study the passage and answer the following question:

Benda lives in the wilds of the Abujh Maad area of central India. His village consists of three huts deep in the wilds. Not even birds or stray dogs that usually crowd villages can be seen in these areas. Wearing a small loin cloth and armed with his axe he slowly surveys the penda (forest) where his tribe practices a primitive form of agriculture called shifting cultivation. Benda and his friends burn small patches of forest to clear them for cultivation. The ash is used for making the soil fertile. Benda is happy that the Mahua trees around him are in bloom. How lucky I am to be a part of this beautiful universe, he thinks as he looks up to see the Mahua, Palash and Sal trees that have sheltered him since childhood. Crossing the penda in a gliding motion, Benda makes his way to a stream. As he bends down to scoop up a palmful of water, he remembers to thank Loi-Lugi, the spirit of the forest for allowing him to quench his thirst. Moving on with his friends, Benda chews on succulent leaves and roots. The boys have been trying to collect Gajjhara and Kuchla, from the forest. These are special plants that Benda and his people use. He hopes the spirits of the forest will be kind and lead him to these herbs. These are needed to barter in the madhai or tribal fair coming up the next full moon. He closes his eyes and tries hard to recall what the elders had taught him about the herbs and the places they are found in. He wishes he had listened more carefully. Suddenly there is a rustling of leaves. Benda and his friends know it is the outsiders who have come searching for them in the wilds. In a single fluid motion Benda and his friends disappear behind the thick canopy of trees and become one with the spirit of the forest.

Benda went to the forest for \_\_\_\_\_ .

1. hunting
2. bringing wood
3. collecting herbs
4. cultivating land

**Options :**

485584142649. 1  
485584142650. 2  
485584142651. 3  
485584142652. 4

**Question Number : 148 Question Id : 48558435663 Question Type : MCQ Option Shuffling : No Is Question Mandatory : No Calculator : None Response Time : N.A Think Time : N.A Minimum Instruction Time : 0**

**Correct Marks : 5 Wrong Marks : 1**

**Question Key Details :**

Key	Value
Comprehension	Comp2

बेंदा मध्य भारत के अबूझमाड़ क्षेत्र के जंगलों में रहता है। उसके गाँव में तीन झोपड़ियाँ हैं जो जंगल के बीच हैं। यहाँ तक कि पक्षी और आवाज़ कुत्ते जिनकी भीड़ प्रायः गाँवों में मिलती है, भी यहाँ दिखाई नहीं देते। छोटी लंगोटी पहने और हाथ में कुल्हाड़ी लिए वह पेंडा (वन) का सर्वेक्षण करता है, जहाँ उसका कबीला कृषि का आदिम रूप-स्थानांतरी कृषि करता है।

बेंदा तथा उसके मित्र वन के छोटे टुकड़ों को जुताई के लिए जलाकर साफ करते हैं। राख का उपयोग मृदा को उर्वर बनाने के लिए किया जाता है। अपने चारों ओर खिले हुए महुआ वृक्षों को देखकर बेंदा प्रसन्न है। जैसे ही वह महुआ, पलाश और साल के वृक्षों को देखता है, जिन्होंने बचपन से ही उसे आश्रय दिया, वह सोचता है कि इस सुंदर ब्रह्मांड का अंग बनकर वह कितना सौभाग्यशाली है। विसर्पी गति से पेंडा को पार करके बेंदा नदी तक पहुँचता है। जैसे ही वह चुल्लू भर जल लेने के लिए झुकता है, उसे वन की आत्मा लोई-लुगी की प्यास बुझाने के स्वीकृति देने के लिए धन्यवाद करना याद आता है। अपने मित्रों के साथ आगे बढ़ते हुए बेंदा गूदेदार पत्तों और कंदमूल को चबाता है। लड़के वन से गज्जहरा और कुचला का संग्रहण करने का प्रयास कर रहे हैं। ये विशिष्ट पादप हैं जिनका प्रयोग बेंदा और उसके लोग करते हैं। वह आशा करता है कि वन की आत्माएँ दया करेंगी और उसे उन जड़ी बूटियों तक ले जाएँगी। ये आगामी पूर्णिमा को मधाई अथवा जनजातीय मेले में वस्तु विनियम के लिए आवश्यक है। वह अपने नेत्र बंद करके स्मरण करने का कठिन प्रयत्न करता है, जो उसके बुजुर्गों ने उन जड़ी बूटियों और उनके पाए जाने वाले स्थानों के बारे में समझाया था। वह चाहता है कि काश उसने अधिक ध्यानपूर्वक सुना होता। अचानक पत्तों में खड़खड़ाहट होती है। बेंदा और उसके मित्र जानते हैं कि इन जंगलों में उन्हें ढूँढते हुए आए हैं। एक ही प्रवाह गति से बेंदा और उसके मित्र सघन वृक्षों के वितान के पीछे अदृश्य हो जाते हैं और वन की आत्मा के साथ एकाकार हो जाते हैं।

बेंदा \_\_\_\_\_ के लिए जंगल गया था।

1. शिकार करने
2. लड़की लाने
3. जड़ी-बूटियाँ बटोरने
4. भूमि में खेती करने

**Options :**

485584142649. 1  
485584142650. 2  
485584142651. 3  
485584142652. 4

**Question Number : 149 Question Id : 48558435664 Question Type : MCQ Option Shuffling : No Is Question Mandatory : No Calculator : None Response Time : N.A Think Time : N.A Minimum Instruction Time : 0**

**Correct Marks : 5 Wrong Marks : 1**

**Question Key Details :**

Key	Value
Comprehension	Comp2

Study the passage and answer the following question:

Benda lives in the wilds of the Abujh Maad area of central India. His village consists of three huts deep in the wilds. Not even birds or stray dogs that usually crowd villages can be seen in these areas. Wearing a small loin cloth and armed with his axe he slowly surveys the penda (forest) where his tribe practices a primitive form of agriculture called shifting cultivation. Benda and his friends burn small patches of forest to clear them for cultivation. The ash is used for making the soil fertile. Benda is happy that the Mahua trees around him are in bloom. How lucky I am to be a part of this beautiful universe, he thinks as he looks up to see the Mahua, Palash and Sal trees that have sheltered him since childhood. Crossing the penda in a gliding motion, Benda makes his way to a stream. As he bends down to scoop up a palmful of water, he remembers to thank Loi-Lugi, the spirit of the forest for allowing him to quench his thirst. Moving on with his friends, Benda chews on succulent leaves and roots. The boys have been trying to collect Gajjhara and Kuchla, from the forest. These are special plants that Benda and his people use. He hopes the spirits of the forest will be kind and lead him to these herbs. These are needed to barter in the madhai or tribal fair coming up the next full moon. He closes his eyes and tries hard to recall what the elders had taught him about the herbs and the places they are found in. He wishes he had listened more carefully. Suddenly there is a rustling of leaves. Benda and his friends know it is the outsiders who have come searching for them in the wilds. In a single fluid motion Benda and his friends disappear behind the thick canopy of trees and become one with the spirit of the forest.

Which one of the following products were collected by Benda?

1. Loi - Lungi
2. Gajjhara and Kuchla
3. Mahua and Palash
4. Sal and Neem

**Options :**

- 485584142653. 1
- 485584142654. 2
- 485584142655. 3
- 485584142656. 4

**Question Number : 149 Question Id : 48558435664 Question Type : MCQ Option Shuffling : No Is Question Mandatory : No Calculator : None Response Time : N.A Think Time : N.A Minimum Instruction Time : 0**

**Correct Marks : 5 Wrong Marks : 1**

**Question Key Details :**

Key	Value
Comprehension	Comp2

बेंदा मध्य भारत के अबूझमाड़ क्षेत्र के जंगलों में रहता है। उसके गाँव में तीन झोपड़ियाँ हैं जो जंगल के बीच हैं। यहाँ तक कि पक्षी और आवाज़ कुत्ते जिनकी भीड़ प्रायः गाँवों में मिलती है, भी यहाँ दिखाई नहीं देते। छोटी लंगोटी पहने और हाथ में कुल्हाड़ी लिए वह पेंडा (वन) का सर्वेक्षण करता है, जहाँ उसका कबीला कृषि का आदिम रूप-स्थानांतरी कृषि करता है।

बेंदा तथा उसके मित्र वन के छोटे टुकड़ों को जुताई के लिए जलाकर साफ करते हैं। राख का उपयोग मृदा को उर्वर बनाने के लिए किया जाता है। अपने चारों ओर खिले हुए महुआ वृक्षों को देखकर बेंदा प्रसन्न है। जैसे ही वह महुआ, पलाश और साल के वृक्षों को देखता है, जिन्होंने बचपन से ही उसे आश्रय दिया, वह सोचता है कि इस सुंदर ब्रह्मांड का अंग बनकर वह कितना सौभाग्यशाली है। विसर्पी गति से पेंडा को पार करके बेंदा नदी तक पहुँचता है। जैसे ही वह चुल्लू भर जल लेने के लिए झुकता है, उसे वन की आत्मा लोई-लुंगी की प्यास बुझाने के स्वीकृति देने के लिए धन्यवाद करना याद आता है। अपने मित्रों के साथ आगे बढ़ते हुए बेंदा गूदेदार पत्तों और कंदमूल को चबाता है। लड़के वन से गज्जहरा और कुचला का संग्रहण करने का प्रयास कर रहे हैं। ये विशिष्ट पादप हैं जिनका प्रयोग बेंदा और उसके लोग करते हैं। वह आशा करता है कि वन की आत्माएँ दया करेंगी और उसे उन जड़ी बूटियों तक ले जाएँगी। ये आगामी पूर्णिमा को मधाई अथवा जनजातीय मेले में वस्तु विनियम के लिए आवश्यक है। वह अपने नेत्र बंद करके स्मरण करने का कठिन प्रयत्न करता है, जो उसके बुजुर्गों ने उन जड़ी बूटियों और उनके पाए जाने वाले स्थानों के बारे में समझाया था। वह चाहता है कि काश उसने अधिक ध्यानपूर्वक सुना होता। अचानक पत्तों में खड़खड़ाहट होती है। बेंदा और उसके मित्र जानते हैं कि इन जंगलों में उन्हें ढूँढते हुए आए हैं। एक ही प्रवाह गति से बेंदा और उसके मित्र सघन वृक्षों के वितान के पीछे अदृश्य हो जाते हैं और वन की आत्मा के साथ एकाकार हो जाते हैं।

बेंदा ने निम्नलिखित में से क्या उत्पाद एकत्र किया?

1. लोई-लुंगी
2. गज्जहरा तथा कुचला
3. महुआ तथा पलाश
4. साल और नीम

**Options :**

485584142653. 1  
485584142654. 2  
485584142655. 3  
485584142656. 4

**Question Number : 150 Question Id : 48558435665 Question Type : MCQ Option Shuffling : No Is Question Mandatory : No Calculator : None Response Time : N.A Think Time : N.A Minimum Instruction Time : 0**

**Correct Marks : 5 Wrong Marks : 1**

**Question Key Details :**

Key	Value
Comprehension	Comp2

Study the passage and answer the following question:

Benda lives in the wilds of the Abujh Maad area of central India. His village consists of three huts deep in the wilds. Not even birds or stray dogs that usually crowd villages can be seen in these areas. Wearing a small loin cloth and armed with his axe he slowly surveys the penda (forest) where his tribe practices a primitive form of agriculture called shifting cultivation. Benda and his friends burn small patches of forest to clear them for cultivation. The ash is used for making the soil fertile. Benda is happy that the Mahua trees around him are in bloom. How lucky I am to be a part of this beautiful universe, he thinks as he looks up to see the Mahua, Palash and Sal trees that have sheltered him since childhood. Crossing the penda in a gliding motion, Benda makes his way to a stream. As he bends down to scoop up a palmful of water, he remembers to thank Loi-Lugi, the spirit of the forest for allowing him to quench his thirst. Moving on with his friends, Benda chews on succulent leaves and roots. The boys have been trying to collect Gajjhara and Kuchla, from the forest. These are special plants that Benda and his people use. He hopes the spirits of the forest will be kind and lead him to these herbs. These are needed to barter in the madhai or tribal fair coming up the next full moon. He closes his eyes and tries hard to recall what the elders had taught him about the herbs and the places they are found in. He wishes he had listened more carefully. Suddenly there is a rustling of leaves. Benda and his friends know it is the outsiders who have come searching for them in the wilds. In a single fluid motion Benda and his friends disappear behind the thick canopy of trees and become one with the spirit of the forest.

At which of the following places, Benda exchanges collected herbal parts?

1. Village Market
2. Madhai tribal fair
3. Town Market
4. Loi-Lungi

**Options :**

485584142657. 1  
485584142658. 2  
485584142659. 3  
485584142660. 4

**Question Number : 150 Question Id : 48558435665 Question Type : MCQ Option Shuffling : No Is Question Mandatory : No Calculator : None Response Time : N.A Think Time : N.A Minimum Instruction Time : 0**

**Correct Marks : 5 Wrong Marks : 1**

**Question Key Details :**

Key	Value
Comprehension	Comp2

बेंदा मध्य भारत के अबूझमाड़ क्षेत्र के जंगलों में रहता है। उसके गाँव में तीन झोपड़ियाँ हैं जो जंगल के बीच हैं। यहाँ तक कि पक्षी और आवारा कुत्ते जिनकी भीड़ प्रायः गाँवों में मिलती है, भी यहाँ दिखाई नहीं देते। छोटी लंगोटी पहने और हाथ में कुल्हाड़ी लिए वह पेंडा (वन) का सर्वेक्षण करता है, जहाँ उसका कबीला कृषि का आदिम रूप-स्थानांतरी कृषि करता है।

बेंदा तथा उसके मित्र वन के छोटे टुकड़ों को जुताई के लिए जलाकर साफ करते हैं। राख का उपयोग मृदा को उर्वर बनाने के लिए किया जाता है। अपने चारों ओर खिले हुए महुआ वृक्षों को देखकर बेंदा प्रसन्न है। जैसे ही वह महुआ, पलाश और साल के वृक्षों को देखता है, जिन्होंने बचपन से ही उसे आश्रय दिया, वह सोचता है कि इस सुंदर ब्रह्मांड का अंग बनकर वह कितना सौभाग्यशाली है। विसर्पी गति से पेंडा को पार करके बेंदा नदी तक पहुँचता है। जैसे ही वह चुल्लू भर जल लेने के लिए झुकता है, उसे वन की आत्मा लोई-लुंगी की प्यास बुझाने के स्वीकृति देने के लिए धन्यवाद करना याद आता है। अपने मित्रों के साथ आगे बढ़ते हुए बेंदा गूदेदार पत्तों और कंदमूल को चबाता है। लड़के वन से गज्जहरा और कुचला का संग्रहण करने का प्रयास कर रहे हैं। ये विशिष्ट पादप हैं जिनका प्रयोग बेंदा और उसके लोग करते हैं। वह आशा करता है कि वन की आत्माएँ दया करेंगी और उसे उन जड़ी बूटियों तक ले जाएँगी। ये आगामी पूर्णिमा को मधाई अथवा जनजातीय मेले में वस्तु विनियम के लिए आवश्यक है। वह अपने नेत्र बंद करके स्मरण करने का कठिन प्रयत्न करता है, जो उसके बुजुर्गों ने उन जड़ी बूटियों और उनके पाए जाने वाले स्थानों के बारे में समझाया था। वह चाहता है कि काश उसने अधिक ध्यानपूर्वक सुना होता। अचानक पत्तों में खड़खड़ाहट होती है। बेंदा और उसके मित्र जानते हैं कि इन जंगलों में उन्हें ढूँढते हुए आए हैं। एक ही प्रवाह गति से बेंदा और उसके मित्र सघन वृक्षों के वितान के पीछे अदृश्य हो जाते हैं और वन की आत्मा के साथ एकाकार हो जाते हैं।

बेंदा निम्नलिखित में से किस स्थान पर एकत्रित जड़ी-बूटियों के भागों का वस्तु-विनिमय करता है?

1. ग्राम बाजार
2. मधाई जनजातीय मेला
3. कस्बा बाजार
4. लोई-लुंगी

**Options :**

485584142657. 1  
485584142658. 2  
485584142659. 3  
485584142660. 4