

212807127057. 1
212807127058. 2
212807127059. 3
212807127060. 4

Economics

Group Number : 15
Group Id : 212807739
Group Maximum Duration : 60
Group Minimum Duration : 60
Show Attended Group? : No
Edit Attended Group? : No
Break time : 0
Group Marks : 200
Is this Group for Examiner? : No
Examiner permission : Cant View
Show Progress Bar? : No

Economics

Section Id : 212807871
Section Number : 1
Section type : Online
Mandatory or Optional : Mandatory
Number of Questions : 50
Number of Questions to be attempted : 40
Section Marks : 200
Enable Mark as Answered Mark for Review and Clear Response : Yes
Maximum Instruction Time : 0
Sub-Section Number : 1
Sub-Section Id : 2128072511
Question Shuffling Allowed : Yes
Is Section Default? : null

Question Number : 436 Question Id : 21280731816 Question Type : MCQ Option Shuffling : No Is Question Mandatory : No Calculator : None Response Time : N.A Think Time : N.A Minimum Instruction Time : 0 Correct Marks : 5 Wrong Marks : 1

Question Key Details :

Key	Value
Comprehension	MCQ

The following are features of flexible exchange rate system select the correct option.

- (A) Give more flexibility to government.
- (B) Restricts countries in conducting monetary policies.
- (C) Government intervenes to comes gaps in BOP.
- (D) Automatically takes care of surplus and deficit in BOP.
- (E) Speculator attack on currency.

Choose the correct answer from the options given below :

- (1) (A) and (B) only
- (2) (A) and (D) only
- (3) (C) and (D) only
- (4) (D) and (E) only

Options :

212807127261. 1
212807127262. 2
212807127263. 3

Question Number : 436 Question Id : 21280731816 Question Type : MCQ Option Shuffling : No Is Question Mandatory : No Calculator : None
Response Time : N.A Think Time : N.A Minimum Instruction Time : 0

Correct Marks : 5 Wrong Marks : 1

Question Key Details :

Key	Value
Comprehension	MCQ

तिरती या नम्य विनिमय दर व्यवस्था से सम्बन्धित दिए गए कथनों में से सही उत्तरों का चुनाव कीजिए।

- (A) सरकार को अधिक तिरती या नम्य सुविधा देना।
- (B) प्रतिबंधित देशों में मौद्रिक नीतियों को संचालन करना।
- (C) सरकार द्वारा BOP में हुए अन्तर पर हस्तक्षेप करना।
- (D) BOP के अधिशेष और धारा की स्वतः देख रेख।
- (E) मुद्रा पर अटकलबाजी का प्रहार।

नीचे दिए गए विकल्पों में से सही उत्तर का चयन कीजिए :

- (1) केवल (A) और (B)
- (2) केवल (A) और (D)
- (3) केवल (C) और (D)
- (4) केवल (D) और (E)

Options :

- 212807127261. 1
- 212807127262. 2
- 212807127263. 3
- 212807127264. 4

Question Number : 437 Question Id : 21280731817 Question Type : MCQ Option Shuffling : No Is Question Mandatory : No Calculator : None
Response Time : N.A Think Time : N.A Minimum Instruction Time : 0

Correct Marks : 5 Wrong Marks : 1

Question Key Details :

Key	Value
Comprehension	MCQ

In the production of sugar, sugarcane is _____.

- (1) A Final good
- (2) A Capital good
- (3) An intermediate good
- (4) A Consumer good

Options :

- 212807127265. 1
- 212807127266. 2
- 212807127267. 3
- 212807127268. 4

Question Number : 437 Question Id : 21280731817 Question Type : MCQ Option Shuffling : No Is Question Mandatory : No Calculator : None
Response Time : N.A Think Time : N.A Minimum Instruction Time : 0

Correct Marks : 5 Wrong Marks : 1

Question Key Details :

Key	Value
Comprehension	MCQ

चीनी के उत्पादन में, गन्ना _____ है।

- (1) एक अन्तिम वस्तु
- (2) एक पूँजीगत वस्तु
- (3) एक मध्यवर्ती वस्तु
- (4) एक उपभोक्ता वस्तु

Options :

212807127265. 1
212807127266. 2
212807127267. 3
212807127268. 4

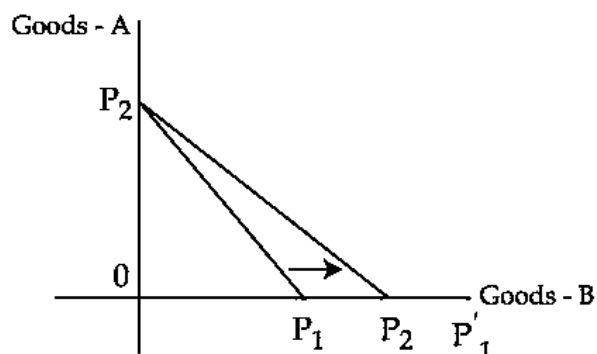
Question Number : 438 Question Id : 21280731818 Question Type : MCQ Option Shuffling : No Is Question Mandatory : No Calculator : None
Response Time : N.A Think Time : N.A Minimum Instruction Time : 0

Correct Marks : 5 Wrong Marks : 1

Question Key Details :

Key	Value
Comprehension	MCQ

In this diagram, budget line goes flatter from $P_1 P_2$ to $P_2 P'_1$. The reason for budget line being flatter is :



- (1) No change Goods-B price.
- (2) Goods-B price increases
- (3) Goods-B price decreases
- (4) Goods-A price decreases

Options :

212807127269. 1
212807127270. 2
212807127271. 3
212807127272. 4

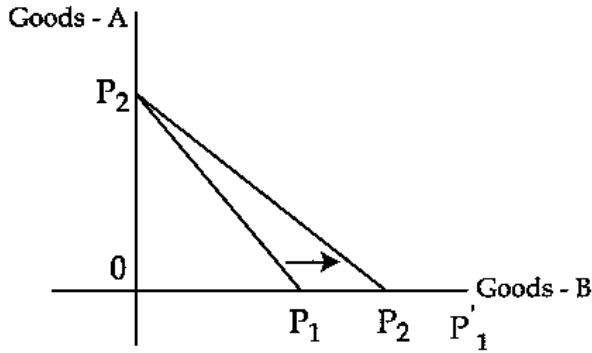
Question Number : 438 Question Id : 21280731818 Question Type : MCQ Option Shuffling : No Is Question Mandatory : No Calculator : None
Response Time : N.A Think Time : N.A Minimum Instruction Time : 0

Correct Marks : 5 Wrong Marks : 1

Question Key Details :

Key	Value
Comprehension	MCQ

नीचे दिए गए रेखाचित्र में बजट रेखा $P_1 P_2$ से $P_2 P'_1$ की सपाट जाती है। बजट रेखा के सपाट होने का कारण :



- (1) वस्तु-B की कीमत का अपरिवर्तनशील होना
- (2) वस्तु-B की कीमत में वृद्धि
- (3) वस्तु-B की कीमत में कमी
- (4) वस्तु-A की कीमत में कमी

Options :

212807127269. 1
 212807127270. 2
 212807127271. 3
 212807127272. 4

Question Number : 439 Question Id : 21280731819 Question Type : MCQ Option Shuffling : No Is Question Mandatory : No Calculator : None
 Response Time : N.A Think Time : N.A Minimum Instruction Time : 0

Correct Marks : 5 Wrong Marks : 1

Question Key Details :

Key	Value
Comprehension	MCQ

Which of the following is not a part of money supply ?

- (1) Reserve money
- (2) E-wallets
- (3) Saving deposits
- (4) Recurring deposits

Options :

212807127273. 1
 212807127274. 2
 212807127275. 3
 212807127276. 4

Question Number : 439 Question Id : 21280731819 Question Type : MCQ Option Shuffling : No Is Question Mandatory : No Calculator : None
 Response Time : N.A Think Time : N.A Minimum Instruction Time : 0

Correct Marks : 5 Wrong Marks : 1

Question Key Details :

Key	Value
Comprehension	MCQ

निम्नलिखित में से कौन मुद्रा आपूर्ति का हिस्सा नहीं है ?

- (1) सुरक्षित मुद्रा
- (2) इ-वालेटस मुद्रा
- (3) बचत जमाएं
- (4) आवर्ति जमाएं (Recurring deposits)

Options :

212807127273. 1
212807127274. 2
212807127275. 3
212807127276. 4

Question Number : 440 Question Id : 21280731820 Question Type : MCQ Option Shuffling : No Is Question Mandatory : No Calculator : None
Response Time : N.A Think Time : N.A Minimum Instruction Time : 0

Correct Marks : 5 Wrong Marks : 1

Question Key Details :

Key	Value
Comprehension	MCQ

A student of economics has recorded following transactions under revenue receipts, Identify the incorrect item recorded by her, if any :

- (1) Duties levied on goods produced within country
- (2) Value of goods produced by government undertakings
- (3) Dividend received on investments made by government
- (4) Cash grants in aid received from foreign countries

Options :

212807127277. 1
212807127278. 2
212807127279. 3
212807127280. 4

Question Number : 440 Question Id : 21280731820 Question Type : MCQ Option Shuffling : No Is Question Mandatory : No Calculator : None
Response Time : N.A Think Time : N.A Minimum Instruction Time : 0

Correct Marks : 5 Wrong Marks : 1

Question Key Details :

Key	Value
Comprehension	MCQ

एक अर्थशास्त्र के छात्र द्वारा राजस्व प्राप्तियों को दर्शाने के लिए निम्नलिखित मदों के लेनदेन को शामिल किया गया है। इन में से गलत मद की पहचान करके उत्तर दीजिए :

- (1) भारत में उत्पादित वस्तुओं पर शुल्क लगाना।
- (2) सरकार के अन्तर्गत आने वाले उपक्रमों के उत्पाद का मूल्य।
- (3) सरकार द्वारा किए गए निवेश पर प्राप्त लाभांश।
- (4) विदेशों से नकद के रूप में प्राप्त सहायता।

Options :

212807127277. 1
212807127278. 2
212807127279. 3
212807127280. 4

Question Number : 441 Question Id : 21280731821 Question Type : MCQ Option Shuffling : No Is Question Mandatory : No Calculator : None
Response Time : N.A Think Time : N.A Minimum Instruction Time : 0

Correct Marks : 5 Wrong Marks : 1



Question Key Details :

Key	Value
Comprehension	MCQ

The first industrial policy resolution (IPR) in independent India was introduced in year _____.

- (1) 1948
- (2) 1984
- (3) 1958
- (4) 2000

Options :

212807127281. 1
212807127282. 2
212807127283. 3
212807127284. 4

Question Number : 441 Question Id : 21280731821 Question Type : MCQ Option Shuffling : No Is Question Mandatory : No Calculator : None Response Time : N.A Think Time : N.A Minimum Instruction Time : 0

Correct Marks : 5 Wrong Marks : 1

Question Key Details :

Key	Value
Comprehension	MCQ

स्वतंत्र भारत में प्रथम औद्योगिक नीति प्रस्ताव _____ वर्ष में लागू किया गया था।

- (1) 1948
- (2) 1984
- (3) 1958
- (4) 2000

Options :

212807127281. 1
212807127282. 2
212807127283. 3
212807127284. 4

Question Number : 442 Question Id : 21280731822 Question Type : MCQ Option Shuffling : No Is Question Mandatory : No Calculator : None Response Time : N.A Think Time : N.A Minimum Instruction Time : 0

Correct Marks : 5 Wrong Marks : 1

Question Key Details :

Key	Value
Comprehension	MCQ

Regulation of markets aim to create orderly and transparent marketing conditions. Name the group that has been benefited from this :

- (1) Consumers
- (2) Midlemen
- (3) Consumers and farmers
- (4) Agents and traders

Options :

212807127285. 1
212807127286. 2
212807127287. 3
212807127288. 4

Question Number : 442 Question Id : 21280731822 Question Type : MCQ Option Shuffling : No Is Question Mandatory : No Calculator : None Response Time : N.A Think Time : N.A Minimum Instruction Time : 0

Correct Marks : 5 Wrong Marks : 1

Question Key Details :



Key	Value
Comprehension	MCQ

नियमित बाजार व्यवस्था का उद्देश्य बाजार की स्थिति को पारदर्शी तथा सुचारू रूप से संचालन है। उस समूह का नाम बताए जिसे इसका लाभ प्राप्त होता है।

- (1) उपभोक्ता गण
- (2) मध्यस्थ
- (3) उपभोक्ता और किसान
- (4) एजेंट और व्यापारी

Options :

212807127285. 1
212807127286. 2
212807127287. 3
212807127288. 4

Question Number : 443 Question Id : 21280731823 Question Type : MCQ Option Shuffling : No Is Question Mandatory : No Calculator : None Response Time : N.A Think Time : N.A Minimum Instruction Time : 0

Correct Marks : 5 Wrong Marks : 1

Question Key Details :

Key	Value
Comprehension	MCQ

The difference between national income and domestic income is _____. Choose the correct answer from the following.

- (1) Net indirect taxes
- (2) Net factor income from abroad
- (3) Consumption of fixed capital
- (4) Intermediate goods

Options :

212807127289. 1
212807127290. 2
212807127291. 3
212807127292. 4

Question Number : 443 Question Id : 21280731823 Question Type : MCQ Option Shuffling : No Is Question Mandatory : No Calculator : None Response Time : N.A Think Time : N.A Minimum Instruction Time : 0

Correct Marks : 5 Wrong Marks : 1

Question Key Details :

Key	Value
Comprehension	MCQ

राष्ट्रीय आय और घरेलू आय में अन्तर _____ होता है। नीचे दिए गए वाक्यों में से सही उत्तर का चयन कीजिए।

- (1) निक्ल अप्रत्यक्ष कर
- (2) शेष विश्व से प्राप्त शुद्ध साधन आय
- (3) स्थिर पूँजी का उपयोग
- (4) मध्यवर्ती वस्तुएं

Options :

212807127289. 1
212807127290. 2
212807127291. 3
212807127292. 4

Question Number : 444 Question Id : 21280731824 Question Type : MCQ Option Shuffling : No Is Question Mandatory : No Calculator : None
Response Time : N.A Think Time : N.A Minimum Instruction Time : 0

Correct Marks : 5 Wrong Marks : 1

Question Key Details :

Key	Value
Comprehension	MCQ

Identify the correct statements from the following :

- (A) When central bank buys securities without any promise to sell them later is called injecting
- (B) Open market operations in buying and selling of securities by the commercial bank
- (C) Open market operation leads to a change in bank rate
- (D) When central bank sells securities without any promise to buy them later is called injecting
- (E) RBI influences money supply through open market operations

Choose the correct answer from the options given below :

- (1) (A) and (E) only
- (2) (A) and (D) only
- (3) (E) and (D) only
- (4) (B) and (C) only

Options :

212807127293. 1

212807127294. 2

212807127295. 3

212807127296. 4

Question Number : 444 Question Id : 21280731824 Question Type : MCQ Option Shuffling : No Is Question Mandatory : No Calculator : None
Response Time : N.A Think Time : N.A Minimum Instruction Time : 0

Correct Marks : 5 Wrong Marks : 1

Question Key Details :

Key	Value
Comprehension	MCQ

नीचे दिए गए निम्नलिखित कथनों में से सही कथन की पहचान कीजिए :

- (A) जब केन्द्रीय बैंक प्रतिभूतियों को खरीदता है तथा इनको दोबारा बाद में बेचने का कोई वायदा नहीं करती, इसे द्रव्य का प्रतिस्थापन कहते हैं।
- (B) व्यावसायिक बैंको द्वारा खुले बाजार की क्रिया में प्रतिभूतियों को खरीदा तथा बेचा जाता है।
- (C) खुले बाजार की क्रियाओं की भूमिका बैंक दर को परिवर्तित करती है।
- (D) जब केन्द्रीय बैंक प्रतिभूतियों को बेचता है तथा दोबारा बाद में खरीदने का वायदा नहीं करता, उसे द्रव्य का प्रतिस्थापन कहते हैं।
- (E) खुले बाजार क्रियाओं द्वारा RBI मुद्रा पूर्ति को प्रभावित करता है।

नीचे दिए गए विकल्पों में से सही उत्तर का चयन कीजिए :

- (1) केवल (A) और (E)
- (2) केवल (A) और (D)
- (3) केवल (E) और (D)
- (4) केवल (B) और (C)

Options :

212807127293. 1

212807127294. 2

212807127295. 3
212807127296. 4

Question Number : 445 Question Id : 21280731825 Question Type : MCQ Option Shuffling : No Is Question Mandatory : No Calculator : None
Response Time : N.A Think Time : N.A Minimum Instruction Time : 0

Correct Marks : 5 Wrong Marks : 1

Question Key Details :

Key	Value
Comprehension	MCQ

In India, Fiscal Responsibility and Budget Management Act, (FRBMA) was enacted in the year _____.

- (1) 2000
- (2) 2003
- (3) 2009
- (4) 2005

Options :

212807127297. 1
212807127298. 2
212807127299. 3
212807127300. 4

Question Number : 445 Question Id : 21280731825 Question Type : MCQ Option Shuffling : No Is Question Mandatory : No Calculator : None
Response Time : N.A Think Time : N.A Minimum Instruction Time : 0

Correct Marks : 5 Wrong Marks : 1

Question Key Details :

Key	Value
Comprehension	MCQ

भारत में राजकोषीय उत्तर दायित्व और बजटीय प्रबंधन अधिनियम (FRBMA) वर्ष _____ में लागू किया गया था।

- (1) 2000
- (2) 2003
- (3) 2009
- (4) 2005

Options :

212807127297. 1
212807127298. 2
212807127299. 3
212807127300. 4

Question Number : 446 Question Id : 21280731826 Question Type : MCQ Option Shuffling : No Is Question Mandatory : No Calculator : None
Response Time : N.A Think Time : N.A Minimum Instruction Time : 0

Correct Marks : 5 Wrong Marks : 1

Question Key Details :

Key	Value
Comprehension	MCQ

Match List - I with List - II.

List - I

- (A) Export of goods and services
(B) Trade surplus
(C) Current transfers to rest of the world
(D) Portfolio investment

List - II

- (I) Excess of export of goods over import of goods
(II) An element of invisible item
(III) Recorded in credit side the current account BOP
(IV) Foreign institutional investment

Choose the correct answer from the options given below :

- (1) (A)-(I), (B)-(II), (C)-(IV), (D)-(III)
(2) (A)-(III), (B)-(II), (C)-(I), (D)-(IV)
(3) (A)-(I), (B)-(II), (C)-(III), (D)-(IV)
(4) (A)-(III), (B)-(I), (C)-(II), (D)-(IV)

Options :

212807127301. 1
212807127302. 2
212807127303. 3
212807127304. 4

Question Number : 446 Question Id : 21280731826 Question Type : MCQ Option Shuffling : No Is Question Mandatory : No Calculator : None
Response Time : N.A Think Time : N.A Minimum Instruction Time : 0

Correct Marks : 5 Wrong Marks : 1

Question Key Details :

Key	Value
Comprehension	MCQ

सूची-I से सूची-II का मिलान कीजिए :

सूची-I

- (A) वस्तुओं और सेवाओं का निर्यात
(B) व्यापार अधिशेष
(C) शेष विश्व की चालू अन्तरण
(D) संविभाग निवेश

सूची-II

- (I) आयातित वस्तुओं से निर्यातित वस्तुओं का अधिक होना
(II) अदृश्य मदों वाले तत्व
(III) BOP के चालू खाता के अन्तर्गत जमा की तरफ शामिल होना
(IV) विदेशी संस्थागत निवेश

नीचे दिए गए विकल्पों में से सही उत्तर का चयन कीजिए :

- (1) (A)-(I), (B)-(II), (C)-(IV), (D)-(III)
(2) (A)-(III), (B)-(II), (C)-(I), (D)-(IV)
(3) (A)-(I), (B)-(II), (C)-(III), (D)-(IV)
(4) (A)-(III), (B)-(I), (C)-(II), (D)-(IV)

Options :

212807127301. 1
212807127302. 2
212807127303. 3
212807127304. 4

Question Number : 447 Question Id : 21280731827 Question Type : MCQ Option Shuffling : No Is Question Mandatory : No Calculator : None
Response Time : N.A Think Time : N.A Minimum Instruction Time : 0

Correct Marks : 5 Wrong Marks : 1

Question Key Details :

Key	Value
-----	-------



Arrange the correct sequence on the basis of the year of introduction :

- (A) New agriculture strategy
- (B) First industrial policy in India
- (C) Second industrial policy in India
- (D) Commission of agriculture cost and price

Choose the correct answer from the options given below :

- (1) (A), (D), (B), (C)
- (2) (B), (D), (A), (C)
- (3) (C), (B), (D), (A)
- (4) (B), (C), (A), (D)

Options :

- 212807127305. 1
- 212807127306. 2
- 212807127307. 3
- 212807127308. 4

Question Number : 447 Question Id : 21280731827 Question Type : MCQ Option Shuffling : No Is Question Mandatory : No Calculator : None
Response Time : N.A Think Time : N.A Minimum Instruction Time : 0
Correct Marks : 5 Wrong Marks : 1

Question Key Details :

Key	Value
Comprehension	MCQ

निम्नलिखित को उनके लागू होने वर्ष के आधार पर उचित काल क्रम में निर्धारित कीजिए :

- (A) नयी कृषि नीति
- (B) भारत में प्रथम औद्योगिक नीति
- (C) भारत में द्वितीय औद्योगिक नीति
- (D) कृषि लागत और कीमत आयोग

नीचे दिए गए विकल्पों में से सही उत्तर का चयन कीजिए :

- (1) (A), (D), (B), (C)
- (2) (B), (D), (A), (C)
- (3) (C), (B), (D), (A)
- (4) (B), (C), (A), (D)

Options :

- 212807127305. 1
- 212807127306. 2
- 212807127307. 3
- 212807127308. 4

Question Number : 448 Question Id : 21280731828 Question Type : MCQ Option Shuffling : No Is Question Mandatory : No Calculator : None
Response Time : N.A Think Time : N.A Minimum Instruction Time : 0
Correct Marks : 5 Wrong Marks : 1

Question Key Details :

Key	Value
Comprehension	MCQ

The aim of the instruments that initiated to improve the marketing aspect is :

- (1) To increase income inequalities
- (2) To increase the national income
- (3) Providing the food grains at a subsidised price to the poor
- (4) Providing the food grains at a higher price

Options :

212807127309. 1
212807127310. 2
212807127311. 3
212807127312. 4

Question Number : 448 Question Id : 21280731828 Question Type : MCQ Option Shuffling : No Is Question Mandatory : No Calculator : None
Response Time : N.A Think Time : N.A Minimum Instruction Time : 0

Correct Marks : 5 Wrong Marks : 1

Question Key Details :

Key	Value
Comprehension	MCQ

बाजार के स्वरूप को विकशित करने के लिए प्रयोग में आने वाले साधनों का उद्देश्य होता है :

- (1) आय की असमानता को बढ़ाना।
- (2) राष्ट्रीय आय में वृद्धि होना।
- (3) गरीबों को सहायता प्राप्त निम्न दर पर खाद्य अनाजों को उपलब्ध कराना।
- (4) उच्चतर कीमत पर खाद्य अनाजों को उपलब्ध कराना।

Options :

212807127309. 1
212807127310. 2
212807127311. 3
212807127312. 4

Question Number : 449 Question Id : 21280731829 Question Type : MCQ Option Shuffling : No Is Question Mandatory : No Calculator : None
Response Time : N.A Think Time : N.A Minimum Instruction Time : 0

Correct Marks : 5 Wrong Marks : 1

Question Key Details :

Key	Value
Comprehension	MCQ

Nation is a lender to other countries means :

- (1) Surplus current account
- (2) Deficit current account
- (3) Trade surplus
- (4) Trade deficit

Options :

212807127313. 1
212807127314. 2
212807127315. 3
212807127316. 4

Question Number : 449 Question Id : 21280731829 Question Type : MCQ Option Shuffling : No Is Question Mandatory : No Calculator : None
Response Time : N.A Think Time : N.A Minimum Instruction Time : 0

Correct Marks : 5 Wrong Marks : 1

Question Key Details :

Key	Value
Comprehension	MCQ

राष्ट्र दूसरे देशों का ऋण दाता है का अर्थ है :

- (1) अधिशेष चालू खाता
- (2) घाटे का चालू खाता
- (3) ब्यापार अधिशेष
- (4) ब्यापार घाटा

Options :

212807127313. 1
212807127314. 2
212807127315. 3
212807127316. 4

Question Number : 450 Question Id : 21280731830 Question Type : MCQ Option Shuffling : No Is Question Mandatory : No Calculator : None
Response Time : N.A Think Time : N.A Minimum Instruction Time : 0

Correct Marks : 5 Wrong Marks : 1

Question Key Details :

Key	Value
Comprehension	MCQ

What is the General shape of Demand curve ?

- (1) Upward sloping straight line
- (2) A line parallel to x-axis
- (3) Generally downward sloping to all normal goods
- (4) A line parallel to y-axis

Options :

212807127317. 1
212807127318. 2
212807127319. 3
212807127320. 4

Question Number : 450 Question Id : 21280731830 Question Type : MCQ Option Shuffling : No Is Question Mandatory : No Calculator : None
Response Time : N.A Think Time : N.A Minimum Instruction Time : 0

Correct Marks : 5 Wrong Marks : 1

Question Key Details :

Key	Value
Comprehension	MCQ

मांग वक्र का सामान्य रूप से आकार क्या होता है ?

- (1) ऊर्ध्व की और ढलान सीधी रेखा
- (2) x-अक्ष के समानान्तर एक रेखा
- (3) सभी सामान्य वस्तुएं जहाँ नीचे की और ढलान
- (4) y-अक्ष के समानान्तर एक रेखा

Options :

212807127317. 1
212807127318. 2
212807127319. 3
212807127320. 4

Question Number : 451 Question Id : 21280731831 Question Type : MCQ Option Shuffling : No Is Question Mandatory : No Calculator : None
Response Time : N.A Think Time : N.A Minimum Instruction Time : 0

Correct Marks : 5 Wrong Marks : 1

Question Key Details :

Key	Value
-----	-------



Choose right statement of flows :

- (1) Referred yearly or monthly
- (2) Time period is not mentioned
- (3) Defined at a particular point of time
- (4) Over a period of time

Options :

212807127321. 1
212807127322. 2
212807127323. 3
212807127324. 4

Question Number : 451 Question Id : 21280731831 Question Type : MCQ Option Shuffling : No Is Question Mandatory : No Calculator : None
Response Time : N.A Think Time : N.A Minimum Instruction Time : 0

Correct Marks : 5 Wrong Marks : 1

Question Key Details :

Key	Value
Comprehension	MCQ

प्रवाह के लिए सही कथन का चुनाव कीजिए :

- (1) वार्षिक या मासिक के रूप में उल्लेख होता है।
- (2) एक समयावधि को शामिल नहीं किया गया है।
- (3) परिभाषा किसी निश्चित समय पर की जाती है।
- (4) एक समयावधि के लिए परिभाषित किया जाता है।

Options :

212807127321. 1
212807127322. 2
212807127323. 3
212807127324. 4

Question Number : 452 Question Id : 21280731832 Question Type : MCQ Option Shuffling : No Is Question Mandatory : No Calculator : None
Response Time : N.A Think Time : N.A Minimum Instruction Time : 0

Correct Marks : 5 Wrong Marks : 1

Question Key Details :

Key	Value
Comprehension	MCQ

The process of selling off part of equity of PSE is called :

- (1) Nationalisation
- (2) Disinvestment
- (3) Restructuring
- (4) Shutting down

Options :

212807127325. 1
212807127326. 2
212807127327. 3
212807127328. 4

Question Number : 452 Question Id : 21280731832 Question Type : MCQ Option Shuffling : No Is Question Mandatory : No Calculator : None
Response Time : N.A Think Time : N.A Minimum Instruction Time : 0

Correct Marks : 5 Wrong Marks : 1

Question Key Details :

Key	Value
Comprehension	MCQ



PSE की इक्वीटी के कुछ हिस्से को बेचने की प्रक्रिया को कहा जाता है :

- (1) राष्ट्रीयकरण
- (2) विनिवेश
- (3) पुनःढांचागत निर्माण
- (4) बन्द करना

Options :

212807127325. 1
212807127326. 2
212807127327. 3
212807127328. 4

Question Number : 453 Question Id : 21280731833 Question Type : MCQ Option Shuffling : No Is Question Mandatory : No Calculator : None
Response Time : N.A Think Time : N.A Minimum Instruction Time : 0

Correct Marks : 5 Wrong Marks : 1

Question Key Details :

Key	Value
Comprehension	MCQ

Arrange the correct sequence according to the year of Establishment/Commencement.

- (A) Niti Aayog
- (B) First five year plan
- (C) Planning Commission
- (D) Period of Plan holiday
- (E) Foundation of British colonial rule in India

Choose the **correct** answer from the options given below :

- (1) (E), (C), (B), (D), (A)
- (2) (C), (B), (D), (E), (A)
- (3) (E), (B), (C), (A), (D)
- (4) (B), (C), (D), (E), (A)

Options :

212807127329. 1
212807127330. 2
212807127331. 3
212807127332. 4

Question Number : 453 Question Id : 21280731833 Question Type : MCQ Option Shuffling : No Is Question Mandatory : No Calculator : None
Response Time : N.A Think Time : N.A Minimum Instruction Time : 0

Correct Marks : 5 Wrong Marks : 1

Question Key Details :

Key	Value
Comprehension	MCQ

निम्नलिखित कार्यों के प्रारम्भ के वर्षों को कालक्रम के अनुसार निर्धारित कीजिए :

- (A) नीति आयोग
- (B) प्रथम पंच वर्षीय योजना
- (C) योजना आयोग
- (D) योजना अवकाश का वर्ष (Period of Plan holiday)
- (E) भारत में ब्रिटिश उपनिवेशी शासन की स्थापना

नीचे दिए गए विकल्पों में से सही उत्तर का चयन कीजिए :

- (1) (E), (C), (B), (D), (A)
- (2) (C), (B), (D), (E), (A)
- (3) (E), (B), (C), (A), (D)
- (4) (B), (C), (D), (E), (A)

Options :

- 212807127329. 1
- 212807127330. 2
- 212807127331. 3
- 212807127332. 4

Question Number : 454 Question Id : 21280731834 Question Type : MCQ Option Shuffling : No Is Question Mandatory : No Calculator : None
Response Time : N.A Think Time : N.A Minimum Instruction Time : 0

Correct Marks : 5 Wrong Marks : 1

Question Key Details :

Key	Value
Comprehension	MCQ

One of the following function is performed by the government if it intervenes either to expand demand or to reduce it. Select the correct answer.

- (1) Allocation function
- (2) Redistribution function
- (3) Stabilisation function
- (4) Public provision

Options :

- 212807127333. 1
- 212807127334. 2
- 212807127335. 3
- 212807127336. 4

Question Number : 454 Question Id : 21280731834 Question Type : MCQ Option Shuffling : No Is Question Mandatory : No Calculator : None
Response Time : N.A Think Time : N.A Minimum Instruction Time : 0

Correct Marks : 5 Wrong Marks : 1

Question Key Details :

Key	Value
Comprehension	MCQ

सरकार का हस्तक्षेप चाहे वह मांग का विस्तार करने के लिए हो अथवा कम करने के लिए, उस कार्य को कहा जाता है _____ । सही उत्तर का चुनाव कीजिए :

- (1) आबंटन कार्य
- (2) पुनः आबंटन कार्य
- (3) स्थिरीकरण कार्य
- (4) जन योजना या प्रवन्ध

Options :

212807127333. 1
212807127334. 2
212807127335. 3
212807127336. 4

Question Number : 455 Question Id : 21280731835 Question Type : MCQ Option Shuffling : No Is Question Mandatory : No Calculator : None
Response Time : N.A Think Time : N.A Minimum Instruction Time : 0

Correct Marks : 5 Wrong Marks : 1

Question Key Details :

Key	Value
Comprehension	MCQ

The government budget of a hypothetical economy presents the following information :

- (A) Revenue expenditure = ₹ 25,000 crores
- (B) Capital expenditure = ₹ 35,000 crores
- (C) Capital receipt = ₹ 30,000 crores
- (D) Revenue receipt = ₹ 20,000 crores
- (E) Interest payment = ₹ 10,000 crores
- (F) Borrowings = ₹ 20,000 crores

Which of the following is Budget Deficit ?

- (1) ₹ 12,000 crores
- (2) ₹ 10,000 crores
- (3) ₹ 20,000 crores
- (4) ₹ 5,000 crores

Options :

212807127337. 1
212807127338. 2
212807127339. 3
212807127340. 4

Question Number : 455 Question Id : 21280731835 Question Type : MCQ Option Shuffling : No Is Question Mandatory : No Calculator : None
Response Time : N.A Think Time : N.A Minimum Instruction Time : 0

Correct Marks : 5 Wrong Marks : 1

Question Key Details :

Key	Value
Comprehension	MCQ

सरकारी बजट एक कल्पना आधारित अर्थव्यवस्था की निम्नलिखित सूचना के आधार पर प्रदर्शित होती है।

- (A) राजस्व व्यय = ₹ 25,000 करोड़
- (B) पूँजीगत व्यय = ₹ 35,000 करोड़
- (C) पूँजीगत प्राप्तियाँ = ₹ 30,000 करोड़
- (D) राजस्व प्राप्तियाँ = ₹ 20,000 करोड़
- (E) ब्याज भुगतान = ₹ 10,000 करोड़
- (F) उधार/कर्ज = ₹ 20,000 करोड़

निम्नलिखित में से बजट घाटा कौन सा है ?

- (1) ₹ 12,000 करोड़
- (2) ₹ 10,000 करोड़
- (3) ₹ 20,000 करोड़
- (4) ₹ 5,000 करोड़

Options :

- 212807127337. 1
- 212807127338. 2
- 212807127339. 3
- 212807127340. 4

Question Number : 456 Question Id : 21280731836 Question Type : MCQ Option Shuffling : No Is Question Mandatory : No Calculator : None
Response Time : N.A Think Time : N.A Minimum Instruction Time : 0

Correct Marks : 5 Wrong Marks : 1

Question Key Details :

Key	Value
Comprehension	MCQ

Functions of central bank are :

- (A) SLR
- (B) CRR
- (C) Open market operations
- (D) Banker's Bank
- (E) Issue of currency

Choose the correct answer from the options given below :

- (1) (D) and (E) only
- (2) (A) and (C) only
- (3) (C) and (D) only
- (4) (A) and (E) only

Options :

- 212807127341. 1
- 212807127342. 2
- 212807127343. 3
- 212807127344. 4

Question Number : 456 Question Id : 21280731836 Question Type : MCQ Option Shuffling : No Is Question Mandatory : No Calculator : None
Response Time : N.A Think Time : N.A Minimum Instruction Time : 0

Correct Marks : 5 Wrong Marks : 1

Question Key Details :

Key	Value
-----	-------



केन्द्रीय बैंक का कार्य है :

- (A) SLR
- (B) CRR
- (C) खुली बाजार क्रियाएं
- (D) बैंको का बैंक
- (E) मुद्रा का निर्गमन

नीचे दिए गए विकल्पों में से सही उत्तर का चयन कीजिए :

- (1) केवल (D) और (E)
- (2) केवल (A) और (C)
- (3) केवल (C) और (D)
- (4) केवल (A) और (E)

Options :

- 212807127341. 1
- 212807127342. 2
- 212807127343. 3
- 212807127344. 4

Question Number : 457 Question Id : 21280731837 Question Type : MCQ Option Shuffling : No Is Question Mandatory : No Calculator : None Response Time : N.A Think Time : N.A Minimum Instruction Time : 0

Correct Marks : 5 Wrong Marks : 1

Question Key Details :

Key	Value
Comprehension	MCQ

The Book "All Enquiry into the nature and causes of the Wealth of Nations" written by :

- (1) John Maynarel Keynes
- (2) Adam Smith
- (3) Marshal
- (4) Pigan

Options :

- 212807127345. 1
- 212807127346. 2
- 212807127347. 3
- 212807127348. 4

Question Number : 457 Question Id : 21280731837 Question Type : MCQ Option Shuffling : No Is Question Mandatory : No Calculator : None Response Time : N.A Think Time : N.A Minimum Instruction Time : 0

Correct Marks : 5 Wrong Marks : 1

Question Key Details :

Key	Value
Comprehension	MCQ

द बुक "इन इन्क्वायरी इन्टू द नेचर एंड काउज ऑफ दे वेल्थ ऑफ नेशंस" की रचनाकार है :

- (1) जॉन मयनार्ड कीन्स
- (2) एडम स्मिथ
- (3) मार्शल
- (4) पीगन



Options :

212807127345. 1
 212807127346. 2
 212807127347. 3
 212807127348. 4

Question Number : 458 Question Id : 21280731838 Question Type : MCQ Option Shuffling : No Is Question Mandatory : No Calculator : None
 Response Time : N.A Think Time : N.A Minimum Instruction Time : 0

Correct Marks : 5 Wrong Marks : 1

Question Key Details :

Key	Value
Comprehension	MCQ

Match List - I with List - II.**List - I**

- (A) Goods used in production process and are durable in character
 (B) Inputs for production
 (C) Machines in a factory
 (D) Annual profits

List - II

- (I) Intermediate goods
 (II) Flows
 (III) Capital goods
 (IV) Stocks

Choose the correct answer from the options given below :

- (1) (A)-(I), (B)-(II), (C)-(III), (D)-(IV)
 (2) (A)-(I), (B)-(III), (C)-(II), (D)-(IV)
 (3) (A)-(I), (B)-(III), (C)-(IV), (D)-(II)
 (4) (A)-(III), (B)-(I), (C)-(IV), (D)-(II)

Options :

212807127349. 1
 212807127350. 2
 212807127351. 3
 212807127352. 4

Question Number : 458 Question Id : 21280731838 Question Type : MCQ Option Shuffling : No Is Question Mandatory : No Calculator : None
 Response Time : N.A Think Time : N.A Minimum Instruction Time : 0

Correct Marks : 5 Wrong Marks : 1

Question Key Details :

Key	Value
Comprehension	MCQ

सूची-I से सूची-II का मिलान कीजिए :

सूची-I

- (A) उत्पादन प्रक्रिया में प्रयोग की गई वस्तुएं टिकाऊ प्रकृति की होती हैं।
 (B) उत्पादन के लिए प्रयोग होने वाली वस्तुएं
 (C) कारखाने में मशीनों का उपयोग
 (D) वार्षिक लाभ

सूची-II

- (I) मध्यवर्ती वस्तुएं
 (II) प्रवाह
 (III) पूँजीगत वस्तुएं
 (IV) स्टॉक

नीचे दिए गए विकल्पों में से सही उत्तर का चयन कीजिए :

- (1) (A)-(I), (B)-(II), (C)-(III), (D)-(IV)
 (2) (A)-(I), (B)-(III), (C)-(II), (D)-(IV)
 (3) (A)-(I), (B)-(III), (C)-(IV), (D)-(II)
 (4) (A)-(III), (B)-(I), (C)-(IV), (D)-(II)



Options :

212807127349. 1
 212807127350. 2
 212807127351. 3
 212807127352. 4

Question Number : 459 Question Id : 21280731839 Question Type : MCQ Option Shuffling : No Is Question Mandatory : No Calculator : None
 Response Time : N.A Think Time : N.A Minimum Instruction Time : 0

Correct Marks : 5 Wrong Marks : 1

Question Key Details :

Key	Value
Comprehension	MCQ

Which of the following is not true for capital receipts ?

- (1) They are regular and recurring in nature
- (2) They either create any liability or reduce any asset of government
- (3) E.g Loans and Borrowings
- (4) They relate to future obligation to return or disinvestment of assets

Options :

212807127353. 1
 212807127354. 2
 212807127355. 3
 212807127356. 4

Question Number : 459 Question Id : 21280731839 Question Type : MCQ Option Shuffling : No Is Question Mandatory : No Calculator : None
 Response Time : N.A Think Time : N.A Minimum Instruction Time : 0

Correct Marks : 5 Wrong Marks : 1

Question Key Details :

Key	Value
Comprehension	MCQ

निम्नलिखित में से कौन से कथन पूँजीगत प्राप्तियों के संदर्भ में सही नहीं है ?

- (1) स्वाभाविक रूप में वे नियमित और आवर्ती होती है।
- (2) वे सरकार की ऐसी सभी प्राप्तियाँ जिन से देयता पैदा या वित्तीय संपतियाँ कम हो।
- (3) कर्ज और उधार।
- (4) संपत्ति का विनिवेश भविष्य में देयता या अदायगी की जिम्मेदारी होती है।

Options :

212807127353. 1
 212807127354. 2
 212807127355. 3
 212807127356. 4

Question Number : 460 Question Id : 21280731840 Question Type : MCQ Option Shuffling : No Is Question Mandatory : No Calculator : None
 Response Time : N.A Think Time : N.A Minimum Instruction Time : 0

Correct Marks : 5 Wrong Marks : 1

Question Key Details :

Key	Value
Comprehension	MCQ

Which of the following definition is correct answer of the production possibility set of the economy ?

- (1) The collection of all possible combination of the goods and services that can not be produced a fixed amount
- (2) The collection of all possible combinations of goods and services that can be produced from a given amount of resources and a given stock of technological knowledge
- (3) The combination of different type of goods and its utilisation are related with each other
- (4) The combination of all goods and its resources creates the production possibility curve

Options :

212807127357. 1
212807127358. 2
212807127359. 3
212807127360. 4

Question Number : 460 Question Id : 21280731840 Question Type : MCQ Option Shuffling : No Is Question Mandatory : No Calculator : None
Response Time : N.A Think Time : N.A Minimum Instruction Time : 0

Correct Marks : 5 Wrong Marks : 1

Question Key Details :

Key	Value
Comprehension	MCQ

निम्नलिखित में से अर्थव्यवस्था के उत्पादन सम्भावना सेट की सही परिभाषा का चुनाव कीजिए।

- (1) उपलब्ध संसाधनों की मात्रा तथा वस्तु एवम् सेवाओं के सभी सम्भावित संयोगों के सहयोग से एक निश्चित मात्रा का उत्पादन नहीं होता है।
- (2) उपलब्ध संसाधनों की मात्रा तथा उपलब्ध प्रौद्योगिकी ज्ञान के द्वारा उत्पादित की जा सकने वाली सभी वस्तुओं तथा सेवाओं के सभी संभावित संयोगों के समूह की कहते हैं।
- (3) विभिन्न प्रकार की वस्तुओं के संयोगों एवम् उसकी उपयोगिता एक-दूसरे से जुड़ी होती है।
- (4) सभी वस्तुओं और उनके संसाधनों के संयोगों से उत्पादन सम्भावना वक्र निर्मित होता है।

Options :

212807127357. 1
212807127358. 2
212807127359. 3
212807127360. 4

Question Number : 461 Question Id : 21280731841 Question Type : MCQ Option Shuffling : No Is Question Mandatory : No Calculator : None
Response Time : N.A Think Time : N.A Minimum Instruction Time : 0

Correct Marks : 5 Wrong Marks : 1

Question Key Details :

Key	Value
Comprehension	MCQ

China's Economic Development-Policies implemented - Arrange in order

- (A) Great leap forward
- (B) Nationalization of Enterprises and Land
- (C) Great Proletarian Cultural Revolution
- (D) Five year plan
- (E) Special Economic Zone

Choose the correct answer from the options given below :

- (1) (B), (C), (A), (D), (E)
- (2) (B), (A), (D), (C), (E)
- (3) (B), (D), (A), (C), (E)
- (4) (A), (E), (B), (D), (C)

Options :

- 212807127361. 1
- 212807127362. 2
- 212807127363. 3
- 212807127364. 4

Question Number : 461 Question Id : 21280731841 Question Type : MCQ Option Shuffling : No Is Question Mandatory : No Calculator : None Response Time : N.A Think Time : N.A Minimum Instruction Time : 0

Correct Marks : 5 Wrong Marks : 1

Question Key Details :

Key	Value
Comprehension	MCQ

चीन की आर्थिक विकास नीति लागू के उपाय - इसे क्रमानुसार व्यवस्थित कीजिए :

- (A) ग्रेट लीप फारवर्ड
- (B) उपक्रमों एवम् भूमि का राष्ट्रीकरण
- (C) महान सर्वहारा सांस्कृतिक क्रांति
- (D) पंच वर्षीय योजना
- (E) विशेष आर्थिक क्षेत्र

नीचे दिए गए विकल्पों में से सही उत्तर का चयन कीजिए :

- (1) (B), (C), (A), (D), (E)
- (2) (B), (A), (D), (C), (E)
- (3) (B), (D), (A), (C), (E)
- (4) (A), (E), (B), (D), (C)

Options :

- 212807127361. 1
- 212807127362. 2
- 212807127363. 3
- 212807127364. 4

Question Number : 462 Question Id : 21280731842 Question Type : MCQ Option Shuffling : No Is Question Mandatory : No Calculator : None Response Time : N.A Think Time : N.A Minimum Instruction Time : 0

Correct Marks : 5 Wrong Marks : 1

Question Key Details :

Key	Value
Comprehension	MCQ

Make a correct chronological sequence of following.

- (A) Establishment of TISCO
- (B) First Population census
- (C) Zamindari system
- (D) Opening of Suez canal
- (E) Introduction of railways

Choose the correct answer from the options given below :

- (1) (A), (B), (C), (D), (E)
- (2) (B), (A), (C), (D), (E)
- (3) (C), (D), (E), (A), (B)
- (4) (C), (E), (D), (B), (A)

Options :

- 212807127365. 1
- 212807127366. 2
- 212807127367. 3
- 212807127368. 4

Question Number : 462 Question Id : 21280731842 Question Type : MCQ Option Shuffling : No Is Question Mandatory : No Calculator : None Response Time : N.A Think Time : N.A Minimum Instruction Time : 0

Correct Marks : 5 Wrong Marks : 1

Question Key Details :

Key	Value
Comprehension	MCQ

निम्नलिखित को कालक्रमानुसार व्यवस्थित कीजिए :

- (A) TISCO की स्थापना
- (B) प्रथम जन गणना
- (C) जमींदारी प्रथा
- (D) स्वेज नहर का आवागमन के लिए खुलना
- (E) रेलवे की स्थापना

नीचे दिए गए विकल्पों में से सही उत्तर का चयन कीजिए :

- (1) (A), (B), (C), (D), (E)
- (2) (B), (A), (C), (D), (E)
- (3) (C), (D), (E), (A), (B)
- (4) (C), (E), (D), (B), (A)

Options :

- 212807127365. 1
- 212807127366. 2
- 212807127367. 3
- 212807127368. 4

Question Number : 463 Question Id : 21280731843 Question Type : MCQ Option Shuffling : No Is Question Mandatory : No Calculator : None Response Time : N.A Think Time : N.A Minimum Instruction Time : 0

Correct Marks : 5 Wrong Marks : 1

Question Key Details :

Key	Value
Comprehension	MCQ

Direct tax is called direct because it is collected directly from _____.

- (1) The producer on goods purchased
- (2) The sellers on goods sold
- (3) The buyers of goods
- (4) The income earners

Options :

212807127369. 1
212807127370. 2
212807127371. 3
212807127372. 4

Question Number : 463 Question Id : 21280731843 Question Type : MCQ Option Shuffling : No Is Question Mandatory : No Calculator : None
Response Time : N.A Think Time : N.A Minimum Instruction Time : 0

Correct Marks : 5 Wrong Marks : 1

Question Key Details :

Key	Value
Comprehension	MCQ

प्रत्यक्ष कर को प्रत्यक्ष कहते हैं क्योंकि यह _____ से प्रत्यक्ष रूप से प्राप्त होता है।

- (1) उत्पादक जो वस्तुएं खरीदता है।
- (2) विक्रेता जो वस्तुएं बेचता है।
- (3) वस्तुओं को खरीदने वाला।
- (4) आय अर्जित करने वाले।

Options :

212807127369. 1
212807127370. 2
212807127371. 3
212807127372. 4

Question Number : 464 Question Id : 21280731844 Question Type : MCQ Option Shuffling : No Is Question Mandatory : No Calculator : None
Response Time : N.A Think Time : N.A Minimum Instruction Time : 0

Correct Marks : 5 Wrong Marks : 1

Question Key Details :

Key	Value
Comprehension	MCQ

When total utility remains constant the value of marginal utility is _____.

- (1) Maximum
- (2) Zero
- (3) Negative
- (4) Minimum

Options :

212807127373. 1
212807127374. 2
212807127375. 3
212807127376. 4

Question Number : 464 Question Id : 21280731844 Question Type : MCQ Option Shuffling : No Is Question Mandatory : No Calculator : None
Response Time : N.A Think Time : N.A Minimum Instruction Time : 0

Correct Marks : 5 Wrong Marks : 1

Question Key Details :

Key	Value
Comprehension	MCQ

जब कुल उपयोगिता स्थिर होती है तो सीमान्त उपयोगिता _____ होगी।

- (1) अधिकतम
- (2) शून्य
- (3) ऋणात्मक
- (4) निम्नतम

Options :

212807127373. 1

212807127374. 2

212807127375. 3

212807127376. 4

Question Number : 465 Question Id : 21280731845 Question Type : MCQ Option Shuffling : No Is Question Mandatory : No Calculator : None
Response Time : N.A Think Time : N.A Minimum Instruction Time : 0

Correct Marks : 5 Wrong Marks : 1

Question Key Details :

Key	Value
Comprehension	MCQ

Identify the correct statements from the following :

- (A) Deforestation means planting of more and more trees
- (B) Deforestation leads to biodiversity loss
- (C) Deforestation contributes in the GDP of the country
- (D) Deforestation leads to noise pollution
- (E) Environment degradation is induced by poverty in India

Choose the **correct** answer from the options given below :

- (1) (A) and (B) only
- (2) (D) and (E) only
- (3) (B) and (E) only
- (4) (C) and (E) only

Options :

212807127377. 1

212807127378. 2

212807127379. 3

212807127380. 4

Question Number : 465 Question Id : 21280731845 Question Type : MCQ Option Shuffling : No Is Question Mandatory : No Calculator : None
Response Time : N.A Think Time : N.A Minimum Instruction Time : 0

Correct Marks : 5 Wrong Marks : 1

Question Key Details :

Key	Value
Comprehension	MCQ

निम्न लिखित में से सही कथन की पहचान कीजिए :

- (A) अवन्यीकरण का अर्थ अधिक से अधिक वृक्षारेपण करना।
- (B) अवन्यीकरण जैव विविधता को समाप्त करता है।
- (C) अवन्यीकरण देश के सकल घरेलू उत्पादन में सहयोग करता है।
- (D) अवन्यीकरण ध्वनि प्रदूषण को बढ़ाता है।
- (E) भारत में गरीबी द्वारा पर्यावरण का निम्नीकरण (क्षय) होता है।

नीचे दिए गए विकल्पों में से सही उत्तर का चयन कीजिए :

- (1) केवल (A) और (B)
- (2) केवल (D) और (E)
- (3) केवल (B) और (E)
- (4) केवल (C) और (E)

Options :

- 212807127377. 1
- 212807127378. 2
- 212807127379. 3
- 212807127380. 4

Question Number : 466 Question Id : 21280731846 Question Type : MCQ Option Shuffling : No Is Question Mandatory : No Calculator : None Response Time : N.A Think Time : N.A Minimum Instruction Time : 0

Correct Marks : 5 Wrong Marks : 1

Question Key Details :

Key	Value
Comprehension	MCQ

What is the other name of the central problem of economy-For whom to produce ?

- (1) Problem of distribution
- (2) Problem of allocation of resources
- (3) Problem of quantities of production
- (4) Problem of choice of techniques

Options :

- 212807127381. 1
- 212807127382. 2
- 212807127383. 3
- 212807127384. 4

Question Number : 466 Question Id : 21280731846 Question Type : MCQ Option Shuffling : No Is Question Mandatory : No Calculator : None Response Time : N.A Think Time : N.A Minimum Instruction Time : 0

Correct Marks : 5 Wrong Marks : 1

Question Key Details :

Key	Value
Comprehension	MCQ

अर्थव्यवस्था की केन्द्रीय समस्या - 'उत्पादन किसके लिए किया जाय' का दूसरा नाम क्या है ?

- (1) वितरण की समस्या
- (2) संसाधनों के आंबंटन की समस्या
- (3) उत्पादन की मात्रा की समस्या
- (4) तकनीक के चुनाव की समस्या

Options :

212807127381. 1
212807127382. 2
212807127383. 3
212807127384. 4

Question Number : 467 Question Id : 21280731847 Question Type : MCQ Option Shuffling : No Is Question Mandatory : No Calculator : None
Response Time : N.A Think Time : N.A Minimum Instruction Time : 0

Correct Marks : 5 Wrong Marks : 1

Question Key Details :

Key	Value
Comprehension	MCQ

_____ is the rate at which RBI borrows money from Commercial Banks.

- (1) Bank Rate
- (2) Reverse Repo Rate
- (3) Repo Rate
- (4) Cash Reserve Ratio

Options :

212807127385. 1
212807127386. 2
212807127387. 3
212807127388. 4

Question Number : 467 Question Id : 21280731847 Question Type : MCQ Option Shuffling : No Is Question Mandatory : No Calculator : None
Response Time : N.A Think Time : N.A Minimum Instruction Time : 0

Correct Marks : 5 Wrong Marks : 1

Question Key Details :

Key	Value
Comprehension	MCQ

(RBI) केन्द्रीय बैंक द्वारा व्यावसायिक बैंको को उधार _____ की दर पर दिया जाता है।

- (1) बैंक दर
- (2) उल्ट रेपो रेट
- (3) रेपो रेट
- (4) नकद कोष अनुपात

Options :

212807127385. 1
212807127386. 2
212807127387. 3
212807127388. 4

Question Number : 468 Question Id : 21280731848 Question Type : MCQ Option Shuffling : No Is Question Mandatory : No Calculator : None
Response Time : N.A Think Time : N.A Minimum Instruction Time : 0

Correct Marks : 5 Wrong Marks : 1

Question Key Details :

Key	Value
Comprehension	MCQ

Borrowings in government budget shows _____ deficit.

- (1) Primary
- (2) Revenue
- (3) Fiscal
- (4) Secondary

Options :

212807127389. 1

212807127390. 2
212807127391. 3
212807127392. 4

Question Number : 468 Question Id : 21280731848 Question Type : MCQ Option Shuffling : No Is Question Mandatory : No Calculator : None
Response Time : N.A Think Time : N.A Minimum Instruction Time : 0

Correct Marks : 5 Wrong Marks : 1

Question Key Details :

Key	Value
Comprehension	MCQ

सरकारी बजट में उधार/ऋण दर्शाता है _____ धाटा।

- (1) प्राथमिक
- (2) राजस्व
- (3) राजकोषीय
- (4) द्वितीयक

Options :

212807127389. 1
212807127390. 2
212807127391. 3
212807127392. 4

Question Number : 469 Question Id : 21280731849 Question Type : MCQ Option Shuffling : No Is Question Mandatory : No Calculator : None
Response Time : N.A Think Time : N.A Minimum Instruction Time : 0

Correct Marks : 5 Wrong Marks : 1

Question Key Details :

Key	Value
Comprehension	MCQ

GDP at factor cost may be derived from using one of the following formula. Choose the correct.

- (1) $GDP_{FC} = GDP_{MP} - NFIA$
- (2) $GDP_{FC} = GDP_{MP} - NIT$
- (3) $GDP_{FC} = GDP_{MP} - Depr$
- (4) $GDP_{FC} = GDP_{MP} + NFIA$

Options :

212807127393. 1
212807127394. 2
212807127395. 3
212807127396. 4

Question Number : 469 Question Id : 21280731849 Question Type : MCQ Option Shuffling : No Is Question Mandatory : No Calculator : None
Response Time : N.A Think Time : N.A Minimum Instruction Time : 0

Correct Marks : 5 Wrong Marks : 1

Question Key Details :

Key	Value
Comprehension	MCQ

निम्नलिखित सूत्रों में से साधन लागत पर सकल घरेलू उत्पाद (GDP_{FC}) की गणना की जा सकती है। सही उत्तर का चुनाव कीजिए :

- (1) $GDP_{FC} = GDP_{MP} - NFIA$
- (2) $GDP_{FC} = GDP_{MP} - NIT$
- (3) $GDP_{FC} = GDP_{MP} - Depr$
- (4) $GDP_{FC} = GDP_{MP} + NFIA$

Options :



212807127393. 1
212807127394. 2
212807127395. 3
212807127396. 4

Question Number : 470 Question Id : 21280731850 Question Type : MCQ Option Shuffling : No Is Question Mandatory : No Calculator : None
Response Time : N.A Think Time : N.A Minimum Instruction Time : 0

Correct Marks : 5 Wrong Marks : 1

Question Key Details :

Key	Value
Comprehension	MCQ

Among the followings which is not included in Capital Account Balance ?

- (1) Gifts and Donations
- (2) Flow of Banking Capital
- (3) Flow of Gold
- (4) Loans

Options :

212807127397. 1
212807127398. 2
212807127399. 3
212807127400. 4

Question Number : 470 Question Id : 21280731850 Question Type : MCQ Option Shuffling : No Is Question Mandatory : No Calculator : None
Response Time : N.A Think Time : N.A Minimum Instruction Time : 0

Correct Marks : 5 Wrong Marks : 1

Question Key Details :

Key	Value
Comprehension	MCQ

निम्नलिखित में से किसको पूंजीगत खाता शेष में शामिल नहीं किया जाता है ?

- (1) गिफ्ट्स और अनुदान
- (2) बैंक की पूँजी का प्रवाह
- (3) स्वर्ण का प्रवाह
- (4) कर्ज/ऋण

Options :

212807127397. 1
212807127398. 2
212807127399. 3
212807127400. 4

Question Number : 471 Question Id : 21280731851 Question Type : MCQ Option Shuffling : No Is Question Mandatory : No Calculator : None
Response Time : N.A Think Time : N.A Minimum Instruction Time : 0

Correct Marks : 5 Wrong Marks : 1

Question Key Details :

Key	Value
Comprehension	MCQ

The first and foremost role of money is that it acts as a :

- (1) Unit of account
- (2) Medium of exchange
- (3) Standard of deferred payment
- (4) Store of value

Options :

212807127401. 1

212807127402. 2
212807127403. 3
212807127404. 4

Question Number : 471 Question Id : 21280731851 Question Type : MCQ Option Shuffling : No Is Question Mandatory : No Calculator : None
Response Time : N.A Think Time : N.A Minimum Instruction Time : 0

Correct Marks : 5 Wrong Marks : 1

Question Key Details :

Key	Value
Comprehension	MCQ

प्रथम तथा सर्व प्रमुख मुद्रा की भूमिका किस रूप में होती है ?

- (1) इकाई का मापक
- (2) विनिमय का माध्यम
- (3) भविष्य के भुगतान के रूप में
- (4) संचय के रूप में

Options :

212807127401. 1
212807127402. 2
212807127403. 3
212807127404. 4

Question Number : 472 Question Id : 21280731852 Question Type : MCQ Option Shuffling : No Is Question Mandatory : No Calculator : None
Response Time : N.A Think Time : N.A Minimum Instruction Time : 0

Correct Marks : 5 Wrong Marks : 1

Question Key Details :

Key	Value
Comprehension	MCQ

Match List - I with List - II.

List - I

- (A) Balance of Trade
- (B) Balance of payment
- (C) Net invisibles
- (D) Balance on capital accounts

List - II

- (I) International transaction related to financial assets
- (II) Export and import of services
- (III) Goods, Service and Transaction in assests
- (IV) Export and import of goods

Choose the **correct** answer from the options given below :

- (1) (A)-(I), (B)-(III), (C)-(II), (D)-(IV)
- (2) (A)-(IV), (B)-(III), (C)-(II), (D)-(I)
- (3) (A)-(II), (B)-(III), (C)-(IV), (D)-(I)
- (4) (A)-(I), (B)-(IV), (C)-(II), (D)-(III)

Options :

212807127405. 1
212807127406. 2
212807127407. 3
212807127408. 4

Question Number : 472 Question Id : 21280731852 Question Type : MCQ Option Shuffling : No Is Question Mandatory : No Calculator : None
Response Time : N.A Think Time : N.A Minimum Instruction Time : 0

Correct Marks : 5 Wrong Marks : 1

Question Key Details :

Key	Value
Comprehension	MCQ

सूची-I से सूची-II का मिलान कीजिए :

सूची-I

सूची-II

- | | |
|-------------------------|---|
| (A) व्यापार शेष | (I) आर्थिक सम्पत्तियों से सम्बन्धित अन्तर-राष्ट्रीय लेन-देन |
| (B) भुगतान शेष | (II) सेवाओं का निर्यात और आयात |
| (C) निवल अदृश्य | (III) वस्तुओं, सेवाओं और परिसम्पत्तियों का लेन-देन |
| (D) पूँजीगत खाता का शेष | (IV) वस्तुओं का निर्यात और आयात |

नीचे दिए गए विकल्पों में से सही उत्तर का चयन कीजिए :

- (1) (A)-(I), (B)-(III), (C)-(II), (D)-(IV)
- (2) (A)-(IV), (B)-(III), (C)-(II), (D)-(I)
- (3) (A)-(II), (B)-(III), (C)-(IV), (D)-(I)
- (4) (A)-(I), (B)-(IV), (C)-(II), (D)-(III)

Options :

212807127405. 1
212807127406. 2
212807127407. 3
212807127408. 4

Question Number : 473 Question Id : 21280731853 Question Type : MCQ Option Shuffling : No Is Question Mandatory : No Calculator : None
Response Time : N.A Think Time : N.A Minimum Instruction Time : 0

Correct Marks : 5 Wrong Marks : 1

Question Key Details :

Key	Value
Comprehension	MCQ

The British rule in India led to _____.

- (A) Collapse of India's world famous Handicraft industry
- (B) Development of Modern industry
- (C) Development of Railways
- (D) Growth of education sector

Choose the correct answer from the options given below :

- (1) (A), and (C) only
- (2) (A), and (B) only
- (3) (C), and (D) only
- (4) (B), and (C) only

Options :

212807127409. 1
212807127410. 2
212807127411. 3
212807127412. 4

Question Number : 473 Question Id : 21280731853 Question Type : MCQ Option Shuffling : No Is Question Mandatory : No Calculator : None
Response Time : N.A Think Time : N.A Minimum Instruction Time : 0

Correct Marks : 5 Wrong Marks : 1

Question Key Details :

Key	Value
Comprehension	MCQ

भारत में ब्रिटिश शासन का प्रभाव _____ ।

- (A) भारत के विश्व प्रसिद्ध हस्तशिल्प उद्योग का पतन
- (B) आधुनिक उद्योग का विकास
- (C) रेलवे का विकास
- (D) शिक्षा के क्षेत्र का विकास

नीचे दिए गए विकल्पों में से सही उत्तर का चयन कीजिए :

- (1) केवल (A), और (C)
- (2) केवल (A), और (B)
- (3) केवल (C), और (D)
- (4) केवल (B), और (C)

Options :

- 212807127409. 1
- 212807127410. 2
- 212807127411. 3
- 212807127412. 4

Question Number : 474 Question Id : 21280731854 Question Type : MCQ Option Shuffling : No Is Question Mandatory : No Calculator : None
Response Time : N.A Think Time : N.A Minimum Instruction Time : 0

Correct Marks : 5 Wrong Marks : 1

Question Key Details :

Key	Value
Comprehension	MCQ

Which is not a part of progress of china ?

- (1) Great leap forward
- (2) One child norm
- (3) Capitalist economy
- (4) Commune system

Options :

- 212807127413. 1
- 212807127414. 2
- 212807127415. 3
- 212807127416. 4

Question Number : 474 Question Id : 21280731854 Question Type : MCQ Option Shuffling : No Is Question Mandatory : No Calculator : None
Response Time : N.A Think Time : N.A Minimum Instruction Time : 0

Correct Marks : 5 Wrong Marks : 1

Question Key Details :

Key	Value
Comprehension	MCQ

निम्नलिखित में से कौन चीन के विकास से हिस्सा नहीं है ?

- (1) ग्रेट लीप फारवर्ड
- (2) एक शिशु नीति
- (3) पूँजीवादी अर्थव्यवस्था
- (4) कम्यून व्यवस्था

Options :

- 212807127413. 1

212807127414. 2
212807127415. 3
212807127416. 4

Question Number : 475 Question Id : 21280731855 Question Type : MCQ Option Shuffling : No Is Question Mandatory : No Calculator : None
Response Time : N.A Think Time : N.A Minimum Instruction Time : 0

Correct Marks : 5 Wrong Marks : 1

Question Key Details :

Key	Value
Comprehension	MCQ

Match List - I with List - II.

List - I

- (A) Institution that accept public deposits
- (B) The central Bank of India
- (C) Function of a Central bank
- (D) Function of Commercial bank

List - II

- (I) Issuance of currency notes
- (II) Acceptance of deposit from public
- (III) Reserve bank of India
- (IV) Commercial bank

Choose the correct answer from the options given below :

- (1) (A)-(IV), (B)-(I), (C)-(II), (D)-(III)
- (2) (A)-(IV), (B)-(III), (C)-(I), (D)-(II)
- (3) (A)-(II), (B)-(III), (C)-(IV), (D)-(I)
- (4) (A)-(I), (B)-(III), (C)-(II), (D)-(IV)

Options :

212807127417. 1
212807127418. 2
212807127419. 3
212807127420. 4

Question Number : 475 Question Id : 21280731855 Question Type : MCQ Option Shuffling : No Is Question Mandatory : No Calculator : None
Response Time : N.A Think Time : N.A Minimum Instruction Time : 0

Correct Marks : 5 Wrong Marks : 1

Question Key Details :

Key	Value
Comprehension	MCQ

सूची-I से सूची-II का मिलान कीजिए :

सूची-I

- (A) संस्था जो जनता की जमा स्वीकार करता है
- (B) भारतीय रिजर्व बैंक
- (C) केन्द्रीय बैंक का कार्य
- (D) व्यावसायिक बैंक का कार्य

सूची-II

- (I) मुद्रा का निर्गमन
- (II) जनता के जमा को स्वीकार करना
- (III) भारतीय रिजर्व बैंक
- (IV) व्यावसायिक बैंक

नीचे दिए गए विकल्पों में से सही उत्तर का चयन कीजिए :

- (1) (A)-(IV), (B)-(I), (C)-(II), (D)-(III)
- (2) (A)-(IV), (B)-(III), (C)-(I), (D)-(II)
- (3) (A)-(II), (B)-(III), (C)-(IV), (D)-(I)
- (4) (A)-(I), (B)-(III), (C)-(II), (D)-(IV)

Options :

212807127417. 1
212807127418. 2
212807127419. 3

212807127420. 4

Sub-Section Number : 2
Sub-Section Id : 2128072512
Question Shuffling Allowed : No
Is Section Default? : null

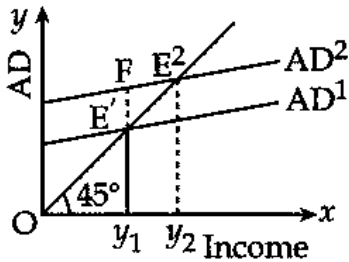
Question Number : 476 Question Id : 21280731856 Question Type : MCQ Option Shuffling : No Is Question Mandatory : No Calculator : None
Response Time : N.A Think Time : N.A Minimum Instruction Time : 0

Correct Marks : 5 Wrong Marks : 1

Question Key Details :

Key	Value
Comprehension	Comp1

Based on the following diagram answer the question :



The gap E'F in the diagram indicate _____.

- (1) Deficient demand
- (2) Equilibrium income
- (3) Excess demand
- (4) Full employment level of output

Options :

- 212807127421. 1
- 212807127422. 2
- 212807127423. 3
- 212807127424. 4

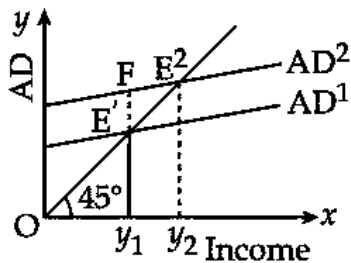
Question Number : 476 Question Id : 21280731856 Question Type : MCQ Option Shuffling : No Is Question Mandatory : No Calculator : None
Response Time : N.A Think Time : N.A Minimum Instruction Time : 0

Correct Marks : 5 Wrong Marks : 1

Question Key Details :

Key	Value
Comprehension	Comp1

दिए गए मानचित्र (आरेख) के आधार पर प्रश्न का उत्तर दीजिए :



रेखाचित्र में $E'F$ का गैप/अन्तर दर्शाता है _____ ।

- (1) न्यून माँग (Deficient demand)
- (2) साम्य आय (Equilibrium income)
- (3) अत्यधिक माँग
- (4) पूर्ण रोजगार का स्तर

Options :

212807127421. 1
212807127422. 2
212807127423. 3
212807127424. 4

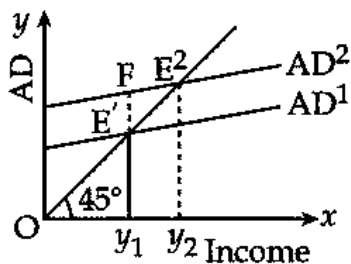
Question Number : 477 Question Id : 21280731857 Question Type : MCQ Option Shuffling : No Is Question Mandatory : No Calculator : None
Response Time : N.A Think Time : N.A Minimum Instruction Time : 0

Correct Marks : 5 Wrong Marks : 1

Question Key Details :

Key	Value
Comprehension	Compl

Based on the following diagram answer the question :



Given initial investment is ₹ 200 crores and $MPC = 0.8$. If autonomous investment increases by ₹ 50 crores, the income will increase by ₹ _____ crores.

- (1) 150
- (2) 200
- (3) 250
- (4) 300

Options :

212807127425. 1
212807127426. 2
212807127427. 3
212807127428. 4

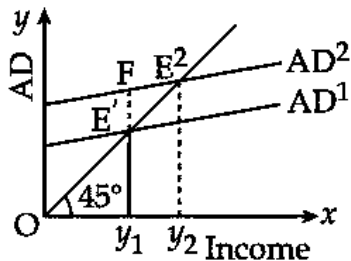
Question Number : 477 Question Id : 21280731857 Question Type : MCQ Option Shuffling : No Is Question Mandatory : No Calculator : None
Response Time : N.A Think Time : N.A Minimum Instruction Time : 0

Correct Marks : 5 Wrong Marks : 1

Question Key Details :

Key	Value
Comprehension	Comp1

दिए गए मानचित्र (आरेख) के आधार पर प्रश्न का उत्तर दीजिए :



प्रारम्भिक निवेश ₹ 200 करोड़ और $MPC = 0.8$ है। यदि स्वायत्त निवेश में ₹ 50 करोड़ की वृद्धि होती है, तो आय में वृद्धि ₹ _____ करोड़ की होगी।

- (1) 150
- (2) 200
- (3) 250
- (4) 300

Options :

212807127425. 1
212807127426. 2
212807127427. 3
212807127428. 4

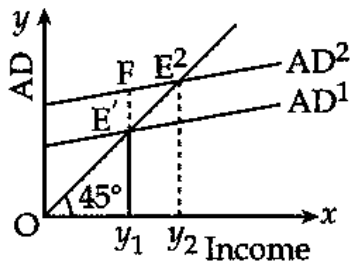
Question Number : 478 Question Id : 21280731858 Question Type : MCQ Option Shuffling : No Is Question Mandatory : No Calculator : None Response Time : N.A Think Time : N.A Minimum Instruction Time : 0

Correct Marks : 5 Wrong Marks : 1

Question Key Details :

Key	Value
Comprehension	Comp1

Based on the following diagram answer the question :



Identify the correct statement from the following statements :

- (1) MPS and investment multiplier are directly related to each other
- (2) MPS and investment multiplier are inversely related to each other
- (3) MPC and investment multiplier are directly related to each other
- (4) MPC and MPS both have no relation with investment multiplier

Options :

212807127429. 1
212807127430. 2
212807127431. 3
212807127432. 4

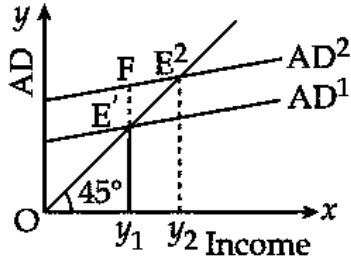
Question Number : 478 Question Id : 21280731858 Question Type : MCQ Option Shuffling : No Is Question Mandatory : No Calculator : None Response Time : N.A Think Time : N.A Minimum Instruction Time : 0

Correct Marks : 5 Wrong Marks : 1

Question Key Details :

Key	Value
Comprehension	Comp1

दिए गए मानचित्र (आरेख) के आधार पर प्रश्न का उत्तर दीजिए :



निम्नलिखित कथनों से सही कथन की पहचान कीजिए :

- (1) MPS और निवेश गुणक एक दूसरे से प्रत्यक्ष रूप से सम्बन्धित है।
- (2) MPS और निवेश गुणक एक दूसरे से प्रतिलोम जुड़े होते हैं।
- (3) MPC और निवेश गुणक एक दूसरे से प्रत्यक्ष जुड़े होते हैं।
- (4) MPC और MPS का निवेश गुणक से सम्बन्ध नहीं होता है।

Options :

212807127429. 1
212807127430. 2
212807127431. 3
212807127432. 4

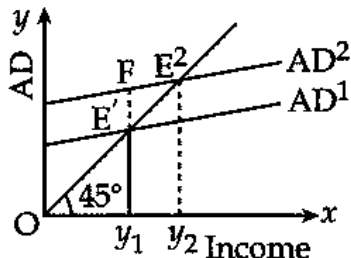
Question Number : 479 Question Id : 21280731859 Question Type : MCQ Option Shuffling : No Is Question Mandatory : No Calculator : None Response Time : N.A Think Time : N.A Minimum Instruction Time : 0

Correct Marks : 5 Wrong Marks : 1

Question Key Details :

Key	Value
Comprehension	Comp1

Based on the following diagram answer the question :



To deal with the gap E'F, the central Bank will _____.

- (1) Decrease the Bank Rate
- (2) Decrease the cash reserve ratio
- (3) Decrease the Repo rate
- (4) Sells securities in the open market

Options :

212807127433. 1
212807127434. 2

212807127435. 3
212807127436. 4

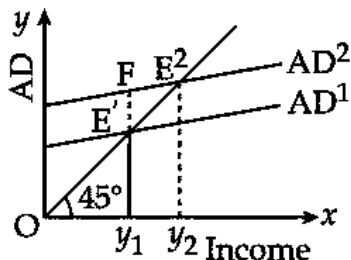
Question Number : 479 Question Id : 21280731859 Question Type : MCQ Option Shuffling : No Is Question Mandatory : No Calculator : None
Response Time : N.A Think Time : N.A Minimum Instruction Time : 0

Correct Marks : 5 Wrong Marks : 1

Question Key Details :

Key	Value
Comprehension	Comp1

दिए गए मानचित्र (आरेख) के आधार पर प्रश्न का उत्तर दीजिए :



केन्द्रीय बैंक के द्वारा E'F का गैप (अन्तर) होने पर _____ दिया जाएगा।

- (1) बैंक दर में कमी
- (2) नकद कोष अनुपात में कमी
- (3) रेपो रोट में कमी
- (4) खुले बाजार में प्रतिभूतियों की विक्री

Options :

212807127433. 1
212807127434. 2
212807127435. 3
212807127436. 4

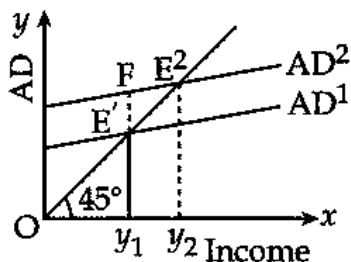
Question Number : 480 Question Id : 21280731860 Question Type : MCQ Option Shuffling : No Is Question Mandatory : No Calculator : None
Response Time : N.A Think Time : N.A Minimum Instruction Time : 0

Correct Marks : 5 Wrong Marks : 1

Question Key Details :

Key	Value
Comprehension	Comp1

Based on the following diagram answer the question :



Identify the reason for shifting of the Aggregate Demand (AD) curve from AD¹ to AD².

- (1) Increase in savings by households
- (2) Increase in taxes by government
- (3) Increase in imports
- (4) Increase in investment

Options :

212807127437. 1
212807127438. 2
212807127439. 3
212807127440. 4

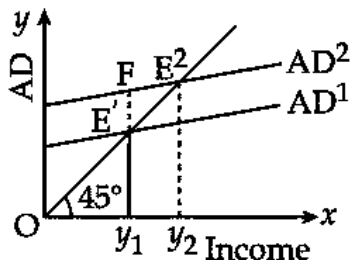
Question Number : 480 Question Id : 21280731860 Question Type : MCQ Option Shuffling : No Is Question Mandatory : No Calculator : None
Response Time : N.A Think Time : N.A Minimum Instruction Time : 0

Correct Marks : 5 Wrong Marks : 1

Question Key Details :

Key	Value
Comprehension	Comp1

दिए गए मानचित्र (आरेख) के आधार पर प्रश्न का उत्तर दीजिए :



समग्र माँग का AD^1 बक्र से AD^2 बक्र की तरफ खिसकने के कारण की पहचान कीजिए :

- (1) गृहस्थ द्वारा बचत में वृद्धि
- (2) सरकार द्वारा कर में वृद्धि
- (3) आयात में वृद्धि
- (4) निवेश में वृद्धि

Options :

212807127437. 1
212807127438. 2
212807127439. 3
212807127440. 4

Sub-Section Number :

3

Sub-Section Id :

2128072513

Question Shuffling Allowed :

No

Is Section Default? :

null

Question Number : 481 Question Id : 21280731861 Question Type : MCQ Option Shuffling : No Is Question Mandatory : No Calculator : None
Response Time : N.A Think Time : N.A Minimum Instruction Time : 0

Correct Marks : 5 Wrong Marks : 1

Question Key Details :

Key	Value
Comprehension	Comp2

Read the below paragraph carefully answer the question :

Case study-II

Poverty has many faces, which have been changing from place to place and across time and has been described in many ways. In pre-independent India, Dadabhai Naoroji was first to discuss the concept of poverty line. In post-independent India, there have been several attempts to work out a mechanism to identify the number of poor in the country. The official data on poverty is made to the public by the planning commission. It is estimated on the basis of consumption expenditure data collected by the National Sample Survey organisation. Most poverty alleviation programmes implemented are based on the perspective of the five year plans. The government has a variety of programmes to generate wage employment for the poor unskilled people living in rural area.

Which of the following is correct answer to discuss the concept of a poverty line in pre-independent India ?

- (1) Minimum expenditure cost
- (2) Jail cost living
- (3) Calculate expenditure on base price
- (4) Adult expenditure cost

Options :

212807127441. 1
212807127442. 2
212807127443. 3
212807127444. 4

Question Number : 481 Question Id : 21280731861 Question Type : MCQ Option Shuffling : No Is Question Mandatory : No Calculator : None
Response Time : N.A Think Time : N.A Minimum Instruction Time : 0

Correct Marks : 5 Wrong Marks : 1

Question Key Details :

Key	Value
Comprehension	Comp2

दिए गए अनुच्छेद के आधार पर प्रश्न का उत्तर दीजिए :

प्रकरण अध्ययन

निर्धनता के अनेको रूप है, जो समय के अनुसार तथा एक स्थान से दूसरे स्थान पर बदलता रहता है, जिसकी व्याख्या विभिन्न रूपों में की जा सकती है। स्वतंत्रता पूर्व भारत में सर्व प्रथम दादा भाई नौरजी ने निर्धनता-रेखा की अवधारणा पर विचार किया था। स्वतंत्रता प्राप्ति के बाद भारत में निर्धनता जनानुपात का आकलन के कई प्रयास किए गए। योजना आयोग के द्वारा निर्धनता से सम्बन्धित अधिकारिक आँकड़े दिए गए। इसका आकलन नेशनल सैम्पल सर्वे आर्गनाइजेशन द्वारा उपभोक्ता और व्यय के आधार पर किया गया। मुख्य निर्धनता उन्मूलन कार्यक्रमों को पंच वर्षीय योजनाओं के परिप्रेक्ष्य के आधार पर लागू किया गया। सरकार द्वारा अनेकों योजनाओं को ग्रामीण क्षेत्रों में रहने वाले अप्राशिक्षित निर्धनों के जीवन की सुधारने के लिए रोजगार तथा मजदूरी प्रदान करने की व्यवस्था की गयी है।

स्वतंत्रता पूर्व भारत में निर्धनता रेखा की अवधारण पर विचार करने के लिए दिए गए मर्दों में से सही उत्तर का चुनाव कीजिए :

- (1) निम्नतम व्यय लागत
- (2) जेल की निर्वाह लागत
- (3) (वेस) आधार कीमत पर व्यय की गणना
- (4) वयस्क व्यय लागत

Options :

212807127441. 1



212807127442. 2
212807127443. 3
212807127444. 4

Question Number : 482 Question Id : 21280731862 Question Type : MCQ Option Shuffling : No Is Question Mandatory : No Calculator : None
Response Time : N.A Think Time : N.A Minimum Instruction Time : 0

Correct Marks : 5 Wrong Marks : 1

Question Key Details :

Key	Value
Comprehension	Comp2

Read the below paragraph carefully answer the question :

Case study-II

Poverty has many faces, which have been changing from place to place and across time and has been described in many ways. In pre-independent India, Dadabhai Naoroji was first to discuss the concept of poverty line. In post-independent India, there have been several attempts to work out a mechanism to identify the number of poor in the country. The official data on poverty is made to the public by the planning commission. It is estimated on the basis of consumption expenditure data collected by the National Sample Survey organisation. Most poverty alleviation programmes implemented are based on the perspective of the five year plans. The government has a variety of programmes to generate wage employment for the poor unskilled people living in rural area.

When did the 'Task force on projections of minimum needs and effective consumption demand' form to identify the number of poor in our country ?

- (1) 1962
- (2) 1976
- (3) 1979
- (4) 1989

Options :

212807127445. 1
212807127446. 2
212807127447. 3
212807127448. 4

Question Number : 482 Question Id : 21280731862 Question Type : MCQ Option Shuffling : No Is Question Mandatory : No Calculator : None
Response Time : N.A Think Time : N.A Minimum Instruction Time : 0

Correct Marks : 5 Wrong Marks : 1

Question Key Details :

Key	Value
Comprehension	Comp2

दिए गए अनुच्छेद के आधार पर प्रश्न का उत्तर दीजिए :

प्रकरण अध्ययन

निर्धनता के अनेको रूप हैं, जो समय के अनुसार तथा एक स्थान से दूसरे स्थान पर बदलता रहता है, जिसकी व्याख्या विभिन्न रूपों में की जा सकती है। स्वतंत्रता पूर्व भारत में सर्व प्रथम दादा भाई नौरजी ने निर्धनता-रेखा की अवधारणा पर बिचार किया था। स्वतंत्रता प्राप्ति के बाद भारत में निर्धनता जनानुपात का आकलन के कई प्रयास किए गए। योजना आयोग के द्वारा निर्धनता से सम्बन्धित आधिकारिक आँकड़े दिए गए। इसका आकलन नेशनल सैम्पल सर्वे आर्गनाइजेशन द्वारा उपभोक्ता और व्यय के आधार पर किया गया। मुख्य निर्धनता उन्मूलन कार्यक्रमों को पंच वर्षीय योजनाओं के परिप्रेक्ष्य के आधार पर लागू किया गया। सरकार द्वारा अनेकों योजनाओं को ग्रामीण क्षेत्रों में रहने वाले अप्राशिक्षित निर्धनों के जीवन की सुधारने के लिए रोजगार तथा मजदूरी प्रदान करने की व्यवस्था की गयी है।

भारत में निर्धन लोगो की संख्या को प्राप्त करने के लिए 'प्रभावी उपयोग माँग और न्यूनतम आवश्यकता अनुमानन कधि बल' को कव गणित किया गया था ?

- (1) 1962
- (2) 1976
- (3) 1979
- (4) 1989

Options :

212807127445. 1
212807127446. 2
212807127447. 3
212807127448. 4

Question Number : 483 Question Id : 21280731863 Question Type : MCQ Option Shuffling : No Is Question Mandatory : No Calculator : None
Response Time : N.A Think Time : N.A Minimum Instruction Time : 0

Correct Marks : 5 Wrong Marks : 1

Question Key Details :

Key	Value
Comprehension	Comp2

Read the below paragraph carefully answer the question :

Case study-II

Poverty has many faces, which have been changing from place to place and across time and has been described in many ways. In pre-independent India, Dadabhai Naoroji was first to discuss the concept of poverty line. In post-independent India, there have been several attempts to work out a mechanism to identify the number of poor in the country. The official data on poverty is made to the public by the planning commission. It is estimated on the basis of consumption expenditure data collected by the National Sample Survey organisation. Most poverty alleviation programmes implemented are based on the perspective of the five year plans. The government has a variety of programmes to generate wage employment for the poor unskilled people living in rural area.

From 1973 to 2012 the poverty levels in some states were above the national poverty level. Choose the correct answer from the options :

- (1) Odisha, Bihar, Uttar pradesh and Assam
- (2) Odisha, Madhya pradesh, Bihar and Uttar pradesh
- (3) Bihar, Odisha, Assam and West Bengal
- (4) Bihar, Assam, Uttar pradesh and West Bengal

Options :

212807127449. 1
212807127450. 2
212807127451. 3
212807127452. 4

Question Number : 483 Question Id : 21280731863 Question Type : MCQ Option Shuffling : No Is Question Mandatory : No Calculator : None
Response Time : N.A Think Time : N.A Minimum Instruction Time : 0

Correct Marks : 5 Wrong Marks : 1

Question Key Details :

Key	Value
Comprehension	Comp2

दिए गए अनुच्छेद के आधार पर प्रश्न का उत्तर दीजिए :

प्रकरण अध्ययन

निर्धनता के अनेको रूप है, जो समय के अनुसार तथा एक स्थान से दूसरे स्थान पर बदलता रहता है, जिसकी व्याख्या विभिन्न रूपों में की जा सकती है। स्वतंत्रता पूर्व भारत में सर्व प्रथम दादा भाई नौरजी ने निर्धनता-रेखा की अवधारणा पर बिचार किया था। स्वतंत्रता प्राप्ति के बाद भारत में निर्धनता जनानुपात का आकलन के कई प्रयास किए गए। योजना आयोग के द्वारा निर्धनता से सम्बन्धित अधिकारिक आँकड़े दिए गए। इसका आकलन नेशनल सैम्पल सर्वे आर्गनाइजेशन द्वारा उपभोक्ता और व्यय के आधार पर किया गया। मुख्य निर्धनता उन्मूलन कार्यक्रमों को पंच वर्षीय योजनाओं के परिप्रेक्ष्य के आधार पर लागू किया गया। सरकार द्वारा अनेकों योजनाओं को ग्रामीण क्षेत्रों में रहने वाले अप्राशिक्षित निर्धनो के जीवन की सुधारने के लिए रोजगार तथा मजदूरी प्रदान करने की व्यवस्था की गयी है।

1973 से 2012 तक निर्धनता का स्तर कुछ राज्यों में राष्ट्रीय निर्धनता स्तर से ऊपर था। दिए गए विकल्पों में सही का चुनाव कीजिए :

- (1) उड़ीसा, बिहार, उत्तर प्रदेश और आसाम
- (2) उड़ीसा, मध्यप्रदेश, बिहार और उत्तर प्रदेश
- (3) बिहार, उड़ीसा, आसाम और पश्चिम बंगाल
- (4) बिहार, आसाम, उत्तर प्रदेश और पश्चिम बंगाल

Options :

212807127449. 1
212807127450. 2
212807127451. 3
212807127452. 4

Question Number : 484 Question Id : 21280731864 Question Type : MCQ Option Shuffling : No Is Question Mandatory : No Calculator : None
Response Time : N.A Think Time : N.A Minimum Instruction Time : 0

Correct Marks : 5 Wrong Marks : 1

Question Key Details :

Key	Value
Comprehension	Comp2

Read the below paragraph carefully answer the question :

Case study-II

Poverty has many faces, which have been changing from place to place and across time and has been described in many ways. In pre-independent India, Dadabhai Naoroji was first to discuss the concept of poverty line. In post-independent India, there have been several attempts to work out a mechanism to identify the number of poor in the country. The official data on poverty is made to the public by the planning commission. It is estimated on the basis of consumption expenditure data collected by the National Sample Survey organisation. Most poverty alleviation programmes implemented are based on the perspective of the five year plans. The government has a variety of programmes to generate wage employment for the poor unskilled people living in rural area.

Which of the following programme provides partial financial assistance to SHGs for self-employment activities ?

- (1) Swarnjayanti Gram Swarozgar Yojana
- (2) Prime minister's Rozgar Yojana
- (3) Self-employment programmes are Rural employment generation programme
- (4) National rural development mission

Options :

212807127453. 1
212807127454. 2
212807127455. 3
212807127456. 4

Question Number : 484 Question Id : 21280731864 Question Type : MCQ Option Shuffling : No Is Question Mandatory : No Calculator : None
Response Time : N.A Think Time : N.A Minimum Instruction Time : 0

Correct Marks : 5 Wrong Marks : 1

Question Key Details :

Key	Value
Comprehension	Comp2

दिए गए अनुच्छेद के आधार पर प्रश्न का उत्तर दीजिए :

प्रकरण अध्ययन

निर्धनता के अनेको रूप है, जो समय के अनुसार तथा एक स्थान से दूसरे स्थान पर बदलता रहता है, जिसकी व्याख्या विभिन्न रूपों में की जा सकती है। स्वतंत्रता पूर्व भारत में सर्व प्रथम दादा भाई नौरजी ने निर्धनता-रेखा की अवधारणा पर बिचार किया था। स्वतंत्रता प्राप्ति के बाद भारत में निर्धनता जनानुपात का आकलन के कई प्रयास किए गए। योजना आयोग के द्वारा निर्धनता से सम्बन्धित अधिकारिक आँकड़े दिए गए। इसका आकलन नेशनल सैम्पल सर्वे आर्गनाइजेशन द्वारा उपभोक्ता और व्यय के आधार पर किया गया। मुख्य निर्धनता उन्मूलन कार्यक्रमों को पंच वर्षीय योजनाओं के परिप्रेक्ष्य के आधार पर लागू किया गया। सरकार द्वारा अनेकों योजनाओं को ग्रामीण क्षेत्रों में रहने वाले अप्राशिक्षित निर्धनों के जीवन की सुधारने के लिए रोजगार तथा मजदूरी प्रदान करने की व्यवस्था की गयी है।

निम्नलिखित में कौन योजना स्व-रोजगार क्रिया-प्रणाली के अन्तर्गत SHGs को आर्थिक सहयोग प्रदान करता है ?

- (1) स्वर्ण जयन्ति ग्राम स्वरोजगार योजना
- (2) प्रधान मंत्री रोजगार योजना
- (3) ग्रामीण रोजगार सृजन योजना, स्व रोजगार योजना है
- (4) राष्ट्रीय ग्रामीण विकास मिशन

Options :

212807127453. 1



212807127454. 2
212807127455. 3
212807127456. 4

Question Number : 485 Question Id : 21280731865 Question Type : MCQ Option Shuffling : No Is Question Mandatory : No Calculator : None
Response Time : N.A Think Time : N.A Minimum Instruction Time : 0

Correct Marks : 5 Wrong Marks : 1

Question Key Details :

Key	Value
Comprehension	Comp2

Read the below paragraph carefully answer the question :

Case study-II

Poverty has many faces, which have been changing from place to place and across time and has been described in many ways. In pre-independent India, Dadabhai Naoroji was first to discuss the concept of poverty line. In post-independent India, there have been several attempts to work out a mechanism to identify the number of poor in the country. The official data on poverty is made to the public by the planning commission. It is estimated on the basis of consumption expenditure data collected by the National Sample Survey organisation. Most poverty alleviation programmes implemented are based on the perspective of the five year plans. The government has a variety of programmes to generate wage employment for the poor unskilled people living in rural area.

How many rural workers got employment opportunities under Mahatma Gandhi National Rural Employment Guarantee Act in 2013-2014 ?

- (1) About seven crore
- (2) About five crore
- (3) About 7.5 crore
- (4) About six crore

Options :

212807127457. 1
212807127458. 2
212807127459. 3
212807127460. 4

Question Number : 485 Question Id : 21280731865 Question Type : MCQ Option Shuffling : No Is Question Mandatory : No Calculator : None
Response Time : N.A Think Time : N.A Minimum Instruction Time : 0

Correct Marks : 5 Wrong Marks : 1

Question Key Details :

Key	Value
Comprehension	Comp2

दिए गए अनुच्छेद के आधार पर प्रश्न का उत्तर दीजिए :

प्रकरण अध्ययन

निर्धनता के अनेको रूप है, जो समय के अनुसार तथा एक स्थान से दूसरे स्थान पर बदलता रहता है, जिसकी व्याख्या विभिन्न रूपों में की जा सकती है। स्वतंत्रता पूर्व भारत में सर्व प्रथम दादा भाई नौरजी ने निर्धनता-रेखा की अवधारणा पर बिचार किया था। स्वतंत्रता प्राप्ति के बाद भारत में निर्धनता जनानुपात का आकलन के कई प्रयास किए गए। योजना आयोग के द्वारा निर्धनता से सम्बन्धित अधिकारिक आँकड़े दिए गए। इसका आकलन नेशनल सैम्पल सर्वे आर्गनाइजेशन द्वारा उपभोक्ता और व्यय के आधार पर किया गया। मुख्य निर्धनता उन्मूलन कार्यक्रमों को पंच वर्षीय योजनाओं के परिप्रेक्ष्य के आधार पर लागू किया गया। सरकार द्वारा अनेकों योजनाओं को ग्रामीण क्षेत्रों में रहने वाले अप्राशिक्षित निर्धनों के जीवन की सुधारने के लिए रोजगार तथा मजदूरी प्रदान करने की व्यवस्था की गयी है।

महात्मा गाँधी राष्ट्रीय ग्रामीण रोजगार गारंटी एक्ट 2013-2014 के अन्तर्गत कितने ग्रामीण श्रमिकों को रोजगार का अवसर दिया गया ?

- (1) लगभग सात करोड़
- (2) लगभग पाँच करोड़
- (3) लगभग 7.5 करोड़
- (4) लगभग छ (6) करोड़

Options :

212807127457. 1
212807127458. 2
212807127459. 3
212807127460. 4

Engineering Graphics

Group Number :	16
Group Id :	212807740
Group Maximum Duration :	45
Group Minimum Duration :	45
Show Attended Group? :	No
Edit Attended Group? :	No
Break time :	0
Group Marks :	200
Is this Group for Examiner? :	No
Examiner permission :	Can't View
Show Progress Bar? :	No

Engineering Graphics

Section Id :	212807872
Section Number :	1
Section type :	Online
Mandatory or Optional :	Mandatory
Number of Questions :	50
Number of Questions to be attempted :	40
Section Marks :	200
Enable Mark as Answered Mark for Review and Clear Response :	Yes
Maximum Instruction Time :	0
Sub-Section Number :	1
Sub-Section Id :	2128072514
Question Shuffling Allowed :	Yes
Is Section Default? :	null

