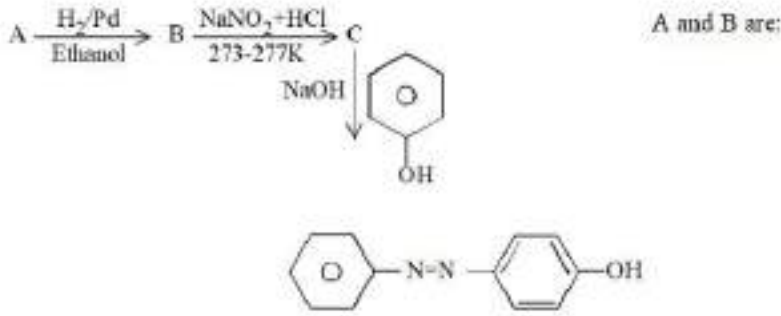


تقریباً کو پڑھیں اور سوال نمبر 46 سے 50 کا جواب دیں۔

امائن کی تین قسمیں ہیں جو کہ بنیادی، تاتوی اور تشریحی امائن کہلاتے ہیں۔ یہ امائن الکانل گروپ میں ہوں گے یا بیرو ارائل گروپ میں اور یہ بھی ہو سکتا ہے کہ الکانل اور ارائل دونوں گروپ میں ہوں۔ یہ امائن مختلف کیمیکل ٹیسٹ کے ذریعہ ایک دوسرے سے ممتاز ہوتے ہیں۔



- 1.
- 2.
- 3.
- 4.

Options :

485584144537. 1
 485584144538. 2
 485584144539. 3
 485584144540. 4

Fine Arts

Group Number :	5
Group Id :	485584819
Group Maximum Duration :	45
Group Minimum Duration :	45
Show Attended Group? :	No
Edit Attended Group? :	No
Break time :	0
Group Marks :	200
Is this Group for Examiner? :	No
Examiner permission :	Can't View
Show Progress Bar? :	No

Fine Arts

Section Id :	485584943
Section Number :	1
Section type :	Online
Mandatory or Optional :	Mandatory
Number of Questions :	50
Number of Questions to be attempted :	40
Section Marks :	200
Enable Mark as Answered Mark for Review and Clear Response :	Yes
Maximum Instruction Time :	0
Sub-Section Number :	1
Sub-Section Id :	4855842678
Question Shuffling Allowed :	Yes
Is Section Default? :	null

Question Number : 201 Question Id : 48558436136 Question Type : MCQ Option Shuffling : No Is Question Mandatory : No Calculator : None Response Time : N.A Think Time : N.A Minimum Instruction Time : 0

Correct Marks : 5 Wrong Marks : 1

Question Key Details :

Key	Value
Comprehension	MCQ1

Guman belongs to which Sub-School of Rajasthani Schools of miniature painting "Rama meets members of his family at Chitrakut?"

1. Bundi
2. Bikaner
3. Jaipur
4. Ajmer

Options :

485584144541. 1
485584144542. 2
485584144543. 3
485584144544. 4

Question Number : 201 Question Id : 48558436136 Question Type : MCQ Option Shuffling : No Is Question Mandatory : No Calculator : None Response Time : N.A Think Time : N.A Minimum Instruction Time : 0

Correct Marks : 5 Wrong Marks : 1

Question Key Details :

Key	Value
Comprehension	MCQ1

"राम अपने परिवार के सदस्यों से चित्रकूट में मिलते हैं" राजस्थानी लघु चित्रकला की किस उप-शैली से गुमन सम्बंधित है?

1. बुंदी
2. बीकानेर
3. जयपुर
4. अजमेर

Options :

485584144541. 1
485584144542. 2
485584144543. 3
485584144544. 4

Question Number : 201 Question Id : 48558436136 Question Type : MCQ Option Shuffling : No Is Question Mandatory : No Calculator : None
Response Time : N.A Think Time : N.A Minimum Instruction Time : 0

Correct Marks : 5 Wrong Marks : 1

Question Key Details :

Key	Value
Comprehension	MCQ1

ৰাজস্থানী শৈলীৰ মিনিএচিউৰ চিত্ৰশিল্পৰ স্বামে চিত্ৰকটত পৰিয়ালক লগ কৰা উপবিদ্যালয়খনৰ নাম লিখা ?

1. বৃন্দ
2. বিকানৈৰ
3. জয়পুৰ
4. আজমেৰ

Options :

485584144541. 1
485584144542. 2
485584144543. 3
485584144544. 4

Question Number : 201 Question Id : 48558436136 Question Type : MCQ Option Shuffling : No Is Question Mandatory : No Calculator : None
Response Time : N.A Think Time : N.A Minimum Instruction Time : 0

Correct Marks : 5 Wrong Marks : 1

Question Key Details :

Key	Value
Comprehension	MCQ1

ৰাম মিতল মেমবাস অফ হিচ ফেমেলা আৰু চিত্ৰকট মিনিয়েচাৰ পেণ্টিং -এৰ শিল্পী ৰাজস্থানী স্কুলেৰ মথো
কোন স্যাব স্কুলেৰ সদস্য ছিলা ?

1. বৃন্দ
2. বিকানৈৰ
3. জয়পুৰ
4. আজমীৰ

Options :

485584144541. 1
485584144542. 2
485584144543. 3
485584144544. 4

Question Number : 201 Question Id : 48558436136 Question Type : MCQ Option Shuffling : No Is Question Mandatory : No Calculator : None
Response Time : N.A Think Time : N.A Minimum Instruction Time : 0

Correct Marks : 5 Wrong Marks : 1

Question Key Details :

Key	Value
Comprehension	MCQ1

485584144542. 2
485584144543. 3
485584144544. 4

Question Number : 201 Question Id : 48558436136 Question Type : MCQ Option Shuffling : No Is Question Mandatory : No Calculator : None
Response Time : N.A Think Time : N.A Minimum Instruction Time : 0
Correct Marks : 5 Wrong Marks : 1

Question Key Details :

Key	Value
Comprehension	MCQ1

"राम चित्रकुट येथे त्यांच्या कुंटुबातील सदस्यांना भेटतो" हा गुमान चित्रकला प्रकार राजस्थानी लघु चित्रकलेतील कोणत्या उप शाखेत येतो?

1. बूंदी
2. बिकानेर
3. जयपूर
4. अजमेर

Options :

485584144541. 1
485584144542. 2
485584144543. 3
485584144544. 4

Question Number : 201 Question Id : 48558436136 Question Type : MCQ Option Shuffling : No Is Question Mandatory : No Calculator : None
Response Time : N.A Think Time : N.A Minimum Instruction Time : 0
Correct Marks : 5 Wrong Marks : 1

Question Key Details :

Key	Value
Comprehension	MCQ1

सुमान नेहरूं वर-बुद्धा वाच्यता निरि-रुद्र वरिष्ठ अक्षर थुमा ? मेरुथुंर "राम चित्रकुटत रर ररररर वरवववु
ररररर"।

1. बूंदी
2. बिकानेर
3. जयपूर
4. अजमेर

Options :

485584144541. 1
485584144542. 2
485584144543. 3
485584144544. 4

Question Number : 201 Question Id : 48558436136 Question Type : MCQ Option Shuffling : No Is Question Mandatory : No Calculator : None
Response Time : N.A Think Time : N.A Minimum Instruction Time : 0
Correct Marks : 5 Wrong Marks : 1

Question Key Details :

Key	Value
Comprehension	MCQ1

485584144541. 1
485584144542. 2
485584144543. 3
485584144544. 4

Question Number : 201 Question Id : 48558436136 Question Type : MCQ Option Shuffling : No Is Question Mandatory : No Calculator : None
Response Time : N.A Think Time : N.A Minimum Instruction Time : 0

Correct Marks : 5 Wrong Marks : 1

Question Key Details :

Key	Value
Comprehension	MCQ1

گمین کن راجستہائی چھوٹی شیبہ پیشگ کا ذہنی اسکول سے تعلق رکھتا ہے۔ راما اپنے خاندان سے چتر گٹ میں ملا ؟

1. لندی
2. بیکنیر
3. جے پور
4. اجیر

Options :

485584144541. 1
485584144542. 2
485584144543. 3
485584144544. 4

Question Number : 202 Question Id : 48558436137 Question Type : MCQ Option Shuffling : No Is Question Mandatory : No Calculator : None
Response Time : N.A Think Time : N.A Minimum Instruction Time : 0

Correct Marks : 5 Wrong Marks : 1

Question Key Details :

Key	Value
Comprehension	MCQ1

Which of the following area has no traces of painting of Pahari School?

1. Chamba
2. Basohli
3. Kangra
4. Jodhpur

Options :

485584144545. 1
485584144546. 2
485584144547. 3
485584144548. 4

Question Number : 202 Question Id : 48558436137 Question Type : MCQ Option Shuffling : No Is Question Mandatory : No Calculator : None
Response Time : N.A Think Time : N.A Minimum Instruction Time : 0

Correct Marks : 5 Wrong Marks : 1

Question Key Details :

Key	Value
Comprehension	MCQ1

निम्न में से किस क्षेत्र में पहाड़ी शैली की चित्रकला के चिह्न नहीं हैं?

1. चंबा
2. बसोहली
3. कांगड़ा
4. जोधपुर

Options :

485584144545. 1
485584144546. 2
485584144547. 3
485584144548. 4

Question Number : 202 Question Id : 48558436137 Question Type : MCQ Option Shuffling : No Is Question Mandatory : No Calculator : None Response Time : N.A Think Time : N.A Minimum Instruction Time : 0

Correct Marks : 5 Wrong Marks : 1

Question Key Details :

Key	Value
Comprehension	MCQ1

ভালব কোনটো পাহাৰী কুলৰ চিত্ৰশিল্প প্ৰভাৱ নথকা অঞ্চল হয় ?

1. চাম্বা
2. বাচলি
3. কাংগৰা
4. যোৰপুৰ

Options :

485584144545. 1
485584144546. 2
485584144547. 3
485584144548. 4

Question Number : 202 Question Id : 48558436137 Question Type : MCQ Option Shuffling : No Is Question Mandatory : No Calculator : None Response Time : N.A Think Time : N.A Minimum Instruction Time : 0

Correct Marks : 5 Wrong Marks : 1

Question Key Details :

Key	Value
Comprehension	MCQ1

এদের মধ্যে কোন জায়গা, পাহাড়ি কুলের পেন্টিং-এর সাথে কোনো ভাবে জুড়ে নেই ?

1. চাম্বা
2. বাশোলি
3. কাংরা
4. যোৰপুৰ

Options :

485584144545. 1
485584144546. 2
485584144547. 3
485584144548. 4

Question Number : 202 Question Id : 48558436137 Question Type : MCQ Option Shuffling : No Is Question Mandatory : No Calculator : None
Response Time : N.A Think Time : N.A Minimum Instruction Time : 0

Correct Marks : 5 Wrong Marks : 1

Question Key Details :

Key	Value
Comprehension	MCQ1

નીચે આપેલા કયા વિસ્તારમાં પહાડી સ્કુલ પેઇન્ટિંગની કોઇ નિશાની નથી ?

1. ચાંબા
2. બસોહલી
3. કાંગરા
4. જોષપુર

Options :

485584144545. 1
485584144546. 2
485584144547. 3
485584144548. 4

Question Number : 202 Question Id : 48558436137 Question Type : MCQ Option Shuffling : No Is Question Mandatory : No Calculator : None
Response Time : N.A Think Time : N.A Minimum Instruction Time : 0

Correct Marks : 5 Wrong Marks : 1

Question Key Details :

Key	Value
Comprehension	MCQ1

કેશીન યાવ પ્રદેશમાં વસાવી શકાય તેવા પશુપાલકાણીના પશુઓમાં કયો પશુ છે ?

1. ઝંબર
2. બસોહલી
3. કાંગરા
4. જોષપુર

Options :

485584144545. 1
485584144546. 2
485584144547. 3
485584144548. 4

Question Number : 202 Question Id : 48558436137 Question Type : MCQ Option Shuffling : No Is Question Mandatory : No Calculator : None
Response Time : N.A Think Time : N.A Minimum Instruction Time : 0

Correct Marks : 5 Wrong Marks : 1

Question Key Details :

Key	Value
Comprehension	MCQ1

പഹാരി സമ്പ്രദായത്തിലുള്ള പെയിന്റിങ്ങുകളുടെ തെളിവുകൾ ലഭ്യമല്ലാത്ത പ്രദേശം ഏത് ?

1. ചമ്പ
2. ബസോവ്ലി
3. കാംഗ്ര
4. ജോയ്പൂർ

Options :

485584144545. 1
485584144546. 2
485584144547. 3
485584144548. 4

Question Number : 202 Question Id : 48558436137 Question Type : MCQ Option Shuffling : No Is Question Mandatory : No Calculator : None Response Time : N.A Think Time : N.A Minimum Instruction Time : 0

Correct Marks : 5 Wrong Marks : 1

Question Key Details :

Key	Value
Comprehension	MCQ1

खालील पैकी कशात पहाडी शाळेतील गंध अजिबात सापडत नाही?

1. चंब
2. बासोहली
3. कांगडा
4. जोधपूर

Options :

485584144545. 1
485584144546. 2
485584144547. 3
485584144548. 4

Question Number : 202 Question Id : 48558436137 Question Type : MCQ Option Shuffling : No Is Question Mandatory : No Calculator : None Response Time : N.A Think Time : N.A Minimum Instruction Time : 0

Correct Marks : 5 Wrong Marks : 1

Question Key Details :

Key	Value
Comprehension	MCQ1

ନିମ୍ନଲିଖିତ ସମସ୍ତ ଜଗତରେ ପଞ୍ଚମ ବିଦ୍ୟାଳୟର ବିଦ୍ୟୁତ୍ ଆଲିବାଇ ଶୈଳୀ ବିଦ୍ୟୁତ୍ ନାହିଁ ?

1. ଚମ୍ପ
2. ବାସୋହଲୀ
3. କାଙ୍ଗଡା
4. ଜୋଧପୁର

Options :

485584144545. 1
485584144546. 2

485584144547. 3
485584144548. 4

Question Number : 202 Question Id : 48558436137 Question Type : MCQ Option Shuffling : No Is Question Mandatory : No Calculator : None
Response Time : N.A Think Time : N.A Minimum Instruction Time : 0

Correct Marks : 5 Wrong Marks : 1

Question Key Details :

Key	Value
Comprehension	MCQ1

येठ सलधे ऐसलकलललं दलंसं कलरुने ऐसलके दलंसं डरलने सडुल से डेरलल रल डेरी नलललन नरुलं डे?

1. रलड
2. डडेली
3. डरललल
4. सेडडुड

Options :

485584144545. 1
485584144546. 2
485584144547. 3
485584144548. 4

Question Number : 202 Question Id : 48558436137 Question Type : MCQ Option Shuffling : No Is Question Mandatory : No Calculator : None
Response Time : N.A Think Time : N.A Minimum Instruction Time : 0

Correct Marks : 5 Wrong Marks : 1

Question Key Details :

Key	Value
Comprehension	MCQ1

डलनलरुडनलडरुडलल, डडरुड डलसुडलडलनल ओडलडडडडडलनलनल तडडडडरुड डरडडु डडु?

1. सडडड
2. डडडडलनल
3. कलनलडडकडरल
4. डुडुडतडुडरु

Options :

485584144545. 1
485584144546. 2
485584144547. 3
485584144548. 4

Question Number : 202 Question Id : 48558436137 Question Type : MCQ Option Shuffling : No Is Question Mandatory : No Calculator : None
Response Time : N.A Think Time : N.A Minimum Instruction Time : 0

Correct Marks : 5 Wrong Marks : 1

Question Key Details :

Key	Value
Comprehension	MCQ1

క్రింది వాటిలో ఎక్కడి ఎవరో పాఠశాలకి చెందిన చిత్రలేఖనాలు వెలుగులోకి రాలేదు ?

1. చింబ
2. బసోప్
3. కంగ్రా
4. జోధ్పూర్

Options :

485584144545. 1
485584144546. 2
485584144547. 3
485584144548. 4

Question Number : 202 Question Id : 48558436137 Question Type : MCQ Option Shuffling : No Is Question Mandatory : No Calculator : None Response Time : N.A Think Time : N.A Minimum Instruction Time : 0

Correct Marks : 5 Wrong Marks : 1

Question Key Details :

Key	Value
Comprehension	MCQ1

کس حلقے میں پہلی اسکول کی پیشنگ کا کوئی نشان نہیں ہے ؟

1. چمبا
2. بسولہ
3. کنگڑہ
4. جودھپور

Options :

485584144545. 1
485584144546. 2
485584144547. 3
485584144548. 4

Question Number : 203 Question Id : 48558436138 Question Type : MCQ Option Shuffling : No Is Question Mandatory : No Calculator : None Response Time : N.A Think Time : N.A Minimum Instruction Time : 0

Correct Marks : 5 Wrong Marks : 1

Question Key Details :

Key	Value
Comprehension	MCQ1

The artist S.H. Raza made paintings on the theme bindu which symbolizes,

1. Human
2. Oneness
3. Strength
4. Unity

Options :

485584144549. 1
485584144550. 2
485584144551. 3
485584144552. 4

Question Number : 203 Question Id : 48558436138 Question Type : MCQ Option Shuffling : No Is Question Mandatory : No Calculator : None
Response Time : N.A Think Time : N.A Minimum Instruction Time : 0

Correct Marks : 5 Wrong Marks : 1

Question Key Details :

Key	Value
Comprehension	MCQ1

कलाकार एच.एस.रजा द्वारा बिंदु विषयवस्तु पर बनाई गई चित्रकला किसकी प्रतीकात्मक है?

1. मानव
2. एकरूप
3. शक्ति
4. एकता

Options :

485584144549. 1
485584144550. 2
485584144551. 3
485584144552. 4

Question Number : 203 Question Id : 48558436138 Question Type : MCQ Option Shuffling : No Is Question Mandatory : No Calculator : None
Response Time : N.A Think Time : N.A Minimum Instruction Time : 0

Correct Marks : 5 Wrong Marks : 1

Question Key Details :

Key	Value
Comprehension	MCQ1

চিত্রশিল্পী S.H. Raza য়ে কোনটো বিষয়ৰ ওপৰত ভিত্তি কৰি অংকন কৰিছিল ?

1. মানুহ
2. নিজস্ব
3. শক্তি
4. একতা

Options :

485584144549. 1
485584144550. 2
485584144551. 3
485584144552. 4

Question Number : 203 Question Id : 48558436138 Question Type : MCQ Option Shuffling : No Is Question Mandatory : No Calculator : None
Response Time : N.A Think Time : N.A Minimum Instruction Time : 0

Correct Marks : 5 Wrong Marks : 1

Question Key Details :

Key	Value
Comprehension	MCQ1

ರಾಜಾ ವಿಷ್ಣು ತಿಮ್ಮಿ ಷೇಝಿ ಪೆನ್ಡಿಂ ತೆರೀ ಕರೆ ತಾ ಕಿ ಸಹಜ್ಞೆ ಡಿಪ್ರೆಫ ಕರೆ ?

1. ಢಾನ್ಯ
2. ಅಖಜ್ಞತಾ
3. ಶಕ್ತಿ
4. ಂಕತಾ

Options :

485584144549. 1
485584144550. 2
485584144551. 3
485584144552. 4

Question Number : 203 Question Id : 48558436138 Question Type : MCQ Option Shuffling : No Is Question Mandatory : No Calculator : None Response Time : N.A Think Time : N.A Minimum Instruction Time : 0

Correct Marks : 5 Wrong Marks : 1

Question Key Details :

Key	Value
Comprehension	MCQ1

ಕವಾಕಾರ ರೂಢಿ ಡಿನ್ಡ್ ಥಿಢಿ ಪರ ಗಿನ್ರಿ ಡನಾಡ್ಯಾ ಡಿ ಜಿ ನಾ ಪ್ರತಿಕ್ರ ಡಿ.

1. ಢಾನ್ಯ
2. ಅಂಕತಾ
3. ತಾಕತ
4. ಸಂಪ

Options :

485584144549. 1
485584144550. 2
485584144551. 3
485584144552. 4

Question Number : 203 Question Id : 48558436138 Question Type : MCQ Option Shuffling : No Is Question Mandatory : No Calculator : None Response Time : N.A Think Time : N.A Minimum Instruction Time : 0

Correct Marks : 5 Wrong Marks : 1

Question Key Details :

Key	Value
Comprehension	MCQ1

ರಾಜಾ ಂಬ ಕಲಾವಿದ ಬಿಂದು ಂಬ ವಿಷಯ ವಸ್ತುವಿನ ಢೇಲೆ ರಚಿಸಿರುವ ಜಿತ್ಯಕಲೆಗಲು ಸಂಕೇತಿಸುವುದು ಇದನ್ನು:

1. ಢಾನ್ಯ
2. ಂಬ ಂಬ ಭಾವನೆ
3. ಬಲ
4. ಉಕ್ತೆ

Options :

485584144549. 1
485584144550. 2
485584144551. 3

485584144552. 4

Question Number : 203 Question Id : 48558436138 Question Type : MCQ Option Shuffling : No Is Question Mandatory : No Calculator : None
Response Time : N.A Think Time : N.A Minimum Instruction Time : 0
Correct Marks : 5 Wrong Marks : 1

Question Key Details :

Key	Value
Comprehension	MCQ1

ബിന്ദു എന്ന പ്രമേയത്തിൽ ആർട്ടിസ്റ്റ് നാസ തയ്യാറാക്കിയ പെയിന്റിംഗുകൾ എന്തിന്റെ പ്രതീകങ്ങളാണ് ?

1. മനുഷ്യൻ
2. ഒരുമ
3. ശക്തി
4. ഐക്യം

Options :

485584144549. 1
485584144550. 2
485584144551. 3
485584144552. 4

Question Number : 203 Question Id : 48558436138 Question Type : MCQ Option Shuffling : No Is Question Mandatory : No Calculator : None
Response Time : N.A Think Time : N.A Minimum Instruction Time : 0
Correct Marks : 5 Wrong Marks : 1

Question Key Details :

Key	Value
Comprehension	MCQ1

रक्षा या कलाकाराने बिंदू बीजकल्पना मांडली जी खालील पैकी कशाचे प्रतिक आहे?

1. मनुष्य
2. एकरूपता
3. ताकद
4. ऐक्य

Options :

485584144549. 1
485584144550. 2
485584144551. 3
485584144552. 4

Question Number : 203 Question Id : 48558436138 Question Type : MCQ Option Shuffling : No Is Question Mandatory : No Calculator : None
Response Time : N.A Think Time : N.A Minimum Instruction Time : 0
Correct Marks : 5 Wrong Marks : 1

Question Key Details :

Key	Value
Comprehension	MCQ1

485584144551. 3
485584144552. 4

Question Number : 203 Question Id : 48558436138 Question Type : MCQ Option Shuffling : No Is Question Mandatory : No Calculator : None
Response Time : N.A Think Time : N.A Minimum Instruction Time : 0

Correct Marks : 5 Wrong Marks : 1

Question Key Details :

Key	Value
Comprehension	MCQ1

బిందు ఆనే విషయంపైన చిత్రకారుడు రాజు వేసిన చిత్రాలు దొనికి ప్రతీక?

1. మానవుడు
2. ఏకత్వము
3. బలము
4. ఐకమత్యము

Options :

485584144549. 1
485584144550. 2
485584144551. 3
485584144552. 4

Question Number : 203 Question Id : 48558436138 Question Type : MCQ Option Shuffling : No Is Question Mandatory : No Calculator : None
Response Time : N.A Think Time : N.A Minimum Instruction Time : 0

Correct Marks : 5 Wrong Marks : 1

Question Key Details :

Key	Value
Comprehension	MCQ1

ہن کرایس اچ رضائے 'بندو' (bindu) تہم پیشگ ہائی بے جو علامت کے طور پر بیان کرتا ہے۔

1. انسان
2. ایکتا (وحدت)
3. طاقت
4. اتحاد

Options :

485584144549. 1
485584144550. 2
485584144551. 3
485584144552. 4

Question Number : 204 Question Id : 48558436139 Question Type : MCQ Option Shuffling : No Is Question Mandatory : No Calculator : None
Response Time : N.A Think Time : N.A Minimum Instruction Time : 0

Correct Marks : 5 Wrong Marks : 1

Question Key Details :

Key	Value
Comprehension	MCQ1

Among the following who coined the term "Rajput Painting" in 1926?

1. Anand Coomaraswamy
2. Keshav Das
3. Jagat Singh
4. Sahibdin

Options :

485584144553. 1
485584144554. 2
485584144555. 3
485584144556. 4

Question Number : 204 Question Id : 48558436139 Question Type : MCQ Option Shuffling : No Is Question Mandatory : No Calculator : None Response Time : N.A Think Time : N.A Minimum Instruction Time : 0

Correct Marks : 5 Wrong Marks : 1

Question Key Details :

Key	Value
Comprehension	MCQ1

1926 में निम्न में से किसने सर्वप्रथम "राजपूत चित्रकला" शब्दावली प्रचलित की?

1. आनंद कुमारस्वामी
2. केशवदास
3. जगत सिंह
4. साहिबदीन

Options :

485584144553. 1
485584144554. 2
485584144555. 3
485584144556. 4

Question Number : 204 Question Id : 48558436139 Question Type : MCQ Option Shuffling : No Is Question Mandatory : No Calculator : None Response Time : N.A Think Time : N.A Minimum Instruction Time : 0

Correct Marks : 5 Wrong Marks : 1

Question Key Details :

Key	Value
Comprehension	MCQ1

১৯২৬ চনৰ "ৰাজপুত চিত্ৰশিল্প" কোনে উলিয়াইছিল ?

1. আনন্দ কমাৰ স্বামী
2. কেশৱ দাস
3. জগত সিং
4. শাহিন্দীন

Options :

485584144553. 1
485584144554. 2
485584144555. 3
485584144556. 4

Question Number : 204 Question Id : 48558436139 Question Type : MCQ Option Shuffling : No Is Question Mandatory : No Calculator : None
Response Time : N.A Think Time : N.A Minimum Instruction Time : 0

Correct Marks : 5 Wrong Marks : 1

Question Key Details :

Key	Value
Comprehension	MCQ1

১৯২৬ তে কে "রাজপুত পেন্টিং" কথাটা উদ্ভাবন করেছে

1. আনন্দ কুমারস্বামী
2. কেশব দাস
3. জগত সিং
4. সাহিবদিন

Options :

485584144553. 1
485584144554. 2
485584144555. 3
485584144556. 4

Question Number : 204 Question Id : 48558436139 Question Type : MCQ Option Shuffling : No Is Question Mandatory : No Calculator : None
Response Time : N.A Think Time : N.A Minimum Instruction Time : 0

Correct Marks : 5 Wrong Marks : 1

Question Key Details :

Key	Value
Comprehension	MCQ1

নীচে আপোষা বিকল্যমাংখী 1926মাং কৌঞ্জ "রাজপুত পেইন্টিং" শাব্দ আশ্যী ঐ ?

1. আনন্দ কুমারস্বামী
2. কেশব দাস
3. জগত সিং
4. সাহিবদিন

Options :

485584144553. 1
485584144554. 2
485584144555. 3
485584144556. 4

Question Number : 204 Question Id : 48558436139 Question Type : MCQ Option Shuffling : No Is Question Mandatory : No Calculator : None
Response Time : N.A Think Time : N.A Minimum Instruction Time : 0

Correct Marks : 5 Wrong Marks : 1

Question Key Details :

Key	Value
Comprehension	MCQ1

ಕೆಳಗಿನವರುಗಳಲ್ಲಿ ಯಾರು 1926ರಲ್ಲಿ "ರಜಪೂತ ಚಿತ್ರಕಲೆ" ಎಂಬ ಪದವನ್ನು ಚಿಮ್ಮಿಸಿದನು?

1. ಆನಂದ ಕುಮಾರಸ್ವಾಮಿ
2. ಕೇಶವ ದಾಸ
3. ಜಗತ್ ಸಿಂಗ್
4. ಸಾಹಿಬ್‌ಸಿನ್

Options :

485584144553. 1
485584144554. 2
485584144555. 3
485584144556. 4

Question Number : 204 Question Id : 48558436139 Question Type : MCQ Option Shuffling : No Is Question Mandatory : No Calculator : None Response Time : N.A Think Time : N.A Minimum Instruction Time : 0

Correct Marks : 5 Wrong Marks : 1

Question Key Details :

Key	Value
Comprehension	MCQ1

1926-ರಲ್ಲಿ "ರಜಪೂತ ಚಿತ್ರಕಲೆ" ಎಂಬ ಪದವನ್ನು ಚಿಮ್ಮಿಸಿದವರು?

1. ಆನಂದ ಕುಮಾರಸ್ವಾಮಿ
2. ಕೇಶವ ದಾಸ
3. ಜಗತ್ ಸಿಂಗ್
4. ಸಾಹಿಬ್‌ಸಿನ್

Options :

485584144553. 1
485584144554. 2
485584144555. 3
485584144556. 4

Question Number : 204 Question Id : 48558436139 Question Type : MCQ Option Shuffling : No Is Question Mandatory : No Calculator : None Response Time : N.A Think Time : N.A Minimum Instruction Time : 0

Correct Marks : 5 Wrong Marks : 1

Question Key Details :

Key	Value
Comprehension	MCQ1

खालील पैकी कोणी 1926 मध्ये "राजपूत चित्रकला" ही संज्ञा कोणी दिली?

1. आनंद चूमरास्वामी
2. केशव दास
3. जगत सिंग
4. शाहिबदिन

Options :

485584144553. 1
485584144554. 2
485584144555. 3
485584144556. 4

Question Number : 204 Question Id : 48558436139 Question Type : MCQ Option Shuffling : No Is Question Mandatory : No Calculator : None Response Time : N.A Think Time : N.A Minimum Instruction Time : 0

Correct Marks : 5 Wrong Marks : 1

Question Key Details :

Key	Value
Comprehension	MCQ1

1926 ରେ "ରାଜପୁତ ଚେତନା" ରେ ଉଦ୍‌ଘୋଷଣା କରାଯାଇଥିବା ନିମ୍ନଲିଖିତ ମାନବ ମଧ୍ୟରେ।

1. ଅନନ୍ଦ କୁମାରସାହା
2. କେଶବ ଦାସ
3. ଜଗତ ସିଂହ
4. ସହିଦବନ

Options :

- 485584144553. 1
- 485584144554. 2
- 485584144555. 3
- 485584144556. 4

Question Number : 204 Question Id : 48558436139 Question Type : MCQ Option Shuffling : No Is Question Mandatory : No Calculator : None Response Time : N.A Think Time : N.A Minimum Instruction Time : 0

Correct Marks : 5 Wrong Marks : 1

Question Key Details :

Key	Value
Comprehension	MCQ1

ତେଣୁ ଲିଖିତାଙ୍କୁ ବିଚ୍ଛିନ୍ନ 1926 ବିଚ୍ଛିନ୍ନ * ରାଜପୁତ ପୌଠିକ * ସଂସଦର ଉପସଭା କିମ୍ପାନେ କିତୀ?

1. ଅନନ୍ଦ କୁମାରସାହା
2. କେଶବ ଦାସ
3. ଜଗତ ସିଂହ
4. ସାହିଦବନ

Options :

- 485584144553. 1
- 485584144554. 2
- 485584144555. 3
- 485584144556. 4

Question Number : 204 Question Id : 48558436139 Question Type : MCQ Option Shuffling : No Is Question Mandatory : No Calculator : None Response Time : N.A Think Time : N.A Minimum Instruction Time : 0

Correct Marks : 5 Wrong Marks : 1

Question Key Details :

Key	Value
Comprehension	MCQ1

பின்வருவனவற்றுள், 1926 இல் "இராஜபுட் ஓவியம்" என்ற பதத்தை தொகுத்து வழங்கியவர் யார்?

1. ஆனந்த் குமாரஸ்வாமி
2. கேஷவ் தாஸ்
3. ஜகத் சிங்
4. ஷாஹிப்தின்

Options :

485584144553. 1
485584144554. 2
485584144555. 3
485584144556. 4

Question Number : 204 Question Id : 48558436139 Question Type : MCQ Option Shuffling : No Is Question Mandatory : No Calculator : None Response Time : N.A Think Time : N.A Minimum Instruction Time : 0

Correct Marks : 5 Wrong Marks : 1

Question Key Details :

Key	Value
Comprehension	MCQ1

1926 ல் த்ரீண்டிவாரில் "ராஜபுத் பைட்டிங்" அன் ல்வாஸ்தி ரூபாண்டிண்டிண்டி ல்வரு ?

1. அன்டீ குமார்ஸ்வாமி
2. கேஷவ் தாஸ்
3. ஜகத் சிங்
4. ஷாஹிப்தின்

Options :

485584144553. 1
485584144554. 2
485584144555. 3
485584144556. 4

Question Number : 204 Question Id : 48558436139 Question Type : MCQ Option Shuffling : No Is Question Mandatory : No Calculator : None Response Time : N.A Think Time : N.A Minimum Instruction Time : 0

Correct Marks : 5 Wrong Marks : 1

Question Key Details :

Key	Value
Comprehension	MCQ1

نیچے میں سے کسی سے سن 1926 میں "راجپوت پیشنگ" کی اصطلاح بنائی ؟

1. آنند کومر سوامی
2. کیشو داس
3. جگت سنگھ
4. شاہنشاہ

Options :

485584144553. 1
485584144554. 2
485584144555. 3
485584144556. 4

Question Number : 205 Question Id : 48558436140 Question Type : MCQ Option Shuffling : No Is Question Mandatory : No Calculator : None
Response Time : N.A Think Time : N.A Minimum Instruction Time : 0

Correct Marks : 5 Wrong Marks : 1

Question Key Details :

Key	Value
Comprehension	MCQ1

"Nand, Yashoda and Krishna" painting belongs to which Sub School of Pahari School of miniature painting?

1. Chamba
2. Basohli
3. Kangra
4. Bundi

Options :

485584144557. 1
485584144558. 2
485584144559. 3
485584144560. 4

Question Number : 205 Question Id : 48558436140 Question Type : MCQ Option Shuffling : No Is Question Mandatory : No Calculator : None
Response Time : N.A Think Time : N.A Minimum Instruction Time : 0

Correct Marks : 5 Wrong Marks : 1

Question Key Details :

Key	Value
Comprehension	MCQ1

"नंद, यशोदा और कृष्ण" चित्रकला पहाड़ी लघु चित्रशैली की किस उप-शैली से सम्बंधित है?

1. चंबा
2. बसोहली
3. कांगड़ा
4. बूंदी

Options :

485584144557. 1
485584144558. 2
485584144559. 3
485584144560. 4

Question Number : 205 Question Id : 48558436140 Question Type : MCQ Option Shuffling : No Is Question Mandatory : No Calculator : None
Response Time : N.A Think Time : N.A Minimum Instruction Time : 0

Correct Marks : 5 Wrong Marks : 1

Question Key Details :

Key	Value
Comprehension	MCQ1

"নন্দ, যশোদা আৰু কৃষ্ণ" চিত্ৰশিল্পখন কোনখন উপবিদ্যালয়ৰ পাহাৰী শৈলীৰ মিনি.এচিউৰ শিল্প ?

1. চাম্বা
2. বাসলি
3. কাংপৰা
4. বৃন্দি

Options :

485584144557. 1
485584144558. 2
485584144559. 3
485584144560. 4

Question Number : 205 Question Id : 48558436140 Question Type : MCQ Option Shuffling : No Is Question Mandatory : No Calculator : None Response Time : N.A Think Time : N.A Minimum Instruction Time : 0

Correct Marks : 5 Wrong Marks : 1

Question Key Details :

Key	Value
Comprehension	MCQ1

"নন্দ যসধা এবং কৃষ্ণ" পেন্টিং টি পাহাড়ি স্কুলের মিনিয়েচ্যার পেন্টিং এর কোন স্যাব স্কুলের সম্পত্তি ?

1. চম্বল
2. বাশোলি
3. কাংরা
4. বৃন্দি

Options :

485584144557. 1
485584144558. 2
485584144559. 3
485584144560. 4

Question Number : 205 Question Id : 48558436140 Question Type : MCQ Option Shuffling : No Is Question Mandatory : No Calculator : None Response Time : N.A Think Time : N.A Minimum Instruction Time : 0

Correct Marks : 5 Wrong Marks : 1

Question Key Details :

Key	Value
Comprehension	MCQ1

"নন্দ, যশোদা মনে চিহ্না" পেইন্টিং, লঘুযিত্ৰ পেইন্টিংৰনী পছাৰী শালানী কঠ পেটা শালানু ঠৈ ?

1. বাঁধা
2. অসৌভৰী
3. কাংৰা
4. বৃন্দী

Options :

485584144557. 1
485584144558. 2
485584144559. 3
485584144560. 4

Question Number : 205 Question Id : 48558436140 Question Type : MCQ Option Shuffling : No Is Question Mandatory : No Calculator : None Response Time : N.A Think Time : N.A Minimum Instruction Time : 0

Correct Marks : 5 Wrong Marks : 1

Question Key Details :

Key	Value
Comprehension	MCQ1

"ನಂದ ಯಶೋದ ಮತ್ತು ಕೃಷ್ಣ" ಚಿತ್ರಕಲೆಯು ಯಾವ ಪಠಾಂಶ ಶಾಲೆಯ ಚಿಕ್ಕಣೆ/ಕಿರುಚಿತ್ರಕಲೆಯ ಉಪಶಾಲೆಗೆ ಸೇರುತ್ತದೆ?

1. ಚಂಪಾ
2. ಬಾಬೋಡ್ಜಿ
3. ಕಾಂಗ್ರ
4. ಬುಂಡಿ

Options :

- 485584144557. 1
- 485584144558. 2
- 485584144559. 3
- 485584144560. 4

Question Number : 205 Question Id : 48558436140 Question Type : MCQ Option Shuffling : No Is Question Mandatory : No Calculator : None Response Time : N.A Think Time : N.A Minimum Instruction Time : 0

Correct Marks : 5 Wrong Marks : 1

Question Key Details :

Key	Value
Comprehension	MCQ1

"ಗಗನಗುಂ ಡೊಡೆಯುಂ ಕ್ಯುಣ್ಣಗುಂ" ಎೞು ಡಿನ್ನಿಡೆಯ್ಚೆರ್ ಪೆಯಿಣ್ಣಿಣ್ ಪೊೞಿ ಸೞುೞುಡಾಯಠ್ಣಿಣ್ಣಿ ಏೞಿ ಒಪಸೞುೞುಡಾಯಠ್ಣಿಣ್ ವರುೞುಡಾಯಠ್ಣಿಣ್ ?

1. ಏೞು
2. ಏೞುೞುಡಾಯಠ್ಣಿಣ್
3. ಕಿೞಿ
4. ಏೞುೞುಡಾಯಠ್ಣಿಣ್

Options :

- 485584144557. 1
- 485584144558. 2
- 485584144559. 3
- 485584144560. 4

Question Number : 205 Question Id : 48558436140 Question Type : MCQ Option Shuffling : No Is Question Mandatory : No Calculator : None Response Time : N.A Think Time : N.A Minimum Instruction Time : 0

Correct Marks : 5 Wrong Marks : 1

Question Key Details :

Key	Value
Comprehension	MCQ1

"नंद, यशोदा आणि कृष्ण हे चित्र" पहाडी शालेतील लघु चित्रकलेतील कोणत्या उप-शालेतील आहे?

1. चंबा
2. बासहेली
3. कांगडा
4. बूंदी

Options :

485584144557. 1
485584144558. 2
485584144559. 3
485584144560. 4

Question Number : 205 Question Id : 48558436140 Question Type : MCQ Option Shuffling : No Is Question Mandatory : No Calculator : None Response Time : N.A Think Time : N.A Minimum Instruction Time : 0

Correct Marks : 5 Wrong Marks : 1

Question Key Details :

Key	Value
Comprehension	MCQ1

"नंद यशोदा आणि कृष्ण" चित्रकलेतील निम्नलिखित विषयाने कोणत्या विषयाने चित्रित केले आहे ?

1. चंबा
2. बासहेली
3. कांगडा
4. बूंदी

Options :

485584144557. 1
485584144558. 2
485584144559. 3
485584144560. 4

Question Number : 205 Question Id : 48558436140 Question Type : MCQ Option Shuffling : No Is Question Mandatory : No Calculator : None Response Time : N.A Think Time : N.A Minimum Instruction Time : 0

Correct Marks : 5 Wrong Marks : 1

Question Key Details :

Key	Value
Comprehension	MCQ1

"पहाडी लघु चित्रकलेतील निम्नलिखित विषयाने कोणत्या विषयाने चित्रित केले आहे ?

1. चंबा
2. बासहेली
3. कांगडा
4. बूंदी

Options :

485584144557. 1
485584144558. 2
485584144559. 3

485584144560. 4

Question Number : 205 Question Id : 48558436140 Question Type : MCQ Option Shuffling : No Is Question Mandatory : No Calculator : None
Response Time : N.A Think Time : N.A Minimum Instruction Time : 0
Correct Marks : 5 Wrong Marks : 1

Question Key Details :

Key	Value
Comprehension	MCQ1

"நந்த யசோதா மற்றும் கிருஷ்ணா" எனும் ஓவியம் நுண்கலை ஓவியங்களுக்கான பாஹி பள்ளியில் எந்த துணைப்பள்ளியைச் சார்ந்தது?

1. சம்பா
2. பசோலி
3. கானங்கிரா
4. புந்தி

Options :

485584144557. 1
485584144558. 2
485584144559. 3
485584144560. 4

Question Number : 205 Question Id : 48558436140 Question Type : MCQ Option Shuffling : No Is Question Mandatory : No Calculator : None
Response Time : N.A Think Time : N.A Minimum Instruction Time : 0
Correct Marks : 5 Wrong Marks : 1

Question Key Details :

Key	Value
Comprehension	MCQ1

ஓவரி பாதசாலலீனி ஸூக்ஷ் வர்ஜ் விசூலகூ ஸ஑்஑ி஑ிவின ஓ ஑஑ பாதசாலகூ "஑஑டி, ய஑ீ஑் ஑஑ரியூ க஑஑஑" ஑஑் விசூல஑஑஑஑ ஑஑஑஑஑஑஑஑?

1. ஑஑஑
2. ஑஑ீலி
3. ஑஑஑஑
4. ஑஑஑஑

Options :

485584144557. 1
485584144558. 2
485584144559. 3
485584144560. 4

Question Number : 205 Question Id : 48558436140 Question Type : MCQ Option Shuffling : No Is Question Mandatory : No Calculator : None
Response Time : N.A Think Time : N.A Minimum Instruction Time : 0
Correct Marks : 5 Wrong Marks : 1

Question Key Details :

Key	Value
Comprehension	MCQ1

نند یاشودھا اور کرشن (Nand Yashoda and Krishna) کی پیشنگ کن بیڈی جیوٹی شیبہ پیشنگ کے نلی اسکول سے تعلق رکھتی ہیں

1. چنا
2. سولی
3. کنگڑہ
4. بندی

Options :

485584144557. 1
485584144558. 2
485584144559. 3
485584144560. 4

Question Number : 206 Question Id : 48558436141 Question Type : MCQ Option Shuffling : No Is Question Mandatory : No Calculator : None Response Time : N.A Think Time : N.A Minimum Instruction Time : 0

Correct Marks : 5 Wrong Marks : 1

Question Key Details :

Key	Value
Comprehension	MCQ1

The Government of India issued a postal stamp on a miniature Painting. Identify the painting of Rajasthani school?

1. Maru Ragini
2. Chaugan Players
3. Krishna on Swing
4. Bani Thani

Options :

485584144561. 1
485584144562. 2
485584144563. 3
485584144564. 4

Question Number : 206 Question Id : 48558436141 Question Type : MCQ Option Shuffling : No Is Question Mandatory : No Calculator : None Response Time : N.A Think Time : N.A Minimum Instruction Time : 0

Correct Marks : 5 Wrong Marks : 1

Question Key Details :

Key	Value
Comprehension	MCQ1

भारत सरकार ने एक लघु चित्रकला पर एक डाक टिकट जारी किया है। राजस्थानी शैली के चित्र को पहचानिए:

1. मारू रागिनी
2. चौगान खिलाड़ी
3. शूले पर कृष्ण
4. बनी-ठनी

Options :

485584144561. 1
485584144562. 2
485584144563. 3
485584144564. 4

Question Number : 206 Question Id : 48558436141 Question Type : MCQ Option Shuffling : No Is Question Mandatory : No Calculator : None Response Time : N.A Think Time : N.A Minimum Instruction Time : 0

Correct Marks : 5 Wrong Marks : 1

Question Key Details :

Key	Value
Comprehension	MCQ1

ভাৰত চৰকাৰে মিন.এচিউৰ চিত্ৰশিল্পৰ এটা ডাক-টিকট উলিয়াইছিল। ৰাজস্থানী শৈলীৰ চিত্ৰশিল্প কোনটো ?

1. মাৰো ৰাগিনী
2. চৌপান জ্বেয়াৰচ
3. কৃষ্ণ অন চুইং
4. বানী থানী

Options :

485584144561. 1
485584144562. 2
485584144563. 3
485584144564. 4

Question Number : 206 Question Id : 48558436141 Question Type : MCQ Option Shuffling : No Is Question Mandatory : No Calculator : None Response Time : N.A Think Time : N.A Minimum Instruction Time : 0

Correct Marks : 5 Wrong Marks : 1

Question Key Details :

Key	Value
Comprehension	MCQ1

ভাৰত সৰকাৰৰ এটি মিনিষ্ট্ৰিয়েচ্যৰ পেণ্টিং এৰ আদলে এটি পোস্টাল ষ্টাম্প প্ৰকাশিত কৰে। কোন ৰাজস্থানী স্কুলেৰ পেণ্টিং সেটা উল্লেখ কৰো ?

1. মাৰু ৰাগিনী
2. চৌপান খেলোয়াৰ
3. দোলনাৰ বসা কৃষ্ণ
4. বানী থানী

Options :

485584144561. 1
485584144562. 2
485584144563. 3
485584144564. 4

Question Number : 206 Question Id : 48558436141 Question Type : MCQ Option Shuffling : No Is Question Mandatory : No Calculator : None Response Time : N.A Think Time : N.A Minimum Instruction Time : 0

Correct Marks : 5 Wrong Marks : 1

Question Key Details :

Key	Value
Comprehension	MCQ1

भारत सरकार बमु पेंडिंग उपर पीस्टव टिकिट बकार पाडी छे. राजस्थानी सूबनु ते पेंडिंग ओणयो.

1. मारु रागीनी
2. यौगान रमतवीरी
3. कुषा उपर कृषा
4. बनी धनी

Options :

485584144561. 1
485584144562. 2
485584144563. 3
485584144564. 4

Question Number : 206 Question Id : 48558436141 Question Type : MCQ Option Shuffling : No Is Question Mandatory : No Calculator : None Response Time : N.A Think Time : N.A Minimum Instruction Time : 0

Correct Marks : 5 Wrong Marks : 1

Question Key Details :

Key	Value
Comprehension	MCQ1

ಭಾರತ ಸರ್ಕಾರವು ಒಂದು ಬೆಕನಿ/ಕರು ಬೆತ್ಯಕಲೆಯ ಮೇಲೆ ಅಂಚೆ ಬೇಟಿಯನ್ನು ಬಿಡುಗಡೆಗೊಳಿಸಿತು.
ರಾಜಸ್ಥಾನ ಕಾಲೆಯ ಬೆತ್ಯಕಲೆಯನ್ನು ಗುರುತಿಸಿ.

1. ಮಾರು ರಾಗಿನಿ
2. ಯೌಗಾಬಾರದ ಆಟಗಾರರು
3. ಕುಷಾ ಯೇ ಮೇಲಿರುವ ಕೃಷಿ
4. ಬನಿ ತಾನಿ

Options :

485584144561. 1
485584144562. 2
485584144563. 3
485584144564. 4

Question Number : 206 Question Id : 48558436141 Question Type : MCQ Option Shuffling : No Is Question Mandatory : No Calculator : None Response Time : N.A Think Time : N.A Minimum Instruction Time : 0

Correct Marks : 5 Wrong Marks : 1

Question Key Details :

Key	Value
Comprehension	MCQ1

രാജസ്ഥാനി സമ്പ്രദായത്തിലെ ഏത് മിനിയച്ചേർ പെയിന്റിങ്ങിന്റെ പോസ്റ്റൽ സ്റ്റാമ്പാണ് ഇന്ത്യൻ ഗവൺമെന്റ് ഇറക്കിയിട്ടുള്ളത്?

1. മരു രാഗിണി
2. ചൌഗാൻ ഷേയോക്
3. കൃഷ്ണൻ ഊഞ്ഞാലിൽ
4. ബാനി താനി

Options :

485584144561. 1
485584144562. 2

485584144563. 3

485584144564. 4

Question Number : 206 Question Id : 48558436141 Question Type : MCQ Option Shuffling : No Is Question Mandatory : No Calculator : None
Response Time : N.A Think Time : N.A Minimum Instruction Time : 0

Correct Marks : 5 Wrong Marks : 1

Question Key Details :

Key	Value
Comprehension	MCQ1

भारत सरकारने लघुचित्र टपाल तिकीटावर छापले? त्यापरिल खालील पैकी कोणते राजस्थानी शाळेतील चित्र होते ते ओळखा?

1. मारु रागिणी
2. चौगान खेळाडू
3. झोपाळ्यापरिल कृष्ण
4. बानी-धानी

Options :

485584144561. 1

485584144562. 2

485584144563. 3

485584144564. 4

Question Number : 206 Question Id : 48558436141 Question Type : MCQ Option Shuffling : No Is Question Mandatory : No Calculator : None
Response Time : N.A Think Time : N.A Minimum Instruction Time : 0

Correct Marks : 5 Wrong Marks : 1

Question Key Details :

Key	Value
Comprehension	MCQ1

ଭାରତ ସରକାର ଏକ ମିନି-ଫିଲ୍ମ ବିଜୁ ଉପରେ ଏକ ଡାକ ଥାଏ କରି କରୁଥିଲେ। ଉକ୍ତ ଡାକଟି ବିଦ୍ୟାରଣର ଛାତ୍ର ବିଜୁଟିକୁ ଚିତ୍ର କର ?

1. ମାଛ ଭାଜିଲି
2. ବରଗନ ଖେଳାଡ଼ି
3. ଚୋରାଢ଼ିରେ ବୁଝ
4. ବାରି ଥାଲି

Options :

485584144561. 1

485584144562. 2

485584144563. 3

485584144564. 4

Question Number : 206 Question Id : 48558436141 Question Type : MCQ Option Shuffling : No Is Question Mandatory : No Calculator : None
Response Time : N.A Think Time : N.A Minimum Instruction Time : 0

Correct Marks : 5 Wrong Marks : 1

Question Key Details :

Key	Value
Comprehension	MCQ1

ਭਾਰਤ ਸਰਕਾਰ ਨੇ ਲਗਭਗ ਸਿੱਤਰਾਂ ਲਈ ਪੋਸਟਲ ਸਟੈਂਪ ਜਾਰੀ ਕੀਤੇ, ਹੇਠਾਂ ਦਿੱਤੇ ਵਿਕਲਪਾਂ ਵਿੱਚੋਂ ਰਾਜਸਥਾਨੀ ਸਕੂਲ ਦੇ ਸਿੱਤਰ ਪਛਾਣੋ:

1. ਮਾਤੂ ਰਾਗਿਨੀ
2. ਸੰਗਾਨ ਖਿਡਾਰੀ
3. ਝੁਲੇ ਤੇ ਕ੍ਰਿਸ਼ਨ
4. ਬਾਨੀ ਠਾਨੀ

Options :

485584144561. 1
485584144562. 2
485584144563. 3
485584144564. 4

Question Number : 206 Question Id : 48558436141 Question Type : MCQ Option Shuffling : No Is Question Mandatory : No Calculator : None Response Time : N.A Think Time : N.A Minimum Instruction Time : 0

Correct Marks : 5 Wrong Marks : 1

Question Key Details :

Key	Value
Comprehension	MCQ1

ਇਹਨੂੰ ਅਰਥ. ਓਹੁ ਨੁਠਕਕਲੇ ਓਵਿਯਮ ਯੰਠਾਨੇ ਠੋਹੁ ਠਪਾਲ ਯੁਠੁਠਿਰੈਰਯੇ
ਵੇਲੀਯਿੱਠੁਠੁ. ਓਰਾਯੁਠੁਠਾਨੀਯ ਪਲੰਠੀਯਿੰ ਓਵਿਯਠੁਠੇਠੁ ਕਠੁਠੁਠੁਠੁ:

1. ਮਠੁ ਓਰਾਠੁਠੁਠੁ
2. ਸੇਠੁਕਠੁ ਪੰਠੁਠੁਠੁਠੁ
3. ਠੁਠੁਠੁਠੁ ਠੁਠੁ ਠੁਠੁਠੁਠੁ
4. ਪਾਠੁਠੁ-ਠੁਠੁਠੁ

Options :

485584144561. 1
485584144562. 2
485584144563. 3
485584144564. 4

Question Number : 206 Question Id : 48558436141 Question Type : MCQ Option Shuffling : No Is Question Mandatory : No Calculator : None Response Time : N.A Think Time : N.A Minimum Instruction Time : 0

Correct Marks : 5 Wrong Marks : 1

Question Key Details :

Key	Value
Comprehension	MCQ1

ਭਾਰਠੁ ਪੁਠੁਠੁਠੁਠੁ ਠੁਠੁਠੁ ਵਠੁ ਠੁਠੁਠੁਠੁਠੁ ਠੁਠੁ ਠੁਠੁਠੁ ਠੁਠੁਠੁ ਠੁਠੁਠੁ ਠੁਠੁਠੁਠੁ. ਠੁਠੁਠੁਠੁਠੁ ਠੁਠੁਠੁਠੁਠੁ
ਠੁਠੁਠੁਠੁ ਠੁਠੁਠੁਠੁਠੁਠੁ ਠੁਠੁਠੁਠੁਠੁਠੁ.

1. ਮਠੁ ਠੁਠੁਠੁ
2. ਠੁਠੁਠੁ ਠੁਠੁਠੁਠੁ
3. ਠੁਠੁਠੁ ਠੁਠੁਠੁਠੁ
4. ਠੁਠੁਠੁ ਠੁਠੁਠੁ

Options :

485584144561. 1
485584144562. 2

485584144563. 3
485584144564. 4

Question Number : 206 Question Id : 48558436141 Question Type : MCQ Option Shuffling : No Is Question Mandatory : No Calculator : None
Response Time : N.A Think Time : N.A Minimum Instruction Time : 0
Correct Marks : 5 Wrong Marks : 1

Question Key Details :

Key	Value
Comprehension	MCQ1

حکومت ہند نے ایک چھوٹی سیبہ پینشننگ پر ڈاک ٹکٹ جاری کیا ہے۔ اس راجستھانی اسکول کی پینشننگ کی نشاندہی کریں؟

1. پرو رگھنی
2. جرجان کپڈڑی
3. کرشنا جیولے پر
4. ہلی تیلی

Options :

485584144561. 1
485584144562. 2
485584144563. 3
485584144564. 4

Question Number : 207 Question Id : 48558436142 Question Type : MCQ Option Shuffling : No Is Question Mandatory : No Calculator : None
Response Time : N.A Think Time : N.A Minimum Instruction Time : 0
Correct Marks : 5 Wrong Marks : 1

Question Key Details :

Key	Value
Comprehension	MCQ1

From which Purana "Krishna lifts Mount Govardhan." is attributed to Miskin (1585-90).

1. Harivansam Purana
2. Harivansa Purana
3. Hari Purana
4. Harivaa Purana

Options :

485584144565. 1
485584144566. 2
485584144567. 3
485584144568. 4

Question Number : 207 Question Id : 48558436142 Question Type : MCQ Option Shuffling : No Is Question Mandatory : No Calculator : None
Response Time : N.A Think Time : N.A Minimum Instruction Time : 0
Correct Marks : 5 Wrong Marks : 1

Question Key Details :

Key	Value
Comprehension	MCQ1

"कृष्ण गोवर्धन पर्वत उठाते हुए" चित्र को मिस्किन (1585-90) ने किस पुराण से उल्लेख किया है?

1. हरिवंशम पुराण
2. हरिवंश पुराण
3. हरि पुराण
4. हरिवन पुराण

Options :

485584144565. 1
485584144566. 2
485584144567. 3
485584144568. 4

Question Number : 207 Question Id : 48558436142 Question Type : MCQ Option Shuffling : No Is Question Mandatory : No Calculator : None Response Time : N.A Think Time : N.A Minimum Instruction Time : 0

Correct Marks : 5 Wrong Marks : 1

Question Key Details :

Key	Value
Comprehension	MCQ1

কোনখন পুৰাণত "কৃষ্ণই গোবৰ্ধন পৰ্বত দাঙি ধৰা" মিচিকনৰ কথা লিখা আছে ?

1. হৰিবংশম পুৰাণ
2. হৰিবংশ পুৰাণ
3. হৰি পুৰাণ
4. হৰিভন পুৰাণ

Options :

485584144565. 1
485584144566. 2
485584144567. 3
485584144568. 4

Question Number : 207 Question Id : 48558436142 Question Type : MCQ Option Shuffling : No Is Question Mandatory : No Calculator : None Response Time : N.A Think Time : N.A Minimum Instruction Time : 0

Correct Marks : 5 Wrong Marks : 1

Question Key Details :

Key	Value
Comprehension	MCQ1

मिस्किन (1585-90) पुराणेर कोन "कृष्ण लिफटस माउन्ट गोवार्धन" हबिते उल्लेख पाय

1. हरिभनसम पुरान
2. हरिभमसा पुरान
3. हरि पुरान
4. हरिभान पुरान

Options :

485584144565. 1
485584144566. 2
485584144567. 3
485584144568. 4

Question Number : 207 Question Id : 48558436142 Question Type : MCQ Option Shuffling : No Is Question Mandatory : No Calculator : None Response Time : N.A Think Time : N.A Minimum Instruction Time : 0

Correct Marks : 5 Wrong Marks : 1

Question Key Details :

Key	Value
Comprehension	MCQ1

શ્રી પુરાણમાંથીનું ચિત્ર "કિંજી ગોવર્ધન પર્વત ઉઠાવે છે" મિસ્કીનને (1585-90) મળે છે

1. હરિવંશમ પુરાણ
2. હરિવમશા પુરાણ
3. હરિ પુરાણ
4. હરિવન પુરાણ

Options :

485584144565. 1
485584144566. 2
485584144567. 3
485584144568. 4

Question Number : 207 Question Id : 48558436142 Question Type : MCQ Option Shuffling : No Is Question Mandatory : No Calculator : None Response Time : N.A Think Time : N.A Minimum Instruction Time : 0

Correct Marks : 5 Wrong Marks : 1

Question Key Details :

Key	Value
Comprehension	MCQ1

મૈત્રીના સંબંધીકૃત (1585-90) "ગૌરવર્ધન પર્વતવન્નૈત્તુવ ક્ષપ્ત્" યાવ પુરાણદ્યુ?

1. કરિવંશં પુરાણ
2. કરિવંશ પુરાણ
3. કરિપુરાણ
4. કરિવાના પુરાણ

Options :

485584144565. 1
485584144566. 2
485584144567. 3
485584144568. 4

Question Number : 207 Question Id : 48558436142 Question Type : MCQ Option Shuffling : No Is Question Mandatory : No Calculator : None Response Time : N.A Think Time : N.A Minimum Instruction Time : 0

Correct Marks : 5 Wrong Marks : 1

Question Key Details :

Key	Value
Comprehension	MCQ1

മിസ്സിയെഴുതി "ഗോരീവർദ്ദന പരീവൃതം ഉയർത്തുന്ന കൃഷ്ണൻ" ഏത് പുരാണത്തിൽ നിന്നുള്ളതാണ് ?

1. ഹരിവാസന പുരാണം
2. ഹരിവംശ പുരാണം
3. ഹരി പുരാണം
4. ഹരിവൻ പുരാണം

Options :

- 485584144565. 1
- 485584144566. 2
- 485584144567. 3
- 485584144568. 4

Question Number : 207 Question Id : 48558436142 Question Type : MCQ Option Shuffling : No Is Question Mandatory : No Calculator : None Response Time : N.A Think Time : N.A Minimum Instruction Time : 0

Correct Marks : 5 Wrong Marks : 1

Question Key Details :

Key	Value
Comprehension	MCQ1

"कृष्णाने गोवर्धन पर्वत उचलला" याचे गुणविशेष मिस्किनने (1585-90) मध्ये कोणत्या पुराणातून घेतला?

1. हरिवंश पुराण
2. हरिवंसा पुराण
3. हरि पुराण
4. हरिवन पुराण

Options :

- 485584144565. 1
- 485584144566. 2
- 485584144567. 3
- 485584144568. 4

Question Number : 207 Question Id : 48558436142 Question Type : MCQ Option Shuffling : No Is Question Mandatory : No Calculator : None Response Time : N.A Think Time : N.A Minimum Instruction Time : 0

Correct Marks : 5 Wrong Marks : 1

Question Key Details :

Key	Value
Comprehension	MCQ1

କେଉଁ ପୁରାଣରୁ ନିର୍ଦ୍ଧାରଣ (1585-90) ବୁଝାଇଥିଲା "ବୁଦ୍ଧ ଗୋବର୍ଦ୍ଧନ ପର୍ବର ଉପଲକ୍ଷଣ ଦୃଶ୍ୟ" ଥାନୀ ?

1. ହରିବଂଶ ପୁରାଣ
2. ହରିବଂସ ପୁରାଣ
3. ହରି ପୁରାଣ
4. ହରିବନ ପୁରାଣ

Options :

- 485584144565. 1
- 485584144566. 2

485584144567. 3

485584144568. 4

Question Number : 207 Question Id : 48558436142 Question Type : MCQ Option Shuffling : No Is Question Mandatory : No Calculator : None
Response Time : N.A Think Time : N.A Minimum Instruction Time : 0

Correct Marks : 5 Wrong Marks : 1

Question Key Details :

Key	Value
Comprehension	MCQ1

ਕਿਹੜੇ ਪੁਰਾਨ " ਕ੍ਰਿਸ਼ਨ ਨੇ ਗੋਵਰਧਨ ਪਰਬਤ ਚੁੱਕਿਆ " ਮਿਸਕੀਨ (1585-90) ਨਾਲ ਸੰਬੰਧਿਤ ਹੈ?

1. ਹਰਿਵੰਸ਼ਮ ਪੁਰਾਨ
2. ਹਰੀਵੰਸ਼ਮ ਪੁਰਾਨ
3. ਹਰੀ ਪੁਰਾਨ
4. ਹਰੀਵੰਸ਼ ਪੁਰਾਨ

Options :

485584144565. 1

485584144566. 2

485584144567. 3

485584144568. 4

Question Number : 207 Question Id : 48558436142 Question Type : MCQ Option Shuffling : No Is Question Mandatory : No Calculator : None
Response Time : N.A Think Time : N.A Minimum Instruction Time : 0

Correct Marks : 5 Wrong Marks : 1

Question Key Details :

Key	Value
Comprehension	MCQ1

"ਮਿੱਠਕਿਨੂਕੁ (1585-90) ਅਰੰਭਿਕਕਪਪੳੳ "ਕਿਰੁਞੁਣਾ ਨੀਪੳੳ ਮੇਲੳੳ" ਂਪਪੁ
ਂਠੁ ਪੁਰਾਣਕੁਕਿਕਿਰੁਠੁ ਂੳਕੁਕਪੳੳੳੳ?

1. ਠੁਰੀਵੳੳਮ ਪੁਰਾਣਮ
2. ਠੁਰੀਵਮੳ ਪੁਰਾਣਮ
3. ਠੁਰੀ ਪੁਰਾਣਮ
4. ਠੁਰੀਵੳੳ ਪੁਰਾਣਮ

Options :

485584144565. 1

485584144566. 2

485584144567. 3

485584144568. 4

Question Number : 207 Question Id : 48558436142 Question Type : MCQ Option Shuffling : No Is Question Mandatory : No Calculator : None
Response Time : N.A Think Time : N.A Minimum Instruction Time : 0

Correct Marks : 5 Wrong Marks : 1

Question Key Details :

Key	Value
Comprehension	MCQ1

ఏ ప్రరాణంలోని "కృషుడు గోవర్ధన గిరిని ఎత్తడం" అనేది మిస్కిన్ (1585-90) కి ఆపాదించబడింది.

1. హరివంశం ప్రరాణం
2. హరివంశ ప్రరాణం
3. హరి ప్రరాణం
4. హరివన్ ప్రరాణం

Options :

485584144565. 1
485584144566. 2
485584144567. 3
485584144568. 4

Question Number : 207 Question Id : 48558436142 Question Type : MCQ Option Shuffling : No Is Question Mandatory : No Calculator : None Response Time : N.A Think Time : N.A Minimum Instruction Time : 0

Correct Marks : 5 Wrong Marks : 1

Question Key Details :

Key	Value
Comprehension	MCQ1

گند پوران (Purana) سے (کرشن گوادھن بیڑا اجاتے ہیں) کو مسکن (Miskin) (1585-90) سے منسوب ہے ؟

1. بری وشم پوران
2. بری وسم پوران
3. بری پوران
4. بری ون پوران

Options :

485584144565. 1
485584144566. 2
485584144567. 3
485584144568. 4

Question Number : 208 Question Id : 48558436143 Question Type : MCQ Option Shuffling : No Is Question Mandatory : No Calculator : None Response Time : N.A Think Time : N.A Minimum Instruction Time : 0

Correct Marks : 5 Wrong Marks : 1

Question Key Details :

Key	Value
Comprehension	MCQ1

Ragini Pathamsika of Raga Hinadola belongs to which miniature painting.

1. Mughal miniature painting
2. Rajasthani miniature painting
3. Pahari miniature painting
4. Deccani miniature painting

Options :

485584144569. 1
485584144570. 2
485584144571. 3
485584144572. 4

Question Number : 208 Question Id : 48558436143 Question Type : MCQ Option Shuffling : No Is Question Mandatory : No Calculator : None
Response Time : N.A Think Time : N.A Minimum Instruction Time : 0

Correct Marks : 5 Wrong Marks : 1

Question Key Details :

Key	Value
Comprehension	MCQ1

राग हिंडोला की रागिनी पथमसिका किस लघु चित्रशैली से सम्बंधित है?

1. मुगल लघु चित्रशैली
2. राजस्थानी लघु चित्रशैली
3. पहाड़ी लघु चित्रशैली
4. दक्कनी लघु चित्रशैली

Options :

485584144569. 1
485584144570. 2
485584144571. 3
485584144572. 4

Question Number : 208 Question Id : 48558436143 Question Type : MCQ Option Shuffling : No Is Question Mandatory : No Calculator : None
Response Time : N.A Think Time : N.A Minimum Instruction Time : 0

Correct Marks : 5 Wrong Marks : 1

Question Key Details :

Key	Value
Comprehension	MCQ1

ৰাগা হিমাঢ়লাৰ ৰাগিণী পথমচিকা কোনখন মিনিএচিউৰ চিত্ৰশিল্পৰ অঙ্গৰ্গতি?

1. মুগল মিনিএচিউৰ শিল্প
2. ৰাজস্থানী মিনিএচিউৰ শিল্প
3. পাহাৰী মিনিএচিউৰ শিল্প
4. ডাক্কানী মিনিএচিউৰ শিল্প

Options :

485584144569. 1
485584144570. 2
485584144571. 3
485584144572. 4

Question Number : 208 Question Id : 48558436143 Question Type : MCQ Option Shuffling : No Is Question Mandatory : No Calculator : None
Response Time : N.A Think Time : N.A Minimum Instruction Time : 0

Correct Marks : 5 Wrong Marks : 1

Question Key Details :

Key	Value
Comprehension	MCQ1

ರಾಗಾ ಹಿಮದೋಲಾರ ರಾಗಿನಿ ಪಥಮಸೀಕಾ ಕೂನ ಮಿನೀಚಾರ ಪೆನ್ಡಿಂಗಳರ ?

1. ಮೂಲ ಮಿನೀಚಾರ ಪೆನ್ಡಿಂ
2. ರಾಜಸ್ಥಾನಿ ಮಿನೀಚಾರ ಪೆನ್ಡಿಂ
3. ಪಾಹಾಡಿ ಮಿನೀಚಾರ ಪೆನ್ಡಿಂ
4. ಡೆಕಾನಿ ಮಿನೀಚಾರ ಪೆನ್ಡಿಂ

Options :

485584144569. 1
485584144570. 2
485584144571. 3
485584144572. 4

Question Number : 208 Question Id : 48558436143 Question Type : MCQ Option Shuffling : No Is Question Mandatory : No Calculator : None Response Time : N.A Think Time : N.A Minimum Instruction Time : 0

Correct Marks : 5 Wrong Marks : 1

Question Key Details :

Key	Value
Comprehension	MCQ1

ರಾಗ ಡಿಡಿಬಾನಾ ರಾಗಿನಿ ಪಥಮಸೀಕಾ ಯೆ ಖಾಂ ಬಧುಯಿತ್ರ ಪೆಂಟ್ಲಿಂಗಥಿ ಸಂಬಂಧಿತ ಲೆ.

1. ಮೂಲ ಬಧುಯಿತ್ರ ಪೆಂಟ್ಲಿಂಗ
2. ರಾಜಸ್ಥಾನಿ ಬಧುಯಿತ್ರ ಪೆಂಟ್ಲಿಂಗ
3. ಪಾಹಾಡಿ ಬಧುಯಿತ್ರ ಪೆಂಟ್ಲಿಂಗ
4. ಡೆಕಾನಿ ಬಧುಯಿತ್ರ ಪೆಂಟ್ಲಿಂಗ

Options :

485584144569. 1
485584144570. 2
485584144571. 3
485584144572. 4

Question Number : 208 Question Id : 48558436143 Question Type : MCQ Option Shuffling : No Is Question Mandatory : No Calculator : None Response Time : N.A Think Time : N.A Minimum Instruction Time : 0

Correct Marks : 5 Wrong Marks : 1

Question Key Details :

Key	Value
Comprehension	MCQ1

ರಾಗ ಹಿಂಯೋಳದ ರಾಗಣಿ ಪಥಮಸೀಕಾ ಸೇರುವುದು ಯಾವ ಚಿಕಣಿ/ಕಿರು ಚಿತ್ರಕಲೆಗೆ?

1. ಮೂಘಲ್ ಚಿಕಣಿ/ಕಿರುಚಿತ್ರಕಲೆ
2. ರಾಜಸ್ಥಾನಿ ಚಿಕಣಿ/ಕಿರುಚಿತ್ರಕಲೆ
3. ಪಹಾರಿ ಚಿಕಣಿ/ಕಿರುಚಿತ್ರಕಲೆ
4. ಡೆಕ್ಕನ್ ಚಿಕಣಿ/ಕಿರುಚಿತ್ರಕಲೆ

Options :

485584144569. 1
485584144570. 2
485584144571. 3
485584144572. 4

Question Number : 208 Question Id : 48558436143 Question Type : MCQ Option Shuffling : No Is Question Mandatory : No Calculator : None Response Time : N.A Think Time : N.A Minimum Instruction Time : 0

Correct Marks : 5 Wrong Marks : 1

Question Key Details :

Key	Value
Comprehension	MCQ1

ഹിമദോള രാഗത്തിലെ രാഗിണി പതാംസിക ഏത് മിനിയച്ചർ പെയിന്റിങ്ങിൽ ഉൾപ്പെടുന്നു?

1. മൂഗൾ മിനിയച്ചർ പെയിന്റിങ്ങ്
2. രാജസ്ഥാനി മിനിയച്ചർ പെയിന്റിങ്ങ്
3. പഹാരി മിനിയച്ചർ പെയിന്റിങ്ങ്
4. ഡക്കാനി മിനിയച്ചർ പെയിന്റിങ്ങ്

Options :

- 485584144569. 1
- 485584144570. 2
- 485584144571. 3
- 485584144572. 4

Question Number : 208 Question Id : 48558436143 Question Type : MCQ Option Shuffling : No Is Question Mandatory : No Calculator : None Response Time : N.A Think Time : N.A Minimum Instruction Time : 0

Correct Marks : 5 Wrong Marks : 1

Question Key Details :

Key	Value
Comprehension	MCQ1

राम हिमडोला यातील रागिणी पथमसिका कोणत्या लघु चित्रकलेतील घटक आहे?

1. मुथल लघु चित्रकला
2. राजस्थानी लघु चित्रकला
3. पहाडी लघु चित्रकला
4. दख्खन लघु चित्रकला

Options :

- 485584144569. 1
- 485584144570. 2
- 485584144571. 3
- 485584144572. 4

Question Number : 208 Question Id : 48558436143 Question Type : MCQ Option Shuffling : No Is Question Mandatory : No Calculator : None Response Time : N.A Think Time : N.A Minimum Instruction Time : 0

Correct Marks : 5 Wrong Marks : 1

Question Key Details :

Key	Value
Comprehension	MCQ1

ଉତ୍ତର ଦିଗରେ ଉତ୍ତର ଭାଗରେ ପାଥନସୂଚୀ କେଉଁ ନିର୍ଦ୍ଦେଶ ଦେବ ?

1. ଉତ୍ତର ନିର୍ଦ୍ଦେଶ ଦେବ
2. ଉତ୍ତରୀ ନିର୍ଦ୍ଦେଶ ଦେବ
3. ପାଥନ ନିର୍ଦ୍ଦେଶ ଦେବ
4. ଉତ୍ତରୀ ନିର୍ଦ୍ଦେଶ ଦେବ

Options :

485584144569. 1
485584144570. 2
485584144571. 3
485584144572. 4

Question Number : 208 Question Id : 48558436143 Question Type : MCQ Option Shuffling : No Is Question Mandatory : No Calculator : None Response Time : N.A Think Time : N.A Minimum Instruction Time : 0

Correct Marks : 5 Wrong Marks : 1

Question Key Details :

Key	Value
Comprehension	MCQ1

ସଂଗ୍ରହ ଉପରେ ଉପରୋକ୍ତ କାହାଣୀର ଅର୍ଥ କଣ ?

1. ଉପରୋକ୍ତ ଅର୍ଥ
2. ଉପରୋକ୍ତ ଅର୍ଥ
3. ଉପରୋକ୍ତ ଅର୍ଥ
4. ଉପରୋକ୍ତ ଅର୍ଥ

Options :

485584144569. 1
485584144570. 2
485584144571. 3
485584144572. 4

Question Number : 208 Question Id : 48558436143 Question Type : MCQ Option Shuffling : No Is Question Mandatory : No Calculator : None Response Time : N.A Think Time : N.A Minimum Instruction Time : 0

Correct Marks : 5 Wrong Marks : 1

Question Key Details :

Key	Value
Comprehension	MCQ1

ଉପରୋକ୍ତ ଉପରୋକ୍ତ କାହାଣୀର ଅର୍ଥ କଣ ?

1. ଉପରୋକ୍ତ ଅର୍ଥ
2. ଉପରୋକ୍ତ ଅର୍ଥ
3. ଉପରୋକ୍ତ ଅର୍ଥ
4. ଉପରୋକ୍ତ ଅର୍ଥ

Options :

485584144569. 1
485584144570. 2

485584144571. 3
485584144572. 4

Question Number : 208 Question Id : 48558436143 Question Type : MCQ Option Shuffling : No Is Question Mandatory : No Calculator : None
Response Time : N.A Think Time : N.A Minimum Instruction Time : 0

Correct Marks : 5 Wrong Marks : 1

Question Key Details :

Key	Value
Comprehension	MCQ1

రాగ హిమదోలలోని రాగాణి పతంసిక ఏ లఘు వర్ణ చిత్రానికి చెందినది.

1. మొఘల్ లఘు వర్ణ చిత్రాలు
2. రాజస్థానీ లఘు వర్ణ చిత్రాలు
3. వహారీ లఘు వర్ణ చిత్రాలు
4. దెక్కని లఘు వర్ణ చిత్రాలు

Options :

485584144569. 1
485584144570. 2
485584144571. 3
485584144572. 4

Question Number : 208 Question Id : 48558436143 Question Type : MCQ Option Shuffling : No Is Question Mandatory : No Calculator : None
Response Time : N.A Think Time : N.A Minimum Instruction Time : 0

Correct Marks : 5 Wrong Marks : 1

Question Key Details :

Key	Value
Comprehension	MCQ1

گنر جیوٹی شبہ پینٹنگ (miniature painting) سے راگنی بنہم سیکا آف راگنا بیما دو لا کا تعلق کیا ؟

1. محل جیوٹی شبہ پینٹنگ
2. راجستھانی جیوٹی شبہ پینٹنگ
3. بیاری جیوٹی شبہ پینٹنگ
4. دکنی جیوٹی شبہ پینٹنگ

Options :

485584144569. 1
485584144570. 2
485584144571. 3
485584144572. 4

Question Number : 209 Question Id : 48558436144 Question Type : MCQ Option Shuffling : No Is Question Mandatory : No Calculator : None
Response Time : N.A Think Time : N.A Minimum Instruction Time : 0

Correct Marks : 5 Wrong Marks : 1

Question Key Details :

Key	Value
Comprehension	MCQ1

The Persian Translation and illustrated version of the Hindu epic Mahabharata is known as _____.

1. Hamza Nama
2. Razm Nama
3. Akbar Nama
4. Jahangir Nama

Options :

485584144573. 1
485584144574. 2
485584144575. 3
485584144576. 4

Question Number : 209 Question Id : 48558436144 Question Type : MCQ Option Shuffling : No Is Question Mandatory : No Calculator : None Response Time : N.A Think Time : N.A Minimum Instruction Time : 0

Correct Marks : 5 Wrong Marks : 1

Question Key Details :

Key	Value
Comprehension	MCQ1

हिन्दू महाग्रंथ महाभारत का फ़ारसी अनुवाद और वर्णन रूपान्तर, निम्न में से क्या जाना जाता है:

1. हमज़ा नामा
2. रज़म नामा
3. अकबर नामा
4. ज़हाँगीर नामा

Options :

485584144573. 1
485584144574. 2
485584144575. 3
485584144576. 4

Question Number : 209 Question Id : 48558436144 Question Type : MCQ Option Shuffling : No Is Question Mandatory : No Calculator : None Response Time : N.A Think Time : N.A Minimum Instruction Time : 0

Correct Marks : 5 Wrong Marks : 1

Question Key Details :

Key	Value
Comprehension	MCQ1

হিন্দু মহাকাব্য মহাভারত, পার্শীয়ান অনুবাদ আৰু সচিত্ৰ সংস্কৰণ কোনটো হয় ?

1. হামজা নামা
2. ৰাজম নামা
3. আকবৰ নামা
4. জাহাংগীৰ নামা

Options :

485584144573. 1
485584144574. 2
485584144575. 3
485584144576. 4

Question Number : 209 Question Id : 48558436144 Question Type : MCQ Option Shuffling : No Is Question Mandatory : No Calculator : None
Response Time : N.A Think Time : N.A Minimum Instruction Time : 0

Correct Marks : 5 Wrong Marks : 1

Question Key Details :

Key	Value
Comprehension	MCQ1

ফরাসি ভাষায় লেখা ও বিশ্লেষিত হিন্দু মহাকাব্য মহাভারতের নাম কি _____ ।

1. হামজা নামা
2. রাজম নামা
3. আকবর নামা
4. জাহাঙ্গীর নামা

Options :

485584144573. 1
485584144574. 2
485584144575. 3
485584144576. 4

Question Number : 209 Question Id : 48558436144 Question Type : MCQ Option Shuffling : No Is Question Mandatory : No Calculator : None
Response Time : N.A Think Time : N.A Minimum Instruction Time : 0

Correct Marks : 5 Wrong Marks : 1

Question Key Details :

Key	Value
Comprehension	MCQ1

হিন্দু মহাকাব্য মহাভারতনু হারসী সাধাंतर અને સચિત્ર સંસ્કરણ _____ તરીકે ઓળખાય છે.

1. હમજાનામા
2. રામનામા
3. અકબરનામા
4. જહાંગીર નામા

Options :

485584144573. 1
485584144574. 2
485584144575. 3
485584144576. 4

Question Number : 209 Question Id : 48558436144 Question Type : MCQ Option Shuffling : No Is Question Mandatory : No Calculator : None
Response Time : N.A Think Time : N.A Minimum Instruction Time : 0

Correct Marks : 5 Wrong Marks : 1

Question Key Details :

Key	Value
Comprehension	MCQ1

ಹಿಂದೂ ಪುರಾಣ ಗ್ರಂಥ ಮಹಾಭಾರತ ಪರ್ವಿಯನ್ ಅನುವಾದಿತ ಮತ್ತು ಚಿತ್ರಕಲಾತ್ಮಕವಾಗಿರುವುದನ್ನು
ಹೀಗೊಂದು ತಿಳಿಯಲಾಗಿದೆ:

1. ಶಂಕು ನಾಮ
2. ರಜ್ಜು ನಾಮ
3. ಅಕ್ಕರ ನಾಮ
4. ಜಹಾಂಗೀರ್ ನಾಮ

Options :

485584144573. 1
485584144574. 2
485584144575. 3
485584144576. 4

**Question Number : 209 Question Id : 48558436144 Question Type : MCQ Option Shuffling : No Is Question Mandatory : No Calculator : None
Response Time : N.A Think Time : N.A Minimum Instruction Time : 0**

Correct Marks : 5 Wrong Marks : 1

Question Key Details :

Key	Value
Comprehension	MCQ1

ಛಾಂದೋಗ್ಯೋಪನಿಷದ್‌ಗಳಲ್ಲಿ ದೇವತಾಪೂಜೆಯನ್ನು ಕುರಿತು ವಿವರಿಸಿರುವ ಪುಸ್ತಕವು ಯಾವುದು ?

1. ಛಾಂದೋಗ್ಯೋಪನಿಷದ್
2. ತೈತ್ತಿರಿಯೋಪನಿಷದ್
3. ಅಥರ್ವಣೋಪನಿಷದ್
4. ಜುಹೋಪನಿಷದ್

Options :

485584144573. 1
485584144574. 2
485584144575. 3
485584144576. 4

**Question Number : 209 Question Id : 48558436144 Question Type : MCQ Option Shuffling : No Is Question Mandatory : No Calculator : None
Response Time : N.A Think Time : N.A Minimum Instruction Time : 0**

Correct Marks : 5 Wrong Marks : 1

Question Key Details :

Key	Value
Comprehension	MCQ1

ಹಿಂದೂ ಮಹಾಕಾವ್ಯ ಮಹಾಭಾರತದ ಪರ್ವಿಯನ್ ಭಾಷಾಂತರ ಆವೃತ್ತಿ ಯಾವುದು ?

1. ಲಕ್ಷ್ಮಿ ನಾಮ
2. ರಜ್ಜು ನಾಮ
3. ಅಕಬರ್ ನಾಮ
4. ಜಹಾಂಗೀರ್ ನಾಮ

Options :

485584144573. 1
485584144574. 2

485584144575. 3

485584144576. 4

Question Number : 209 Question Id : 48558436144 Question Type : MCQ Option Shuffling : No Is Question Mandatory : No Calculator : None
Response Time : N.A Think Time : N.A Minimum Instruction Time : 0

Correct Marks : 5 Wrong Marks : 1

Question Key Details :

Key	Value
Comprehension	MCQ1

ହିନ୍ଦୁ ଏପିକ୍ ନିହାରିକାରେ ପାଣି ଅନୁବାଦ ଏବଂ ବିଭିନ୍ନ ସାଧୁଗଣ _____ ଭାବରେ ଚିତ୍ରାଙ୍କଣ।

1. ହନୁଜା ନାମା
2. ଉତ୍କଳ ନାମା
3. ଆକାଶର ନାମା
4. ଗାନ୍ଧାର୍ବିକ ନାମା

Options :

485584144573. 1

485584144574. 2

485584144575. 3

485584144576. 4

Question Number : 209 Question Id : 48558436144 Question Type : MCQ Option Shuffling : No Is Question Mandatory : No Calculator : None
Response Time : N.A Think Time : N.A Minimum Instruction Time : 0

Correct Marks : 5 Wrong Marks : 1

Question Key Details :

Key	Value
Comprehension	MCQ1

ହିନ୍ଦୁ ମହାକାବି ମହାଭାରତ ਦੇ ପାଠକମାନଙ୍କୁ ଅନୁବାଦ ଏବଂ ସାହିତ୍ୟ ସମୀକ୍ଷକମାନଙ୍କୁ _____ ଜାଣିଆଁ କରାଯାଇଛି।

1. ହନୁଜା ନାମା
2. ଉତ୍କଳ ନାମା
3. ଆକାଶର ନାମା
4. ଗାନ୍ଧାର୍ବିକ ନାମା

Options :

485584144573. 1

485584144574. 2

485584144575. 3

485584144576. 4

Question Number : 209 Question Id : 48558436144 Question Type : MCQ Option Shuffling : No Is Question Mandatory : No Calculator : None
Response Time : N.A Think Time : N.A Minimum Instruction Time : 0

Correct Marks : 5 Wrong Marks : 1

Question Key Details :

Key	Value
Comprehension	MCQ1

ஹிந்து இதிகாசமான மகாபாரதத்தின், விவரமான விளக்கங்களுடனான பாரஸிக மொழிபெயர்ப்பு இவ்வாறு அழைக்கப்படுகிறது.

1. ஹம்ஸா நாமா
2. இரஸ்ம நாமா
3. அக்பர் நாமா
4. ஜஹாங்கீர் நாமா

Options :

485584144573. 1
485584144574. 2
485584144575. 3
485584144576. 4

Question Number : 209 Question Id : 48558436144 Question Type : MCQ Option Shuffling : No Is Question Mandatory : No Calculator : None Response Time : N.A Think Time : N.A Minimum Instruction Time : 0

Correct Marks : 5 Wrong Marks : 1

Question Key Details :

Key	Value
Comprehension	MCQ1

பெரியூன் ஐயல்கி அனுவதின் ஸிண்டூ ஸுராணம் மஹாபாரதம் சித்ரீகரினின் ஸம்ஸ்கரணம் லெமனி ஸிலுஸ்தூரு.

1. ஹம்ஸா நாமா
2. இரஸ்ம நாமா
3. அக்பர் நாமா
4. ஜஹாங்கீர் நாமா

Options :

485584144573. 1
485584144574. 2
485584144575. 3
485584144576. 4

Question Number : 209 Question Id : 48558436144 Question Type : MCQ Option Shuffling : No Is Question Mandatory : No Calculator : None Response Time : N.A Think Time : N.A Minimum Instruction Time : 0

Correct Marks : 5 Wrong Marks : 1

Question Key Details :

Key	Value
Comprehension	MCQ1

ہندو ورمہ ماہا بھارت (Mahabharata) کا فارسی ترجمہ اور تفصیلی ورژن کس نام سے جانا جاتا ہے ؟

1. ہمزہ نامہ
2. رزم نامہ
3. اکبر نامہ
4. جہاں گیر نامہ

Options :

485584144573. 1
485584144574. 2
485584144575. 3

485584144576. 4

Question Number : 210 Question Id : 48558436145 Question Type : MCQ Option Shuffling : No Is Question Mandatory : No Calculator : None Response Time : N.A Think Time : N.A Minimum Instruction Time : 0 Correct Marks : 5 Wrong Marks : 1

Question Key Details :

Key	Value
Comprehension	MCQ1

Humayun invited of the two which Persian artists to establish a studio in his court and carry out royal paintings.

1. Mir Sayyid Ali and Abd -uu -Samad
2. Mir Nazar Ali and Abd- us-Ahmad
3. Mir Sayyid Khan and Abd -us- Sansar
4. Mir Sazid and Abd us Sazid

Options :

485584144577. 1
485584144578. 2
485584144579. 3
485584144580. 4

Question Number : 210 Question Id : 48558436145 Question Type : MCQ Option Shuffling : No Is Question Mandatory : No Calculator : None Response Time : N.A Think Time : N.A Minimum Instruction Time : 0 Correct Marks : 5 Wrong Marks : 1

Question Key Details :

Key	Value
Comprehension	MCQ1

हुमायूँ ने किन दो फारसी कलाकारों को एक स्टूडियो स्थापित करने और शाही चित्रों को बनाने के लिए अपने दरबार में बुलाया था?

1. मीर सैय्यद अली और अबद-उस-समद
2. मीर नजर अली और अबद-उस-अहमद
3. मीर सैय्यद खान और अबद-उस-संसार
4. मीर साजिद और अबद-उस-साजिद

Options :

485584144577. 1
485584144578. 2
485584144579. 3
485584144580. 4

Question Number : 210 Question Id : 48558436145 Question Type : MCQ Option Shuffling : No Is Question Mandatory : No Calculator : None Response Time : N.A Think Time : N.A Minimum Instruction Time : 0 Correct Marks : 5 Wrong Marks : 1

Question Key Details :

Key	Value
Comprehension	MCQ1

হুমায়ুন কোন দুজন শিল্পীক রয়েল শিল্প আৰু কৰ্ট কমৰ বগৰণে ঠিক কৰিছিল ?

1. মির চৈয়দ আলী আৰু আব্দ-আচ্-শামদ
2. মির নজৰ আলী আৰু আব্দ-আচ্-আহমদ
3. মির চৈয়দ খান আৰু আব্দ - আচ্-চনসাব
4. মির চাজ্জীদ আৰু আব্দ আচ্ চাজ্জীদ

Options :

485584144577. 1
485584144578. 2
485584144579. 3
485584144580. 4

Question Number : 210 Question Id : 48558436145 Question Type : MCQ Option Shuffling : No Is Question Mandatory : No Calculator : None Response Time : N.A Think Time : N.A Minimum Instruction Time : 0

Correct Marks : 5 Wrong Marks : 1

Question Key Details :

Key	Value
Comprehension	MCQ1

হুমায়ুন দুই শিল্পীকে নিজেৰ দৰবাবে আমন্ত্ৰণ কৰেন এবং তারা গুনার দৰবাবে নিজেদের আলোক চিত্ৰশিল্পীৰ কাজেৰ ঘৰ বানান সেখানে রাজকীয় ছবি বানানোর জন্য । এই দুই শিল্পীৰ নাম কি ?

1. মির সাইদ আলী এবং অবদ-উস-সামাদ
2. মির নজর আলি এবং অবদ-উস-আহমদ
3. মির সাইদ খান এবং অবদ-উস-সনসাব
4. মির সাজ্জিদ এবং অবদ-উস-সাজ্জিদ

Options :

485584144577. 1
485584144578. 2
485584144579. 3
485584144580. 4

Question Number : 210 Question Id : 48558436145 Question Type : MCQ Option Shuffling : No Is Question Mandatory : No Calculator : None Response Time : N.A Think Time : N.A Minimum Instruction Time : 0

Correct Marks : 5 Wrong Marks : 1

Question Key Details :

Key	Value
Comprehension	MCQ1

हुमायुन नीचे आयेवा क्या वे कवाकारो ने निमंत्रित क्या. जेमदो तेमना दरबारमां स्टुडियो स्थापयो अने शाडी यित्री दीय।

1. मीर सैयदअली अने अब्दुस - समद
2. मीर नाजर अली अने अब्दुस-समद
3. मीर सैयदमान अने अब्दुस संसार
4. मीर साज्जिद अने अब्दुस साज्जिद

Options :

485584144577. 1
485584144578. 2

485584144579. 3
485584144580. 4

Question Number : 210 Question Id : 48558436145 Question Type : MCQ Option Shuffling : No Is Question Mandatory : No Calculator : None
Response Time : N.A Think Time : N.A Minimum Instruction Time : 0

Correct Marks : 5 Wrong Marks : 1

Question Key Details :

Key	Value
Comprehension	MCQ1

ಹುಮಾಯೂನನು ಕೆಳಗಿನ ಯಾವ ಇಬ್ಬರು ಕಲಾವಿದರನ್ನು ತನ್ನ ಆವರಣದಲ್ಲಿ ಸ್ವಡಿಯೋ ಸ್ಥಾಪಿಸಲು ಮತ್ತು ಡಾಯಲ್ ಚಿತ್ರಕಲೆಯನ್ನು ತೆಗೆದುಕೊಂಡು ಹೋಗಲು ಆಹ್ವಾನಿಸಿದನು?

1. ಮಿರ್ ಸಯ್ಯಿದ್ ಅಲಿ ಮತ್ತು ಅಬ್ದ-ಅಸ್-ಸಮದ್
2. ಮಿರ್ ನಜರ್ ಅಲಿ ಮತ್ತು ಅಬ್ದ-ಅಸ್-ಅಹ್ಮದ್
3. ಮಿರ್ ಸಯ್ಯಿದ್ ಖಾನ್ ಮತ್ತು ಅಬ್ದ-ಅಸ್-ಸನ್ಯಾರ್
4. ಮಿರ್ ಸಾಜಿದ್ ಮತ್ತು ಅಬ್ದ-ಅಸ್-ಸಾಜಿದ್

Options :

485584144577. 1
485584144578. 2
485584144579. 3
485584144580. 4

Question Number : 210 Question Id : 48558436145 Question Type : MCQ Option Shuffling : No Is Question Mandatory : No Calculator : None
Response Time : N.A Think Time : N.A Minimum Instruction Time : 0

Correct Marks : 5 Wrong Marks : 1

Question Key Details :

Key	Value
Comprehension	MCQ1

ರಾಜಕೋಶ್ವಾರಣ್ಣಿಯಲ್ಲಿ ರಾಜಕೀಯ ಏತಿಗಳನ್ನು ಒಂದು ಸ್ವರೂಪದಲ್ಲಿ ಸ್ವೀಕರಿಸುವುದು ಮತ್ತು ಅದನ್ನು ಒಂದು ಸ್ವರೂಪದಲ್ಲಿ ಸ್ವೀಕರಿಸುವುದು ಏನು?

1. ಶಿವ ಸೇನಾ ಅಲಿಯುಂ ಅಶ್ವಾನ್ ಸುಖ್ಯಂ
2. ಶಿವ ನಾಸುರಿ ಅಲಿಯುಂ ಅಶ್ವಾನ್ ಅಹಮದಿಯುಂ
3. ಶಿವ ಸೇನಾ ಖಾನ್, ಅಶ್ವಾನ್ ಸುಖ್ಯಂ
4. ಶಿವ ಸುಖ್ಯಂ ಅಶ್ವಾನ್ ಸುಖ್ಯಂ

Options :

485584144577. 1
485584144578. 2
485584144579. 3
485584144580. 4

Question Number : 210 Question Id : 48558436145 Question Type : MCQ Option Shuffling : No Is Question Mandatory : No Calculator : None
Response Time : N.A Think Time : N.A Minimum Instruction Time : 0

Correct Marks : 5 Wrong Marks : 1

Question Key Details :

Key	Value
Comprehension	MCQ1

हुमायूँने कोणत्या दोन कलाकारांना आमंत्रित केले? दरबारात कला दालन स्थापित करून राजेशाही चित्र काढणारे दोघे ओळखा?

1. मीर सय्यद अली आणि अब्दुस-समाद
2. मीर नझर अली आणि अब्दुस अहमद
3. मीर सय्यद खान आणि अब्दुस संसार
4. मीर साझीद आणि अब्दुस साझीद

Options :

485584144577. 1
485584144578. 2
485584144579. 3
485584144580. 4

Question Number : 210 Question Id : 48558436145 Question Type : MCQ Option Shuffling : No Is Question Mandatory : No Calculator : None Response Time : N.A Think Time : N.A Minimum Instruction Time : 0

Correct Marks : 5 Wrong Marks : 1

Question Key Details :

Key	Value
Comprehension	MCQ1

हुमायूँन नितळ्ळें करिबुल्ले नूकल्ले जलालाकडू । ताका जलालाकडू एका सुविधे प्रविष्टा करिबुल्ले एका राजशाही चित्र काढणारे दोघे जलालाकडू नथळू विवच करे ।

1. मीर साझीद अली एवम् अब्दुस-समाद
2. मीर नझर अली एवम् अब्दुस-अहमद
3. मीर साझीद खान एवम् अब्दुस-संसार
4. मीर साझीद एवम् अब्दुस साझीद

Options :

485584144577. 1
485584144578. 2
485584144579. 3
485584144580. 4

Question Number : 210 Question Id : 48558436145 Question Type : MCQ Option Shuffling : No Is Question Mandatory : No Calculator : None Response Time : N.A Think Time : N.A Minimum Instruction Time : 0

Correct Marks : 5 Wrong Marks : 1

Question Key Details :

Key	Value
Comprehension	MCQ1

हुमायूँने दोन लिखितां विंचि किरते दे विआकती कलाकारां ठुं बुलायीं। जिनूँने हुमायूँन दरबार विंचि टिक सट्टीचि अते साही चित्रत रच-रखाव लटी सथापना कीती-

1. मीर सय्यद अली अते अब्दुस हुस समाद
2. मीर नझर अली अते अब्दुस हुस अहमद
3. मीर सय्यद खान अते अब्दुस संसार
4. मीर साझीद अते अब्दुस साझीद

Options :

485584144577. 1
485584144578. 2
485584144579. 3
485584144580. 4

Question Number : 210 Question Id : 48558436145 Question Type : MCQ Option Shuffling : No Is Question Mandatory : No Calculator : None
Response Time : N.A Think Time : N.A Minimum Instruction Time : 0

Correct Marks : 5 Wrong Marks : 1

Question Key Details :

Key	Value
Comprehension	MCQ1

ஹுமாயூன், தனது அரசு அவையில் ஒரு ஸ்டுடியோவை அமைத்து, அரசகூல ஓவியங்களை நிறுவ அழைத்த. இரு கலைஞர்கள் யார்?

1. மிர் சையத் அலி மற்றும் அப்-தஸ்-ஸாமத்
2. மிர் நிஜர் அலி மற்றும் அப்-தஸ்-அஹ்மத்
3. மிர் சையத் கான் மற்றும் அப்-தஸ்-சன்சார்
4. மிர் சளீத் மற்றும் அப்தஸ் சளீத்

Options :

485584144577. 1
485584144578. 2
485584144579. 3
485584144580. 4

Question Number : 210 Question Id : 48558436145 Question Type : MCQ Option Shuffling : No Is Question Mandatory : No Calculator : None
Response Time : N.A Think Time : N.A Minimum Instruction Time : 0

Correct Marks : 5 Wrong Marks : 1

Question Key Details :

Key	Value
Comprehension	MCQ1

புத்திரி வாரிஸ் ஸாமாயூன் ஐ ஐதீரு வித்ராரூலஸு பிலிவி தன் கோர் பயஸு உக ஸ்டுடியோஸு ஓபிண்டி ராஜ வித்ராலஸு வேண்டாடு.

1. மிர் ஸயூத் அலி அன்ட் அஹ் அஸ் ஸமத்
2. மிர் ஸஜர் அலி அன்ட் அஹ் அஸ் அஹ்
3. மிர் ஸயூத் ஹன் அன்ட் அஹ் அஸ் ஸன்சார்
4. மிர் ஸஜீத் அன்ட் அஹ் அஸ் ஸஜீத்

Options :

485584144577. 1
485584144578. 2
485584144579. 3
485584144580. 4

Question Number : 210 Question Id : 48558436145 Question Type : MCQ Option Shuffling : No Is Question Mandatory : No Calculator : None
Response Time : N.A Think Time : N.A Minimum Instruction Time : 0

Correct Marks : 5 Wrong Marks : 1

Question Key Details :

Key	Value
Comprehension	MCQ1

ہمایوں نے کن دو آرٹسٹ کو اپنی عدالت میں اسٹوڈیو قائم کرنے اور شاہی پینٹنگ کو جاری رکھنے کے لئے مدعو کیا تھا اور ان دونوں فن کار کی شناخت کریں :

1. میر سید علی اور عبدالصمد
2. میر نظر علی اور عبدالاحد
3. میر سید خان اور عبدالنثار
4. میر ساجد اور عبدالساجد

Options :

485584144577. 1
485584144578. 2
485584144579. 3
485584144580. 4

Question Number : 211 Question Id : 48558436146 Question Type : MCQ Option Shuffling : No Is Question Mandatory : No Calculator : None Response Time : N.A Think Time : N.A Minimum Instruction Time : 0

Correct Marks : 5 Wrong Marks : 1

Question Key Details :

Key	Value
Comprehension	MCQ1

The Mughal style of miniature paintings used to represents how many dimensions?

1. Four Dimensions
2. Two Dimensions
3. Five Dimensions
4. Three Dimensions

Options :

485584144581. 1
485584144582. 2
485584144583. 3
485584144584. 4

Question Number : 211 Question Id : 48558436146 Question Type : MCQ Option Shuffling : No Is Question Mandatory : No Calculator : None Response Time : N.A Think Time : N.A Minimum Instruction Time : 0

Correct Marks : 5 Wrong Marks : 1

Question Key Details :

Key	Value
Comprehension	MCQ1

लघु चित्रकारी की मूल शैली कितनों आयामों (आकारों) को दर्शाती है?

1. चार आयाम
2. दो आयाम
3. पांच आयाम
4. तीन आयाम

Options :

485584144581. 1
485584144582. 2
485584144583. 3
485584144584. 4

Question Number : 211 Question Id : 48558436146 Question Type : MCQ Option Shuffling : No Is Question Mandatory : No Calculator : None
Response Time : N.A Think Time : N.A Minimum Instruction Time : 0

Correct Marks : 5 Wrong Marks : 1

Question Key Details :

Key	Value
Comprehension	MCQ1

মোগল সময়ছোৱাৰ মিনি.এচিউৰ চিত্ৰশিল্পত কিমান মাত্ৰা আছিল ?

1. ৪ মাত্ৰা
2. ২ মাত্ৰা
3. ৫ মাত্ৰা
4. ৩ মাত্ৰা

Options :

485584144581. 1
485584144582. 2
485584144583. 3
485584144584. 4

Question Number : 211 Question Id : 48558436146 Question Type : MCQ Option Shuffling : No Is Question Mandatory : No Calculator : None
Response Time : N.A Think Time : N.A Minimum Instruction Time : 0

Correct Marks : 5 Wrong Marks : 1

Question Key Details :

Key	Value
Comprehension	MCQ1

মুঘল মিনিয়োচ্যুৰ পেণ্টিং এৰ কতগুলো পৰিমাণ আছে ?

1. চাৰ মাত্ৰিক
2. দুই মাত্ৰিক
3. পাঁচ মাত্ৰিক
4. তিন মাত্ৰিক

Options :

485584144581. 1
485584144582. 2
485584144583. 3
485584144584. 4

Question Number : 211 Question Id : 48558436146 Question Type : MCQ Option Shuffling : No Is Question Mandatory : No Calculator : None
Response Time : N.A Think Time : N.A Minimum Instruction Time : 0

Correct Marks : 5 Wrong Marks : 1

Question Key Details :

Key	Value
Comprehension	MCQ1

ಮುಖ್ಯ ಸ್ಥಾನವನ್ನು ಉತ್ತಮ ಪರಿಚಿತ ಕೆಲವು ಪ್ರಕಾರಗಳಲ್ಲಿ ಪರಿಮಾಣ ದರ್ಶಿಸಿ ?

1. ಸ್ವಲ್ಪ ಪರಿಮಾಣ
2. ಅಲ್ಪ ಪರಿಮಾಣ
3. ಪಾಪ್ಯ ಪರಿಮಾಣ
4. ತ್ರಯ ಪರಿಮಾಣ

Options :

485584144581. 1
485584144582. 2
485584144583. 3
485584144584. 4

Question Number : 211 Question Id : 48558436146 Question Type : MCQ Option Shuffling : No Is Question Mandatory : No Calculator : None Response Time : N.A Think Time : N.A Minimum Instruction Time : 0

Correct Marks : 5 Wrong Marks : 1

Question Key Details :

Key	Value
Comprehension	MCQ1

ಮುಖ್ಯ ಸ್ಥಾನವನ್ನು ಉತ್ತಮ ಪರಿಚಿತ ಕೆಲವು ಪ್ರಕಾರಗಳಲ್ಲಿ ಪರಿಮಾಣ ದರ್ಶಿಸಿ ?

1. ಸ್ವಲ್ಪ ಪರಿಮಾಣ
2. ಅಲ್ಪ ಪರಿಮಾಣ
3. ಪಾಪ್ಯ ಪರಿಮಾಣ
4. ತ್ರಯ ಪರಿಮಾಣ

Options :

485584144581. 1
485584144582. 2
485584144583. 3
485584144584. 4

Question Number : 211 Question Id : 48558436146 Question Type : MCQ Option Shuffling : No Is Question Mandatory : No Calculator : None Response Time : N.A Think Time : N.A Minimum Instruction Time : 0

Correct Marks : 5 Wrong Marks : 1

Question Key Details :

Key	Value
Comprehension	MCQ1

ಮುಖ್ಯ ಸ್ಥಾನವನ್ನು ಉತ್ತಮ ಪರಿಚಿತ ಕೆಲವು ಪ್ರಕಾರಗಳಲ್ಲಿ ಪರಿಮಾಣ ದರ್ಶಿಸಿ ?

1. ಸ್ವಲ್ಪ ಪರಿಮಾಣ
2. ಅಲ್ಪ ಪರಿಮಾಣ
3. ಪಾಪ್ಯ ಪರಿಮಾಣ
4. ತ್ರಯ ಪರಿಮಾಣ

Options :

485584144581. 1
485584144582. 2
485584144583. 3

485584144584. 4

Question Number : 211 Question Id : 48558436146 Question Type : MCQ Option Shuffling : No Is Question Mandatory : No Calculator : None
Response Time : N.A Think Time : N.A Minimum Instruction Time : 0
Correct Marks : 5 Wrong Marks : 1

Question Key Details :

Key	Value
Comprehension	MCQ1

मुघल लघु चित्रकलेतील मुघल शैलीत किती परिणाम असतात?

1. चार परिणाम
2. दोन परिणाम
3. पाच परिणाम
4. तीन परिणाम

Options :

485584144581. 1
485584144582. 2
485584144583. 3
485584144584. 4

Question Number : 211 Question Id : 48558436146 Question Type : MCQ Option Shuffling : No Is Question Mandatory : No Calculator : None
Response Time : N.A Think Time : N.A Minimum Instruction Time : 0
Correct Marks : 5 Wrong Marks : 1

Question Key Details :

Key	Value
Comprehension	MCQ1

ମୋଗଲ ଖଞ୍ଜଲ ମିନି-ପିକର ଚିତ୍ରକଳାରେ କେତେଟି ଖଞ୍ଜଲମାନ ଦର୍ଶାଏ।

1. ଚାରି ଖଞ୍ଜଲମାନ
2. ଦୁଇ ଖଞ୍ଜଲମାନ
3. ପାଞ୍ଚ ଖଞ୍ଜଲମାନ
4. ତିନି ଖଞ୍ଜଲମାନ

Options :

485584144581. 1
485584144582. 2
485584144583. 3
485584144584. 4

Question Number : 211 Question Id : 48558436146 Question Type : MCQ Option Shuffling : No Is Question Mandatory : No Calculator : None
Response Time : N.A Think Time : N.A Minimum Instruction Time : 0
Correct Marks : 5 Wrong Marks : 1

Question Key Details :

Key	Value
Comprehension	MCQ1

ਲਯੁ ਚਿੰਤਰਾਂ ਦੀ ਮੁਗਲ ਸੇਲੀ ਕਿੱਤੀ ਵਿਮਾਈ ਦੀ ਹੈ?

1. ਚਾਰ ਵਿਮਾਈ
2. ਦੋ ਵਿਮਾਈ
3. ਪੰਜ ਵਿਮਾਈ
4. ਤਿੰਨ ਵਿਮਾਈ

Options :

485584144581. 1
485584144582. 2
485584144583. 3
485584144584. 4

Question Number : 211 Question Id : 48558436146 Question Type : MCQ Option Shuffling : No Is Question Mandatory : No Calculator : None Response Time : N.A Think Time : N.A Minimum Instruction Time : 0

Correct Marks : 5 Wrong Marks : 1

Question Key Details :

Key	Value
Comprehension	MCQ1

ਬੁਠਕਲੇਲ ਓਵੀਯਠਕਲਗੁ ਮੁਕਲਯ ਪਾਠੀ ਗੁਗੁਠੇਲ ਪਰੀਮਾਠਠਕਲੇਲਕੁ ਕੁਠੀਕੁਕਿਠੁਠਠ?

1. ਠਾਠਕੁ ਪਰੀਮਾਠਠਕਲਗੁ
2. ਠੁਰਠਠਠੁ ਪਰੀਮਾਠਠਕਲਗੁ
3. ਠੁਠਠੁ ਪਰੀਮਾਠਠਕਲਗੁ
4. ਠੁਠਠੁ ਪਰੀਮਾਠਠਕਲਗੁ

Options :

485584144581. 1
485584144582. 2
485584144583. 3
485584144584. 4

Question Number : 211 Question Id : 48558436146 Question Type : MCQ Option Shuffling : No Is Question Mandatory : No Calculator : None Response Time : N.A Think Time : N.A Minimum Instruction Time : 0

Correct Marks : 5 Wrong Marks : 1

Question Key Details :

Key	Value
Comprehension	MCQ1

ਮੋਠੁਲੀ ਵਠੁਠੀ ਲੀਠੀ ਲਠੁ ਵਠੁ ਚਿਠੁਠੁ ਏਠੀ ਮੁਠੁਮੁਲਠੁ ਠੁਠੀਠੁਠੁਠੁਠੁਠੁ

1. ਚੁਠੁਠੁਠੁਠੁਠੁ
2. ਠੀਠੁਠੁਠੁਠੁ
3. ਵਠੁਠੁਠੁਠੁਠੁ
4. ਠੁਠੁਠੁਠੁਠੁ

Options :

485584144581. 1
485584144582. 2
485584144583. 3

485584144584. 4

Question Number : 211 Question Id : 48558436146 Question Type : MCQ Option Shuffling : No Is Question Mandatory : No Calculator : None
Response Time : N.A Think Time : N.A Minimum Instruction Time : 0

Correct Marks : 5 Wrong Marks : 1

Question Key Details :

Key	Value
Comprehension	MCQ1

معالیہ طرز کی جہوٹی شیبہ پیشنگ کتنی ابعاد کی نمائندگی کرتی ہیں ؟

1. چار ابعاد
2. تیر ابعاد
3. پانچ ابعاد
4. تین ابعاد

Options :

485584144581. 1
485584144582. 2
485584144583. 3
485584144584. 4

Question Number : 212 Question Id : 48558436147 Question Type : MCQ Option Shuffling : No Is Question Mandatory : No Calculator : None
Response Time : N.A Think Time : N.A Minimum Instruction Time : 0

Correct Marks : 5 Wrong Marks : 1

Question Key Details :

Key	Value
Comprehension	MCQ1

The famous painting "Chand Bibi playing polo" is placed in which museum?

1. National Gallery of Modern Art, New Delhi
2. Victoria Memorial, Kolkata
3. National Museum, New Delhi
4. National Museum, Gujarat

Options :

485584144585. 1
485584144586. 2
485584144587. 3
485584144588. 4

Question Number : 212 Question Id : 48558436147 Question Type : MCQ Option Shuffling : No Is Question Mandatory : No Calculator : None
Response Time : N.A Think Time : N.A Minimum Instruction Time : 0

Correct Marks : 5 Wrong Marks : 1

Question Key Details :

Key	Value
Comprehension	MCQ1

प्रसिद्ध चित्र "चाँद बीबी पोलो खेल रही है" किस संग्रहालय में रखी है?

1. राष्ट्रिय आधुनिक कला विद्या, नई दिल्ली
2. विक्टोरिया मेमोरियल, कोलकाता
3. राष्ट्रिय संग्रहालय, नई दिल्ली
4. राष्ट्रिय संग्रहालय, गुजरात

Options :

485584144585. 1
485584144586. 2
485584144587. 3
485584144588. 4

Question Number : 212 Question Id : 48558436147 Question Type : MCQ Option Shuffling : No Is Question Mandatory : No Calculator : None
Response Time : N.A Think Time : N.A Minimum Instruction Time : 0

Correct Marks : 5 Wrong Marks : 1

Question Key Details :

Key	Value
Comprehension	MCQ1

" चान्द बिबि प्रेयिं पला " कोनते संग्रहालयत आछे ?

1. नेचनेल गेलरी अफ मडर्न आर्ट, नतून दिल्ली
2. भिक्टोरिया मेमोरियल, कलकाता
3. नेचनेल मिडिजियम, नतून दिल्ली
4. नेचनेल मिडिजियम, गुजरात

Options :

485584144585. 1
485584144586. 2
485584144587. 3
485584144588. 4

Question Number : 212 Question Id : 48558436147 Question Type : MCQ Option Shuffling : No Is Question Mandatory : No Calculator : None
Response Time : N.A Think Time : N.A Minimum Instruction Time : 0

Correct Marks : 5 Wrong Marks : 1

Question Key Details :

Key	Value
Comprehension	MCQ1

प्रसिद्ध पेंटिंग . "चाँद बिबि प्रेयिं" पोलो कोन संग्रहालयाय राखा ?

1. जातीय ग्यालरी अफ मडर्न आर्ट, निडु दिल्ली
2. भिक्टोरिया मेमोरियल, कलकाता
3. जातीय यादुघर, निडु दिल्ली
4. जातीय यादुघर, गुजरात

Options :

485584144585. 1
485584144586. 2
485584144587. 3
485584144588. 4

Question Number : 212 Question Id : 48558436147 Question Type : MCQ Option Shuffling : No Is Question Mandatory : No Calculator : None
Response Time : N.A Think Time : N.A Minimum Instruction Time : 0

Correct Marks : 5 Wrong Marks : 1

Question Key Details :

Key	Value
Comprehension	MCQ1

પ્રખ્યાત પેઇન્ટિંગ "પોલો રમતા ચાંદબીબી" ને કયા મ્યુઝિયમમાં મુકવામાં આવ્યું છે.

1. નેશનલ ગેલેરી ઓફ મોડર્ન આર્ટ, નવી દિલ્હી
2. વિક્ટોરીયા મેમોરિયલ, કોલકતા
3. નેશનલ મ્યુઝિયમ, નવી દિલ્હી
4. નેશનલ મ્યુઝિયમ, ગુજરાત

Options :

485584144585. 1
485584144586. 2
485584144587. 3
485584144588. 4

Question Number : 212 Question Id : 48558436147 Question Type : MCQ Option Shuffling : No Is Question Mandatory : No Calculator : None
Response Time : N.A Think Time : N.A Minimum Instruction Time : 0

Correct Marks : 5 Wrong Marks : 1

Question Key Details :

Key	Value
Comprehension	MCQ1

પ્રસિદ્ધ ઇતિહાસકાર "પ્રોફેસર અરુણકીરુપ જાંડા બીબી" યાજ્ઞ યાજ્ઞ મુદ્રાસીયંતરી,
જીરિસલાગીદ?

1. ન્યાસનલ ગ્લોબલ ઓફ મોડર્ન આર્ટ, નવદેહલી
2. વીક્ટોરીયા મેમોરિયલ, કોલકતા
3. ન્યાસનલ મુદ્રાસીયંતરી, નવદેહલી
4. ન્યાસનલ મુદ્રાસીયંતરી, ગુજરાત

Options :

485584144585. 1
485584144586. 2
485584144587. 3
485584144588. 4

Question Number : 212 Question Id : 48558436147 Question Type : MCQ Option Shuffling : No Is Question Mandatory : No Calculator : None
Response Time : N.A Think Time : N.A Minimum Instruction Time : 0

Correct Marks : 5 Wrong Marks : 1

Question Key Details :

Key	Value
Comprehension	MCQ1

"ചാൻ ബീവി പോളോ കളിക്കുന്നു" എന്ന പ്രസിദ്ധ പെയിന്റിങ്ങ് ഏത് മ്യൂസിയത്തിലാണ് പ്രദർശിപ്പിച്ചിട്ടുള്ളത് ?

1. നാഷണൽ ഗാലറി ഓഫ് മോഡേൺ ആർട്ട്, ന്യൂഡൽഹി
2. വിക്ടോറിയ മെമ്മോറിയൽ, കോൽക്കത്ത
3. നാഷണൽ മ്യൂസിയം, ന്യൂഡൽഹി
4. നാഷണൽ മ്യൂസിയം, ഗുജറാത്ത്

Options :

- 485584144585. 1
- 485584144586. 2
- 485584144587. 3
- 485584144588. 4

Question Number : 212 Question Id : 48558436147 Question Type : MCQ Option Shuffling : No Is Question Mandatory : No Calculator : None Response Time : N.A Think Time : N.A Minimum Instruction Time : 0

Correct Marks : 5 Wrong Marks : 1

Question Key Details :

Key	Value
Comprehension	MCQ1

पोतो खेळणारी चाँद बीबी हे प्रसिध्द चित्र कोणत्या वस्तु संग्रहालयात ठेवले आहे?

1. नवी दिल्ली येथील नॅशनल गॅलरी ऑफ मॉडर्न आर्ट
2. कोलकत्ता येथील व्हिक्टोरिया मेमोरियल
3. नवी दिल्ली येथील राष्ट्रीय वस्तु संग्रहालय
4. गुजराथ येथील राष्ट्रीय वस्तु संग्रहालय

Options :

- 485584144585. 1
- 485584144586. 2
- 485584144587. 3
- 485584144588. 4

Question Number : 212 Question Id : 48558436147 Question Type : MCQ Option Shuffling : No Is Question Mandatory : No Calculator : None Response Time : N.A Think Time : N.A Minimum Instruction Time : 0

Correct Marks : 5 Wrong Marks : 1

Question Key Details :

Key	Value
Comprehension	MCQ1

"ଚନ୍ଦ ବିବି ପୋଲୋ ଯୋଗେ" ପ୍ରସିଦ୍ଧ ଚିତ୍ରଟି କେଉଁ ସଂଗ୍ରହାଳୟରେ ରଖାଯାଇ ଅଛି?

1. ନେଶନାଲ ଗାଲେରୀ ଅଫ ମଡର୍ଣ୍ଣ ଆର୍ଟ, ନ୍ୟୁ ଡିଲ୍ଲୀ
2. ବିକ୍ଟୋରିଆ ମେମୋରିଆଲ, କୋଲକାତା
3. ନେଶନାଲ ମ୍ୟୁସିୟମ୍, ନ୍ୟୁ ଡିଲ୍ଲୀ
4. ନେଶନାଲ ମ୍ୟୁସିୟମ୍, ଗୁଜରାଟ

Options :

- 485584144585. 1
- 485584144586. 2

"చాంద్ బిబి ఫ్లెయింగ్ పోల్" అనబడే ప్రసిద్ధి చెందిన చిత్రలేఖనము ఏ మ్యూజియంలో ఉంచబడింది

1. నేషనల్ గెలరీ ఆఫ్ మోడరన్ ఆర్ట్, న్యూ ఢిల్లీ
2. విక్టోరియా మెమోరియల్, కలకత్తా
3. నేషనల్ మ్యూజియం, న్యూ ఢిల్లీ
4. నేషనల్ మ్యూజియం, గుజరాత్

Options :

485584144585. 1
485584144586. 2
485584144587. 3
485584144588. 4

Question Number : 212 Question Id : 48558436147 Question Type : MCQ Option Shuffling : No Is Question Mandatory : No Calculator : None Response Time : N.A Think Time : N.A Minimum Instruction Time : 0

Correct Marks : 5 Wrong Marks : 1

Question Key Details :

Key	Value
Comprehension	MCQ1

مشہور پینٹنگ "چاند بی بی فلاینگ پول" کس میوزیم میں رکھی ہوئی ہے ؟

1. نیشنل گیلری آف مڈرن آرٹ، نئی دہلی
2. ویکٹوریہ میموریل، کولکاتا
3. نیشنل میوزیم، نئی دہلی
4. نیشنل میوزیم، گجرات

Options :

485584144585. 1
485584144586. 2
485584144587. 3
485584144588. 4

Question Number : 213 Question Id : 48558436148 Question Type : MCQ Option Shuffling : No Is Question Mandatory : No Calculator : None Response Time : N.A Think Time : N.A Minimum Instruction Time : 0

Correct Marks : 5 Wrong Marks : 1

Question Key Details :

Key	Value
Comprehension	MCQ1

Who is the creator of the journal "Indian Society of Oriented Art"?

1. Rabindranath Tagore
2. Raja Ravi Varma
3. Nandalal Bose
4. Abanindranath Tagore

Options :

485584144589. 1
485584144590. 2
485584144591. 3
485584144592. 4

Question Number : 213 Question Id : 48558436148 Question Type : MCQ Option Shuffling : No Is Question Mandatory : No Calculator : None
Response Time : N.A Think Time : N.A Minimum Instruction Time : 0

Correct Marks : 5 Wrong Marks : 1

Question Key Details :

Key	Value
Comprehension	MCQ1

"इंडियन सोसाइटी ऑफ़ ओरिएंटेड आर्ट" नामक पत्रिका (जर्नल) का सृजनकर्ता कौन है?

1. रविंद्रनाथ टैगोर
2. राजा रवि वर्मा
3. नंदलाल बोस
4. अबनिंद्रनाथ टैगोर

Options :

485584144589. 1
485584144590. 2
485584144591. 3
485584144592. 4

Question Number : 213 Question Id : 48558436148 Question Type : MCQ Option Shuffling : No Is Question Mandatory : No Calculator : None
Response Time : N.A Think Time : N.A Minimum Instruction Time : 0

Correct Marks : 5 Wrong Marks : 1

Question Key Details :

Key	Value
Comprehension	MCQ1

"इंडियन चाइल्ड्रेन ऑफ़ ओरिएंटेड आर्ट" का स्रष्टा कौन ?

1. रविंद्रनाथ ठाकुर
2. राजा रवि वर्मा
3. नन्दलाल बसु
4. अबनीन्द्रनाथ ठाकुर

Options :

485584144589. 1
485584144590. 2
485584144591. 3
485584144592. 4

Question Number : 213 Question Id : 48558436148 Question Type : MCQ Option Shuffling : No Is Question Mandatory : No Calculator : None
Response Time : N.A Think Time : N.A Minimum Instruction Time : 0

Correct Marks : 5 Wrong Marks : 1

Question Key Details :

Key	Value
Comprehension	MCQ1

'ইন্ডিয়ান সোসাইটি অফ ওরিয়েন্টেড আর্ট' জার্নালের শিল্পী কে ?

1. রবীন্দ্রনাথ ঠাকুর
2. রাজা রবি বর্মা
3. নন্দলাল বোস
4. অবনীন্দ্রনাথ ঠাকুর

Options :

485584144589. 1
485584144590. 2
485584144591. 3
485584144592. 4

Question Number : 213 Question Id : 48558436148 Question Type : MCQ Option Shuffling : No Is Question Mandatory : No Calculator : None
Response Time : N.A Think Time : N.A Minimum Instruction Time : 0

Correct Marks : 5 Wrong Marks : 1

Question Key Details :

Key	Value
Comprehension	MCQ1

'Indian Society of Oriented Art' নামনী জর্নালনা স্খযীতা কীয়া ছি ?

1. রবীন্দ্রনাথ ঠাকুর
2. রাজা রবি বর্মা
3. নন্দলাল বোস
4. অবনীন্দ্রনাথ ঠাকুর

Options :

485584144589. 1
485584144590. 2
485584144591. 3
485584144592. 4

Question Number : 213 Question Id : 48558436148 Question Type : MCQ Option Shuffling : No Is Question Mandatory : No Calculator : None
Response Time : N.A Think Time : N.A Minimum Instruction Time : 0

Correct Marks : 5 Wrong Marks : 1

Question Key Details :

Key	Value
Comprehension	MCQ1

'ಇಂಡಿಯನ್ ಸೊಸೈಟಿ ಆಫ್ ಓರಿಯೆಂಟಲ್ ಆರ್ಟ್' ಎಂಬ ಹೆಸರಿನ ಜರ್ನಲ್ ಅನ್ನು ಆರಂಭಿಸಿದವರು ಯಾರು?

1. ರವೀಂದ್ರನಾಥ್ ಟ್ಯಾಗೋರ್
2. ರಾಜಾ ರವಿವರ್ಮ
3. ನಂದಲಾಲ್ ಬೋಸ್
4. ಅವನೀಂದ್ರನಾಥ್ ಟ್ಯಾಗೋರ್

Options :

485584144589. 1
485584144590. 2
485584144591. 3

485584144592. 4

Question Number : 213 Question Id : 48558436148 Question Type : MCQ Option Shuffling : No Is Question Mandatory : No Calculator : None
Response Time : N.A Think Time : N.A Minimum Instruction Time : 0

Correct Marks : 5 Wrong Marks : 1

Question Key Details :

Key	Value
Comprehension	MCQ1

"ഇന്ത്യയിലെ സാഹസികതയുടെയും സാഹസികതയുടെയും ആദ്യം" എന്ന പ്രസിദ്ധീകരണത്തിന്റെ സൃഷ്ടാവ് ആര് ?

1. രവീന്ദ്രനാഥ ടാഗോർ
2. രാജാ രവിവർമ്മ
3. നന്ദലാൽ ബോസ്
4. അഭിനവ്ദീനാഥ ടാഗോർ

Options :

485584144589. 1
485584144590. 2
485584144591. 3
485584144592. 4

Question Number : 213 Question Id : 48558436148 Question Type : MCQ Option Shuffling : No Is Question Mandatory : No Calculator : None
Response Time : N.A Think Time : N.A Minimum Instruction Time : 0

Correct Marks : 5 Wrong Marks : 1

Question Key Details :

Key	Value
Comprehension	MCQ1

"भारतीय समाज अभिमुख कला" या मासिकाचे निमित्त कोण आहेत?

1. रवीन्द्रनाथ टागोर
2. राजा रवी वर्मा
3. नंदलाल बोस
4. अबनींद्रनाथ टागोर

Options :

485584144589. 1
485584144590. 2
485584144591. 3
485584144592. 4

Question Number : 213 Question Id : 48558436148 Question Type : MCQ Option Shuffling : No Is Question Mandatory : No Calculator : None
Response Time : N.A Think Time : N.A Minimum Instruction Time : 0

Correct Marks : 5 Wrong Marks : 1

Question Key Details :

Key	Value
Comprehension	MCQ1

"இந்தியா எப்போதும் ஒரு பரிசீலனை" என்பதை மூலக் கொள்கையாகக் கொண்டவர் யார்?

1. மகாத்மா காந்தி
2. காந்தி மகி
3. ஜவகர்லால் நேரு
4. அண்ணாமலை அண்ணாமலை

Options :

485584144589. 1
485584144590. 2
485584144591. 3
485584144592. 4

Question Number : 213 Question Id : 48558436148 Question Type : MCQ Option Shuffling : No Is Question Mandatory : No Calculator : None
Response Time : N.A Think Time : N.A Minimum Instruction Time : 0

Correct Marks : 5 Wrong Marks : 1

Question Key Details :

Key	Value
Comprehension	MCQ1

"இந்தியா எப்போதும் ஒரு பரிசீலனை" என்பதை மூலக் கொள்கையாகக் கொண்டவர் யார்?

1. மகாத்மா காந்தி
2. காந்தி மகி
3. ஜவகர்லால் நேரு
4. அண்ணாமலை அண்ணாமலை

Options :

485584144589. 1
485584144590. 2
485584144591. 3
485584144592. 4

Question Number : 213 Question Id : 48558436148 Question Type : MCQ Option Shuffling : No Is Question Mandatory : No Calculator : None
Response Time : N.A Think Time : N.A Minimum Instruction Time : 0

Correct Marks : 5 Wrong Marks : 1

Question Key Details :

Key	Value
Comprehension	MCQ1

"இந்தியா எப்போதும் ஒரு பரிசீலனை" என்பதை மூலக் கொள்கையாகக் கொண்டவர் யார்?

1. மகாத்மா காந்தி
2. காந்தி மகி
3. ஜவகர்லால் நேரு
4. அண்ணாமலை அண்ணாமலை

Options :

485584144589. 1
485584144590. 2
485584144591. 3

485584144592. 4

Question Number : 213 Question Id : 48558436148 Question Type : MCQ Option Shuffling : No Is Question Mandatory : No Calculator : None
Response Time : N.A Think Time : N.A Minimum Instruction Time : 0
Correct Marks : 5 Wrong Marks : 1

Question Key Details :

Key	Value
Comprehension	MCQ1

"ఇందియన్ సొసైటీ ఆఫ్ ఒరియెంటల్ ఆర్ట్" అనే పత్రికను స్థాపించింది ఎవరు?

1. రవీంద్రనాథ్ ఠాగూర్
2. రాజా రవి వర్మ
3. నందలాల్ బోస్
4. అబనింద్రనాథ్ ఠాగూర్

Options :

485584144589. 1
485584144590. 2
485584144591. 3
485584144592. 4

Question Number : 213 Question Id : 48558436148 Question Type : MCQ Option Shuffling : No Is Question Mandatory : No Calculator : None
Response Time : N.A Think Time : N.A Minimum Instruction Time : 0
Correct Marks : 5 Wrong Marks : 1

Question Key Details :

Key	Value
Comprehension	MCQ1

"Indian Society of Oriented Art" کے بانی کون ہیں ؟

1. راجا رونی ورمہا
2. راجا رونی ورمہا
3. نندا لال بوس
4. راجا رونی ورمہا

Options :

485584144589. 1
485584144590. 2
485584144591. 3
485584144592. 4

Question Number : 214 Question Id : 48558436149 Question Type : MCQ Option Shuffling : No Is Question Mandatory : No Calculator : None
Response Time : N.A Think Time : N.A Minimum Instruction Time : 0
Correct Marks : 5 Wrong Marks : 1

Question Key Details :

Key	Value
Comprehension	MCQ1

Viscosity printing technique was developed by:

1. K.G. Subramanyan
2. Krishna Reddy
3. Anupam Sud
4. Somnath Hore

Options :

485584144593. 1
485584144594. 2
485584144595. 3
485584144596. 4

Question Number : 214 Question Id : 48558436149 Question Type : MCQ Option Shuffling : No Is Question Mandatory : No Calculator : None Response Time : N.A Think Time : N.A Minimum Instruction Time : 0

Correct Marks : 5 Wrong Marks : 1

Question Key Details :

Key	Value
Comprehension	MCQ1

विस्कोसिटी छापाचित्र तकनीक किसके द्वारा विकसित की गई थी?

1. के.जी. सुब्रामन्यन
2. कृष्णा रेड्डी
3. अनुपम सुद
4. सोमनाथ होर

Options :

485584144593. 1
485584144594. 2
485584144595. 3
485584144596. 4

Question Number : 214 Question Id : 48558436149 Question Type : MCQ Option Shuffling : No Is Question Mandatory : No Calculator : None Response Time : N.A Think Time : N.A Minimum Instruction Time : 0

Correct Marks : 5 Wrong Marks : 1

Question Key Details :

Key	Value
Comprehension	MCQ1

ভিক্সোচিটি প্রিন্টিং পদ্ধতি কোনে উলিয়াই ছিল ?

1. কে.জি. সুব্রামন্যন
2. কৃষ্ণা বেড্‌ডী
3. অনুপম সুদ
4. সোমনাথ হরে

Options :

485584144593. 1
485584144594. 2
485584144595. 3
485584144596. 4

Question Number : 214 Question Id : 48558436149 Question Type : MCQ Option Shuffling : No Is Question Mandatory : No Calculator : None
Response Time : N.A Think Time : N.A Minimum Instruction Time : 0

Correct Marks : 5 Wrong Marks : 1

Question Key Details :

Key	Value
Comprehension	MCQ1

ভিক্সেসিটি পেন্টিং কার शिल्पकला ?

1. के.जि.सुरमनाम
2. कृष्ण रेड्डी
3. अनुपम सुध
4. सोमनाथ होर

Options :

485584144593. 1
485584144594. 2
485584144595. 3
485584144596. 4

Question Number : 214 Question Id : 48558436149 Question Type : MCQ Option Shuffling : No Is Question Mandatory : No Calculator : None
Response Time : N.A Think Time : N.A Minimum Instruction Time : 0

Correct Marks : 5 Wrong Marks : 1

Question Key Details :

Key	Value
Comprehension	MCQ1

_____ द्वारा स्मृतिपत्रा पेशन्तिम् तकनीकनी विकास करवामां आव्यो क्ती.

1. के.जि.सुरमनाथियम
2. कृष्णा रेड्डी
3. अनुपम सुध
4. सोमनाथ होर

Options :

485584144593. 1
485584144594. 2
485584144595. 3
485584144596. 4

Question Number : 214 Question Id : 48558436149 Question Type : MCQ Option Shuffling : No Is Question Mandatory : No Calculator : None
Response Time : N.A Think Time : N.A Minimum Instruction Time : 0

Correct Marks : 5 Wrong Marks : 1

Question Key Details :

Key	Value
Comprehension	MCQ1

ವಿಸ್ತಾರಿಸಿ ಮುದ್ರಣ ತಾಂತ್ರಿಕತೆಯನ್ನು ಅಭಿವೃದ್ಧಿ ಪಡಿಸಿದ್ದು ಇವರಿಂದ:

1. ಕೆ.ಜಿ. ಸುಬ್ರಹ್ಮಣ್ಯನ್
2. ಕೃಷ್ಣ ರೆಡ್ಡಿ
3. ಅನುಪಮ್ ಸೂದ
4. ಸೋಮನಾಥ್ ಹೋರೆ

Options :

485584144593. 1
485584144594. 2
485584144595. 3
485584144596. 4

Question Number : 214 Question Id : 48558436149 Question Type : MCQ Option Shuffling : No Is Question Mandatory : No Calculator : None Response Time : N.A Think Time : N.A Minimum Instruction Time : 0

Correct Marks : 5 Wrong Marks : 1

Question Key Details :

Key	Value
Comprehension	MCQ1

ವಿಸ್ತಾರಿಸಿ ಮುದ್ರಣ ತಾಂತ್ರಿಕತೆಯನ್ನು ಅಭಿವೃದ್ಧಿ ಪಡಿಸಿದ್ದು ಇವರಿಂದ ?

1. ಕೆ.ಜಿ. ಸುಬ್ರಹ್ಮಣ್ಯನ್
2. ಕೃಷ್ಣ ರೆಡ್ಡಿ
3. ಅನುಪಮ್ ಸೂದ
4. ಸೋಮನಾಥ್ ಹೋರೆ

Options :

485584144593. 1
485584144594. 2
485584144595. 3
485584144596. 4

Question Number : 214 Question Id : 48558436149 Question Type : MCQ Option Shuffling : No Is Question Mandatory : No Calculator : None Response Time : N.A Think Time : N.A Minimum Instruction Time : 0

Correct Marks : 5 Wrong Marks : 1

Question Key Details :

Key	Value
Comprehension	MCQ1

(ಡಿಸ್ಕೋಸಿಟಿ ಪ್ರಿಂಟಿಂಗ್ ತಂತ್ರಜ್ಞಾನ) ವಿಶ್ವದಿವಾ ಉಪಾಡ್ ತಂತ್ರಜ್ಞಾನ ಕಂಪನಿ ವಿಕಸಿತ ಕೇಲೆ?

1. ಕೆ. ಜಿ. ಸುಬ್ರಹ್ಮಣ್ಯಮ
2. ಕೃಷ್ಣಾ ರೆಡ್ಡಿ
3. ಅನುಪಮಾ ಸೂದ
4. ಸೋಮನಾಥ್ ಹೋರೆ

Options :

485584144593. 1
485584144594. 2
485584144595. 3
485584144596. 4

Question Number : 214 Question Id : 48558436149 Question Type : MCQ Option Shuffling : No Is Question Mandatory : No Calculator : None
Response Time : N.A Think Time : N.A Minimum Instruction Time : 0

Correct Marks : 5 Wrong Marks : 1

Question Key Details :

Key	Value
Comprehension	MCQ1

କିଲୋସିରି ଟ୍ରିବିଙ୍ଗ ଚେକନିକ କାହା ଦ୍ୱାରା ବିକସିତ ହୋଇଥିଲା:

1. କେ.ଟି. ପୁତ୍ରମନଉଡ଼
2. ବୃକ୍ଷ ରେଞ୍ଜା
3. ଅନୁପମ ସୁଠ
4. ସୋନମାଣି ହୋଇ

Options :

485584144593. 1
485584144594. 2
485584144595. 3
485584144596. 4

Question Number : 214 Question Id : 48558436149 Question Type : MCQ Option Shuffling : No Is Question Mandatory : No Calculator : None
Response Time : N.A Think Time : N.A Minimum Instruction Time : 0

Correct Marks : 5 Wrong Marks : 1

Question Key Details :

Key	Value
Comprehension	MCQ1

ଲେମ୍ ପିଠିଟିଙ୍ଗ ବିମ୍ ସୁଆରା ଦିବସତ ବୌଦ୍ଧି ଗଣ୍ଠି:

1. କେ. ଜି. ମୁଖୁମଟଜମ
2. ବିକ୍ଷଣା ଚେଢ଼ି
3. ଅନୁପମ ସୁଠ
4. ସୋନମାଣି ହେତେ

Options :

485584144593. 1
485584144594. 2
485584144595. 3
485584144596. 4

Question Number : 214 Question Id : 48558436149 Question Type : MCQ Option Shuffling : No Is Question Mandatory : No Calculator : None
Response Time : N.A Think Time : N.A Minimum Instruction Time : 0

Correct Marks : 5 Wrong Marks : 1

Question Key Details :

Key	Value
Comprehension	MCQ1

Question Number : 215 Question Id : 48558436150 Question Type : MCQ Option Shuffling : No Is Question Mandatory : No Calculator : None Response Time : N.A Think Time : N.A Minimum Instruction Time : 0

Correct Marks : 5 Wrong Marks : 1

Question Key Details :

Key	Value
Comprehension	MCQ1

Which Sub-School in Rajasthan Miniature Painting is considered as the early Centre of painting in Rajasthan.

1. Bundi
2. Bikaner
3. Jaipur
4. Mewar

Options :

485584144597. 1
485584144598. 2
485584144599. 3
485584144600. 4

Question Number : 215 Question Id : 48558436150 Question Type : MCQ Option Shuffling : No Is Question Mandatory : No Calculator : None Response Time : N.A Think Time : N.A Minimum Instruction Time : 0

Correct Marks : 5 Wrong Marks : 1

Question Key Details :

Key	Value
Comprehension	MCQ1

राजस्थानी लघु चित्रकला की किस उप-शैली को राजस्थान का आरंभिक केंद्र माना जाता है?

1. बुंदी
2. बीकानेर
3. जयपुर
4. मेवाड़

Options :

485584144597. 1
485584144598. 2
485584144599. 3
485584144600. 4

Question Number : 215 Question Id : 48558436150 Question Type : MCQ Option Shuffling : No Is Question Mandatory : No Calculator : None Response Time : N.A Think Time : N.A Minimum Instruction Time : 0

Correct Marks : 5 Wrong Marks : 1

Question Key Details :

Key	Value
Comprehension	MCQ1

তলৰ কোনটো উপশৈলী ৰাজস্থানী মিনি.এচিউৰ চিত্ৰশিল্প ৰাজস্থানৰ প্ৰাৰম্ভিক চিত্ৰশিল্প ?

1. বুল্দি
2. বীকানেৰ
3. জয়পুৰ
4. মেৱাৰ

Options :

485584144597. 1
485584144598. 2
485584144599. 3
485584144600. 4

Question Number : 215 Question Id : 48558436150 Question Type : MCQ Option Shuffling : No Is Question Mandatory : No Calculator : None
Response Time : N.A Think Time : N.A Minimum Instruction Time : 0

Correct Marks : 5 Wrong Marks : 1

Question Key Details :

Key	Value
Comprehension	MCQ1

राजस्थानी मिनिस्त्रेच्यार पेन्सिं एर मधो प्रथम राजस्थानी पेन्सिं एर स्याब कुल कोनटि ?

1. बुन्दि
2. बिकानेर
3. जयपुर
4. मेण्णार

Options :

485584144597. 1
485584144598. 2
485584144599. 3
485584144600. 4

Question Number : 215 Question Id : 48558436150 Question Type : MCQ Option Shuffling : No Is Question Mandatory : No Calculator : None
Response Time : N.A Think Time : N.A Minimum Instruction Time : 0

Correct Marks : 5 Wrong Marks : 1

Question Key Details :

Key	Value
Comprehension	MCQ1

राजस्थानी वपुसिब्र पेठन्टिगनी कठ पेटा शाणाने राजस्थानमां सिब्रकामनुं प्रारंभिक डेन्ड्र मानवामां आवे छे ?

1. बुन्दि
2. बिकानेर
3. जयपुर
4. मेवाड

Options :

485584144597. 1
485584144598. 2
485584144599. 3
485584144600. 4

Question Number : 215 Question Id : 48558436150 Question Type : MCQ Option Shuffling : No Is Question Mandatory : No Calculator : None
Response Time : N.A Think Time : N.A Minimum Instruction Time : 0

Correct Marks : 5 Wrong Marks : 1

Question Key Details :

Key	Value
Comprehension	MCQ1

ರಾಜಸ್ಥಾನಿ ಚಿಕಣಿ/ಕಿರುಚಿತ್ರಕಲೆಯಲ್ಲಿ ಯಾವ ಉಪಶಾಲೆಯನ್ನು ರಾಜಸ್ಥಾನದಲ್ಲಿ ಆರಂಭಿಕ ಚಿತ್ರಕಲೆಯ ಕೇಂದ್ರವೆಂದು ಪರಿಗಣಿಸಲಾಗಿದೆ?

1. ಬುಂಡಿ
2. ಬಿಕನೇರ್
3. ಜೈಪುರ
4. ಮೆವಾರ್

Options :

485584144597. 1
485584144598. 2
485584144599. 3
485584144600. 4

Question Number : 215 Question Id : 48558436150 Question Type : MCQ Option Shuffling : No Is Question Mandatory : No Calculator : None Response Time : N.A Think Time : N.A Minimum Instruction Time : 0

Correct Marks : 5 Wrong Marks : 1

Question Key Details :

Key	Value
Comprehension	MCQ1

ರಾಜಸ್ಥಾನದಲ್ಲಿ ಪುರಾತನ ಪೆಪಿಯಿಂಗ್ಲಿಗಳ ಡಿಕ್ರಿಯೆಯಾಗಿ ಕುಣಿಸಿಕೊಳ್ಳುತ್ತಾ, ರಾಜಸ್ಥಾನದ ಚಿತ್ರಕಲೆಯಲ್ಲಿ ಪೆಪಿಯಿಂಗ್ಲಿಗಳಲ್ಲಿ ಏಕೆ ಉಪ ಸಮಸ್ಯೆಯಾಗಿದೆ ?

1. ಉಗಡಿ
2. ಉಗಡಿಯಾಟ
3. ಜಯಪುರ
4. ಮೆವಾರ್

Options :

485584144597. 1
485584144598. 2
485584144599. 3
485584144600. 4

Question Number : 215 Question Id : 48558436150 Question Type : MCQ Option Shuffling : No Is Question Mandatory : No Calculator : None Response Time : N.A Think Time : N.A Minimum Instruction Time : 0

Correct Marks : 5 Wrong Marks : 1

Question Key Details :

Key	Value
Comprehension	MCQ1

ರಾಜಸ್ಥಾನ ಯೆಥಿಲ ಪೂರ್ವ ಕೇಂದ್ರ ಜ್ಯಾತ ರಾಜಸ್ಥಾನಿ ಲಘು ಚಿತ್ರಕಲಾ ಪೇತೆ ಕೋನಲ್ಯಾ ತಪ.ಶಾಕೆತೀಲ आहे?

1. ಬುಂಡಿ
2. ಬಿಕನೇರ್
3. ಜಯಪುರ
4. ಮೆವಾರ್

Options :

485584144597. 1
485584144598. 2

எந்த ராஜஸ்தானிய நுண்கலை ஓவியத்திற்கான துணைப்பள்ளி ராஜஸ்தானிய ஓவியத்திற்கான பழைய மையமாக விளங்குவதாக கருதப்படுகிறது?

1. புந்தி
2. பிகானேர்
3. ஜெய்பூர்
4. டேவ்வார்

Options :

485584144597. 1
485584144598. 2
485584144599. 3
485584144600. 4

Question Number : 215 Question Id : 48558436150 Question Type : MCQ Option Shuffling : No Is Question Mandatory : No Calculator : None Response Time : N.A Think Time : N.A Minimum Instruction Time : 0

Correct Marks : 5 Wrong Marks : 1

Question Key Details :

Key	Value
Comprehension	MCQ1

राजस्थान की वी कव पाठशाला राजस्थान लघु वल विलालकु मूदडी केन्द्र ०० चेषुवेषु

1. डुन्डी
2. डिकनेर
3. डेव्वार
4. डेव्वार

Options :

485584144597. 1
485584144598. 2
485584144599. 3
485584144600. 4

Question Number : 215 Question Id : 48558436150 Question Type : MCQ Option Shuffling : No Is Question Mandatory : No Calculator : None Response Time : N.A Think Time : N.A Minimum Instruction Time : 0

Correct Marks : 5 Wrong Marks : 1

Question Key Details :

Key	Value
Comprehension	MCQ1

راجستھان میں جیوتی ندیہ بینشگ کا کون سا لیلی اسکول راجستھان میں بینشگ کا لیلی مرکز سمجھا جاتا ہے ؟

1. ہندی
2. ہیکانیر
3. جے پور
4. دےوار

Options :

485584144597. 1
485584144598. 2
485584144599. 3
485584144600. 4

Question Number : 216 Question Id : 48558436151 Question Type : MCQ Option Shuffling : No Is Question Mandatory : No Calculator : None
Response Time : N.A Think Time : N.A Minimum Instruction Time : 0

Correct Marks : 5 Wrong Marks : 1

Question Key Details :

Key	Value
Comprehension	MCQ1

Which game is being played by six princesses in the painting "Chaulian Players" from Jodhpur Sub School?

1. Polo
2. Hockey
3. Badminton
4. Football

Options :

- 485584144601. 1
- 485584144602. 2
- 485584144603. 3
- 485584144604. 4

Question Number : 216 Question Id : 48558436151 Question Type : MCQ Option Shuffling : No Is Question Mandatory : No Calculator : None
Response Time : N.A Think Time : N.A Minimum Instruction Time : 0

Correct Marks : 5 Wrong Marks : 1

Question Key Details :

Key	Value
Comprehension	MCQ1

जोधपुर उप.शैली के चित्र 'चौगान खिलाड़ी' में छः राजकुमारियां कौनसा खेल खेल रही हैं?

1. पोलो
2. हॉकी
3. बैडमिंटन
4. फुटबॉल

Options :

- 485584144601. 1
- 485584144602. 2
- 485584144603. 3
- 485584144604. 4

Question Number : 216 Question Id : 48558436151 Question Type : MCQ Option Shuffling : No Is Question Mandatory : No Calculator : None
Response Time : N.A Think Time : N.A Minimum Instruction Time : 0

Correct Marks : 5 Wrong Marks : 1

Question Key Details :

Key	Value
Comprehension	MCQ1

"চৌহান প্ৰেয়াৰচ" নামৰ যোধপুৰ উপশৈলীৰ চিত্ৰশিল্পখনত ৬ গৰাকী ৰাজকুমাৰীয়ে খেলি থকা খেলটো কি ?

1. প'ল'
2. হকী
3. বেডমিন্টন
4. ফুটবল

Options :

485584144601. 1
485584144602. 2
485584144603. 3
485584144604. 4

Question Number : 216 Question Id : 48558436151 Question Type : MCQ Option Shuffling : No Is Question Mandatory : No Calculator : None Response Time : N.A Think Time : N.A Minimum Instruction Time : 0

Correct Marks : 5 Wrong Marks : 1

Question Key Details :

Key	Value
Comprehension	MCQ1

যোধপুৰেৰ সাৰ স্কুলে 'চৌহান প্ৰেয়াৰচ' পেন্টিং এৰ মৰ্যে ছয়জন ৰাজকুমাৰী মিলে কোন খেলা খেলছিল ?

1. পোলো
2. হকী
3. ব্যাডমিন্টন
4. ফুটবল

Options :

485584144601. 1
485584144602. 2
485584144603. 3
485584144604. 4

Question Number : 216 Question Id : 48558436151 Question Type : MCQ Option Shuffling : No Is Question Mandatory : No Calculator : None Response Time : N.A Think Time : N.A Minimum Instruction Time : 0

Correct Marks : 5 Wrong Marks : 1

Question Key Details :

Key	Value
Comprehension	MCQ1

জোধপুৰনী পেটা স্কুলনী "Chauhan Players" পেণ্টিংগাৰা ঞ ৰাজকুমাৰীয়া কৰ্চ স্মত স্মে ঞ ?

1. পৌৰী
2. ভৌৰী
3. বেডমিন্টন
4. ফুটবল

Options :

485584144601. 1
485584144602. 2
485584144603. 3
485584144604. 4

Question Number : 216 Question Id : 48558436151 Question Type : MCQ Option Shuffling : No Is Question Mandatory : No Calculator : None Response Time : N.A Think Time : N.A Minimum Instruction Time : 0

Correct Marks : 5 Wrong Marks : 1

Question Key Details :

Key	Value
Comprehension	MCQ1

ಜೋಧಪುರ ಉಪಶಾಲೆಯ ಚಿತ್ರಕಲೆಯಾದ "ಜಾಹಾನ್ ಪಿಯುಸೆ"ನಲ್ಲಿ ಯಾವ ಕ್ರೀಡೆಯನ್ನು ಅರು ರಾಣಿಯರು ಆಡುತ್ತಿದ್ದಾರೆ?

1. ವೋಲೆಬಾಲ್
2. ಹಾಕಿ
3. ಬ್ಯಾಡ್ಮಿಂಟನ್
4. ಫುಟ್ಬಾಲ್

Options :

485584144601. 1
485584144602. 2
485584144603. 3
485584144604. 4

Question Number : 216 Question Id : 48558436151 Question Type : MCQ Option Shuffling : No Is Question Mandatory : No Calculator : None Response Time : N.A Think Time : N.A Minimum Instruction Time : 0

Correct Marks : 5 Wrong Marks : 1

Question Key Details :

Key	Value
Comprehension	MCQ1

"ಒಬ್ಬನಿಗಿಂತ ಹೆಚ್ಚಿನವರು" ಎಂದೇ ಹೆಸರಿಟ್ಟಿರುವ ಉಪನಯನವಿರುವ ಒಂದು ಪದ್ಯವನ್ನು ಕೆಳಕಂಡಂತೆ ಪರಿಶೀಲಿಸಿ. 6 ರಾಜಕುಮಾರರಾದರೆ ಏಕೆ ಹೆಚ್ಚಿನವರು ಎಂದೆಂದಿಗೂ ಕೇಳಿರಲಿಕ್ಕಿಲ್ಲವೆಂದು?

1. ಪೋಲೋ
2. ಹಾಕಿ
3. ಬ್ಯಾಡ್ಮಿಂಟನ್
4. ಫುಟ್ಬಾಲ್

Options :

485584144601. 1
485584144602. 2
485584144603. 3
485584144604. 4

Question Number : 216 Question Id : 48558436151 Question Type : MCQ Option Shuffling : No Is Question Mandatory : No Calculator : None Response Time : N.A Think Time : N.A Minimum Instruction Time : 0

Correct Marks : 5 Wrong Marks : 1

Question Key Details :

Key	Value
Comprehension	MCQ1

जोधपूर उष शालेतील "चौहान खेळाडू" ह्या चित्रात सहा राजकन्या कोणता खेळ खेळत आहेत?

1. पोलो
2. हॉकी
3. बॅडमिंटन
4. फूटबॉल

Options :

485584144601. 1
485584144602. 2
485584144603. 3
485584144604. 4

Question Number : 216 Question Id : 48558436151 Question Type : MCQ Option Shuffling : No Is Question Mandatory : No Calculator : None Response Time : N.A Think Time : N.A Minimum Instruction Time : 0

Correct Marks : 5 Wrong Marks : 1

Question Key Details :

Key	Value
Comprehension	MCQ1

केरळ केरळ येथील एक महत्त्वाचे पर्वत "कोळीयन पर्वत" व त्याच्या आसपासच्या भागात कोळीयन पर्वत आहे.

1. कोळीयन
2. पर्वत
3. पर्वत
4. पर्वत

Options :

485584144601. 1
485584144602. 2
485584144603. 3
485584144604. 4

Question Number : 216 Question Id : 48558436151 Question Type : MCQ Option Shuffling : No Is Question Mandatory : No Calculator : None Response Time : N.A Think Time : N.A Minimum Instruction Time : 0

Correct Marks : 5 Wrong Marks : 1

Question Key Details :

Key	Value
Comprehension	MCQ1

नेपाळ मध्ये सध्या चालू असलेल्या "संग्रह विद्यार्थी" विद्यार्थी व त्यांच्या वरिष्ठांच्या मदतीने कोणता खेळ खेळण्यात येतो?

1. पोलो
2. हॉकी
3. बॅडमिंटन
4. फूटबॉल

Options :

485584144601. 1
485584144602. 2
485584144603. 3

485584144604. 4

Question Number : 216 Question Id : 48558436151 Question Type : MCQ Option Shuffling : No Is Question Mandatory : No Calculator : None
Response Time : N.A Think Time : N.A Minimum Instruction Time : 0

Correct Marks : 5 Wrong Marks : 1

Question Key Details :

Key	Value
Comprehension	MCQ1

ஜோத்பூர் துணைப்பள்ளியின் "சௌஹான் பிரேயர்ஸ்" எனும் ஒவியத்தில் ஆறு இளவரசிகள் எந்த விளையட்டை விளையாடுவதாக காட்டப்பட்டுள்ளது?

1. போலோ
2. ஹாக்கி
3. மென்பந்து
4. கால்பந்து

Options :

485584144601. 1
485584144602. 2
485584144603. 3
485584144604. 4

Question Number : 216 Question Id : 48558436151 Question Type : MCQ Option Shuffling : No Is Question Mandatory : No Calculator : None
Response Time : N.A Think Time : N.A Minimum Instruction Time : 0

Correct Marks : 5 Wrong Marks : 1

Question Key Details :

Key	Value
Comprehension	MCQ1

ஜீடீப்பூர் சுவ பாதசால நண்டலி "தீஹீன் ஷீயூரீ" அநீ சித்ரலேஹநம் லீ அருகூரு ராணலு அடூசுந்நு அஃ ஷீரு?

1. ஷீலீ
2. ஷீலீ
3. ஷீலீ
4. ஷீலீ

Options :

485584144601. 1
485584144602. 2
485584144603. 3
485584144604. 4

Question Number : 216 Question Id : 48558436151 Question Type : MCQ Option Shuffling : No Is Question Mandatory : No Calculator : None
Response Time : N.A Think Time : N.A Minimum Instruction Time : 0

Correct Marks : 5 Wrong Marks : 1

Question Key Details :

Key	Value
Comprehension	MCQ1

جودھیور ذیلی اسکول سے "جوبان کھاڑی" میں چھ شہزادیوں کے کون سا کھیل کھیلا گیا؟

1. بولو
2. پتلی
3. بٹمنٹن
4. قطال

Options :

485584144601. 1
485584144602. 2
485584144603. 3
485584144604. 4

Question Number : 217 Question Id : 48558436152 Question Type : MCQ Option Shuffling : No Is Question Mandatory : No Calculator : None Response Time : N.A Think Time : N.A Minimum Instruction Time : 0

Correct Marks : 5 Wrong Marks : 1

Question Key Details :

Key	Value
Comprehension	MCQ1

Who is the artist of the painting "Bani-Thani" of Rajasthani School of miniature painting?

1. Nainsukh
2. Nihal Chand
3. Manaku
4. Miskin

Options :

485584144605. 1
485584144606. 2
485584144607. 3
485584144608. 4

Question Number : 217 Question Id : 48558436152 Question Type : MCQ Option Shuffling : No Is Question Mandatory : No Calculator : None Response Time : N.A Think Time : N.A Minimum Instruction Time : 0

Correct Marks : 5 Wrong Marks : 1

Question Key Details :

Key	Value
Comprehension	MCQ1

राजस्थानी चित्रशैली के चित्र "बनी-ठनी" के कलाकार कौन हैं?

1. नैनसुख
2. निहाल चंद
3. मनकू
4. मिस्किन

Options :

485584144605. 1
485584144606. 2
485584144607. 3
485584144608. 4

Question Number : 217 Question Id : 48558436152 Question Type : MCQ Option Shuffling : No Is Question Mandatory : No Calculator : None
Response Time : N.A Think Time : N.A Minimum Instruction Time : 0

Correct Marks : 5 Wrong Marks : 1

Question Key Details :

Key	Value
Comprehension	MCQ1

" বানী খামি " নামৰ ৰাজস্থানী মিনিএছিউৰ চিত্ৰশিল্পৰ শিল্পী গৰাকী কোন ?

1. নেনসুখ
2. নিহাল চান্দ
3. মানাকু
4. মিকিন

Options :

485584144605. 1
485584144606. 2
485584144607. 3
485584144608. 4

Question Number : 217 Question Id : 48558436152 Question Type : MCQ Option Shuffling : No Is Question Mandatory : No Calculator : None
Response Time : N.A Think Time : N.A Minimum Instruction Time : 0

Correct Marks : 5 Wrong Marks : 1

Question Key Details :

Key	Value
Comprehension	MCQ1

ৰাজস্থানী স্কুল অফ মিনিএছিউৰ পেন্টিং এৰ (বানী খামি) চিত্ৰশিল্পী কে ছিলেন ?

1. নয়নসুখ
2. নিহাল চান্দ
3. মানাকু
4. মিসকিন

Options :

485584144605. 1
485584144606. 2
485584144607. 3
485584144608. 4

Question Number : 217 Question Id : 48558436152 Question Type : MCQ Option Shuffling : No Is Question Mandatory : No Calculator : None
Response Time : N.A Think Time : N.A Minimum Instruction Time : 0

Correct Marks : 5 Wrong Marks : 1

Question Key Details :

Key	Value
Comprehension	MCQ1

രാജസ്ഥാനി സ്കൂലിനാ ഖമുചിത്ര പെർന്റിങ് "ഡി.ബി.ബി" ന്നാ കവാകാര ക്രിയാ ഉ ?

1. നേസുഡ
2. നിളാവ ചുണ്ട
3. മനാകു
4. മിട്കീന

Options :

485584144605. 1
485584144606. 2
485584144607. 3
485584144608. 4

Question Number : 217 Question Id : 48558436152 Question Type : MCQ Option Shuffling : No Is Question Mandatory : No Calculator : None Response Time : N.A Think Time : N.A Minimum Instruction Time : 0

Correct Marks : 5 Wrong Marks : 1

Question Key Details :

Key	Value
Comprehension	MCQ1

രാജസ്ഥാനി അലയു ചിട്രം ക്രിയാകൃഷ്ട കൃഷ്ട (ഡി.ബി.ബി)യു കലാവിവ യാരു?

1. നേസുഡ
2. നിളാവ ചുണ്ട
3. മനാകു
4. മിട്കീന

Options :

485584144605. 1
485584144606. 2
485584144607. 3
485584144608. 4

Question Number : 217 Question Id : 48558436152 Question Type : MCQ Option Shuffling : No Is Question Mandatory : No Calculator : None Response Time : N.A Think Time : N.A Minimum Instruction Time : 0

Correct Marks : 5 Wrong Marks : 1

Question Key Details :

Key	Value
Comprehension	MCQ1

രാജസ്ഥാനി സമ്പ്രദായത്തിലുള്ള മിനിയെച്ചുർ പെയിന്റിങ്ങായ 'ബാനി താമി' യുടെ സൃഷ്ടാവ് ആർ ?

1. നയിൻസുക്
2. നിഖാൽ ചൻ
3. മെഘറു
4. മിസ്കീൻ

Options :

485584144605. 1
485584144606. 2
485584144607. 3

485584144608. 4

Question Number : 217 Question Id : 48558436152 Question Type : MCQ Option Shuffling : No Is Question Mandatory : No Calculator : None
Response Time : N.A Think Time : N.A Minimum Instruction Time : 0

Correct Marks : 5 Wrong Marks : 1

Question Key Details :

Key	Value
Comprehension	MCQ1

"बानी-धानी" या राजस्थानी लघु चित्रकलेतील चित्राचे कलाकार कोण आहेत?

1. नैनसूख
2. निहाल चंद
3. मनाकू
4. मिस्किन

Options :

485584144605. 1
485584144606. 2
485584144607. 3
485584144608. 4

Question Number : 217 Question Id : 48558436152 Question Type : MCQ Option Shuffling : No Is Question Mandatory : No Calculator : None
Response Time : N.A Think Time : N.A Minimum Instruction Time : 0

Correct Marks : 5 Wrong Marks : 1

Question Key Details :

Key	Value
Comprehension	MCQ1

ବିଜୁ (ବଡ଼ି-ଧାନୀ) ରାଜସ୍ଥାନୀ ଲଘୁ ଚିତ୍ରକଳାରେ ଚିତ୍ରକାର କିଏ ?

1. ନୂନସୁଖ
2. ନିହାଲ ଚନ୍ଦ
3. ମନାକୂ
4. ମିସ୍କିନ

Options :

485584144605. 1
485584144606. 2
485584144607. 3
485584144608. 4

Question Number : 217 Question Id : 48558436152 Question Type : MCQ Option Shuffling : No Is Question Mandatory : No Calculator : None
Response Time : N.A Think Time : N.A Minimum Instruction Time : 0

Correct Marks : 5 Wrong Marks : 1

Question Key Details :

Key	Value
Comprehension	MCQ1

ਰਾਜਸਥਾਨੀ ਲਘੂ ਚਿੱਤਰ ਮਕੂਲ ਦੇ ਚਿੱਤਰ " ਥਾਨੀ-ਠਾਨੀ " ਦਾ ਕਲਾਕਾਰ ਕੌਣ ਹੈ?

1. ਨੈਨਸ਼ੋਖ
2. ਨਿਹਾਲ ਚੰਦ
3. ਮਨਬੁ
4. ਮਿਸ਼ਕਿਨ

Options :

485584144605. 1
485584144606. 2
485584144607. 3
485584144608. 4

Question Number : 217 Question Id : 48558436152 Question Type : MCQ Option Shuffling : No Is Question Mandatory : No Calculator : None Response Time : N.A Think Time : N.A Minimum Instruction Time : 0

Correct Marks : 5 Wrong Marks : 1

Question Key Details :

Key	Value
Comprehension	MCQ1

(ਪਾਨੀ-ਠਾਨੀ) ਏਨੁਯੰ ਨੁਠਨਕਲੇਲ ਓਵਿਯਤਕਿਰਕਾਨ ਰਾਯਲਠਠਾਨੀਯ ਪਲੰਗੀਯਿਨ ਓਵਿਯਤਕੈ ਕੀਂਡਿਯ ਕਲੇਲਕੁਰ ਯਾਰ?

1. ਨੈਨਸ਼ੋਖ
2. ਨਿਹਾਲ ਚੰਦ
3. ਮਨਬੁ
4. ਮਿਸ਼ਕਿਨ

Options :

485584144605. 1
485584144606. 2
485584144607. 3
485584144608. 4

Question Number : 217 Question Id : 48558436152 Question Type : MCQ Option Shuffling : No Is Question Mandatory : No Calculator : None Response Time : N.A Think Time : N.A Minimum Instruction Time : 0

Correct Marks : 5 Wrong Marks : 1

Question Key Details :

Key	Value
Comprehension	MCQ1

ਰਾਜਠਾਨੀ ਸੂਯਲੋ ਕੀ ਚੋਂਦਿਨ "ਬਨੀ ਠਾਮੀ" ਅਨਬਠੇ ਲਘੂ ਵਰ੍ਹੇ ਚਿਤ੍ਰਾਨੀ ਤਯਾਰੂ ਚੋਂਸਿਨ ਕਠਾਰੂਠੁ ਏਵਰੂ?

1. ਨੈਨਸ਼ੋਖ
2. ਨਿਹਾਲ ਚੰਦ
3. ਮਨਬੁ
4. ਮਿਸ਼ਕਿਨ

Options :

485584144605. 1
485584144606. 2

485584144607.3

485584144608.4

Question Number : 217 Question Id : 48558436152 Question Type : MCQ Option Shuffling : No Is Question Mandatory : No Calculator : None
Response Time : N.A Think Time : N.A Minimum Instruction Time : 0

Correct Marks : 5 Wrong Marks : 1

Question Key Details :

Key	Value
Comprehension	MCQ1

راجستھن اسٹول آف مونی ایجر پیشنگ (Bani-Thami) کا فن کار کون ہے ؟

1. نین شاگرہ

2. بہل چند

3. سانگرہ

4. مسگرہ

Options :

485584144605.1

485584144606.2

485584144607.3

485584144608.4

Question Number : 218 Question Id : 48558436153 Question Type : MCQ Option Shuffling : No Is Question Mandatory : No Calculator : None
Response Time : N.A Think Time : N.A Minimum Instruction Time : 0

Correct Marks : 5 Wrong Marks : 1

Question Key Details :

Key	Value
Comprehension	MCQ1

Who among the following is considered as a tantric painter?

1. M.F. Husain

2. Dhanraj Bharat

3. Krishna Reddy

4. G.R. Santoshi

Options :

485584144609.1

485584144610.2

485584144611.3

485584144612.4

Question Number : 218 Question Id : 48558436153 Question Type : MCQ Option Shuffling : No Is Question Mandatory : No Calculator : None
Response Time : N.A Think Time : N.A Minimum Instruction Time : 0

Correct Marks : 5 Wrong Marks : 1

Question Key Details :

Key	Value
Comprehension	MCQ1

निम्न में किसे तान्त्रिक चित्रकार माना जाता है?

1. एम.एफ. हुसैन
2. धनराज भारत
3. कृष्णा रेड्डी
4. जी.आर. संतोष

Options :

485584144609. 1
485584144610. 2
485584144611. 3
485584144612. 4

Question Number : 218 Question Id : 48558436153 Question Type : MCQ Option Shuffling : No Is Question Mandatory : No Calculator : None Response Time : N.A Think Time : N.A Minimum Instruction Time : 0

Correct Marks : 5 Wrong Marks : 1

Question Key Details :

Key	Value
Comprehension	MCQ1

তান্ত্রিক শিল্পী কুলি কক জন্ম যায় ?

1. এম.এফ. হুচেইন
2. ধনরাজ ভারত
3. কৃষ্ণ রেড্ডী
4. জি.আর.সন্তোষ

Options :

485584144609. 1
485584144610. 2
485584144611. 3
485584144612. 4

Question Number : 218 Question Id : 48558436153 Question Type : MCQ Option Shuffling : No Is Question Mandatory : No Calculator : None Response Time : N.A Think Time : N.A Minimum Instruction Time : 0

Correct Marks : 5 Wrong Marks : 1

Question Key Details :

Key	Value
Comprehension	MCQ1

কাকে একজন তান্ত্রিক চিত্রশিল্পী বলা হোত ?

1. এম.এফ. হোসেন
2. ধনরাজ ভারত
3. কৃষ্ণ রেড্ডি
4. জি.আর.সন্তোষ

Options :

485584144609. 1
485584144610. 2
485584144611. 3
485584144612. 4

Question Number : 218 Question Id : 48558436153 Question Type : MCQ Option Shuffling : No Is Question Mandatory : No Calculator : None
Response Time : N.A Think Time : N.A Minimum Instruction Time : 0

Correct Marks : 5 Wrong Marks : 1

Question Key Details :

Key	Value
Comprehension	MCQ1

નીચે પૈકી કોને તાંત્રિક પેઇન્ટર તરીકે ગણવામાં આવે છે ?

1. એમ. એફ. કુસૈન
2. ધનરાજ ભારત
3. કિષ્કા રેહી
4. જી. આર. સંતીષ

Options :

485584144609. 1
485584144610. 2
485584144611. 3
485584144612. 4

Question Number : 218 Question Id : 48558436153 Question Type : MCQ Option Shuffling : No Is Question Mandatory : No Calculator : None
Response Time : N.A Think Time : N.A Minimum Instruction Time : 0

Correct Marks : 5 Wrong Marks : 1

Question Key Details :

Key	Value
Comprehension	MCQ1

આંત્રિક ઇતિહાસકાર એવું યાદરૂપું પઠિતો કોણ છે ?

1. એ. એ. હુસૈન
2. ધનરાજ ભારત
3. કૃષ્ણ રેહી
4. જી. આર. સંતીષ

Options :

485584144609. 1
485584144610. 2
485584144611. 3
485584144612. 4

Question Number : 218 Question Id : 48558436153 Question Type : MCQ Option Shuffling : No Is Question Mandatory : No Calculator : None
Response Time : N.A Think Time : N.A Minimum Instruction Time : 0

Correct Marks : 5 Wrong Marks : 1

Question Key Details :

Key	Value
Comprehension	MCQ1

താഴെ പറയുന്നവയിൽ ഏത് അറിയപ്പെടുന്നത് ആർ ?

1. എം.എഫ്. ഹുസൈൻ
2. ധനരാജ് ഭരത്
3. ക്രിഷ്ണ റെഡി
4. ജി.ആർ. സന്തോഷ്

Options :

485584144609. 1
485584144610. 2
485584144611. 3
485584144612. 4

Question Number : 218 Question Id : 48558436153 Question Type : MCQ Option Shuffling : No Is Question Mandatory : No Calculator : None Response Time : N.A Think Time : N.A Minimum Instruction Time : 0

Correct Marks : 5 Wrong Marks : 1

Question Key Details :

Key	Value
Comprehension	MCQ1

खालील पैकी कोणाला तांत्रिक चित्रकार म्हणून ओळखतात?

1. एम. एफ. हुसैन
2. धनराज भारत
3. कृष्णा रेड्डी
4. जी. आर. संतोष

Options :

485584144609. 1
485584144610. 2
485584144611. 3
485584144612. 4

Question Number : 218 Question Id : 48558436153 Question Type : MCQ Option Shuffling : No Is Question Mandatory : No Calculator : None Response Time : N.A Think Time : N.A Minimum Instruction Time : 0

Correct Marks : 5 Wrong Marks : 1

Question Key Details :

Key	Value
Comprehension	MCQ1

ଗଞ୍ଜିକ କଳାକାର କାହାକୁ ବୁଝାଯାଏ ?

1. ଏମ. ଏଫ. ହୁସେନ
2. ଧନରାଜ ଭାରତ
3. କୃଷ୍ଣ ରେଡ୍ଡି
4. ଜି.ଆର୍. ସନ୍ତୋଷ

Options :

485584144609. 1
485584144610. 2
485584144611. 3
485584144612. 4

Question Number : 218 Question Id : 48558436153 Question Type : MCQ Option Shuffling : No Is Question Mandatory : No Calculator : None
Response Time : N.A Think Time : N.A Minimum Instruction Time : 0

Correct Marks : 5 Wrong Marks : 1

Question Key Details :

Key	Value
Comprehension	MCQ1

ਕਿਸ ਨੂੰ ਤਾਂਤਰਿਕ ਚਿੰਤਰਕਾਰ ਮੰਨਿਆ ਜਾਂਦਾ ਹੈ?

1. ਐਮ ਐਫ ਹੁਸੈਨ
2. ਧਨਰਾਜ ਭਰਤ
3. ਕ੍ਰਿਸ਼ਨਾ ਰੇਡੀ
4. ਜੀ. ਆਰ. ਸੰਤੋਸ਼

Options :

485584144609. 1
485584144610. 2
485584144611. 3
485584144612. 4

Question Number : 218 Question Id : 48558436153 Question Type : MCQ Option Shuffling : No Is Question Mandatory : No Calculator : None
Response Time : N.A Think Time : N.A Minimum Instruction Time : 0

Correct Marks : 5 Wrong Marks : 1

Question Key Details :

Key	Value
Comprehension	MCQ1

ஒரு தாந்த்ரீக ஓவியராக கருதப்படுபவர் யார்?

1. எம்.எஃப்.ஹுஸைன்
2. தனராஜ் பாரத்
3. கிருஷ்ணா ரெட்டி
4. ஜி.ஆர்.சந்தோஷ்

Options :

485584144609. 1
485584144610. 2
485584144611. 3
485584144612. 4

Question Number : 218 Question Id : 48558436153 Question Type : MCQ Option Shuffling : No Is Question Mandatory : No Calculator : None
Response Time : N.A Think Time : N.A Minimum Instruction Time : 0

Correct Marks : 5 Wrong Marks : 1

Question Key Details :

Key	Value
Comprehension	MCQ1

తాంత్రిక చిత్రకారుడిగా ఎవరు పరిగణించబడుతారు?

1. ఎం.ఎఫ్. హుస్సేన్
2. దునరాజ్ భారత్
3. కృష్ణ రెడ్డి
4. జి.ఆర్. సంతోష్

Options :

485584144609. 1
485584144610. 2
485584144611. 3
485584144612. 4

Question Number : 218 Question Id : 48558436153 Question Type : MCQ Option Shuffling : No Is Question Mandatory : No Calculator : None Response Time : N.A Think Time : N.A Minimum Instruction Time : 0

Correct Marks : 5 Wrong Marks : 1

Question Key Details :

Key	Value
Comprehension	MCQ1

مترجہ نیل میں تاترک پینٹر کس کو سمجھا جاتا ہے؟

1. ایم ایف حسین
2. دھن راج بھارت
3. کرشن ریشی
4. جی آر سنٹوش

Options :

485584144609. 1
485584144610. 2
485584144611. 3
485584144612. 4

Question Number : 219 Question Id : 48558436154 Question Type : MCQ Option Shuffling : No Is Question Mandatory : No Calculator : None Response Time : N.A Think Time : N.A Minimum Instruction Time : 0

Correct Marks : 5 Wrong Marks : 1

Question Key Details :

Key	Value
Comprehension	MCQ1

Who composed the devotional poetry on Krishna and Radha in Brajbhasha?

1. Jaswant Singh
2. Sawant Singh
3. Rana Singh
4. Jai Singh

Options :

485584144613. 1
485584144614. 2
485584144615. 3
485584144616. 4

Question Number : 219 Question Id : 48558436154 Question Type : MCQ Option Shuffling : No Is Question Mandatory : No Calculator : None
Response Time : N.A Think Time : N.A Minimum Instruction Time : 0

Correct Marks : 5 Wrong Marks : 1

Question Key Details :

Key	Value
Comprehension	MCQ1

कृष्ण और राधा को समर्पित काव्य संग्रह ब्रजभाषा में किसके द्वारा लिखा गया है?

1. जसवंत सिंह
2. सावंत सिंह
3. राणा सिंह
4. जय सिंह

Options :

485584144613. 1
485584144614. 2
485584144615. 3
485584144616. 4

Question Number : 219 Question Id : 48558436154 Question Type : MCQ Option Shuffling : No Is Question Mandatory : No Calculator : None
Response Time : N.A Think Time : N.A Minimum Instruction Time : 0

Correct Marks : 5 Wrong Marks : 1

Question Key Details :

Key	Value
Comprehension	MCQ1

कृष्ण आरु राधाक ओपरात "नागारि दास" ङङ्गिडुलक कविता कुनै लिखिङ्गल ?

1. षशवङ्गु सिङ्ग
2. सारङ्गु सिङ्ग
3. रान्ना सिङ्ग
4. ङङ्गु सिङ्ग

Options :

485584144613. 1
485584144614. 2
485584144615. 3
485584144616. 4

Question Number : 219 Question Id : 48558436154 Question Type : MCQ Option Shuffling : No Is Question Mandatory : No Calculator : None
Response Time : N.A Think Time : N.A Minimum Instruction Time : 0

Correct Marks : 5 Wrong Marks : 1

Question Key Details :

Key	Value
Comprehension	MCQ1

ಬ್ರಜಭಾಷಾ 'ನಾಗರೀ ದಾಸ' ಏ ಕೇ ರಾಘಾ ಂ ಕುಷೇರ ಂಪರ ಒಕ್ತಿಯೂಲಕ ಕವಿತಾ ರಚನಾ ಕರೇಢ್ಢಲೇನ ?

1. ಷಶೇವಸುತ ಸಿಢ್
2. ಸಾಂಸುತ ಸಿಢ್
3. ರಾನಾ ಸಿಢ್
4. ಜಯ ಸಿಢ್

Options :

485584144613. 1
485584144614. 2
485584144615. 3
485584144616. 4

Question Number : 219 Question Id : 48558436154 Question Type : MCQ Option Shuffling : No Is Question Mandatory : No Calculator : None Response Time : N.A Think Time : N.A Minimum Instruction Time : 0

Correct Marks : 5 Wrong Marks : 1

Question Key Details :

Key	Value
Comprehension	MCQ1

ಪ್ರಜ ಸಾಘಾಸಾಂ ಳಪಾಢಿವಿ ಅನೇ "ನಗರೀ ಢಾಸ" ತರೀತೆ ಪ್ರಖ್ಯಾತ ಸಾಘಾ . ಕೃಷ್ಣರನೀ ಒಕ್ತಿಯೂಲಕ ಕವಿತಾ ಕೂಜಿ ಸುತೀ ಡಿ ?

1. ಜಸುಪತ ಸಿಢ್
2. ಸಾಪತ ಸಿಢ್
3. ಸಾಘಾ ಸಿಢ್
4. ಜಯ ಸಿಢ್

Options :

485584144613. 1
485584144614. 2
485584144615. 3
485584144616. 4

Question Number : 219 Question Id : 48558436154 Question Type : MCQ Option Shuffling : No Is Question Mandatory : No Calculator : None Response Time : N.A Think Time : N.A Minimum Instruction Time : 0

Correct Marks : 5 Wrong Marks : 1

Question Key Details :

Key	Value
Comprehension	MCQ1

ಕೃಷ್ಣ ಮತು ರಾಧೆಯು ಮೇಲೆ ಬಿಜ್ ಭಾಷಾ "ನಗರೀ ದಾಸ" ನಲ್ಲಿ ಭಕ್ತಿ ಕಾವ್ಯವನ್ನು ಸಂಯೋಜಿಸಿದವರು ಯಾರು?

1. ಜಸುಪತ ಸಿಢ್
2. ಸಾಪತ ಸಿಢ್
3. ಸಾಘಾ ಸಿಢ್
4. ಜಯ ಸಿಢ್

Options :

485584144613. 1
485584144614. 2
485584144615. 3

485584144616. 4

Question Number : 219 Question Id : 48558436154 Question Type : MCQ Option Shuffling : No Is Question Mandatory : No Calculator : None
Response Time : N.A Think Time : N.A Minimum Instruction Time : 0
Correct Marks : 5 Wrong Marks : 1

Question Key Details :

Key	Value
Comprehension	MCQ1

കൃഷ്ണനെയും രാധയെയും കുറിച്ച് ഭ്രാജ് ഭാഷയിലുള്ള ഭക്തി കവിതയായ "നഗരി ഭാസ" രചിച്ചതാര് ?

1. ജസ് വന്ത് സിംഗ്
2. സാവന്ത് സിംഗ്
3. റാണ സിംഗ്
4. ജയ് സിംഗ്

Options :

485584144613. 1
485584144614. 2
485584144615. 3
485584144616. 4

Question Number : 219 Question Id : 48558436154 Question Type : MCQ Option Shuffling : No Is Question Mandatory : No Calculator : None
Response Time : N.A Think Time : N.A Minimum Instruction Time : 0
Correct Marks : 5 Wrong Marks : 1

Question Key Details :

Key	Value
Comprehension	MCQ1

ब्रिजभाषेतील "नागरी दास", हे राधा व कृष्णा संबंधीचे भक्ती काव्य कोणी रचले?

1. जसवंत सिंग
2. सावंत सिंग
3. राणा सिंग
4. जय सिंग

Options :

485584144613. 1
485584144614. 2
485584144615. 3
485584144616. 4

Question Number : 219 Question Id : 48558436154 Question Type : MCQ Option Shuffling : No Is Question Mandatory : No Calculator : None
Response Time : N.A Think Time : N.A Minimum Instruction Time : 0
Correct Marks : 5 Wrong Marks : 1

Question Key Details :

Key	Value
Comprehension	MCQ1

କୃଷି ପଦ୍ଧତିର ବିଭିନ୍ନ ପ୍ରକାରଗୁଡ଼ିକର ବିଷୟ କିମ୍ପା କିମ୍ପା କିମ୍ପା କିମ୍ପା ?

1. ବରଷା ବିଷୟ
2. ଋତୁ ବିଷୟ
3. ଋତୁ ବିଷୟ
4. ଋତୁ ବିଷୟ

Options :

485584144613. 1
485584144614. 2
485584144615. 3
485584144616. 4

Question Number : 219 Question Id : 48558436154 Question Type : MCQ Option Shuffling : No Is Question Mandatory : No Calculator : None Response Time : N.A Think Time : N.A Minimum Instruction Time : 0

Correct Marks : 5 Wrong Marks : 1

Question Key Details :

Key	Value
Comprehension	MCQ1

କୃଷି ପଦ୍ଧତିର ବିଭିନ୍ନ ପ୍ରକାରଗୁଡ଼ିକର ବିଷୟ କିମ୍ପା କିମ୍ପା କିମ୍ପା କିମ୍ପା ?

1. ଜମିର ବିଷୟ
2. ଜମିର ବିଷୟ
3. ଜମିର ବିଷୟ
4. ଜମିର ବିଷୟ

Options :

485584144613. 1
485584144614. 2
485584144615. 3
485584144616. 4

Question Number : 219 Question Id : 48558436154 Question Type : MCQ Option Shuffling : No Is Question Mandatory : No Calculator : None Response Time : N.A Think Time : N.A Minimum Instruction Time : 0

Correct Marks : 5 Wrong Marks : 1

Question Key Details :

Key	Value
Comprehension	MCQ1

"ନକ୍ସା ତାଲିକା" ଶୁଣି କିମ୍ପା କିମ୍ପା କିମ୍ପା କିମ୍ପା ?

1. ଶୁଣି କିମ୍ପା
2. ଶୁଣି କିମ୍ପା
3. ଶୁଣି କିମ୍ପା
4. ଶୁଣି କିମ୍ପା

Options :

485584144613. 1

485584144614. 2
485584144615. 3
485584144616. 4

Question Number : 219 Question Id : 48558436154 Question Type : MCQ Option Shuffling : No Is Question Mandatory : No Calculator : None
Response Time : N.A Think Time : N.A Minimum Instruction Time : 0

Correct Marks : 5 Wrong Marks : 1

Question Key Details :

Key	Value
Comprehension	MCQ1

బ్రజ్ భాష "నాగరిదాసి" నందలి రాధ కృష్ణుల భక్తి వద్యాలను ఎవరు రాసారు?

1. జనకాచార్యులు
2. సావంత సంగ్
3. రానా సంగ్
4. జై సంగ్

Options :

485584144613. 1
485584144614. 2
485584144615. 3
485584144616. 4

Question Number : 219 Question Id : 48558436154 Question Type : MCQ Option Shuffling : No Is Question Mandatory : No Calculator : None
Response Time : N.A Think Time : N.A Minimum Instruction Time : 0

Correct Marks : 5 Wrong Marks : 1

Question Key Details :

Key	Value
Comprehension	MCQ1

برج بھانڈا میں کھڑا اور رات بھر بھین گننے لگتی ہے "انگری ماہر" سے مشورہ ہے ؟

1. جھوٹ سننے
2. سادھ سننے
3. رات سننے
4. جے سننے

Options :

485584144613. 1
485584144614. 2
485584144615. 3
485584144616. 4

Question Number : 220 Question Id : 48558436155 Question Type : MCQ Option Shuffling : No Is Question Mandatory : No Calculator : None
Response Time : N.A Think Time : N.A Minimum Instruction Time : 0

Correct Marks : 5 Wrong Marks : 1

Question Key Details :

Key	Value
Comprehension	MCQ1

Which painting is based on the episode of "Bhagvata Purana" from Pahari School?

1. Krishna and Rama
2. Nand and Yashoda
3. Nand, Yashoda and Krishna
4. Rama and Laxmana following Sage Vishvamitra to the forest

Options :

485584144617. 1
485584144618. 2
485584144619. 3
485584144620. 4

Question Number : 220 Question Id : 48558436155 Question Type : MCQ Option Shuffling : No Is Question Mandatory : No Calculator : None Response Time : N.A Think Time : N.A Minimum Instruction Time : 0

Correct Marks : 5 Wrong Marks : 1

Question Key Details :

Key	Value
Comprehension	MCQ1

"भागवत पुराण" पर आधारित पहाडी चित्रशैली मे बना कौन सा चित्र है?

1. कृष्ण और राम
2. नंद और यशोदा
3. नंद, यशोदा और कृष्ण
4. राम और लक्ष्मण ऋषि विश्वामित्र के साथ जंगल (वन) की ओर जा रहे हैं

Options :

485584144617. 1
485584144618. 2
485584144619. 3
485584144620. 4

Question Number : 220 Question Id : 48558436155 Question Type : MCQ Option Shuffling : No Is Question Mandatory : No Calculator : None Response Time : N.A Think Time : N.A Minimum Instruction Time : 0

Correct Marks : 5 Wrong Marks : 1

Question Key Details :

Key	Value
Comprehension	MCQ1

তলৰ কোনখন চিত্ৰশিল্প পাহাৰী শৈলীৰ ভাগৱত পুৰাণৰ ওপৰত ভিত্তি কৰি কৰা হৈছে ?

1. কৃষ্ণ আৰু ৰাম
2. নন্দ আৰু যশোদা
3. নন্দ, যশোদা, আৰু কৃষ্ণ
4. মুনি বিশ্বমিত্ৰক অৰণালৈ অনুসৰণ কৰা ৰাম আৰু লক্ষণ

Options :

485584144617. 1
485584144618. 2
485584144619. 3
485584144620. 4

Question Number : 220 Question Id : 48558436155 Question Type : MCQ Option Shuffling : No Is Question Mandatory : No Calculator : None
Response Time : N.A Think Time : N.A Minimum Instruction Time : 0

Correct Marks : 5 Wrong Marks : 1

Question Key Details :

Key	Value
Comprehension	MCQ1

'पाहारी स्कूल (Pahari School) থেকে কোন চিত্রটি ভাগবত পুরাণকে কেন্দ্র করে অঙ্কিত ছিল?

1. কৃষ্ণ এবং রাম
2. নন্দ ও যশোদা
3. নন্দ, যশোদা এবং কৃষ্ণ
4. রাম এবং লক্ষণ বিশ্বামিত্র মুনির অনুসরণে বনে চলেছে

Options :

485584144617. 1
485584144618. 2
485584144619. 3
485584144620. 4

Question Number : 220 Question Id : 48558436155 Question Type : MCQ Option Shuffling : No Is Question Mandatory : No Calculator : None
Response Time : N.A Think Time : N.A Minimum Instruction Time : 0

Correct Marks : 5 Wrong Marks : 1

Question Key Details :

Key	Value
Comprehension	MCQ1

पहाडी स्कूलनुं कयुं पेंटिङ्ग भगवत पुराणना अध्याय पर आधारित छै ?

1. कृष्ण अने राम
2. नंद अने यशोदा
3. नंद, यशोदा अने कृष्ण
4. राम अने लक्ष्मण ऋषि विश्वामित्रनी पाछल पाछल जंगलमा गया

Options :

485584144617. 1
485584144618. 2
485584144619. 3
485584144620. 4

Question Number : 220 Question Id : 48558436155 Question Type : MCQ Option Shuffling : No Is Question Mandatory : No Calculator : None
Response Time : N.A Think Time : N.A Minimum Instruction Time : 0

Correct Marks : 5 Wrong Marks : 1

Question Key Details :

Key	Value
Comprehension	MCQ1

ಪಹಾರಿ ಶಾಲೆಯ ಭಾಗ್ಯತ ಪುರಾಣದ ಆಧ್ಯಾಯದ ಮೇಲೆ ಆಧರಿಸಿರುವ ಚಿತ್ರಕಲೆ ಯಾವುದು?

1. ಕೃಷ್ಣ ಮತ್ತು ರಾಮ
2. ನಂದ ಮತ್ತು ಯಶೋದಾ
3. ನಂದ, ಯಶೋದಾ ಮತ್ತು ಕೃಷ್ಣ
4. ರಾಮ ಮತ್ತು ಲಕ್ಷ್ಮಣ ಕಾಡಿನಲ್ಲಿ ವಿಶ್ವಾಮಿತ್ರ ಮುನಿಯನ್ನು ಹಿಂಬಾಲಿಸುವುದು

Options :

485584144617. 1
485584144618. 2
485584144619. 3
485584144620. 4

Question Number : 220 Question Id : 48558436155 Question Type : MCQ Option Shuffling : No Is Question Mandatory : No Calculator : None Response Time : N.A Think Time : N.A Minimum Instruction Time : 0

Correct Marks : 5 Wrong Marks : 1

Question Key Details :

Key	Value
Comprehension	MCQ1

ಛಾಯಾಚಿತ್ರವು ಛಾಯಾಚಿತ್ರದ ಅಡಿಪಾಯವನ್ನು ಹೊಂದಿ ಸುಮಾರು ಎಷ್ಟು ವರ್ಷಗಳಿಂದ ಇದೆ ?

1. ಏಳು ಮತ್ತು ಹದಿನಾರು
2. ಹದಿನಾರು ಮತ್ತು ಹದಿನೈದು
3. ಹದಿನಾರು, ಹದಿನೈದು, ಏಳು ಮತ್ತು ಹದಿನಾರು
4. ಹದಿನಾರು ಮತ್ತು ಹದಿನೈದು ವರ್ಷಗಳಿಂದ ಇದೆ ಮತ್ತು ಹದಿನೈದು ವರ್ಷಗಳಿಂದ ಇದೆ

Options :

485584144617. 1
485584144618. 2
485584144619. 3
485584144620. 4

Question Number : 220 Question Id : 48558436155 Question Type : MCQ Option Shuffling : No Is Question Mandatory : No Calculator : None Response Time : N.A Think Time : N.A Minimum Instruction Time : 0

Correct Marks : 5 Wrong Marks : 1

Question Key Details :

Key	Value
Comprehension	MCQ1

ಪಹಾರಿ ಶಾಲೆಯ ಕೊಠಡಿ ಚಿತ್ರ ಭಾಗವತ ಪುರಾಣದಲ್ಲಿ ಬರುವಂತೆ ಆಧಾರಿತ ಆದೇ?

1. ಕೃಷ್ಣ ಮತ್ತು ರಾಮ
2. ನಂದ ಮತ್ತು ಯಶೋದಾ
3. ನಂದ, ಯಶೋದಾ ಮತ್ತು ಕೃಷ್ಣ
4. ಜಂಗಲಾತ ಋಷಿ ವಿಶ್ವಾಮಿತ್ರನು ಮಗು ಜಾಣರೇ ರಾಮ ಮತ್ತು ಲಕ್ಷ್ಮಣ

Options :

485584144617. 1
485584144618. 2
485584144619. 3

485584144620. 4

Question Number : 220 Question Id : 48558436155 Question Type : MCQ Option Shuffling : No Is Question Mandatory : No Calculator : None
Response Time : N.A Think Time : N.A Minimum Instruction Time : 0
Correct Marks : 5 Wrong Marks : 1
Question Key Details :

Key	Value
Comprehension	MCQ1

ਕੇਵਲ ਚਿੱਤਰੀ ਚਾੜ੍ਹਾ ਕ੍ਰਮ ਆਗਵਤ ਕ੍ਰਮ ਆਗਵਤ ਆਗਵਤ ਆਗਵਤ ਆਗਵਤ ?

1. ਕ੍ਰਮ ਆਗਵਤ ਆਗਵਤ
2. ਆਗਵਤ ਆਗਵਤ ਆਗਵਤ
3. ਆਗਵਤ ਆਗਵਤ ਆਗਵਤ ਕ੍ਰਮ
4. ਆਗਵਤ ਆਗਵਤ ਆਗਵਤ ਆਗਵਤ ਆਗਵਤ ਆਗਵਤ ਆਗਵਤ

Options :

- 485584144617. 1
- 485584144618. 2
- 485584144619. 3
- 485584144620. 4

Question Number : 220 Question Id : 48558436155 Question Type : MCQ Option Shuffling : No Is Question Mandatory : No Calculator : None
Response Time : N.A Think Time : N.A Minimum Instruction Time : 0
Correct Marks : 5 Wrong Marks : 1
Question Key Details :

Key	Value
Comprehension	MCQ1

ਪਹਾੜੀ ਸਕੂਲ ਵਿੱਚੋਂ ਭਾਗਵਤ ਪੁਰਾਨ ਪ੍ਰਸੰਗ ਤੇ ਆਧਾਰਿਤ ਚਿੱਤਰ ਕਿਹੜੀ ਹੈ?

1. ਕ੍ਰਮ ਅਤੇ ਰਾਮ
2. ਨੰਦ ਅਤੇ ਆਗਵਤ
3. ਨੰਦ , ਆਗਵਤ ਅਤੇ ਕ੍ਰਮ
4. ਰਾਮ ਅਤੇ ਲਕਸ਼ਮਣ ਜੰਗਲ ਵਿੱਚ ਸੰਤ ਵਿਸ਼ਵਾਸਿੰਤਰ ਦੇ ਅਨੁਸਾਰ ਕਰਦੇ ਹੋਏ

Options :

- 485584144617. 1
- 485584144618. 2
- 485584144619. 3
- 485584144620. 4

Question Number : 220 Question Id : 48558436155 Question Type : MCQ Option Shuffling : No Is Question Mandatory : No Calculator : None
Response Time : N.A Think Time : N.A Minimum Instruction Time : 0
Correct Marks : 5 Wrong Marks : 1
Question Key Details :

Key	Value
Comprehension	MCQ1

485584144619. 3
485584144620. 4

Question Number : 221 Question Id : 48558436156 Question Type : MCQ Option Shuffling : No Is Question Mandatory : No Calculator : None
Response Time : N.A Think Time : N.A Minimum Instruction Time : 0

Correct Marks : 5 Wrong Marks : 1

Question Key Details :

Key	Value
Comprehension	MCQ1

'Nainsukh' the artist of miniature painting belongs to which Sub-School of Pahari style?

1. Guler
2. Kangra
3. Basohli
4. Kullu

Options :

485584144621. 1
485584144622. 2
485584144623. 3
485584144624. 4

Question Number : 221 Question Id : 48558436156 Question Type : MCQ Option Shuffling : No Is Question Mandatory : No Calculator : None
Response Time : N.A Think Time : N.A Minimum Instruction Time : 0

Correct Marks : 5 Wrong Marks : 1

Question Key Details :

Key	Value
Comprehension	MCQ1

लघु चित्रकारी के कलाकार 'नैनसुख' पहाड़ी शैली की किस उप-शैली से सम्बंधित हैं?

1. गुलेर
2. कांगड़ा
3. बसोहली
4. कुल्लू

Options :

485584144621. 1
485584144622. 2
485584144623. 3
485584144624. 4

Question Number : 221 Question Id : 48558436156 Question Type : MCQ Option Shuffling : No Is Question Mandatory : No Calculator : None
Response Time : N.A Think Time : N.A Minimum Instruction Time : 0

Correct Marks : 5 Wrong Marks : 1

Question Key Details :

Key	Value
Comprehension	MCQ1

'নেনসুখ' মিনি এচিউৰ চিত্ৰশিল্পৰ শিল্পী কোন, যাক পাহাৰী উপশৈলীৰ পৰা লোৱা হৈছে ?

1. গোলাৰ
2. কাংগ্ৰা
3. বচহনি
4. কুৰু

Options :

485584144621. 1
485584144622. 2
485584144623. 3
485584144624. 4

Question Number : 221 Question Id : 48558436156 Question Type : MCQ Option Shuffling : No Is Question Mandatory : No Calculator : None Response Time : N.A Think Time : N.A Minimum Instruction Time : 0

Correct Marks : 5 Wrong Marks : 1

Question Key Details :

Key	Value
Comprehension	MCQ1

কোন সাৰ স্কুলেৰ পাহাৰী স্টাইলে চিত্ৰশিল্পী 'নয়নসুখ' চিত্ৰশিল্পটিৰ ক্ষুদ্ৰসংক্ৰমণ কৰেছিলে ?

1. গুৱাৰ
2. কাংগ্ৰা
3. বসোলি
4. কুৰু

Options :

485584144621. 1
485584144622. 2
485584144623. 3
485584144624. 4

Question Number : 221 Question Id : 48558436156 Question Type : MCQ Option Shuffling : No Is Question Mandatory : No Calculator : None Response Time : N.A Think Time : N.A Minimum Instruction Time : 0

Correct Marks : 5 Wrong Marks : 1

Question Key Details :

Key	Value
Comprehension	MCQ1

ৰঘুযিত্ৰ পেৰলিঙ নেনসুখনা কলাকাৰ কৰ্ত পছাদী পেটা স্কুল শীৰ্ষী সাধে সংব্দধ ধৰাৰে ঠে ?

1. গুৱাৰ
2. কাংগ্ৰা
3. বসোলি
4. কুৰু

Options :

485584144621. 1
485584144622. 2
485584144623. 3
485584144624. 4

Question Number : 221 Question Id : 48558436156 Question Type : MCQ Option Shuffling : No Is Question Mandatory : No Calculator : None Response Time : N.A Think Time : N.A Minimum Instruction Time : 0

Correct Marks : 5 Wrong Marks : 1

Question Key Details :

Key	Value
Comprehension	MCQ1

'സ്മൃതസ്മരണ' ചിഹ്നം കിരുകിരുകലയുടെ കലാവിധി പത്താറി ജ്യോതിയുടെ യഥാർത്ഥ രചനകൾക്ക് സിദ്ധമാണ്?

1. ഗുലാർ
2. കാവ്യ
3. ചോട്ടോറിയ
4. കല്ല

Options :

- 485584144621. 1
- 485584144622. 2
- 485584144623. 3
- 485584144624. 4

Question Number : 221 Question Id : 48558436156 Question Type : MCQ Option Shuffling : No Is Question Mandatory : No Calculator : None Response Time : N.A Think Time : N.A Minimum Instruction Time : 0

Correct Marks : 5 Wrong Marks : 1

Question Key Details :

Key	Value
Comprehension	MCQ1

'നയീനീസുഖ്' എന്ന മിന്നിയച്ചർ പെയിന്റിന്റെ തയ്യാറാക്കിയ കലാകാരൻ, പഹാരി സമ്പ്രദായത്തിന്റെ ഏത് ഉപസമ്പ്രദായത്തിൽ ഉൾപ്പെടുന്നു :

1. ഗുലാരി
2. കാവ്യ
3. ബേസോവ്ലി
4. കല്ല

Options :

- 485584144621. 1
- 485584144622. 2
- 485584144623. 3
- 485584144624. 4

Question Number : 221 Question Id : 48558436156 Question Type : MCQ Option Shuffling : No Is Question Mandatory : No Calculator : None Response Time : N.A Think Time : N.A Minimum Instruction Time : 0

Correct Marks : 5 Wrong Marks : 1

Question Key Details :

Key	Value
Comprehension	MCQ1

'नयनसूख' हे पहाडी उप-शाळा शैलीचे चित्र कोणत्या कलाकाराचे आहे?

1. गुलार
2. कांगडा
3. बोसोहली
4. फुलू

Options :

485584144621. 1
485584144622. 2
485584144623. 3
485584144624. 4

Question Number : 221 Question Id : 48558436156 Question Type : MCQ Option Shuffling : No Is Question Mandatory : No Calculator : None Response Time : N.A Think Time : N.A Minimum Instruction Time : 0

Correct Marks : 5 Wrong Marks : 1

Question Key Details :

Key	Value
Comprehension	MCQ1

निम्नलिखित चित्र "नयनसूख" कलाकाराच्या चित्राचे कोणते चित्र आहे ?

1. गुलार
2. कांगडा
3. बोसोहली
4. फुलू

Options :

485584144621. 1
485584144622. 2
485584144623. 3
485584144624. 4

Question Number : 221 Question Id : 48558436156 Question Type : MCQ Option Shuffling : No Is Question Mandatory : No Calculator : None Response Time : N.A Think Time : N.A Minimum Instruction Time : 0

Correct Marks : 5 Wrong Marks : 1

Question Key Details :

Key	Value
Comprehension	MCQ1

लघु चित्र " नैनसूख " चा कलाकार पहाडी शैलीचे चित्र कोणत्या कलाकाराचे आहे ?

1. गुलार
2. कांगडा
3. बोसोहली
4. फुलू

Options :

485584144621. 1
485584144622. 2
485584144623. 3

485584144624. 4

Question Number : 221 Question Id : 48558436156 Question Type : MCQ Option Shuffling : No Is Question Mandatory : No Calculator : None
Response Time : N.A Think Time : N.A Minimum Instruction Time : 0
Correct Marks : 5 Wrong Marks : 1

Question Key Details :

Key	Value
Comprehension	MCQ1

"றைன்சுங்" எனும் நுண்கலை ஓவியக் கலைஞர், பஹாரி பாணியின் எந்த துணைப்பள்ளிச் சார்ந்தவர்?

1. குலார்
2. கான்ங்கிரா
3. பசேலி
4. குலு

Options :

485584144621. 1
485584144622. 2
485584144623. 3
485584144624. 4

Question Number : 221 Question Id : 48558436156 Question Type : MCQ Option Shuffling : No Is Question Mandatory : No Calculator : None
Response Time : N.A Think Time : N.A Minimum Instruction Time : 0

Correct Marks : 5 Wrong Marks : 1

Question Key Details :

Key	Value
Comprehension	MCQ1

சூக்தி சித்ரலுநாசிக் கெண்டிச சித்ரகார்டு "நெஃபுத்" ஸஃர் துலிக் கெண்டிச லி கஃ ஸாஸாலகஃ கெண்டிசவாடு?

1. ஸுலர்
2. கஃரர்
3. ஃஸுஃ
4. குலு

Options :

485584144621. 1
485584144622. 2
485584144623. 3
485584144624. 4

Question Number : 221 Question Id : 48558436156 Question Type : MCQ Option Shuffling : No Is Question Mandatory : No Calculator : None
Response Time : N.A Think Time : N.A Minimum Instruction Time : 0

Correct Marks : 5 Wrong Marks : 1

Question Key Details :

Key	Value
Comprehension	MCQ1

پہاڑی انداز کے کس دہلی اسکول سے میںی اجر پیشنگ کے ہا کز این سگہ کا نطو ہے ؟

1. غلر
2. کنگڑا
3. بولی
4. غر

Options :

485584144621. 1
485584144622. 2
485584144623. 3
485584144624. 4

Question Number : 222 Question Id : 48558436157 Question Type : MCQ Option Shuffling : No Is Question Mandatory : No Calculator : None Response Time : N.A Think Time : N.A Minimum Instruction Time : 0

Correct Marks : 5 Wrong Marks : 1

Question Key Details :

Key	Value
Comprehension	MCQ1

"Triumph of Labour" sculpture is made of which material.

1. Steel
2. Cement
3. Stone
4. Bronze

Options :

485584144625. 1
485584144626. 2
485584144627. 3
485584144628. 4

Question Number : 222 Question Id : 48558436157 Question Type : MCQ Option Shuffling : No Is Question Mandatory : No Calculator : None Response Time : N.A Think Time : N.A Minimum Instruction Time : 0

Correct Marks : 5 Wrong Marks : 1

Question Key Details :

Key	Value
Comprehension	MCQ1

"श्रम की विजय" मूर्तिकला किस सामग्री से बनी है:

1. स्टील (इस्पात)
2. सीमेंट
3. पत्थर
4. काँसा

Options :

485584144625. 1
485584144626. 2
485584144627. 3
485584144628. 4

Question Number : 222 Question Id : 48558436157 Question Type : MCQ Option Shuffling : No Is Question Mandatory : No Calculator : None
Response Time : N.A Think Time : N.A Minimum Instruction Time : 0

Correct Marks : 5 Wrong Marks : 1

Question Key Details :

Key	Value
Comprehension	MCQ1

'ট্রিস্ট্রফ অর লেবর' স্থাপত্য কিহেবে বনাইছিল ?

1. ঙ্টিল
2. চিমেন্ট
3. পাথর
4. ব্রঞ্জ

Options :

485584144625. 1
485584144626. 2
485584144627. 3
485584144628. 4

Question Number : 222 Question Id : 48558436157 Question Type : MCQ Option Shuffling : No Is Question Mandatory : No Calculator : None
Response Time : N.A Think Time : N.A Minimum Instruction Time : 0

Correct Marks : 5 Wrong Marks : 1

Question Key Details :

Key	Value
Comprehension	MCQ1

'ট্রায়ান্ফ অফ লেবার ভাঙ্কর্ষ' স্থাপত্যটি বানানো হয়েছে

1. স্টীল
2. সিমেন্ট
3. পাথর / স্টোন
4. ব্রঞ্জ

Options :

485584144625. 1
485584144626. 2
485584144627. 3
485584144628. 4

Question Number : 222 Question Id : 48558436157 Question Type : MCQ Option Shuffling : No Is Question Mandatory : No Calculator : None
Response Time : N.A Think Time : N.A Minimum Instruction Time : 0

Correct Marks : 5 Wrong Marks : 1

Question Key Details :

Key	Value
Comprehension	MCQ1

ಶಿಲ್ಪಕೃತಿ "Triumph of Labour" (ಶ್ರಮನೀ ಜಿತ) _____ ನೆ ಬನಿವಿ ಲಿ.

1. ಸಿರಬ
2. ಸಿಮೆಂಟ
3. ಪಠರ
4. ಬಿಲಿ

Options :

485584144625. 1
485584144626. 2
485584144627. 3
485584144628. 4

Question Number : 222 Question Id : 48558436157 Question Type : MCQ Option Shuffling : No Is Question Mandatory : No Calculator : None Response Time : N.A Think Time : N.A Minimum Instruction Time : 0

Correct Marks : 5 Wrong Marks : 1

Question Key Details :

Key	Value
Comprehension	MCQ1

ಶಿಲ್ಪಕಲೆ "ಕಾರ್ಮಿಕ ದಿಗ್ವಿಜಯ"ವು ರಚಿಸಿದ್ದು ಇದರಿಂದ:

1. ಉಕ್ಕು
2. ಸಿಮೆಂಟ್
3. ಕಲ್ಲು
4. ಕಂಚು

Options :

485584144625. 1
485584144626. 2
485584144627. 3
485584144628. 4

Question Number : 222 Question Id : 48558436157 Question Type : MCQ Option Shuffling : No Is Question Mandatory : No Calculator : None Response Time : N.A Think Time : N.A Minimum Instruction Time : 0

Correct Marks : 5 Wrong Marks : 1

Question Key Details :

Key	Value
Comprehension	MCQ1

"ಅರಬ್ಬಾನುತನಿಲಿ ವಿಜಯಂ" ಏನು ಲಿಲ್ಲಂ ಏನುಕೊಂಗೆ ನಿರೀಚಿತಾಂ ?

1. ಸ್ಥಿತಿ
2. ಸಿಮೆಂಟ್
3. ಕಲ್ಲು
4. ಕಂಚು

Options :

485584144625. 1
485584144626. 2
485584144627. 3
485584144628. 4

Question Number : 222 Question Id : 48558436157 Question Type : MCQ Option Shuffling : No Is Question Mandatory : No Calculator : None
Response Time : N.A Think Time : N.A Minimum Instruction Time : 0

Correct Marks : 5 Wrong Marks : 1

Question Key Details :

Key	Value
Comprehension	MCQ1

"ट्रायफ ऑफ लेबर" (श्रमाचा विजय) हे शिल्प कशाने बनवले आहे?

1. स्टील
2. सिमेंट
3. दगड
4. कांस्य

Options :

485584144625. 1
485584144626. 2
485584144627. 3
485584144628. 4

Question Number : 222 Question Id : 48558436157 Question Type : MCQ Option Shuffling : No Is Question Mandatory : No Calculator : None
Response Time : N.A Think Time : N.A Minimum Instruction Time : 0

Correct Marks : 5 Wrong Marks : 1

Question Key Details :

Key	Value
Comprehension	MCQ1

'ब्रह्मांड अथ कोश' मध्ये कोणत्या पुरुषाचे वर्णन केले आहे?

1. शिव
2. विष्णू
3. ब्रह्मा
4. इंद्र

Options :

485584144625. 1
485584144626. 2
485584144627. 3
485584144628. 4

Question Number : 222 Question Id : 48558436157 Question Type : MCQ Option Shuffling : No Is Question Mandatory : No Calculator : None
Response Time : N.A Think Time : N.A Minimum Instruction Time : 0

Correct Marks : 5 Wrong Marks : 1

Question Key Details :

Key	Value
Comprehension	MCQ1

"बिचत सी सिंत" भुवती बिम सी घटी री?

1. मटील
2. मीभिंट
3. पँवत
4. वंम

Options :

485584144625. 1
485584144626. 2
485584144627. 3
485584144628. 4

Question Number : 222 Question Id : 48558436157 Question Type : MCQ Option Shuffling : No Is Question Mandatory : No Calculator : None Response Time : N.A Think Time : N.A Minimum Instruction Time : 0

Correct Marks : 5 Wrong Marks : 1

Question Key Details :

Key	Value
Comprehension	MCQ1

"டரியகம்ப் ஆகப் லேபர்" என்ற சிற்பம் இதனால் ஆனது:

1. எஃகு
2. சிமெண்ட்
3. கல்
4. வெண்கலம்

Options :

485584144625. 1
485584144626. 2
485584144627. 3
485584144628. 4

Question Number : 222 Question Id : 48558436157 Question Type : MCQ Option Shuffling : No Is Question Mandatory : No Calculator : None Response Time : N.A Think Time : N.A Minimum Instruction Time : 0

Correct Marks : 5 Wrong Marks : 1

Question Key Details :

Key	Value
Comprehension	MCQ1

"டூயுவு ஆஃ லேபர்" லிபுஃ டீஸிதீ தயூரய்யுஃஃஃ

1. ஃகூ
2. ஃமெஃஃ
3. ஃயு
4. ஃயு

Options :

485584144625. 1
485584144626. 2
485584144627. 3
485584144628. 4

Question Number : 222 Question Id : 48558436157 Question Type : MCQ Option Shuffling : No Is Question Mandatory : No Calculator : None
Response Time : N.A Think Time : N.A Minimum Instruction Time : 0

Correct Marks : 5 Wrong Marks : 1

Question Key Details :

Key	Value
Comprehension	MCQ1

مجسمہ "مردوروں کی فتح" کس سے بنا ہوا ہے؟

1. اسٹیل
2. سیمینٹ
3. پتھر
4. کانسٹ

Options :

485584144625. 1
485584144626. 2
485584144627. 3
485584144628. 4

Question Number : 223 Question Id : 48558436158 Question Type : MCQ Option Shuffling : No Is Question Mandatory : No Calculator : None
Response Time : N.A Think Time : N.A Minimum Instruction Time : 0

Correct Marks : 5 Wrong Marks : 1

Question Key Details :

Key	Value
Comprehension	MCQ1

Who is the artist of Pahari Miniature painting "Krishna with Gopies?"

1. Miskin
2. Manaku
3. Mir Sayed Ali
4. Nuruddin

Options :

485584144629. 1
485584144630. 2
485584144631. 3
485584144632. 4

Question Number : 223 Question Id : 48558436158 Question Type : MCQ Option Shuffling : No Is Question Mandatory : No Calculator : None
Response Time : N.A Think Time : N.A Minimum Instruction Time : 0

Correct Marks : 5 Wrong Marks : 1

Question Key Details :

Key	Value
Comprehension	MCQ1

"कृष्ण गोपियों के साथ" पहाड़ी लघु चित्र के कलाकार कौन हैं?

1. मिस्किन
2. मनकू
3. मीर सेयद अली
4. नूरुद्दीन

Options :

- 485584144629. 1
- 485584144630. 2
- 485584144631. 3
- 485584144632. 4

Question Number : 223 Question Id : 48558436158 Question Type : MCQ Option Shuffling : No Is Question Mandatory : No Calculator : None Response Time : N.A Think Time : N.A Minimum Instruction Time : 0

Correct Marks : 5 Wrong Marks : 1

Question Key Details :

Key	Value
Comprehension	MCQ1

"গোপীৰ লগত কৃষ্ণ" খ্যাত পাহাৰী মিনিএচিউৰ চিত্ৰশিল্পৰ শিল্পী কোন ?

- 1. মিস্কিন
- 2. মানবু
- 3. মীৰ সৈয়দ আলী
- 4. নূৰুদ্দিন

Options :

- 485584144629. 1
- 485584144630. 2
- 485584144631. 3
- 485584144632. 4

Question Number : 223 Question Id : 48558436158 Question Type : MCQ Option Shuffling : No Is Question Mandatory : No Calculator : None Response Time : N.A Think Time : N.A Minimum Instruction Time : 0

Correct Marks : 5 Wrong Marks : 1

Question Key Details :

Key	Value
Comprehension	MCQ1

পাহাৰী মিনিয়েচাৰ (ক্ষুদ্ৰসংস্কৰণ) পেন্টিংটিৰ চিত্ৰকৰ কে ?

- 1. মিস্কিন
- 2. মানবু
- 3. মীৰ সৈয়দ আলী
- 4. নূৰুদ্দিন

Options :

- 485584144629. 1
- 485584144630. 2
- 485584144631. 3
- 485584144632. 4

Question Number : 223 Question Id : 48558436158 Question Type : MCQ Option Shuffling : No Is Question Mandatory : No Calculator : None Response Time : N.A Think Time : N.A Minimum Instruction Time : 0

Correct Marks : 5 Wrong Marks : 1

Question Key Details :

Key	Value
Comprehension	MCQ1

പകുടി ഭവുചിത്ര പേരിന്റേ "Krishna with Gopies" (ഗോപിയി സാഢി കൃഷ്ണ) ങ്ങ കലാകാര ്കാരാ ഡനാവവഥാമാ ഡാവു ങ്ങ ?

1. മിസ്കീന
2. മനക്വ
3. മിര സെയ്ഢ അലി
4. ണുരേഢിഖ

Options :

485584144629. 1
485584144630. 2
485584144631. 3
485584144632. 4

Question Number : 223 Question Id : 48558436158 Question Type : MCQ Option Shuffling : No Is Question Mandatory : No Calculator : None Response Time : N.A Think Time : N.A Minimum Instruction Time : 0

Correct Marks : 5 Wrong Marks : 1

Question Key Details :

Key	Value
Comprehension	MCQ1

പന്താരി ലീകടീകിരുകിരുകലീയാദ "ഘോഷികയര ജീരതീരുക കൃഷ്ണ"ദ കലാകാരിദ യാരു?

1. മിസ്കീന
2. മനക്വ
3. മിര സെയ്ഢ അലി
4. ണുരേഢിഖ

Options :

485584144629. 1
485584144630. 2
485584144631. 3
485584144632. 4

Question Number : 223 Question Id : 48558436158 Question Type : MCQ Option Shuffling : No Is Question Mandatory : No Calculator : None Response Time : N.A Think Time : N.A Minimum Instruction Time : 0

Correct Marks : 5 Wrong Marks : 1

Question Key Details :

Key	Value
Comprehension	MCQ1

"കൃഷ്ണനും രാഢാപികമാരും" എന്ന പഹാരി മിനിയെച്ചര പെയിന്റിങ് തയ്യാറാക്കിയ കലാകാരിന്റേ ആരേ ?

1. മിസ്കീന
2. മനക്വ
3. മിര സെയ്ഢ അലി
4. ണുരേഢിഖ

Options :

485584144629. 1
485584144630. 2
485584144631. 3

485584144632. 4

Question Number : 223 Question Id : 48558436158 Question Type : MCQ Option Shuffling : No Is Question Mandatory : No Calculator : None
Response Time : N.A Think Time : N.A Minimum Instruction Time : 0

Correct Marks : 5 Wrong Marks : 1

Question Key Details :

Key	Value
Comprehension	MCQ1

"कृष्णा वीथ गोपीज" या पहाडी लघु चित्रकलेचे कलाकार कोण आहेत?

1. मिस्किन
2. मनाकू
3. मीर सय्यद अली
4. नुरुद्दीन

Options :

485584144629. 1
485584144630. 2
485584144631. 3
485584144632. 4

Question Number : 223 Question Id : 48558436158 Question Type : MCQ Option Shuffling : No Is Question Mandatory : No Calculator : None
Response Time : N.A Think Time : N.A Minimum Instruction Time : 0

Correct Marks : 5 Wrong Marks : 1

Question Key Details :

Key	Value
Comprehension	MCQ1

ଓହରା ନିର୍ଦ୍ଦେଶ ର ଚିତ୍ର "କୁଞ୍ଜ ସହିତ ଗୋଡ଼ା" କର ବଦଳାଇ ଦିଏ ?

1. ନିସ୍ଵିତ
2. ନାମକୁ
3. ନାମ ସାଙ୍ଗରେ ପଲ୍ଲୀ
4. କୁକୁଡ଼ିତ

Options :

485584144629. 1
485584144630. 2
485584144631. 3
485584144632. 4

Question Number : 223 Question Id : 48558436158 Question Type : MCQ Option Shuffling : No Is Question Mandatory : No Calculator : None
Response Time : N.A Think Time : N.A Minimum Instruction Time : 0

Correct Marks : 5 Wrong Marks : 1

Question Key Details :

Key	Value
Comprehension	MCQ1

ਪਹਾੜੀ ਲਘੁ ਚਿੱਤਰ " ਗੋਪੀਆਂ ਨਾਲ ਕ੍ਰਿਸ਼ਨ " ਦਾ ਕਲਾਕਾਰ ਕੌਣ ਹੈ?

1. ਮਿਸਕਿਨ
2. ਮਨਬੁ
3. ਮੀਰ ਸਯਦ ਅਲੀ
4. ਨਰੁਦੀਨ

Options :

485584144629. 1
485584144630. 2
485584144631. 3
485584144632. 4

Question Number : 223 Question Id : 48558436158 Question Type : MCQ Option Shuffling : No Is Question Mandatory : No Calculator : None Response Time : N.A Think Time : N.A Minimum Instruction Time : 0

Correct Marks : 5 Wrong Marks : 1

Question Key Details :

Key	Value
Comprehension	MCQ1

"ਕਿਰੁਘੁਣਾ ਵਿੱਤ ਕੋਪੀਓ" ਈਠੁਮ ਪਹੁਰੀ ਠੁਣਕਲੇ ਓਵੀਯਤੁਠਿਨ ਕਲੇਲਠੁਰ ਯਾਰੁ?

1. ਮੀਸੁਠਿਨ
2. ਮਾਨਾਕੁ
3. ਮੀਰੁ ਸੇਯਤੁ ਅਲੀ
4. ਨਾਰੁਠੁਠਿਨ

Options :

485584144629. 1
485584144630. 2
485584144631. 3
485584144632. 4

Question Number : 223 Question Id : 48558436158 Question Type : MCQ Option Shuffling : No Is Question Mandatory : No Calculator : None Response Time : N.A Think Time : N.A Minimum Instruction Time : 0

Correct Marks : 5 Wrong Marks : 1

Question Key Details :

Key	Value
Comprehension	MCQ1

"ਗੋਵਿਕਲਠੋ ਕੁਠੁਠੁਠੁ" ਪਹੁਰੀ ਲਮੁ ਵਰੁ ਢਿਲਾਨੁ ਠੁਠੁਠੁ ਢੋਸਿਨ ਕਠਾਕਾਰੁਠੁਠੁ?

1. ਮੀਸੁਠਿਨ
2. ਮਨਕਾ
3. ਮੀਰੁ ਸਯੁਠੁਠੁ ਅਲੀ
4. ਨੁਰੁਠੁਠੁਠੁ

Options :

485584144629. 1
485584144630. 2
485584144631. 3
485584144632. 4

Question Number : 223 Question Id : 48558436158 Question Type : MCQ Option Shuffling : No Is Question Mandatory : No Calculator : None
Response Time : N.A Think Time : N.A Minimum Instruction Time : 0

Correct Marks : 5 Wrong Marks : 1

Question Key Details :

Key	Value
Comprehension	MCQ1

بیاری مہلی لجر پیشگ "Krishna with Gopies" کا فنکار کون ہے ؟

1. مسکن
2. منڈکو
3. میر سید علی
4. لورالین

Options :

485584144629. 1
485584144630. 2
485584144631. 3
485584144632. 4

Question Number : 224 Question Id : 48558436159 Question Type : MCQ Option Shuffling : No Is Question Mandatory : No Calculator : None
Response Time : N.A Think Time : N.A Minimum Instruction Time : 0

Correct Marks : 5 Wrong Marks : 1

Question Key Details :

Key	Value
Comprehension	MCQ1

"Bihari Satsai" was authored by whom?

1. Bihari Das
2. Keshaw Das
3. Bihari Lal
4. Jayadeva

Options :

485584144633. 1
485584144634. 2
485584144635. 3
485584144636. 4

Question Number : 224 Question Id : 48558436159 Question Type : MCQ Option Shuffling : No Is Question Mandatory : No Calculator : None
Response Time : N.A Think Time : N.A Minimum Instruction Time : 0

Correct Marks : 5 Wrong Marks : 1

Question Key Details :

Key	Value
Comprehension	MCQ1

"बिहरी सतसई" किसके द्वारा लिखी गई थी:

1. बिहारी दास
2. केशव दास
3. बिहारी लाल
4. जयदेव

Options :

485584144633. 1
485584144634. 2
485584144635. 3
485584144636. 4

Question Number : 224 Question Id : 48558436159 Question Type : MCQ Option Shuffling : No Is Question Mandatory : No Calculator : None Response Time : N.A Think Time : N.A Minimum Instruction Time : 0

Correct Marks : 5 Wrong Marks : 1

Question Key Details :

Key	Value
Comprehension	MCQ1

"बिहारी सतसाय" कोने लिखिहिल ?

1. बिहारी दास
2. केशव दास
3. बिहारी लाल
4. जयदेव

Options :

485584144633. 1
485584144634. 2
485584144635. 3
485584144636. 4

Question Number : 224 Question Id : 48558436159 Question Type : MCQ Option Shuffling : No Is Question Mandatory : No Calculator : None Response Time : N.A Think Time : N.A Minimum Instruction Time : 0

Correct Marks : 5 Wrong Marks : 1

Question Key Details :

Key	Value
Comprehension	MCQ1

"बिहारी सतसई" लिखेहिलेने ?

1. बिहारी दास
2. केशव दास
3. बिहारी लाल
4. जयदेव

Options :

485584144633. 1
485584144634. 2
485584144635. 3
485584144636. 4

Question Number : 224 Question Id : 48558436159 Question Type : MCQ Option Shuffling : No Is Question Mandatory : No Calculator : None
Response Time : N.A Think Time : N.A Minimum Instruction Time : 0

Correct Marks : 5 Wrong Marks : 1

Question Key Details :

Key	Value
Comprehension	MCQ1

કોના દ્વારા 'બિહારી સત્સાઈ' રચવામાં આવ્યું છે ?

1. બિહારી દાસ
2. કેશવ દાસ
3. બિહારી વાલ
4. જયદેવ

Options :

485584144633. 1
485584144634. 2
485584144635. 3
485584144636. 4

Question Number : 224 Question Id : 48558436159 Question Type : MCQ Option Shuffling : No Is Question Mandatory : No Calculator : None
Response Time : N.A Think Time : N.A Minimum Instruction Time : 0

Correct Marks : 5 Wrong Marks : 1

Question Key Details :

Key	Value
Comprehension	MCQ1

'બિહારી સત્સાઈ'ಯુ સંપાદક તરીકે કોણે જાણીતા છે ?

1. બિહારી દાસ
2. કેશવ દાસ
3. બિહારી વાલ
4. જયદેવ

Options :

485584144633. 1
485584144634. 2
485584144635. 3
485584144636. 4

Question Number : 224 Question Id : 48558436159 Question Type : MCQ Option Shuffling : No Is Question Mandatory : No Calculator : None
Response Time : N.A Think Time : N.A Minimum Instruction Time : 0

Correct Marks : 5 Wrong Marks : 1

Question Key Details :

Key	Value
Comprehension	MCQ1

"ബിഹാരി സത്സായി" രചിച്ചത് ആര് ?

1. ബിഹാരി ദാസ്
2. കേശവ് ദാസ്
3. ബിഹാരി ലാൽ
4. ജയദേവ്

Options :

485584144633. 1
485584144634. 2
485584144635. 3
485584144636. 4

Question Number : 224 Question Id : 48558436159 Question Type : MCQ Option Shuffling : No Is Question Mandatory : No Calculator : None Response Time : N.A Think Time : N.A Minimum Instruction Time : 0

Correct Marks : 5 Wrong Marks : 1

Question Key Details :

Key	Value
Comprehension	MCQ1

"बिहारी सतसाई" के लेखक कौन आहेत?

1. बिहारी दास
2. केशव दास
3. बिहारी लाल
4. जयदेव

Options :

485584144633. 1
485584144634. 2
485584144635. 3
485584144636. 4

Question Number : 224 Question Id : 48558436159 Question Type : MCQ Option Shuffling : No Is Question Mandatory : No Calculator : None Response Time : N.A Think Time : N.A Minimum Instruction Time : 0

Correct Marks : 5 Wrong Marks : 1

Question Key Details :

Key	Value
Comprehension	MCQ1

"बिहारी सतसाई" के लेखक कौन हैं ?

1. बिहारी दास
2. केशव दास
3. बिहारी लाल
4. जयदेव

Options :

485584144633. 1
485584144634. 2
485584144635. 3

485584144636. 4

Question Number : 224 Question Id : 48558436159 Question Type : MCQ Option Shuffling : No Is Question Mandatory : No Calculator : None
Response Time : N.A Think Time : N.A Minimum Instruction Time : 0
Correct Marks : 5 Wrong Marks : 1

Question Key Details :

Key	Value
Comprehension	MCQ1

ਬਿਹਾਰੀ ਮੌਤਮਾਈ ਦਾ ਲੇਖਕ ਹੈ?

1. ਬਿਹਾਰੀ ਦਾਸ
2. ਕੇਸਰ ਦਾਸ
3. ਬਿਹਾਰੀ ਲਾਲ
4. ਜੇਏਰ

Options :

485584144633. 1
485584144634. 2
485584144635. 3
485584144636. 4

Question Number : 224 Question Id : 48558436159 Question Type : MCQ Option Shuffling : No Is Question Mandatory : No Calculator : None
Response Time : N.A Think Time : N.A Minimum Instruction Time : 0
Correct Marks : 5 Wrong Marks : 1

Question Key Details :

Key	Value
Comprehension	MCQ1

"ਪਿਠਾਰੀ ਸਤਸਾਯ" ਈਠਪਠੁ ਈਵਰਾਲ ਈਠੁਠਪਪੱਠੁ:

1. ਪਿਠਾਰੀ ਠਾਲੁ
2. ਕੇਠੁਠਵ ਠਾਲੁ
3. ਪਿਠਾਰੀ ਲਾਲੁ
4. ਈਠੁਠਠੇਵਰ

Options :

485584144633. 1
485584144634. 2
485584144635. 3
485584144636. 4

Question Number : 224 Question Id : 48558436159 Question Type : MCQ Option Shuffling : No Is Question Mandatory : No Calculator : None
Response Time : N.A Think Time : N.A Minimum Instruction Time : 0
Correct Marks : 5 Wrong Marks : 1

Question Key Details :

Key	Value
Comprehension	MCQ1

"బిహారీ సత్సయి" రాసినది ఎవరు?

1. బిహారీ దాస్
2. కేశవ దాస్
3. బిహారీ లాల్
4. జయదేవ

Options :

485584144633. 1
485584144634. 2
485584144635. 3
485584144636. 4

Question Number : 224 Question Id : 48558436159 Question Type : MCQ Option Shuffling : No Is Question Mandatory : No Calculator : None
Response Time : N.A Think Time : N.A Minimum Instruction Time : 0

Correct Marks : 5 Wrong Marks : 1

Question Key Details :

Key	Value
Comprehension	MCQ1

"Bihari Satsai" کس نے لکھی تھی؟

1. بہاری داس
2. کیشو داس
3. بہاری لال
4. جے نیوا

Options :

485584144633. 1
485584144634. 2
485584144635. 3
485584144636. 4

Question Number : 225 Question Id : 48558436160 Question Type : MCQ Option Shuffling : No Is Question Mandatory : No Calculator : None
Response Time : N.A Think Time : N.A Minimum Instruction Time : 0

Correct Marks : 5 Wrong Marks : 1

Question Key Details :

Key	Value
Comprehension	MCQ1

The Deccan miniature painting "Ragini Pathamsika of Raga Hindola" is placed in which famous museum?

1. National Gallery of Modern Art, New Delhi
2. National Museum, New Delhi
3. British Museum, London
4. National Museum, Prague

Options :

485584144637. 1
485584144638. 2
485584144639. 3
485584144640. 4

Question Number : 225 Question Id : 48558436160 Question Type : MCQ Option Shuffling : No Is Question Mandatory : No Calculator : None
Response Time : N.A Think Time : N.A Minimum Instruction Time : 0

Correct Marks : 5 Wrong Marks : 1

Question Key Details :

Key	Value
Comprehension	MCQ1

दक्कन लघु चित्रशैली का चित्र राग हिंडोला की रागिनी पथमसिका किस प्रसिद्ध संग्रहालय में रखी है?

1. नेशनल गैलरी ऑफ़ मॉडर्न आर्ट, नई दिल्ली
2. नेशनल म्यूजियम (राष्ट्रीय संग्रहालय) नई दिल्ली
3. ब्रिटिश संग्रहालय, लन्दन
4. राष्ट्रीय संग्रहालय, परागुए

Options :

485584144637. 1
485584144638. 2
485584144639. 3
485584144640. 4

Question Number : 225 Question Id : 48558436160 Question Type : MCQ Option Shuffling : No Is Question Mandatory : No Calculator : None
Response Time : N.A Think Time : N.A Minimum Instruction Time : 0

Correct Marks : 5 Wrong Marks : 1

Question Key Details :

Key	Value
Comprehension	MCQ1

ডেকান মিনিএচিউর চিত্রশিল্প, রাগিনী পথমসিকা অফ রাগা হিন্দলা কোনটো সংগ্রহালয়ত আছে ?

1. নেচনেল গেলারী অফ মডার্ন আর্ট, নতুন দিল্লী
2. নেচনেল মিউজিয়াম, নতুন দিল্লী
3. ব্রিটিছ মিউজিয়াম, লন্ডন
4. নেচনেল মিউজিয়াম, প্রাগ

Options :

485584144637. 1
485584144638. 2
485584144639. 3
485584144640. 4

Question Number : 225 Question Id : 48558436160 Question Type : MCQ Option Shuffling : No Is Question Mandatory : No Calculator : None
Response Time : N.A Think Time : N.A Minimum Instruction Time : 0

Correct Marks : 5 Wrong Marks : 1

Question Key Details :

Key	Value
Comprehension	MCQ1

ডেকান মিনিয়োর পেন্টিং পথমসিকা, রাগিনী পথমসিকা অফ রাগ হিল্লোনা কোন যাদুঘরে রাখা আছে ?

1. ন্যাশনাল গ্যালারি অফ মডার্ন আর্ট, নিউ দিল্লী
2. ন্যাশনাল মিউজিয়াম, নিউ দিল্লী
3. ব্রিটিশ মিউজিয়াম, লন্ডন
4. ন্যাশনাল মিউজিয়াম, প্রয়াগ

Options :

485584144637. 1
485584144638. 2
485584144639. 3
485584144640. 4

Question Number : 225 Question Id : 48558436160 Question Type : MCQ Option Shuffling : No Is Question Mandatory : No Calculator : None Response Time : N.A Think Time : N.A Minimum Instruction Time : 0

Correct Marks : 5 Wrong Marks : 1

Question Key Details :

Key	Value
Comprehension	MCQ1

উস্কন বসুযিত্র পেইন্টিং পথমসিকা, রাজ হিল্লোনা রাগিনী পথমসিকা কয়া প্রখ্যাত ম্যুজিয়ামা মূক্বালামা আল্যা উ ?

1. নেশনল গেবেরী অর্ড মর্ডার্ন আর্ট, নবী দিল্লী
2. নেশনল ম্যুজিয়াম, নবী দিল্লী
3. ব্রিটিশ ম্যুজিয়াম, লন্ডন
4. নেশনল ম্যুজিয়াম, প্রয়াগ

Options :

485584144637. 1
485584144638. 2
485584144639. 3
485584144640. 4

Question Number : 225 Question Id : 48558436160 Question Type : MCQ Option Shuffling : No Is Question Mandatory : No Calculator : None Response Time : N.A Think Time : N.A Minimum Instruction Time : 0

Correct Marks : 5 Wrong Marks : 1

Question Key Details :

Key	Value
Comprehension	MCQ1

ডেকান মিনিয়োর পেন্টিং পথমসিকা, রাজ হিল্লোনা রাগিনী পথমসিকা কয়া প্রখ্যাত ম্যুজিয়ামা মূক্বালামা আল্যা উ ?

1. ন্যাশনাল গ্যালারি অফ মডার্ন আর্ট, নবী দিল্লী
2. ন্যাশনাল মিউজিয়াম, নিউ দিল্লী
3. ব্রিটিশ মিউজিয়াম, লন্ডন
4. ন্যাশনাল মিউজিয়াম, প্রয়াগ

Options :

485584144637. 1
485584144638. 2

485584144639. 3
485584144640. 4

Question Number : 225 Question Id : 48558436160 Question Type : MCQ Option Shuffling : No Is Question Mandatory : No Calculator : None
Response Time : N.A Think Time : N.A Minimum Instruction Time : 0
Correct Marks : 5 Wrong Marks : 1

Question Key Details :

Key	Value
Comprehension	MCQ1

ഡക്കാൻ മിനിയേച്ചർ ചെയിന്റേണുക്കളായ ഹിമദോള രാഗത്തിലെ പാതാംസിക, രാഗിണി പാതാംസിക എന്നിവ പ്രദർശിപ്പിച്ചിട്ടുള്ളത് ഏത് പ്രസിദ്ധമായ മ്യൂസിയത്തിലാണ് ?

1. നാഷണൽ ഗാലറി ഓഫ് മോഡേണ ആർട്ട്, ന്യൂഡൽഹി
2. നാഷണൽ മ്യൂസിയം, ന്യൂഡൽഹി
3. ബ്രിട്ടീഷ് മ്യൂസിയം, ലണ്ടൻ
4. നാഷണൽ മ്യൂസിയം, പാർ്

Options :

485584144637. 1
485584144638. 2
485584144639. 3
485584144640. 4

Question Number : 225 Question Id : 48558436160 Question Type : MCQ Option Shuffling : No Is Question Mandatory : No Calculator : None
Response Time : N.A Think Time : N.A Minimum Instruction Time : 0
Correct Marks : 5 Wrong Marks : 1

Question Key Details :

Key	Value
Comprehension	MCQ1

दख्खन लघू चित्रकलेतील पथमसिका, राग हिंदोल्यातील रागिणी पथमसिका कलाकृती पुढील पैकी कोणत्या प्रसिध्द वस्तू संग्रहालयात ठेवल्या आहेत?

1. नवी दिल्ली तील, आधुनिक कलेची राष्ट्रीय गॅलरी
2. नवी दिल्लीतील, राष्ट्रीय वस्तू संग्रहालय
3. लंडन येथील, ब्रिटीश वस्तू संग्रहालय
4. प्रयामा येथील, राष्ट्रीय वस्तू संग्रहालय

Options :

485584144637. 1
485584144638. 2
485584144639. 3
485584144640. 4

Question Number : 225 Question Id : 48558436160 Question Type : MCQ Option Shuffling : No Is Question Mandatory : No Calculator : None
Response Time : N.A Think Time : N.A Minimum Instruction Time : 0
Correct Marks : 5 Wrong Marks : 1

Question Key Details :

Key	Value
Comprehension	MCQ1

485584144639. 3

485584144640. 4

Question Number : 225 Question Id : 48558436160 Question Type : MCQ Option Shuffling : No Is Question Mandatory : No Calculator : None Response Time : N.A Think Time : N.A Minimum Instruction Time : 0

Correct Marks : 5 Wrong Marks : 1

Question Key Details :

Key	Value
Comprehension	MCQ1

దక్కను లఘు వర్ణ చిత్రాలైన రాగ హిందోళ లోని ఎతంసిక, రాగిణి ఎతంసికలు ఏ ప్రఖ్యాత మ్యూజియంలో ఉంచబడ్డాయి?

1. నేషనల్ గ్యాలరీ ఆఫ్ మోడరన్ ఆర్ట్, న్యూ ఢిల్లీ
2. నేషనల్ మ్యూజియం, న్యూ ఢిల్లీ
3. బ్రిటిష్ మ్యూజియం, లండన్
4. నేషనల్ మ్యూజియం, ప్రేగ్

Options :

485584144637. 1

485584144638. 2

485584144639. 3

485584144640. 4

Question Number : 225 Question Id : 48558436160 Question Type : MCQ Option Shuffling : No Is Question Mandatory : No Calculator : None Response Time : N.A Think Time : N.A Minimum Instruction Time : 0

Correct Marks : 5 Wrong Marks : 1

Question Key Details :

Key	Value
Comprehension	MCQ1

پینڈنگ راگد بندو لا کی بیہمسکا اور بیہمسکا کی جیوتی سیدہ شکل کس مشہور میوزیم میں رکھی گئی ہیں ؟

1. نیشنل گیلری آف موڈرن آرٹ، نئی دہلی
2. نیشنل میوزیم، نئی دہلی
3. برٹش میوزیم
4. نیشنل میوزیم، پراگ

Options :

485584144637. 1

485584144638. 2

485584144639. 3

485584144640. 4

Sub-Section Number :

2

Sub-Section Id :

4855842679

Question Shuffling Allowed :

No

Is Section Default? :

null

Question Number : 226 Question Id : 48558436161 Question Type : MCQ Option Shuffling : No Is Question Mandatory : No Calculator : None Response Time : N.A Think Time : N.A Minimum Instruction Time : 0

Correct Marks : 5 Wrong Marks : 1

Question Key Details :

Key	Value
Comprehension	Compl

Observe the image and answer the following question.



Identify the sculptor of this work among the following?

1. D.P Roy Chowdhury
2. Ramkinker Bajj
3. Amarnath Sahgal
4. P.V. Janakiram

Options :

485584144641. 1
485584144642. 2
485584144643. 3
485584144644. 4

Question Number : 226 Question Id : 48558436161 Question Type : MCQ Option Shuffling : No Is Question Mandatory : No Calculator : None Response Time : N.A Think Time : N.A Minimum Instruction Time : 0

Correct Marks : 5 Wrong Marks : 1

Question Key Details :

Key	Value
Comprehension	Comp1

नीचे आकृति देखकर निम्न प्रश्न का उत्तर दीजिए:



निम्न में से इस कला के मूर्तिकार को पहचानिए:

1. ली.पी. रॉय चौधुरी
2. रामकिंकर बैज
3. अमरनाथ सहगल
4. पी.वी. जानकीराम

Options :

485584144641. 1
485584144642. 2
485584144643. 3
485584144644. 4

Question Number : 226 Question Id : 48558436161 Question Type : MCQ Option Shuffling : No Is Question Mandatory : No Calculator : None Response Time : N.A Think Time : N.A Minimum Instruction Time : 0

Correct Marks : 5 Wrong Marks : 1

Question Key Details :

Key	Value
Comprehension	Compl

এই ছবি খন ভালাদৰে নক্ষা কৰা আৰু তলত দিয়া প্ৰশ্নৰ উত্তৰ দিয়া।



Identify the sculptor among the following?

1. दि.पि. बयटोडुवी
2. रामकिंकर बैज
3. अमरनाथ सहेगल
4. पि.वि. जानकीराम

Options :

485584144641. 1
485584144642. 2
485584144643. 3
485584144644. 4

Question Number : 226 Question Id : 48558436161 Question Type : MCQ Option Shuffling : No Is Question Mandatory : No Calculator : None Response Time : N.A Think Time : N.A Minimum Instruction Time : 0

Correct Marks : 5 Wrong Marks : 1

Question Key Details :

Key	Value
Comprehension	Compl

নীচের অনুচ্ছেদটি পড়। চিত্রটি ভাল করে লক্ষ্য করে প্রশ্নের উত্তর দাও-

এটি একটি স্থাপত্য যেটি ১৮৫৯ -এ খোদাই করা হয়েছিল। এটিতে দেখা যাচ্ছে চারজন মানুষ একটা প্রস্তরখন্ডকে সরাবার চেষ্টা করছে। একটা রাষ্ট্র গড়ে তোলার জন্য মানুষের শ্রমের মূল্য ও প্রয়োজনীয়তাকে বোঝানো হয়েছে। অদমা পুরুষেরা প্রকৃতির সাথে মিলনযুক্ত করছে। একটা সর্বজনবিদিত রোমান্টিক বিষয় উনিশ শতকের এই স্থাপত্যে বর্ণিত হয়েছে। একটা কায়িকশ্রমের চরম নিদর্শন যা একটা অনড়, বৃহৎ, অনমনীয়, অনড় প্রস্তরখন্ডকে সরাতে চাইছে। মানব শরীরের এমন নিখুঁত ভাজ সৃষ্টি করা হয়েছে যাতে দর্শকরা সবদিক থেকে স্থাপত্যটি খুঁটিয়ে দেখতে আগ্রহী হয়।



এর মধ্যে কে এই স্থাপত্যের স্রষ্টা ?

1. ডি.পি. রায় চৌধুরী
2. রামকিংকর বেজ
3. অমরনাথ সিংহাল
4. পি.ভি.জানকীরাম

Options :

485584144641. 1
485584144642. 2
485584144643. 3
485584144644. 4

Question Number : 226 Question Id : 48558436161 Question Type : MCQ Option Shuffling : No Is Question Mandatory : No Calculator : None Response Time : N.A Think Time : N.A Minimum Instruction Time : 0

Correct Marks : 5 Wrong Marks : 1

Question Key Details :

Key	Value
Comprehension	Comp1

નીચે આપેલા ફકરાને વાંચીને, આકૃતિ જોઈ આપેલા પ્રશ્નોના જવાબ આપો.

આ એ શિલ્પ છે, જે 1959 માં બનાવવામાં આવ્યું હતું. તે બતાવે છે કે ચાર માણસો એક બંધકને બંધવાનો પ્રયાસ કરી રહ્યા છે, જે રાષ્ટ્ર નિર્માણમાં માનવ શ્રમના મહત્વ અને યોગદાનને રજૂ કરે છે. અજેય માણસો કુદરત સાથે કુસ્તી કરી રહ્યા છે. હઠીલા, અનિશ્ચિત અને શક્તિશાળી. તે કુદરતના તત્ત્વો સામે શ્રમની છબી છે જે ઓગણીસમી સદીની જાણીતો રોમેન્ટિક વિષય છે. શિલ્પકારો એક વિશાળ, સ્થાવર અડકને ગુમાવવાના આત્યંતિક શારીરિક પ્રયત્નોનું ચિત્રણ કર્યું છે. માનવ આકૃતિઓ એવી રીતે સ્થાપિત કરવામાં આવે છે જે આપણામાં જિજ્ઞાસા પેદા કરે છે. કારણ કે તે દર્શકોને વ્યારે બાજુથી જોવા માટે આકર્ષે છે.



નીચેનામાંથી શિલ્પકારને ઓળખો?

1. ડી.પી. રોય ચૌધરી
2. રામકિંકર બૈજ
3. અમરનાથ સેહગલ
4. પી.વી. જાનકીરામ

Options :

485584144641. 1
485584144642. 2
485584144643. 3
485584144644. 4


Question Number : 226 Question Id : 48558436161 Question Type : MCQ Option Shuffling : No Is Question Mandatory : No Calculator : None Response Time : N.A Think Time : N.A Minimum Instruction Time : 0

Correct Marks : 5 Wrong Marks : 1

Question Key Details :

Key	Value
Comprehension	Compl

ಕೆಳಗಿನ ವಾಕ್ಯಪುಂಜವನ್ನು ಓದಿ ಮತ್ತು ಚಿತ್ರವನ್ನು ವೀಕ್ಷಿಸಿ ಮತ್ತು ಕೆಳಗಿನ ಪ್ರಶ್ನೆಗಳನ್ನು ಉತ್ತರಿಸಿ.



ಕೆಳಗಿನವರುಗಳಿಂದ ಶಿಲ್ಪಕಲಾಕಾರನನ್ನು ಗುರುತಿಸಿ.

1. ಡಿ.ಪಿ.ರಾಯ್ ಚೌಧರಿ
2. ರಾಮ್ ಕಿಂಕರ್ ಬೈಜ್
3. ಅಮರನಾಥ ಸಹಗಲ್
4. ಪಿ.ವಿ. ಜಾನಕಿರಾಮ್

Options :

485584144641. 1
485584144642. 2
485584144643. 3
485584144644. 4

Question Number : 226 Question Id : 48558436161 Question Type : MCQ Option Shuffling : No Is Question Mandatory : No Calculator : None Response Time : N.A Think Time : N.A Minimum Instruction Time : 0

Correct Marks : 5 Wrong Marks : 1

Question Key Details :

Key	Value
Comprehension	Compl



ഇതിന്റെ ശില്പി ആരാണ് കണ്ടെത്തുക ?

1. ഡി.പി. ദേവയ്യച്ചെയ്യരി
2. ഡോ കിങ്കർ ബൈജ്
3. അമർനാഥ് സഹ്ഗൽ
4. പി.വി. ജാനകിറാം

Options :

- 485584144641. 1
- 485584144642. 2
- 485584144643. 3
- 485584144644. 4

Question Number : 226 Question Id : 48558436161 Question Type : MCQ Option Shuffling : No Is Question Mandatory : No Calculator : None Response Time : N.A Think Time : N.A Minimum Instruction Time : 0

Correct Marks : 5 Wrong Marks : 1

Question Key Details :

Key	Value
Comprehension	Compl

पुढील उतारा व हे प्रतिमा पाहून प्रश्नांची उत्तरे लिहा.

1959 मध्ये बनवलेल्या या शिल्पात चार आकृत्या ओढण्याने मोठा खडक हलवण्याचा प्रयत्न करत असताना अडळतात. राष्ट्र उभारणीत मानवी श्रमाचे महत्व प्रतिबिंबित होताना व त्या श्रमाचे योगदान असल्याचे दिसते. मनुष्य अजिंक्य निसर्गाच्या शक्तीतील एक प्रसिद्ध रोमांचकारी विषय मांडला आहे. शिल्पकाराने मोठ्या प्रमाणात अचल खडक सैल करण्याचा प्रयत्न दाखवला आहे. मानवी आकृत्या अश्या प्रकारे स्थित केल्या आहेत ज्यामुळे दर्शकांचे कुतुहल जागृत होऊन तो सर्व बाजूने शिल्प पाहण्यासाठी प्रवृत्त होतो.



ह्या शिल्पाचा शिल्पकार ओळखा

1. डी.पी. रॉय चौधरी
2. रामकिंकर बैज
3. अमरनाथ सेहगल
4. पी व्ही जानकीराम

Options :

485584144641. 1
485584144642. 2
485584144643. 3
485584144644. 4

Question Number : 226 Question Id : 48558436161 Question Type : MCQ Option Shuffling : No Is Question Mandatory : No Calculator : None Response Time : N.A Think Time : N.A Minimum Instruction Time : 0


Correct Marks : 5 Wrong Marks : 1

Question Key Details :

Key	Value
Comprehension	Comp1

ବିପ୍ଳବକର୍ତ୍ତାଙ୍କ ପ୍ରଚ୍ଛଦପଟ୍ଟ ଠିକଣା ଏବଂ ଦୁର୍ଗାକୁ ଦେଖି ନିମ୍ନ ଉତ୍ତର ଦିଅନ୍ତୁ

ଏହି ମୂର୍ତ୍ତି 1959ରେ ଗଢ଼ା ହୋଇଥିଲା, ଏହା ଚାରୋଟି ପୁରୁଷଙ୍କୁ ଏକ ପଥର ଚକାଳିବାକୁ ଦେଖା କରୁଥିବା ଦେଖାଏ, ଗାନ୍ଧି ଭାବନାରେ ମାନବ ଶ୍ରମର ଗୁରୁତ୍ୱ ଏବଂ ଅବଦାନକୁ ଦର୍ଶାଏ। ଅବିଷ୍କରଣର ପୁରୁଷମାନେ ପ୍ରକୃତି ବହିତ ସଂଗଠିତ କରୁଛନ୍ତି। ଅନିର୍ଦ୍ଦିଷ୍ଟ ଏବଂ ଉଦ୍ଦିଷ୍ଟ। ଏହା ପ୍ରକୃତିର ଉପାଦାନ ପୁଞ୍ଜିକ ବିରୁଦ୍ଧରେ ଶ୍ରମର ଚିତ୍ର 19 ଶତାବ୍ଦୀର ଏକ କଥାକଥଣା ଏକ ଗୋପାଞ୍ଚଳ ଚିତ୍ରଣ। ଶିଳ୍ପୀ ଏକ ବିରାଟ ଅଘାତର ପଥରକୁ ସୂତ୍ର କରିବାର ଚରଣ ଶାରୀରିକ ପ୍ରୟାସକୁ ଚିତ୍ରଣ କରିଛନ୍ତି। ମାନବ ଚିତ୍ର ଗୁଡ଼ିକ ଏଠାରେ ଭାବରେ ସଂଗଠିତ ହୋଇଛି ଯାହା ଆମ ଭିତରେ ଏକ କର୍କଶ ବୃକ୍ଷ ଜଳର ଜାଲର ଦର୍ଶନମାନେ ଏହାକୁ ସବୁ ବିଷୟ ଦେଖିବା ପାଇଁ ଦର୍ଶକଙ୍କୁ ଆକର୍ଷିତ କରନ୍ତି।



ଏହି ମୂର୍ତ୍ତିର ନିର୍ମାତା କିଏ ?

1. ଡି.ପି. ଉଏ ଚୌଧୁରୀ
2. ଭାନୁସିଂହର ଦେବ
3. ଅମରନାଥ ବେହରା
4. ପି. ଭି. ସାହେବୀରାମ

Options :

- 485584144641. 1
- 485584144642. 2
- 485584144643. 3
- 485584144644. 4


Question Number : 226 Question Id : 48558436161 Question Type : MCQ Option Shuffling : No Is Question Mandatory : No Calculator : None Response Time : N.A Think Time : N.A Minimum Instruction Time : 0

Correct Marks : 5 Wrong Marks : 1

Question Key Details :

Key	Value
Comprehension	Comp1

ਇਹ ਮੂਰਤੀ 1959 ਵਿੱਚ ਤਰਾਸ਼ੀ ਗਈ। ਇਸ ਵਿੱਚ ਚਾਰ ਆਦਮੀ ਇੱਕ ਚਟਾਨ ਨੂੰ ਹਿਲਾਉਣ ਦੀ ਕੋਸ਼ਿਸ਼ ਕਰਦੇ ਦਿਖਾਈ ਦੇ ਰਹੇ ਹਨ, ਰਾਸ਼ਟਰੀ ਨਿਰਮਾਣ ਵਿੱਚ ਮਹੱਤਤਾ ਅਤੇ ਯੋਗਦਾਨ ਦੀ ਪੇਸ਼ਕਾਰੀ ਹੈ। ਅਜਿਹੇ ਆਦਮੀ ਕੌਰੀਆਂ ਵਾਂਗ ਅਣਬੰਕ ਅਤੇ ਤਾਕਤਵਰ ਦੰਗੇ ਨਾਲ ਕੁਦਰਤ ਨਾਲ ਕੁਸ਼ਲੀ ਕਰ ਰਹੇ ਹਨ। ਇਹ ਕੁਦਰਤ ਦੇ ਤੱਤਾਂ ਦੇ ਵਿਰੁੱਧ ਕਿਰਤੂ ਦਾ ਚਿੰਤਰ ਹੈ, ਇਹ 19ਵੀਂ ਸਦੀ ਦਾ ਇੱਕ ਮਨੁੱਖੀ ਰੋਮਾਂਟਿਕ ਵਿਸ਼ਾ ਹੈ। ਮੂਰਤੀਕਾਰ ਨੇ ਇੱਕ ਵਿਚਲ, ਅਚੱਲ ਚਟਾਨ ਨੂੰ ਰਟਾਉਣ ਦੇ ਅਤਿਅੰਤ ਸਰੀਰਿਕ ਯਤਨ ਨੂੰ ਦਰਸਾਇਆ ਹੈ। ਮਨੁੱਖੀ ਚਿੰਤਰ ਨੂੰ ਇਸ ਤਰੀਕੇ ਨਾਲ ਸੰਬੰਧਿਤ ਕੀਤਾ ਜਾਂਦਾ ਹੈ ਜੋ ਸਾਡੇ ਵਿੱਚ ਇੱਕ ਉਤਸੁਕਤਾ ਪੈਦਾ ਕਰਦਾ ਅਹਿਅਤੇ ਦਰਸਕਾਂ ਨੂੰ ਹੋਰ ਪਾਸਿਉਂ ਦੇਖਣ ਲਈ ਆਕਰਸ਼ਿਤ ਕਰਦੇ ਹਨ।



ਹੇਠ ਲਿਖਿਆਂ ਵਿੱਚੋਂ ਮੂਰਤੀਕਾਰ ਪਛਾਣੋ।

1. ਡੀ. ਪੀ. ਰਾਏ ਚੌਧਰੀ
2. ਰਾਮਕਿੰਕਰ ਵੈਜ
3. ਅਮਰਨਾਥ ਸਹਿਗਲ
4. ਪ. ਵ. ਜਨਕੀਰਾਮ

Options :

485584144641. 1
 485584144642. 2
 485584144643. 3
 485584144644. 4

Question Number : 226 Question Id : 48558436161 Question Type : MCQ Option Shuffling : No Is Question Mandatory : No Calculator : None
 Response Time : N.A Think Time : N.A Minimum Instruction Time : 0

Correct Marks : 5 Wrong Marks : 1

Question Key Details :

Key	Value
Comprehension	Comp1



பின்வருபவர்களில் இதன் சிற்பியைக் கண்டறிக:

1. டி.பி. ராய் செளத்திரி
2. ராம்கின்கர் பைஜ்
3. அமர்நாத் சொவ்ஹல்
4. பி.வி. ஜானகிராமன்

Options :

- 485584144641. 1
- 485584144642. 2
- 485584144643. 3
- 485584144644. 4

Question Number : 226 Question Id : 48558436161 Question Type : MCQ Option Shuffling : No Is Question Mandatory : No Calculator : None
Response Time : N.A Think Time : N.A Minimum Instruction Time : 0

Correct Marks : 5 Wrong Marks : 1

Question Key Details :

Key	Value
Comprehension	Comp1

نیچے دیے گئے حصہ سے سب سے زیادہ صحیح جواب کی نشاندہی کیجئے ؟

1. ڈی ایس ڈی جو دھری
2. رام کنگز بیج
3. امر ناتھ سپنگل
4. بی ای جٹکارم

Options :

485584144641. 1
485584144642. 2
485584144643. 3
485584144644. 4

Question Number : 227 Question Id : 48558436162 Question Type : MCQ Option Shuffling : No Is Question Mandatory : No Calculator : None Response Time : N.A Think Time : N.A Minimum Instruction Time : 0

Correct Marks : 5 Wrong Marks : 1

Question Key Details :

Key	Value
Comprehension	Comp1

Observe the image and answer the following question.



The sculpture is made using which material?

1. Bronze and cement
2. Cement mixed with pebbles
3. Oxidised copper
4. Hemp fiber

Options :

485584144645. 1
485584144646. 2
485584144647. 3
485584144648. 4

Question Number : 227 Question Id : 48558436162 Question Type : MCQ Option Shuffling : No Is Question Mandatory : No Calculator : None Response Time : N.A Think Time : N.A Minimum Instruction Time : 0

Correct Marks : 5 Wrong Marks : 1

Question Key Details :

Key	Value
Comprehension	Comp1

नीचे आकृति देखकर निम्न प्रश्न का उत्तर दीजिए:



मूर्तिकला को बनाने में किस माध्यम का उपयोग किया गया है?

1. काँसा और सीमेंट
2. सीमेंट, के साथ रोड़ी-बजरी मिश्रण
3. ऑक्सीकृत तांबा
4. सन / पटसन तंतु

Options :

485584144645. 1
485584144646. 2
485584144647. 3
485584144648. 4

Question Number : 227 Question Id : 48558436162 Question Type : MCQ Option Shuffling : No Is Question Mandatory : No Calculator : None Response Time : N.A Think Time : N.A Minimum Instruction Time : 0

Correct Marks : 5 Wrong Marks : 1

Question Key Details :

Key	Value
Comprehension	Compl

এই ছবি খন ভালদৰে লক্ষ্য কৰা আৰু তলত দিয়া প্ৰশ্নৰ উত্তৰ দিয়া ।



স্থাপত্যটো কোনটো সামগ্ৰীৰে বনোৱা হৈছিল ?

1. ব্ৰঞ্জ আৰু চিমেণ্ট
2. চিমেণ্ট আৰু শিল গুটিৰ মিশ্ৰণ
3. অক্সিজাইজ ক'ম্পাৰ
4. হেম্প ফাইবাৰ

Options :

485584144645. 1
485584144646. 2
485584144647. 3
485584144648. 4

Question Number : 227 Question Id : 48558436162 Question Type : MCQ Option Shuffling : No Is Question Mandatory : No Calculator : None
Response Time : N.A Think Time : N.A Minimum Instruction Time : 0

Correct Marks : 5 Wrong Marks : 1

Question Key Details :

Key	Value
Comprehension	Comp1

নীচের অনুচ্ছেদটি পড়। চিত্রটি ভাল করে লক্ষ্য করে প্রশ্নের উত্তর দাও-
এটি একটি স্থাপত্য যেটি ১৮৫৯ -এ খোদাই করা হয়েছিল। এটাতে দেখা যাচ্ছে চারজন মানুষ একটা প্রস্তরখন্ডকে সরাবার চেষ্টা করছে। একটা রাস্তা গড়ে তোলার জন্য মানুষের শ্রমের মূল্য ও প্রয়োজনীয়তাকে বোঝানো হয়েছে। অদমা পুরুষেরা প্রকৃতির সাথে মিলনযুদ্ধ করছে। একটা সর্বজনবিদিত রোমান্টিক বিষয় উনিশ শতকের এই স্থাপত্যে বর্ণিত হয়েছে। একটা কার্যিকশ্রমের চরম নিদর্শন যা একটা অনড়, বৃহৎ, অনমনীয়, অনড় প্রস্তরখন্ডকে সরাতে চাইছে। মানব শরীরের এমন নিখুঁত ভাজ সৃষ্টি করা হয়েছে যাতে দর্শকরা সবদিক থেকে স্থাপত্যটি খুঁটিয়ে দেখতে আগ্রহী হয়।



স্থাপত্যটি তৈরী হয়েছে কোন উপাদান দিয়ে ?

1. ব্রোঞ্জ এবং সিমেন্ট
2. সিমেন্ট এবং নুড়ি
3. অক্সিডাইজড তামা
4. হেম্প ফাইবার

Options :

485584144645. 1
485584144646. 2
485584144647. 3
485584144648. 4

Question Number : 227 Question Id : 48558436162 Question Type : MCQ Option Shuffling : No Is Question Mandatory : No Calculator : None
Response Time : N.A Think Time : N.A Minimum Instruction Time : 0

Correct Marks : 5 Wrong Marks : 1

Question Key Details :

Key	Value
Comprehension	Comp1

નીચે આપેલા ફકરાને વાંચીને, આકૃતિ જોઈ આપેલા પ્રશ્નોના જવાબ આપો.

આ એ શિલ્પ છે, જે 1959 માં બનાવવામાં આવ્યું હતું. તે બતાવે છે કે ચાર માણસો એક બંધકને બસેડવાનો પ્રયાસ કરી રહ્યા છે. જે રાષ્ટ્ર નિર્માણમાં માનવ શ્રમના મહત્વ અને યોગદાનને રજૂ કરે છે. અજેય માણસો કુદરત સાથે કુસ્તી કરી રહ્યા છે. હઠીલા, અનિશ્ચિત અને શક્તિશાળી. તે કુદરતના તત્ત્વો સામે શ્રમની છબી છે જે ઓગણીસમી સદીની જાણીતો રોમેન્ટિક વિષય છે. શિલ્પકારો એક વિશાળ, સ્થાવર અડકને ગુમાવવાના આત્યંતિક શારીરિક પ્રયત્નોનું ચિત્રણ કર્યું છે. માનવ આકૃતિઓ એવી રીતે સ્થાપિત કરવામાં આવે છે જે આપણામાં જિજ્ઞાસા પેદા કરે છે. કારણ કે તે દર્શકોને વ્યારે બાજુથી જોવા માટે આકર્ષે છે.



આપેલ શિલ્પકૃતિ ક્યાં માધ્યમથી બનાવેલ છે ?

1. બ્રોન્ઝ અને સિમેન્ટ
2. કાંકરા સાથે મિશ્રિત સિમેન્ટ
3. ઓક્સિડાઇઝ કરેલું તાંબુ
4. શણ ના તાંતણા

Options :

485584144645. 1
485584144646. 2
485584144647. 3
485584144648. 4


Question Number : 227 Question Id : 48558436162 Question Type : MCQ Option Shuffling : No Is Question Mandatory : No Calculator : None Response Time : N.A Think Time : N.A Minimum Instruction Time : 0

Correct Marks : 5 Wrong Marks : 1

Question Key Details :

Key	Value
Comprehension	Comp1

ಕೆಳಗಿನ ವಾಕ್ಯಪುಂಜವನ್ನು ಓದಿ ಮತ್ತು ಚಿತ್ರವನ್ನು ವೀಕ್ಷಿಸಿ ಮತ್ತು ಕೆಳಗಿನ ಪ್ರಶ್ನೆಗಳನ್ನು ಉತ್ತರಿಸಿ.



ಶಿಲ್ಪಕಲೆಯನ್ನು ಯಾವ ಮಾಧ್ಯಮದಿಂದ ನಿರ್ಮಿಸಲಾಗಿದೆ?

1. ಕಂಪು ಮತ್ತು ಸಿಮೆಂಟ್
2. ಗಣ್ಯ ಕಲ್ಲುಗಳು ಮಿಶ್ರಿತ ಗಂಧೋಜನೆ
3. ಅಕ್ರಿಡ್‌ಸ್ಟಾ ತಾಮ್ರ
4. ಸೆಣಬಿನ ನಾರು

Options :

485584144645. 1
485584144646. 2
485584144647. 3
485584144648. 4

Question Number : 227 Question Id : 48558436162 Question Type : MCQ Option Shuffling : No Is Question Mandatory : No Calculator : None Response Time : N.A Think Time : N.A Minimum Instruction Time : 0

Correct Marks : 5 Wrong Marks : 1

Question Key Details :

Key	Value
Comprehension	Comp1



ഏത് മാധ്യമം ഉപയോഗിച്ചാണ് ഈ ശില്പം നിർമ്മിച്ചിട്ടുള്ളത് ?

1. വെങ്കലവും, സിമെന്റും
2. സിമെന്റും കല്ലുകളും സംയോജിപ്പിച്ച്
3. ഓക്സിഡൈസ് ചെയ്ത ചെമ്പ്
4. ഹെംപ് ഫൈബർ

Options :

- 485584144645. 1
- 485584144646. 2
- 485584144647. 3
- 485584144648. 4

Question Number : 227 Question Id : 48558436162 Question Type : MCQ Option Shuffling : No Is Question Mandatory : No Calculator : None Response Time : N.A Think Time : N.A Minimum Instruction Time : 0

Correct Marks : 5 Wrong Marks : 1

Question Key Details :

Key	Value
Comprehension	Compl

पुढील उतारा व हे प्रतिमा पाहून प्रश्नांची उत्तरे लिहा.

1959 मध्ये बनवलेल्या या शिल्पात चार आकृत्या ओढण्याने मोठा खडक हलवण्याचा प्रयत्न करत असताना अडळतात. राष्ट्र उभारणीत मानवी श्रमाचे महत्व प्रतिबिंबित होताना व त्या श्रमाचे योगदान असल्याचे दिसते. मनुष्य अजिंक्य निसर्गाच्या शक्तीतील एक प्रसिद्ध रोमांचकारी विषय मांडला आहे. शिल्पकाराने मोठ्या प्रमाणात अचल खडक सैल करण्याचा प्रयत्न दाखवला आहे. मानवी आकृत्या अश्या प्रकारे स्थित केल्या आहेत ज्यामुळे दर्शकांचे कुतूहल जागृत होऊन तो सर्व बाजूने शिल्प पाहण्यासाठी प्रवृत्त होतो.



ह्या शिल्पात कोणते माध्यम वापरले आहे?

1. कांस्य आणि सिमेंट
2. दगडांबरोबर सिमेंट मिश्र करून
3. ऑक्सिडाइडस्ड तांबे
4. (अंबाडीचे दागें (घायपात) ताग

Options :

485584144645. 1
485584144646. 2
485584144647. 3
485584144648. 4

Question Number : 227 Question Id : 48558436162 Question Type : MCQ Option Shuffling : No Is Question Mandatory : No Calculator : None Response Time : N.A Think Time : N.A Minimum Instruction Time : 0

Correct Marks : 5 Wrong Marks : 1

Question Key Details :

Key	Value
Comprehension	Compl

ବିପ୍ଳବକର୍ତ୍ତାଙ୍କ ପ୍ରଚାରକାରୀ ଚନ୍ଦ୍ରଶୁ ଏବଂ ଦୁର୍ଗାକୁ ଦେଖି ନିମ୍ନ ଉତ୍ତର ଦିଅନ୍ତୁ

ଏହି ମୂର୍ତ୍ତି 1959ରେ ଗଢ଼ା ହୋଇଥିଲା, ଏହା ଚାରୋଟି ପୁରୁଷଙ୍କୁ ଏକ ପଥର ଚକାଇବାକୁ ଦେଖା କରୁଥିବା ଦେଖାଏ, ଗାଈ ଗାଈନୀରେ ମାନବ ଶ୍ରମର ଗୁରୁତ୍ୱ ଏବଂ ଅବଦାନକୁ ଦର୍ଶାଏ। ଅବିଷୟକାରୀ ପୁରୁଷମାନେ ପ୍ରକୃତି ବହିତ ସଂଗଠିତ କରୁଛନ୍ତି। ଅନିର୍ଦ୍ଦିଷ୍ଟ ଏବଂ ଉଦ୍ଦିଷ୍ଟ। ଏହା ପ୍ରକୃତିର ଉପାଦାନ ପୁଞ୍ଜିର ବିରୁଦ୍ଧରେ ଶ୍ରମର ଚିତ୍ର 19 ଶତାବ୍ଦୀର ଏକ କଥାକଥଣା ଏକ ଗୋଟାଘର ଚିତ୍ରଣ। ଶିଳ୍ପୀ ଏକ ବିରାଟ ଅଘାତର ପଥରକୁ ସୂତ୍ର କରିବାର ଚରଣ ଶାରୀରିକ ପ୍ରୟାସକୁ ଚିତ୍ରଣ କରିଛନ୍ତି। ମାନବ ଚିତ୍ର ଗୁଡ଼ିକ ଏଠାରେ ଉପରେ ସଂଗଠିତ ହୋଇଛି ଯାହା ଆମ ଭିତରେ ଏକ କର୍କଶ ବୃକ୍ଷ ଜାତର ଜୀବନୀ ଦର୍ଶନମାନେ ଏହାକୁ ସବୁ ବିଷୟ ଦେଖିବା ପାଇଁ ଦର୍ଶକଙ୍କୁ ଆକର୍ଷିତ କରିଛି।



ମୂର୍ତ୍ତିଟି କେଉଁ ଉପାଦାନରେ କଠିତ ?

1. କଂଥା ଏବଂ ସିମେଣ୍ଟ
2. ସିମେଣ୍ଟ ସହିତ ମିଶ୍ରିତ ପଥର
3. ଅସ୍ଥିତାଳକର ତପ୍ତା
4. ଯେନି ପାଲକର

Options :

- 485584144645. 1
- 485584144646. 2
- 485584144647. 3
- 485584144648. 4


Question Number : 227 Question Id : 48558436162 Question Type : MCQ Option Shuffling : No Is Question Mandatory : No Calculator : None Response Time : N.A Think Time : N.A Minimum Instruction Time : 0

Correct Marks : 5 Wrong Marks : 1

Question Key Details :

Key	Value
Comprehension	Compl

ਇਹ ਮੂਰਤੀ 1959 ਵਿੱਚ ਤਿਆਰ ਕੀਤੀ ਗਈ। ਇਸ ਵਿੱਚ ਚਾਰ ਆਦਮੀ ਇੱਕ ਚਟਾਨ ਨੂੰ ਹਿਲਾਉਣ ਦੀ ਕੋਸ਼ਿਸ਼ ਕਰਦੇ ਦਿਖਾਈ ਦੇ ਰਹੇ ਹਨ, ਰਾਸ਼ਟਰੀ ਨਿਰਮਾਣ ਵਿੱਚ ਮਹੱਤਤਾ ਅਤੇ ਯੋਗਦਾਨ ਦੀ ਪ੍ਰਤੀਕਾ ਹੈ। ਅਜਿਹੇ ਆਦਮੀ ਕੌਰੀਆਂ ਵਾਂਗ ਅਣਖੋਂ ਅਤੇ ਤਾਕਤਵਰ ਦੋਗ ਨਾਲ ਕੁਦਰਤ ਨਾਲ ਕੁਰਬਾਨੀ ਕਰ ਰਹੇ ਹਨ। ਇਹ ਕੁਦਰਤ ਦੇ ਤੌਰਾਂ ਦੇ ਵਿਰੁੱਧ ਕਿਰਤ ਦਾ ਚਿੰਨ੍ਹ ਹੈ, ਇਹ 19ਵੀਂ ਸਦੀ ਦਾ ਇੱਕ ਮੁਲਕਰੂ ਰੋਮੈਂਟਿਕ ਵਿਸ਼ਾ ਹੈ। ਮੂਰਤੀਕਾਰ ਨੇ ਇੱਕ ਵਿਚਲ, ਅਚੱਲ ਚਟਾਨ ਨੂੰ ਰਟਾਉਣ ਦੇ ਅਤਿਅੰਤ ਸਰੀਰਿਕ ਯਤਨ ਨੂੰ ਦਰਸਾਇਆ ਹੈ। ਮਨੁੱਖੀ ਚਿੰਤਨ ਨੂੰ ਇਸ ਤਰੀਕੇ ਨਾਲ ਸੰਬੰਧਿਤ ਕੀਤਾ ਜਾਂਦਾ ਹੈ ਜੋ ਸਾਡੇ ਵਿੱਚ ਇੱਕ ਉਤਸੁਕਤਾ ਪੈਦਾ ਕਰਦਾ ਅਹਿਅਤੇ ਦਰਸਕਾਂ ਨੂੰ ਹੋਰ ਪਾਸਿਉਂ ਦੇਖਣ ਲਈ ਆਕਰਸ਼ਿਤ ਕਰਦੇ ਹਨ।



ਮੂਰਤੀ ਕਿਸ ਮਾਧਿਅਮ ਦੀ ਬਣਾਈ ਗਈ ਹੈ?

1. ਕਾਂਸਾ ਅਤੇ ਸੀਮੰਟ
2. ਪੱਥਰਾਂ ਵਿੱਚ ਸੀਮੰਟ ਦਾ ਮਿਸ਼ਰਣ
3. ਆਕਸੀਡਾਈਜ਼ਡ ਤਾਂਬਾ
4. ਭੰਗ ਫਾਈਬਰ

Options :

485584144645. 1
 485584144646. 2
 485584144647. 3
 485584144648. 4

Question Number : 227 Question Id : 48558436162 Question Type : MCQ Option Shuffling : No Is Question Mandatory : No Calculator : None Response Time : N.A Think Time : N.A Minimum Instruction Time : 0

Correct Marks : 5 Wrong Marks : 1

Question Key Details :

Key	Value
Comprehension	Compl



இந்தச் சிற்பம் எந்த பொருள் கொண்டு செய்யப்பட்டுள்ளது?

1. வெண்கலம் மற்றும் சிமெண்ட்
2. கூலாங்கல்லுடன் கலக்கப்பட்ட சிமெண்ட்
3. ஆக்ஸிஜன் ஏற்றப்பட்ட தாமிரம்
4. சணல் கயிறு

Options :

485584144645. 1
485584144646. 2
485584144647. 3
485584144648. 4

Question Number : 227 Question Id : 48558436162 Question Type : MCQ Option Shuffling : No Is Question Mandatory : No Calculator : None Response Time : N.A Think Time : N.A Minimum Instruction Time : 0

Correct Marks : 5 Wrong Marks : 1

Question Key Details :

Key	Value
Comprehension	Compl

క్రింది గద్యభాగాన్ని చదివి ఇక్కడి ఉన్న చిత్రాన్ని గమనిస్తూ తరువాతి ప్రశ్నలకు సమాధానం రాయండి.

ఇది 1959 లో చెక్కిన శిల్పం. ఇది నలుగురు వ్యక్తులు ఒక రాయిని కదిలించడానికి ప్రయత్నిస్తున్నట్లు చూపిస్తుంది. ఇది జాతి నిర్మాణంలో మానవ శ్రామికుల సేవల ప్రాముఖ్యతను మరియు సహకారాన్ని వివరిస్తుంది. అవిచ్ఛిన్నం చేయలేని మనుషులు ప్రకృతితో మొండిగా పట్టుదలగా, నిర్దిష్టంగా, శక్తివంతంగా కుస్తీ పడుతున్నారు. ఇది 19వ శతాబ్దపు బాగా తెలిసిన కళాత్మకమైన విషయం అయిన ప్రకృతి యొక్క అంశాల కోసం చేస్తున్న శ్రమ యొక్క ప్రతిబింబం. ఒక భారీ, స్థిరమైన రాయిని విడదీయడానికి విపరీతమైన శారీరక శ్రమను శిల్పి చిత్రీకరించాడు. వీక్షకులుగా మనలో ఉత్సుకతను పొందే విధంగా మనుషుల చిత్రాలను చిత్రీకరించడం వల్ల ఇది అన్ని వైపులనుంచి చూసేలా వీక్షకులను ఆకర్షిస్తుంది.



ఈ శిల్పం క్రింది వాటిలో ఏ మాధ్యమాన్ని వాడి తయారుచేయబడింది

1. కంచు మరియు సీమెంట్
2. సీమెంట్ మరియు గులకరాళ్ళ మిశ్రమము
3. ఆక్సిడైజెడ్ రాగి
4. జనపనార

Options :

485584144645. 1
485584144646. 2
485584144647. 3
485584144648. 4

Question Number : 227 Question Id : 48558436162 Question Type : MCQ Option Shuffling : No Is Question Mandatory : No Calculator : None Response Time : N.A Think Time : N.A Minimum Instruction Time : 0

Correct Marks : 5 Wrong Marks : 1

Question Key Details :

Key	Value
Comprehension	Compl

قیاس کو دھیان سے پڑھ کر تصویر کا مشاہدہ کریں اور سوالات کا جواب لکھیں :

یہ مجسمہ 1959ء میں تیار کیا گیا تھا۔ یہاں چار لوگوں کو ایک چٹان ہٹانے کے لئے دکھایا ہے جو تیش کی تعمیر میں انسانی محنت کی اہمیت اور شرکت کو پیش کرنا ہے۔ ناقابل تفسیر مرد قدرت کے ساتھ کشی پڑ رہا ہے، سختی سے، خیر بقیں طور پر اور طاقت کے ساتھ۔ یہ مزدوروں کی تصویر قدرت کے اصولوں کے خلاف ہے۔ 19 ویں صدی کی ایک مشہور رومانٹک چیز ہے، اس مجسمے میں انسانی جسمانی طاقت کے ساتھ ایک نا ہتھے والی چٹان کو دکھایا گیا ہے۔ یہ انسانی مجسمہ اس طریقہ سے نصب کیا گیا ہے تاکہ ہمارے اندر دیکھنے کا احساس پیدا ہو۔ ناظرین اس کو دیکھنے کے لئے ہر طرف سے متوجہ ہوں۔

مجسمہ کس مواد کا استعمال کر کے بنایا گیا ہے ؟

1. کانسا اور سیمنٹ
2. کھجوروں کے ساتھ ملا ہوا سیمنٹ
3. آکسیڈائزڈ تالیا
4. پیننگ فائبر

Options :

485584144645. 1
485584144646. 2
485584144647. 3
485584144648. 4

Question Number : 228 Question Id : 48558436163 Question Type : MCQ Option Shuffling : No Is Question Mandatory : No Calculator : None Response Time : N.A Think Time : N.A Minimum Instruction Time : 0

Correct Marks : 5 Wrong Marks : 1

Question Key Details :

Key	Value
Comprehension	Comp1

Observe the image and answer the following question.



Mention the subject of the sculpture based on the given image?

1. Helplessness and cries fall on destitute family
2. Goodness of the wood
3. Santal man digging gold
4. Human labour in Nation building

Options :

485584144649. 1
485584144650. 2
485584144651. 3
485584144652. 4

Question Number : 228 Question Id : 48558436163 Question Type : MCQ Option Shuffling : No Is Question Mandatory : No Calculator : None Response Time : N.A Think Time : N.A Minimum Instruction Time : 0

Correct Marks : 5 Wrong Marks : 1

Question Key Details :

Key	Value
Comprehension	Comp1

नीचे आकृति देखकर निम्न प्रश्न का उत्तर दीजिए:



विषय बताइए जिस पर यह मूर्तिकला आधारित है?

1. असहाय और रोते हुए वंचित परिवार
2. लकड़ी की विशेषता / अच्छाई
3. संथाल व्यक्ति सोना खोद रहा है
4. राष्ट्र निर्माण में मानव श्रम

Options :

485584144649. 1
485584144650. 2
485584144651. 3
485584144652. 4

Question Number : 228 Question Id : 48558436163 Question Type : MCQ Option Shuffling : No Is Question Mandatory : No Calculator : None Response Time : N.A Think Time : N.A Minimum Instruction Time : 0

Correct Marks : 5 Wrong Marks : 1

Question Key Details :

Key	Value
Comprehension	Comp1

এই ছবি খন ভালদৰে নক্সা কৰা আৰু তলত দিয়া প্ৰশ্নৰ উত্তৰ দিয়া ।



স্থাপত্যটোৰ বিষয়বস্তুটো কি ?

1. অসহায় আৰু কান্দি থকা অৱস্থাত এটা পৰিয়াল
2. কাঠৰ সত্যতা
3. সোন খান্দি থকা সম্ভাল লোক
4. জাতীয়তাবাদ নিৰ্মানৰত মানৱ শ্ৰমিক

Options :

485584144649. 1
485584144650. 2
485584144651. 3
485584144652. 4

Question Number : 228 Question Id : 48558436163 Question Type : MCQ Option Shuffling : No Is Question Mandatory : No Calculator : None
Response Time : N.A Think Time : N.A Minimum Instruction Time : 0

Correct Marks : 5 Wrong Marks : 1

Question Key Details :

Key	Value
Comprehension	Comp1

নীচের অনুচ্ছেদটি পড়। চিত্রটি ভাল করে লক্ষ্য করে প্রশ্নের উত্তর দাও-
এটি একটি স্থাপত্য যেটি ১৮৫৯ -এ খোদাই করা হয়েছিল। এটাতে দেখা যাচ্ছে চারজন মানুষ একটা প্রভুর খসুকে সরাবার চেষ্টা করছে। একটা রাস্তা গড়ে তোলার জন্য মানুষের শ্রমের মূল্য ও প্রয়োজনীয়তাকে বোঝানো হয়েছে। অদমা পুরুষেরা প্রকৃতির সাথে মিলনযুদ্ধ করছে। একটা সর্বজনবিদিত রোমান্টিক বিষয় উনিশ শতকের এই স্থাপত্যে বর্ণিত হয়েছে। একটা কায়িক শ্রমের চরম নিদর্শন যা একটা অনড়, বৃহৎ, অনমনীয়, অনড় প্রভুর খসুকে সরাতে চাইছে। মানব শরীরের এমন নিখুঁত ভাজ সৃষ্টি করা হয়েছে যাতে দর্শকরা সবদিক থেকে স্থাপত্যটি খুঁটিয়ে দেখতে আগ্রহী হয়।



স্থাপত্যের বিষয়টি আধারিত হয়েছে?

1. সহায় সম্বলহীন পরিবারের অসহায়তা এবং কাল্পনা
2. কাস্টের উপযোগীতা
3. সাঙুঁতাল মানুষ সোনা খনন করছে
4. রাস্তা নির্মাণে মানুষের শ্রম

Options :

485584144649. 1
485584144650. 2
485584144651. 3
485584144652. 4

Question Number : 228 Question Id : 48558436163 Question Type : MCQ Option Shuffling : No Is Question Mandatory : No Calculator : None
Response Time : N.A Think Time : N.A Minimum Instruction Time : 0

Correct Marks : 5 Wrong Marks : 1

Question Key Details :

Key	Value
Comprehension	Comp1

નીચે આપેલા ફકરાને વાંચીને, આકૃતિ જોઈ આપેલા પ્રશ્નોના જવાબ આપો.

આ એ શિલ્પ છે, જે 1959 માં બનાવવામાં આવ્યું હતું. તે બતાવે છે કે ચાર માણસો એક બંધકને બસેડવાનો પ્રયાસ કરી રહ્યા છે. જે રાષ્ટ્ર નિર્માણમાં માનવ શ્રમના મહત્વ અને યોગદાનને રજૂ કરે છે. અજેય માણસો કુદરત સાથે કુસ્તી કરી રહ્યા છે. હઠીલા, અનિશ્ચિત અને શક્તિશાળી. તે કુદરતના તત્ત્વો સામે શ્રમની છબી છે જે ઓગણીસમી સદીની જાણીતો રોમેન્ટિક વિષય છે. શિલ્પકારો એક વિશાળ, સ્થાવર અડકને ગુમાવવાના આત્યંતિક શારીરિક પ્રયત્નોનું ચિત્રણ કર્યું છે. માનવ આકૃતિઓ એવી રીતે સ્થાપિત કરવામાં આવે છે જે આપણામાં જિજ્ઞાસા પેદા કરે છે. કારણ કે તે દર્શકોને વ્યારે બાજુથી જોવા માટે આકર્ષે છે.



આપેલ શિલ્પકૃતિ કયા વિષય પર આધારિત છે ?

1. નિરાધાર પરિવારની વાચારી અને થીસ છે.
2. વાકડાની ગુણવત્તા
3. સોનું ખોદતાં સંઘાલ માનવી
4. રાષ્ટ્ર નિર્માણમાં માનવીય શ્રમ

Options :

485584144649. 1
485584144650. 2
485584144651. 3
485584144652. 4


Question Number : 228 Question Id : 48558436163 Question Type : MCQ Option Shuffling : No Is Question Mandatory : No Calculator : None Response Time : N.A Think Time : N.A Minimum Instruction Time : 0

Correct Marks : 5 Wrong Marks : 1

Question Key Details :

Key	Value
Comprehension	Comp1

ಕೆಳಗಿನ ವಾಕ್ಯಪುಂಜವನ್ನು ಓದಿ ಮತ್ತು ಚಿತ್ರವನ್ನು ವೀಕ್ಷಿಸಿ ಮತ್ತು ಕೆಳಗಿನ ಪ್ರಶ್ನೆಗಳನ್ನು ಉತ್ತರಿಸಿ.



ನೀಡಿರುವ ಚಿತ್ರದ ಆಧಾರದ ಮೇಲೆ ತಿಲ್ಪಕಲಾ ವಿಷಯವನ್ನು ತಿಳಿಸಿ

1. ಅಸಹಾಯಕತೆ ಮತ್ತು ನಿರ್ಗತಿಕ ಕುಟುಂಬದ ಮೇಲೆ ಕೂಗಾಡುವುದು
2. ಕಟ್ಟಿಗೆಯ ಒಳ್ಳೆತನ
3. ಸಂಘಾಲ್ ಮಾನವ ಚಿನ್ನ ಅಗೆಯುತ್ತಿರುವುದು
4. ದೇಶ ನಿರ್ಮೂಮದಲ್ಲಿ ಮಾನವರ ಪರಿಶ್ರಮ

Options :


485584144649. 1
485584144650. 2
485584144651. 3
485584144652. 4

Question Number : 228 Question Id : 48558436163 Question Type : MCQ Option Shuffling : No Is Question Mandatory : No Calculator : None Response Time : N.A Think Time : N.A Minimum Instruction Time : 0

Correct Marks : 5 Wrong Marks : 1

Question Key Details :

Key	Value
Comprehension	Compl



താഴെ നൽകിയിട്ടുള്ളവയിൽ നിന്നും ഈ ശില്പത്തിന്റെ പ്രതിപാദ്യ വിഷയം ഏതാണെന്ന് നിർണ്ണയിക്കുക ?

1. നിരാലംബ കുടുംബത്തിന്റെ കരച്ചിലും, നിസ്സഹായാവസ്ഥയും
2. മരത്തിന്റെ നന്മകൾ
3. സ്വർണ്ണം കൃഷിചെയ്യുന്ന സാത്താൽ മനുഷ്യൻ
4. ദേശനിർമ്മാണത്തിനുള്ള മനുഷ്യ പ്രയത്നം

Options :

- 485584144649. 1
- 485584144650. 2
- 485584144651. 3
- 485584144652. 4

Question Number : 228 Question Id : 48558436163 Question Type : MCQ Option Shuffling : No Is Question Mandatory : No Calculator : None Response Time : N.A Think Time : N.A Minimum Instruction Time : 0

Correct Marks : 5 Wrong Marks : 1

Question Key Details :

Key	Value
Comprehension	Comp1

पुढील उतारा व हे प्रतिमा पाहून प्रश्नांची उत्तरे लिहा.

1959 मध्ये बनवलेल्या या शिल्पात चार आकृत्या ओढक्याने मोठा खडक हलवण्याचा प्रयत्न करत असताना अडळतात. राष्ट्र उभारणीत मानवी श्रमाचे महत्व प्रतिबिंबित होताना व त्या श्रमाचे योगदान असल्याचे दिसते. मनुष्य अजिंक्य निसर्गाच्या सातकातील एक प्रसिद्ध रोमांचकारी विषय मांडला आहे. शिल्पकाराने मोठ्या प्रमाणात अचल खडक सैल करण्याचा प्रयत्न दाखवला आहे. मानवी आकृत्या अश्या प्रकारे स्थित केल्या आहेत ज्यामुळे दर्शकांचे कुतुहल जागृत होऊन तो सर्व बाजूने शिल्प पाहण्यासाठी प्रवृत्त होतो.



हे शिल्प खाली दिलेल्या कोणत्या विषयावर आधारित आहे?

1. पीडित कुटुंबाचे असहाय्यता आणि विफल रडणे
2. लाकडाची देवता
3. सोने खोदणारा संथाल माणूस
4. राष्ट्र बांधणी साठी मानवी श्रम

Options :

485584144649. 1
485584144650. 2
485584144651. 3
485584144652. 4

Question Number : 228 Question Id : 48558436163 Question Type : MCQ Option Shuffling : No Is Question Mandatory : No Calculator : None Response Time : N.A Think Time : N.A Minimum Instruction Time : 0

Correct Marks : 5 Wrong Marks : 1

Question Key Details :

Key	Value
Comprehension	Compl

ବିପ୍ଳାବକର୍ତ୍ତାଙ୍କ ପ୍ରତ୍ନୋଦ୍ଧାର ପଦକ୍ଷେପ 'ଏକ' ଦୁର୍ଗାକୁ ଦେଖି ନିମ୍ନ ଉତ୍ତର ଦିଅନ୍ତୁ

"ଏହି ମୂର୍ତ୍ତି 1959ରେ ଗଢ଼ା ହୋଇଥିଲା, ଏହା ଚାରୋଟି ପୁରୁଷଙ୍କୁ ଏକ ପଥର ଚକାଳିବାକୁ ଦେଖା କରୁଥିବା ଦେଖାଏ, ଗାଞ୍ଜି ଭାବନାରେ ମାନବ ଶ୍ରମର ଗୁରୁତ୍ୱ ଏକ ଅବଦାନକୁ ଦର୍ଶାଏ। ଅବିଷୟକାୟ ପୁରୁଷମାନେ ପ୍ରକୃତି ବହିତ ସଂଗଠିତ କରୁଛନ୍ତି। ଅନିର୍ଦ୍ଦିଷ୍ଟ ଏକ ଉଦ୍ଦେଶ୍ୟ। ଏହା ପ୍ରକୃତିର ଉପାଦାନ ସୃଷ୍ଟିକରିବାରେ ଶ୍ରମର ଚିତ୍ର 19 ଶତାବ୍ଦୀର ଏକ କଳାଶୂନ୍ୟ ଏକ ଗୋଟାଏକ ଚିତ୍ରଣ। ଶିଳ୍ପୀ ଏକ ବିରାଟ ଅସାଧାରଣ ପଥରକୁ ସୂତ୍ର କରିବାର ଦରମ ଶାରୀରିକ ପ୍ରୟାସକୁ ଚିତ୍ରଣ କରିଛନ୍ତି। ମାନବ ଚିତ୍ର ଗୁଡ଼ିକ ଏଠାରେ ଉପରେ ସଂଗଠିତ ହୋଇଛି ଯାହା ଆମ ଭିତରେ ଏକ କର୍କଶ ବୃକ୍ଷ ଜାତର ଜାତର ଦର୍ଶନମାନେ ଏହାକୁ ସବୁ ବିଷୟ ଦେଖିବା ପାଇଁ ଦର୍ଶକଙ୍କୁ ଆକର୍ଷିତ କରିଛି।



Mention the subject of the sculpture based on the given?

- 1. ଅସାଧାରଣ ଏକ ବିଭିନ୍ନ ପରିବାର ଜାତର
- 2. ଗୁରୁତ୍ୱପୂର୍ଣ୍ଣ ଅଫ୍ ଚିତ୍ର
- 3. ସାଧାରଣ ପୁରୁଷ ପୁନଃ ଖୋଲୁଛନ୍ତି
- 4. ଦୁର୍ଗାମାନ ଉପରେ ଉପ ଦେଖିବା ବିଭବିତ

Options :

- 485584144649. 1
- 485584144650. 2
- 485584144651. 3
- 485584144652. 4


Question Number : 228 Question Id : 48558436163 Question Type : MCQ Option Shuffling : No Is Question Mandatory : No Calculator : None Response Time : N.A Think Time : N.A Minimum Instruction Time : 0

Correct Marks : 5 Wrong Marks : 1

Question Key Details :

Key	Value
Comprehension	Comp1

ਇਹ ਮੂਰਤੀ 1959 ਵਿੱਚ ਤਰਾਸ਼ੀ ਗਈ। ਇਸ ਵਿੱਚ ਚਾਰ ਆਦਮੀ ਇੱਕ ਚਟਾਨ ਨੂੰ ਹਿਲਾਉਣ ਦੀ ਕੋਸ਼ਿਸ਼ ਕਰਦੇ ਦਿਖਾਈ ਦੇ ਰਹੇ ਹਨ। ਰਾਸ਼ਟਰੀ ਨਿਰਮਾਣ ਵਿੱਚ ਮਹੱਤਤਾ ਅਤੇ ਯੋਗਦਾਨ ਦੀ ਪੇਸ਼ਕਾਰੀ ਹੈ। ਅਜਿਹੇ ਆਦਮੀ ਕੌੜਿਆਂ ਵਾਂਗ ਅਣਥੱਕ ਅਤੇ ਤਾਕਤਵਰ ਦੰਗੇ ਨਾਲ ਕੁਦਰਤ ਨਾਲ ਕੁਝਤੀ ਕਰ ਰਹੇ ਹਨ। ਇਹ ਕੁਦਰਤ ਦੇ ਤੱਤਾਂ ਦੇ ਵਿਰੁੱਧ ਕਿਰਤ ਦਾ ਚਿੰਤਰ ਹੈ। ਇਹ 19ਵੀਂ ਸਦੀ ਦਾ ਇੱਕ ਮਨੁੱਖੀ ਕੌਮਿਕ ਵਿਸ਼ਾ ਹੈ। ਮੂਰਤੀਕਾਰ ਨੇ ਇੱਕ ਦਿਲ, ਅਚੱਲ ਚਟਾਨ ਨੂੰ ਰਟਾਉਣ ਦੇ ਅਤਿਅੰਤ ਸਰੀਰਿਕ ਯਤਨ ਨੂੰ ਦਰਸਾਇਆ ਹੈ। ਮਨੁੱਖੀ ਚਿੰਤਰ ਨੂੰ ਇਸ ਤਰੀਕੇ ਨਾਲ ਸੰਬੰਧਿਤ ਕੀਤਾ ਜਾਂਦਾ ਹੈ ਜੋ ਸਾਡੇ ਵਿੱਚ ਇੱਕ ਉਤਸੁਕਤਾ ਪੈਦਾ ਕਰਦਾ ਅਹਿਅਤੇ ਦਰਸਕਾਂ ਨੂੰ ਹੋਰ ਪਾਸਿਉਂ ਦੇਖਣ ਲਈ ਆਕਰਸ਼ਿਤ ਕਰਦੇ ਹਨ।



ਹੇਠ ਦਿੱਤਿਆਂ ਵਿੱਚੋਂ ਮੂਰਤੀ ਕਿਸ ਵਿਸ਼ੇ ਤੇ ਆਧਾਰਿਤ ਹੈ:

1. ਬੇਵਸ਼ੀ ਅਤੇ ਰੋਣਾ ਬੇਸਹਾਰਾ ਪਰਿਵਾਰ ਤੇ ਡਿੱਗਦਾ ਹੈ।
2. ਲੋਕਤੰਤਰ ਦੀ ਚੀਗਿਆਈ
3. ਸੰਥਲ ਆਦਮੀ ਸੋਨੇ ਦੀ ਖੁਦਾਈ ਕਰਦਾ
4. ਰਾਸ਼ਟਰੀ ਨਿਰਮਾਣ ਵਿੱਚ ਮਨੁੱਖੀ ਕਿਰਤ

Options :

485584144649. 1
 485584144650. 2
 485584144651. 3
 485584144652. 4

Question Number : 228 Question Id : 48558436163 Question Type : MCQ Option Shuffling : No Is Question Mandatory : No Calculator : None
 Response Time : N.A Think Time : N.A Minimum Instruction Time : 0

Correct Marks : 5 Wrong Marks : 1

Question Key Details :

Key	Value
Comprehension	Comp1



கொடுக்கப்பட்டவைகளிலிருந்து சிற்பத்தின் பாடப்பொருளை குறிப்பிடுக:

1. கைவிடப்பட்ட குடும்பம் மீது விழும் ஆதரவற்ற தன்மையும் அவலங்களும்
2. மரத்தின் நன்மை
3. சாந்தள மனிதன்/ ஆண் தங்கத்தை வெட்டி எடுத்தல்
4. நாட்டின் கட்டுமானத்தில் மனித வலிகளின் பங்கு

Options :

- 485584144649. 1
- 485584144650. 2
- 485584144651. 3
- 485584144652. 4

Question Number : 228 Question Id : 48558436163 Question Type : MCQ Option Shuffling : No Is Question Mandatory : No Calculator : None Response Time : N.A Think Time : N.A Minimum Instruction Time : 0

Correct Marks : 5 Wrong Marks : 1

Question Key Details :

Key	Value
Comprehension	Compl

క్రంది గద్యభాగాన్ని చదివి ఇక్కడి ఉన్న చిత్రాన్ని గమనిస్తూ తరువాతి ప్రశ్నలకు సమాధానం రాయండి.

ఇది 1959 లో చెక్కిన శిల్పం. ఇది నలుగురు వ్యక్తులు ఒక రాయిని కదిలించడానికి ప్రయత్నిస్తున్నట్లు చూపిస్తుంది. ఇది జాతి నిర్మాణంలో మానవ శ్రామికుల సేవల ప్రాముఖ్యతను మరియు సహకారాన్ని వివరిస్తుంది. అవిచ్ఛిన్నం చేయలేని మనుషులు ప్రకృతితో మొండిగా పట్టుదలగా, నిర్దిష్టంగా, శక్తివంతంగా కుస్తీ పడుతున్నారు. ఇది 19వ శతాబ్దపు బాగా తెలిసిన కళాత్మకమైన విషయం అయిన ప్రకృతి యొక్క అంశాల కోసం చేస్తున్న శ్రమ యొక్క ప్రతిబింబం. ఒక భారీ, స్థిరమైన రాయిని విడదీయడానికి వివరీతమైన శారీరక శ్రమను శిల్పి చిత్రీకరించాడు. వీక్షకులుగా మనలో ఉత్సుకతను పొందే విధంగా మనుషుల చిత్రాలను చిత్రీకరించడం వల్ల ఇది అన్ని వైపులనుంచి చూసేలా వీక్షకులను ఆకర్షిస్తుంది.



ఇది ఏ విషయానికి సంబంధించిన శిల్పమో చెప్పండి

1. నిస్సహాయ స్థితిలో ఎదుస్తూ పడి ఉన్న దిక్కులేని కుటుంబం
2. చెక్క యొక్క గొప్పదనం
3. సంతలే మనిషి బంగారాన్ని తవ్వడం
4. జాతి నిర్మాణంలో మానవ శ్రామికులు

Options :

485584144649. 1
485584144650. 2
485584144651. 3
485584144652. 4

Question Number : 228 Question Id : 48558436163 Question Type : MCQ Option Shuffling : No Is Question Mandatory : No Calculator : None Response Time : N.A Think Time : N.A Minimum Instruction Time : 0

Correct Marks : 5 Wrong Marks : 1

Question Key Details :

Key	Value
Comprehension	Comp1

قیاس کو دھیان سے پڑھ کر تصویر کا مشاہدہ کریں اور سوالات کا جواب لکھیں :

یہ مجسمہ 1959ء میں تیار کیا گیا تھا۔ یہاں چار لوگوں کو ایک چٹان ہٹانے کے لیے دکھایا ہے جو دیش کی تعمیر میں انسانی محنت کی اہمیت اور شراکت کو پیش کرنا ہے۔ ناقابل تفسیر مرد قدرت کے ساتھ کشش پڑ رہا ہے، سختی سے، خور بخشی طور پر اور طاقت کے ساتھ۔ یہ ہزاروں کی تصویر قدرت کے اصولوں کے خلاف ہے۔ 19 ویں صدی کی ایک مشہور رومانٹک چیز ہے۔ اس مجسمے میں انسانی جسمانی طاقت کے ساتھ ایک نا ہتھے والی چٹان کو دکھایا گیا ہے۔ یہ انسانی مجسمہ اس طریقہ سے نصب کیا گیا ہے تاکہ ہمارے اندر دیکھنے کا تحسین پیدا ہو۔ ناظرین اس کو دیکھنے کے لیے ہر طرف سے متوجہ ہوں۔

مجسمہ کے موضوع کا ذکر کریں جو نلے گئے تصویر پر مبنی ہے ؟

1. بے بسی اور چہچ و بیکار سپہرا خاندانوں پر نازل ہوئی ہے۔
2. لکڑی کی خوبی۔
3. ستھیاں آدی واسی سونا کیوڈ رہا ہے۔
4. لیش کی تعبیر میں انسانی مزاج پر۔

Options :

485584144649. 1
485584144650. 2
485584144651. 3
485584144652. 4

Question Number : 229 Question Id : 48558436164 Question Type : MCQ Option Shuffling : No Is Question Mandatory : No Calculator : None Response Time : N.A Think Time : N.A Minimum Instruction Time : 0

Correct Marks : 5 Wrong Marks : 1

Question Key Details :

Key	Value
Comprehension	Compl

Observe the image and answer the following question.



Identify the style of artwork which the sculptor had used.

1. Modern Art
2. Abstract Art
3. Pop Art
4. Folk Art

Options :

485584144653. 1
485584144654. 2
485584144655. 3
485584144656. 4

Question Number : 229 Question Id : 48558436164 Question Type : MCQ Option Shuffling : No Is Question Mandatory : No Calculator : None Response Time : N.A Think Time : N.A Minimum Instruction Time : 0

Correct Marks : 5 Wrong Marks : 1

Question Key Details :

Key	Value
Comprehension	Compl

नीचे आकृति देखकर निम्न प्रश्न का उत्तर दीजिए:



शैली को बताइए, जिसका मूर्तिकार ने उपयोग किया है:

1. आधुनिक कला
2. अमूर्त कला
3. पॉप कला
4. लोक कला

Options :

485584144653. 1
485584144654. 2
485584144655. 3
485584144656. 4

Question Number : 229 Question Id : 48558436164 Question Type : MCQ Option Shuffling : No Is Question Mandatory : No Calculator : None
Response Time : N.A Think Time : N.A Minimum Instruction Time : 0

Correct Marks : 5 Wrong Marks : 1

Question Key Details :

Key	Value
Comprehension	Compl

এই ছবি খন ভালাদৰে নক্ষা কৰা আৰু তলাত দিয়া প্ৰশ্নৰ উত্তৰ দিয়া ।



স্থাপত্যতোত কোনটো কলা ব্যৱহাৰ কৰিছে ?

1. মডাৰ্ন কলা
2. এবষ্ট্ৰেক্ট কলা
3. পপ কলা
4. লোক কলা

Options :

485584144653. 1
 485584144654. 2
 485584144655. 3
 485584144656. 4

Question Number : 229 Question Id : 48558436164 Question Type : MCQ Option Shuffling : No Is Question Mandatory : No Calculator : None
 Response Time : N.A Think Time : N.A Minimum Instruction Time : 0

Correct Marks : 5 Wrong Marks : 1

Question Key Details :

Key	Value
Comprehension	Comp1

নীচের অনুচ্ছেদটি পড়। চিত্রটি ভাল করে লক্ষ্য করে প্রশ্নের উত্তর দাও-

এটি একটি স্থাপত্য যেটি ১৮৫৯ -এ খোদাই করা হয়েছিল। এটাতে দেখা যাচ্ছে চারজন মানুষ একটা প্রভুর খসুকে সরাবার চেষ্টা করছে। একটা রাষ্ট্র গড়ে তোলার জন্য মানুষের শ্রমের মূল্য ও প্রয়োজনীয়তাকে বোঝানো হয়েছে। অদমা পুরুষেরা প্রকৃতির সাথে মিলনযুদ্ধ করছে। একটা সর্বজনবিদিত রোমান্টিক বিষয় উনিশ শতকের এই স্থাপত্যে বর্ণিত হয়েছে। একটা কায়িক শ্রমের চরম নিদর্শন যা একটা অনড়, বৃহৎ, অনমনীয়, অনড় প্রভুর খসুকে সরাতে চাইছে। মানব শরীরের এমন নিখুঁত ভাজ সৃষ্টি করা হয়েছে যাতে দর্শকরা সবদিক থেকে স্থাপত্যটি খুঁটিয়ে দেখতে আগ্রহী হয়।



কোন আর্টওয়ার্ক বা চিত্রকর্ম এই স্থাপত্যে ব্যবহৃত হয়েছে -

1. মডার্ন আর্ট (আধুনিক চিত্রকলা)
2. বিমূর্ত চিত্রকলা (অ্যাবস্ট্রাক্ট আর্ট)
3. পপ আর্ট
4. লোকশিল্প / চিত্র

Options :

485584144653. 1
 485584144654. 2
 485584144655. 3
 485584144656. 4

Question Number : 229 Question Id : 48558436164 Question Type : MCQ Option Shuffling : No Is Question Mandatory : No Calculator : None
 Response Time : N.A Think Time : N.A Minimum Instruction Time : 0

Correct Marks : 5 Wrong Marks : 1

Question Key Details :

Key	Value
Comprehension	Comp1

નીચે આપેલા ફકરાને વાંચીને, આકૃતિ જોઈ આપેલા પ્રશ્નોના જવાબ આપો.

આ એ શિલ્પ છે, જે 1959 માં બનાવવામાં આવ્યું હતું. તે બતાવે છે કે ચાર માણસો એક બંધકને બસેડવાનો પ્રયાસ કરી રહ્યા છે. જે રાષ્ટ્ર નિર્માણમાં માનવ શ્રમના મહત્વ અને યોગદાનને રજૂ કરે છે. અજેય માણસો કુદરત સાથે કુસ્તી કરી રહ્યા છે. હઠીલા, અનિશ્ચિત અને શક્તિશાળી. તે કુદરતના તત્ત્વો સામે શ્રમની છબી છે જે ઓગણીસમી સદીની જાણીતો રોમેન્ટિક વિષય છે. શિલ્પકારો એક વિશાળ, સ્થાવર અડકને ગુમાવવાના આત્યંતિક શારીરિક પ્રયત્નોનું ચિત્રણ કર્યું છે. માનવ આકૃતિઓ એવી રીતે સ્થાપિત કરવામાં આવે છે જે આપણામાં જિજ્ઞાસા પેદા કરે છે. કારણ કે તે દર્શકોને વ્યારે બાજુથી જોવા માટે આકર્ષે છે.



શિલ્પકારે વાપરેલ કલાકારીની શૈલી જણાવો.

1. આધુનિક કલા
2. અમૂર્ત કલા
3. પોપ કલા
4. લોક કલા

Options :

485584144653. 1
485584144654. 2
485584144655. 3
485584144656. 4


Question Number : 229 Question Id : 48558436164 Question Type : MCQ Option Shuffling : No Is Question Mandatory : No Calculator : None Response Time : N.A Think Time : N.A Minimum Instruction Time : 0

Correct Marks : 5 Wrong Marks : 1

Question Key Details :

Key	Value
Comprehension	Comp1

ಕೆಳಗಿನ ವಾಕ್ಯಪುಂಜವನ್ನು ಓದಿ ಮತ್ತು ಬೆತ್ತವನ್ನು ವೀಕ್ಷಿಸಿ ಮತ್ತು ಕೆಳಗಿನ ಪ್ರಶ್ನೆಗಳನ್ನು ಉತ್ತರಿಸಿ.



ಶಿಲ್ಪಕಲಾಕಾರ ಬಳಸಿದ ಕಲಾಕಾರ್ಯದ ಶೈಲಿಯನ್ನು ತಿಳಿಸಿ.

1. ಆಧುನಿಕ ಕಲೆ
2. ಮೂರ್ತಕ ಕಲೆ
3. ಪಾಪ್ ಕಲೆ
4. ಜಾನಪದ ಕಲೆ

Options :


485584144653. 1
485584144654. 2
485584144655. 3
485584144656. 4

Question Number : 229 Question Id : 48558436164 Question Type : MCQ Option Shuffling : No Is Question Mandatory : No Calculator : None Response Time : N.A Think Time : N.A Minimum Instruction Time : 0

Correct Marks : 5 Wrong Marks : 1

Question Key Details :

Key	Value
Comprehension	Comp1



ഈ ശില്പത്തിൽ ഉപയോഗിച്ചിരിക്കുന്ന കലാശൈലി ഏതാണ് ?

1. ആധുനിക കല
2. അമൂർത്ത കല
3. പേപ്പർ കല
4. നാടോടി കല

Options :

- 485584144653. 1
- 485584144654. 2
- 485584144655. 3
- 485584144656. 4

Question Number : 229 Question Id : 48558436164 Question Type : MCQ Option Shuffling : No Is Question Mandatory : No Calculator : None Response Time : N.A Think Time : N.A Minimum Instruction Time : 0

Correct Marks : 5 Wrong Marks : 1

Question Key Details :

Key	Value
Comprehension	Compl

पुढील उतारा व हे प्रतिमा पाहून प्रश्नांची उत्तरे लिहा.

1959 मध्ये बनवलेल्या या शिल्पात चार आकृत्या ओढण्याने मोठा खडक हलवण्याचा प्रयत्न करत असताना अडळतात. राष्ट्र उभारणीत मानवी श्रमाचे महत्व प्रतिबिंबित होताना व त्या श्रमाचे योगदान असल्याचे दिसते. मनुष्य अजिंक्य निसर्गाच्या शक्तीतील एक प्रसिद्ध रोमांचकारी विषय मांडला आहे. शिल्पकाराने मोठ्या प्रमाणात अचल खडक सैल करण्याचा प्रयत्न दाखवला आहे. मानवी आकृत्या अश्या प्रकारे स्थित केल्या आहेत ज्यामुळे दर्शकांचे कुतुहल जागृत होऊन तो सर्व बाजूने शिल्प पाहण्यासाठी प्रवृत्त होतो.



या शिल्पात वापरलेल्या कला शैलीचा उल्लेख करा.

1. माडर्न आर्ट (आधुनिक कला)
2. अमूर्त कला
3. पॉप आर्ट (कला)
4. लोककला

Options :

485584144653. 1
485584144654. 2
485584144655. 3
485584144656. 4

Question Number : 229 Question Id : 48558436164 Question Type : MCQ Option Shuffling : No Is Question Mandatory : No Calculator : None
Response Time : N.A Think Time : N.A Minimum Instruction Time : 0

Correct Marks : 5 Wrong Marks : 1

Question Key Details :

Key	Value
Comprehension	Comp1

ବିପ୍ଳାବକର୍ତ୍ତାଙ୍କ ପ୍ରତ୍ନୋଦ୍ଧାର ପଦକ୍ଷେପ ଯୋଗୁଁ ଏହା ଦୁର୍ଗାକୁ ଦେଖି ନିମ୍ନ ଭଙ୍ଗର ବିଅଣ୍ଡୁ

ଏହି ମୂର୍ତ୍ତି 1959ରେ ଗଢ଼ା ହୋଇଥିଲା, ଏହା ଚାରୋଟି ପୁରୁଷଙ୍କୁ ଏକ ପଥର ଚକାଳିବାକୁ ଦେଖା କରୁଥିବା ଦେଖାଏ, ଗାଞ୍ଜି ଭାବନାରେ ମାନବ ଶ୍ରମର ଗୁରୁତ୍ୱ ଏହା ଅବଦାନକୁ ଦର୍ଶାଏ। ଅବିଷୟକାୟ ପୁରୁଷମାନେ ପ୍ରକୃତି କହିତ ସଂଗ୍ରହ କରୁଛନ୍ତି। ଅନିର୍ଦ୍ଧିଷ୍ଟ ଏହା ଉଦ୍ଦିଷ୍ଟ। ଏହା ପ୍ରକୃତିର ଉପାଦାନ ସୃଷ୍ଟିକରିବାରେ ଶ୍ରମର ଚିତ୍ର 19 ଶତାବ୍ଦୀର ଏକ କଳାଶୂନ୍ୟ ଏକ ଗୋପାଳକ ଚିତ୍ରଣ। ଶିଳ୍ପୀ ଏକ ବିରାଟ ଅଘାତର ପଥରକୁ ସୂତ୍ର କରିବାର ଚରଣ ଶାରୀରିକ ପ୍ରୟାସକୁ ଚିତ୍ରଣ କରିଛନ୍ତି। ମାନବ ଚିତ୍ର ଗୁଡ଼ିକ ଏଠାରେ ଉପରେ ସଂଗଠିତ ହୋଇଛି ଯାହା ଶ୍ରମ ଚିତ୍ରରେ ଏକ ନିର୍ଦ୍ଧିଷ୍ଟ କ୍ଷଣର କାରଣ ଦର୍ଶନମାନେ ଏହାକୁ ସବୁ ବିଷୟ ଦେଖିବା ପାଇଁ ଦର୍ଶକଙ୍କୁ ଆକର୍ଷିତ କରନ୍ତି।



Mention the style of artwork which the sculptor used.

1. ମଡର୍ଣ୍ଣ ଆର୍ଟ
2. ଅବଶ୍ଟାୟ ଆର୍ଟ
3. ରପ ଆର୍ଟ
4. ଗୋଟ କପା

Options :

- 485584144653. 1
- 485584144654. 2
- 485584144655. 3
- 485584144656. 4


Question Number : 229 Question Id : 48558436164 Question Type : MCQ Option Shuffling : No Is Question Mandatory : No Calculator : None Response Time : N.A Think Time : N.A Minimum Instruction Time : 0

Correct Marks : 5 Wrong Marks : 1

Question Key Details :

Key	Value
Comprehension	Compl

ਇਹ ਮੁਰਤੀ 1959 ਵਿੱਚ ਤਿਆਰ ਕੀਤੀ ਗਈ। ਇਸ ਵਿੱਚ ਚਾਰ ਆਦਮੀ ਇੱਕ ਚਟਾਨ ਨੂੰ ਹਿਲਾਉਣ ਦੀ ਕੋਸ਼ਿਸ਼ ਕਰਦੇ ਦਿਖਾਈ ਦੇ ਰਹੇ ਹਨ, ਰਾਸ਼ਟਰੀ ਨਿਰਮਾਣ ਵਿੱਚ ਮਹੱਤਤਾ ਅਤੇ ਯੋਗਦਾਨ ਦੀ ਪੇਸ਼ਕਾਰੀ ਹੈ। ਅਜਿਹੇ ਆਦਮੀ ਕੁੜੀਆਂ ਵਾਂਗ ਅਣਖੋਂ ਅਤੇ ਤਾਕਤਵਰ ਦੋਹਾਂ ਨਾਲ ਕੁਦਰਤ ਨਾਲ ਕੁਸ਼ਲੀ ਕਰ ਰਹੇ ਹਨ। ਇਹ ਕੁਦਰਤ ਦੇ ਤੱਤਾਂ ਦੇ ਵਿਰੁੱਧ ਕਿਰਤ ਦਾ ਚਿੰਤਰ ਹੈ, ਇਹ 19ਵੀਂ ਸਦੀ ਦਾ ਇੱਕ ਮੁਲਕੀ ਰੋਮੈਂਟਿਕ ਵਿਸ਼ਾ ਹੈ। ਮੁਰਤੀਕਾਰ ਨੇ ਇੱਕ ਵਿਚਲ, ਅਚੱਲ ਚਟਾਨ ਨੂੰ ਰਟਾਉਣ ਦੇ ਅਤਿਅੰਤ ਸਰੀਰਿਕ ਯਤਨ ਨੂੰ ਦਰਸਾਇਆ ਹੈ। ਮਨੁੱਖੀ ਚਿੰਤਰ ਨੂੰ ਇਸ ਤਰੀਕੇ ਨਾਲ ਸੰਬੰਧਿਤ ਕੀਤਾ ਜਾਂਦਾ ਹੈ ਜੋ ਸਾਡੇ ਵਿੱਚ ਇੱਕ ਉਤਸੁਕਤਾ ਪੈਦਾ ਕਰਦਾ ਅਤੇ ਦਰਸਕਾਂ ਨੂੰ ਹੋਰ ਪਾਸਿਉਂ ਦੇਖਣ ਲਈ ਆਕਰਸ਼ਿਤ ਕਰਦੇ ਹਨ।



ਮੁਰਤੀਕਾਰ ਦੁਆਰਾ ਕਲਾਕਾਰੀ ਦੀ ਵਰਤੀ ਗਈ ਸ਼ੈਲੀ ਦਰਸਾਉਂਦੀ ਹੈ:

1. ਆਧੁਨਿਕ ਕਲਾ
2. ਸਰ ਕਲਾ
3. ਪੇਪ ਕਲਾ
4. ਲੋਕ ਕਲਾ

Options :

485584144653. 1
 485584144654. 2
 485584144655. 3
 485584144656. 4

Question Number : 229 Question Id : 48558436164 Question Type : MCQ Option Shuffling : No Is Question Mandatory : No Calculator : None
 Response Time : N.A Think Time : N.A Minimum Instruction Time : 0

Correct Marks : 5 Wrong Marks : 1

Question Key Details :

Key	Value
Comprehension	Comp1



இந்தச் சிற்பி பயன்படுத்தி இருக்கும் கலை வேலையின் பாணியைக் குறிப்பிடுக:

1. நவீன கலை
2. அருவருவக் கலை
3. பாப் கலை
4. நாட்டுப்புறகலை

Options :

485584144653. 1
485584144654. 2
485584144655. 3
485584144656. 4

Question Number : 229 Question Id : 48558436164 Question Type : MCQ Option Shuffling : No Is Question Mandatory : No Calculator : None Response Time : N.A Think Time : N.A Minimum Instruction Time : 0

Correct Marks : 5 Wrong Marks : 1

Question Key Details :

Key	Value
Comprehension	Comp1

فن پارہ کے اس انداز کا ذکر کریں جو مجسمہ ساز نے استعمال کیا ہے ؟

1. موثرن آرٹ
2. تجریدی آرٹ
3. پوب آرٹ
4. ٹوکن فن

Options :

485584144653. 1
485584144654. 2
485584144655. 3
485584144656. 4

Question Number : 230 Question Id : 48558436165 Question Type : MCQ Option Shuffling : No Is Question Mandatory : No Calculator : None Response Time : N.A Think Time : N.A Minimum Instruction Time : 0

Correct Marks : 5 Wrong Marks : 1

Question Key Details :

Key	Value
Comprehension	Compl

Observe the image and answer the following question.



Identify the name of this contemporary sculpture.

1. Santhal Family
2. Triumph of Labour
3. Cries un- Heard
4. Ganesha

Options :

485584144657. 1
485584144658. 2
485584144659. 3
485584144660. 4

Question Number : 230 Question Id : 48558436165 Question Type : MCQ Option Shuffling : No Is Question Mandatory : No Calculator : None Response Time : N.A Think Time : N.A Minimum Instruction Time : 0

Correct Marks : 5 Wrong Marks : 1

Question Key Details :

Key	Value
Comprehension	Compl

नीचे आकृति देखकर निम्न प्रश्न का उत्तर दीजिए:



इस समकालीन मूर्तिकला के नाम को पहचानिए:

1. संधाल परिवार
2. श्रम की विजय
3. क्राईस अन-हर्ड
4. गणेश

Options :

485584144657. 1
485584144658. 2
485584144659. 3
485584144660. 4

Question Number : 230 Question Id : 48558436165 Question Type : MCQ Option Shuffling : No Is Question Mandatory : No Calculator : None Response Time : N.A Think Time : N.A Minimum Instruction Time : 0

Correct Marks : 5 Wrong Marks : 1

Question Key Details :

Key	Value
Comprehension	Comp1

এই ছবি খন ভালদৰে নক্সা কৰা আৰু তলত দিয়া প্ৰশ্নৰ উত্তৰ দিয়া ।



সমসাময়িক স্থাপত্যৰ নামটো কি ?

1. সস্থান পৰিয়াল
2. ট্ৰিফ্ অফ্ লেবৰ
3. ক্ৰাইচ্ -উন্- হাৰ্ড
4. গণেশ

Options :

485584144657. 1
 485584144658. 2
 485584144659. 3
 485584144660. 4

Question Number : 230 Question Id : 48558436165 Question Type : MCQ Option Shuffling : No Is Question Mandatory : No Calculator : None
 Response Time : N.A Think Time : N.A Minimum Instruction Time : 0

Correct Marks : 5 Wrong Marks : 1

Question Key Details :

Key	Value
Comprehension	Comp1

নীচের অনুচ্ছেদটি পড়। চিত্রটি ভাল করে লক্ষ্য করে প্রশ্নের উত্তর দাও-
 এটি একটি স্থাপত্য যেটি ১৮৫৯-এ খোদাই করা হয়েছিল। এটাতে দেখা যাচ্ছে চারজন মানুষ একটা প্রভুর খসুকে সরাবার চেষ্টা করছে। একটা রাষ্ট্র গড়ে তোলার জন্য মানুষের শ্রমের মূল্য ও প্রয়োজনীয়তাকে বোঝানো হয়েছে। অদমা পুরুষেরা প্রকৃতির সাথে মিলনযুদ্ধ করছে। একটা সর্বজনবিদিত রোমান্টিক বিষয় উনিশ শতকের এই স্থাপত্যে বর্ণিত হয়েছে। একটা কার্যিকশ্রমের চরম নিদর্শন যা একটা অনড়, বৃহৎ, অনমনীয়, অনড় প্রভুর খসুকে সরাতে চাইছে। মানব শরীরের এমন নিখুঁত ভাজ সৃষ্টি করা হয়েছে যাতে দর্শকরা সবদিক থেকে স্থাপত্যটি খুঁটিয়ে দেখতে আগ্রহী হয়।



সমসাময়িক স্থাপত্যের নাম হল -

1. সাপ্তাহিক ফ্যামিলি / পরিবার
2. শ্রমের জয়/ সাফল্য
3. অশ্রুত কান্না (অদেখা চোখের জল)
4. গণেশা / জ্ঞানেশা

Options :

485584144657. 1
 485584144658. 2
 485584144659. 3
 485584144660. 4

Question Number : 230 Question Id : 48558436165 Question Type : MCQ Option Shuffling : No Is Question Mandatory : No Calculator : None
 Response Time : N.A Think Time : N.A Minimum Instruction Time : 0

Correct Marks : 5 Wrong Marks : 1

Question Key Details :

Key	Value
Comprehension	Comp1

નીચે આપેલા ફકરાને વાંચીને, આકૃતિ જોઈ આપેલા પ્રશ્નોના જવાબ આપો.

આ એ શિલ્પ છે, જે 1959 માં બનાવવામાં આવ્યું હતું. તે બતાવે છે કે ચાર માણસો એક બંધકને બસેડવાનો પ્રયાસ કરી રહ્યા છે. જે રાષ્ટ્ર નિર્માણમાં માનવ શ્રમના મહત્વ અને યોગદાનને રજૂ કરે છે. અજેય માણસો કુદરત સાથે કુસ્તી કરી રહ્યા છે. હઠીલા, અનિશ્ચિત અને શક્તિશાળી. તે કુદરતના તત્ત્વો સામે શ્રમની છબી છે જે ઓગણીસમી સદીની જાણીતો રોમેન્ટિક વિષય છે. શિલ્પકારો એક વિશાળ, સ્થાવર અડકને ગુમાવવાના આત્યંતિક શારીરિક પ્રયત્નોનું ચિત્રણ કર્યું છે. માનવ આકૃતિઓ એવી રીતે સ્થાપિત કરવામાં આવે છે જે આપણામાં જિજ્ઞાસા પેદા કરે છે. કારણ કે તે દર્શકોને વ્યારે બાજુથી જોવા માટે આકર્ષે છે.



સમકાલીન શિલ્પકૃતિનું નામ ઓળખો.

1. સંઘાવ પરિવાર
2. શ્રમની જીત
3. નહિ સંભળાયેલી ચીસ
4. ગણેશ

Options :

485584144657. 1
485584144658. 2
485584144659. 3
485584144660. 4


Question Number : 230 Question Id : 48558436165 Question Type : MCQ Option Shuffling : No Is Question Mandatory : No Calculator : None Response Time : N.A Think Time : N.A Minimum Instruction Time : 0

Correct Marks : 5 Wrong Marks : 1

Question Key Details :

Key	Value
Comprehension	Comp1

ಕೆಳಗಿನ ವಾಕ್ಯಪುಂಜವನ್ನು ಓದಿ ಮತ್ತು ಚಿತ್ರವನ್ನು ವೀಕ್ಷಿಸಿ ಮತ್ತು ಕೆಳಗಿನ ಪ್ರಶ್ನೆಗಳನ್ನು ಉತ್ತರಿಸಿ.



ಸಮಕಾಲೀನ ಶಿಲ್ಪಕಲೆಯ ಹೆಸರನ್ನು ಗುರುತಿಸಿ.

1. ಸಂಧಾಲಾ ಕುಟುಂಬ
2. ಕಾರ್ಮಿಕರ ದಿಗ್ವಿಜಯ
3. ಕೆಳಗಿನದ ಕೂಗು
4. ಗಣೇಶ

Options :

485584144657. 1
485584144658. 2
485584144659. 3
485584144660. 4

Question Number : 230 Question Id : 48558436165 Question Type : MCQ Option Shuffling : No Is Question Mandatory : No Calculator : None Response Time : N.A Think Time : N.A Minimum Instruction Time : 0

Correct Marks : 5 Wrong Marks : 1

Question Key Details :

Key	Value
Comprehension	Compl



സമകാലിക ശില്പകലാ രീതി ഏതെന്ന് കണ്ടെത്തുക :

1. സാന്താൾ കുടുംബം
2. അധ്വാനത്തിന്റെ വിജയം
3. കേൾക്കാത്ത വിലാപങ്ങൾ
4. ഗമേശ

Options :

- 485584144657. 1
- 485584144658. 2
- 485584144659. 3
- 485584144660. 4

Question Number : 230 Question Id : 48558436165 Question Type : MCQ Option Shuffling : No Is Question Mandatory : No Calculator : None Response Time : N.A Think Time : N.A Minimum Instruction Time : 0

Correct Marks : 5 Wrong Marks : 1

Question Key Details :

Key	Value
Comprehension	Compl

पुढील उतारा व हे प्रतिमा पाहून प्रश्नांची उत्तरे लिहा.

1959 मध्ये बनवलेल्या या शिल्पात चार आकृत्या ओढण्याने मोठा खडक हलवण्याचा प्रयत्न करत असताना अडळतात. राष्ट्र उभारणीत मानवी श्रमाचे महत्व प्रतिबिंबित होताना व त्या श्रमाचे योगदान असल्याचे दिसते. मनुष्य अजिंक्य निसर्गाच्या शक्तकाठील एक प्रसिद्ध रोमांचकारी विषय मांडला आहे. शिल्पकाराने मोठ्या प्रमाणात अचल खडक सैल करण्याचा प्रयत्न दाखवला आहे. मानवी आकृत्या अश्या प्रकारे स्थित केल्या आहेत ज्यामुळे दर्शकांचे कुतुहल जागृत होऊन तो सर्व बाजूने शिल्प पाहण्यासाठी प्रवृत्त होतो.



समकालिन शिल्पाचे नाव ओळखा

1. संथाल कुदुंब
2. ट्रायफ ऑफ केबर (श्रमाचा विजय)
3. क्राइल अनहर्ल
4. गणेशा

Options :

485584144657. 1
485584144658. 2
485584144659. 3
485584144660. 4

Question Number : 230 Question Id : 48558436165 Question Type : MCQ Option Shuffling : No Is Question Mandatory : No Calculator : None Response Time : N.A Think Time : N.A Minimum Instruction Time : 0


Correct Marks : 5 Wrong Marks : 1

Question Key Details :

Key	Value
Comprehension	Comp1

ବିପ୍ଳାବକର୍ତ୍ତାଙ୍କ ପ୍ରତ୍ନୋଦ୍ଧାରଣ ପଦକ୍ଷେପକୁ ଏବଂ ଦୁର୍ଗାଙ୍କୁ ଦେଖି ନିମ୍ନ ଉତ୍ତର ଦିଅନ୍ତୁ

ଏହି ମୂର୍ତ୍ତି 1959ରେ ଗଢ଼ା ହୋଇଥିଲା, ଏହା ଚାରୋଟି ପୁରୁଷଙ୍କୁ ଏକ ପଥର ଚକାଳିବାକୁ ଦେଖା କରୁଥିବା ଦେଖାଏ, ଗାଈ ଗାଈନୀରେ ମାନବ ଶ୍ରମର ଗୁରୁତ୍ୱ ଏବଂ ଅବଦାନକୁ ଦର୍ଶାଏ। ଅବିଷକଣ୍ଠାୟ ପୁରୁଷମାନେ ପ୍ରକୃତି ବହିତ ସଂଗ୍ରହ କରୁଛନ୍ତି। ଅନିର୍ଦ୍ଦିଷ୍ଟ ଏବଂ ଉଦ୍ଦିଷ୍ଟ। ଏହା ପ୍ରକୃତିର ଉପାଦାନ ସୃଷ୍ଟିକରିଥିବା ଶ୍ରମର ଚିତ୍ର 19 ଶତାବ୍ଦୀର ଏକ କଳାଶୂନ୍ୟ ଏକ ଗୋପାଳକ ଚିତ୍ରଣ। ଶିଳ୍ପୀ ଏକ ବିରାଟ ଅସାଧାରଣ ପଥରକୁ ସୂତ୍ର କରିବାକୁ ଚଳଣ ଶାରୀରିକ ପ୍ରୟାସକୁ ଚିତ୍ରଣ କରିଛନ୍ତି। ମାନବ ଚିତ୍ର ଗୁଡ଼ିକ ଏଠାରେ ଉପରେ ସଂଗଠିତ ହୋଇଛି ଯାହା ଆମ ଭିତରେ ଏକ କର୍କଶ ବୃକ୍ଷ ଜାଲ ଲାଗଣ ଦର୍ଶନମାନେ ଏହାକୁ ସବୁ ବିଷୟ ଦେଖିବା ପାଇଁ ଦର୍ଶକଙ୍କୁ ଆକର୍ଷିତ କରନ୍ତି।



Identify the name of the contemporary sculpture.

1. ସାମାଜ ପରିବାର
2. ଗୁଣାଳୀ ଅଫ ଲେବର
3. ବ୍ରାହ୍ମଣ ଅନ-ହର୍ଡ
4. ବସୋଣ

Options :

- 485584144657. 1
- 485584144658. 2
- 485584144659. 3
- 485584144660. 4


Question Number : 230 Question Id : 48558436165 Question Type : MCQ Option Shuffling : No Is Question Mandatory : No Calculator : None Response Time : N.A Think Time : N.A Minimum Instruction Time : 0

Correct Marks : 5 Wrong Marks : 1

Question Key Details :

Key	Value
Comprehension	Compl

ਇਹ ਮੂਰਤੀ 1959 ਵਿੱਚ ਤਰਾਸ਼ੀ ਗਈ। ਇਸ ਵਿੱਚ ਚਾਰ ਆਦਮੀ ਇੱਕ ਚਟਾਨ ਨੂੰ ਹਿਲਾਉਣ ਦੀ ਕੋਸ਼ਿਸ਼ ਕਰਦੇ ਦਿਖਾਈ ਦੇ ਰਹੇ ਹਨ, ਰਾਸ਼ਟਰੀ ਨਿਰਮਾਣ ਵਿੱਚ ਮਹੱਤਤਾ ਅਤੇ ਯੋਗਦਾਨ ਦੀ ਪੇਸ਼ਕਾਰੀ ਹੈ। ਅਜਿਹੇ ਆਦਮੀ ਕੁੜੀਆਂ ਵਾਂਗੂ ਅਣਬੰਕ ਅਤੇ ਤਾਕਤਵਰ ਦੋਗ ਨਾਲ ਕੁਦਰਤ ਨਾਲ ਕੁਸ਼ਲੀ ਕਰ ਰਹੇ ਹਨ। ਇਹ ਕੁਦਰਤ ਦੇ ਭੱਤਾਂ ਦੇ ਵਿਰੁੱਧ ਕਿਰਤੂ ਦਾ ਚਿੰਤਰ ਹੈ, ਇਹ 19ਵੀਂ ਸਦੀ ਦਾ ਇੱਕ ਮੁਲਕਰੂ ਰੋਮੈਂਟਿਕ ਵਿਸ਼ਾ ਹੈ। ਮੂਰਤੀਕਾਰ ਨੇ ਇੱਕ ਵਿਚਲ, ਅਚੱਲ ਚਟਾਨ ਨੂੰ ਰਟਾਉਣ ਦੇ ਅਤਿਅੰਤ ਸਰੀਰਿਕ ਯਤਨ ਨੂੰ ਦਰਸਾਇਆ ਹੈ। ਮਨੁੱਖੀ ਚਿੰਤਰੂ ਨੇ ਇਸ ਭਰੀਕੇ ਨਾਲ ਸੰਬੰਧਿਤ ਕੀਤਾ ਜਾਂਦਾ ਹੈ ਜੋ ਸਾਡੇ ਵਿੱਚ ਇੱਕ ਉਤਸੁਕਤਾ ਪੈਦਾ ਕਰਦਾ ਅਹਿਅਤੇ ਦਰਸਕਾਂ ਨੂੰ ਹੋਰ ਪਾਸਿਉਂ ਦੇਖਣ ਲਈ ਆਕਰਸ਼ਿਤ ਕਰਦੇ ਹਨ।



ਸਮਕਾਲੀ ਮੂਰਤੀ ਦਾ ਨਾਮ ਪਛਾਣੋ!

1. ਸੰਬਲ ਪਰਿਵਾਰ
2. ਕਿਰਤ ਦੀ ਜਿੱਤ
3. ਰੋਣਾ ਅਨ ਸੁਣਿਆ
4. ਗਣੇਸ਼

Options :

485584144657. 1
 485584144658. 2
 485584144659. 3
 485584144660. 4

Question Number : 230 Question Id : 48558436165 Question Type : MCQ Option Shuffling : No Is Question Mandatory : No Calculator : None
 Response Time : N.A Think Time : N.A Minimum Instruction Time : 0

Correct Marks : 5 Wrong Marks : 1

Question Key Details :

Key	Value
Comprehension	Comp1



இந்த சமகால சிற்பத்தின் பெயரைக் கண்டறிக:

1. சாந்தளம் குடும்பம்
2. ட்ரியக் ஆஃப் லேபர்
3. க்ரைஸ் அன்-ஹியர்டு
4. கனேஷா

Options :

485584144657. 1
485584144658. 2
485584144659. 3
485584144660. 4

Question Number : 230 Question Id : 48558436165 Question Type : MCQ Option Shuffling : No Is Question Mandatory : No Calculator : None Response Time : N.A Think Time : N.A Minimum Instruction Time : 0

Correct Marks : 5 Wrong Marks : 1

Question Key Details :

Key	Value
Comprehension	Comp1

1. سنتیال خاندان
2. محنت کی فتح
3. گرانیس ان پینٹرز
4. گنیشا

Options :

485584144657. 1
485584144658. 2
485584144659. 3
485584144660. 4

Sub-Section Number : 3
Sub-Section Id : 4855842680
Question Shuffling Allowed : No
Is Section Default? : null

Question Number : 231 **Question Id :** 48558436166 **Question Type :** MCQ **Option Shuffling :** No **Is Question Mandatory :** No **Calculator :** None
Response Time : N.A **Think Time :** N.A **Minimum Instruction Time :** 0

Correct Marks : 5 **Wrong Marks :** 1

Question Key Details :

Key	Value
Comprehension	Comp2

Observe the image and answer the following question.



Identify the title of the painting.

1. Maru Ragini
2. Ragini Pathamsika
3. Bani-Thani
4. Radhika

Options :

485584144661. 1

485584144662. 2
485584144663. 3
485584144664. 4

Question Number : 231 Question Id : 48558436166 Question Type : MCQ Option Shuffling : No Is Question Mandatory : No Calculator : None
Response Time : N.A Think Time : N.A Minimum Instruction Time : 0

Correct Marks : 5 Wrong Marks : 1

Question Key Details :

Key	Value
Comprehension	Comp2

चित्र को देखकर निम्न प्रश्न का उत्तर दीजिए:



चित्र के शीर्षक को पहचानिए:

1. मारू रागिनी
2. रागिनी पथमशिका
3. बनी-ठनी
4. राशिका

Options :

485584144661. 1
485584144662. 2
485584144663. 3
485584144664. 4

Question Number : 231 Question Id : 48558436166 Question Type : MCQ Option Shuffling : No Is Question Mandatory : No Calculator : None
Response Time : N.A Think Time : N.A Minimum Instruction Time : 0

Correct Marks : 5 Wrong Marks : 1

Question Key Details :

Key	Value
Comprehension	Comp2



চিত্রশিল্পখন চিনাক্ত কৰা

1. মাকৰ বাগিনী
2. বাগিনী পঞ্চমটিকা
3. বানী থানী
4. বাধিকা

Options :

485584144661. 1
485584144662. 2
485584144663. 3
485584144664. 4

Question Number : 231 Question Id : 48558436166 Question Type : MCQ Option Shuffling : No Is Question Mandatory : No Calculator : None Response Time : N.A Think Time : N.A Minimum Instruction Time : 0

Correct Marks : 5 Wrong Marks : 1

Question Key Details :

Key	Value
Comprehension	Comp2

চিত্রটি লক্ষ্য করে প্রশ্নের উত্তর দাও -



চিত্র বা পেন্টিংটির শিরোনাম হল

1. মরুগাপিনী
2. রাগিনী প্রথমশিক্ষা
3. বানী-খানী
4. রাধিকা

Options :

485584144661. 1
485584144662. 2
485584144663. 3
485584144664. 4

Question Number : 231 Question Id : 48558436166 Question Type : MCQ Option Shuffling : No Is Question Mandatory : No Calculator : None
Response Time : N.A Think Time : N.A Minimum Instruction Time : 0

Correct Marks : 5 Wrong Marks : 1

Question Key Details :

Key	Value
Comprehension	Comp2

આપેલ ચિત્રને ઓળખી નીચેના પ્રશ્નનો જવાબ આપો.



પેઇન્ટિંગના શિર્ષકને ઓળખો.

1. મારુ રાગીની
2. રાગીની પથમશીકા
3. ધ્વની - થની
4. રાધિકા

Options :

485584144661. 1
485584144662. 2
485584144663. 3
485584144664. 4

Question Number : 231 Question Id : 48558436166 Question Type : MCQ Option Shuffling : No Is Question Mandatory : No Calculator : None Response Time : N.A Think Time : N.A Minimum Instruction Time : 0

Correct Marks : 5 Wrong Marks : 1

Question Key Details :

Key	Value
Comprehension	Comp2

ಬೆತ್ತವನ್ನು ವೀಕ್ಷಿಸಿ ಮತ್ತು ಕೆಳಗಿನ ಪ್ರಶ್ನೆಯನ್ನು ಉತ್ತರಿಸಿ:



ಬೆತ್ತಕಲೆಯ ಶೀರ್ಷಿಕೆಯನ್ನು ಗುರುತಿಸಿ.

1. ಮೂರು ರಾಗಣಿ
2. ರಾಗಣಿ ಪಠ್ಯವಿಷಯ
3. ಬಾನಿ-ತಾನಿ
4. ರಾಧಿಕ

Options :

485584144661. 1
485584144662. 2
485584144663. 3
485584144664. 4

Question Number : 231 Question Id : 48558436166 Question Type : MCQ Option Shuffling : No Is Question Mandatory : No Calculator : None Response Time : N.A Think Time : N.A Minimum Instruction Time : 0

Correct Marks : 5 Wrong Marks : 1

Question Key Details :

Key	Value
Comprehension	Comp2

ചിത്രം വീക്ഷിച്ച്, താഴെ നൽകിയിരിക്കുന്ന ചോദ്യങ്ങൾക്ക് ഉത്തരം എഴുതുക :



ഈ ചിത്രത്തിന്റെ പേര് എന്ത് ?

1. മാതൃ രാഗിണി
2. രാഗിണി പാതാശിക
3. ബാനി-താനി
4. രാധിക

Options :

485584144661. 1
485584144662. 2
485584144663. 3
485584144664. 4

Question Number : 231 Question Id : 48558436166 Question Type : MCQ Option Shuffling : No Is Question Mandatory : No Calculator : None
Response Time : N.A Think Time : N.A Minimum Instruction Time : 0

Correct Marks : 5 Wrong Marks : 1

Question Key Details :

Key	Value
Comprehension	Comp2

वरिल प्रतिमा पाहून प्रश्नाचे उत्तर शोधा.



या चित्रा चे शिर्षक ओळखा.

1. मारु रागिणी
2. रागिणी पधमशिका
3. बानी-धानी
4. राधिका

Options :

485584144661. 1
485584144662. 2
485584144663. 3
485584144664. 4

Question Number : 231 Question Id : 48558436166 Question Type : MCQ Option Shuffling : No Is Question Mandatory : No Calculator : None Response Time : N.A Think Time : N.A Minimum Instruction Time : 0

Correct Marks : 5 Wrong Marks : 1

Question Key Details :

Key	Value
Comprehension	Comp2

ଦିଗ୍‌ଗମ୍ଭୀର ଦେଖି ନିମ୍ନୋକ୍ତ ପ୍ରଶ୍ନର ଉତ୍ତର ଦିଅନ୍ତୁ ।



ପୁରୀର ଦିଗ୍‌ଗମ୍ଭୀର ଦେଖି ନିମ୍ନ ପ୍ରଶ୍ନର ଉତ୍ତର ଦିଅନ୍ତୁ।

1. ମାତୁ ଉଦିଶା
2. ଭାଗିନୀ ଦାମନିକା
3. ରାଜା-ସାଜା
4. ରାଧିକା

Options :

- 485584144661. 1
- 485584144662. 2
- 485584144663. 3
- 485584144664. 4

Question Number : 231 Question Id : 48558436166 Question Type : MCQ Option Shuffling : No Is Question Mandatory : No Calculator : None Response Time : N.A Think Time : N.A Minimum Instruction Time : 0

Correct Marks : 5 Wrong Marks : 1

Question Key Details :

Key	Value
Comprehension	Comp2



ਪ੍ਰਤੀਬਿੰਬ ਦਾ ਵਿਸ਼ਲੇਸ਼ਣ ਕਰੋ ਅਤੇ ਪ੍ਰਸ਼ਨਾਂ ਦੇ ਉੱਤਰ ਦਿਉ. ਚਿੱਤਰ ਦਾ ਸਿਰਲੇਖ ਪਛਾਣੋ?

1. ਮਾਰੂ ਰਾਗਿਨੀ
2. ਰਾਗਿਨੀ ਖਾਰਮਸਿਕਾ
3. ਥਾਲੀ-ਠਾਲੀ
4. ਰਾਧਿਕਾ

Options :

- 485584144661. 1
- 485584144662. 2
- 485584144663. 3
- 485584144664. 4

Question Number : 231 Question Id : 48558436166 Question Type : MCQ Option Shuffling : No Is Question Mandatory : No Calculator : None Response Time : N.A Think Time : N.A Minimum Instruction Time : 0

Correct Marks : 5 Wrong Marks : 1

Question Key Details :

Key	Value
Comprehension	Comp2

படத்தை கவனித்து பின்வரும் வினாக்களுக்கு விடையளி:



இந்த ஓவியத்தின் தலைப்பைக் கண்டறிக.

1. மறு ராகினி
2. ராகினி பதாம்ஷிகா
3. பாணி-தானி
4. ராதிகா

Options :

485584144661. 1
485584144662. 2
485584144663. 3
485584144664. 4

Question Number : 231 Question Id : 48558436166 Question Type : MCQ Option Shuffling : No Is Question Mandatory : No Calculator : None
Response Time : N.A Think Time : N.A Minimum Instruction Time : 0

Correct Marks : 5 Wrong Marks : 1

Question Key Details :

Key	Value
Comprehension	Comp2

చిత్రాన్ని గమనిస్తూ క్రింది ప్రశ్నకు సమాధానం రాయండి.



చిత్రలేఖనం యొక్క పేరు గుర్తించండి

1. మరు రాగిణి
2. రాగిణి పతాంసిక
3. బని తని
4. రాధిక

Options :

485584144661. 1
485584144662. 2
485584144663. 3
485584144664. 4

Question Number : 231 Question Id : 48558436166 Question Type : MCQ Option Shuffling : No Is Question Mandatory : No Calculator : None
Response Time : N.A Think Time : N.A Minimum Instruction Time : 0

Correct Marks : 5 Wrong Marks : 1

Question Key Details :

Key	Value
Comprehension	Comp2

تصویر کا مشاہدہ کریں اور مندرجہ ذیل سوالات کا جوابات لیں :

پینٹنگ کے عنوان کی شناخت کریں ؟

1. مازو راگنی
2. راگنی پتھ سیکا
3. بنی تہلی
4. راڈھیکا

Options :

485584144661. 1
485584144662. 2
485584144663. 3
485584144664. 4

Question Number : 232 Question Id : 48558436167 Question Type : MCQ Option Shuffling : No Is Question Mandatory : No Calculator : None
Response Time : N.A Think Time : N.A Minimum Instruction Time : 0

Correct Marks : 5 Wrong Marks : 1

Question Key Details :

Key	Value
Comprehension	Comp2

Observe the image and answer the following question.



Among the following Museums where this particular painting has been preserved.

1. National Gallery of Modern Art, New Delhi
2. Bihar Museum, Patna
3. National Museum, New Delhi
4. Kala Bhawan, Kolkata

Options :

485584144665. 1
485584144666. 2
485584144667. 3
485584144668. 4

Question Number : 232 Question Id : 48558436167 Question Type : MCQ Option Shuffling : No Is Question Mandatory : No Calculator : None
Response Time : N.A Think Time : N.A Minimum Instruction Time : 0

Correct Marks : 5 Wrong Marks : 1

Question Key Details :

Key	Value
Comprehension	Comp2

चित्र को देखकर निम्न प्रश्न का उत्तर दीजिए:



निम्न में से किस संग्रहालय में यह विशेष चित्र संरक्षित किया गया है?

1. आधुनिक कला की राष्ट्रीय कला दीर्घ, नई दिल्ली
2. बिहार संग्रहालय, पटना
3. राष्ट्रीय संग्रहालय, नई दिल्ली
4. कला भवन, कोलकाता

Options :

485584144665. 1
485584144666. 2
485584144667. 3
485584144668. 4

Question Number : 232 Question Id : 48558436167 Question Type : MCQ Option Shuffling : No Is Question Mandatory : No Calculator : None Response Time : N.A Think Time : N.A Minimum Instruction Time : 0

Correct Marks : 5 Wrong Marks : 1

Question Key Details :

Key	Value
Comprehension	Comp2



তলৰ কোনটো সংগ্ৰহালয়ত এই চিত্ৰশিল্পখন আছে ?

1. নেচনেল গেলৰী অফ মডাৰ্ন আৰ্ট, নতুন দিল্লী
2. বিহাৰ মিউজিয়াম, পাটনা
3. নেচনেল মিউজিয়াম, নতুন দিল্লী
4. বঙ্গলা ভৱন, কলকাতা

Options :

485584144665. 1
485584144666. 2
485584144667. 3
485584144668. 4

Question Number : 232 Question Id : 48558436167 Question Type : MCQ Option Shuffling : No Is Question Mandatory : No Calculator : None
Response Time : N.A Think Time : N.A Minimum Instruction Time : 0

Correct Marks : 5 Wrong Marks : 1

Question Key Details :

Key	Value
Comprehension	Comp2

চিত্রটি লক্ষ্য করে প্রশ্নের উত্তর দাও -



নিম্নলিখিত যাদুঘরগুলির কোনটিতে এই চিত্রটি সংরক্ষিত আছে -

1. ন্যাশনাল গ্যালারি অফ মডার্ন আর্ট, নিউ দিল্লী
2. বিহার মিউজিয়াম, পাটনা
3. ন্যাশনাল মিউজিয়াম, নতুন দিল্লী
4. কলাসভবন, কলকাতা

Options :

485584144665. 1
485584144666. 2
485584144667. 3
485584144668. 4

Question Number : 232 Question Id : 48558436167 Question Type : MCQ Option Shuffling : No Is Question Mandatory : No Calculator : None
Response Time : N.A Think Time : N.A Minimum Instruction Time : 0

Correct Marks : 5 Wrong Marks : 1

Question Key Details :

Key	Value
Comprehension	Comp2

આપેલ ચિત્રને ઓળખી નીચેના પ્રશ્નનો જવાબ આપો.



નીચે આપેલા મ્યુઝિયમમાંથી કયા મ્યુઝિયમમાં આ પેઇન્ટિંગને સચવી રાખવામાં આવેલ છે ?

1. નેશનલ ઝેલેરી ઓફ મોડર્ન આર્ટ, નવી દિલ્હી
2. બિહાર મ્યુઝિયમ, પટના
3. નેશનલ મ્યુઝિયમ, નવી દિલ્હી
4. ક્વાલિયન, કોલકટા

Options :

485584144665. 1
485584144666. 2
485584144667. 3
485584144668. 4

Question Number : 232 Question Id : 48558436167 Question Type : MCQ Option Shuffling : No Is Question Mandatory : No Calculator : None Response Time : N.A Think Time : N.A Minimum Instruction Time : 0

Correct Marks : 5 Wrong Marks : 1

Question Key Details :

Key	Value
Comprehension	Comp2

ಚಿತ್ರವನ್ನು ವೀಕ್ಷಿಸಿ ಮತ್ತು ಕೆಳಗಿನ ಪ್ರಶ್ನೆಯನ್ನು ಉತ್ತರಿಸಿ:



ಈ ನಿರ್ದಿಷ್ಟ ಚಿತ್ರಕಲೆಯನ್ನು ಕೆಳಗಿನ ಮ್ಯೂಸಿಯಂಗಳಲ್ಲಿ ಎಲ್ಲಿ ಸಂರಕ್ಷಿಸಿಡಲಾಗಿದೆ?

1. ನ್ಯಾಷನಲ್ ಗ್ಯಾಲರಿ ಆಫ್ ಮಾಡರ್ನ್ ಆರ್ಟ್, ನವದೆಹಲಿ
2. ಬಿಹಾರ್ ಮ್ಯೂಸಿಯಂ, ಪಟ್ನಾ
3. ನ್ಯಾಷನಲ್ ಮ್ಯೂಸಿಯಂ, ನವದೆಹಲಿ
4. ಕಲಾ ಭವನ್, ಕೋಲ್ಕತಾ

Options :

485584144665. 1
485584144666. 2
485584144667. 3
485584144668. 4

Question Number : 232 Question Id : 48558436167 Question Type : MCQ Option Shuffling : No Is Question Mandatory : No Calculator : None Response Time : N.A Think Time : N.A Minimum Instruction Time : 0

Correct Marks : 5 Wrong Marks : 1

Question Key Details :

Key	Value
Comprehension	Comp2

ചിത്രം വീക്ഷിച്ച്, താഴെ നൽകിയിരിക്കുന്ന ചോദ്യങ്ങൾക്ക് ഉത്തരം എഴുതുക :



ഈ ചിത്രം സൂക്ഷിച്ചിരിക്കുന്നത് ഏത് മ്യൂസിയത്തിലാണ് :

1. നാഷണൽ ഗ്യാലറി ഓഫ് മോഡേൺ ആർട്ട്, ന്യൂഡൽഹി
2. ബീഹാർ മ്യൂസിയം, പാറ്റ്ന
3. നാഷണൽ മ്യൂസിയം, ന്യൂഡൽഹി
4. കലാഭവൻ, കോൽക്കത്ത

Options :

- 485584144665. 1
- 485584144666. 2
- 485584144667. 3
- 485584144668. 4

Question Number : 232 Question Id : 48558436167 Question Type : MCQ Option Shuffling : No Is Question Mandatory : No Calculator : None Response Time : N.A Think Time : N.A Minimum Instruction Time : 0

Correct Marks : 5 Wrong Marks : 1

Question Key Details :

Key	Value
Comprehension	Comp2

वरिल प्रतिमा पाहून प्रश्नाचे उत्तर शोधा.



कोणत्या वस्तू संग्राहलयात हे चित्र ठेवले आहे?

1. नवी दिल्ली येथील नॅशनल गॅलरी ऑफ मॉडर्न आर्ट
2. पटना येथील बिहार म्युझियम
3. नवी दिल्ली येथील नेशनल म्युझियम
4. कोलकाता येथील कला भवन

Options :

485584144665. 1
485584144666. 2
485584144667. 3
485584144668. 4

Question Number : 232 Question Id : 48558436167 Question Type : MCQ Option Shuffling : No Is Question Mandatory : No Calculator : None
Response Time : N.A Think Time : N.A Minimum Instruction Time : 0

Correct Marks : 5 Wrong Marks : 1

Question Key Details :

Key	Value
Comprehension	Comp2

ଦିଗୁଣକୁ ଦେଖି ନିମ୍ନୋକ୍ତ ପ୍ରଶ୍ନର ଉତ୍ତର ଦିଅନ୍ତୁ ।



ପୁଚ୍ଛିକାବିକୁ ଦେଖି ଏକ ନିମ୍ନ ପ୍ରଶ୍ନର ଉତ୍ତର ଦିଅନ୍ତୁ।

1. ନେଷନାଳ ରେଭେନ୍ସା ଷ୍ଟାଡ଼ ମହର୍ଷି ଆର୍ଟ, ମୁମ୍ବାଇ ବିଭା
2. ବିହାର ମୁଲଚିତ୍ରମ, ଉତ୍ତରାଖଣ୍ଡ
3. ନେଷନାଳ ମୁଲଚିତ୍ରମ, ମୁମ୍ବାଇ ବିଭା
4. ଚନ୍ଦ୍ରା ଉପେନ୍ଦ୍ର, କୋଲକାତା

Options :

- 485584144665. 1
- 485584144666. 2
- 485584144667. 3
- 485584144668. 4

Question Number : 232 Question Id : 48558436167 Question Type : MCQ Option Shuffling : No Is Question Mandatory : No Calculator : None Response Time : N.A Think Time : N.A Minimum Instruction Time : 0

Correct Marks : 5 Wrong Marks : 1

Question Key Details :

Key	Value
Comprehension	Comp2



ਇਹ ਖਾਸ ਪੇਂਟਿੰਗ ਜੇਠ ਲਿਖਿਆਂ ਵਿੱਚੋਂ ਕਿਸ ਅਜਾਇਬ ਘਰ ਵਿੱਚ ਸੁਰੱਖਿਅਤ ਰੱਖੀ ਗਈ ਹੈ?

1. ਆਧੁਨਿਕ ਕਲਾ ਦੀ ਰਾਸ਼ਟਰੀ ਗੈਲਰੀ, ਨਵੀਂ ਦਿੱਲੀ
2. ਬਿਹਾਰ ਅਜਾਇਬ ਘਰ, ਪਟਨਾ
3. ਰਾਸ਼ਟਰੀ ਅਜਾਇਬ ਘਰ, ਨਵੀਂ ਦਿੱਲੀ
4. ਕਲਾ ਭਵਨ, ਕਲਕੱਤਾ

Options :

485584144665. 1

485584144666. 2

485584144667. 3

485584144668. 4

Question Number : 232 Question Id : 48558436167 Question Type : MCQ Option Shuffling : No Is Question Mandatory : No Calculator : None Response Time : N.A Think Time : N.A Minimum Instruction Time : 0

Correct Marks : 5 Wrong Marks : 1

Question Key Details :

Key	Value
Comprehension	Comp2

படத்தை கவனித்து பின்வரும் வினாக்களுக்கு விடையளி:



பின்வரும் மியூசியங்களில், இந்த குறிப்பிட்ட ஓவியம் எங்கு பராமரிக்கப்பட்டு வருகிறது?

1. தேசிய நவீன கலைக்கூடம், புதுதில்லி
2. பிஹார் மியூசியம், பாட்னா
3. தேசிய மியூசியம், புதுதில்லி
4. கால பவம், கொல்கத்தா

Options :

485584144665. 1
485584144666. 2
485584144667. 3
485584144668. 4

Question Number : 232 Question Id : 48558436167 Question Type : MCQ Option Shuffling : No Is Question Mandatory : No Calculator : None
Response Time : N.A Think Time : N.A Minimum Instruction Time : 0

Correct Marks : 5 Wrong Marks : 1

Question Key Details :

Key	Value
Comprehension	Comp2

చిత్రాన్ని గమనిస్తూ క్రింది ప్రశ్నకు సమాధానం రాయండి.



ఈ ప్రత్యేక చిత్రాన్ని క్రింది ఏ మ్యూజియం లో భద్రపరచారు.

1. నేషనల్ గేలరీ ఆఫ్ మోడరన్ ఆర్ట్, న్యూఢిల్లీ
2. బిహార్ మ్యూజియం, పాట్నా
3. నేషనల్ మ్యూజియం, న్యూఢిల్లీ
4. కళా భవన్, కలకత్తా

Options :

485584144665. 1
485584144666. 2
485584144667. 3
485584144668. 4

Question Number : 232 Question Id : 48558436167 Question Type : MCQ Option Shuffling : No Is Question Mandatory : No Calculator : None
Response Time : N.A Think Time : N.A Minimum Instruction Time : 0

Correct Marks : 5 Wrong Marks : 1

Question Key Details :

Key	Value
Comprehension	Comp2

تصویر کا مشاہدہ کریں اور مندرجہ ذیل سوالات کا جوابات دیں :

کس میوزیم میں یہ مخصوص پینٹنگ رکھی گئی ہے ؟

1. نیشنل گیلری آف مڈرن آرٹ، نئی دہلی
2. بیار میوزیم، پٹنہ
3. نیشنل میوزیم، نئی دہلی
4. کالا بیون، کولکاتا

Options :

485584144665. 1
485584144666. 2
485584144667. 3
485584144668. 4

Question Number : 233 Question Id : 48558436168 Question Type : MCQ Option Shuffling : No Is Question Mandatory : No Calculator : None
Response Time : N.A Think Time : N.A Minimum Instruction Time : 0
Correct Marks : 5 Wrong Marks : 1

Question Key Details :

Key	Value
Comprehension	Comp2

Observe the image and answer the following question.



What object the character is holding with her left hand?

1. A Basket
2. Two Lotus buds
3. Two Garlands
4. A Book

Options :

485584144669. 1
485584144670. 2
485584144671. 3
485584144672. 4

Question Number : 233 Question Id : 48558436168 Question Type : MCQ Option Shuffling : No Is Question Mandatory : No Calculator : None
Response Time : N.A Think Time : N.A Minimum Instruction Time : 0
Correct Marks : 5 Wrong Marks : 1

Question Key Details :

Key	Value
Comprehension	Comp2

चित्र को देखकर निम्न प्रश्न का उत्तर दीजिए:



पात्र अपने बाएँ हाथ में क्या वस्तु पकड़े हुए है?

1. एक टोकरी
2. कमल की दो कलियाँ
3. दो मालाएँ/हार
4. एक पुस्तक

Options :

485584144669. 1
485584144670. 2
485584144671. 3
485584144672. 4

Question Number : 233 Question Id : 48558436168 Question Type : MCQ Option Shuffling : No Is Question Mandatory : No Calculator : None Response Time : N.A Think Time : N.A Minimum Instruction Time : 0

Correct Marks : 5 Wrong Marks : 1

Question Key Details :

Key	Value
Comprehension	Comp2



চৰিত্ৰৰ বাঁওহাতত কি আছে ?

1. এটা খৰাহি
2. দুটা পদুম ফুলৰ কলি
3. দুডাল মালা
4. এখন কিতাপ

Options :

485584144669. 1
485584144670. 2
485584144671. 3
485584144672. 4

Question Number : 233 Question Id : 48558436168 Question Type : MCQ Option Shuffling : No Is Question Mandatory : No Calculator : None Response Time : N.A Think Time : N.A Minimum Instruction Time : 0

Correct Marks : 5 Wrong Marks : 1

Question Key Details :

Key	Value
Comprehension	Comp2

চিত্রটি লক্ষ্য করে প্রশ্নের উত্তর দাও -



চিত্রটিতে নারীটি / চরিত্রটি তার বামহস্তে কি ধরে আছে?

1. একটি ঝড়ি
2. দুটি কমল বা পদ্মকুড়ি
3. দুটি মালা
4. একটি বই / পুস্তক

Options :

485584144669. 1
485584144670. 2
485584144671. 3
485584144672. 4

Question Number : 233 Question Id : 48558436168 Question Type : MCQ Option Shuffling : No Is Question Mandatory : No Calculator : None
Response Time : N.A Think Time : N.A Minimum Instruction Time : 0

Correct Marks : 5 Wrong Marks : 1

Question Key Details :

Key	Value
Comprehension	Comp2

આપેલ ચિત્રને ઓળખી નીચેના પ્રશ્નનો જવાબ આપો.



પાત્રએ તેના ડાબા હાથમાં કઈ વસ્તુ પકડી રાખેલ છે ?

1. એક ટોપલી
2. બે કમળનાં ફૂલ
3. બે માળાઓ
4. એક ચોપડી

Options :

485584144669. 1
485584144670. 2
485584144671. 3
485584144672. 4

Question Number : 233 Question Id : 48558436168 Question Type : MCQ Option Shuffling : No Is Question Mandatory : No Calculator : None
Response Time : N.A Think Time : N.A Minimum Instruction Time : 0

Correct Marks : 5 Wrong Marks : 1

Question Key Details :

Key	Value
Comprehension	Comp2

ಬೆತ್ತವನ್ನು ವೀಕ್ಷಿಸಿ ಮತ್ತು ಕೆಳಗಿನ ಪ್ರಶ್ನೆಯನ್ನು ಉತ್ತರಿಸಿ:



ಅವಳ ಎಡಗೈ ಜೊತೆ ಗುಣಲಕ್ಷಣವನ್ನು ಹಿಡಿದಿಟ್ಟುಕೊಂಡಿರುವ ವಸ್ತುವೇನು?

1. ಒಂದು ಬುಟ್ಟಿ
2. ಎರಡು ಕಮಲದ ಮೊಗ್ಗುಗಳು
3. ಎರಡು ಹಾರಗಳು
4. ಒಂದು ಪುಸ್ತಕ

Options :

485584144669. 1
485584144670. 2
485584144671. 3
485584144672. 4

Question Number : 233 Question Id : 48558436168 Question Type : MCQ Option Shuffling : No Is Question Mandatory : No Calculator : None Response Time : N.A Think Time : N.A Minimum Instruction Time : 0

Correct Marks : 5 Wrong Marks : 1

Question Key Details :

Key	Value
Comprehension	Comp2

ചിത്രം വീക്ഷിച്ച്, താഴെ നൽകിയിരിക്കുന്ന ചോദ്യങ്ങൾക്ക് ഉത്തരം എഴുതുക :



ഈ കഥാപാത്രം അവളുടെ ഇടതുകൈയിൽ പിടിച്ചിരിക്കുന്ന വസ്തു എന്ത് ?

1. ഒരു കൂട്ട
2. രണ്ട് താമരമൊട്ടുകൾ
3. രണ്ട് പൂമുഖകൾ
4. ഒരു പൂസ്കകം

Options :

- 485584144669. 1
- 485584144670. 2
- 485584144671. 3
- 485584144672. 4

Question Number : 233 Question Id : 48558436168 Question Type : MCQ Option Shuffling : No Is Question Mandatory : No Calculator : None
Response Time : N.A Think Time : N.A Minimum Instruction Time : 0

Correct Marks : 5 Wrong Marks : 1

Question Key Details :

Key	Value
Comprehension	Comp2

वरिल प्रतिमा पाहून प्रश्नाचे उत्तर शोधा.



चित्रातील पात्राने डाव्या हातात काय पकडले आहे?

1. रोपली
2. दोन कमळांची फुले
3. दोन हार
4. पुस्तक

Options :

485584144669. 1
485584144670. 2
485584144671. 3
485584144672. 4

Question Number : 233 Question Id : 48558436168 Question Type : MCQ Option Shuffling : No Is Question Mandatory : No Calculator : None Response Time : N.A Think Time : N.A Minimum Instruction Time : 0

Correct Marks : 5 Wrong Marks : 1

Question Key Details :

Key	Value
Comprehension	Comp2

ବିହାରୀକୁ ଦେଖି ନିରୋଧୀ ପ୍ରସ୍ତର ଭରଣ ବିଧିକୁ ।



ବିହାରୀଙ୍କର ନରୀନ୍ଦ୍ର ବାମା ହାତରେ କ'ଣ ଧରିରହି ?

1. ଏକ ଚୋରକଣ୍ଠ
2. ଦୁଇଟି ପତ୍ର କବି
3. ଦୁଇଟି ପୁଞ୍ଜମାଳ
4. ଏକ ପୁସ୍ତକ

Options :

- 485584144669. 1
- 485584144670. 2
- 485584144671. 3
- 485584144672. 4

Question Number : 233 Question Id : 48558436168 Question Type : MCQ Option Shuffling : No Is Question Mandatory : No Calculator : None Response Time : N.A Think Time : N.A Minimum Instruction Time : 0

Correct Marks : 5 Wrong Marks : 1

Question Key Details :

Key	Value
Comprehension	Comp2



ਪਾਤਰ ਨੇ ਆਪਣੇ ਖੱਬੇ ਹੱਥ ਵਿੱਚ ਕਿਹੜੀ ਚੀਜ਼ ਫੜੀ ਹੈ?

1. ਇੱਕ ਟੋਕਰੀ
2. ਦੋ ਕਮਲ ਦੀਆਂ ਮੁਕੁਲ
3. ਦੋ ਹਾਰ
4. ਇੱਕ ਕਿਰਾਬ

Options :

485584144669. 1
485584144670. 2
485584144671. 3
485584144672. 4

Question Number : 233 Question Id : 48558436168 Question Type : MCQ Option Shuffling : No Is Question Mandatory : No Calculator : None Response Time : N.A Think Time : N.A Minimum Instruction Time : 0

Correct Marks : 5 Wrong Marks : 1

Question Key Details :

Key	Value
Comprehension	Comp2

படத்தை கவனித்து பின்வரும் வினாக்களுக்கு விடையளி:



தனது இடது கையில் இந்த கதாபத்திரம் எந்தப் பொருளை வைத்து உள்ளார்?

1. ஒரு கூடை
2. இரு தாமரை மொட்டுக்கள்
3. இரு மலர் மாலைகள்
4. ஒரு புத்தகம்

Options :

485584144669. 1
485584144670. 2
485584144671. 3
485584144672. 4

Question Number : 233 Question Id : 48558436168 Question Type : MCQ Option Shuffling : No Is Question Mandatory : No Calculator : None Response Time : N.A Think Time : N.A Minimum Instruction Time : 0

Correct Marks : 5 Wrong Marks : 1

Question Key Details :

Key	Value
Comprehension	Comp2

చిత్రాన్ని గమనిస్తూ క్రింది ప్రశ్నకు సమాధానం రాయండి.



చిత్రములోని పాత్ర తన ఎడమ చేతిలో ఏ వస్తువుని పట్టుకొని ఉన్నది.

1. ఒక బుట్ట
2. రెండు కామర మొగ్గలు
3. రెండు దండలు
4. ఒక పుస్తకము

Options :

485584144669. 1
485584144670. 2
485584144671. 3
485584144672. 4

Question Number : 233 Question Id : 48558436168 Question Type : MCQ Option Shuffling : No Is Question Mandatory : No Calculator : None
Response Time : N.A Think Time : N.A Minimum Instruction Time : 0

Correct Marks : 5 Wrong Marks : 1

Question Key Details :

Key	Value
Comprehension	Comp2

تصویر کا مشاہدہ کریں اور مندرجہ ذیل سوالات کا جوابات دیں :

پینٹنگ میں کون سا دار ہاتھ میں کیا چیز پکڑی ہے ؟

1. ایک ٹوکری
2. کفن کی دو پیتیاں
3. دو مالائیں
4. ایک کتاب

Options :

485584144669. 1
485584144670. 2
485584144671. 3
485584144672. 4

Question Number : 234 Question Id : 48558436169 Question Type : MCQ Option Shuffling : No Is Question Mandatory : No Calculator : None
Response Time : N.A Think Time : N.A Minimum Instruction Time : 0

Correct Marks : 5 Wrong Marks : 1

Question Key Details :

Key	Value
Comprehension	Comp2

Observe the image and answer the following question.



What is the Sub School of the mentioned painting?

1. Bikaner
2. Mewar
3. Jaipur
4. Kishangarh

Options :

485584144673. 1
485584144674. 2
485584144675. 3
485584144676. 4

Question Number : 234 Question Id : 48558436169 Question Type : MCQ Option Shuffling : No Is Question Mandatory : No Calculator : None
Response Time : N.A Think Time : N.A Minimum Instruction Time : 0

Correct Marks : 5 Wrong Marks : 1

Question Key Details :

Key	Value
Comprehension	Comp2

चित्र को देखकर निम्न प्रश्न का उत्तर दीजिए:



दी गई चित्र की उप-शैली क्या है?

1. बीकानेर
2. मेवाड़
3. जयपुर
4. किशनगढ़

Options :

485584144673. 1
485584144674. 2
485584144675. 3
485584144676. 4

Question Number : 234 Question Id : 48558436169 Question Type : MCQ Option Shuffling : No Is Question Mandatory : No Calculator : None Response Time : N.A Think Time : N.A Minimum Instruction Time : 0

Correct Marks : 5 Wrong Marks : 1

Question Key Details :

Key	Value
Comprehension	Comp2



চিত্ৰশিল্পখন কোনখন উপ বিদ্যালয়ৰ পৰা লোৱা গৈছে ?

1. বিকানেৰ
2. মেৱাৰ
3. জয়পুৰ
4. কৃষ্ণাগড়

Options :

485584144673. 1
485584144674. 2
485584144675. 3
485584144676. 4

Question Number : 234 Question Id : 48558436169 Question Type : MCQ Option Shuffling : No Is Question Mandatory : No Calculator : None Response Time : N.A Think Time : N.A Minimum Instruction Time : 0

Correct Marks : 5 Wrong Marks : 1

Question Key Details :

Key	Value
Comprehension	Comp2

চিত্রটি লক্ষ্য করে প্রশ্নের উত্তর দাও -



পেন্টিংটির উপস্থল বা বিদ্যালয়ের নাম কি ?

1. বিকানের
2. মেওয়াড়
3. জয়পুর
4. কিষ্কানগড়

Options :

485584144673. 1
485584144674. 2
485584144675. 3
485584144676. 4

Question Number : 234 Question Id : 48558436169 Question Type : MCQ Option Shuffling : No Is Question Mandatory : No Calculator : None
Response Time : N.A Think Time : N.A Minimum Instruction Time : 0

Correct Marks : 5 Wrong Marks : 1

Question Key Details :

Key	Value
Comprehension	Comp2

આપેલ ચિત્રને ઓળખી નીચેના પ્રશ્નનો જવાબ આપો.



આપેલ ચિત્ર કઈ પેટા સ્કૂલનું છે ?

1. બિકાનેર
2. મેવાડ
3. જયપુર
4. કિશનગઢ

Options :

485584144673. 1
485584144674. 2
485584144675. 3
485584144676. 4

Question Number : 234 Question Id : 48558436169 Question Type : MCQ Option Shuffling : No Is Question Mandatory : No Calculator : None Response Time : N.A Think Time : N.A Minimum Instruction Time : 0

Correct Marks : 5 Wrong Marks : 1

Question Key Details :

Key	Value
Comprehension	Comp2

ಚಿತ್ರವನ್ನು ವೀಕ್ಷಿಸಿ ಮತ್ತು ಕೆಳಗಿನ ಪ್ರಶ್ನೆಯನ್ನು ಉತ್ತರಿಸಿ:



ತೋರಿಸಿರುವ ಚಿತ್ರಕಲೆಯ ಉಪಶಾಲೆ ಯಾವುದು?

1. ಬಿಕಾನೇರ್
2. ಮೆವಾರ್
3. ಜೈಪುರ್
4. ಕಿಶಂಗಡ

Options :

485584144673. 1
485584144674. 2
485584144675. 3
485584144676. 4

Question Number : 234 Question Id : 48558436169 Question Type : MCQ Option Shuffling : No Is Question Mandatory : No Calculator : None
Response Time : N.A Think Time : N.A Minimum Instruction Time : 0

Correct Marks : 5 Wrong Marks : 1

Question Key Details :

Key	Value
Comprehension	Comp2

ചിത്രം വീക്ഷിച്ച്, താഴെ നൽകിയിരിക്കുന്ന ചോദ്യങ്ങൾക്ക് ഉത്തരം എഴുതുക :



ഈ ചിത്രത്തിന്റെ ഉപസമ്പ്രദായം ഏത് ?

1. ബിക്കാനർ
2. മീവാർ
3. ജയ്പൂർ
4. കിഷൻഘർ

Options :

485584144673. 1
485584144674. 2
485584144675. 3
485584144676. 4

Question Number : 234 Question Id : 48558436169 Question Type : MCQ Option Shuffling : No Is Question Mandatory : No Calculator : None Response Time : N.A Think Time : N.A Minimum Instruction Time : 0

Correct Marks : 5 Wrong Marks : 1

Question Key Details :

Key	Value
Comprehension	Comp2

वरिल प्रतिमा पाहून प्रश्नाचे उत्तर शोधा.



चित्रात दर्शवलेली शैली कोणत्या उप शाखेची आहे?

1. बिकानेर
2. मेवाड
3. जयपूर
4. किशनगड

Options :

485584144673. 1
485584144674. 2
485584144675. 3
485584144676. 4

Question Number : 234 Question Id : 48558436169 Question Type : MCQ Option Shuffling : No Is Question Mandatory : No Calculator : None
Response Time : N.A Think Time : N.A Minimum Instruction Time : 0

Correct Marks : 5 Wrong Marks : 1

Question Key Details :

Key	Value
Comprehension	Comp2

ଦିଗ୍ଘତିକୁ ଦେଖି ନିମ୍ନୋକ୍ତ ପ୍ରଶ୍ନର ଉତ୍ତର ଦିଅନ୍ତୁ ।



ଦୁର୍ଗିତ୍ତିକୁ ଦେଖିବା ପାଇଁ ନିମ୍ନ ପ୍ରଶ୍ନର ଉତ୍ତର ଦିଅନ୍ତୁ।

1. ବିକାଶକର
2. ଗୋଦାର
3. ରୋଗୁଡ଼
4. ବିଜ୍ଞାନକର

Options :

- 485584144673. 1
- 485584144674. 2
- 485584144675. 3
- 485584144676. 4

Question Number : 234 Question Id : 48558436169 Question Type : MCQ Option Shuffling : No Is Question Mandatory : No Calculator : None Response Time : N.A Think Time : N.A Minimum Instruction Time : 0

Correct Marks : 5 Wrong Marks : 1

Question Key Details :

Key	Value
Comprehension	Comp2



ਦਿੱਤੇ ਹੋਏ ਚਿੱਤਰ ਦਾ ਸਬ ਸਕੂਲ ਪਛਾਣੋ?

1. ਸ਼ੀਕਾਨੋਰ
2. ਮੇਵਾੜ
3. ਜੇਪੁਰ
4. ਕਿਸ਼ਨਗੜ੍ਹ

Options :

485584144673. 1
485584144674. 2
485584144675. 3
485584144676. 4

Question Number : 234 Question Id : 48558436169 Question Type : MCQ Option Shuffling : No Is Question Mandatory : No Calculator : None Response Time : N.A Think Time : N.A Minimum Instruction Time : 0

Correct Marks : 5 Wrong Marks : 1

Question Key Details :

Key	Value
Comprehension	Comp2

படத்தை கவனித்து பின்வரும் வினாக்களுக்கு விடையளி:



குறிப்பிடப்பட்டுள்ள ஓவியத்தின் துணைப்பள்ளி எது?

1. பிகானெர்
2. மேவார்
3. ஜெய்பூர்
4. இருஷண்கார்

Options :

485584144673. 1
485584144674. 2
485584144675. 3
485584144676. 4

Question Number : 234 Question Id : 48558436169 Question Type : MCQ Option Shuffling : No Is Question Mandatory : No Calculator : None
Response Time : N.A Think Time : N.A Minimum Instruction Time : 0

Correct Marks : 5 Wrong Marks : 1

Question Key Details :

Key	Value
Comprehension	Comp2

చిత్రాన్ని గమనిస్తూ క్రింది ప్రశ్నకు సమాధానం రాయండి.



ఈ చిత్రలేఖనం ఉప పాఠశాల ఏది ?

1. బికనర్
2. మేవార్
3. జైపూర్
4. కిషన్ గఢ్

Options :

485584144673. 1
485584144674. 2
485584144675. 3
485584144676. 4

Question Number : 234 Question Id : 48558436169 Question Type : MCQ Option Shuffling : No Is Question Mandatory : No Calculator : None
Response Time : N.A Think Time : N.A Minimum Instruction Time : 0

Correct Marks : 5 Wrong Marks : 1

Question Key Details :

Key	Value
Comprehension	Comp2

تصویر کا مشابہہ کریں اور مندرجہ ذیل سوالات کا جواب لیں :

مذکورہ پیشگی کا ذیلی اسکول کونسا ہے ؟

1. بیکنیر
2. میواڑ
3. جے پور
4. کٹن گڑھ

Options :

485584144673. 1
485584144674. 2
485584144675. 3
485584144676. 4

**Question Number : 235 Question Id : 48558436170 Question Type : MCQ Option Shuffling : No Is Question Mandatory : No Calculator : None
Response Time : N.A Think Time : N.A Minimum Instruction Time : 0**

Correct Marks : 5 Wrong Marks : 1

Question Key Details :

Key	Value
Comprehension	Comp2

Observe the image and answer the following question.



What is the category of the painting?

1. Potraiture
2. Landscape
3. Caricature
4. Folk tale

Options :

485584144677. 1
485584144678. 2
485584144679. 3
485584144680. 4

**Question Number : 235 Question Id : 48558436170 Question Type : MCQ Option Shuffling : No Is Question Mandatory : No Calculator : None
Response Time : N.A Think Time : N.A Minimum Instruction Time : 0**

Correct Marks : 5 Wrong Marks : 1

Question Key Details :

Key	Value
Comprehension	Comp2

चित्र को देखकर निम्न प्रश्न का उत्तर दीजिए:



चित्रकारी की विषय-सामग्री क्या है?

1. मुख चित्राकृति
2. भूदृश्य
3. व्यंगचित्र
4. लोककथा

Options :

485584144677. 1
485584144678. 2
485584144679. 3
485584144680. 4

Question Number : 235 Question Id : 48558436170 Question Type : MCQ Option Shuffling : No Is Question Mandatory : No Calculator : None
Response Time : N.A Think Time : N.A Minimum Instruction Time : 0

Correct Marks : 5 Wrong Marks : 1

Question Key Details :

Key	Value
Comprehension	Comp2



চিত্ৰশিল্পখনৰ বিষয়বস্তু কি ?

1. পৰটেশিয়ৰ
2. লেন্ডচকেপ
3. কেৰিকেচিউৰ
4. লোক কথা

Options :

485584144677. 1
485584144678. 2
485584144679. 3
485584144680. 4

Question Number : 235 Question Id : 48558436170 Question Type : MCQ Option Shuffling : No Is Question Mandatory : No Calculator : None Response Time : N.A Think Time : N.A Minimum Instruction Time : 0

Correct Marks : 5 Wrong Marks : 1

Question Key Details :

Key	Value
Comprehension	Comp2

চিত্রটি লক্ষ্য করে প্রশ্নের উত্তর দাও -



পেন্টিং বা চিত্রটির বিষয়বস্তু কি?

1. পোরট্রেট
2. ল্যান্ডস্কেপ
3. নকল করে ভ্যাংচানো
4. লোককথা / উপকথা

Options :

485584144677. 1
485584144678. 2
485584144679. 3
485584144680. 4

Question Number : 235 Question Id : 48558436170 Question Type : MCQ Option Shuffling : No Is Question Mandatory : No Calculator : None
Response Time : N.A Think Time : N.A Minimum Instruction Time : 0

Correct Marks : 5 Wrong Marks : 1

Question Key Details :

Key	Value
Comprehension	Comp2

આપેલ ચિત્રને ઓળખી નીચેના પ્રશ્નનો જવાબ આપો.



પેઇન્ટિંગની કક્ષા શું છે ?

1. છબી ચીતરવાની કળા
2. લેન્ડસ્કેપ
3. કેરિકચર
4. લોકવાર્તા

Options :

485584144677. 1
485584144678. 2
485584144679. 3
485584144680. 4

Question Number : 235 Question Id : 48558436170 Question Type : MCQ Option Shuffling : No Is Question Mandatory : No Calculator : None Response Time : N.A Think Time : N.A Minimum Instruction Time : 0

Correct Marks : 5 Wrong Marks : 1

Question Key Details :

Key	Value
Comprehension	Comp2

ಚಿತ್ರವನ್ನು ವೀಕ್ಷಿಸಿ ಮತ್ತು ಕೆಳಗಿನ ಪ್ರಶ್ನೆಯನ್ನು ಉತ್ತರಿಸಿ:



ಚಿತ್ರಕಲೆಯ ವಿಷಯ ವಸ್ತುವೇನು?

1. ವ್ಯಕ್ತಿಚಿತ್ರಣ
2. ಭೂದೃಶ್ಯ
3. ವ್ಯಂಗ್ಯಚಿತ್ರ
4. ಜಾನಪದ ಕಥೆ

Options :

485584144677. 1
485584144678. 2
485584144679. 3
485584144680. 4

Question Number : 235 Question Id : 48558436170 Question Type : MCQ Option Shuffling : No Is Question Mandatory : No Calculator : None Response Time : N.A Think Time : N.A Minimum Instruction Time : 0

Correct Marks : 5 Wrong Marks : 1

Question Key Details :

Key	Value
Comprehension	Comp2

ചിത്രം വീക്ഷിച്ച്, താഴെ നൽകിയിരിക്കുന്ന ചോദ്യങ്ങൾക്ക് ഉത്തരം എഴുതുക :



ഈ ചിത്രം ഏതു വിഭാഗത്തിൽ പെടുന്നു ?

1. പോട്ടറേറ്റ്
2. പ്രകൃതിദൃശ്യം
3. ക്ലാരിയ്ക്കച്ചർ
4. നാടോടി കഥ

Options :

- 485584144677. 1
- 485584144678. 2
- 485584144679. 3
- 485584144680. 4

Question Number : 235 Question Id : 48558436170 Question Type : MCQ Option Shuffling : No Is Question Mandatory : No Calculator : None Response Time : N.A Think Time : N.A Minimum Instruction Time : 0

Correct Marks : 5 Wrong Marks : 1

Question Key Details :

Key	Value
Comprehension	Comp2

वरिल प्रतिमा पाहून प्रश्नाचे उत्तर शोधा.



चित्राचा विषय मुद्दा कोणता आहे?

1. प्रोट्रेट
2. लॅन्डस्केप
3. कॅरिचर
4. लोक कला

Options :

485584144677. 1
485584144678. 2
485584144679. 3
485584144680. 4

Question Number : 235 Question Id : 48558436170 Question Type : MCQ Option Shuffling : No Is Question Mandatory : No Calculator : None
Response Time : N.A Think Time : N.A Minimum Instruction Time : 0

Correct Marks : 5 Wrong Marks : 1

Question Key Details :

Key	Value
Comprehension	Comp2

ଦିଗୁଣକୁ ଦେଖି ନିମ୍ନୋକ୍ତ ପ୍ରଶ୍ନର ଉତ୍ତର ଦିଅନ୍ତୁ ।



ପୁଚ୍ଛିତାଦିକୁ ଦେଖିବାକୁ ଏକ ନିମ୍ନ ପ୍ରଶ୍ନର ଉତ୍ତର ଦିଅନ୍ତୁ।

1. ତିରୁଣ ରା ଅବତର
2. ଚେତୁରାସୁର
3. ଦେବିଦେବତା
4. ଚୋରା ବୟା

Options :

- 485584144677. 1
- 485584144678. 2
- 485584144679. 3
- 485584144680. 4

Question Number : 235 Question Id : 48558436170 Question Type : MCQ Option Shuffling : No Is Question Mandatory : No Calculator : None Response Time : N.A Think Time : N.A Minimum Instruction Time : 0

Correct Marks : 5 Wrong Marks : 1

Question Key Details :

Key	Value
Comprehension	Comp2



ਪੇਂਟਿੰਗ ਦਾ ਵਿਸ਼ਾ ਵਸਤੂ ਕਿ ਹੈ?

1. ਚਿੱਤਰਕਾਰੀ
2. ਲੇਡਮਕੇਪ
3. ਕੇਰੀਕੇਚਰ
4. ਲੇਕ ਕਹਾਣੀ

Options :

485584144677. 1

485584144678. 2

485584144679. 3

485584144680. 4

Question Number : 235 Question Id : 48558436170 Question Type : MCQ Option Shuffling : No Is Question Mandatory : No Calculator : None Response Time : N.A Think Time : N.A Minimum Instruction Time : 0

Correct Marks : 5 Wrong Marks : 1

Question Key Details :

Key	Value
Comprehension	Comp2

படத்தை கவனித்து பின்வரும் வினாக்களுக்கு விடையளி:



இந்த ஓவியத்தின் பாடப்பொருள் யாது?

1. சொல்லோவிமுறை
2. நிலப்பரப்பு
3. கேலி ஓவியமுறை
4. நாட்டுப்புறக் கதை

Options :

485584144677. 1
485584144678. 2
485584144679. 3
485584144680. 4

Question Number : 235 Question Id : 48558436170 Question Type : MCQ Option Shuffling : No Is Question Mandatory : No Calculator : None
Response Time : N.A Think Time : N.A Minimum Instruction Time : 0

Correct Marks : 5 Wrong Marks : 1

Question Key Details :

Key	Value
Comprehension	Comp2

చిత్రాన్ని గమనిస్తూ క్రింది ప్రశ్నకు సమాధానం రాయండి.



చిత్రలేఖనం యొక్క విషయం గుర్తించండి

1. పోట్రయిచార్
2. లాండ్రేస్సె
3. కారికేవర్
4. షాక టేల్

Options :

485584144677. 1
485584144678. 2
485584144679. 3
485584144680. 4

Question Number : 235 Question Id : 48558436170 Question Type : MCQ Option Shuffling : No Is Question Mandatory : No Calculator : None
Response Time : N.A Think Time : N.A Minimum Instruction Time : 0

Correct Marks : 5 Wrong Marks : 1

Question Key Details :

Key	Value
Comprehension	Comp2

تصویر کا مشاہدہ کریں اور مندرجہ ذیل سوالات کا جوابات لیں :

پینٹنگ کا موضوع کیا ہے ؟

1. پورٹریٹ
2. لینڈ سکیپ
3. ٹیری ٹیچر
4. لوک کہانی

Options :

485584144677. 1
485584144678. 2
485584144679. 3
485584144680. 4

Sub-Section Number : 4
Sub-Section Id : 4855842681
Question Shuffling Allowed : Yes
Is Section Default? : null

**Question Number : 236 Question Id : 48558436171 Question Type : MCQ Option Shuffling : No Is Question Mandatory : No Calculator : None
Response Time : N.A Think Time : N.A Minimum Instruction Time : 0
Correct Marks : 5 Wrong Marks : 1**

Question Key Details :

Key	Value
Comprehension	MCQ2

Identify the correct sequence of Indian painting Schools according to their origin.

- A. Mughal School
- B. Rajasthani School
- C. Deccani School
- D. Pahari School
- E. Bengal School

Choose the correct answer from the options given below:

- 1. A, B, C, D, E
- 2. B, A, C, D, E
- 3. C, D, B, A, E
- 4. A, C, D, B, E

Options :

485584144681. 1
485584144682. 2
485584144683. 3
485584144684. 4

**Question Number : 236 Question Id : 48558436171 Question Type : MCQ Option Shuffling : No Is Question Mandatory : No Calculator : None
Response Time : N.A Think Time : N.A Minimum Instruction Time : 0
Correct Marks : 5 Wrong Marks : 1**

Question Key Details :

Key	Value
Comprehension	MCQ2

भारतीय लघु चित्र शैलियों को उनकी उत्पत्ति के अनुसार सही क्रम में पहचानिए:

- A. मुगल शैली
- B. राजस्थानी शैली
- C. दक्कनी शैली
- D. पहाड़ी शैली
- E. बंगाल शैली

नीचे दिए गए विकल्पों में से सही उत्तर चुनिए:

- 1. A, B, C, D, E
- 2. B, A, C, D, E
- 3. C, D, B, A, E
- 4. A, C, D, B, E

Options :

- 485584144681. 1
- 485584144682. 2
- 485584144683. 3
- 485584144684. 4

Question Number : 236 Question Id : 48558436171 Question Type : MCQ Option Shuffling : No Is Question Mandatory : No Calculator : None Response Time : N.A Think Time : N.A Minimum Instruction Time : 0

Correct Marks : 5 Wrong Marks : 1

Question Key Details :

Key	Value
Comprehension	MCQ2

ভাৰতীয় চিত্ৰশিল্পৰ বিদ্যালয় বোৰ মূল সৃষ্টিৰ লগত মিলোৱা ?

- A. মোগল স্কুল
- B. ৰাজস্থানী স্কুল
- C. ডেক্কানী স্কুল
- D. পাহাৰী স্কুল
- E. বেংগল স্কুল

- 1. A, B, C, D, E
- 2. B, A, C, D, E
- 3. C, D, B, A, E
- 4. A, C, D, B, E

Options :

- 485584144681. 1
- 485584144682. 2
- 485584144683. 3
- 485584144684. 4

Question Number : 236 Question Id : 48558436171 Question Type : MCQ Option Shuffling : No Is Question Mandatory : No Calculator : None Response Time : N.A Think Time : N.A Minimum Instruction Time : 0

Correct Marks : 5 Wrong Marks : 1

Question Key Details :

Key	Value
Comprehension	MCQ2

ইন্ডিয়ান পেন্টিং স্কুলগুলোকে তাদের উৎস অনুযায়ী ক্রমান্বয়ে সাজাও।

- A. মুঘল স্কুল
- B. রাজস্থানী স্কুল
- C. ডেবানী স্কুল
- D. পাচারী স্কুল
- E. বেঙ্গল স্কুল

নিম্নলিখিত অপশন থেকে সঠিক উত্তর দাও:

- 1. A, B, C, D, E
- 2. B, A, C, D, E
- 3. C, D, B, A, E
- 4. A, C, D, B, E

Options :

- 485584144681. 1
- 485584144682. 2
- 485584144683. 3
- 485584144684. 4

Question Number : 236 Question Id : 48558436171 Question Type : MCQ Option Shuffling : No Is Question Mandatory : No Calculator : None Response Time : N.A Think Time : N.A Minimum Instruction Time : 0

Correct Marks : 5 Wrong Marks : 1

Question Key Details :

Key	Value
Comprehension	MCQ2

भारतीय पेंटिंग स्कूलों को उनके स्रोतों के क्रम में व्यवस्थित करें।

- A. मुगल स्कूल
- B. राजस्थानी स्कूल
- C. डेवानी स्कूल
- D. पाचारी स्कूल
- E. बंगाल स्कूल

नीचे आपेवा विकल्पोंमांथी साथी जवाब पसंद करो.

- 1. A, B, C, D, E
- 2. B, A, C, D, E
- 3. C, D, B, A, E
- 4. A, C, D, B, E

Options :

- 485584144681. 1
- 485584144682. 2
- 485584144683. 3
- 485584144684. 4

Question Number : 236 Question Id : 48558436171 Question Type : MCQ Option Shuffling : No Is Question Mandatory : No Calculator : None Response Time : N.A Think Time : N.A Minimum Instruction Time : 0

Correct Marks : 5 Wrong Marks : 1

Question Key Details :

Key	Value
Comprehension	MCQ2



भारतीय चित्रकला शाळांचा आरंभ अनुसरून त्यांचा अचूक क्रम लावा.

- A. मुघल शाळा
- B. राजस्थानी शाळा
- C. दख्खनी शाळा
- D. पचरी शाळा
- E. बंगाल शाळा

खालील पर्यायातून अचूक उत्तर शोधा.

- 1. A, B, C, D, E
- 2. B, A, C, D, E
- 3. C, D, B, A, E
- 4. A, C, D, B, E

Options :

- 485584144681. 1
- 485584144682. 2
- 485584144683. 3
- 485584144684. 4

Question Number : 236 Question Id : 48558436171 Question Type : MCQ Option Shuffling : No Is Question Mandatory : No Calculator : None Response Time : N.A Think Time : N.A Minimum Instruction Time : 0

Correct Marks : 5 Wrong Marks : 1

Question Key Details :

Key	Value
Comprehension	MCQ2

ଭାରତୀୟ ଚିତ୍ର ସୁଳର ଉଠିକ କ୍ରମ ଚାଲର ଉତ୍ତରୀ ଅନୁସାରେ ଶୋଧନ୍ତୁ।

- A. ମୁଗଲ ସୁଳ
- B. ରାଜସ୍ଥାନୀ ସୁଳ
- C. ଦେକାନୀ ସୁଳ
- D. ପାହାଡ଼ୀ ସୁଳ
- E. ବେଙ୍ଗଲ ସୁଳ

ଦିଆଯାଇଥିବା ବିକଳ୍ପରୁ ଉଠିକ ଉତ୍ତରଟି ଚାନ୍ତୁ।

- 1. A, B, C, D, E
- 2. B, A, C, D, E
- 3. C, D, B, A, E
- 4. A, C, D, B, E

Options :

- 485584144681. 1
- 485584144682. 2
- 485584144683. 3
- 485584144684. 4

Question Number : 236 Question Id : 48558436171 Question Type : MCQ Option Shuffling : No Is Question Mandatory : No Calculator : None Response Time : N.A Think Time : N.A Minimum Instruction Time : 0

Correct Marks : 5 Wrong Marks : 1

Question Key Details :

Key	Value
Comprehension	MCQ2

క్రింది వాటిలో ఇండియన్ పెయింటింగ్ స్కూల్స్ ని వాటి వాటి మూలాల ఆధారంగా వరుసను గుర్తించండి

- A. మొఘల్ స్కూల్
- B. రాజస్థాని స్కూల్
- C. డెక్కన్ స్కూల్
- D. పచారి స్కూల్
- E. బెంగాల్ స్కూల్

క్రింది వాటిలో సరైన వికల్పాలను ఎంచుకోండి

- 1. A, B, C, D, E
- 2. B, A, C, D, E
- 3. C, D, B, A, E
- 4. A, C, D, B, E

Options :

- 485584144681. 1
- 485584144682. 2
- 485584144683. 3
- 485584144684. 4

Question Number : 236 Question Id : 48558436171 Question Type : MCQ Option Shuffling : No Is Question Mandatory : No Calculator : None Response Time : N.A Think Time : N.A Minimum Instruction Time : 0

Correct Marks : 5 Wrong Marks : 1

Question Key Details :

Key	Value
Comprehension	MCQ2

ایشں پینٹنگ اسکولوں کو ان کی اصل کے مطابق درست ترتیب کی لٹائی کریں :

- A. محل اسکول
- B. راجستھانی اسکول
- C. دکھنی اسکول
- D. پچھاری اسکول
- E. بنگال اسکول

نیچے سے درست جواب کا انتخاب کریں :

- 1. A, B, C, D, E
- 2. B, A, C, D, E
- 3. C, D, B, A, E
- 4. A, C, D, B, E

Options :

- 485584144681. 1
- 485584144682. 2
- 485584144683. 3
- 485584144684. 4

Question Number : 237 Question Id : 48558436172 Question Type : MCQ Option Shuffling : No Is Question Mandatory : No Calculator : None Response Time : N.A Think Time : N.A Minimum Instruction Time : 0

Correct Marks : 5 Wrong Marks : 1

Question Key Details :

Key	Value
Comprehension	MCQ2

Identify the correct sequence of etching print making process.

- Cover metal plate with ground
- Drawing with a pointed etching needle
- Dipping plate in nitric acid
- Clean the remaining ground off the plate
- Plate is inked for taking print

Choose the correct answer from the options given below:

- B, A, C, D, E
- A, B, C, D, E
- B, D, A, C, E
- C, B, D, A, E

Options :

485584144685. 1
485584144686. 2
485584144687. 3
485584144688. 4

Question Number : 237 Question Id : 48558436172 Question Type : MCQ Option Shuffling : No Is Question Mandatory : No Calculator : None Response Time : N.A Think Time : N.A Minimum Instruction Time : 0

Correct Marks : 5 Wrong Marks : 1

Question Key Details :

Key	Value
Comprehension	MCQ2

एचिंग प्रिंट मेकिंग प्रक्रिया के सही क्रम को पहचानिए:

- धातु प्लेटको ग्राउंड को लेपकर ढकना
- नुकीली एचिंग सुई से चित्र या आरेख बनाना
- नाइट्रिक एसिड में प्लेट को डुबाना
- प्लेट के बचे हुए भाग को साफ करना
- छपाई करने के लिए प्लेट पर स्याही लगाना

नीचे दिए गए विकल्पों में से सही उत्तर चुनिए:

- B, A, C, D, E
- A, B, C, D, E
- B, D, A, C, E
- C, B, D, A, E

Options :

485584144685. 1
485584144686. 2
485584144687. 3
485584144688. 4

Question Number : 237 Question Id : 48558436172 Question Type : MCQ Option Shuffling : No Is Question Mandatory : No Calculator : None Response Time : N.A Think Time : N.A Minimum Instruction Time : 0

Correct Marks : 5 Wrong Marks : 1

Question Key Details :

Key	Value
Comprehension	MCQ2

প্রিন্টিং পদ্ধতির শুদ্ধ ক্রমত মিলোৱা।

- A. মাটিৰ সৈতে ধাতৱিক প্লেট
- B. পয়েন্টেড ইচি.এং বেজীৰে কৰা অংকন
- C. নাইট্ৰিক এছিডত ডিৰ্লিং প্লেট
- D. প্লেটৰ বাকি অংশ চাফা কৰা
- E. প্ৰিন্টৰ বাবে প্লেটত চিৱাহী লগোৱা

1. B, A, C, D, E

2. A, B, C, D, E

3. B, D, A, C, A

4. C, B, D, A, E

Options :

- 485584144685. 1
- 485584144686. 2
- 485584144687. 3
- 485584144688. 4

Question Number : 237 Question Id : 48558436172 Question Type : MCQ Option Shuffling : No Is Question Mandatory : No Calculator : None Response Time : N.A Think Time : N.A Minimum Instruction Time : 0

Correct Marks : 5 Wrong Marks : 1

Question Key Details :

Key	Value
Comprehension	MCQ2

প্ৰিন্ট মেকিং প্ৰসেসৰ (কাগজ তৈৰীৰ প্ৰক্ৰিয়া) নকশা বান্ধাৰ সঠিক ক্ৰমটি নিৰ্ধাৰন কৰ।

- A. মাটিতে ধাতব প্লেটটিকে ঢেকে দিতে হবে
- B. একটা পয়েন্টেড নকশা তোলা সূচ দিয়ে আঁকতে হবে
- C. প্লেটটিকে নাইট্ৰিক অ্যাসিডে ডুবিয়ে রাখতে হবে
- D. বাকী অংশটিকে পরিষ্কার করতে হবে
- E. প্লেটে কালি মাখানো হবে প্ৰিন্ট নেওয়ার জন্য

সঠিক উত্তৰটি লেখ।

1. B, A, C, D, E

2. A, B, C, D, E

3. B, D, A, C, A

4. C, B, D, A, E

Options :

- 485584144685. 1
- 485584144686. 2
- 485584144687. 3
- 485584144688. 4

Question Number : 237 Question Id : 48558436172 Question Type : MCQ Option Shuffling : No Is Question Mandatory : No Calculator : None Response Time : N.A Think Time : N.A Minimum Instruction Time : 0

Correct Marks : 5 Wrong Marks : 1

Question Key Details :

Key	Value
Comprehension	MCQ2

എച്ചിംഗ് ചിത്രങ്ങൾ നിരീക്ഷിക്കുന്ന പ്രവർത്തനങ്ങളുടെ ശരിയായ ക്രമം കണ്ടെത്തുക

- A. ലോഹ തകിടിൽ നിറം പുശുക
- B. എച്ചിംഗ് സൂചി കൊണ്ട് ചിത്രം വരയ്ക്കുക
- C. തകിട് നൈട്രിക് ആസിഡിൽ മുക്കി വെയ്ക്കുക
- D. തകിടിലെ ബാക്കിയുള്ള നിറം കഴുകി കളയുക
- E. പ്രിന്റുകൾ എടുക്കാൻ തകിടിൽ മിഷി പുരട്ടുക

താഴെ കൊടുത്തിരിക്കുന്നവയിൽ നിന്ന് ശരിയായ ഉത്തരം കണ്ടെത്തുക:

- 1. B, A, C, D, E
- 2. A, B, C, D, E
- 3. B, D, A, C, A
- 4. C, B, D, A, E

Options :

- 485584144685. 1
- 485584144686. 2
- 485584144687. 3
- 485584144688. 4

Question Number : 237 Question Id : 48558436172 Question Type : MCQ Option Shuffling : No Is Question Mandatory : No Calculator : None Response Time : N.A Think Time : N.A Minimum Instruction Time : 0

Correct Marks : 5 Wrong Marks : 1

Question Key Details :

Key	Value
Comprehension	MCQ2

नक्षीकाम कलेच्या बनवण्याचा योग्य क्रम ओळखा

- A. धातू ची चकती जमिनीने झाकून ठेवा
- B. टोकदार कोरिव सुई सह रेखाचित्र आखा
- C. नायट्रिक आम्लत चकती बुडवा
- D. चकती वरुन उर्वरित माती स्वच्छ करा
- E. प्रिंट घेण्यासाठी चकतीला माती घाई लावली जाते

खालील पर्यायातून अचूक उत्तर शोधा.

- 1. B, A, C, D, E
- 2. A, B, C, D, E
- 3. B, D, A, C, A
- 4. C, B, D, A, E

Options :

- 485584144685. 1
- 485584144686. 2
- 485584144687. 3
- 485584144688. 4

Question Number : 237 Question Id : 48558436172 Question Type : MCQ Option Shuffling : No Is Question Mandatory : No Calculator : None Response Time : N.A Think Time : N.A Minimum Instruction Time : 0

Correct Marks : 5 Wrong Marks : 1

Question Key Details :

Key	Value
Comprehension	MCQ2

ਬੰਦ ਕੁਸ਼ਾਣ ਅਖਬਾਰ ਪੌਰੇ ਪੁੱਛ ਨੇਮੇਂ ਪੁੱਛਿਆ ਆਇਆ।

- A. ਨੇਮੇਂ ਪੁੱਛੇ ਵਾਲੇ ਸੁਆਲੇ
- B. ਆਖਰੀ ਪੁੱਛੇ ਪੁੱਛੇ
- C. ਆਖਰੀ ਪੁੱਛੇ ਪੁੱਛੇ ਪੁੱਛੇ
- D. ਪੁੱਛੇ ਪੁੱਛੇ ਪੁੱਛੇ
- E. ਪੁੱਛੇ ਪੁੱਛੇ ਪੁੱਛੇ

ਉੱਤਰ ਦਿਖਾਓ ਕਿਹੜੇ ਪੁੱਛੇ ਸਹੀ ਹਨ।

- 1. B, A, C, D, E
- 2. A, B, C, D, E
- 3. B, D, A, C, A
- 4. C, B, D, A, E

Options :

- 485584144685. 1
- 485584144686. 2
- 485584144687. 3
- 485584144688. 4

Question Number : 237 Question Id : 48558436172 Question Type : MCQ Option Shuffling : No Is Question Mandatory : No Calculator : None Response Time : N.A Think Time : N.A Minimum Instruction Time : 0

Correct Marks : 5 Wrong Marks : 1

Question Key Details :

Key	Value
Comprehension	MCQ2

ਐਂਜਿੰਗ ਪ੍ਰਿੰਟ ਬਣਾਉਣ ਦੀ ਪ੍ਰਕਿਰਿਆ ਦੀ ਸਹੀ ਲੜੀ ਪਛਾਣੋ:

- A. ਧਾਤ ਦੀ ਥੱਲੇ ਵਾਲੀ ਪਲੇਟ
- B. ਇੱਕ ਨੁਕੀਲੀ ਐਂਜਿੰਗ ਸੁਈ ਨਾਲ ਡਰਾਇੰਗ
- C. ਪਲੇਟ ਨੂੰ ਨਾਈਟਰਿਕ ਤੇਜ਼ਾਬ ਵਿੱਚ ਡੁਬੋਨਾ
- D. ਪਲੇਟ ਦੇ ਥੱਲੇ ਨੂੰ ਸਾਫ਼ ਕਰੋ
- E. ਪ੍ਰਿੰਟ ਲੈਣ ਲਈ ਪਲੇਟ ਵਿੱਚ ਸਿਆਹੀ ਭਰੀ ਜਾਵੇ

ਹੇਠਾਂ ਦਿੱਤੇ ਵਿਕਲਪਾਂ ਵਿੱਚੋਂ ਸਹੀ ਉੱਤਰ ਚੁਣੋ:

- 1. B, A, C, D, E
- 2. A, B, C, D, E
- 3. B, D, A, C, A
- 4. C, B, D, A, E

Options :

- 485584144685. 1
- 485584144686. 2
- 485584144687. 3
- 485584144688. 4

Question Number : 237 Question Id : 48558436172 Question Type : MCQ Option Shuffling : No Is Question Mandatory : No Calculator : None Response Time : N.A Think Time : N.A Minimum Instruction Time : 0

Correct Marks : 5 Wrong Marks : 1

Question Key Details :

Key	Value
Comprehension	MCQ2

எட்சிங் அச்சிடும் நடைமுறையின் சரியான அடுக்கு வரிசையைக் கண்டறிக.

- A. உலோகத்தட்டை தரைமீது மூடி வைக்கவும்
- B. முனை கொண்ட எட்சிங் ஊசி கொண்டு வரைதல்
- C. கூறிய அரிக்கும் ஊசி கொண்டு வரைதல்
- D. தட்டிலிருந்து எஞ்சிய மண்ணை சுத்தம் செய்தல்
- E. ஆச்செடுக்க தட்டிற்கு மை பூசுதல்

கீழே தரப்பட்டுள்ள வாய்ப்புகளில் இருந்து சரியான விடையைத் தேர்ந்தெடுக்கவும்:

- 1. B, A, C, D, E
- 2. A, B, C, D, E
- 3. B, D, A, C, E
- 4. C, B, D, A, E

Options :

- 485584144685. 1
- 485584144686. 2
- 485584144687. 3
- 485584144688. 4

Question Number : 237 Question Id : 48558436172 Question Type : MCQ Option Shuffling : No Is Question Mandatory : No Calculator : None Response Time : N.A Think Time : N.A Minimum Instruction Time : 0

Correct Marks : 5 Wrong Marks : 1

Question Key Details :

Key	Value
Comprehension	MCQ2

எபிங் டிரைவ் மெகிங் முக்ய மூக்ய சரென் க்ரமஸ்ஸு குரென்டென்டி.

- A. லீவ்ஸ் ஸலகஸ் லீவ்ஸ் க்ரென்டி
- B. கீவ்ஸ் எபிங் ஸூடீக் கீவ்ஸ்
- C. லீவ்ஸ் யூஸிங் லீவ்ஸ் மூவ்ஸ்
- D. லீவ்ஸ் மூக்ய மிஸிங் ஸூடீக் க்ரென்டி
- E. லீவ்ஸ் க்ரென்டி லீவ்ஸ் க்ரென்டி லீவ்ஸ் க்ரென்டி

கீவ்ஸ் க்ரென்டி லீவ்ஸ் க்ரென்டி லீவ்ஸ் க்ரென்டி லீவ்ஸ் க்ரென்டி.

- 1. B, A, C, D, E
- 2. A, B, C, D, E
- 3. B, D, A, C, A
- 4. C, B, D, A, E

Options :

- 485584144685. 1
- 485584144686. 2
- 485584144687. 3
- 485584144688. 4

Question Number : 237 Question Id : 48558436172 Question Type : MCQ Option Shuffling : No Is Question Mandatory : No Calculator : None Response Time : N.A Think Time : N.A Minimum Instruction Time : 0

Correct Marks : 5 Wrong Marks : 1

Question Key Details :

Key	Value
Comprehension	MCQ2

نقاشی بنانے کے طریقے کی درست نشاندہی کیجئے :

- A. دھات کی پلیٹ کو زمین پر ڈھاتیں
B. لوتھلی نقاشی سوئی سے خاکہ کشی کریں
C. تھری ایسٹ میں ڈھاتا پلیٹ
D. زمین پر بچی ہوئی چیزوں سے پلیٹس کو صاف کریں
E. پلیٹ کو پورٹ کرنے کے لئے رنگنا

نیچے سے درست جواب کا انتخاب کریں :

1. B, A, C, D, E

2. A, B, C, D, E

3. B, D, A, C, A

4. C, B, D, A, E

Options :

485584144685. 1
485584144686. 2
485584144687. 3
485584144688. 4

Question Number : 238 Question Id : 48558436173 Question Type : MCQ Option Shuffling : No Is Question Mandatory : No Calculator : None Response Time : N.A Think Time : N.A Minimum Instruction Time : 0

Correct Marks : 5 Wrong Marks : 1

Question Key Details :

Key	Value
Comprehension	MCQ2

Which among the following are the artwork of Rajasthani School of Miniature Painting.

- A. Bani Thani
B. Maru Ragini
C. Chand Bibi Playing Polo
D. Ragini Pathansika
E. Krishna on Swing

Choose the correct answer from the options given below:

1. A, D, E

2. B, D, E

3. A, C, E

4. A, B, E

Options :

485584144689. 1
485584144690. 2
485584144691. 3
485584144692. 4

Question Number : 238 Question Id : 48558436173 Question Type : MCQ Option Shuffling : No Is Question Mandatory : No Calculator : None Response Time : N.A Think Time : N.A Minimum Instruction Time : 0

Correct Marks : 5 Wrong Marks : 1

Question Key Details :

Key	Value
Comprehension	MCQ2

निम्न में से कौन से लघु चित्र की राजस्थानी शैली के कला कार्य हैं?

- A. बनी ठनी
- B. मारू रागिनी
- C. चाँद बीबी पोलो खेलते हुए
- D. रागिनी पथमसिका
- E. झूले पर कृष्ण

नीचे दिए गए विकल्पों में से सही उत्तर चुनिए:

- 1. A, D, E
- 2. B, D, E
- 3. A, C, E
- 4. A, B, E

Options :

- 485584144689. 1
- 485584144690. 2
- 485584144691. 3
- 485584144692. 4

Question Number : 238 Question Id : 48558436173 Question Type : MCQ Option Shuffling : No Is Question Mandatory : No Calculator : None Response Time : N.A Think Time : N.A Minimum Instruction Time : 0

Correct Marks : 5 Wrong Marks : 1

Question Key Details :

Key	Value
Comprehension	MCQ2

তলৰ কোনটো ৰাজস্থানী মিনি.এচিডিৰ পেইন্টিংৰ শিল্প হয় ?

- A. বানী থানী
- B. মাৰু ৰাগিনী
- C. চান্দ বিবি প্লেইং পল
- D. ৰাগিনী পথমটিকা
- E. কৃষ্ণ অন শুইং

- 1. A, D, E
- 2. B, D, E
- 3. A, C, E
- 4. A, B, E

Options :

- 485584144689. 1
- 485584144690. 2
- 485584144691. 3
- 485584144692. 4

Question Number : 238 Question Id : 48558436173 Question Type : MCQ Option Shuffling : No Is Question Mandatory : No Calculator : None Response Time : N.A Think Time : N.A Minimum Instruction Time : 0

Correct Marks : 5 Wrong Marks : 1

Question Key Details :

Key	Value
Comprehension	MCQ2

রাজস্থানী ঘরানার ক্ষুদ্র সংস্করণের চিত্র কোনটি

- A. বানী থানি
- B. মারু রাগিনী
- C. চাঁদ বিবি প্রেয়িং পোলো
- D. রাগিনী পথমশিকা
- E. কৃষ্ণ দোলনার ওপর

সঠিক উত্তরটি বেছে নাও/ চিহ্নিত কর :

- 1. A, D, E
- 2. B, D, E
- 3. A, C, E
- 4. A, B, E

Options :

- 485584144689. 1
- 485584144690. 2
- 485584144691. 3
- 485584144692. 4

Question Number : 238 Question Id : 48558436173 Question Type : MCQ Option Shuffling : No Is Question Mandatory : No Calculator : None Response Time : N.A Think Time : N.A Minimum Instruction Time : 0

Correct Marks : 5 Wrong Marks : 1

Question Key Details :

Key	Value
Comprehension	MCQ2

নীচে আপোলামাংথী কঠ ক্বাকারী রাজস্থানী বধুযিত্র পেরন্টিনী উ ?

- A. বানী-থানী
- B. মারু রাগিনী
- C. পৌধী রমতী যাঁদে বীঝী
- D. রাগিনী পথমশিকা
- E. কৃষ্ণ ওপর কৃষ্ণ

নীচে আপোলা বিকল্যোমাংথী সাযো জ্বাব্য পসঁদে করো.

- 1. A, D, E
- 2. B, D, E
- 3. A, C, E
- 4. A, B, E

Options :

- 485584144689. 1
- 485584144690. 2
- 485584144691. 3
- 485584144692. 4

Question Number : 238 Question Id : 48558436173 Question Type : MCQ Option Shuffling : No Is Question Mandatory : No Calculator : None Response Time : N.A Think Time : N.A Minimum Instruction Time : 0

Correct Marks : 5 Wrong Marks : 1

Question Key Details :

Key	Value
Comprehension	MCQ2

ಕೆಳಗಿನವುಗಳಲ್ಲಿ ರಾಜಸ್ಥಾನಿ ಶಾಲೆಯ ಚಿಕ್ಕವೆ/ಕಿರುಚಿತ್ರಕಲೆಯ ಕಲಾ ಕಾರ್ಯ ಯಾವುದು?

- A. ಬಾನಿ ತಾನಿ
- B. ಮಾರು ರಾಗಿಣಿ
- C. ಪ್ರೋಲೋ ಆಡುತ್ತಿರುವ ಚಾಂದ್ ಬೀಬಿ
- D. ರಾಗಿಣಿ ಪಥಮೈಕ
- E. ಉಯ್ಯಾಲೆ ಮೇಲಿರುವ ಕೃಷ್ಣ

ಕೆಳಗೆ ನೀಡಿರುವ ಆಯ್ಕೆಗಳಿಂದ ಸರಿಯಾದ ಉತ್ತರವನ್ನು ಆರಿಸಿ:

- 1. A, D, E
- 2. B, D, E
- 3. A, C, E
- 4. A, B, E

Options :

- 485584144689. 1
- 485584144690. 2
- 485584144691. 3
- 485584144692. 4

Question Number : 238 Question Id : 48558436173 Question Type : MCQ Option Shuffling : No Is Question Mandatory : No Calculator : None Response Time : N.A Think Time : N.A Minimum Instruction Time : 0

Correct Marks : 5 Wrong Marks : 1

Question Key Details :

Key	Value
Comprehension	MCQ2

ಗಣಕೀಯಿರಿಕೊಳ್ಳುವುದರಲ್ಲಿ ಏಕೆಂದರೆ ರಾಜಸ್ಥಾನಿ ಸಮಸ್ಯೆಯಲ್ಲಿಯೂ ಕೂಡಾ?

- A. ಬಾನಿ ತಾನಿ
- B. ಮರು ರಾಗಿಣಿ
- C. ಪ್ರೋಲೋ ಕಟ್ಟಿಕೊಳ್ಳುವ ಚಾಂದ್ ಬೀಬಿ
- D. ರಾಗಿಣಿ ಪಾಠಾಂಶಿಕ
- E. ಕೃಷ್ಣನ ಉಣ್ಣೆಯಲ್ಲಿ

ತಾಳೆ ಕೊಡುತ್ತಿರಿಕೊಳ್ಳುವುದರಲ್ಲಿ ನಿನ್ನ ಸರಿಯಾದ ಉತ್ತರ ಕೊಡುತ್ತಿರುತ್ತೆ:

- 1. A, D, E
- 2. B, D, E
- 3. A, C, E
- 4. A, B, E

Options :

- 485584144689. 1
- 485584144690. 2
- 485584144691. 3
- 485584144692. 4

Question Number : 238 Question Id : 48558436173 Question Type : MCQ Option Shuffling : No Is Question Mandatory : No Calculator : None Response Time : N.A Think Time : N.A Minimum Instruction Time : 0

Correct Marks : 5 Wrong Marks : 1

Question Key Details :

Key	Value
Comprehension	MCQ2

ପୁଢ଼ିଲ କଳାକୃତୀ ମଧୀଲ ରାଜସ୍ଥାନୀ ଲଘୁ ଚିତ୍ରକଳା କୋଣତ୍ୟା ଆହେତ?

- A. ଖାନୀ-ଧାନୀ
- B. ମାରୁ-ରାଗିଣୀ
- C. ପୋଲୋ ଖେଳନାରି ଚୌଦ ବୀବି
- D. ରାଗିଣୀ ପଥମସିକା
- E. ଝୋପାଲ୍ୟାଦରିଲ କୃଷ୍ଣ

ଖାଲୀଲ ପର୍ଯ୍ୟାୟାତ୍ନ ଅଚ୍ଚୁକ ଉତ୍ତର ଶୋଧା.

- 1. A, D, E
- 2. B, D, E
- 3. A, C, E
- 4. A, B, E

Options :

- 485584144689. 1
- 485584144690. 2
- 485584144691. 3
- 485584144692. 4

Question Number : 238 Question Id : 48558436173 Question Type : MCQ Option Shuffling : No Is Question Mandatory : No Calculator : None Response Time : N.A Think Time : N.A Minimum Instruction Time : 0

Correct Marks : 5 Wrong Marks : 1

Question Key Details :

Key	Value
Comprehension	MCQ2

ନିମ୍ନ ମଧ୍ୟରେ କେଉଁ ଚିତ୍ରକୃତୀ ରାଜସ୍ଥାନୀ ସ୍ତୂଳ ଅପ ନିନି-ଏକକ ପେଖିଲ ପରେ ?

- A. ରାଜା ଯାଜ୍ଞ
- B. ମାରୁ ରାଗିଣୀ
- C. ରାଜ ବିବି ଯୋଗେଇ ଝୋଲୁଥୁବା
- D. ରାଗିଣୀ ପଥମସିକା
- E. ଝୋପିଲେ କୃଷ୍ଣ

ସିଆୟାଲ୍ୟୁବା ବିକସ୍ତରୁ ସଠିକ ଉତ୍ତରଟି ଗାହୁ:

- 1. A, D, E
- 2. B, D, E
- 3. A, C, E
- 4. A, B, E

Options :

- 485584144689. 1
- 485584144690. 2
- 485584144691. 3
- 485584144692. 4

Question Number : 238 Question Id : 48558436173 Question Type : MCQ Option Shuffling : No Is Question Mandatory : No Calculator : None Response Time : N.A Think Time : N.A Minimum Instruction Time : 0

Correct Marks : 5 Wrong Marks : 1

Question Key Details :

Key	Value
-----	-------

ਹੇਠ ਲਿਖਿਆਂ ਵਿੱਚੋਂ ਕਿਹੜੀਆਂ ਕਲਾਕਾਰੀਆਂ ਰਾਜਸਥਾਨੀ ਲਭੂ ਚਿੱਤਰ ਸਕੂਲ ਦੀਆਂ ਹਨ?

- A. ਥਾਨੀ-ਠਾਨੀ
- B. ਮਾਠੁ ਰਾਗਿਨੀ
- C. ਚੰਦ ਬੀਬੀ ਖੇਲੇ ਖੇਡਦੀ
- D. ਰਾਗਿਨੀ ਪਾਠ ਮਸੀਕਾ
- E. ਝੁਲੇ ਤੇ ਕ੍ਰਿਸ਼ਨ

ਹੇਠ ਦਿੱਤੇ ਵਿਕਲਪਾਂ ਵਿੱਚੋਂ ਸਹੀ ਉੱਤਰ ਚੁਣੋ:

- 1. A, D, E
- 2. B, D, E
- 3. A, C, E
- 4. A, B, E

Options :

- 485584144689. 1
- 485584144690. 2
- 485584144691. 3
- 485584144692. 4

Question Number : 238 Question Id : 48558436173 Question Type : MCQ Option Shuffling : No Is Question Mandatory : No Calculator : None Response Time : N.A Think Time : N.A Minimum Instruction Time : 0

Correct Marks : 5 Wrong Marks : 1

Question Key Details :

Key	Value
Comprehension	MCQ2

ਰਾਜਸਥਾਨੀ ਸਿੱਖਿਆਵਾਂ ਵਿੱਚੋਂ ਕਿਹੜੀਆਂ ਕਲਾਕਾਰੀਆਂ ਰਾਜਸਥਾਨੀ ਲਭੂ ਚਿੱਤਰ ਸਕੂਲ ਦੀਆਂ ਹਨ?

- A. ਪਾਨੀ ਤਾਨੀ
- B. ਮਠੁ ਰਾਗਿਨੀ
- C. ਸੁਨੰਦੀਪੀ ਪੰਗੇਯੀਯੰਗ ਡੋਪਾਲੋ
- D. ਰਾਗਿਨੀ ਪਤਾਮੰਸਿਕਾ
- E. ਸਿਰੁਯੰਨਾ ਆਨੰ ਸੁਵਿਯੰਕ

ਠੇਠ ਦਿੱਤੇ ਵਿਕਲਪਾਂ ਵਿੱਚੋਂ ਸਹੀ ਉੱਤਰ ਚੁਣੋ:

- 1. A, D, E
- 2. B, D, E
- 3. A, C, E
- 4. A, B, E

Options :

- 485584144689. 1
- 485584144690. 2
- 485584144691. 3
- 485584144692. 4

Question Number : 238 Question Id : 48558436173 Question Type : MCQ Option Shuffling : No Is Question Mandatory : No Calculator : None Response Time : N.A Think Time : N.A Minimum Instruction Time : 0

Correct Marks : 5 Wrong Marks : 1

Question Key Details :

Key	Value
Comprehension	MCQ2

క్రింది వాటిలో ఏ లఘు వర్ణ చిత్రము రాజస్థానీ పాఠశాల కళాకృతులకు చెందినది?

- A. బనీ తనీ
- B. మరు రాగిణీ
- C. చాంద్ బిబీ పాలో ఆదడం
- D. రాగిణీ పతాంశిక
- E. ఊయలపై కృషుడు

క్రింది వాటిలో సరైన వికల్పాన్ని ఎంచుకోండి

- 1. A, D, E
- 2. B, D, E
- 3. A, C, E
- 4. A, B, E

Options :

- 485584144689. 1
- 485584144690. 2
- 485584144691. 3
- 485584144692. 4

Question Number : 238 Question Id : 48558436173 Question Type : MCQ Option Shuffling : No Is Question Mandatory : No Calculator : None Response Time : N.A Think Time : N.A Minimum Instruction Time : 0

Correct Marks : 5 Wrong Marks : 1

Question Key Details :

Key	Value
Comprehension	MCQ2

نچے دیا ہوا راہنمائی اسکول جیوٹی نیچہ پینٹنگ کا کونسا آرٹ ورک ہے ؟

- A. ہنسی نہیں
- B. مرو رنگینی
- C. چاند ہی ہی یولو کھیل رہی ہے
- D. رنگینی پنہم سیکا
- E. جھولے پر کرشنا

نچے سے درست جواب کا انتخاب کریں :

- 1. A, D, E
- 2. B, D, E
- 3. A, C, E
- 4. A, B, E

Options :

- 485584144689. 1
- 485584144690. 2
- 485584144691. 3
- 485584144692. 4

Question Number : 239 Question Id : 48558436174 Question Type : MCQ Option Shuffling : No Is Question Mandatory : No Calculator : None Response Time : N.A Think Time : N.A Minimum Instruction Time : 0

Correct Marks : 5 Wrong Marks : 1

Question Key Details :

Key	Value
Comprehension	MCQ2



Identify the correct sequence of Mughal rulers according to time period .

- A. Humayun
- B. Babur
- C. Akbar
- D. Jahangir
- E. Shah Jahan

Choose the correct answer from the options given below:

- 1. B, A, C, D, E
- 2. A, B, C, D, E
- 3. B, C, A, D, E
- 4. C, A, B, D, E

Options :

- 485584144693. 1
- 485584144694. 2
- 485584144695. 3
- 485584144696. 4

Question Number : 239 Question Id : 48558436174 Question Type : MCQ Option Shuffling : No Is Question Mandatory : No Calculator : None Response Time : N.A Think Time : N.A Minimum Instruction Time : 0

Correct Marks : 5 Wrong Marks : 1

Question Key Details :

Key	Value
Comprehension	MCQ2

मुगल शासकों को कालानुसार उनके सही क्रम को पहचानिए-

- A. हुमायूँ
- B. बाबर
- C. अकबर
- D. जहाँगीर
- E. शाहजहाँ

नीचे दिए गए विकल्पों में से सही उत्तर चुनिए:

- 1. B, A, C, D, E
- 2. A, B, C, D, E
- 3. B, C, A, D, E
- 4. C, A, B, D, E

Options :

- 485584144693. 1
- 485584144694. 2
- 485584144695. 3
- 485584144696. 4

Question Number : 239 Question Id : 48558436174 Question Type : MCQ Option Shuffling : No Is Question Mandatory : No Calculator : None Response Time : N.A Think Time : N.A Minimum Instruction Time : 0

Correct Marks : 5 Wrong Marks : 1

Question Key Details :

Key	Value
Comprehension	MCQ2

কোনটো অংশ বা কোনজন মোগল শাসকৰ শাৰী শাসনকালমতে মিলোৱা ?

- A. হুমায়ুন
- B. বাবৰ
- C. আকবৰ
- D. জাহাঙ্গীৰ
- E. শ্বাহ জাহান

1. B, A, C, D, E

2. A, B, C, D, E

3. B, C, A, D, E

4. C, A, B, D, E

Options :

- 485584144693. 1
- 485584144694. 2
- 485584144695. 3
- 485584144696. 4

Question Number : 239 Question Id : 48558436174 Question Type : MCQ Option Shuffling : No Is Question Mandatory : No Calculator : None Response Time : N.A Think Time : N.A Minimum Instruction Time : 0

Correct Marks : 5 Wrong Marks : 1

Question Key Details :

Key	Value
Comprehension	MCQ2

মুঘল শাসকদের সঠিক ক্রমটি চিহ্নিত কর

- A. হুমায়ুন
- B. বাবৰ
- C. আকবৰ
- D. জাহাঙ্গীৰ
- E. শাহজাহান

নিচের বিকল্প গুলি থেকে সঠিক উত্তর নির্বাচন কর.

1. B, A, C, D, E

2. A, B, C, D, E

3. B, C, A, D, E

4. C, A, B, D, E

Options :

- 485584144693. 1
- 485584144694. 2
- 485584144695. 3
- 485584144696. 4

Question Number : 239 Question Id : 48558436174 Question Type : MCQ Option Shuffling : No Is Question Mandatory : No Calculator : None Response Time : N.A Think Time : N.A Minimum Instruction Time : 0

Correct Marks : 5 Wrong Marks : 1

Question Key Details :

Key	Value
Comprehension	MCQ2

મુઘલ રાજાઓને તેમના સાચા સમયકાળના ક્રમમાં ગોઠવો.

- A. હુમાયુ
- B. બાબર
- C. અકબર
- D. જહાંગીર
- E. શાહજહાં

નીચે આપેલા વિકલ્પોમાંથી સાચો જવાબ પસંદ કરો.

- 1. B, A, C, D, E
- 2. A, B, C, D, E
- 3. B, C, A, D, E
- 4. C, A, B, D, E

Options :

- 485584144693. 1
- 485584144694. 2
- 485584144695. 3
- 485584144696. 4

Question Number : 239 Question Id : 48558436174 Question Type : MCQ Option Shuffling : No Is Question Mandatory : No Calculator : None Response Time : N.A Think Time : N.A Minimum Instruction Time : 0

Correct Marks : 5 Wrong Marks : 1

Question Key Details :

Key	Value
Comprehension	MCQ2

કાલોવરિય પ્રકાર મુઘલ્ આદર્શિતગારદ સરિયારદ અનુક્રમણિકંયનુ ગુરુતિસી.

- A. કુમરયુતિન
- B. બાબર
- C. અકબર
- D. જહાંગીર
- E. શહજહાન

કંઈગં નીડિરુવ અયુગલિંદ સરિયારદ ઇત્તરવનુ અરિસી.

- 1. B, A, C, D, E
- 2. A, B, C, D, E
- 3. B, C, A, D, E
- 4. C, A, B, D, E

Options :

- 485584144693. 1
- 485584144694. 2
- 485584144695. 3
- 485584144696. 4

Question Number : 239 Question Id : 48558436174 Question Type : MCQ Option Shuffling : No Is Question Mandatory : No Calculator : None Response Time : N.A Think Time : N.A Minimum Instruction Time : 0

Correct Marks : 5 Wrong Marks : 1

Question Key Details :

Key	Value
Comprehension	MCQ2

കാലഗണന പ്രകാരം മുഗൾ ഭരണാധികാരികളെ ക്രമപ്പെടുത്തുക.

- A. ഹുമയൂൺ
- B. ബാബർ
- C. അക്ബർ
- D. ജഹാംഗീർ
- E. ഷാജഹാൻ

താഴെ കൊടുത്തിരിക്കുന്നവയിൽ നിന്ന് ശരിയായ ഉത്തരം കണ്ടെത്തുക

- 1. B, A, C, D, E
- 2. A, B, C, D, E
- 3. B, C, A, D, E
- 4. C, A, B, D, E

Options :

- 485584144693. 1
- 485584144694. 2
- 485584144695. 3
- 485584144696. 4

Question Number : 239 Question Id : 48558436174 Question Type : MCQ Option Shuffling : No Is Question Mandatory : No Calculator : None Response Time : N.A Think Time : N.A Minimum Instruction Time : 0

Correct Marks : 5 Wrong Marks : 1

Question Key Details :

Key	Value
Comprehension	MCQ2

मुधल राजांचा त्यांच्या कालखंडानुसार योग्य क्रम लावा

- A. हुमायुन
- B. बाबर
- C. अकबर
- D. जहाँगीर
- E. शहा जहान

खालील पर्यायातून अचूक उत्तर शोधा.

- 1. B, A, C, D, E
- 2. A, B, C, D, E
- 3. B, C, A, D, E
- 4. C, A, B, D, E

Options :

- 485584144693. 1
- 485584144694. 2
- 485584144695. 3
- 485584144696. 4

Question Number : 239 Question Id : 48558436174 Question Type : MCQ Option Shuffling : No Is Question Mandatory : No Calculator : None Response Time : N.A Think Time : N.A Minimum Instruction Time : 0

Correct Marks : 5 Wrong Marks : 1

Question Key Details :

Key	Value
Comprehension	MCQ2

ମୋଡ଼ାଣ ଶାସକର ସମୟ କାଳ ଅନୁଯାୟୀ ଉଠିକ କ୍ରମ ଦାଖଲ କରନ୍ତୁ।

- A. ହୁମାୟୁନ
- B. ଭଗତ
- C. ଅକବର
- D. ଜାହାଙ୍ଗିର
- E. ଶାହା ଜାହାଁ

ଦିଆଯାଇଥିବା ବିକଳରୁ ଉଠିକ କ୍ରମରେ ଗଠନ କରନ୍ତୁ:

- 1. B, A, C, D, E
- 2. A, B, C, D, E
- 3. B, C, A, D, E
- 4. C, A, B, D, E

Options :

- 485584144693. 1
- 485584144694. 2
- 485584144695. 3
- 485584144696. 4

Question Number : 239 Question Id : 48558436174 Question Type : MCQ Option Shuffling : No Is Question Mandatory : No Calculator : None Response Time : N.A Think Time : N.A Minimum Instruction Time : 0

Correct Marks : 5 Wrong Marks : 1

Question Key Details :

Key	Value
Comprehension	MCQ2

ମୁଗାଳ ସାମ୍ରାଜ୍ୟ ଠିକ୍ ଉଠିକ କ୍ରମରେ କାଳ ମୁତାସିକ ପଢ଼ାନ୍ତୁ?

- A. ହୁମାୟୁନ
- B. ସାମ୍ରାଜ୍ୟ
- C. ଅକବର
- D. ଜାହାଙ୍ଗିର
- E. ଶାହା ଜାହାଁ

ହେଉ ଉଠିକ ବିକଳରୁ ଉଠିକ କ୍ରମରେ ଗଠନ କରନ୍ତୁ:

- 1. B, A, C, D, E
- 2. A, B, C, D, E
- 3. B, C, A, D, E
- 4. C, A, B, D, E

Options :

- 485584144693. 1
- 485584144694. 2
- 485584144695. 3
- 485584144696. 4

Question Number : 239 Question Id : 48558436174 Question Type : MCQ Option Shuffling : No Is Question Mandatory : No Calculator : None Response Time : N.A Think Time : N.A Minimum Instruction Time : 0

Correct Marks : 5 Wrong Marks : 1

Question Key Details :

Key	Value
Comprehension	MCQ2

காலகட்டத்தின் அடிப்படையில் முகலாய மன்னர்களின் சரியான அடுக்கு வரிசையைக் கண்டறிக.

- A. ஹுமாயூன்
- B. பாபர்
- C. அக்பர்
- D. ஜஹாங்கீர்
- E. ஷாஜஹான்

கீழே தரப்பட்டுள்ள வாய்ப்புகளில் இறந்து சரியான விடையைத் தேர்ந்தெடுக்கவும்:

- 1. B, A, C, D, E
- 2. A, B, C, D, E
- 3. B, C, A, D, E
- 4. C, A, B, D, E

Options :

- 485584144693. 1
- 485584144694. 2
- 485584144695. 3
- 485584144696. 4

Question Number : 239 Question Id : 48558436174 Question Type : MCQ Option Shuffling : No Is Question Mandatory : No Calculator : None Response Time : N.A Think Time : N.A Minimum Instruction Time : 0

Correct Marks : 5 Wrong Marks : 1

Question Key Details :

Key	Value
Comprehension	MCQ2

வாரி வாரி நமஸ்காலனு பஹீ மூஸுலீ ராஜால வருசனு குரூபிண்டி

- A. ஹுமாயூன்
- B. பாபர்
- C. அக்பர்
- D. ஜஹாங்கீர்
- E. ஷாஜஹான்

கீழே தரப்பட்டுள்ள வாய்ப்புகளில் இறந்து சரியான விடையைத் தேர்ந்தெடுக்கவும்:

- 1. B, A, C, D, E
- 2. A, B, C, D, E
- 3. B, C, A, D, E
- 4. C, A, B, D, E

Options :

- 485584144693. 1
- 485584144694. 2
- 485584144695. 3
- 485584144696. 4

Question Number : 239 Question Id : 48558436174 Question Type : MCQ Option Shuffling : No Is Question Mandatory : No Calculator : None Response Time : N.A Think Time : N.A Minimum Instruction Time : 0

Correct Marks : 5 Wrong Marks : 1

Question Key Details :

Key	Value
Comprehension	MCQ2

مغل حکمرانوں کو ان کے مدت حکمرانی کے مطابق صحیح ترتیب کی نشاندہی کریں :

- A. بھلیوں
- B. بادر
- C. اکبر
- D. ہمایوں
- E. شاہ جہاں

نیچے سے درست جواب کا انتخاب کریں :

1. B, A, C, D, E
2. A, B, C, D, E
3. B, C, A, D, E
4. C, A, B, D, E

Options :

- 485584144693. 1
- 485584144694. 2
- 485584144695. 3
- 485584144696. 4

Question Number : 240 Question Id : 48558436175 Question Type : MCQ Option Shuffling : No Is Question Mandatory : No Calculator : None Response Time : N.A Think Time : N.A Minimum Instruction Time : 0

Correct Marks : 5 Wrong Marks : 1

Question Key Details :

Key	Value
Comprehension	MCQ2

Identify the correct sequence of painting according to their time period.

- A. Krishna lifts Mount Govardhan
- B. Raga Megha
- C. Rama's Marriage
- D. Birth of Mahavir
- E. Kaliya Mardana

Choose the correct answer from the options given below:

1. A, B, C, D, E
2. B, A, C, E, D
3. A, E, B, D, C
4. D, B, A, E, C

Options :

- 485584144697. 1
- 485584144698. 2
- 485584144699. 3
- 485584144700. 4

Question Number : 240 Question Id : 48558436175 Question Type : MCQ Option Shuffling : No Is Question Mandatory : No Calculator : None Response Time : N.A Think Time : N.A Minimum Instruction Time : 0

Correct Marks : 5 Wrong Marks : 1

Question Key Details :

Key	Value
Comprehension	MCQ2

चित्रों को उनके कालानुसार सही क्रम में पहचानिए:

- A. कृष्ण गोवर्धन पर्वत उठाते हुए
- B. राग मेघा
- C. राम का विवाह
- D. महावीर का जन्म
- E. कालिया मर्दन

नीचे दिए गए विकल्पों में से सही उत्तर चुनिए:

- 1. A, B, C, D, E
- 2. B, A, C, E, D
- 3. A, E, B, D, C
- 4. D, B, A, E, C

Options :

- 485584144697. 1
- 485584144698. 2
- 485584144699. 3
- 485584144700. 4

Question Number : 240 Question Id : 48558436175 Question Type : MCQ Option Shuffling : No Is Question Mandatory : No Calculator : None Response Time : N.A Think Time : N.A Minimum Instruction Time : 0

Correct Marks : 5 Wrong Marks : 1

Question Key Details :

Key	Value
Comprehension	MCQ2

চিত্রশিল্পসমূহ সময়ের লগত মিলিয়ে শুদ্ধ উত্তর দিয়া ?

- A. কৃষ্ণই গোবর্ধন পর্বত দাঙিছিল
- B. রাগা মেঘা
- C. রামর বিবাহ
- D. মহাবীরর জন্ম
- E. কালিয়া মর্দন

- 1. A, B, C, D, E
- 2. B, A, C, E, D
- 3. A, E, B, D, C
- 4. D, B, A, E, C

Options :

- 485584144697. 1
- 485584144698. 2
- 485584144699. 3
- 485584144700. 4

Question Number : 240 Question Id : 48558436175 Question Type : MCQ Option Shuffling : No Is Question Mandatory : No Calculator : None Response Time : N.A Think Time : N.A Minimum Instruction Time : 0

Correct Marks : 5 Wrong Marks : 1

Question Key Details :

Key	Value
Comprehension	MCQ2

চিত্রগুলির সময়সীমা অনুযায়ী চিত্রের সঠিক ক্রম নির্ণয় কর

- A. কৃষ্ণ গোবর্ধন পর্বতকে ধারণ করেছেন
- B. রাগ মেঘা
- C. রামের বিবাহ
- D. মহাবীরের জন্ম
- E. কানীয় দমন

নিচের বিকল্পগুলি থেকে সঠিক উত্তর বেছে নাও:

- 1. A, B, C, D, E
- 2. B, A, C, E, D
- 3. A, E, B, D, C
- 4. D, B, A, E, C

Options :

- 485584144697. 1
- 485584144698. 2
- 485584144699. 3
- 485584144700. 4

Question Number : 240 Question Id : 48558436175 Question Type : MCQ Option Shuffling : No Is Question Mandatory : No Calculator : None Response Time : N.A Think Time : N.A Minimum Instruction Time : 0

Correct Marks : 5 Wrong Marks : 1

Question Key Details :

Key	Value
Comprehension	MCQ2

পেঁচন্টিনে সাগী শ্রীশ্রীমাং তেনা সময়কাল প্রমাণে ঐণাণ্যে।

- A. গৌবর্ধন পর্বতনে উপাসিতা কৃষ্ণ
- B. রামমেধা
- C. রামনা বয়ু
- D. মহাবীরনো জন্ম
- E. কাণীয়া মর্দল

নীয়ে আপেবা বিকল্যোমাংঘী সাগী জবাব পসঁট কসে।

- 1. A, B, C, D, E
- 2. B, A, C, E, D
- 3. A, E, B, D, C
- 4. D, B, A, E, C

Options :

- 485584144697. 1
- 485584144698. 2
- 485584144699. 3
- 485584144700. 4

Question Number : 240 Question Id : 48558436175 Question Type : MCQ Option Shuffling : No Is Question Mandatory : No Calculator : None Response Time : N.A Think Time : N.A Minimum Instruction Time : 0

Correct Marks : 5 Wrong Marks : 1

Question Key Details :

Key	Value
Comprehension	MCQ2

कालखंडानुसार पुढील वित्रांचा योग्य क्रम ओळखा

- A. गोवर्धन पर्वत उचलून घेतलेला कृष्ण
- B. राग मेघा
- C. रामाचा विवाह
- D. महावीरांचा जन्म
- E. कालिया मर्दन

खालील पर्यायातून अचूक उत्तर शोधा

- 1. A, B, C, D, E
- 2. B, A, C, E, D
- 3. A, E, B, D, C
- 4. D, B, A, E, C

Options :

- 485584144697. 1
- 485584144698. 2
- 485584144699. 3
- 485584144700. 4

Question Number : 240 Question Id : 48558436175 Question Type : MCQ Option Shuffling : No Is Question Mandatory : No Calculator : None
Response Time : N.A Think Time : N.A Minimum Instruction Time : 0

Correct Marks : 5 Wrong Marks : 1

Question Key Details :

Key	Value
Comprehension	MCQ2

ब्रह्म का क अक्षरानुसार निम्न क्रम काय करु

- A. कृष्ण ब्रह्मवर्षन पर्वतकडु उचल्लेला कृष्ण
- B. राग मेघा
- C. रामाकडु विवाह
- D. महावीरानुका जन्म
- E. कालिया मर्दन

खालील पर्यायातून अचूक उत्तर शोधा :

- 1. A, B, C, D, E
- 2. B, A, C, E, D
- 3. A, E, B, D, C
- 4. D, B, A, E, C

Options :

- 485584144697. 1
- 485584144698. 2
- 485584144699. 3
- 485584144700. 4

Question Number : 240 Question Id : 48558436175 Question Type : MCQ Option Shuffling : No Is Question Mandatory : No Calculator : None
Response Time : N.A Think Time : N.A Minimum Instruction Time : 0

Correct Marks : 5 Wrong Marks : 1

Question Key Details :

Key	Value
-----	-------

ਚਿੱਤਰਾਂ ਨੂੰ ਉਹਨਾਂ ਦੇ ਸਮਾਂ ਕਾਲ ਮੁਤਾਬਿਕ ਪਛਾਣੋ:

- A. ਕ੍ਰਿਸ਼ਨ ਨੇ ਗੋਵਰਪਨ ਪਰਬਤ ਚੁੱਕਿਆ
- B. ਰਾਗ ਮੋਖ
- C. ਰਾਮ ਦਾ ਵਿਆਹ
- D. ਮਹਾਂਵੀਰ ਦਾ ਜਨਮ
- E. ਕਾਲੀਆ ਮਰਦਾਨਾ

ਹੇਠਾਂ ਦਿੱਤੇ ਵਿਕਲਪਾਂ ਵਿੱਚੋਂ ਸਹੀ ਉੱਤਰ ਚੁਣੋ:

- 1. A, B, C, D, E
- 2. B, A, C, E, D
- 3. A, E, B, D, C
- 4. D, B, A, E, C

Options :

- 485584144697. 1
- 485584144698. 2
- 485584144699. 3
- 485584144700. 4

Question Number : 240 Question Id : 48558436175 Question Type : MCQ Option Shuffling : No Is Question Mandatory : No Calculator : None Response Time : N.A Think Time : N.A Minimum Instruction Time : 0

Correct Marks : 5 Wrong Marks : 1

Question Key Details :

Key	Value
Comprehension	MCQ2

ਅਵਠੁਰੀਨ ਕਾਲਕਟੁੱਤੁਠੁ ਪੁਰੁਠੁ. ਓਵਿਠੁਕੁਗਿਨਿ ਸਰਿਠੁਠੁ ਅਠੁਕੁਕੁ
ਵਰਿਸੁਠੁਕੁ ਕੁਨੁਨੁਠੁ:

- A. ਠੁਰੁਠੁਨੁਰੁ ਠੁਪੁੱਠੁ ਠੁਗੁਨੁਨੁ ਕੁਗੁਵਰੁਤੁਨੁ
- B. ਰੁਕੁ ਠੁਕੁ
- C. ਰੁਠੁਠੁ ਠੁਰੁਠੁ
- D. ਪਰੁਤੁ ਠੁਠੁ ਠੁਠੁਵਰਿ
- E. ਕੁਗੁਠੁ ਠੁਰੁਤੁਵੁ

ਠੁਠੁ ਠੁਰੁਪੁੱਠੁਗੁਨਿ ਵੁਠੁਪੁਕੁਗਿਨਿ ਠੁਰੁਠੁ ਸਰਿਠੁਠੁ ਵਿਠੁਠੁ ਠੁਰੁਠੁਠੁਕੁਕੁ:

- 1. A, B, C, D, E
- 2. B, A, C, E, D
- 3. A, E, B, D, C
- 4. D, B, A, E, C

Options :

- 485584144697. 1
- 485584144698. 2
- 485584144699. 3
- 485584144700. 4

Question Number : 240 Question Id : 48558436175 Question Type : MCQ Option Shuffling : No Is Question Mandatory : No Calculator : None Response Time : N.A Think Time : N.A Minimum Instruction Time : 0

Correct Marks : 5 Wrong Marks : 1

Question Key Details :

Key	Value
-----	-------

క్రింది చిత్రలేఖనాలలో వాటి వాటి కాలాలను బట్టి సరైన వరుస క్రమాన్ని గుర్తించండి

- A. కృష్ణుడు గోవర్ధన గిరి పర్వతాన్ని ఎత్తడం
- B. రాగ మేఘ
- C. రాముడి వివాహం
- D. మహావీరుడి జననం
- E. కాళీయ మర్ధనం

క్రింది వాటిలో సరైన వికల్పాన్ని ఎంచుకోండి

- 1. A, B, C, D, E
- 2. B, A, C, E, D
- 3. A, E, B, D, C
- 4. D, B, A, E, C

Options :

- 485584144697. 1
- 485584144698. 2
- 485584144699. 3
- 485584144700. 4

Question Number : 240 Question Id : 48558436175 Question Type : MCQ Option Shuffling : No Is Question Mandatory : No Calculator : None Response Time : N.A Think Time : N.A Minimum Instruction Time : 0

Correct Marks : 5 Wrong Marks : 1

Question Key Details :

Key	Value
Comprehension	MCQ2

پيشنگ کو زمانی اعتبار سے ترتیب میں :

- A. کرشنا نے گووردھن پہاڑ اٹھایا
- B. راجا مہا
- C. رام کی شادی
- D. مہاویر کا جنم
- E. کالیہ مارد

نیچے سے درست جواب کا انتخاب کریں :

- 1. A, B, C, D, E
- 2. B, A, C, E, D
- 3. A, E, B, D, C
- 4. D, B, A, E, C

Options :

- 485584144697. 1
- 485584144698. 2
- 485584144699. 3
- 485584144700. 4

Question Number : 241 Question Id : 48558436176 Question Type : MCQ Option Shuffling : No Is Question Mandatory : No Calculator : None Response Time : N.A Think Time : N.A Minimum Instruction Time : 0

Correct Marks : 5 Wrong Marks : 1

Question Key Details :


Key	Value
Comprehension	MCQ2



Identify the artwork and its theme?

- A. Krishna with Gopis
- B. Krishna on Swing
- C. Krishna Lifts Mount Govardhan
- D. Rasikapriya Theme
- E. Ramayana Theme

Choose the correct answer from the options given below:



- 1. A and E only
- 2. B and D only
- 3. C and D only
- 4. B and E only

Options :

- 485584144701. 1
- 485584144702. 2
- 485584144703. 3
- 485584144704. 4

Question Number : 241 Question Id : 48558436176 Question Type : MCQ Option Shuffling : No Is Question Mandatory : No Calculator : None
Response Time : N.A Think Time : N.A Minimum Instruction Time : 0

Correct Marks : 5 Wrong Marks : 1


Question Key Details :

Key	Value
Comprehension	MCQ2

चित्र और इसकी विषय-वस्तु को पहचानिए?

- A. गोपियों के साथ कृष्ण
- B. झूले पर कृष्ण
- C. कृष्ण गोमर्धन पर्वत उठाते हुए
- D. रसिकपिया विषयवस्तु
- E. रामायण विषयवस्तु

नीचे दिए गए विकल्पों में से सही उत्तर चुनिए:



1. A और E केवल
2. B और D केवल
3. C और D केवल
4. B और E केवल

Options :

- 485584144701. 1
- 485584144702. 2
- 485584144703. 3
- 485584144704. 4

Question Number : 241 Question Id : 48558436176 Question Type : MCQ Option Shuffling : No Is Question Mandatory : No Calculator : None Response Time : N.A Think Time : N.A Minimum Instruction Time : 0

Correct Marks : 5 Wrong Marks : 1

Question Key Details :

Key	Value
Comprehension	MCQ2

চিত্রশিল্প আৰু বিষয়বস্তু কোনটো ?

- A. কৃষ্ণ আৰু গোপী
- B. বুলনাত কৃষ্ণ
- C. কৃষ্ণই গোবৰ্ধন পৰ্বত দাঙিছে
- D. বাসিকাপ্ৰিয়া বিষয়বস্তু
- E. বাম্নাৰ্শৰ বিষয়বস্তু



- 1. কেৱলমাত্ৰ A আৰু E
- 2. কেৱলমাত্ৰ B আৰু D
- 3. কেৱলমাত্ৰ C আৰু D
- 4. কেৱলমাত্ৰ B আৰু E

Options :

- 485584144701. 1
- 485584144702. 2
- 485584144703. 3
- 485584144704. 4

Question Number : 241 Question Id : 48558436176 Question Type : MCQ Option Shuffling : No Is Question Mandatory : No Calculator : None Response Time : N.A Think Time : N.A Minimum Instruction Time : 0

Correct Marks : 5 Wrong Marks : 1


Question Key Details :

Key	Value
Comprehension	MCQ2

বিষয় অনুযায়ী চিত্রশিল্পটি নির্ধারিত কর ?

- A. গোপীদের সাথে কৃষ্ণ
- B. কৃষ্ণ খেলার
- C. কৃষ্ণ গোবর্ধন পর্বতকে তুলে ধরেছেন
- D. রাসিকাপ্রিয়া বিষয়
- E. রামায়ণ বিষয়

নিচের বিকল্পগুলি থেকে সঠিক উত্তর বেছে ন্যও:



1. কেবলমাত্র A এবং E
2. কেবলমাত্র B এবং D
3. কেবলমাত্র C এবং D
4. কেবলমাত্র B এবং E

Options :

- 485584144701. 1
- 485584144702. 2
- 485584144703. 3
- 485584144704. 4

Question Number : 241 Question Id : 48558436176 Question Type : MCQ Option Shuffling : No Is Question Mandatory : No Calculator : None
Response Time : N.A Think Time : N.A Minimum Instruction Time : 0

Correct Marks : 5 Wrong Marks : 1


Question Key Details :

Key	Value
Comprehension	MCQ2

કલાકારી અને તેના માધ્યમને ઓળખો.

- A. કૃષ્ણ સાથે ગોપીઓ
- B. કુંવા પર કૃષ્ણ
- C. ગોવર્ધન પર્વત ઉપાડતા કૃષ્ણ
- D. રસીકપ્રીય થીમ
- E. રામાયણ થીમ

નીચે આપેલા ચિત્રનોમાંથી સાચો જવાબ પસંદ કરો.



1. માત્ર A અને E
2. માત્ર B અને D
3. માત્ર C અને D
4. માત્ર B અને E

Options :

- 485584144701. 1
- 485584144702. 2
- 485584144703. 3
- 485584144704. 4

Question Number : 241 Question Id : 48558436176 Question Type : MCQ Option Shuffling : No Is Question Mandatory : No Calculator : None Response Time : N.A Think Time : N.A Minimum Instruction Time : 0

Correct Marks : 5 Wrong Marks : 1


Question Key Details :

Key	Value
Comprehension	MCQ2

ಕಲಾ ಕಾರ್ಯ ಮತ್ತು ಅದರ ವಿಷಯ ವಸ್ತುವನ್ನು ಗುರುತಿಸಿ?

- A. ಗೋಪಿಕೆಯರ ಮೋಹಿತರಲ್ಲಿ ಕೃಷ್ಣ
- B. ಉದ್ಯಾನದೊಳಿರುವ ಕೃಷ್ಣ
- C. ಗೋವರ್ಧನ ಪರ್ವತ ಎತ್ತುತ್ತಿರುವ ಕೃಷ್ಣ
- D. ದೊಡ್ಡದೊಂದು ವಿಷಯ ವಸ್ತು
- E. ರಾಮಾಯಣ ವಿಷಯ ವಸ್ತು

ಕೆಳಗೆ ನೀಡಿರುವ ಆಯ್ಕೆಗಳಿಂದ ಸರಿಯಾದ ಉತ್ತರವನ್ನು ಆರಿಸಿ



- 1. A ಮತ್ತು E ಮಾತ್ರ
- 2. B ಮತ್ತು D ಮಾತ್ರ
- 3. C ಮತ್ತು D ಮಾತ್ರ
- 4. B ಮತ್ತು E ಮಾತ್ರ

Options :

- 485584144701. 1
- 485584144702. 2
- 485584144703. 3
- 485584144704. 4

Question Number : 241 Question Id : 48558436176 Question Type : MCQ Option Shuffling : No Is Question Mandatory : No Calculator : None
Response Time : N.A Think Time : N.A Minimum Instruction Time : 0

Correct Marks : 5 Wrong Marks : 1


Question Key Details :

Key	Value
Comprehension	MCQ2

താഴെ കാണിച്ചിട്ടുള്ള ചിത്രവും, അതിൽനിന്നു ഇതിവൃത്തവും കണ്ടെത്തുക.

- A. കൃഷ്ണൻ്റെ ശോപികമാര്യം
- B. കൃഷ്ണൻ്റെ ഉത്തരവിൽ
- C. കൃഷ്ണൻ്റെ ശോഭയ്ക്കു പരിവൃതം ഉയർത്തുന്നു
- D. അധികൃതൻ്റെ പ്രമേയം
- E. രാമാനുജൻ്റെ പ്രമേയം

താഴെ കാണിച്ചിട്ടുള്ളവയിൽ നിന്ന് ശരിയായ ഉത്തരം തിരഞ്ഞെടുക്കുക :



- 1. A, E മാത്രം
- 2. B, D മാത്രം
- 3. C, D മാത്രം
- 4. B, E മാത്രം

Options :

- 485584144701. 1
- 485584144702. 2
- 485584144703. 3
- 485584144704. 4

Question Number : 241 Question Id : 48558436176 Question Type : MCQ Option Shuffling : No Is Question Mandatory : No Calculator : None
Response Time : N.A Think Time : N.A Minimum Instruction Time : 0
Correct Marks : 5 Wrong Marks : 1


Question Key Details :

Key	Value
Comprehension	MCQ2

पुढील कलाकृती व तिची विवकल्पना ओळखा.

- A. गोपीशरोबर कृष्ण
- B. झोपाळ्यावरील कृष्ण
- C. कृष्ण गोवर्धन धर्षत उचलतो
- D. रसिकप्रिया विवकल्पना
- E. रामायण विवकल्पना

खालील पर्यायातून अवृक उत्तर ढोखा.



- 1. A आणि E फक्त
- 2. B आणि D फक्त
- 3. C आणि D फक्त
- 4. B आणि E फक्त

Options :

- 485584144701. 1
- 485584144702. 2
- 485584144703. 3
- 485584144704. 4

Question Number : 241 Question Id : 48558436176 Question Type : MCQ Option Shuffling : No Is Question Mandatory : No Calculator : None

Response Time : N.A Think Time : N.A Minimum Instruction Time : 0

Correct Marks : 5 Wrong Marks : 1


Question Key Details :

Key	Value
Comprehension	MCQ2

ତିନି ଏକା ଏକା କ୍ଷମତି ଦାଖଲ ?

- A. ସ୍ୱପ୍ନଦର ବସିତ ଗୋପା
- B. ସ୍ୱପ୍ନ ଗୋପିତେ
- C. ସ୍ୱପ୍ନ ଗୋପଣିତ ପାହାଚକୁ ଉପାକ୍ଷୟା
- D. ଚାରିଦିଗର ସ୍ୱପ୍ନ
- E. ଉପାକ୍ଷୟ ସ୍ୱପ୍ନ

ଦିଶାକ୍ଷୟକ ବିଦ୍ୟୁତ୍ କାହିଁ ଉତ୍ପତ୍ତି ଦାଖଲ ?



- 1. ଗୋପନ A ଏକା E
- 2. ଗୋପନ B ଏକା D
- 3. ଗୋପନ C ଏକା D
- 4. ଗୋପନ B ଏକା E

Options :

- 485584144701. 1
- 485584144702. 2
- 485584144703. 3
- 485584144704. 4

Question Number : 241 Question Id : 48558436176 Question Type : MCQ Option Shuffling : No Is Question Mandatory : No Calculator : None

Response Time : N.A Think Time : N.A Minimum Instruction Time : 0

Correct Marks : 5 Wrong Marks : 1

Question Key Details :

Key	Value
Comprehension	MCQ2

ਕਲਾ ਦਾ ਨਾਮ ਅਤੇ ਵਿਸ਼ਾ ਪਛਾਣੋ।

- A. ਕੋਪੀਆਂ ਨਾਲ ਕ੍ਰਿਸ਼ਨ
- B. ਖੂਲੇ ਤੇ ਕ੍ਰਿਸ਼ਨ
- C. ਕ੍ਰਿਸ਼ਨ ਨੇ ਗੋਵਰਧਨਪਰਬਤ ਚੁੱਕੀਆਂ
- D. ਰਸਿਕਪ੍ਰਿਯਾ ਵਿਸ਼ਾ
- E. ਰਾਮਾਇਣ ਵਿਸ਼ਾ

ਹੇਠਾਂ ਦਿੱਤੇ ਵਿਕਲਪਾਂ ਵਿੱਚੋਂ ਸਹੀ ਉੱਤਰ ਚੁਣੋ:



- 1. ਸਿਰਫ਼ A ਅਤੇ E
- 2. ਸਿਰਫ਼ B ਅਤੇ D
- 3. ਸਿਰਫ਼ C ਅਤੇ D
- 4. ਸਿਰਫ਼ B ਅਤੇ E

Options :

- 485584144701. 1
- 485584144702. 2
- 485584144703. 3
- 485584144704. 4

Question Number : 241 Question Id : 48558436176 Question Type : MCQ Option Shuffling : No Is Question Mandatory : No Calculator : None Response Time : N.A Think Time : N.A Minimum Instruction Time : 0

Correct Marks : 5 Wrong Marks : 1


Question Key Details :

Key	Value
Comprehension	MCQ2

இந்த ஓவியத்தின் கலைவேலைப்பாடு மற்றும் அதன் கருதுபொருளைக் கண்டறிக?

- A. இறவுணர்வு வித் கோடீஸ்
- B. இறவுணர்வு ஆன் ஸ்வீட்
- C. இறவுணர்வு லிப்ட்டஸ் மெளன்ட் கோவர்த்தன்
- D. ரசிகப்பிரியா கருதுபொருள்
- E. ராமாயணா கருதுபொருள்

கீழே தரப்பட்டுள்ள வாய்ப்புகளில் இரண்டு சரியான விடையைத் தேர்ந்தெடுக்கவும்.



1. A மற்றும் E மட்டுமே
2. B மற்றும் D மட்டுமே
3. C மற்றும் D மட்டுமே
4. B மற்றும் E மட்டுமே

Options :

- 485584144701. 1
- 485584144702. 2
- 485584144703. 3
- 485584144704. 4

Question Number : 241 Question Id : 48558436176 Question Type : MCQ Option Shuffling : No Is Question Mandatory : No Calculator : None

Response Time : N.A Think Time : N.A Minimum Instruction Time : 0

Correct Marks : 5 Wrong Marks : 1


Question Key Details :

Key	Value
Comprehension	MCQ2

కళకృతి మరియు దాని విషయాన్ని గుర్తించండి ?

- A. గోవిందతో కృష్ణుడు
- B. తాయలలో కృష్ణుడు
- C. కృష్ణుడు గోవర్ధన గిరిని ఎత్తడం
- D. రసికశ్రీయ నృపత్యం
- E. రామాయణ నృపత్యం

క్రింది వాటిలో సరైన సమాధానాన్ని ఎంచుకోండి.



- 1. A మరియు E మాత్రమే
- 2. B మరియు D మాత్రమే
- 3. C మరియు D మాత్రమే
- 4. B మరియు E మాత్రమే

Options :

- 485584144701. 1
- 485584144702. 2
- 485584144703. 3
- 485584144704. 4

Question Number : 241 Question Id : 48558436176 Question Type : MCQ Option Shuffling : No Is Question Mandatory : No Calculator : None

Response Time : N.A Think Time : N.A Minimum Instruction Time : 0

Correct Marks : 5 Wrong Marks : 1


Question Key Details :

Key	Value
Comprehension	MCQ2

فن پارہ اور اس کی تہیم کی نشاندہی کیجئے ؟

- A. کرنن گریپوں کے ساتھ
- B. کرنن جھولنے پر
- C. کرنن نے گورنن پہنڑ تھیانا
- D. رسکیریا تہیم
- E. راسنن تہیم

نیچے سے درست جواب کا انتخاب کریں :-



1. A اور E صرف
2. B اور D صرف
3. C اور D صرف
4. B اور E صرف

Options :

- 485584144701. 1
- 485584144702. 2
- 485584144703. 3
- 485584144704. 4

Question Number : 242 Question Id : 48558436177 Question Type : MCQ Option Shuffling : No Is Question Mandatory : No Calculator : None
Response Time : N.A Think Time : N.A Minimum Instruction Time : 0

Correct Marks : 5 Wrong Marks : 1

Question Key Details :

Key	Value
Comprehension	MCQ2

Identify the Schools of Deccani painting among the followings.

- A. Bijapur, Kangra, Golconda
- B. Basohli, Bijapur
- C. Kangra, Golconda, Basohli
- D. Golconda, Bijapur, Ahmadnagar
- E. Bijapur, Golconda

Choose the correct answer from the options given below:

- 1. A and E only
- 2. C and D only
- 3. D and E only
- 4. A and C only

Options :

- 485584144705. 1
- 485584144706. 2
- 485584144707. 3
- 485584144708. 4

Question Number : 242 Question Id : 48558436177 Question Type : MCQ Option Shuffling : No Is Question Mandatory : No Calculator : None

Response Time : N.A Think Time : N.A Minimum Instruction Time : 0

Correct Marks : 5 Wrong Marks : 1

Question Key Details :

Key	Value
Comprehension	MCQ2

निम्न में से दक्कनी चित्रकला शैली को पहचानिए:

- A. बीजापुर, कांगड़ा, गोलकुंडा
- B. बसोहली, बीजापुर
- C. कांगड़ा, गोलकुंडा, बसोहली
- D. गोलकुंडा, बीजापुर, अहमदनगर
- E. बीजापुर, गोलकुंडा

नीचे दिए गए विकल्पों में से सही उत्तर चुनिए:

- 1. A और E केवल
- 2. C और D केवल
- 3. D और E केवल
- 4. A और C केवल

Options :

- 485584144705. 1
- 485584144706. 2
- 485584144707. 3
- 485584144708. 4

Question Number : 242 Question Id : 48558436177 Question Type : MCQ Option Shuffling : No Is Question Mandatory : No Calculator : None

Response Time : N.A Think Time : N.A Minimum Instruction Time : 0

Correct Marks : 5 Wrong Marks : 1

Question Key Details :

Key	Value
Comprehension	MCQ2

ডেকানী চিত্রশিল্পৰ স্থল কোনখন ?

- A. বিজাপুৰ, কাংগ্ৰা, গলকন্দা
- B. বাছলী, বিজাপুৰ
- C. কাংগ্ৰা, গলকন্দা, বাছলী
- D. গলকন্দা, বিজাপুৰ, আহমদনগৰ
- E. বিজাপুৰ, গলকন্দা

1. কেবলমাত্ৰ A আৰু E
2. কেবলমাত্ৰ C আৰু D
3. কেবলমাত্ৰ D আৰু E
4. কেবলমাত্ৰ A আৰু C

Options :

- 485584144705. 1
- 485584144706. 2
- 485584144707. 3
- 485584144708. 4

Question Number : 242 Question Id : 48558436177 Question Type : MCQ Option Shuffling : No Is Question Mandatory : No Calculator : None Response Time : N.A Think Time : N.A Minimum Instruction Time : 0 Correct Marks : 5 Wrong Marks : 1

Question Key Details :

Key	Value
Comprehension	MCQ2

ডেকানী পেণ্টিং ঘৰানাটি চিহ্নিত কৰ

- A. বিজাপুৰ, কাঙুৰা, গোলকোন্ডা
- B. বাসলী, বিজাপুৰ
- C. কাঙুৰা, গোলকোন্ডা, বাসলী
- D. গোলকোন্ডা, বিজাপুৰ, আহমদনগৰ
- E. বিজাপুৰ, গোলকোন্ডা

সঠিক উত্তৰটি চিহ্নিত কৰ:

1. কেবলমাত্ৰ A এবং E
2. কেবলমাত্ৰ C এবং D
3. কেবলমাত্ৰ D এবং E
4. কেবলমাত্ৰ A এবং C

Options :

- 485584144705. 1
- 485584144706. 2
- 485584144707. 3
- 485584144708. 4

Question Number : 242 Question Id : 48558436177 Question Type : MCQ Option Shuffling : No Is Question Mandatory : No Calculator : None Response Time : N.A Think Time : N.A Minimum Instruction Time : 0 Correct Marks : 5 Wrong Marks : 1

Question Key Details :

Key	Value
Comprehension	MCQ2

डेककानी पैलण्टिगनी सूबोने ओणयो.

- A. बीजापुर, कांजरा, गोवर्कीडा
- B. बसोडवी, बीजापुर
- C. कांजरा, गोवर्कीडा, बसोडवी
- D. गोवर्कीडा, बीजापुर, अडमडनगर
- E. बीजापुर, गोवर्कीडा

नीचे आपेवा विकल्पोंमांथी साथी जवाब परसंढ करो.

1. मात्र A अने E
2. मात्र C अने D
3. मात्र D अने E
4. मात्र A अने C

Options :

- 485584144705. 1
- 485584144706. 2
- 485584144707. 3
- 485584144708. 4

Question Number : 242 Question Id : 48558436177 Question Type : MCQ Option Shuffling : No Is Question Mandatory : No Calculator : None
Response Time : N.A Think Time : N.A Minimum Instruction Time : 0

Correct Marks : 5 Wrong Marks : 1

Question Key Details :

Key	Value
Comprehension	MCQ2

ढेकूनी डेडूकलेयु शालेगलनुु गुरुडुडुडु.

- A. बीजापुर, कांजरा, गोवर्कीडा
- B. बसोडवी, बीजापुर
- C. कांजरा, गोवर्कीडा, बसोडवी
- D. गोवर्कीडा, बीजापुर, अडमडनगर
- E. बीजापुर, गोवर्कीडा

केके नीरेडुरुव अयुुगलेड गरीयुवड लुतुरवनुु अरुडुडु.

1. A मडतु E मडतु
2. C मडतु D मडतु
3. D मडतु E मडतु
4. A मडतु C मडतु

Options :

- 485584144705. 1
- 485584144706. 2
- 485584144707. 3
- 485584144708. 4

Question Number : 242 Question Id : 48558436177 Question Type : MCQ Option Shuffling : No Is Question Mandatory : No Calculator : None
Response Time : N.A Think Time : N.A Minimum Instruction Time : 0

Correct Marks : 5 Wrong Marks : 1

Question Key Details :

Key	Value
Comprehension	MCQ2

ഡെക്കാണി സമ്പ്രദായത്തിലുള്ള പെയിന്റിങ്ങുകൾ ഏതെല്ലാം ?

- A. ബിജാപൂർ, കാൻഗ്ര, ഗോൽക്കോണ്ട
- B. ബസോഹ്ലി, ബിജാപൂർ
- C. കാൻഗ്ര, ഗോൽക്കോണ്ട, ബസോഹ്ലി
- D. ഗോൽക്കോണ്ട, ബിജാപൂർ, അഹമ്മത് നഗർ
- E. ബിജാപൂർ, ഗോൽക്കോണ്ട

താഴെ നൽകിയിട്ടുള്ളവയിൽ നിന്ന് ശരിയായ ഉത്തരം തിരഞ്ഞെടുക്കുക:

- 1. A, E മാത്രം
- 2. C, D മാത്രം
- 3. D, E മാത്രം
- 4. A, C മാത്രം

Options :

- 485584144705. 1
- 485584144706. 2
- 485584144707. 3
- 485584144708. 4

Question Number : 242 Question Id : 48558436177 Question Type : MCQ Option Shuffling : No Is Question Mandatory : No Calculator : None
Response Time : N.A Think Time : N.A Minimum Instruction Time : 0
Correct Marks : 5 Wrong Marks : 1

Question Key Details :

Key	Value
Comprehension	MCQ2

दख्खनी चित्रकलेच्या शाळा ओळखा

- A. बिजापूर, कांगडा, गोलकोंडा
- B. बासोहली, बिजापूर
- C. कांगडा, गोलकोंडा, बासोहली
- D. गोलकोंडा, बिजापूर, बासोहली
- E. बिजापूर, गोलकोंडा

खालील पर्यायातून अचूक उत्तर शोधा

- 1. केवळ A आणि E
- 2. केवळ C आणि D
- 3. केवळ D आणि E
- 4. केवळ A आणि C

Options :

- 485584144705. 1
- 485584144706. 2
- 485584144707. 3
- 485584144708. 4

Question Number : 242 Question Id : 48558436177 Question Type : MCQ Option Shuffling : No Is Question Mandatory : No Calculator : None
Response Time : N.A Think Time : N.A Minimum Instruction Time : 0
Correct Marks : 5 Wrong Marks : 1

Question Key Details :

Key	Value
Comprehension	MCQ2

ਫੇਰਕਾਰੀ ਚਿੱਤਰ ਪੂਰਨਕੀ ਕੀ ਕੀ ਕੀ

- A. ਚਿੱਤਰ, ਕੀ ਕੀ, ਕੀ ਕੀ
- B. ਕੀ ਕੀ, ਚਿੱਤਰ
- C. ਕੀ ਕੀ, ਕੀ ਕੀ, ਕੀ ਕੀ
- D. ਕੀ ਕੀ, ਚਿੱਤਰ, ਕੀ ਕੀ
- E. ਚਿੱਤਰ, ਕੀ ਕੀ

ਚਿੱਤਰਕਾਰੀ ਚਿੱਤਰ ਕੀ ਕੀ ਕੀ

- 1. ਕੀ ਕੀ A ਅਤੇ E
- 2. ਕੀ ਕੀ C ਅਤੇ D
- 3. ਕੀ ਕੀ D ਅਤੇ E
- 4. ਕੀ ਕੀ A ਅਤੇ C

Options :

- 485584144705. 1
- 485584144706. 2
- 485584144707. 3
- 485584144708. 4

Question Number : 242 Question Id : 48558436177 Question Type : MCQ Option Shuffling : No Is Question Mandatory : No Calculator : None
Response Time : N.A Think Time : N.A Minimum Instruction Time : 0
Correct Marks : 5 Wrong Marks : 1
Question Key Details :

Key	Value
Comprehension	MCQ2

ਡੈਕਨ ਚਿੱਤਰਕਾਰੀ ਦੇ ਸਕੂਲ ਪਛਾਣੋ?

- A. ਬੀਜਾਪੁਰ, ਕਾਂਗੜਾ, ਗੋਲਕੋਟ
- B. ਬੇਸੋਹਲੀ, ਬੀਜਾਪੁਰ
- C. ਕਾਂਗੜਾ, ਗੋਲਕੋਟ, ਬੇਸੋਹਲੀ
- D. ਗੋਲਕੋਟ, ਬੀਜਾਪੁਰ, ਅਹਿਮਦਨਗਰ
- E. ਗੋਲਕੋਟ, ਬੀਜਾਪੁਰ

ਹੇਠਾਂ ਦਿੱਤੇ ਵਿਕਲਪਾਂ ਵਿੱਚੋਂ ਸਹੀ ਉੱਤਰ ਚੁਣੋ:

- 1. ਸਿਰਫ A ਅਤੇ E
- 2. ਸਿਰਫ C ਅਤੇ D
- 3. ਸਿਰਫ D ਅਤੇ E
- 4. ਸਿਰਫ A ਅਤੇ C

Options :

- 485584144705. 1
- 485584144706. 2
- 485584144707. 3
- 485584144708. 4

Question Number : 242 Question Id : 48558436177 Question Type : MCQ Option Shuffling : No Is Question Mandatory : No Calculator : None
Response Time : N.A Think Time : N.A Minimum Instruction Time : 0
Correct Marks : 5 Wrong Marks : 1
Question Key Details :

Key	Value
Comprehension	MCQ2

டெக்கானீய ஓவியங்களின் பள்ளிகளைக் கண்டறிக:

- A. பிஜபூர், காங்கிர, கோல்கொண்ட
- B. பசோலி, பிஜபூர்
- C. காங்கிர, கோல்கொண்ட, பசோலி
- D. கோல்கொண்ட, பிஜபூர், அஹ்மத்நகர்
- E. பிஜபூர், கோல்கொண்ட

கீழே தரப்பட்டுள்ள வாய்ப்புகளில் இருந்து சரியான விடையைத் தேர்ந்தெடுக்கவும்:

1. A மற்றும் E மட்டுமே
2. C மற்றும் D மட்டுமே
3. D மற்றும் E மட்டுமே
4. A மற்றும் C மட்டுமே

Options :

- 485584144705. 1
- 485584144706. 2
- 485584144707. 3
- 485584144708. 4

Question Number : 242 Question Id : 48558436177 Question Type : MCQ Option Shuffling : No Is Question Mandatory : No Calculator : None Response Time : N.A Think Time : N.A Minimum Instruction Time : 0

Correct Marks : 5 Wrong Marks : 1

Question Key Details :

Key	Value
Comprehension	MCQ2

தக்கூசு சித்ரக்காலகூ சஸ்பஸ்திஸ்சிஸ ஸாஸஸஸஸஸ ஸுஸிஸஸஸ

- A. ஸிஸஸஸஸ, கஸஸஸ, ஸீஸிஸஸஸ
- B. ஸஸஸஸ, ஸிஸஸஸஸ
- C. கஸஸஸ, ஸீஸிஸஸஸ, ஸஸஸஸ
- D. ஸீஸிஸஸஸ, ஸிஸஸஸஸ, ஸஸஸஸஸஸ
- E. ஸிஸஸஸஸ, ஸீஸிஸஸஸ

ஸிஸஸி ஸஸஸஸஸ ஸஸஸஸஸஸஸஸஸ ஸஸஸஸஸஸ

1. A ஸஸஸஸஸ E ஸஸஸஸஸ
2. C ஸஸஸஸஸ D ஸஸஸஸஸ
3. D ஸஸஸஸஸ E ஸஸஸஸஸ
4. A ஸஸஸஸஸ C ஸஸஸஸஸ

Options :

- 485584144705. 1
- 485584144706. 2
- 485584144707. 3
- 485584144708. 4

Question Number : 242 Question Id : 48558436177 Question Type : MCQ Option Shuffling : No Is Question Mandatory : No Calculator : None Response Time : N.A Think Time : N.A Minimum Instruction Time : 0

Correct Marks : 5 Wrong Marks : 1

Question Key Details :

Key	Value
Comprehension	MCQ2

ذکری بیتنگ اسکو لڑ کی نشاندہی کیجئے :

- A. بھابھو، کانگڑ، گولکنڈہ
- B. بسولی، بھابھو
- C. کانگڑ، گولکنڈہ، بسولی
- D. گولکنڈہ، بھابھو، احمد نگر
- E. بھابھو، گولکنڈہ

نیچے سے درست جواب کا انتخاب کریں :

- 1. A اور E صرف
- 2. C اور D صرف
- 3. D اور E صرف
- 4. A اور C صرف

Options :

- 485584144705. 1
- 485584144706. 2
- 485584144707. 3
- 485584144708. 4

Question Number : 243 Question Id : 48558436178 Question Type : MCQ Option Shuffling : No Is Question Mandatory : No Calculator : None Response Time : N.A Think Time : N.A Minimum Instruction Time : 0

Correct Marks : 5 Wrong Marks : 1

Question Key Details :

Key	Value
Comprehension	MCQ2

What are Waslis?

- A. Layered, thin sheet of handmade paper
- B. Glued together to get the desired thickness
- C. Affinity for naturalism
- D. Modes of narration
- E. Layered with oil and cloth

Choose the correct answer from the options given below:

- 1. A and B only
- 2. A and C only
- 3. A and D only
- 4. A and E only

Options :

- 485584144709. 1
- 485584144710. 2
- 485584144711. 3
- 485584144712. 4

Question Number : 243 Question Id : 48558436178 Question Type : MCQ Option Shuffling : No Is Question Mandatory : No Calculator : None Response Time : N.A Think Time : N.A Minimum Instruction Time : 0

Correct Marks : 5 Wrong Marks : 1

Question Key Details :

Key	Value
Comprehension	MCQ2

वसलि क्या हैं?

- A. हाथ से बना परतदार और पतला पेपर
- B. वांछित मोटाई प्राप्त करने के लिए दो वस्तुओं को आपस में चिपकाना
- C. प्रकृतिवाद के लिए सजातीयता
- D. कथा वर्णन के प्रकार
- E. तेल और कपड़े से ढकी परत

नीचे दिए गए विकल्पों में से सही उत्तर चुनिए:

- 1. A और B केवल
- 2. A और C केवल
- 3. A और D केवल
- 4. A और E केवल

Options :

- 485584144709. 1
- 485584144710. 2
- 485584144711. 3
- 485584144712. 4

Question Number : 243 Question Id : 48558436178 Question Type : MCQ Option Shuffling : No Is Question Mandatory : No Calculator : None
Response Time : N.A Think Time : N.A Minimum Instruction Time : 0
Correct Marks : 5 Wrong Marks : 1

Question Key Details :

Key	Value
Comprehension	MCQ2

বাহুলিছ কি ?

- A. স্তবযুক্ত, হাতে বনোৱা পাতল কাগজ
- B. মনঃপূত গঢ়তা পাবলৈ একেলগে আঠা লাগোৱা
- C. এফিনিতি ফৰ নেচুৰালিজম
- D. ব্যাখ্যাৰ স্থিতি
- E. স্তবযুক্ত তেলৰ আৰু কাপোৰৰ

শুদ্ধ উত্তৰ চিনাক্ত কৰা:

- 1. A আৰু B কেৱল
- 2. A আৰু C কেৱল
- 3. A আৰু D কেৱল
- 4. A আৰু E কেৱল

Options :

- 485584144709. 1
- 485584144710. 2
- 485584144711. 3
- 485584144712. 4

Question Number : 243 Question Id : 48558436178 Question Type : MCQ Option Shuffling : No Is Question Mandatory : No Calculator : None
Response Time : N.A Think Time : N.A Minimum Instruction Time : 0
Correct Marks : 5 Wrong Marks : 1

Question Key Details :

Key	Value
Comprehension	MCQ2

ওয়েসলিস কি ?

- A. খুব পাতলা হ্যান্ড মেড (হাতে তৈরী) সিটের স্তর
- B. আঠা দিয়ে জুড়ে নেওয়া যাতে মনের মতো করে পুরু মোটা করা যায়
- C. অ্যাফলাইন ফর ন্যাচারলিজম
- D. বিবৃতির ধরণ (মেড অফ ন্যারেশন)
- E. তেল এবং বস্ত্রের স্তর

সঠিক উত্তর নির্ধারণ কর:

- 1. কেবলমাত্র A এবং B
- 2. কেবলমাত্র A এবং C
- 3. কেবলমাত্র A এবং D
- 4. কেবলমাত্র A এবং E

Options :

- 485584144709. 1
- 485584144710. 2
- 485584144711. 3
- 485584144712. 4

Question Number : 243 Question Id : 48558436178 Question Type : MCQ Option Shuffling : No Is Question Mandatory : No Calculator : None
Response Time : N.A Think Time : N.A Minimum Instruction Time : 0
Correct Marks : 5 Wrong Marks : 1

Question Key Details :

Key	Value
Comprehension	MCQ2

বাসবীস যেটবে শূ ?

- A. ছাথল্লাবটলা মগল্লা স্তরবাণী, পাতণী শীট
- B. ঠখল্লা মগল্লা মগল্লা মগল্লা মগল্লা মগল্লা
- C. প্রাকৃতিকর মগল্লা মগল্লা
- D. বর্ষাণনী রীতী
- E. তেব অনে মগল্লা মগল্লা

নীয়ে আপেবা বিকল্লামাংখী সাখী জবাব পসং কয়.

- 1. মাত্র A অনে B
- 2. মাত্র A অনে C
- 3. মাত্র A অনে D
- 4. মাত্র A অনে E

Options :

- 485584144709. 1
- 485584144710. 2
- 485584144711. 3
- 485584144712. 4

Question Number : 243 Question Id : 48558436178 Question Type : MCQ Option Shuffling : No Is Question Mandatory : No Calculator : None
Response Time : N.A Think Time : N.A Minimum Instruction Time : 0
Correct Marks : 5 Wrong Marks : 1

Question Key Details :

Key	Value
Comprehension	MCQ2

वासलीस काय आहे?

- A. हताने बनवलेली पातळ स्तरित पत्रक
- B. हवी तेवढी जाडी मिळविण्यासाठी एकत्र चिकटवणे
- C. निसर्गवादासाठी अनुकूल
- D. कथन करण्याची पध्दत
- E. तेल आणि कापडा सह स्तरित करणे

खालील पर्यायातून अचूक उत्तर शोधा

- 1. केवळ A आणि B
- 2. केवळ A आणि C
- 3. केवळ A आणि D
- 4. केवळ A आणि E

Options :

- 485584144709. 1
- 485584144710. 2
- 485584144711. 3
- 485584144712. 4

Question Number : 243 Question Id : 48558436178 Question Type : MCQ Option Shuffling : No Is Question Mandatory : No Calculator : None
Response Time : N.A Think Time : N.A Minimum Instruction Time : 0

Correct Marks : 5 Wrong Marks : 1

Question Key Details :

Key	Value
Comprehension	MCQ2

ବାସଲିସ କାୟ ?

- A. ହତାନେ, ହାତକିଆରି ପାତଳ କାଗଜ
- B. ହାତୁଥିବା ସମତା ପାତଳା ପାଇଁ ପତଳର ସହିତ ବିପଜା ଘୋଡ଼ା
- C. ନିର୍ଗବାଦୀ ପତଳ ନେତୃତ୍ୱାଧୀନ
- D. କଥନର ପଦ୍ଧତି
- E. ତେଲ ଏବଂ କାପଡ଼ା ସହ ଶ୍ରେଣିତ

ଖାଲିଲ ପର୍ଯ୍ୟାୟତୁନ ଅଚୁକ ଉତ୍ତର ଶୋଧୁ:

- 1. କେବଳ A ଏବଂ B
- 2. କେବଳ A ଏବଂ C
- 3. କେବଳ A ଏବଂ D
- 4. କେବଳ A ଏବଂ E

Options :

- 485584144709. 1
- 485584144710. 2
- 485584144711. 3
- 485584144712. 4

Question Number : 243 Question Id : 48558436178 Question Type : MCQ Option Shuffling : No Is Question Mandatory : No Calculator : None
Response Time : N.A Think Time : N.A Minimum Instruction Time : 0

Correct Marks : 5 Wrong Marks : 1

Question Key Details :

Key	Value
Comprehension	MCQ2

ਵਾਸਲਿਸ ਕੀ ਹਨ?

- ਪ੍ਰਤਵਾਲੀ, ਰੱਥ ਦੀ ਬਣਾਈ ਪਤਲੀ ਚਾਦਰ
- ਚਾਹਵਾਨ ਮੋਟਾਰੀ ਪ੍ਰਾਪਤ ਕਰਨ ਲਈ ਆਪਸ ਵਿੱਚ ਜੋੜਨਾ
- ਕੁਦਰਤਵਾਦ ਲਈ ਐਫਾਈਨ
- ਕਥਾ ਦੇ ਢੰਗ
- ਤੇਲ ਅਤੇ ਕਪੜੇ ਦੀ ਪਰਤ

ਹੇਠਾਂ ਦਿੱਤੇ ਵਿਕਲਪਾਂ ਵਿੱਚੋਂ ਸਹੀ ਉੱਤਰ ਚੁਣੋ:

- ਸਿਰਫ਼ A ਅਤੇ B
- ਸਿਰਫ਼ A ਅਤੇ C
- ਸਿਰਫ਼ A ਅਤੇ D
- ਸਿਰਫ਼ A ਅਤੇ E

Options :

485584144709. 1
485584144710. 2
485584144711. 3
485584144712. 4

Question Number : 243 Question Id : 48558436178 Question Type : MCQ Option Shuffling : No Is Question Mandatory : No Calculator : None Response Time : N.A Think Time : N.A Minimum Instruction Time : 0 Correct Marks : 5 Wrong Marks : 1

Question Key Details :

Key	Value
Comprehension	MCQ2

ਵਾਸ਼ਲਿਸ਼ ਈਠਪਵੈ ਈਠਠ?

- ਕੈਯਾਲ਼ ਸ਼ੈਯਯਪੱਪੱਲ ਪਲਲਮੀਲਪੱਪੱਲ ਮੇਲਲੀਯ ਤਕਠੁ
- ਵੀਰੁਮਪੱਤੱਕੱਕ ਤਢੀਠਮਪੱ ਪੇਪੁਵੁਵਤੁਰੱਕੇਠ ਓੱਢੀ ਓਠੁਠਾਕਪੱਪੱਲਵੈ
- ਊਯੁਰੱਕੈਯੀਯਲ਼ ਮੀਤਾਠ ਠਾੱਲੱਲਮ
- ਏਠੁੱਤੁਰੈਕੱਕੁਮ ਪਾਠੁਗੁਕਠ
- ਏਠੁਠੇਠਯ ਮਠੁਠੁਮ ਤੁਠੁਠੀ ਕੋਠਾਠੁਲ ਪਲਲਠੁਕਠ

ਏਠੇਠੁ ਤੁਰਪੱਪੱਠੁਠਠ ਵਾਯਪੱਪੁਕਠੀਲ਼ ਊਰੁਠੁਤੁ ਸੁਰੀਯਾਠ ਵੀਢੈਯੈਯੁਤੁ ਠੇਤੁਰੁਠੁਠੇਠੁਕੱਕਵੁਮ:

- A ਮਠੁਠੁਮ B ਮੱਠੁਠੇਮ
- A ਮਠੁਠੁਮ C ਮੱਠੁਠੇਮ
- A ਮਠੁਠੁਮ D ਮੱਠੁਠੇਮ
- A ਮਠੁਠੁਮ E ਮੱਠੁਠੇਮ

Options :

485584144709. 1
485584144710. 2
485584144711. 3
485584144712. 4

Question Number : 243 Question Id : 48558436178 Question Type : MCQ Option Shuffling : No Is Question Mandatory : No Calculator : None Response Time : N.A Think Time : N.A Minimum Instruction Time : 0 Correct Marks : 5 Wrong Marks : 1

Question Key Details :

Key	Value
Comprehension	MCQ2

వాస్తవ అంటే ఏమిటి?

- పొరలుగా, చేతితో తయారు చేసిన సన్నని షీట్
- కావలసిన మందం పొందడానికి కలిసి అతుక్కొని
- సహజత్యానికి కూర్చబడిన
- కథనం యొక్క పద్ధతులు
- నూనె మరియు వస్త్రంతో పొరలు చేయబడ్డాయి

క్రింద ఇవ్వబడిన వికల్పాలలో నుండి సరైన జవాబుని ఎంచుకోండి

- A మరియు B మాత్రమే
- A మరియు C మాత్రమే
- A మరియు D మాత్రమే
- A మరియు E మాత్రమే

Options :

485584144709. 1
485584144710. 2
485584144711. 3
485584144712. 4

Question Number : 243 Question Id : 48558436178 Question Type : MCQ Option Shuffling : No Is Question Mandatory : No Calculator : None Response Time : N.A Think Time : N.A Minimum Instruction Time : 0

Correct Marks : 5 Wrong Marks : 1

Question Key Details :

Key	Value
Comprehension	MCQ2

واسطیں (Waslis) کیا ہیں ؟

- بانہ سے بنی پتلی برتنوں والی کاغذ
- مطلوبہ موٹائی حاصل کرنے کے لئے ایک دوسرے کے ساتھ چپکانا
- فطرت پرستی کے لئے موزوں ہے
- وضاحت کے طریقے
- تیل اور کپڑوں کی برتنیں

نیچے سے درست جواب کا انتخاب کریں :

1. A اور B صرف
2. A اور C صرف
3. A اور D صرف
4. A اور E صرف

Options :

485584144709. 1
485584144710. 2
485584144711. 3
485584144712. 4

Question Number : 244 Question Id : 48558436179 Question Type : MCQ Option Shuffling : No Is Question Mandatory : No Calculator : None Response Time : N.A Think Time : N.A Minimum Instruction Time : 0

Correct Marks : 5 Wrong Marks : 1

Question Key Details :

Key	Value
-----	-------

Identify the correct statements about Amrita Sher-Gil from the following options.

- A. Amrita Sheer-Gil was half Hungarian and half Indian
- B. She was trained in Canada
- C. She was influenced by Paul Klee
- D. Haldi Binder is the famous painting of Amrita Sher-Gil
- E. Amrita assimilated miniature traditions of Indian art with European modernism

Choose the correct answer from the options given below:

- 1. C and D only
- 2. A and D only
- 3. D and E only
- 4. A and E only

Options :

- 485584144713. 1
- 485584144714. 2
- 485584144715. 3
- 485584144716. 4

Question Number : 244 Question Id : 48558436179 Question Type : MCQ Option Shuffling : No Is Question Mandatory : No Calculator : None

Response Time : N.A Think Time : N.A Minimum Instruction Time : 0

Correct Marks : 5 Wrong Marks : 1

Question Key Details :

Key	Value
Comprehension	MCQ2

निम्न विकल्पों में से अमृता शेर-गिल के बारे में सही कथन पहचानिए:

- A. अमृता शेर-गिल आधी हंगरियन और आधी भारतीय थी
- B. वह कनाडा में प्रशिक्षित थी
- C. वह पॉल क्ली से प्रभावित थी
- D. हल्दी बाइंडर अमृता शेर-गिल की प्रसिद्ध चित्रकारी है
- E. अमृता ने भारतीय लघु कला को यूरोपीय आधुनिकवाद के साथ समावेशित/आत्मसात किया

नीचे दिए गए विकल्पों में से सही उत्तर चुनिए:

- 1. C और D केवल
- 2. A और D केवल
- 3. D और E केवल
- 4. A और E केवल

Options :

- 485584144713. 1
- 485584144714. 2
- 485584144715. 3
- 485584144716. 4

Question Number : 244 Question Id : 48558436179 Question Type : MCQ Option Shuffling : No Is Question Mandatory : No Calculator : None

Response Time : N.A Think Time : N.A Minimum Instruction Time : 0

Correct Marks : 5 Wrong Marks : 1

Question Key Details :

Key	Value
Comprehension	MCQ2



অমৃত শেৰগীলৰ কোনটো শুদ্ধ ব্যাখ্যা ?

- A. অমৃত শেৰগীল আধা হাংগাৰীয়ান আৰু আধা ভাৰতীয়
- B. তেওঁ কানাডাত প্ৰশিক্ষণ লৈছিল
- C. তেওঁ পল ক্লিনৰ দ্বাৰা অনুপ্ৰাণিত হৈছিল
- D. হালদী বাইন্দ্ৰাৰ অমৃত শেৰগীলৰ বিখ্যাত চিত্ৰশিল্প
- E. অমৃতই ভাৰতীয় কলাৰ মিনিএছিউ পৰম্পৰা সৈতে ইউৰোপীয়ান আধুনিকতাবাদ অন্তৰ্ভুক্ত কৰিছিল

- 1. কেৱলমাত্ৰ C আৰু D
- 2. কেৱলমাত্ৰ A আৰু D
- 3. কেৱলমাত্ৰ D আৰু E
- 4. কেৱলমাত্ৰ A আৰু E

Options :

- 485584144713. 1
- 485584144714. 2
- 485584144715. 3
- 485584144716. 4

Question Number : 244 Question Id : 48558436179 Question Type : MCQ Option Shuffling : No Is Question Mandatory : No Calculator : None Response Time : N.A Think Time : N.A Minimum Instruction Time : 0

Correct Marks : 5 Wrong Marks : 1

Question Key Details :

Key	Value
Comprehension	MCQ2

অমৃত শেৰগীলৰ সম্বন্ধে সঠিক বিবৃতি কোনটি .

- A. অমৃত শেৰগীল আধা ভাৰতীয় আৰু আধা হাংগাৰীয়ান
- B. তিনি কানাডায় প্ৰশিক্ষণ প্ৰাপ্ত হৈছিল
- C. পল ক্লিনৰ দ্বাৰা তিনি প্ৰভাৱিত হৈছিল
- D. অমৃত শেৰগীলৰ বিখ্যাত চিত্ৰ হল হালদী ইন্দ্ৰ
- E. অমৃত ভাৰতীয় চিত্ৰকলাকে ইউৰোপীয়ান মডাৰ্নিজম বা আধুনিকতাবাদৰ দ্বাৰা সংক্ষিপ্তকৰণৰ এক ঐতিহ্য তৈৰী কৰেছিল

সঠিক উত্তৰটি নিৰ্ধাৰণ কৰ:

- 1. কেৱলমাত্ৰ C এবাং D
- 2. কেৱলমাত্ৰ A এবাং D
- 3. কেৱলমাত্ৰ D এবাং E
- 4. কেৱলমাত্ৰ A এবাং E

Options :

- 485584144713. 1
- 485584144714. 2
- 485584144715. 3
- 485584144716. 4

Question Number : 244 Question Id : 48558436179 Question Type : MCQ Option Shuffling : No Is Question Mandatory : No Calculator : None Response Time : N.A Think Time : N.A Minimum Instruction Time : 0

Correct Marks : 5 Wrong Marks : 1

Question Key Details :

Key	Value
-----	-------

આપેલ વિકલ્પોમાંથી અખિતા શેર ગ્રીલ માટેના સાચા નિવેદન ઓળખો.

- અમૃતા શેર ગ્રીલ અડધી હંગેરીયન અને અડધી ભારતીય હતી.
- તે કેનેડામાં તાલીમ પામેલ હતી.
- તે પોલ કિલથી પ્રભાવિત હતી.
- હલ્ડી બિંડર એ અમૃતા શેર ગ્રીલનું પ્રખ્યાત પેઈન્ટિંગ હતું.
- અમૃતાએ યુરોપીયન આધુનિકતાવાદ સાથે ભારતીય કલાની વ્યુચિત્ર પરંપરાઓને આત્મસાત કરી.

નીચે આપેલા વિકલ્પોમાંથી સાચો જવાબ પસંદ કરો.

- માત્ર C અને D
- માત્ર A અને D
- માત્ર D અને E
- માત્ર A અને E

Options :

485584144713. 1
485584144714. 2
485584144715. 3
485584144716. 4

Question Number : 244 Question Id : 48558436179 Question Type : MCQ Option Shuffling : No Is Question Mandatory : No Calculator : None Response Time : N.A Think Time : N.A Minimum Instruction Time : 0 Correct Marks : 5 Wrong Marks : 1 Question Key Details :

Key	Value
Comprehension	MCQ2

કેલેગેન આયુર્ગણોંદ અમ્મુત શેર-ગીલ્ બર્, સરિયાદ ઘેલેકેકલ્નુ ગુરુતીસી.

- અમ્મુત શેર-ગીલ્ અર્ધ કંગરિયવલુ મુત્તુ અર્ધ બ્હારતીયલુ
- અવલુ કેનડાદલ્લે તરબેતી વદેદિદ્દલુ
- અવલુ પોલ કિલ્ ડ્લેયિંદ પ્રબાવિતકાગિદ્દલુ
- કાલ્લે બિંડર યુ અમ્મુત શેર-ગીલ્ પ્રસિદ્ધ ચિત્રકલે
- અમ્મુત બ્હારતીય કલેય કિરુ સાંપ્રદાયીકતેકલ્નુ યુરોપીયન અધુનિકતે જીલેતે સંયોજિસિદ્દલુ.

કેલેગે નીદિરુવ આયુર્ગણોંદ સરિયાદ ઇત્તરવનુ અરિસી:

- C મુત્તુ D મુત્તુ
- A મુત્તુ D મુત્તુ
- D મુત્તુ E મુત્તુ
- A મુત્તુ E મુત્તુ

Options :

485584144713. 1
485584144714. 2
485584144715. 3
485584144716. 4

Question Number : 244 Question Id : 48558436179 Question Type : MCQ Option Shuffling : No Is Question Mandatory : No Calculator : None Response Time : N.A Think Time : N.A Minimum Instruction Time : 0 Correct Marks : 5 Wrong Marks : 1 Question Key Details :

Key	Value
Comprehension	MCQ2

അമൃത ഷേർ - ഗില്ലിനെ സംബന്ധിച്ച ശരിയായ പ്രസ്താവനകൾ ഏതെല്ലാം ?

- പാങ്കേനിയൻ - ഇന്ത്യൻ വംശമാണ് അമൃത് ഷേർ-ഗിൽ
- കാനഡയിൽ നിന്നാണ് പരിശീലനം നേടിയത്.
- പോൾ ക്ലിയാണ് കൂടുതൽ സ്വാധീനിച്ചിട്ടുള്ളത്
- പന്തി ഇന്ത്യൻ അമൃത ഷേർ-ഗില്ലിന്റെ ഏറ്റവും പ്രമുഖ പെയിന്റിങ്ങ്.
- ഇന്ത്യയിൽ ചിത്രകലാ പാരമ്പര്യത്തെയും യൂറോപ്യൻ ആധുനികതയെയും സംയോജിപ്പിച്ച വ്യക്തിയാണ് അമൃത.

താഴെ നൽകിയിട്ടുള്ളവയിൽ നിന്ന് ശരിയായ ഉത്തരം തിരഞ്ഞെടുക്കുക:

- C, D മാത്രം
- A, D മാത്രം
- D, E മാത്രം
- A, E മാത്രം

Options :

485584144713. 1
485584144714. 2
485584144715. 3
485584144716. 4

Question Number : 244 Question Id : 48558436179 Question Type : MCQ Option Shuffling : No Is Question Mandatory : No Calculator : None
Response Time : N.A Think Time : N.A Minimum Instruction Time : 0
Correct Marks : 5 Wrong Marks : 1

Question Key Details :

Key	Value
Comprehension	MCQ2

अमृता शेर-गील यांच्या संदर्भातील अचूक विधान ओळखा

- अमृता शेर-गील या अर्ध्या हंगेरियन आणि अर्ध्या भारतीय आहेत.
- त्यांचे प्रशिक्षण कॅनडा येथे झाले.
- त्या पॉल क्ली यांवर प्रभावित झाल्या.
- "हल्दी ग्राइंडर" (हल्दी कांडप) हे विख्यात चित्र अमृता शेर गील यांचे आहे.
- अमृता यांनी भारतीय कलेच्या लघु परंपरेला युरोपियन आधुनिकतेसह आत्मसात केले.

खालील पर्यायातून अचूक उत्तर शोधा.

- केवळ C आणि D
- केवळ A आणि D
- केवळ D आणि E
- केवळ A आणि E

Options :

485584144713. 1
485584144714. 2
485584144715. 3
485584144716. 4

Question Number : 244 Question Id : 48558436179 Question Type : MCQ Option Shuffling : No Is Question Mandatory : No Calculator : None
Response Time : N.A Think Time : N.A Minimum Instruction Time : 0
Correct Marks : 5 Wrong Marks : 1

Question Key Details :

Key	Value
Comprehension	MCQ2

ଅମୃତା ଶେର-ଚିତ୍ର କର ବିଷୟରେ ସଠିକ୍ ବାକ୍ୟଟି ଖୋଜନ୍ତୁ।

- A. ଅମୃତା ଶେର-ଚିତ୍ର ଅଧା ଅନୁକୃତ୍ୟା ଏବଂ ଭାରତୀୟ ଅନୁକୃତ୍ୟା
- B. କାଳୀନ ଲେ ପ୍ରଭାବ
- C. ପଲ୍ଲୀ ଚାନ୍ଦିନୀ ସେ ପ୍ରଭାବ
- D. ଅମୃତା ଶେର-ଚିତ୍ର କର ବିଷୟରେ ସଠିକ୍ ବାକ୍ୟଟି ଖୋଜନ୍ତୁ
- E. Amrita assimilated miniature traditions of Indian art with European modernism

ସଠିକ୍ ବାକ୍ୟଟି ଚିହ୍ନଟି ଚିହ୍ନଟି ଚିହ୍ନଟି ଚିହ୍ନଟି ଚିହ୍ନଟି

- 1. ଚିହ୍ନଟି C ଏବଂ D
- 2. ଚିହ୍ନଟି A ଏବଂ D
- 3. ଚିହ୍ନଟି D ଏବଂ E
- 4. ଚିହ୍ନଟି A ଏବଂ E

Options :

- 485584144713. 1
- 485584144714. 2
- 485584144715. 3
- 485584144716. 4

Question Number : 244 Question Id : 48558436179 Question Type : MCQ Option Shuffling : No Is Question Mandatory : No Calculator : None Response Time : N.A Think Time : N.A Minimum Instruction Time : 0

Correct Marks : 5 Wrong Marks : 1

Question Key Details :

Key	Value
Comprehension	MCQ2

ହେଉଛି ଲିଖିତ ବିକଳପାଠ ବିଷୟରେ ଅମୃତା କେଉଁ ଗିଠି ଲାଭ କରିଛନ୍ତି?

- A. ଅମୃତା କେଉଁ ଗିଠି ଅନୁକୃତ୍ୟା ଏବଂ ଅନୁକୃତ୍ୟା
- B. ଉତ୍କଳ ଲେ ପ୍ରଭାବ
- C. ଉତ୍କଳ ଲେ ପ୍ରଭାବ
- D. ହଳଦିଆ ଗିଠି ଅମୃତା କେଉଁ ଗିଠି ଲାଭ କରିଛନ୍ତି
- E. ଅମୃତା ନେତୃତ୍ୱରେ ଲେ ପ୍ରଭାବକୁ ନୂତନ ଆଧୁନିକତା ନାଲି କରିଛନ୍ତି

ସଠିକ୍ ବାକ୍ୟଟି ଚିହ୍ନଟି ଚିହ୍ନଟି ଚିହ୍ନଟି ଚିହ୍ନଟି ଚିହ୍ନଟି

- 1. ଚିହ୍ନଟି C ଏବଂ D
- 2. ଚିହ୍ନଟି A ଏବଂ D
- 3. ଚିହ୍ନଟି D ଏବଂ E
- 4. ଚିହ୍ନଟି A ଏବଂ E

Options :

- 485584144713. 1
- 485584144714. 2
- 485584144715. 3
- 485584144716. 4

Question Number : 244 Question Id : 48558436179 Question Type : MCQ Option Shuffling : No Is Question Mandatory : No Calculator : None Response Time : N.A Think Time : N.A Minimum Instruction Time : 0

Correct Marks : 5 Wrong Marks : 1

Question Key Details :

Key	Value
Comprehension	MCQ2

அமரித ஷேர்-கில் என்பவரைப் பற்றிய சரியான கூற்றுகளை பின்வரும் தெரிவுகளிலிருந்து கண்டறிக:

- அமரித ஷேர்-கில் என்பவர் பாதி ஹங்கேரி நாட்டவர் என்றும் பாதி இந்தியர் எனலாம்.
- அவர் கனடாவில் பயிற்சி பெற்றவர்
- பெளல் க்ளீ என்பவரின் தாக்கம் இவர் மீது இருந்தது
- "ஹல்தி பிந்தர்" என்பது அமரித ஷேர்-கில்லது புகழ்பெற்ற ஓவியம் ஆகும்
- அமரித இந்தியக் கலையின் சிற்றளவு பாரம்பரியத்தை ஐரோப்பிய நவீனமயமாக்கத்தோடு உள்வாங்கிக் கலந்தவர்

கீழே தரப்பட்டுள்ள வாய்ப்புகளில் இருந்து சரியான விடையைத் தேர்ந்தெடுக்கவும்.

- C மற்றும் D மட்டுமே
- A மற்றும் D மட்டுமே
- D மற்றும் E மட்டுமே
- A மற்றும் E மட்டுமே

Options :

485584144713. 1
485584144714. 2
485584144715. 3
485584144716. 4

Question Number : 244 Question Id : 48558436179 Question Type : MCQ Option Shuffling : No Is Question Mandatory : No Calculator : None
Response Time : N.A Think Time : N.A Minimum Instruction Time : 0

Correct Marks : 5 Wrong Marks : 1

Question Key Details :

Key	Value
Comprehension	MCQ2

கிரீன் டிஸ்கவரி அமெரிக்கா-பேர்-கில் நினைவுகூர்ச்சு சரிசெய்த விவரணை குறிப்பிடுக

- அமெரிக்கா-பேர்-கில் சரிசெய்த விவரணை மெரிசு சரிசெய்த விவரணை
- அமெரிக்கா-பேர்-கில் சரிசெய்த விவரணை மெரிசு சரிசெய்த விவரணை
- அமெரிக்கா-பேர்-கில் சரிசெய்த விவரணை மெரிசு சரிசெய்த விவரணை
- அமெரிக்கா-பேர்-கில் சரிசெய்த விவரணை மெரிசு சரிசெய்த விவரணை
- அமெரிக்கா-பேர்-கில் சரிசெய்த விவரணை மெரிசு சரிசெய்த விவரணை

கிரீன் டிஸ்கவரி அமெரிக்கா-பேர்-கில் சரிசெய்த விவரணை குறிப்பிடுக

- C மற்றும் D மட்டுமே
- A மற்றும் D மட்டுமே
- D மற்றும் E மட்டுமே
- A மற்றும் E மட்டுமே

Options :

485584144713. 1
485584144714. 2

485584144715. 3
485584144716. 4

Question Number : 244 Question Id : 48558436179 Question Type : MCQ Option Shuffling : No Is Question Mandatory : No Calculator : None
Response Time : N.A Think Time : N.A Minimum Instruction Time : 0
Correct Marks : 5 Wrong Marks : 1

Question Key Details :

Key	Value
Comprehension	MCQ2

نیچے کے زمروں سے امرینا شیرگل کے بارے میں صحیح بیانات کا درست انتخاب کریں :

- A. امرینا شیرگل ادھی بندوسالی اور ادھی ہنگارین ہیں
B. وہ کنبیلا میں تربیت پائی ہے
C. وہ پل کلی سے منکر نہیں
D. بلدی بیسنے والی شیرگل کی مشہور بیسنگ ہے
E. امرینا نے بندوسالی فن کی چھوٹی کتبہ روایت کو پوری حیثیت کے ساتھ ہم آہنگ کیا۔

نیچے سے درست جواب کا انتخاب کریں :

1. اور D صرف
2. اور A صرف
3. اور E صرف
4. اور E صرف

Options :

485584144713. 1
485584144714. 2
485584144715. 3
485584144716. 4

Question Number : 245 Question Id : 48558436180 Question Type : MCQ Option Shuffling : No Is Question Mandatory : No Calculator : None
Response Time : N.A Think Time : N.A Minimum Instruction Time : 0
Correct Marks : 5 Wrong Marks : 1

Question Key Details :

Key	Value
Comprehension	MCQ2

What is symbolised by the "Ashoka Chakra" which is used in Indian National Flag in blue colour?

- A. Twenty four hours of a day-development and motion
- B. Twenty four minutes of time-action and work
- C. Twenty four days of month-day and night
- D. Twenty four years of life-success and pride
- E. Continuous progress and development of the Country

Choose the correct answer from the options given below:

1. A and E only
2. B and D only
3. A and D only
4. C and B only

Options :

485584144717. 1
485584144718. 2
485584144719. 3
485584144720. 4

Question Number : 245 Question Id : 48558436180 Question Type : MCQ Option Shuffling : No Is Question Mandatory : No Calculator : None
Response Time : N.A Think Time : N.A Minimum Instruction Time : 0
Correct Marks : 5 Wrong Marks : 1
Question Key Details :

Key	Value
Comprehension	MCQ2

भारतीय राष्ट्रीय ध्वज में प्रयुक्त "आशिक चक्र" किसका प्रतीक है?

- A. एक दिन के चौबीस घंटे-विकास और गति
- B. चौबीस मिनट्स-समय-क्रिया और कार्य
- C. चौबीस दिन-महीने के दिन और रात
- D. चौबीस वर्ष-जीवन की सफलता और गर्व
- E. राष्ट्र की सतत उन्नति और विकास

नीचे दिए गए विकल्पों में से सही उत्तर चुनिए:

1. A और E केवल
2. B और D केवल
3. A और D केवल
4. C और B केवल

Options :

- 485584144717. 1
- 485584144718. 2
- 485584144719. 3
- 485584144720. 4

Question Number : 245 Question Id : 48558436180 Question Type : MCQ Option Shuffling : No Is Question Mandatory : No Calculator : None
Response Time : N.A Think Time : N.A Minimum Instruction Time : 0
Correct Marks : 5 Wrong Marks : 1
Question Key Details :

Key	Value
Comprehension	MCQ2

भारतीय राष्ट्रीय पतकगत आशोक चक्र है कि बूझाई ?

- A. एउटि दिनर २४ घण्टा - विकास आरु गति
- B. २४ मिनिटिब समय आरु काम
- C. २४ दिनर माह दिन आरु राति
- D. २४ बरुबर जीवन, सफलता आरु गर्व
- E. देशर अविबत उन्नति आरु विकास

1. केवलमात्र A आरु E
2. केवलमात्र B आरु D
3. केवलमात्र A आरु D
4. केवलमात्र C आरु B

Options :

- 485584144717. 1
- 485584144718. 2
- 485584144719. 3
- 485584144720. 4

Question Number : 245 Question Id : 48558436180 Question Type : MCQ Option Shuffling : No Is Question Mandatory : No Calculator : None
Response Time : N.A Think Time : N.A Minimum Instruction Time : 0

Correct Marks : 5 Wrong Marks : 1

Question Key Details :

Key	Value
Comprehension	MCQ2

ভারতীয় পতাকায় অশোক চক্রটির তাৎপর্য কি বা অশোক চক্রটি কিসের প্রতীক ?

- A. প্রতি ২৪ ঘন্টায় উন্নতি এবং গতি
- B. প্রতি ২৪ মিনিটের অ্যাকশন ও কর্ম
- C. এক মাসের ২৪ দিনের দিন-রাত্রি
- D. জীবনের ২৪ তম বছরের সাফল্য ও গর্ব
- E. দেশের অবিরত উন্নতি এবং অগ্রসর হওয়া

সঠিক উত্তরটি বেছে নাও :

- 1. কেবলমাত্র A এবং E
- 2. কেবলমাত্র B এবং D
- 3. কেবলমাত্র A এবং D
- 4. কেবলমাত্র C এবং B

Options :

- 485584144717. 1
- 485584144718. 2
- 485584144719. 3
- 485584144720. 4

Question Number : 245 Question Id : 48558436180 Question Type : MCQ Option Shuffling : No Is Question Mandatory : No Calculator : None
Response Time : N.A Think Time : N.A Minimum Instruction Time : 0

Correct Marks : 5 Wrong Marks : 1

Question Key Details :

Key	Value
Comprehension	MCQ2

ভারতনা রাষ্ট্রীয় ধ্বজমাং আবেল অশোক যক শেনু প্রতিক ঙে ?

- A. ঙিবসনা যৌবীস ঙবাক-বিকাস অনে গতি
- B. যৌবীস মিনটনী সময-ক্রিয়া অনে কার্য
- C. মঙ্লিনানা যৌবীস ঙিবস-ঙিবস অনে রাত
- D. জুবননা যৌবীস বর্ষ সঙ্লতা অনে ঙৌরব
- E. ঙেশনী সতত প্রগতি অনে বিকাশ

নীয়ে আপেবা বিকল্যোমাংথী সাযৌ জবাব পসংঙ করৌ

- 1. মাত্র A অনে E
- 2. মাত্র B অনে D
- 3. মাত্র A অনে D
- 4. মাত্র C অনে B

Options :

- 485584144717. 1
- 485584144718. 2
- 485584144719. 3
- 485584144720. 4

Question Number : 245 Question Id : 48558436180 Question Type : MCQ Option Shuffling : No Is Question Mandatory : No Calculator : None
 Response Time : N.A Think Time : N.A Minimum Instruction Time : 0
 Correct Marks : 5 Wrong Marks : 1

Question Key Details :

Key	Value
Comprehension	MCQ2

ಭಾರತೀಯ ರಾಷ್ಟ್ರೀಯ ಭಾವಪಟದಲ್ಲಿ ಬಳಸಿರುವ ಅಶೋಕ ಚಕ್ರ ಐನನ್ನು ಸಂಕೇತಿಸುತ್ತದೆ?

- A. ಒಂದು ದಿನದ ಇಪ್ಪತ್ತನಾಲ್ಕು ಗಂಟೆಯ ಅಭಿವೃದ್ಧಿ ಮತ್ತು ಚಲನೆ
- B. ಇಪ್ಪತ್ತನಾಲ್ಕು ನಿಮಿಷ ಸಮಯದ ಕ್ರಿಯೆ ಮತ್ತು ಕೆಲಸ
- C. ತಿಂಗಳಿನ ಇಪ್ಪತ್ತನಾಲ್ಕು ದಿನಗಳ ಹಗಲು ಮತ್ತು ರಾತ್ರಿ
- D. ಜೀವನದ ಇಪ್ಪತ್ತ ನಾಲ್ಕು ವರ್ಷಗಳ ಯಶಸ್ಸು ಮತ್ತು ಹೆಮ್ಮೆ
- E. ದೇಶದ ನಿರಂತರ ಪ್ರಗತಿ ಮತ್ತು ಅಭಿವೃದ್ಧಿ

ಕೆಳಗೆ ನೀಡಿರುವ ಆಯ್ಕೆಗಳಿಂದ ಸರಿಯಾದ ಉತ್ತರವನ್ನು ಆರಿಸಿ:

- 1. A ಮತ್ತು E ಮಾತ್ರ
- 2. B ಮತ್ತು D ಮಾತ್ರ
- 3. A ಮತ್ತು D ಮಾತ್ರ
- 4. C ಮತ್ತು B ಮಾತ್ರ

Options :

- 485584144717. 1
- 485584144718. 2
- 485584144719. 3
- 485584144720. 4

Question Number : 245 Question Id : 48558436180 Question Type : MCQ Option Shuffling : No Is Question Mandatory : No Calculator : None
 Response Time : N.A Think Time : N.A Minimum Instruction Time : 0
 Correct Marks : 5 Wrong Marks : 1

Question Key Details :

Key	Value
Comprehension	MCQ2

ಉತ್ತರ ಡೆಸೂಯಿ ಪತ್ರಾಕೃತಿಯಲ್ಲಿ ಉಪಯೋಗಿಸಿರಬಹುದಾದ "ಅರೋಹಿತ ಚಕ್ರ" ಎಫ಼ಿ಼ನಿಯಾಗಿದೆ ಪ್ರತಿನಿಧಿಯಾಗುವುದು ಏನು?

- A. ಒಂದು ದಿನದ ಇಪ್ಪತ್ತನಾಲ್ಕು ಗಂಟೆಯ ಅಭಿವೃದ್ಧಿ ಮತ್ತು ಚಲನೆ
- B. ಇಪ್ಪತ್ತನಾಲ್ಕು ನಿಮಿಷ ಸಮಯದ ಕ್ರಿಯೆ ಮತ್ತು ಕೆಲಸ
- C. ತಿಂಗಳಿನ ಇಪ್ಪತ್ತನಾಲ್ಕು ದಿನಗಳ ಹಗಲು ಮತ್ತು ರಾತ್ರಿ
- D. ಜೀವನದ ಇಪ್ಪತ್ತ ನಾಲ್ಕು ವರ್ಷಗಳ ಯಶಸ್ಸು ಮತ್ತು ಹೆಮ್ಮೆ
- E. ದೇಶದ ನಿರಂತರ ಪ್ರಗತಿ ಮತ್ತು ಅಭಿವೃದ್ಧಿ

ಕೆಳಗೆ ನೀಡಿರುವ ಆಯ್ಕೆಗಳಿಂದ ಸರಿಯಾದ ಉತ್ತರವನ್ನು ಆರಿಸಿ:

- 1. A, E ಮಾತ್ರ
- 2. B, D ಮಾತ್ರ
- 3. A, D ಮಾತ್ರ
- 4. C, B ಮಾತ್ರ

Options :

- 485584144717. 1
- 485584144718. 2
- 485584144719. 3
- 485584144720. 4

Question Number : 245 Question Id : 48558436180 Question Type : MCQ Option Shuffling : No Is Question Mandatory : No Calculator : None

Response Time : N.A Think Time : N.A Minimum Instruction Time : 0

Correct Marks : 5 Wrong Marks : 1

Question Key Details :

Key	Value
Comprehension	MCQ2

भारतीय राष्ट्रीय ध्वजावरील अशोक चक्र कशाचे प्रतिक आहे?

- A. दिवसातील चोवीस तासातील विकास आणि गती
- B. चोवीस मिनिट वेळेतील क्रिया आणि काम
- C. महिन्यातील चोवीस दिवसातील दिवस आणि रात्र
- D. चोवीस वर्षातील जीवनातील यश आणि अभियान
- E. देशाची सतत होणारी प्रगती आणि विकास

खालील पर्यायातून अचूक उत्तर शोधा

- 1. केवळ A आणि E
- 2. केवळ B आणि D
- 3. केवळ A आणि D
- 4. केवळ C आणि B

Options :

485584144717. 1

485584144718. 2

485584144719. 3

485584144720. 4

Question Number : 245 Question Id : 48558436180 Question Type : MCQ Option Shuffling : No Is Question Mandatory : No Calculator : None

Response Time : N.A Think Time : N.A Minimum Instruction Time : 0

Correct Marks : 5 Wrong Marks : 1

Question Key Details :

Key	Value
Comprehension	MCQ2

'ଅସୋକ ଚକ୍ର' ଯେଉଁଠାରେ ଭାରତୀୟ ରାଷ୍ଟ୍ରୀୟ ଧ୍ୱଜରେ ବ୍ୟବହୃତ ହୁଏ ତାହା କଣ ଦର୍ଶାଏ ?

- A. 24 ଘଣ୍ଟା-ରେ-ରେଭଲୁସନେସନ୍
- B. 24 ମିନିଟ-ରେ-ମିନିଟ-କ୍ରିୟା-ଏବଂ-କାମ
- C. 24 ବର୍ଷ ଥିବା ମହ-ରେ-ଏବଂ-କାଳ
- D. 24 ବର୍ଷ ଥିବା ଜୀବନ-ସମୟ-ଏବଂ-ପ୍ରାଣ
- E. ଦିନରେ ଦିନାନ୍ତ ଏବଂ ରାତ୍ରେ ରାତ୍ରି

ଦିଆଯାଇଥିବା ବିକଳ୍ପରୁ ସଠିକ୍ ଉତ୍ତରଟି ଚାହୁଁନ୍ତୁ

- 1. ଉତ୍ତର A ଏବଂ E
- 2. ଉତ୍ତର B ଏବଂ D
- 3. ଉତ୍ତର A ଏବଂ D
- 4. ଉତ୍ତର C ଏବଂ B

Options :

485584144717. 1

485584144718. 2

485584144719. 3
485584144720. 4

Question Number : 245 Question Id : 48558436180 Question Type : MCQ Option Shuffling : No Is Question Mandatory : No Calculator : None
Response Time : N.A Think Time : N.A Minimum Instruction Time : 0
Correct Marks : 5 Wrong Marks : 1
Question Key Details :

Key	Value
Comprehension	MCQ2

ਭਾਰਤ ਦੇ ਰਾਸ਼ਟਰੀ ਝੰਡੇ ਵਿੱਚ " ਅਸ਼ੋਕ ਚੱਕਰ " ਦੁਆਰਾ ਕੀ ਦਰਸਾਇਆ ਜਾਂਦਾ ਹੈ?

- A. ਦਿਨ ਦੇ 24 ਘੰਟੇ ਵਿਕਾਸ ਅਤੇ ਗਤੀ ਲਈ ਕਾਰਜ
- B. 24 ਮਿੰਟ ਲਈ ਵਾਰ ਕਾਰਵਾਈ
- C. ਮਹੀਨੇ ਦੇ 24 ਦਿਨਾਂ ਨਾਲ ਸੰਬੰਧਿਤ ਦਿਨ ਅਤੇ ਰਾਤਾਂ
- D. ਜੀਵਨ ਦੇ 24 ਸਾਲਾਂ ਦੀ ਸਫਲਤਾ ਅਤੇ ਗੌਰਵ
- E. ਦੇਸ਼ ਦਾ ਨਿਰੰਤਰ ਵਿਕਾਸ ਅਤੇ ਤਰੱਕੀ

ਹੇਠਾਂ ਦਿੱਤੇ ਵਿਕਲਪਾਂ ਵਿੱਚੋਂ ਸਹੀ ਉੱਤਰ ਚੁਣੋ:

1. ਸਿਰਫ਼ A ਅਤੇ E
2. ਸਿਰਫ਼ B ਅਤੇ D
3. ਸਿਰਫ਼ A ਅਤੇ D
4. ਸਿਰਫ਼ C ਅਤੇ B

Options :

485584144717. 1
485584144718. 2
485584144719. 3
485584144720. 4

Question Number : 245 Question Id : 48558436180 Question Type : MCQ Option Shuffling : No Is Question Mandatory : No Calculator : None
Response Time : N.A Think Time : N.A Minimum Instruction Time : 0
Correct Marks : 5 Wrong Marks : 1
Question Key Details :

Key	Value
Comprehension	MCQ2

இந்தியா தேசியக்கொடியில் பயன்படுத்தப்படும் "அசோக சக்கரம்" குறிப்பிடுவது யாது?

- A. ஓர் நாள்-மேம்பாடு மற்றும் நகர்வின் இருபத்து நான்கு மணிநேரங்கள்
- B. நேரம்-செயல் மற்றும் வேலையின் இருபத்து நான்கு நிமிடங்கள்
- C. மாத-நாள் மற்றும் பெருமிதத்தின் இருபத்து நான்கு ஆண்டுகள்
- D. வாழ்வு-வெற்றி மற்றும் பெருமிதத்தின் இருபத்து நான்கு ஆண்டுகள்
- E. நாட்டின் தொடர்ச்சியான முன்னேற்றம் மற்றும் மேம்பாடு

கீழே தரப்பட்டுள்ள வாய்ப்புகளில் இருந்து சரியான விடையைத் தேர்ந்தெடுக்கவும்:

1. A மற்றும் E மட்டுமே
2. B மற்றும் D மட்டுமே
3. A மற்றும் D மட்டுமே
4. C மற்றும் B மட்டுமே

Options :

485584144717. 1

485584144718. 2
485584144719. 3
485584144720. 4

Question Number : 245 Question Id : 48558436180 Question Type : MCQ Option Shuffling : No Is Question Mandatory : No Calculator : None
Response Time : N.A Think Time : N.A Minimum Instruction Time : 0
Correct Marks : 5 Wrong Marks : 1
Question Key Details :

Key	Value
Comprehension	MCQ2

భారతీయ జాతీయ పతాకం లోని అశోక చక్రము దేనిని తెలియజేస్తుంది?

- A. రోజులోని 24 గంటల అభివృద్ధి మరియు ప్రగతి
- B. 24 నిమిషాల సమయము చర్య మరియు పని
- C. నెలలోని 24 రోజుల రాత్రి మరియు పగలు
- D. జీవితంలోని 24 సంవత్సరాల విజయము మరియు గర్వము
- E. నిరంతర గమనం మరియు అభివృద్ధితో కూడిన దేశం

క్రింది వికల్పాలలో సరైన సమాధానం ఎంచుకోండి.

- 1. A మరియు E మాత్రమే
- 2. B మరియు D మాత్రమే
- 3. A మరియు D మాత్రమే
- 4. C మరియు B మాత్రమే

Options :

485584144717. 1
485584144718. 2
485584144719. 3
485584144720. 4

Question Number : 245 Question Id : 48558436180 Question Type : MCQ Option Shuffling : No Is Question Mandatory : No Calculator : None
Response Time : N.A Think Time : N.A Minimum Instruction Time : 0
Correct Marks : 5 Wrong Marks : 1

Question Key Details :

Key	Value
Comprehension	MCQ2

“అశోకా చక్ర” (Ashoka Chakra) కి సమీకృతం ఏది? (Which of the following is the correct representation of Ashoka Chakra?)

- A. దినం మరియు రాత్రి యొక్క చక్రం
- B. కాలం, కార్యక్రమం మరియు చక్రం
- C. చక్రం యొక్క దినం మరియు రాత్రి
- D. జీవితంలోని 24 సంవత్సరాల విజయము మరియు గర్వము
- E. నిరంతర గమనం మరియు అభివృద్ధితో కూడిన దేశం

నిజమే అని నిరూపించండి:

- 1. A మరియు E మాత్రమే
- 2. B మరియు D మాత్రమే
- 3. A మరియు D మాత్రమే
- 4. C మరియు B మాత్రమే

Options :

485584144717. 1
485584144718. 2

485584144719. 3
485584144720. 4

Question Number : 246 Question Id : 48558436181 Question Type : MCQ Option Shuffling : No Is Question Mandatory : No Calculator : None
Response Time : N.A Think Time : N.A Minimum Instruction Time : 0
Correct Marks : 5 Wrong Marks : 1
Question Key Details :

Key	Value
Comprehension	MCQ2

Match List I with List II

LIST I		LIST II	
A.	Mithila	I.	Odisha
B.	Pithoro	II.	Bihar
C.	Pattachitra	III.	Gujarat
D.	Pichwai	IV.	Rajasthan

Choose the correct answer from the options given below:

1. A-I, B-IV, C-II, D-III
2. A-II, B-III, C-I, D-IV
3. A-I, B-II, C-III, D-IV
4. A-I, B-III, C-II, D-IV

Options :

485584144721. 1
485584144722. 2
485584144723. 3
485584144724. 4

Question Number : 246 Question Id : 48558436181 Question Type : MCQ Option Shuffling : No Is Question Mandatory : No Calculator : None
Response Time : N.A Think Time : N.A Minimum Instruction Time : 0
Correct Marks : 5 Wrong Marks : 1

Question Key Details :

Key	Value
Comprehension	MCQ2

सूची I का सूची II के साथ मिलान कीजिए:

सूची I		सूची II	
A.	मिथिला	I.	उड़ीसा
B.	पिथारा	II.	बिहार
C.	पट्टचित्र	III.	गुजरात
D.	पिच्चवाई	IV.	राजस्थान

नीचे दिए गए विकल्पों में से सही उत्तर चुनिए:

1. A-I, B-IV, C-II, D-III
2. A-II, B-III, C-I, D-IV
3. A-I, B-II, C-III, D-IV
4. A-I, B-III, C-II, D-IV

Options :

485584144721. 1
485584144722. 2
485584144723. 3
485584144724. 4

Question Number : 246 Question Id : 48558436181 Question Type : MCQ Option Shuffling : No Is Question Mandatory : No Calculator : None
Response Time : N.A Think Time : N.A Minimum Instruction Time : 0

Correct Marks : 5 Wrong Marks : 1

Question Key Details :

Key	Value
Comprehension	MCQ2

তালিকা I আৰু II মিলোৱা

তালিকা I	তালিকা II
A. মিথিলা	I. ডিডিপা
B. পিথৰ	II. বিহাৰ
C. পট্টচিত্ৰ	III. গুজৰাট
D. পিছাই	IV. ৰাজস্থান

1. A-I, B-IV, C-II, D-III

2. A-II, B-III, C-I, D-IV

3. A-I, B-II, C-III, D-IV

4. A-I, B-III, C-II, D-IV

Options :

485584144721. 1

485584144722. 2

485584144723. 3

485584144724. 4

Question Number : 246 Question Id : 48558436181 Question Type : MCQ Option Shuffling : No Is Question Mandatory : No Calculator : None
Response Time : N.A Think Time : N.A Minimum Instruction Time : 0

Correct Marks : 5 Wrong Marks : 1

Question Key Details :

Key	Value
Comprehension	MCQ2

তালিকা ১ এৰ সঙ্গে তালিকা ২ মেলাও

তালিকা ১	তালিকা ২
A. মিথিলা	I. গুড়িয়া
B. পিথৰ	II. বিহাৰ
C. পট্টচিত্ৰ	III. গুজৰাট
D. পিছাই	IV. ৰাজস্থান

সঠিক ম্যাচিংটি বেছে নাও:

1. A-I, B-IV, C-II, D-III

2. A-II, B-III, C-I, D-IV

3. A-I, B-II, C-III, D-IV

4. A-I, B-III, C-II, D-IV

Options :

485584144721. 1

485584144722. 2

485584144723. 3

485584144724. 4

Question Number : 246 Question Id : 48558436181 Question Type : MCQ Option Shuffling : No Is Question Mandatory : No Calculator : None Response Time : N.A Think Time : N.A Minimum Instruction Time : 0

Correct Marks : 5 Wrong Marks : 1

Question Key Details :

Key	Value
Comprehension	MCQ2

સુચિ I ને સુચિ II સાથે જોડો.

સુચિ I		સુચિ II	
A	મિથિલા	I	બોડિસા
B	પિથોરી	II	બિહાર
C	પટથિત્ર	III	ગુજરાત
D	પિષવાઈ	IV	રાજસ્થાન

નીચે આપેલા વિકલ્પોમાંથી સાચો જવાબ પસંદ કરો.

1. A-I, B-IV, C-II, D-III
2. A-II, B-III, C-I, D-IV
3. A-I, B-II, C-III, D-IV
4. A-I, B-III, C-II, D-IV

Options :

485584144721. 1
485584144722. 2
485584144723. 3
485584144724. 4

Question Number : 246 Question Id : 48558436181 Question Type : MCQ Option Shuffling : No Is Question Mandatory : No Calculator : None Response Time : N.A Think Time : N.A Minimum Instruction Time : 0

Correct Marks : 5 Wrong Marks : 1

Question Key Details :

Key	Value
Comprehension	MCQ2

પટ્ટી - I ಅನ್ನು પટ્ટી - II ર ડૂઠ કૂઠઢીસી.

પટ્ટી - I		પટ્ટી - II	
A	મીઢીલ	I	ઁડીસા
B	સીઢૂઠઢી	II	બીસાર
C	પટ્ટીચીત્ર	III	ગુજરાત
D	સીઢૂઠઢી	IV	રાજસ્થાન

કેલકે નીઢીરુવ ઁઢૂઠઢીઢીઢ સરિઢઢઢ ઠાત્રરવઢઢઢ ઁરિસી.

1. A-I, B-IV, C-II, D-III
2. A-II, B-III, C-I, D-IV
3. A-I, B-II, C-III, D-IV
4. A-I, B-III, C-II, D-IV

Options :

485584144721. 1
485584144722. 2
485584144723. 3
485584144724. 4

Question Number : 246 Question Id : 48558436181 Question Type : MCQ Option Shuffling : No Is Question Mandatory : No Calculator : None
 Response Time : N.A Think Time : N.A Minimum Instruction Time : 0

Correct Marks : 5 Wrong Marks : 1

Question Key Details :

Key	Value
Comprehension	MCQ2

പട്ടിക I നെ പട്ടിക II മായി ചേർക്കുക

പട്ടിക I		പട്ടിക II	
A.	മിഥില	I.	ഒഡീഷ
B.	പിത്തോറ	II.	ബീഹാർ
C.	പട്ടാച്ചിത്ര	III.	ഗുജറാത്ത്
D.	പിച്വാർ	IV.	രാജസ്ഥാൻ

താഴെ നൽകിയിട്ടുള്ളവയിൽ നിന്ന് ശരിയായ ഉത്തരം തിരഞ്ഞെടുക്കുക:

1. A-I, B-IV, C-II, D-III
2. A-II, B-III, C-I, D-IV
3. A-I, B-II, C-III, D-IV
4. A-I, B-III, C-II, D-IV

Options :

485584144721. 1
 485584144722. 2
 485584144723. 3
 485584144724. 4

Question Number : 246 Question Id : 48558436181 Question Type : MCQ Option Shuffling : No Is Question Mandatory : No Calculator : None
 Response Time : N.A Think Time : N.A Minimum Instruction Time : 0

Correct Marks : 5 Wrong Marks : 1

Question Key Details :

Key	Value
Comprehension	MCQ2

यादी I ची यादी II शी जोडी लावा

यादी I		यादी II	
A.	मिथिला	I.	ओडिशा
B.	पिथोर	II.	बिहार
C.	पताचित्र	III.	गुजरात
D.	पिचवार	IV.	राजस्थान

खालील पर्यायातून अचूक उत्तर शोधा

1. A-I, B-IV, C-II, D-III
2. A-II, B-III, C-I, D-IV
3. A-I, B-II, C-III, D-IV
4. A-I, B-III, C-II, D-IV

Options :

485584144721. 1
 485584144722. 2
 485584144723. 3
 485584144724. 4

Question Number : 246 Question Id : 48558436181 Question Type : MCQ Option Shuffling : No Is Question Mandatory : No Calculator : None
 Response Time : N.A Think Time : N.A Minimum Instruction Time : 0

Correct Marks : 5 Wrong Marks : 1

Question Key Details :

Key	Value
Comprehension	MCQ2

ଉତ୍ପାଦନ I ଅର୍ଥରେ ଉତ୍ପାଦନ II ମେଳ କରନ୍ତୁ।

ଉତ୍ପାଦନ I		ଉତ୍ପାଦନ II	
A.	ମିଥୁନ	I.	ଉଦିଷା
B.	ପିଠାପୋଡ଼ା	II.	ବିହାର
C.	ପଦ୍ମଚିତ୍ର	III.	ସୁଭାଷ
D.	ପିଠାପୋଡ଼ା	IV.	ଶାନ୍ତନୁ

ବିହାରରୁ ଉତ୍ପାଦନ ବିକଳକୁ ଅଧିକ ଉତ୍ପାଦନ କରନ୍ତୁ:

1. A-I, B-IV, C-II, D-III
2. A-II, B-III, C-I, D-IV
3. A-I, B-II, C-III, D-IV
4. A-I, B-III, C-II, D-IV

Options :

485584144721. 1
485584144722. 2
485584144723. 3
485584144724. 4

Question Number : 246 Question Id : 48558436181 Question Type : MCQ Option Shuffling : No Is Question Mandatory : No Calculator : None
Response Time : N.A Think Time : N.A Minimum Instruction Time : 0
Correct Marks : 5 Wrong Marks : 1

Question Key Details :

Key	Value
Comprehension	MCQ2

ମୁକ୍ତି I ଓ ମୁକ୍ତି II ମଧ୍ୟରେ ମିଳାନ୍ତ କର:

ମୁକ୍ତି I		ମୁକ୍ତି II	
A.	ମିଥୁନ	I.	ବିହାର
B.	ପିଠାପୋଡ଼ା	II.	ସୁଭାଷ
C.	ପିଠାପୋଡ଼ା	III.	ଶାନ୍ତନୁ
D.	ପିଠାପୋଡ଼ା	IV.	ଶାନ୍ତନୁ

ଉତ୍ପାଦନ I ଉତ୍ପାଦନ II ସହ ମିଳାନ୍ତ କର:

1. A-I, B-IV, C-II, D-III
2. A-II, B-III, C-I, D-IV
3. A-I, B-II, C-III, D-IV
4. A-I, B-III, C-II, D-IV

Options :

485584144721. 1
485584144722. 2
485584144723. 3
485584144724. 4

Question Number : 246 Question Id : 48558436181 Question Type : MCQ Option Shuffling : No Is Question Mandatory : No Calculator : None
Response Time : N.A Think Time : N.A Minimum Instruction Time : 0

Correct Marks : 5 Wrong Marks : 1

Question Key Details :

Key	Value
Comprehension	MCQ2

பட்டியல் I ஐ பட்டியல் II உடன் பொருத்துக

பட்டியல் I	பட்டியல் II
A. மிடுவா	I. ஓடினா
B. பித்தோரா	II. பிஹார்
C. பட்டசித்ரா	III. குஜராத்
D. பிச்சுவாய்	IV. ராஜஸ்தான்

கீழே தரப்பட்டுள்ள வாய்ப்புகளில் இரண்டு சரியான விடையைத் தேர்ந்தெடுக்கவும்:

1. A-I, B-IV, C-II, D-III

2. A-II, B-III, C-I, D-IV

3. A-I, B-II, C-III, D-IV

4. A-I, B-III, C-II, D-IV

Options :

485584144721. 1

485584144722. 2

485584144723. 3

485584144724. 4

Question Number : 246 Question Id : 48558436181 Question Type : MCQ Option Shuffling : No Is Question Mandatory : No Calculator : None Response Time : N.A Think Time : N.A Minimum Instruction Time : 0

Correct Marks : 5 Wrong Marks : 1

Question Key Details :

Key	Value
Comprehension	MCQ2

சாவி I னி சாவி II ன் ஐத் துணை

சாவி I	சாவி II
A. மிடுவா	I. ஓடினா
B. பித்தோரா	II. பிஹார்
C. பட்டசித்ரா	III. குஜராத்
D. பிச்சுவாய்	IV. ராஜஸ்தான்

கீழே தரப்பட்டுள்ள வாய்ப்புகளில் இரண்டு சரியான விடையைத் தேர்ந்தெடுக்கவும்:

1. A-I, B-IV, C-II, D-III

2. A-II, B-III, C-I, D-IV

3. A-I, B-II, C-III, D-IV

4. A-I, B-III, C-II, D-IV

Options :

485584144721. 1

485584144722. 2

485584144723. 3

485584144724. 4

Question Number : 246 Question Id : 48558436181 Question Type : MCQ Option Shuffling : No Is Question Mandatory : No Calculator : None Response Time : N.A Think Time : N.A Minimum Instruction Time : 0

Correct Marks : 5 Wrong Marks : 1

Question Key Details :

Key	Value
Comprehension	MCQ2

فہرست I کو فہرست II سے مٹائیں

فہرست II	فہرست I
I. اورتقا	A. مینہلا
II. ببار	B. بنگورا
III. گجرات	C. پناوچترا
IV. راجستھان	D. پوہرائی

نیچے سے درست جواب کا انتخاب کریں :

1. A-I, B-IV, C-II, D-III
2. A-II, B-III, C-I, D-IV
3. A-I, B-II, C-III, D-IV
4. A-I, B-III, C-II, D-IV

Options :

485584144721. 1
485584144722. 2
485584144723. 3
485584144724. 4

Question Number : 247 Question Id : 48558436182 Question Type : MCQ Option Shuffling : No Is Question Mandatory : No Calculator : None Response Time : N.A Think Time : N.A Minimum Instruction Time : 0

Correct Marks : 5 Wrong Marks : 1

Question Key Details :

Key	Value
Comprehension	MCQ2

Match List I with List II

LIST I	LIST II
A. Hazrat Nizamuddin Auliya and Amir Khusrau	I. Queen of Bijapur
B. Ragini Pothamsika	II. Indo-Persian
C. Chand Bibi Playing Polo	III. Music of Ragamala Family
D. Deccani School style	IV. Hyderabad

Choose the correct answer from the options given below:

1. A-IV, B-III, C-I, D-II
2. A-III, B-IV, C-I, D-II
3. A-II, B-III, C-IV, D-I
4. A-I, B-II, C-III, D-IV

Options :

485584144725. 1

485584144726. 2
485584144727. 3
485584144728. 4

Question Number : 247 Question Id : 48558436182 Question Type : MCQ Option Shuffling : No Is Question Mandatory : No Calculator : None
Response Time : N.A Think Time : N.A Minimum Instruction Time : 0
Correct Marks : 5 Wrong Marks : 1
Question Key Details :

Key	Value
Comprehension	MCQ2

सूची I का सूची II के साथ मिलान कीजिए:

सूची I	सूची II
A. हुजूरत निज़ामुद्दीन औलिया और अमीर ख़ुसरो	I. बीजापुर की रानी
B. रागिनी पधमसिका	II. भारतीय-फ़ारसी
C. चाँद बीबी पोतो खेलते हुए	III. रागमाला परिवार का संगीत
D. देवकनी चित्र शैली	IV. हैदराबाद

नीचे दिए गए विकल्पों में से सही उत्तर चुनिए:

1. A-IV, B-III, C-I, D-II
2. A-III, B-IV, C-I, D-II
3. A-II, B-III, C-IV, D-I
4. A-I, B-II, C-III, D-IV

Options :

485584144725. 1
485584144726. 2
485584144727. 3
485584144728. 4

Question Number : 247 Question Id : 48558436182 Question Type : MCQ Option Shuffling : No Is Question Mandatory : No Calculator : None
Response Time : N.A Think Time : N.A Minimum Instruction Time : 0
Correct Marks : 5 Wrong Marks : 1
Question Key Details :

Key	Value
Comprehension	MCQ2

ভালিকা I আৰু II মিলোৱা

ভালিকা I	ভালিকা II
A. হুজুৰত নিজামুদ্দিন আৰু আমিৰ খুছৰো	I. বিজাপুৰৰ ৰানী
B. ৰাগিণী পধমসিকা	II. হিন্দা-পাৰ্চীয়া
C. চান্দ বিবি পোতো খেলতে হুৱ	III. ৰাগমালা পৰিয়ালৰ সংগীত
D. দেবকানী চিত্ৰ শৈলী	IV. হায়দৰাবাদ

1. A-IV, B-III, C-I, D-II
2. A-III, B-IV, C-I, D-II
3. A-II, B-III, C-IV, D-I
4. A-I, B-II, C-III, D-IV

Options :

485584144725. 1
485584144726. 2

485584144727. 3
485584144728. 4

Question Number : 247 Question Id : 48558436182 Question Type : MCQ Option Shuffling : No Is Question Mandatory : No Calculator : None
Response Time : N.A Think Time : N.A Minimum Instruction Time : 0

Correct Marks : 5 Wrong Marks : 1

Question Key Details :

Key	Value
Comprehension	MCQ2

লিস্ট ১ এবং ২ কে ম্যাচ কর

ডালিকা ১	ডালিকা ২
A. হাজারত নিজামুদ্দিন আউলিয়া এবং আমির খসরু	I. বিজাপুরের রানী
B. রাসিনী পঞ্চমশিখা	II. ইন্দো পার্সিয়ান
C. চাঁদবিবি প্রেয়িং পোলো	III. রাগামেনা পরিবারের সংস্কৃত
D. ডেকানী ঘরানা স্টাইল	IV. হায়দ্রাবাদ

সঠিক উত্তরটি বেছে লেখ:

1. A-IV, B-III, C-I, D-II
2. A-III, B-IV, C-I, D-II
3. A-II, B-III, C-IV, D-I
4. A-I, B-II, C-III, D-IV

Options :

485584144725. 1
485584144726. 2
485584144727. 3
485584144728. 4

Question Number : 247 Question Id : 48558436182 Question Type : MCQ Option Shuffling : No Is Question Mandatory : No Calculator : None
Response Time : N.A Think Time : N.A Minimum Instruction Time : 0

Correct Marks : 5 Wrong Marks : 1

Question Key Details :

Key	Value
Comprehension	MCQ2

সূচি I নে সূচি II সাথে জোড়.

সূচি I	সূচি II
A. হাজারত নিজামুদ্দিন আউলিয়া અને અમીર ખસરો	I. બીજાપુરની રાણી
B. રાસીની પંચમશિકા	II. ભારતીય-પર્શિયન
C. પોલો રમતી ચાંદબીબી	III. રાગમાળા પરિવારનું સંસ્કૃત
D. ડેક્કાની ઘરના સ્ટાઇલ	IV. હૈદરાબાદ

નીચે આપેલા વિકલ્પોમાંથી સાચો જવાબ પસંદ કરો.

1. A-IV, B-III, C-I, D-II
2. A-III, B-IV, C-I, D-II
3. A-II, B-III, C-IV, D-I
4. A-I, B-II, C-III, D-IV

Options :

485584144725. 1

485584144726. 2
 485584144727. 3
 485584144728. 4

Question Number : 247 Question Id : 48558436182 Question Type : MCQ Option Shuffling : No Is Question Mandatory : No Calculator : None
 Response Time : N.A Think Time : N.A Minimum Instruction Time : 0
 Correct Marks : 5 Wrong Marks : 1
 Question Key Details :

Key	Value
Comprehension	MCQ2

ಪಟ್ಟಿ - I ಅನ್ನು ಪಟ್ಟಿ - II ರ ಜೊತೆ ಹೊಂದಿಸಿ:

ಪಟ್ಟಿ - I		ಪಟ್ಟಿ - II	
A.	ಹಬ್ಬಾ ನಿಕಾಮುದ್ದೀನ್ ಔಲಿಯಾ ಮತ್ತು ಅವರ ಖಾಸಿಡಿ	I.	ಬಿಜಾಪುರದ ರಾಣಿ
B.	ರಾಗಮಿ ಪಥಮ್ನಿಕ	II.	ಇಂಡೋ-ಪರ್ಷಿಯನ್
C.	ಪೂಜಾರಿ ಆಡುತ್ತಿರುವ ಚಾಂದ್ ಬೀಬಿ	III.	ರಾಗಮಾಲಾ ಕುಟುಂಬದ ಸಂಗೀತ
D.	ಡೆಕ್ಕನಿ ಶಾಲೆಯ ಶೈಲಿ	IV.	ಹೈದರಾಬಾದ್

ಕೆಳಗೆ ನೀಡಿರುವ ಆಯ್ಕೆಗಳಿಂದ ಸರಿಯಾದ ಉತ್ತರವನ್ನು ಆರಿಸಿ:

1. A-IV, B-III, C-I, D-II
2. A-III, B-IV, C-I, D-II
3. A-II, B-III, C-IV, D-I
4. A-I, B-II, C-III, D-IV

Options :

485584144725. 1
 485584144726. 2
 485584144727. 3
 485584144728. 4

Question Number : 247 Question Id : 48558436182 Question Type : MCQ Option Shuffling : No Is Question Mandatory : No Calculator : None
 Response Time : N.A Think Time : N.A Minimum Instruction Time : 0

Correct Marks : 5 Wrong Marks : 1

Question Key Details :

Key	Value
Comprehension	MCQ2

ಪತ್ರಿಕೆ I ನ ಪತ್ರಿಕೆ II ಯಾಗಿ ಪರಿವರ್ತಿಸಿ ಪರಿಶೀಲಿಸಿ:

ಪತ್ರಿಕೆ I		ಪತ್ರಿಕೆ II	
A.	ಪ್ರಗತಿಶೀಲ ನಿರೀಕ್ಷೆಗಳಿಗೆ ಉದಾಹರಣೆಯಾಗಿ, ಅರಬ್ ಸಂಸ್ಕೃತಿ	I.	ಬಿಜಾಪುರದ ರಾಣಿ
B.	ರಾಗಮಿ ಪಥಮ್ನಿಕ	II.	ಇಂಡೋ-ಪರ್ಷಿಯನ್
C.	ಪೂಜಾರಿ ಆಡುತ್ತಿರುವ ಚಾಂದ್ ಬೀಬಿ	III.	ರಾಗಮಾಲಾ ಕುಟುಂಬದ ಸಂಗೀತ
D.	ಡೆಕ್ಕನಿ ಶಾಲೆಯ ಶೈಲಿ	IV.	ಹೈದರಾಬಾದ್

ಉತ್ತರ ನೀಡುವ ಆಯ್ಕೆಗಳಿಂದ ಸರಿಯಾದ ಉತ್ತರವನ್ನು ಆರಿಸಿ:

1. A-IV, B-III, C-I, D-II
2. A-III, B-IV, C-I, D-II
3. A-II, B-III, C-IV, D-I
4. A-I, B-II, C-III, D-IV

Options :

485584144725. 1

485584144726. 2
485584144727. 3
485584144728. 4

Question Number : 247 Question Id : 48558436182 Question Type : MCQ Option Shuffling : No Is Question Mandatory : No Calculator : None
Response Time : N.A Think Time : N.A Minimum Instruction Time : 0
Correct Marks : 5 Wrong Marks : 1

Question Key Details :

Key	Value
Comprehension	MCQ2

यादी I ची यादी II शी जोडी लावा

यादी I	यादी II
A. इब्नरत निजामुद्दिन औलिया आणि आमिर खुरराऊ	I. विजापूरची राणी
B. रागिणी पधमसिका	II. इर्रो परिषद
C. पंतो खेळणारी चोंद बीबी	III. रागमाता कुटुंबातील संगीत
D. दख्खनी शाळा शैली	IV. हैदराबाद

खालील पर्यायातून अचूक उत्तर शोधा.

1. A-IV, B-III, C-I, D-II
2. A-III, B-IV, C-I, D-II
3. A-II, B-III, C-IV, D-I
4. A-I, B-II, C-III, D-IV

Options :

485584144725. 1
485584144726. 2
485584144727. 3
485584144728. 4

Question Number : 247 Question Id : 48558436182 Question Type : MCQ Option Shuffling : No Is Question Mandatory : No Calculator : None
Response Time : N.A Think Time : N.A Minimum Instruction Time : 0
Correct Marks : 5 Wrong Marks : 1

Question Key Details :

Key	Value
Comprehension	MCQ2

जोडिका I वरील जोडिका II जोड करणु।

जोडिका I	जोडिका II
A. वनरत निजामुद्दिन औलिया आणि आमिर खुरराऊ	I. विजापूरची राणी
B. रागिणी पधमसिका	II. इर्रो परिषद
C. पंतो खेळणारी चोंद बीबी	III. रागमाता कुटुंबातील संगीत
D. दख्खनी शाळा शैली	IV. हैदराबाद

खालील पर्यायातून अचूक उत्तर शोधा.

1. A-IV, B-III, C-I, D-II
2. A-III, B-IV, C-I, D-II
3. A-II, B-III, C-IV, D-I
4. A-I, B-II, C-III, D-IV

Options :

485584144725. 1

485584144726. 2
485584144727. 3
485584144728. 4

Question Number : 247 Question Id : 48558436182 Question Type : MCQ Option Shuffling : No Is Question Mandatory : No Calculator : None
Response Time : N.A Think Time : N.A Minimum Instruction Time : 0

Correct Marks : 5 Wrong Marks : 1

Question Key Details :

Key	Value
Comprehension	MCQ2

ਸੂਚੀ I ਦਾ ਸੂਚੀ II ਨਾਲ ਮਿਲਾਟ ਕਰੋ

ਸੂਚੀ I	ਸੂਚੀ II
A. ਹਜ਼ੂਰਤ ਨਿਜ਼ਾਮੁਦੀਨ ਔਲੀਆ ਅਤੇ ਅਮੀਰ ਖ਼ੁਸਰੋ	I. ਬੀਜਾਪੁਰ ਦੀ ਰਾਣੀ
B. ਰਾਗਿਨੀ ਪਾਠ ਮਸੀਹਾ	II. ਭਾਰਤੀ ਪਾਰਸੀ
C. ਚੰਦ ਬੀਬੀ ਪੈਲੇ ਖੇਡਦੀ	III. ਰਾਗਮਾਲਾ ਪਰਿਵਾਰ ਦਾ ਮੈਂਬਰ
D. ਡਿਕਨ ਸਕੂਲ ਸੈਲੀ	IV. ਹੋਦਰਾਬਾਦ

ਹੇਠਾਂ ਦਿੱਤੇ ਵਿਕਲਪ ਵਿੱਚੋਂ ਸਹੀ ਉੱਤਰ ਚੁਣੋ:

1. A-IV, B-III, C-I, D-II
2. A-III, B-IV, C-I, D-II
3. A-II, B-III, C-IV, D-I
4. A-I, B-II, C-III, D-IV

Options :

485584144725. 1
485584144726. 2
485584144727. 3
485584144728. 4

Question Number : 247 Question Id : 48558436182 Question Type : MCQ Option Shuffling : No Is Question Mandatory : No Calculator : None
Response Time : N.A Think Time : N.A Minimum Instruction Time : 0

Correct Marks : 5 Wrong Marks : 1

Question Key Details :

Key	Value
Comprehension	MCQ2

ਪੱਛਿਯਲ I ਔ ਪੱਛਿਯਲ II ਖ਼ੁਦਨ ਪੋਰਾਠੁੱਕੁ

ਪੱਛਿਯਲ I	ਪੱਛਿਯਲ II
A. ਘੋਰਬਰਕ ਨੀਜ਼ਾਮੁੱਕੁੰਨਿ ਓਲੀਯਾ ਮਹਿਰੂਯੁ ਅਯੀਰ ਕੁਲਬਰੋ	I. ਪਿਯੂਰੀਨ ਈਰਾਨੀ
B. ਰਾਕਿਨੀ ਪਠਾਮਘਾ	II. ਓਨੁੱਠੋ-ਪਾਰਸੀ
C. ਅਨੁੱਠੁ ਪੀਪੀ ਪੋਲੇਯਿਨੁ ਪੋਲੋ	III. ਈਰਾਕਮਾਲਾ ਕੁੱਠੁਮਪੱਠੁਨਿ ਓਸੇ
D. ਠੋਕੁਕਾਨੀਯ ਪਲੇਨੀ ਪਾਨੀ	IV. ਓਘੋਕਰਾਪਾਠੁ

ਓਠੋ ਠਰਪੱਠੁੱਲੋਨ ਵਾਯੱਪੁਕਲੀਲ ਓਰੁਨੁੱਠੁ ਸਰੀਯਾਨ ਵਿਠੋਠੋਯਠੁ ਠੋਰੁੱਠੋਠੋਕੁਕੁਵੁਠੁ:

1. A-IV, B-III, C-I, D-II
2. A-III, B-IV, C-I, D-II
3. A-II, B-III, C-IV, D-I
4. A-I, B-II, C-III, D-IV

Options :

485584144725. 1
485584144726. 2

485584144727. 3
485584144728. 4

Question Number : 247 Question Id : 48558436182 Question Type : MCQ Option Shuffling : No Is Question Mandatory : No Calculator : None
Response Time : N.A Think Time : N.A Minimum Instruction Time : 0

Correct Marks : 5 Wrong Marks : 1

Question Key Details :

Key	Value
Comprehension	MCQ2

జాబితా I ని జాబితా II తో జతచేయండి

జాబితా I		జాబితా II	
A.	హజరత్ నిజాముద్దీన్ లెలియా మరియు అమీర్ ఖుల్జ	I.	బీజాపూర్ రాణి
B.	రాగిణి ఏతాంశిక	II.	ఇండో-పర్షియన్
C.	లాల్ అడుతున్న వాండ్ బీబీ	III.	రాగమాల కుటుంబపు సంగీతం
D.	దక్కను పాఠశాల వైది	IV.	హైదరాబాద్

క్రీంది వికల్పాలలో సరైన సమాధానం ఎంచుకోండి

1. A-IV, B-III, C-I, D-II
2. A-III, B-IV, C-I, D-II
3. A-II, B-III, C-IV, D-I
4. A-I, B-II, C-III, D-IV

Options :

485584144725. 1
485584144726. 2
485584144727. 3
485584144728. 4

Question Number : 247 Question Id : 48558436182 Question Type : MCQ Option Shuffling : No Is Question Mandatory : No Calculator : None
Response Time : N.A Think Time : N.A Minimum Instruction Time : 0

Correct Marks : 5 Wrong Marks : 1

Question Key Details :

Key	Value
Comprehension	MCQ2

فہرست I کو فہرست II سے منطابق

فہرست II	فہرست I
I. بیجاپور کی رائی	A. حضرت نظام الدین اولیا اور امیر خسرو
II. اٹور فارسی	B. راگینی پنجم سنکا
III. راگنیتا خندان کا سنگیت	C. چاند نی اور بولو کھیل رائی ایسے
IV. جودر لہاد	D. سنگی انداز کا اسکول

نیچے سے درست جواب کا انتخاب کریں :

1. A-IV, B-III, C-I, D-II
2. A-III, B-IV, C-I, D-II
3. A-II, B-III, C-IV, D-I
4. A-I, B-II, C-III, D-IV

Options :

485584144725. 1
485584144726. 2
485584144727. 3
485584144728. 4

Question Number : 248 Question Id : 48558436183 Question Type : MCQ Option Shuffling : No Is Question Mandatory : No Calculator : None Response Time : N.A Think Time : N.A Minimum Instruction Time : 0

Correct Marks : 5 Wrong Marks : 1

Question Key Details :

Key	Value
Comprehension	MCQ2

Match List I with List II

LIST I	LIST II
A. Varnikabhanga	I. Aesthetic composition
B. Roopbheda	II. Looks and appearance
C. Sadishya	III. Resemblance
D. Lavanya Yojana	IV. Use of brush and colours

Choose the correct answer from the options given below:

1. A-I, B-III, C-II, D-IV
2. A-III, B-II, C-I, D-IV
3. A-IV, B-II, C-III, D-I
4. A-II, B-IV, C-III, D-I

Options :

485584144729. 1
485584144730. 2
485584144731. 3
485584144732. 4

Question Number : 248 Question Id : 48558436183 Question Type : MCQ Option Shuffling : No Is Question Mandatory : No Calculator : None
 Response Time : N.A Think Time : N.A Minimum Instruction Time : 0
 Correct Marks : 5 Wrong Marks : 1
 Question Key Details :

Key	Value
Comprehension	MCQ2

सूची I का सूची II के साथ मिलान कीजिए:

सूची I	सूची II
A. वनिकाभंग	I. सीढ़ीपरक संयोजन
B. रूप भेद	II. नयन नक्शा और रूप रंग
C. सादृश्य	III. सादृश्य समानता
D. तावप्य योजना	IV. ब्रश और रंगों का उपयोग

नीचे दिए गए विकल्पों में से सही उत्तर चुनिए:

1. A-I, B-III, C-II, D-IV
2. A-III, B-II, C-I, D-IV
3. A-IV, B-II, C-III, D-I
4. A-II, B-IV, C-III, D-I

Options :

485584144729. 1
 485584144730. 2
 485584144731. 3
 485584144732. 4

Question Number : 248 Question Id : 48558436183 Question Type : MCQ Option Shuffling : No Is Question Mandatory : No Calculator : None
 Response Time : N.A Think Time : N.A Minimum Instruction Time : 0

Correct Marks : 5 Wrong Marks : 1

Question Key Details :

Key	Value
Comprehension	MCQ2

তালিকা I আৰু তালিকা II মিলোৱা

তালিকা I	তালিকা II
A. বান্ধিকাভাংগা	I. এচথেটিক পঠন
B. ৰূপবেদ	II. লুকচ এন্ড এপিগ্ৰাৰেনচ
C. সদৃশ্যা	III. সদৃশ্যা
D. লাবন্য যোজনা	IV. ব্ৰাছ আৰু ৰঙৰ ব্যৱহাৰ

1. A-I, B-III, C-II, D-IV
2. A-III, B-II, C-I, D-IV
3. A-IV, B-II, C-III, D-I
4. A-II, B-IV, C-III, D-I

Options :

485584144729. 1
 485584144730. 2
 485584144731. 3
 485584144732. 4

Question Number : 248 Question Id : 48558436183 Question Type : MCQ Option Shuffling : No Is Question Mandatory : No Calculator : None
Response Time : N.A Think Time : N.A Minimum Instruction Time : 0

Correct Marks : 5 Wrong Marks : 1

Question Key Details :

Key	Value
Comprehension	MCQ2

મ્યાંચિં કર

ઢાલિકા ૧	ઢાલિકા ૨
A. બર્નિવરઢાઝા	I. નામ્નનિક રૂઢના
B. રૂપ વેદ	II. દેઢા ંવઃ ઉપસ્થિતિ
C. સાદુશા	III. ઢ્વરૂપ
D. લાવન્ય યોઝના	IV. તુલિત રૂઢેર ઢાવઢાર

સઢ્ઠિક ઉઢ્ઢરઢિ વેઢે નાઢુ:

1. A-I, B-III, C-II, D-IV
2. A-III, B-II, C-I, D-IV
3. A-IV, B-II, C-III, D-I
4. A-II, B-IV, C-III, D-I

Options :

485584144729. 1
485584144730. 2
485584144731. 3
485584144732. 4

Question Number : 248 Question Id : 48558436183 Question Type : MCQ Option Shuffling : No Is Question Mandatory : No Calculator : None
Response Time : N.A Think Time : N.A Minimum Instruction Time : 0

Correct Marks : 5 Wrong Marks : 1

Question Key Details :

Key	Value
Comprehension	MCQ2

સૂચિ I ને સૂચિ II સાથે ઝોડો.

સૂચિ I	સૂચિ II
A. વર્ણિઢાઢસા	I. આશાનિય સરઢના
B. રૂપઢિદ	II. દેઢાવ ંને બાહ્યરૂપ
C. સંદુશઢ	III. સામ્ઢિતા
D. ઢાવઢ્ઢ યોઝના	IV. ઢ્વરા ંને રૂઢની ડ્રિઢયોઝ

નીચે આપેલા વિકલ્પોમાંથી સાચો ઝવાબ ઢસંદ કરો.

1. A-I, B-III, C-II, D-IV
2. A-III, B-II, C-I, D-IV
3. A-IV, B-II, C-III, D-I
4. A-II, B-IV, C-III, D-I

Options :

485584144729. 1
485584144730. 2
485584144731. 3
485584144732. 4

Question Number : 248 Question Id : 48558436183 Question Type : MCQ Option Shuffling : No Is Question Mandatory : No Calculator : None
 Response Time : N.A Think Time : N.A Minimum Instruction Time : 0
 Correct Marks : 5 Wrong Marks : 1

Question Key Details :

Key	Value
Comprehension	MCQ2

ಪಟ್ಟಿ - I ಅನ್ನು ಪಟ್ಟಿ - II ರ ಜೊತೆ ಹೊಂದಿಸಿ:

ಪಟ್ಟಿ - I	ಪಟ್ಟಿ - II
A. ವರ್ಣಿಕ ಭಂಗ	I. ಲಲಿತಕಲಾ ವಿಜ್ಞಾನದ ಅಂಶ
B. ರಾಜಾ ಭೇದ	II. ನೋಟಗಳು ಮತ್ತು ಕಾಯಿಲೆ
C. ಸಾಧ್ಯತೆ	III. ಹೋಲಿಕೆ
D. ಲಾವಣ್ಯ ಯೋಜನೆ	IV. ಬ್ರಹ್ಮ ಮತ್ತು ಬಣ್ಣಗಳನ್ನು ಬಳಸುವುದು

ಕೆಳಗೆ ನೀಡಿರುವ ಆಯ್ಕೆಗಳಿಂದ ಸರಿಯಾದ ಉತ್ತರವನ್ನು ಆರಿಸಿ:

1. A-I, B-III, C-II, D-IV
2. A-III, B-II, C-I, D-IV
3. A-IV, B-II, C-III, D-I
4. A-II, B-IV, C-III, D-I

Options :

- 485584144729. 1
- 485584144730. 2
- 485584144731. 3
- 485584144732. 4

Question Number : 248 Question Id : 48558436183 Question Type : MCQ Option Shuffling : No Is Question Mandatory : No Calculator : None
 Response Time : N.A Think Time : N.A Minimum Instruction Time : 0

Correct Marks : 5 Wrong Marks : 1

Question Key Details :

Key	Value
Comprehension	MCQ2

ಪತ್ರಿಕೆ I ನ್ನು ಪತ್ರಿಕೆ II ಯಾಗಿ ಮೇಲ್ಕಂಡಿರುವ ಮೇಲೆ ಹೊಂದಿಸಿ:

ಪತ್ರಿಕೆ I	ಪತ್ರಿಕೆ II
A. ವರ್ಣೀಕರಣ	I. ಸ್ವಾಭಾವಿಕ ಅಭಿಮಾನ
B. ಸ್ವಾಭಾವಿಕ	II. ಕೃತಿಯುಂ, ಸ್ವಾಭಾವಿಕ
C. ಸ್ವಾಭಾವಿಕ	III. ಸ್ವಾಭಾವಿಕ
D. ಲಾವಣ್ಯ ಯೋಜನೆ	IV. ಬ್ರಹ್ಮ ಮತ್ತು ಬಣ್ಣಗಳನ್ನು ಬಳಸುವುದು

ಕೆಳಗೆ ನೀಡಿರುವ ಆಯ್ಕೆಗಳಿಂದ ಸರಿಯಾದ ಉತ್ತರವನ್ನು ಆರಿಸಿ:

1. A-I, B-III, C-II, D-IV
2. A-III, B-II, C-I, D-IV
3. A-IV, B-II, C-III, D-I
4. A-II, B-IV, C-III, D-I

Options :

- 485584144729. 1
- 485584144730. 2
- 485584144731. 3
- 485584144732. 4

Question Number : 248 Question Id : 48558436183 Question Type : MCQ Option Shuffling : No Is Question Mandatory : No Calculator : None
 Response Time : N.A Think Time : N.A Minimum Instruction Time : 0

Correct Marks : 5 Wrong Marks : 1

Question Key Details :

Key	Value
Comprehension	MCQ2

यादी I ची यादी II शी जोडी लावा

यादी I	यादी II
A. वर्णिका भंग	I. सिद्धि रचना
B. रूप बंडा	II. दिसण आणि स्वरूप
C. सदृश्य	III. साम्य
D. कावण्य योजना	IV. ब्रश आणि रंगाचा वापर

खालील पर्यायातून अचूक उत्तर शोधा

1. A-I, B-III, C-II, D-IV
2. A-III, B-II, C-I, D-IV
3. A-IV, B-II, C-III, D-I
4. A-II, B-IV, C-III, D-I

Options :

485584144729. 1
485584144730. 2
485584144731. 3
485584144732. 4

Question Number : 248 Question Id : 48558436183 Question Type : MCQ Option Shuffling : No Is Question Mandatory : No Calculator : None
Response Time : N.A Think Time : N.A Minimum Instruction Time : 0

Correct Marks : 5 Wrong Marks : 1

Question Key Details :

Key	Value
Comprehension	MCQ2

छात्रिका I खेचिछ छात्रिका II नेनेक करणु।

छात्रिका I	छात्रिका II
A. करणिकककक	I. Aesthetic composition
B. रूड रूण	II. Looks and appearance
C. खेचिछ	III. Resemblance
D. कककक कककक	IV. Use of brush and colours

खेचिछककककक ककककक खेचिछ ककककक ककककक:

1. A-I, B-III, C-II, D-IV
2. A-III, B-II, C-I, D-IV
3. A-IV, B-II, C-III, D-I
4. A-II, B-IV, C-III, D-I

Options :

485584144729. 1
485584144730. 2
485584144731. 3
485584144732. 4

Question Number : 248 Question Id : 48558436183 Question Type : MCQ Option Shuffling : No Is Question Mandatory : No Calculator : None
Response Time : N.A Think Time : N.A Minimum Instruction Time : 0

Key	Value
Comprehension	MCQ2

జాబితా I ని జాబితా II తో జతచేయండి

జాబితా I	జాబితా II
A. వర్షిక బంగ	I. ఇంద్రమౌనీ కూర్పు
B. రూప భేద	II. ఆకాశము మరియు రూపము
C. సద్భక్తి	III. బోలిక గా ఉండు
D. లావణ్య యోజన	IV. బ్రహ్మ మరియు రంగుల వాదకం

క్రింది వాటిలో సరైన సమాధానం ఎంచుకోండి

1. A-I, B-III, C-II, D-IV
2. A-III, B-II, C-I, D-IV
3. A-IV, B-II, C-III, D-I
4. A-II, B-IV, C-III, D-I

Options :

485584144729. 1
485584144730. 2
485584144731. 3
485584144732. 4

Question Number : 248 Question Id : 48558436183 Question Type : MCQ Option Shuffling : No Is Question Mandatory : No Calculator : None
Response Time : N.A Think Time : N.A Minimum Instruction Time : 0
Correct Marks : 5 Wrong Marks : 1

Question Key Details :

Key	Value
Comprehension	MCQ2

ఫిరస్త్ I కి ఫిరస్త్ II లోని మాటలను

ఫిరస్త్ II	ఫిరస్త్ I
I. جمالیاتی مناخات	A. وریزیکا بھنگا
II. طابوری شکل	B. دیوبند
III. متناہت	C. ساریتھا
IV. برہن اور رنگوں کا استعمال	D. لاٹویا یوجنا

نیچے سے درجست جواب کا انتخاب کریں :

1. A-I, B-III, C-II, D-IV
2. A-III, B-II, C-I, D-IV
3. A-IV, B-II, C-III, D-I
4. A-II, B-IV, C-III, D-I

Options :

485584144729. 1

485584144730. 2
485584144731. 3
485584144732. 4

Question Number : 249 Question Id : 48558436184 Question Type : MCQ Option Shuffling : No Is Question Mandatory : No Calculator : None
Response Time : N.A Think Time : N.A Minimum Instruction Time : 0
Correct Marks : 5 Wrong Marks : 1

Question Key Details :

Key	Value
Comprehension	MCQ2

Match List I with List II

LIST I		LIST II	
A.	Bundi	I.	Bikaner
B.	Krishna on Swing	II.	Mewar
C.	Raja Anuruddha Singh Hara	III.	Sub-School
D.	Sahibdin	IV.	Utkal Ram

Choose the correct answer from the options given below:

1. A-III, B-I, C-IV, D-II
2. A-I, B-II, C-III, D-IV
3. A-II, B-I, C-III, D-IV
4. A-III, B-II, C-I, D-IV

Options :

485584144733. 1
485584144734. 2
485584144735. 3
485584144736. 4

Question Number : 249 Question Id : 48558436184 Question Type : MCQ Option Shuffling : No Is Question Mandatory : No Calculator : None
Response Time : N.A Think Time : N.A Minimum Instruction Time : 0

Correct Marks : 5 Wrong Marks : 1

Question Key Details :

Key	Value
Comprehension	MCQ2

सूची I का सूची II के साथ मिलान कीजिए:

सूची I		सूची II	
A.	बूंदी	I.	बीकानेर
B.	झूल पर कृष्ण	II.	मेवाड़
C.	राजा अनिरुद्ध सिंह हारा	III.	उप-शैली
D.	साहिबदीन	IV.	उत्कल राम

नीचे दिए गए विकल्पों में से सही उत्तर चुनिए:

1. A-III, B-I, C-IV, D-II
2. A-I, B-II, C-III, D-IV
3. A-II, B-I, C-III, D-IV
4. A-III, B-II, C-I, D-IV

Options :

485584144733. 1
485584144734. 2
485584144735. 3

Question Number : 249 Question Id : 48558436184 Question Type : MCQ Option Shuffling : No Is Question Mandatory : No Calculator : None
 Response Time : N.A Think Time : N.A Minimum Instruction Time : 0
 Correct Marks : 5 Wrong Marks : 1
 Question Key Details :

Key	Value
Comprehension	MCQ2

ভালিকা I		ভালিকা II	
A.	বুন্দি	I.	বিকানের
B.	কুলাত কৃষ্ণ	II.	মেরাৰ
C.	ৰতজা অনিৰুদ্ধ সিং হৰা	III.	উপ বিদ্যালয়
D.	শ্বাহিন্দান	IV.	উংকল ৰাম

1. A-III, B-I, C-IV, D-II
2. A-I, B-II, C-III, D-IV
3. A-II, B-I, C-III, D-IV
4. A-III, B-II, C-I, D-IV

Options :

485584144733. 1
 485584144734. 2
 485584144735. 3
 485584144736. 4

Question Number : 249 Question Id : 48558436184 Question Type : MCQ Option Shuffling : No Is Question Mandatory : No Calculator : None
 Response Time : N.A Think Time : N.A Minimum Instruction Time : 0
 Correct Marks : 5 Wrong Marks : 1
 Question Key Details :

Key	Value
Comprehension	MCQ2

মিলিয়ে নাও

ভালিকা ১		ভালিকা ২	
A.	বুন্দি	I.	বিকানীর
B.	দোনায় কৃষ্ণ	II.	মেওয়ার
C.	ৰাজা অনিৰুদ্ধ সিং হৰা	III.	উপ ঘরানা
D.	সোয়বন্দীন	IV.	উংকল ৰাম

সঠিক উত্তরটি বেছে নাও:

1. A-III, B-I, C-IV, D-II
2. A-I, B-II, C-III, D-IV
3. A-II, B-I, C-III, D-IV
4. A-III, B-II, C-I, D-IV

Options :

485584144733. 1
 485584144734. 2
 485584144735. 3
 485584144736. 4

Question Number : 249 Question Id : 48558436184 Question Type : MCQ Option Shuffling : No Is Question Mandatory : No Calculator : None Response Time : N.A Think Time : N.A Minimum Instruction Time : 0

Correct Marks : 5 Wrong Marks : 1

Question Key Details :

Key	Value
Comprehension	MCQ2

સુચિ I ને સુચિ II સાથે જોડો.

સુચિ I		સુચિ II	
A.	બુદ્ધ	I.	બિકાનેર
B.	કૃષિ પર કિંબા	II.	નેવાડ
C.	રાજા અનિરુપધ્ય સિંહ કરા	III.	સબ-સ્ક્રી
D.	સાહિત્યોન	IV.	ઉત્કલ રામ

નીચે આપેલા વિકલ્પોમાંથી સાચો જવાબ પસંદ કરો.

1. A-III, B-I, C-IV, D-II
2. A-I, B-II, C-III, D-IV
3. A-II, B-I, C-III, D-IV
4. A-III, B-II, C-I, D-IV

Options :

485584144733. 1
485584144734. 2
485584144735. 3
485584144736. 4

Question Number : 249 Question Id : 48558436184 Question Type : MCQ Option Shuffling : No Is Question Mandatory : No Calculator : None Response Time : N.A Think Time : N.A Minimum Instruction Time : 0

Correct Marks : 5 Wrong Marks : 1

Question Key Details :

Key	Value
Comprehension	MCQ2

પાઠ્ય - I અને પાઠ્ય - II ને જોડો:

પાઠ્ય - I		પાઠ્ય - II	
A.	બુદ્ધ	I.	બિકાનેર
B.	ભારતીય ઇતિહાસ કૃતિ	II.	નેવાડ
C.	રાજા અનિરુપધ્ય સિંહ કરા	III.	સબ-સ્ક્રી
D.	સાહિત્યોન	IV.	ઉત્કલ રામ

કೆળને નીચેના વિકલ્પોમાંથી સાચો જવાબ પસંદ કરો:

1. A-III, B-I, C-IV, D-II
2. A-I, B-II, C-III, D-IV
3. A-II, B-I, C-III, D-IV
4. A-III, B-II, C-I, D-IV

Options :

485584144733. 1
485584144734. 2
485584144735. 3
485584144736. 4

Question Number : 249 Question Id : 48558436184 Question Type : MCQ Option Shuffling : No Is Question Mandatory : No Calculator : None
 Response Time : N.A Think Time : N.A Minimum Instruction Time : 0
 Correct Marks : 5 Wrong Marks : 1
 Question Key Details :

Key	Value
Comprehension	MCQ2

പട്ടിക I നെ പട്ടിക II മായി ചേർക്കുവാൻ ചേർക്കുക

പട്ടിക I		പട്ടിക II	
A.	ബുണ്ടി	I.	ബിക്കാറനർ
B.	കൃഷ്ണൻ ഉത്തരയിൽ	II.	മീവാർ
C.	രാജാ അന്നിരൂപ സിങ്ങ് ഹാർ	III.	ഉപസമ്പ്രദായം
D.	സാഹിബിദ്ദീൻ	IV.	ഉൽകൽ രാം

താഴെ നൽകിയിട്ടുള്ളവയിൽ നിന്ന് ശരിയായ ഉത്തരം തിരഞ്ഞെടുക്കുക:

1. A-III, B-I, C-IV, D-II
2. A-I, B-II, C-III, D-IV
3. A-II, B-I, C-III, D-IV
4. A-III, B-II, C-I, D-IV

Options :

485584144733. 1
 485584144734. 2
 485584144735. 3
 485584144736. 4

Question Number : 249 Question Id : 48558436184 Question Type : MCQ Option Shuffling : No Is Question Mandatory : No Calculator : None
 Response Time : N.A Think Time : N.A Minimum Instruction Time : 0
 Correct Marks : 5 Wrong Marks : 1
 Question Key Details :

Key	Value
Comprehension	MCQ2

यादी I ची यादी II शी जोडी लावा

यादी I		यादी II	
A.	बुंदी	I.	बिकानर
B.	झोपाळ्यावरील कृष्य	II.	नेवाड
C.	राजा अनिरुध्द सिंह हारा	III.	उप-खाला
D.	साहिबदिन	IV.	उल्कत राम

खालील पर्यायातून अचूक उत्तर शोधा.

1. A-III, B-I, C-IV, D-II
2. A-I, B-II, C-III, D-IV
3. A-II, B-I, C-III, D-IV
4. A-III, B-II, C-I, D-IV

Options :

485584144733. 1
 485584144734. 2
 485584144735. 3
 485584144736. 4

Question Number : 249 Question Id : 48558436184 Question Type : MCQ Option Shuffling : No Is Question Mandatory : No Calculator : None
 Response Time : N.A Think Time : N.A Minimum Instruction Time : 0

Correct Marks : 5 Wrong Marks : 1

Question Key Details :

Key	Value
Comprehension	MCQ2

ଓଡ଼ିଶା I ସହିତ ଓଡ଼ିଶା II ଗୋଟି କରନ୍ତୁ।

ଓଡ଼ିଶା I	ଓଡ଼ିଶା II
A. ବୁଝି	I. ବିଭାଜନ
B. ଝୁଲାଇ ଦୁଃଖ	II. ଶମାନ୍ତ
C. ଉପର ଅନୁଭବ ଆଦି ଭଳି	III. ସଦ-ସ୍ୱଭାବ
D. ଅନିବାର୍ଯ୍ୟ	IV. ଉତ୍ତମ ରାମ

ଦିଆଯାଇଥିବା ବିକଳ୍ପରୁ ସଠିକ ଉତ୍ତରଟି ବାଛନ୍ତୁ:

1. A-III, B-I, C-IV, D-II
2. A-I, B-II, C-III, D-IV
3. A-II, B-I, C-III, D-IV
4. A-III, B-II, C-I, D-IV

Options :

485584144733. 1
485584144734. 2
485584144735. 3
485584144736. 4

Question Number : 249 Question Id : 48558436184 Question Type : MCQ Option Shuffling : No Is Question Mandatory : No Calculator : None
Response Time : N.A Think Time : N.A Minimum Instruction Time : 0

Correct Marks : 5 Wrong Marks : 1

Question Key Details :

Key	Value
Comprehension	MCQ2

ମୁଞ୍ଚି I ଓ ମୁଞ୍ଚି II ନାଲି ମିଳାଏ କରନ୍ତୁ।

ମୁଞ୍ଚି I	ମୁଞ୍ଚି II
A. ଖୁଞ୍ଚି	I. ଶିବାନନ୍ଦ
B. ଝୁଲାଇ ଦେବା	II. ଭୋଗ
C. ଚିତ୍ରଣା ଆନୁଭବ ମିଳି ଗଠା	III. ସପ-ସଂଗ୍ରହ
D. ମାଧ୍ୟମିକ	IV. ପ୍ରତିକଳ ରାମ

ହେଉଛି ଯିଏ ବିକଳ୍ପରୁ ଠିକ୍ ସଠିକ ଉତ୍ତର ଚାହନ୍ତୁ:

1. A-III, B-I, C-IV, D-II
2. A-I, B-II, C-III, D-IV
3. A-II, B-I, C-III, D-IV
4. A-III, B-II, C-I, D-IV

Options :

485584144733. 1
485584144734. 2
485584144735. 3
485584144736. 4

Question Number : 249 Question Id : 48558436184 Question Type : MCQ Option Shuffling : No Is Question Mandatory : No Calculator : None
Response Time : N.A Think Time : N.A Minimum Instruction Time : 0

Correct Marks : 5 Wrong Marks : 1

Question Key Details :

Key	Value
Comprehension	MCQ2

பட்டியல் I ஐ பட்டியல் II உடன் பொருத்துக

பட்டியல் I	பட்டியல் II
A. புந்தி	I. பிகானெர்
B. கிருஷ்ணா ஆன் ஸ்விங்	II. மேவார்
C. ராஜா அநிருத்தா சிங் ஹாரா	III. குணைப்பள்ளி
D. ஷாவரிப்பின்	IV. உக்கல் ராம்

கீழே தரப்பட்டுள்ள வாய்ப்புகளில் இருந்து சரியான விடையைத் தேர்ந்தெடுக்கவும்:

1. A-III, B-I, C-IV, D-II

2. A-I, B-II, C-III, D-IV

3. A-II, B-I, C-III, D-IV

4. A-III, B-II, C-I, D-IV

Options :

485584144733. 1

485584144734. 2

485584144735. 3

485584144736. 4

Question Number : 249 Question Id : 48558436184 Question Type : MCQ Option Shuffling : No Is Question Mandatory : No Calculator : None Response Time : N.A Think Time : N.A Minimum Instruction Time : 0

Correct Marks : 5 Wrong Marks : 1

Question Key Details :

Key	Value
Comprehension	MCQ2

ஜாவிதா I னி ஜாவிதா II னீ ஐதவ்யமு

ஜாவிதா I	ஜாவிதா II
A. டுண்டி	I. திகசெர்
B. சூயலல் க்யூபுடு	II. மெவார்
C. ரஜா அநிருத்தா சிங் ஹாரா	III. குணைப்பள்ளி
D. ஷாவரிப்பின்	IV. உக்கல் ராம்

கீழே தரப்பட்டுள்ள வாய்ப்புகளில் இருந்து சரியான விடையைத் தேர்ந்தெடுக்கவும்:

1. A-III, B-I, C-IV, D-II

2. A-I, B-II, C-III, D-IV

3. A-II, B-I, C-III, D-IV

4. A-III, B-II, C-I, D-IV

Options :

485584144733. 1

485584144734. 2

485584144735. 3

485584144736. 4

Question Number : 249 Question Id : 48558436184 Question Type : MCQ Option Shuffling : No Is Question Mandatory : No Calculator : None Response Time : N.A Think Time : N.A Minimum Instruction Time : 0

Correct Marks : 5 Wrong Marks : 1

Question Key Details :

Key	Value
Comprehension	MCQ2

فہرست I کو فہرست II سے مٹائیں

فہرست II	فہرست I
I. بیگم	A. بٹی
II. مہار	B. جھولے پر کرتا
III. نپل اسکول	C. راما ایشورہ سنگھ بڑا
IV. آنکل رام	D. صاحب دین

نیچے سے درجہ جواب کا انتخاب کریں :

1. A-III, B-I, C-IV, D-II
2. A-I, B-II, C-III, D-IV
3. A-II, B-I, C-III, D-IV
4. A-III, B-II, C-I, D-IV

Options :

485584144733. 1
485584144734. 2
485584144735. 3
485584144736. 4

Question Number : 250 Question Id : 48558436185 Question Type : MCQ Option Shuffling : No Is Question Mandatory : No Calculator : None
Response Time : N.A Think Time : N.A Minimum Instruction Time : 0
Correct Marks : 5 Wrong Marks : 1
Question Key Details :

Key	Value
Comprehension	MCQ2

Match List I with List II

LIST I Sub-Schools		LIST II Main features	
A.	Kangra	I.	Strong use of primary colours and warm yellows
B.	Basohli	II.	Lush vegetation, landscape with flora, birds and wildlife
C.	Mewar	III.	Most poetic and lyrical paintings with serene beauty
D.	Bundi	IV.	Pictorial aesthetics got reformed under virtuous artists

Choose the correct answer from the options given below:

1. A-III, B-II, C-I, D-IV
2. A-III, B-I, C-IV, D-II
3. A-IV, B-I, C-II, D-III
4. A-I, B-III, C-II, D-IV

Options :

485584144737. 1
485584144738. 2
485584144739. 3
485584144740. 4

Question Number : 250 Question Id : 48558436185 Question Type : MCQ Option Shuffling : No Is Question Mandatory : No Calculator : None
Response Time : N.A Think Time : N.A Minimum Instruction Time : 0
Correct Marks : 5 Wrong Marks : 1

Question Key Details :

Key	Value
Comprehension	MCQ2

सूची I का सूची II के साथ मिलान कीजिए:

सूची I उप-विचारधाराएं	सूची II मुख्य विशेषताएं (बनावट)
A. कांगड़ा	I. प्रथम रंगों और पीले रंगों का अत्याधिक उपयोग
B. बसोली	II. सज्जन चक्रपाते, पेड़-पौधों सहित भूदृश्य और कल्प जीवन
C. मेवाड़	III. अत्याधिक काव्यात्मक और संगीतमय चित्रकारी शक्तिभाव सुन्दरता (सौंदर्य) के साथ
D. बूंदी	IV. सौंदर्यवैषम्यक चित्रों को गुणवान कलाकारों के सान्निध्य (देख-रेख) में सुधारा गया

नीचे दिए गए विकल्पों में से सही उत्तर चुनिए:

1. A-III, B-II, C-I, D-IV
2. A-III, B-I, C-IV, D-II
3. A-IV, B-I, C-II, D-III
4. A-I, B-III, C-II, D-IV

Options :

485584144737. 1
485584144738. 2
485584144739. 3
485584144740. 4

Question Number : 250 Question Id : 48558436185 Question Type : MCQ Option Shuffling : No Is Question Mandatory : No Calculator : None
Response Time : N.A Think Time : N.A Minimum Instruction Time : 0
Correct Marks : 5 Wrong Marks : 1

Question Key Details :

Key	Value
Comprehension	MCQ2

তালিকা I Sub-Schools	তালিকা II Main features
A. কংগ্ৰা	I. মূল বগু আৰু পাট স্থানীয়ৰ ব্যৱহাৰ
B. বাসলী	II. লাহু ভেজিটেশ্বন, লেভচকেপ আৰু ফুৰা চৰাই আৰু বন্যজগত
C. মেঘাৰ	III. আতি কবি আৰু বিষয়মূলক চিত্ৰ লগত সৌন্দৰ্য
D. বুলি	IV. পৰ্গত শিল্পীৰ দ্বাৰা অংকিত এচষ্টেটিক চিত্ৰশিল্প

1. A-III, B-II, C-I, D-IV
2. A-III, B-I, C-IV, D-II
3. A-IV, B-I, C-II, D-III
4. A-I, B-III, C-II, D-IV

Options :

485584144737. 1
485584144738. 2
485584144739. 3
485584144740. 4

Question Number : 250 Question Id : 48558436185 Question Type : MCQ Option Shuffling : No Is Question Mandatory : No Calculator : None
Response Time : N.A Think Time : N.A Minimum Instruction Time : 0

Correct Marks : 5 Wrong Marks : 1

Question Key Details :

Key	Value
Comprehension	MCQ2

মিলিয়ে নাও-

তালিকা ১ উপ ঘৰানা	তালিকা ২ প্ৰধান বৈশিষ্ট্য
A. কংগ্ৰা	I. প্ৰাথমিক ভাবে চড়া হলুদ রঙের ব্যবহার
B. বাসলী	II. ভেজিটেশ্বন এবং ল্যাক্কেপ ফুল ও ওয়াইল্ড লাইফ দিয়ে নকশা
C. মেঘাৰ	III. কাব্যিক এবং লিৰিকাল পেন্টিং প্ৰাকৃতিক সৌন্দৰ্যৰ সোধে
D. বুলি	IV. প্ৰতীকায়িত নান্দনিক ছবি বিভিন্ন শিল্পীৰ দ্বাৰা

সঠিক উত্তৰটি বেছে নাও:

1. A-III, B-II, C-I, D-IV
2. A-III, B-I, C-IV, D-II
3. A-IV, B-I, C-II, D-III
4. A-I, B-III, C-II, D-IV

Options :

485584144737. 1
485584144738. 2
485584144739. 3
485584144740. 4

Question Number : 250 Question Id : 48558436185 Question Type : MCQ Option Shuffling : No Is Question Mandatory : No Calculator : None
Response Time : N.A Think Time : N.A Minimum Instruction Time : 0

Correct Marks : 5 Wrong Marks : 1

Question Key Details :

485584144739. 3
485584144740. 4

Question Number : 250 Question Id : 48558436185 Question Type : MCQ Option Shuffling : No Is Question Mandatory : No Calculator : None
Response Time : N.A Think Time : N.A Minimum Instruction Time : 0
Correct Marks : 5 Wrong Marks : 1
Question Key Details :

Key	Value
Comprehension	MCQ2

പട്ടിക I നെ പട്ടിക II മായി ചേർക്കുക

പട്ടിക I ഉപസമ്പ്രദായം		പട്ടിക II പ്രധാന പ്രത്യേകതകൾ	
A.	കോംഗ്ര	I.	പ്രാഥമിക നിറങ്ങളും, ഉറപ്പുള്ള മഞ്ഞ നിറവും ധാരാളമായി ഉപയോഗിക്കുക
B.	ബസ്ഹോലി	II.	സസ്യജാലങ്ങളും, പക്ഷികളും, വന്യ മൃഗങ്ങളുമുള്ള സമൃദ്ധമായ പ്രകൃതി രൂപങ്ങൾ
C.	മീനാർ	III.	പ്രകൃതു ഭംഗിയുള്ള കാവ്യാത്മക പെന്റിങ്ങുകൾ
D.	ബുണ്ടി	IV.	സർഗ്ഗണ സമ്പന്നരായ കലാകാരന്മാരുടെ കീഴിൽ ചിത്ര-സൗന്ദര്യശാസ്ത്രം പഠനക്രമീകരിക്കപ്പെട്ടു

താഴെ നൽകിയിട്ടുള്ളവയിൽ നിന്ന് ശരിയായ ഉത്തരം തിരഞ്ഞെടുക്കുക:

1. A-III, B-II, C-I, D-IV
2. A-III, B-I, C-IV, D-II
3. A-IV, B-I, C-II, D-III
4. A-I, B-III, C-II, D-IV

Options :

485584144737. 1
485584144738. 2
485584144739. 3
485584144740. 4

Question Number : 250 Question Id : 48558436185 Question Type : MCQ Option Shuffling : No Is Question Mandatory : No Calculator : None
Response Time : N.A Think Time : N.A Minimum Instruction Time : 0
Correct Marks : 5 Wrong Marks : 1
Question Key Details :

Key	Value
Comprehension	MCQ2

यादी I ची यादी II शी जोडी लावा

यादी I उप.शाळा	LIST II मुख्य वैशिष्ट्य
A. काँगडा	I. प्राथमिक रंग आणि उबदार पिवळ्या रंगाचा वापर
B. ब्रासोली	II. 'हिरवीगार झार्डेझडपे, वॅन्डल्लेप वरिल (साडे) वनस्पती, पक्षी आणि उच्च प्राणी
C. मिवाड	III. शीत सौंदर्यासह काव्यात्मक आणि गीतात्मक चित्रे
D. बूंदी	IV. सचित्र सौंदर्यासह हे सदगुणी कलाकारांचे पुनःस्वरूप होणे

खालील पर्यायातून अचूक उत्तर शोधा.

1. A-III, B-II, C-I, D-IV
2. A-III, B-I, C-IV, D-II
3. A-IV, B-I, C-II, D-III
4. A-I, B-III, C-II, D-IV

Options :

485584144737. 1

485584144738. 2

485584144739. 3

485584144740. 4

Question Number : 250 Question Id : 48558436185 Question Type : MCQ Option Shuffling : No Is Question Mandatory : No Calculator : None

Response Time : N.A Think Time : N.A Minimum Instruction Time : 0

Correct Marks : 5 Wrong Marks : 1

Question Key Details :

Key	Value
Comprehension	MCQ2

ଉତ୍ତର ଓ ଉତ୍ତର ଉତ୍ତର ଉତ୍ତର କରନ୍ତୁ।

ଉତ୍ତର I ଉତ୍ତର-ସ୍ତର	ଉତ୍ତର II ଉତ୍ତର ବିବରଣୀ
A. ଉତ୍ତର	I. Strong use of primary colours and warm yellows
B. ଉତ୍ତର	II. Lush vegetation, landscape with flora, birds and wildlife
C. ଉତ୍ତର	III. Most poetic and lyrical paintings with serene beauty
D. ଉତ୍ତର	IV. Pictorial aesthetics got reformatting under virtuous artists

ଉତ୍ତର ଉତ୍ତର ଉତ୍ତର ଉତ୍ତର କରନ୍ତୁ:

1. A-III, B-II, C-I, D-IV

2. A-III, B-I, C-IV, D-II

3. A-IV, B-I, C-II, D-III

4. A-I, B-III, C-II, D-IV

Options :

485584144737. 1

485584144738. 2

485584144739. 3

485584144740. 4

Question Number : 250 Question Id : 48558436185 Question Type : MCQ Option Shuffling : No Is Question Mandatory : No Calculator : None

Response Time : N.A Think Time : N.A Minimum Instruction Time : 0

Correct Marks : 5 Wrong Marks : 1

Question Key Details :

Key	Value
Comprehension	MCQ2

Question Key Details :

Key	Value
Comprehension	MCQ2

జాబితా I ని జాబితా II తో జతచేయండి

జాబితా I ఉప-పాఠశాలలు	జాబితా II ముఖ్య ఆకృతులు
A. కంఠా	I. ప్రాథమిక రంగులు మరియు లేత పసుపుల వాడికం
B. బుసలి	II. పచ్చని వృక్ష సంపద, వృక్షజాలతో కూడిన ఏకైక దృశ్యం, పక్షులు మరియు వన్య ప్రాణులు
C. మేవార్	III. నిర్మలమైన అందంతో కూడిన చాలా కవితా మరియు లిరికల్ పెయింటింగ్స్
D. బుండి	IV. సద్గురువుల కళాకారుల ఆధ్వర్యంలో ద్విత సాదర్యం రీ ఫార్మాట్ చేయబడింది

క్రింద ఇవ్వబడిన వికల్పాలలో నుండి సరైన జవాబుని ఎంచుకోండి

1. A-III, B-II, C-I, D-IV
2. A-III, B-I, C-IV, D-II
3. A-IV, B-I, C-II, D-III
4. A-I, B-III, C-II, D-IV

Options :

485584144737. 1
485584144738. 2
485584144739. 3
485584144740. 4

Question Number : 250 Question Id : 48558436185 Question Type : MCQ Option Shuffling : No Is Question Mandatory : No Calculator : None
Response Time : N.A Think Time : N.A Minimum Instruction Time : 0
Correct Marks : 5 Wrong Marks : 1
Question Key Details :

Key	Value
Comprehension	MCQ2

فہرست II (خصوصیات)	فہرست I (سید، اسکولز)
I. بنیادی رنگوں اور گرم پیلے رنگوں کا محدود استعمال	A. کانگریز
II. سرسبز فورت، پیور، ہولیس، پورٹس اور جنگلی حیات سے زمین کی تزیین	B. بسوا
III. ڈراموں، خواہ مخواہ کے نمائندہ تھیٹر اور گیت والی پیشکش	C. میوز
IV. مختلف فن کاروں کے زیر اہم عمل تصویری مصالحت کی دوبارہ تشکیل	D. ہندی

نیچے سے درست جواب کا انتخاب کریں :

1. A-III, B-II, C-I, D-IV
2. A-III, B-I, C-IV, D-II
3. A-IV, B-I, C-II, D-III
4. A-I, B-III, C-II, D-IV

Options :

485584144737. 1
485584144738. 2
485584144739. 3
485584144740. 4

Sanskrit Dom

Group Number :	6
Group Id :	485584820
Group Maximum Duration :	45
Group Minimum Duration :	45
Show Attended Group? :	No
Edit Attended Group? :	No
Break time :	0
Group Marks :	200
Is this Group for Examiner? :	No
Examiner permission :	Cant View
Show Progress Bar? :	No

Sanskrit Dom

Section Id :	485584944
Section Number :	1
Section type :	Online
Mandatory or Optional :	Mandatory
Number of Questions :	50
Number of Questions to be attempted :	40
Section Marks :	200
Enable Mark as Answered Mark for Review and Clear Response :	Yes
Maximum Instruction Time :	0
Sub-Section Number :	1