

485584142460. 4

Question Number : 100 Question Id : 48558435615 Question Type : MCQ Option Shuffling : No Is Question Mandatory : No Calculator : None Response Time : N.A Think Time : N.A Minimum Instruction Time : 0

Correct Marks : 5 Wrong Marks : 1

Question Key Details :

Key	Value
Comprehension	MCQ2

सूची I का सूची II से मिलान कीजिए

सूची I		सूची II	
A.	निहाल चन्द	I.	चित्रकला की मुगल शैली
B.	बसावन	II.	चित्रकला की गुलर शैली
C.	नैनसुख	III.	चित्रकला की बीकानेर शैली
D.	रुक्नुद्दीन	IV.	चित्रकला की किशनगढ़ शैली

निम्नलिखित विकल्पों में से सही उत्तर का चयन कीजिए :

1. A-IV, B-I, C-II, D-III
2. A-III, B-II, C-IV, D-I
3. A-II, B-III, C-I, D-IV
4. A-IV, B-II, C-I, D-III

Options :

485584142457. 1
485584142458. 2
485584142459. 3
485584142460. 4

Geography

Group Number :	3
Group Id :	485584808
Group Maximum Duration :	45
Group Minimum Duration :	45
Show Attended Group? :	No
Edit Attended Group? :	No
Break time :	0
Group Marks :	200
Is this Group for Examiner? :	No
Examiner permission :	Cant View
Show Progress Bar? :	No

Geography

Section Id :	485584928
Section Number :	1

Section type :	Online
Mandatory or Optional :	Mandatory
Number of Questions :	50
Number of Questions to be attempted :	40
Section Marks :	200
Enable Mark as Answered Mark for Review and Clear Response :	Yes
Maximum Instruction Time :	0
Sub-Section Number :	1
Sub-Section Id :	4855842641
Question Shuffling Allowed :	Yes
Is Section Default? :	null

Question Number : 101 Question Id : 48558435616 Question Type : MCQ Option Shuffling : No Is Question Mandatory : No Calculator : None Response Time : N.A Think Time : N.A Minimum Instruction Time : 0

Correct Marks : 5 Wrong Marks : 1

Question Key Details :

Key	Value
Comprehension	MCQ

Griffith Taylor introduced _____ in human geography.

1. Environmental determinism
2. Neo determinism
3. Possibilism
4. Post-modernism

Options :

485584142461. 1
485584142462. 2
485584142463. 3
485584142464. 4

Question Number : 101 Question Id : 48558435616 Question Type : MCQ Option Shuffling : No Is Question Mandatory : No Calculator : None Response Time : N.A Think Time : N.A Minimum Instruction Time : 0

Correct Marks : 5 Wrong Marks : 1

Question Key Details :

Key	Value
Comprehension	MCQ

ग्रिफिथ टेलर ने मानव भूगोल में _____ प्रारंभ किया था।

1. पर्यावरणीय नियतिवाद
2. नव नियतिवाद
3. संभववाद
4. उत्तर-आधुनिकवाद

Options :

- 485584142461. 1
- 485584142462. 2
- 485584142463. 3
- 485584142464. 4

Question Number : 102 Question Id : 48558435617 Question Type : MCQ Option Shuffling : No Is Question Mandatory : No Calculator : None Response Time : N.A Think Time : N.A Minimum Instruction Time : 0

Correct Marks : 5 Wrong Marks : 1

Question Key Details :

Key	Value
Comprehension	MCQ

_____ is NOT the part of Economic Geography.

1. Business Studies
2. Agricultural Sciences
3. Resource Economics
4. Welfare Economics

Options :

- 485584142465. 1
- 485584142466. 2
- 485584142467. 3
- 485584142468. 4

Question Number : 102 Question Id : 48558435617 Question Type : MCQ Option Shuffling : No Is Question Mandatory : No Calculator : None Response Time : N.A Think Time : N.A Minimum Instruction Time : 0

Correct Marks : 5 Wrong Marks : 1

Question Key Details :

Key	Value
Comprehension	MCQ

_____ आर्थिक भूगोल का भाग नहीं है।

1. व्यापारिक अध्ययन
2. कृषि विज्ञान
3. संसाधन अर्थ शास्त्र
4. कल्याण अर्थशास्त्र

Options :

- 485584142465. 1
- 485584142466. 2
- 485584142467. 3
- 485584142468. 4

Question Number : 103 Question Id : 48558435618 Question Type : MCQ Option Shuffling : No Is Question Mandatory : No Calculator : None Response Time : N.A Think Time : N.A Minimum Instruction Time : 0

Correct Marks : 5 Wrong Marks : 1

Question Key Details :

Key	Value
Comprehension	MCQ

The highest proportion of the total water is used in the country in _____ sector.

1. Industries
2. Irrigation
3. Domestic use
4. Electricity production

Options :

485584142469. 1
485584142470. 2
485584142471. 3
485584142472. 4

Question Number : 103 Question Id : 48558435618 Question Type : MCQ Option Shuffling : No Is Question Mandatory : No Calculator : None Response Time : N.A Think Time : N.A Minimum Instruction Time : 0

Correct Marks : 5 Wrong Marks : 1

Question Key Details :

Key	Value
Comprehension	MCQ

देश में _____ क्षेत्र में प्रयोग किए जाने कुल जल का अनुपात उच्चतम है।

1. उद्योग
2. सिंचाई
3. घरेलू उपयोग
4. विद्युत उत्पादन

Options :

485584142469. 1
485584142470. 2
485584142471. 3
485584142472. 4

Question Number : 104 Question Id : 48558435619 Question Type : MCQ Option Shuffling : No Is Question Mandatory : No Calculator : None Response Time : N.A Think Time : N.A Minimum Instruction Time : 0

Correct Marks : 5 Wrong Marks : 1

Question Key Details :

Key	Value
Comprehension	MCQ

_____ continent has highest density of population.

1. Europe
2. Africa
3. Asia
4. South America

Options :

485584142473. 1
485584142474. 2
485584142475. 3
485584142476. 4

Question Number : 104 Question Id : 48558435619 Question Type : MCQ Option Shuffling : No Is Question Mandatory : No Calculator : None Response Time : N.A Think Time : N.A Minimum Instruction Time : 0

Correct Marks : 5 Wrong Marks : 1

Question Key Details :

Key	Value
Comprehension	MCQ

_____ महाद्वीप में जनसंख्या घनत्व सर्वाधिक है।

1. यूरोप
2. अफ्रीका
3. एशिया
4. दक्षिण अमेरिका

Options :

485584142473. 1
485584142474. 2
485584142475. 3
485584142476. 4

Question Number : 105 Question Id : 48558435620 Question Type : MCQ Option Shuffling : No Is Question Mandatory : No Calculator : None Response Time : N.A Think Time : N.A Minimum Instruction Time : 0

Correct Marks : 5 Wrong Marks : 1

Question Key Details :

Key	Value
Comprehension	MCQ

_____ is NOT directed for spatial target areas development.

1. Marginal Farmers Development Agency
2. Desert development programme
3. Command area development programme
4. Hill area development programme

Options :

485584142477. 1
485584142478. 2
485584142479. 3
485584142480. 4

Question Number : 105 Question Id : 48558435620 Question Type : MCQ Option Shuffling : No Is Question Mandatory : No Calculator : None Response Time : N.A Think Time : N.A Minimum Instruction Time : 0

Correct Marks : 5 Wrong Marks : 1

Question Key Details :

Key	Value
Comprehension	MCQ

_____ स्थानिक लक्ष्य क्षेत्र विकास के लिए निर्देशित नहीं है।

1. सीमांत कृषक विकास संस्था
2. मरुस्थल विकास कार्यक्रम
3. कमान क्षेत्र विकास कार्यक्रम
4. पर्वतीय क्षेत्र विकास कार्यक्रम

Options :

485584142477. 1
485584142478. 2
485584142479. 3
485584142480. 4

Question Number : 106 Question Id : 48558435621 Question Type : MCQ Option Shuffling : No Is Question Mandatory : No Calculator : None Response Time : N.A Think Time : N.A Minimum Instruction Time : 0

Correct Marks : 5 Wrong Marks : 1

Question Key Details :

Key	Value
Comprehension	MCQ

_____ tribal community lives in Bharmaur region.

1. Gonds
2. Bhils
3. Santhals
4. Gaddis

Options :

485584142481. 1
485584142482. 2
485584142483. 3
485584142484. 4

Question Number : 106 Question Id : 48558435621 Question Type : MCQ Option Shuffling : No Is Question Mandatory : No Calculator : None Response Time : N.A Think Time : N.A Minimum Instruction Time : 0

Correct Marks : 5 Wrong Marks : 1

Question Key Details :

Key	Value
Comprehension	MCQ

_____ जनजातीय समुदाय भरमौर क्षेत्र में निवास करता है।

1. गोंड
2. भील
3. संथाल
4. गद्दी

Options :

485584142481. 1
485584142482. 2
485584142483. 3
485584142484. 4

Question Number : 107 Question Id : 48558435622 Question Type : MCQ Option Shuffling : No Is Question Mandatory : No Calculator : None Response Time : N.A Think Time : N.A Minimum Instruction Time : 0

Correct Marks : 5 Wrong Marks : 1

Question Key Details :

Key	Value
Comprehension	MCQ

In _____ milk is supplied through pipelines from farms to factories.

1. Denmark
2. USA
3. Australia
4. New Zealand

Options :

485584142485. 1
485584142486. 2
485584142487. 3
485584142488. 4

Question Number : 107 Question Id : 48558435622 Question Type : MCQ Option Shuffling : No Is Question Mandatory : No Calculator : None Response Time : N.A Think Time : N.A Minimum Instruction Time : 0

Correct Marks : 5 Wrong Marks : 1

Question Key Details :

Key	Value
Comprehension	MCQ

_____ में फार्मों से फैक्ट्रियों तब दूध की आपूर्ति पाइपलाइनों से की जाती है।

1. डेनमार्क
2. यू एस ए
3. आस्ट्रेलिया
4. न्यूजीलैंड

Options :

485584142485. 1
485584142486. 2
485584142487. 3
485584142488. 4

Question Number : 108 Question Id : 48558435623 Question Type : MCQ Option Shuffling : No Is Question Mandatory : No Calculator : None Response Time : N.A Think Time : N.A Minimum Instruction Time : 0

Correct Marks : 5 Wrong Marks : 1

Question Key Details :

Key	Value
Comprehension	MCQ

_____ is a conventional source of energy.

1. Coal
2. Tidal energy
3. Solar energy
4. Geo-Thermal energy

Options :

485584142489. 1
485584142490. 2
485584142491. 3
485584142492. 4

Question Number : 108 Question Id : 48558435623 Question Type : MCQ Option Shuffling : No Is Question Mandatory : No Calculator : None Response Time : N.A Think Time : N.A Minimum Instruction Time : 0

Correct Marks : 5 Wrong Marks : 1

Question Key Details :

Key	Value
Comprehension	MCQ

_____ एक ऊर्जा का पारंपारिक स्रोत है।

1. कोयला
2. तरंग ऊर्जा
3. सौर ऊर्जा
4. भू-ताप ऊर्जा

Options :

485584142489. 1
485584142490. 2
485584142491. 3
485584142492. 4

Question Number : 109 Question Id : 48558435624 Question Type : MCQ Option Shuffling : No Is Question Mandatory : No Calculator : None Response Time : N.A Think Time : N.A Minimum Instruction Time : 0

Correct Marks : 5 Wrong Marks : 1

Question Key Details :

Key	Value
Comprehension	MCQ

_____ workers are known as "Gold Collar Professionals".

1. Quaternary activities
2. Tertiary activities
3. Quinary activities
4. Outsourcing

Options :

485584142493. 1
485584142494. 2
485584142495. 3
485584142496. 4

Question Number : 109 Question Id : 48558435624 Question Type : MCQ Option Shuffling : No Is Question Mandatory : No Calculator : None Response Time : N.A Think Time : N.A Minimum Instruction Time : 0

Correct Marks : 5 Wrong Marks : 1

Question Key Details :

Key	Value
Comprehension	MCQ

_____ कर्मचारियों को "स्वर्ग कॉलर प्रोफेशनल्स" के रूप में जाना जाता है।

1. चतुर्थ क्रियाकलापों के
2. तृतीयक क्रियाकलापों के
3. पंचम क्रियाकलापों के
4. बाह्य स्त्रोतन

Options :

485584142493. 1
485584142494. 2
485584142495. 3
485584142496. 4

Question Number : 110 Question Id : 48558435625 Question Type : MCQ Option Shuffling : No Is Question Mandatory : No Calculator : None Response Time : N.A Think Time : N.A Minimum Instruction Time : 0

Correct Marks : 5 Wrong Marks : 1

Question Key Details :

Key	Value
Comprehension	MCQ

_____ approach was proposed by the International Labour Organisation.

1. Capability Approach
2. Welfare Approach
3. Basic Needs Approach
4. Income Approach

Options :

485584142497. 1
485584142498. 2
485584142499. 3
485584142500. 4

Question Number : 110 Question Id : 48558435625 Question Type : MCQ Option Shuffling : No Is Question Mandatory : No Calculator : None Response Time : N.A Think Time : N.A Minimum Instruction Time : 0

Correct Marks : 5 Wrong Marks : 1

Question Key Details :

Key	Value
Comprehension	MCQ

_____ उपागम का प्रस्ताव अंतर्राष्ट्रीय श्रम संगठन ने दिया था?

1. क्षमता उपागम
2. कल्याण उपागम
3. बुनियादी आवश्यकता उपागम
4. आय उपागम

Options :

485584142497. 1
485584142498. 2
485584142499. 3
485584142500. 4

Question Number : 111 Question Id : 48558435626 Question Type : MCQ Option Shuffling : No Is Question Mandatory : No Calculator : None Response Time : N.A Think Time : N.A Minimum Instruction Time : 0

Correct Marks : 5 Wrong Marks : 1

Question Key Details :

Key	Value
Comprehension	MCQ

Identify scholar, who voiced his concern about the growing scarcity of resources as compared to the human population.

1. Griffith Taylor
2. Robert Malthus
3. Ratzel
4. Karl Marx

Options :

485584142501. 1
485584142502. 2
485584142503. 3
485584142504. 4

Question Number : 111 Question Id : 48558435626 Question Type : MCQ Option Shuffling : No Is Question Mandatory : No Calculator : None Response Time : N.A Think Time : N.A Minimum Instruction Time : 0

Correct Marks : 5 Wrong Marks : 1

Question Key Details :

Key	Value
Comprehension	MCQ

किस विद्वान ने मानव जनसंख्या की तुलना में संसाधनों की बढ़ती कमी के बारे में चिंता व्यक्त की है?

1. ग्रिफिन टेलर
2. राबर्ट माल्थस
3. रेटजेल
4. कार्ल मार्क्स

Options :

485584142501. 1
485584142502. 2
485584142503. 3
485584142504. 4

Question Number : 112 Question Id : 48558435627 Question Type : MCQ Option Shuffling : No Is Question Mandatory : No Calculator : None Response Time : N.A Think Time : N.A Minimum Instruction Time : 0

Correct Marks : 5 Wrong Marks : 1

Question Key Details :

Key	Value
Comprehension	MCQ

_____ is NOT a tertiary activity.

1. Trade activities
2. Services in government offices
3. Dairy farming
4. Transport activities

Options :

485584142505. 1
485584142506. 2
485584142507. 3
485584142508. 4

Question Number : 112 Question Id : 48558435627 Question Type : MCQ Option Shuffling : No Is Question Mandatory : No Calculator : None Response Time : N.A Think Time : N.A Minimum Instruction Time : 0

Correct Marks : 5 Wrong Marks : 1

Question Key Details :

Key	Value
Comprehension	MCQ

_____ एक तृतीयक कार्यकलाप नहीं है।

1. व्यापार कार्यकलाप
2. सरकारी कार्यालयों में सेवाएं
3. डेयरी फार्मिंग
4. परिवहन कार्यकलाप

Options :

485584142505. 1
485584142506. 2
485584142507. 3
485584142508. 4

Question Number : 113 Question Id : 48558435628 Question Type : MCQ Option Shuffling : No Is Question Mandatory : No Calculator : None Response Time : N.A Think Time : N.A Minimum Instruction Time : 0

Correct Marks : 5 Wrong Marks : 1

Question Key Details :

Key	Value
Comprehension	MCQ

Identify the major cause of female migration in India.

1. Employment
2. Education
3. Marriage
4. Health care

Options :

485584142509. 1
485584142510. 2
485584142511. 3
485584142512. 4

Question Number : 113 Question Id : 48558435628 Question Type : MCQ Option Shuffling : No Is Question Mandatory : No Calculator : None Response Time : N.A Think Time : N.A Minimum Instruction Time : 0

Correct Marks : 5 Wrong Marks : 1

Question Key Details :

Key	Value
Comprehension	MCQ

भारत में स्त्री प्रवासन के मुख्य कारण की पहचान करें।

1. रोजगार
2. शिक्षा
3. विवाह
4. स्वास्थ्य देखरेख

Options :

485584142509. 1
485584142510. 2
485584142511. 3
485584142512. 4

Question Number : 114 Question Id : 48558435629 Question Type : MCQ Option Shuffling : No Is Question Mandatory : No Calculator : None Response Time : N.A Think Time : N.A Minimum Instruction Time : 0

Correct Marks : 5 Wrong Marks : 1

Question Key Details :

Key	Value
Comprehension	MCQ

Hill Area Development Programme was launched during _____ five year plan.

1. Third
2. Fourth
3. Fifth
4. Sixth

Options :

485584142513. 1
485584142514. 2
485584142515. 3
485584142516. 4

Question Number : 114 Question Id : 48558435629 Question Type : MCQ Option Shuffling : No Is Question Mandatory : No Calculator : None Response Time : N.A Think Time : N.A Minimum Instruction Time : 0

Correct Marks : 5 Wrong Marks : 1

Question Key Details :

Key	Value
Comprehension	MCQ

_____ पंचवर्षीय योजना में पहाड़ी क्षेत्र विकास कार्यक्रम शुरु किया गया था।

1. तीसरी
2. चौथी
3. पांचवी
4. छठी

Options :

485584142513. 1
485584142514. 2
485584142515. 3
485584142516. 4

Question Number : 115 Question Id : 48558435630 Question Type : MCQ Option Shuffling : No Is Question Mandatory : No Calculator : None Response Time : N.A Think Time : N.A Minimum Instruction Time : 0

Correct Marks : 5 Wrong Marks : 1

Question Key Details :

Key	Value
Comprehension	MCQ

_____ has officially proclaimed the Gross National Happiness Index as the measure of the country's progress.

1. Nepal
2. Bangladesh
3. Srilanka
4. Bhutan

Options :

485584142517. 1
485584142518. 2
485584142519. 3
485584142520. 4

Question Number : 115 Question Id : 48558435630 Question Type : MCQ Option Shuffling : No Is Question Mandatory : No Calculator : None Response Time : N.A Think Time : N.A Minimum Instruction Time : 0

Correct Marks : 5 Wrong Marks : 1

Question Key Details :

Key	Value
Comprehension	MCQ

_____ ने सकल राष्ट्रीय प्रसन्नता सूचकांक को आधिकारिक रूप से देश की प्रगति की माप के रूप में घोषित किया है।

1. नेपाल
2. बंगाल
3. श्रीलंका
4. भूटान

Options :

485584142517. 1
485584142518. 2
485584142519. 3
485584142520. 4

Question Number : 116 Question Id : 48558435631 Question Type : MCQ Option Shuffling : No Is Question Mandatory : No Calculator : None Response Time : N.A Think Time : N.A Minimum Instruction Time : 0

Correct Marks : 5 Wrong Marks : 1

Question Key Details :

Key	Value
Comprehension	MCQ

Arrange the following major sea ports of the world from North to South.

- A. New York
- B. London
- C. North Cape
- D. Durban

Choose the correct answer from the options given below:

1. C, D, B, A
2. C, D, A, B
3. C, B, D, A
4. C, B, A, D

Options :

- 485584142521. 1
- 485584142522. 2
- 485584142523. 3
- 485584142524. 4

Question Number : 116 Question Id : 48558435631 Question Type : MCQ Option Shuffling : No Is Question Mandatory : No Calculator : None Response Time : N.A Think Time : N.A Minimum Instruction Time : 0

Correct Marks : 5 Wrong Marks : 1

Question Key Details :

Key	Value
Comprehension	MCQ

निम्नलिखित प्रमुख समुद्री बंदरगाहों को उत्तर से दक्षिण के क्रम में व्यवस्थित कीजिए:

- A. न्यूयार्क
- B. लंदन
- C. नार्थ केप
- D. डर्बन

नीचे दिए गए विकल्पों में सही उत्तर का चयन कीजिए।

1. C, D, B, A
2. C, D, A, B
3. C, B, D, A
4. C, B, A, D

Options :

- 485584142521. 1
- 485584142522. 2
- 485584142523. 3
- 485584142524. 4

Question Number : 117 Question Id : 48558435632 Question Type : MCQ Option Shuffling : No Is Question Mandatory : No Calculator : None Response Time : N.A Think Time : N.A Minimum Instruction Time : 0

Correct Marks : 5 Wrong Marks : 1

Question Key Details :

Key	Value
Comprehension	MCQ

Match List I with List II

LIST I		LIST II	
Agricultural System		Region/Countries	
A.	Mixed farming	I.	Mediterranean region
B.	Dairy farming	II.	North-Western Europe
C.	Mediterranean Agriculture	III.	New Zealand and Tasmania
D.	Viticulture	IV.	Southern coast of Europe and North Africa

Choose the correct answer from the options given below:

1. A-I, B-II, C-IV, D-III
2. A-II, B-IV, C-I, D-III
3. A-II, B-III, C-IV, D-I
4. A-I, B-II, C-III, D-IV

Options :

- 485584142525. 1
- 485584142526. 2
- 485584142527. 3
- 485584142528. 4

Question Number : 117 Question Id : 48558435632 Question Type : MCQ Option Shuffling : No Is Question Mandatory : No Calculator : None Response Time : N.A Think Time : N.A Minimum Instruction Time : 0

Correct Marks : 5 Wrong Marks : 1

Question Key Details :

Key	Value
Comprehension	MCQ

सूची I का सूची II से मिलान कीजिए

सूची I कृषि प्रणाली		सूची II क्षेत्र/देश	
A.	मिश्रित खेती	I.	भूमध्यसागरीय क्षेत्र
B.	डेयरी फार्मिंग	II.	उत्तर-पश्चिमी यूरोप
C.	भूमध्यसागरीय कृषि	III.	न्यूजीलैंड और तस्मानिया
D.	अंगूर की खेती	IV.	यूरोप का दक्षिणी तट तथा उत्तरी अफ्रीका

निम्नलिखित विकल्पों में से सही उत्तर का चयन कीजिए :

1. A-I, B-II, C-IV, D-III
2. A-II, B-IV, C-I, D-III
3. A-II, B-III, C-IV, D-I
4. A-I, B-II, C-III, D-IV

Options :

485584142525. 1
485584142526. 2
485584142527. 3
485584142528. 4

Question Number : 118 Question Id : 48558435633 Question Type : MCQ Option Shuffling : No Is Question Mandatory : No Calculator : None Response Time : N.A Think Time : N.A Minimum Instruction Time : 0

Correct Marks : 5 Wrong Marks : 1

Question Key Details :

Key	Value
Comprehension	MCQ

Match List I with List II

LIST I (Factors of high population distribution)		LIST II (Examples)	
A.	Pleasant climate	I.	Katanga-Zambia
B.	Minerals	II.	The Ganga - plains
C.	Industrialization	III.	Mediterranean regions
D.	Landscape and landforms	IV.	Kobe - Osaka region of Japan

Choose the correct answer from the options given below:

1. A-III, B-II, C-I, D-IV
2. A-III, B-I, C-IV, D-II
3. A-III, B-IV, C-I, D-II
4. A-I, B-II, C-III, D-IV

Options :

485584142529. 1
485584142530. 2
485584142531. 3
485584142532. 4

Question Number : 118 Question Id : 48558435633 Question Type : MCQ Option Shuffling : No Is Question Mandatory : No Calculator : None Response Time : N.A Think Time : N.A Minimum Instruction Time : 0

Correct Marks : 5 Wrong Marks : 1

Question Key Details :

Key	Value
Comprehension	MCQ

सूची I का सूची II से मिलान कीजिए

सूची I (उच्च जनसंख्या वितरण के कारक)		सूची II (उदाहरण)	
A.	सुखद जलवायु	I.	कटंगा-जाम्बिया
B.	खनिज	II.	गंगा-मैदानी क्षेत्र
C.	उद्योगीकरण	III.	भूमध्यसागरीय क्षेत्र
D.	भूदृश्य और भूस्वरूप	IV.	जापान का कोबे-ओसाका क्षेत्र

निम्नलिखित विकल्पों में से सही उत्तर का चयन कीजिए :

1. A-III, B-II, C-I, D-IV
2. A-III, B-I, C-IV, D-II
3. A-III, B-IV, C-I, D-II
4. A-I, B-II, C-III, D-IV

Options :

485584142529. 1
485584142530. 2
485584142531. 3
485584142532. 4

Question Number : 119 Question Id : 48558435634 Question Type : MCQ Option Shuffling : No Is Question Mandatory : No Calculator : None Response Time : N.A Think Time : N.A Minimum Instruction Time : 0

Correct Marks : 5 Wrong Marks : 1

Question Key Details :

Key	Value
Comprehension	MCQ

Characteristics of Urban Marketing Centres are usually -

- A. Widely specialized urban services
- B. Offer manufactured goods as well as many specialized markets
- C. Have only retail trading centres
- D. Have services of educational institutions and professionals
- E. Trading centres of the most rudimentary type

Choose the correct answer from the options given below:

- 1. A, B and D only
- 2. A, C and E only
- 3. B, C and E only
- 4. D, A and E only

Options :

- 485584142533. 1
- 485584142534. 2
- 485584142535. 3
- 485584142536. 4

Question Number : 119 Question Id : 48558435634 Question Type : MCQ Option Shuffling : No Is Question Mandatory : No Calculator : None Response Time : N.A Think Time : N.A Minimum Instruction Time : 0

Correct Marks : 5 Wrong Marks : 1

Question Key Details :

Key	Value
Comprehension	MCQ

शहरी विपणन केंद्रों की सामान्यतः विशेषताएं हैं -

- A. व्यापक रूप से, विशिष्टीकृत शहरी सेवाएं
- B. विनिर्मित वस्तुओं को तथा अनेक विशिष्टीकृत बाजारों की प्रदान करना
- C. शैक्षणिक संस्थानों तथा व्यवसायिकों की सेवाएं होना
- D. व्यापार केंद्रों की सर्वाधिक आदिकालीन प्रकार

नीचे दिए गए विकल्पों में से सबसे उफयुक्त उत्तर का चयन कीजिए:

- 1. केवल A, B और D
- 2. केवल A, C और E
- 3. केवल B, C और E
- 4. केवल D, A और E

Options :

- 485584142533. 1
- 485584142534. 2
- 485584142535. 3

485584142536. 4

Question Number : 120 Question Id : 48558435635 Question Type : MCQ Option Shuffling : No Is Question Mandatory : No Calculator : None Response Time : N.A Think Time : N.A Minimum Instruction Time : 0

Correct Marks : 5 Wrong Marks : 1

Question Key Details :

Key	Value
Comprehension	MCQ

Arrange the events in order of land transport development:

1. Animals were used as beasts of burden
2. Invention of wheel, use of carts and wagons
3. railway line development and transport
4. Human beings as carriers

Choose the correct answer from the options given below:

1. D, A, B, C
2. A, D, B, C
3. D, B, A, C
4. A, D, C, B

Options :

- 485584142537. 1
- 485584142538. 2
- 485584142539. 3
- 485584142540. 4

Question Number : 120 Question Id : 48558435635 Question Type : MCQ Option Shuffling : No Is Question Mandatory : No Calculator : None Response Time : N.A Think Time : N.A Minimum Instruction Time : 0

Correct Marks : 5 Wrong Marks : 1

Question Key Details :

Key	Value
Comprehension	MCQ

निम्नलिखित घटनाओं को भूमि परिवहन विकास के क्रम में व्यवस्थित कीजिए

1. पशुओं का उपयोग बोझ ढोने के काम में किया जाने लगा।
2. पहिये का आविष्कार, बैलगाड़ी तथा माल डिब्बों का उपयोग
3. रेलवे लाइन का विकास तथा परिवहन
4. मानव वाहकों के रूप में

नीचे दिए गए विकल्पों में से सही उत्तर का चयन कीजिए:

1. D, A, B, C
2. A, D, B, C
3. D, B, A, C
4. A, D, C, B

Options :

485584142537. 1
485584142538. 2
485584142539. 3
485584142540. 4

Question Number : 121 Question Id : 48558435636 Question Type : MCQ Option Shuffling : No Is Question Mandatory : No Calculator : None Response Time : N.A Think Time : N.A Minimum Instruction Time : 0

Correct Marks : 5 Wrong Marks : 1

Question Key Details :

Key	Value
Comprehension	MCQ

Match List I with List II

LIST I		LIST II	
Regional Trade Blocks		Headquarter Hosting Countries	
A.	ASEAN	I.	Belgium
B.	OPEC	II.	Uruguay
C.	EU	III.	Indonesia
D.	LAIA	IV.	Austria

Choose the correct answer from the options given below:

1. A-IV, B-III, C-II, D-I
2. A-I, B-II, C-IV, D-III
3. A-III, B-II, C-I, D-IV
4. A-III, B-IV, C-I, D-II

Options :

485584142541. 1
485584142542. 2
485584142543. 3
485584142544. 4

Question Number : 121 Question Id : 48558435636 Question Type : MCQ Option Shuffling : No Is Question Mandatory : No Calculator : None Response Time : N.A Think Time : N.A Minimum Instruction Time : 0

Correct Marks : 5 Wrong Marks : 1

Question Key Details :

Key	Value
Comprehension	MCQ

सूची I का सूची II से मिलान कीजिए

सूची I		सूची II	
क्षेत्रीय व्यापार खंड		मुख्यालय का मेजबान देश	
A.	आसियान	I.	बेल्जियम
B.	ओपेक	II.	उरुग्वे
C.	ई. यू.	III.	इंडोनेशिया
D.	एल. ए. आई. ए.	IV.	आस्ट्रिया

निम्नलिखित विकल्पों में से सही उत्तर का चयन कीजिए :

1. A-IV, B-III, C-II, D-I
2. A-I, B-II, C-IV, D-III
3. A-III, B-II, C-I, D-IV
4. A-III, B-IV, C-I, D-II

Options :

485584142541. 1
485584142542. 2
485584142543. 3
485584142544. 4

Question Number : 122 Question Id : 48558435637 Question Type : MCQ Option Shuffling : No Is Question Mandatory : No Calculator : None Response Time : N.A Think Time : N.A Minimum Instruction Time : 0

Correct Marks : 5 Wrong Marks : 1

Question Key Details :

Key	Value
Comprehension	MCQ

Identify the main features of capability approach to Human Development.

- A. This is the oldest approach to Human Development.
- B. This approach was initially proposed by International Labour Organisation.
- C. This approach is associated with Prof. Amartya Sen.
- D. Access to resources is the key to increasing human development.

Choose the correct answer from the options given below:

- 1. C and A only
- 2. C and D only
- 3. A and B only
- 4. A and D only

Options :

- 485584142545. 1
- 485584142546. 2
- 485584142547. 3
- 485584142548. 4

Question Number : 122 Question Id : 48558435637 Question Type : MCQ Option Shuffling : No Is Question Mandatory : No Calculator : None Response Time : N.A Think Time : N.A Minimum Instruction Time : 0

Correct Marks : 5 Wrong Marks : 1

Question Key Details :

Key	Value
Comprehension	MCQ

मानव विकास के क्षमता उपागम की मुख्य विशेषताएं क्या हैं ?

- A. यह मानव विकास का प्राचीनतम उपागम है।
- B. इस उपागम का शुरू में अंतर्राष्ट्रीय श्रम संगठन ने प्रस्ताव दिया था।
- C. यह उपागम प्रो. अमर्त्य सेन से संबंधित है।
- D. संसाधनों तक पहुँच बढ़ते मानव विकास की कुंजी है।

नीचे दिए गए विकल्पों में से सही उत्तर का चयन कीजिए :

- 1. केवल C और A
- 2. केवल C और D
- 3. केवल A और B
- 4. केवल A और D

Options :

- 485584142545. 1
- 485584142546. 2
- 485584142547. 3
- 485584142548. 4

Question Number : 123 Question Id : 48558435638 Question Type : MCQ Option Shuffling : No Is Question Mandatory : No Calculator : None Response Time : N.A Think Time : N.A Minimum Instruction Time : 0

Correct Marks : 5 Wrong Marks : 1

Question Key Details :

Key	Value
Comprehension	MCQ

Which of the following does not fall on Trans-Siberian Railway route?

- A. Regina
- B. Baku
- C. Moscow
- D. Khabarovsk
- E. Ulan Bator

Choose the correct answer from the options given below:

- 1. B and D only
- 2. C and D only
- 3. B and E only
- 4. D and E only

Options :

485584142549. 1

485584142550. 2

485584142551. 3

485584142552. 4

Question Number : 123 Question Id : 48558435638 Question Type : MCQ Option Shuffling : No Is Question Mandatory : No Calculator : None Response Time : N.A Think Time : N.A Minimum Instruction Time : 0

Correct Marks : 5 Wrong Marks : 1

Question Key Details :

Key	Value
Comprehension	MCQ

निम्नलिखित में से कौन ट्रांस - साइबेरियाई रेल मार्ग पर नहीं पड़ता है ?

- A. रेगिना
- B. बाकू
- C. मास्को
- D. खबोरोवस्क
- E. उलन बटोर

नीचे दिए गए विकल्पों में से सही उत्तर का चयन कीजिए :

- 1. केवल B और D
- 2. केवल C और D
- 3. केवल B और E
- 4. केवल D और E

Options :

- 485584142549. 1
- 485584142550. 2
- 485584142551. 3
- 485584142552. 4

Question Number : 124 Question Id : 48558435639 Question Type : MCQ Option Shuffling : No Is Question Mandatory : No Calculator : None Response Time : N.A Think Time : N.A Minimum Instruction Time : 0

Correct Marks : 5 Wrong Marks : 1

Question Key Details :

Key	Value
Comprehension	MCQ

Green Revolution is successful in North Western part of the country, select the reasons.

- A. Ample rainfall
- B. Use of high yielding varieties of seeds
- C. Easily available local labour
- D. More employment pressure on agriculture
- E. 85% net sown area is cultivated through irrigation

Choose the correct answer from the options given below:

- 1. B and E only
- 2. A, B and C only
- 3. A, B and D only
- 4. C and D only

Options :

- 485584142553. 1
- 485584142554. 2

485584142555. 3

485584142556. 4

Question Number : 124 Question Id : 48558435639 Question Type : MCQ Option Shuffling : No Is Question Mandatory : No Calculator : None Response Time : N.A Think Time : N.A Minimum Instruction Time : 0

Correct Marks : 5 Wrong Marks : 1

Question Key Details :

Key	Value
Comprehension	MCQ

हरित क्रांति देश के उत्तर पश्चिमी भाग में सफल रही है। इसके कारण चुनिए

- A. प्रचुर बारिश
- B. अधिक उपज देने वाले बीजों की किस्मों का उपयोग
- C. सुगमतापूर्वक स्थानिय श्रमिकों का उपलब्ध होना
- D. कृषि पर रोजगार का अधिक दबाव
- E. शुद्ध बोये जाने वाले 85% क्षेत्र की सिंचाई द्वारा खेती

नीचे दिए गए विकल्पों में से सही उत्तर का चयन कीजिए :

1. केवल B और E
2. केवल A, B और C
3. केवल A, B और D
4. केवल C और D

Options :

485584142553. 1

485584142554. 2

485584142555. 3

485584142556. 4

Question Number : 125 Question Id : 48558435640 Question Type : MCQ Option Shuffling : No Is Question Mandatory : No Calculator : None Response Time : N.A Think Time : N.A Minimum Instruction Time : 0

Correct Marks : 5 Wrong Marks : 1

Question Key Details :

Key	Value
Comprehension	MCQ

Identify the push factors of migration from the following:

- A. Unemployment
- B. Political turmoil
- C. Peace and Stability
- D. Socio-economic backwardness
- E. Security of life and poverty

Choose the correct answer from the options given below:

1. A, B and C only
2. C, D and E only
3. A, C and D only
4. A, B and D only

Options :

- 485584142557. 1
- 485584142558. 2
- 485584142559. 3
- 485584142560. 4

Question Number : 125 Question Id : 48558435640 Question Type : MCQ Option Shuffling : No Is Question Mandatory : No Calculator : None Response Time : N.A Think Time : N.A Minimum Instruction Time : 0

Correct Marks : 5 Wrong Marks : 1

Question Key Details :

Key	Value
Comprehension	MCQ

निम्नलिखित में प्रवास के प्रतिकर्ष कारकों की पहचान कीजिए :

- A. बेरोजगारी
- B. राजनीतिक उथल पुथल
- C. शांति व स्थिरता
- D. सामाजिक आर्थिक पिछड़ापन
- E. जीवन व संपत्ति की सुरक्षा

प्रव्रजन के निम्न में से धकेल (पुश) कारकों की पहचान कीजिए :

1. केवल A, B और C
2. केवल C, D और E
3. केवल A, C और D
4. केवल A, B और D

Options :

- 485584142557. 1
- 485584142558. 2

485584142559. 3
485584142560. 4

Question Number : 126 Question Id : 48558435641 Question Type : MCQ Option Shuffling : No Is Question Mandatory : No Calculator : None Response Time : N.A Think Time : N.A Minimum Instruction Time : 0

Correct Marks : 5 Wrong Marks : 1

Question Key Details :

Key	Value
Comprehension	MCQ

Arrange the following states in ascending order in terms of their literacy rate according to (Census 2011):

- A. Gujarat
- B. Uttar Pradesh
- C. Bihar
- D. Punjab

Choose the correct answer from the options given below:

- 1. A, D, B, C
- 2. A, D, C, B
- 3. C, B, D, A
- 4. C, B, A, D

Options :

- 485584142561. 1
- 485584142562. 2
- 485584142563. 3
- 485584142564. 4

Question Number : 126 Question Id : 48558435641 Question Type : MCQ Option Shuffling : No Is Question Mandatory : No Calculator : None Response Time : N.A Think Time : N.A Minimum Instruction Time : 0

Correct Marks : 5 Wrong Marks : 1

Question Key Details :

Key	Value
Comprehension	MCQ

निम्न राज्यों को उनकी साक्षरता दर (जनगणना 2011) के आरोही क्रमानुसार व्यवस्थित कीजिए :

- A. गुजरात
- B. उत्तर प्रदेश
- C. बिहार
- D. पंजाब

नीचे दिए गए विकल्पों में से सही उत्तर का चयन कीजिए :

1. A, D, B, C
2. A, D, C, B
3. C, B, D, A
4. C, B, A, D

Options :

- 485584142561. 1
- 485584142562. 2
- 485584142563. 3
- 485584142564. 4

Question Number : 127 Question Id : 48558435642 Question Type : MCQ Option Shuffling : No Is Question Mandatory : No Calculator : None Response Time : N.A Think Time : N.A Minimum Instruction Time : 0

Correct Marks : 5 Wrong Marks : 1

Question Key Details :

Key	Value
Comprehension	MCQ

Arrange the following Radio broadcasting development in chronological order:

- A. Radio broadcasting started by the Radio club of Bombay
- B. Changed to Akashwani
- C. Changed to All India Radio
- D. Broadcasting system adopted

Choose the correct answer from the options given below:

1. D, A, B, C
2. A, D, C, B
3. D, A, C, B
4. A, B, C, D

Options :

- 485584142565. 1
- 485584142566. 2
- 485584142567. 3
- 485584142568. 4

Question Number : 127 Question Id : 48558435642 Question Type : MCQ Option Shuffling : No Is Question Mandatory : No Calculator : None Response Time : N.A Think Time : N.A Minimum Instruction Time : 0

Correct Marks : 5 Wrong Marks : 1

Question Key Details :

Key	Value
Comprehension	MCQ

निम्न रेडियो प्रसारण विकास को कालक्रमानुसार व्यवस्थित कीजिए :

- रेडियो क्लब ऑफ बाम्बे द्वारा रेडियो प्रसारण आरंभ किया गया
- इसे बदलकर आकाशवाणी किया गया
- इसे बदलकर ऑल इण्डिया रेडियो किया गया
- प्रसारण प्रणाली अंगीकार की गई

नीचे दिए गए विकल्पों में से सही उत्तर का चयन कीजिए :

- D, A, B, C
- A, D, C, B
- D, A, C, B
- A, B, C, D

Options :

485584142565. 1
485584142566. 2
485584142567. 3
485584142568. 4

Question Number : 128 Question Id : 48558435643 Question Type : MCQ Option Shuffling : No Is Question Mandatory : No Calculator : None Response Time : N.A Think Time : N.A Minimum Instruction Time : 0

Correct Marks : 5 Wrong Marks : 1

Question Key Details :

Key	Value
Comprehension	MCQ

Paper industry is mainly associated with which of the following industries?

- Forest - based
- Mineral - based
- Agro - based
- Chemical - based

Options :

485584142569. 1
485584142570. 2
485584142571. 3
485584142572. 4

Question Number : 128 Question Id : 48558435643 Question Type : MCQ Option Shuffling : No Is Question Mandatory : No Calculator : None Response Time : N.A Think Time : N.A Minimum Instruction Time : 0

Correct Marks : 5 Wrong Marks : 1

Question Key Details :

Key	Value
Comprehension	MCQ

कागज उद्योग निम्न में से मुख्यतः किस उद्योग से संबंधित है ?

1. वन आधारित
2. खनिज आधारित
3. कृषि आधारित
4. रसायन आधारित

Options :

485584142569. 1
485584142570. 2
485584142571. 3
485584142572. 4

Question Number : 129 Question Id : 48558435644 Question Type : MCQ Option Shuffling : No Is Question Mandatory : No Calculator : None Response Time : N.A Think Time : N.A Minimum Instruction Time : 0

Correct Marks : 5 Wrong Marks : 1

Question Key Details :

Key	Value
Comprehension	MCQ

The first complete population census in India was conducted in which of the following years?

1. 1881
2. 1872
3. 1891
4. 1951

Options :

485584142573. 1
485584142574. 2
485584142575. 3
485584142576. 4

Question Number : 129 Question Id : 48558435644 Question Type : MCQ Option Shuffling : No Is Question Mandatory : No Calculator : None Response Time : N.A Think Time : N.A Minimum Instruction Time : 0

Correct Marks : 5 Wrong Marks : 1

Question Key Details :

Key	Value
-----	-------

निम्नलिखित में से किस वर्ष भारत में पूर्ण जनगणना की गई थी ?

1. 1881
2. 1872
3. 1891
4. 1951

Options :

485584142573. 1
485584142574. 2
485584142575. 3
485584142576. 4

Question Number : 130 Question Id : 48558435645 Question Type : MCQ Option Shuffling : No Is Question Mandatory : No Calculator : None Response Time : N.A Think Time : N.A Minimum Instruction Time : 0

Correct Marks : 5 Wrong Marks : 1

Question Key Details :

Key	Value
Comprehension	MCQ

Which of the following is not a part of watershed managed programme in India?

1. Haryali
2. Neeru-Meeru
3. Khushhali
4. Arvary Pani Sansad

Options :

485584142577. 1
485584142578. 2
485584142579. 3
485584142580. 4

Question Number : 130 Question Id : 48558435645 Question Type : MCQ Option Shuffling : No Is Question Mandatory : No Calculator : None Response Time : N.A Think Time : N.A Minimum Instruction Time : 0

Correct Marks : 5 Wrong Marks : 1

Question Key Details :

Key	Value
Comprehension	MCQ

निम्नलिखित में से कौन-सा भारत में जलसंभर प्रबंधन कार्यक्रम का एक भाग नहीं है ?

1. हरियाली
2. नीरू मीरू
3. खुशहाली
4. अरवारी पानी संसद

Options :

485584142577. 1
485584142578. 2
485584142579. 3
485584142580. 4

Question Number : 131 Question Id : 48558435646 Question Type : MCQ Option Shuffling : No Is Question Mandatory : No Calculator : None Response Time : N.A Think Time : N.A Minimum Instruction Time : 0

Correct Marks : 5 Wrong Marks : 1

Question Key Details :

Key	Value
Comprehension	MCQ

The land left out of cultivation for one or less than one agriculture year is known by which of the following?

1. Barren land
2. Current fallow
3. Fallow other than current fallow
4. Cultural waste-land

Options :

485584142581. 1
485584142582. 2
485584142583. 3
485584142584. 4

Question Number : 131 Question Id : 48558435646 Question Type : MCQ Option Shuffling : No Is Question Mandatory : No Calculator : None Response Time : N.A Think Time : N.A Minimum Instruction Time : 0

Correct Marks : 5 Wrong Marks : 1

Question Key Details :

Key	Value
Comprehension	MCQ

एक अथवा एक से कम कृषि वर्ष के लिए कृषि में से छोड़ी गयी भूमि निम्न में से कौन-सी कहलाती है।

1. बंजर भूमि
2. चालू परती भूमि
3. चालू परती से इतर परती भूमि
4. सांस्कृतिक व्यर्थ भूमि

Options :

485584142581. 1
485584142582. 2
485584142583. 3
485584142584. 4

Question Number : 132 Question Id : 48558435647 Question Type : MCQ Option Shuffling : No Is Question Mandatory : No Calculator : None Response Time : N.A Think Time : N.A Minimum Instruction Time : 0

Correct Marks : 5 Wrong Marks : 1

Question Key Details :

Key	Value
Comprehension	MCQ

Match List I with List II

LIST I		LIST II	
Minerals		Places	
A.	Coal	I.	Talcher
B.	Iron	II.	Maikal Hills
C.	Copper	III.	Mayurbhanj
D.	Bauxite	IV.	Khetri

Choose the correct answer from the options given below:

1. A-I, B-III, C-IV, D-II
2. A-I, B-III, C-II, D-IV
3. A-I, B-II, C-IV, D-III
4. A-III, B-II, C-I, D-IV

Options :

485584142585. 1
485584142586. 2
485584142587. 3
485584142588. 4

Question Number : 132 Question Id : 48558435647 Question Type : MCQ Option Shuffling : No Is Question Mandatory : No Calculator : None Response Time : N.A Think Time : N.A Minimum Instruction Time : 0

Correct Marks : 5 Wrong Marks : 1

Question Key Details :

Key	Value
Comprehension	MCQ

सूची I का सूची II से मिलान कीजिए

सूची I		सूची II	
खनिज		स्थान	
A.	कोयला	I.	तालचेर
B.	लोहा	II.	मैकाल पहाड़ी
C.	तांबा	III.	मयूरभंज
D.	बॉक्साइट	IV.	खेतड़ी

निम्नलिखित विकल्पों में से सही उत्तर का चयन कीजिए :

1. A-I, B-III, C-IV, D-II
2. A-I, B-III, C-II, D-IV
3. A-I, B-II, C-IV, D-III
4. A-III, B-II, C-I, D-IV

Options :

485584142585. 1
485584142586. 2
485584142587. 3
485584142588. 4

Question Number : 133 Question Id : 48558435648 Question Type : MCQ Option Shuffling : No Is Question Mandatory : No Calculator : None Response Time : N.A Think Time : N.A Minimum Instruction Time : 0

Correct Marks : 5 Wrong Marks : 1

Question Key Details :

Key	Value
Comprehension	MCQ

In which one of the following states, people live in compact villages for security and defence purposes?

1. Nagaland
2. Uttar Pradesh
3. Bihar
4. Maharashtra

Options :

485584142589. 1
485584142590. 2

485584142591. 3

485584142592. 4

Question Number : 133 Question Id : 48558435648 Question Type : MCQ Option Shuffling : No Is Question Mandatory : No Calculator : None Response Time : N.A Think Time : N.A Minimum Instruction Time : 0

Correct Marks : 5 Wrong Marks : 1

Question Key Details :

Key	Value
Comprehension	MCQ

निम्नलिखित में से किस राज्य में लोग सुरक्षा तथा बचाव हेतु सघन गाँवों में रहते हैं?

1. नागालैंड
2. उत्तर प्रदेश
3. बिहार
4. महाराष्ट्र

Options :

485584142589. 1

485584142590. 2

485584142591. 3

485584142592. 4

Question Number : 134 Question Id : 48558435649 Question Type : MCQ Option Shuffling : No Is Question Mandatory : No Calculator : None Response Time : N.A Think Time : N.A Minimum Instruction Time : 0

Correct Marks : 5 Wrong Marks : 1

Question Key Details :

Key	Value
Comprehension	MCQ

The Silicon Valley near San Francisco and Silicon Forest near Seattle are example of which type of industry?

1. Iron and Steel
2. Cotton Textile
3. high tech
4. Cement

Options :

485584142593. 1

485584142594. 2

485584142595. 3

485584142596. 4

Question Number : 134 Question Id : 48558435649 Question Type : MCQ Option Shuffling : No Is Question Mandatory : No Calculator : None Response Time : N.A Think Time : N.A Minimum Instruction Time : 0

Correct Marks : 5 Wrong Marks : 1

Question Key Details :

Key	Value
Comprehension	MCQ

सेन फ्रांसिस्को के निकट सिलीकॉन वैली तथा सिएटल के निकट सिलीकॉन वन किस प्रकार के उद्योग के उदाहरण हैं?

1. लौहा और इस्पात
2. सूती कपड़े
3. उच्च प्रौद्योगिकी
4. सीमेंट

Options :

485584142593. 1
485584142594. 2
485584142595. 3
485584142596. 4

Question Number : 135 Question Id : 48558435650 Question Type : MCQ Option Shuffling : No Is Question Mandatory : No Calculator : None Response Time : N.A Think Time : N.A Minimum Instruction Time : 0

Correct Marks : 5 Wrong Marks : 1

Question Key Details :

Key	Value
Comprehension	MCQ

As per the Census of India 2011, the level of urbanisation in India is _____.

1. 21.16 percent
2. 41.16 percent
3. 33.76 percent
4. 31.16 percent

Options :

485584142597. 1
485584142598. 2
485584142599. 3
485584142600. 4

Question Number : 135 Question Id : 48558435650 Question Type : MCQ Option Shuffling : No Is Question Mandatory : No Calculator : None Response Time : N.A Think Time : N.A Minimum Instruction Time : 0

Correct Marks : 5 Wrong Marks : 1

Question Key Details :

Key	Value
Comprehension	MCQ

भारत की वर्ष 2011 की जनगणना के अनुसार भारत में शहरीकरण का स्तर _____ है।

1. 21.16 प्रतिशत
2. 41.16 प्रतिशत
3. 33.76 प्रतिशत
4. 31.16 प्रतिशत

Options :

485584142597. 1
485584142598. 2
485584142599. 3
485584142600. 4

Question Number : 136 Question Id : 48558435651 Question Type : MCQ Option Shuffling : No Is Question Mandatory : No Calculator : None Response Time : N.A Think Time : N.A Minimum Instruction Time : 0

Correct Marks : 5 Wrong Marks : 1

Question Key Details :

Key	Value
Comprehension	MCQ

India accounts for about _____ percent of the World's surface area.

1. 4.00
2. 2.45
3. 3.76
4. 17.16

Options :

485584142601. 1
485584142602. 2
485584142603. 3
485584142604. 4

Question Number : 136 Question Id : 48558435651 Question Type : MCQ Option Shuffling : No Is Question Mandatory : No Calculator : None Response Time : N.A Think Time : N.A Minimum Instruction Time : 0

Correct Marks : 5 Wrong Marks : 1

Question Key Details :

Key	Value
Comprehension	MCQ

भारत का क्षेत्रफल विश्व के पृष्ठ क्षेत्रफल का _____ प्रतिशत है।

1. 4.00
2. 2.45
3. 3.76
4. 17.16

Options :

485584142601. 1
485584142602. 2
485584142603. 3
485584142604. 4

Question Number : 137 Question Id : 48558435652 Question Type : MCQ Option Shuffling : No Is Question Mandatory : No Calculator : None Response Time : N.A Think Time : N.A Minimum Instruction Time : 0

Correct Marks : 5 Wrong Marks : 1

Question Key Details :

Key	Value
Comprehension	MCQ

The Jal Kranti Abhiyan was launched in _____.

1. 2015-16
2. 2014-15
3. 2018-19
4. 2004-05

Options :

485584142605. 1
485584142606. 2
485584142607. 3
485584142608. 4

Question Number : 137 Question Id : 48558435652 Question Type : MCQ Option Shuffling : No Is Question Mandatory : No Calculator : None Response Time : N.A Think Time : N.A Minimum Instruction Time : 0

Correct Marks : 5 Wrong Marks : 1

Question Key Details :

Key	Value
Comprehension	MCQ

वर्ष _____ में जल क्रांति अभियान शुरू किया गया था

1. 2015-16
2. 2014-15
3. 2018-19
4. 2004-05

Options :

485584142605. 1
485584142606. 2
485584142607. 3
485584142608. 4

Question Number : 138 Question Id : 48558435653 Question Type : MCQ Option Shuffling : No Is Question Mandatory : No Calculator : None Response Time : N.A Think Time : N.A Minimum Instruction Time : 0

Correct Marks : 5 Wrong Marks : 1

Question Key Details :

Key	Value
Comprehension	MCQ

National Waterway 2 stretch extends between _____.

1. Allahabad-Haldia
2. Kottapuram-Kollam
3. Sadiya-Dhubri
4. Patna-Haldia

Options :

485584142609. 1
485584142610. 2
485584142611. 3
485584142612. 4

Question Number : 138 Question Id : 48558435653 Question Type : MCQ Option Shuffling : No Is Question Mandatory : No Calculator : None Response Time : N.A Think Time : N.A Minimum Instruction Time : 0

Correct Marks : 5 Wrong Marks : 1

Question Key Details :

Key	Value
Comprehension	MCQ

राष्ट्रीय जलमार्ग 2 का विस्तार _____ के बीच है।

1. इलाहाबाद-हल्दिया
2. कोटापुरम-कोल्लम
3. सदिया-धुबरी
4. पटना-हल्दिया

Options :

485584142609. 1
485584142610. 2
485584142611. 3
485584142612. 4

Question Number : 139 Question Id : 48558435654 Question Type : MCQ Option Shuffling : No Is Question Mandatory : No Calculator : None Response Time : N.A Think Time : N.A Minimum Instruction Time : 0

Correct Marks : 5 Wrong Marks : 1

Question Key Details :

Key	Value
Comprehension	MCQ

_____ port is situated at the Zuari estuary.

1. Marmagao
2. Kandla
3. New Mangalore
4. Paradwip

Options :

485584142613. 1
485584142614. 2
485584142615. 3
485584142616. 4

Question Number : 139 Question Id : 48558435654 Question Type : MCQ Option Shuffling : No Is Question Mandatory : No Calculator : None Response Time : N.A Think Time : N.A Minimum Instruction Time : 0

Correct Marks : 5 Wrong Marks : 1

Question Key Details :

Key	Value
Comprehension	MCQ

_____ बंदरगाह जुआरी मुहाना में स्थित है।

1. मार्मागाओ
2. कांडला
3. न्यू मंगलौर
4. पाराद्वीप

Options :

485584142613. 1
485584142614. 2
485584142615. 3
485584142616. 4

Question Number : 140 Question Id : 48558435655 Question Type : MCQ Option Shuffling : No Is Question Mandatory : No Calculator : None Response Time : N.A Think Time : N.A Minimum Instruction Time : 0

Correct Marks : 5 Wrong Marks : 1

Question Key Details :

Key	Value
Comprehension	MCQ

As per Census of India 2011, the population density was highest in _____.

1. West Bengal
2. Uttar Pradesh
3. Goa
4. Bihar

Options :

485584142617. 1
485584142618. 2
485584142619. 3
485584142620. 4

Question Number : 140 Question Id : 48558435655 Question Type : MCQ Option Shuffling : No Is Question Mandatory : No Calculator : None Response Time : N.A Think Time : N.A Minimum Instruction Time : 0

Correct Marks : 5 Wrong Marks : 1

Question Key Details :

Key	Value
Comprehension	MCQ

वर्ष 2011 की भारत की जनगणना के अनुसार _____ में जनसंख्या घनत्व सबसे अधिक था।

1. पश्चिम बंगाल
2. उत्तर प्रदेश
3. गोवा
4. बिहार

Options :

485584142617. 1
485584142618. 2
485584142619. 3
485584142620. 4

Sub-Section Number : 2
Sub-Section Id : 4855842642
Question Shuffling Allowed : No
Is Section Default? : null

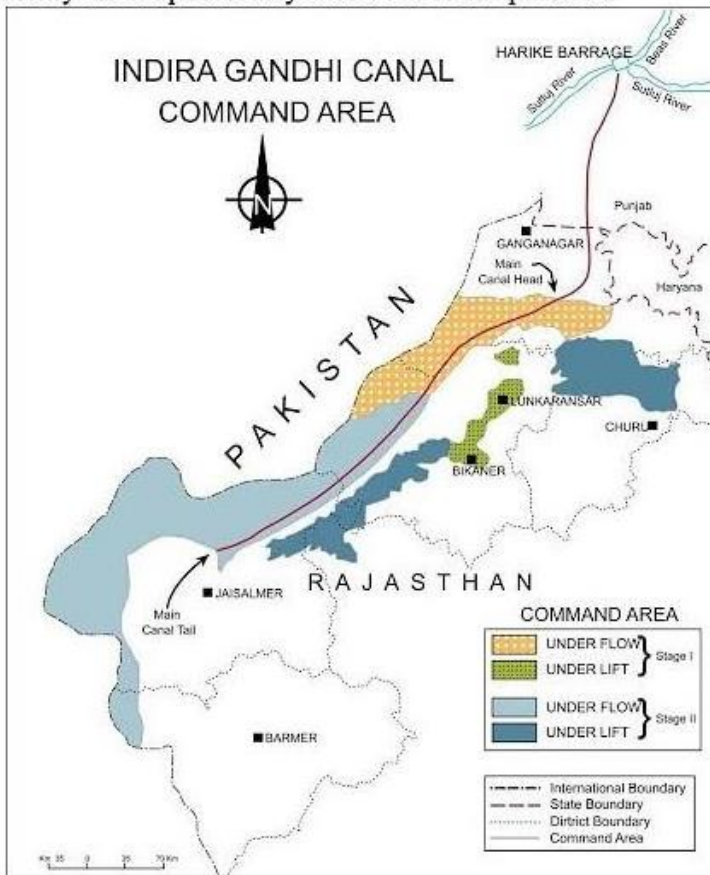
Question Number : 141 Question Id : 48558435656 Question Type : MCQ Option Shuffling : No Is Question Mandatory : No Calculator : None Response Time : N.A Think Time : N.A Minimum Instruction Time : 0

Correct Marks : 5 Wrong Marks : 1

Question Key Details :

Key	Value
Comprehension	Comp1

Study the map carefully and answer the question.



Which of the following is the general direction of main canal shown on the map?

1. North to South
2. South to North
3. South-West to North-East
4. North-East to South-West

Options :

- 485584142621. 1
- 485584142622. 2
- 485584142623. 3
- 485584142624. 4

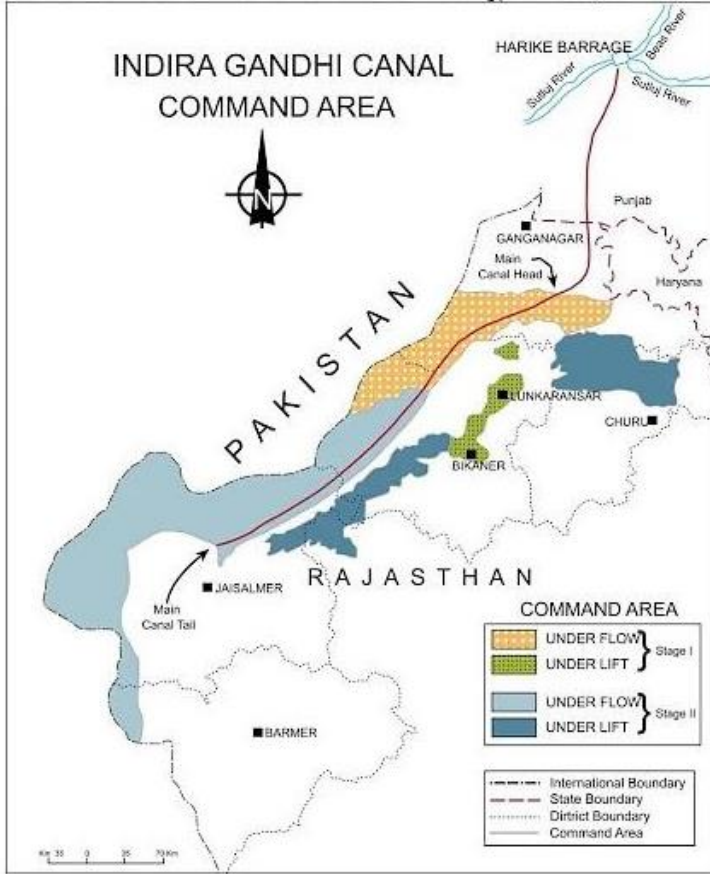
Question Number : 141 Question Id : 48558435656 Question Type : MCQ Option Shuffling : No Is Question Mandatory : No Calculator : None Response Time : N.A Think Time : N.A Minimum Instruction Time : 0

Correct Marks : 5 Wrong Marks : 1

Question Key Details :

Key	Value
Comprehension	Comp1

नीचे दिए गए मानचित्र को पढ़िए ध्यानपूर्वक पढ़िए और प्रश्नों के उत्तर दीजिए।



निम्नलिखित में से कौन-सी मानचित्र में दर्शायी गयी मुख्य नहर की सामान्य दिशा है?

1. उत्तर से दक्षिण
2. दक्षिण से उत्तर
3. दक्षिण-पश्चिम से उत्तर-पूर्व
4. उत्तर-पूर्व से दक्षिण-पश्चिम

Options :

485584142621. 1
485584142622. 2
485584142623. 3
485584142624. 4

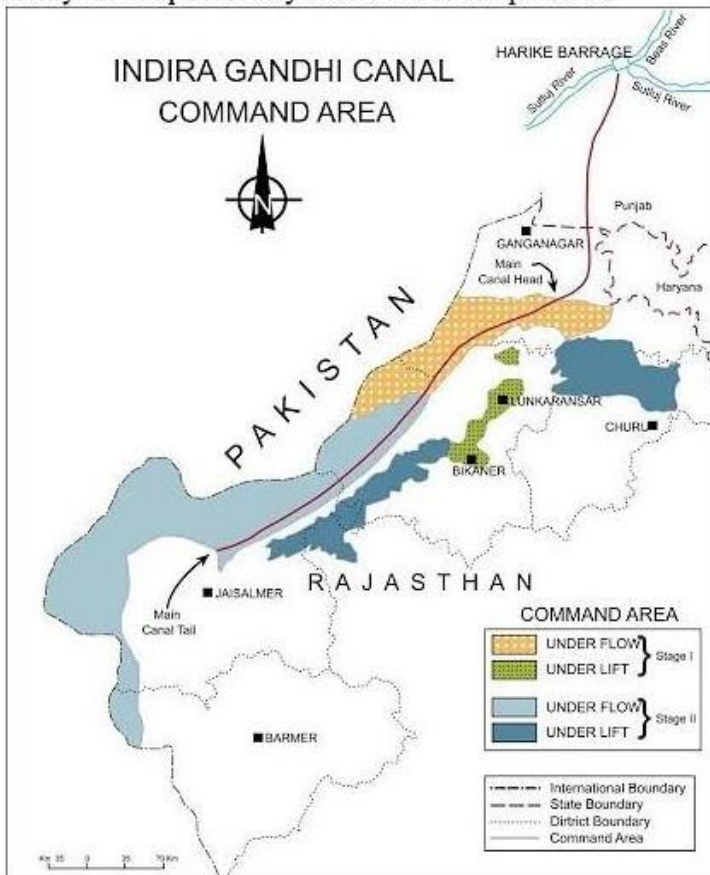
Question Number : 142 Question Id : 48558435657 Question Type : MCQ Option Shuffling : No Is Question Mandatory : No Calculator : None Response Time : N.A Think Time : N.A Minimum Instruction Time : 0

Correct Marks : 5 Wrong Marks : 1

Question Key Details :

Key	Value
Comprehension	Comp1

Study the map carefully and answer the question.



Identify the districts through which the main canal is passing.

- A. Churu
- B. Ganganagar
- C. Bikaner
- D. Jaisalmer
- E. Barmer

Choose the correct answer from the options given below:

- 1. B, C and D only
- 2. B, C and E only
- 3. A, B and D only
- 4. A, B and C only

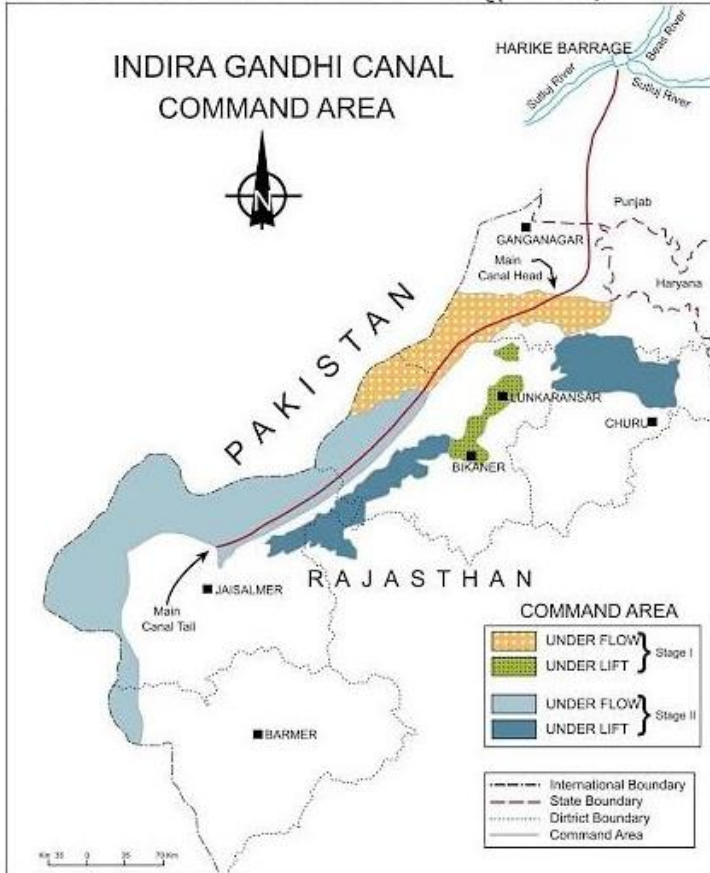
Options :

- 485584142625. 1
- 485584142626. 2
- 485584142627. 3
- 485584142628. 4

Question Number : 142 Question Id : 48558435657 Question Type : MCQ Option Shuffling : No Is Question Mandatory : No Calculator : None Response Time : N.A Think Time : N.A Minimum Instruction Time : 0
 Correct Marks : 5 Wrong Marks : 1
 Question Key Details :

Key	Value
Comprehension	Comp1

नीचे दिए गए मानचित्र को पढ़िए ध्यानपूर्वक पढ़िए और प्रश्नों के उत्तर दीजिए।



उन जिलों की पहचान कीजिए जिनसे होकर मुख्य नहर गुजरती है।

- A. चुरू
- B. गंगानगर
- C. बीकानेर
- D. जैसलमेर
- E. बाड़मेर

नीचे दिए गए विकल्पों में से सबसे उपयुक्त उत्तर का चयन कीजिए :

1. केवल B, C और D
2. केवल B, C और E
3. केवल A, B और D
4. केवल A, B और C

Options :

- 485584142625. 1
- 485584142626. 2
- 485584142627. 3
- 485584142628. 4

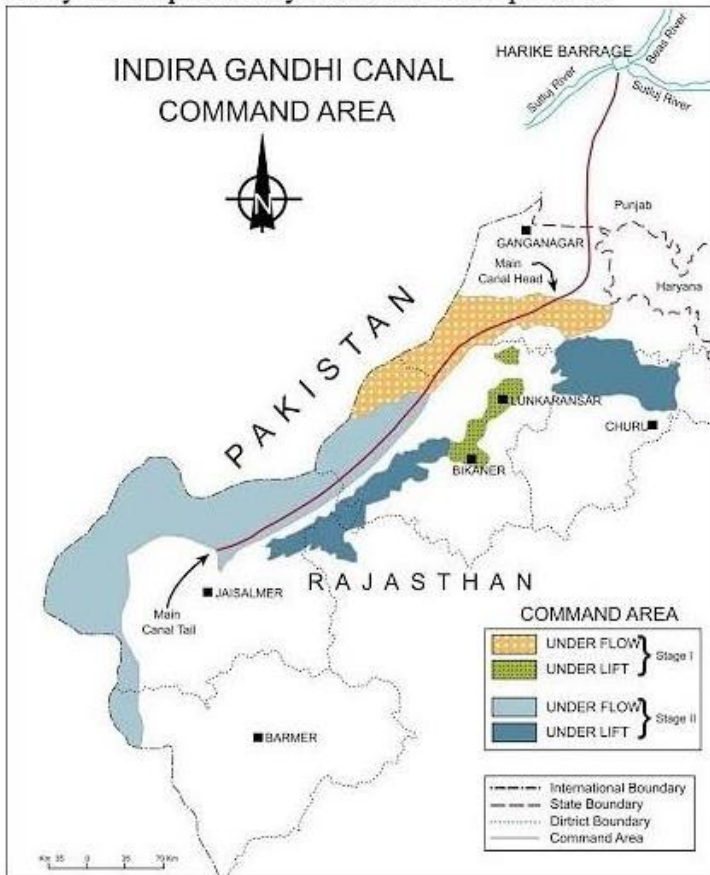
Question Number : 143 Question Id : 48558435658 Question Type : MCQ Option Shuffling : No Is Question Mandatory : No Calculator : None Response Time : N.A Think Time : N.A Minimum Instruction Time : 0

Correct Marks : 5 Wrong Marks : 1

Question Key Details :

Key	Value
Comprehension	Comp1

Study the map carefully and answer the question.



Identify the districts where Stage II areas are located.

- A. Ropar
- B. Bikaner
- C. Barmer
- D. Jaisalmer

Choose the correct answer from the options given below:

- 1. A and B only
- 2. A and C only
- 3. A and D only
- 4. B, C and D only

Options :

- 485584142629. 1
- 485584142630. 2
- 485584142631. 3
- 485584142632. 4

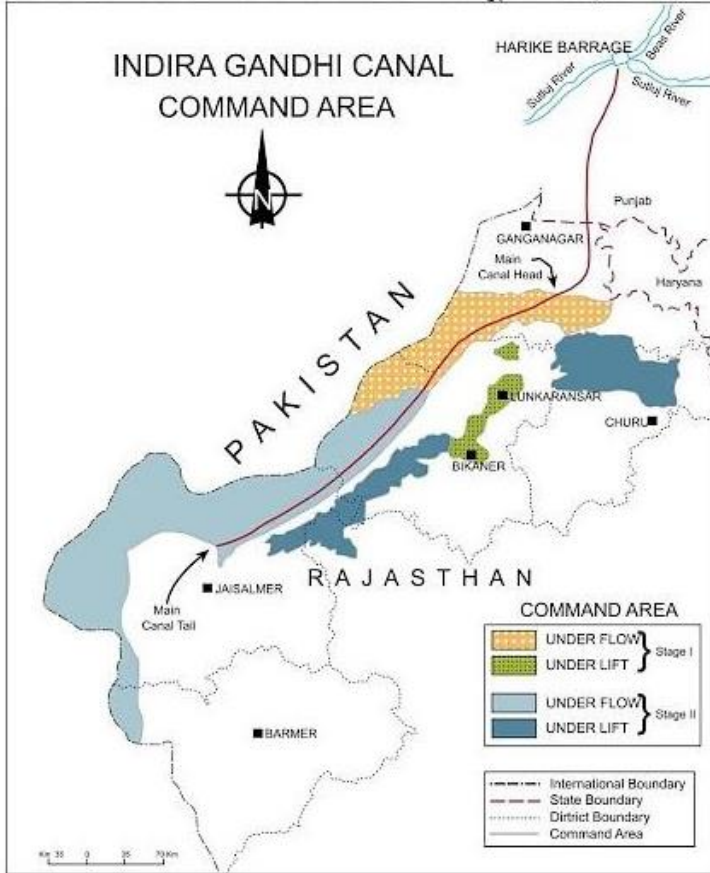
Question Number : 143 Question Id : 48558435658 Question Type : MCQ Option Shuffling : No Is Question Mandatory : No Calculator : None Response Time : N.A Think Time : N.A Minimum Instruction Time : 0

Correct Marks : 5 Wrong Marks : 1

Question Key Details :

Key	Value
Comprehension	Comp1

नीचे दिए गए मानचित्र को पढ़िए ध्यानपूर्वक पढ़िए और प्रश्नों के उत्तर दीजिए।



उन जिलों की पहचान कीजिए जहाँ चरण II क्षेत्र अवस्थित है।

- A. रोपड़
- B. बीकानेर
- C. बाड़मेर
- D. जैसलमेर

नीचे दिए गए विकल्पों में से सही उत्तर दीजिए :

1. केवल A और B
2. केवल A और C
3. केवल A और D
4. केवल B, C और D

Options :

485584142629. 1

485584142630. 2
485584142631. 3
485584142632. 4

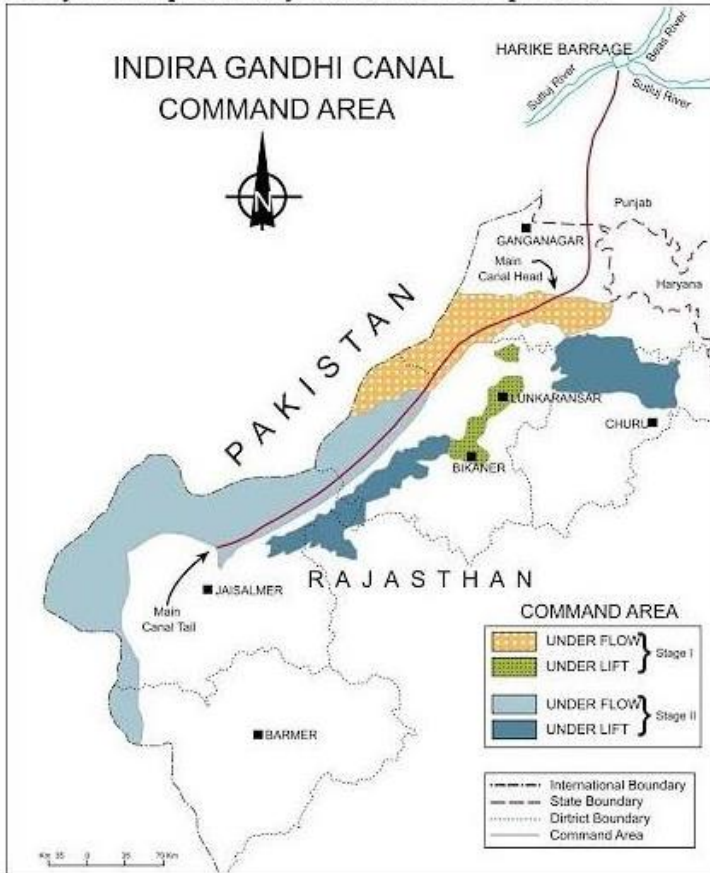
Question Number : 144 Question Id : 48558435659 Question Type : MCQ Option Shuffling : No Is Question Mandatory : No Calculator : None Response Time : N.A Think Time : N.A Minimum Instruction Time : 0

Correct Marks : 5 Wrong Marks : 1

Question Key Details :

Key	Value
Comprehension	Comp1

Study the map carefully and answer the question.



Gravity flow of canal water is majorly found in which one of the following?

1. South side of the command area
2. Left side of the main canal
3. Right side of the main canal
4. North side of the command area

Options :

485584142633. 1
485584142634. 2
485584142635. 3

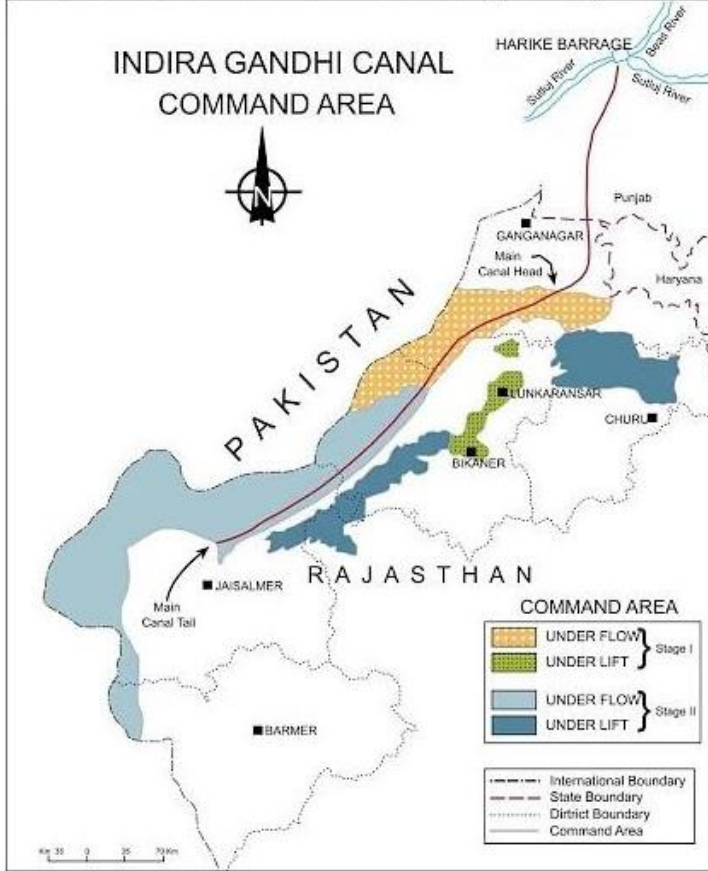
Question Number : 144 Question Id : 48558435659 Question Type : MCQ Option Shuffling : No Is Question Mandatory : No Calculator : None Response Time : N.A Think Time : N.A Minimum Instruction Time : 0

Correct Marks : 5 Wrong Marks : 1

Question Key Details :

Key	Value
Comprehension	Comp1

नीचे दिए गए मानचित्र को पढ़िए ध्यानपूर्वक पढ़िए और प्रश्नों के उत्तर दीजिए।



नहर के पानी का गुरुत्व बहाव मुख्यतः निम्नलिखित में से किसमें पाया जाता है?

1. कमान क्षेत्र की दक्षिण की दिशा
2. मुख्य नहर की बायीं तरफ
3. मुख्य नहर की दायीं तरफ
4. कमान क्षेत्र की उत्तर की दिशा

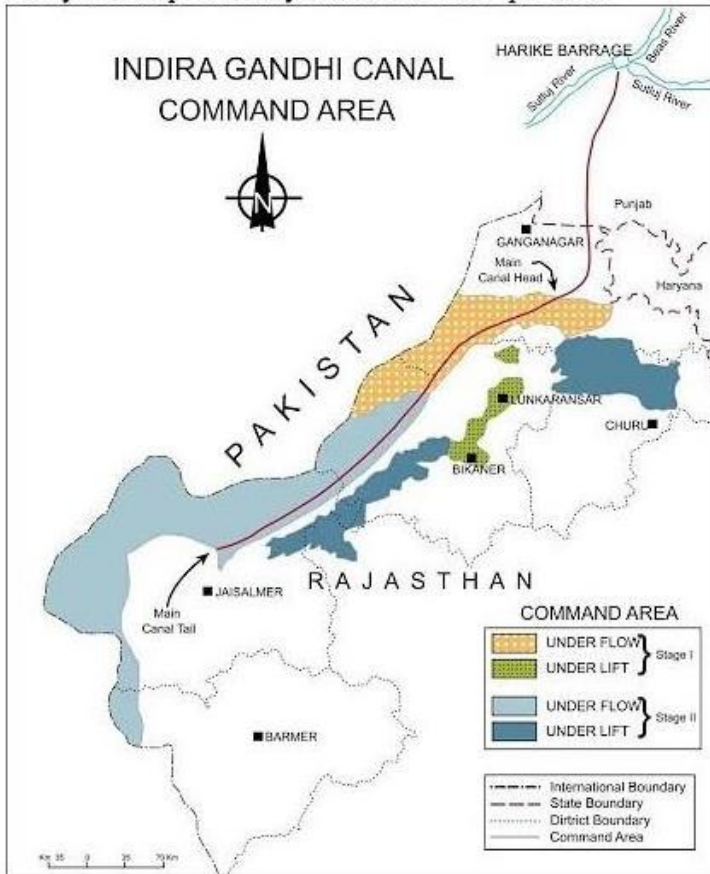
Options :

485584142633. 1
485584142634. 2
485584142635. 3
485584142636. 4

Question Number : 145 Question Id : 48558435660 Question Type : MCQ Option Shuffling : No Is Question Mandatory : No Calculator : None Response Time : N.A Think Time : N.A Minimum Instruction Time : 0
 Correct Marks : 5 Wrong Marks : 1
 Question Key Details :

Key	Value
Comprehension	Comp1

Study the map carefully and answer the question.



Arrange the following districts from north to south direction.

- A. Bikaner
- B. Barmer
- C. Jaisalmer
- D. Ganganagar

Choose the correct answer from the options given below:

- 1. D, A, B, C
- 2. D, A, C, B
- 3. D, C, A, B
- 4. A, D, C, B

Options :

- 485584142637. 1
- 485584142638. 2
- 485584142639. 3
- 485584142640. 4

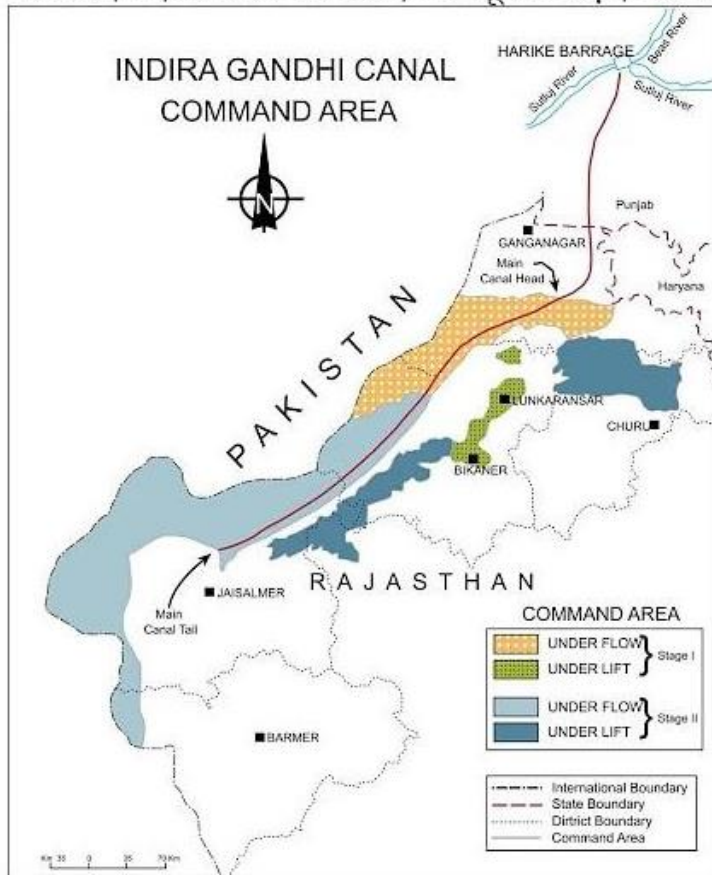
Question Number : 145 Question Id : 48558435660 Question Type : MCQ Option Shuffling : No Is Question Mandatory : No Calculator : None Response Time : N.A Think Time : N.A Minimum Instruction Time : 0

Correct Marks : 5 Wrong Marks : 1

Question Key Details :

Key	Value
Comprehension	Comp1

नीचे दिए गए मानचित्र को पढ़िए ध्यानपूर्वक पढ़िए और प्रश्नों के उत्तर दीजिए।



निम्नलिखित जिलों को उत्तर से दक्षिण दिशा के क्रम में व्यवस्थित कीजिए :

- A. बीकानेर
- B. बाड़मेर
- C. जैसलमेर
- D. गंगानगर

नीचे दिए गए विकल्पों में से सही उत्तर दीजिए :

- 1. D, A, B, C
- 2. D, A, C, B
- 3. D, C, A, B
- 4. A, D, C, B

Options :

- 485584142637. 1
- 485584142638. 2
- 485584142639. 3
- 485584142640. 4

Sub-Section Number : 3
Sub-Section Id : 4855842643
Question Shuffling Allowed : No
Is Section Default? : null

Question Number : 146 Question Id : 48558435661 Question Type : MCQ Option Shuffling : No Is Question Mandatory : No Calculator : None Response Time : N.A Think Time : N.A Minimum Instruction Time : 0 Correct Marks : 5 Wrong Marks : 1

Question Key Details :

Key	Value
Comprehension	Comp2

Study the passage and answer the following question:

Benda lives in the wilds of the Abujh Maad area of central India. His village consists of three huts deep in the wilds. Not even birds or stray dogs that usually crowd villages can be seen in these areas. Wearing a small loin cloth and armed with his axe he slowly surveys the penda (forest) where his tribe practices a primitive form of agriculture called shifting cultivation. Benda and his friends burn small patches of forest to clear them for cultivation. The ash is used for making the soil fertile. Benda is happy that the Mahua trees around him are in bloom. How lucky I am to be a part of this beautiful universe, he thinks as he looks up to see the Mahua, Palash and Sal trees that have sheltered him since childhood. Crossing the penda in a gliding motion, Benda makes his way to a stream. As he bends down to scoop up a palmful of water, he remembers to thank Loi-Lugi, the spirit of the forest for allowing him to quench his thirst. Moving on with his friends, Benda chews on succulent leaves and roots. The boys have been trying to collect Gajjhara and Kuchla, from the forest. These are special plants that Benda and his people use. He hopes the spirits of the forest will be kind and lead him to these herbs. These are needed to barter in the madhai or tribal fair coming up the next full moon. He closes his eyes and tries hard to recall what the elders had taught him about the herbs and the places they are found in. He wishes he had listened more carefully. Suddenly there is a rustling of leaves. Benda and his friends know it is the outsiders who have come searching for them in the wilds. In a single fluid motion Benda and his friends disappear behind the thick canopy of trees and become one with the spirit of the forest.

To which one of the following 'Benda' represents as given in the passage?

1. Tribe living in the area
2. Weaver
3. Trader
4. Fisherman

Options :

- 485584142641. 1
- 485584142642. 2
- 485584142643. 3
- 485584142644. 4

Question Number : 146 Question Id : 48558435661 Question Type : MCQ Option Shuffling : No Is Question Mandatory : No Calculator : None Response Time : N.A Think Time : N.A Minimum Instruction Time : 0

Correct Marks : 5 Wrong Marks : 1

Question Key Details :

Key	Value
Comprehension	Comp2

बेंदा मध्य भारत के अबूझमाड़ क्षेत्र के जंगलों में रहता है। उसके गाँव में तीन झोपड़ियाँ हैं जो जंगल के बीच हैं। यहाँ तक कि पक्षी और आवारा कुत्ते जिनकी भीड़ प्रायः गाँवों में मिलती है, भी यहाँ दिखाई नहीं देते। छोटी लंगोटी पहने और हाथ में कुल्हाड़ी लिए वह पेंडा (वन) का सर्वेक्षण करता है, जहाँ उसका कबीला कृषि का आदिम रूप-स्थानांतरी कृषि करता है।

बेंदा तथा उसके मित्र वन के छोटे टुकड़ों को जुताई के लिए जलाकर साफ करते हैं। राख का उपयोग मृदा को उर्वर बनाने के लिए किया जाता है। अपने चारों ओर खिले हुए महुआ वृक्षों को देखकर बेंदा प्रसन्न है। जैसे ही वह महुआ, पलाश और साल के वृक्षों को देखता है, जिन्होंने बचपन से ही उसे आश्रय दिया, वह सोचता है कि इस सुंदर ब्रह्मांड का अंग बनकर वह कितना सौभाग्यशाली है। विसर्पी गति से पेंडा को पार करके बेंदा नदी तक पहुँचता है। जैसे ही वह चुल्लू भर जल लेने के लिए झुकता है, उसे वन की आत्मा लोई-लुगी की प्यास बुझाने के स्वीकृति देने के लिए धन्यवाद करना याद आता है। अपने मित्रों के साथ आगे बढ़ते हुए बेंदा गूदेदार पत्तों और कंदमूल को चबाता है। लड़के वन से गज्जहरा और कुचला का संग्रहण करने का प्रयास कर रहे हैं। ये विशिष्ट पादप हैं जिनका प्रयोग बेंदा और उसके लोग करते हैं। वह आशा करता है कि वन की आत्माएँ दया करेंगी और उसे उन जड़ी बूटियों तक ले जाएँगी। ये आगामी पूर्णिमा को मधाई अथवा जनजातीय मेले में वस्तु विनियम के लिए आवश्यक है। वह अपने नेत्र बंद करके स्मरण करने का कठिन प्रयत्न करता है, जो उसके बुजुर्गों ने उन जड़ी बूटियों और उनके पाए जाने वाले स्थानों के बारे में समझाया था। वह चाहता है कि काश उसने अधिक ध्यानपूर्वक सुना होता। अचानक पत्तों में खड़खड़ाहट होती है। बेंदा और उसके मित्र जानते हैं कि इन जंगलों में उन्हें ढूँढते हुए आए हैं। एक ही प्रवाह गति से बेंदा और उसके मित्र सघन वृक्षों के वितान के पीछे अदृश्य हो जाते हैं और वन की आत्मा के साथ एकाकार हो जाते हैं।

दिए गए गद्यांश में 'बेंदा' निम्नलिखित में से किसका निरूपण करता है?

1. उस क्षेत्र की रहने वाली जनजाति
2. बुनकर
3. व्यापारी
4. मछुआरा

Options :

485584142641. 1
485584142642. 2
485584142643. 3
485584142644. 4

Question Number : 147 Question Id : 48558435662 Question Type : MCQ Option Shuffling : No Is Question Mandatory : No Calculator : None Response Time : N.A Think Time : N.A Minimum Instruction Time : 0

Correct Marks : 5 Wrong Marks : 1

Question Key Details :

Key	Value
Comprehension	Comp2

Study the passage and answer the following question:

Benda lives in the wilds of the Abujh Maad area of central India. His village consists of three huts deep in the wilds. Not even birds or stray dogs that usually crowd villages can be seen in these areas. Wearing a small loin cloth and armed with his axe he slowly surveys the penda (forest) where his tribe practices a primitive form of agriculture called shifting cultivation. Benda and his friends burn small patches of forest to clear them for cultivation. The ash is used for making the soil fertile. Benda is happy that the Mahua trees around him are in bloom. How lucky I am to be a part of this beautiful universe, he thinks as he looks up to see the Mahua, Palash and Sal trees that have sheltered him since childhood. Crossing the penda in a gliding motion, Benda makes his way to a stream. As he bends down to scoop up a palmful of water, he remembers to thank Loi-Lugi, the spirit of the forest for allowing him to quench his thirst. Moving on with his friends, Benda chews on succulent leaves and roots. The boys have been trying to collect Gajjhara and Kuchla, from the forest. These are special plants that Benda and his people use. He hopes the spirits of the forest will be kind and lead him to these herbs. These are needed to barter in the madhai or tribal fair coming up the next full moon. He closes his eyes and tries hard to recall what the elders had taught him about the herbs and the places they are found in. He wishes he had listened more carefully. Suddenly there is a rustling of leaves. Benda and his friends know it is the outsiders who have come searching for them in the wilds. In a single fluid motion Benda and his friends disappear behind the thick canopy of trees and become one with the spirit of the forest.

To which one of the following 'Penda' is referred in the text?

1. A tribe
2. A hut
3. Forest
4. Succulent leaves

Options :

- 485584142645. 1
- 485584142646. 2
- 485584142647. 3
- 485584142648. 4

Question Number : 147 Question Id : 48558435662 Question Type : MCQ Option Shuffling : No Is Question Mandatory : No Calculator : None Response Time : N.A Think Time : N.A Minimum Instruction Time : 0

Correct Marks : 5 Wrong Marks : 1

Question Key Details :

Key	Value
Comprehension	Comp2

बेंदा मध्य भारत के अबूझमाड़ क्षेत्र के जंगलों में रहता है। उसके गाँव में तीन झोपड़ियाँ हैं जो जंगल के बीच हैं। यहाँ तक कि पक्षी और आवारा कुत्ते जिनकी भीड़ प्रायः गाँवों में मिलती है, भी यहाँ दिखाई नहीं देते। छोटी लंगोटी पहने और हाथ में कुल्हाड़ी लिए वह पेंडा (वन) का सर्वेक्षण करता है, जहाँ उसका कबीला कृषि का आदिम रूप-स्थानांतरी कृषि करता है।

बेंदा तथा उसके मित्र वन के छोटे टुकड़ों को जुताई के लिए जलाकर साफ करते हैं। राख का उपयोग मृदा को उर्वर बनाने के लिए किया जाता है। अपने चारों ओर खिले हुए महुआ वृक्षों को देखकर बेंदा प्रसन्न है। जैसे ही वह महुआ, पलाश और साल के वृक्षों को देखता है, जिन्होंने बचपन से ही उसे आश्रय दिया, वह सोचता है कि इस सुंदर ब्रह्मांड का अंग बनकर वह कितना सौभाग्यशाली है। विसर्पी गति से पेंडा को पार करके बेंदा नदी तक पहुँचता है। जैसे ही वह चुल्लू भर जल लेने के लिए झुकता है, उसे वन की आत्मा लोई-लुगी की प्यास बुझाने के स्वीकृति देने के लिए धन्यवाद करना याद आता है। अपने मित्रों के साथ आगे बढ़ते हुए बेंदा गूदेदार पत्तों और कंदमूल को चबाता है। लड़के वन से गज्जहरा और कुचला का संग्रहण करने का प्रयास कर रहे हैं। ये विशिष्ट पादप है जिनका प्रयोग बेंदा और उसके लोग करते हैं। वह आशा करता है कि वन की आत्माएँ दया करेंगी और उसे उन जड़ी बूटियों तक ले जाएँगी। ये आगामी पूर्णिमा को मधाई अथवा जनजातीय मेले में वस्तु विनियम के लिए आवश्यक है। वह अपने नेत्र बंद करके स्मरण करने का कठिन प्रयत्न करता है, जो उसके बुजुर्गों ने उन जड़ी बूटियों और उनके पाए जाने वाले स्थानों के बारे में समझाया था। वह चाहता है कि काश उसने अधिक ध्यानपूर्वक सुना होता। अचानक पत्तों में खड़खड़ाहट होती है। बेंदा और उसके मित्र जानते हैं कि इन जंगलों में उन्हें ढूँढते हुए आए हैं। एक ही प्रवाह गति से बेंदा और उसके मित्र सघन वृक्षों के वितान के पीछे अदृश्य हो जाते हैं और वन की आत्मा के साथ एकाकार हो जाते हैं।

इस गद्यांश में पेंडा निम्न में से किसका संकेत करता है।

1. जनजाति
2. झोपड़ी
3. जंगल
4. गूदेदार पत्तियाँ

Options :

485584142645. 1
485584142646. 2
485584142647. 3
485584142648. 4

Question Number : 148 Question Id : 48558435663 Question Type : MCQ Option Shuffling : No Is Question Mandatory : No Calculator : None Response Time : N.A Think Time : N.A Minimum Instruction Time : 0

Correct Marks : 5 Wrong Marks : 1

Question Key Details :

Key	Value
Comprehension	Comp2

Study the passage and answer the following question:

Benda lives in the wilds of the Abujh Maad area of central India. His village consists of three huts deep in the wilds. Not even birds or stray dogs that usually crowd villages can be seen in these areas. Wearing a small loin cloth and armed with his axe he slowly surveys the penda (forest) where his tribe practices a primitive form of agriculture called shifting cultivation. Benda and his friends burn small patches of forest to clear them for cultivation. The ash is used for making the soil fertile. Benda is happy that the Mahua trees around him are in bloom. How lucky I am to be a part of this beautiful universe, he thinks as he looks up to see the Mahua, Palash and Sal trees that have sheltered him since childhood. Crossing the penda in a gliding motion, Benda makes his way to a stream. As he bends down to scoop up a palmful of water, he remembers to thank Loi-Lugi, the spirit of the forest for allowing him to quench his thirst. Moving on with his friends, Benda chews on succulent leaves and roots. The boys have been trying to collect Gajjhara and Kuchla, from the forest. These are special plants that Benda and his people use. He hopes the spirits of the forest will be kind and lead him to these herbs. These are needed to barter in the madhai or tribal fair coming up the next full moon. He closes his eyes and tries hard to recall what the elders had taught him about the herbs and the places they are found in. He wishes he had listened more carefully. Suddenly there is a rustling of leaves. Benda and his friends know it is the outsiders who have come searching for them in the wilds. In a single fluid motion Benda and his friends disappear behind the thick canopy of trees and become one with the spirit of the forest.

Benda went to the forest for _____ .

1. hunting
2. bringing wood
3. collecting herbs
4. cultivating land

Options :

485584142649. 1
485584142650. 2
485584142651. 3
485584142652. 4

Question Number : 148 Question Id : 48558435663 Question Type : MCQ Option Shuffling : No Is Question Mandatory : No Calculator : None Response Time : N.A Think Time : N.A Minimum Instruction Time : 0

Correct Marks : 5 Wrong Marks : 1

Question Key Details :

Key	Value
Comprehension	Comp2

बेंदा मध्य भारत के अबूझमाड़ क्षेत्र के जंगलों में रहता है। उसके गाँव में तीन झोपड़ियाँ हैं जो जंगल के बीच हैं। यहाँ तक कि पक्षी और आवाज़ कुत्ते जिनकी भीड़ प्रायः गाँवों में मिलती है, भी यहाँ दिखाई नहीं देते। छोटी लंगोटी पहने और हाथ में कुल्हाड़ी लिए वह पेंडा (वन) का सर्वेक्षण करता है, जहाँ उसका कबीला कृषि का आदिम रूप-स्थानांतरी कृषि करता है।

बेंदा तथा उसके मित्र वन के छोटे टुकड़ों को जुताई के लिए जलाकर साफ करते हैं। राख का उपयोग मृदा को उर्वर बनाने के लिए किया जाता है। अपने चारों ओर खिले हुए महुआ वृक्षों को देखकर बेंदा प्रसन्न है। जैसे ही वह महुआ, पलाश और साल के वृक्षों को देखता है, जिन्होंने बचपन से ही उसे आश्रय दिया, वह सोचता है कि इस सुंदर ब्रह्मांड का अंग बनकर वह कितना सौभाग्यशाली है। विसर्पी गति से पेंडा को पार करके बेंदा नदी तक पहुँचता है। जैसे ही वह चुल्लू भर जल लेने के लिए झुकता है, उसे वन की आत्मा लोई-लुगी की प्यास बुझाने के स्वीकृति देने के लिए धन्यवाद करना याद आता है। अपने मित्रों के साथ आगे बढ़ते हुए बेंदा गूदेदार पत्तों और कंदमूल को चबाता है। लड़के वन से गज्जहरा और कुचला का संग्रहण करने का प्रयास कर रहे हैं। ये विशिष्ट पादप हैं जिनका प्रयोग बेंदा और उसके लोग करते हैं। वह आशा करता है कि वन की आत्माएँ दया करेंगी और उसे उन जड़ी बूटियों तक ले जाएँगी। ये आगामी पूर्णिमा को मधाई अथवा जनजातीय मेले में वस्तु विनियम के लिए आवश्यक है। वह अपने नेत्र बंद करके स्मरण करने का कठिन प्रयत्न करता है, जो उसके बुजुर्गों ने उन जड़ी बूटियों और उनके पाए जाने वाले स्थानों के बारे में समझाया था। वह चाहता है कि काश उसने अधिक ध्यानपूर्वक सुना होता। अचानक पत्तों में खड़खड़ाहट होती है। बेंदा और उसके मित्र जानते हैं कि इन जंगलों में उन्हें ढूँढते हुए आए हैं। एक ही प्रवाह गति से बेंदा और उसके मित्र सघन वृक्षों के वितान के पीछे अदृश्य हो जाते हैं और वन की आत्मा के साथ एकाकार हो जाते हैं।

बेंदा _____ के लिए जंगल गया था।

1. शिकार करने
2. लड़की लाने
3. जड़ी-बूटियाँ बटोरने
4. भूमि में खेती करने

Options :

485584142649. 1
485584142650. 2
485584142651. 3
485584142652. 4

Question Number : 149 Question Id : 48558435664 Question Type : MCQ Option Shuffling : No Is Question Mandatory : No Calculator : None Response Time : N.A Think Time : N.A Minimum Instruction Time : 0

Correct Marks : 5 Wrong Marks : 1

Question Key Details :

Key	Value
Comprehension	Comp2

Study the passage and answer the following question:

Benda lives in the wilds of the Abujh Maad area of central India. His village consists of three huts deep in the wilds. Not even birds or stray dogs that usually crowd villages can be seen in these areas. Wearing a small loin cloth and armed with his axe he slowly surveys the penda (forest) where his tribe practices a primitive form of agriculture called shifting cultivation. Benda and his friends burn small patches of forest to clear them for cultivation. The ash is used for making the soil fertile. Benda is happy that the Mahua trees around him are in bloom. How lucky I am to be a part of this beautiful universe, he thinks as he looks up to see the Mahua, Palash and Sal trees that have sheltered him since childhood. Crossing the penda in a gliding motion, Benda makes his way to a stream. As he bends down to scoop up a palmful of water, he remembers to thank Loi-Lugi, the spirit of the forest for allowing him to quench his thirst. Moving on with his friends, Benda chews on succulent leaves and roots. The boys have been trying to collect Gajjhara and Kuchla, from the forest. These are special plants that Benda and his people use. He hopes the spirits of the forest will be kind and lead him to these herbs. These are needed to barter in the madhai or tribal fair coming up the next full moon. He closes his eyes and tries hard to recall what the elders had taught him about the herbs and the places they are found in. He wishes he had listened more carefully. Suddenly there is a rustling of leaves. Benda and his friends know it is the outsiders who have come searching for them in the wilds. In a single fluid motion Benda and his friends disappear behind the thick canopy of trees and become one with the spirit of the forest.

Which one of the following products were collected by Benda?

1. Loi - Lungi
2. Gajjhara and Kuchla
3. Mahua and Palash
4. Sal and Neem

Options :

485584142653. 1
485584142654. 2
485584142655. 3
485584142656. 4

Question Number : 149 Question Id : 48558435664 Question Type : MCQ Option Shuffling : No Is Question Mandatory : No Calculator : None Response Time : N.A Think Time : N.A Minimum Instruction Time : 0

Correct Marks : 5 Wrong Marks : 1

Question Key Details :

Key	Value
Comprehension	Comp2

बेंदा मध्य भारत के अबूझमाड़ क्षेत्र के जंगलों में रहता है। उसके गाँव में तीन झोपड़ियाँ हैं जो जंगल के बीच हैं। यहाँ तक कि पक्षी और आवाज़ कुत्ते जिनकी भीड़ प्रायः गाँवों में मिलती है, भी यहाँ दिखाई नहीं देते। छोटी लंगोटी पहने और हाथ में कुल्हाड़ी लिए वह पेंडा (वन) का सर्वेक्षण करता है, जहाँ उसका कबीला कृषि का आदिम रूप-स्थानांतरी कृषि करता है।

बेंदा तथा उसके मित्र वन के छोटे टुकड़ों को जुताई के लिए जलाकर साफ करते हैं। राख का उपयोग मृदा को उर्वर बनाने के लिए किया जाता है। अपने चारों ओर खिले हुए महुआ वृक्षों को देखकर बेंदा प्रसन्न है। जैसे ही वह महुआ, पलाश और साल के वृक्षों को देखता है, जिन्होंने बचपन से ही उसे आश्रय दिया, वह सोचता है कि इस सुंदर ब्रह्मांड का अंग बनकर वह कितना सौभाग्यशाली है। विसर्पी गति से पेंडा को पार करके बेंदा नदी तक पहुँचता है। जैसे ही वह चुल्लू भर जल लेने के लिए झुकता है, उसे वन की आत्मा लोई-लुंगी की प्यास बुझाने के स्वीकृति देने के लिए धन्यवाद करना याद आता है। अपने मित्रों के साथ आगे बढ़ते हुए बेंदा गूदेदार पत्तों और कंदमूल को चबाता है। लड़के वन से गज्जहरा और कुचला का संग्रहण करने का प्रयास कर रहे हैं। ये विशिष्ट पादप हैं जिनका प्रयोग बेंदा और उसके लोग करते हैं। वह आशा करता है कि वन की आत्माएँ दया करेंगी और उसे उन जड़ी बूटियों तक ले जाएँगी। ये आगामी पूर्णिमा को मधाई अथवा जनजातीय मेले में वस्तु विनियम के लिए आवश्यक है। वह अपने नेत्र बंद करके स्मरण करने का कठिन प्रयत्न करता है, जो उसके बुजुर्गों ने उन जड़ी बूटियों और उनके पाए जाने वाले स्थानों के बारे में समझाया था। वह चाहता है कि काश उसने अधिक ध्यानपूर्वक सुना होता। अचानक पत्तों में खड़खड़ाहट होती है। बेंदा और उसके मित्र जानते हैं कि इन जंगलों में उन्हें ढूँढते हुए आए हैं। एक ही प्रवाह गति से बेंदा और उसके मित्र सघन वृक्षों के वितान के पीछे अदृश्य हो जाते हैं और वन की आत्मा के साथ एकाकार हो जाते हैं।

बेंदा ने निम्नलिखित में से क्या उत्पाद एकत्र किया?

1. लोई-लुंगी
2. गज्जहरा तथा कुचला
3. महुआ तथा पलाश
4. साल और नीम

Options :

485584142653. 1
485584142654. 2
485584142655. 3
485584142656. 4

Question Number : 150 Question Id : 48558435665 Question Type : MCQ Option Shuffling : No Is Question Mandatory : No Calculator : None Response Time : N.A Think Time : N.A Minimum Instruction Time : 0

Correct Marks : 5 Wrong Marks : 1

Question Key Details :

Key	Value
Comprehension	Comp2

Study the passage and answer the following question:

Benda lives in the wilds of the Abujh Maad area of central India. His village consists of three huts deep in the wilds. Not even birds or stray dogs that usually crowd villages can be seen in these areas. Wearing a small loin cloth and armed with his axe he slowly surveys the penda (forest) where his tribe practices a primitive form of agriculture called shifting cultivation. Benda and his friends burn small patches of forest to clear them for cultivation. The ash is used for making the soil fertile. Benda is happy that the Mahua trees around him are in bloom. How lucky I am to be a part of this beautiful universe, he thinks as he looks up to see the Mahua, Palash and Sal trees that have sheltered him since childhood. Crossing the penda in a gliding motion, Benda makes his way to a stream. As he bends down to scoop up a palmful of water, he remembers to thank Loi-Lugi, the spirit of the forest for allowing him to quench his thirst. Moving on with his friends, Benda chews on succulent leaves and roots. The boys have been trying to collect Gajjhara and Kuchla, from the forest. These are special plants that Benda and his people use. He hopes the spirits of the forest will be kind and lead him to these herbs. These are needed to barter in the madhai or tribal fair coming up the next full moon. He closes his eyes and tries hard to recall what the elders had taught him about the herbs and the places they are found in. He wishes he had listened more carefully. Suddenly there is a rustling of leaves. Benda and his friends know it is the outsiders who have come searching for them in the wilds. In a single fluid motion Benda and his friends disappear behind the thick canopy of trees and become one with the spirit of the forest.

At which of the following places, Benda exchanges collected herbal parts?

1. Village Market
2. Madhai tribal fair
3. Town Market
4. Loi-Lungi

Options :

485584142657. 1
485584142658. 2
485584142659. 3
485584142660. 4

Question Number : 150 Question Id : 48558435665 Question Type : MCQ Option Shuffling : No Is Question Mandatory : No Calculator : None Response Time : N.A Think Time : N.A Minimum Instruction Time : 0

Correct Marks : 5 Wrong Marks : 1

Question Key Details :

Key	Value
Comprehension	Comp2

बेंदा मध्य भारत के अबूझमाड़ क्षेत्र के जंगलों में रहता है। उसके गाँव में तीन झोपड़ियाँ हैं जो जंगल के बीच हैं। यहाँ तक कि पक्षी और आवारा कुत्ते जिनकी भीड़ प्रायः गाँवों में मिलती है, भी यहाँ दिखाई नहीं देते। छोटी लंगोटी पहने और हाथ में कुल्हाड़ी लिए वह पेंडा (वन) का सर्वेक्षण करता है, जहाँ उसका कबीला कृषि का आदिम रूप-स्थानांतरी कृषि करता है।

बेंदा तथा उसके मित्र वन के छोटे टुकड़ों को जुताई के लिए जलाकर साफ करते हैं। राख का उपयोग मृदा को उर्वर बनाने के लिए किया जाता है। अपने चारों ओर खिले हुए महुआ वृक्षों को देखकर बेंदा प्रसन्न है। जैसे ही वह महुआ, पलाश और साल के वृक्षों को देखता है, जिन्होंने बचपन से ही उसे आश्रय दिया, वह सोचता है कि इस सुंदर ब्रह्मांड का अंग बनकर वह कितना सौभाग्यशाली है। विसर्पी गति से पेंडा को पार करके बेंदा नदी तक पहुँचता है। जैसे ही वह चुल्लू भर जल लेने के लिए झुकता है, उसे वन की आत्मा लोई-लुंगी की प्यास बुझाने के स्वीकृति देने के लिए धन्यवाद करना याद आता है। अपने मित्रों के साथ आगे बढ़ते हुए बेंदा गूदेदार पत्तों और कंदमूल को चबाता है। लड़के वन से गज्जहरा और कुचला का संग्रहण करने का प्रयास कर रहे हैं। ये विशिष्ट पादप हैं जिनका प्रयोग बेंदा और उसके लोग करते हैं। वह आशा करता है कि वन की आत्माएँ दया करेंगी और उसे उन जड़ी बूटियों तक ले जाएँगी। ये आगामी पूर्णिमा को मधाई अथवा जनजातीय मेले में वस्तु विनियम के लिए आवश्यक है। वह अपने नेत्र बंद करके स्मरण करने का कठिन प्रयत्न करता है, जो उसके बुजुर्गों ने उन जड़ी बूटियों और उनके पाए जाने वाले स्थानों के बारे में समझाया था। वह चाहता है कि काश उसने अधिक ध्यानपूर्वक सुना होता। अचानक पत्तों में खड़खड़ाहट होती है। बेंदा और उसके मित्र जानते हैं कि इन जंगलों में उन्हें ढूँढते हुए आए हैं। एक ही प्रवाह गति से बेंदा और उसके मित्र सघन वृक्षों के वितान के पीछे अदृश्य हो जाते हैं और वन की आत्मा के साथ एकाकार हो जाते हैं।

बेंदा निम्नलिखित में से किस स्थान पर एकत्रित जड़ी-बूटियों के भागों का वस्तु-विनिमय करता है?

1. ग्राम बाजार
2. मधाई जनजातीय मेला
3. कस्बा बाजार
4. लोई-लुंगी

Options :

485584142657. 1
485584142658. 2
485584142659. 3
485584142660. 4