

















Practice, Learn and Achieve
Your Goal with Prepp

DSSSB Exam

PGT Previous Paper

Simplifying
Government Exams

 SSC CHSL	 IAS EXAM	 RRB NTPC	 NTSE	 CDS
 SSC CGL	 CBSE UGC NET	 IBPS PO	 NDA	
 SBI PO	 IBPS CLERK	 AFCAT	 SSC JE	 CTET
 CSIR UGC NET	 CAPF	 IBPS RRB		



158/12, 139/12, 171/14, 172/14

DO NOT OPEN THE SEAL OF THE BOOKLET UNTIL YOU ARE TOLD TO DO SO

इस पुस्तिका की सील तब तक न खोले जब तक कहा न जाए

A

POST CODE / पोस्ट कोड :
138/12, 139/12, 171/14, 172/14

JDD-25/PGT-HIST/X-14

Write here Roll number and Answer-Sheet No.

यहाँ क्रमांक एवं उत्तर-पत्रिका संख्या लिखें

Serial No.

547720

NE-038

Roll No./ अनुक्रमांक

--	--	--	--	--	--	--	--	--	--

Answer - Sheet No./ उत्तर-पत्रिका संख्या

--	--	--	--	--	--	--	--	--	--

Time Allowed : 2 hours

निर्धारित समय : 2 घंटे

TIER - I (PRELIMINARY) EXAMINATION

टियर - I (प्राथमिक) परीक्षा

Maximum Marks : 200

अधिकतम अंक : 200

Read the following instructions carefully before you begin to answer the questions.

प्रश्नों के उत्तर देने से पहले नीचे लिखे अनुदेशों को ध्यान से पढ़ लें।

IMPORTANT INSTRUCTIONS TO CANDIDATES

1. This Booklet contains 200 questions in all comprising the following Sections :

Sections	Test Components	No. of Questions	Page No.
(A)	i) General Awareness	20	4 - 7
	ii) General Intelligence and Reasoning Ability	20	8 - 13
	iii) Arithmetical and Numerical Ability	20	14 - 19
	iv) Test of Language : Hindi	20	20 - 22
	v) Test of Language : English	20	23 - 25
(B)	Post Specific Subject-Related Questions	100	26 - 47

- All questions are compulsory and carry equal marks.
- The paper carries negative markings. For each wrong answer 0.25 mark will be deducted.
- In case of any discrepancy between the English and Hindi versions of any question, the English version will be treated as final/authentic.
- OMR Answer-Sheet is enclosed in this Booklet. You must complete the details of Roll Number, Question Booklet No., etc., on the Answer-Sheet and Answer-Sheet No. on the space provided above in this Question Booklet, before you actually start answering the questions, failing which your Answer-Sheet will not be evaluated and you will be awarded ZERO mark.
- You must not tear off or remove any sheet from this Booklet. The Answer-Sheet must be handed over to the Invigilator before you leave the Examination Hall.
- Use of Calculator/Paint/pen/Laptop/Other Digital Instrument/Mobile/Cell Phone/Pager is not allowed.
- Candidates found guilty of misconduct/using unfair means in the Examination Hall will be liable for appropriate penal/legal action.
- The manner in which different questions are to be answered has been explained at the back of this Booklet, which you should read carefully before actually answering the questions.
- No Rough Work is to be done on the Answer-Sheet.

उम्मीदवारों के लिए महत्वपूर्ण अनुदेश

1. इस पुस्तिका में कुल 200 प्रश्न हैं, जिनमें निम्नलिखित भाग शामिल हैं :

भाग	परीक्षण विषय	प्रश्नों की संख्या	पृष्ठ क्रमांक
(अ)	i) सामान्य जानकारी	20	4 - 7
	ii) सामान्य बुद्धिमत्ता तथा तार्किक योग्यता	20	8 - 13
	iii) अंकगणितीय एवं संख्यात्मक योग्यता	20	14 - 19
	iv) भाषा परीक्षण : हिन्दी	20	20 - 22
	v) भाषा परीक्षण : अंग्रेजी	20	23 - 25
(ब)	पोस्ट स्पेशलिस्टिक विषय - संबंधी प्रश्न	100	26 - 47

- सभी प्रश्न अनिवार्य हैं तथा सबके बराबर अंक हैं।
- प्रश्न पत्र में नकारात्मक अंकन होगा। हर गलत उत्तर के लिए 0.25 अंक काटा जायेगा।
- यदि किसी प्रश्न के हिन्दी तथा अंग्रेजी अनुवाद में कोई अंतर है तो, अंग्रेजी अनुवाद को ही सही समझा जायेगा।
- इस उत्तर-पुस्तिका में ओ.एम.आर. उत्तर-पत्रिका संलग्न है। प्रश्नों के उत्तर वास्तव में शुरू करने से पहले आप उत्तर-पत्रिका में अपना रोल नम्बर, प्रश्न पुस्तिका संख्या, इत्यादि तथा इस प्रश्न पुस्तिका में उपरोक्त दिए गए स्थान पर उत्तर-पत्रिका की संख्या लिखें। अन्यथा आपकी उत्तर-पत्रिका को जांचा नहीं जायेगा और शून्य अंक दिया जायेगा।
- इस पुस्तिका से कोई पन्ना फाड़ना या अलग करना मना है। परीक्षा-भवन छोड़ने से पहले उत्तर-पत्रिका निरीक्षक के हवाले कर दें।
- कैलकुलेटर/पाइपटॉप/लेपटॉप/अन्य डिजिटल उपकरण/मोबाइल/सेल फोन/पेजर का उपयोग वर्जित है।
- परीक्षा-भवन में अनुचित व्यवहार एवं कार्य के लिए सजा पाये गये अभ्यर्थी पुनर्विचार/वैधानिक कार्यवाही के पात्र होंगे।
- विभिन्न प्रश्नों के उत्तर देने की विधि इस पुस्तिका के पीछे छपे हुए निर्देशों में दे दी गई है, इसे आप प्रश्नों के उत्तर देने से पहले ध्यानपूर्वक पढ़ लें।
- कोई रफ कार्य उत्तर-पत्रिका पर नहीं करना है।

Go through instructions given in Page No. 48 (Back Cover Page)

A*

SEAL

SEAL



SECTION - A
i) General Awareness

1. Which Amendment to our Constitution added Ninth Schedule ?
(A) 1st Amendment
(B) 7th Amendment
(C) 9th Amendment
(D) None of these
2. Natyashastra, in which all performing arts are well structured is a work of
(A) Bhavabhooti
(B) Bhasa
(C) Bharatamuni
(D) Kalidasa
3. December 22, the day on which genius Srinivas Ramanujan was born would be celebrated as
(A) National Members Day
(B) National Mathematics Day
(C) Numerical Mathematics Day
(D) National Science Day
4. Myanmar is the new name of
(A) Mali (B) Bali
(C) Burma (D) Bhutan
5. Ashwaghosha who lived in the court of king _____ wrote Buddhacharita.
(A) Kaniska
(B) Babar
(C) Vikramaditya
(D) Ashoka
6. The capital city of Chalukya was
(A) Srirangapatna
(B) Badami
(C) Madhurai
(D) Kanchipuram
7. The original inhabitants of India were
(A) Sikhs
(B) Mughals
(C) Dravidians
(D) Christians
8. _____ was the sculptor of Indian Foreign Policy.
(A) Mahatma Gandhi
(B) K. M. Munshi
(C) B. R. Ambedkar
(D) Pandit Jawaharlal Nehru
9. Security Council of UNO consists of _____ permanent members.
(A) 3 (B) 4
(C) 5 (D) 6
10. The first Railway train in India ran in 1853 from Bombay to
(A) Thane
(B) Poona
(C) Nagpur
(D) Ahmedabad

A*

4



i) सामान्य जानकारी

1. संविधान के कौनसे संशोधन से नौवीं अनुसूची जोड़ी गई ?
(A) पहला संशोधन
(B) सातवां संशोधन
(C) नौवां संशोधन
(D) इनमें से कोई नहीं
2. 'नाट्यशास्त्र' जिस में अभिनय कलाओं को अच्छी तरह से संरचित किया है, इसकी रचना है
(A) भवभूति (B) भास
(C) भरतमुनि (D) कालिदास
3. दिसम्बर 22, जिस दिन प्रतिभाशाली श्रीनिवास रामानुजन का जन्म हुआ था, वह दिन इस प्रकार मनाया जाएगा
(A) राष्ट्रीय सदस्य दिवस
(B) राष्ट्रीय गणित दिवस
(C) सांख्यिक गणित दिवस
(D) राष्ट्रीय विज्ञान दिवस
4. माघमास इसका नया नाम है
(A) माली
(B) बाली
(C) बर्मा
(D) भूथान
5. अश्वघोश जो राजा _____ के दरबार में रहता था, उसने बुद्धचरित लिखी।
(A) कनिष्क
(B) बाबर
(C) विक्रमादित्य
(D) अशोक
6. चालुक्य का राजधानी शहर था
(A) श्रीरंगपटना
(B) बदामी
(C) मदुराई
(D) कांचिपुरम्
7. भारत के मूल निवासी थे
(A) सिख
(B) मुगल
(C) द्रविड
(D) इसाई
8. भारतीय विदेश नीति के रचैता थे
(A) महात्मा गांधी
(B) के. एम. मुन्शी
(C) बी. आर. अंबेडकर
(D) पंडित जवाहरलाल नेहरू
9. युएनओ के सुरक्षा परिषद में _____ स्थायी सदस्य होते हैं।
(A) 3
(B) 4
(C) 5
(D) 6
10. भारत में पहली ट्रेन 1853 में बम्बई से यहाँ तक चली
(A) थाने
(B) पूना
(C) नागपुर
(D) अहमदाबाद



11. Which State is called the "Cradle of Buddhism" ?
 (A) Sikkim (B) Bihar
 (C) U. P. (D) M. P.
12. Who is regarded as the pioneer of White Revolution in India ?
 (A) Dhiru Bhai Ambani
 (B) Varghese Kurian
 (C) Swaminathan
 (D) S. K. Birla
13. The Asian Games are organised after every _____ years.
 (A) 5
 (B) 2
 (C) 3
 (D) 4
14. Who writes the line "A thing of beauty is a joy for ever" ?
 (A) P. B. Shelley
 (B) William Wordsworth
 (C) John Keats
 (D) Robert Browning
15. When an object is placed between two mirrors placed parallel to each other, how many images will be formed ?
 (A) 2 (B) 4
 (C) 6 (D) Infinite
16. BJP President Amith Shah named B. S. Yediyurappa-Ex-C.M. of Karnataka as _____ of BJP.
 (A) National General Secretary
 (B) National Vice-President
 (C) Secretary
 (D) Spokesman
17. Prime Minister Modi dedicated warship _____ to the nation and inducted it officially to Naval Force on 16-8-2014.
 (A) INS Kolkata
 (B) INS Mumbai
 (C) INS Kochi
 (D) INS Chennai
18. India's 29th State is
 (A) Andhra Pradesh
 (B) Telangana
 (C) Odisha
 (D) Jarkhand
19. In making the saffron spice, which one of the following parts of the plant is used ?
 (A) Leaf (B) Petal
 (C) Sepal (D) Stigma
20. Mahamastakabhisheka, a great religious event, is associated with and done for
 (A) Bahubali (B) Buddha
 (C) Mahavir (D) Nataraja



11. कौनसे राज्य को "बुद्ध धर्म का उद्गम" कहते हैं ?
 (A) सिक्किम (B) बिहार
 (C) यू.पी. (D) एम्.पी.
12. भारत की श्वेत क्रांति के लिए किसे अग्रेसर माना जाता है ?
 (A) धिरू भाई अंबानी
 (B) वर्गिज़ कुरियन
 (C) स्वामिनाथन
 (D) एस. के. बिला
13. एशियन खेल हर _____ वर्ष बाद आयोजित किये जाते हैं।
 (A) 5
 (B) 2
 (C) 3
 (D) 4
14. "ए थिंग ऑफ ब्यूटी इज़ ए जॉय फॉर एवर" यह पंक्ति किसकी है ?
 (A) पी. बी. शेली
 (B) विलियम वर्डस्वर्थ
 (C) जॉन किट्स
 (D) रॉबर्ट ब्राउनिंग
15. जब दो समांतर शीशों के सामने एक वस्तु रखी जाती है, तो उसके कितने प्रतिबिंब उत्पन्न होंगे ?
 (A) 2
 (B) 4
 (C) 6
 (D) अनंत
16. बीजेपी के अध्यक्ष अमित शाह ने कर्नाटक के पूर्व मुख्यमंत्री बी. एस. एडियूरप्पा को बीजेपी का _____ नियुक्त किया।
 (A) राष्ट्रीय महासचिव
 (B) राष्ट्रीय उपाध्यक्ष
 (C) सचिव
 (D) प्रवक्ता
17. प्रधानमंत्री मोदी ने 16-8-2014 के दिन युद्ध नौका _____ देश को समर्पित की और उसे नौ सेना में औपचारिक रूप से भरती किया।
 (A) आईएनएस कोलकता
 (B) आईएनएस मुंबई
 (C) आईएनएस कोचि
 (D) आईएनएस चेन्नई
18. भारत का 29वां राज्य है
 (A) आंध्रप्रदेश (B) तेलंगाना
 (C) ओडिशा (D) झारखंड
19. केसर मसाला बनाते वक्त पौधे का निम्न में से कौनसा हिस्सा उपयोग करते हैं ?
 (A) पत्ता (B) पंखुड़ी
 (C) बाह्यदल (D) वर्तिकाग्र
20. महामस्तकाभिषेक जो एक बड़ी धार्मिक घटना है, इससे सम्बन्धित है और इसके लिए किया जाता है
 (A) बाहुबली
 (B) बुद्ध
 (C) महावीर
 (D) नटराज

A*

-7-



ii) General Intelligence and Reasoning Ability

21. If X and Y are brothers, Z is sister of X, P is brother of Q, Q is daughter of Y, how is X related to P ?
- (A) Father
(B) Uncle
(C) Brother
(D) Grandfather
22. Let a number with three digits has for its middle digit the sum of the other two digits. Then it is a multiple of
- (A) 11
(B) 10
(C) 18
(D) 50
23. A man is facing South. He turns 135° in the anticlockwise direction and then 180° in the clockwise direction. The direction he is facing now is
- (A) North-East
(B) North-West
(C) South-East
(D) South-West
24. Mangala is taller than Neela but as tall as Pushpa. Asha is taller than Sapna but not so tall as Neela. In this group who is the shortest ?
- (A) Mangala
(B) Sapna
(C) Pushpa
(D) Asha
25. The average score of three boys in Mathematics is 30. When the score of a fourth boy is added to the total score of the three boys, the average is lowered to 25. What is the score of the fourth boy ?
- (A) 15
(B) 10
(C) 20
(D) 25
26. If $3A = 5B$ and $3B = 4C$, $A : B : C = ?$
- (A) 12 : 9 : 20
(B) 12 : 20 : 9
(C) 20 : 12 : 9
(D) 9 : 20 : 12

A*

-8-

ii) सामान्य बुद्धिमत्ता तथा तार्किक योग्यता

21. यदि X और Y भाई हैं, Z यह X की बहन है, P यह Q का भाई है, Q यह Y की बेटा है तो, X का P से क्या नाता है ?

- (A) पिता
- (B) चाचा
- (C) भाई
- (D) दादा

22. एक तीन अंकवालों संख्या में बीचवाला अंक दूसरे दो अंकों के जोड़ के बराबर है। तो वह इतनी गुणा है

- (A) 11
- (B) 10
- (C) 18
- (D) 50

23. एक आदमी दक्षिण की ओर अभिमुख है। वह वामावर्त दिशा में 135° घूमता है और फिर 180° दक्षिणावर्त घूमता है। अब वह जिस दिशा से अभिमुख है, वह है

- (A) उत्तर-पूर्व
- (B) उत्तर-पश्चिम
- (C) दक्षिण-पूर्व
- (D) दक्षिण-पश्चिम

24. मंगला नीलू से ऊँची है लेकिन पुष्पा जितनी ही ऊँची है। आशा सपना से ऊँची है लेकिन नीला जितनी ऊँची नहीं है। इस समूह में सबसे नाटी कौन है ?

- (A) मंगला
- (B) सपना
- (C) पुष्पा
- (D) आशा

25. गणित में 3 लड़कों के औसत अंक 30 है। जब चौथे लड़के के अंक तीन लड़कों के कुल अंकों में मिलाये जाते हैं, तब औसत 25 तक कम हो जाता है। चौथे लड़के के अंक कितने थे ?

- (A) 15
- (B) 10
- (C) 20
- (D) 25

26. यदि $3A = 5B$ और $3B = 4C$ है, तो $A : B : C = ?$

- (A) 12 : 9 : 20
- (B) 12 : 20 : 9
- (C) 20 : 12 : 9
- (D) 9 : 20 : 12



27. The sum of the incomes of A and B is more than that of C and D taken together. The sum of the incomes of A and C is the same as that of B and D taken together. Moreover, A earns half as much as the sum of the incomes of B and D. The highest income is of
- (A) A
(B) B
(C) C
(D) D
28. A man walks 10 m to the North, again turning to right he walks 10 m then turning to left he walks 5 m, again turning to left he walks 15 m and again turning to left he walks 15 m. What is his distance from the starting point ?
- (A) 10 m
(B) 15 m
(C) 5 m
(D) 50 m
29. Find the next number in the series : 1, 2, 4, 7, 11, 16, 22, ?
- (A) 29
(B) 28
(C) 30
(D) 27
30. A basket contains different coloured flowers. Colour of all but 6 is rose, colour of all but 6 is red, colour of all but 6 is white. What is the total number of flowers in the basket ?
- (A) 6
(B) 12
(C) 18
(D) 9
31. If all the numbers from 501 to 599 are written, what is the total number of times does the digit 6 appear ?
- (A) 11
(B) 12
(C) 20
(D) None of these
32. A person has to completely put each of three liquids 21 litres of petrol, 35 litres of diesel and 42 litres of kerosine oil in bottles of equal size without mixing any of the above three types of liquids such that each bottle is properly filled. What is the least possible number of bottles required ?
- (A) 14
(B) 25
(C) 13
(D) 26

27. A और B की आमदनी का जोड़ C और D की कुल आमदनी से अधिक है। A और C की आमदनी का जोड़ B और D की आमदनी के जोड़ के बराबर है। इसके अतिरिक्त A यह B और D की आमदनी के आधा कमाता है। सबसे अधिक आमदनी इसकी है

- (A) A
(B) B
(C) C
(D) D

28. A आदमी उत्तर को ओर 10 मी. चलता है, फिर दाहिनी ओर घूमकर वह 10 मी. चलता है फिर बायीं ओर घूमकर 5 मी. चलता है, फिर बायीं ओर घूमकर 15 मी. चलता है और फिर बायीं ओर घूमते हुए 15 मी. चलता है। आरंभिक बिन्दु से अब वह कितनी दूरी पर है ?

- (A) 10 मी.
(B) 15 मी.
(C) 5 मी.
(D) 50 मी.

29. शृंखला की अगली संख्या पता कीजिए :

1, 2, 4, 7, 11, 16, 22, ?

- (A) 29
(B) 28
(C) 30
(D) 27

30. एक टोकरी में विभिन्न रंगों के फूल हैं। छह को छोड़ सभी गुलाबी रंग के हैं, छह को छोड़ सभी लाल रंग के हैं, छह को छोड़ सभी का रंग सफ़ेद है। उस टोकरी में कितने फूल हैं ?

- (A) 6
(B) 12
(C) 18
(D) 9

31. यदि 501 से 599 संख्याएँ लिखी जाती हैं तो कितनी बार 6 का अंक दिखाई देगा ?

- (A) 11
(B) 12
(C) 20
(D) इनमें से कोई नहीं

32. एक व्यक्ति को 21 लीटर पेट्रोल, 35 लीटर डिज़ल और 42 लीटर मिट्टी का तेल, इन तीनों प्रकार के द्रावण को न मिलाते हुए, एक समान परिमाण वाले बोतलों में हर एक बोतल सही तरह से भर कर दिखाना है। न्यूनतम कितनी बोतलें इसके लिए मंगानी पड़ेगी ?

- (A) 14
(B) 25
(C) 13
(D) 26

A*



33. Find the missing item in the following series from the alternatives provided.

4, 7, 11, 18, 29, 47, ?, 123, 199

- (A) 87
- (B) 71
- (C) 76
- (D) 82

34. PRINCE : ECNIRP :: ACTIVE : ?

- (A) EVITAC
- (B) EVITCA
- (C) VEITCA
- (D) EVTICA

35. If '-' means '+', 'x' means '+', '+' means 'x' and '-' means '-', what is the value of $20 - 5 \times 4 + 3 \div 16 = ?$

- (A) 16
- (B) 63
- (C) 12
- (D) 0

36. Find the word which cannot be made from the letters of the given word :
CREATIONS

- (A) ACTION
- (B) REASON
- (C) ARSON
- (D) SEPARATE

37. In a certain code, 'nil tin sea' means 'how are you', 'elb nil sea' means 'where are you'. What is the code for 'how' ?

- (A) sea
- (B) elb
- (C) nil
- (D) tin

Directions (Qs. 38 to 40) : Choose the alternative which does not belong to the group to which the other three belong.

38. (A) Arjuna
(B) Bheema
(C) Sahadeva
(D) Duryodhana

39. (A) 20
(B) 19
(C) 18
(D) 16

40. (A) Chlorine
(B) Oxygen
(C) Iron
(D) Hydrogen



33. निम्न शृंखला में, दिये गये विकल्पों में से लापता संख्या पता कीजिए :
- 4, 7, 11, 18, 29, 47, ?, 123, 199
- (A) 87
(B) 71
(C) 76
(D) 82
34. PRINCE : EGNIRP :: ACTIVE : ?
- (A) EVITAC
(B) EVITCA
(C) VEITCA
(D) EVTICA
35. यदि '-' का मतलब है '+', 'x' का मतलब है '+', '+' का मतलब है 'x' और '+' का मतलब है '-', तो $20 - 5 \times 4 + 3 \div 16$ का मूल्य है
- (A) 16
(B) 63
(C) 12
(D) 0
36. 'CREATIONS' शब्द के अक्षरों से न बनने वाला शब्द पता कीजिए :
- (A) ACTION
(B) REASON
(C) ARSON
(D) SEPARATE
37. एक निश्चित कूट में, 'निल टिन सी' का मतलब होता है, 'हाऊ आर यू' और 'इल्ब निल सी' का मतलब होता है, 'वेयर आर यू'। 'हाऊ' के लिए क्या कूट है ?
- (A) सी
(B) इल्ब
(C) निल
(D) टिन
- निर्देश (प्र. क्र. 38 से 40) : ऐसा विकल्प चुनिए जो और तीनवालों के समूह से सम्बन्धित नहीं है।
38. (A) अर्जुन
(B) भीम
(C) सहदेव
(D) दुर्योधन
39. (A) 20
(B) 19
(C) 18
(D) 16
40. (A) क्लोरिन
(B) ऑक्सिजन
(C) लोहा
(D) हायड्रोजन

A+



iii) Arithmetical and Numerical Ability

41. $\frac{7 \times 21 + 3 + 3}{8 \div 4 \times 2} = ?$

- (A) 13
(B) 17
(C) 31
(D) 1

42. $72 \div (3)^2 + (2)^2 = ?$

- (A) 1
(B) 6
(C) 0
(D) 12

43. Which of the following has the fractions in ascending order ?

(A) $\frac{19}{21}, \frac{14}{15}, \frac{23}{25}$

(B) $\frac{19}{21}, \frac{23}{25}, \frac{14}{15}$

(C) $\frac{14}{15}, \frac{23}{25}, \frac{19}{21}$

(D) $\frac{23}{25}, \frac{14}{15}, \frac{19}{21}$

44. Which of the following has the surds in descending order ?

(A) $\sqrt[3]{15}, \sqrt{6}, \sqrt[3]{200}$

(B) $\sqrt[3]{200}, \sqrt{6}, \sqrt[3]{15}$

(C) $\sqrt{6}, \sqrt[3]{15}, \sqrt[3]{200}$

(D) $\sqrt[3]{15}, \sqrt[3]{200}, \sqrt{6}$

45. When a pen is sold for ₹ 5, there is a profit of ₹ 2. If the same pen is sold for ₹ 10, what will be the profit ?

- (A) ₹ 4
(B) ₹ 6
(C) ₹ 7
(D) ₹ 5

46. A tangent is drawn from an external point to a circle of radius 5 cm. If that point is at a distance of 13 cm from the centre of the circle, what is the length of the tangent ?

- (A) 10 cm
(B) 12 cm
(C) 8 cm
(D) None of these

47. Find the fraction equivalent to $37\frac{1}{2}\%$.

(A) $\frac{1}{8}$

(B) $\frac{5}{8}$

(C) $\frac{7}{8}$

(D) $\frac{3}{8}$



III) अंकगणितीय एवं संख्यात्मक योग्यता

41. $\frac{7 \times 21 + 3 + 3}{8 + 4 \times 2} = ?$

- (A) 13
(B) 17
(C) 31
(D) 1

42. $72 \div (3)^2 + (2)^2 = ?$

- (A) 1
(B) 6
(C) 0
(D) 12

43. निम्न में किसमें भिन्न आरोही क्रम में हैं ?

(A) $\frac{19}{21}, \frac{14}{15}, \frac{23}{25}$

(B) $\frac{19}{21}, \frac{23}{25}, \frac{14}{15}$

(C) $\frac{14}{15}, \frac{23}{25}, \frac{19}{21}$

(D) $\frac{23}{25}, \frac{14}{15}, \frac{19}{21}$

44. निम्न में किसमें करणी अवरोही क्रम में हैं ?

(A) $\sqrt[3]{15}, \sqrt{6}, \sqrt[5]{200}$

(B) $\sqrt[5]{200}, \sqrt{6}, \sqrt[3]{15}$

(C) $\sqrt{6}, \sqrt[3]{15}, \sqrt[5]{200}$

(D) $\sqrt[3]{15}, \sqrt[5]{200}, \sqrt{6}$

45. जब एक पेन ₹ 5 में बेचा जाता है, तब ₹ 2 का मुनाफ़ा होता है। यदि वही पेन ₹ 10 में बेचा जाता है, तब कितना मुनाफ़ा होगा ?

- (A) ₹ 4
(B) ₹ 6
(C) ₹ 7
(D) ₹ 5

46. 5 सें.मी. त्रिज्यावाले वर्तुल के बाहरी बिन्दु से एक स्पर्शज्या खिंची जाती है। यदि वह बिन्दु वर्तुल के केन्द्र से 13 सें.मी. दूरी पर है, तो उस स्पर्शज्या की लम्बाई कितनी है ?

- (A) 10 सें.मी.
(B) 12 सें.मी.
(C) 8 सें.मी.
(D) इनमें से कोई नहीं

47. $37\frac{1}{2}\%$ के समान भिन्न पता कीजिए।

(A) $\frac{1}{8}$

(B) $\frac{5}{8}$

(C) $\frac{7}{8}$

(D) $\frac{3}{8}$



48. If $\log 8 = 0.9031$, $\log 8000 = ?$
- (A) $\bar{1}.9031$
 (B) 3.9031
 (C) 1.9031
 (D) 0.9031
49. What are the elements of the secondary diagonal of the matrix
- $$M = \begin{bmatrix} 1 & 4 & 7 \\ 2 & 5 & 8 \\ 3 & 6 & 9 \end{bmatrix} ?$$
- (A) 7, 5, 3
 (B) 1, 5, 9
 (C) 4, 5, 6
 (D) 2, 5, 8
50. 'O' is the circum centre of the ΔABC .
 If $\angle BOC = 130^\circ$ find $\angle BAC$.
- (A) 50°
 (B) 55°
 (C) 60°
 (D) 65°
51. The area of a Δ is 8 sq. cm. If the base is 5 cm, find its height.
- (A) 1.6 cm
 (B) 3.2 cm
 (C) 6.4 cm
 (D) 4 cm
52. The ratio between the volumes of two spheres is 27 : 8. What is the ratio between their surface areas ?
- (A) 9 : 4
 (B) 6 : 4
 (C) 3 : 2
 (D) None of these
53. How many diagonals can be drawn in a decagon ?
- (A) 45
 (B) 40
 (C) 35
 (D) 30
54. The Geometric mean between 7 and 28 is
- (A) 11
 (B) 12
 (C) 13
 (D) 14
55. A person casts two fair dice once. What is the probability that the total of the numbers on the two faces will be five ?
- (A) $\frac{2}{3}$
 (B) $\frac{1}{9}$
 (C) $\frac{1}{3}$
 (D) $\frac{4}{9}$

A*



48. यदि $\log 8 = 0.9031$ है तो, $\log 8000 = ?$

- (A) $\bar{1}.9031$
(B) 3.9031
(C) 1.9031
(D) 0.9031

49. मैट्रिक्स के उप-विकर्ण घटक क्या है

$$M = \begin{bmatrix} 1 & 4 & 7 \\ 2 & 5 & 8 \\ 3 & 6 & 9 \end{bmatrix} ?$$

- (A) 7, 5, 3
(B) 1, 5, 9
(C) 4, 5, 6
(D) 2, 5, 8

50. ΔABC का 'O' यह परिकेन्द्र है। यदि $\angle BOC = 130^\circ$ है तो $\angle BAC$ पता कीजिए।

- (A) 50°
(B) 55°
(C) 60°
(D) 65°

51. एक Δ का क्षेत्रफल 8 वर्ग मी. है। यदि उसका तल 5 सें. मी. है तो, उसकी ऊँचाई पता लगाईए।

- (A) 1.6 सें.मी.
(B) 3.2 सें.मी.
(C) 6.4 सें.मी.
(D) 4 सें.मी.

52. दो वृत्तों के घनफलों का अनुपात 27 : 8 है। उनके सतह क्षेत्रफल के बीच का अनुपात क्या होगा ?

- (A) 9 : 4
(B) 6 : 4
(C) 3 : 2
(D) इनमें से कोई नहीं

53. एक दशमुख में कितने विकर्ण खिंचे जा सकते हैं ?

- (A) 45
(B) 40
(C) 35
(D) 30

54. 7 और 28 के बीच का ज्यामितिक माध्य है

- (A) 11
(B) 12
(C) 13
(D) 14

55. एक व्यक्ति दो पाँसे एक बार उछालता है। क्या संभावना है कि दो फलकों की संख्याओं का जोड़ 5 होगा ?

- (A) $\frac{2}{3}$
(B) $\frac{1}{9}$
(C) $\frac{1}{3}$
(D) $\frac{4}{9}$



56. If ${}^nC_2 = {}^nC_5$, find 'n'.
- (A) $n = 2$
 (B) $n = 5$
 (C) $n = 6$
 (D) $n = 7$
57. What sum of money should be invested in a 5 years time deposit account to obtain an interest of ₹ 250 per annum? (Rate of interest is 10%)
- (A) ₹ 2,500
 (B) ₹ 25,000
 (C) ₹ 12,500
 (D) ₹ 20,000
58. How much should a man invest in ₹ 50 shares selling at ₹ 60 to obtain an annual income of ₹ 900 if the dividend declared is 15%?
- (A) ₹ 9,000
 (B) ₹ 7,500
 (C) ₹ 7,200
 (D) None of these
59. 30 workers, by working 8 hours a day require 12 days to complete a piece of work. How many days do 24 workers take by working 6 hours a day to complete the same piece of work?
- (A) 20
 (B) 22
 (C) 21
 (D) 18
60. In a class of 50 students, all the students study Science and Mathematics. In the examination 40 have passed in Science and 34 have passed in Mathematics. Naturally some have passed in both Science and Maths. How many students have passed in Science only?
- (A) 24
 (B) 16
 (C) 10
 (D) None of these



56. यदि ${}^nC_2 = {}^nC_5$ है तो, 'n' है

- (A) $n = 2$
(B) $n = 5$
(C) $n = 6$
(D) $n = 7$

57. कितनी राशि 5 वर्ष सावधि जमा में निवेश करनी होगी जिस पर प्रति वर्ष ₹ 250 ब्याज मिल सकता है ? (ब्याज दर है 10%)

- (A) ₹ 2,500
(B) ₹ 25,000
(C) ₹ 12,500
(D) ₹ 20,000

58. एक ₹ 50 वाला शेर जो ₹ 60 पर बेचा जाता है, कितने निवेश करने पर सालाना आमदनी ₹ 900 होगी यदि घोषित लाभांश दर 15% है ?

- (A) ₹ 9,000
(B) ₹ 7,500
(C) ₹ 7,200
(D) इनमें से कोई नहीं

59. 30 मज़दूर प्रति दिन 8 घंटा करने से एक काम 12 दिनों में पूरा करते हैं। वही काम 24 मज़दूर प्रति दिन 6 घंटा काम करते हुए कितने दिनों में पूर्ण करेंगे ?

- (A) 20
(B) 22
(C) 21
(D) 18

60. एक 50 विद्यार्थियों के क्लास में सभी विद्यार्थी विज्ञान और गणित का अध्ययन करते हैं। परीक्षा में 40 विज्ञान में और 34 गणित विषय में पास हुए हैं। स्वाभाविक है कि कुछ विद्यार्थी विज्ञान और गणित दोनों में पास हुए थे। केवल विज्ञान में कितने विद्यार्थी पास हुए थे ?

- (A) 24
(B) 16
(C) 10
(D) इनमें से कोई नहीं

A*



iv) Test of Language : Hindi
भाषा परीक्षण : हिन्दी

61. 'बकरी' शब्द का पुल्लिंग रूप लिखिये।

- (A) भेड
- (B) नरबकरिया
- (C) बकरियां
- (D) बकरा

62. ठीक सर्वनाम को चुनकर खाली जगह भरिये।
_____ हमेशा सच बोलिये।

- (A) तू
- (B) तुम
- (C) आप
- (D) हम

63. व्याकरण शुद्ध वाक्य चुनकर लिखिये।

- (A) मेरी लडकी का नाम गीता है
- (B) मेरी लडकी नाम गीता है
- (C) मेरी लडको नाम गीता है
- (D) मेरी लडकी के नाम गीता है

64. विजातीय शब्द को चुनकर लिखिये।

- (A) काफी
- (B) चाय
- (C) दूध
- (D) भात

65. माता शब्द का बहुवचन रूप

- (A) माताएँ
- (B) माते
- (C) मातो
- (D) मातावों

66. ठीक विभक्ति प्रत्यय से खाली जगह भरिये।
मोहन _____ बहन सरला है।

- (A) का
- (B) के
- (C) की
- (D) को

67. बेटा शब्द का स्त्रीलिंग

- (A) बेटे
- (B) बेटी
- (C) बेटो
- (D) बेटियाँ

68. 'बाघ' का स्त्रीलिंग

- (A) बाघिन
- (B) बाघीन
- (C) बघाइन
- (D) भगिनी

69. दोस्त का विरुद्धार्थक शब्द लिखिये।

- (A) शत्रुत्व
- (B) दोस्ती
- (C) मित्र
- (D) दुश्मन

70. 'हिम्मत हारना' इस पद का अर्थ है

- (A) अधीर होना
- (B) खुश होना
- (C) खामोश होना
- (D) रोते बैठना

71. 'बुरा' इसका भाववाचक संज्ञा रूप है

- (A) बुराई
- (B) बुरापन
- (C) बुरापा
- (D) बुराईपन

72. 'छोटा' शब्द का भाववाचक संज्ञा रूप है

- (A) छोटी
- (B) छुटपन
- (C) छोटापन
- (D) छोटापा

73. इनमें सही अक्षर विन्यास का शब्द है

- (A) अध्यापक
- (B) अद्यापक
- (C) अदयापक
- (D) अद्यापका

74. फूल का समानार्थक पद

- (A) घास
- (B) पुस्तक
- (C) पुष्प
- (D) कलम

75 से 79 : नीचे लिखे निबंध को पढ़कर दिये गये प्रश्नों का उत्तर दीजिये।

कन्नड साहित्य के इतिहास में कवि मुद्दण का नाम गर्व के साथ लिया जा सकता है। उसका (आपका) असली नाम लक्ष्मीनारायण था। उसने मंगलूर जिले के नंदलिके में पैदा हुआ था। बचपन में आप अपनी माता के साथ पुराण और कीर्तन सुनने जाते थे। यक्षगान देखने में आपको बड़ा आनंद था।



आप यक्षगान में अभिनय करते थे। यक्षगान लिखने भी लगे। उडुपि के एक हायस्कूल में आप व्यायाम शिक्षक का काम करने लगे। स्वाध्याय से आपने संस्कृत साहित्य में पांडित्य पाया। श्रीरामाश्वमेध, अद्भुत रामायण, कुमार विजय आदि आपकी रचनाएँ हैं। कवि मुद्दण का पत्नी का नाम 'मनोरमा' था। घरकी गरीबी के कारण ये श्रेष्ठ कवि अपनी 31 उम्र में क्षयरोग से स्वर्ग सिधारे।

75. कवि मुद्दण का असली नाम _____ था।

- (A) नारायण
- (B) लक्ष्मण
- (C) लक्ष्मीनारायण
- (D) लक्ष्मण

76. कवि मुद्दण _____ गाँव में पैदा हुए थे।

- (A) नंदलिके
- (B) नलंद
- (C) नंदलिखे
- (D) उडुपि

77. कवि मुद्दण एक हायस्कूल में _____ का शिक्षक का काम करने लगे।

- (A) कन्नड भाषा
- (B) व्यायाम
- (C) संस्कृत भाषा
- (D) अंग्रेजी भाषा

78. कवि मुद्दण की पत्नी का नाम _____ था।

- (A) मनोरमा
- (B) अनसुय
- (C) रमा
- (D) मीना

79. कवि मुद्दण की रचना _____ है।

- (A) कुमारव्यास भारत
- (B) महाभारत
- (C) श्रीरामाश्वमेध
- (D) वाल्मीकि रामायण

80. इनमें व्याकरण शुद्ध वाक्य है

- (A) मैंने किताब पढी
- (B) मैं किताब पढा
- (C) मैं किताब पढे
- (D) मैंने किताब पढता है



v) Test of Language : English
भाषा परीक्षण : अंग्रेजी

Directions (Qs. 81 to 85) : In the following passage there are blanks, each of which have been numbered. These numbers are printed below the passage and against each four words are suggested, one of which fits the blank appropriately. Find out the appropriate words.

There is one great disadvantage to the village **81** John lives. A main road runs right **82** it. This road carries lot of traffic and **83** at night the noise of it does not altogether stop. In fact, some people in the village complain that they were often **84** to sleep because of the roar of the trucks. John is **85** than some of the villagers as he does not live on the main road.

81. (A) by
(B) from
(C) where
(D) that

82. (A) at
(B) through
(C) for
(D) from

83. (A) even
(B) their
(C) from
(D) into
84. (A) possible
(B) unable
(C) put
(D) do
85. (A) harder
(B) nicer
(C) narrower
(D) luckier

Directions (Qs. 86 to 89) : Read the passage carefully and answer these questions on the basis of this by choosing the appropriate alternative.

So wonderfully is the airplane shaped that in flight it will largely take care of itself. It always does the right thing, whatever is necessary to keep itself flying. Many people think that piloting is a balancing stunt, much like walking tight rope. Actually the art of piloting consists of about nine-tenth of doing nothing and trusting the airplane. Many people think that on the slightest lapse of the pilot's attention an airplane will go into a spin. Actually a stall or spin is brought on only by heavy misuse of the controls.

A*



86. The most important factor that gives an airplane stability is its
- (A) pilot
(B) shape
(C) propeller
(D) colour
87. When a plane stalls or spins the pilot should
- (A) do nothing
(B) prepare to eject
(C) restore all controls to their normal positions
(D) call for help
88. A stall or spin is brought on actually
- (A) only by pilots attention
(B) by trusting the people
(C) by walking tight rope
(D) by heavy misuse of the controls
89. 'Stall' here means
- (A) loss of direction
(B) loss of air
(C) loss of weight
(D) stoppage of engines

Directions (Qs. 90 to 94) : In these questions, some parts of the sentences have errors and some have none. Find out which part of a sentence A), B), C) has an error. If a sentence is free from error choose D) as your answer.

90. No sooner (A)/had we set out (B)/when a thunder storm occurred (C)/
No error (D)
91. The teacher (A)/said the class to open (B)/their books at page 40 (C)/
No error (D)
92. Neither the USA nor the UK (A)/are the largest democracy (B)/in the twentieth century (C)/.
No error (D)
93. Twelve inches (A)/makes (B)/a foot (C)/
No error (D)
94. Speculation is still rife (A)/as to (B)/whom will captain the Indian team (C)/
No error (D)

95. Out of the four alternatives choose the one which can be substituted for the given words/sentence.

One who doesn't know how to read and write.

- (A) literate
- (B) illegible
- (C) illiterate
- (D) illegal

96. Given sentence is in Active Voice. Select the alternative which best expresses the same in Passive Voice.

Hamlet was written by Shakespeare.

- (A) Shakespeare had written Hamlet
- (B) Shakespeare wrote Hamlet
- (C) Shakespeare writes Hamlet
- (D) Shakespeare has written Hamlet

97. Name the part of speech of the underlined word in the following sentence.

So it happened.

- (A) Noun
- (B) Pronoun
- (C) Adjective
- (D) Verb

98. Choose the word that is most nearly the same in meaning to the given word :

'Feeble'

- (A) fierce
- (B) frail
- (C) feasible
- (D) feed

99. Choose the word that is most opposite in meaning to the given word :

'Awake'

- (A) Casual
- (B) Careful
- (C) Asleep
- (D) Appear

100. Choose the misspelt alternative.

- (A) devide
- (B) destroy
- (C) develop
- (D) deviate

SECTION – B
Post Specific Subject-Related Questions

101. The first thing that primitive man learnt was
- (A) To make a wheel
(B) To domesticate animals
(C) To lead a settled life
(D) To make fire
102. Men of the modern type – "Homo Sapiens" appeared in the
- (A) Mesolithic period
(B) Upper Palaeolithic period
(C) Middle Palaeolithic period
(D) Lower Palaeolithic period
103. The Palaeolithic man lived on
1. Hunting
 2. Fishing
 3. Cultivation
 4. Food-gathering
- Choose the correct answer group :
- (A) 1, 2, 3
(B) 1, 2, 4
(C) 2, 3, 4
(D) 1, 3, 4
104. Rober Bruce Foote discovered Palaeolithic stone tool in
- (A) 1857 (B) 1862
(C) 1863 (D) 1821
105. Match the following :
- | | |
|---------------------|-------------------------|
| a. Palaeolithic age | 1. Stone-copper tools |
| b. Mesolithic age | 2. Polished stone tools |
| c. Neolithic age | 3. Chipped stone tools |
| d. Chalcolithic age | 4. Microliths |
- Codes :**
- | | a | b | c | d |
|-----|---|---|---|---|
| (A) | 3 | 2 | 4 | 1 |
| (B) | 2 | 3 | 4 | 1 |
| (C) | 2 | 3 | 1 | 4 |
| (D) | 3 | 4 | 2 | 1 |
106. Which of the following is not correctly matched ?
- (A) Mesolithic period – Microlith industry
(B) Palaeolithic period – Wandering life
(C) Neolithic period – Settled life
(D) Chalcolithic period – Food-producing stage

A*



भाग - B

पोस्ट स्पेसिफिक विषय - संबंधी प्रश्न

101. आदि मानव ने पहले यह सीखा

- (A) पहिया बनाना
- (B) जानवरों को पालना
- (C) आबाद जीवन बिताना
- (D) आग उत्पन्न करना

102. आधुनिक प्रकार का मनुष्य - "Homo Sapiens" इस युग में पाया गया

- (A) मध्याश्म युग
- (B) ऊर्ध्व पुराणाश्म युग
- (C) मध्य पुराणाश्म युग
- (D) निम्न पुराणाश्म युग

103. पुराणाश्मी मनुष्य का जीवन निर्वाह इनसे होता था

- 1. शिकार
- 2. मछुवाही
- 3. खेती
- 4. अन्न-संग्रहण

सही उत्तर समूह का चयन कीजिए :

- (A) 1, 2, 3
- (B) 1, 2, 4
- (C) 2, 3, 4
- (D) 1, 3, 4

104. रॉबर्ट ब्रुस फूट ने इस वर्ष पुराणाश्मी पाषाण औजार खोज निकाले

- (A) 1857
- (B) 1862
- (C) 1863
- (D) 1821

105. निम्न जोड़ी बताइये :

- | | |
|-------------------|---------------------------|
| a. पुराणाश्म युग | 1. पाषाण ताम्र के औजार |
| b. मध्याश्म युग | 2. पॉलिशदार पाषाण के औजार |
| c. नवप्रस्तर युग | 3. कटे हुए पाषाण के औजार |
| d. ताम्रपाषाण युग | 4. सूक्ष्मपाषाण |

कोड :

	a	b	c	d
(A)	3	2	4	1
(B)	2	3	4	1
(C)	2	3	1	4
(D)	3	4	2	1

106. निम्न में से कौनसी जोड़ी सही नहीं है ?

- (A) मध्याश्म काल - सूक्ष्मपाषाण उद्योग
- (B) पुराणाश्म काल - भ्रमण जीवन
- (C) नवप्रस्त काल - आबाद जीवन
- (D) ताम्रपाषाण काल - अन्न उत्पादन अवस्था



Directions : The following questions consists of two statements one labelled as Assertion (A) and the other as Reason (R). You have to examine these two statements carefully and decide if the Assertion (A) and the Reason (R) are individually true and if so, whether the Reason is a correct explanation of the Assertion. Select your answer to these items using the code given below :

- (A) Both (A) and (R) are true and (R) is the correct explanation of (A)
- (B) Both (A) and (R) are true but (R) is not the correct explanation of (A)
- (C) (A) is true but (R) is false
- (D) (A) is false but (R) is true
107. **Assertion (A) :** The Himalayas are responsible for making the Indo-gangetic plains a vast well watered garden, swarming with population.
- Reason (R) :** This was the reason for Asian nomadism.
108. **Assertion (A) :** In Bronze Age the urbanisation took place.
- Reason (R) :** The disparity between the rich and poor grew.
109. **Assertion (A) :** Ahar practically did not use microlithic tools, stone axes or blades but copper objects.
- Reason (R) :** Art of smelting and metallurgy was known to the people of Ahar from the very beginning as copper was locally available.
110. **Assertion (A) :** The Indus people did not use metal money.
- Reason (R) :** They did not have the technology to make metallic coins.
111. **Assertion (A) :** The Indus people worshipped Mother Goddess.
- Reason (R) :** Excavations at several Indus sites reveals that Indus people worshipped figures of terracota representing Mother Goddess.
112. In which of the following respects, the various Harappan sites have marked uniformity ?
- (A) Agricultural practices
- (B) Crafts
- (C) Town planning
- (D) Seals
113. The largest number of Harappan sites in post independence India have been discovered in
- (A) Gujarat
- (B) Punjab and Haryana
- (C) Rajasthan
- (D) N. W. Uttar Pradesh
114. The metal most widely used by the Indus Valley people was
- (A) Copper
- (B) Bronze
- (C) Gold and Silver
- (D) Tin

A*

-28-



निर्देश : निम्न प्रश्नों में दो कथन दिये गये हैं, एक को दावा (A) से अंकित किया गया है और दूसरे को कारण (R)। आपको यह दो कथन ध्यानपूर्वक जाँचने हैं और तय करना है कि, दावा (A) और कारण (R) व्यक्तिगत रूप से सही है और यदि हैं तो कारण में दिया गया स्पष्टीकरण दावे के लिए सही है। निम्न दिये गये कोड का उपयोग कर, अपना उत्तर चयन कीजिए :

- (A) (A) और (R) दोनों सही हैं और (R) यह (A) का सही स्पष्टीकरण है
- (B) (A) और (R) दोनों सही हैं लेकिन (R) यह (A) का सही स्पष्टीकरण नहीं है
- (C) (A) सही है लेकिन (R) गलत है
- (D) (A) गलत है लेकिन (R) सही है
107. दावा (A) : हिमालय पर्वत माला यह सिंधु-गंगा नदी के पठारों को भीड़ से भरा एक विशाल पानी से सिंचित उद्यान बनाने के लिए जिम्मेवार है।
कारण (R) : एशियाई खानाबदोशी का यही कारण था।
108. दावा (A) : कांस्य युग में नगरीकरण हुआ।
कारण (R) : धनवान और गरीबों के बीच की असमता बढ़ी।
109. दावा (A) : असल में अहर सूक्ष्मपाषाणी औजार, पाषाणी कुल्हाड़ी या धारों का उपयोग नहीं करते थे, लेकिन ताम्र वस्तुओं का करते थे।
कारण (R) : अहर को लोगों को ताम्र के स्थानीय रूप से मिलने से प्रारंभ से ही प्रगलन और धातु कर्म की कला अवगत थी।
110. दावा (A) : इंडज (Indus) लोग धातु मुद्रा का उपयोग नहीं करते थे।
कारण (R) : उनके पास धातवीय सिक्के बनाने की तकनीक नहीं थी।
111. दावा (A) : इंडज लोग देवी माता को पूजते थे।
कारण (R) : इंडज के कई स्थानों के उत्खनन दर्शाते हैं कि, इंडज के लोग देवी माता की मृण्मूर्ति को पूजते थे।
112. निम्न में से किस तरह से हड़प्पा के विभिन्न स्थलों में समानता पाई जाती है ?
(A) कृषि की प्रथा
(B) कारीगरी
(C) नगर आयोजन
(D) मोहर
113. स्वतंत्रता के बाद भारत में हड़प्पा के सबसे अधिक स्थल यहाँ खोजे गये
(A) गुजरात
(B) पंजाब और हरियाणा
(C) राजस्थान
(D) उ. प. उत्तर प्रदेश
114. इंडज घाटी लोगों के द्वारा अत्यधिक उपयोग में लाया गया धातु था
(A) तांबा
(B) काँसा
(C) सोना और चांदी
(D) टिन

115. Who worked on the decipherment of the Indus Script ?
 (A) I. Mahadevan
 (B) H. D. Sankalia
 (C) V. D. Smith
 (D) B. B. Lal
116. Which of the following was not a contemporary of the Indus or Harappan Civilization ?
 (A) Egypt
 (B) Mesopotamia
 (C) Sumer
 (D) Greek
117. One aspect of the Harappan life which formed the basis of the Harappan system, but about which very little or nothing is known as
 (A) Rural life
 (B) Cattle breeding
 (C) Transport and communication
 (D) Demographic patterns
118. Who of the following suggested that Aryans originally lived in Central Asia ?
 (A) Prof. Macdonell
 (B) Bradenstein
 (C) Max Muller
 (D) Sir William Jones
119. The Battle of Ten Kings was fought on the bank of
 (A) Sutlej (B) Jhelum
 (C) Sindhu (D) Ravi
120. 'Askini' is the ancient name of which river ?
 (A) Saraswati
 (B) Beas
 (C) Chenab
 (D) Ghaggar
121. Which of the following Vedas is the oldest ?
 (A) Rig Veda
 (B) Sama Veda
 (C) Yajur Veda
 (D) Atharva Veda
122. Match the following :
- | Vedanga | Subject |
|--------------|------------------|
| a. Kalpa | 1. etymology |
| b. Nirukta | 2. grammar |
| c. Vyakarana | 3. ritual |
| d. Siksha | 4. pronunciation |
- Codes :
- | | a | b | c | d |
|-----|---|---|---|---|
| (A) | 2 | 3 | 1 | 4 |
| (B) | 1 | 2 | 3 | 4 |
| (C) | 4 | 3 | 2 | 1 |
| (D) | 3 | 4 | 1 | 2 |

A*

-30-

115. इंड्रज लिपि का अर्थ निकालने का काम किसने किया ?
 (A) आई. महादेवन
 (B) एच. डी. संकलिया
 (C) वी. डी. स्मीथ
 (D) बी. बी. लाल
116. निम्न में से कौन इंड्रज या हडप्पन सभ्यता के समकालीन नहीं था ?
 (A) इजिप्ट
 (B) मेसोपोटोमिया
 (C) सुमेर
 (D) ग्रीक
117. हडप्पन जीवन का एक पहलु जो हडप्पन व्यवस्था का आधार था, लेकिन जिसके बारे में थोड़ा बहुत या नहीं के बराबर मालूम है
 (A) ग्रामीण जीवन
 (B) पशु पालन
 (C) परिवहन और संचार
 (D) जनसांख्यिक पैटर्न
118. निम्न में से किसने सुझाव दिया कि आर्यों का मूलस्थान मध्य एशिया था ?
 (A) प्रो. मैकडोनाल्ड
 (B) ब्रेंडेनस्टीन
 (C) मैक्स मुलर
 (D) सर विलियम जोन्स
119. 'दस राजाओं की लड़ाई' इस नदी के तट पर लड़ी गई
 (A) सतलज (B) ज़ेलम
 (C) सिन्धु (D) रावी

120. किस नदी का प्राचीन नाम 'अस्कीनी' था ?
 (A) सरस्वति
 (B) चीयास
 (C) चेनाव
 (D) घग्गर
121. निम्न वेदों में से सबसे पुरातन वेद कौनसा है ?
 (A) ऋग वेद
 (B) साम वेद
 (C) यजुर्वेद
 (D) अथर्व वेद

122. निम्न की जोड़ियाँ बनाइये :

वेदांग	विषय
a. कल्प	1. व्युत्पत्ती
b. निस्कृत	2. व्याकरण
c. व्याकरण	3. धर्मविधि
d. शिक्षा	4. उच्चारण

कोड :

	a	b	c	d
(A)	2	3	1	4
(B)	1	2	3	4
(C)	4	3	2	1
(D)	3	4	1	2

A+

-31-



123. The term "Vedanta" is used for which Vedic text ?
 (A) Aranyakas
 (B) Upanishads
 (C) Brahmanas
 (D) Smritis
124. The name "Aghnya" (not to be killed) mentioned in many passages of the Rig Veda applies to
 (A) Priest
 (B) Women
 (C) Cows
 (D) Brahmanas
125. Which Sutra deals with the rules relating to big sacrifices ?
 (A) Dharmasutra
 (B) Grihyasutra
 (C) Srautasutra
 (D) Sulvasutra
126. Match the following :
- | Officer | Function |
|----------------|-------------------------|
| a. Suta | I. Treasurer |
| b. Samgrahitri | II. Carpenter |
| c. Bhagadugha | III. Collector of taxes |
| d. Takshan | IV. Charioteer |
- Codes :
- | | a | b | c | d |
|-----|-----|-----|-----|----|
| (A) | I | III | IV | II |
| (B) | III | II | I | IV |
| (C) | IV | I | III | II |
| (D) | II | IV | III | I |
127. The ploughed land in the vedic period was termed as
 (A) Urvara
 (B) Yava
 (C) Dhanya
 (D) None of the above
128. The four fold division of society is expressly mentioned in
 (A) Yajur Veda
 (B) Satapatha Brahmana
 (C) Hiranyagarbha-sukta
 (D) Purusha-sukta of Rig Veda
129. Prof. Jacobi is of the view that Rig Veda must have been written in
 (A) Before 1000 B.C.
 (B) 2nd Century B.C.
 (C) 1200 B.C.
 (D) Third millennium B.C.
130. In which book the lending of money on interest is condemned ?
 (A) Dharmasutra
 (B) Ritisutra
 (C) Buddhist text
 (D) Jain text
131. According to Puranas who was the founder of the Magadhan dynasty ?
 (A) Bimbisara
 (B) Shishunaga
 (C) Brihadratha
 (D) None of these



123. "वेदांत" शब्द कौनसे वेदिक विषय के लिए उपयोगा जाता है ?
 (A) अरण्यक (B) उपनिषद
 (C) ब्राह्मण (D) स्मृति
124. ऋग वेद के बहुत सारे परिच्छेदों में बताया गया शब्द "अघ्न्य" (जिसे मारा नहीं जाता) इसको लागू होता है
 (A) पुरोहित
 (B) स्त्री
 (C) गाय
 (D) ब्राह्मण
125. बड़े बलिदान से जुड़े नियमों के बारे में कौनसा सूत्र सम्बन्धित है ?
 (A) धर्मसूत्र
 (B) गृह्यसूत्र
 (C) स्तसूत्र
 (D) सुल्चसूत्र
126. निम्न में जोड़ियाँ बनाईए :

अधिकारी	कार्य
a. सूत	I. खजांची
b. संग्रहित्री	II. बड़ई
c. भगदुघ	III. कर संग्राहक
d. तक्षण	IV. सारथी

 कोड :

a	b	c	d
(A) I	III	IV	II
(B) III	II	I	IV
(C) IV	I	III	II
(D) II	IV	III	I
127. जोती हुई जमीन को वेदिक काल में क्या कहा था
 (A) उर्वर
 (B) यव
 (C) धान्य
 (D) इनमें से कोई नहीं
128. समाज के चार प्रकार के भागों को स्पष्ट रूपसे इसमें बनाया गया है
 (A) यजुर्वेद
 (B) सतपथ ब्राह्मण
 (C) हिरण्यगर्भ सुक्त
 (D) ऋग वेद का पुरुष-सुक्त
129. प्रो. जाकोबी का मत है कि ऋग वेद को लिखा गया था
 (A) इ.पू. 1000 के पहले
 (B) इ.पू. 2री सदी
 (C) इ.पू. 1200
 (D) इ.पू. का तीसरा मिलिया
130. किस किताब में ब्याज पर पैसे उधार देने की निन्दा की गई है ?
 (A) धर्मसूत्र (B) रितिसूत्र
 (C) बौद्ध पाठ्य (D) जैन पाठ्य
131. पुराणों के अनुसार मगधन राजवंश का स्थापक कौन था ?
 (A) बिंबिसार
 (B) शिशुनाग
 (C) बृहद्रथ
 (D) इनमें से कोई नहीं



T28F-T28F2828001

JDD-25/PGT-HIST/X-

132. Who was the last ruler of Nanda dynasty, defeated by Chandragupta Maurya ?
- (A) Ugrasena
(B) Dhan Nanda
(C) Das Siddhak
(D) Mahapadmananda
133. Where was the first Jain Council held around the third Century B.C. ?
- (A) Vallabi
(B) Vaishali
(C) Pataliputra
(D) Jimbhikagrama
134. According to the Jaina tradition Neminatha the 22nd Tirthankara was related to
- (A) Krishna
(B) Udayana
(C) Paraswara
(D) Bimbisara
135. The strict followers of Mahavira were known by which name ?
- (A) Digambaras
(B) Svetambaras
(C) Brahmacharya
(D) None of the above
136. Which of the following was the real name of Lord Buddha ?
- (A) Siddhartha
(B) Tathagata
(C) Gautama
(D) Boudhayan
137. The first royal king to patronise Buddhism was
- (A) Bindusara
(B) Chandragupta Maurya
(C) Ashoka
(D) None of the above
138. The Abhidhamma Pitaka was composed in which Council ?
- (A) Kashmir Council
(B) Rajgriha Council
(C) Vaishali Council
(D) Pataliputra Council
139. How is Buddha's first sermon at Saranath described ?
- (A) Dharma Pravartan
(B) Dharma Chakra Pravartan
(C) Dharma Samagam
(D) Madya Samagam
140. Which state was not situated in the South during Ashokan empire ?
- (A) Chola
(B) Pallav
(C) Pandya
(D) All of these
141. Who was Mauryan King who left the throne and became Jaina ?
- (A) Bindusara
(B) Chandragupta Maurya
(C) Dasarath
(D) Kunal

A*

-34-



132. नंद राजवंश का आखिरी शासक कौन था, जिसे चन्द्रगुप्त मौर्य ने पराजित किया ?
(A) उग्रसेन
(B) धन नंद
(C) दास सिद्धक
(D) महापद्मानंद
133. इ.पू. तीसरी सदी के आसपास पहली जैन परिषद् कहाँ आयोजित हुई ?
(A) वल्लबी
(B) वैशाली
(C) पाटलीपुत्र
(D) जृम्भिकाग्राम
134. जैन परम्परा के अनुसार 22 वें तिर्थंकर, नेमिनाथ इसके नाते में थे
(A) कृष्ण
(B) उदयन
(C) पारस्वर
(D) बिंबिसार
135. महावीर के पक्के अनुयायी किस नाम से जाने जाते थे ?
(A) दिगंबर
(B) श्वेतांबर
(C) ब्रह्मचर्य
(D) ऊपरी कोई नहीं
136. भगवान बुद्ध का वास्तविक नाम निम्न में से कौनसा था ?
(A) सिद्धार्थ
(B) तथागत
(C) गौतम
(D) बौधायन
137. बुद्ध धर्म को प्रोत्साहन देने वाला पहला शाही राजा था
(A) बिंदुसार
(B) चंद्रगुप्त मौर्य
(C) अशोक
(D) इनमें से कोई नहीं
138. कौनसी परिषद् में अभिधम्म पितक की रचना हुई ?
(A) कश्मीर परिषद्
(B) राजगृह परिषद्
(C) वैशाली परिषद्
(D) पाटलीपुत्र परिषद्
139. बुद्ध के सारनाथ के पहले प्रवचन को कैसे वर्णित किया जाता है ?
(A) धर्म प्रवर्तन
(B) धर्म चक्र प्रवर्तन
(C) धर्म समागम
(D) मध्य समागम
140. अशोक साम्राज्य में कौनसा राज्य दक्षिण में स्थित नहीं था ?
(A) चोला
(B) पल्लव
(C) पांड्या
(D) यह सभी
141. किस मौर्य राजाने अपना सिंहासन छोड़ा और जैन बना ?
(A) बिंदुसार
(B) चन्द्रगुप्त मौर्य
(C) दशरथ
(D) कुनाल

A*

142. Which of the following statements about Arthashastra is/are correct ?

1. It is a treatise on Mauryan political economy and administration.
2. Its date and authorship is a fully established fact beyond any controversy.
3. It is divided into 15 Adhikarnas.
4. Its evidence is unfortunately not corroborated by any other source.

Select the correct answer from the codes given below :

- (A) 2 and 4
(B) 3 and 4
(C) 1 and 2
(D) All of the above

143. The Mauryan Civil Servants were called by the general name of

- (A) Amatyas
(B) Rajukas
(C) Mahamatras
(D) Lipikaras

144. Mark the correct number of spokes in Dhamma Chakra.

- (A) 20 (B) 32
(C) 30 (D) 24

145. The term "Dharmasthiya" used by Kautilya denoted

- (A) Educational institution
(B) Religious institution
(C) Judicial court
(D) Department of revenue

146. Evidence of Roman trade with South India is available from the excavations at

- (A) Arikamedu and Alagangulam
(B) Arikamedu and Kanyakumari
(C) Kanyakumari and Kodungallur
(D) Alagangulam, Arikamedu and Kodungallur

147. Match the following authors with their literary works.

- a. Ashwaghosha 1. Gathasapthasati
b. Patanjali 2. Sariputraprakarana
c. Hala 3. Mahabhashya
d. Bhasa 4. Swapnavasavadatta

Codes :

- | | a | b | c | d |
|-----|---|---|---|---|
| (A) | 1 | 2 | 3 | 4 |
| (B) | 2 | 1 | 3 | 4 |
| (C) | 3 | 2 | 1 | 4 |
| (D) | 2 | 3 | 1 | 4 |

148. The first epigraphic reference of committing Sati (of A.D. 510) has been found from

- (A) Erau (M.P.)
(B) Prayaga (U.P.)
(C) Bhitai (U.P.)
(D) Vidisha (M.P.)

A*



142. अर्थशास्त्र के बारे में निम्न में से कौनसा/कौनसे कथन सही है ?

1. वह मौर्यों की राजनीतिक अर्थव्यवस्था और प्रशासन पर एक प्रबन्ध है।
2. उसका काल और स्रोत विवाद के परे पूर्ण तरह से साबित हुआ है।
3. वह 15 अधिकरण में विभाजित किया गया है।
4. दुर्भाग्यवश किसी और स्रोत से उसके सबूत की परिपुष्टि नहीं की गयी।

निम्न कोड से सही उत्तर चुनिए :

- (A) 2 और 4
(B) 3 और 4
(C) 1 और 2
(D) ऊपरी सभी

143. मौर्यों लोक सेवकों का आम नाम था

- (A) अमात्य
(B) रजुक
(C) महामत्र
(D) लिपिकर

144. धम्म चक्र के सही संख्या के आरों को चिह्नकित कीजिए।

- (A) 20 (B) 32
(C) 30 (D) 24

145. कौटिल्य ने उपयोग किया हुआ शब्द "धर्मस्थिय" यह दर्शाता है

- (A) शिक्षा संस्था
(B) धार्मिक संस्था
(C) न्यायिक कचहरी
(D) राजस्व विभाग

146. दक्षिण भारत का रोमसे व्यापार का सबूत यहाँ की खुदाई से मिलता है

- (A) अरिकामेदू और अलगंगुलम्
(B) अरिकामेदू और कन्याकुमारी
(C) कन्याकुमारी और कोडंगल्लूर
(D) अलगंगुलम्, अरिकामेदू और कोडंगल्लूर

147. निम्न लेखक और उनकी साहित्य कृति की जोड़ी बनाईए :

- | | |
|------------|-------------------|
| a. अश्वघोष | 1. गतसप्तसति |
| b. पतंजली | 2. सरिपुत्रप्रकरण |
| c. हल | 3. महाभाष्य |
| d. भास | 4. स्वप्नवासवदत्त |

कोड :

- | | a | b | c | d |
|-----|---|---|---|---|
| (A) | 1 | 2 | 3 | 4 |
| (B) | 2 | 1 | 3 | 4 |
| (C) | 3 | 2 | 1 | 4 |
| (D) | 2 | 3 | 1 | 4 |

148. सति जाने का (इ. स. 510) पहला शिलालेखी सन्दर्भ यहाँ से मिला है

- (A) इराउ (एम.पी.)
(B) प्रयाग (यू.पी.)
(C) भिताई (यू.पी.)
(D) विदिशा (एम.पी.)

A*

-37-



149. Which secular work describes Rama's invasions of Ceylon ?
 (A) Gadhayuddha
 (B) Setu Bandu
 (C) Shapatashataka
 (D) Karpooora Manjari
150. The language of the Sangam literature was
 (A) Sanskrit
 (B) Telugu
 (C) Tamil
 (D) Brahmi
151. Two-storeyed vihar of the rock-cut order was made at
 (A) Karle (B) Bedsa
 (C) Bhaja (D) Nasik
152. What is a Prashasti ?
 (A) Private endowment
 (B) Eulogy of a king
 (C) Royal charter
 (D) Copper plate
153. The common coins used in Gupta age, due to the decline in trade were
 (A) Copper (B) Iron
 (C) Cowries (D) Silver
154. Who built the Sudharshan lake of Saurashtra ?
 (A) Chandragupta Maurya
 (B) Pushpagupta
 (C) Ashoka
 (D) Tushashp
155. Which Vakataka ruler married the daughter of Chandragupta II ?
 (A) Rudrasena II (B) Rudrasena
 (C) Narendrasena (D) Pravarasena
156. Forced labour during the Gupta period is referred to as
 (A) Vishti (B) Shudra
 (C) Vaisheshika (D) Vali
157. Kalhana's Rajatarangini is a historical work on
 (A) Malwa (B) Kashmir
 (C) Vaishali (D) Pataliputra
158. Name the river, on whose Bank was the city of Vijayanagara located.
 (A) Kaveri
 (B) Krishna
 (C) Wainganga
 (D) Thungabhadra
159. The founder of the Shatavahana dynasty is
 (A) Simukha
 (B) Yajnashri Satakarni
 (C) Pulamayi I
 (D) Sri Shatakarni
160. The Pandyan empire was finally absorbed into the
 (A) Sultanate of Delhi
 (B) Vijayanagara
 (C) Chera
 (D) Mughal empire

A*

-38-



149. कौनसी लौकिक रचना राम का सिलोन पर आक्रमण वर्णन करता है ?
 (A) गदायुद्ध
 (B) सेतु बन्दु
 (C) शपतशतक
 (D) कर्पूर मंजरी
150. संगम साहित्य की भाषा थी
 (A) संस्कृत
 (B) तेलुगु
 (C) तमिल
 (D) ब्राह्मी
151. चट्टान को काटकर बनाया गया दो मंजिला विहार यहाँ बनाया गया
 (A) कारले (B) बेडसा
 (C) भाजा (D) नासिक
152. 'प्रशस्ती' क्या है ?
 (A) नीजि वृत्तिदान
 (B) राज प्रशंसा
 (C) शाही सनद
 (D) तांबे की प्लेट
153. व्यापार कम होने के कारण गुप्त काल में साधारण सिक्के इसके थे
 (A) ताँबा (B) लोहा
 (C) कौडी (D) चाँदी
154. सौराष्ट्र का सुदर्शन सरोवर किसने बनवाया ?
 (A) चंद्रगुप्त मौर्य
 (B) पुष्पगुप्त
 (C) अशोक
 (D) तुशाष्प
155. कौनसे वकटक शासक ने चंद्रगुप्त II की बेटी से शादी की ?
 (A) रुद्रसेन II (B) रुद्रसेन I
 (C) नरेन्द्रसेन (D) प्रवरसेन I
156. बेगारों को गुप्त काल में कहते थे
 (A) विष्टी
 (B) शुद्र
 (C) वैशेषिक
 (D) वाली
157. कलहन की राजतरंगिणी यह एक ऐतिहासिक रचना है
 (A) मालवा पर (B) कश्मीर पर
 (C) वैशाली पर (D) पाटलीपुत्र पर
158. उस नदी का नाम बताइए, जिसके किनारे पर विजयनगर का शहर स्थित है।
 (A) कावेरी (B) कृष्णा
 (C) वैनगंगा (D) तुंगभद्रा
159. शतवहन राजवंश के स्थापक थे
 (A) सिमुख
 (B) यज्ञश्री सत्कर्णी
 (C) पुलमयी I
 (D) श्री शतकर्णी
160. आखिरकार पांड्यन साम्राज्य इसमें विलीन हो गया
 (A) दिल्ली की सल्तनत
 (B) विजयनगर
 (C) चेरा
 (D) मुराल साम्राज्य



161. The Rashtrakutas were the successors of the

- (A) Vakatakas
- (B) Chalukyas of Kalyani
- (C) Chalukyas of Badami
- (D) Pallavas of Kanchi

162. The temples found in Aihole are

1. Meguti Shivalaya
2. Ladhkhan temple
3. Jain temple
4. Durga temple
5. Huchimalligudi

Choose the correct answer group.

- (A) 1, 2, 5
- (B) 2, 3, 4 and 5
- (C) 1, 2 and 4
- (D) 2, 3 and 5

163. The Khajuraho temples were built by

- (A) Chalukyas
- (B) Chauhans
- (C) Paramaras
- (D) Chandellas

164. Alberuni visited India with which Muslim invader ?

- (A) Muhammad of Ghazni
- (B) Mohammad Ghorī
- (C) Mohammad-bin-Qasim
- (D) None of the above

165. Raziya was close to which of these nobles ?

- (A) Qubacha
- (B) Jalaluddin Yakut
- (C) Nasiruddin Mahmud
- (D) None of these

166. When Taimur invade, which dynasty ruled over India ?

- (A) Lodhi
- (B) Tughlaq
- (C) Saiyyid
- (D) Khilji

167. Sher Shah is considered to be the fore-runner of Akbar in administration because

- (A) his administrative policies were adopted by Akbar
- (B) he ruled before Akbar
- (C) he trained Akbar in administration
- (D) he supervised Akbar's administration

168. Who built the precious Pillar of Chittor (Kirti Stamba) ?

- (A) Rana Kumba
- (B) Rana Sanga
- (C) Rana Maldev
- (D) None of these

169. Lakh Baksh was the title of

- (A) Aibak
- (B) Balban
- (C) Iltumish
- (D) Jalal-ud-din-Yakut

170. Ahmed Shah Abdali belonged to which clan ?

- (A) Irani
- (B) Turani
- (C) Afghani
- (D) Durani

171. Krishnadevaraya belonged to the

- (A) Sangam dynasty
- (B) Saluva dynasty
- (C) Tuluva dynasty
- (D) Aravidu dynasty

A*

161. राष्ट्रकूट इनके उत्तराधिकारी थे

- (A) वकटक
(B) कल्याणी के चालुक्य
(C) बदामी के चालुक्य
(D) कांची के पल्लव

162. ऐहोले में मिले मंदिर हैं

1. मेगुटी शिवालय
2. लडखन मंदिर
3. जैन मंदिर
4. दुर्गा मंदिर
5. हुचीमल्लीगुडी

सही उत्तर समूह चुनिए :

- (A) 1, 2, 5 (B) 2, 3, 4 और 5
(C) 1, 2 और 4 (D) 2, 3 और 5

163. खजुराहो के मंदिर इन्होंने बनवाये

- (A) चालुक्य (B) चौहान
(C) परमार (D) चंदेला

164. कौनसे मुस्लीम हमलावर के साथ अलबेरूनी भारत आया ?

- (A) मोहम्मद गज़नी
(B) मोहम्मद घोरी
(C) मोहम्मद-बिन-कासिम
(D) इनमें से कोई नहीं

165. निम्न में से कौनसे कुलीन के साथ रज़िया निकट थी ?

- (A) कुबाचा
(B) जलालुद्दिन याकुत
(C) नसिरुद्दिन महम्मद
(D) इनमें से कोई नहीं

166. तैमुर के हमले के समय भारत में किस राजवंश का शासन था ?

- (A) लोदी (B) तुगलक
(C) सईद (D) खिलजी

167. प्रशासन में शेर-शाह को अकबर का अग्रदूत मानते हैं क्योंकि

- (A) उसकी प्रशासनिक नीतियाँ अकबर ने अपनाई
(B) अकबर के पहले उसका शासन था
(C) उसने अकबर को प्रशासन में प्रशिक्षित किया
(D) उसने अकबर के प्रशासन की देख-रेख की

168. चित्तौड़ का अमूल्य स्तंभ (किर्ती स्तंभ) किसने बनवाया ?

- (A) राणा कुम्भ (B) राणा संग
(C) राणा मालदेव (D) इनमें से कोई नहीं

169. लाख बक्श इसका खिताब था

- (A) ऐबक
(B) बालबन
(C) इल्तमिश
(D) जलाल-उद्दिन-याकुत

170. अहमद शाह अब्दाली कौनसे कुल का था ?

- (A) इरानी (B) तुरानी
(C) अफगानी (D) दुरानी

171. कृष्णदेवराय इससे सम्बन्ध रखता था

- (A) संगम राजवंश
(B) सलुवा राजवंश
(C) तुलुवा राजवंश
(D) अराविडु राजवंश



172. The Bahmani Sultan who shifted the capital from Gulbarga to Bidar was

- (A) Muhammad Gawan
(B) Ahmad Shah
(C) Nizam Shah
(D) Mahmud Shah

173. Put in correct chronological sequence, the successors of Shivaji :

1. Sahu
2. Shivaji II
3. Rajaram
4. Sambhaji
5. Ram Raja

Choose the correct answer group :

- (A) 4, 3, 2, 1, 5 (B) 2, 1, 5, 3, 4
(C) 5, 4, 2, 1, 3 (D) 1, 2, 3, 5, 4

174. Which of the following was the founder of the house of the Peshwas ?

- (A) Parashurama Trimbak
(B) Ramachandra Pant
(C) Balaji Vishwanath
(D) Balaji Bajirao

175. Under Zabt System the most fertile land was classified as

- (A) Polaj (B) Parauti
(C) Chachar (D) Banjar

176. Vasco da Gama reached Calicut in

- (A) 1498 A.D. (B) 1480 A.D.
(C) 1492 A.D. (D) 1463 A.D.

177. Match the List – I with List – II.

List – I

List II

- | | |
|----------------------------|--|
| a. Francisco de Almeida | 1. Encourage his fellow countrymen to marry Indian women |
| b. Alfenso de Albuquerque | 2. Blue-water policy |
| c. Nino da Cunha | 3. Transferred Portuguese capital from Cochin to Goa |
| d. Martin Alfonso de Souza | 4. Famous Jesuit Saint Francisco Xavier accompanied him to India |

- | | a | b | c | d |
|-----|---|---|---|---|
| (A) | 2 | 1 | 4 | 3 |
| (B) | 3 | 2 | 1 | 4 |
| (C) | 1 | 2 | 3 | 4 |
| (D) | 4 | 2 | 1 | 3 |

178. Guru Nanak's concept of religion was

- (A) Severely practical
(B) Ethical
(C) Both (A) and (B)
(D) Purely spiritual

179. Who built the Jama Mosque of Delhi ?

- (A) Akbar
(B) Qutub-ud-din Aibak
(C) Jahangir
(D) Shahjahan



172. बहमनी सुलतान जिसने राजधानी गुलबर्गा से बिदर बदल दी

- (A) मुहम्मद गवान
(B) अहमद शाह
(C) निज़ाम शाह
(D) महमुद शाह

173. शिवाजी के उत्तराधिकारियों को कालानुक्रमिक श्रृंखला में सजाईये :

1. शाहू
2. शिवाजी II
3. रजाराम
4. संभाजी
5. राम राजा

सही उत्तर समूह का चयन कीजिए :

- (A) 4, 3, 2, 1, 5 (B) 2, 1, 5, 3, 4
(C) 5, 4, 2, 1, 3 (D) 1, 2, 3, 5, 4

174. निम्न में से कौन 'पेशवा घर' का स्थापक था ?

- (A) परशुराम त्रिंबक
(B) रामचन्द्र पंत
(C) बालाजी विश्वनाथ
(D) बालाजी बाजीराव

175. ज़ब्ती पद्धति के अंतर्गत अत्यंत उपजाऊ ज़मीन का वर्गीकरण ऐसा होता था

- (A) पोलव (B) परौती
(C) चचर (D) बंजर

176. वास्कोड गामा कालिकट इस वर्ष पहुँचा

- (A) इ.स. 1498 (B) इ.स. 1480
(C) इ.स. 1492 (D) इ.स. 1463

177. सूची - I के साथ सूची II की जोड़ियाँ बनाइए।

सूची - I

सूची - II

a. फ्रान्सीस्को डी अलमैदा

1. अपने देशवासियों को भारतीय स्त्रियों से शादी करने को प्रोत्साहित किया

b. अलफोंसो डी अलबुकर्क

2. ब्लू वॉटर नीति

c. नीनो डा कुन्हा

3. पोर्तुगीज राजधानी कोचिन को गोवा स्थानांतरित की

d. मार्टिन अलफोंसो डी सौजा

4. प्रसिद्ध जेसई संत फ्रान्सीस्को ज़ेवियर इसके साथ भारत आया

a b c d

(A) 2 1 4 3

(B) 3 2 1 4

(C) 1 2 3 4

(D) 4 2 1 3

178. गुरुनानक की धर्म संकल्पना थी

- (A) तीव्र व्यावहारिक
(B) नीतिपरक
(C) (A) और (B) दोनों
(D) केवल आध्यात्मिक

179. दिल्ली की जामा मस्जिद किसने बनवायी ?

- (A) अकबर
(B) कुतुब उद्दिन ऐबक
(C) जहांगीर
(D) शाहजहान

A*



180. What was the original name of Tansen ?

- (A) Makaranda Pande
- (B) Baz Bahadur
- (C) Lal Kalwant
- (D) Ramtanu Pande

181. Who is the author of 'My Experiments with Truth' ?

- (A) Jawaharlal Nehru
- (B) Mahatma Gandhi
- (C) Rajendra Prasad
- (D) Sardar Vallabhabhai Patel

182. Who started the Modern Local Self-Government ?

- (A) Lord Irwin
- (B) Lord Ripon
- (C) Lord Curzon
- (D) Lord Auckland

183. In whose tenure the capital of India was transferred from Delhi to Calcutta ?

- (A) Lord Minto
- (B) Lord Hardings
- (C) Lord Curzon
- (D) Viscount Chelmsford

184. The Royal Indian Navy was established in

- (A) 1930
- (B) 1931
- (C) 1934
- (D) 1936

185. The play Neel Darpan was written by

- (A) M. G. Ranade
- (B) Deen Bandu Mitra
- (C) Rajaram Mohan Roy
- (D) Ishwar Chandra Vidyasagar

186. The Strachy Commission was connected with

- (A) The Vernacular Press
- (B) Famine
- (C) Education
- (D) Local Self-Government

187. Who said "Go back to the Vedas" ?

- (A) Dayananda Saraswati
- (B) Rajaram Mohan Roy
- (C) Vidyasagar
- (D) Ishwar Chandra Vidyasagar

188. The Trade Union Act was passed in

- (A) 1926
- (B) 1930
- (C) 1939
- (D) 1941

189. Queen's Proclamation was passed in which month of 1858 ?

- (A) April
- (B) June
- (C) August
- (D) September

190. How many Home Rule Leagues were formed in India in 1916 ?

- (A) 2
- (B) 4
- (C) 5
- (D) None

A*



180. तानसेन का वास्तविक नाम क्या था ?
(A) मकरंद पांडे
(B) बाज बहादुर
(C) लाल कलवंत
(D) रामतनू पांडे
181. 'माई एक्सपेरिमेंट्स विथ ट्यूथ' के लेखक कौन थे ?
(A) जवाहरलाल नेहरू
(B) महात्मा गांधी
(C) राजेंद्र प्रसाद
(D) सरदार वल्लभभाई पटेल
182. आधुनिक स्थानिक स्वशासन किसने प्रारंभ किया ?
(A) लॉर्ड इरविन
(B) लॉर्ड रिफन
(C) लॉर्ड कर्जन
(D) लॉर्ड ऑक्लेड
183. किसके कार्यकाल में भारत की राजधानी दिल्ली से कलकत्ता स्थानांतरित की गई ?
(A) लॉर्ड मिटो
(B) लॉर्ड हार्डिंग
(C) लॉर्ड कर्जन
(D) वायकॉट चेम्सफोर्ड
184. रॉयल इंडियन नेवी की स्थापना _____ में हुई है।
(A) 1930
(B) 1931
(C) 1934
(D) 1938
185. 'नील दर्पण' नाटक का रचयिता है
(A) एम.जी. रानडे
(B) दीन बन्धु मित्रा
(C) राजाराम मोहन रॉय
(D) ईश्वर चंद्र विद्यासागर
186. स्ट्राची आयोग का सम्बन्ध इससे था
(A) देशी भाषा अखबार
(B) अकाल
(C) शिक्षा
(D) स्थानिक स्वराज्य
187. 'वेदों के पीछे जाईए' किसने कहा ?
(A) दयानंद सरस्वती
(B) राजाराम मोहन रॉय
(C) विद्यासागर
(D) ईश्वर चंद्र विद्यासागर
188. मजदूर संघ नियम इस साल पारित किया गया
(A) 1926
(B) 1930
(C) 1939
(D) 1941
189. रानी का घोषणा-पत्र 1858 के कौनसे महीने में पारित किया गया ?
(A) अप्रैल
(B) जून
(C) अगस्त
(D) सितंबर
190. भारत में 1916 में कितने होम रूल संघ बनाये गये थे ?
(A) 2
(B) 4
(C) 5
(D) कोई नहीं

A*

-45-



191. Match the following :

- | | |
|------------------------|---------|
| a. Quit India Movement | 1. 1927 |
| b. Simon Commission | 2. 1920 |
| c. Khilafat Movement | 3. 1942 |
| d. Montague Chelmsford | 4. 1919 |

- | | | | | |
|-----|----------|----------|----------|----------|
| | a | b | c | d |
| (A) | 1 | 2 | 3 | 4 |
| (B) | 3 | 1 | 2 | 4 |
| (C) | 4 | 3 | 2 | 1 |
| (D) | 3 | 4 | 2 | 1 |

192. Where was the historical case settled upon INA ?

- (A) In the Fort William, Calcutta
- (B) In the Red Fort of Delhi
- (C) In the Central Hall of Parliament
- (D) In a Warship Near Bombay

193. The main inspiration behind Five Year Plan was

- (A) USSR
- (B) USA
- (C) UK
- (D) None

194. Match List I with List II.

- | List I | List II |
|------------------------|---------------|
| a. NAM | 1. U.K. |
| b. Non-Aggression Pact | 2. U.S.A. |
| c. Unipolar World | 3. U.S.S.R. |
| d. Commonwealth | 4. Yugoslavia |

Codes :

- | | | | | |
|-----|----------|----------|----------|----------|
| | a | b | c | d |
| (A) | 1 | 2 | 3 | 4 |
| (B) | 3 | 4 | 2 | 1 |
| (C) | 2 | 3 | 4 | 1 |
| (D) | 4 | 3 | 2 | 1 |

195. In which year China usurped Tibet ?

- (A) 1950
- (B) 1957
- (C) 1959
- (D) 1960

196. Nationalism of Banks was done in

- (A) 1969
- (B) 1965
- (C) 1970
- (D) 1971

197. Who wrote 'Hind Swaraj' ?

- (A) Bal Gangadhar Tilak
- (B) Vinobha Bhave
- (C) Chandra Shekhar Azad
- (D) M. K. Gandhi

198. Pandit Nehru was a believer in

- (A) Isolation
- (B) Adult Franchise
- (C) Hindu State
- (D) None of the above

199. Indian Agriculture can be characterised as

- (A) Progressive
- (B) Subsistence based
- (C) Technically rich
- (D) Production for market

200. Which was the area of dispute between India and China ?

- (A) Burma
- (B) Uttar Pradesh
- (C) Tunjun pass
- (D) Tibet

A*



191. निम्न जोड़ियाँ बनाईए :

- | | |
|-------------------------|---------|
| a. भारत छोड़ो आंदोलन | 1. 1927 |
| b. सायमन कमिशन | 2. 1920 |
| c. खिलाफत आंदोलन | 3. 1942 |
| d. मोंटेग्यु चेम्सफोर्ड | 4. 1919 |

	a	b	c	d
(A)	1	2	3	4
(B)	3	1	2	4
(C)	4	3	2	1
(D)	3	4	2	1

192. आईएनए (INA) पर कहाँ मुकदमा निर्धारित किया गया ?

- (A) फोर्ट विलियम, कलकत्ता में
(B) लाल किला, दिल्ली में
(C) संसद के केन्द्रीय हॉल में
(D) युद्ध नौका, मुंबई में

193. पंच वार्षिक योजना के पीछे प्रमुख उत्प्रेरणा थी

- (A) रूस (B) अमेरिका
(C) इंग्लैंड (D) कोई नहीं

194. सूची I और सूची II में जोड़ियाँ बनाईए :

- | सूची I | सूची II |
|--------------------|-----------------|
| a. एनएएम (NAM) | 1. इंग्लैंड |
| b. अनाक्रमण समझौता | 2. अमेरिका |
| c. एकध्रुवीय विश्व | 3. रूस |
| d. राष्ट्रमण्डल | 4. युगोस्लाविया |

कोड :

	a	b	c	d
(A)	1	2	3	4
(B)	3	4	2	1
(C)	2	3	4	1
(D)	4	3	2	1

195. किस वर्ष चीनने तिब्बत को हड़प लिया ?

- (A) 1950 (B) 1957
(C) 1959 (D) 1960

196. बैंकों का राष्ट्रीयकरण इस साल किया गया

- (A) 1969 (B) 1965
(C) 1970 (D) 1971

197. 'हिन्द स्वराज' किसने लिखी ?

- (A) बाल गंगाधर तिलक
(B) विनोबा भावे
(C) चंद्रशेखर आज़ाद
(D) एम. के. गांधी

198. पंडित नेहरू इसमें विश्वास करते थे

- (A) अलगाव
(B) प्रौढ़ मताधिकार
(C) हिन्दु राज्य
(D) इनमें से कोई नहीं

199. भारतीय कृषि को विशेषता है

- (A) प्रगतिशील
(B) जीविका आधारित
(C) तकनीकी पूर्ण
(D) बाज़ार के लिए उत्पाद

200. भारत और चीन के बीच कौनसे प्रदेश के बारे में विवाद था ?

- (A) बर्मा (B) उत्तर प्रदेश
(C) तुंजुन पास (D) तिब्बत

A+



Latest Sarkari jobs, Govt Exam alerts, Results and Vacancies

- ▶ Latest News and Notification
- ▶ Exam Paper Analysis
- ▶ Topic-wise weightage
- ▶ Previous Year Papers with Answer Key
- ▶ Preparation Strategy & Subject-wise Books

To know more [Click Here](#)



www.prepp.in