

















Practice, Learn and Achieve  
Your Goal with Prepp

# SSC GD Exam

Previous Paper

Simplifying  
Government Exams

 SSC CHSL	 IAS EXAM	 RRB NTPC	 NTSE	 CDS
 SSC CGL	 CBSE UGC NET	 IBPS PO	 NDA	
 SBI PO	 IBPS CLERK	 AFCAT	 SSC JE	 CTET
 CSIR UGC NET	 CAPF	 IBPS RRB		

[www.prepp.in](http://www.prepp.in)

## Constable (GD) in CAPFs, NIA, SSF and Rifleman (GD) in Assam Rifles Examination, 2018

Roll No. :	
Registration No.	
Name :	
Exam Venue :	ANAND INTERNATIONAL COLLEGE OF ENGINEERING JAIPUR
Exam Time :	12:30 PM - 2:00 PM
Exam Date :	19/02/2019

Section : General Section

Q.1 अगर एक कूट भाषा में MONSTROUS को NOMRTSSUO के रूप में कूटबद्ध किया जाता है, तो SOCIOLOGY को किस तरह कूटबद्ध किया जाएगा?

- Ans
- 1. COSLOIYGO
  - 2. COSLOIGYO
  - 3. OCSOLIGYO
  - 4. YGOCOSLOI

Question ID : 9895803881  
Chosen Option : 1

Q.2 असंगत का चयन करें।

- Ans
- 1. चक्रवात
  - 2. सुनामी
  - 3. बर्फीला तूफान
  - 4. विस्फोट

Question ID : 9895803877  
Chosen Option : 4

Q.3

नीचे दिए गए कथनों के बाद दो निष्कर्ष I और II दिए गए हैं। यह मानते हुए कि कथनों में दी गई जानकारी सत्य है, भले ही वह सर्वज्ञात तथ्यों से भिन्न प्रतीत होती हो, यह निर्णय करें कि कौन सा / से निष्कर्ष तार्किक और निश्चित रूप से कथन में दी गई जानकारी का अनुसरण करता है / करते हैं।

कथन:

1. कुछ धाराएँ नहर हैं।
2. कुछ नहरें नदी हैं।

निष्कर्ष:

- I. कुछ नहरें धाराएँ नहीं हैं।
- II. कुछ धाराएँ नदियाँ हैं।

Ans

1. केवल निष्कर्ष I अनुसरण करता है
2. केवल निष्कर्ष II अनुसरण करता है
3. न तो निष्कर्ष I और ना ही निष्कर्ष II अनुसरण करता है
4. दोनों निष्कर्ष I और II अनुसरण करते हैं

Question ID : 9895803886  
Chosen Option : 3

Q.4 असंगत युग्म का चयन करें।

Ans

1. 3-6
2. 12-128
3. 7-42
4. 8-56

Question ID : 9895803890  
Chosen Option : 2

Q.5 एक शाम, सूर्यास्त से पहले एक मैदान में महेश और विक्रान्त एक-दूसरे की ओर पीठ करके खड़े हैं। अगर विक्रान्त की छाया महेश के बिल्कुल दाएँ बनती है तो महेश किस दिशा की ओर मुँह किए हुए है?

Ans

1. पश्चिम
2. दक्षिण
3. पूर्व
4. उत्तर

Question ID : 9895803883  
Chosen Option : 3

Q.6 उस विकल्प का चयन करें जो तीसरे पद से उसी तरह संबंधित है जिस तरह दूसरा पद पहले पद से संबंधित है।

GKNP : HJMQ :: DHKM : ?

Ans

1. EGJN

Latest Sarkari Jobs, Govt Exam Results,  
Vacancies and updates on one click

Know More

- 2. FHKO
- 3. EHKM
- 4. EILN

Question ID : 9895803880  
Chosen Option : 1

Q.7 निम्न चार अक्षर समूहों में से कौन सा एक इस समूह का हिस्सा नहीं है?

- Ans
- 1. LORU
  - 2. HKMP
  - 3. BDFH
  - 4. TUVW

Question ID : 9895803876  
Chosen Option : 3

Q.8 'सीतारा' (STAR) , 'तारक-पुंज' (GALAXY) से उसी तरह संबंधित है, जिस तरह 'शब्द' (WORD), \_\_\_\_\_ से संबंधित है।

- Ans
- 1. अभिव्यक्ति (EXPRESSION)
  - 2. संचार (COMMUNICATION)
  - 3. भाषा (LANGUAGE)
  - 4. वाक्य-विन्यास (SYNTAX)

Question ID : 9895803878  
Chosen Option : 3

Q.9 चार लड़के A, B, C और D तथा चार लड़कियाँ E, F, G और H एक गोल मेज पर केंद्र की ओर मुखातिब होकर इस तरह बैठे हैं कि कोई भी दो लड़की एक साथ नहीं बैठी हैं। F, A और C के बीच में बैठी हैं, और इसका मुँह B की ओर है। E , G के दाईं ओर दूसरे नंबर पर बैठी है। B और H के बीच में दो व्यक्ति बैठे हैं जिनका मुँह E की ओर है।

C के दाईं ओर कौन बैठा/बैठी है?

- Ans
- 1. G
  - 2. E
  - 3. H
  - 4. F

Question ID : 9895803884  
Chosen Option : 2

Q.1  
0

नीचे दिए गए कथनों के बाद दो निष्कर्ष I और II दिए गए हैं। यह मानते हुए कि कथनों में दी गई जानकारी सत्य है, भले ही वह सर्वज्ञात तथ्यों से भिन्न प्रतीत होती हो, यह निर्णय करें कि कौन सा / से निष्कर्ष तार्किक और निश्चित रूप से कथन में दी गई जानकारी का अनुसरण करता है / करते हैं।

कथन:

1. कुछ शिक्षक प्रधानाचार्य हैं।
2. कुछ प्रधानाचार्य शिक्षित हैं।

निष्कर्ष:

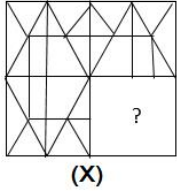
- I. कुछ शिक्षक शिक्षित हैं।
- II. कोई भी शिक्षित व्यक्ति शिक्षक नहीं है।

Ans

- ✓ 1. या तो निष्कर्ष I या निष्कर्ष II अनुसरण करता है
- ✗ 2. केवल निष्कर्ष II अनुसरण करता है
- ✗ 3. निष्कर्ष I और निष्कर्ष II, दोनों अनुसरण करते हैं
- ✗ 4. केवल निष्कर्ष I अनुसरण करता है

Question ID : 9895803887  
Chosen Option : 1

Q.1 उस आकृति का चयन करें जिसे 'X' से चिह्नित रिक्त स्थान पर रखने से चित्र का पैटर्न पूर्ण हो जाएगा।



Ans

- ✗ 1.
- ✗ 2.
- ✗ 3.
- ✓ 4.

Question ID : 9895803895  
Chosen Option : 4

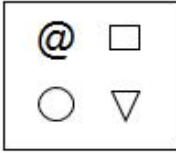
Q.1  
2

विकल्पों में से उस आकृति का चयन करें जो दी गई श्रृंखला में अगले स्थान पर आएगी।

S	*	○	S	△	○	□	△
#	\$	\$	*	*	S	S	○

Ans

✗ 1.



✓ 2.



✗ 3.



✗ 4.



Question ID : 9895803894  
Chosen Option : 2

Q.1 Q, T से दोगुना भारी है। R का वजन S से आधा है। P का वजन R से आधा है। अगर Q, P से तीन गुना ज्यादा भारी है, तो इन सब में सबसे भारी कौन है?

Ans

✗ 1. P

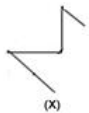
✓ 2. S

✗ 3. Q

✗ 4. R

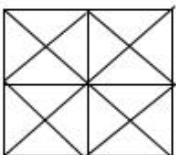
Question ID : 9895803885  
Chosen Option : 2

Q.1 विकल्पों में से उस आकृति का चयन करें जिसमें 'X' से चिह्नित आकृति समाहित है।

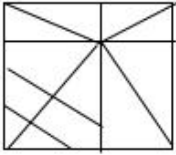


Ans

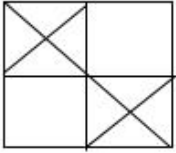
✓ 1.



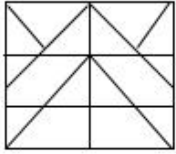
✗ 2.



✗ 3.

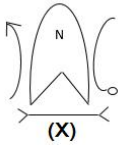


✗ 4.



Question ID : 9895803897  
Chosen Option : 1

Q.1 उस विकल्प का चयन करें, जो दी गई आकृति के दर्पण छवि से तब पूरी तरह से मिलचा-जुलता है, जब दर्पण को दाईं ओर रखा जाता है।

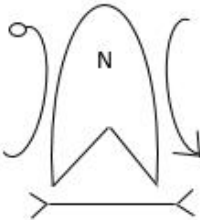


Ans

✗ 1.



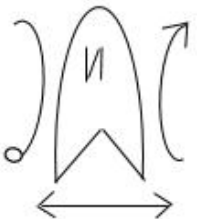
✗ 2.



✓ 3.

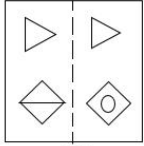


✗ 4.



Question ID : 9895803896

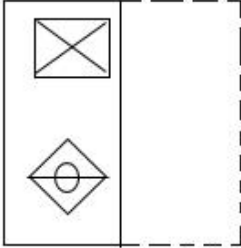
Q.1 'X' से चिह्नित आयताकार पारदर्शी शीट का पैटर्न तब कैसा दिखेगा जब इस शीट को डॉट से बनाई गई रेखा पर मोड़ा जाएगा?



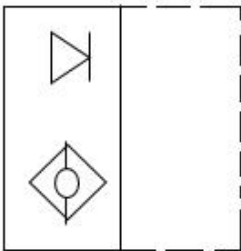
(X)

Ans

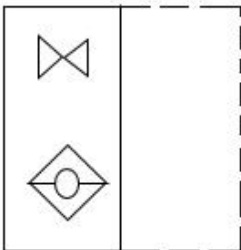
✗ 1.



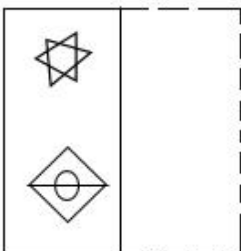
✗ 2.



✗ 3.



✓ 4.



Question ID : 9895803898  
Chosen Option : 4

Q.1 उस विकल्प का चयन करें जो सही रूप में रिक्त स्थान को भरे और श्रृंखला को पूरा करें।

9, 23, 14, 32, 18, \_\_\_\_, 26

Ans ✗ 1. 47

✗ 2. 38

✗ 3. 40

✓ 4. 44



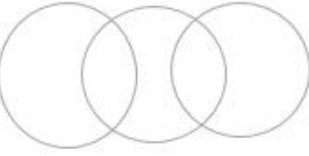
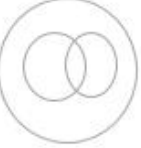
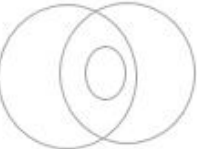
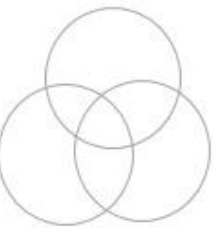
Q.1 अगर एक कूट भाषा में DISTANT = 9 और EARTH = 7 है, तो PSYCHOLOGY = क्या होगा?

- Ans
- ✓ 1. 12
  - ✗ 2. 10
  - ✗ 3. 14
  - ✗ 4. 11

Q.1 निम्नलिखित में से कौन सा वेन रेखाचित्र दिए गए वर्ग के बीच के संबंध को सही दर्शाता है?

छात्र, क्रिकेट प्रशंसक, टेनिस खिलाड़ी

Ans

- ✗ 1. 
- ✗ 2. 
- ✗ 3. 
- ✓ 4. 

Q.2 उस विकल्प का चयन करें जो सही रूप में रिक्त स्थान को भरे और श्रृंखला को पूरा करें।

21, 22, 18, 27, 11, \_\_\_\_\_

- Ans
- ✗ 1. 42
  - ✓ 2. 36
  - ✗ 3. 20
  - ✗ 4. 43

Question ID : 9895803888

Chosen Option : 3

Q.2 निम्नलिखित सेट की संख्याएँ एक खास प्रकार से आपस में संबंधित हैं। दिए गए विकल्पों में से उस सेट का चयन करें जो निम्नलिखित सेट के समान है।

{6, 13, 28}

- Ans
- 1. {4, 11, 25}
  - 2. {8, 14, 30}
  - 3. {9, 16, 34}
  - 4. {11, 17, 36}

Question ID : 9895803892

Chosen Option : 3

Q.2 कौन से दो चिहनों को अगर आपस में एक-दूसरे से बदल दिया जाएगा तो निम्नलिखित समीकरण सही हो जाएगा?

$$8 \div 4 - 18 + 12 \times 6 = 16$$

- Ans
- 1.  $\div$  और  $+$
  - 2.  $\times$  और  $-$
  - 3.  $\times$  और  $\div$
  - 4.  $-$  और  $+$

Question ID : 9895803893

Chosen Option : 3

Q.2 उस विकल्प का चयन करें जो सही रूप में रिक्त स्थान को भरे और श्रृंखला को पूरा करें।

bdf, hij, moq, uvw, ?

- Ans
- 1. yza
  - 2. bdf
  - 3. zbd
  - 4. yac

Question ID : 9895803875

Chosen Option : 4

Q.2 चार संख्याएँ दी गई हैं जिनमें से तीन संख्याएँ किसी न किसी रूप में समान हैं, जबकि एक संख्या भिन्न है। असंगत संख्या चुनिए।

- Ans
- 1. 732
  - 2. 543
  - 3. 651
  - 4. 452

Q.2 5 उस विकल्प का चयन करें जो तीसरे पद से उसी तरह संबंधित है जिस तरह दूसरा पद पहले पद से संबंधित है।

भवन : ईट :: कपड़ा : ?

Ans

- 1. सुई
- 2. धागा
- 3. दर्जी (टेलर्स)
- 4. परिधान

Question ID : 9895803879

Chosen Option : 2

Q.2 6 पैरामिसियम \_\_\_\_\_ के द्वारा प्रजनन करता है।

Ans

- 1. बडिंग
- 2. बीजाणु निर्माण
- 3. कायिक प्रजनन
- 4. द्विखंडन

Question ID : 9895805450

Chosen Option : 4

Q.2 7 वायुमंडल में ओजोन की कमी को \_\_\_\_\_ से जोड़ा गया है।

Ans

- 1. फिनोल- फार्मलिडहाइड
- 2. पोलिविनाइल क्लोराइड
- 3. क्लोरोफ्लोरोकार्बन
- 4. पॉलीटेट्राफ्लूरोएथिलीन

Question ID : 9895805451

Chosen Option : 3

Q.2 8 मकर संक्रांति के त्यौहार को भारत के किस हिस्से में उत्तरायण के रूप में जाना जाता है?

Ans

- 1. गुजरात
- 2. पश्चिम बंगाल
- 3. उत्तराखंड
- 4. केरल

Question ID : 9895805436

Q.2 निम्न में से किस पोषक तत्व की कमी से रिकेट्स नामक बीमारी होती है?

- Ans
- 1. विटामिन B
  - 2. विटामिन D
  - 3. विटामिन A
  - 4. लोहा

Question ID : 9895805452  
Chosen Option : 2

Q.3 भारत में राज्यों के राज्यपालों की नियुक्ति करने का अधिकार किस के पास है?

- Ans
- 1. सुप्रीम कोर्ट के मुख्यन्यायाधीश
  - 2. प्रधानमंत्री
  - 3. मुख्यमंत्री
  - 4. राष्ट्रपति

Question ID : 9895805446  
Chosen Option : 4

Q.3 रेगुर मिट्टी को \_\_\_\_\_ मिट्टी के नाम से भी जाना जाता है।

- Ans
- 1. पोटाश
  - 2. काली
  - 3. लोहा
  - 4. लाल

Question ID : 9895805454  
Chosen Option : 2

Q.3 विधायी शक्तियों के विभाजन के अनुसार, भारत सरकार की प्राथमिक जिम्मेदारियों में से एक है:

- Ans
- 1. कृषि आय पर कर
  - 2. सार्वजनिक स्वास्थ्य और स्वच्छता
  - 3. रक्षा बलों को बनाए रखना
  - 4. सिनेमा हॉल का निर्माण

Question ID : 9895805442  
Chosen Option : 2

Q.3 हरीप्रसाद चौरसिया \_\_\_\_\_ बजाने के लिए जाने जाते हैं।

- Ans
- 1. सितार

2. पखावज

3. बाँसुरी

4. तबला

Question ID : 9895805435  
Chosen Option : 3

Q.3  
4 कॉफी की अरेबिका किस्म निम्न में से किस राज्य में नहीं उगाई जाती है?

Ans  1. ओडिशा

2. केरल

3. तमिलनाडु

4. कर्नाटक

Question ID : 9895805455  
Chosen Option : 3

Q.3  
5 निम्नलिखित में से कौन-सा अधिकार उपभोक्ता संरक्षण से संबंधित नहीं है?

Ans  1. निवारण पाने का अधिकार

2. समानता का अधिकार

3. सूचित किए जाने का अधिकार

4. चुनने का अधिकार

Question ID : 9895805443  
Chosen Option : 2

Q.3  
6 भारत के सर्वोच्च न्यायालय की शक्ति के संदर्भ में, "न्यायिक समीक्षा" का क्या अर्थ है?

Ans  1.

यह भारत के प्रधान मंत्री को आपातकाल के समय सलाह देता है

2.

यह भारत के मुख्य न्यायाधीश की शक्तियों और कार्यों को परिभाषित करता है

3.

यह भारत की निचली अदालतों की शक्तियों को नियंत्रित करता है

4.

यह संसद द्वारा पारित किसी भी कानून की संवैधानिकता की जांच करता है

Question ID : 9895805447  
Chosen Option : 4

Q.3  
7 तमिलनाडु का 'जल्लीकट्टू' किस खेल से संबंधित है?

Ans

- 1. कुत्तों की लड़ाई
- 2. बिल्लियों से लड़ाई
- 3. मुर्गों की लड़ाई
- 4. बैलों से लड़ाई

Question ID : 9895805437  
Chosen Option : 4

Q.3  
8 सिंधु घाटी सभ्यता की 'डांसिंग गर्ल' की मूर्ति \_\_\_\_\_ में डाली गई थी।

- Ans
- 1. पीतल
  - 2. कांस्य
  - 3. तांबा
  - 4. लोहा

Question ID : 9895805456  
Chosen Option : 3

Q.3  
9 किस पूर्व प्रधानमंत्री ने 'चेंजिंग इंडिया' पुस्तक लिखी है?

- Ans
- 1. राजीव गांधी
  - 2. पीवी नरसिम्हाराव
  - 3. अटल बिहारी वाजपेयी
  - 4. मनमोहन सिंह

Question ID : 9895805441  
Chosen Option : 3

Q.4  
0 मुगल बादशाह अकबर का मकबरा कहाँ स्थित है?

- Ans
- 1. अजमेर
  - 2. जौनपुर
  - 3. सिकन्दरा
  - 4. औरंगाबाद

Question ID : 9895805458  
Chosen Option : 3

Q.4  
1 उत्तर भारत में प्रचलित मंदिर वास्तुकला की शैली \_\_\_\_\_ है।

- Ans
- 1. नागर

- 2. वेसर
- 3. द्रविड़
- 4. शिखर

Question ID : 9895805457  
Chosen Option : 1

Q.4  
2 सुधीर धर \_\_\_\_\_ के लिए प्रसिद्ध हैं।

- Ans
- 1. संगीत
  - 2. फ़िल्म निर्माण
  - 3. लैंडस्केप ड्राइंग
  - 4. कार्टून ड्राइंग

Question ID : 9895805439  
Chosen Option : 4

Q.4  
3 निम्नलिखित में से कौन भारत की जीडीपी (GDP) की गणना के लिए उत्तरदायी है?

- Ans
- 1. सभी नगर-पालिकाएँ और पंचायतें
  - 2. केंद्र सरकार के मंत्रालय और राज्यों और केंद्र शासित प्रदेशों के विभिन्न सरकारी विभाग
  - 3. सभी राज्यसरकारें और केंद्र शासित प्रदेश
  - 4. केवल केंद्र सरकारी मंत्रालय

Question ID : 9895805444  
Chosen Option : 3

Q.4  
4 भारत रत्न पुरस्कार प्राप्त करने वाले पहले खिलाड़ी \_\_\_\_\_ हैं।

- Ans
- 1. प्रकाश पादुकोण
  - 2. सुनील गावस्कर
  - 3. सचिन तेंदुलकर
  - 4. सानिया मिर्जा

Question ID : 9895805440  
Chosen Option : 3

Q.4  
5 निम्नलिखित में से किस नदी में भारत की प्रायद्वीपीय नदी प्रणाली में सबसे बड़ा जलसंभर है?

- Ans
- 1. महानदी
  - 2. गोदावरी

3. कावेरी

4. कृष्णा

Question ID : 9895805453  
Chosen Option : 2

Q.4  
6 राज्यसभा के बारे में निम्नलिखित में से कौन सा कथन सही है?

Ans  1.

यह भारत के संविधान द्वारा निर्धारित एक सीधे निर्वाचित निकाय है

2.

राज्य विधानसभा के निर्वाचित सदस्य राज्यसभा के सदस्यों का चुनाव करते हैं

3. इसे संसद के निचले सदन के रूप में जाना जाता है

4. राज्यसभा के सदस्य स्थायी रूप से चुने जाते हैं

Question ID : 9895805445  
Chosen Option : 1

Q.4  
7 \_\_\_\_\_ वर्ष 2020, में ओलंपिक खेलों की मेजबानी करेगा।

Ans  1. जापान

2. इटली

3. स्पेन

4. चीन

Question ID : 9895805438  
Chosen Option : 4

Q.4  
8 दूध में निम्नलिखित में से कौन-सा अम्ल पाया जाता है?

Ans  1. हाइड्रोक्लोरिक अम्ल

2. लैक्टिक अम्ल

3. एस्कॉर्बिक अम्ल

4. टैनिक अम्ल

Question ID : 9895805449  
Chosen Option : 2

Q.4  
9 निम्नलिखित में से कौन-सा भारत का शास्त्रीय नृत्य नहीं है?

Ans  1. कथकली

2. भांगड़ा

3. ओड़िसी



✗ 4. मोहिनीअट्टम

Question ID : 9895805434  
Chosen Option : 2

Q.5 निम्नलिखित में से किस मात्रा के लिए इकाई  $m/s^2$  का उपयोग किया जाता है?

- Ans
- ✗ 1. वेग
  - ✗ 2. दूरी
  - ✗ 3. संवेग
  - ✓ 4. त्वरण

Question ID : 9895805448  
Chosen Option : 4

Q.5 A और B की वर्तमान आयु का अनुपात 19 : 21 है। आठ वर्ष पहले उनकी आयु का क्रमशः अनुपात 15 : 17 था। यदि C की वर्तमान आयु A की वर्तमान आयु से 5 वर्ष कम है तो C की आयु कितनी है?

- Ans
- ✗ 1. 34 वर्ष
  - ✗ 2. 31 वर्ष
  - ✓ 3. 33 वर्ष
  - ✗ 4. 35 वर्ष

Question ID : 9895805751  
Chosen Option : 3

Q.5 एक वस्तु को ₹ 1700 में बेचकर एक आदमी 15% नुकसान उठाता है। यदि वह उसे ₹ 2050 में बेचता है तो उस वस्तु पर उसे कितने प्रतिशत का लाभ या हानि होगी?

- Ans
- ✗ 1. हानि,  $1\frac{1}{2}\%$
  - ✗ 2. लाभ,  $1\frac{1}{2}\%$
  - ✓ 3. लाभ,  $2\frac{1}{2}\%$
  - ✗ 4. हानि,  $2\frac{1}{2}\%$

Question ID : 9895805747  
Chosen Option : 3

Q.5 धातु गोले का अनुपात 9 cm है। इसे पिघला कर इससे खिंचकर 0.3 cm कातार बनाया जाता है, तो तार की लंबाई (m में) क्या है?

- Ans
- ✓ 1. 108
  - ✗ 2. 81

✗ 3. 162

✗ 4. 54

Question ID : 9895805756

Chosen Option : 1

Q.5 यदि एक शंकु का अनुपात, जब उसकी ऊंचाई में 50% की वृद्धि होती है तब, 20% कम होता है, तो इसकी आयतन में कितने प्रतिशत का परिवर्तन होगा?

Ans ✗ 1. 4% वृद्धि

✗ 2. 0.4% वृद्धि

✗ 3. 0.4% कमी

✓ 4. 4% कमी

Question ID : 9895805757

Chosen Option : 2

Q.5 एक दुकानदार किसी वस्तु के अंकित मूल्य पर 22% की छूट देता है और फिर भी 20% लाभ प्राप्त करता है। यदि वस्तु की लागत ₹ 520 है तो उसका अंकित मूल्य क्या है?

Ans ✓ 1. ₹ 800

✗ 2. ₹ 700

✗ 3. ₹ 750

✗ 4. ₹ 780

Question ID : 9895805745

Chosen Option : 1

Q.5  $6.25 + \frac{1}{9} \left[ 3.75 \div \left\{ \frac{5}{6} \text{ of } 0.4 \left( \frac{1}{3} - \frac{5}{6} + 0.75 \right) \right\} \right]$  का मान क्या है?

Ans ✗ 1. 10.75

✗ 2. 11.5

✗ 3. 10.5

✓ 4. 11.25

Question ID : 9895805742

Chosen Option : 4

Q.5 ₹ 45400 की राशि पर 15% के वार्षिक दर से  $2\frac{2}{5}$  वर्ष के अंत में चक्रवृद्धि ब्याज क्या होगा, जब कि ब्याज वार्षिक रूप से संयोजित होता है? (एक रुपये के निकटतम)

Ans ✗ 1. ₹ 17644

✗ 2. ₹ 18549

✗ 3. ₹ 19646

✓ 4. ₹ 18244

Question ID : 9895805753  
Chosen Option : 3

Q.5 A और B की क्षमता 5: 6 के अनुपात में हैं। साथ मिलकर कार्य करते हुए दोनों एक काम 120 दिनों में पूरा कर सकते हैं। B अकेला उस काम के 40% हिस्से को कितने दिनों में पूरा करेगा?

- Ans
- ✗ 1. 80 दिनों में
  - ✓ 2. 88 दिनों में
  - ✗ 3. 132 दिनों में
  - ✗ 4. 60 दिनों में

Question ID : 9895805761  
Chosen Option : 2

Q.5 एक कक्षा में कुछ लड़कियों का औसत वजन 56.4 kg है। बाद में 53.2 kg, 54.6 kg, 52.8 kg और 54 kg वजन की चार लड़कियों ने कक्षा छोड़ दी। परिणामतः, कक्षा में शेष लड़कियों का औसत वजन 275g बढ़ जाता है तो शुरुआत में लड़कियों की संख्या कितनी थी?

- Ans
- ✓ 1. 44
  - ✗ 2. 36
  - ✗ 3. 40
  - ✗ 4. 48

Question ID : 9895805743  
Chosen Option : 4

Q.6 एक कार 6 घंटे तक अलग-अलग गति से यात्रा करती है। पहले घंटे के लिए, यह 60 km/hr की गति से चलती है, अगले दो घंटे के लिए 54 km/hr गति से और शेष समय में x km/hr पर यात्रा करती है। यदि संपूर्ण यात्रा के लिए औसत गति 56.5 km/hr है, तो x का मान क्या है?

- Ans
- ✗ 1. 55.6
  - ✗ 2. 58
  - ✓ 3. 57
  - ✗ 4. 56.8

Question ID : 9895805759  
Chosen Option : 2

Q.6 यदि 4.8, 6, x और 8.5 के अनुपात में हैं, तो x का मान क्या है?

- Ans
- ✗ 1. 9.6
  - ✗ 2. 16
  - ✓ 3. 6.8

✗ 4. 9

Question ID : 9895805750  
Chosen Option : 3

Q.6 28 संख्याओं का औसत 35 है। पहली 15 संख्याओं का औसत 33 है और अंतिम 14 का 36.5 है। यदि 15वीं संख्या 2 को शामिल नहीं किया गया है, तो शेष संख्याओं का औसत क्या है?

- Ans
- ✗ 1.  $34\frac{2}{3}$
  - ✗ 2. 34
  - ✗ 3. 33
  - ✓ 4.  $35\frac{1}{3}$

Question ID : 9895805744  
Chosen Option : 1

Q.6 3 निम्नलिखित तालिका का अध्ययन करे (जिसमें पांच वर्षों के दौरान एक कंपनी द्वारा बेची गई कारों की संख्या को दर्शाया गया है) और प्रश्न का उत्तर दे।

वर्ष	बेची गई कारों की संख्या	डीजल से पेट्रोल इंजन कारों का अनुपात डीजल : पेट्रोल
2012	330	5 : 6
2013	480	13 : 11
2014	510	8 : 9
2015	420	11: 10
2016	630	17: 18

2014 में कंपनी द्वारा बेची गई डीजल इंजन कारों की संख्या 2012 में बेची गई पेट्रोल इंजन कारों की तुलना में कितने प्रतिशत अधिक है?

- Ans
- ✓ 1.  $33\frac{1}{3}\%$
  - ✗ 2. 25%
  - ✗ 3. 35%
  - ✗ 4. 40%

Question ID : 9895805763  
Chosen Option : 1

Q.6

4 एक राशि 4% के वार्षिक दर के साधारण ब्याज से 5 वर्षों में ₹ 6240 होती है। तो उस राशि पर  $5\frac{2}{5}$  वर्षों के लिए  $7\frac{1}{2}\%$  की दर पर साधारण ब्याज क्या होगा?

- Ans
- 1. ₹ 2808
  - 2. ₹ 2008
  - 3. ₹ 2516
  - 4. ₹ 2106

Question ID : 9895805752  
Chosen Option : 4

Q.6 5 एक गोलाकार लॉन का क्षेत्रफल 34 m, 20 m and 42 m की भुजाओं वाले त्रिकोणीय क्षेत्र के क्षेत्रफल के  $1\frac{5}{6}$  गुना है। लॉन की परिधि (m में) क्या है? ( $\pi=22/7$  लीजिए)

- Ans
- 1. 154
  - 2. 176
  - 3. 77
  - 4. 88

Question ID : 9895805755  
Chosen Option : 4

Q.6 6 नीचे दिए गए डेटा का माध्यिका क्या है?

प्राप्तांक	18	15	17	32	20	28
छात्रों की संख्या	10	3	6	8	15	9

- Ans
- 1. 20
  - 2. 17
  - 3. 24
  - 4. 25

Question ID : 9895805754  
Chosen Option : 2

Q.6 7 दो पाइप A और B क्रमशः 60 मिनट और 7 मिनट में एक टंकी भर सकते हैं। C एक आउटलेट (पानी बहार ले जानेवाला) पाइप है। जब सभी तीनों पाइप एक साथ खोले जाते हैं, तो टंकी 50 मिनट में भर जाती है। पाइप A और C को एक साथ 6 मिनट के लिए खोले जाते हैं और फिर बंद कर दिए जाते हैं। B अकेले टंकी के शेष भाग को कितनी देर में भरेगा?

- Ans
- 1. 72मिनट
  - 2. 63 मिनट
  - 3. 80मिनट
  - 4. 75मिनट

Question ID : 9895805760

Q.6 ₹ 12200 की राशि को A, B, C और D के बीच ऐसे विभाजित की जाती है ताकि A और B के हिस्सों का अनुपात 9 : 5 हो, B और C के हिस्सों का अनुपात 10 : 7 हो, D के हिस्से और B और C के संयुक्त हिस्सों का अनुपात 1 : 3 है। B का हिस्सा क्या है?

- Ans
- 1. ₹ 1700
  - 2. ₹ 5400
  - 3. ₹ 3000
  - 4. ₹ 2100

Question ID : 9895805749  
Chosen Option : 2

Q.6 निम्नलिखित तालिका का अध्ययन करे (जिसमें पांच वर्षों के दौरान एक कंपनी द्वारा बेची गई कारों की संख्या को दर्शाया गया है) और प्रश्न का उत्तर दे।

वर्ष	बेची गई कारों की संख्या	डीजल से पेट्रोल इंजन कारों का अनुपात डीजल : पेट्रोल
2012	330	5 : 6
2013	480	13 : 11
2014	510	8 : 9
2015	420	11: 10
2016	630	17: 18

2016 में कंपनी द्वारा बेची गई पेट्रोल कारों की संख्या 2013 में बेची गई डीजल इंजन कारों की संख्या का कितना प्रतिशत है? (एक दशमलव स्थान पर सही)

- Ans
- 1. 85.8
  - 2. 60.4
  - 3. 75.6
  - 4. 80.2

Question ID : 9895805764  
Chosen Option : 4

Q.7  
0

कुछ सामान एक निश्चित राशि में खरीदे जाते हैं। यदि एक तिहाई सामान को 10% की हानि पर बेचा जाता है, तो इस पूरे लेन-देन पर 20% का लाभ अर्जित करने के लिए शेष सामान को कितने प्रतिशत लाभ पर बेचा जाना चाहिए?

- Ans
- 1. 40%
  - 2. 32%
  - 3. 30%
  - 4. 35%

Question ID : 9895805746  
Chosen Option : 4

Q.7  $\left(\frac{1}{2} - \frac{1}{2} \times \frac{1}{2}\right) \div \left(\frac{1}{2} + \frac{1}{2} \text{ of } \frac{1}{2}\right) + \left(7\frac{3}{4} \text{ of } \frac{5}{31}\right) \div \left(15\frac{1}{3} \text{ of } \frac{2}{23} + \frac{1}{3}\right)$  का मान क्या है?

- Ans
- 1.  $\frac{13}{12}$
  - 2.  $\frac{4}{3}$
  - 3.  $\frac{4}{9}$
  - 4.  $\frac{1}{3}$

Question ID : 9895805741  
Chosen Option : 3

Q.7 एक परीक्षा में, गणित में 66% और अंग्रेजी में 70% अभ्यर्थी उत्तीर्ण हुए। यदि 20% अभ्यर्थी दोनों विषयों में अनुत्तीर्ण हुए और 350 अभ्यर्थी दोनों विषयों में उत्तीर्ण हुए तो कितने अभ्यर्थी परीक्षा में बैठे थे?

- Ans
- 1. 680
  - 2. 700
  - 3. 600
  - 4. 625

Question ID : 9895805748  
Chosen Option : 4

Q.7  
3

निम्नलिखित तालिका का अध्ययन करे (जिसमें पांच वर्षों के दौरान एक कंपनी द्वारा बेची गई कारों की संख्या को दर्शाया गया है) और प्रश्न का उत्तर दे।

वर्ष	बेची गई कारों की संख्या	डीजल से पेट्रोल इंजन कारों का अनुपात डीजल : पेट्रोल
2012	330	5 : 6
2013	480	13 : 11
2014	510	8 : 9
2015	420	11: 10
2016	630	17: 18

2013 और 2015 में कंपनी द्वारा बेची गई डीजल इंजन कारों की कुल संख्या और 2012 और 2014 में बेची गई पेट्रोल इंजन कारों की कुल संख्या का अनुपात क्या है?

- Ans
- 1. 38 : 37
  - 2. 15 : 14
  - 3. 6 : 5
  - 4. 16 : 15

Question ID : 9895805762

Chosen Option : 4

Q.7 एक नाव एक घंटे में 4 km धारा- प्रतिकूल (अपस्ट्रीम) और 6 km धारा-अनुकूल (डाउनस्ट्रीम) जाती है, जबकि वह  $6\frac{1}{2}$  घंटे में 36 km धारा-प्रतिकूल (अपस्ट्रीम) और 24 km धारा-अनुकूल (डाउनस्ट्रीम) जाती है जाती है। धारा-अनुकूल (डाउनस्ट्रीम) जाते समय नाव की गति km/hr में क्या है?

- Ans
- 1. 10
  - 2. 12
  - 3. 9
  - 4. 18

Question ID : 9895805758

Chosen Option : 2

Q.7 विभाजन विधि द्वारा दो संख्याओं के महत्तम समापवर्तक ज्ञात करने में, अंतिम भाजक 105 है और शुरु से अंत तक लगातार भागफल 1, 8 और 2 हैं। यदि दो संख्या के बीच का अंतर x है तो x के अंकों का योग क्या है?

- Ans
- 1. 3
  - 2. 5
  - 3. 6
  - 4. 7



Section : English Language

**Comprehension:**

In the following passage some words have been deleted. Fill in the blanks with the help of the alternatives given.

For generations man has (1) \_\_\_\_\_ against the wild to create a world where only he (2) \_\_\_\_\_ whether animals and plants survive or are (3) \_\_\_\_\_ out. Earlier, we accepted it as self-evident that any (4) \_\_\_\_\_ in our environment brought about by science and technology must be improvements (5) \_\_\_\_\_ the world of our ancestors.

**SubQuestion No : 1**

Q.1 Select the most appropriate option that will fill in the blank number 1.

- Ans
- 1. stood
  - 2. faced
  - 3. survived
  - 4. challenged

**Comprehension:**

In the following passage some words have been deleted. Fill in the blanks with the help of the alternatives given.

For generations man has (1) \_\_\_\_\_ against the wild to create a world where only he (2) \_\_\_\_\_ whether animals and plants survive or are (3) \_\_\_\_\_ out. Earlier, we accepted it as self-evident that any (4) \_\_\_\_\_ in our environment brought about by science and technology must be improvements (5) \_\_\_\_\_ the world of our ancestors.

**SubQuestion No : 2**

Q.2 Select the most appropriate option that will fill in the blank number 2.

- Ans
- 1. decides
  - 2. thinks
  - 3. advises
  - 4. observes

**Comprehension:**

In the following passage some words have been deleted. Fill in the blanks with the help of the alternatives given.

For generations man has (1) \_\_\_\_\_ against the wild to create a world where only he (2) \_\_\_\_\_ whether animals and plants survive or are (3) \_\_\_\_\_ out. Earlier, we accepted it as self-evident that any (4) \_\_\_\_\_ in our environment brought about by science and technology must be improvements (5) \_\_\_\_\_ the world of our ancestors.

SubQuestion No : 3

Q.3 Select the most appropriate option that will fill in the blank number 3.

- Ans
- 1. taken
  - 2. thrown
  - 3. put
  - 4. wiped

Question ID : 9895805293  
Chosen Option : --

Comprehension:

In the following passage some words have been deleted. Fill in the blanks with the help of the alternatives given.

For generations man has (1) \_\_\_\_\_ against the wild to create a world where only he (2) \_\_\_\_\_ whether animals and plants survive or are (3) \_\_\_\_\_ out. Earlier, we accepted it as self-evident that any (4) \_\_\_\_\_ in our environment brought about by science and technology must be improvements (5) \_\_\_\_\_ the world of our ancestors.

SubQuestion No : 4

Q.4 Select the most appropriate option that will fill in the blank number 4.

- Ans
- 1. differences
  - 2. replacements
  - 3. changes
  - 4. increments

Question ID : 9895805294  
Chosen Option : --

Comprehension:

In the following passage some words have been deleted. Fill in the blanks with the help of the alternatives given.

For generations man has (1) \_\_\_\_\_ against the wild to create a world where only he (2) \_\_\_\_\_ whether animals and plants survive or are (3) \_\_\_\_\_ out. Earlier, we accepted it as self-evident that any (4) \_\_\_\_\_ in our environment brought about by science and technology must be improvements (5) \_\_\_\_\_ the world of our ancestors.

SubQuestion No : 5

Q.5 Select the most appropriate option that will fill in the blank number 5.

- Ans
- 1. for
  - 2. at
  - 3. over
  - 4. in

Question ID : 9895805295  
Chosen Option : --

Q.6 Select the synonym of the given word.

EXTROVERT

- Ans
- 1. Talkative
  - 2. Reticent
  - 3. Reserved
  - 4. Introvert

Question ID : 9895805297  
Chosen Option : --

Q.7 Select the word which means the same as the group of words given.

The study of ancient events and societies.

- Ans
- 1. Anthropology
  - 2. Archaeology
  - 3. Sociology
  - 4. History

Question ID : 9895805302  
Chosen Option : --

Q.8 Select the word which means the same as the group of words given.

A geometrical figure with eight sides

- Ans
- 1. Octagon

- 2. Hexagon
- 3. Parallelogram
- 4. Pentagon

Question ID : 9895805303  
Chosen Option : --

Q.9 Select the option that means the same as the given idiom.

Feeling under the weather

- Ans
- 1. To feel exactly like the weather
  - 2. To not feel well
  - 3. To not look good
  - 4. To feel like pleasing weather

Question ID : 9895805301  
Chosen Option : --

Q.1 From the given options, identify the segment in the sentence which contains the grammatical error.

0

A community is liked a ship; everyone should be prepared to take the helm.

- Ans
- 1. take the helm
  - 2. should be
  - 3. A community
  - 4. liked a ship

Question ID : 9895805283  
Chosen Option : --

Q.1 Select the correctly spelt word.

1

- Ans
- 1. Bureacracy
  - 2. Bureaucracy
  - 3. Burocracy
  - 4. Buraucracy

Question ID : 9895805304  
Chosen Option : --

Q.1 Select the antonym of the given word.

2

ASCERTAIN

- Ans
- 1. Detect
  - 2. Observe
  - 3. Find out

4. Overlook

Question ID : 9895805299  
Chosen Option : --

Q.1  
3 Select the most appropriate option to fill in the blank.

Greatness is what \_\_\_\_\_ you honourable.

- Ans
- 1. makes
  - 2. will made
  - 3. had made
  - 4. is making

Question ID : 9895805288  
Chosen Option : --

Q.1  
4 From the given options, identify the segment in the sentence which contains the grammatical error.

You assertion that you were thoroughly ignorant of the consequences cannot be believed.

- Ans
- 1. cannot be
  - 2. You assertion
  - 3. ignorant of
  - 4. were thoroughly

Question ID : 9895805282  
Chosen Option : --

Q.1  
5 Select the most appropriate option to substitute the underlined segment in the given sentence. If there is no need to substitute it, select No improvement.

I want to learn Hindi from teacher.

- Ans
- 1. No improvement
  - 2. from the teacher
  - 3. from a Hindi teacher
  - 4. from any teacher

Question ID : 9895805285  
Chosen Option : --

Q.1  
6 Select the most appropriate option to substitute the underlined segment in the given sentence. If there is no need to substitute it, select No improvement.

You must be fully involved what you do.

- Ans
- 1. fully involved into
  - 2. fully involved in
  - 3. No improvement
  - 4. fully involved for

Q.1  
7 Select the option that means the same as the given idiom.

Once in a blue moon

- Ans
- 1. Once in a month
  - 2. Infrequently
  - 3. Frequently
  - 4. Once in a fortnight

Q.1  
8 Select the most appropriate option to substitute the underlined segment in the given sentence. If there is no need to substitute it, select No improvement.

He lost the paper with the plan of the building which I had prepared.

- Ans
- 1. the plain paper
  - 2. the plan paper
  - 3. No improvement
  - 4. a plan paper

Q.1  
9 Select the most appropriate option to fill in the blank.

Noori praised him for having an \_\_\_\_\_ plan.

- Ans
- 1. intense
  - 2. excellent
  - 3. indefinite
  - 4. elementary

Q.2  
0 From the given options, identify the segment in the sentence which contains the grammatical error.

All we could find out from his neighbours are that he has a job in a corporate company.

- Ans
- 1. in a corporate company
  - 2. are that
  - 3. could find out
  - 4. his neighbours

Chosen Option : --

Q.2  
1 Select the synonym of the given word.

**BAFFLE**

- Ans
- 1. Discuss
  - 2. Confuse
  - 3. Convince
  - 4. Gossip

Question ID : 9895805296  
Chosen Option : --

Q.2  
2 Select the correctly spelt word.

- Ans
- 1. Encyclopediia
  - 2. Encyclopedia
  - 3. Incyclopedia
  - 4. Enciclopedia

Question ID : 9895805305  
Chosen Option : --

Q.2  
3 Select the most appropriate word to fill in the blank.

It is neither the size nor the length of life which makes a man \_\_\_\_\_.

- Ans
- 1. feeble
  - 2. inhuman
  - 3. heartless
  - 4. humble

Question ID : 9895805307  
Chosen Option : --

Q.2  
4 Select the most appropriate word to fill in the blank.

The same sciences which have led us away from nature are now \_\_\_\_\_ the miracle of creation.

- Ans
- 1. unfolding
  - 2. discussing about
  - 3. narrating
  - 4. arguing with

Question ID : 9895805306  
Chosen Option : --

Q.2

5 Select the antonym of the given word.

NOMINATE

- Ans
- 1. Reject
  - 2. Depute
  - 3. Agreed
  - 4. Suggest

Question ID : 9895805298  
Chosen Option : --

Section : Hindi Language

Q.1 दिए गए वाक्य में रेखांकित खंड को प्रतिस्थापित करने के लिए उपयुक्त विकल्प का चयन करें।

मोहन को काटकर सेब खिलाओ।

- Ans
- 1. सेबों मोहन को काटकर खिलाओ।
  - 2. मोहन से काटकर सेब खिलाओ।
  - 3. काटकर सेब को मोहन खिलाओ।
  - 4. मोहन को सेब काटकर खिलाओ।

Question ID : 9895805821  
Chosen Option : 4

Q.2 सही वर्तनी वाले शब्द का चयन करें।

- Ans
- 1. आयुष्मान
  - 2. आयुषमान
  - 3. आयुशमान
  - 4. आयुश्मान

Question ID : 9895805841  
Chosen Option : 1

Q.3 निम्नलिखित में से उस विकल्प का चयन करें जो 'गुड़ गोबर कर देना' मुहावरे का अर्थ व्यक्त करता है।

- Ans
- 1. गुड़ और गोबर को मिला देना
  - 2. गुड़ को गोबर में बदलना
  - 3. काम सुधार देना
  - 4. काम बिगाड़ देना

Question ID : 9895805836



Q.4 दिए गए शब्द के पर्यायवाची शब्द का चयन करें।

आदी

- Ans
- 1. अन्य
  - 2. और
  - 3. अभ्यस्त
  - 4. आदि

Question ID : 9895805834  
Chosen Option : 3

Q.5 दिए गए वाक्य का वह भाग ज्ञात करें जिसमें कोई त्रुटि है।

परोपकार करने से मनुष्य का मन में शांति का अनुभव होता है।

- Ans
- 1. होता है।
  - 2. शांति का अनुभव
  - 3. परोपकार करने से
  - 4. मनुष्य का मन में

Question ID : 9895805817  
Chosen Option : 4

Q.6 रिक्त स्थान को भरने के लिए उपयुक्त शब्द का चयन करें।

इस लड़की की लंबाई \_\_\_\_\_ है।

- Ans
- 1. चौड़ी
  - 2. पतली
  - 3. अधिक
  - 4. लंबी

Question ID : 9895805823  
Chosen Option : 3

Q.7 निम्नलिखित में से उस विकल्प का चयन करें जो 'नमक मिर्च लगाना' मुहावरे का अर्थ व्यक्त करता है।

- Ans
- 1. उपहास करना
  - 2. अनुनय करना
  - 3. नमक और मिर्च लगाकर रखना
  - 4. बढ़ा-चढ़ा कर कहना

## Comprehension:

निम्नलिखित गद्यांश के रिक्त स्थानों की पूर्ति गद्यांश के नीचे दिए गए प्रश्नों के अनुसार कीजिए -

ईर्ष्या विवेक की विरोधी है। ईर्ष्या वह काली \_\_\_\_\_ (1) है जो समस्त भूमंडल में विषाक्त फुफकारें छोड़ती है। यह भ्रान्ति की गर्म हवा है जो शरीर के अंदर 'लू' की तरह चलती रहती है और मानसिक शक्तियों को झुलसा कर \_\_\_\_\_ (2) कर देती है। अतः दूसरों के सुख देखकर \_\_\_\_\_ (3) का अनुभव करना चाहिए। विदुर जी का मत है, जिनका हृदय द्वेष की \_\_\_\_\_ (4) में जलता है उन्हें रात में \_\_\_\_\_ (5) नहीं आती।

## SubQuestion No : 8

Q.8 गद्यांश में संकेतित रिक्त स्थान (1) के लिए उपयुक्त शब्द होगा -

- Ans
- 1. बिल्ली
  - 2. शेरनी
  - 3. नागिन
  - 4. लोमड़ी

Question ID : 9895805827  
Chosen Option : 3

## Comprehension:

निम्नलिखित गद्यांश के रिक्त स्थानों की पूर्ति गद्यांश के नीचे दिए गए प्रश्नों के अनुसार कीजिए -

ईर्ष्या विवेक की विरोधी है। ईर्ष्या वह काली \_\_\_\_\_ (1) है जो समस्त भूमंडल में विषाक्त फुफकारें छोड़ती है। यह भ्रान्ति की गर्म हवा है जो शरीर के अंदर 'लू' की तरह चलती रहती है और मानसिक शक्तियों को झुलसा कर \_\_\_\_\_ (2) कर देती है। अतः दूसरों के सुख देखकर \_\_\_\_\_ (3) का अनुभव करना चाहिए। विदुर जी का मत है, जिनका हृदय द्वेष की \_\_\_\_\_ (4) में जलता है उन्हें रात में \_\_\_\_\_ (5) नहीं आती।

## SubQuestion No : 9

Q.9 गद्यांश में संकेतित रिक्त स्थान (2) के लिए उपयुक्त शब्द होगा -

- Ans
- 1. पानी
  - 2. राख
  - 3. मिठाई
  - 4. सब्जी

Question ID : 9895805828  
Chosen Option : 2

Comprehension:

निम्नलिखित गद्यांश के रिक्त स्थानों की पूर्ति गद्यांश के नीचे दिए गए प्रश्नों के अनुसार कीजिए -

ईर्ष्या विवेक की विरोधी है। ईर्ष्या वह काली \_\_\_\_\_ (1) है जो समस्त भ्रूमंडल में विषाक्त फुफकारें छोड़ती है। यह भ्रान्ति की गर्म हवा है जो शरीर के अंदर 'लू' की तरह चलती रहती है और मानसिक शक्तियों को झुलसा कर \_\_\_\_\_ (2) कर देती है। अतः दूसरों के सुख देखकर \_\_\_\_\_ (3) का अनुभव करना चाहिए। विदुर जी का मत है, जिनका हृदय द्वेष की \_\_\_\_\_ (4) में जलता है उन्हें रात में \_\_\_\_\_ (5) नहीं आती।

SubQuestion No : 10

Q.10 गद्यांश में संकेतित रिक्त स्थान (3) के लिए उपयुक्त शब्द होगा -

- Ans
- 1. सुगंध
  - 2. प्रसन्नता
  - 3. पसीना
  - 4. दुर्गंध

Question ID : 9895805829  
Chosen Option : 2

Comprehension:

निम्नलिखित गद्यांश के रिक्त स्थानों की पूर्ति गद्यांश के नीचे दिए गए प्रश्नों के अनुसार कीजिए -

ईर्ष्या विवेक की विरोधी है। ईर्ष्या वह काली \_\_\_\_\_ (1) है जो समस्त भूमंडल में विषाक्त फुफकारें छोड़ती है। यह भ्रान्ति की गर्म हवा है जो शरीर के अंदर 'लू' की तरह चलती रहती है और मानसिक शक्तियों को झुलसा कर \_\_\_\_\_ (2) कर देती है। अतः दूसरों के सुख देखकर \_\_\_\_\_ (3) का अनुभव करना चाहिए। विदुर जी का मत है, जिनका हृदय द्वेष की \_\_\_\_\_ (4) में जलता है उन्हें रात में \_\_\_\_\_ (5) नहीं आती।

SubQuestion No : 11

Q.1  
1 गद्यांश में संकेतित रिक्त स्थान (4) के लिए उपयुक्त शब्द होगा -

- Ans
- 1. सब्जी
  - 2. आग
  - 3. पानी
  - 4. मिर्च

Question ID : 9895805830  
Chosen Option : 2

Comprehension:

निम्नलिखित गद्यांश के रिक्त स्थानों की पूर्ति गद्यांश के नीचे दिए गए प्रश्नों के अनुसार कीजिए -

ईर्ष्या विवेक की विरोधी है। ईर्ष्या वह काली \_\_\_\_\_ (1) है जो समस्त भूमंडल में विषाक्त फुफकारें छोड़ती है। यह भ्रान्ति की गर्म हवा है जो शरीर के अंदर 'लू' की तरह चलती रहती है और मानसिक शक्तियों को झुलसा कर \_\_\_\_\_ (2) कर देती है। अतः दूसरों के सुख देखकर \_\_\_\_\_ (3) का अनुभव करना चाहिए। विदुर जी का मत है, जिनका हृदय द्वेष की \_\_\_\_\_ (4) में जलता है उन्हें रात में \_\_\_\_\_ (5) नहीं आती।

SubQuestion No : 12

Q.1  
2 गद्यांश में संकेतित रिक्त स्थान (5) के लिए उपयुक्त शब्द होगा -

- Ans
- 1. सुगंध
  - 2. दुर्गंध
  - 3. नींद
  - 4. मिठाई

Question ID : 9895805831  
Chosen Option : 3

Q.1  
3 दिए गए वाक्य में रेखांकित खंड को प्रतिस्थापित करने के लिए उपयुक्त विकल्प का चयन करें।  
मुंबई जैसे शहर में अच्छा मकान मिलने बहुत मुश्किल है।

- Ans
- 1. अच्छा मकान मिलना
  - 2. अच्छी मकान मिलना
  - 3. अच्छी मकानें मिलना
  - 4. अच्छे मकानों मिलना

Question ID : 9895805819  
Chosen Option : 1

Q.1  
4 रिक्त स्थान को भरने के लिए उपयुक्त शब्द का चयन करें।

कारखानों के धुएँ से वातावरण \_\_\_\_\_ हो रहा है।

- Ans
- 1. गन्दी
  - 2. दूषित
  - 3. साफ
  - 4. स्वच्छ

Question ID : 9895805825  
Chosen Option : 2

Q.1  
5 रिक्त स्थान को भरने के लिए उपयुक्त शब्द का चयन करें।

पेड़ में पानी डालो \_\_\_\_\_ वह सूख जाएगा।

- Ans
- 1. अन्यथा
  - 2. परंतु
  - 3. लेकिन
  - 4. किंतु

Question ID : 9895805822

Q.1  
6 सही वर्तनी वाले शब्द का चयन करें।

- Ans
- 1. पिकदान
  - 2. पीकदन
  - 3. पीकदान
  - 4. पीकदाम

Question ID : 9895805840  
Chosen Option : 3

Q.1  
7 दिये गये वाक्यांश के लिए एक शब्द दीजिये।

जो वर्ष में एक बार होता हो

- Ans
- 1. साप्ताहिक
  - 2. वार्षिक
  - 3. दैनिक
  - 4. पाक्षिक

Question ID : 9895805839  
Chosen Option : 2

Q.1  
8 दिए गए वाक्य का वह भाग ज्ञात करें जिसमें कोई त्रुटि है।

बात तो तुमने ठीक कही है पर इतने रुपए कहाँ से आएगा।

- Ans
- 1. पर इतने रुपए
  - 2. बात तो तुमने
  - 3. कहाँ से आएगा।
  - 4. ठीक कही है

Question ID : 9895805816  
Chosen Option : 3

Q.1  
9 दिए गए शब्द के पर्यायवाची शब्द का चयन करें।

रुधिर

- Ans
- 1. विकार
  - 2. पय
  - 3. रक्त
  - 4. आधि

Q.2  
0 रिक्त स्थान को भरने के लिए उपयुक्त शब्द का चयन करें।

चाकू से फल \_\_\_\_\_ दो।

- Ans
- 1. काट
  - 2. खिला
  - 3. धो
  - 4. फाड़

Q.2  
1 दिए गए वाक्य में रेखांकित खंड को प्रतिस्थापित करने के लिए उपयुक्त विकल्प का चयन करें।

जब से वह अपने घर से आई है जब से वह कुछ बोल नहीं रही है।

- Ans
- 1. कब से वह
  - 2. जभी से वह
  - 3. तब से वह
  - 4. अब से वह

Q.2  
2 दिये गये वाक्यांश के लिए एक शब्द दीजिये।

जो अधिक बोलता हो

- Ans
- 1. मितभाषी
  - 2. वाचाल
  - 3. अपव्ययी
  - 4. मितव्ययी

Q.2  
3 दिए गए शब्द का विलोम चुनें।

निरामिष

- Ans
- 1. विष
  - 2. सामिष
  - 3. आवेश

✗ 4. अन्वेषण

Question ID : 9895805832  
Chosen Option : 2

Q.2  
4 दिए गए वाक्य का वह भाग ज्ञात करें जिसमें कोई त्रुटि है।

उस दृश्य को देखकर मेरा तो प्राण निकल गए।

- Ans
- ✗ 1. उस दृश्य
  - ✓ 2. मेरा तो प्राण
  - ✗ 3. को देखकर
  - ✗ 4. निकल गए।

Question ID : 9895805818  
Chosen Option : 2

Q.2  
5 दिए गए शब्द का विलोम चुनें।

गुप्त

- Ans
- ✓ 1. प्रकट
  - ✗ 2. प्रसार
  - ✗ 3. प्रच्छन्न
  - ✗ 4. गुप्तचर

Question ID : 9895805833  
Chosen Option : 1





# Latest Sarkari jobs, Govt Exam alerts, Results and Vacancies

- ▶ Latest News and Notification
- ▶ Exam Paper Analysis
- ▶ Topic-wise weightage
- ▶ Previous Year Papers with Answer Key
- ▶ Preparation Strategy & Subject-wise Books

To know more [Click Here](#)



[www.prepp.in](http://www.prepp.in)