




















Practice, Learn and Achieve
Your Goal with Prepp

NVS Exam

PGT Commerce Paper (2019)

Simplifying
Government Exams

 SSC CHSL	 IAS EXAM	 RRB NTPC	 NTSE	 CDS
 SSC CGL	 CBSE UGC NET	 IBPS PO	 NDA	
 SBI PO	 IBPS CLERK	 AFCAT	 SSC JE	 CTET
 CSIR UGC NET	 CAPF	 IBPS RRB		

www.prepp.in



Navodaya Vidyalaya Samiti

(An Autonomous Body Under MHRD) Government of India

Roll No.	
Participant Name	
Test Center Name	
Test Date	
Test Time	
Subject	PGT Commerce

Section : General (English & Hindi)

Q.1 Select the most appropriate option to fill in the blank:

I cannot interview these candidates _____ I know their academic background.

- Ans
- 1. if
 - 2. because
 - 3. so that
 - 4. unless

Question ID : 5096475929
Status : Answered
Chosen Option : 2

Q.2 Select the correct passive form of the given sentence:

The scientists have confirmed the existence of 44 new planets in other solar systems.

- Ans
- 1. The existence of 44 new planets in other solar systems will be confirmed by scientists.
 - 2. The existence of 44 new scientists in other solar systems has been confirmed by the planets.
 - 3. The existence of 44 new planets in other solar systems confirmed scientists.
 - 4. The existence of 44 new planets in other solar systems has been confirmed by scientists.

Question ID : 5096475931
Status : Answered
Chosen Option : 4

Q.3 Select the most appropriate option to fill in the blank:

Please put off the television. Can't you see, Dadaji _____ on his book.

- Ans
- 1. has worked
 - 2. worked
 - 3. works
 - 4. is working

Question ID : 5096475923
 Status : Answered
 Chosen Option : 4

Q.4 Select the option which is NOT an antonym of another word by way of adding the prefix 'dis-'.

- Ans
- 1. Disillusion
 - 2. Displease
 - 3. Dispense
 - 4. Disappear

Question ID : 5096475936
 Status : Answered
 Chosen Option : 3

Q.5 Select the most appropriate option to fill in the blank:

The _____ ship prove to be a treasure trove for the pirates.

- Ans
- 1. drowned
 - 2. drowning
 - 3. sunk
 - 4. sunken

Question ID : 5096475925
 Status : Answered
 Chosen Option : 3

Q.6 Select the most appropriate ANTONYM of the given word:

EXUDE

- Ans
- 1. Convey
 - 2. Emanate
 - 3. Give
 - 4. Absorb

Question ID : 5096475935
 Status : Answered
 Chosen Option : 4

Q.7 Select the most appropriate synonym of the given word:

ABANDONED

- Ans
- 1. Discarded
 - 2. Dismissed
 - 3. Disturbed
 - 4. Dispersed

Question ID : 5096475934
 Status : Answered
 Chosen Option : 4

Q.8 Select the most appropriate synonym of the given word:

DISCRETIONARY

- Ans
- 1. Exceptional
 - 2. Optional
 - 3. Necessary
 - 4. Fixed

Question ID : 5096475933
Status : Answered
Chosen Option : 1

Q.9 Select the most appropriate option to fill in the blank:

This hotel is _____ than the other hotels on this road.

- Ans
- 1. cheaper
 - 2. as cheap
 - 3. cheapest
 - 4. cheap

Question ID : 5096475926
Status : Answered
Chosen Option : 1

Q.10 Select the most appropriate option to fill in the blank:

The Jews brought strange trees and Ibrahim made Farouk count _____.

- Ans
- 1. us
 - 2. him
 - 3. them
 - 4. they

Question ID : 5096475927
Status : Answered
Chosen Option : 3

Q.11 Select the most appropriate option to fill in the blank:

You _____ yourself if you too near to that machine.

- Ans
- 1. have injured
 - 2. injure
 - 3. will injure
 - 4. injured

Question ID : 5096475924
Status : Answered
Chosen Option : 2

Q.12 Select the option that expresses the given sentence in reported speech.

Rahul said to me, "I will get the vegetables for you from the market."

Rahul told me that:

- Ans
- 1. I will get the vegetables for you from the market.
 - 2. He will get the vegetables for me from the market.
 - 3. He would get the vegetables for you from the market.
 - 4. He would get the vegetables for me from the market.

Question ID : 5096475941
Status : Answered
Chosen Option : 4

Q.13 Select the most appropriate option to fill in the blank:

Her parent gave her a satellite phone _____ she needed to contact somebody in emergency while on her high altitude climb.

- Ans
- 1. so that
 - 2. whereas
 - 3. as though
 - 4. in case

Question ID : 5096475930
Status : Answered
Chosen Option : 4

Q.14 Select the correct passive form of the given sentence:

The landowners sold the abandoned land to the Jewish Land Fund at an outrageous price.

- Ans
- 1. The abandoned land sold the landowners to the Jewish Land Fund at an outrageous price.
 - 2. The Jewish Land Fund was sold by the landowners to abandoned land at an outrageous price.
 - 3. The abandoned land had been sold by the landowners to the Jewish Land Fund at an outrageous price.
 - 4. The abandoned land was sold by the landowners to the Jewish Land Fund at an outrageous price.

Question ID : 5096475932
Status : Answered
Chosen Option : 4

Q.15 In the following sentence four words or phrases have been underlined. One of them is incorrect. Choose the INCORRECT word or phrase from the given options:

Forty-eight special trains was run over the past two days from Kerala to Chennai and other areas to rescue the people stranded in Kerala floods.

- Ans
- 1. stranded in Kerala floods
 - 2. over the past two days
 - 3. to rescue
 - 4. was run

Question ID : 5096475940
 Status : Answered
 Chosen Option : 4

Q.16 Select the INCORRECTLY spelt word:

- Ans
- 1. Gorgeous
 - 2. Grandeur
 - 3. Guardian
 - 4. Garrantee

Question ID : 5096475938
 Status : Answered
 Chosen Option : 4

Q.17 In the following sentence four words or phrases have been underlined. One of them is incorrect. Choose the INCORRECT word or phrase from the given options:

Grandmother often took me with her when she is going to the Sennaya Square for water.

- Ans
- 1. for water
 - 2. often
 - 3. with her
 - 4. is going

Question ID : 5096475939
 Status : Answered
 Chosen Option : 4

Q.18 Select the correctly spelt word:

- Ans
- 1. Commision
 - 2. Cummission
 - 3. Commission
 - 4. Comission

Question ID : 5096475937
 Status : Answered
 Chosen Option : 3

Q.19 Select the option that expresses the given sentence in direct speech.

Sapan told his mother not to worry. He would go to town and look for work. Then they would be able to pay their debt.

Sapan said,

- Ans
- 1. "Don't worry, mother. He will go to town and look for work. Then he will be able to pay their debt."
 - 2. "Mother, not to worry. He would go to town and look for work. Then they would be able to pay their debt."
 - 3. "Don't worry, mother. I will go to town and look for work. Then we will be able to pay our debt."
 - 4. "Don't worry, mother. I would go to town and look for work. Then we would be able to pay our debt."

Question ID : 5096475942
 Status : Answered
 Chosen Option : 3

Q.20 Select the most appropriate option to fill in the blank:

There is nothing wrong with the television set _____ but there is definitely some problem in the dish.

- Ans
- 1. himself
 - 2. themselves
 - 3. itself
 - 4. oneself

Question ID : 5096475928
Status : Answered
Chosen Option : 3

Q.21 स्त्रीलिंग शब्द है:

- Ans
- 1. धोबिन
 - 2. बाग
 - 3. चिड़ा
 - 4. लोटा

Question ID : 5096475962
Status : Answered
Chosen Option : 1

Q.22 'मुट्टी गरम करना' मुहावरे का उचित अर्थ बताइए:

- Ans
- 1. हाथ तापना
 - 2. हाथ हिलाना
 - 3. रिश्वत देना
 - 4. चोट पहुँचाना

Question ID : 5096475951
Status : Answered
Chosen Option : 3

Q.23 नाक के लिए तत्सम शब्द होगा:

- Ans
- 1. अंग
 - 2. नख
 - 3. नासिका
 - 4. नाग

Question ID : 5096475944
Status : Answered
Chosen Option : 3

Q.24 'ऊपर से मित्रता, अंदर से कपट' के लिए लोकोक्ति होगी:

- Ans
- 1. जैसी करनी वैसी भरनी
 - 2. मुँह में राम बगल में छुरी:

✗ 3. नौ नकद न तेरह उधार

✗ 4. नेकी कर कुएँ में डाल

Question ID : 5096475953
Status : Answered
Chosen Option : 2

Q.25 रामभक्त शब्द में समास है

Ans ✗ 1. अव्ययीभाव

✓ 2. तत्पुरुष

✗ 3. द्वन्द्व

✗ 4. बहुब्रीहि

Question ID : 5096475959
Status : Answered
Chosen Option : 2

Q.26 'अच्छे बुरे का अंतर न करना' वाक्यांश के लिए उचित मुहावरा होगा:

Ans ✗ 1. ऊंगली पर नचाना

✓ 2. एक लाठी से हाँकना

✗ 3. ऊंगली उठाना

✗ 4. ईमान बेचना

Question ID : 5096475952
Status : Answered
Chosen Option : 2

Q.27 'नफ़ा' का विलोम है:

Ans ✓ 1. नुकसान

✗ 2. लाभ

✗ 3. मुनाफ़ा

✗ 4. फ़ायदा

Question ID : 5096475949
Status : Answered
Chosen Option : 1

Q.28 वेद + अंत की संधि है:

Ans ✗ 1. बेदांत

✗ 2. भेदांत

✗ 3. वेधांत

✓ 4. वेदांत

Status : Answered
Chosen Option : 4

Q.29 यह कपड़ा गंदा है। वाक्य का बहुवचन है:

- Ans
- 1. यह गंदा कपड़ा है।
 - 2. यह कपड़ा गंदे है।
 - 3. ये कपड़े गंदे हैं।
 - 4. ये कपड़ा गंदा है।

Question ID : 5096475961
Status : Answered
Chosen Option : 3

Q.30 निम्नलिखित में से तत्सम शब्द कौन सा है:

- Ans
- 1. पत्थर
 - 2. निद्रा
 - 3. नया
 - 4. पैर

Question ID : 5096475943
Status : Answered
Chosen Option : 2

Q.31 तद्भव शब्द बताइए:

- Ans
- 1. विद्युत्
 - 2. भाप
 - 3. विवाह
 - 4. वधू

Question ID : 5096475946
Status : Answered
Chosen Option : 1

Q.32 _____ (समय के अनुसार) चलोगे तभी सफल हो पाओगे। रिक्त स्थान भरिए:

- Ans
- 1. आसमय
 - 2. प्रतिसमय
 - 3. अनुसमय
 - 4. यथासमय

Question ID : 5096475958
Status : Answered
Chosen Option : 4

Q.33 जगन्नाथ का सही संधि विच्छेद है:

- Ans
- 1. जगत + नाथ

- ✓ 2. जगत् + नाथ
 ✗ 3. जग + नाथ
 ✗ 4. जगन + अनाथ

Question ID : 5096475955
 Status : Answered
 Chosen Option : 2

Q.34 मलिन का पर्याय है:

- Ans ✗ 1. कलत्र
 ✓ 2. दूषित
 ✗ 3. कच
 ✗ 4. उत्पल

Question ID : 5096475948
 Status : Answered
 Chosen Option : 2

Q.35 सदैव बहुवचन में प्रयुक्त होने वाला शब्द है:

- Ans ✗ 1. धातु
 ✓ 2. आँसू
 ✗ 3. चिड़िया
 ✗ 4. कवि

Question ID : 5096475960
 Status : Answered
 Chosen Option : 2

Q.36 निम्नलिखित में से कौन सा तद्रव शब्द है:

- Ans ✗ 1. पिपासा
 ✗ 2. वानर
 ✓ 3. बच्चा
 ✗ 4. लौह

Question ID : 5096475945
 Status : Answered
 Chosen Option : 3

Q.37 नौका का पर्याय नहीं है:

- Ans ✗ 1. तरी
 ✓ 2. जलभेरी
 ✗ 3. तरिणी
 ✗ 4. नाव

Question ID : 5096475947
 Status : Answered
 Chosen Option : 1

Q.38 रहिम्न पानी राखिये, बिन पानी सब सून् में अलंकार है:

- Ans
- 1. मानवीकरण अलंकार
 - 2. अनुप्रास अलंकार
 - 3. रूपक अलंकार
 - 4. श्लेष अलंकार

Question ID : 5096475957
Status : Answered
Chosen Option : 4

Q.39 निम्नलिखित में से कौन सा वाक्य अशुद्ध है:

- Ans
- 1. वह अपने घर गई हैं।
 - 2. मैं गीत सुना चुका हूँ।
 - 3. वह हिंदी नहीं बोल सकी।
 - 4. लड़के ने अपना काम किया।

Question ID : 5096475954
Status : Answered
Chosen Option : 3

Q.40 'अस्थिर' का विलोम होगा:

- Ans
- 1. स्थिर
 - 2. मूक
 - 3. चलायमान
 - 4. अचल

Question ID : 5096475950
Status : Answered
Chosen Option : 1

Section : General Awareness

Q.1 यूनानियों द्वारा निम्नलिखित में से किस भारतीय राजा को 'अमित्रोचेट्स' अर्थात् दुश्मनों का संहार करने वाला राजा कहा जाता था?

- Ans
- 1. अशोक
 - 2. बिन्दुसार
 - 3. दशरथ
 - 4. चंद्रगुप्त मौर्य

Question ID : 5096475973
Status : Answered
Chosen Option : 2

Q.2 एक पौधे के निम्नलिखित में से किस भाग में प्रकाश संश्लेषण की प्रक्रिया नहीं होती है?

- 1. शाखाओं
- 2. जड़
- 3. पत्ते
- 4. तना

Question ID : 5096475985
Status : Answered
Chosen Option : 2

Q.3 एशियाई खेल 2018 में भारत ने कुल कितने पदक जीते हैं?

- Ans
- 1. 49
 - 2. 79
 - 3. 59
 - 4. 69

Question ID : 5096475970
Status : Answered
Chosen Option : 2

Q.4 'ए रूरल मेनिफेस्टो-रियलाइजिंग इंडियाज फ्यूचर फ्रॉम हिज विलेज' नामक पुस्तक किसने लिखी है?

- Ans
- 1. अरुण शौरी
 - 2. बृदा करात
 - 3. वरुण गांधी
 - 4. प्रशांत भूषण

Question ID : 5096475964
Status : Answered
Chosen Option : 1

Q.5 सोनापानी मिनी-हाइडल पावर प्रोजेक्ट नामक हेरिटेज पावर प्रोजेक्ट, भारत के किस राज्य में स्थित है?

- Ans
- 1. मिज़ोरम
 - 2. मेघालय
 - 3. उत्तरांचल
 - 4. हिमाचल प्रदेश

Question ID : 5096475988
Status : Answered
Chosen Option : 4

Q.6 भारतीय संविधान का निम्नलिखित में से कौन सा अनुच्छेद, धन विधेयक से संबंधित है?

- Ans
- 1. अनुच्छेद 234
 - 2. अनुच्छेद 144
 - 3. अनुच्छेद 216
 - 4. अनुच्छेद 199

Question ID : 5096475979

Status : Answered

Chosen Option : 3

Q.7 वर्ष 1930 में भारत की स्वतंत्रता संग्राम के दौरान, चटगाँव शस्त्रागार पर आक्रमण करने वाले नेता कौन थे?

Ans

1. बिनाय बसु
2. सूर्य सेन
3. रासबिहारी बोस
4. अंबिका चक्रवर्ती

Question ID : 5096475976

Status : Answered

Chosen Option : 3

Q.8 36 km प्रति घंटा निम्नलिखित में से किसके बराबर है?

Ans

1. 5 मीटर प्रति सेकंड
2. 20 मीटर प्रति सेकंड
3. 10 मीटर प्रति सेकंड
4. 1 मीटर प्रति सेकंड

Question ID : 5096475987

Status : Answered

Chosen Option : 3

Q.9 HCl + NaOH, _____ + H₂O प्रदान करता है।

Ans

1. NaOH
2. ClOH
3. NaCl
4. HCl

Question ID : 5096475986

Status : Answered

Chosen Option : 3

Q.10 निम्नलिखित में से किस देश ने लॉरियस वर्ल्ड स्पोर्ट्स अवार्ड्स 2019 की मेजबानी की?

Ans

1. मोलदोवा
2. मोनाको
3. आर्मेनिया
4. जॉर्जिया

Question ID : 5096475967

Status : Answered

Chosen Option : 3

Q.11 औद्योगिक नीति और संवर्धन विभाग (DIPP) द्वारा निम्नलिखित में से किस राज्य को स्टार्ट-अप रैंकिंग 2018 में सर्वश्रेष्ठ प्रदर्शन करने वाले के रूप में सम्मानित किया गया है?

Ans

1. गुजरात

- 2. हरियाणा
- 3. आंध्र प्रदेश
- 4. मध्य प्रदेश

Question ID : 5096475963
Status : Answered
Chosen Option : 1

Q.12 निम्नलिखित में से किस राज्य ने दिसंबर 2018 में, इंदिरा गांधी राष्ट्रीय मानव संघ के सहयोग से सांस्कृतिक उत्सव 'राष्ट्रीय बालरंग 2018' का आयोजन किया था?

- Ans
- 1. गुजरात
 - 2. राजस्थान
 - 3. मध्य प्रदेश
 - 4. बिहार

Question ID : 5096475965
Status : Answered
Chosen Option : 2

Q.13 भारत में रेलवे की शुरुआत निम्नलिखित में से किस ब्रिटिश गवर्नर जनरल ने की थी?

- Ans
- 1. हेनरी हार्डिंग
 - 2. लॉर्ड डलहौजी
 - 3. लॉर्ड विलियम बैंटिक
 - 4. चार्ल्स मेटकाफ़

Question ID : 5096475975
Status : Answered
Chosen Option : 2

Q.14 लोकसभा के सदस्य बनने के लिए भारतीय संविधान द्वारा निर्धारित शैक्षणिक योग्यता क्या है?

- Ans
- 1. X
 - 2. स्नातक
 - 3. कोई शैक्षणिक योग्यता निर्धारित नहीं की गई है
 - 4. XII

Question ID : 5096475978
Status : Answered
Chosen Option : 3

Q.15 किस सम्राट ने भारतीय उपमहाद्वीप में गजपति साम्राज्य की स्थापना की?

- Ans
- 1. कखरुआ देव
 - 2. प्रतापरुद्र देव
 - 3. कपिलेंद्र देव
 - 4. पुरुषोत्तम देव

Status : Answered
Chosen Option : 2

Q.16 भारत _____ की ओर स्थित है।

- Ans
- 1. भूमध्य रेखा के दक्षिण
 - 2. मकर रेखा के दक्षिण
 - 3. अरब सागर के पश्चिम
 - 4. भूमध्य रेखा के उत्तर

Question ID : 5096475990
Status : Answered
Chosen Option : 4

Q.17 निम्नलिखित में से कौन सा देश, वर्ष 2020 तक सभी सार्वजनिक परिवहन को मुफ्त करने वाला पहला देश बनने वाला है?

- Ans
- 1. लक्ज़मबर्ग
 - 2. फिनलैंड
 - 3. लिथुआनिया
 - 4. क्रोएशिया

Question ID : 5096475969
Status : Answered
Chosen Option : 1

Q.18 दुनिया के पहले थर्मल बैटरी संयंत्र का अनावरण निम्नलिखित में से किस राज्य में हुआ था?

- Ans
- 1. आंध्र प्रदेश
 - 2. उत्तर प्रदेश
 - 3. गोवा
 - 4. महाराष्ट्र

Question ID : 5096475983
Status : Answered
Chosen Option : 3

Q.19 _____, _____ के अध्यक्ष थे।

- Ans
- 1. पी. ए. संगमा; पांचवीं लोकसभा
 - 2. गणेश वासुदेव मावलंकर; पहली लोकसभा
 - 3. पी. ए. संगमा; पहली लोकसभा
 - 4. गणेश वासुदेव मावलंकर; पांचवीं लोकसभा

Question ID : 5096475980
Status : Answered
Chosen Option : 2

भगवान गौतम बुद्ध के जीवनकाल में प्राचीन भारत में कितने महाजनपद या 'महान राज्य' मौजूद थे?

- Ans
- 1. सोलह
 - 2. चौदह
 - 3. बारह
 - 4. दस

Question ID : 5096475977
Status : Answered
Chosen Option : 1

Q.21 भारत में निम्नलिखित में से किस भौगोलिक क्षेत्र की ऊंचाई सबसे कम है?

- Ans
- 1. कॉर्गु नाडु
 - 2. पालनाडु
 - 3. कुट्टनाड
 - 4. मालेनद

Question ID : 5096475989
Status : Answered
Chosen Option : 2

Q.22 भारत का सबसे प्रसिद्ध संग्रहालय 'इंडियन म्यूजियम' निम्नलिखित में से किस स्थान पर स्थित है?

- Ans
- 1. दिल्ली
 - 2. कोलकाता
 - 3. मुंबई
 - 4. चेन्नई

Question ID : 5096475991
Status : Answered
Chosen Option : 2

Q.23 प्रधानमंत्री ग्राम सड़क योजना किस वर्ष शुरू की गई थी?

- Ans
- 1. 2004
 - 2. 2010
 - 3. 2000
 - 4. 1991

Question ID : 5096475984
Status : Answered
Chosen Option : 1

Q.24 निम्नलिखित में से किस खिलाड़ी को राजीव गांधी खेल रत्न पुरस्कार 2018 दिया गया है?

- Ans
- 1. विजेन्द्र सिंह
 - 2. साइना नेहवाल
 - 3. विराट कोहली
 - 4. गगन नारंग

Question ID : 5096475971

Status : Answered

Chosen Option : 3

Q.25 फ्रेंच गयाना से नवंबर 2018 में, यूरोपीय प्रक्षेपण कंपनी एरियनस्पेस द्वारा निम्नलिखित किस देश का पृथ्वी अवलोकन उपग्रह मोहम्मद VI-B लॉन्च किया गया था?

- Ans
- ✓ 1. मोरक्को
 - ✗ 2. अल्जीरिया
 - ✗ 3. गाम्बिया
 - ✗ 4. नाइजीरिया

Question ID : 5096475968

Status : Answered

Chosen Option : 2

Q.26 निम्नलिखित में से किस बैंक ने डिजिटल भुगतान सुविधा के लिए मल्टी ऑप्शन पेमेंट एक्सेप्टेंस डिवाइस (MOPAD) लॉन्च किया है?

- Ans
- ✗ 1. आईसीआईसीआई बैंक
 - ✓ 2. स्टेट बैंक ऑफ इंडिया
 - ✗ 3. केनरा बैंक
 - ✗ 4. एचडीएफसी बैंक

Question ID : 5096475982

Status : Answered

Chosen Option : 1

Q.27 अफ्रीका के निम्नलिखित किस देश में पहली हाई-स्पीड रेल लाइन का अनावरण किया गया है?

- Ans
- ✗ 1. माली
 - ✓ 2. मोरक्को
 - ✗ 3. घाना
 - ✗ 4. अंगोला

Question ID : 5096475966

Status : Answered

Chosen Option : 3

Q.28 राष्ट्रमंडल खेल (कॉमनवेल्थ गेम) 2018 में, किस भारतीय खिलाड़ी ने महिला एकल टेबल टेनिस खेल में स्वर्ण पदक जीता?

- Ans
- ✗ 1. पूजा सहस्रबुद्धे
 - ✗ 2. मधुरिका पाटकर
 - ✗ 3. सुतीर्थ मुखर्जी
 - ✓ 4. मनिका बत्रा

Question ID : 5096475972

Status : Answered

Chosen Option : 4

निम्नलिखित में से किस नेता का जन्मदिन मनाने के लिए हर साल 12 जनवरी को राष्ट्रीय युवा दिवस मनाया जाता है?

- Ans
- ✓ 1. स्वामी विवेकानंद
 - ✗ 2. सुभाष चंद्र बोस
 - ✗ 3. एपीजे कलाम
 - ✗ 4. राजीव गांधी

Question ID : 5096475992
Status : Answered
Chosen Option : 1

Q.30 भारतीय संविधान का निम्नलिखित में से कौन सा अनुच्छेद, राज्यपाल द्वारा विशेष संबोधन से संबन्धित है?

- Ans
- ✓ 1. अनुच्छेद 176
 - ✗ 2. अनुच्छेद 150
 - ✗ 3. अनुच्छेद 228
 - ✗ 4. अनुच्छेद 214

Question ID : 5096475981
Status : Answered
Chosen Option : 4

Section : General Aptitude

Q.1 चार सहपाठी A, B, C और D उत्तर की ओर मुंह करके एक पंक्ति में बैठे हैं। A और D दोनों अंतिम छोरों पर बैठे हैं। B, A और C के बीच बैठा है। B, D के बाएं से दूसरे स्थान पर बैठा है। B के ठीक दाएं कौन बैठा है?

- Ans
- ✗ 1. D
 - ✗ 2. B
 - ✗ 3. A
 - ✓ 4. C

Question ID : 5096476003
Status : Answered
Chosen Option : 4

Q.2 किसी कार्य को करने में A की क्षमता B की क्षमता से 25% कम है। दोनों एक साथ काम करने पर वे 12 दिनों में एक काम को पूरा कर सकते हैं। A अकेले उस काम को कुल कितने दिनों पूरा करेगा?

- Ans
- ✗ 1. 21
 - ✗ 2. 26
 - ✓ 3. 28
 - ✗ 4. 24

Question ID : 5096476022
Status : Answered
Chosen Option : 3

Q.3 A और B भाई हैं। B, R का पुत्र है, लेकिन R, B का पिता नहीं है। यदि P, R की बहन की संतान है, तो A, P से कैसे संबंधित है?

- Ans
- ✗ 1. बहन
 - ✗ भाई

- ✗ 3. चाचा
✓ 4. चचेरा भाई

Question ID : 5096476004
Status : Answered
Chosen Option : 4

Q.4 निम्नलिखित में से उस शब्द का चयन करें जो इस श्रृंखला के अंतर्गत नहीं आता है।

पेन, कागज़, किताब, बुद्धिमत्ता

- Ans
✗ 1. पेन
✗ 2. किताब
✓ 3. बुद्धिमत्ता
✗ 4. कागज़

Question ID : 5096476007
Status : Answered
Chosen Option : 3

Q.5 $\frac{1}{5 \times 10} + \frac{1}{10 \times 15} + \frac{1}{15 \times 20} + \frac{1}{20 \times 25} + \dots$ के प्रथम 20 अंकों का योगफल कितना होगा?

- Ans
✓ 1. $\frac{4}{105}$
✗ 2. $\frac{19}{100}$
✗ 3. $\frac{19}{500}$
✗ 4. $\frac{4}{125}$

Question ID : 5096476009
Status : Answered
Chosen Option : 1

Q.6 किसी संख्या के अंकों का योग कितना होगा जो 58692 के सबसे करीब है और एक पूर्ण वर्ग है?

- Ans
✗ 1. 26
✗ 2. 24
✓ 3. 28
✗ 4. 25

Question ID : 5096476008
Status : Answered
Chosen Option : 3

Q.7

निम्नलिखित शब्दों को सार्थक क्रम में सजाएँ।

इच्छा	रुचि	ध्यान देना	कार्य करना
4	1	3	2

- Ans
- ✓ 1. 3, 1, 4, 2
 - ✗ 2. 3, 2, 1, 4
 - ✗ 3. 4, 2, 1, 3
 - ✗ 4. 1, 3, 4, 2

Question ID : 5096475995
Status : Answered
Chosen Option : 3

Q.8 निम्नलिखित में से उस विकल्प का चयन करें जो तीसरी संख्या से ठीक उसी प्रकार संबंधित है, जिस प्रकार दूसरी संख्या पहली संख्या से संबंधित है।

48 : 12 :: 84 : ?

- Ans
- ✗ 1. 24
 - ✓ 2. 21
 - ✗ 3. 20
 - ✗ 4. 18

Question ID : 5096475994
Status : Answered
Chosen Option : 2

Q.9 अगर '+' का अर्थ 'जोड़', '-' का अर्थ 'घटाव', '×' का अर्थ 'गुणा' और '÷' का अर्थ 'विभाजन' है, तो निम्नलिखित समीकरण का समाधान क्या होगा?

$88 \times 2 - 1 \div 7 + 5$

- Ans
- ✗ 1. 52
 - ✓ 2. 46
 - ✗ 3. 55
 - ✗ 4. 49

Question ID : 5096476001
Status : Answered
Chosen Option : 2

Q.10 एक व्यक्ति अपने सामान का विक्रय मूल्य, क्रय मूल्य से 60% अधिक कीमत पर चिह्नित करता है। वह अपने सामान का 40% हिस्सा 10% की छूट पर, सामान का 35% हिस्सा 20% की छूट पर और बाकी हिस्सा 30% की छूट पर बेचता है। उसे कुल कितने प्रतिशत लाभ प्राप्त हुआ है?

- Ans
- ✗ 1. 31.8 %
 - ✗ 2. 32.5 %
 - ✗ 3. 31.2 %
 - ✓ 4. 30.4 %

Question ID : 5096476019

Status : Answered

Chosen Option : 4

Q.11 निम्नलिखित में से विषम का चयन करें।

- Ans
- 1. FLOW
 - 2. FLOOR
 - 3. FLED
 - 4. FLING

Question ID : 5096476006

Status : Answered

Chosen Option : 2

Q.12 अगर $a : 2b = 2 : 5$, $b : c = 3 : 2$ हो, तो $a : b : c$ का मान निम्नलिखित में से किसके बराबर होगा?

- Ans
- 1. 6 : 10 : 15
 - 2. 6 : 15 : 10
 - 3. 12 : 15 : 10
 - 4. 15 : 12 : 10

Question ID : 5096476016

Status : Answered

Chosen Option : 3

Q.13 एक सांकेतिक भाषा में TABLE को WDEOH लिखा जाता है, तो उसी भाषा में CHAIR को किस प्रकार लिखा जाएगा?

- Ans
- 1. LUKFD
 - 2. DLUKF
 - 3. FKDLU
 - 4. KFDLU

Question ID : 5096475999

Status : Answered

Chosen Option : 3

Q.14 14400 के गुणजों की कुल संख्या कितनी है?

- Ans
- 1. 24
 - 2. 36
 - 3. 48
 - 4. 63

Question ID : 5096476013

Status : Answered

Chosen Option : 3

Q.15 दो बर्तनों A और B में अम्ल और जल का अनुपात क्रमशः 3 : 8 और 8 : 5 है। उनकी सामग्री को 11 : 13 के अनुपात में मिलाया जाता है। इस मिश्रण के 720 ml घोल में अम्ल और जल का अनुपात 2 : 3 बनाने के लिए इसमें कुल कितनी मात्रा में जल मिलाना होगा?

- Ans
- 1. 95 ml
 - 115 ml

3. 125 ml

4. 105 ml

Question ID : 5096476020

Status : Answered

Chosen Option : 4

Q.16 रोहन और ललित, बॉलीबॉल और बैडमिंटन अच्छा खेलते हैं। रोहन और समीर, टेनिस और बॉलीबॉल अच्छा खेलते हैं। गोपाल और ललित, बेसबॉल और बैडमिंटन अच्छा खेलते हैं। बास्केटबॉल और टेनिस में समीर, गोपाल और मुकेश अच्छे हैं। निम्नलिखित में से कौन टेनिस, बास्केटबॉल, बैडमिंटन और बेसबॉल अच्छा खेलता है?

Ans 1. गोपाल

2. समीर

3. ललित

4. रोहन

Question ID : 5096475996

Status : Answered

Chosen Option : 1

Q.17 17 संख्याओं का औसत 60 है। पहली 9 संख्याओं का औसत 55 है और अंतिम 9 संख्याओं का औसत 62 है। यदि 9वीं संख्या को निकाल दिया जाए, तो शेष संख्याओं का औसत (एक दशमलव स्थान तक सही) कितना होगा?

Ans 1. 62.2

2. 61.9

3. 61.7

4. 62.4

Question ID : 5096476018

Status : Answered

Chosen Option : 3

Q.18 दो संख्याओं का महत्तम समापवर्तक 12 है और उनका गुणनफल 4320 है। ऐसी कुल कितनी संख्या जोड़ियाँ संभव हैं?

Ans 1. 2

2. 4

3. 1

4. 3

Question ID : 5096476014

Status : Answered

Chosen Option : 1

Q.19 एक व्यक्ति 20 km की दूरी 12 km/h की गति से और अगली 35 km की दूरी 20 km/h की गति से तय करता है। उसकी पूरी यात्रा की औसत गति km/h में कितनी थी (एक दशमलव स्थान तक सही)?

Ans 1. 17.6

2. 17.2

3. 16.1

4. 16.4

Question ID : 5096476021

Status : Answered

Chosen Option : 3

Q.20 मंगलवार को फुटबॉल खेलते समय रजत का पैर टूट गया। डॉक्टर ने एक प्लास्टर लगाया और उसे खोलने के लिए 46 दिनों के बाद आने को कहा। रजत का प्लास्टर किस दिन खुलने वाला है?

- Ans
- 1. सोमवार
 - 2. शनिवार
 - 3. शुक्रवार
 - 4. रविवार

Question ID : 5096476002
Status : Answered
Chosen Option : 2

Q.21 $0.\overline{6} + 0.5\overline{23} - 0.2\overline{9}$ का मान निम्नलिखित में से किसके बराबर होगा?

- Ans
- 1. $0.\overline{889}$
 - 2. $0.8\overline{68}$
 - 3. $0.8\overline{89}$
 - 4. $0.8\overline{69}$

Question ID : 5096476012
Status : Answered
Chosen Option : 3

Q.22 राम A बिंदु पर उत्तर की ओर मुंह करके खड़ा है। वह अपनी दाईं ओर 30 m चलता है, फिर बाईं ओर मुड़ता है और 10 m चलता है। वहां से, वह फिर से बाएं मुड़ता है और 15 m चलता है। बिंदु A के अनुसार वह अब किस दिशा में है?

- Ans
- 1. उत्तर-पूर्व
 - 2. उत्तर
 - 3. उत्तर-पश्चिम
 - 4. पूर्व

Question ID : 5096476005
Status : Answered
Chosen Option : 3

Q.23 अगर $\sqrt{43 - 24\sqrt{3}} = a + b\sqrt{3}$ हो, तो $(3a+5b)$ का मान निम्नलिखित में से किसके बराबर होगा?

- Ans
- 1. -8
 - 2. 3
 - 3. 12
 - 4. -11

Question ID : 5096476011
Status : Answered
Chosen Option : 2

Q.24 $(27)^{56} + (22)^{39} - (13)^{50}$ को हल करने पर इसके इकाई स्थान पर निम्नलिखित में से कौन सा अंक आएगा?

- Ans
- 1. 6
 - 2. 7
 - 3. 5
 - 4. 4

Question ID : 5096476010

Status : Answered

Chosen Option : 4

Q.25 एक शहर की जनसंख्या पहले वर्ष में 6%, दूसरे वर्ष में 8% और तीसरे वर्ष में 5% बढ़ जाती है। 3 वर्षों के अंत में जनसंख्या में कुल कितने प्रतिशत की वृद्धि हुई?

- Ans
- 1. 20.324%
 - 2. 20.204%
 - 3. 19%
 - 4. 19.234%

Question ID : 5096476017

Status : Answered

Chosen Option : 2

Q.26 संख्या $835x4$ में, 'x' को निम्नलिखित में से किस अंक के साथ बदलने पर पूरी संख्या 12 द्वारा विभाज्य होगी?

- Ans
- 1. 4
 - 2. 1
 - 3. 7
 - 4. 8

Question ID : 5096476015

Status : Answered

Chosen Option : 1

Q.27 जिस प्रकार "रिकेट्स", "विटामिन डी" से संबंधित है, ठीक उसी प्रकार "एनीमिया" निम्नलिखित में से किससे संबंधित है?

- Ans
- 1. रक्त
 - 2. आयरन
 - 3. विटामिन के
 - 4. हीमोग्लोबिन

Question ID : 5096475998

Status : Answered

Chosen Option : 2

Q.28 MATTER : AFFAIR :: BASIC : ?

- Ans
- 1. LOWER
 - 2. TWIN
 - 3. CHIEF
 - 4. POINT

Question ID : 5096476000

Status : Answered

Chosen Option : 3

Q.29 निम्नलिखित विकल्पों में से, नीचे दी गई इस संख्या श्रृंखला को पूरा करने वाले सही विकल्प का चयन करें।

344, 278, 223, 179, 146, _____, 113

- Ans
- 1. 124

2. 126

3. 128

4. 130

Question ID : 5096475993
Status : Answered
Chosen Option : 1

Q.30 निम्नलिखित श्रृंखला में प्रश्न चिह्न (?) के स्थान पर आने वाले विकल्प का पता लगाएँ।

400, 625, ?, 1225, 1600

Ans 1. 925

2. 850

3. 1000

4. 900

Question ID : 5096475997
Status : Answered
Chosen Option : 4

Section : Teaching Aptitude

Q.1 अध्ययन का निम्न में से कौन सा सिद्धांत, संयोजनवादी सिद्धांतों (S-R) के अंतर्गत आता है?

Ans 1. टोलमैन का अंतर्दृष्टि या सूझ का सिद्धांत

2. गेस्टाल्ट सिद्धांत

3. कुर्ट-लेविन का क्षेत्र सिद्धांत

4. स्किनर का क्रिया प्रसूत सिद्धांत

Question ID : 5096476029
Status : Answered
Chosen Option : 4

Q.2 अरुणा "den" को "ben" तथा "was" को "saw" पढ़ती है। उसे शब्दों के उच्चारण में समस्या है। वह शॉर्ट-टर्म मेमरी डिफिसिएंसी से पीड़ित है। अरुणा की अध्ययन अक्षमताओं को किस रूप में वर्गीकृत किया जा सकता है?

Ans 1. वाणी विकार

2. डिस्ग्रैफिया

3. डिस्लेक्सिया

4. प्रवाहगत विकार

Question ID : 5096476041
Status : Answered
Chosen Option : 3

Q.3 मांसपेशीय दुर्बिकास _____ का एक प्रकार है।

Ans 1. ध्यानाभाव विकार

2. अधिगम अशक्तता

✓ 3. चलवहित्र दुर्बलता

✗ 4. मानसिक विकार

Question ID : 5096476042
Status : Answered
Chosen Option : 3

Q.4 Ravi started sitting with support at the age of 4 months and started standing at 10 months. These schedules of developments are called:

- Ans
- ✗ 1. stepwise development
 - ✗ 2. growth phases
 - ✗ 3. learning phases
 - ✓ 4. milestones of development

Question ID : 5096476023
Status : Answered
Chosen Option : 1

Q.5 Which of the following is NOT a desirable characteristic of a language teacher?

- Ans
- ✓ 1. Giving opportunities to make learning within the classroom scenario only
 - ✗ 2. Creating a learner-centric classroom
 - ✗ 3. Possessing good questioning skills
 - ✗ 4. Appreciating original works of students

Question ID : 5096476032
Status : Answered
Chosen Option : 1

Q.6 किसी स्थान की संस्कृति की विशिष्टता और विविधता के बारे में अध्ययन अंतर्निविष्ट करने का सबसे अच्छा तरीका क्या है?

- Ans
- ✗ 1. बच्चों को संस्कृति के बारे में अद्यतन जानकारी के लिए समाचार चैनल देखने के लिए कहना
 - ✓ 2. संस्कृति को समझने के लिए स्थानीय, क्षेत्रीय और कला केंद्रों की यात्राएं
 - ✗ 3. अखबारों से संस्कृति को चित्रित करने वाले चित्र दिखाना
 - ✗ 4. बच्चों से संस्कृति से संबंधित मॉडल बनवाना

Question ID : 5096476037
Status : Answered
Chosen Option : 2

Q.7 शेरन एक 6 साल का लड़का है, जो आंखों के संपर्क से बचता है, उसके पास एक विशिष्ट मजबूरी है कि वह शब्दों को दोहराए और बाणीरहित ध्वनि के प्रति अतिसंवेदनशील रहे। उसके किस चीज़ से ग्रसित होने की संभावना है?

- Ans
- ✗ 1. प्रमस्तिष्क पक्षाघात
 - ✗ 2. डाउन सिंड्रोम
 - ✓ 3. स्वलीनता
 - ✗ 4. ध्यान देने की समस्या

Question ID : 5096476040

Status : Answered

Chosen Option : 3

Q.8 कला शिक्षक को विद्यार्थी की कलाकृति के मूल्यांकन के लिए निम्न में से किस सूचकांक का उपयोग नहीं करना चाहिए?

- Ans
- 1. कौशलों का विकास
 - 2. अभिव्यक्ति
 - 3. रचनात्मकता
 - 4. कला संबंधी गतिविधि करते समय साथियों के साथ संबंध

Question ID : 5096476039

Status : Answered

Chosen Option : 4

Q.9 Which of the following is NOT an objective of Samagra Shiksha?

- Ans
- 1. To bridging economic gaps among students
 - 2. To provide quality education and enhance learning objectives
 - 3. To ensuring equity and inclusion at all levels of school education
 - 4. To support states in the implementation of Right of Children to Free and Compulsory Education (RTE) Act, 2009

Question ID : 5096476027

Status : Answered

Chosen Option : 1

Q.10 Which of the following should be an objective of teaching social science at primary level?

- Ans
- 1. To develop in the children an understanding of the roles and responsibilities of the state in the fulfilment of constitutional obligations.
 - 2. To sensitise the children to social issues and develop in them a respect for difference and diversity.
 - 3. To enable the children to critically examine social and economic issues and challenges like poverty, child labour, destitution, illiteracy and various other dimensions of inequality.
 - 4. To develop in the children an understanding of the rights and responsibilities of citizens in a democratic and secular society.

Question ID : 5096476036

Status : Answered

Chosen Option : 2

Q.11 Four-year-old Rohit is impatient about the ice-cream treat that is promised for tomorrow. At regular intervals of time today, he enquires if tomorrow has come. Which of the following is NOT yet developed in Rohit?

- Ans
- 1. Social concept
 - 2. Memory
 - 3. Imagination
 - 4. Time concept

Status : Answered
Chosen Option : 4

Q.12 निम्न में से कौन सा कारक भावनात्मक रूप से प्रभावित नहीं करता है?

- Ans
- 1. थकान
 - 2. विकासमूलक प्रभाव
 - 3. खराब स्वास्थ्य
 - 4. दिन का समय

Question ID : 5096476025
Status : Answered
Chosen Option : 4

Q.13 What is the result of using the analytical method while teaching mathematics?

- Ans
- 1. Promotes rote learning
 - 2. Learner becomes a passive listener
 - 3. Encourages memory work
 - 4. Leads from unknown to known facts

Question ID : 5096476033
Status : Answered
Chosen Option : 4

Q.14 प्रयोगात्मक शोध के संदर्भ में निम्न में से कौन सा तथ्य सत्य है?

- Ans
- 1. यह प्रयत्न-त्रुटि विधि अपनाती है।
 - 2. यह समस्याओं के समाधान की प्रतीक्षा नहीं करता है। यह समयांतराल को समायोजित कर लेता है।
 - 3. यह शोध की विधि नहीं है, बल्कि यह अन्य विधियों को कार्यान्वित करती है, जैसे कि ऐतिहासिक विधि, सर्वेक्षण विधि इत्यादि।
 - 4. इसमें अधिक तैयारी की ज़रूरत नहीं होती है।

Question ID : 5096476038
Status : Answered
Chosen Option : 1

Q.15 निम्नलिखित में से सामाजिक विज्ञानों को पढ़ाने की वह कौन सी रणनीति है, जो शिक्षा के विभिन्न चरणों के माध्यम से विषय की निरंतर अखंड शिक्षा को बढ़ावा देती है?

- Ans
- 1. विकल्पी दृष्टिकोण
 - 2. उत्तरोत्तर दृष्टिकोण
 - 3. स्थानिक दृष्टिकोण
 - 4. कालानुक्रमिक दृष्टिकोण

Question ID : 5096476034
Status : Answered
Chosen Option : 4

शिक्षा के विषय में निम्न वाक्य किसने कहा था?

“शिक्षा से मेरा मतलब बच्चे और मनुष्य के शरीर, मस्तिष्क और आत्मा में सर्वश्रेष्ठ सर्वांगीण विकास है।”

- Ans
- 1. स्वामी विवेकानंद
 - 2. रबीन्द्रनाथ टैगोर
 - 3. श्री अरबिंदो
 - 4. महात्मा गांधी

Question ID : 5096476026
Status : Answered
Chosen Option : 3

Q.17 समान संख्या में लड़कों और लड़कियों का विभिन्न स्तरों पर और विविध रूपों में शैक्षिक सेवाएं प्राप्त करना _____ का एक उदाहरण है।

- Ans
- 1. लैंगिक जानकारी
 - 2. लैंगिक संवेदनशीलता
 - 3. लैंगिक समानता
 - 4. लैंगिक निष्पक्षता

Question ID : 5096476035
Status : Answered
Chosen Option : 4

Q.18 निम्नलिखित आकृति को देखें और गेस्टाल्ट द्वारा प्रस्तावित वैचारिक संगठन के सिद्धांत की पहचान करें?



- Ans
- 1. निरंतरता का नियम
 - 2. सामान्य भाग्य का नियम
 - 3. समानता का नियम
 - 4. क्लोज़र का नियम

Question ID : 5096476030
Status : Answered
Chosen Option : 4

Q.19 थोर्नडिके के अनुसार निम्न में से कौन सा नियम अध्ययन का तृतीय नियम है?

- Ans
- 1. अभ्यास का नियम
 - 2. तत्परता का नियम
 - 3. प्रभाव का नियम
 - 4. बहुप्रतिक्रिया का नियम

Question ID : 5096476028
Status : Answered
Chosen Option : 3

Q.20 किसी भाषा का उपसमूह जो एकल शब्दों, वाक्यांशों और वाक्यों के अर्थ और उचित उपयोग को समझने से संबंधित है, उसे _____ रूप में जाना जाता है।

- Ans
- 1. वाक्य-विन्यास
 - 2. स्वर विज्ञान
 - 3. शब्दार्थ विज्ञान
 - 4. शब्द संरचना

Question ID : 5096476031
Status : Answered
Chosen Option : 1

Section : Concerned Subject Knowledge

Q.1 Units of a mutual fund can be purchased by investing a pre-determined amount periodically. This facility is called:

- Ans
- 1. systematic withdrawal plan
 - 2. systematic investment plan
 - 3. systematic dividend plan
 - 4. dividend reinvestment plan

Question ID : 5096476049
Status : Answered
Chosen Option : 2

Q.2 कौन-सी मूल्य निर्धारण की रणनीति में विपणन संचार सहायता के अधिक उच्च स्तर द्वारा समर्थित ऊंची कीमतों का उपयोग करना शामिल है?

- Ans
- 1. तेज़ी से पैठ बनाना
 - 2. धीरे स्किमिंग करना
 - 3. तेज़ी से स्किमिंग करना
 - 4. धीमी गति से प्रवेश

Question ID : 5096476090
Status : Answered
Chosen Option : 3

Q.3 The vision and mission statements of a company set the overall direction of the organization. Strategic objectives serve what role?

- Ans
- 1. They operationalize the mission statement
 - 2. They modify the mission statement
 - 3. They are only clarified by the board of directors
 - 4. They are a shorter version of the mission statement

Question ID : 5096476088
Status : Answered
Chosen Option : 4

Q.4 The specific method a company uses to sell and deliver its products to its customers is known as its:

- Ans
- 1. direct distribution
 - 2. distribution channel
 - 3. retail intermediaries

4. distribution mix

Question ID : 5096476059
Status : Answered
Chosen Option : 2

Q.5 Which of the following can be withdrawn by the issuing bank without the prior consent of the exporter?

- Ans**
- 1. Clean letter of credit
 - 2. Revocable letter of credit
 - 3. Documentary letter of credit
 - 4. Revolving letter of credit

Question ID : 5096476096
Status : Answered
Chosen Option : 3

Q.6 An option which gives the holder the right to sell a stock at a specified price at some time in the future is called a:

- Ans**
- 1. naked option
 - 2. call option
 - 3. put option
 - 4. out of money option

Question ID : 5096476095
Status : Answered
Chosen Option : 2

Q.7 Organizations can adopt to environmental fluctuations by:

- Ans**
- 1. Forecasting
 - 2. diversifying
 - 3. monitoring competitors
 - 4. only operating in the domestic market

Question ID : 5096476102
Status : Answered
Chosen Option : 3

Q.8 A balance of trade deficit exists when:

- Ans**
- 1. the monetary value of imports exceeds that of exports
 - 2. the monetary value added by an exporting nation exceeds that added by an importing nation
 - 3. economies of scale are not achievable
 - 4. supply of imports exceeds the demand for them

Question ID : 5096476084
Status : Answered
Chosen Option : 1

Q.9 If H Ltd. buys 100% shares of S Ltd. for ₹ 1,00,000 cash, how will the acquisition be recorded in H Ltd's book of accounts?

- Ans**
- 1. Debit investment in S Ltd., credit cash account

2.

Debit investment in S Ltd., credit S Ltd. minorities account

3. The equity capital of the subsidiary

4. Debit cash account, credit investment in S Ltd.

Question ID : 5096476054

Status : Answered

Chosen Option : 1

Q.10 In which of the following situations would consolidated financial statements be required?

Ans 1.

When one company buys majority shares of another company

2. When two or more companies are merged into one

3.

When one company buys all the assets of another company

4. When two companies are merged into one

Question ID : 5096476056

Status : Answered

Chosen Option : 4

Q.11 A और B ऐसे साझेदार हैं, जो 3 : 2 में लाभ-हानि साझा कर रहे हैं। A की पूंजी ₹ 30,000 है और B की पूंजी ₹ 15,000 है। उन्होंने C को स्वीकार किया और उसे लाभ का 1/5वां हिस्सा देने के लिए सहमत हुए। C को कंपनी के प्रति कितनी पूंजी के लिए प्रतिबद्ध होना चाहिए?

Ans 1. ₹ 9,000

2. ₹ 14,500

3. ₹ 11,250

4. ₹ 12,000

Question ID : 5096476065

Status : Answered

Chosen Option : 3

Q.12 Which of the following types of business organization is owned by its customers?

Ans 1. Franchise

2. Retail co-operative

3. Public limited company

4. Partnership

Question ID : 5096476047

Status : Answered

Chosen Option : 2

Q.13 Who gave the managerial grid theory of leadership?

Ans 1. VJ Peddin

2. Mountain & Black

3. Tannenbaum & Schmidt

4. Paul Hersey & Blandard

Question ID : 5096476068
 Status : Answered
 Chosen Option : 2

Q.14 Which of the following options is NOT a principle of business ethics?

- Ans
- 1. Principle of satisfaction
 - 2. Principle of a spirit of service
 - 3. Principle of due process
 - 4. Principle of exception

Question ID : 5096476072
 Status : Answered
 Chosen Option : 4

Q.15 The contingency theory focuses on:

- Ans
- 1. groups and human behaviour
 - 2. interrelationships
 - 3. situational variables
 - 4. economic needs of workers

Question ID : 5096476060
 Status : Answered
 Chosen Option : 3

Q.16 When preparing a break-even graph, what does the Margin of Safety refer to?

- Ans
- 1. Variable cost
 - 2. Break-even point
 - 3. Profit margin
 - 4. Fixed cost

Question ID : 5096476044
 Status : Answered
 Chosen Option : 2

Q.17 कर क्षेत्राधिकार किस पर्यावरणीय कारक का उदाहरण है?

- Ans
- 1. कानूनी
 - 2. आर्थिक
 - 3. राजनीतिक
 - 4. सामाजिक

Question ID : 5096476101
 Status : Answered
 Chosen Option : 2

Q.18 The group of market participants that collectively facilitate interaction between investors and issuers is known as:

- Ans
- 1. custodians
 - 2. regulators
 - 3. intermediaries

4. bankers

Question ID : 5096476062
Status : Answered
Chosen Option : 3

Q.19 निम्नलिखित में से कौन-सा एक फर्म द्वारा संबंध विपणन का सबसे श्रेष्ठ उदाहरण है?

Ans 1.

पारस्परिक लाभ के लिए व्यक्तिगत ग्राहकों के साथ दीर्घकालिक कड़ी विकसित करना।

2.

अपने लक्षित दर्शकों के साथ संवाद करने के लिए जनसंपर्क साधनों का उपयोग करना।

3.

विस्तृत पहुंच बनाने के लिए प्रिंट मीडिया के उपयोग पर ध्यान दें।

4.

एकमुश्त लेनदेन के माध्यम से अल्पकालिक लाभ पर ध्यान दें।

Question ID : 5096476081
Status : Answered
Chosen Option : 3

Q.20 The difference between job specifications and job descriptions is that job specifications primarily describes the:

Ans 1. Qualities a person performing the job must possess.

2. List of the tasks and responsibilities that the job entails.

3.

Observable actions that comprise the various job demands.

4. Steps involved in getting detailed information about a job.

Question ID : 5096476077
Status : Answered
Chosen Option : 2

Q.21 सेवा अनुबंधों द्वारा राजस्व पहचाना जाता है:

Ans 1. पूर्ण होने की अवस्था का हवाला देते हुए

2. भुगतान प्राप्त होने पर

3. केवल जब अनुबंध पूरी तरह से निष्पादित किया जाता है

4. समय अनुपात के आधार पर

Question ID : 5096476058
Status : Answered
Chosen Option : 2

Q.22 Which of the following statements is true of the media mix?

Ans 1.

Individual preferences have no effect on the combination of media to be used to deliver a message.

2.

Advertisers use the media mix to maintain uniformity across all advertising media.

✓ 3.

The characteristics of a product help in determining the combination of media that should be used.

✗ 4.

It is not possible to use only one medium or vehicle to deliver a message.

Question ID : 5096476085
Status : Answered
Chosen Option : 2

Q.23 Under which of the following market structure, AR of the firm will be equal to MR?

- Ans
- ✗ 1. Monopoly
 - ✗ 2. Monopolistic competition
 - ✗ 3. Oligopoly
 - ✓ 4. Perfect competition

Question ID : 5096476094
Status : Answered
Chosen Option : 4

Q.24 Managers who are concerned not only with cost management but also with revenue generations are in a responsibility level called a:

- Ans
- ✗ 1. cost centre
 - ✗ 2. investment centre
 - ✗ 3. budget centre
 - ✓ 4. profit centre

Question ID : 5096476064
Status : Answered
Chosen Option : 3

Q.25 The human relation theory primarily focuses on:

- Ans
- ✓ 1. individual
 - ✗ 2. informal organization
 - ✗ 3. decision making
 - ✗ 4. formal organization

Question ID : 5096476071
Status : Answered
Chosen Option : 1

Q.26 इसकी वजह से घरेलू बाज़ार विस्तारण के लिए सीमित अवसर प्रदान करते हैं:

- Ans
- ✓ 1. अन्य कंपनियों से कड़ी प्रतिस्पर्धा
 - ✗ 2. बाज़ार की असंतुप्त स्थितियां
 - ✗ 3. मेज़बान देशों में संतुप्त बाज़ार
 - ✗ 4. तीव्र जनसंख्या वृद्धि

Question ID : 5096476083

Q.27 Gross profit is the difference between _____.

- Ans
- 1. sales revenue and closing stock
 - 2. sale revenue and cost of goods sold
 - 3. sales revenue and opening stock
 - 4. purchases and closing stock

Question ID : 5096476048

Status : Answered

Chosen Option : 2

Q.28 निम्नलिखित में से कौन-सा एक विघटनकारी नवाचार की विशिष्टता नहीं है?

- Ans
- 1. आमतौर पर आवश्यकता को पूरा करने के लिए यह एक कम महंगा समाधान है।
 - 2. यह आमतौर पर तकनीकी रूप से अधिक परिष्कृत होता है।
 - 3. यह आमतौर पर एक नए बाज़ार में या मौजूदा बाज़ार के ज़मीनी स्तर पर पकड़ बनाता है।
 - 4. यह कम मांग वाले ग्राहकों से अपील करता है।

Question ID : 5096476089

Status : Answered

Chosen Option : 3

Q.29 Who coined the expression 'Marketing Mix'?

- Ans
- 1. Abraham Mashlow
 - 2. Peter Drucker
 - 3. Henry Fayol
 - 4. James Culliton

Question ID : 5096476099

Status : Answered

Chosen Option : 3

Q.30 Which perceptual error occurs when a supervisor incorrectly rates an employee at a similar level across all performance dimensions based on an overall impression of that employee?

- Ans
- 1. Projection bias
 - 2. Attribution error
 - 3. Stereotyping
 - 4. Halo effect

Question ID : 5096476045

Status : Answered

Chosen Option : 4

Q.31 एक प्रक्रिया, जिसके द्वारा प्रतिभागी स्वतंत्र समूह चर्चा के दौरान निर्दिष्ट समस्या पर अपने विचार व्यक्त करते हैं, कहलाती है:

- 1. अनुशिक्षण
- 2. व्यवहार प्रतिरूपण
- 3. बिज़नेस गेम
- 4. विचार-मंथन

Question ID : 5096476098
Status : Answered
Chosen Option : 2

Q.32 निम्नलिखित डेटा के माध्यम से, बेची गई वस्तुओं की लागत का पता लगाएं।

प्रारंभिक सूची : ₹ 67,000

समाप्ति सूची : ₹ 51,000

खरीद : ₹ 1,02,000

आवक माल भाड़ा : ₹ 3,000

- Ans
- 1. ₹ 1,21,000
 - 2. ₹ 1,12,000
 - 3. ₹ 92,000
 - 4. ₹ 1,22,000

Question ID : 5096476052
Status : Answered
Chosen Option : 1

Q.33 निम्नलिखित में से कौन-सा विकल्प सांख्यिकीय पूर्वानुमान विधियों को लागू करने का लाभ है?

Ans 1.

ये विशेषज्ञों के 'सर्वोत्तम अनुमानों' की तुलना में हमेशा बेहतर होते हैं।

2.

ये उन महत्वपूर्ण घटनाओं की पूर्व सूचनाएं देने में विशेष रूप से उपयोगी हैं, जिनका कोई ऐतिहासिक पूर्व उदाहरण नहीं है।

3.

सही परिस्थितियों के तहत, वे पूर्व-सूचना उपलब्ध करते हैं, जो निर्णय संबंधी विधियों की तुलना में बहुत अधिक सटीक हैं।

4. ये विशेष रूप से गतिशील वातावरण में उपयोगी हैं।

Question ID : 5096476078
Status : Answered
Chosen Option : 4

Q.34 यदि किसी विकल्प को उसकी समय समाप्ति की दिनांक से पहले किसी भी समय प्रयोग किया जा सकता है, तो यह कहलाता है:

Ans

- 1. यूरोपीय विकल्प
- 2. अमेरिकन विकल्प
- 3. गतिशील विकल्प
- 4. एट द मनी विकल्प

Question ID : 5096476063
 Status : Answered
 Chosen Option : 4

Q.35 निम्नलिखित में से किसे अति कुशल कर्मचारियों और प्रबंधकों को आकृष्ट करने, बनाए रखने, विकसित करने और उन्हें प्रेरित करने के लिए एक व्यवस्थित, नियोजित प्रयास करने के रूप में परिभाषित किया गया है?

- Ans
- 1. प्रतिभा प्रबंधन
 - 2. कार्य प्रगति का विश्लेषण
 - 3. संयुक्त विश्लेषण
 - 4. कार्य विश्लेषण

Question ID : 5096476075
 Status : Answered
 Chosen Option : 2

Q.36 The capital structure decision mainly refers to the decision of:

- Ans
- 1. working capital
 - 2. financing
 - 3. dividend policy
 - 4. investments

Question ID : 5096476092
 Status : Answered
 Chosen Option : 1

Q.37 Which of the following is true of the relationship between training and development?

- Ans
- 1.
Training is future oriented, while development is focused on improvement of current job.
 - 2.
Participation in training is voluntary but compulsory in development.
 - 3.
The use of work experience is high in training but low in development.
 - 4.
The goal of training is preparation for the current job, while the goal of development is preparation for changes in the current job.

Question ID : 5096476079
 Status : Answered
 Chosen Option : 1

Q.38 Why are consumer cooperative societies formed?

- Ans
- 1. To provide the members with some financial assistance
 - 2. To safeguard the consumers' interests
 - 3. To market the goods
 - 4. To provide the members with housing facilities

Question ID : 5096476066
 Status : Answered
 Chosen Option : 2

Q.39 What is the advantage of establishing and administering policies in organizations?

Ans 1.

It allows companies to address issues on a case-by-case basis.

2.

It eliminates the need for documentation and record keeping.

3.

It encourages employees to defend themselves by claiming ignorance of disciplinary norms.

4.

It allows companies to handle situations more fairly and objectively.

Question ID : 5096476074

Status : Answered

Chosen Option : 4

Q.40 The method of subtracting the present value of cash outflows from the present value of cash inflows is known as:

Ans 1. payback period

2. net present value

3. average rate of return

4. internal rate of return

Question ID : 5096476093

Status : Answered

Chosen Option : 2

Q.41 A firm had the following accounts balances on a certain date. Determine the owner's capital.

Debtors : ₹ 20,000

Van : ₹ 25,000

Creditors : ₹ 15,000

Inventory : ₹ 9,000

Bank over draft : ₹ 6,000

Cash : ₹ 10,000

Ans 1. ₹ 60,000

2. ₹ 54,000

3. ₹ 49,000

4. ₹ 43,000

Question ID : 5096476051

Status : Answered

Chosen Option : 4

Q.42 Which of the following statements is true about effective communication?

Ans 1.

Effective integrated marketing communications is usually non- personal in nature.

2.

Advertising is an effective way of communication because marketers are able to tell consumers how to interpret their messages.

3.

For effective communication, marketers must understand the meanings that consumers attach to words and symbols.

Effective communication is unaffected by the reception environment.

Question ID : 5096476086
Status : Answered
Chosen Option : 3

Q.43 Many organizations have a large number of functional areas with very diverse and sometimes competing interests. Such organizations will be most effective if:

- Ans
- 1. management and employees have separate goals
 - 2. each functional area focuses on achieving their own goals
 - 3. functional areas work together to attain overall goals
 - 4. goals are defined at the bottom and implemented at the top

Question ID : 5096476087
Status : Answered
Chosen Option : 4

Q.44 The quotas of all member countries with the IMF are valued in terms of:

- Ans
- 1. Swaps
 - 2. SDR
 - 3. GDR
 - 4. Dollar

Question ID : 5096476097
Status : Answered
Chosen Option : 3

Q.45 An investor who has short term financial needs may choose to invest primarily in:

- Ans
- 1. bonds for steady return
 - 2. equities for better return
 - 3. gold for better appreciation
 - 4. property for higher value

Question ID : 5096476069
Status : Answered
Chosen Option : 1

Q.46 पीछे कदम हटाने और जिस तरह से व्यवसाय किया गया उस पर पुनर्विचार करने के लिए निम्नलिखित में से कौन-सा संगठन का कौशल है?

- Ans
- 1. कार्यात्मक बेंचमार्किंग
 - 2. TQM
 - 3. बेंचमार्किंग
 - 4. कारोबारी प्रक्रिया की पुनर्रचना

Question ID : 5096476091
Status : Answered
Chosen Option : 4

Q.47 निम्नलिखित में से कौन-सी मास्लो के आवश्यकता पदानुक्रम सिद्धांत की कड़ी आलोचना है?

- Ans
- 1.

प्रेम और सम्मान की आवश्यकता कई व्यक्तियों के लिए लागू नहीं होती है।

✗ 2.

एक व्यक्ति की मनोवैज्ञानिक आवश्यकताओं को अक्सर अन्य आवश्यकताओं की तुलना में कमजोर माना जाता है।

✗ 3.

सुरक्षा और मनोवैज्ञानिक आवश्यकताएं मानवीय प्रयास के कारण उत्पन्न नहीं होती हैं।

✓ 4.

लोग पदानुक्रम के माध्यम से प्रगति नहीं करते हैं, जैसा की यह सिद्धांत भविष्यवाणी करता है।

Question ID : 5096476043

Status : Answered

Chosen Option : 2

Q.48 Which of the following options best expresses the basic idea behind marketing concepts?

Ans ✗ 1. Produce the best possible product

✗ 2. Try to reduce the cost of marketing

✗ 3. Produce the cheapest possible product

✓ 4. Keep the consumer foremost in mind

Question ID : 5096476100

Status : Answered

Chosen Option : 4

Q.49 यदि एक समय में एक उद्यम की कुल संपत्ति ₹ 2,50,000 थी और स्वामी की पूंजी ₹ 75,000 थी, तो इसकी देनदारियां बराबर होंगी:

Ans ✗ 1. ₹ 125,000 के

✗ 2. ₹ 200,000 के

✗ 3. ₹ 150,000 के

✓ 4. ₹ 175,000 के

Question ID : 5096476050

Status : Answered

Chosen Option : 4

Q.50 Which of the following is ranked last both in terms of profit sharing and receiving liquidation proceeds?

Ans ✗ 1. Employees

✓ 2. Equity shareholders

✗ 3. Lenders

✗ 4. Government creditors

Question ID : 5096476080

Status : Answered

Chosen Option : 2

Q.51 A reporting relationship in which an employee receives orders from and reports to only one supervisor is known as:

Ans ✗ 1. centralization

✓ 2. unity of command

✗ 3. line of authority

✗ 4. unity of direction

Question ID : 5096476061

Status : Answered

Chosen Option : 2

Q.52 The IMF and World Bank benefit global marketers by:

- Ans
- 1. acting as a forum for corporate trade negotiations
 - 2. maintaining variable rate financing for manufacturers
 - 3. reviewing visionary mission statements
 - 4. raising the global standard of living

Question ID : 5096476055

Status : Answered

Chosen Option : 1

Q.53 The debit side of a company's trial balance totals ₹ 2000 more than the credit side. Which one of the following errors would fully account for the difference?

- Ans
- 1. A discount received of ₹ 1000 has been debited to discount allowed account.
 - 2. A receipt of ₹ 4000 for commission receivable has been omitted from the records.
 - 3. ₹ 1000 was paid for the plant maintenance has been correctly entered in the cash book and credited to the plant asset account.
 - 4. A receipt of ₹ 2000 for commission receivable has been omitted from the records.

Question ID : 5096476053

Status : Answered

Chosen Option : 1

Q.54 निम्नलिखित में से कौन-सा इंटरनेट के संबंध में सही है?

- Ans
- 1. यह एक प्रणाली है, जिसका उपयोग बाहर के आपूर्तिकर्ताओं द्वारा सूची को अद्यतन करने के लिए किया जाता है।
 - 2. यह एक नेटवर्क है, जिसका उपयोग कारोबार को ग्राहकों तक पहुंचाने और उन्हें उत्पाद की जानकारी भेजने के लिए किया जाता है।
 - 3. यह एक नेटवर्क है, जो इंटरनेट टूल का उपयोग करता है, लेकिन संस्थान में अधिकृत उपयोगकर्ताओं तक पहुंच को सीमित करता है।
 - 4. यह एक ऐसी प्रणाली है, जो बड़ी मात्रा में डेटा का विश्लेषण करने के लिए शक्तिशाली कम्प्यूटर का उपयोग करती है, जैसे कि कर्मचारी के लक्षणों के बारे में डेटा।

Question ID : 5096476076

Status : Answered

Chosen Option : 3

Q.55 If H Ltd. purchased 75% of the shares at a price of ₹ 1,10,000, when S Ltd. share capital was ₹ 60,000 and its accumulated profit amounted to ₹ 80,000, what was the amount of goodwill paid by H Ltd.?

- Ans
- 1. ₹ 5,000
 - 2. ₹ 15,000
 - 3. ₹ 10,000

✗ 4. ₹ 18,000

Question ID : 5096476057
Status : Answered
Chosen Option : 1

Q.56 The main focus of TQM is on:

- Ans
- ✗ 1. profitability of company
 - ✗ 2. customer delight
 - ✓ 3. quality of product
 - ✗ 4. training of employee

Question ID : 5096476070
Status : Answered
Chosen Option : 3

Q.57 दिए गए विकल्पों में से, भविष्य की योजना में क्या शामिल है?

- Ans
- ✗ 1. नौकरी शुरू करना या जॉइन करना
 - ✗ 2. करियर के साथ तालमेल बैठाना
 - ✗ 3. अपना खुद का व्यवसाय या उद्यम शुरू करना
 - ✓ 4. करियर को लेकर सभी पेशेवरों और विपक्षों का मूल्यांकन करना

Question ID : 5096476067
Status : Answered
Chosen Option : 4

Q.58 Which of the following is NOT included in a firm's macro environment?

- Ans
- ✗ 1. Economics
 - ✓ 2. Competition
 - ✗ 3. Demographics
 - ✗ 4. Culture

Question ID : 5096476046
Status : Answered
Chosen Option : 1

Q.59 निम्न में से कौन-सा नौकरियों के बारे में विस्तृत जानकारी प्राप्त करने की प्रक्रिया को संदर्भित करता है?

- Ans
- ✗ 1. आपूर्ति श्रृंखला प्रबंधन
 - ✗ 2. कार्य आवर्तन
 - ✓ 3. कार्य विश्लेषण
 - ✗ 4. नीति निर्माण

Question ID : 5096476073
Status : Answered
Chosen Option : 1

Q.60 Which of the following statements is true of the relationship between law and ethics?

- Ans**
- 1. Ethical actions will not have legal implications.
 - 2. All ethical actions are legal.
 - 3. An action may be within the law and still not be ethical.
 - 4. Legal actions are typically not treated as ethical actions.

Question ID : **5096476082**
Status : **Answered**
Chosen Option : **3**

Prepp



Latest Sarkari jobs, Govt Exam alerts, Results and Vacancies

- ▶ Latest News and Notification
- ▶ Exam Paper Analysis
- ▶ Topic-wise weightage
- ▶ Previous Year Papers with Answer Key
- ▶ Preparation Strategy & Subject-wise Books

To know more [Click Here](#)



www.prepp.in