

















Practice, Learn and Achieve
Your Goal with Prepp

DSSSB Exam

PGT Previous Paper

Simplifying
Government Exams

 SSC CHSL	 IAS EXAM	 RRB NTPC	 NTSE	 CDS
 SSC CGL	 CBSE UGC NET	 IBPS PO	 NDA	
 SBI PO	 IBPS CLERK	 AFCAT	 SSC JE	 CTET
 CSIR UGC NET	 CAPF	 IBPS RRB		

DO NOT OPEN THE SEAL OF THE BOOKLET UNTIL YOU ARE TOLD TO DO SO

इस पुस्तिका की सील तब तक न खोले जब तक कहा न जाए

A

POST CODE

पोस्ट कोड: 153/12, 154/12

JDD-35/PGT-SOCIO/X-14

Serial No.

Write here Roll number and Answer-Sheet No.

यहाँ क्रमांक एवं उत्तर-पत्रिका संख्या लिखें

577491

Roll No./ अनुक्रमांक

--	--	--	--	--	--	--	--	--	--

Answer-Sheet No./ उत्तर-पत्रिका संख्या

--	--	--	--	--	--	--	--	--	--

Time Allowed : 2 hours

TIER-I (PRELIMINARY) EXAMINATION

Maximum Marks : 200

निर्धारित समय : 2 घंटे

टियर-I (प्राथमिक) परीक्षा

अधिकतम अंक : 200

Read the following instructions carefully before you begin to answer the questions.

प्रश्नों के उत्तर देने से पहले नीचे लिखे अनुदेशों को ध्यान से पढ़ लें।

IMPORTANT INSTRUCTIONS TO CANDIDATES

1. This Booklet contains 200 questions in all comprising the following Sections :

Sections	Test Components	No. of Questions	Page No.
(A) i)	General Awareness	20	4 - 7
ii)	General Intelligence and Reasoning Ability	20	8 - 11
iii)	Arithmetical and Numerical Ability	20	12 - 17
iv)	Test of Language : Hindi	20	18 - 19
v)	Test of Language : English	20	20 - 21
(B)	Post Specific Subject-Related Questions	100	22 - 47

- All questions are compulsory and carry equal marks.
- The paper carries negative markings. For each wrong answer 0.25 marks will be deducted.
- In case of any discrepancy between the English and Hindi versions of any question, the English version will be treated as final/authentic.
- OMR Answer-Sheet is enclosed in this Booklet. You must complete the details of Roll Number, Question Booklet No., etc., on the Answer-Sheet and Answer-Sheet No. on the space provided above in this Question Booklet, before you actually start answering the questions, failing which your Answer-Sheet will not be evaluated and you will be awarded 'ZERO' mark.
- You must not tear off or remove any sheet from this Booklet. The Answer-Sheet must be handed over to the Invigilator before you leave the Examination Hall.
- Use of Calculator/Palmtop/Laptop/Other Digital Instrument/Mobile/Cell Phone/Pager is not allowed.
- Candidates found guilty of misconduct/using unfair means in the Examination Hall will be liable for appropriate penal/legal action.
- The manner in which different questions are to be answered has been explained at the back of this Booklet, which you should read carefully before actually answering the questions.
- No Rough Work is to be done on the Answer-Sheet.

उम्मीदवारों के लिए महत्वपूर्ण अनुदेश

1. इस पुस्तिका में कुल 200 प्रश्न हैं, जिनमें निम्नलिखित भाग शामिल हैं :

भाग	परीक्षण विषय	प्रश्नों की संख्या	पृष्ठ क्रमांक
(अ) i)	सामान्य जानकारी	20	4 - 7
ii)	सामान्य बुद्धिमत्ता तथा तार्किक योग्यता	20	8 - 11
iii)	अंकगणितीय एवं संख्यात्मक योग्यता	20	12 - 17
iv)	भाषा परीक्षण : हिन्दी	20	18 - 19
v)	भाषा परीक्षण : अंग्रेजी	20	20 - 21
(ब)	पोस्ट स्पेशलिसिक विषय - संकड़ी प्रश्न	100	22 - 47

- सभी प्रश्न अनिवार्य हैं तथा सबके बराबर अंक हैं।
- प्रश्न पत्र में नकारात्मक अंकन होगा। हर गलत उत्तर के लिए 0.25 अंक काटा जायेगा।
- यदि किसी प्रश्न के हिन्दी तथा अंग्रेजी अनुवाद में कोई अंतर है तो अंग्रेजी अनुवाद को ही सही समझा जायेगा।
- इस उत्तर-पुस्तिका में ओ.एम.आर. उत्तर-पत्रिका संलग्न है। प्रश्नों के उत्तर वास्तव में शुरू करने से पहले भाग उत्तर-पत्रिका में अपना रोल नम्बर, प्रश्न पुस्तिका संख्या, इत्यादि तथा इस प्रश्न पुस्तिका में उपरोक्त दिए गए स्थान पर उत्तर-पत्रिका की संख्या लिखें। अन्यथा आपकी उत्तर-पत्रिका को जांचा नहीं जायेगा और शून्य अंक दिया जायेगा।
- इस पुस्तिका से कोई पन्ना काटना या अलग करना मना है। परीक्षा-भवन छोड़ने से पहले उत्तर-पत्रिका निरीक्षक के हवाले कर दें।
- कैलकुलेटर/पापटॉप/लैपटॉप/अन्य डिजिटल उपकरण/मोबाइल/सिल फोन/पेजर का उपयोग वर्जित है।
- परीक्षा-भवन में अनुचित व्यवहार एवं कार्य के लिए दोषी पाये गये अभ्यर्थी पुनिसंलग्न दंडनीय/वैधानिक कार्यवाही के पात्र होंगे।
- विभिन्न प्रश्नों के उत्तर देने की विधि इस पुस्तिका के पीछे छपे हुए निर्देशों में दी गई है, इसे आप प्रश्नों के उत्तर देने से पहले ध्यानपूर्वक पढ़ लें।
- कोई रफ कार्य उत्तर-पत्रिका पर नहीं करना है।

Go through instructions given in Page No. 48 (Back Cover Page)

A*

-1-



i) सामान्य जानकारी

1. सूर्य से सबसे करीबी ग्रह है
(A) शुक्र
(B) बुध
(C) गुरु
(D) शनि
2. डॉ. क्रिश्चन बरनार्ड द्वारा लूइज़ वॉशकानस्की पर की गई पहली मानव हृदय प्रतिरोपण शल्यक्रिया इस साल की गई।
(A) 1967
(B) 1968
(C) 1958
(D) 1922
3. रेलवे डिब्बा उत्पादन करने वाली प्रसिद्ध इंटीग्रेल कोच फैक्टरी (आईसीएफ) यहाँ स्थित है
(A) कोलकता
(B) बोरिविली
(C) पेरांबूर
(D) चित्तोजन
4. गोवाहाटी उच्च न्यायालय का न्यायाधिकार इस पर है
(A) नागालैंड
(B) अरुणाचल प्रदेश
(C) असम
(D) ऊपरी सभी
5. निम्न में से कौनसे राज्य में अंग्रेजी यह राजभाषा है ?
(A) ओड़ीशा
(B) नागालैंड
(C) केरल
(D) त्रिपुरा
6. भारतीय सेना के पहले भारतीय चीफ ऑफ आर्मी स्टाफ कौन थे ?
(A) ज. के. एम. करिअप्पा
(B) वाइस-एडमिरल आर. डी. कटारी
(C) ज. महाराजा राजेंद्र सिंहजी
(D) इनमें से कोई नहीं
7. रेड क्रॉस की स्थापना इन्होंने की
(A) ए. कुरसेतजी
(B) बडेल पॉवेल
(C) जे. एच. डूरंट
(D) ट्रूम्बे ली
8. गोपालकृष्ण गोखले
(A) गणित के शिक्षक से आरंभ करते हुए फरम्युसन कालेज, पुणे के प्राचार्य के ओहदे तक पहुँचे
(B) ने सर्वेस्ट्र ऑफ इंडिया सोसाइटी की स्थापना की
(C) 1905 में भारतीय राष्ट्रीय कांग्रेस के अध्यक्ष बने
(D) ऊपरी सभी
9. एक सामान्य वयस्क कुत्ते के कितने दाँत होते हैं ?
(A) 32
(B) 34
(C) 38
(D) 42
10. भारत का पहला परमाण्विक पावर स्टेशन यहाँ स्थापित किया गया
(A) सूरत (गुजरात)
(B) तारापुर (महाराष्ट्र)
(C) ट्रूंबे (महाराष्ट्र)
(D) सोलापूर (महाराष्ट्र)

A



11. How many Dynes are there in 1 gram weight ?
(A) 900
(B) 375
(C) 981
(D) 250
12. Modern football is said to have evolved from
(A) England
(B) India
(C) France
(D) Spain
13. Shaurya Chakra made up of bronze is awarded for
(A) gallantry otherwise than in the face of the enemy
(B) most conspicuous bravery for some act of self-sacrifice
(C) gallantry in the presence of enemy
(D) none of the above
14. The theory of economic drain of India during British imperialism was propounded by
(A) Jawaharlal Nehru
(B) Dadabhai Naoroji
(C) R. C. Dutt
(D) M. K. Gandhi
15. 'Dandia' is a popular dance of
(A) Punjab
(B) Gujarat
(C) Tamil Nadu
(D) Maharashtra
16. The headquarters of Sahitya Akademi is at
(A) Mumbai
(B) Chennai
(C) New Delhi
(D) Kolkata
17. Which of the following books has been written by Vikram Seth ?
(A) My God Died Young
(B) Islamic Bomb
(C) Look Back in Anger
(D) A Suitable Boy
18. Aurobindo was the author of
(A) Discovery of India
(B) Hindu View of Life
(C) Yogashastra
(D) Savitri
19. Mangla oil well is located in
(A) Haryana
(B) Rajasthan
(C) Goa
(D) Assam
20. Which of the following is not a session of Lok Sabha ?
(A) Budget Session
(B) Summer Session
(C) Winter Session
(D) Monsoon Session

11. 1 ग्राम वजन में कितने डाइन होते हैं ?
 (A) 900
 (B) -375
 (C) 981
 (D) 250
12. आधुनिक फुटबॉल यहाँ से विकसित हुआ
 (A) इंग्लैंड
 (B) भारत
 (C) फ्रान्स
 (D) स्पेन
13. कौसे से बना शौक चक्र इसके लिए पुरस्कृत किया जाता है
 (A) शत्रु का मुकाबला किये बगैर की गई वीरता
 (B) अति विशेष शौर्यता दिखाते हुए आत्म-बलिदान देना
 (C) शत्रु के सामने दिखाई गई वीरता
 (D) इनमें से कोई नहीं
14. ब्रिटीश साम्राज्यवाद के समय भारत का आर्थिक अपचय यह सिद्धान्त इन्होंने प्रस्तुत किया
 (A) जवाहरलाल नेहरू
 (B) दादाभाई नौरोजी
 (C) आर. सी. दत्त
 (D) एम. के. गांधी
15. 'दांडीया' इस राज्य का लोकप्रिय नृत्य है
 (A) पंजाब
 (B) गुजरात
 (C) तमिलनाडु
 (D) महाराष्ट्र
16. साहित्य अकादमी का मुख्यालय यहाँ है
 (A) मुंबई
 (B) चेन्नई
 (C) नई दिल्ली
 (D) कोलकता
17. निम्न में से कौन-सी किताब विक्रम सेठ ने लिखी है ?
 (A) माई गॉड डाइड यंग
 (B) इस्लामिक बाँव
 (C) लुक बॅक इन अँग
 (D) अ सुटेबल बॉय
18. अरबिदो इसके लेखक थे
 (A) डिस्कवरी ऑफ इंडिया
 (B) हिन्दु व्यू ऑफ लाईफ
 (C) योगशास्त्र
 (D) सावित्री
19. मंगला तेल-कुँआ यहाँ स्थित है
 (A) हरियाणा
 (B) राजस्थान
 (C) गोवा
 (D) असम
20. निम्न में कौन-सा लोकसभा का सत्र नहीं है ?
 (A) बजेट सत्र
 (B) ग्रीष्मकालीन सत्र
 (C) शीतकालीन सत्र
 (D) वर्षाकालीन सत्र

A

A*

-7-



ii) General Intelligence and Reasoning Ability

21. Reptile is to lizard as flower is to
 (A) petal
 (B) stem
 (C) daisy
 (D) alligator
22. Here are some words translated from an artificial language.
 daftafoni means advisement
 imodafta means misadvise
 imolokti means misconduct
 Which word could mean "statement" ?
 (A) kratafoni
 (B) kratadafta
 (C) loktifoni
 (D) daftaimo

Directions for Q. No. 23 and 24 : Each question has an underlined word followed by four answer choices. You will choose the word that is a necessary part of the underlined word.

23. Guitar
 (A) band
 (B) teacher
 (C) songs
 (D) strings
24. Election
 (A) President
 (B) Voter
 (C) November
 (D) Nation

Directions for Q. No. 25 to 27 : Each problem consists of three statements. Based on the first two statements, the third statement may be true, false, or uncertain.

25. Oat cereal has more fiber than corn cereal but less fiber than bran cereal. Corn cereal has more fiber than rice cereal but less fiber than wheat cereal.
 Of the three kinds of cereal, rice cereal has the least amount of fiber.
 If the first two statements are true, the third statement is
 (A) True (B) False
 (C) Uncertain (D) Certain
26. Martina is sitting in the desk behind Jerome.
 Jerome is sitting in the desk behind Bryant.
 Bryant is sitting in the desk behind Martina.
 If the first two statements are true, the third statement is
 (A) True (B) False
 (C) Uncertain (D) Certain
27. Battery X lasts longer than Battery Y. Battery Y doesn't last as long as Battery Z.
 Battery Z lasts longer than Battery X.
 If the first two statements are true, the third statement is
 (A) True (B) False
 (C) Uncertain (D) Certain

ii) सामान्य बुद्धिमत्ता तथा तार्किक योग्यता

21. सरीसृप जैसे छिपकली है वैसे फूल है

- (A) पंखुड़ी
(B) तना
(C) डेज़ी
(D) मगरमच्छ

22. एक नकली भाषा के कुछ शब्दों का रूपान्तर इस तरह है

daftafoni का मतलब है एडवाइज़मेंट
imodafta का मतलब है मिसएडवाइज़
imolokti का मतलब है मिसकंडक्ट
“स्टेटमेंट” के लिए क्या शब्द है ?

- (A) kratafoni
(B) kratadafta
(C) loktifoni
(D) daftaimo

निर्देश (प्र.क्र. 23 और 24) : प्रत्येक प्रश्न में एक रेखांकित शब्द है और उसके बाद चार विकल्पी उत्तर दिये गये हैं। रेखांकित शब्द का आवश्यक भागवाला शब्द चुनिए।

23. गीटार

- (A) बैड
(B) शिक्षक
(C) गाने
(D) तार

24. चुनाव

- (A) अध्यक्ष
(B) मतदार
(C) नवम्बर
(D) देश

निर्देश (प्र. क्र. 25 से 27) : प्रत्येक प्रश्न में तीन कथन सम्मिलित हैं। पहले दो कथनों के आधार पर तीसरा कथन सच, झूठ या अनिश्चित हो सकता है।

25. जुई धान्य में मकई धान्य से अधिक रेशा होता है लेकिन भूसी धान्य से कम रेशा होता है।

मकई धान्य में चावल धान्य से अधिक रेशा होता है लेकिन गेहूँ धान्य से कम रेशा होता है।

तीनों प्रकार के धान्यों में से चावल धान्य में सबसे कम रेशा होता है।

यदि पहले दो कथन सच हैं तो, तीसरा कथन है

- (A) सच (B) झूठ
(C) अनिश्चित (D) निश्चित

26. मार्टिना जेरोम के पिछले वाले डेस्क पर बैठी है।

जेरोम ब्रांट के पिछले वाले डेस्क पर बैठी है।

ब्रांट मार्टिना के पिछले वाले डेस्क पर बैठी है।

यदि पहले दो कथन सच हैं तो, तीसरा कथन है

- (A) सच (B) झूठ
(C) अनिश्चित (D) निश्चित

27. X बैटरी Y बैटरी से ज़्यादा चलती है

Y बैटरी Z बैटरी जितनी नहीं चलती

Z बैटरी X बैटरी से ज़्यादा चलती है

यदि पहले दो कथन सच हैं तो, तीसरा कथन है

- (A) सच (B) झूठ
(C) अनिश्चित (D) निश्चित

A*



21. Reptil

L

JDD-35/PGT-SOCIO/X-14

(L,

29. Arrange the following in a meaningful sequence :

1. Euphoria
2. Happiness
3. Ambivalence
4. Ecstasy
5. Pleasure

- (A) 1, 4, 2, 5, 3
 (B) 2, 1, 3, 4, 5
 (C) 3, 2, 5, 1, 4
 (D) 4, 1, 3, 2, 5

Directions for Q. No. 30 and 31 : In each series, look for the degree and direction of change between the numbers. In other words, do the numbers increase or decrease, and by how much.

30. Look at this series :
 8, 22, 8, 28, 8, ... What number should come next ?

- (A) 9 (B) 29
 (C) 32 (D) 34

31. Look at this series :
 1.5, 2.3, 3.1, 3.9, ... What number should come next ?

- (A) 4.2 (B) 4.5
 (C) 4.7 (D) 5.1

,ful

Directions for Q. No. 32 to 35 : Look carefully for the pattern, and then choose which pair of numbers comes next.

32. 20 20 17 17 14 14 11
 (A) 8 8 (B) 11 11
 (C) 11 8 (D) 8 19

33. 9 12 11 14 13 16 15
 (A) 14 13 (B) 18 21
 (C) 18 17 (D) 12 13

34. 4 8 22 12 16 22 20 24
 (A) 28 32 (B) 28 22
 (C) 22 28 (D) 32 36

35. 10 20 25 35 40 50 55
 (A) 70 65 (B) 60 70
 (C) 60 75 (D) 65 70

36. Which word does not belong with the others ?

- (A) branch (B) dirt
 (C) leaf (D) root

37. DEF, DEF₂, DE₂F₂, _____, D₂E₂F₃
 (A) DEF₃ (B) D₃E₃F₃
 (C) D₂E₃F (D) D₂E₂F₂

38. AG : IO :: EK : ?

- (A) LR (B) MS
 (C) PV (D) SY

39. ADE : FGJ :: KNO : ?

- (A) PQR (B) PQT
 (C) RQP (D) TPR

Directions for Q. No. 40 : Choose that set of numbers from the four alternative sets, that is similar to the given set.

40. (6, 15, 28)
 (A) (46, 56, 66)
 (B) (50, 59, 71)
 (C) (60, 67, 72)
 (D) (60, 69, 82)

A*



28. निम्न को अर्थपूर्ण क्रम में सजाईये ।

1. सोना
2. लोहा
3. रेत
4. प्लैटिनम
5. हीरा

- (A) 2, 4, 3, 5, 1
(B) 3, 2, 1, 5, 4
(C) 4, 5, 1, 3, 2
(D) 5, 4, 3, 2, 1

29. निम्न को अर्थपूर्ण क्रम में सजाईए ।

1. सुखाभामु
2. सुख-शांति
3. द्वैधवृत्ति
4. उल्लास
5. सुख

- (A) 1, 4, 2, 5, 3
(B) 2, 1, 3, 4, 5
(C) 3, 2, 5, 1, 4
(D) 4, 1, 3, 2, 5

निर्देश (प्र.क्र. 30 और 31) : प्रत्येक शृंखला में संख्याओं के बीच के बदलाव की मात्रा और दिशा की ओर ध्यान दीजिए । मतलब की, संख्याएँ बढ़ती या घटती है, और कितने से ?

30. शृंखला : 8, 22, 8, 28, 8, ... में अगली संख्या कौन-सी होगी ?

- (A) 9 (B) 29
(C) 32 (D) 34

31. शृंखला : 1.5, 2.3, 3.1, 3.9, ... में अगली संख्या कौन-सी होगी ?

- (A) 4.2 (B) 4.5
(C) 4.7 (D) 5.1

निर्देश (प्र.क्र. 32 से 35) : पैटर्न को ध्यानपूर्वक देखिए और अगली संख्या जोड़ी का चयन कीजिए ।

32. 20 20 17 17 14 14 11

- (A) 8 8 (B) 11 11
(C) 11 8 (D) 8 19

33. 9 12 11 14 13 16 15

- (A) 14 13 (B) 18 21
(C) 18 17 (D) 12 13

34. 4 8 22 12 16 22 20 24

- (A) 28 32 (B) 28 22
(C) 22 28 (D) 32 36

35. 10 20 25 35 40 50 55

- (A) 70 65 (B) 60 70
(C) 60 75 (D) 65 70

36. कौन सा शब्द औरों से भिन्न है ?

- (A) रहनी (B) मैल
(C) पत्ता (D) मूल

37. DEF, DEF₂, DE₂F₂, _____, D₂E₂F₃

- (A) DEF₃ (B) D₃E₃F₃
(C) D₂E₃F (D) D₂E₂F₂

38. AG : IO :: EK : ?

- (A) LR (B) MS
(C) PV (D) SY

39. ADE : FGJ :: KNO : ?

- (A) PQR (B) PQT
(C) RQP (D) TPR

निर्देश (प्र.क्र. 40) : दिये गये संख्या समूह जैसा ही संख्या समूह, विकल्पों से चयन कीजिए ।

40. (6, 15, 28)

- (A) (46, 56, 66)
(B) (50, 59, 71)
(C) (60, 67, 72)
(D) (60, 69, 82)



iii) Arithmetical and Numerical Ability

41. A man walked diagonally across a square lot. Approximately, what was the percent saved by not walking along the edges ?
- (A) 20
(B) 24
(C) 30
(D) 33
42. The average age of husband, wife and their child 3 years ago was 27 years and that of wife and the child 5 years ago was 20 years. The present age of the husband is
- (A) 35 years
(B) 40 years
(C) 50 years
(D) None of these
43. The least number of complete years in which a sum of money put out at 20% compound interest will be more than doubled is
- (A) 3
(B) 4
(C) 5
(D) 6
44. A man standing at a point P is watching the top of a tower, which makes an angle of elevation of 30° with the man's eye. The man walks some distance towards the tower to watch its top and the angle of the elevation becomes 60° . What is the distance between the base of the tower and the point P ?
- (A) 43 units
(B) 8 units
(C) 12 units
(D) Data inadequate
45. The smallest 3 digit prime number is
- (A) 101
(B) 103
(C) 109
(D) 113
46. Two numbers A and B are such that the sum of 5% of A and 4% of B is two-third of the sum of 6% of A and 8% of B. Find the ratio of A : B.
- (A) 2 : 3
(B) 1 : 1
(C) 3 : 4
(D) 4 : 3



III) अंकगणितीय एवं संख्यात्मक योग्यता

41. एक चौकोर जगह पर एक व्यक्ति विकर्णतः चलता है। ऐसे में उसने लगभग कितने प्रतिशत चौकोर के किनारे से चलने से अपने आपको बचाया ?
- (A) 20
(B) 24
(C) 30
(D) 33
42. 3 वर्ष पहले पति, पत्नी और उनके बच्चे की औसत उमर 23 वर्ष थी और पत्नी और बच्चे की औसत उमर 5 वर्ष पहले 20 वर्ष थी। पति की वर्तमान उमर है
- (A) 35 वर्ष
(B) 40 वर्ष
(C) 50 वर्ष
(D) इनमें से कोई नहीं
43. 20% चक्रवृद्धि ब्याज दर से एक राशि दुगुनी से अधिक होने के लिए न्यूनतम पूर्ण वर्ष होंगे
- (A) 3
(B) 4
(C) 5
(D) 6
44. एक व्यक्ति P बिन्दु पर खड़ा है और एक टॉवर के शिखर को देख रहा है जो उस व्यक्ति की आँख से 30° का उत्थापन कोण करता है। जब वह व्यक्ति टॉवर की ओर कुछ दूर चलता है और शिखर की ओर देखता है तब उत्थापन कोण 60° होता है। टॉवर का तल और P बिन्दु में क्या दूरी है ?
- (A) 43 इकाई
(B) 8 इकाई
(C) 12 इकाई
(D) अपर्याप्त आँकड़े
45. न्यूनतम 3 अंकोवाली अभाज्य संख्या है
- (A) 101
(B) 103
(C) 109
(D) 113
46. A और B ऐसी संख्याएँ हैं कि A का 5% और B का 4% का जोड़ A का 6% और B का 8% के जोड़ का दो-तिहाई है। A : B का अनुपात पता कीजिए।
- (A) 2 : 3
(B) 1 : 1
(C) 3 : 4
(D) 4 : 3

A

A*

-13-



47. How many 3-digit numbers can be formed from the digits 2, 3, 5, 6, 7 and 9, which are divisible by 5 and none of the digits is repeated ?
- (A) 5
(B) 10
(C) 15
(D) 20
48. Two pipes A and B together can fill a cistern in 4 hours. Had they been opened separately, then B would have taken 6 hours more than A to fill the cistern. How much time will be taken by A to fill the cistern separately ?
- (A) 1 hour
(B) 2 hour
(C) 6 hour
(D) 8 hour
49. In a lottery, there are 10 prizes and 25 blanks. A lottery is drawn at random. What is the probability of getting a prize ?
- (A) $1/10$
(B) $2/5$
(C) $2/7$
(D) $5/7$
50. The sum of the present ages of a father and his son is 60 years. Six years ago, father's age was five times the age of the son. After 6 years, son's age will be
- (A) 12 years
(B) 14 years
(C) 18 years
(D) 20 years
51. The product of two numbers is 2028 and their H.C.F. is 13. The number of such pairs is
- (A) 1
(B) 2
(C) 3
(D) 4
52. A number consists of two digits. If the digits interchange places and the new number is added to the original number, then the resulting number will be divisible by
- (A) 3
(B) 5
(C) 9
(D) 11



47. 2, 3, 5, 6, 7 और 9 अंकों से कितनी 3 - अंकोवाली संख्याएँ बनाई जा सकती है जो 5 से भागी जा सकती है और कोई भी अंक दोहराया नहीं जाता ?

- (A) 5
(B) 10
(C) 15
(D) 20

48. A और B पाईप एक साथ एक टंकी को 4 घंटों में भर सकते हैं। यदि उनको अलग से खोला होता तो टंकी भरने में A पाईप से B पाईप 6 घंटा अधिक लेता है। वह टंकी भरने के लिए अलग से A पाईप को कितना समय लगेगा ?

- (A) 1 घंटा
(B) 2 घंटा
(C) 6 घंटा
(D) 8 घंटा

49. एक लाटरी में 10 इनाम हैं और 25 खाली टिकट हैं। लाटरी को बेतरतीब तरीके से निकाला जाता है। इनाम मिलने की संभावना कितनी है ?

- (A) $1/10$
(B) $2/5$
(C) $2/7$
(D) $5/7$

50. पिता और उसके बेटे के वर्तमान उमर का जोड़ 60 साल है। 6 साल पहले पिता की उमर बेटे की उमर से पाँच गुना थी। 6 साल बाद बेटे की उमर यह होगी

- (A) 12 साल
(B) 14 साल
(C) 18 साल
(D) 20 साल

51. दो संख्याओं का गुणनफल 2028 है और उनका एचसीएफ 13 है। ऐसे जोड़ियों की संख्या है

- (A) 1
(B) 2
(C) 3
(D) 4

52. एक संख्या में दो अंक हैं। यदि अंकों को अदला बदल किया जाता है और नई संख्या में मूल संख्या को मिलाया जाता है तो आनेवाली संख्या इससे विभाजित हो सकती है

- (A) 3
(B) 5
(C) 9
(D) 11

A



53. Two trains, each 100 m long, moving in opposite directions, cross each other in 8 seconds. If one is moving twice as fast the other, then the speed of the faster train is
- (A) 30 km/hr
(B) 45 km/hr
(C) 60 km/hr
(D) 75 km/hr
54. A man buys a cycle for Rs. 1,400 and sells it at a loss of 15%. What is the selling price of the cycle?
- (A) Rs. 1,090
(B) Rs. 1,160
(C) Rs. 1,190
(D) Rs. 1,202
55. If $0.75 : x :: 5 : 8$, then x is equal to
- (A) 1.12
(B) 1.2
(C) 1.25
(D) 1.30
56. A sum of Rs. 725 is lent in the beginning of a year at a certain rate of interest. After 8 months, a sum of Rs. 362.50 more is lent but at the rate twice the former. At the end of the year, Rs. 33.50 is earned as interest from both the loans. What was the original rate of interest?
- (A) 3.6%
(B) 4.5%
(C) 5%
(D) None of these
57. The square root of $(7+3\sqrt{5})(7-3\sqrt{5})$ is
- (A) 5
(B) 2
(C) 4
(D) 35
58. The ratio between the speeds of two trains is 7 : 8. If the second train runs 400 km in 4 hours, then the speed of the first train is
- (A) 70 km/hr
(B) 75 km/hr
(C) 84 km/hr
(D) 87.5 km/hr
59. A can do a piece of work in 4 hours; B and C together can do it in 3 hours, while A and C together can do it in 2 hours. How long will B alone take to do it?
- (A) 8 hours
(B) 10 hours
(C) 12 hours
(D) 24 hours
60. A metallic sheet is of rectangular shape with dimensions 48 m x 36 m. From each of its corners, a square is cut off so as to make an open box. If the length of the square is 8 m, the volume of the box (in m^3) is
- (A) 4830
(B) 5120
(C) 6420
(D) 8960

53. 100 मीटर लम्बाई के दो ट्रेनें विरुद्ध दिशा में आते हुए एक दूसरे को 8 सेकंड में पार करती हैं। यदि उनमें से एक, दूसरे ट्रेन से दुगुनी तेज है तो, अधिक तेज ट्रेन की गति है
 (A) 30 कि.मी./घंटा
 (B) 45 कि.मी./घंटा
 (C) 60 कि.मी./घंटा
 (D) 75 कि.मी./घंटा
54. एक व्यक्ति एक साइकल 1,400 रु. में खरीदता है और उसे 15% घाटे में बेचता है। उस साइकल का विक्रय-मूल्य क्या है ?
 (A) 1,090 रु.
 (B) 1,160 रु.
 (C) 1,190 रु.
 (D) 1,202 रु.
55. यदि $0.75 : x :: 5 : 8$ है तो, x का मूल्य है
 (A) 1.12
 (B) 1.2
 (C) 1.25
 (D) 1.30
56. वर्ष के आरंभ में एक निश्चित ब्याज दर से 725 रु. की राशि उदार दी जाती है। 8 महिनो बाद एक और राशि 362.50 पहले के दुगुने ब्याज दर पर दी जाती है। वर्ष के आखिर ब्याज के रूप में दोनों ऋणों पर 33.50 रु. कमाये जाते हैं। मूल ब्याज दर क्या था ?
 (A) 3.6%
 (B) 4.5%
 (C) 5%
 (D) इनमें से कोई नहीं
57. $(7+3\sqrt{5})(7-3\sqrt{5})$ का वर्गमूल है
 (A) 5
 (B) 2
 (C) 4
 (D) 35
58. दो ट्रेनों की गति का अनुपात 7 : 8 है। यदि दूसरी ट्रेन 4 घंटों में 400 कि.मी. दौड़ती है तो पहली ट्रेन की गति है
 (A) 70 कि.मी./घंटा
 (B) 75 कि.मी./घंटा
 (C) 84 कि.मी./घंटा
 (D) 87.5 कि.मी./घंटा
59. A एक काम 4 घंटों में करता है; B और C एक साथ उसे 3 घंटों में, जबकि A और C साथ में उसे 2 घंटों में करते हैं। B उसे करने में अकेले कितना समय लेगा ?
 (A) 8 घंटे
 (B) 10 घंटे
 (C) 12 घंटे
 (D) 24 घंटे
60. एक आयताकार धातु की चदर का विस्तार 48 मी. x 36 मी. है। उसके हर कोने से एक चौकोर काटा जाता है जिससे एक खुला बक्सा बनाया जा सके। यदि चौकोर की लम्बाई 8 मी. है, तो बक्से का घनफल (मी.³ में) होगा।
 (A) 4830
 (B) 5120
 (C) 6420
 (D) 8960



iv) Test of Language : Hindi

भाषा परीक्षण : हिन्दी

निम्नलिखित प्रश्नों के उत्तर चुनकर लिखिये ।

61. इनमें से किसकी वर्तनी शुद्ध है ?
 (A) साहित्यिक (B) साहीत्यिक
 (C) साहित्यीक (D) साहित्यक
62. 'अमिय' का पर्यायवाची है
 (A) सोम (B) अनन्त
 (C) धारा (D) नभ
63. 'अनुज' का विलोम क्या है ?
 (A) भाई (B) अग्रज
 (C) भ्राता (D) श्वग्रज
64. जिस शब्द के एक से अधिक अर्थ हो
 (A) सामासिक (B) श्लिष्ट
 (C) संश्लेषित (D) क्लिष्ट
65. जिसे दंड का भय न हो
 (A) उदंड (B) अभयीत
 (C) निडर (D) डरपोक
66. शुद्ध वाक्य का चयन करें ।
 (A) मैं रविवार के दिन तुम्हारे घर आऊँगा ।
 (B) मैं रविवार को तुम्हारे घर आऊँगा ।
 (C) हम रविवार को तुम्हारे घर आऊँगा ।
 (D) मैं रविवार के तुम्हारे घर आऊँगा ।
67. आँखों में गिरना
 (A) गुस्से से देखना
 (B) सम्मानरहित होना
 (C) धोखा देना
 (D) धोखा खाना

68. 'पुनः + उक्ति' की संधि होगी
 (A) पुनरउक्ति (B) पुनरुक्ति
 (C) पुनर्युक्ति (D) पुनरोक्ति

निर्देश 69 - 70 : संधि के प्रकार की पहचान करें ।

69. नौ + इक = नाविक
 (A) दीर्घ संधि (B) गुण संधि
 (C) वृद्धि संधि (D) यण संधि
70. महा + औषध = महौषध
 (A) दीर्घ संधि (B) गुण संधि
 (C) वृद्धि संधि (D) यण संधि
71. नीलगाय ने सारी फसल _____ कर दी ।
 (A) नष्ट भ्रष्ट (B) पथ भ्रष्ट
 (C) तहस नहस (D) रौंद
72. शीना अपने _____ परिवार में रहती है । वह एक चिकित्सक _____ चाहती है । वह अपना अधिक से अधिक समय पढ़ाई _____ लगाना पसन्द करती है, लेकिन जब वह विद्यालय से घर आती है तो उसकी दादी माँ उसे गृहस्थी के कामों में लगाना चाहती है ।
 (A) बड़े, पाना, पर
 (B) छोटे, पाना, से
 (C) बड़े, बनना, पर
 (D) छोटे, बनना, से
73. साहित्यिक अपभ्रंश को पुरानी हिन्दी किसने कहा था ?
 (A) आचार्य रामचन्द्र शुक्ल
 (B) हजारी प्रसाद द्विवेदी
 (C) शिवसिंह सेंगर
 (D) राहुल सांकृत्यायन

74. 'आजीवन' शब्द में कौन-सा समास है ?
 (A) तत्पुरुष (B) अव्ययीभाव
 (C) बहुव्रीहि (D) द्वंद्व
75. 'कौड़ी' शब्द का तत्सम रूप है
 (A) क्रोड़ (B) करोटि
 (C) कपर्दिका (D) कोटि

निर्देश 76 - 80 : अपठित गद्यांश

निम्नलिखित अवतरण को ध्यानपूर्वक पढ़ें और उससे संबंधित प्रश्नों के उत्तर दिए गए बहु-विकल्पों में से चुनें ।
 जहाँ भी दो नदियाँ आकर मिल जाती है, उस स्थान को अपने देश में तीर्थ कहने का रिवाज है । यह केवल रिवाज की बात नहीं है; हम वाकई मानते हैं कि अलग-अलग नदियों में स्नान करने से जितना पुण्य होता है, उससे कहीं अधिक पुण्य संगम स्नान में है; किंतु भारत जिस दौर से गुजर रहा है, उसमें असली संगम वह स्थान, वे सभाएँ तथा मंच हैं; जिन पर एक से अधिक भाषाएँ एकत्र होती हैं । नदियों की विशेषता यह है कि वे अपनी धाराओं में अनेक जनपदों का सौरव, उनके जनपदों के आँसू और उल्लास लिये चलती है और उनका पारस्परिक मिलन वास्तव में नाना जनपदों के मिलने का ही प्रतीक है । यही हाल भाषाओं का भी है । उनके भीतर भी नाना जनपदों में बसनेवाली जनता के आँसू और उमंगें, भाव और विचार, आशाएँ-शंकाएँ समाहित होती हैं । अंतः जहाँ भाषाओं का मिलन होता है, वहाँ वास्तव में विभिन्न जनपदों के हृदय भी मिलते हैं, उनके भाव-विचारों का भी मिलन होता है । विभिन्नताओं में छिपी हुई एकता कुछ अधिक ही स्पष्ट हो उठती है । इस दृष्टि से भाषाओं के संगम आज सबसे बड़े तीर्थ हैं और इन तीर्थों में जो भी भारतवासी श्रद्धा से स्नान करता है, वह भारतीय एकता का सबसे बड़ा सिपाही और संत है ।
 हमारी भाषाएँ जितनी तेजी से जागँगी, हमारे विभिन्न प्रदेशों का पारस्परिक ज्ञान उतना ही बढ़ता जाएगा । भारतीय

लेखकों की बहुत दिनों से यह आकांक्षा रही थी कि वह केवल अपनी ही भाषा में प्रसिद्ध होकर न रह जाएँ; बल्कि भारत की अन्य भाषाओं में भी उनके नाम पहुँचे और उनकी कृतियों की चर्चा हो । भाषाओं के जागरण के आरंभ होते ही एक प्रकार का अखिल भारतीय मंच आप से आप प्रकट होने लगा है । आज प्रत्येक भाषा के भीतर यह जानने की इच्छा उत्पन्न हो गयी है कि भारत की अन्य भाषाओं में क्या हो रहा है, उनमें कौन-से ऐसे लेखक हैं जिनकी कृतियाँ उल्लेखनीय हैं तथा कौन-सी विचारधारा वहाँ प्रभुसत्ता प्राप्त कर रही है ।

76. भारत में किस स्थान को तीर्थ कहने का रिवाज है ?
 (A) जहाँ दो नदियाँ आकर मिल जाती है ।
 (B) जहाँ दो भाषाएँ मिल जाती हैं ।
 (C) जहाँ महापुरुषों का वास हो ।
 (D) जहाँ विभिन्नता में भी एकता छिपी हो ।
77. असली संगम क्या है ?
 (A) वह स्थान जहाँ नदियाँ समुद्र में मिलती है ।
 (B) वह स्थान जहाँ नदियाँ आपस में मिलती है ।
 (C) जहाँ अनेकता में एकता होती है ।
 (D) वे स्थान, सभाएँ तथा मंच; जहाँ एक से अधिक भाषाएँ एकत्रित होती हैं ।
78. प्रस्तुत गद्यांश में नदी की तुलना किससे की गयी है ?
 (A) रचनाओं से (B) भाषा से
 (C) तीर्थ स्थान से (D) विचारों से
79. पुण्य का विपरार्थी है
 (A) तप (B) पवित्र
 (C) प्रणय (D) पाप
80. प्रस्तुत गद्यांश का उपर्युक्त शीर्षक
 (A) नदी की विशेषता (B) भाषा बहता नदी
 (C) भाषा और नदी (D) भाषाई आंदोलन



v) Test of Language : English

भाषा परीक्षण : अंग्रेजी

81. Change the Passive : He is said to be very rich.

- (A) He said he is very rich.
 (B) People say he is very rich.
 (C) He said it is very rich.
 (D) People say it is very rich.

82. Select the pair which has the same relationship.

INDIGENT : WEALTHY

- (A) angry : rich
 (B) native : affluent
 (C) gauche : graceful
 (D) scholarly : erudite

Directions for Q. No. 83 and 84 : Choose the word which is the exact opposite of the given words.

83. Fresh

- (A) Faulty (B) Sluggish
 (C) Disgraceful (D) Stale

84. Culpable

- (A) Defendable
 (B) Blameless
 (C) Careless
 (D) Irresponsible

85. Direct/Indirect speech : He said to his father, "Please increase my pocket-money."

- (A) He told his father, "Please increase the pocket-money".
 (B) He pleaded his father to please increase my pocket money.
 (C) He requested his father to increase his pocket-money.
 (D) He asked his father to increase his pocket-money.

Directions for Q. No. 86 and 87 : Complete the statement.

86. "Anand stuck up a friendship with Mahesh in just 2 days" means

- (A) Anand friendship with Mahesh came to an end recently
 (B) Anand found out the other friends of Mahesh
 (C) Anand fixed a deal with Mahesh in 2 days
 (D) Anand became a friend of in less than 2 years

87. Although, he is reputed for making very candid statements

- (A) his today speech was not fairly audible
 (B) his promises had always been realistic
 (C) his speech was very interesting
 (D) his today's statements were very ambiguous

88. Find the correctly spelt word.

- (A) Excessive (B) Excessive
 (C) Exxcesive (D) Excesive

89. Find the correctly spelt word.

- (A) Humorous (B) Ganerous
 (C) Pupolous (D) Maretorious

90. To put one's hand to plough

- (A) To take up-agricultural farming
 (B) To take a difficult task
 (C) To get entangled into unnecessary things
 (D) Take interest in technical work

Directions for Q. No. 91 and 92 : One Word Substitution.

91. One who possesses many talents
 (A) Versatile (B) Nubile
 (C) Exceptional (D) Gifted
92. Words inscribed on tomb
 (A) Epitome (B) Epistle
 (C) Epilogue (D) Epitaph
93. Order the words : They felt safer
 P : to watch the mountain
 Q : of more than five miles
 R : as they settled down
 S : from a distance
 The Proper sequence should be
 (A) RPSQ
 (B) RSQP
 (C) PQSR
 (D) PRSQ

Directions for Q. No. 94 and 95 : Identify the error. Solve as per the direction given above.

94. (A) If you lend him a book
 (B) he will lend it to some one else
 (C) and never you will get it back
 (D) No error
95. (A) According to the Bible
 (B) it is meek and humble
 (C) who shall inherit the earth
 (D) No error

Directions for Q. No. 96 and 97 : In the following questions choose the word which best expresses the meaning of the given word.

96. LAMENT
 (A) Complain
 (B) Comment
 (C) Condone
 (D) Console
97. HESITATED
 (A) Stopped
 (B) Paused
 (C) Slowed
 (D) Postponed
98. The ruling party will have to put its own house _____ order.
 (A) in
 (B) on
 (C) to
 (D) into
99. _____ of old paintings is a job for experts.
 (A) Resurrection
 (B) Retrieval
 (C) Restoration
 (D) Resumption
100. During Diwali the shops are _____ of people.
 (A) Busy
 (B) Full
 (C) Crowded
 (D) Bulbbling

A

A*



SECTION – B

Post Specific Subject-Related Questions

101. The term 'Sociology' was coined by
- (A) Herbert Spencer
 - (B) Saint Simon
 - (C) Auguste Comte
 - (D) Max Weber
102. In which year the term 'Sociology' was coined ?
- (A) 1798
 - (B) 1815
 - (C) 1839
 - (D) 1857
103. The word Sociology is made up of two words. These are
- (A) Societies and Logy
 - (B) Socia and Logos
 - (C) Socious and Logos
 - (D) Societia and Logistia
104. Auguste Comte was of the opinion that Sociology is very near to
- (A) Anthropology
 - (B) Biology
 - (C) Psychology
 - (D) Social Anthropology
105. Which among the following is the youngest social science ?
- (A) History
 - (B) Political Science
 - (C) Sociology
 - (D) Economics
106. Sociology emerged in
- (A) America
 - (B) Europe
 - (C) Asia
 - (D) Africa
107. These two words Socious-Logos were from which language ?
- (A) Latin and Greek
 - (B) German and French
 - (C) Spanish and Greek
 - (D) Arabic and Persian
108. Which of the following comes first in the Comte hierarchy of sciences ?
- (A) Biology
 - (B) Physics
 - (C) Sociology
 - (D) Mathematics



भाग - व

पोस्ट स्पेसिफिक विषय - संबंधी प्रश्न

101. समाज-विज्ञान शब्द इन्होंने दिया
- (A) हरबर्ट स्पेन्सर
(B) सेंट सायमन
(C) ऑगस्ट कोम्टे
(D) मॅक्स वेबर
102. समाज-विज्ञान शब्द किस वर्ष गढ़ा गया ?
- (A) 1798
(B) 1815
(C) 1839
(D) 1857
103. समाज-विज्ञान (सोशियोलॉजी) शब्द दो शब्दों से बनाया गया है। वे हैं
- (A) Societies और Logy
(B) Socia और Logos
(C) Socious और Logos
(D) Societia और Logistia
104. ऑगस्ट कोम्टे का विचार था कि, समाज-विज्ञान इसके बहुत निकट है
- (A) मानव-शास्त्र
(B) जीव-शास्त्र
(C) मनोविज्ञान
(D) सामाजिक मानव-शास्त्र
105. निम्न में से कौनसा सबसे जवान सामाजिक-विज्ञान है ?
- (A) इतिहास
(B) राजनीतिविज्ञान
(C) सामाजिकी
(D) अर्थशास्त्र
106. सामाजिकी यहाँ प्रकट हुई
- (A) अमेरिका
(B) यूरोप
(C) एशिया
(D) अफ्रिका
107. Socious-Logos यह दो शब्द किस भाषा से थे ?
- (A) लैटीन और ग्रीक
(B) जर्मन और फ्रेन्च
(C) स्पॅनिश और ग्रीक
(D) अरेबिक और पर्शियन
108. कोम्टे की विज्ञान परम्परा में निम्न में से कौन पहले आता है ?
- (A) जीवशास्त्र
(B) भौतिकशास्त्र
(C) समाजविज्ञान
(D) गणित

A

A*



109. Who was considered Second Father of Sociology ?
- (A) Auguste Comte
(B) Herbert Spencer
(C) Max Weber
(D) Emile Durkheim
110. Which is not an institution ?
- (A) Marriage
(B) Family
(C) Property
(D) Association
111. The Greek word 'Patria' means
- (A) Mother
(B) Father
(C) Sister
(D) Brother
112. Marriage is a
- (A) Folkway
(B) More
(C) Social institution
(D) Social norm
113. Khasi tribes living in the hills of Meghalaya are
- (A) Matrilineal
(B) Patrilineal
(C) Bi-lineal
(D) Cognatic
114. Bow and arrow ceremony prevalent is among
- (A) Todas
(B) Kudabis
(C) Jenukuruba
(D) Kadars
115. Tarawad consists of all the descendants in the
- (A) Male line
(B) Female line
(C) Both line
(D) None of the above
116. Which among these groups were matrilineal ?
- (A) Kuki, Nayar, Meena, Kadar
(B) Naga, Toda, Meena, Khasi
(C) Coorg, Khasi, Apatani, Bant
(D) Nayar, Khasi, Bant, Garo

109. समाज-विज्ञान का दूसरा पितामह किसे कहते हैं ?
- (A) ऑगस्ट कोम्ते
(B) हर्बर्ट स्पेन्सर
(C) मॅक्स वेबर
(D) इमिली डुरखिम
110. इनमें से क्या संस्था नहीं है ?
- (A) विवाह
(B) परिवार
(C) संपत्ति
(D) संघ
111. ग्रीक शब्द 'Patria' का मतलब है
- (A) माँ
(B) पिता
(C) बहन
(D) भाई
112. विवाह है
- (A) लोकमार्ग
(B) अधिक
(C) सामाजिक संस्था
(D) सामाजिक मानक
113. मेघालय के पर्वतों पर रहने वाली खासी जनजाति है
- (A) मातृ वंशागत
(B) पितृ वंशागत
(C) द्विवंशागत
(D) सजातीय
114. धनुष और तीर धर्मक्रिया अभी भी इनमें चालू है
- (A) तोडा
(B) कुडबी
(C) जेनूकुरुवा
(D) कदर
115. तारावड में इसके सभी पुरखे आते है
- (A) पुरुष वंश
(B) स्त्री वंश
(C) दोनों वंश
(D) ऊपरी कोई नहीं
116. निम्न में से कौनसा समूह मातृ वंशागत है ?
- (A) कुकी, नायर, मीना, कदर
(B) नागा, तोडा, मीना, खासी
(C) कूर्ग, खासी, अपातानी, बंट
(D) नायर, खासी, बंट, गारो



117. Marriage alliance between three or more persons is called
- (A) Polyandry
 - (B) Trigamy
 - (C) Polygamy
 - (D) Exogamy
118. The word family has been derived from the word 'famulus' which is
- (A) Latin
 - (B) Greek
 - (C) Roman
 - (D) Spanish
119. The patrilineal joint family of the Nambudaris is called
- (A) Illam
 - (B) Taravad
 - (C) Moiety
 - (D) Kureina
120. Family can be viewed as a
- (A) Permanent functional institution
 - (B) A process
 - (C) An effective association
 - (D) A secondary group
121. Among Muslims 'Shariah' consists of
- (A) Following the way of life of the Prophet
 - (B) Following tenants of Islam
 - (C) Regulation pertaining to marriage, family and inheritance
 - (D) Difference between 'haram' and 'halal'
122. Among Hindus which group initiates the marriage ?
- (A) Boy's Group
 - (B) Girl's Group
 - (C) Both Group
 - (D) None of these
123. The basis of slave system is always
- (A) Political
 - (B) Economic
 - (C) Custom
 - (D) Social need
124. Barter is an exchange of
- (A) Service for Service
 - (B) Goods for Goods
 - (C) Service for Goods
 - (D) None of the above



117. तीन और अधिक से विवाह सम्बन्ध को कहते हैं
- (A) बहुपतित्व
(B) त्रिपत्नीत्व
(C) बहुविवाह
(D) बहिर्विवाह
118. Family शब्द यह famulus शब्द से लिया गया है जो है
- (A) लैटीन
(B) ग्रीक
(C) रोमन
(D) स्पैनिश
119. पितृ वंशागत नम्बुदरीयों के संयुक्त परिवार को कहते हैं
- (A) इलम
(B) तारवाड
(C) मोयटी
(D) कुरिना
120. परिवार को इस तरह देखा जा सकता है
- (A) स्थायी कार्यात्मक संस्था
(B) एक प्रतिक्रिया
(C) एक प्रभावी संघ
(D) एक गीण गण
121. मुसलमानों में 'शरीया' में होता है
- (A) पैगंबर के जीवन आचरण का पालन करना
(B) इसलाम के सिद्धान्तों का पालन करना
(C) विवाह, परिवार और विरासन के सम्बन्ध में नियन्त्रण
(D) 'हराम' और 'हलाल' के बीच का अन्तर
122. हिन्दुओं में कौनसा समूह विवाह का प्रस्ताव रखता है ?
- (A) लड़के का समूह
(B) लड़की का समूह
(C) दोनों समूह
(D) इनमें से कोई नहीं
123. गुलाम की प्रथा हमेशा होती है
- (A) राजनीतिक
(B) आर्थिक
(C) प्रथा
(D) सामाजिक आवश्यकता
124. वस्तुविनिमय यह इसकी अदला-बदली है
- (A) सेवा के लिए सेवा
(B) वस्तु के लिए वस्तु
(C) वस्तु के लिए सेवा
(D) ऊपरी कोई नहीं



125. Which among the following is not a property ?
- (A) Land
 - (B) House
 - (C) Currency
 - (D) Air
126. Grouped villages are called as
- (A) Dispersed villages
 - (B) Line villages
 - (C) Round villages
 - (D) None of the above
127. Any settlement with less than 5000 population is called
- (A) Rural
 - (B) Urban
 - (C) Tribal
 - (D) Rural-Urban
128. Which is the primary occupation of rural people ?
- (A) Agriculture
 - (B) Carpentry
 - (C) Pot making
 - (D) Basket making
129. Dr. M. N. Srinivas gave the concept of
- (A) Westernization
 - (B) Sanskritization
 - (C) Modernization
 - (D) All the above
130. ITDP stands for
- (A) Integrated Tribal Development Programme
 - (B) Integrated Tribal Development Progress
 - (C) International Tribal Development Process
 - (D) Indian Tribal Development Plan
131. The Co-operative Societies Act was passed in
- (A) 1915
 - (B) 1912
 - (C) 1920
 - (D) 1945
132. Non-Credit Co-operative Societies consist of
- (A) Weaving
 - (B) Barbering
 - (C) Tanning
 - (D) Consumer



125. निम्न में से क्या सम्पत्ति नहीं है ?
- (A) जमीन
(B) मकान
(C) मुद्रा
(D) हवा
126. समूहित गाँवों को कहते हैं
- (A) बिखरे गाँव
(B) सीमा गाँव
(C) गोलाकार गाँव
(D) ऊपरी कोई नहीं
127. 5000 जनसंख्या से कमवाली बस्ती को कहते हैं
- (A) ग्रामीण
(B) नगरीय
(C) जनजातीय
(D) ग्रामीण-नगरीय
128. ग्रामीण लोगों का मूल व्यवसाय क्या है ?
- (A) कृषि
(B) बढ़ई
(C) बरतन बनाना
(D) टोकरी बनाना
129. डॉ. एम. एन. श्रीनिवास से इसकी संकल्पना दी
- (A) पश्चिमीकरण
(B) संस्कृतिकरण
(C) आधुनिकीकरण
(D) ऊपरी सभी
130. ITDP का मतलब है
- (A) इंटिग्रेटेड ट्राइबल डेवलपमेंट प्रोग्राम
(B) इंटिग्रेटेड ट्राइबल डेवलपमेंट प्रोग्रेस
(C) इंटरनेशनल ट्राइबल डेवलपमेंट प्रोसेस
(D) इंडियन ट्राइबल डेवलपमेंट प्लान
131. सहकारी संघ नियम को इस साल पारित किया गया
- (A) 1915
(B) 1912
(C) 1920
(D) 1945
132. गैर-ऋण सहकारी संघ में होता है
- (A) बुनाई
(B) केश कर्तन
(C) चमड़ा सिझाना
(D) उपभोक्ता



133. The word 'Caste' has been derived from which language ?
- (A) Greek
(B) Latin
(C) Spanish
(D) Portuguese
134. The primary reason for social stratification
- (A) Economic disparity
(B) Social inequality
(C) Psychological self expression
(D) Show of prosperity
135. When a class is some what extremely hereditary, it is called
- (A) Clan
(B) Caste
(C) Clergy
(D) Kinship
136. In the context of 'Varna Dharma' Varna is signified as
- (A) Jati
(B) Culture
(C) Colour
(D) Caste
137. Which among the following is a caste ?
- (A) Vaishya
(B) Gond
(C) Yadava
(D) Billa
138. Certain caste are called twice-born, as they alone were entitled to undergo the ceremony of
- (A) Sanskara
(B) Upanayana
(C) Agrahanam
(D) Norms
139. Which part of the Rigveda has given only four castes called Varna ?
- (A) Purushsukta
(B) Sruti
(C) Vaisaka
(D) Mimamsa
140. The idea that all people have equal rights is termed as
- (A) Equality
(B) Evaluation
(C) Judgement
(D) Egalitarian



133. Caste शब्द कौनसी भाषा से आया है ?

- (A) ग्रीक
- (B) लैटिन
- (C) स्पैनिश
- (D) पोर्तुगाली

134. सामाजिक स्तरण का मूल कारण है

- (A) आर्थिक विषमता
- (B) सामाजिक असमानता
- (C) मनोवैज्ञानिक स्व अभिव्यक्ति
- (D) संपन्नता का दिखावा

135. जब श्रेणी कींचित अत्यन्त वंशानुगत होती है, उसे कहते हैं

- (A) कुल
- (B) जाति
- (C) पुरोहित-वर्ग
- (D) रिश्तेदारी

136. 'वर्णधर्म' के सन्दर्भ में वर्ण का अर्थ होता है

- (A) जाति
- (B) संस्कृति
- (C) रंग
- (D) वर्ग

137. निम्न में से कौनसी जाति है ?

- (A) वैश्य
- (B) गोंड
- (C) यादव
- (D) बिल्ल

138. कोई जाति को पूर्णजन्मी कहा जाता है क्योंकि केवल उनको ही इस धर्मक्रिया अनुभव करने का अधिकार था

- (A) संस्कार
- (B) उपनयन
- (C) अग्रहनम्
- (D) प्रथा

139. ऋग्वेद के किस भाग में केवल चार जातियों का, जिन्हे वर्ण कहते हैं, उल्लेख किया है ?

- (A) पुरुषसुक्त
- (B) श्रुति
- (C) वैशाक
- (D) मिमांस

140. सभी लोगों को समान अधिकार है इस विचार को कहते हैं

- (A) समानता
- (B) मूल्यांकन
- (C) निर्णय
- (D) समतावादी



141. Village Panchayat consists of Committees
- (A) 3
 - (B) 5
 - (C) 6
 - (D) 8
142. Modern Society is governed by
- (A) Convention and tradition
 - (B) Rule of law
 - (C) Divine law
 - (D) Physical force applied by police
143. The fundamental characteristics of an industrial society is
- (A) Break up of joint family
 - (B) Lack of faith in religion
 - (C) Mechanised means of production
 - (D) Emancipation of women
144. Male-Female ratio i.e., sex ratio in India since 1901 has been
- (A) Decreased
 - (B) Stagnant
 - (C) Increased
 - (D) None of the above
145. Which among the following states has the largest population ?
- (A) Madhya Pradesh
 - (B) Uttar Pradesh
 - (C) Andhra Pradesh
 - (D) West Bengal
146. A child is considered to be a baby between the age of
- (A) 1 – 5 years
 - (B) 1 – 6 years
 - (C) 1 – 3 years
 - (D) 1 – 7 years
147. According to the 1991 census, India's population was
- (A) 650 million
 - (B) 844 million
 - (C) 1000 million
 - (D) None of the above
148. The scheduled castes in India provide an example of a
- (A) Formal group
 - (B) Reference group
 - (C) Social group
 - (D) Secondary group

141. ग्राम पंचायत में इतनी समितियाँ होती हैं

- (A) 3
- (B) 5
- (C) 6
- (D) 8

142. आधुनिक समाज का शासन करता है

- (A) रिवाज और परम्परा
- (B) न्याय नियम
- (C) देवी नियम
- (D) पुलिस बल

143. औद्योगिक समाज की मूलभूत विशेषताएँ हैं

- (A) संयुक्त परिवार का टूटना
- (B) धर्म में आस्था ना रहना
- (C) उत्पादन में मशीनी उपयोग
- (D) महिलाओं का उद्धार

144. पुरुष-स्त्री अनुपात यानि की लिंग अनुपात, भारत में 1901 से

- (A) कम हुआ है
- (B) स्थिर है
- (C) बढ़ा है
- (D) ऊपरी कोई नहीं

145. निम्न में से कौनसे राज्य की जनसंख्या अत्यधिक है ?

- (A) मध्य प्रदेश
- (B) उत्तर प्रदेश
- (C) आंध्र प्रदेश
- (D) पश्चिम बंगाल

146. एक बच्चे को इस उमर के दौरान शिशु कहा जाता है

- (A) 1-5 वर्ष
- (B) 1-6 वर्ष
- (C) 1-3 वर्ष
- (D) 1-7 वर्ष

147. 1991 जनगणना के अनुसार भारत की जनसंख्या थी

- (A) 650 मिलियन
- (B) 844 मिलियन
- (C) 1000 मिलियन
- (D) ऊपरी कोई नहीं

148. भारत में अनुसूचित जाति यह उदाहरण दिलाते हैं

- (A) औपचारिक समूह
- (B) सन्दर्भ समूह
- (C) सामाजिक समूह
- (D) गीण समूह



149. Reservation for scheduled castes is provided in relation to their
- (A) Social backwardness
 - (B) Economic backwardness
 - (C) Low ritual position
 - (D) Population
150. Which of the following type of society shows the total absence of bureaucracy ?
- (A) Tribal
 - (B) Agrarian
 - (C) Industrial
 - (D) None of the above
151. Society emerges out of
- (A) Community's existence
 - (B) Men's existence
 - (C) Problem's existence
 - (D) Relationship
152. The first stage of human society was that of
- (A) Agriculture
 - (B) Pastoralist
 - (C) Hunting and food gathering
 - (D) Cottage industries
153. A social group is a
- (A) System of social interaction
 - (B) Gathering of people
 - (C) Organisation of people for purpose
 - (D) Association of people
154. Peer group as often of a
- (A) Similar age
 - (B) Similar height
 - (C) Similar race and colour
 - (D) Similar culture
155. Culture has two essential qualities. They are
- (A) Learned and forgotten
 - (B) Shared and communicated
 - (C) Transmitted and shared
 - (D) Learned and shared
156. A norm is a
- (A) Specific guide to action
 - (B) Culture of society
 - (C) Guideline for socialization
 - (D) Guideline for social interaction



149. अनुसूचित जातियों को मुहय्या कराया गया आरक्षण उनके इस सम्बन्ध से होता है
- (A) सामाजिक पिछड़ापन
(B) आर्थिक पिछड़ापन
(C) निम्न धार्मिक स्तर
(D) जनसंख्या
150. निम्न में से कौनसे प्रकार का संघ में दफ्तरशाही का पूर्णतः अभाव रहता है ?
- (A) जनजातीय
(B) कृषिक
(C) औद्योगिक
(D) ऊपरी कोई नहीं
151. संघ इससे उत्पन्न होता है
- (A) समुदाय का अस्तित्व
(B) आदमी का अस्तित्व
(C) समस्या का अस्तित्व
(D) सम्बन्ध
152. मानव संघ का पहला चरण था
- (A) कृषि
(B) पशुचारी
(C) शिकार और अन्न संग्रहण
(D) कुटिर उद्योग
153. सामाजिक समूह होता है
- (A) सामाजिक पारस्परिक क्रिया पद्धति
(B) लोगों का जमावडा
(C) उद्देश्य के लिए लोगों का संघटन
(D) लोगों का संघ
154. अभिजात समूह होता है
- (A) समान उमर वालों का
(B) समान ऊँचाई वालों का
(C) समान वंश और रंग वालों का
(D) समान संस्कृति वालों का
155. संस्कृति के दो महत्त्वपूर्ण गुण होते हैं, वह हैं
- (A) अध्ययन करना और भूल जाना
(B) बाँटना और संचारित करना
(C) प्रसारित करना और बाँटना
(D) अध्ययन करना और बाँटना
156. मानक होता है
- (A) क्रिया के लिए विशिष्ट मार्गदर्शक
(B) संघ की संस्कृति
(C) सामाजिकीकरण के निर्देशतत्व
(D) सामाजिक पारस्परिक क्रिया के लिए निर्देशतत्व



157. The prestige of social position may change in
- (A) Status
 - (B) In time
 - (C) Never
 - (D) Society
158. The process of learning that takes place in a group situation is called
- (A) Socialization
 - (B) Culturisation
 - (C) Routinisation
 - (D) Acculturation
159. To prepare one for future roles is
- (A) Futurisation
 - (B) Prediction
 - (C) Anticipatory socialisation
 - (D) Internalisation
160. In common sense the term 'Society' is equivalent to
- (A) Boundaries
 - (B) Organisation
 - (C) Group
 - (D) Imbalance
161. Roles and statuses are often most
- (A) Conflicting
 - (B) Unconnected
 - (C) Complementary
 - (D) Contradictory
162. For 'Cooley' the main primary group is
- (A) Family
 - (B) School
 - (C) Work group
 - (D) Play group
163. The concept of Bureaucratic personality is propounded by
- (A) Auguste Comte
 - (B) M. Weber
 - (C) R. K. Merton
 - (D) Karl Marx
164. Society is organisation of individuals as well as organisation of activities. This statement is
- (A) True
 - (B) Partially true
 - (C) False
 - (D) None of the above

157. सामाजिक श्रेणी की प्रतिष्ठा इसमें बदल सकती है
- (A) पद
(B) समय में
(C) कभी नहीं
(D) संघ
158. गण स्थिति में जो सिखने की प्रक्रिया होती है उसे कहते हैं
- (A) सामाजिकरण
(B) सांस्कृतिकरण
(C) नैतिकीकरण
(D) संस्कृति-संक्रमण
159. किसी को भविष्य की भूमिका के लिए तैयार करना ही है
- (A) भविष्यिकरण
(B) भविष्यवाणी
(C) पूर्वाभासी सामाजिकीकरण
(D) आंतरिकीकरण
160. आमतौर पे 'संघ' शब्द का अर्थ इसके बराबर है
- (A) सीमाएँ
(B) संघटन
(C) समूह
(D) असन्तुलन
161. भूमिका और प्रतिष्ठा यह होते है, अक्सर अत्यधिक
- (A) परस्पर-विरोधी
(B) असम्बन्धित
(C) अनुपूरक
(D) विरोधात्मक
162. 'कूली' के लिए प्रमुख मूल गण है
- (A) परिवार
(B) स्कूल
(C) कार्य गण
(D) खेल गण
163. दफ्तरशाही व्यक्तित्व की संकल्पना इसने प्रस्तुत की
- (A) ऑगस्टे कोम्टे
(B) एम. वेबर
(C) आर. के. मरटन
(D) कार्ल मार्क्स
164. संघ यह व्यक्तियों का संघटन है और गतिविधियों का संघटन भी है । यह कथन है
- (A) सच
(B) अंशतः सच
(C) झूठ
(D) ऊपरी कोई नहीं



165. The concept of corporate group is propounded by
- (A) Henry Maine
 - (B) Herbert Blumer
 - (C) Maclver
 - (D) Herbert Spencer
166. Accommodation is essentially a process of
- (A) Adjustment
 - (B) Cooperation
 - (C) Group formation
 - (D) Competition
167. Which book is considered to be the 'Bible of Sociology' ?
- (A) Mind and Society
 - (B) Folkways
 - (C) Sociological Tradition
 - (D) Masters of Sociology
168. The primary civilization of India is divided into
- (A) Little tradition and great tradition
 - (B) Small tradition and big tradition
 - (C) Educated tradition and uneducated tradition
 - (D) Rural tradition and caste tradition
169. Social organisation means
- (A) Planned activities
 - (B) Organised activities
 - (C) Cultured activities
 - (D) Defined activities
170. Two types of culture are
- (A) Dominant and non-dominant
 - (B) Positive and negative
 - (C) Self and others
 - (D) Our and their
171. Customs are also called
- (A) Culture
 - (B) Value
 - (C) Folkways
 - (D) Mores
172. Arrangement of person indicates
- (A) Culture
 - (B) Group
 - (C) Position
 - (D) Folkways

165. सामूहिक गण की संकल्पना इसने प्रस्तुत की

- (A) हेन्री मेन
- (B) हरबर्ट ब्लूमर
- (C) मैकलिवर
- (D) हरबर्ट स्पेन्सर

166. समझौता यह तत्त्वतः इसकी प्रक्रिया है

- (A) समंजत
- (B) सहकार
- (C) गण बनाना
- (D) प्रतियोगिता

167. कौनसी पुस्तक को 'समाज विज्ञान की बाईबल' कहा जाता है ?

- (A) माइंड ऑफ सोसाइटी
- (B) फोक्वेस
- (C) सोशियोलॉजिकल ट्रिडिशन
- (D) मास्टर्स ऑफ सोशियोलॉजी

168. भारत की मूलभूत सभ्यता इनमें बाँटी गई है

- (A) थोड़ी परम्परा और श्रेष्ठ परम्परा
- (B) छोटी परम्परा और बड़ी परम्परा
- (C) शिक्षित परम्परा और अशिक्षित परम्परा
- (D) ग्रामीण परम्परा और जाति परम्परा

169. सामाजिक संघटन का मतलब है

- (A) आयोजित गतिविधियाँ
- (B) संघटित गतिविधियाँ
- (C) सांस्कृतिक गतिविधियाँ
- (D) परिभाषित गतिविधियाँ

170. दो प्रकार की संस्कृति है

- (A) प्रबल और अप्रबल
- (B) सकारात्मक और नकारात्मक
- (C) स्व और दूसरे
- (D) हमारा और उनका

171. प्रथा को यह भी कहते हैं

- (A) संस्कृति
- (B) मूल्य
- (C) लोकपथ
- (D) अधिक

172. व्यक्ति की व्यवस्था दर्शाती है

- (A) संस्कृति
- (B) समूह
- (C) पद
- (D) लोकपथ



173. Face to face association and cooperation is more possible in the
- (A) Transitory group
 - (B) Primary group
 - (C) Basic group
 - (D) Secondary group
174. A good illustration of social group is
- (A) Family
 - (B) A crowd in a street
 - (C) A market
 - (D) People in a theater
175. Musicians are a/an
- (A) Aggregate
 - (B) Group
 - (C) Class
 - (D) None of the above
176. Which among the following is not an example of institution ?
- (A) Family
 - (B) Marriage
 - (C) Kinship
 - (D) Peer group
177. Tribal culture is attached to
- (A) Land, nature and rituals
 - (B) Folk tradition
 - (C) Their economy and customs
 - (D) Religion only
178. The term 'White Collar Crime' was first used by
- (A) E. Sutherland
 - (B) C. W. Mills
 - (C) Parsons
 - (D) Roucek
179. The most important reason for which man needs society is that he/she
- (A) wants to live in the world
 - (B) needs it both for the sake of life as well as good life
 - (C) wants to become an ideal citizen
 - (D) feels that society is a super power
180. _____ is a system of relationship between cells.
- (A) Group
 - (B) Society
 - (C) Organism
 - (D) Aggregation

173. संघ में 'आमने सामने' और सहकार इनमें ज्यादा संभव है
- (A) अनित्य समूह
(B) प्रथम समूह
(C) बुनियादी समूह
(D) गौण समूह
174. सामाजिक समूह का एक अच्छा उदाहरण है
- (A) परिवार
(B) रास्ते की भीड़
(C) बाज़ार
(D) सिनेमा घर के प्रेक्षक
175. संगीतकार होते हैं
- (A) समष्टि
(B) समूह
(C) श्रेणी
(D) ऊपरी कोई नहीं
176. निम्न में से कौनसा संस्था का उदाहरण नहीं है ?
- (A) परिवार
(B) विवाह
(C) रिश्तेदारी
(D) अभिजात समूह
177. जनजातीय संस्कृति इससे जुड़ी होती है
- (A) भूमि, प्रकृति और धर्मविधि
(B) लोक परम्परा
(C) उनकी अर्थव्यवस्था और प्रथाएँ
(D) केवल धर्म
178. 'सफ़ेद कॉलर अपराध' यह शब्द पहले इन्होंने कहा
- (A) इ. सुथरलैंड
(B) सी. डब्ल्यू. मील्स
(C) पारसनस
(D) रूक
179. आदमी को संघ की आवश्यकता अत्यंत महत्वपूर्ण होने का कारण है कि वह
- (A) दुनिया में रहना चाहता है ।
(B) उसके जीवन के लिए और अच्छे जीवन के लिए
(C) आदर्श नागरिक बनना चाहता है
(D) सोचता है कि संघ एक महान शक्ति है
180. _____ यह कोशिकाओं के बीच के सम्बन्ध का तन्त्र है
- (A) समूह
(B) संघ
(C) जीव
(D) समष्टि



181. The works of Comte stems from the writing of
- (A) Hegel and Saint Simon
 - (B) Angel and Durkheim
 - (C) Hobbes and Locke
 - (D) None of the above
182. Synthetic or general school of sociology is headed by
- (A) Auguste Comte
 - (B) Emile Durkheim
 - (C) Herbert Spencer
 - (D) W. Pareto
183. Herbert Spencer has derived his evolutionary scheme from the work of
- (A) Darwin
 - (B) Kepler
 - (C) Mendel
 - (D) Harvey
184. At the time of French Revolution who was the king of France ?
- (A) Louis XVI
 - (B) Louis XIV
 - (C) Edward III
 - (D) Czar IX
185. Who among the following had divided sociology into two major parts, namely static and dynamic sociology ?
- (A) Comte
 - (B) Max Weber
 - (C) Karl Marx
 - (D) Rudolph
186. Indology, means
- (A) Detailed description about India
 - (B) A branch of archaeology
 - (C) Study of India and its culture
 - (D) Study of Indian history
187. Marx considers conflict as
- (A) something pathological and harmful
 - (B) the engine of progress
 - (C) as an uncreative force
 - (D) a way of life
188. Who considers poverty as a result of exploitation and not of scarcity ?
- (A) Karl Marx
 - (B) Weber
 - (C) Hobhouse
 - (D) Rose

181. कोम्टे की कृतियाँ इनके लिखने से उत्पन्न हुई है
- (A) हेगेल और सेंट सायमन
(B) एंजेल और दुखिम
(C) हॉब्ज और लॉक
(D) ऊपरी कोई नहीं
182. कृत्रिम या सामान्य संघ विचार के प्रवर्तक है
- (A) ऑगस्टे कोम्टे
(B) इमिली दुखिम
(C) हरबर्ट स्पेन्सर
(D) डब्ल्यू. पॅरेटो
183. हरबर्ट स्पेन्सर ने अपनी विकासवादी योजना इनकी कृतियों से ली है ।
- (A) डार्विन
(B) केप्लर
(C) मेंडेल
(D) हार्वे
184. फ्रेन्च क्रान्ति के समय फ्रान्स का राजा कौन था ?
- (A) लूइज़ XVI
(B) लूइज़ XIV
(C) एडवर्ड III
(D) झार IX
185. निम्न में किसने संघ को दो भागों में स्थायी और गतिशील संघ में बाँटा
- (A) कोम्टे
(B) मैक्स वेबर
(C) कार्ल मार्क्स
(D) रूडोल्फ
186. भारत-विधा का मतलब है
- (A) भारत के बारे में विस्तृत विवरण
(B) पुरातत्त्व की शाखा
(C) भारत और उसकी संस्कृति का अध्ययन
(D) भारतीय इतिहास का अध्ययन
187. संघर्ष को मार्क्स इस प्रकार सोचता है
- (A) रोगात्मक और हानिकारक
(B) प्रगति का इंजन
(C) अरचनात्मक बल
(D) जीने का तरीका
188. कौन सोचता है कि, गरीबी का कारण शोषण है, ना कि अभाव ?
- (A) कार्ल मार्क्स
(B) वेबर
(C) हॉबहाउस
(D) रोज



189. Whose monumental work is 'The Gift' ?
- (A) Mauss
 - (B) Malinowski
 - (C) M. N. Srinivas
 - (D) Frazer
190. The sociological method of Durkheim exists firmly on the experience of
- (A) Biology
 - (B) Physics
 - (C) Astronomy
 - (D) History
191. Relations of production constitute relationships between
- (A) Things and things
 - (B) People and things
 - (C) People and people
 - (D) Factory and worker
192. Sociometry is associated with the name of
- (A) I. L. Moreno
 - (B) P. V. Young
 - (C) Good and Hatt
 - (D) Morgan
193. The term 'respondent' is used in
- (A) Social survey research
 - (B) Statistics
 - (C) Psychology
 - (D) Interactionism
194. The social distance method is developed by
- (A) Bogardus
 - (B) Hegel
 - (C) Kant
 - (D) Likert
195. A group involves some degree of among its members for the attainment of common goals.
- (A) Cooperation
 - (B) Conflict
 - (C) Association
 - (D) Competition
196. Play groups are often of a
- (A) Similar age
 - (B) Similar height
 - (C) Similar culture
 - (D) None of these



189. 'द गिफ्ट' यह किसकी विशाल कृति है ?
- (A) मॉस
(B) मेलिनोवस्की
(C) एम. एन. श्रीनिवास
(D) फ्रेजर
190. दुरखिम की सामाजिक पद्धति इसके अनुभव पर स्थित है
- (A) जीवशास्त्र
(B) भौतिक विज्ञान
(C) खगोल-विज्ञान
(D) इतिहास
191. उत्पादन के सम्बन्धी में होता है इनका सम्बन्ध
- (A) वस्तु और वस्तु
(B) लोग और वस्तु
(C) लोग और लोग
(D) फैक्टरी और मजदूर
192. समाजमिति इस नाम से सम्बन्धित है
- (A) आई. एल. मोरेनो
(B) पी. वी. यंग
(C) गुड अॅण्ड हॅट
(D) मॉर्गन
193. 'प्रत्यर्थी' शब्द इसमें उपयोग करते हैं
- (A) सामाजिक सर्वेक्षण अनुसंधान
(B) सांख्यिकी
(C) मनोविज्ञान
(D) अन्योन्यक्रियावाद
194. सामाजिक अन्तर पद्धति इन्होंने विकसित की
- (A) बोगर्डस
(B) हेगेल
(C) कांट
(D) लिकेर्ट
195. आम लक्ष्य प्राप्त करने के लिए समूह सदस्यों में कुछ मात्रा का होना चाहिए
- (A) सहयोग
(B) प्रतिद्वन्द्व
(C) साहचर्य
(D) प्रतियोगिता
196. खेल समूह अक्सर होते हैं
- (A) समान उमर के
(B) समान ऊँचाई के
(C) समान संस्कृति के
(D) इनमें से कोई नहीं



197. All members of society occupy a number of social positions known as

- (A) Role
- (B) Prestige
- (C) Position
- (D) Status

198. The family is the central institute of

- (A) Nation
- (B) World
- (C) Country
- (D) None of the above

199. Which are the three pillars of society ?

- (A) Family, Caste system and Village Community
- (B) Association, Class, Group
- (C) Institution, Urban Society, Tribal Society
- (D) State, Class and Community

200. Explain LAMPS

- (A) Large Area Multi-Purpose Societies
- (B) Long Area Multi-Purpose Society
- (C) Lengthiest Area Multi-Purpose State
- (D) None of the above

197. संघ के सभी सदस्य विभिन्न सामाजिक पद पे होते है जिन्हे कहते हैं

- (A) भूमिका
- (B) प्रतिष्ठा
- (C) स्तर
- (D) नाम

198. परिवार यह इसकी केन्द्रीय संस्था है

- (A) देश
- (B) विश्व
- (C) प्रान्त
- (D) ऊपरी कोई नहीं

199. संघ के तीन स्तंभ कौनसे है ?

- (A) परिवार, जाति पद्धति और ग्राम समुदाय
- (B) सभा, श्रेणी, गण
- (C) संस्था, नगरीय संघ, जनजातीय संघ
- (D) राज्य, श्रेणी और समुदाय

200. LAMPS को स्पष्ट कीजिए ।

- (A) लार्ज एरिया मल्टी-परपूज सोसाइटी
- (B) लॉग एरिया मल्टी-परपूज सोसाइटी
- (C) लेंगथीएस्ट एरिया मल्टी-परपूज स्टेट
- (D) ऊपरी कोई नहीं



IMPORTANT INSTRUCTIONS TO CANDIDATES

उम्मीदवारों के लिए महत्वपूर्ण अनुदेश

11. This booklet contains 48 pages.
12. Please check all the pages of the Booklet carefully. In case of any defect, please ask the Invigilator for replacement of the Booklet.
13. **Directions :** Each question or incomplete statement is followed by four alternative suggested answers or completions. In each case, you are required to select the one that correctly answers the question or completes the statement and blacken (●) appropriate circle A, B, C or D by Blue/Black Ball-Point Pen against the question concerned in the Answer-Sheet. (For V.H. candidates corresponding circle will be blackened by the scribe)
14. Mark your answer by shading the appropriate circle against each question. The circle should be shaded completely without leaving any space. The correct method of shading is given below.

Wrong Method	Wrong Method	Wrong Method	Correct Method
<input type="radio"/> <input checked="" type="radio"/> <input type="radio"/> <input type="radio"/>	<input type="radio"/> <input checked="" type="radio"/> <input type="radio"/> <input type="radio"/>	<input type="radio"/> <input type="radio"/> <input checked="" type="radio"/> <input type="radio"/>	<input type="radio"/> <input type="radio"/> <input type="radio"/> <input checked="" type="radio"/>

The Candidate must mark his/her response after careful consideration.

15. There is only one correct answer to each question. You should blacken (●) the circle of the appropriate column, viz., A, B, C or D. If you blacken (●) more than one circle against any one question, the answer will be treated as wrong. If you wish to cancel any answer, you should completely erase that black mark in the circle in the Answer-Sheet, and then blacken the circle of revised response.
16. A machine will read the coded information in the OMR Answer-Sheet. In case the information is incomplete/different from the information given in the application form, the candidature of such candidate will be treated as cancelled.
17. Use the space for rough work given in the Question Booklet only and not on the Answer-Sheet.
18. You are NOT required to mark your answers in this Booklet. All answers must be indicated in the Answer-Sheet only.

11. इस पुस्तिका में 48 पेज है ।
12. इस पुस्तिका के सभी पृष्ठों का ध्यानपूर्वक निरीक्षण करें । यदि कोई दोष है, तो निरीक्षक को उसे बदलने के लिए कहें ।
13. निर्देश : प्रत्येक प्रश्न अथवा प्रत्येक अधूरे कथन के बाद चार उत्तर अथवा पूरे कथन सुझाये गये हैं । प्रत्येक दशा में आपको किसी एक को चुनना है जो प्रश्न का सही उत्तर दे अथवा कथन को पूरा करे और आपको उत्तर-पत्रिका में उपयुक्त गोलाकार खाने A, B, C या D को नीला या काला बॉल-पॉइंट पेन से काला (●) करना है । (दृष्टिबाधित उम्मीदवारों के लिए संगत गोलाकार लिपिक द्वारा काला किया जाए)

14. प्रत्येक प्रश्न के सामने उचित कृत का चिन्हांकन करके अपना उत्तर लिखें । युक्त को बिना कोई स्थान छोड़े चिन्हांकित करें । चिन्हांकित करने का सही तरीका नीचे दिया गया है ।

गलत तरीका	गलत तरीका	गलत तरीका	सही तरीका
<input type="radio"/> <input checked="" type="radio"/> <input type="radio"/> <input type="radio"/>	<input type="radio"/> <input checked="" type="radio"/> <input type="radio"/> <input type="radio"/>	<input type="radio"/> <input type="radio"/> <input checked="" type="radio"/> <input type="radio"/>	<input type="radio"/> <input type="radio"/> <input type="radio"/> <input checked="" type="radio"/>

अभ्यर्थी को अपना उत्तर ध्यान पूर्वक सोच विचार के उपरान्त चिन्हित करना चाहिए ।

15. प्रत्येक प्रश्न का केवल एक ही सही उत्तर है । आपको समुचित कॉलम अर्थात् A, B, C या D के गोलाकार खाने को काला (●) करना है । यदि आप किसी प्रश्न के सामने एक से अधिक गोलाकार खाने को भरेंगे (●) तो आपका उत्तर गलत माना जायेगा । यदि आप किसी उत्तर को रद्द करना चाहते हैं तो आप उत्तर-पुस्तिका के उस गोलाकार खाने से काले निशान को पूरी तरह से मिटा दें और तब बदले हुए उत्तर के लिए गोलाकार खाने को काला कर दें ।
16. ओ.एम.आर. उत्तर-पत्रिका में भरी गई कूट सूचना को एक मशीन पढ़ेगी । यदि सूचना अपूर्ण है अथवा आवेदन पत्र में दी गई सूचना से भिन्न है, तो ऐसे अभ्यर्थी की अभ्यर्थिता निरस्त समझी जायेगी ।
17. कच्चे कार्य के लिए केवल प्रश्न पत्र में दिए गये स्थान का प्रयोग करें । उत्तर-पुस्तिका पर कच्चा कार्य न करें ।
18. इस पुस्तिका के अन्दर आपको उत्तर अंकित नहीं करने हैं । उत्तर केवल उत्तर-पत्रिका में ही दें ।

Go through instructions given in Page No. 1 (Facing Page)

A+

-48-



Latest Sarkari jobs, Govt Exam alerts, Results and Vacancies

- ▶ Latest News and Notification
- ▶ Exam Paper Analysis
- ▶ Topic-wise weightage
- ▶ Previous Year Papers with Answer Key
- ▶ Preparation Strategy & Subject-wise Books

To know more [Click Here](#)



www.prepp.in