



Series \$HKP25/C

SET~1

कोड नं. 58/1/1

रोल नं.							

परीक्षार्थी कोड को उत्तर-पुस्तिका के मुख-पृष्ठ पर अवश्य लिखें ।

नोट :

- कृपया जाँच कर लें कि इस प्रश्न-पत्र में मुद्रित पृष्ठ 8 हैं ।
- प्रश्न-पत्र में दाहिने हाथ की ओर दिए गए कोड नम्बर को छात्र उत्तर-पुस्तिका के मुख-पृष्ठ पर लिखें ।
- कृपया जाँच कर लें कि इस प्रश्न-पत्र में 34 प्रश्न हैं ।
- कृपया प्रश्न का उत्तर लिखना शुरू करने से पहले, उत्तर-पुस्तिका में प्रश्न का क्रमांक अवश्य लिखें ।
- इस प्रश्न-पत्र को पढ़ने के लिए 15 मिनट का समय दिया गया है । प्रश्न-पत्र का वितरण पूर्वाह्न में 10.15 बजे किया जाएगा । 10.15 बजे से 10.30 बजे तक छात्र केवल प्रश्न-पत्र को पढ़ेंगे और इस अवधि के दौरान वे उत्तर-पुस्तिका पर कोई उत्तर नहीं लिखेंगे ।



अर्थशास्त्र



निर्धारित समय : 3 घण्टे



अधिकतम अंक : 80

सामान्य निर्देश :

निम्नलिखित निर्देशों को बहुत सावधानी से पढ़िए और उनका सख्ती से पालन कीजिए :

- प्रश्न-पत्र में दो खण्ड हैं :
खण्ड क — समष्टि अर्थशास्त्र – 40 अंक
खण्ड ख — भारतीय अर्थव्यवस्था का विकास – 40 अंक
- इस प्रश्न-पत्र में कुल 34 प्रश्न हैं । सभी प्रश्न अनिवार्य हैं ।
- प्रश्न संख्या 1 से 10 और 18 से 27 (दो केस अध्ययन आधारित प्रश्नों सहित) अति लघु-उत्तरीय प्रकार के प्रश्न हैं, प्रत्येक प्रश्न 1 अंक का है । इनका उत्तर एक शब्द या एक वाक्य में दीजिए ।
- दोनों खण्डों में एक अंक के चार-चार प्रश्न केस अध्ययन आधारित हैं ।
- प्रश्न संख्या 11 व 12 और 28 व 29 लघु-उत्तरीय प्रकार के प्रश्न हैं, प्रत्येक प्रश्न 3 अंकों का है । इनका उत्तर 60 से 80 शब्दों में दीजिए ।
- प्रश्न संख्या 13 से 15 और 30 से 32 भी लघु-उत्तरीय प्रकार के प्रश्न हैं, प्रत्येक प्रश्न 4 अंकों का है । इनका उत्तर 80 से 100 शब्दों में दीजिए ।
- प्रश्न संख्या 16 व 17 और 33 व 34 दीर्घ-उत्तरीय प्रकार के प्रश्न हैं, प्रत्येक प्रश्न 6 अंकों का है । इनका उत्तर 100 से 150 शब्दों में दीजिए ।
- उत्तर संक्षिप्त तथा बिंदुवार होने चाहिए और साथ ही उपर्युक्त शब्द सीमा का यथासंभव पालन कीजिए ।
- प्रश्न-पत्र में कोई समग्र विकल्प नहीं है । तथापि, दोनों खण्डों में कुछ प्रश्नों में आंतरिक विकल्प दिए गए हैं । ऐसे प्रश्नों में केवल एक ही विकल्प का उत्तर दीजिए ।
- इसके अतिरिक्त, आवश्यकतानुसार, प्रत्येक खण्ड और प्रश्न के साथ यथोचित निर्देश दिए गए हैं ।

58/1/1

9

P.T.O.





खण्ड क
(समष्टि अर्थशास्त्र)

(40 अंक)

1. (a) निम्नलिखित में से किस लेन-देन को राष्ट्रीय आय की गणना में शामिल *नहीं* किया जाएगा ?
(सही विकल्प का चयन कीजिए) 1
- (i) शेयर दलाल को पुराने माल के विक्रय में सहायता के लिए दलाली का भुगतान ।
(ii) एक गृहणी की सेवाएँ ।
अथवा
- (b) 'स्टॉक में परिवर्तन' की गणना के सूत्र का उल्लेख कीजिए । 1
2. भारत में ₹ 1 के करेंसी नोट जारी करने की ज़िम्मेदारी _____ की है ।
(सही विकल्प चुनकर रिक्त स्थान की पूर्ति कीजिए) 1
- (A) भारतीय रिज़र्व बैंक
(B) वाणिज्य मंत्रालय
(C) वित्त मंत्रालय
(D) नीति (NITI) आयोग
3. उल्लेख कीजिए, कि निम्नलिखित कथन *सत्य* है अथवा *असत्य* :
“वाणिज्यिक बैंकों के पास उनकी ऋण प्रक्रिया के माध्यम से जो माँग जमा वापस आती है, उसे द्वितीयक जमा कहा जाता है ।” 1
4. एक भारतीय कम्पनी ब्रिटिश कार कम्पनी का अधिग्रहण करती है । इस लेन-देन को _____ खाते के _____ पक्ष में लिखा जाएगा । (सही विकल्प चुनकर रिक्त स्थानों की पूर्ति कीजिए) 1
- (A) पूँजी, डेबिट
(B) पूँजी, क्रेडिट
(C) चालू, डेबिट
(D) चालू, क्रेडिट
5. 'चालू खाता अधिशेष' का अर्थ लिखिए । 1
6. यदि \$ 1 = ₹ 80.50 है, तो ₹ 2,00,000 को बदलने के लिए \$ _____ (लगभग) की आवश्यकता होगी । (सही विकल्प चुनकर रिक्त स्थान की पूर्ति कीजिए) 1
- (A) 2,484
(B) 2,844
(C) 2,448
(D) 2,882





केस अध्ययन 1

निम्नलिखित गद्य का ध्यानपूर्वक अध्ययन कीजिए और प्रश्न संख्या 7 – 10 के उत्तर दीजिए :

कोविड-19 महामारी के कारण उत्पन्न होने वाले संकट से लड़ने के लिए भारत सरकार ने सभी आर्थिक व गैर-आर्थिक गतिविधियों (आपातकालीन व चयनित आवश्यक (अनिवार्य) गतिविधियों को छोड़कर) को बंद करने की घोषणा की थी। इसके कारण निम्नलिखित परिणाम सामने आए :

- अनैच्छिक बेरोज़गारी की व्यापक लहर, विशेषकर असंगठित व अनौपचारिक क्षेत्र में।
- वस्तुओं और सेवाओं की माँग में भारी गिरावट।
- आवश्यक वस्तुओं (विशेषकर स्वास्थ्य व गृहस्थ क्षेत्रक से) व अनेक और की आपूर्ति में कमी।

उपभोग माँग की कमी की स्थिति को दूर करने के लिए, सरकार द्वारा अपने उपभोग व निवेश व्यय को जारी रखने की उम्मीद है। इस प्रकार के सरकारी व्ययों से आम आदमी की प्रयोज्य आय में वृद्धि की आशा है। यह घरेलू क्षेत्रक के उपभोग व निवेश व्यय में भी वृद्धि सुनिश्चित कर सकता है।

जुलाई 2020 के माह में भारतीय रिज़र्व बैंक के सर्वेक्षण से उपभोक्ता विश्वास के अब तक न्यूनतम होने के संकेत मिलते हैं। अधिकतर व्यक्तियों ने रोज़गार, मुद्रा-स्फीति तथा आय से संबंधित निराशावाद की सूचना दी है।

7. उल्लेख कीजिए कि निम्नलिखित कथन *सत्य* है अथवा *असत्य* :
“अनैच्छिक बेरोज़गारी भारत में लॉकडाउन का परिणाम था।” 1
8. सरकारी व्यय में _____ अवस्फीतिक अंतराल में कमी कर सकती है।
(सही उत्तर द्वारा रिक्त स्थान की पूर्ति कीजिए) 1
9. गृहस्थों की _____ (आय/बचत) का निजी उपभोग व्यय के साथ सीधा संबंध होता है।
(सही विकल्प चुनकर रिक्त स्थान की पूर्ति कीजिए) 1
10. निम्नलिखित में से सही कथन की पहचान कीजिए : 1
- (a) मुद्रा-स्फीतिकारी अंतराल की स्थिति में, आय के पूर्ण रोज़गार स्तर पर समग्र माँग समग्र पूर्ति से अधिक होती है।
- (b) मुद्रा-स्फीतिकारी अंतराल की स्थिति में, उत्पादन के पूर्ण रोज़गार स्तर पर समग्र माँग समग्र पूर्ति से कम होती है।
11. “घरेलू आय में वृद्धि के परिणामस्वरूप, राष्ट्रीय आय में सदैव वृद्धि होती है।”
क्या आप दिए गए कथन से सहमत हैं? अपने उत्तर के पक्ष में मान्य उदाहरण दीजिए। 3
12. (a) “यदि कोई देश चालू खाता घाटे की स्थिति का सामना कर रहा है, तो व्यापार घाटा अवश्य विद्यमान होता है।”
दिए गए कथन का औचित्य सिद्ध कीजिए। 3
- अथवा**
- (b) “पूँजीगत खाता लेन-देन भविष्य के दावों को जन्म देती हैं।”
मान्य तर्कों द्वारा दिए गए कथन का समर्थन या खंडन कीजिए। 3
13. “मुद्रा गुणक बैंकिंग प्रणाली की साख निर्माण शक्ति के निर्धारण में महत्वपूर्ण भूमिका निभाता है।” उचित संख्यात्मक उदाहरण द्वारा कथन की व्याख्या कीजिए। 4





14. (a) 'अभावी माँग' का अर्थ बताइए। अभावी माँग को कम करने के लिए प्रयुक्त किन्हीं दो मौद्रिक नीति उपायों का सुझाव दीजिए।

4

अथवा

- (b) एक अर्थव्यवस्था में, निवेश में वृद्धि ₹ 1,000 करोड़ है तथा सीमांत बचत प्रवृत्ति 0.25 है।

गणना कीजिए :

- (i) निवेश गुणक (K) 2
(ii) आय में कुल वृद्धि (ΔY) 2

15. परिभाषित कीजिए :

2+2=4

- (a) स्वायत्त उपभोग व्यय
(b) औसत उपभोग प्रवृत्ति

16. (a)

वर्ष	2016 – 17	2017 – 18	2018 – 19
मौद्रिक GDP	6.5	8.4	9
GDP अवस्फीतिक	100	140	125

उपर्युक्त काल्पनिक सूचना के आधार पर बताइए कि किस वर्ष के लिए वास्तविक GDP तथा मौद्रिक GDP बराबर हैं।

6

अथवा

- (b) (i) निम्नलिखित आँकड़ों से 'बिक्री' के मूल्य की गणना कीजिए :

4

क्र.सं.	मदें	राशि (₹ करोड़ में)
1.	साधन लागत पर शुद्ध मूल्य वृद्धि	800
2.	उपदान	40
3.	स्टॉक में परिवर्तन	(-) 70
4.	बिक्री	?
5.	मध्यवर्ती उपभोग	450
6.	स्थायी पूँजी का उपभोग	40

- (ii) "आय के चक्रीय प्रवाह का सिद्धांत इस अवधारणा पर आधारित है कि — एक का व्यय दूसरे की आय बनाता है।"

दिए गए कथन का औचित्य सिद्ध कीजिए।

2





17. (a) “बजटीय नीति के माध्यम से सरकार देश की आवश्यकताओं के अनुसार संसाधनों का आबंटन करती है।”
क्या आप दिए गए कथन से सहमत हैं ? अपने उत्तर के समर्थन में मान्य कारण दीजिए। 4
- (b) ‘प्रत्यक्ष कर’ की परिभाषा लिखिए। 2

खण्ड ख

(भारतीय अर्थव्यवस्था का विकास)

(40 अंक)

18. 1956 के औद्योगिक नीति प्रस्ताव के अंतर्गत उद्योगों को _____ (दो/तीन) श्रेणियों में वर्गीकृत किया गया था। (सही विकल्प चुनकर रिक्त स्थान की पूर्ति कीजिए) 1

19. निम्नलिखित कथनों — अभिकथन (A) तथा कारण (R) का अध्ययन कीजिए :

अभिकथन (A) : औपनिवेशिक शासन के दौरान मृत्यु-दर और शिशु मृत्यु-दर दोनों बहुत अधिक थीं।

कारण (R) : ब्रिटिश शासन ने भारत में सार्वजनिक स्वास्थ्य सुविधाओं में सुधार के लिए कभी भी कोई ध्यान नहीं दिया।

निम्नलिखित में से सही विकल्प का चयन कीजिए :

(A) अभिकथन (A) और कारण (R) दोनों सत्य हैं।

(B) अभिकथन (A) और कारण (R) दोनों असत्य हैं।

20. नीचे दिए गए कॉलम I और II में से कथनों के सही युग्म का चयन कीजिए : 1

	कॉलम I		कॉलम II
a.	उपदान	i.	आयातित वस्तुओं की अधिकतम मात्रा
b.	कर्वे कमेटी, 1955	ii.	ग्रामीण विकास को बढ़ावा देने के लिए लघु उद्योगों का प्रयोग
c.	आयात प्रतिस्थापन नीति	iii.	नई तकनीकी को ग्रहण करने के लिए कृषकों को प्रोत्साहित करना
d.	कोटा	iv.	घरेलू फर्मों की सुरक्षा करना

विकल्प:

(A) a – i

(B) b – ii

(C) c – iii

(D) d – iv





21. (a) _____ नहर के खुलने से ब्रिटेन व भारत के बीच माल परिवहन लागत में काफ़ी कमी आयी थी ।
(सही उत्तर से रिक्त स्थान की पूर्ति कीजिए) 1

अथवा

- (b) 'प्रशुल्क' (Tariff) की परिभाषा लिखिए । 1
22. भारत की तुलना में _____ (चीन/पाकिस्तान) में मातृ मृत्यु-दर अधिक है ।
(सही विकल्प चुनकर रिक्त स्थान की पूर्ति कीजिए) 1

23. निम्नलिखित सूचना का अध्ययन कीजिए व सही विकल्प चुनकर रिक्त स्थान की पूर्ति कीजिए : 1

	राष्ट्र क	राष्ट्र ख	राष्ट्र ग
मानव विकास सूचकांक (HDI) मूल्य	0.648	0.759	0.562

राष्ट्र _____ (क/ख/ग) को HDI सूचकांक पर सर्वश्रेष्ठ कहा जा सकता है ।

केस अध्ययन 2

निम्नलिखित गद्य का ध्यानपूर्वक अध्ययन कीजिए और प्रश्न संख्या 24 – 27 के उत्तर दीजिए :

यह कहानी है, सिमरन ऐग्रो लिमिटेड की 'परियोजना सिमरन' की । परियोजना सिमरन का उद्देश्य उच्च गुणवत्ता वाले आगतों के उपयोग में वृद्धि कर किसानों की उत्पादक क्षमता मज़बूत करना था । परियोजना सिमरन ने कृषि संबंधी सर्वोत्तम प्रथाओं का उपयोग किया । सिमरन ऐग्रो किसानों को उचित मूल्य बाज़ार उपलब्ध कराने की दिशा में कार्यरत है । इस क्षेत्र में टमाटर प्रमुख फ़सल है ।

परियोजना सिमरन के उद्देश्य :

- कृषकों के लिए आदर्श टमाटर फ़सल प्रबंधन प्रणाली स्थापित करना ।
- आधुनिक तकनीकी को लागू करना ।
- कृषकों को विपणन में सहायता प्रदान करना ।

परियोजना सिमरन ने बीज के चयन के लिए मृदा परीक्षण तकनीक का उपयोग किया । इसने उत्पादन लागत को कम करने के लिए किसानों के लिए सभी आगतें खरीदी । कृषि-वैज्ञानिकों द्वारा प्रशिक्षण से फ़सल विफलता को कम करने में भी सहायता मिली ।

24. परियोजना सिमरन ने _____ को सुनिश्चित करने के लिए कृषि की सर्वोत्तम प्रथाओं को अपनाया ।
(सही उत्तर द्वारा रिक्त स्थान की पूर्ति कीजिए) 1

25. परियोजना सिमरन से जुड़े किसी एक उद्देश्य का उल्लेख कीजिए । 1





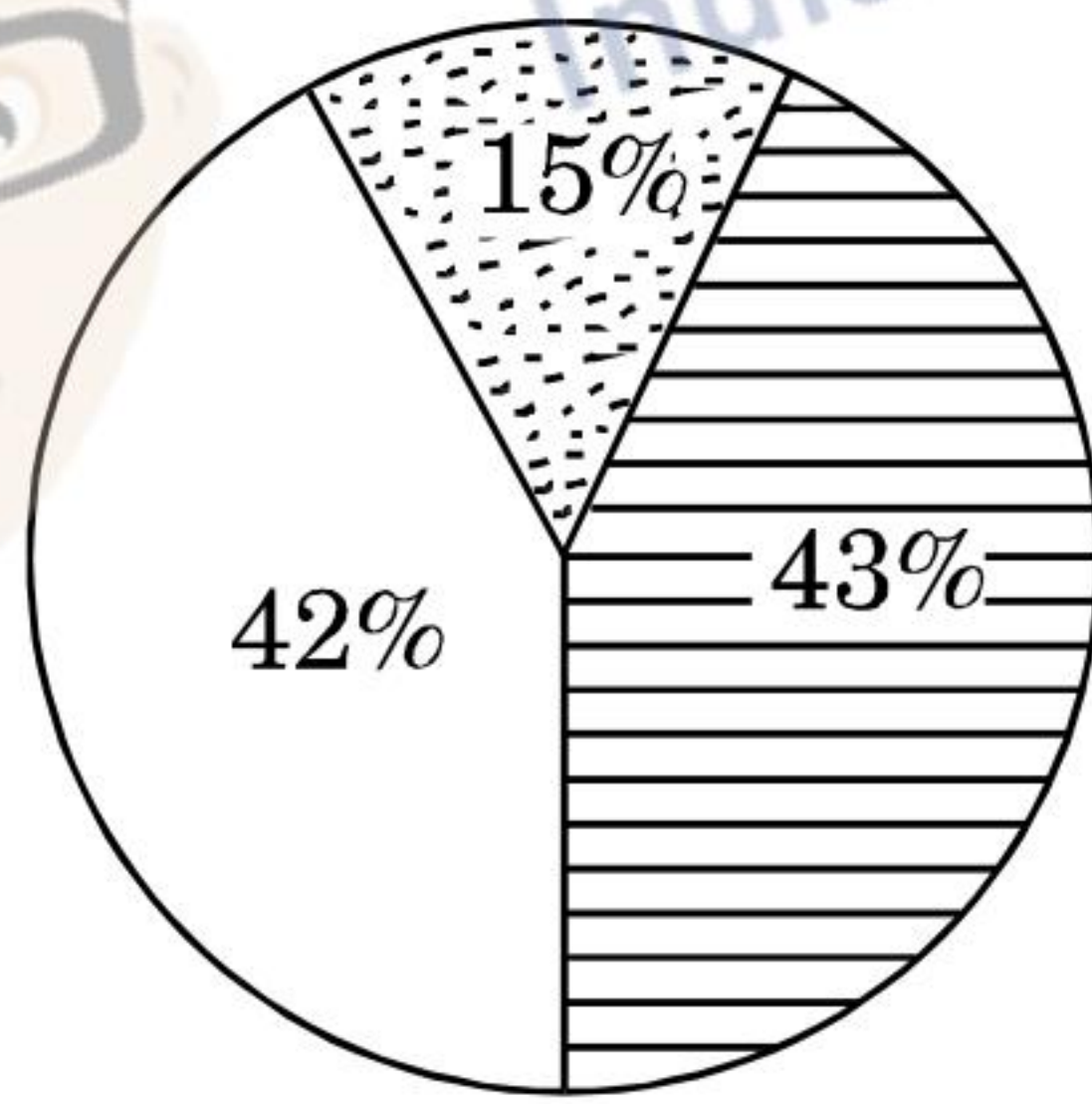
26. _____ (कृषि-वैज्ञानिकों/कृषि-अभियंताओं) के योगदान ने फ़सल विफलता को कम करने में महत्वपूर्ण भूमिका निभाई थी। (सही विकल्प द्वारा रिक्त स्थान की पूर्ति कीजिए) 1
27. _____ (बेहतर तकनीकी का प्रयोग/महँगी तकनीकी का उपयोग) साधारणतः कृषकों को अधिक आय नहीं प्रदान कर सकता है। (सही विकल्प चुनकर रिक्त स्थान की पूर्ति कीजिए) 1
28. (a) “आधारिक संरचना एक देश के आर्थिक विकास में सकारात्मक योगदान करती है।” क्या आप दिए गए कथन का समर्थन करते हैं? मान्य तर्क द्वारा व्याख्या कीजिए। 3

अथवा

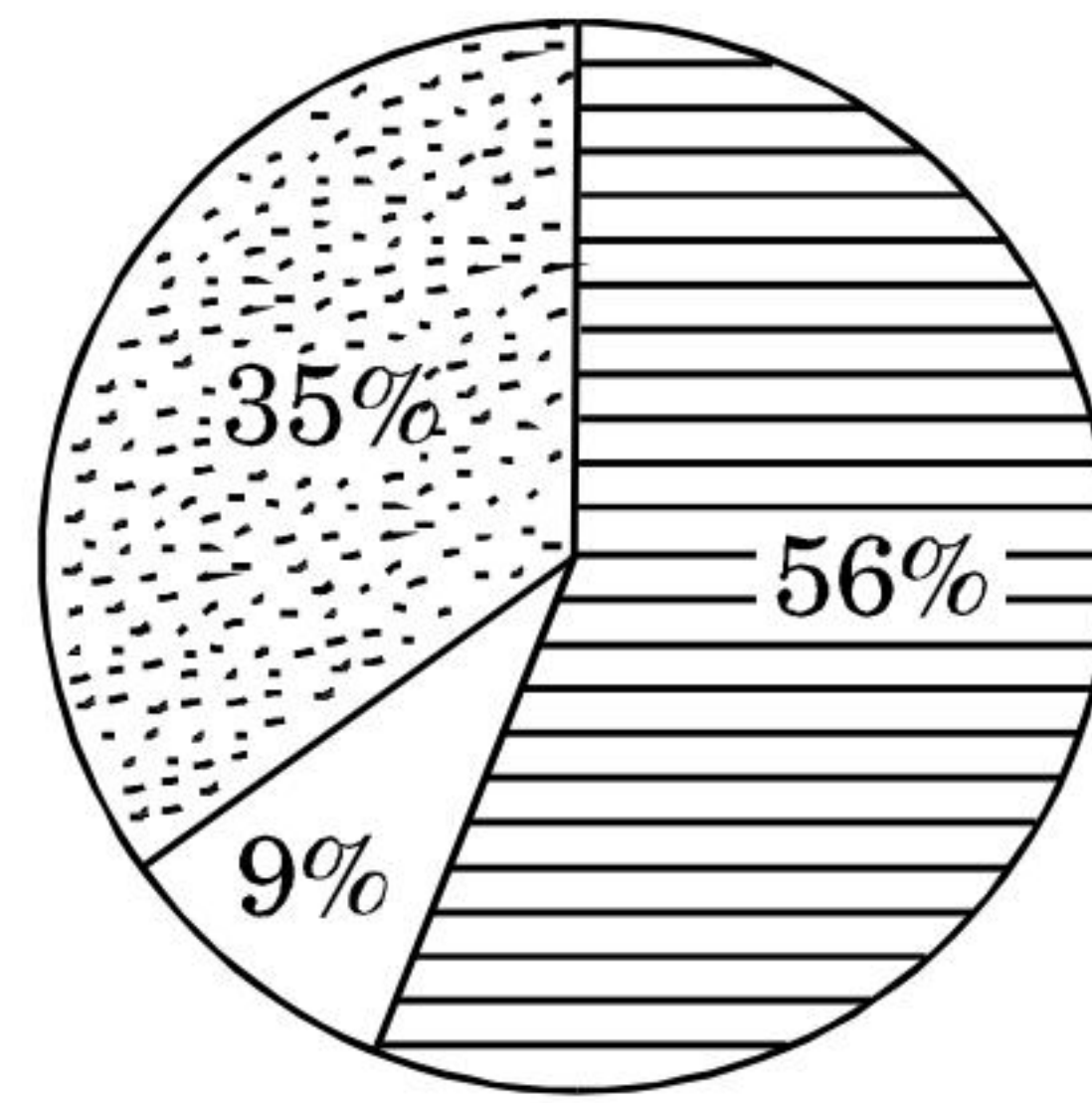
- (b) क्या पर्यावरणीय संकट एक नवीन परिघटना है? यदि हाँ, तो क्यों? 3
29. निम्नलिखित चित्र भारत में कार्यबल के वितरण को दर्शाता है। कार्यबल वितरण की प्रकृति का विश्लेषण और तुलना कीजिए। 3




क्षेत्रानुसार रोज़गार वितरण



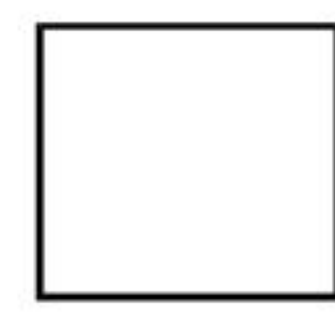
शहरी श्रमिक




ग्रामीण श्रमिक



स्वयं कार्यरत



नियमित वेतनभोगी कर्मचारी



आकस्मिक पारिश्रमिक कर्मचारी

30. “कृषि क्षेत्र आर्थिक सुधार प्रक्रिया से प्रतिकूल रूप से प्रभावित हुआ प्रतीत होता है।” दिए गए कथन की व्याख्या कीजिए। 4





31. (a) 1956 के औद्योगिक नीति प्रस्ताव के अंतर्गत 'लाईसेंस राज' के पीछे के तर्क की संक्षिप्त चर्चा कीजिए । 4
- अथवा
- (b) 1991 की नई आर्थिक नीति के अंतर्गत किन्हीं दो मुख्य 'कर सुधारों' का उल्लेख व चर्चा कीजिए । 4
32. 1947 के पश्चात् भारत व पाकिस्तान द्वारा अपनाई गई किन्हीं दो समान विकासात्मक रणनीतियों की चर्चा कीजिए । 4
33. (a) गरीबी रेखा से क्या तात्पर्य है ? गरीबी रेखा की किन्हीं दो सीमाओं का उल्लेख कीजिए । 4
- (b) 'रुग्णता दर' का अर्थ लिखिए । 2
34. (a) निम्नलिखित कथनों पर टिप्पणी कीजिए : 3+3=6
- (i) धारणीय विकास सुनिश्चित करने में पारंपरिक ज्ञान व व्यवहार महत्वपूर्ण भूमिका निभा सकते हैं ।
- (ii) एक सुसंरचित ग्रामीण बैंकिंग प्रणाली एक राष्ट्र के विकास के लिए महत्वपूर्ण है ।
- अथवा
- (b) मान्य कारणों सहित, उल्लेख कीजिए कि निम्नलिखित कथन सत्य हैं अथवा असत्य : 3+3=6
- (i) पूँजी निर्माण गरीबी उन्मूलन की कुँजी है ।
- (ii) 'आर्थिक विकास' को सुनिश्चित करने में कौशल विकास एक प्रमुख कारक है ।

