

Navik
Logical Reasoning

Previous Year Paper
20-22 March 2021

20 Questions

Que. 1 निम्नलिखित प्रश्न में एक श्रृंखला दी गई है। वह पद ज्ञात कीजिए जो प्रश्नवाचक चिन्ह को प्रतिस्थापित करेगा।

0, 8, 31, 74, 142, ?

1. 240
2. 230
3. 260
4. 300

Correct Option - 1

Que. 2 यदि "FRAME" को 53972 और "BOOK" को 4881 के रूप में कूटबद्ध किया जाता है, तो "MORE" को कैसे कूटबद्ध किया जाएगा?

1. 4381
2. 3287
3. 5872
4. 7832

Correct Option - 4

Que. 3 यदि किसी कूट भाषा में MNOP को QRST के रूप में लिखा जाता है, तो उस कूट भाषा में ABCD को क्या लिखा जाएगा?

1. MNOP
2. FGHI
3. EFGH
4. PQRS

Correct Option - 3

Que. 4 अव्यवस्थित अक्षरों वाला एक शब्द दिया गया है। अक्षरों का सही क्रम चुनिए जो सही शब्द बनाने के लिए आवश्यक है।

अव्यवस्थित शब्द: SPTRECE

1. 4, 3, 6, 5, 7, 2, 1
2. 4, 3, 2, 7, 6, 5, 1
3. 4, 7, 1, 6, 2, 5, 3
4. 4, 7, 1, 2, 5, 6, 3

Correct Option - 4

Que. 5 दिए गए विकल्पों में से बेजोड़ शब्द ज्ञात कीजिये।

1. त्वचा
2. आँख
3. दांत
4. नाक

Correct Option - 3

Que. 6 निम्नलिखित प्रश्न में दिए गए विकल्पों में से संबंधित शब्द को चुनिए।

पुरातत्व : इतिहास :: पेलीअन्टोलॉजी : ?

1. मछली
2. पत्थर
3. जीवाश्म
4. जंतु

Correct Option - 3

Que. 7 दिए गए विकल्पों में से उस संख्या का चयन करें जिसे प्रश्न चिह्न (?) के चिह्न पर रखा जा सकता है।

12	4	24
21	8	84
25	8	?

1. 100
2. 125
3. 150
4. 75

Correct Option - 1

Que. 8 रूबी दक्षिण की ओर 5 किमी दौड़ती है, फिर वह पूर्व की ओर 7 किमी चलती है, पुनः वह दाएं मुड़ती है और 7 किमी चलती है। फिर वह बाएं मुड़ती है और 8 किमी चलती है। अंत में वह दक्षिण की ओर 8 किमी चलती है। वह प्रारंभिक बिंदु से कितनी दूर और किस दिशा में है?

1. 32 किमी, दक्षिण पश्चिम
2. 21 किमी, उत्तर पूर्व
3. 34 किमी, दक्षिण पूर्व
4. 25 किमी, दक्षिण पूर्व

Correct Option - 4

Que. 9 निम्नलिखित में से अक्षरों का कोन सा समुच्चय (सेट) दी गई अक्षर श्रृंखला में रिक्त स्थानों में क्रमानुसार स्थापित करने पर उसे पूर्ण करेगा ?

b_dc_efd_f_he_ghi

1. cedgf
2. cdefg
3. cdegf
4. bcdef

Correct Option - 3





Que. 10 दी गई शीट को मोड़कर एक घन बनाया जाता है। घन में, गठित संख्या '6' वाले फलक के विपरीत फलक पर कौन सी संख्या होगी?



1. 3
2. 5
3. 2
4. 1

Correct Option - 4

Que. 11 वेन आरेख का चयन कीजिये जो निम्नलिखित वर्गों के बीच के संबंध को सर्वोत्तम रूप से दर्शाता है।
सब्जी, बैगन, भिंडी

1. 
2. 
3. 
4. 

Correct Option - 1




Que. 12 यदि CAMP को 6217 के रूप में कूटबद्ध किया जाता है और FIRE को 8954 के रूप में कूटबद्ध किया जाता है, तो PREFACE के लिए कूट क्या है?

1. 7582642
2. 7518261
3. 7548264
4. 7584268

Correct Option - 3

Que. 13 श्रृंखला में अगला आंकड़ा क्या होगा।



1. 
2. 
3. 

4.



Correct Option - 3

Que. 14 जॉन एक महिला की ओर इशारा करता है और कहता है, "वह मेरे बेटे की पत्नी की बेटी की माँ है।" महिला का जॉन के साथ कैसा संबंध है?

1. अंकल
2. नेप्पू
3. डॉटर-इन-लॉ
4. इनमे से कोई नहीं

Correct Option - 3

Que. 15 निम्नलिखित प्रश्न में, बिंदीदार रेखाओं के साथ वर्गाकार कागज की एक शीट को मोड़ा जाता है, और फिर उस पर कट बनाए जाते हैं। खोला जाने पर शीट किस प्रकार दिखाई देगी?



1.



2.



3.



4.



Correct Option - 1

Que. 16 अंकों का विषम युग्म ज्ञात कीजिये:

1. 6 : 20
2. 11 : 35

3. 18 : 56

4. 8 : 24

Correct Option - 4

Que. 17 उस विकल्प का चयन कीजिये जो तीसरे पद से उसी प्रकार संबंधित है जिस प्रकार दूसरा पद पहले पद से संबंधित है।

TUS : VWU :: FGE : ?

1. HIG

2. JKI

3. KLM

4. NOM

Correct Option - 1

Que. 18 यदि '+' का अर्थ '×', '-' का अर्थ '+', '×' का अर्थ '-' और '÷' का अर्थ '+' है तो

$18 \times 9 \div 3 + 8 - 4 = ?$

1. 15

2. 3

3. 1

4. 9

Correct Option - 1

Que. 19 उस आरेख की पहचान कीजिये जो नीचे दिए गए वर्गों के बीच संबंध को सर्वोत्तम रूप से दर्शाता है:

लैपटॉप, मोबाइल, इलेक्ट्रॉनिक उपकरण।

1.



2.



3.



4.



Correct Option - 3

Que. 20 पी.वी. सिंधु बैडमिंटन से उसी प्रकार संबंधित है जैसे विराट कोहली _____ से संबंधित है।

1. क्रिकेट

2. बास्केटबाल

3. फुटबॉल

4. रग्बी

Correct Option - 1

