

## Banaras Hindu University

**Question Paper Name:** 188 14th May 2019 Shift 2  
**Subject Name:** 188  
**Creation Date:** 2019-05-14 17:57:33  
**Duration:** 120  
**Total Marks:** 450  
**Display Marks:** Yes  
**Share Answer Key With Delivery Engine:** Yes  
**Actual Answer Key:** Yes

BVoc RL HT FE MO

**Group Number :** 1  
**Group Id :** 54310771  
**Group Maximum Duration :** 0  
**Group Minimum Duration :** 120  
**Revisit allowed for view? :** No  
**Revisit allowed for edit? :** No  
**Break time:** 0  
**Group Marks:** 450

Section I

**Section Id :** 543107126  
**Section Number :** 1  
**Section type :** Online  
**Mandatory or Optional:** Mandatory  
**Number of Questions:** 119  
**Number of Questions to be attempted:** 119  
**Section Marks:** 360  
**Display Number Panel:** Yes  
**Group All Questions:** No

**Sub-Section Number:** 1  
**Sub-Section Id:** 543107165  
**Question Shuffling Allowed :** Yes

**Question Number : 1 Question Id : 5431078763 Question Type : MCQ Option Shuffling : Yes Display Question Number : Yes**  
**Single Line Question Option : No Option Orientation : Vertical Allowed Progression : Yes Number of Replay : 999 Play On Load : No Control Enable : Yes**  
**Correct Marks : 3 Wrong Marks : 1**  
**Question Label : Multiple Choice Question**

The following statements are about biodiversity hotspot :

निम्नलिखित कथन जैवविविधता हॉटस्पॉट के विषय में हैं :

(A) There are currently about three dozen biodiversity hotspots in the world

इस समय विश्व में लगभग तीन दर्जन जैवविविधता हॉटस्पॉट हैं

(B) A biodiversity hotspot must have at least 0.5% species of vascular plants found nowhere else on the Earth

जैवविविधता हॉटस्पॉट में कम से कम 0.5% संवहनीय पौधों की प्रजातियाँ हों, जो धरती पर कहीं अन्य न मिलते हों

(C) A biodiversity hotspot must lose at least 70 percent of its primary native vegetation

जैवविविधता हॉटस्पॉट में प्रारंभिक मौलिक वनस्पतियों का 70% नष्ट हो गए हों

Options :

Only A

1. केवल A

A and B

2. A एवं B

A, B and C

3. A, B एवं C

None of the three

4. तीनों में से कोई नहीं

Question Number : 2 Question Id : 5431078764 Question Type : MCQ Option Shuffling : Yes Display Question Number : Yes  
Single Line Question Option : No Option Orientation : Vertical Allowed Progression : Yes Number of Replay : 999 Play On Load :  
No Control Enable : Yes

Correct Marks : 3 Wrong Marks : 1

Question Label : Multiple Choice Question

Which of the following is *not* a fresh water ecosystem ?

निम्नलिखित में से कौन ताजा जल पारिस्थैतिक तन्त्र *नहीं* है ?

Options :

River

1. नदी

Lake

2. झील



Pond

3. तालाब

Estuary

4. नदमुख

Question Number : 3 Question Id : 5431078765 Question Type : MCQ Option Shuffling : Yes Display Question Number : Yes  
Single Line Question Option : No Option Orientation : Vertical Allowed Progression : Yes Number of Replay : 999 Play On Load :  
No Control Enable : Yes

Correct Marks : 3 Wrong Marks : 1

Question Label : Multiple Choice Question

Which of the following statements about troposphere is *incorrect* ?

क्षोभमण्डल के विषय में निम्नलिखित कथनों में से कौन **गलत** है ?

Options :

The troposphere is the lowest layer of the Earth's atmosphere

1. क्षोभमण्डल पृथ्वी के वायुमण्डल का सबसे निचला स्तर है

The temperature increases with altitude

2. तापमान ऊँचाई के साथ बढ़ता है

Air in the troposphere is heated from the ground

3. क्षोभमण्डल में वायु धरातल से गर्म होती है

Weather occurs in the troposphere

4. मौसम क्षोभमण्डल में घटित होता है

Question Number : 4 Question Id : 5431078766 Question Type : MCQ Option Shuffling : Yes Display Question Number : Yes  
Single Line Question Option : No Option Orientation : Vertical Allowed Progression : Yes Number of Replay : 999 Play On Load :  
No Control Enable : Yes

Correct Marks : 3 Wrong Marks : 1

Question Label : Multiple Choice Question

Dr. M. S. Subbulakshmi has distinguished herself in the field of :

डॉ० एम० एस० सुब्बुलक्ष्मी ने स्वयं को विशिष्ट प्रमाणित किया है :

Options :

Kathak

1. कथक के क्षेत्र में

Bharat Natyam

2. भरत नाट्यम के क्षेत्र में

Playing Violin

3. वायलिन वादन के क्षेत्र में

Vocal Music

4. गायन के क्षेत्र में

Question Number : 5 Question Id : 5431078767 Question Type : MCQ Option Shuffling : Yes Display Question Number : Yes  
Single Line Question Option : No Option Orientation : Vertical Allowed Progression : Yes Number of Replay : 999 Play On Load :  
No Control Enable : Yes

Correct Marks : 3 Wrong Marks : 1

Question Label : Multiple Choice Question

Which among the following is a martial dance ?

निम्नलिखित में से कौन सामरिक नृत्य का एक रूप है ?

Options :

Kathakali of Kerala

1. केरल का कथकली

Bamboo dance of Meghalaya

2. मेघालय का बाँस नृत्य

Chhau of Mayurbhanj

3. मयूरभंज का छाऊ

Bhangra of Punjab

4. पंजाब का भांगड़ा

Question Number : 6 Question Id : 5431078768 Question Type : MCQ Option Shuffling : Yes Display Question Number : Yes  
Single Line Question Option : No Option Orientation : Vertical Allowed Progression : Yes Number of Replay : 999 Play On Load :  
No Control Enable : Yes

Correct Marks : 3 Wrong Marks : 1

Question Label : Multiple Choice Question

Where did Buddha attained Mahaparinirvana ?

बुद्ध को महापरिनिर्वाण कहाँ प्राप्त हुआ था ?

Options :

Kushinagar

1. कुशीनगर

Pavapuri

2. पावापुरी



Sarnath

3. सारनाथ

Sravasti

4. श्रावस्ती

Question Number : 7 Question Id : 5431078769 Question Type : MCQ Option Shuffling : Yes Display Question Number : Yes  
Single Line Question Option : No Option Orientation : Vertical Allowed Progression : Yes Number of Replay : 999 Play On Load :  
No Control Enable : Yes

Correct Marks : 3 Wrong Marks : 1

Question Label : Multiple Choice Question

Which of the following cities is *not* related to Indus Valley Civilization ?

इनमें से कौन सिन्धु सभ्यता से संबंधित नगर *नहीं* है ?

Options :

Harrapa

1. हड़प्पा

Mohen-jo-daro

2. मोहनजोदाड़ो

Lothal

3. लोथल

Hastinapur

4. हस्तिनापुर

Question Number : 8 Question Id : 5431078770 Question Type : MCQ Option Shuffling : Yes Display Question Number : Yes  
Single Line Question Option : No Option Orientation : Vertical Allowed Progression : Yes Number of Replay : 999 Play On Load :  
No Control Enable : Yes

Correct Marks : 3 Wrong Marks : 1

Question Label : Multiple Choice Question

The minimum interest rate of a bank below which it is not viable to lend, is known as :

वह न्यूनतम ब्याज दर जिससे कम पर ऋण देना बैंक के लिए व्यावहारिक (फायदेमंद) नहीं रहता है, कहलाता है :

Options :

Reserve Rate

1. रिज़र्व दर

Base Rate

2. बेस दर

Marginal Rate

3. सीमान्त (मार्जिनल) दर

Prime Lending Rate

4. न्यूनतम उधार दर

Question Number : 9 Question Id : 5431078771 Question Type : MCQ Option Shuffling : Yes Display Question Number : Yes  
Single Line Question Option : No Option Orientation : Vertical Allowed Progression : Yes Number of Replay : 999 Play On Load :  
No Control Enable : Yes

Correct Marks : 3 Wrong Marks : 1

Question Label : Multiple Choice Question

Portion of deposits banks have to park with RBI is called :

अपनी बचत का वह हिस्सा जिसे बैंकों को आर० बी० आई० में रखना पड़ता है, कहलाता है :

Options :

Statutory Reserve Ratio

1. सांविधिक आरक्षित अनुपात

Capital Adequacy Ratio

2. पूँजी पर्याप्तता अनुपात

Cash Reserve Ratio

3. नकद रिज़र्व अनुपात

CASA Ratio

4. सी० ए० एस० ए० अनुपात

Question Number : 10 Question Id : 5431078772 Question Type : MCQ Option Shuffling : Yes Display Question Number : Yes  
Single Line Question Option : No Option Orientation : Vertical Allowed Progression : Yes Number of Replay : 999 Play On Load :  
No Control Enable : Yes

Correct Marks : 3 Wrong Marks : 1

Question Label : Multiple Choice Question

Who among the following famous authors was an Investment Banker prior to turning to a columnist and a writer ?

निम्नलिखित में से कौन-सा प्रसिद्ध लेखक एक स्तम्भ लेखक एवं लेखक बनने के पूर्व एक निवेशकर्ता बैंकर था ?

Options :

Arvind Adiga

1. अरविन्द अडिगा

Chetan Bhagat

2. चेतन भगत



Jhumpa Lahiri

3. झुम्पा लाहिरी

Kiran Desai

4. किरन देसाई

Question Number : 11 Question Id : 5431078773 Question Type : MCQ Option Shuffling : Yes Display Question Number : Yes  
Single Line Question Option : No Option Orientation : Vertical Allowed Progression : Yes Number of Replay : 999 Play On Load :  
No Control Enable : Yes

Correct Marks : 3 Wrong Marks : 1

Question Label : Multiple Choice Question

Which among the following body regulates Mutual Funds in India ?

भारत में म्युचुअल फण्ड को कौन संस्था विनियमित करती है ?

Options :

RBI

1. आर० बी० आई०

SEBI

2. एस० ई० बी० आई० (सेबी)

NABARD

3. एन० ए० बी० ए० आर० डी० (नाबार्ड)

AMFI

4. ए० एम० एफ० आई०

Question Number : 12 Question Id : 5431078774 Question Type : MCQ Option Shuffling : Yes Display Question Number : Yes  
Single Line Question Option : No Option Orientation : Vertical Allowed Progression : Yes Number of Replay : 999 Play On Load :  
No Control Enable : Yes

Correct Marks : 3 Wrong Marks : 1

Question Label : Multiple Choice Question

Sultan Azlan Shah Cup is related to which among the following Sports ?

सुल्तान अजलान शाह निम्नलिखित में से किस खेल से संबंधित हैं ?

Options :

Badminton

1. बैडमिंटन

Hockey

2. हॉकी

Table Tennis

3. टेबल टेनिस

Golf

4. गोल्फ

Question Number : 13 Question Id : 5431078775 Question Type : MCQ Option Shuffling : Yes Display Question Number : Yes  
Single Line Question Option : No Option Orientation : Vertical Allowed Progression : Yes Number of Replay : 999 Play On Load :  
No Control Enable : Yes

Correct Marks : 3 Wrong Marks : 1

Question Label : Multiple Choice Question

With which among the following sports, 'Ian Thorpe' is related to ?

निम्नलिखित में से किस खेल से 'इयान थॉर्प' संबंधित हैं ?

Options :

Athletics

1. एथेलेटिक्स

Boxing

2. मुक्केबाजी

Swimming

3. तैराकी

Racing

4. रेसिंग

Question Number : 14 Question Id : 5431078776 Question Type : MCQ Option Shuffling : Yes Display Question Number : Yes  
Single Line Question Option : No Option Orientation : Vertical Allowed Progression : Yes Number of Replay : 999 Play On Load :  
No Control Enable : Yes

Correct Marks : 3 Wrong Marks : 1

Question Label : Multiple Choice Question

"Magnus Carlson" is a player of which among the following sports/games ?

"मैगनस कार्लसन" का संबंध निम्नलिखित में से किस खेल से है ?

Options :

Cricket

1. क्रिकेट

Carrom

2. कैरम

Chess

3. शतरंज

Tennis

4. टेनिस



Question Number : 15 Question Id : 5431078777 Question Type : MCQ Option Shuffling : Yes Display Question Number : Yes  
Single Line Question Option : No Option Orientation : Vertical Allowed Progression : Yes Number of Replay : 999 Play On Load :  
No Control Enable : Yes

Correct Marks : 3 Wrong Marks : 1

Question Label : Multiple Choice Question

"Birdie" and "Eagle" are two terms related to which of the following sports ?

"बर्डि" एवं "ईगल" पद निम्नलिखित में से किस खेल से संबंधित हैं ?

Options :

Polo

1. पोलो

Golf

2. गोल्फ

Chess

3. शतरंज

Billiards

4. बिलियर्ड्स

Question Number : 16 Question Id : 5431078778 Question Type : MCQ Option Shuffling : Yes Display Question Number : Yes  
Single Line Question Option : No Option Orientation : Vertical Allowed Progression : Yes Number of Replay : 999 Play On Load :  
No Control Enable : Yes

Correct Marks : 3 Wrong Marks : 1

Question Label : Multiple Choice Question

What does term 'Olericulture' mean ?

'ओलेरिकल्चर' पद का क्या अर्थ है ?

Options :

Cultivation of cash crops

1. नकदी फसलों की कृषि

Science of vegetable growing

2. सब्जी उगाने का विज्ञान

Cultivation of oilseeds

3. तेलहन की कृषि

Science of fruit cultivation

4. फल की कृषि का विज्ञान

Question Number : 17 Question Id : 5431078779 Question Type : MCQ Option Shuffling : Yes Display Question Number : Yes  
Single Line Question Option : No Option Orientation : Vertical Allowed Progression : Yes Number of Replay : 999 Play On Load :  
No Control Enable : Yes

Correct Marks : 3 Wrong Marks : 1

Question Label : Multiple Choice Question

Which among the following planets are called 'Jovian Planets' ?

निम्नलिखित में से किस/किन ग्रह/ग्रहों को 'जोवियन ग्रह' कहा जाता है ?

(A) Jupiter

बृहस्पति

(B) Mercury

बुध

(C) Uranus

अरुण

Options :

'A' only

1. 'A' मात्र

'B' only

2. 'B' मात्र

'B' and 'C'

3. 'B' व 'C'

'A' and 'C'

4. 'A' व 'C'

Question Number : 18 Question Id : 5431078780 Question Type : MCQ Option Shuffling : Yes Display Question Number : Yes  
Single Line Question Option : No Option Orientation : Vertical Allowed Progression : Yes Number of Replay : 999 Play On Load :  
No Control Enable : Yes

Correct Marks : 3 Wrong Marks : 1

Question Label : Multiple Choice Question

The planets on which the Sun rises in the west are :

पश्चिम में जिन ग्रहों पर सूर्य उदय होता है वे हैं :

(A) Venus

शुक्र

(B) Uranus

अरुण

(C) Mars

मंगल

Which of the options given below are correct ?

नीचे दिये विकल्पों में कौन सही है ?

Options :



- 'B' and 'C'
1. 'B' व 'C'
- 'A' and 'C'
2. 'A' व 'C'
- 'A' and 'B'
3. 'A' व 'B'
- 'A', 'B' and 'C'
4. 'A', 'B' व 'C'

Question Number : 19 Question Id : 5431078781 Question Type : MCQ Option Shuffling : Yes Display Question Number : Yes  
Single Line Question Option : No Option Orientation : Vertical Allowed Progression : Yes Number of Replay : 999 Play On Load :  
No Control Enable : Yes

Correct Marks : 3 Wrong Marks : 1

Question Label : Multiple Choice Question

The orographic wind is *not* caused along which of the following ?

पर्वतीय पवनें निम्नलिखित में से किस के सहारे विकसित *नहीं* होती हैं ?

Options :

- Western Ghats
1. पश्चिमी घाट
- Aravalis
2. अरावली
- Garro Hills
3. गारो हिल्स
- Khasi Hills
4. खासी हिल्स

Question Number : 20 Question Id : 5431078782 Question Type : MCQ Option Shuffling : Yes Display Question Number : Yes  
Single Line Question Option : No Option Orientation : Vertical Allowed Progression : Yes Number of Replay : 999 Play On Load :  
No Control Enable : Yes

Correct Marks : 3 Wrong Marks : 1

Question Label : Multiple Choice Question

Cement Factory workers are prone to :

सीमेंट फैक्ट्री के श्रमिक रोगोन्मुख होते हैं :

Options :

- Leukemia
1. ल्यूकेमिया के

Bone marrow disease

2. अस्थि मज्जा रोग के

Asbestosis

3. अस्बेस्टोसिस के

Cytosilicosis

4. सायिटोसिलिकोसिस के

Question Number : 21 Question Id : 5431078783 Question Type : MCQ Option Shuffling : Yes Display Question Number : Yes  
Single Line Question Option : No Option Orientation : Vertical Allowed Progression : Yes Number of Replay : 999 Play On Load :  
No Control Enable : Yes

Correct Marks : 3 Wrong Marks : 1

Question Label : Multiple Choice Question

U. S. is intending to construct a physical wall along the border of :

यू० एस० किस देश के साथ जुड़ी सीमा पर एक भौतिक दीवार खड़ी करना चाहता है ?

Options :

Canada

1. कनाडा

Mexico

2. मेक्सिको

Puerto Rico

3. प्यूर्तो रीको

Russia

4. रूस

Question Number : 22 Question Id : 5431078784 Question Type : MCQ Option Shuffling : Yes Display Question Number : Yes  
Single Line Question Option : No Option Orientation : Vertical Allowed Progression : Yes Number of Replay : 999 Play On Load :  
No Control Enable : Yes

Correct Marks : 3 Wrong Marks : 1

Question Label : Multiple Choice Question

Which of the following is the Oldest Veda ?

निम्न में से प्राचीनतम वेद कौन है ?

Options :

Atharvaveda

1. अथर्ववेद

Rigveda

2. ऋग्वेद



Samveda

3. सामवेद

Yajurveda

4. यजुर्वेद

Question Number : 23 Question Id : 5431078785 Question Type : MCQ Option Shuffling : Yes Display Question Number : Yes  
Single Line Question Option : No Option Orientation : Vertical Allowed Progression : Yes Number of Replay : 999 Play On Load :  
No Control Enable : Yes

Correct Marks : 3 Wrong Marks : 1

Question Label : Multiple Choice Question

Who was the twenty third Tirthankar of Jainism ?

जैनधर्म के 23वें तीर्थांकर थे ?

Options :

Mahavir

1. महावीर

Parshwanath

2. पार्श्वनाथ

Adinath

3. आदिनाथ

Arishtanemi

4. अरिष्टनेमी

Question Number : 24 Question Id : 5431078786 Question Type : MCQ Option Shuffling : Yes Display Question Number : Yes  
Single Line Question Option : No Option Orientation : Vertical Allowed Progression : Yes Number of Replay : 999 Play On Load :  
No Control Enable : Yes

Correct Marks : 3 Wrong Marks : 1

Question Label : Multiple Choice Question

Which of the following is *not* a work of Kalidas ?

निम्न में से कौन कालीदास की रचना *नहीं* है ?

Options :

Meghaduta

1. मेघदूत

Abhijnanshakuntalam

2. अभिज्ञानशाकुन्तलम

Mrichchhakatikam

3. मृच्छकटिकम

Ritusamhar

4. ऋतु-संहार

Question Number : 25 Question Id : 5431078787 Question Type : MCQ Option Shuffling : Yes Display Question Number : Yes  
Single Line Question Option : No Option Orientation : Vertical Allowed Progression : Yes Number of Replay : 999 Play On Load :  
No Control Enable : Yes

Correct Marks : 3 Wrong Marks : 1

Question Label : Multiple Choice Question

Who amongst the following was *not* a member of the Drafting Committee of the Constitution ?

संविधान पांडुलेखन समिति का, निम्न में से कौन सदस्य *नहीं* था ?

Options :

Mohammad Sadullah

1. मोहम्मद सादुल्लाह

K. M. Munshi

2. के० एम० मुंशी

A. K. Ayyar

3. ए० के० अय्यर

Jawaharlal Nehru

4. जवाहरलाल नेहरू

Question Number : 26 Question Id : 5431078788 Question Type : MCQ Option Shuffling : Yes Display Question Number : Yes  
Single Line Question Option : No Option Orientation : Vertical Allowed Progression : Yes Number of Replay : 999 Play On Load :  
No Control Enable : Yes

Correct Marks : 3 Wrong Marks : 1

Question Label : Multiple Choice Question

The Rajya Sabha can be dissolved by :

राज्य सभा किसके द्वारा भंग की जा सकती है ?

Options :

The President

1. राष्ट्रपति द्वारा

The Prime Minister

2. प्रधानमंत्री द्वारा

The Council of Ministers

3. मंत्री परिषद द्वारा



- None of the three  
तीनों में से कोई नहीं
- 4.

Question Number : 27 Question Id : 5431078789 Question Type : MCQ Option Shuffling : Yes Display Question Number : Yes  
Single Line Question Option : No Option Orientation : Vertical Allowed Progression : Yes Number of Replay : 999 Play On Load :  
No Control Enable : Yes

Correct Marks : 3 Wrong Marks : 1

Question Label : Multiple Choice Question

Establishment of a three-tier Panchayati Raj system was first recommended by :  
त्रि-स्तरीय पंचायती राज प्रणाली स्थापित करने की अनुशंसा सर्वप्रथम की गई थी :

Options :

- Ashok Mehta Committee  
1. अशोक मेहता समिति द्वारा
- L. M. Singhvi Committee  
2. एल० एम० सिंघवी समिति द्वारा
- Balwantrao Mehta Committee  
3. बलवन्तराय मेहता समिति द्वारा
- Sarkaria Commission  
4. सरकारिया आयोग द्वारा

Question Number : 28 Question Id : 5431078790 Question Type : MCQ Option Shuffling : Yes Display Question Number : Yes  
Single Line Question Option : No Option Orientation : Vertical Allowed Progression : Yes Number of Replay : 999 Play On Load :  
No Control Enable : Yes

Correct Marks : 3 Wrong Marks : 1

Question Label : Multiple Choice Question

Under the Indian Constitution which amongst the following is considered to be  
the guardian of the fundamental rights ?

भारतीय संविधान के अन्तर्गत निम्नलिखित में से किसे मूल अधिकारों का संरक्षक समझा जाता है ?

Options :

- Parliament  
1. संसद को
- President  
2. राष्ट्रपति को
- Judiciary  
3. न्यायपालिका को
- Prime Minister  
4. प्रधानमंत्री को

Question Number : 29 Question Id : 5431078791 Question Type : MCQ Option Shuffling : Yes Display Question Number : Yes  
Single Line Question Option : No Option Orientation : Vertical Allowed Progression : Yes Number of Replay : 999 Play On Load :  
No Control Enable : Yes

Correct Marks : 3 Wrong Marks : 1

Question Label : Multiple Choice Question

What does fluoride pollution affect ?

फ्लोराइड प्रदूषण से क्या प्रभावित होता है ?

Options :

Kidney

1. गुर्दा

Brain

2. मस्तिष्क

Heart

3. हृदय

Teeth

4. दांत

Question Number : 30 Question Id : 5431078792 Question Type : MCQ Option Shuffling : Yes Display Question Number : Yes  
Single Line Question Option : No Option Orientation : Vertical Allowed Progression : Yes Number of Replay : 999 Play On Load :  
No Control Enable : Yes

Correct Marks : 3 Wrong Marks : 1

Question Label : Multiple Choice Question

Tissue that stores Fat in our body is known as :

ऊतक जो कि हमारे शरीर में वसा को संचित करता है, उसे जाना जाता है :

Options :

Muscular tissue

1. पेशी ऊतक

Adipose tissue

2. वसा ऊतक

Cartilage tissue

3. उपास्थि ऊतक

Nervous tissue

4. तंत्रिका ऊतक

Question Number : 31 Question Id : 5431078793 Question Type : MCQ Option Shuffling : Yes Display Question Number : Yes  
Single Line Question Option : No Option Orientation : Vertical Allowed Progression : Yes Number of Replay : 999 Play On Load :  
No Control Enable : Yes

Correct Marks : 3 Wrong Marks : 1



Question Label : Multiple Choice Question

The bones around your chest that protect organs such as lungs, heart are called :

आपकी छाती के चारों ओर की हड्डियाँ जो फेफड़ों, दिल जैसे अंगों की रक्षा करती हैं, कहा जाता है :

Options :

- Diaphragm
- 1. डायफ्राम
  
- Pectoral girdle
- 2. अंस मेखला
  
- Humerus
- 3. प्रगंडिका
  
- Ribs
- 4. पसलियाँ

Question Number : 32 Question Id : 5431078794 Question Type : MCQ Option Shuffling : Yes Display Question Number : Yes  
Single Line Question Option : No Option Orientation : Vertical Allowed Progression : Yes Number of Replay : 999 Play On Load :  
No Control Enable : Yes

Correct Marks : 3 Wrong Marks : 1

Question Label : Multiple Choice Question

The coloured part of the human eye that controls how much light passes through the pupil is called :

मानव आँख का वह रंगीन हिस्सा को हमारी आँखों पर पड़ने वाले प्रकाश को नियंत्रित करता है :

Options :

- Cornea
- 1. कॉर्निया
  
- Iris
- 2. आइरिस
  
- Retina
- 3. रेटिना
  
- Optical nerve
- 4. ऑप्टिकल नर्व

Question Number : 33 Question Id : 5431078795 Question Type : MCQ Option Shuffling : Yes Display Question Number : Yes  
Single Line Question Option : No Option Orientation : Vertical Allowed Progression : Yes Number of Replay : 999 Play On Load :  
No Control Enable : Yes

Correct Marks : 3 Wrong Marks : 1

Question Label : Multiple Choice Question

Dynamo converts :

डायनमो परिवर्तित करता है :

Options :

High voltage into Low voltage

1. उच्च वोल्टेज को निम्न वोल्टेज में

Electrical energy into mechanical energy

2. विद्युत ऊर्जा को यांत्रिक ऊर्जा में

Mechanical energy into electrical energy

3. यांत्रिक ऊर्जा को विद्युत ऊर्जा में

Low voltage into High voltage

4. निम्न वोल्टेज को उच्च वोल्टेज में

Question Number : 34 Question Id : 5431078796 Question Type : MCQ Option Shuffling : Yes Display Question Number : Yes  
Single Line Question Option : No Option Orientation : Vertical Allowed Progression : Yes Number of Replay : 999 Play On Load :  
No Control Enable : Yes

Correct Marks : 3 Wrong Marks : 1

Question Label : Multiple Choice Question

The best conductor of electricity amongst the following is :

निम्नलिखित में से विद्युत का सबसे अच्छा चालक है :

Options :

Aluminium

1. एल्यूमीनियम

Copper

2. तांबा

Silver

3. चांदी

Gold

4. सोना

Question Number : 35 Question Id : 5431078797 Question Type : MCQ Option Shuffling : Yes Display Question Number : Yes  
Single Line Question Option : No Option Orientation : Vertical Allowed Progression : Yes Number of Replay : 999 Play On Load :  
No Control Enable : Yes

Correct Marks : 3 Wrong Marks : 1

Question Label : Multiple Choice Question



Match List - I with List - II and select the correct answer with the help of code given below the lists :

सूची - I को सूची - II से सुमेलित कीजिए और सूचियों के नीचे दिए गए कूट की सहायता से सही उत्तर का चयन कीजिए :

List - I	List - II
सूची - I	सूची - II
(A) Audiogram ओडियोग्राम	I. Heart हृदय
(B) E.C.G. ई० सी० जी०	II. Brain मस्तिष्क
(C) E.E.G. ई० ई० जी०	III. Ear कान
(D) Mammogram मैमोग्राम	IV. Breast वक्ष

Options :

Codes :

कूट :

(A) (B) (C) (D)  
I II III IV

1.

Codes :

कूट :

(A) (B) (C) (D)  
II I III IV

2.

Codes :

कूट :

(A) (B) (C) (D)  
IV III II I

3.

Codes :

कूट :

(A) (B) (C) (D)  
III I II IV

4.

Question Number : 36 Question Id : 5431078798 Question Type : MCQ Option Shuffling : Yes Display Question Number : Yes  
Single Line Question Option : No Option Orientation : Vertical Allowed Progression : Yes Number of Replay : 999 Play On Load :  
No Control Enable : Yes

Correct Marks : 3 Wrong Marks : 1

Question Label : Multiple Choice Question

An iron needle floats on the surface of water due to :

लोहे को सुई पानी की सतह पर तैरती रहती है :

Options :

Upthrust of water

1. पानी के उत्प्लावन के कारण

Surface tension

2. पृष्ठ तनाव के कारण

Viscosity

3. श्यानता के कारण

Gravitational force

4. गुरुत्वाकर्षणीय बल के कारण

Question Number : 37 Question Id : 5431078799 Question Type : MCQ Option Shuffling : Yes Display Question Number : Yes  
Single Line Question Option : No Option Orientation : Vertical Allowed Progression : Yes Number of Replay : 999 Play On Load :  
No Control Enable : Yes

Correct Marks : 3 Wrong Marks : 1

Question Label : Multiple Choice Question

Which city has been adjudged as the cleanest city in Swachh Sarvekshan for third year in a row ?

निम्नलिखित में से कौन-सा शहर स्वच्छ सर्वेक्षण में लगातार तीसरी बार सबसे स्वच्छ शहर घोषित हुआ है ?

Options :

Chandigarh

1. चंडीगढ़

Varanasi

2. वाराणसी

Indore

3. इंदौर

Pune

4. पुणे



Question Number : 38 Question Id : 5431078800 Question Type : MCQ Option Shuffling : Yes Display Question Number : Yes  
Single Line Question Option : No Option Orientation : Vertical Allowed Progression : Yes Number of Replay : 999 Play On Load :  
No Control Enable : Yes

Correct Marks : 3 Wrong Marks : 1

Question Label : Multiple Choice Question

The US has reduced validity of work and missionary visa from 5 years to 1 year for citizens belonging to which nation ?

यू० एस० ने किस देश के संदर्भ में कार्य एवं धर्मार्थ कार्य संबंधी (वर्क एवं मिशनरी) वीजा की वैधता को 5 वर्ष से घटाकर 1 वर्ष कर दिया है ?

Options :

India

1. भारत

Russia

2. रूस

North Korea

3. उत्तर कोरिया

Pakistan

4. पाकिस्तान

Question Number : 39 Question Id : 5431078801 Question Type : MCQ Option Shuffling : Yes Display Question Number : Yes  
Single Line Question Option : No Option Orientation : Vertical Allowed Progression : Yes Number of Replay : 999 Play On Load :  
No Control Enable : Yes

Correct Marks : 3 Wrong Marks : 1

Question Label : Multiple Choice Question

Thirty-six nations have signed an open letter criticizing which nations' human rights record ?

36 देशों ने एक खुले पत्र में हस्ताक्षर कर किस देश के मानवाधिकारों से संबंधित स्थिति की आलोचना की है ?

Options :

Russia

1. रूस

Israel

2. इजरायल

Myanmar

3. म्यानमार

Saudi Arabia

4. सऊदी अरब

Question Number : 40 Question Id : 5431078802 Question Type : MCQ Option Shuffling : Yes Display Question Number : Yes  
Single Line Question Option : No Option Orientation : Vertical Allowed Progression : Yes Number of Replay : 999 Play On Load :  
No Control Enable : Yes

Correct Marks : 3 Wrong Marks : 1

Question Label : Multiple Choice Question

Prime Minister Narendra Modi released the new series of 'visually impaired friendly circulation' coins, which denomination coin be of 12-edged polygon shape ?

प्रधानमंत्री नरेन्द्र मोदी ने 'दृष्टिबाधित अनुकूल संचलन' सिक्कों को निर्गत किया है। 12 कोण वाले बहुभुज आकार का सिक्का कितने मूल्य का है ?

Options :

- Rs. 2  
1. 2 ₹  
Rs. 5  
2. 5 ₹  
Rs. 10  
3. 10 ₹  
Rs. 20  
4. 20 ₹

Question Number : 41 Question Id : 5431078803 Question Type : MCQ Option Shuffling : Yes Display Question Number : Yes  
Single Line Question Option : No Option Orientation : Vertical Allowed Progression : Yes Number of Replay : 999 Play On Load :  
No Control Enable : Yes

Correct Marks : 3 Wrong Marks : 1


Question Label : Multiple Choice Question



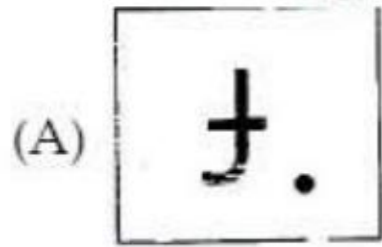
Which of the given answer figures is exactly the mirror image of the question figure if mirror is placed at AB ?

दी गयी उत्तर आकृतियों में से कौन-सी आकृति प्रश्नगत आकृति का दर्पण प्रतिबिम्ब है यदि दर्पण को AB पर रखा जाता है ?

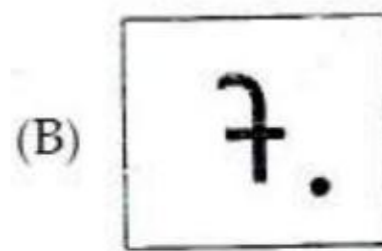
Question Figure/प्रश्नगत आकृति




Answer Figures/उत्तर आकृतियाँ



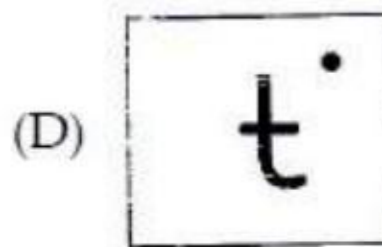
(A)



(B)



(C)



(D)

Options :

1. A
2. B
3. C
4. D

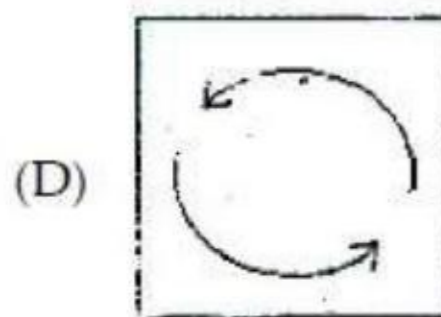
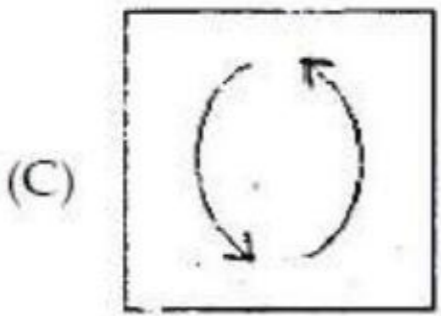
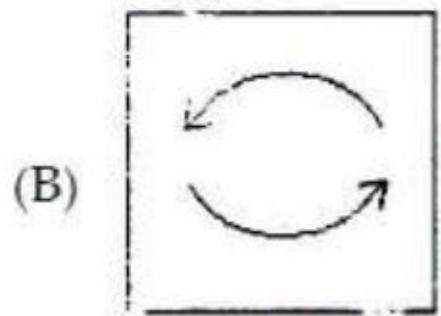
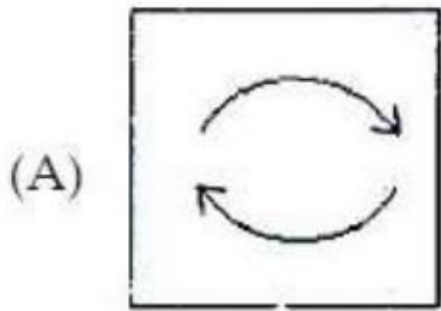
Question Number : 42 Question Id : 5431078804 Question Type : MCQ Option Shuffling : Yes Display Question Number : Yes  
Single Line Question Option : No Option Orientation : Vertical Allowed Progression : Yes Number of Replay : 999 Play On Load :  
No Control Enable : Yes

Correct Marks : 3 Wrong Marks : 1

Question Label : Multiple Choice Question

Out of the given four figures, three are similar in a certain way. One figure is not like the other three. That means three figures form a group. The question is which one of the figures does not belong to this group ?

दी गयी चार आकृतियों में से तीन कतिपय प्रकार से समान हैं। एक आकृति अन्य तीन के समान नहीं है। इसका अर्थ यह है कि तीन आकृतियाँ समूह बनाती हैं। प्रश्न यह है कि कौन-सी एक आकृति इस समूह से संबंधित नहीं है ?



Options :

1. A
2. B
3. C
4. D



Question Number : 43 Question Id : 5431078805 Question Type : MCQ Option Shuffling : Yes Display Question Number : Yes  
Single Line Question Option : No Option Orientation : Vertical Allowed Progression : Yes Number of Replay : 999 Play On Load :  
No Control Enable : Yes

Correct Marks : 3 Wrong Marks : 1

Question Label : Multiple Choice Question

Rahul put his watch on the table in such a way that at 6 P.M., hour hand points to North. In which direction the minute hand will point at 9.15 P.M. ?

राहुल अपनी घड़ी को इस प्रकार मेज पर रखता है जिससे 6 बजे अपराह्न घंटे की सूई उत्तर की ओर संकेत करती है। किस दिशा में मिनट की सुई 9:15 बजे रात में संकेत करेगी ?

Options :

- South-East
- 1. दक्षिण-पूर्व
  
- South
- 2. दक्षिण
  
- North
- 3. उत्तर
  
- West
- 4. पश्चिम

Question Number : 44 Question Id : 5431078806 Question Type : MCQ Option Shuffling : Yes Display Question Number : Yes  
Single Line Question Option : No Option Orientation : Vertical Allowed Progression : Yes Number of Replay : 999 Play On Load :  
No Control Enable : Yes

Correct Marks : 3 Wrong Marks : 1

Question Label : Multiple Choice Question

Two cars start from the opposite places of a main road, 150 km apart. First car runs for 25 km and takes a right turn and then runs 15 km. It then turns left and then runs for another 25 km and then takes the direction back to reach the main road. In the mean time, due to minor break down the other car has run only 35 km along the main road. What would be the distance between two cars at this point ?

दो कार 150 किमी० अलग प्रमुख सड़क के विपरीत स्थानों से चलती हैं। पहली कार 25 किमी० चलती है तथा दायें मोड़ लेती है तथा तत्पश्चात 15 किमी० चलती है। इसके बाद यह बायें मुड़ती है एवं तत्पश्चात 25 किमी० और चलती है तथा इसके बाद प्रमुख सड़क तक पहुँचने के लिए पीछे की दिशा में चलती है। इस बीच थोड़ी सी खराबी के कारण दूसरी कार प्रमुख सड़क पर केवल माप 35 किमी० चली है। इस स्थान पर दोनों कार के बीच की दूरी क्या होगी ?

Options :

- 65 km
- 1. 65 किमी०
  
- 75 km
- 2. 75 किमी०



80 km

3. 80 किमी०

85 km

4. 85 किमी०

Question Number : 45 Question Id : 5431078807 Question Type : MCQ Option Shuffling : Yes Display Question Number : Yes  
Single Line Question Option : No Option Orientation : Vertical Allowed Progression : Yes Number of Replay : 999 Play On Load :  
No Control Enable : Yes

Correct Marks : 3 Wrong Marks : 1

Question Label : Multiple Choice Question

The length and breadth of a room are 8 m and 6 m respectively. A cat runs straight along all the four walls and finally along a diagonal order to catch a rat. How much total distance is covered by the cat ?

कमरे की लम्बाई एवं चौड़ाई क्रमशः 8 मी० एवं 6 मी० है। एक बिल्ली सभी चार दीवारों और अन्त में एक विकर्ण पर क्षैतिज रूप से एक चूहा पकड़ने के लिये दौड़ती है। बिल्ली द्वारा कुल कितनी दूरी तय की जाती है ?

Options :

10 m

1. 10 मी०

14 m

2. 14 मी०

38 m

3. 38 मी०

48 m

4. 48 मी०

Question Number : 46 Question Id : 5431078808 Question Type : MCQ Option Shuffling : Yes Display Question Number : Yes  
Single Line Question Option : No Option Orientation : Vertical Allowed Progression : Yes Number of Replay : 999 Play On Load :  
No Control Enable : Yes

Correct Marks : 3 Wrong Marks : 1

Question Label : Multiple Choice Question

If  $A \times B$  means A is to the south of B ;  $A + B$  means A is to the north of B ;  $A \% B$  means A is to the east of B ;  $A - B$  means A is to the west of B, then in  $P \% Q + R - S$ , S is in which direction with respect to Q ?

यदि  $A \times B$  का मतलब A जो B के दक्षिण है,  $A + B$  का मतलब A जो B के उत्तर है,  $A \% B$  का मतलब A जो B के पूरब है,  $A - B$  का मतलब A जो B के पश्चिम है, तब  $P \% Q + R - S$ , में S, Q से किस दिशा में है ?

Options :



- South-West  
1. दक्षिण-पश्चिम
- South-East  
2. दक्षिण-पूर्व
- North-East  
3. उत्तर-पूर्व
- North-West  
4. उत्तर-पश्चिम

Question Number : 47 Question Id : 5431078809 Question Type : MCQ Option Shuffling : Yes Display Question Number : Yes  
Single Line Question Option : No Option Orientation : Vertical Allowed Progression : Yes Number of Replay : 999 Play On Load :  
No Control Enable : Yes

Correct Marks : 3 Wrong Marks : 1

Question Label : Multiple Choice Question

Early morning after sunrise, Karthik was standing in front of his house in such a way that his shadow was falling exactly behind him. He starts walking straight and walks 5 metres. He turns to his left and walks 3 metres and again turning to his left walks 2 metres. Now in which direction is he from his starting point ?

तड़के सूर्योदय के बाद कार्तिक अपने घर के सामने इस तरह से खड़ा था जिससे इसकी परछाई ठीक इसके पीछे पड़ रही थी। वह सीधे चलना आरंभ करता है तथा 5 मी० चलता है। वह अपने बायें मुड़ता है एवं 3 मी० चलता है तथा पुनः अपने बायें मुड़कर 2 मी० चलता है। अब वह अपने आरंभिक स्थान से किस दिशा में है ?

Options :

- West  
1. पश्चिम
- North-East  
2. उत्तर-पूर्व
- East  
3. पूर्व

South-West

4. दक्षिण-पश्चिम

Question Number : 48 Question Id : 5431078810 Question Type : MCQ Option Shuffling : Yes Display Question Number : Yes  
Single Line Question Option : No Option Orientation : Vertical Allowed Progression : Yes Number of Replay : 999 Play On Load :  
No Control Enable : Yes

Correct Marks : 3 Wrong Marks : 1

Question Label : Multiple Choice Question

In a certain code, '289' means 'read from paper' ; '276' means 'tea from field' and '85' means 'wall paper'. Which of the following is the code for 'paper' ?

एक निश्चित कूट में '289' का मतलब 'पेपर से पढ़ना' है, '276' का मतलब 'खेत से चाय' है एवं '85' का मतलब 'दीवारी कागज' है। निम्न में से कौन 'पेपर' हेतु कूट है ?

Options :

1. 2

2. 8

3. 9

Can't be determined

4. निर्धारित नहीं किया जा सकता है

Question Number : 49 Question Id : 5431078811 Question Type : MCQ Option Shuffling : Yes Display Question Number : Yes  
Single Line Question Option : No Option Orientation : Vertical Allowed Progression : Yes Number of Replay : 999 Play On Load :  
No Control Enable : Yes

Correct Marks : 3 Wrong Marks : 1

Question Label : Multiple Choice Question

If E = 5 and READ is coded as 7, then what is the code of DEAR ?

यदि E = 5 एवं READ 7 के रूप में कूटकृत हैं, तब DEAR का कूट क्या है ?

Options :

1. 6

2. 7

3. 8

4. 9

Question Number : 50 Question Id : 5431078812 Question Type : MCQ Option Shuffling : Yes Display Question Number : Yes  
Single Line Question Option : No Option Orientation : Vertical Allowed Progression : Yes Number of Replay : 999 Play On Load :  
No Control Enable : Yes



Correct Marks : 3 Wrong Marks : 1

Question Label : Multiple Choice Question

Choose Odd one out of the options :

विकल्पों में से विषम को चुनिए :

Options :

1. PSQR

2. SVUT

3. MNPQ

4. MNML

Question Number : 51 Question Id : 5431078813 Question Type : MCQ Option Shuffling : Yes Display Question Number : Yes  
Single Line Question Option : No Option Orientation : Vertical Allowed Progression : Yes Number of Replay : 999 Play On Load :  
No Control Enable : Yes

Correct Marks : 3 Wrong Marks : 1

Question Label : Multiple Choice Question

There are seven persons P, Q, R, S, T, U and V up on a ladder (not in this order).

P is further up than T but is lower than R. Q is in the middle. V is between P and Q. T is between Q and U. If U is between T and S, the person on the bottom step of the ladder will be :

एक सीढ़ी पर ऊपर सात व्यक्ति P, Q, R, S, T, U और V हैं (इस क्रम में नहीं हैं)। P, T की अपेक्षा आगे ऊपर है लेकिन R की अपेक्षा नीचे है। Q मध्य में है। V, P एवं Q के बीच है। T, Q एवं U के बीच है। यदि U, T एवं S के बीच है, तो सीढ़ी के निचले सोपान पर व्यक्ति होगा :

Options :

1. S

2. R

3. U

4. T

Question Number : 52 Question Id : 5431078814 Question Type : MCQ Option Shuffling : Yes Display Question Number : Yes  
Single Line Question Option : No Option Orientation : Vertical Allowed Progression : Yes Number of Replay : 999 Play On Load :  
No Control Enable : Yes

Correct Marks : 3 Wrong Marks : 1

Question Label : Multiple Choice Question

If you write down all the numbers from 1 to 100, then how many times do you write 3 ?

यदि आप 1 से 100 तक सभी संख्याएँ लिखते हैं, तो आप कितनी बार 3 लिखते हैं ?

Options :

1. 11
2. 18
3. 20
4. 21

Question Number : 53 Question Id : 5431078815 Question Type : MCQ Option Shuffling : Yes Display Question Number : Yes  
Single Line Question Option : No Option Orientation : Vertical Allowed Progression : Yes Number of Replay : 999 Play On Load :  
No Control Enable : Yes

Correct Marks : 3 Wrong Marks : 1

Question Label : Multiple Choice Question

Today is Varun's birthday. One year, from today he will be twice as old as he was 12 years ago. How old is Varun today ?

आज वरुण का जन्मदिन है। आज से एक वर्ष बाद, वह दोगुनी उम्र का होगा जितना वह 12 वर्ष पहले था। आज वरुण की उम्र क्या है ?

Options :

1. 20 years  
20 वर्ष
2. 22 years  
22 वर्ष
3. 25 years  
25 वर्ष
4. 27 years  
27 वर्ष

Question Number : 54 Question Id : 5431078816 Question Type : MCQ Option Shuffling : Yes Display Question Number : Yes  
Single Line Question Option : No Option Orientation : Vertical Allowed Progression : Yes Number of Replay : 999 Play On Load :  
No Control Enable : Yes

Correct Marks : 3 Wrong Marks : 1

Question Label : Multiple Choice Question



Ayush was born two years after his father's marriage. His mother is five years younger than his father but 20 years older than Ayush who is 10 years old. At what age did the father get married ?

आयुष अपने पिता के विवाह के दो वर्ष बाद पैदा हुआ था। इसकी माँ इसके पिता से पाँच वर्ष छोटी हैं लेकिन आयुष से 20 वर्ष बड़ी हैं जो 10 वर्ष का है। किस उम्र में पिता का विवाह हुआ था ?

**Options :**

1. 23 years
2. 25 वर्ष
3. 33 years
4. 35 वर्ष

**Question Number : 55 Question Id : 5431078817 Question Type : MCQ Option Shuffling : Yes Display Question Number : Yes Single Line Question Option : No Option Orientation : Vertical Allowed Progression : Yes Number of Replay : 999 Play On Load : No Control Enable : Yes**

**Correct Marks : 3 Wrong Marks : 1**

Question Label : Multiple Choice Question

In a group of persons travelling in a bus, 6 persons can speak Tamil, 15 can speak Hindi and 6 can speak Gujarati, in that group, none can speak any other language. If 2 persons in the group can speak two languages and one person can speak all the three languages, then how many persons are there in the group ?

बस में यात्रा कर रहे व्यक्तियों के समूह में, 6 व्यक्ति तमिल बोल सकते हैं, 15 हिन्दी बोल सकते हैं एवं 6 गुजराती बोल सकते हैं, इस समूह में कोई किसी अन्य भाषा को नहीं बोल सकता है। यदि समूह में 2 व्यक्ति दो भाषाएँ बोल सकते हैं एवं एक व्यक्ति सभी तीनों भाषाएँ बोल सकता है, तो समूह में कितने व्यक्ति हैं ?

**Options :**

1. 21

2. 22

3. 23

4. 24




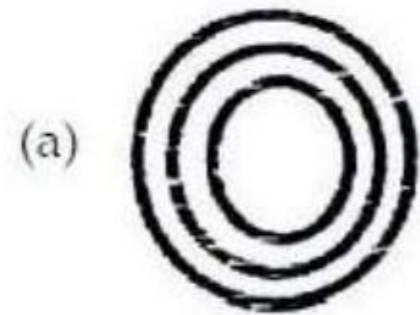
Question Number : 56 Question Id : 5431078818 Question Type : MCQ Option Shuffling : Yes Display Question Number : Yes  
Single Line Question Option : No Option Orientation : Vertical Allowed Progression : Yes Number of Replay : 999 Play On Load :  
No Control Enable : Yes

Correct Marks : 3 Wrong Marks : 1

Question Label : Multiple Choice Question

Which of the following Venn-diagram correctly illustrate the relationship among the classes : *Carrot, Food, Vegetables* ?

निम्न में से कौन-सा वेन-आरेख श्रेणियों : गाजर, भोजन, सब्जियाँ में सही-सही संबंध स्पष्ट करता है



Options :

1. (a)

2. (b)

3. (c)

4. (d)

Question Number : 57 Question Id : 5431078819 Question Type : MCQ Option Shuffling : Yes Display Question Number : Yes  
Single Line Question Option : No Option Orientation : Vertical Allowed Progression : Yes Number of Replay : 999 Play On Load :  
No Control Enable : Yes

Correct Marks : 3 Wrong Marks : 1

Question Label : Multiple Choice Question



Three of the following four are alike in a certain way and so form a group.  
Which one does not belong to that group ?

निम्न चार में से तीन एक निश्चित तरीके से समान हैं तथा इस प्रकार एक समूह बनाते हैं। निम्न में से कौन-सा एक उस समूह से संबंधित नहीं है ?

- |                   |                   |                 |                |
|-------------------|-------------------|-----------------|----------------|
| (a) Tooth<br>दांत | (b) Chin<br>ठोड़ी | (c) Nose<br>नाक | (d) Ear<br>कान |
|-------------------|-------------------|-----------------|----------------|

Options :

1. (a)
2. (b)
3. (c)
4. (d)

Question Number : 58 Question Id : 5431078820 Question Type : MCQ Option Shuffling : Yes Display Question Number : Yes  
Single Line Question Option : No Option Orientation : Vertical Allowed Progression : Yes Number of Replay : 999 Play On Load :  
No Control Enable : Yes

Correct Marks : 3 Wrong Marks : 1

Question Label : Multiple Choice Question

Find the odd one out :

विषम का पता लगाइए :

Options :

- |    |                                |
|----|--------------------------------|
| 1. | Flower ; Petal<br>फूल ; पंखड़ी |
| 2. | Circle ; Arch<br>वृत्त ; चाप   |
| 3. | Cover ; Page<br>जिल्द ; पन्ना  |
| 4. | Chair ; Leg<br>कुर्सी ; पैर    |

Question Number : 59 Question Id : 5431078821 Question Type : MCQ Option Shuffling : Yes Display Question Number : Yes  
Single Line Question Option : No Option Orientation : Vertical Allowed Progression : Yes Number of Replay : 999 Play On Load :  
No Control Enable : Yes

Correct Marks : 3 Wrong Marks : 1

Question Label : Multiple Choice Question

Arrange the following in a logical order :

निम्न को तार्किक क्रम से व्यवस्थित कीजिए :

- (1) Shoulder (2) Wrist (3) Elbow (4) Palm (5) Finger  
कंधा कलाई कुहनी हथेली अंगुली

Options :

1. 2, 4, 5, 3, 1
2. 3, 1, 4, 2, 5
3. 3, 4, 5, 2, 1
4. 5, 4, 2, 3, 1

Question Number : 60 Question Id : 5431078822 Question Type : MCQ Option Shuffling : Yes Display Question Number : Yes  
Single Line Question Option : No Option Orientation : Vertical Allowed Progression : Yes Number of Replay : 999 Play On Load :  
No Control Enable : Yes

Correct Marks : 3 Wrong Marks : 1

Question Label : Multiple Choice Question

The LCM of two integers is 1237. What is their HCF ?

दो पूर्णांकों का लघुत्तम समापवर्तक 1237 है, तो उनका महत्तम समापवर्तक होगा :

Options :

1. 37
2. 19
3. 1
4. None of the three  
तीनों में से कोई नहीं

Question Number : 61 Question Id : 5431078823 Question Type : MCQ Option Shuffling : Yes Display Question Number : Yes  
Single Line Question Option : No Option Orientation : Vertical Allowed Progression : Yes Number of Replay : 999 Play On Load :  
No Control Enable : Yes

Correct Marks : 3 Wrong Marks : 1

Question Label : Multiple Choice Question

The LCM and HCF of two number  $x$  and  $y$  are 3 and 105 respectively. If  $x + y = 36$ ,

the value of  $\frac{1}{x} + \frac{1}{y}$  is :

दो संख्याएँ  $x$  तथा  $y$  के लघुत्तम एवं महत्तम समापवर्तक क्रमशः 3 तथा 105 है। यदि  $x + y = 36$ ,

तो  $\frac{1}{x} + \frac{1}{y}$  का मान होगा :

Options :



1.  $1$

2.  $\frac{1}{6}$

3.  $\frac{12}{315}$

4.  $\frac{4}{35}$

Question Number : 62 Question Id : 5431078824 Question Type : MCQ Option Shuffling : Yes Display Question Number : Yes  
Single Line Question Option : No Option Orientation : Vertical Allowed Progression : Yes Number of Replay : 999 Play On Load :  
No Control Enable : Yes

Correct Marks : 3 Wrong Marks : 1

Question Label : Multiple Choice Question

Two 3 digit numbers have their HCF 29 and LCM 4147. The sum of the numbers is :

तीन अंकों वाली दो संख्याओं का महत्तम समापवर्तक 29 तथा लघुत्तम समापवर्तक 4147 हैं।  
दोनों संख्याओं का योग होगा :

Options :

1. 666

2. 669

3. 696

4. 966

Question Number : 63 Question Id : 5431078825 Question Type : MCQ Option Shuffling : Yes Display Question Number : Yes  
Single Line Question Option : No Option Orientation : Vertical Allowed Progression : Yes Number of Replay : 999 Play On Load :  
No Control Enable : Yes

Correct Marks : 3 Wrong Marks : 1

Question Label : Multiple Choice Question

$9 - 1\frac{2}{9}$  of  $3\frac{3}{11} \div 5\frac{1}{7}$  of  $\frac{7}{9} = \dots\dots\dots$

$9 - 1\frac{2}{9}$  का  $3\frac{3}{11} \div 5\frac{1}{7}$  का  $\frac{7}{9} = \dots\dots\dots$

Options :

1.  $1\frac{1}{4}$

2. 8

3.  $8\frac{32}{81}$

4. 9

Question Number : 64 Question Id : 5431078826 Question Type : MCQ Option Shuffling : Yes Display Question Number : Yes  
Single Line Question Option : No Option Orientation : Vertical Allowed Progression : Yes Number of Replay : 999 Play On Load :  
No Control Enable : Yes

Correct Marks : 3 Wrong Marks : 1

Question Label : Multiple Choice Question

If  $\frac{1}{1 + \frac{1}{1 + \frac{1}{x}}} = 2$ , then  $x = 0$  :

यदि  $\frac{1}{1 + \frac{1}{1 + \frac{1}{x}}} = 2$ , तो  $x = 0$  :

Options :

1.  $-\frac{1}{3}$

2. -1

3.  $\frac{1}{3}$

4. 1

Question Number : 65 Question Id : 5431078827 Question Type : MCQ Option Shuffling : Yes Display Question Number : Yes  
Single Line Question Option : No Option Orientation : Vertical Allowed Progression : Yes Number of Replay : 999 Play On Load :  
No Control Enable : Yes

Correct Marks : 3 Wrong Marks : 1

Question Label : Multiple Choice Question

If  $\alpha = \sqrt{3 + \sqrt{3 + \sqrt{3 + \dots \infty}}}$  then which of the following is true ?

यदि  $\alpha = \sqrt{3 + \sqrt{3 + \sqrt{3 + \dots \infty}}}$  तो निम्न में कौन सही है ?

Options :

1.  $\alpha = 3$

2.  $3 < \alpha < 4$



3.  $\alpha > 3$

4.  $2 < \alpha < 3$

Question Number : 66 Question Id : 5431078828 Question Type : MCQ Option Shuffling : Yes Display Question Number : Yes  
Single Line Question Option : No Option Orientation : Vertical Allowed Progression : Yes Number of Replay : 999 Play On Load :  
No Control Enable : Yes

Correct Marks : 3 Wrong Marks : 1

Question Label : Multiple Choice Question

Value of  $\sqrt{0.2}$  will be :

$\sqrt{0.2}$  का मान होगा :

Options :

1. 0.02

2. 0.2

3. 0.446

4. 0.632

Question Number : 67 Question Id : 5431078829 Question Type : MCQ Option Shuffling : Yes Display Question Number : Yes  
Single Line Question Option : No Option Orientation : Vertical Allowed Progression : Yes Number of Replay : 999 Play On Load :  
No Control Enable : Yes

Correct Marks : 3 Wrong Marks : 1

Question Label : Multiple Choice Question

If  $9\sqrt{x} = \sqrt{12} + \sqrt{147}$  then  $x$  is equal to :

यदि  $9\sqrt{x} = \sqrt{12} + \sqrt{147}$  तो  $x$  का मान होगा :

Options :

1. 5

2. 3

3. 2

4. 4

Question Number : 68 Question Id : 5431078830 Question Type : MCQ Option Shuffling : Yes Display Question Number : Yes  
Single Line Question Option : No Option Orientation : Vertical Allowed Progression : Yes Number of Replay : 999 Play On Load :  
No Control Enable : Yes

Correct Marks : 3 Wrong Marks : 1

Question Label : Multiple Choice Question

Average of two numbers is 6.5 and square root of their product is 6. What are the numbers ?

दो संख्याओं का औसत 6.5 तथा उनके गुणनफल का वर्गमूल 6 है। संख्याएँ होंगी :

Options :

3 and 5

1. 3 तथा 5

9 and 4

2. 9 तथा 4

10 and 3

3. 10 तथा 3

11 and 2

4. 11 तथा 2

Question Number : 69 Question Id : 5431078831 Question Type : MCQ Option Shuffling : Yes Display Question Number : Yes  
Single Line Question Option : No Option Orientation : Vertical Allowed Progression : Yes Number of Replay : 999 Play On Load :  
No Control Enable : Yes

Correct Marks : 3 Wrong Marks : 1

Question Label : Multiple Choice Question

If the difference between the average of  $x, y$  and  $y, z$  is 12, then what is the difference between  $x$  and  $z$  ?

$x, y$  तथा  $y, z$  के औसतों का अन्तर 12 है,  $x$  तथा  $z$  के बीच अन्तर होगा :

Options :

1. 24

2. 48

3. 12

4. 6

Question Number : 70 Question Id : 5431078832 Question Type : MCQ Option Shuffling : Yes Display Question Number : Yes  
Single Line Question Option : No Option Orientation : Vertical Allowed Progression : Yes Number of Replay : 999 Play On Load :  
No Control Enable : Yes

Correct Marks : 3 Wrong Marks : 1

Question Label : Multiple Choice Question

X is 36 years old and Y is 16 years. In how many years will X be twice as old as Y ?

X की उम्र 36 वर्ष है जबकि Y की उम्र 16 वर्ष है। कितने वर्षों में X की उम्र Y से दो गुनी हो जायेगी ?

Options :

1 year

1. 1 वर्ष



- 2 years  
2. 2 वर्ष
- 3 years  
3. 3 वर्ष
- 4 years  
4. 4 वर्ष

Question Number : 71 Question Id : 5431078833 Question Type : MCQ Option Shuffling : Yes Display Question Number : Yes  
Single Line Question Option : No Option Orientation : Vertical Allowed Progression : Yes Number of Replay : 999 Play On Load :  
No Control Enable : Yes

Correct Marks : 3 Wrong Marks : 1

Question Label : Multiple Choice Question

Rajeev's age after 15 years will be 5 times his age 5 years back. What is the present age of Rajeev ?

राजीव की उम्र 15 वर्ष बाद उसके 5 वर्ष पूर्व के आयु की 5 गुना होगी। राजीव की वर्तमान आयु क्या है ?

Options :

- 5 years  
1. 5 वर्ष
- 10 years  
2. 10 वर्ष
- 15 years  
3. 15 वर्ष
- 50 years  
4. 50 वर्ष

Question Number : 72 Question Id : 5431078834 Question Type : MCQ Option Shuffling : Yes Display Question Number : Yes  
Single Line Question Option : No Option Orientation : Vertical Allowed Progression : Yes Number of Replay : 999 Play On Load :  
No Control Enable : Yes

Correct Marks : 3 Wrong Marks : 1

Question Label : Multiple Choice Question

Find value of  $\frac{(243)^{\frac{n}{5}} \times 3^{2n+1}}{9^n \times 3^{n-1}}$  :

$\frac{(243)^{\frac{n}{5}} \times 3^{2n+1}}{9^n \times 3^{n-1}}$  का मान ज्ञात कीजिए :

Options :

1. 3

2. 6

3. 9

4. 12

Question Number : 73 Question Id : 5431078835 Question Type : MCQ Option Shuffling : Yes Display Question Number : Yes  
Single Line Question Option : No Option Orientation : Vertical Allowed Progression : Yes Number of Replay : 999 Play On Load :  
No Control Enable : Yes

Correct Marks : 3 Wrong Marks : 1

Question Label : Multiple Choice Question

Find the largest among  $\sqrt[4]{5}$ ,  $\sqrt[6]{3}$ ,  $\sqrt{2}$  and  $\sqrt[3]{4}$  :

$\sqrt[4]{5}$ ,  $\sqrt[6]{3}$ ,  $\sqrt{2}$  तथा  $\sqrt[3]{4}$  में कौन सबसे बड़ा है ?

Options :

1.  $\sqrt{2}$

2.  $\sqrt[3]{4}$

3.  $\sqrt[4]{5}$

4.  $\sqrt[6]{3}$

Question Number : 74 Question Id : 5431078836 Question Type : MCQ Option Shuffling : Yes Display Question Number : Yes  
Single Line Question Option : No Option Orientation : Vertical Allowed Progression : Yes Number of Replay : 999 Play On Load :  
No Control Enable : Yes

Correct Marks : 3 Wrong Marks : 1

Question Label : Multiple Choice Question

If  $x = 3 + 2\sqrt{2}$  then  $\left(x^4 + \frac{1}{x^4}\right)$  will be :

यदि  $x = 3 + 2\sqrt{2}$  तो  $\left(x^4 + \frac{1}{x^4}\right)$  का मान होगा :

Options :

1. 1154

2. 1024

3. 1734

None of the three

4. तीनों में से कोई नहीं



Question Number : 75 Question Id : 5431078837 Question Type : MCQ Option Shuffling : Yes Display Question Number : Yes  
Single Line Question Option : No Option Orientation : Vertical Allowed Progression : Yes Number of Replay : 999 Play On Load :  
No Control Enable : Yes

Correct Marks : 3 Wrong Marks : 1

Question Label : Multiple Choice Question

A mixture of 20 kg of sprit and water contains 10% water. How much water must be added to this mixture to raise the percentage of water to 25% ?

20 कि०ग्रा० स्प्रिट एवं पानी के मिश्रण में 10% पानी है। इस मिश्रण में कितना पानी मिला दिया जाय कि पानी का प्रतिशत बढ़कर 25% हो जाए ?

Options :

1. 4 kg  
4 कि०ग्रा०
2. 5 kg  
5 कि०ग्रा०
3. 8 kg  
8 कि०ग्रा०
4. 30 kg  
30 कि०ग्रा०

Question Number : 76 Question Id : 5431078838 Question Type : MCQ Option Shuffling : Yes Display Question Number : Yes  
Single Line Question Option : No Option Orientation : Vertical Allowed Progression : Yes Number of Replay : 999 Play On Load :  
No Control Enable : Yes

Correct Marks : 3 Wrong Marks : 1

Question Label : Multiple Choice Question

The radius of a circle is increased by 1%, the percentage increase in area is :

वृत्त के त्रिज्या में 1% की वृद्धि करने पर, कितने प्रतिशत की बढ़ोत्तरी उसके क्षेत्रफल में हो जायेगी ?

Options :

1. 1%
2. 1.1%
3. 2%
4. 2.01%

Question Number : 77 Question Id : 5431078839 Question Type : MCQ Option Shuffling : Yes Display Question Number : Yes  
Single Line Question Option : No Option Orientation : Vertical Allowed Progression : Yes Number of Replay : 999 Play On Load :  
No Control Enable : Yes

Correct Marks : 3 Wrong Marks : 1

Question Label : Multiple Choice Question

One litre of water is evaporated from 6 litres of a solution containing 5% salt, the percentage of salt in remaining solution is :

6 लीटर घोल में 5% नमक है, इसमें से एक लीटर पानी वाष्प बन कर उड़ जाता है, बचे हुए घोल में नमक का प्रतिशत होगा :

Options :

1.  $4\frac{4}{9}\%$

2.  $5\frac{5}{7}\%$

3. 5%

4. 6%

Question Number : 78 Question Id : 5431078840 Question Type : MCQ Option Shuffling : Yes Display Question Number : Yes  
Single Line Question Option : No Option Orientation : Vertical Allowed Progression : Yes Number of Replay : 999 Play On Load :  
No Control Enable : Yes

Correct Marks : 3 Wrong Marks : 1

Question Label : Multiple Choice Question

A single discount equivalent to successive discounts 30%, 20% and 10% is :

क्रमागत छूट 30%, 20% तथा 10% के बराबर एक छूट होगी :

Options :

1. 50%

2. 51%

3. 49.4%

4. 49.6%

Question Number : 79 Question Id : 5431078841 Question Type : MCQ Option Shuffling : Yes Display Question Number : Yes  
Single Line Question Option : No Option Orientation : Vertical Allowed Progression : Yes Number of Replay : 999 Play On Load :  
No Control Enable : Yes

Correct Marks : 3 Wrong Marks : 1

Question Label : Multiple Choice Question

What price should a shopkeeper mark on an article costing him ₹ 153 to gain 20%, after allowing a discount of 15% ?

एक दुकानदार अपने वस्तु पर क्या कीमत अंकित करे जिससे उसको 20% का लाभ हो जबकि उसका क्रय मूल्य ₹ 153 है, बिक्री पर 15% की छूट भी देता है ?

Options :

1. ₹ 162



2. ₹ 184
3. ₹ 216
4. ₹ 224

Question Number : 80 Question Id : 5431078842 Question Type : MCQ Option Shuffling : Yes Display Question Number : Yes  
Single Line Question Option : No Option Orientation : Vertical Allowed Progression : Yes Number of Replay : 999 Play On Load :  
No Control Enable : Yes

Correct Marks : 3 Wrong Marks : 1

Question Label : Multiple Choice Question

A shopkeeper bought 8 pens for ₹ 34 and sold 12 pens for ₹ 57, the number of pens, that he should sell to have a profit of ₹ 900, must be :

एक दुकानदार 8 पेन ₹ 34 की दर से खरीदकर 12 पेन ₹ 57 में बेचता है। ₹ 900 का लाभांश प्राप्त करने हेतु कुल कितने पेन उसे बेचने पड़ेंगे ?

Options :

1. 1400
2. 1600
3. 1800
4. 2000

Question Number : 81 Question Id : 5431078843 Question Type : MCQ Option Shuffling : Yes Display Question Number : Yes  
Single Line Question Option : No Option Orientation : Vertical Allowed Progression : Yes Number of Replay : 999 Play On Load :  
No Control Enable : Yes

Correct Marks : 3 Wrong Marks : 1

Question Label : Multiple Choice Question

If  $5x^2 - 13xy + 6y^2 = 0$  then  $x : y = ?$

यदि  $5x^2 - 13xy + 6y^2 = 0$  तो  $x : y$  का मान है :

Options :

1. (5 : 3) or (1 : 2)  
(5 : 3) या (1 : 2)
2. (3 : 5) or (2 : 1)  
(3 : 5) या (2 : 1)
3. only (2 : 1)  
केवल (2 : 1)
4. only (3 : 5)  
केवल (3 : 5)

Question Number : 82 Question Id : 5431078844 Question Type : MCQ Option Shuffling : Yes Display Question Number : Yes  
Single Line Question Option : No Option Orientation : Vertical Allowed Progression : Yes Number of Replay : 999 Play On Load :  
No Control Enable : Yes

Correct Marks : 3 Wrong Marks : 1

Question Label : Multiple Choice Question

Mean proportional to 0.32 and 0.02 is :

0.32 तथा 0.02 का मध्यानुपात होगा :

Options :

1. 0.17
2. 0.08
3. 0.008
4. 0.4

Question Number : 83 Question Id : 5431078845 Question Type : MCQ Option Shuffling : Yes Display Question Number : Yes  
Single Line Question Option : No Option Orientation : Vertical Allowed Progression : Yes Number of Replay : 999 Play On Load :  
No Control Enable : Yes

Correct Marks : 3 Wrong Marks : 1

Question Label : Multiple Choice Question

A circle and a square have the same area. The ratio of the side of the square and the radius of the circle is :

एक वृत्त तथा एक वर्ग का क्षेत्रफल समान है। वर्ग के भुजा का अनुपात वृत्त के अर्द्धव्यास के साथ होगा :

Options :

1.  $\sqrt{\pi} : 1$
2.  $1 : \sqrt{\pi}$
3.  $\pi : 1$
4.  $1 : \pi$

Question Number : 84 Question Id : 5431078846 Question Type : MCQ Option Shuffling : Yes Display Question Number : Yes  
Single Line Question Option : No Option Orientation : Vertical Allowed Progression : Yes Number of Replay : 999 Play On Load :  
No Control Enable : Yes

Correct Marks : 3 Wrong Marks : 1

Question Label : Multiple Choice Question

A and B are partners in a business. A contributes  $\frac{1}{4}$  of the capital for 15 months

and B received  $\frac{2}{3}$  of the profit. Find for how long B's money was used :

एक व्यापार में A तथा B साझेदार हैं। A कुल लागत का  $\frac{1}{4}$  धन 15 महीनों के लिए लगाता है

तथा B लाभ का  $\frac{2}{3}$  भाग प्राप्त करता है। B ने कुल कितने माह के लिए धन लगाया ?



Options :

1. 6 months  
6 महीने
2. 9 months  
9 महीने
3. 10 months  
10 महीने
4. 1 year  
1 वर्ष

Question Number : 85 Question Id : 5431078847 Question Type : MCQ Option Shuffling : Yes Display Question Number : Yes  
Single Line Question Option : No Option Orientation : Vertical Allowed Progression : Yes Number of Replay : 999 Play On Load :  
No Control Enable : Yes

Correct Marks : 3 Wrong Marks : 1

Question Label : Multiple Choice Question

A train of length 150 meters takes 40.5 seconds to cross a tunnel of length 300 meters. What is the speed of the train in km/hr ?

एक 150 मीटर लम्बी ट्रेन 300 मीटर लम्बे टनल को क्रॉस करने में 40.5 सेकण्ड लेती है। ट्रेन की चाल किमी/घण्टा में क्या है ?

Options :

1. 13.33
2. 11.11
3. 40.0
4. 60.0

Question Number : 86 Question Id : 5431078848 Question Type : MCQ Option Shuffling : Yes Display Question Number : Yes  
Single Line Question Option : No Option Orientation : Vertical Allowed Progression : Yes Number of Replay : 999 Play On Load :  
No Control Enable : Yes

Correct Marks : 3 Wrong Marks : 1

Question Label : Multiple Choice Question

A man sell his chair for Rs. 720. He loses 25%, to gain 25% he should sell it for :

एक आदमी अपनी कुर्सी 720 रु० में बेचता है। उसे 25% की हानि होती है, 25% लाभ प्राप्त करने के लिए, उसे कुर्सी को कितने में बेचना चाहिए ?

Options :

1. 1220

2. 1200
3. 960
4. 900

Question Number : 87 Question Id : 5431078849 Question Type : MCQ Option Shuffling : Yes Display Question Number : Yes  
Single Line Question Option : No Option Orientation : Vertical Allowed Progression : Yes Number of Replay : 999 Play On Load :  
No Control Enable : Yes

Correct Marks : 3 Wrong Marks : 1

Question Label : Multiple Choice Question

A total of 324 coins of 20 paise and 25 paise make a sum of Rs. 71. The number of 25 paise coins is :

20 पैसे व 25 पैसे के कुल 324 सिक्के 71 रु० बनाते हैं। 25 पैसे के सिक्कों की संख्या है :

Options :

1. 124
2. 144
3. 200
4. 120

Question Number : 88 Question Id : 5431078850 Question Type : MCQ Option Shuffling : Yes Display Question Number : Yes  
Single Line Question Option : No Option Orientation : Vertical Allowed Progression : Yes Number of Replay : 999 Play On Load :  
No Control Enable : Yes

Correct Marks : 3 Wrong Marks : 1

Question Label : Multiple Choice Question

A is 3 years older to B and 3 years younger to C, while B and D are twins. How many years older is C to D ?

A, B से 3 वर्ष बड़ा है तथा C से 3 साल छोटा है, जबकि B तथा D जुड़वा हैं। C, D से कितने वर्ष बड़ा है ?

Options :

1. 3
2. 6
3. 12
4. 2

Question Number : 89 Question Id : 5431078851 Question Type : MCQ Option Shuffling : Yes Display Question Number : Yes  
Single Line Question Option : No Option Orientation : Vertical Allowed Progression : Yes Number of Replay : 999 Play On Load :  
No Control Enable : Yes

Correct Marks : 3 Wrong Marks : 1

Question Label : Multiple Choice Question



A father is now 3 times as old as his son. Five years back he was 4 times as old as his son. The age of the son is :

एक पिता इस समय अपने पुत्र की आयु का 3 गुना है। पाँच वर्ष पहले वह अपने पुत्र की आयु का 4 गुना था। पुत्र की आयु है :

Options :

- 12 years
- 1. 12 वर्ष
- 15 years
- 2. 15 वर्ष
- 18 years
- 3. 18 वर्ष
- 20 years
- 4. 20 वर्ष

Question Number : 90 Question Id : 5431078852 Question Type : MCQ Option Shuffling : Yes Display Question Number : Yes  
Single Line Question Option : No Option Orientation : Vertical Allowed Progression : Yes Number of Replay : 999 Play On Load :  
No Control Enable : Yes

Correct Marks : 3 Wrong Marks : 1

Question Label : Multiple Choice Question

Next number in the following series 3, 7, 16, 35, 74, ..... is.

निम्नलिखित श्रृंखला 3, 7, 16, 35, 74, ..... में अगला अंक है।

Options :

- 1. 150
- 2. 153
- 3. 170
- 4. 148

Question Number : 91 Question Id : 5431078853 Question Type : MCQ Option Shuffling : Yes Display Question Number : Yes  
Single Line Question Option : No Option Orientation : Vertical Allowed Progression : Yes Number of Replay : 999 Play On Load :  
No Control Enable : Yes

Correct Marks : 3 Wrong Marks : 1

Question Label : Multiple Choice Question

There are 25 paise and 50 paise coins in a purse. Their number is 50 and value is Rs. 17.50. The number of 25 paise and 50 paise coins are respectively :

एक पर्स में 25 पैसे एवं 50 पैसे के सिक्के हैं। इनकी संख्या 50 है एवं इनका मान रु० 17.50 है। 25 पैसे एवं 50 पैसे के सिक्कों की संख्या क्रमशः है :

Options :

- 30 and 20
1. 30 एवं 20
- 20 and 30
2. 20 एवं 30
- 40 and 10
3. 40 एवं 10
- 25 and 25
4. 25 एवं 25

Question Number : 92 Question Id : 5431078854 Question Type : MCQ Option Shuffling : Yes Display Question Number : Yes  
Single Line Question Option : No Option Orientation : Vertical Allowed Progression : Yes Number of Replay : 999 Play On Load :  
No Control Enable : Yes

Correct Marks : 3 Wrong Marks : 1

Question Label : Multiple Choice Question

Which one of the following is in descending order ?

निम्नलिखित में से कौन घटते क्रम में है ?

Options :

1.  $\frac{15}{17}, \frac{14}{19}, \frac{17}{25}$
2.  $\frac{18}{25}, \frac{19}{27}, \frac{15}{19}$
3.  $\frac{16}{19}, \frac{17}{26}, \frac{17}{18}$
4.  $\frac{11}{17}, \frac{13}{18}, \frac{16}{19}$

Question Number : 93 Question Id : 5431078855 Question Type : MCQ Option Shuffling : Yes Display Question Number : Yes  
Single Line Question Option : No Option Orientation : Vertical Allowed Progression : Yes Number of Replay : 999 Play On Load :  
No Control Enable : Yes

Correct Marks : 3 Wrong Marks : 1

Question Label : Multiple Choice Question



A person travels 30 km by bicycle with 10 km each with speed of 20 km/hour, 15 km/hour and 25 km/hour, respectively. An average speed of the person is closest to :

एक व्यक्ति साइकिल से 30 कि०मी० चलता है। प्रत्येक 10 कि०मी० वह क्रमशः 20 कि०मी० प्रति घंटा, 15 कि०मी० प्रति घंटा एवं 25 कि०मी० प्रति घंटा की गति से चलता है। व्यक्ति की औसत गति इनमें से किसके करीब होगी :

Options :

1. 19.20 km/hour
2. 19.15 कि०मी० प्रति घंटा
3. 19.30 कि०मी० प्रति घंटा
4. 19.50 कि०मी० प्रति घंटा

Question Number : 94 Question Id : 5431078856 Question Type : MCQ Option Shuffling : Yes Display Question Number : Yes  
Single Line Question Option : No Option Orientation : Vertical Allowed Progression : Yes Number of Replay : 999 Play On Load : No Control Enable : Yes

Correct Marks : 3 Wrong Marks : 1

Question Label : Multiple Choice Question

Median of 3, 4, X and 10 is 5. The value of X is :

3, 4, X एवं 10 की माध्यिका 5 है। X का मान होगा :

Options :

1. 6
2. 5
3. 4
4. 7

Question Number : 95 Question Id : 5431078857 Question Type : MCQ Option Shuffling : Yes Display Question Number : Yes  
Single Line Question Option : No Option Orientation : Vertical Allowed Progression : Yes Number of Replay : 999 Play On Load : No Control Enable : Yes

Correct Marks : 3 Wrong Marks : 1

Question Label : Multiple Choice Question

Which of the following is different from others ?

इनमें से कौन दूसरों से भिन्न है ?

Options :

1. 17
2. 19
3. 7
4. 21

Question Number : 96 Question Id : 5431078858 Question Type : MCQ Option Shuffling : Yes Display Question Number : Yes  
Single Line Question Option : No Option Orientation : Vertical Allowed Progression : Yes Number of Replay : 999 Play On Load :  
No Control Enable : Yes

Correct Marks : 3 Wrong Marks : 1

Question Label : Multiple Choice Question

If  $(X - Y) = 1$  and  $XY = 0$ , then  $X^3 - Y^3$  is :

यदि  $(X - Y) = 1$  एवं  $XY = 0$ , तो  $X^3 - Y^3$  का मान है :

Options :

1. 0
2. 1
3. 2
4. 3

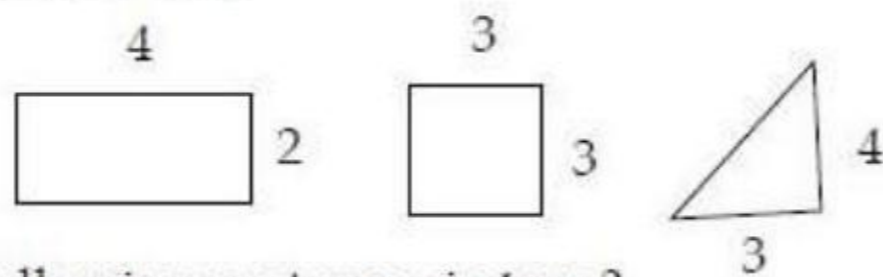
Question Number : 97 Question Id : 5431078859 Question Type : MCQ Option Shuffling : Yes Display Question Number : Yes  
Single Line Question Option : No Option Orientation : Vertical Allowed Progression : Yes Number of Replay : 999 Play On Load :  
No Control Enable : Yes

Correct Marks : 3 Wrong Marks : 1

Question Label : Multiple Choice Question

Look the following figures :

कृपया निम्नलिखित चित्र देखें :



Which of the following sentences is *true* ?

निम्नलिखित में से कौन वाक्य **सही** है ?

Options :

Areas of the three figures is same.

1. तीनों चित्रों का क्षेत्रफल बराबर है।



Perimeters of the three figures are equal.

2. तीनों चित्रों की परिधि बराबर है।

Areas of the three figures are different.

3. तीनों चित्रों का क्षेत्रफल भिन्न है।

Both Perimeters of the three figures are equal and Area of the three figures are different.

4. तीनों चित्रों की परिधि बराबर है एवं तीनों चित्रों का क्षेत्रफल भिन्न है, दोनों।

Question Number : 98 Question Id : 5431078860 Question Type : MCQ Option Shuffling : Yes Display Question Number : Yes  
Single Line Question Option : No Option Orientation : Vertical Allowed Progression : Yes Number of Replay : 999 Play On Load :  
No Control Enable : Yes

Correct Marks : 3 Wrong Marks : 1

Question Label : Multiple Choice Question

Which one of the following fraction is the lowest ?

निम्नलिखित भिन्न में सबसे न्यूनतम कौन है ?

Options :

1.  $\frac{19}{20}$

2.  $\frac{13}{17}$

3.  $\frac{15}{17}$

4.  $\frac{21}{23}$

Question Number : 99 Question Id : 5431078861 Question Type : MCQ Option Shuffling : Yes Display Question Number : Yes  
Single Line Question Option : No Option Orientation : Vertical Allowed Progression : Yes Number of Replay : 999 Play On Load :  
No Control Enable : Yes

Correct Marks : 3 Wrong Marks : 1

Question Label : Multiple Choice Question

If  $5^2 + x^3 = 150$ , then value of  $x$  is :

यदि  $5^2 + x^3 = 150$ , तो  $x$  का मान है :

Options :

1. 5

2. 3

3. 4

4. 7

Question Number : 100 Question Id : 5431078862 Question Type : MCQ Option Shuffling : Yes Display Question Number : Yes  
Single Line Question Option : No Option Orientation : Vertical Allowed Progression : Yes Number of Replay : 999 Play On Load :  
No Control Enable : Yes

Correct Marks : 3 Wrong Marks : 1

Question Label : Multiple Choice Question

If arithmetic mean of natural number  $1, 2, 3, \dots, n$  is 2.5, then value of  $n$  is :

यदि प्राकृतिक संख्या  $1, 2, 3, \dots, n$  का समान्तर माध्य 2.5 है, तो  $n$  का मान है :

Options :

1. 5

2. 4

3. 3

4. 6

Question Number : 101 Question Id : 5431078863 Question Type : MCQ Option Shuffling : Yes Display Question Number : Yes  
Single Line Question Option : No Option Orientation : Vertical Allowed Progression : Yes Number of Replay : 999 Play On Load :  
No Control Enable : Yes

Correct Marks : 3 Wrong Marks : 1

Question Label : Multiple Choice Question

If Sunday comes after 6 days from today and today is 15 October, then the day  
on 1st January next year is :

यदि आज से 6 दिन बाद इतवार आता है और आज 15 अक्टूबर है तो अगले वर्ष पहली जनवरी  
को निम्न में से कौन दिन होगा ?

Options :

Monday

1. सोमवार

Wednesday

2. बुधवार

Tuesday

3. मंगलवार

Friday

4. शुक्रवार



Question Number : 102 Question Id : 5431078864 Question Type : MCQ Option Shuffling : Yes Display Question Number : Yes  
Single Line Question Option : No Option Orientation : Vertical Allowed Progression : Yes Number of Replay : 999 Play On Load :  
No Control Enable : Yes

Correct Marks : 3 Wrong Marks : 1

Question Label : Multiple Choice Question

In certain code MAILED is coded as NBJMFE, then LETTER is to be coded as :

MAILED को कूट के भाषा में NBJMFE के रूप में लिखा गया है, तो LETTER को इसी  
कूट में लिखा जायेगा :

Options :

1. MUUPGY
2. PFUUMY
3. DMBTTS
4. MFUUPS

Question Number : 103 Question Id : 5431078865 Question Type : MCQ Option Shuffling : Yes Display Question Number : Yes  
Single Line Question Option : No Option Orientation : Vertical Allowed Progression : Yes Number of Replay : 999 Play On Load :  
No Control Enable : Yes

Correct Marks : 3 Wrong Marks : 1

Question Label : Multiple Choice Question

If India is written as 95491, then DELHI will be written as :

यदि INDIA को 95491 के तरह लिखा गया है तो DELHI को इनमें से किस तरह लिखा  
जायेगा ?

Options :

1. 45389
2. 45489
3. 45498
4. 45398

Question Number : 104 Question Id : 5431078866 Question Type : MCQ Option Shuffling : Yes Display Question Number : Yes  
Single Line Question Option : No Option Orientation : Vertical Allowed Progression : Yes Number of Replay : 999 Play On Load :  
No Control Enable : Yes

Correct Marks : 3 Wrong Marks : 1

Question Label : Multiple Choice Question

Missing letter in the following is :

निम्न में खोया हुआ अक्षर है :

C	J	O
D	K	P
J	O	?

Options :

1. S
2. T
3. R
4. F

Question Number : 105 Question Id : 5431078867 Question Type : MCQ Option Shuffling : Yes Display Question Number : Yes  
Single Line Question Option : No Option Orientation : Vertical Allowed Progression : Yes Number of Replay : 999 Play On Load :  
No Control Enable : Yes

Correct Marks : 3 Wrong Marks : 1

Question Label : Multiple Choice Question

A mother is three times the age of her son. Five years back the son was  $\frac{1}{7}$ th of his father. If father is 5 years older than the mother, the age of the son is :

माता जी की आयु अपने बेटे से तीन गुना है। पाँच वर्ष पहले बेटे की आयु अपने पिता की आयु का  $\frac{1}{7}$  हिस्सा थी। पिता की आयु माता की आयु से पाँच वर्ष ज्यादा है, तो बेटे की आयु होगी :

Options :

- 12 years
1. 12 वर्ष
  
- 10 years
2. 10 वर्ष
  
- 18 years
3. 18 वर्ष
  
- 15 years
4. 15 वर्ष

Question Number : 106 Question Id : 5431078868 Question Type : MCQ Option Shuffling : Yes Display Question Number : Yes  
Single Line Question Option : No Option Orientation : Vertical Allowed Progression : Yes Number of Replay : 999 Play On Load :  
No Control Enable : Yes

Correct Marks : 3 Wrong Marks : 1

Question Label : Multiple Choice Question

5 percent of 2 hours and 20 minutes is :

दो घंटे एवं 20 मिनट का 5 प्रतिशत होगा :

Options :

- 7 minutes
1. 7 मिनट
  
- 14 minutes
2. 14 मिनट



7 minutes and 2 seconds

3. 7 मिनट एवं 2 सेकेण्ड

14 minutes and 5 seconds

4. 14 मिनट एवं 5 सेकेण्ड

Question Number : 107 Question Id : 5431078869 Question Type : MCQ Option Shuffling : Yes Display Question Number : Yes  
Single Line Question Option : No Option Orientation : Vertical Allowed Progression : Yes Number of Replay : 999 Play On Load :  
No Control Enable : Yes

Correct Marks : 3 Wrong Marks : 1

Question Label : Multiple Choice Question

If 5 is subtracted from cube root of any number, it becomes zero, then the number is :

यदि किसी संख्या के घनमूल से 5 घटा दिया जाये तो यह शून्य हो जाता है, तो यह संख्या है :

Options :

1. 829

2. 125

3. 900

4. 100

Question Number : 108 Question Id : 5431078870 Question Type : MCQ Option Shuffling : Yes Display Question Number : Yes  
Single Line Question Option : No Option Orientation : Vertical Allowed Progression : Yes Number of Replay : 999 Play On Load :  
No Control Enable : Yes

Correct Marks : 3 Wrong Marks : 1

Question Label : Multiple Choice Question

If area of rectangle is  $80\text{m}^2$  and perimeter is 36 m, then width of the rectangle is :

यदि एक आयत का क्षेत्रफल  $80\text{m}^2$  तथा उसकी परिधि 36 m है, तो उसकी चौड़ाई होगी :

Options :

1. 8 m

2. 10 m

3. 12 m

4. 6 m

Question Number : 109 Question Id : 5431078871 Question Type : MCQ Option Shuffling : Yes Display Question Number : Yes  
Single Line Question Option : No Option Orientation : Vertical Allowed Progression : Yes Number of Replay : 999 Play On Load :  
No Control Enable : Yes

Correct Marks : 3 Wrong Marks : 1

Question Label : Multiple Choice Question

If 2 is subtracted from cube root of a number, then it becomes 2, and if 4 is subtracted from square root of the same number, then it becomes 4, then the number is :

यदि एक संख्या के घनमूल से 2 घटा दिया जाये तो यह 2 हो जाता है, एवं उसी संख्या के वर्गमूल से 4 घटा दिया जाये तो यह 4 हो जाता है, तो संख्या होगी :

Options :

1. 81
2. 729
3. 64
4. 125

Question Number : 110 Question Id : 5431078872 Question Type : MCQ Option Shuffling : Yes Display Question Number : Yes  
Single Line Question Option : No Option Orientation : Vertical Allowed Progression : Yes Number of Replay : 999 Play On Load :  
No Control Enable : Yes

Correct Marks : 3 Wrong Marks : 1

Question Label : Multiple Choice Question

In a row of students, Ram is 11th from left and Seema is 7th from right. If they interchange their positions, then Ram becomes 15th from the left. How many students are there in all.

विद्यार्थियों के पंक्ति में, राम बायें से 11वें स्थान पर है तथा सीमा दायें से 7वें स्थान पर है। यदि राम और सीमा अपने स्थान अदला-बदली कर लें तो राम बायें से 15वें स्थान पर आ जाता है। कुल विद्यार्थियों की संख्या होगी।

Options :

1. 20
2. 22
3. 25
4. 21

Question Number : 111 Question Id : 5431078873 Question Type : MCQ Option Shuffling : Yes Display Question Number : Yes  
Single Line Question Option : No Option Orientation : Vertical Allowed Progression : Yes Number of Replay : 999 Play On Load :  
No Control Enable : Yes

Correct Marks : 3 Wrong Marks : 1

Question Label : Multiple Choice Question



If the following squares represents the monthly income of two families.

निम्नलिखित वर्ग दो परिवारों की मासिक आय को प्रदर्शित करते हैं।

$$\begin{array}{|c|} \hline A \\ \hline 2 \\ \hline \end{array} \quad \begin{array}{|c|} \hline B \\ \hline 3 \\ \hline \end{array}$$

If monthly income of family A is Rs. 40,000 then monthly income of B is :

यदि परिवार A की मासिक आय 40,000 ₹ है तो परिवार B की मासिक आय होगी :

Options :

1. 90,000 ₹
2. 60,000 ₹
3. 50,000 ₹
4. 1,20,000 ₹

Question Number : 112 Question Id : 5431078874 Question Type : MCQ Option Shuffling : Yes Display Question Number : Yes  
Single Line Question Option : No Option Orientation : Vertical Allowed Progression : Yes Number of Replay : 999 Play On Load :  
No Control Enable : Yes

Correct Marks : 3 Wrong Marks : 1

Question Label : Multiple Choice Question

Out of two candidates in an election, one gets 60 percent of votes and win the election by 600 votes. The total number of votes is :

एक चुनाव में दो प्रत्याशी हैं, एक प्रत्याशी 60 प्रतिशत वोट प्राप्त कर 600 वोट से जीत जाता है। कुल वोट की संख्या है :

Options :

1. 1800
2. 2000
3. 5000
4. 3000

Question Number : 113 Question Id : 5431078875 Question Type : MCQ Option Shuffling : Yes Display Question Number : Yes  
Single Line Question Option : No Option Orientation : Vertical Allowed Progression : Yes Number of Replay : 999 Play On Load :  
No Control Enable : Yes

Correct Marks : 3 Wrong Marks : 1

Question Label : Multiple Choice Question

When 24 is added to 40 percent of a number, the result is the number itself. The number is :

यदि किसी संख्या के 40 प्रतिशत में 24 जोड़ दिया जाए, तो वही संख्या हो जाती है। तो संख्या है :

Options :

1. 16
2. 40
3. 24
4. 64

Question Number : 114 Question Id : 5431078876 Question Type : MCQ Option Shuffling : Yes Display Question Number : Yes  
Single Line Question Option : No Option Orientation : Vertical Allowed Progression : Yes Number of Replay : 999 Play On Load :  
No Control Enable : Yes

Correct Marks : 3 Wrong Marks : 1

Question Label : Multiple Choice Question

Three numbers are in ratio 1 : 2 : 3 and their HCF is 12. The numbers are :

तीन संख्याएँ 1 : 2 : 3 के अनुपात में हैं व उनका महत्तम समापवर्तक 12 है। संख्याएँ बताइए।

Options :

1. 12, 24, 36
2. 11, 22, 33
3. 12, 24, 34
4. 5, 10, 15

Question Number : 115 Question Id : 5431078877 Question Type : MCQ Option Shuffling : Yes Display Question Number : Yes  
Single Line Question Option : No Option Orientation : Vertical Allowed Progression : Yes Number of Replay : 999 Play On Load :  
No Control Enable : Yes

Correct Marks : 3 Wrong Marks : 1

Question Label : Multiple Choice Question

Five-eighth of three-tenth of four-ninth of a number is 45. What is the number ?

एक संख्या का  $\frac{4}{9}$  का  $\frac{3}{10}$  का  $\frac{5}{8}$ , 45 है। संख्या बताइए।

Options :

1. 470
2. 550
3. 560
4. 540

Question Number : 116 Question Id : 5431078878 Question Type : MCQ Option Shuffling : Yes Display Question Number : Yes  
Single Line Question Option : No Option Orientation : Vertical Allowed Progression : Yes Number of Replay : 999 Play On Load :  
No Control Enable : Yes

Correct Marks : 3 Wrong Marks : 1

Question Label : Multiple Choice Question



The ratio of the present age of father to that of son is 7 : 2. After 10 years their ages will be in the ratio of 9 : 4. The present age of the father is :

पिता एवं पुत्र की वर्तमान आयु का अनुपात 7 : 2 है। 10 वर्षों के उपरान्त उनकी आयु का अनुपात 9 : 4 होगा। पिता की वर्तमान आयु कितनी है ?

Options :

1. 35 वर्ष
2. 40 वर्ष
3. 30 वर्ष
4. 25 वर्ष

Question Number : 117 Question Id : 5431078879 Question Type : MCQ Option Shuffling : Yes Display Question Number : Yes  
Single Line Question Option : No Option Orientation : Vertical Allowed Progression : Yes Number of Replay : 999 Play On Load : No Control Enable : Yes

Correct Marks : 3 Wrong Marks : 1

Question Label : Multiple Choice Question

The ratio of 1 hour to 300 seconds is :

1 घण्टा : 300 सेकेण्ड का मान होगा :

Options :

1. 1 : 15
2. 15 : 10
3. 10 : 15
4. 12 : 1

Question Number : 118 Question Id : 5431078880 Question Type : MCQ Option Shuffling : Yes Display Question Number : Yes  
Single Line Question Option : No Option Orientation : Vertical Allowed Progression : Yes Number of Replay : 999 Play On Load : No Control Enable : Yes

Correct Marks : 3 Wrong Marks : 1

Question Label : Multiple Choice Question

In a certain code language :

'white is very bad' is written as 'la to ja sa'

'cold drinks are white' is written as 'ja pa ra da'

'coffee is very cold' is written as 'da to fa la'

What is the code for 'bad' ?

एक कूट भाषा में 'white is very bad' को 'la to ja sa' लिखते हैं। 'cold drinks are white' को 'ja pa ra da' लिखते हैं। 'coffee is very cold' को 'da to fa la' लिखते हैं।

इस भाषा में bad का कूट क्या होगा ?

Options :



1. sa
2. da
3. ja
4. la

**Sub-Section Number:** 2  
**Sub-Section Id:** 543107166  
**Question Shuffling Allowed :** Yes

**Question Id : 5431078881 Question Type : COMPREHENSION Sub Question Shuffling Allowed : Yes Group Comprehension Questions : No Allowed Progression : Yes Number of Replay : 999 Play On Load : No Control Enable : Yes**

**Question Numbers : (119 to 120)**

**Question Label : Comprehension**

Study the following information carefully to answer the questions given below :

Eight persons namely K, P, I, N, O, L, M and J sit in two parallel rows opposite to each other. Four persons sit in each row. In row 1 : K, P, I, N are sitting and all are facing south direction. In row 2 : O, L, M, J are sitting and all are facing north direction. J sits second to the right of L, who sits opposite to the one, who is immediate neighbour of I, N sits second to the left of P. P does not sit extreme end of the line. M does not sit opposite to K. O is not neighbour of J.

नीचे दी गई सूचना के आधार पर प्रश्न का उत्तर दीजिए।

आठ व्यक्ति K, P, I, N, O, L, M और J दो पंक्तियों में आमने-सामने बैठे हैं। एक पंक्ति में K, P, I, N दक्षिण की तरफ मुँह करके बैठे हैं। चार व्यक्ति प्रत्येक पंक्ति में बैठे हैं। दूसरी पंक्ति में O, L, M, J उत्तर की तरफ मुँह करके बैठे हैं। J, L के दांयी तरफ बैठा हुआ दूसरा व्यक्ति है, जो कि उस व्यक्ति के सामने बैठा है, जो कि ठीक I के पास बैठा है। N, P के बांयी तरफ बैठा दूसरा व्यक्ति है। P किसी भी पंक्ति में बैठा हुआ अन्तिम व्यक्ति नहीं है। M, K के सामने नहीं बैठा है। O, J के पास नहीं बैठा है।

**Sub questions**

**Question Number : 119 Question Id : 5431078882 Question Type : MCQ Option Shuffling : Yes Display Question Number : Yes Single Line Question Option : No Option Orientation : Vertical Allowed Progression : Yes Number of Replay : 999 Play On Load : No Control Enable : Yes**

**Correct Marks : 3 Wrong Marks : 1**

**Question Label : Multiple Choice Question**

**Who sits opposite to P ?**

**P के सामने कौन बैठा है ?**

**Options :**

1. O
2. J



3. L

4. M

Question Number : 120 Question Id : 5431078883 Question Type : MCQ Option Shuffling : Yes Display Question Number : Yes  
Single Line Question Option : No Option Orientation : Vertical Allowed Progression : Yes Number of Replay : 999 Play On Load :  
No Control Enable : Yes

Correct Marks : 3 Wrong Marks : 1

Question Label : Multiple Choice Question

Who sits second to the right of I ?

I के दायीं तरफ बैठा हुआ दूसरा व्यक्ति कौन है ?

Options :

1. P

2. N

3. O

4. K

#### Section II English Language Test

Section Id :	543107127
Section Number :	2
Section type :	Online
Mandatory or Optional:	Optional
Number of Questions:	30
Number of Questions to be attempted:	30
Section Marks:	90
Display Number Panel:	Yes
Group All Questions:	No

Sub-Section Number:	1
Sub-Section Id:	543107167
Question Shuffling Allowed :	Yes

Question Number : 121 Question Id : 5431078884 Question Type : MCQ Option Shuffling : Yes Display Question Number : Yes  
Single Line Question Option : No Option Orientation : Vertical Allowed Progression : Yes Number of Replay : 999 Play On Load :  
No Control Enable : Yes

Correct Marks : 3 Wrong Marks : 1

Question Label : Multiple Choice Question

Select the word nearest in meaning to the given word :

Baffle :

Options :

1. Strike

2. To disconcert
3. Tease
4. Send away

Question Number : 122 Question Id : 5431078885 Question Type : MCQ Option Shuffling : Yes Display Question Number : Yes  
Single Line Question Option : No Option Orientation : Vertical Allowed Progression : Yes Number of Replay : 999 Play On Load :  
No Control Enable : Yes

Correct Marks : 3 Wrong Marks : 1

Question Label : Multiple Choice Question

Select the word nearest in meaning to the given word :

Rejoice :

Options :

1. Rejoin
2. Rebuild
3. Rename
4. Delight

Question Number : 123 Question Id : 5431078886 Question Type : MCQ Option Shuffling : Yes Display Question Number : Yes  
Single Line Question Option : No Option Orientation : Vertical Allowed Progression : Yes Number of Replay : 999 Play On Load :  
No Control Enable : Yes

Correct Marks : 3 Wrong Marks : 1

Question Label : Multiple Choice Question

Select the word nearest in meaning to the given word :

Handful :

Options :

1. Useless
2. Useful
3. a few, a little
4. Powerful

Question Number : 124 Question Id : 5431078887 Question Type : MCQ Option Shuffling : Yes Display Question Number : Yes  
Single Line Question Option : No Option Orientation : Vertical Allowed Progression : Yes Number of Replay : 999 Play On Load :  
No Control Enable : Yes

Correct Marks : 3 Wrong Marks : 1

Question Label : Multiple Choice Question

Select the word nearest in meaning to the given word :

Upheaval :



Options :

1. Upward turn
2. Abrupt change
3. Slow change
4. Outcome

Question Number : 125 Question Id : 5431078888 Question Type : MCQ Option Shuffling : Yes Display Question Number : Yes  
Single Line Question Option : No Option Orientation : Vertical Allowed Progression : Yes Number of Replay : 999 Play On Load :  
No Control Enable : Yes

Correct Marks : 3 Wrong Marks : 1

Question Label : Multiple Choice Question

Select the word opposite in meaning to the given words :

Embellish :

Options :

1. Disfigure
2. Imagine
3. Beautify
4. Disarm

Question Number : 126 Question Id : 5431078889 Question Type : MCQ Option Shuffling : Yes Display Question Number : Yes  
Single Line Question Option : No Option Orientation : Vertical Allowed Progression : Yes Number of Replay : 999 Play On Load :  
No Control Enable : Yes

Correct Marks : 3 Wrong Marks : 1

Question Label : Multiple Choice Question

Select the word opposite in meaning to the given words :

Wane :

Options :

1. Widen
2. Fatten
3. Prosper
4. Reduce

Question Number : 127 Question Id : 5431078890 Question Type : MCQ Option Shuffling : Yes Display Question Number : Yes  
Single Line Question Option : No Option Orientation : Vertical Allowed Progression : Yes Number of Replay : 999 Play On Load :  
No Control Enable : Yes

Correct Marks : 3 Wrong Marks : 1

Question Label : Multiple Choice Question

Select the word opposite in meaning to the given words :

Arduous :

Options :

1. Easy
2. Difficult
3. Strange
4. Unknown

Question Number : 128 Question Id : 5431078891 Question Type : MCQ Option Shuffling : Yes Display Question Number : Yes  
Single Line Question Option : No Option Orientation : Vertical Allowed Progression : Yes Number of Replay : 999 Play On Load :  
No Control Enable : Yes

Correct Marks : 3 Wrong Marks : 1

Question Label : Multiple Choice Question

Select the word opposite in meaning to the given words :

Peer :

Options :

1. Unequal
2. Uncertain
3. Sure
4. Equal

Question Number : 129 Question Id : 5431078892 Question Type : MCQ Option Shuffling : Yes Display Question Number : Yes  
Single Line Question Option : No Option Orientation : Vertical Allowed Progression : Yes Number of Replay : 999 Play On Load :  
No Control Enable : Yes

Correct Marks : 3 Wrong Marks : 1

Question Label : Multiple Choice Question

Select the *correct* meaning of the given idiomatic expressions :

Give in :

Options :

1. Celebrate
2. Surrender
3. Give a gift
4. Enjoy

Question Number : 130 Question Id : 5431078893 Question Type : MCQ Option Shuffling : Yes Display Question Number : Yes  
Single Line Question Option : No Option Orientation : Vertical Allowed Progression : Yes Number of Replay : 999 Play On Load :  
No Control Enable : Yes



Correct Marks : 3 Wrong Marks : 1

Question Label : Multiple Choice Question

Select the *correct* meaning of the given idiomatic expressions :

Call a spade a spade :

Options :

1. Say the truth about something
2. Be harsh
3. Be polite
4. Be forgetful

Question Number : 131 Question Id : 5431078894 Question Type : MCQ Option Shuffling : Yes Display Question Number : Yes  
Single Line Question Option : No Option Orientation : Vertical Allowed Progression : Yes Number of Replay : 999 Play On Load :  
No Control Enable : Yes

Correct Marks : 3 Wrong Marks : 1

Question Label : Multiple Choice Question

Select the *correct* meaning of the given idiomatic expressions :

A red letter day :

Options :

1. A red letter day :
2. A bloody day
3. An auspicious day
4. A foggy day

Question Number : 132 Question Id : 5431078895 Question Type : MCQ Option Shuffling : Yes Display Question Number : Yes  
Single Line Question Option : No Option Orientation : Vertical Allowed Progression : Yes Number of Replay : 999 Play On Load :  
No Control Enable : Yes

Correct Marks : 3 Wrong Marks : 1

Question Label : Multiple Choice Question

Select the *correct* meaning of the given idiomatic expressions :

Call names :

Options :

1. A bloody day
2. An auspicious day

3. A foggy day

4. A rainy day

Question Number : 133 Question Id : 5431078896 Question Type : MCQ Option Shuffling : Yes Display Question Number : Yes  
Single Line Question Option : No Option Orientation : Vertical Allowed Progression : Yes Number of Replay : 999 Play On Load :  
No Control Enable : Yes

Correct Marks : 3 Wrong Marks : 1

Question Label : Multiple Choice Question

Select the *correct* form of the verb to fill in the blanks in  
the given sentences :

I ..... him since last January.

Options :

1. have seen

2. have not seen

3. do not see

4. did not see

Question Number : 134 Question Id : 5431078897 Question Type : MCQ Option Shuffling : Yes Display Question Number : Yes  
Single Line Question Option : No Option Orientation : Vertical Allowed Progression : Yes Number of Replay : 999 Play On Load :  
No Control Enable : Yes

Correct Marks : 3 Wrong Marks : 1

Question Label : Multiple Choice Question

Select the *correct* form of the verb to fill in the blanks in  
the given sentences :

If it ..... the match will be cancelled.

Options :

1. will rain

2. would rain

3. rained

4. rains

Question Number : 135 Question Id : 5431078898 Question Type : MCQ Option Shuffling : Yes Display Question Number : Yes  
Single Line Question Option : No Option Orientation : Vertical Allowed Progression : Yes Number of Replay : 999 Play On Load :  
No Control Enable : Yes

Correct Marks : 3 Wrong Marks : 1

Question Label : Multiple Choice Question



Select the *correct* form of the verb to fill in the blanks in the given sentences :

We should reach home before it ..... dark.

Options :

1. got
2. is getting
3. gets
4. will get

Question Number : 136 Question Id : 5431078899 Question Type : MCQ Option Shuffling : Yes Display Question Number : Yes Single Line Question Option : No Option Orientation : Vertical Allowed Progression : Yes Number of Replay : 999 Play On Load : No Control Enable : Yes

Correct Marks : 3 Wrong Marks : 1

Question Label : Multiple Choice Question

Select the *correct* form of the verb to fill in the blanks in the given sentences :

When I met him, he ..... a letter to his mother.

Options :

1. is writing
2. will write
3. was writing
4. would write

Question Number : 137 Question Id : 5431078900 Question Type : MCQ Option Shuffling : Yes Display Question Number : Yes Single Line Question Option : No Option Orientation : Vertical Allowed Progression : Yes Number of Replay : 999 Play On Load : No Control Enable : Yes

Correct Marks : 3 Wrong Marks : 1

Question Label : Multiple Choice Question

Choose the *correct* option to form the right sentences :

He knows ..... a plane.

Options :

1. to flying
2. flying art

3. how to fly

4. art in

Question Number : 138 Question Id : 5431078901 Question Type : MCQ Option Shuffling : Yes Display Question Number : Yes  
Single Line Question Option : No Option Orientation : Vertical Allowed Progression : Yes Number of Replay : 999 Play On Load :  
No Control Enable : Yes

Correct Marks : 3 Wrong Marks : 1

Question Label : Multiple Choice Question

Choose the *correct* option to form the right sentences :

The saint said that a war of liberation ..... great spirit, sacrifice, and  
patience.

Options :

1. compelled
2. forced
3. encouraged
4. demanded

Question Number : 139 Question Id : 5431078902 Question Type : MCQ Option Shuffling : Yes Display Question Number : Yes  
Single Line Question Option : No Option Orientation : Vertical Allowed Progression : Yes Number of Replay : 999 Play On Load :  
No Control Enable : Yes

Correct Marks : 3 Wrong Marks : 1

Question Label : Multiple Choice Question

Choose the *correct* option to form the right sentences :

History is replete with examples of strong nations ..... the weak ones.

Options :

1. requiring
2. dominating
3. advocating
4. asserting

Question Number : 140 Question Id : 5431078903 Question Type : MCQ Option Shuffling : Yes Display Question Number : Yes  
Single Line Question Option : No Option Orientation : Vertical Allowed Progression : Yes Number of Replay : 999 Play On Load :  
No Control Enable : Yes

Correct Marks : 3 Wrong Marks : 1

Question Label : Multiple Choice Question



Choose the *correct* option to form the right sentences :

The young students ..... the highest peak of the Shivalik range of the

Options :

1. won
2. scaled
3. walked
4. climb up

Question Number : 141 Question Id : 5431078904 Question Type : MCQ Option Shuffling : Yes Display Question Number : Yes  
Single Line Question Option : No Option Orientation : Vertical Allowed Progression : Yes Number of Replay : 999 Play On Load :  
No Control Enable : Yes

Correct Marks : 3 Wrong Marks : 1

Question Label : Multiple Choice Question

Select the part of speech of the underlined word in the  
given sentences :

Who will bell the cat ?

Options :

1. Noun
2. Verb
3. Adverb
4. Adjective

Question Number : 142 Question Id : 5431078905 Question Type : MCQ Option Shuffling : Yes Display Question Number : Yes  
Single Line Question Option : No Option Orientation : Vertical Allowed Progression : Yes Number of Replay : 999 Play On Load :  
No Control Enable : Yes

Correct Marks : 3 Wrong Marks : 1

Question Label : Multiple Choice Question

Select the part of speech of the underlined word in the  
given sentences :

He met me near the bank.

Options :

1. Noun

2. Conjunction
3. Adverb
4. Adjective

Question Number : 143 Question Id : 5431078906 Question Type : MCQ Option Shuffling : Yes Display Question Number : Yes  
Single Line Question Option : No Option Orientation : Vertical Allowed Progression : Yes Number of Replay : 999 Play On Load :  
No Control Enable : Yes

Correct Marks : 3 Wrong Marks : 1

Question Label : Multiple Choice Question

Select the part of speech of the underlined word in the  
given sentences :

My aged aunt is very affectionate.

Options :

1. Noun
2. Verb
3. Adverb
4. Adjective

Question Number : 144 Question Id : 5431078907 Question Type : MCQ Option Shuffling : Yes Display Question Number : Yes  
Single Line Question Option : No Option Orientation : Vertical Allowed Progression : Yes Number of Replay : 999 Play On Load :  
No Control Enable : Yes

Correct Marks : 3 Wrong Marks : 1

Question Label : Multiple Choice Question

Select the part of speech of the underlined word in the  
given sentences :

He treated me well.

Options :

1. Noun
2. Verb
3. Adverb
4. Adjective



Question Number : 145 Question Id : 5431078908 Question Type : MCQ Option Shuffling : Yes Display Question Number : Yes  
Single Line Question Option : No Option Orientation : Vertical Allowed Progression : Yes Number of Replay : 999 Play On Load :  
No Control Enable : Yes

Correct Marks : 3 Wrong Marks : 1

Question Label : Multiple Choice Question

Fill in the blanks with the *correct* preposition :

How does this differ ..... the other ?

Options :

1. by
2. on
3. at
4. from

Question Number : 146 Question Id : 5431078909 Question Type : MCQ Option Shuffling : Yes Display Question Number : Yes  
Single Line Question Option : No Option Orientation : Vertical Allowed Progression : Yes Number of Replay : 999 Play On Load :  
No Control Enable : Yes

Correct Marks : 3 Wrong Marks : 1

Question Label : Multiple Choice Question

Fill in the blanks with the *correct* preposition :

She was interested ..... modern art.

Options :

1. of
2. with
3. by
4. in

Question Number : 147 Question Id : 5431078910 Question Type : MCQ Option Shuffling : Yes Display Question Number : Yes  
Single Line Question Option : No Option Orientation : Vertical Allowed Progression : Yes Number of Replay : 999 Play On Load :  
No Control Enable : Yes

Correct Marks : 3 Wrong Marks : 1

Question Label : Multiple Choice Question

Fill in the blanks with the *correct* preposition :

The great English poet John Keats died ..... consumption.

Options :

1. with
2. of
3. at
4. by

Question Number : 148 Question Id : 5431078911 Question Type : MCQ Option Shuffling : Yes Display Question Number : Yes  
Single Line Question Option : No Option Orientation : Vertical Allowed Progression : Yes Number of Replay : 999 Play On Load :  
No Control Enable : Yes

Correct Marks : 3 Wrong Marks : 1

Question Label : Multiple Choice Question

Select the word which has been *wrongly* spelt :

Options :

1. Distinguished
2. Publication
3. Ginger
4. Futilty

Question Number : 149 Question Id : 5431078912 Question Type : MCQ Option Shuffling : Yes Display Question Number : Yes  
Single Line Question Option : No Option Orientation : Vertical Allowed Progression : Yes Number of Replay : 999 Play On Load :  
No Control Enable : Yes

Correct Marks : 3 Wrong Marks : 1

Question Label : Multiple Choice Question

Select the word which has been *wrongly* spelt :

Options :

1. Independence
2. Decieve
3. Moderate
4. Canvass

Question Number : 150 Question Id : 5431078913 Question Type : MCQ Option Shuffling : Yes Display Question Number : Yes  
Single Line Question Option : No Option Orientation : Vertical Allowed Progression : Yes Number of Replay : 999 Play On Load :  
No Control Enable : Yes

Correct Marks : 3 Wrong Marks : 1

Question Label : Multiple Choice Question



Select the word which has been *wrongly* spelt :

Options :

1. Auxilary
2. Repertoire
3. Receive
4. Restaurant

Section II Hindi Language Test

Section Id :	543107128
Section Number :	3
Section type :	Online
Mandatory or Optional:	Optional
Number of Questions:	30
Number of Questions to be attempted:	30
Section Marks:	90
Display Number Panel:	Yes
Group All Questions:	No

Sub-Section Number:	1
Sub-Section Id:	543107168
Question Shuffling Allowed :	Yes

Question Number : 151 Question Id : 5431078914 Question Type : MCQ Option Shuffling : Yes Display Question Number : Yes  
Single Line Question Option : No Option Orientation : Vertical Allowed Progression : Yes Number of Replay : 999 Play On Load :  
No Control Enable : Yes

Correct Marks : 3 Wrong Marks : 1

Question Label : Multiple Choice Question

'कंकाल' किसकी कृति है ?

Options :

1. प्रेमचन्द
2. जयशंकर प्रसाद
3. यशपाल
4. अज्ञेय

Question Number : 152 Question Id : 5431078915 Question Type : MCQ Option Shuffling : Yes Display Question Number : Yes  
Single Line Question Option : No Option Orientation : Vertical Allowed Progression : Yes Number of Replay : 999 Play On Load :  
No Control Enable : Yes

Correct Marks : 3 Wrong Marks : 1

Question Label : Multiple Choice Question

'पंचपरमेश्वर' कहानी के लेखक हैं :

Options :

1. प्रेमचन्द
2. फणीश्वर नाथ रेणु
3. जैनेन्द्र
4. सुदर्शन

Question Number : 153 Question Id : 5431078916 Question Type : MCQ Option Shuffling : Yes Display Question Number : Yes  
Single Line Question Option : No Option Orientation : Vertical Allowed Progression : Yes Number of Replay : 999 Play On Load :  
No Control Enable : Yes

Correct Marks : 3 Wrong Marks : 1

Question Label : Multiple Choice Question

'साकेत' के रचयिता कौन हैं ?

Options :

1. अयोध्यासिंह उपाध्याय
2. दिनकर
3. मैथिलीशरण गुप्त
4. रामनरेश त्रिपाठी

Question Number : 154 Question Id : 5431078917 Question Type : MCQ Option Shuffling : Yes Display Question Number : Yes  
Single Line Question Option : No Option Orientation : Vertical Allowed Progression : Yes Number of Replay : 999 Play On Load :  
No Control Enable : Yes

Correct Marks : 3 Wrong Marks : 1

Question Label : Multiple Choice Question

'अशोक के फूल' के लेखक कौन हैं ?

Options :

1. रामचन्द्र शुक्ल
2. महावीर प्रसाद द्विवेदी
3. हजारी प्रसाद द्विवेदी
4. गुलाब राय



Question Number : 155 Question Id : 5431078918 Question Type : MCQ Option Shuffling : Yes Display Question Number : Yes  
Single Line Question Option : No Option Orientation : Vertical Allowed Progression : Yes Number of Replay : 999 Play On Load :  
No Control Enable : Yes

Correct Marks : 3 Wrong Marks : 1

Question Label : Multiple Choice Question

इनमें से कौन छायावादी कवि कहा जाता है ?

Options :

1. अज्ञेय
2. मुक्तिबोध
3. नागार्जुन
4. सुमित्रानन्दन पंत

Question Number : 156 Question Id : 5431078919 Question Type : MCQ Option Shuffling : Yes Display Question Number : Yes  
Single Line Question Option : No Option Orientation : Vertical Allowed Progression : Yes Number of Replay : 999 Play On Load :  
No Control Enable : Yes

Correct Marks : 3 Wrong Marks : 1

Question Label : Multiple Choice Question

इनमें से किस कृति के लेखक फणीश्वरनाथ रेणु हैं ?

Options :

1. शेष स्मृतियाँ
2. बाबा बटेश्वरनाथ
3. मैला आँचल
4. राग दरबारी

Question Number : 157 Question Id : 5431078920 Question Type : MCQ Option Shuffling : Yes Display Question Number : Yes  
Single Line Question Option : No Option Orientation : Vertical Allowed Progression : Yes Number of Replay : 999 Play On Load :  
No Control Enable : Yes

Correct Marks : 3 Wrong Marks : 1

Question Label : Multiple Choice Question

'उर्वशी' के रचयिता कौन हैं ?

Options :

1. रामधारी सिंह दिनकर
2. सुमित्रानन्दन पंत
3. महादेवी वर्मा

4. हरिवंश राय बच्चन

Question Number : 158 Question Id : 5431078921 Question Type : MCQ Option Shuffling : Yes Display Question Number : Yes  
Single Line Question Option : No Option Orientation : Vertical Allowed Progression : Yes Number of Replay : 999 Play On Load :  
No Control Enable : Yes

Correct Marks : 3 Wrong Marks : 1

Question Label : Multiple Choice Question

इनमें से कौन रीतिकाल का कवि है ?

Options :

1. भारतेन्दु हरिश्चन्द्र
2. भिखारीदास
3. अयोध्यासिंह उपाध्याय
4. जगन्नाथ दास रत्नाकर

Question Number : 159 Question Id : 5431078922 Question Type : MCQ Option Shuffling : Yes Display Question Number : Yes  
Single Line Question Option : No Option Orientation : Vertical Allowed Progression : Yes Number of Replay : 999 Play On Load :  
No Control Enable : Yes

Correct Marks : 3 Wrong Marks : 1

Question Label : Multiple Choice Question

सूरदास किसके शिष्य थे ?

Options :

1. रामानुजाचार्य
2. मध्वाचार्य
3. रामानंद
4. वल्लभाचार्य

Question Number : 160 Question Id : 5431078923 Question Type : MCQ Option Shuffling : Yes Display Question Number : Yes  
Single Line Question Option : No Option Orientation : Vertical Allowed Progression : Yes Number of Replay : 999 Play On Load :  
No Control Enable : Yes

Correct Marks : 3 Wrong Marks : 1

Question Label : Multiple Choice Question

विद्यापति की 'पदावली' की भाषा क्या है ?

Options :

1. भोजपुरी
2. मैथिली



3. खड़ीबोली

4. ब्रजभाषा

Question Number : 161 Question Id : 5431078924 Question Type : MCQ Option Shuffling : Yes Display Question Number : Yes  
Single Line Question Option : No Option Orientation : Vertical Allowed Progression : Yes Number of Replay : 999 Play On Load :  
No Control Enable : Yes

Correct Marks : 3 Wrong Marks : 1

Question Label : Multiple Choice Question

'उसने कहा था' कहानी के लेखक कौन हैं ?

Options :

1. सुदर्शन

2. मोहन राकेश

3. चंद्रधर शर्मा 'गुलेरी'

4. भगवतीचरण वर्मा

Question Number : 162 Question Id : 5431078925 Question Type : MCQ Option Shuffling : Yes Display Question Number : Yes  
Single Line Question Option : No Option Orientation : Vertical Allowed Progression : Yes Number of Replay : 999 Play On Load :  
No Control Enable : Yes

Correct Marks : 3 Wrong Marks : 1

Question Label : Multiple Choice Question

महावीर प्रसाद द्विवेदी किस पत्रिका के संपादक थे ?

Options :

1. विशाल भारत

2. सरस्वती

3. हंस

4. सुधा

Question Number : 163 Question Id : 5431078926 Question Type : MCQ Option Shuffling : Yes Display Question Number : Yes  
Single Line Question Option : No Option Orientation : Vertical Allowed Progression : Yes Number of Replay : 999 Play On Load :  
No Control Enable : Yes

Correct Marks : 3 Wrong Marks : 1

Question Label : Multiple Choice Question

इन वर्णों में कौन ट वर्ग के अन्तर्गत **नहीं** है ?

Options :

1. ज

2. ठ
3. ढ
4. ड

Question Number : 164 Question Id : 5431078927 Question Type : MCQ Option Shuffling : Yes Display Question Number : Yes  
Single Line Question Option : No Option Orientation : Vertical Allowed Progression : Yes Number of Replay : 999 Play On Load :  
No Control Enable : Yes

Correct Marks : 3 Wrong Marks : 1

Question Label : Multiple Choice Question

इनमें से शुद्धवर्तनी का चयन कीजिए :

Options :

1. द्वन्द
2. दुंद
3. द्वन्द्व
4. दंद्व

Question Number : 165 Question Id : 5431078928 Question Type : MCQ Option Shuffling : Yes Display Question Number : Yes  
Single Line Question Option : No Option Orientation : Vertical Allowed Progression : Yes Number of Replay : 999 Play On Load :  
No Control Enable : Yes

Correct Marks : 3 Wrong Marks : 1

Question Label : Multiple Choice Question

'मतैक्य' में कौन-सी सन्धि है ?

Options :

1. दीर्घ
2. वृद्धि
3. गुण
4. यण

Question Number : 166 Question Id : 5431078929 Question Type : MCQ Option Shuffling : Yes Display Question Number : Yes  
Single Line Question Option : No Option Orientation : Vertical Allowed Progression : Yes Number of Replay : 999 Play On Load :  
No Control Enable : Yes

Correct Marks : 3 Wrong Marks : 1

Question Label : Multiple Choice Question

'गमन' को विलोमार्थक बनाने के लिए किस उपसर्ग का प्रयोग होगा ?

Options :



1. उप
2. आ
3. अनु
4. अधि

Question Number : 167 Question Id : 5431078930 Question Type : MCQ Option Shuffling : Yes Display Question Number : Yes  
Single Line Question Option : No Option Orientation : Vertical Allowed Progression : Yes Number of Replay : 999 Play On Load :  
No Control Enable : Yes

Correct Marks : 3 Wrong Marks : 1

Question Label : Multiple Choice Question

'कन्यादान' में कौन-सा समास है ?

Options :

1. तत्पुरुष
2. द्वंद्व
3. बहुव्रीहि
4. कर्मधारय

Question Number : 168 Question Id : 5431078931 Question Type : MCQ Option Shuffling : Yes Display Question Number : Yes  
Single Line Question Option : No Option Orientation : Vertical Allowed Progression : Yes Number of Replay : 999 Play On Load :  
No Control Enable : Yes

Correct Marks : 3 Wrong Marks : 1

Question Label : Multiple Choice Question

इनमें कौन-सा शब्द देशज है ?

Options :

1. अग्नि
2. प्रार्थना
3. बाग
4. लोटा

Question Number : 169 Question Id : 5431078932 Question Type : MCQ Option Shuffling : Yes Display Question Number : Yes  
Single Line Question Option : No Option Orientation : Vertical Allowed Progression : Yes Number of Replay : 999 Play On Load :  
No Control Enable : Yes

Correct Marks : 3 Wrong Marks : 1

Question Label : Multiple Choice Question

इनमें से तत्सम शब्द कौन-सा है ?

Options :

1. बारात
2. वर्षा
3. हाथी
4. आँसू

Question Number : 170 Question Id : 5431078933 Question Type : MCQ Option Shuffling : Yes Display Question Number : Yes  
Single Line Question Option : No Option Orientation : Vertical Allowed Progression : Yes Number of Replay : 999 Play On Load :  
No Control Enable : Yes

Correct Marks : 3 Wrong Marks : 1

Question Label : Multiple Choice Question

इनमें से भाववाचक संज्ञा कौन-सी है ?

Options :

1. शत्रुता
2. वीर
3. मनुष्य
4. गुरु

Question Number : 171 Question Id : 5431078934 Question Type : MCQ Option Shuffling : Yes Display Question Number : Yes  
Single Line Question Option : No Option Orientation : Vertical Allowed Progression : Yes Number of Replay : 999 Play On Load :  
No Control Enable : Yes

Correct Marks : 3 Wrong Marks : 1

Question Label : Multiple Choice Question

इनमें से विशेषण कौन-सा शब्द है ?

Options :

1. शीतलता
2. नम्रता
3. मिठास
4. सच्चा

Question Number : 172 Question Id : 5431078935 Question Type : MCQ Option Shuffling : Yes Display Question Number : Yes  
Single Line Question Option : No Option Orientation : Vertical Allowed Progression : Yes Number of Replay : 999 Play On Load :  
No Control Enable : Yes



Correct Marks : 3 Wrong Marks : 1

Question Label : Multiple Choice Question

इनमें से कौन पर्यायवाची **नहीं** है ?

Options :

1. आत्मजा
2. नन्दिनी
3. भार्या
4. कन्या

Question Number : 173 Question Id : 5431078936 Question Type : MCQ Option Shuffling : Yes Display Question Number : Yes  
Single Line Question Option : No Option Orientation : Vertical Allowed Progression : Yes Number of Replay : 999 Play On Load :  
No Control Enable : Yes

Correct Marks : 3 Wrong Marks : 1

Question Label : Multiple Choice Question

'विस्तार' का विलोमार्थक क्या है ?

Options :

1. लघु
2. छोटा
3. सूक्ष्म
4. संक्षेप

Question Number : 174 Question Id : 5431078937 Question Type : MCQ Option Shuffling : Yes Display Question Number : Yes  
Single Line Question Option : No Option Orientation : Vertical Allowed Progression : Yes Number of Replay : 999 Play On Load :  
No Control Enable : Yes

Correct Marks : 3 Wrong Marks : 1

Question Label : Multiple Choice Question

इनमें से 'हर्ष' का सटीक विलोम क्या है ?

Options :

1. खेद
2. दुःख
3. विषाद
4. वेदना

Question Number : 175 Question Id : 5431078938 Question Type : MCQ Option Shuffling : Yes Display Question Number : Yes  
Single Line Question Option : No Option Orientation : Vertical Allowed Progression : Yes Number of Replay : 999 Play On Load :  
No Control Enable : Yes

Correct Marks : 3 Wrong Marks : 1

Question Label : Multiple Choice Question

'मोक्ष की इच्छा रखने वाला' के लिए सटीक शब्द क्या है ?

Options :

1. जिज्ञासु
2. योगी
3. आस्तिक
4. मुमुक्षु

Question Number : 176 Question Id : 5431078939 Question Type : MCQ Option Shuffling : Yes Display Question Number : Yes  
Single Line Question Option : No Option Orientation : Vertical Allowed Progression : Yes Number of Replay : 999 Play On Load :  
No Control Enable : Yes

Correct Marks : 3 Wrong Marks : 1

Question Label : Multiple Choice Question

विशिष्ट अवसर पर विशिष्ट श्रोताओं के समक्ष दिये जाने वाले व्याख्यान को क्या कहते हैं ?

Options :

1. संभाषण
2. अभिभाषण
3. सुभाषण
4. अनुभाषण

Question Number : 177 Question Id : 5431078940 Question Type : MCQ Option Shuffling : Yes Display Question Number : Yes  
Single Line Question Option : No Option Orientation : Vertical Allowed Progression : Yes Number of Replay : 999 Play On Load :  
No Control Enable : Yes

Correct Marks : 3 Wrong Marks : 1

Question Label : Multiple Choice Question

'युयुत्सु' का अर्थ है ?

Options :

1. सबको हँसाने वाला
2. युद्ध का इच्छुक
3. शहीद



4. अमर होने वाला

Question Number : 178 Question Id : 5431078941 Question Type : MCQ Option Shuffling : Yes Display Question Number : Yes  
Single Line Question Option : No Option Orientation : Vertical Allowed Progression : Yes Number of Replay : 999 Play On Load :  
No Control Enable : Yes

Correct Marks : 3 Wrong Marks : 1

Question Label : Multiple Choice Question

इनमें से किसके द्वारा 'पेट की आग' का बोध होता है ?

Options :

1. बड़वाग्नि
2. दावाग्नि
3. जठराग्नि
4. मंदाग्नि

Question Number : 179 Question Id : 5431078942 Question Type : MCQ Option Shuffling : Yes Display Question Number : Yes  
Single Line Question Option : No Option Orientation : Vertical Allowed Progression : Yes Number of Replay : 999 Play On Load :  
No Control Enable : Yes

Correct Marks : 3 Wrong Marks : 1

Question Label : Multiple Choice Question

'नाक पर सुपारी तोड़ना' का क्या अर्थ है ?

Options :

1. इज्जत उतार देना
2. घृणा प्रकट करना
3. बहुत परेशान करना
4. असंभव कार्य करना

Question Number : 180 Question Id : 5431078943 Question Type : MCQ Option Shuffling : Yes Display Question Number : Yes  
Single Line Question Option : No Option Orientation : Vertical Allowed Progression : Yes Number of Replay : 999 Play On Load :  
No Control Enable : Yes

Correct Marks : 3 Wrong Marks : 1

Question Label : Multiple Choice Question

'कलम तोड़ देना' का अर्थ है :

Options :

1. क्रोध दिखाना
2. बहुत सुन्दर लिखना

3. भद्दा लिखना

4. बहुत मेहनत करना